

تم تحميل وعرض المادة من



موقع مادتي هو موقع تعليمي يعمل على مساعدة المعلمين والطلاب وأولياء الأمور في تقديم حلول الكتب المدرسية والاختبارات وشرح الدروس والملاحظات والتحاظير وتوزيع المنهج لكل المراحل الدراسية بشكل واضح وسهل مجاناً بتصفح وعرض مباشر أونلاين وتحميل على موقع مادتي

1444 - 2022



تطبيق مادتي



اسم الطالبة :

الاختبار النهائي لمادة الدراسات الاجتماعية للصف الأول الثانوي نظام المسارات
الفصل الدراسي الثالث (الدور الأول) لعام ١٤٤٤ هـ

طالبتي الغالية :

استعيني بالله سبحانه وتعالى ثم اقرئي الأسئلة جيداً وأجيبني عما يأتي:

السؤال الأول: أ / أكمل الفراغات التالية بما يناسبها :

- (١) الدول الأعضاء في جامعة الدول العربية عددها دولة.
- (٢) انتهت الحرب العالمية الأولى باستسلام. وانتصار دول الحلفاء على المحور.
- (٣) اللغة الرسمية في الولايات المتحدة الأمريكية هي اللغة يتحدث بها ٨٠٪ من السكان.
- (٤) عدد الدول المشاركة في الحرب العالمية الأولى دولة.
- (٥) ترتبط دول الخليج العربي بعدة روابط أبرزها روابط الدين و والثقافة .
- (٦) استضافت المملكة العربية السعودية القمة العربية ٢٩ في مدينة الظهران بالمملكة العربية السعودية عام ١٤٣٩ هـ وأطلق عليها الملك سلمان حفظه الله اسم قمةتضامنا مع القضية الفلسطينية.
- (٧) يضم الاتحاد الأوروبي دولة تغطي معظم أنحاء القارة.
- (٨) يقع مقر منظمة التعاون الإسلامي في مدينة وتضم في عضويتها ٥٧ دولة .

ب / صنفى المصطلحات تبعاً لتعريفاتها في الجدول التالي..

الحرب العالمية - هيئة الأمم المتحدة - سايكس بيكو - الكشوف الجغرافية - البخور - رابطة العالم الإسلامي

منظمة أنشئت بعد الحرب العالمية الثانية من أجل إقرار السلام والعدل في العالم	
اتفاقية سرية وقعت بين فرنسا وبريطانيا وروسيا على أن يتقاسموا أملاك الدولة العثمانية في العراق والشام .	
الطريق التجاري العالمي الذي كان العرب في شبه الجزيرة العربية يسيطرون عليه منذ ما قبل الإسلام	
رحلات بحرية قام بها الأوروبيين لاكتشاف مناطق جديدة في القرن الخامس عشر .	
منظمة إسلامية شعبية عالمية مقرها مكة المكرمة تعني بإيضاح حقيقة الدعوة الإسلامية .	

ج / ما النتائج المترتبة على :

❖ قيام الاتحاد الأوروبي .

.....
.....
.....

السؤال الثاني :

أ) اختاري الإجابة الصحيحة في الآتي :

١. وقعت قنبلتي هيروشيما و ناجازاكي على عام ١٩٤٥ م :			
أ- اليابان	ب- الصين	ج- ألمانيا	د- تركيا
٢- تشكل الولايات المتحدة القسم الأكبر من قارة :			
أ- أوروبا	ب- أمريكا الشمالية	ج- أستراليا	د- أفريقيا
٣- منظمة من أهدافها تنسيق السياسة النفطية للبلدان الأعضاء وحماية مصالح الدول المنتجة للنفط :			
أ- أوبك	ب- اليونسكو	ج- اليونسيف	د. الفاو
٤- المسرح الرئيسي للحرب العالمية الأولى قارة :			
أ- آسيا	ب- أستراليا	ج- أمريكا	د- أوروبا
٥- أكبر دولة في العالم من حيث المساحة :			
أ- روسيا الاتحادية	ب- الصين	ج- كندا	د- الجزائر
٦- اللغة الرسمية في الصين هي :			
أ- الفارسية	أ- العربية	ج- الإنجليزية	د- لغة هان

ب) انسبي المظاهر التضاريسية التالية الى بلدانها :

قزوين - الأبلش - هاواي - الدانوب - أوب

١- جبال تقع في شرق الولايات المتحدة الأمريكية	
٢- نهر ينبع من ألمانيا ويجتاز دول الاتحاد الأوروبي	
٣- جزيرة في المحيط الهادي تعد أصغر الولايات في الولايات المتحدة	
٤- أكبر مسطح مائي داخلي في العالم جنوب روسيا	

ج) عللي :

١. يشهد سكان الاتحاد الأوروبي نموا بطيئا مقارنة بسكان العالم .

٢. تنوع المناخ والمحاصيل الزراعية في الولايات المتحدة .

السؤال الثالث :

أ) صلي العامود أ بما يناسبه من العامود ب :

ب	أ	
فاسكو دا جاما	مستشار ألمانيا وعمل على تسليح الجيش وأصبح أقوى جيش في العالم	١
أحمد بن ماجد	عقدت القمة الاستثنائية الافتراضية لدول مجموعة العشرين عام ٢٠٢٠ م برئاسته لتنسيق الجهود العالمية لمكافحة جائحة كورونا.	٢
بلفور	استطاع أن يدور حول أفريقيا مكتشفاً طريق رأس الرجاء الصالح.	٣
جيمس كوك	عالم البحار المسلم الملقب بأسد البحار استفاد منه فاسكو دي جاما في رحلته الى الهند	٤
الملك سلمان حفظه الله	اعطى اليهود وعد ينص على تأسيس وطن قومي لهم في فلسطين	٥
هتلر	مكتشف قارة أستراليا	٦
الملك خالد رحمه الله		٧

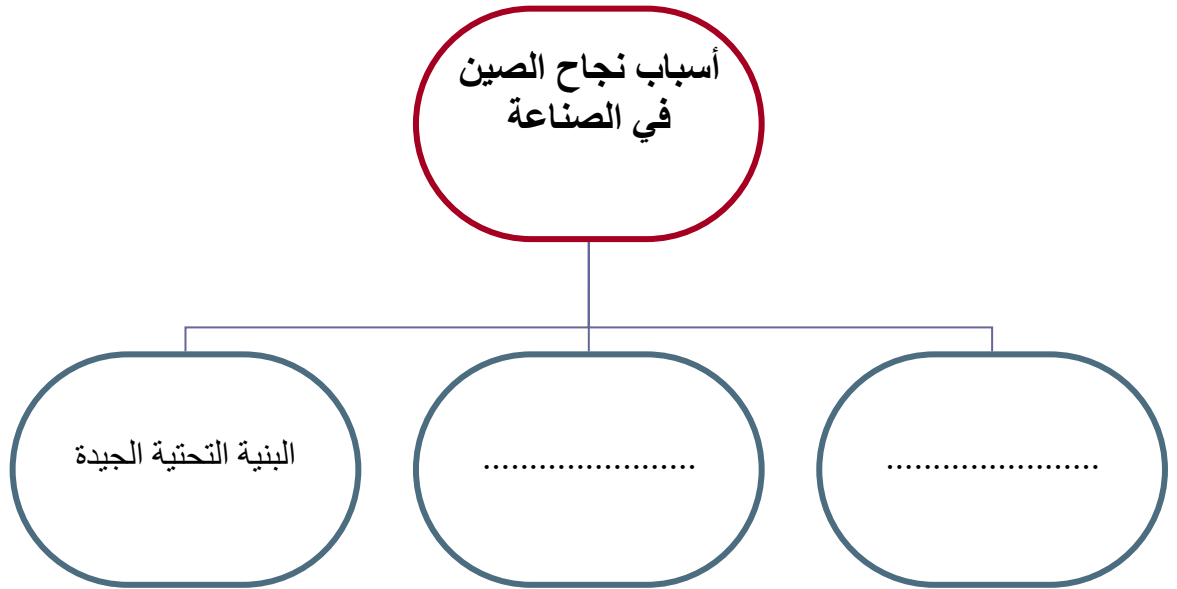
ب) أذكرى نتائج الحرب العالمية الأولى (٢ فقط) :

.....

.....

.....

ج / أكمل خريطة المفاهيم التالية :



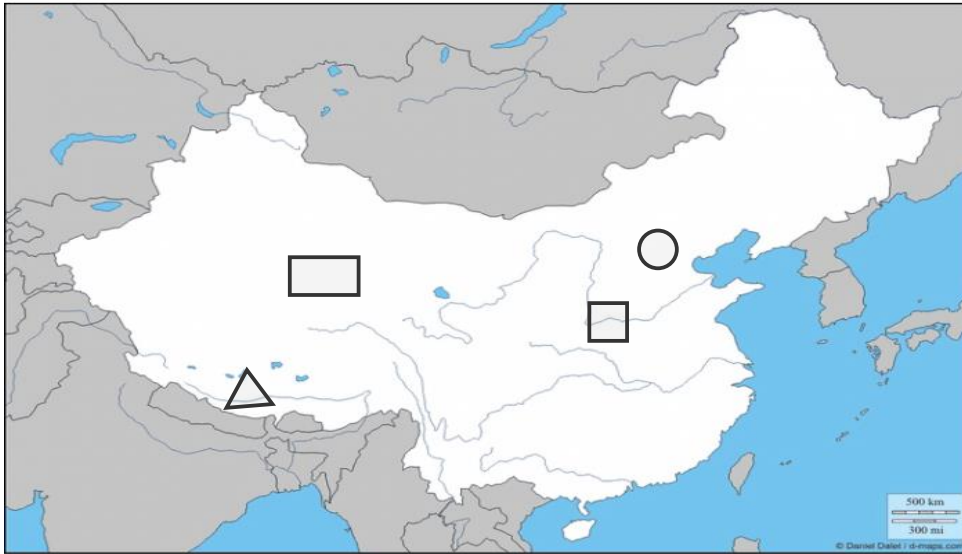
السؤال الرابع :

أ/ ضعي علامة (✓) أمام العبارة الصحيحة وعلامة (×) أمام العبارة الخاطئة :

١. عدد الخسائر البشرية في الحرب العالمية الثانية خمسة ملايين قتيل ()
٢. أكثر دول العالم اكتظاظا بالسكان الصين. ()
٣. كان من نتائج الكشوف الجغرافية إثبات كروية الأرض ()
٤. أنشئت الجامعة العربية قبل انشاء هيئة الأمم المتحدة بنحو ستة أشهر. ()
٥. قامت الصين بإطلاق أول رائد فضاء بشري في تاريخ العالم. ()

ب/ اشرحي السبب الرئيسي المباشر لقيام الحرب العالمية الأولى.

ج) أمامك خريطة لجمهورية الصين أكتبى الرقم المناسب على الخريطة :



- ١- النهر الأصفر
- ٢- هضبة التبت
- ٣- العاصمة بكين
- ٤- جبال الهملايا

انتهت الأسئلة .

جعلني الله وإياكن ممن يُفْرَن بالفردوس الاعلى من الجنة ☺

معلمتك /

اسم الطالبة: رقم الجلوس:

المادة : دراسات اجتماعية					
اليوم :					
التاريخ : ١١ / ١٤٤٤ هـ					
الزمن : ثلاث ساعات					
عدد الصفحات : (٥) عدد الأسئلة : (٤)		الدرجة رقماً		الدرجة المستحقة	
الدرجة كتابة		الدرجة رقماً		الدرجة	
السؤال	الدرجة رقماً	الدرجة كتابة	المصححة	المراجعة	المدققة
الأول					
الثاني					
الثالث					
الرابع					

رددي أثناء انتظارك :

- (سبحان الله و بحمده) مئة مرة .
- (لا حول و لا قوة إلا بالله) كنز من كنوز الجنة .
- (حسبي الله لا إله إلا هو عليه توكلت وهو رب العرش العظيم) سبع مرات .
- (لا إله إلا الله وحده لا شريك له و له الملك وله الحمد وهو على كل شيء قدير) مائة مرة .
- (اللهم صل وسلم على نبينا محمد) عشر مرات .
- اكثري من الاستغفار .

اسم الطالبة :

الاختبار النهائي لمادة الدراسات الاجتماعية للصف الأول الثانوي نظام المسارات
الفصل الدراسي الثالث (الدور الأول) لعام ١٤٤٤ هـ

طالبتي الغالية :

١٠

١٠

استعيني بالله سبحانه وتعالى ثم اقرئي الأسئلة جيداً وأجيبى عما يأتي:

السؤال الأول: أ / أكمل الفراغات التالية بما يناسبها :

٤

- ١) الدول الأعضاء في جامعة الدول العربية عددها **٢٢** دولة.
- ٢) انتهت الحرب العالمية الأولى باستسلام **ألمانيا** وانتصار دول الحلفاء على المحور.
- ٣) اللغة الرسمية في الولايات المتحدة الأمريكية هي اللغة **الإنجليزية** يتحدث بها ٨٠٪ من السكان.
- ٤) عدد الدول المشاركة في الحرب العالمية الأولى **٣٣** دولة.
- ٥) ترتبط دول الخليج العربي بعدة روابط أبرزها روابط الدين **واللغة العادات التقاليد** والثقافة.
- ٦) استضافت المملكة العربية السعودية القمة العربية ٢٩ في مدينة الظهران بالمملكة العربية السعودية عام ١٤٣٩ هـ وأطلق عليها الملك سلمان حفظه الله اسم قمة **القدس** تضامناً مع القضية الفلسطينية.
- ٧) يضم الاتحاد الأوربي **٢٧** دولة تغطي معظم أنحاء القارة.
- ٨) يقع مقر منظمة التعاون الإسلامي في مدينة **جدة** وتضم في عضويتها ٥٧ دولة .

٥

ب / صنفى المصطلحات تبعاً لتعريفاتها في الجدول التالي..

الحرب العالمية - هيئة الأمم المتحدة - سايكس بيكو - الكشوف الجغرافية - البخور - رابطة العالم الإسلامي

هيئة الأمم المتحدة	منظمة أنشئت بعد الحرب العالمية الثانية من أجل إقرار السلام والعدل في العالم
سايكس بيكو	اتفاقية سرية وقعت بين فرنسا وبريطانيا وروسيا على أن يتقاسموا أملاك الدولة العثمانية في العراق والشام .
البخور	الطريق التجاري العالمي الذي كان العرب في شبه الجزيرة العربية يسيطرون عليه منذ ما قبل الإسلام
الكشوف الجغرافية	رحلات بحرية قام بها الأوروبيين لاكتشاف مناطق جديدة في القرن الخامس عشر .
رابطة العالم الإسلامي	منظمة إسلامية شعبية عالمية مقرها مكة المكرمة تعني بإيضاح حقيقة الدعوة الإسلامية .

ج / ما النتائج المترتبة على :

❖ قيام الاتحاد الأوروبي .

ارتفع مستوى المعيشة لشعبها و نمت أسواقها الداخلية

السؤال الثاني :

أ) اختاري الإجابة الصحيحة في الآتي :

٦

١٠

١٠

١. وقعت قنبلتي هيروشيما و ناجازاكي على عام ١٩٤٥ م :			
أ- اليابان	ب- الصين	ج- ألمانيا	د- تركيا
٢- تشكل الولايات المتحدة القسم الأكبر من قارة :			
أ- أوروبا	ب- أمريكا الشمالية	ج- أستراليا	د- أفريقيا
٣- منظمة من أهدافها تنسيق السياسة النفطية للبلدان الأعضاء وحماية مصالح الدول المنتجة للنفط :			
أ- أوبك	ب- اليونسكو	ج- اليونسيف	د. الفاو
٤- المسرح الرئيسي للحرب العالمية الأولى قارة :			
أ- آسيا	ب- أستراليا	ج- أمريكا	د- أوروبا
٥- أكبر دولة في العالم من حيث المساحة :			
أ- روسيا الاتحادية	ب- الصين	ج- كندا	د- الجزائر
٦- اللغة الرسمية في الصين هي :			
أ- الفارسية	أ- العربية	ج- الإنجليزية	د- لغة هان

ب) انسبي المظاهر التضاريسية التالية الى بلدانها :

٢

قزوين - الأبلش - هاواي - الدانوب - أوب

١- جبال تقع في شرق الولايات المتحدة الأمريكية	الأبلش
٢- نهر ينبع من ألمانيا ويجتاز دول الاتحاد الأوروبي	الدانوب
٣- جزيرة في المحيط الهادي تعد أصغر الولايات في الولايات المتحدة	هاواي
٤- أكبر مسطح مائي داخلي في العالم جنوب روسيا	قزوين

ج) عللي :

٢

١. يشهد سكان الاتحاد الأوروبي نموا بطيئا مقارنة بسكان العالم .

تأخر سن الزواج وتحديد النسل

٢. تنوع المناخ والمحاصيل الزراعية في الولايات المتحدة .

بسبب اتساع المساحة في الولايات المتحدة .

١٠
١٠

ب	أ	
فاسكو دا جاما	٣	١ مستشار ألمانيا وعمل على تسليح الجيش وأصبح أقوى جيش في العالم
أحمد بن ماجد	٤	٢ عقدت القمة الاستثنائية الافتراضية لدول مجموعة العشرين عام ٢٠٢٠ م برئاسته لتنسيق الجهود العالمية لمكافحة جائحة كورونا.
بلفور	٥	٣ استطاع أن يدور حول أفريقيا مكتشفاً طريق رأس الرجاء الصالح.
جيمس كوك	٦	٤ عالم البحار المسلم الملقب بأسد البحار استفاد منه فاسكو دي جاما في رحلته الى الهند
الملك سلمان حفظه الله	٢	٥ اعطى اليهود وعد ينص على تأسيس وطن قومي لهم في فلسطين
هتلر	١	٦ مكتشف قارة أستراليا
الملك خالد رحمه الله		٧

٢

ب) أذكرى نتائج الحرب العالمية الأولى (٢ فقط) :

- ١- الخسائر البشرية ٢ - الخسائر المادية ٣- تفكك الدولة العثمانية
 - ٤- اتساع مساحة بعض دول أوروبا وتقلص بعضها الآخر .
 - ٥- انشاء بعض المنظمات الدولية
 - ٦- وقوع كثير من بلدان العالم العربي تحت الانتداب .
- ج / أكمل خريطة المفاهيم التالية :

أسباب نجاح الصين
في الصناعة

البنية التحتية الجيدة

رخص الأيدي العاملة

رخص العملة

أ/ ضعي علامة (✓) أمام العبارة الصحيحة وعلامة (×) أمام العبارة الخاطئة :

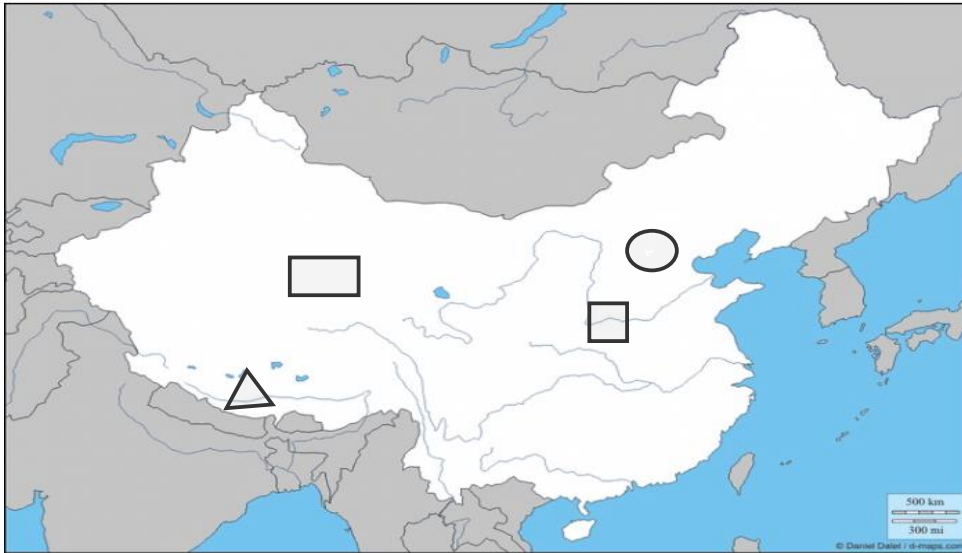
١. عدد الخسائر البشرية في الحرب العالمية الثانية خمسة ملايين قتيل (×)
٢. أكثر دول العالم اكتظاظا بالسكان الصين. (✓)
٣. كان من نتائج الكشوف الجغرافية إثبات كروية الأرض (✓)
٤. أنشئت الجامعة العربية قبل انشاء هيئة الأمم المتحدة بنحو ستة أشهر. (✓)
٥. قامت الصين بإطلاق أول رائد فضاء بشري في تاريخ العالم. (×)

١

ب/ اشرحي السبب الرئيسي المباشر لقيام الحرب العالمية الأولى.

اغتيال طالب صربي ولي عهد النمسا آنذاك وزوجته أثناء زيارتهم لسرايفو عاصمة البوسنة والهرسك

ج) أمامك خريطة لجمهورية الصين أكتبى الرقم المناسب على الخريطة :



٤

- ١- النهر الأصفر
- ٢- هضبة التبت
- ٣- العاصمة بكين
- ٤- جبال الهملايا

انتهت الأسئلة .

جعلني الله وإياكن ممن يُؤزَن بالفردوس الاعلى من الجنة ☺

معلمتك /

اختبار الصف الأول ثانوي مادة الدراسات الاجتماعية الفصل الدراسي الثالث (الاختبار الثاني ٤٠ درجة)

اسم الطالبة /..... الصف.....

السؤال الأول :

اخترى العبارة الصحيحة من بين الخيارات التالية :

- ١/ اسهم في الإرشاد الملاحي لعدد من الكشوف الجغرافية
أ-أبن ماجد ب - الادريسي ج -أبن بطوطه د- المقدسي
- ٢/مكتشف طريق راس الرجاء الصالح
أ – فاسكوداجاما ب- كولومبوس. ج-جون كابوت. د – جيمس كوك
- ٣/تمكن من الوصول للسواحل الشرقية لأستراليا ونيوزيلندا
أ-الأمير هنري الملاح. ب- ماجلان. ج-جون كابوت. د – جيمس كوك
- ٤/بلغ عدد الدول المشاركة في الحرب العالمية الأولى
أ- ٢٢. ب- ٣٣. ج -٤٤. د- ٥٥.
- ٥/ بلغت الخسائر البشرية في الحرب العالمية الأولى
أ – ٩ مليون نسمة. ب- ١٠ مليون نسمة. ج- ١١ مليون نسمة. د - ١٢ مليون نسمة
- ٦/من نتائج الحرب العالمية الأولى وقوع عدد الدول العربية تحت الانتداب وفق اتفاقية
أ – لندن. ب-سايكس بيكو. ج- وعد بلفور. د- باريس
- ٧/ من آثار الحرب العالمية الأولى صدور وعد بلفور سنة ١٩١٧م بإعطاء وطن قومي لليهود في
أ – فلسطين. ب -العراق. ج- سوريا. د – لبنان
- ٨ /اتسعت مساحة بعض دول اوربا بعد الحرب العالمية الأولى مثل
أ – المانيا. ب – اليابان. ج – بريطانيا. د- النمسا
- ٩/ اتبعت سياسة العزله لإبعاد النفوذ الأوربي
أ – القارة الاسيوية. ب- القارة الافريقية. ج – القارة الامريكية. د- استراليا
- ١٠ -قامت فيها الثورة الشيوعية وأقاموا فيها أول دولة اشتراكية معلنين قيام
أ – الاتحاد السوفيتي. ب- الولايات المتحدة الأميركية ج – يوغسلافيا. د- المملكة المتحدة
- ١١ -تأسست الولايات المتحدة الأميركية من مستعمرات بريطانياه كان عددها
أ – ١١. ب- ١٢. ج – ١٣. د – ١٤
- ١٢ / اكبر الأقليات في الولايات المتحدة الأميركية:
أ - الأفارقة. ب- الأوربيون ج- الأستراليون. د – العرب
- ١٣ / أكثر الدول الأعضاء في الاتحاد الأوروبي سكاناً هي دولة :
أ – المانيا. ب- فرنسا. ج-إيطاليا. د- مالطه

١٤ / عدد الدول الأعضاء في الإتحاد الأوروبي :

أ - ٢٧ . ب - ٢٨ . ج - ٢٩ . د - ٣٠

١٥ / تفصل روسيا بين قارتي :

أ - آسيا واوربا . ب- أوروبا وأفريقيا . ج - آسيا وأستراليا . د - آسيا وأفريقيا

١٦ / أكثر بلدان العالم اكتظاظا بالسكان :

أ - بريطانيا . ب - الهند . ج - أمريكا . د - الصين

١٧ / تمتلك الصين أكبر ميزانية للبحوث والتنمية في العالم.

١ - أول . ب - ثاني . ج - ثالث . د - رابع.

١٨ / تعد الحضارة أحد أقدم الحضارات في العالم حيث ازدهرت في حوض النهر الأصفر

أ - الصينية . ب - الهندية . ج - المصرية . د - العراقية.

١٩ / يحد الصين دوله.

أ - ١٤ . ب - ١٥ . ج - ١٦ . د - ١٧ .

٢٠ - تقع روسيا الإتحادية في اوراسيا.

أ - شرق . ب - غرب . ج - شمال . د - جنوب

السؤال الثاني :

ضعي علامة (صح أو خطأ) بعد مايناسبها في العبارات التالية :

- ١/ من دوافع الكشوف الجغرافية الدينيه الرغبة في الحصول على منتجات الشرق (.....)
- ٢/ قامت حركة الكشوف الجغرافية لدوافع سياسيه واقتصادية فقط. (.....)
- ٣/ الكشوف الجغرافية هي الرحلات البحرية الواسعة التي قام بها بعض الأوروبيين في القرن ١٥ الميلادي لاكتشاف مناطق جديدة. (.....)
- ٤/ من نتائج الكشوف الجغرافية على العالم العربي والإسلامي اضعاف دولة المماليك وسقوطها. (.....)
- ٥/ تعد الولايات المتحدة الأميركية مثالا للتنوع العرقي والثقافي (.....)
- ٦/ السبب المباشر للحرب العالمية الأولى هو اغتيال طالب صربي لولي عهد النمسا. (.....)
- ٧/ لم يوافق الملك عبدالعزيز رحمه الله على التعاون مع بريطانيا في حملتها ضد الدولة العثمانية. (.....)
- ٨ / تمكن الحزب النازي من تسلم الحكم في إيطاليا واصبح هتلر مستشارًا. (.....)
- ٩/ تعتبر بريطانيا من دول الحلفاء في الحرب العالمية الثانية. (.....)
- ١٠/ اندلعت الحرب العالمية الثانية سنة ١٩٣٩م. (.....)
- ١١/ مرحلة تفوق دول المحور هي مرحلة تميزت بانتصار المانيا وحلفائها في الحرب العالمية الثانية. (.....)
- ١٢/ من نتائج الحرب العالمية الثانية تقسيم باريس عاصمة فرنسا إلى قسمين شرقي وغربي. (.....)
- ١٣/ عدد سكان الولايات المتحدة الأميركية (٣٢٧,٧ مليون نسمة). (.....)
- ١٤ / تعتبر قمة مونت بلانك أعلى قمة جبلية في الولايات المتحدة الأميركية. (.....)
- ١٥ / أطول أنهار اوربا هو نهر الدانوب. (.....)
- ١٦ / يعتبر المناخ الصيني أحد اقسام المناخات في الإتحاد الأوروبي. (.....)
- ١٧ / تشكل جبال الأورال الحدود التقليدية بين روسيا الآسيوية وروسيا الأوروبية. (.....)
- ١٨ / يعد النمو السكاني في الولايات المتحدة الأميركية بطيئًا. (.....)
- ١٩ / اتخذ الملك عبدالعزيز رحمه الله موقفا مسانداً لطرف ضد اخر حماية لمصالح بلاده. (.....)
- ٢٠ / الصين في المرتبة الثالثة عالمياً من حيث المساحة. (.....)
- ٢١ / المشكلة الرئيسية لضعف الاقتصاد الروسي هي الانفاق العسكري الكبير. (.....)

انتهت الأسئلة

اختبار الصف الأول ثانوى مادة الدراسات الاجتماعية الفصل الدراسي الثالث (الاختبار الثانى ٤٠ درجه)

اسم الطالبة /..... الصف.....

السؤال الأول :

اخترى العبارة الصحيحة من بين الخيارات التالية :

- ١/ اسهم في الإرشاد الملاحي لعدد من الكشوف الجغرافية
أ- **أبن ماجد** ب- الادريسي ج-أبن بطوطه د- المقدسي
- ٢/مكتشف طريق راس الرجاء الصالح
أ - **فاسكوداجاما** ب- كولومبوس. ج-جون كابوت. د - جيمس كوك
- ٣/تمكن من الوصول للسواحل الشرقية لأستراليا ونيوزيلندا
أ-الأمير هنري الملاح. ب- ماجلان. ج-جون كابوت. د - **جيمس كوك**
- ٤/بلغ عدد الدول المشاركة في الحرب العالمية الأولى
أ- ٢٢. ب- **٣٣** ج-٤٤. د- ٥٥.
- ٥/ بلغت الخسائر البشرية في الحرب العالمية الأولى
أ - **٩ مليون نسمة**. ب- ١٠ مليون نسمة. ج-١١ مليون نسمة. د - ١٢ مليون نسمة
- ٦/من نتائج الحرب العالمية الأولى وقوع عدد الدول العربية تحت الانتداب وفق اتفاقية
أ - لندن. ب-**سايكس بيكو**. ج- وعد بلفور. د- باريس
- ٧/ من آثار الحرب العالمية الأولى صدور وعد بلفور سنة ١٩١٧م بإعطاء وطن قومي لليهود في
أ - **فلسطين**. ب- العراق. ج- سوريا. د - لبنان
- ٨ /اتسعت مساحة بعض دول اوربا بعد الحرب العالمية الأولى مثل
أ - المانيا. ب - اليابان. ج - **بريطانيا**. د- النمسا
- ٩/ اتبعت سياسة العزله لإبعاد النفوذ الأوربي
أ - القارة الاسيوية. ب- القارة الافريقية. ج - **القارة الامريكية**. د- استراليا
- ١٠ -قامت فيها الثورة الشيوعية وأقاموا فيها أول دولة اشتراكية معلنين قيام
أ - **الاتحاد السوفيتي**. ب- الولايات المتحدة الأميركية ج - يوغسلافيا. د- المملكة المتحدة
- ١١ -تأسست الولايات المتحدة الأميركية من مستعمرات بريطانياه كان عددها
أ - ١١. ب- ١٢. ج - **١٣**. د - ١٤
- ١٢ / اكبر الأقليات في الولايات المتحدة الأميركية:
أ - الأفارقة. ب- **الأوروبيون** ج- الأستراليون. د - العرب
- ١٣ / أكثر الدول الأعضاء في الاتحاد الأوروبي سكاناً هي دولة :
أ - **المانيا**. ب- فرنسا. ج-إيطاليا. د- مالطه

١٤ / عدد الدول الأعضاء في الإتحاد الأوروبي :

أ - ٢٧ . ب - ٢٨ . ج - ٢٩ . د - ٣٠

١٥ / تفصل روسيا بين قارتي :

أ - آسيا واوربا . ب - أوروبا وأفريقيا . ج - آسيا وأستراليا . د - آسيا وأفريقيا

١٦ / أكثر بلدان العالم اكتظاظا بالسكان :

أ - بريطانيا . ب - الهند . ج - أمريكا . د - الصين

١٧ / تمتلك الصين أكبر ميزانية للبحوث والتنمية في العالم.

١ - أول . ب - ثاني . ج - ثالث . د - رابع.

١٨ / تعد الحضارة أحد أقدم الحضارات في العالم حيث ازدهرت في حوض النهر الأصفر

أ - الصينية . ب - الهندية . ج - المصرية . د - العراقية.

١٩ / يحد الصين دوله.

أ - ١٤ . ب - ١٥ . ج - ١٦ . د - ١٧.

٢٠ - تقع روسيا الإتحادية في اوراسيا.

أ - شرق . ب - غرب . ج - شمال . د - جنوب

السؤال الثاني :

ضعي علامة (صح أو خطأ) بعد مايناسبها في العبارات التالية :

- ١/ من دوافع الكشوف الجغرافية الدينية الرغبة في الحصول على منتجات الشرق (..X..)
- ٢/ قامت حركة الكشوف الجغرافية لدوافع سياسيه واقتصادية فقط. (..X..)
- ٣/ الكشوف الجغرافية هي الرحلات البحرية الواسعة التي قام بها بعض الأوروبيين في القرن ١٥ الميلادي لاكتشاف مناطق جديدة. (..✓...)
- ٤/ من نتائج الكشوف الجغرافية على العالم العربي والإسلامي اضعاف دولة المماليك وسقوطها. (..✓...)
- ٥/ تعد الولايات المتحدة الأميركية مثالا للتنوع العرقي والثقافي (..✓...)
- ٦/ السبب المباشر للحرب العالمية الأولى هو اغتيال طالب صربي لولي عهد النمسا. (..X..)
- ٧/ لم يوافق الملك عبدالعزيز رحمه الله على التعاون مع بريطانيا في حملتها ضد الدولة العثمانية. (..✓...)
- ٨ / تمكن الحزب النازي من تسلم الحكم في إيطاليا واصبح هتلر مستشارًا. (..X..)
- ٩/ تعتبر بريطانيا من دول الحلفاء في الحرب العالمية الثانية. (..✓...)
- ١٠/ اندلعت الحرب العالمية الثانية سنة ١٩٣٩ م. (..✓...)
- ١١/ مرحلة تفوق دول المحور هي مرحلة تميزت بانتصار المانيا وحلفائها في الحرب العالمية الثانية. (..✓...)
- ١٢/ من نتائج الحرب العالمية الثانية تقسيم باريس عاصمة فرنسا إلى قسمين شرقي وغربي. (..X..)
- ١٣/ عدد سكان الولايات المتحدة الأميركية (٣٢٧,٧ مليون نسمة). (..X..)
- ١٤ / تعتبر قمة مونت بلانك أعلى قمة جبلية في الولايات المتحدة الأميركية. (..X..)
- ١٥ / أطول أنهار اوربا هو نهر الدانوب. (..✓...)
- ١٦ / يعتبر المناخ الصيني أحد اقسام المناخات في الإتحاد الأوروبي. (..X..)
- ١٧ / تشكل جبال الأورال الحدود التقليدية بين روسيا الآسيوية وروسيا الأوروبية. (..✓...)
- ١٨ / يعد النمو السكاني في الولايات المتحدة الأميركية بطيئًا. (..✓...)
- ١٩ / اتخذ الملك عبدالعزيز رحمه الله موقفا مسانداً لطرف ضد اخر حماية لمصالح بلاده. (..X..)
- ٢٠ / الصين في المرتبة الثالثة عالمياً من حيث المساحة. (..✓...)
- ٢١ / المشكلة الرئيسية لضعف الاقتصاد الروسي هي الانفاق العسكري الكبير. (..✓...)

انتهت الأسئلة