

تم تحميل وعرض المادة من



موقع مادتي هو موقع تعليمي يعمل على مساعدة المعلمين والطلاب وأولياء الأمور في تقديم حلول الكتب المدرسية والاختبارات وشرح الدروس والملاحظات والتحاير وتوزيع المنهج لكل المراحل الدراسية بشكل واضح وسهل مجاناً بتصفح وعرض مباشر أونلاين وتحميل على موقع مادتي

2023 - 1445

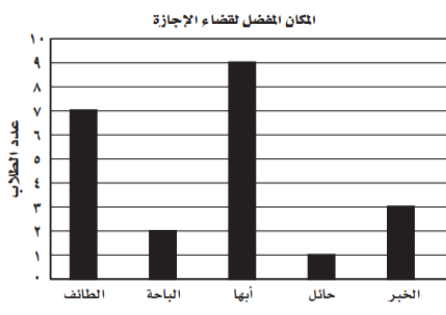



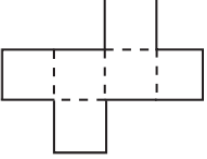
تطبيق مادتي



أسئلة اختبار التشخيص لبرنامج تعزيز المهارات للمرحلة الابتدائية

الدرجة المستحقة ١٠	رياضيات		المادة
	الصف الرابع الابتدائي		الصف المستهدف
	المدرسة	اسم الطالب/ة	
	قم باختيار الإجابة الصحيحة في كل مما يلي:		

المهارة المستهدفة		قراءة الأعداد وكتابتها ضمن الملايين بطرق مختلفة			
بحسب إحصائيات عام ٢٠٠٧ م بلغ عدد سكان الوطن العربي ثلاث مئة وثمانية وثلاثين مليوناً وست مئة واثنين وعشرين ألفاً، فإن عدد السكان بالصيغة القياسية هو:					
أ	٣٣٨٠٠٠٠٠٠٠٠	ب	٣٣٨٦٢٢٠٠٠	ج	٣٠٠٠٣٨٦٢٢
د	٣٠٠٣٨٦٢٢٠				
المهارة المستهدفة		مقارنة الأعداد ضمن الملايين			
الرقم المناسب في <input type="checkbox"/> لتصبح الجملة التالية صحيحة هو: $٦٢ \square ٥٩٢١ > ٦٢٣٥٩٢١$					
أ	١	ب	٢	ج	٣
د	٤				
المهارة المستهدفة		جمع أعداد مكونة من عدة أعداد وطرحها			
إذا اشترى طلال هاتفاً نقالاً بمبلغ ١٥٧٨ ريالاً، واشترى عبدالله هاتفاً آخر بمبلغ ١٢٤٥ ريالاً، فإن ثمن هاتف طلال يزيد على ثمن هاتف عبدالله ب:					
أ	٣٣٢ ريالاً	ب	٣٣٣ ريالاً	ج	١٨٢٣ ريالاً
د	٢٨٢٣ ريالاً				
المهارة المستهدفة		جمع أعداد مكونة من عدة أعداد وطرحها			
نتج الجمع التالي يساوي: ٢٦٣٢ $٧٨١٤ +$					
أ	٩٤٤٦	ب	١٠٤٤٦	ج	١٠٥٤٦
د	٩١٤٤٦				
المهارة المستهدفة		تفسير التمثيل بالأعمدة			
التمثيل بالأعمدة المجاور يمثل المكان المفضل لقضاء الإجازة لعدد من الطلاب. فإن المكان الذي فضله أقل عدد من الطلاب هو:					
					
أ	الباحة	ب	أمها	ج	الطائف
د	حائل				
المهارة المستهدفة		تمثيل الجمل والعبارات العددية للجمع والطرح وكتابتها			
في مزرعة أحمد ٢٥ صفاً من الطماطم، و ٤٠ صفاً من الفاصولياء، فإن الجملة العددية التي تمثل عدد الصفوف في المزرعة هي:					
أ	$٦٠ = ٤٠ + ٢٥$	ب	$٦٥ = ٤٠ + ٢٥$	ج	$١٥ = ٢٥ - ٤٠$
د	$٧٥ = ٤٠ + ٢٥$				

تمثيل الجمل والعبارات العددية للجمع والطرح وكتابتها							المهارة المستهدفة	٧
إذا كان عدد الطلاب المسجلين في النادي العلمي لإحدى المدارس في العام الماضي ٧٨ طالبًا، وأصبح عددهم في هذا العام ٩٤ طالبًا، فإن العبارة العددية التي تمثل الزيادة في عدد أعضاء النادي العلمي هي:								
أ	٧٨-٩٤	ب	٩٤+١٦	ج	١٦-٧٨	د	٩٤+٧٨	
ضرب عدد من ثلاثة أرقام في عدد من رقمين							المهارة المستهدفة	٨
نتاج الضرب التالي يساوي : $\begin{array}{r} ٥٦٢ \\ ١٣ \times \\ \hline \end{array}$								
أ	٢٢٤٨	ب	٥٦.٦	ج	٧٣.٦	د	٧٦.٦	
تعرف ووصف الأشكال ثلاثية الأبعاد ومخططاته							المهارة المستهدفة	٩
عدد الأوجه والأحرف والرؤوس للشكل المجاور تساوي : 								
أ	٣ أوجه، ٣ أحرف، رأس واحد.	ب	٤ أوجه، ٦ أحرف، ٤ رؤوس.	ج	٣ أوجه، ٥ أحرف، ٣ رؤوس.	د	٤ أوجه، ٧ أحرف، ٣ رؤوس.	
تعرف ووصف الأشكال ثلاثية الأبعاد ومخططاته							المهارة المستهدفة	١٠
الشكل ثلاثي الأبعاد الذي يمكن تكوينه من المخطط التالي هو : 								
أ	مخروط	ب	منشور ثلاثي	ج	أسطوانة	د	مكعب	

انتهت الأسئلة ..