

تم تحميل وعرض المادة من



موقع مادتي هو موقع تعليمي يعمل على مساعدة المعلمين والطلاب وأولياء الأمور في تقديم حلول الكتب المدرسية والاختبارات وشرح الدروس والملخصات والتحضير وتوزيع المنهج لكل المراحل الدراسية بشكل واضح وسهل مجاناً بتصفح وعرض مباشر أونلاين وتحميل على موقع مادتي

2023 - 1445



تطبيق مادتي




## اختبار تشخيصي مادة العلوم الصف الثاني لعام ١٤٤٥ هـ

(درجتان لكل فقرة)

١٠ درجات

\* / نضع علامة (  $\frac{1}{4}$  ) تحت الأجوبة الصحيحة :

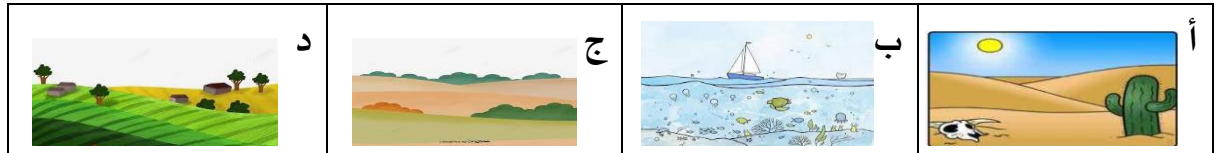
١ / أي المراحل التالية تمثل بداية السلسلة الغذائية :



٢ / كيف تختلف النباتات عن باقي المخلفات ؟

أ	تحتل مكان صغير	ب	تحتاج للهواء لتنمو	ج	تحتاج للماء لتعيش	د	تنتج غذاءها من الشمس
---	----------------	---	--------------------	---	-------------------	---	----------------------


٣ / أي من هذه المواطن تعيش فيها السحلية :



٤ / مالخاصية التي ساعدت الدب القطبي على العيش في المنطقة القطبية :

أ	الفرو السميك	ب	العيون الحادة	ج	الحراشيف	د	الاسنان الحادة
---	--------------	---	---------------	---	----------	---	----------------

٥ / المرحلة الأخيرة من دورة حياة الفراشة هي :



اسم الطالبة/.....

الصف/ الثاني الابتدائي

المادة/ العلوم



المملكة العربية السعودية

وزارة التعليم

الإدارة العامة للتعليم بمنطقة .....


## اختبار تشخيصي مادة العلوم الصف الثاني لعام ١٤٤٥ هـ

(درجتان لكل فقرة)

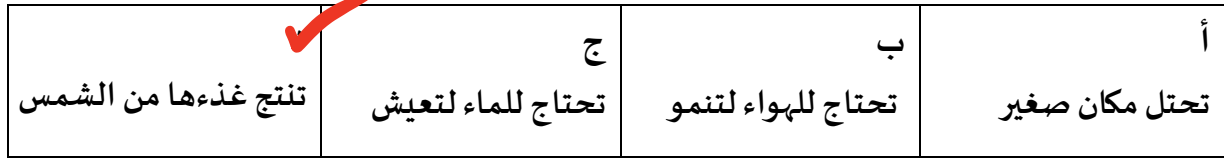
١٠ درجات

\* / نضع علامة (  $\frac{1}{4}$  ) تحت الأجوبة الصحيحة :


١ / أي المراحل التالية تمثل بداية السلسلة الغذائية :



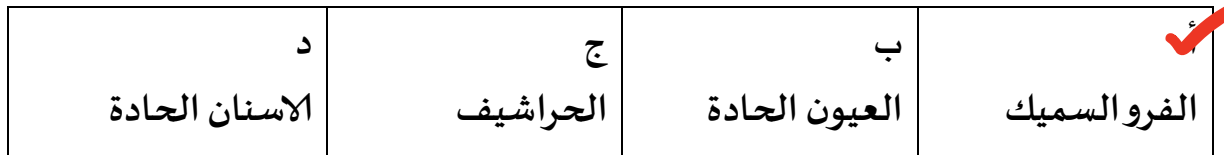
٢ / كيف تختلف النباتات عن باقي المخلفات ؟



٣ / أي من هذه المواطن تعيش فيها السحلية :



٤ / مالخاصية التي ساعدت الدب القطبي على العيش في المنطقة القطبية :



٥ / المرحلة الأخيرة من دورة حياة الفراشة هي :

