

تم تحميل وعرض المادة من



موقع مادتي هو موقع تعليمي يعمل على مساعدة المعلمين والطلاب وأولياء الأمور في تقديم حلول الكتب المدرسية والاختبارات وشرح الدروس والملاحظات والتحاظير وتوزيع المنهج لكل المراحل الدراسية بشكل واضح وسهل مجاناً بتصفح وعرض مباشر أونلاين وتحميل على موقع مادتي

2023 - 1445



تطبيق مادتي



اختبار التربية الفنية - ثالث ابتدائي - الترم الاول

الصف : ٣ /

اسم الطالب/ة :

السؤال الأول ، صح او خطأ :

١. التصميم هو التخطيط لشيء معين وإنشاؤه بطريقة جميلة وممتعة

صح خطأ

٢. يتم تنفيذ الاسكتش غالباً بأقلام الرصاص

صح خطأ

٣. ألعابنا تعتمد على التصميم

صح خطأ

٤. التصميم يستخدم في الفنون و العمارة و الأثاث فقط

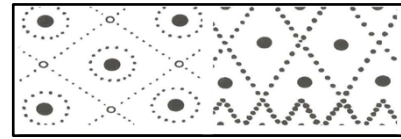

صح خطأ

٥. لم يعتمد الانسان في زخرفته على الموجودات المحيطة به

صح خطأ

السؤال الثاني ، اختاري ما بين الاقواس وضعه في المكان المناسب في الفراغات التالية :

(تشكيلات من نقطة - تشكيلات من الخطوط)

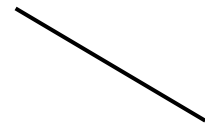


السؤال الثالث ، صل/ي بين الشكل وما يناسبه من الكلمات فيما يأتي :

الخط



الحجم



الشكل



اختبار التربية الفنية - ثالث ابتدائي - الترم الاول


الصف : ٣ /

اسم الطالب/ة :

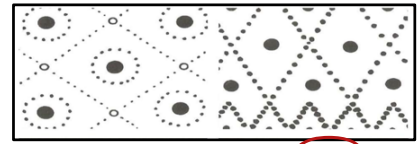
السؤال الأول ، صح او خطأ :

١. التصميم هو التخطيط لشيء معين وإنشاؤه بطريقة جميلة وممتعة صح خطأ
٢. يتم تنفيذ الاسكتش غالباً بأقلام الرصاص صح خطأ
٣. العابنا تعتمد على التصميم صح خطأ
٤. التصميم يستخدم في الفنون و العمارة و الأثاث فقط صح خطأ
٥. لم يعتمد الانسان في زخرفته على الموجودات المحيطة به صح خطأ

السؤال الثاني ، اختاري ما بين الاقواس وضعه في المكان المناسب في الفراغات التالية :
(تشكيلات من نقطة - تشكيلات من الخطوط)



..... تشكيلات من الخطوط



..... تشكيلات من نقطة

السؤال الثالث ، صل/ي بين الشكل وما يناسبه من الكلمات فيما يأتي :

