

اختبار منتصف الفصل مادة العلوم للصف الثاني الابتدائي عام ١٤٤٥

اسم الطالب / ه:

الصف:

(أ) ضع علامة (\checkmark) أمام العبارات الصحيحة وعلامة (X) أمام العبارات الخاطئة :



١ تعتبر النباتات مخلوقات حية لأنها تنمو وتتغذى وتتكاثر. ()

٢ الأكسجين غاز تطلقه النباتات عندما تضع الغذاء. ()

٣ أجزاء صلبة غير حية من التربة هي المعادن. ()

(ب) حدد في الرسم أمامك ما تحتاجه المخلوقات الحية:



(ج) صل المفردة العلمية بالعبارات المناسبة لها:



الجزء الذي ينمو ويصير نباتاً جديداً

الزهرة



مسحوق يسهم في إنتاج البذور

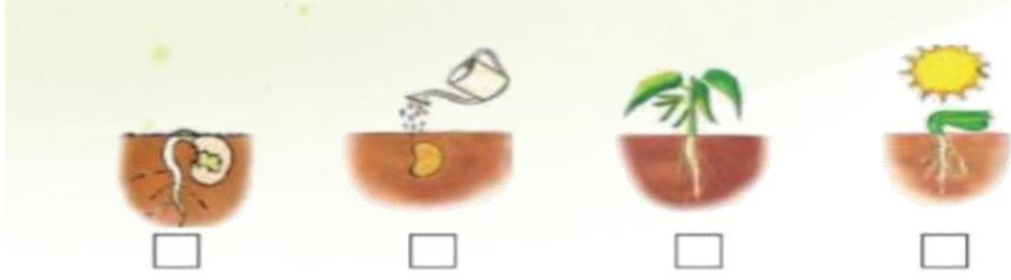
البذرة



تكوّن البذور والثمار في النبات

حبوب اللقاح

(د) رتبي الصّور التالية التي تظهر دورة حياة نمو نبات الفاصولياء مستخدمة الأرقام من 1 – 4



تمنياتي لكم بالتوفيق والنجاح
معلمة المادة / نجلاء الزهراني

اختبار منتصف الفصل مادة العلوم للصف الثاني الابتدائي عام ١٤٤٥

اسم الطالب / ه:

الصف:

(أ) ضع علامة (✓) أمام العبارات الصحيحة وعلامة (X) أمام العبارات الخاطئة :



١ تعتبر النباتات مخلوقات حية لأنها تنمو وتتغذى وتتكاثر. (✓)

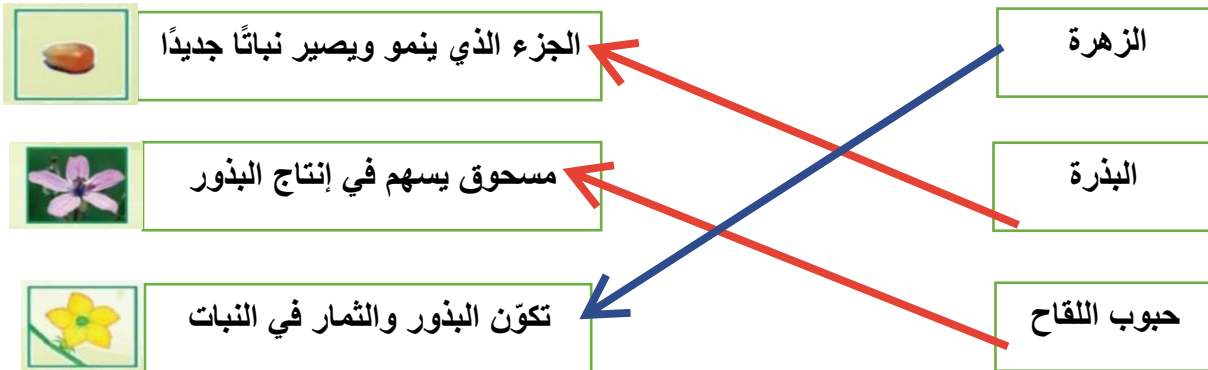
٢ الأكسجين غاز تطلقه النباتات عندما تضع الغذاء. (✓)

٣ أجزاء صلبة غير حية من التربة هي المعادن. (X)

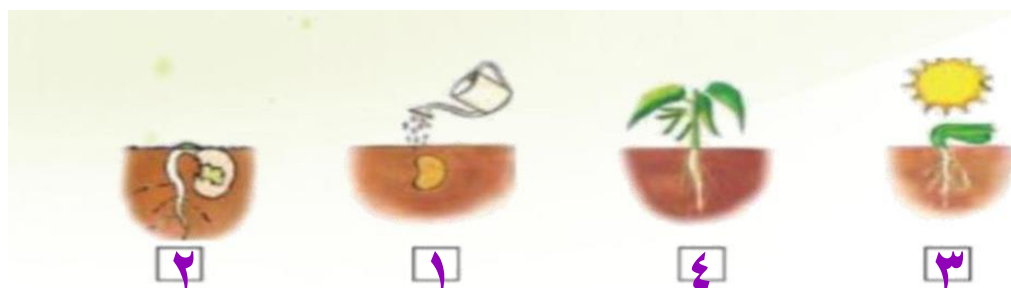
(ب) حدد في الرسم أمامك ما تحتاجه المخلوقات الحية:



(ج) صل المفردة العلمية بالعبارات المناسبة لها:



(د) رتبي الصوّر التالية التي تظهر دورة حياة نمو نبات الفاصولياء مستخدمة الأرقام من 1 – 4



تمنياتي لكم بالتوفيق والنجاح
معلمة المادة / نجلاء الزهراني

اختبار الفترة الأولى لمادة العلوم الصف الثاني (الفصل الدراسي الأول) ١٤٤٤ هـ

اسم الطالب /

السؤال الأول

١٠

ضع علامة (√) أمام العبارة الصحيحة وعلامة (X) أمام العبارة الخاطئة

()	البذرة هي الجزء الذي ينمو ويصبح نباتا جديدا	١
()	دورة حياة الفراشة (بيضة- يرقة -عذراء- فراشة صغيرة- فراشة كبيرة)	٢
()	يعتبر الماء من المخلوقات الغير حية	٣
()	دورة الحياة تبين كيف ينمو المخلوق الحي ويعيش ويتكاثر ويموت	٤
()	بعض الحيوانات سميت بالفقاريات لوجود العمود الفقري	٥
()	الزهرة هي التي تكون البذور والثمار في النبات	٦
()	البرمائيات حيوان يعيش في الماء ثم على اليابسة	٧
()	يقوم النبات بصنع غذاءه بنفسه	٨
()	الثدييات تلد وترضع صغارها الحليب ويغطي جسمها الشعر	٩
()	تحتاج المخلوقات الحية الى الماء والهواء والغذاء	١٠

السؤال الثاني

ضع الكلمة المناسبة في الفراغ المناسب فيما يلي؟

(حبوب اللقاح - بيضة - الحراشف - الثمرة - النحل)

١	يغطي جسم الزواحف.....
٢	من الملقحات التي تقوم بنقل حبوب اللقاح
٣	توجد البذرة داخل
٤	تبدأ دورة حياة الخنفساء
٥	هو المسحوق الذي تنتج الازهار

السؤال الثالث

ماهي أجزاء النبات الرئيسية الثلاثة ؟

/١
/٢
/٣

انتهت الاسئلة مع تمنياتي لكم بالتوفيق والنجاح

أوراكان

اختبار مادة العلوم للصف الثاني الابتدائي - منتصف الفصل الدراسي الأول

٥

اكتب كل كلمة مما يأتي في الفراغ المناسب :

(الجبل - الوادي - التلال - السهل)

١ - منطقةٌ مُنْبَسِطَةٌ وَوَاسِعَةٌ (.....)

٢ - منطقةٌ مُرْتَفَعَةٌ جَدًّا مِنَ الْيَابِسَةِ (.....)

٣ - مَنَاطِقٌ مُرْتَفَعَةٌ وَ لَكِنْ أَقْلُ ارْتِفَاعًا مِنَ الْجِبَالِ (.....)

٤ - أَرْضٌ مُنْخَفِضَةٌ بَيْنَ الْجِبَالِ (.....)

٥ - النِّبَاتَاتُ وَ الصُّخُورُ مِنَ الْمَوَارِدِ الطَّبِيعِيَّةِ (.....)

٥

أضع علامة (✓) أو علامة (X) :

١ - تَسْتَطِيعُ الْحَيَوَانَاتُ الشُّرْبَ مِنْ مَاءِ الْبَحْرِ ()

٢ - الدُّبَالُ ضَارٌّ لِلنِّبَاتَاتِ ()

٣ - عِنْدَ النَّظَرِ إِلَى الْأَرْضِ مِنَ الْفَضَاءِ يَبْدُو الْمَاءُ بِاللَّوْنِ الْأَزْرَقِ ()

٤ - يُمَكِّنُ لِلْأَسْمَاكِ أَنْ تَعِيشَ خَارِجَ الْمَاءِ ()

٥ - مِنْ مَصَادِرِ الْمَاءِ الْعَذْبِ الْآبَارُ ()

اختبار مادة العلوم للصف الثاني الابتدائي - الفصل الدراسي الأول - الفترة الأولى

٥

السؤال الأول : أضع علامة (✓) أو علامة (✗) :

- ١/ البذرة هي جزء النبات الذي ينمو و يصير نباتاً جديداً ()
- ٢/ تتكاثر الطيور بالولادة ()
- ٣/ الزواحف تغطي أجسامها الحرشف ()
- ٤/ الضفدع حيوان برمائي ()
- ٥/ الإنسان و الحيوان يتنفسان الأوكسجين ()

٥

السؤال الثاني : أضع دائرة حول الإجابة الصحيحة :

- ١/ من مراحل نمو الفراشة (البذرة - اليرقة)
- ٢/ الجممل من (الثدييات - الزواحف)
- ٣/ تساهم في إنتاج البذور (الجذور - حبوب اللقاح)
- ٤/ يغطي أجسام الطيور (الريش - الصوف)
- ٥/ جزء النبات الموجود تحت التربة (جذور - أوراق)

اختبار مادة العلوم للصف الثاني الابتدائي - الفصل الدراسي الأول - الفترة الأولى

السؤال الأول:

من الخطوات التي يستخدمها العلماء في دراسة العلوم

لم يتقن أقل من ٨٠%	أتقن من ٨٠% إلى أقل من ٩٠%	أتقن من ٩٠% إلى أقل من ١٠٠%	أتقن المعيار ١٠٠%	المهارة
				تطبيق الطريقة العلمية التي يستخدمها العلماء في دراسة العلوم بصورة مبسطة




السؤال الثاني: ضع علامة (✓) أو علامة (x):

- ١- النباتات ليست مخلوقات حيه ()
- ٢- من حاجات المخلوقات الحية الهواء ()
- ٣- البذرة: هي جزء النبات الذي ينمو ويصير نباتاً جديداً ()
- ٤- تحتاج النباتات إلى ضوء الشمس والهواء والغذاء و.....

لم يتقن أقل من ٨٠%	أتقن من ٨٠% إلى أقل من ٩٠%	أتقن من ٩٠% إلى أقل من ١٠٠%	أتقن المعيار ١٠٠%	المهارة
				تفسير اعتبار النباتات مخلوقات حية
				تعداد حاجات المخلوقات الحية
				وصف مبسط للبذرة مع بيان مصدرها

السؤال الثالث:

صلي الحيوانات الفقارية واللافقارية:



فقارية

لا فقاريه

لم يتقن أقل من ٨٠%	أتقن من ٨٠% إلى أقل من ٩٠%	أتقن من ٩٠% إلى أقل من ١٠٠%	أتقن المعيار ١٠٠%	تصنيف الحيوانات والمقارنة بينها تبعا لصفاتهما الجسمية من خلال قراءة الصور

- المهارات المراد قياسها
- ٢- تفسير اعتبار النباتات مخلوقات حية
 - ٣- تعداد حاجات النبات
 - ٤- وصف مبسط للبذرة مع بيان مصدرها
 - ٥- ترتيب مجموعة صور لمراحل دورة حياة نبات ما
 - ٦- تصنيف الحيوانات و المقارنة بينها تبعا لصفاتهما الجسمية من خلال قراءة الصور
 - ٧- ترتيب مراحل دورة حياة حيوان ما من خلال الصور
 - ٨- المقارنة بين دورة حياة حيوانيين مختلفين من خلال الصور

الصف : ٢ /

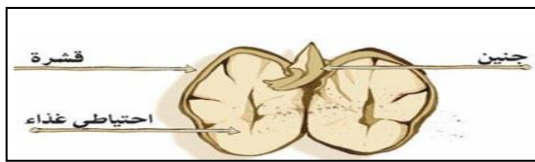
أسم الطالب :

السؤال الأول : فسر لماذا تعتبر النباتات مخلوقات حية ؟

- ١ / تنمو ٢ / تتغذى ٣ / تتكاثر ٤ / تستجيب

السؤال الثاني : عدد حاجات النباتات ؟


- ١ / الماء ٢ / الهواء ٣ / ضوء الشمس ٤ / مكان مناسب



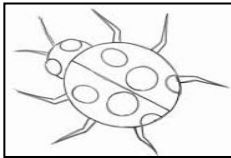
السؤال الثالث : صف البذرة مع بيان مصدرها ؟

البذرة : جزء النبات الذي ينمو و يصبح نباتا جديدا
مصدر البذرة : الأزهار


السؤال الرابع : رتب مراحل دورة حياة النبات التالي ؟




السؤال الخامس : صف المخلوقات الحية التالية مع بيان بعض من صفاتها الجسمية ؟




حشرة
له ستة أرجل
و قرني استشعار




برماني
جلده رطب



زاحف
يغطي جسمه الحراشف



طائر
يغطي جسمه الريش



ثدي
يغطي جسمه الشعر

السؤال الرابع : قارن بين دورتي حياة الماعز و الفراشة من خلال الصور التالية ؟



ماعز مكتمل النمو



ماعز صغير



ماعز حديث الولادة



فراشة مكتملة النمو



فراشة صغيرة



شرنقة



يرقة



بيضة