

تم تحميل وعرض المادة من



موقع مادتي هو موقع تعليمي يعمل على مساعدة المعلمين والطلاب وأولياء الأمور في تقديم حلول الكتب المدرسية والاختبارات وشرح الدروس والملاحظات والتحاظير وتوزيع المنهج لكل المراحل الدراسية بشكل واضح وسهل مجاناً بتصفح وعرض مباشر أونلاين وتحميل على موقع مادتي

2023 - 1445



تطبيق مادتي



الصف :

الاسم :

السؤال الأول : أ- اكتب المصطلح المناسب مما يلي : -

دمج المراسلات

الحاسب

البرامج

الأجزاء المادية

| | |
|---|--|
| جهاز إلكتروني لدية القدرة على معالجة وتخزين واسترجاع البيانات كما يمكنه القيام بالكثير من الامور المفيدة. | |
| الأجزاء التي يتكون منها الحاسب وتتضمن الشاشة واللوحة الأم وغيرها. | |
| مجموعة من التطبيقات المثبتة على الحاسب التي تحتاجها لتكون قادرا على تشغيله مثل نظام التشغيل. | |
| إحدى عمليات معالجة النصوص التي يمكنك من دمج مستند مع ملف قاعدة البيانات. | |

السؤال الأول : ب- ضع علامة \checkmark أو X :

| | |
|---|--|
| ١ | هناك طرق ذكية أكثر سهولة لنسخ أو نقل الملفات مثل السحب والإفلات |
| ٢ | نظام التشغيل من المهم ان يتسم بصعوبة الاستخدام ليكون ممتعاً للمستخدم |
| ٣ | المقال الذي يقتصر على النصوص فقط ممتع للقارئ |
| ٤ | معالج دمج المراسلات هو تطبيق داخل برنامج مايكروسوفت باوربوينت |

السؤال الثاني: أ- ضع المسمى المناسب مما يلي:

ذاكرة الوصول العشوائي

القرص الصلب

اللوحة الأم

المعالج

| | | | |
|----------------------|-------------------------|----------------------------|-------------------------------|
| المركز الرئيس للحاسب | الذاكرة الرئيسية للحاسب | مثابة العقل بالنسبة للحاسب | جهاز التخزين الرئيس في الحاسب |
| | | | |

السؤال الثاني: ب- اكتب نوع الحاسب من خلال الصور التالية:

| | | | |
|---|---|--|---|
|  |  |  |  |
| | | | |

نموذج الاجابة

الاسم :

الصف :

٨

السؤال الأول : أ- اكتب المصطلح المناسب مما يلي : -

| | | | |
|---------------|--------|---------|-----------------|
| دمج المراسلات | الحاسب | البرامج | الأجزاء المادية |
|---------------|--------|---------|-----------------|

| | |
|---|-----------------|
| جهاز إلكتروني لدية القدرة على معالجة وتخزين واسترجاع البيانات كما يمكنه القيام بالكثير من الامور المفيدة. | الحاسب |
| الأجزاء التي يتكون منها الحاسب وتتضمن الشاشة واللوحة الأم وغيرها. | الاجزاء المادية |
| مجموعة من التطبيقات المثبتة على الحاسب التي تحتاجها لتكون قادرا على تشغيله مثل نظام التشغيل. | البرامج |
| إحدى عمليات معالجة النصوص التي يمكنك من دمج مستند مع ملف قاعدة البيانات. | دمج المراسلات |

السؤال الأول : ب- ضع علامة √ أو X :

| | | |
|---|--|---|
| ١ | هناك طرق ذكية أكثر سهولة لنسخ أو نقل الملفات مثل السحب والإفلات | √ |
| ٢ | نظام التشغيل من المهم ان يتسم بصعوبة الاستخدام ليكون ممتعاً للمستخدم | X |
| ٣ | المقال الذي يقتصر على النصوص فقط ممتع للقارئ | X |
| ٤ | معالج دمج المراسلات هو تطبيق داخل برنامج مايكروسوفت باوربوينت | X |

السؤال الثاني: أ- ضع المسمى المناسب مما يلي:

| | | | |
|---------|-------------|-------------|-----------------------|
| المعالج | اللوحة الأم | القرص الصلب | ذاكرة الوصول العشوائي |
|---------|-------------|-------------|-----------------------|

| | | | |
|-------------------------------|----------------------------|-------------------------|----------------------|
| جهاز التخزين الرئيس في الحاسب | مثابة العقل بالنسبة للحاسب | الذاكرة الرئيسية للحاسب | المركز الرئيس للحاسب |
| القرص الصلب | المعالج | ذاكرة الوصول العشوائي | اللوحة الأم |

السؤال الثاني: ب- اكتب نوع الحاسب من خلال الصور التالية:

| | | | |
|---|---|--|---|
|  |  |  |  |
| الخادم | الاجهزة الذكية | اللوحي | المكتبي |

الاسم : الصف :

السؤال الأول : اكتب المصطلح المناسب لمكونات سطح المكتب مما يلي : -

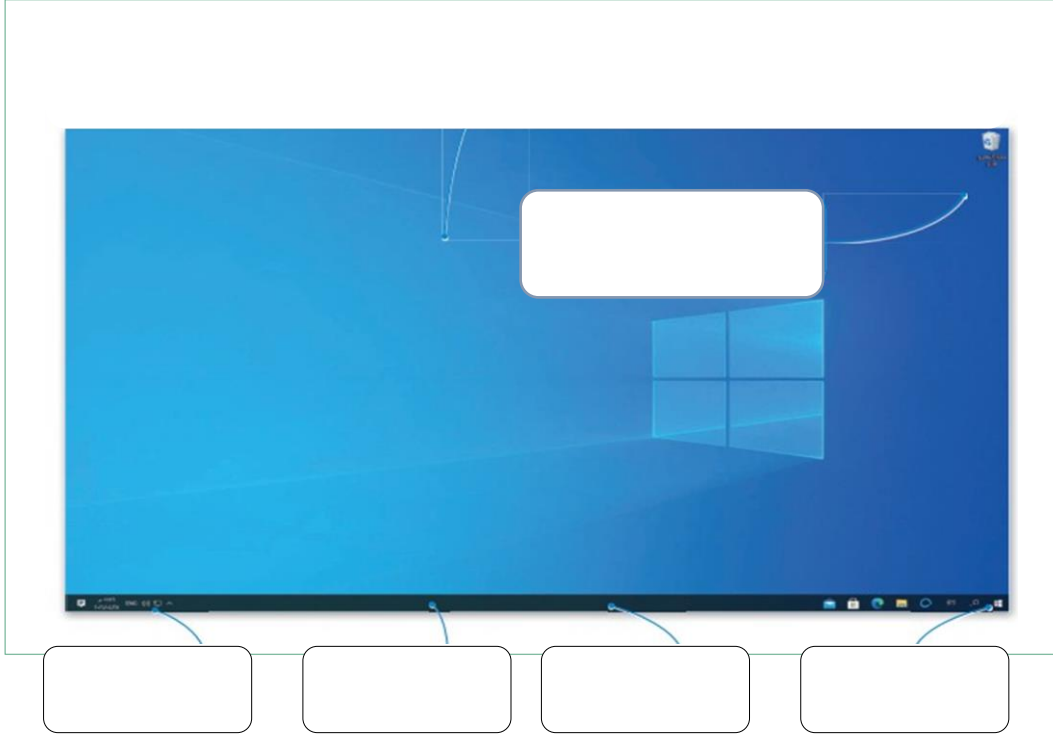
ايقونات بدء التشغيل

شريط المهام

البرامج المتكرر استخدامها

زر البدء

الايقونات



السؤال الثاني : ضع علامة √ أو X :

| | |
|---|--|
| ١ | نستطيع تغيير حجم أيقونات سطح المكتب إلى ثلاثة أحجام كبيرة ومتوسطة وصغيرة |
| ٢ | لإغلاق برنامج لا يستجيب عن طريق مدير المهام وبعد ذلك نحدد البرنامج ومن ثم نقر على إنهاء المهمة |
| ٣ | أجهزة التخزين تظهر لنا بعد أن نقوم بفتح أيقونة المستندات |
| ٥ | لا نستطيع أن نقوم بإخفاء المجلدات |
| ٦ | أول خطوة من خطوات إنشاء مستندات دمج المراسلات هي تحديد نوع المستند |
| ٧ | التنسيق الافتراضي لحفظ المستند في مايكروسوفت وورد هو pdf |

نموذج الاجابة

١٢

الاسم :

الصف :

السؤال الأول : اكتب المصطلح المناسب لمكونات سطح المكتب مما يلي : -

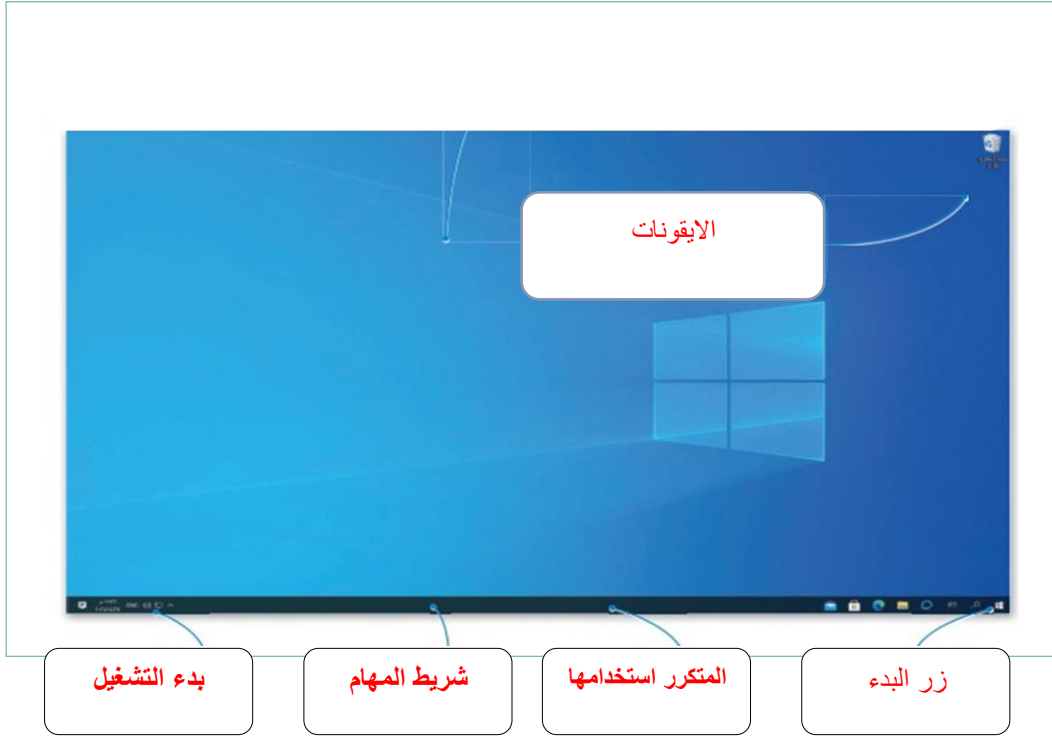
ايقونات بدء التشغيل

شريط المهام

البرامج المتكرر استخدامها

زر البدء

الايقونات



















السؤال الثاني : ضع علامة √ أو X :






| | | |
|---|--|---|
| ✓ | نستطيع تغيير حجم أيقونات سطح المكتب إلى ثلاثة أحجام كبيرة ومتوسطة وصغيرة | ١ |
| ✓ | لإغلاق برنامج لا يستجيب عن طريق مدير المهام وبعد ذلك نحدد البرنامج ومن ثم نقر على إنهاء المهمة | ٢ |
| X | أجهزة التخزين تظهر لنا بعد أن نقوم بفتح أيقونة المستندات | ٣ |
| X | لا نستطيع أن نقوم بإخفاء المجلدات | ٥ |
| ✓ | أول خطوة من خطوات إنشاء مستندات دمج المراسلات هي تحديد نوع المستند | ٦ |
| X | التنسيق الافتراضي لحفظ المستند في مايكروسوفت وورد هو pdf | ٧ |

| | | | |
|--|---------|---|---|
| المهارات الرقمية | المادة | <p>المملكة العربية السعودية وزارة التعليم الإدارة العامة للتعليم بمحافظة جدة مدرسة البيان النموذجية</p> | <p>الفصل الدراسي الأول – الفترة الثانية للعام الدراسي ١٤٤٣ هـ</p> |
| المتوسط | المرحلة | | |
| الأول | الصف | | |
| الثالثة | الوحدة | | |
| <p>بنك الأسئلة مادة الحاسب – الدوري الثاني</p> | | | |

في الفقرات من (١) الى (١٨) اختاري الاجابة الصحيحة:

| | | | | | | |
|---|---|---|---|---|--|--|
| ١ | الخوارزمية هي: | (أ) مجموعة من الأوامر المكتوبة بلغة برمجة معينة | (ب) نوع من أنواع المخططات البيانية | (ج) قائمة من التعليمات يتم اتباعها لحل مشكلة معينة | (د) جهاز يمكن برمجته لاستقبال البيانات ومعالجتها | |
| الترتيب الصحيح لمراحل إنشاء البرنامج: | | | | | | |
| ٢ | (أ) كتابة البرنامج بلغة بايثون رسم المخطط الانسيابي تشكيل الخوارزمية تحديد المشكلة | (ب) تحديد المشكلة تشكيل الخوارزمية رسم المخطط الانسيابي كتابة البرنامج بلغة بايثون | (ج) رسم المخطط الانسيابي تشكيل الخوارزمية كتابة البرنامج بلغة بايثون تحديد المشكلة | (د) تحديد المشكلة رسم المخطط الانسيابي تشكيل الخوارزمية كتابة البرنامج بلغة بايثون | | |
| الشكل الذي يتم رسمه في بداية ونهاية المخطط الانسيابي هو: | | | | | | |
| ٣ | (أ)  | (ب)  | (ج)  | (د)  | | |
| الشكل الذي يتم رسمه لتنفيذ إجراء (عمليات رياضية أو إعطاء أوامر) هو: | | | | | | |
| ٤ | (أ)  | (ب)  | (ج)  | (د)  | | |
| الشكل الذي يتم رسمه في المخطط الانسيابي لاستقبال البيانات وعرض البيانات المعالجة (إدخال/ إخراج) هو: | | | | | | |
| ٥ | (أ)  | (ب)  | (ج)  | (د)  | | |
| الشكل الذي يتم رسمه لاتخاذ قرار (نعم/ لا) أو اختبارات تحقق (صواب/خطأ) هو: | | | | | | |
| ٦ | (أ)  | (ب)  | (ج)  | (د)  | | |
| ٥- يطلق على الأداة التي تستخدم لتحويل لغة البرمجة عالية المستوى إلى لغة الآلة لكي يفهمها الحاسب: | | | | | | |
| ٧ | (أ) البرنامج. | (ب) محول برمجي. | (ج) بايثون. | (د) نظام التشغيل. | | |
| مجموعة من البرامج التي تقوم بإدارة الحاسب وتتحكم في عمل المكونات المادية والبرمجية هو: | | | | | | |
| ٨ | (أ) المكونات المادية | (ب) البرنامج | (ج) المعلومات | (د) نظام التشغيل | | |

في الفقرات من (١) الى (٥) طابقي بين الأشكال من العمود الأول مع الوصف المناسب لها من العمود الثاني.

| العمود الأول (نظام التشغيل) | العمود الثاني (مفهومه) |
|---|--|
| (١)  | (أ) البداية / النهاية |
| (٢)  | (ب) الإدخال / الإخراج |
| (٣)  | (ج) العمليات |
| (٤)  | (د) اتخاذ قرار |
| (٥)  | (هـ) عرض التسلسل الذي يجب تنفيذ الخطوات به |

في الفقرات من (١) الى (٧) ضعي علامة (√) إذا كانت العبارة صحيحة والحرف (خ) إذا كانت العبارة خاطئة.

١. في لغات البرمجة يتم استخدام كلمات وتراكيب خاصة باللغة العربية تصف التعليمات للحاسوب. ()
٢. الخطوة الأولى في مراحل إنشاء برنامج هي رسم المخطط الانسيابي. ()
٣. الخطوة الأخيرة في مراحل إنشاء البرنامج هي كتابة البرنامج بلغة البرمجة. ()
٤. البرنامج هو: مجموعة من الاوامر يتم تنفيذها من قبل الحاسب لتحقيق غرض معين. ()
٥. يجب أن يحتوي المخطط الانسيابي على نقطة بداية ونقطة نهاية. ()
٦. المخطط الانسيابي يستخدم لتمثيل الخوارزمية ويعرض الخطوات التي نحتاج إلى اتباعها بالترتيب الصحيح ()
٧. اللغة الوحيدة التي يفهمها الحاسوب هي لغة الآلة. ()
٨. من النصائح الهامة لعمل مخطط انسيابي يجب تقاطع خطوط الأسهم التي تربط بعض الإجراءات ببعض. ()
٩. تقوم أجهزة الحاسب باتخاذ القرارات بنفسها، وتتبع تعليمات عشوائية. ()

السؤال المقالى الأول : عددي ٢ من لغات البرمجة:

١.
٢.

السؤال المقالى الثانى : (أ) رتبى مراحل إنشاء برنامج

- () - رسم المخطط الانسيابى الذى يوضح التسلسل المنطقى للخوارزمية
- () - تحديد المشكله وكتابة الخطوات اللازمة لحلها
- () - كتابة البرنامج بلغة بايثون
- () - وضع الخطوات بترتيب منطقى تسلسلى لتشكيل الخوارزمية

(ب) قومى بكتابة الخوارزمية اللازمة لحساب مساحة المربع، ثم ارسمى المخطط الانسيابى لحساب تلك المساحة.

باستخدام المعادلة التالية لحساب المربع: المساحة: طول الضلع x طول الضلع

خطوات الخوارزمية:





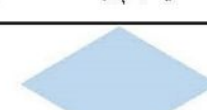










- ١-
- ٢-
- ٣-
- ٤-

المخطط الانسيابى:






نموذج الاجابة

| | | | |
|---|---------|--|---|
| المهارات الرقمية | المادة | <p>الفصل الدراسي الأول – الفترة الثانية للعام الدراسي ١٤٤٣ هـ</p>   | المملكة العربية السعودية وزارة التعليم الإدارة العامة للتعليم بمحافظة جدة مدرسة البيان النموذجية |
| المتوسط | المرحلة | | |
| الأول | الصف | | |
| الثالثة | الوحدة | | |
| بنك الأسئلة مادة الحاسب – الدوري الثاني | | | |

في الفقرات من (١) الى (١٨) اختاري الاجابة الصحيحة:-

| | | | | | | |
|---|---|---|---|---|--|--|
| ١ | اخوارزمية هي: | (أ) مجموعة من الأوامر المكتوبة بلغة برمجة معينة | (ب) نوع من أنواع المخططات البيانية | (ج) قائمة من التعليمات يتم اتباعها لحل مشكلة معينة | (د) جهاز يمكن برمجته لاستقبال البيانات ومعالجتها | |
| الترتيب الصحيح لمراحل إنشاء البرنامج: | | | | | | |
| ٢ | (أ) كتابة البرنامج بلغة بايثون رسم المخطط الانسيابي تشكيل الخوارزمية تحديد المشكلة | (ب) تحديد المشكلة تشكيل الخوارزمية رسم المخطط الانسيابي كتابة البرنامج بلغة بايثون | (ج) رسم المخطط الانسيابي تشكيل الخوارزمية كتابة البرنامج بلغة بايثون تحديد المشكلة | (د) تحديد المشكلة رسم المخطط الانسيابي تشكيل الخوارزمية كتابة البرنامج بلغة بايثون | | |
| الشكل الذي يتم رسمه في بداية ونهاية المخطط الانسيابي هو: | | | | | | |
| ٣ | (أ)  | (ب)  | (ج)  | (د)  | | |
| الشكل الذي يتم رسمه لتنفيذ إجراء (عمليات رياضية أو إعطاء أوامر) هو: | | | | | | |
| ٤ | (أ)  | (ب)  | (ج)  | (د)  | | |
| الشكل الذي يتم رسمه في المخطط الانسيابي لاستقبال البيانات وعرض البيانات المعالجة (إدخال/ إخراج) هو: | | | | | | |
| ٥ | (أ)  | (ب)  | (ج)  | (د)  | | |
| الشكل الذي يتم رسمه لاتخاذ قرار (نعم/ لا) أو اختبارات تحقق (صواب/خطأ) هو: | | | | | | |
| ٦ | (أ)  | (ب)  | (ج)  | (د)  | | |
| ٥- يطلق على الأداة التي تستخدم لتحويل لغة البرمجة عالية المستوى إلى لغة الآلة لكي يفهمها الحاسب:- | | | | | | |
| ٧ | (أ) البرنامج. | (ب) محول برمجي. | (ج) بايثون. | (د) نظام التشغيل. | | |
| مجموعة من البرامج التي تقوم بإدارة الحاسب وتتحكم في عمل المكونات المادية والبرمجية هو: | | | | | | |
| ٨ | (أ) المكونات المادية | (ب) البرنامج | (ج) المعلومات | (د) نظام التشغيل | | |

في الفقرات من (١) الى (٥) طابقي بين الأشكال من العمود الأول مع الوصف المناسب لها من العمود الثاني.

| العمود الأول (نظام التشغيل) | | العمود الثاني (مفهومه) |
|-------------------------------|---|--|
| (١) |  | ج (أ) البداية / النهاية |
| (٢) |  | د (ب) الإدخال / الإخراج |
| (٣) |  | ب (ج) العمليات |
| (٤) |  | هـ (د) اتخاذ قرار |
| (٥) |  | أ (هـ) عرض التسلسل الذي يجب تنفيذ الخطوات به |

في الفقرات من (١) الى (٧) ضعي علامة (√) إذا كانت العبارة صحيحة والحرف (خ) إذا كانت العبارة خاطئة.

١. في لغات البرمجة يتم استخدام كلمات وتراكيب خاصة باللغة العربية تصف التعليمات للحاسوب. (X)
٢. الخطوة الأولى في مراحل إنشاء برنامج هي رسم المخطط الانسيابي. (X)
٣. الخطوة الأخيرة في مراحل إنشاء البرنامج هي كتابة البرنامج بلغة البرمجة. (صح)
٤. البرنامج هو: مجموعة من الاوامر يتم تنفيذها من قبل الحاسب لتحقيق غرض معين. (صح)
٥. يجب أن يحتوي المخطط الانسيابي على نقطة بداية ونقطة نهاية. (صح)
٦. المخطط الانسيابي يستخدم لتمثيل الخوارزمية ويعرض الخطوات التي نحتاج إلى اتباعها بالترتيب الصحيح (صح)
٧. اللغة الوحيدة التي يفهمها الحاسوب هي لغة الآلة. (صح)
٨. من النصائح الهامة لعمل مخطط انسيابي يجب تقاطع خطوط الأسهم التي تربط بعض الإجراءات ببعض. (X)
٩. تقوم أجهزة الحاسب باتخاذ القرارات بنفسها، وتتبع تعليمات عشوائية. (X)

السؤال المقالى الأول : عددي ٢ من لغات البرمجة:

بايثون

سكراتش

السؤال المقتالي الثاني : (أ) رتبى مراحل إنشاء برنامج

- (٣) - رسم للمخطط الانسيابي الذي يوضح التسلسل المنطقي للخوارزمية
- (١) - تحديد للمشكلة وكتابة الخطوات للارزمية لها
- (٤) - كتابة لبرنامج بلغة بلتون
- (٢) - وضع للخطوات بترتيب منطقي تسلسلي لتشكيل الخوارزمية

(ب) قومي بكتابة الخوارزمية الازمية لحساب مساحة المربع، ثم ارسمي المخطط الانسيابي لحساب تلك المساحة.

باستخدام المعادلة التالية لحساب المربع: المساحة: طول الضلع \times طول الضلع

MUHAMMED

خطوات الخوارزمية:

- ١- ادخل طول الضلع
- ٢- اضرب طول الضلع \times طول الضلع
- ٣- اعرض النتيجة
- ٤- النهاية



المخطط الانسيابي:

اختبار الفترة الأولى لمادة المهارات الرقمية (نظري) للصف الأول متوسط الفصل الدراسي الأول لعام 1445هـ

اسم الطالبة: الصف: ز.

السؤال الأول: اختاري الإجابة الصحيحة لكل مما يلي:

8

| | | | | |
|----|---|---------------|-----------------------|-------------------|
| 1. | من أنواع أجهزة الحاسب الشخصية | الحاسب الخادم | الحاسب المحمول | الحاسبات العملاقة |
| 2. | هي بمثابة المركز الرئيس للحاسب تتصل به ومن خلاله جميع أجزاء الحاسب | اللوحة الام | الفارة | الطابعة |
| 3. | تخزن المعلومات والبيانات المطلوب معالجتها لفترة قصيرة من الزمن | السماعات | ذاكرة الوصول العشوائي | المايكروفون |
| 4. | يتم تخزين جميع البرامج بما فيها نظام التشغيل وملفاتك أو ملفات أخرى الى..... | الفلش ميموري | الشاشة | القرص الصلب |
| 5- | من أجهزة الادخال | لوحة المفاتيح | الطابعة | السماعات |
| 6- | يستخدم للإشارة الى العناصر الموجودة على الشاشة | المايك | الفارة | الطابعة |
| 7- | تمكّنك من ادخال البيانات للحاسب باستخدام اصابعك مع معاينة النتائج على الشاشة في نفس الوقت | المايك | الأقراص الضوئية | شاشة اللمس |
| 8- | تستخدم لنقل البيانات بين الأجهزة وتتميز بصغر حجمها | القرص الصلب | ذاكرة الفلاش | لوحة المفاتيح |

السؤال الثاني: ضعي المصطلح المناسب أمام ما يناسبه: (الحاسب - المكونات المادية - المكونات البرمجية - الشاشة)

1- (.....) الأجزاء المادية التي يتكون منها الحاسب وتتضمن الشاشة واللوحة الام وغيرها

2- (.....) جهاز الكتروني لديه القدرة على معالجة وتخزين واسترجاع البيانات

3-- (.....) هي جهاز الادخال الرئيس في الحاسب والتي تعرض نتيجة تفاعل المستخدم

4- (.....) هي مجموعة من التطبيقات المثبتة على الحاسب التي تحتاجها لتكون قادرا على تشغيله

-اذكري اثنان مهام نظام التشغيل :

.....

.....

.....

.....

الاختبار النظري لمادة مهارات رقمية للصف الأول متوسط الفترة (١)

س١: أ- اكملني التالي وفق ما درست :

- ١- الحاسب هو إلكتروني لديه القدرة على معالجة وتخزين واسترجاع
كما يمكنه القيام بالكثير من الأعمال مثل إنشاء والاستماع للصوتيات ومشاهدة
والتواصل مع الأصدقاء
- ٢- يتكون الحاسب من مكونات و.....

س٢: ضعي علامة ✓ إذا كانت العبارة صحيحة و X إذا كانت خاطئة حسب ما درست:

- 1- اللوحة الأم تعتبر المكون الرئيسي للحاسب وتتصل به جميع الأجزاء الأخرى ()
2- الفأرة جهاز إخراج للبيانات ()
3- ذاكرة الوصول العشوائي RAM لا تفقد بياناتها عند انقطاع التيار الكهربائي ()
4- الحاسبات العملاقة حاسبات ضعيفة وقدرة المعالجة بها منخفضة ()
5- الصراف الآلي يعتبر جهاز بحاسب مدمج ()



س٣: اختاري الاجابة الصحيحة وفق ما درست :

١- جهاز خفيف الوزن ويسهل حمله واستخدامه بأي مكان تقريباً

| | | | |
|-------------------|-------------------|-----------|-------------------|
| أ- الحاسب المحمول | ب- الحاسب المكتبي | ج- الخادم | د- الحاسب العملاق |
|-------------------|-------------------|-----------|-------------------|

٢- يعتبر بمثابة عقل الحاسب يقوم بالعمليات الحسابية والمنطقية

| | | | |
|---------------------|----------------|----------------|------------|
| أ- الذاكرة الرئيسية | ب- القرص الصلب | ج- اللوحة الأم | د- المعالج |
|---------------------|----------------|----------------|------------|

٣- ذاكرة تخزين محمولة لنقل البيانات تتميز بصغر حجمها وتطور سعتها التخزينية

| | | | |
|------------------|-----------------|----------------|-----------------|
| أ- بطاقة الذاكرة | ب- ذاكرة الفلاش | ج- القرص الصلب | د- القرص الضوئي |
|------------------|-----------------|----------------|-----------------|

٤- شاشة اللمس هي جهاز

| | | | |
|----------|----------|----------------------|----------|
| أ- إدخال | أ- إخراج | ج- إدخال وإخراج معاً | د- تخزين |
|----------|----------|----------------------|----------|

٥- من أهم أجهزة الإدخال ومن خلاله يمكن ادخال النصوص والأوامر للحاسب

| | | | |
|-------------|------------|------------------|------------|
| أ- السماعات | ب- الطابعة | ج- لوحة المفاتيح | د- الكينكت |
|-------------|------------|------------------|------------|

ت- من وحدات التخزين في الحاسب



اسم الطالبة

الشعبة

الصف: أولى متوسط

اسم الطالبة:

8

اختبار مادة المهارات الرقمية

السؤال الأول: اختاري الإجابة الصحيحة:

1. هو جهاز الكتروني يمكنه معالجة وتخزين واسترجاع البيانات:
أ- الحاسب
ب- الآلة الحاسبة
2. يتكون الحاسب من صندوق الحاسب والشاشة وبعض الأجهزة الملحقة:
أ- الخادم
ب- المكتبي
3. من أنظمة التشغيل الخاصة بالحواسيب اللوحية:
أ- نظام تشغيل أبل
ب- نظام تشغيل ويندوز
4. تنقسم البرامج في الحاسب الى:
أ- أنظمة التشغيل والتطبيقات
ب- القرص الصلب والتطبيقات

السؤال الثاني: ضعي علامة (√) أو (×) أمام العبارات التالية:

1. أكثر أنواع الحاسب شيوعا هو الحاسب الشخصي ()
2. تعد الهواتف الذكية أجهزة حاسب مصغرة ()
3. يعتبر الميكروفون من أجهزة الإخراج في الحاسب ()
4. يتم تخزين الملفات مثل الصور في شاشة الحاسب ()

الاختبار النظري لمادة مهارات رقمية للصف الأول متوسط الفترة (١)

اسم الطالبة: الصف:

السؤال الأول: اختاري الإجابة الصحيحة:

| | | | | | | | |
|---|---|---|----------------|---|----------------|---|-------------------|
| 1 | تهيئة البيئة المناسبة للمستخدم للتفاعل مع الحاسب من مهام : | | | | | | |
| أ | نظام التشغيل | ب | برنامج الورد | ج | برنامج المفكرة | د | برنامج الفوتوشوب |
| 2 | جهاز خفيف الوزن ويسهل حمله واستخدامه بأي مكان تقريباً | | | | | | |
| أ | الحاسب المكتبي | ب | الحاسب المحمول | ج | الحاسب الخادم | د | الحاسب العملاق |
| 3 | عقل الحاسب ينفذ عمليات الحساب والمنطق والادخال والإخراج وتقاس سرعته بجيجاهرتز | | | | | | |
| أ | الفأرة | ب | اللوحة الأم | ج | المعالج | د | نظام التشغيل |
| 4 | شاشة اللمس هي جهاز | | | | | | |
| أ | إدخال | ب | إخراج | ج | تخزين | د | إدخال وإخراج معاً |
| 5 | من أهم أجهزة الادخال ومن خلاله يمكن ادخال النصوص والأوامر للحاسب | | | | | | |
| أ | الفأرة | ب | الشاشة | ج | نظارات جوجل | د | لوحة المفاتيح |

السؤال الثاني: ضعي علامة (√) أو (×) أمام العبارات التالية:

| | |
|----|--|
| 1- | يتكون الحاسب من المكونات المادية (الأجهزة فقط) . |
| 2- | ذاكرة الوصول العشوائي هي وحدة التخزين الأساسية في الحاسب |
| 3- | تختلف أجهزة التخزين من حيث السعة التخزينية |
| 4- | بطاقة الفيديو: تحول البيانات من وحدة المعالجة إلى صور على الشاشة. |
| 5- | الحاسبات العملاقة حاسبات ضعيفة وقدرة المعالجة بها منخفضة |
| 6- | أنظمة التشغيل الحديثة سمحت للمستخدم برؤية جميع الملفات والمجلدات وكذلك أتاحت التحكم بها بالفأرة من خلال الواجهة الرسومية |

انتهت الأسئلة وفقن الله

الاختبار النظري لمادة مهارات رقمية للصف الأول متوسط الفترة (١)

اسم الطالبة: الصف:

السؤال الأول : ضعي علامة (√) أو (×) أمام العبارات التالية:

| | |
|----|--|
| 1- | تختلف أجهزة التخزين من حيث السعة التخزينية |
| 2- | ذاكرة الوصول العشوائي هي وحدة التخزين الأساسية في الحاسب |
| 3- | يتكون الحاسب من المكونات المادية (الأجهزة) والبرامج |
| 4- | بطاقة الفيديو: تحول البيانات من وحدة المعالجة إلى صور على الشاشة. |
| 5- | الحاسبات العملاق حاسبات ضعيفة وقدرة المعالجة بها منخفضة |
| 6- | أنظمة التشغيل الحديثة سمحت للمستخدم برؤية جميع الملفات والمجلدات وكذلك أتاحت التحكم بها بالفأرة من خلال الواجهة الرسومية |

السؤال الثاني : اختاري الإجابة الصحيحة:

| | | | | | | | | | |
|---|---|---|----------------|---|----------------|---|----------------|---|-------------------|
| 1 | شاشة اللمس هي جهاز | أ | إدخال | ب | إخراج | ج | تخزين | د | إدخال وإخراج معاً |
| 2 | جهاز خفيف الوزن ويسهل حمله واستخدامه بأي مكان تقريباً | أ | الحاسب المكتبي | ب | الحاسب العملاق | ج | الحاسب الخادم | د | الحاسب المحمول |
| 3 | من أهم أجهزة الإدخال ومن خلاله يمكن ادخال النصوص والأوامر للحاسب | أ | الفأرة | ب | لوحة المفاتيح | ج | نظارات جوجل | د | الشاشة |
| 4 | تهيئة البيئة المناسبة للمستخدم للتفاعل مع الحاسب من مهام : | أ | برنامج الورد | ب | نظام التشغيل | ج | برنامج المفكرة | د | برنامج الفوتوشوب |
| 5 | عقل الحاسب ينفذ عمليات الحساب والمنطق والإدخال والإخراج وتقاس سرعته بجيجاهرتز | أ | الفأرة | ب | المعالج | ج | اللوحة الأم | د | نظام التشغيل |

انتهت الأسئلة وفقن الله

الاختبار النظري لمادة مهارات رقمية للصف الأول متوسط الفترة (١)

الصف:

اسم الطالبة:

السؤال الأول: اختاري الإجابة الصحيحة:

| | | | | | | | |
|---|---|---|----------------|---|----------------|---|-------------------|
| 1 | عقل الحاسب ينفذ عمليات الحساب والمنطق والادخال والإخراج وتقاس سرعته بجيهاهرتز | | | | | | |
| أ | الفأرة | ب | المعالج | ج | اللوحة الأم | د | نظام التشغيل |
| 2 | جهاز له احجام مختلفة وأجهزة متصلة ببعضها | | | | | | |
| أ | الحاسب المحمول | ب | الحاسب المكتبي | ج | الحاسب الخادم | د | الحاسب العملاق |
| 3 | تهيئة البيئة المناسبة للمستخدم للتفاعل مع الحاسب من مهام : | | | | | | |
| أ | برنامج الفوتوشوب | ب | برنامج الورد | ج | برنامج المفكرة | د | نظام التشغيل |
| 4 | شاشة اللمس هي جهاز | | | | | | |
| أ | إدخال | ب | إخراج | ج | تخزين | د | إدخال وإخراج معاً |
| 5 | من أهم أجهزة الادخال ومن خلاله يمكن ادخال النصوص والأوامر للحاسب | | | | | | |
| أ | الفأرة | ب | الشاشة | ج | نظارات جوجل | د | لوحة المفاتيح |

السؤال الثاني: ضعي علامة (√) أو (×) أمام العبارات التالية:

| | |
|----|--|
| 1- | يتكون الحاسب من المكونات المادية (الأجهزة فقط) |
| 2- | القرص الصلب هو وحدة التخزين الأساسية في الحاسب |
| 3- | تختلف أجهزة التخزين من حيث السعة التخزينية |
| 4- | بطاقة الفيديو: تحول البيانات من وحدة المعالجة إلى صور على الشاشة. |
| 5- | الحاسبات العملاقة لها قدرة عالية على لمعالجة |
| 6- | أنظمة التشغيل الحديثة سمحت للمستخدم برؤية جميع الملفات والمجلدات وكذلك أتاحت التحكم بها بالفأرة من خلال الواجهة الرسومية |

انتهت الأسئلة وفقن الله

الصف : أولى متوسط

اسم الطالبة :

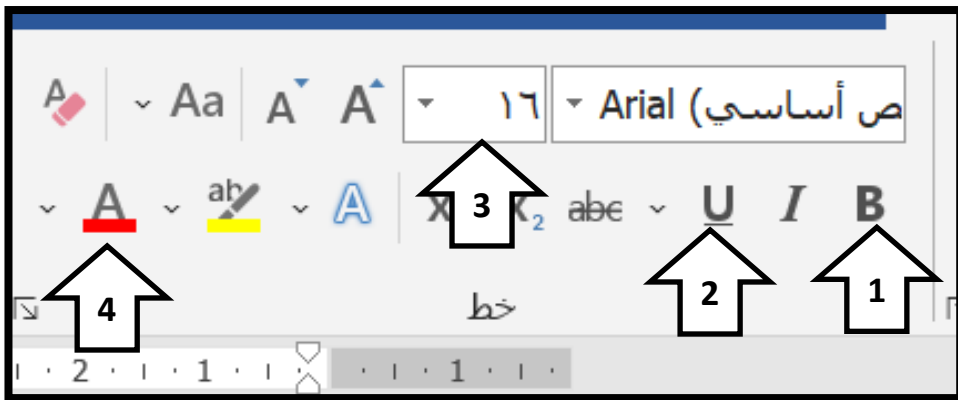
8

اختبار الفترة الثانية نظري

السؤال الأول: اختاري الإجابة الصحيحة:

1. لإنشاء مستند جديد في برنامج الورد نختار علامة التبويب:
أ- ملف ثم جديد ثم مستند فارغ
ب- بحث ثم جديد
2. لتطبيق حدود الصفحة نفتح نافذة:
أ- الشريط الرئيسي
ب- حدود وتظليل
3. لإضافة صورة من جهاز الحاسب الخاص بك نختار علامة التبويب:
أ- ادراج
ب- ملف
4. لتطبيق نمط على الجدول نختار علامة التبويب:
أ- تصميم الجدول
ب- ادراج

السؤال الثاني: أمامك صورة اكتبى ما تحتوي عليه:



- 1-
- 2-
- 3-
- 4-

أ. وجدان الشتيل