

تم تحميل وعرض المادة من



موقع مادتي هو موقع تعليمي يعمل على مساعدة المعلمين والطلاب وأولياء الأمور في تقديم حلول الكتب المدرسية والاختبارات وشرح الدروس والملخصات والتحاظير وتوزيع المنهج لكل المراحل الدراسية بشكل واضح وسهل مجاناً بتصفح وعرض مباشر أونلاين وتحميل على موقع مادتي

تطبيق مادتي



2023 - 1445

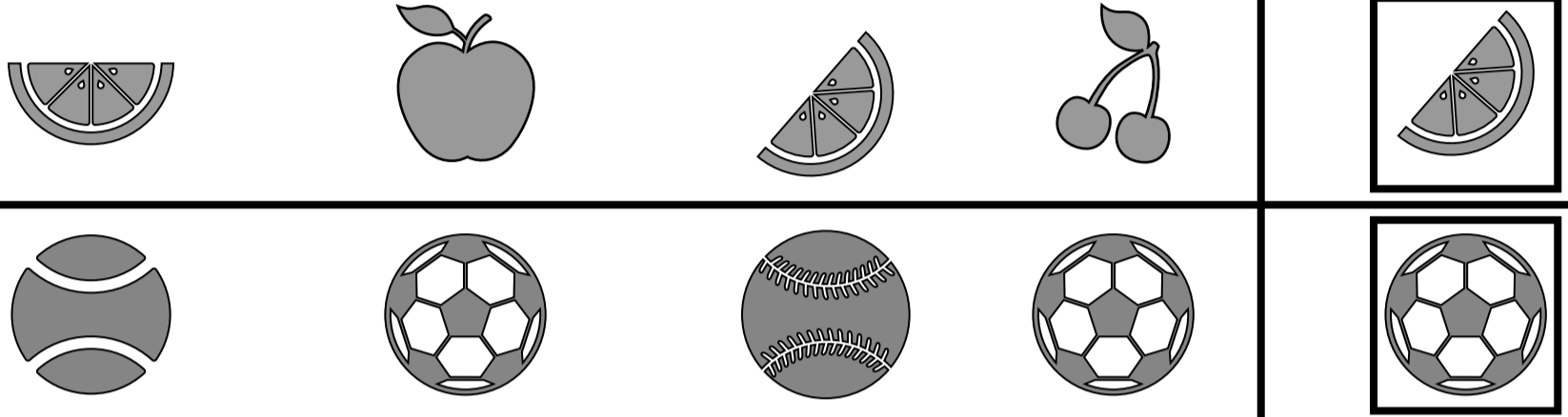
اختبار: مادة الرياضيات  
فصل: المقارنة والتصنيف  
للمستوى: الأول ابتدائي  
لعام ١٤٤٤

المملكة العربية السعودية  
وزارة التعليم  
إدارة التعليم بمحافظة .....  
مدرسة.....

الصف: أولى / .....

الإسم: .....


س١- أحوط العناصر المماثلة للشكل الموجود داخل الإطار:



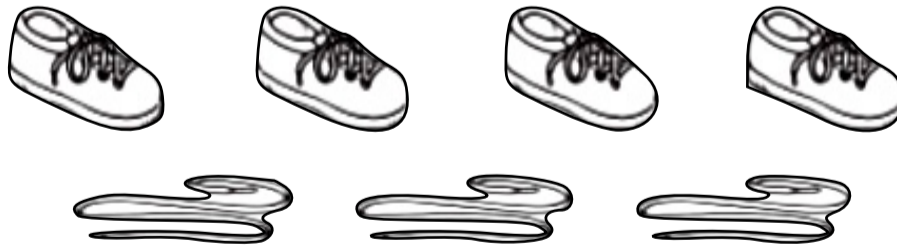
س٢- أحوط الشكل الذي يشترك مع الشكل  في أكثر من خاصية:



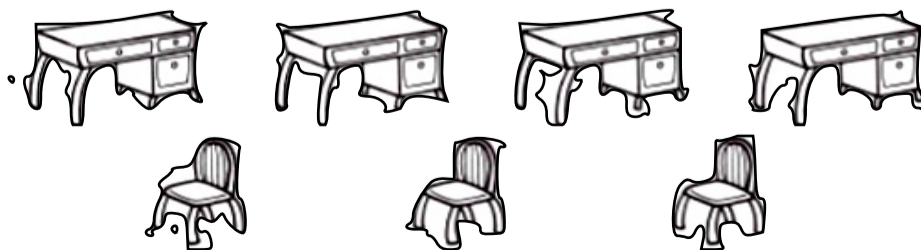
س٣- أصل بين عناصر المجموعات ثم أحوط الصور التي يكون بها عدد المجموعتان متساويان:



س٤- أصل بين عناصر المجموعتين ثم أحوط المجموعة التي عناصرها أقل:



س٥- أصل بين عناصر المجموعتين ثم أحوط المجموعة التي عناصرها أكثر:






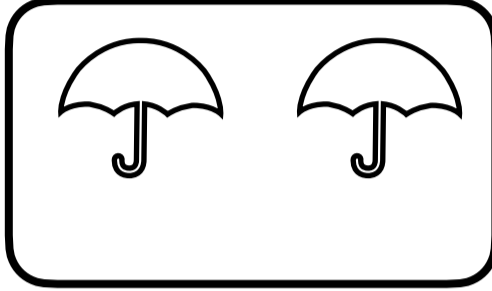
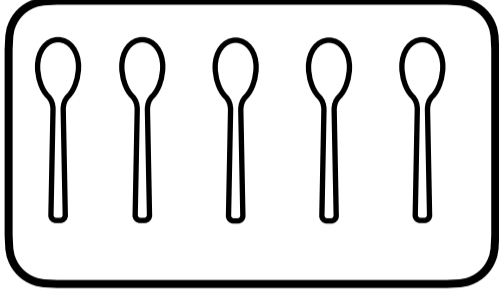
اختبار : مادة الرياضيات  
فصل : الأعداد حتى (٥)  
للمصف : الأول ابتدائي  
لعام ١٤٤٤

المملكة العربية السعودية  
وزارة التعليم  
إدارة التعليم بمحافظة .....  
مدرسة : .....

الصف : أولى / .....

الإسم : .....

س١- أعد وأكتب العدد المناسب لكل مجموعة :



س٢- اكتب عدد السمكات في الوعاء :



س٣- أرسم كرات ○ بقدر العدد المطلوب :



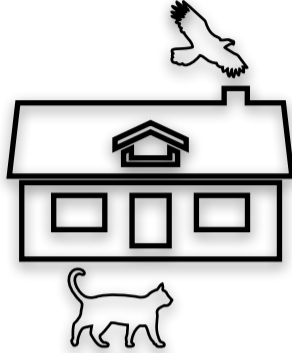
اختبار : مادة الرياضيات  
فصل: الموقع والنمط  
للمصف: الأول ابتدائي  
لعام ١٤٤٤

المملكة العربية السعودية  
وزارة التعليم  
ادارة التعليم بمحافظة  
مدرسة :

الصف : أولى / .....

الإسم : .....

أحوظ الحيوان الذي يقع تحت المنزل.




أحوظ البالون الذي يقع فوق الشجرة.




أضع علامة X على المكعب  
الموجود في الأسفل




أضع علامة X على السمكة  
الموجودة في الأعلى




أضع علامة X على القبعة  
الموجودة في الوسط



أحوظ الحيوان الذي يسير بعد الآخرين.



أحوظ السيارة التي تسير قبل الشاحنة.



هي ؟



وحدة النمط في الشكل التالي



أحوظ الشكل التالي في النمط المعطى..



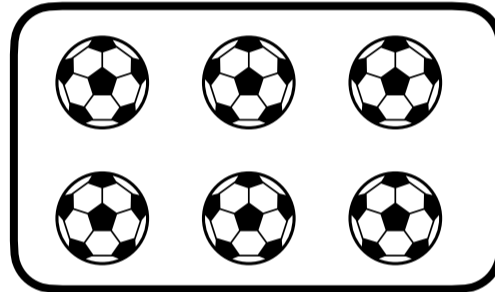

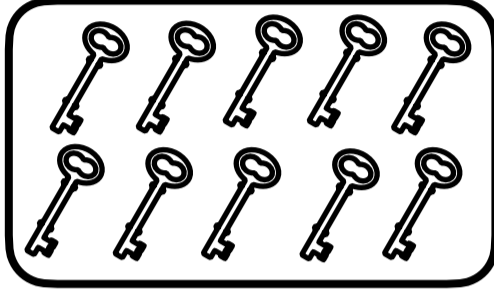

اختبار : مادة الرياضيات  
فصل : الأعداد حتى (١٠)  
للمنصف : الأول ابتدائي  
لعام ١٤٤٤

المملكة العربية السعودية  
وزارة التعليم  
إدارة التعليم بمحافظة  
مدرسة :

الصف : أولى / .....

الإسم : .....

س١- أعد وأكتب العدد المناسب لكل مجموعة :



س٢- أعد الأشياء في كل مجموعة وأكتب عددها، ثم أصل بخطوط بين عناصر المجموعتين،  
وأحوظ المجموعة الأكثر :



س٣- أحوظ البطة الأولى، وأضع علامة x على البطة الخامسة :

