

تم تحميل و عرض المادة من



موقع مادتي هو موقع تعليمي يعمل على مساعدة المعلمين والطلاب وأولياء الأمور في تقديم حلول الكتب المدرسية والاختبارات وشرح الدروس والملخصات والتحاير وتوزيع المنهج لكل المراحل الدراسية بشكل واضح وسهل مجاناً بتصفح وعرض مباشر أونلاين وتحميل على موقع مادتي

2023 - 1445




تطبيق مادتي



أوراق عمل

الصف الثاني متوسط الفصل الدراسي الأول



ورقة عمل

(ثاني متوسط - الفصل الدراسي الأول)

الجبر: الأعداد النسبية

١ - ١

السؤال الأول: اكتب كل كسر اعتيادي أو عدد كسري مما يأتي على صورة كسر عشري:

$\frac{1}{5}$	٧	$\frac{3}{5}$	١
$\frac{3}{8}$	٨	$\frac{5}{8}$	٢
$\frac{5}{33}$	٩	$\frac{9}{20}$	٣
$-\frac{7}{9}$	١٠	$\frac{37}{50}$	٤
$-\frac{11}{18}$	١١	$-\frac{11}{17}$	٥
$-\frac{11}{30}$	١٢	$-\frac{9}{32}$	٦

الجبر: مقارنة الأعداد النسبية وترتيبها

٢ - ١

السؤال الأول: ضع إشارة < أو > أو = في لتكوّن كل جملة مما يأتي صحيحة:

$\frac{5}{13} - \text{ } \bullet \text{ } \frac{8}{13} -$	٩	$\frac{5}{7} \bullet \frac{3}{5}$	١
$\frac{7}{8} - \text{ } \bullet \text{ } \frac{3}{8} -$	١٠	$\frac{5}{11} \bullet \frac{4}{9}$	٢
$\frac{7}{7} - \text{ } \bullet \text{ } \frac{2}{5} -$	١١	$3 \frac{1}{9} \bullet 3 \frac{2}{11}$	٣
$\frac{9}{11} - \text{ } \bullet \text{ } \frac{2}{9} -$	١٢	$0 \frac{8}{17} \bullet 0 \frac{7}{10}$	٤
$٤,٥٥ - \text{ } \bullet \text{ } ٤,٥ -$	١٣	$\frac{2}{11} \bullet ٠,٢$	٥
$٦,١٥ - \text{ } \bullet \text{ } ٦,١٤ -$	١٤	$\frac{5}{21} \bullet ٠,٢٥$	٦
$٣,٥ - \text{ } \bullet \text{ } ٣,٥٧ -$	١٥	$٨,٣ \bullet ٨ \frac{10}{27}$	٧
$١,٩٩ - \text{ } \bullet \text{ } ١,٩ -$	١٦	$٤,٣ \bullet ٤ \frac{8}{3}$	٨

الجبر: ضرب الأعداد النسبية

٣ - ١

السؤال الأول: أوجد ناتج الضرب في أبسط صورة:

$(\frac{1}{v} -) \times \frac{v}{\wedge} -$	٦	$\frac{\varepsilon}{o} \times \frac{1}{\varepsilon}$	١
$\frac{1}{o} \times 1 \frac{1}{\varepsilon}$	٧	$\frac{1}{r} \times \frac{7}{v}$	٢
$1 \frac{1}{o} \times 1 \frac{1}{\varepsilon}$	٨	$\frac{r}{\text{f}} \times \frac{\text{f}}{10}$	٣
$(\frac{1}{\varepsilon} -) \times 2 \frac{r}{\text{f}} -$	٩	$\frac{\varepsilon}{o} \times \frac{10}{17} -$	٤
			$\frac{10}{17} \times (\frac{\wedge}{r0} -)$

الجبر: قسمة الأعداد النسبية

٤ - ١

السؤال الأول: اكتب النظير الضربي لكل عدد فيما يلي:

	٣	٢٠ -		$\frac{٤}{٥}$	١
	٤	$٥ \frac{٣}{٨} -$		$\frac{٧}{١٢}$	٢

السؤال الثاني: أوجد ناتج القسمة في أبسط صورة:

$٣ \div \frac{٧}{٧}$	٦	$\frac{١}{٤} \div \frac{١}{٥}$	١
$١٠ \div \frac{٤}{٥}$	٧	$\frac{٥}{٦} \div \frac{٢}{٥}$	٢
$٨ \div \frac{٦}{١١}$	٨	$\frac{٦}{١١} \div \frac{٣}{٨}$	٣
$\frac{٥}{٦} \div \frac{٤}{٥} -$	٩	$\frac{٤}{٥} \div \frac{٣}{١٠} -$	٤
		$٦ \div \frac{٣}{٨}$	٥

ورقة عمل

(ثاني متوسط - الفصل الدراسي الأول)

الجبر: جمع الأعداد النسبية ذات المقامات المتشابهة وطرحها

٥ - ١

السؤال الأول: أوجد ناتج الجمع أو الطرح في أبسط صورة:

	$\frac{1}{\varepsilon} + \frac{1}{\theta} -$	١
	$(\frac{1}{\lambda} -) + \frac{3}{\lambda} -$	٢
	$\frac{10}{11} + \frac{\lambda}{11} -$	٣
	$\frac{\varepsilon}{\nu} - \frac{\theta}{\nu} -$	٤
	$\frac{\nu}{12} - \frac{11}{12}$	٥
	$\frac{\nu}{10} - \frac{2}{10}$	٦
	$7\frac{3}{\varepsilon} + \varepsilon\frac{3}{\varepsilon}$	٧
	$9\frac{9}{10} + \theta\frac{\nu}{10}$	٨
	$(3\frac{\theta}{9} -) + \nu\frac{\varepsilon}{9}$	٩

الجبر: جمع الأعداد النسبية ذات المقامات المختلفة وطرحها

٦ - ١

السؤال الأول: أوجد ناتج الجمع أو الطرح في أبسط صورة:

	$\frac{7}{10} + \frac{1}{2} -$	١
	$(-\frac{5}{9} -) + \frac{5}{7}$	٢
	$(\frac{1}{3} -) + \frac{4}{5} -$	٣
	$\frac{2}{5} - \frac{7}{9}$	٤
	$(\frac{1}{12} -) - \frac{3}{4}$	٥
	$(\frac{2}{3} -) - \frac{7}{8} -$	٦
	$7\frac{3}{4} + 4\frac{1}{5}$	٧
	$(5\frac{3}{5} -) + 1\frac{7}{10}$	٨
	$(5\frac{1}{3} -) - 7\frac{3}{5}$	٩

ورقة عمل

(ثاني متوسط - الفصل الدراسي الأول)

الجبر: استراتيجية حل المسألة: البحث عن نمط

٧ - ١

السؤال الأول: استعمل استراتيجية البحث عن نمط لحل المسألتين التاليتين:

٢

.....

.....

.....

١

.....

.....

.....

٤

.....

.....

.....

٣

.....

.....

.....

السؤال الثاني: استعمل الاستراتيجية المناسبة لحل التمرين التالي:

٣. تحليل الجداول: تزداد سرعة سقوط جسم حتى يصل الأرض. ما المسافة التي يقطعها الجسم خلال الثانية الخامسة؟

المسافة التي يقطعها	الفترة الزمنية
١٦ قدمًا	الثانية الأولى
٤٨ قدمًا	الثانية الثانية
٨٠ قدمًا	الثانية الثالثة
١١٢ قدمًا	الثانية الرابعة

.....

.....

.....

ورقة عمل

(ثاني متوسط - الفصل الدراسي الأول)

الجبر: القوى والأسس

٨ - ١

السؤال الأول: اكتب كلاً من العبارات الآتية باستعمال الأسس:

	$m \times 3 \times 3$
	$5 \times 2 \times 2 \times 5 \times 2 \times 2$
	$9 \times 3 \times 3 \times 9 \times 3 \times 9$
	$7 \times 7 \times 7 \times 7 \times 7 \times 7$
	$5 \times 7 \times 7 \times 5 \times 7 \times 7 \times 5$
	$5 \times 8 \times 8 \times 5 \times 8 \times 8 \times 5$

السؤال الثاني: احسب قيمة كل عبارة مما يأتي:

	9^{-2}		2^4
	5^{-3}		5^3
	$5^2 \times 7^2$		$7^2 \times 5^2$
	$10^2 \times 3^2$		$3^2 \times 10^2$
	$2^{-3} \times 3^{-2}$		$3^{-2} \times 2^{-3}$
	$5^{-4} \times 3^3 \times 7$		$3^3 \times 7 \times 5^{-4}$

السؤال الثالث: جبر: أوجد ناتج كل عبارة مما يأتي:

$m \times n^3$ إذا كان: $m = 6$ ، $n = 2$	$r^3 \times s$ إذا كان: $r = 5$ ، $s = 4$
$s^0 \times v$ إذا كان: $s = 2$ ، $v = 8$	$f^4 \times j$ إذا كان: $f = 3$ ، $j = 1$

ورقة عمل

(ثاني متوسط - الفصل الدراسي الأول)

الجبر: الصيغة العلمية

٩ - ١

السؤال الأول: اكتب كلاً من الأعداد الآتية بالصيغة القياسية:

	$10 \times 0,1$		$10 \times 9,03$
	$10 \times 7,7$		$10 \times 7,89$
	$10 \times 3,80$		$10 \times 4,110$
	$10 \times 1,04$		$10 \times 3,201$

السؤال الثاني: اكتب كلاً من الأعداد الآتية بالصيغة العلمية:

7000	4400
07000000	7990000
$0,099$	$0,084$
$0,000307$	$0,00000010$

الأعداد الحقيقية ونظرية فيثاغورس : الجذور التربيعية

١ - ٢

السؤال الأول: أوجد الجذور التربيعية الآتية:

	$\sqrt{\frac{121}{289}} \sqrt{\pm}$		$\sqrt{36}$
	$\sqrt{\frac{81}{100}} \sqrt{\pm}$		$\sqrt{144}$
	$\sqrt{0,0025} \sqrt{\pm}$		$\sqrt{\frac{9}{16}}$
	$\sqrt{0,49} \sqrt{-}$		$\sqrt{1,96}$
	$\sqrt{3,24} \sqrt{-}$		$\sqrt{2,25} \sqrt{\pm}$
	$\sqrt{\frac{25}{441}} \sqrt{-}$		$\sqrt{361} \sqrt{\pm}$

السؤال الثاني: أجب عن الأسئلة التالية:

١. **حقائق:** : لدى عمار ١٩٦ نبتة، يريد زراعتها في تشكيلة مربعة.

كم نبتة يجب أن يزرع في كل صف؟

.....

٢. **مطاعم:** طلب مطعم جديد ٦٤ طاولة لوضعها في الساحة خارج المطعم.

إذا رُتبت هذه الطاولات في تشكيلة مربعة، فما عدد الطاولات في كل صف؟

.....

ورقة عمل

(ثاني متوسط - الفصل الدراسي الأول)

تقدير الجذور التربيعية

٢ - ٢

السؤال الأول: قَدِّر كلاً مما يأتي إلى أقرب عدد كلي:

	$\sqrt{٨٦,٤}$		$\sqrt{٣٨}$
	$\sqrt{٢٧ \frac{٣}{٨}}$		$\sqrt{٥٣}$
	$\sqrt{١٠٣,٦}$		$\sqrt{٧ \frac{٢}{٥}}$
	$\sqrt{٨,٥}$		$\sqrt{٩٩}$
	$\sqrt{٣٥,١}$		$\sqrt{٢٢٧}$
	$\sqrt{٤٥,٢}$		$\sqrt{٦٧,٣}$

السؤال الثاني: أجب عن السؤال التالي:

١. هندسة: : صيغة مساحة المربع هي $م = س \cdot س$ حيث $س$ طول الضلع.

قَدِّر طول ضلع كل مربع مما يأتي:



.....
.....

.....
.....

استراتيجية حل المسألة: استعمال أشكال فن

٣ - ٢

السؤال الأول: استعمل استراتيجية استعمال أشكال فن لحل المسألتين ١ ، ٢ :

١. جامعات: يمارس ٢٥ طالبًا من جامعة ما نشاطًا رياضيًا في ملاعب الجامعة، ١٧ منهم من كلية العلوم، ١٢ طالبًا منهم فوق العشرين عامًا، ٩ طلاب منهم في كلية العلوم وأعمارهم فوق العشرين عامًا. كم طالبًا ليس في كلية العلوم وعمره ٢٠ عامًا أو أقل؟

٢. جغرافيا: تتكون المملكة العربية السعودية من ١٣ منطقة إدارية، ٦ مناطق منها تقع على الساحل، و ٧ لها حدود مشتركة مع دول عربية، و ٣ لها حدود مشتركة مع دول عربية وتقع على الساحل. كم منطقة فقط لها حدود مشتركة مع دول عربية، وكم منطقة فقط تقع على الساحل؟

السؤال الثاني: استعمل الاستراتيجية المناسبة لحل التمرين التالي:

من استراتيجيات حل المسألة

البحث عن نمط

استعمال أشكال فن

التخمين والتحقق

٣. أنماط: ما العدان التاليان في النمط التالي؟

٤٨٦ ، ١٦٢ ، ٥٤ ، ١٨ ،

ورقة عمل

(ثاني متوسط - الفصل الدراسي الأول)

الأعداد الحقيقية

٢ - ٤

السؤال الأول: سمِّ كل مجموعات الأعداد التي ينتمي إليها كل عدد حقيقي مما يأتي:

	٩ -		$\sqrt{35}$
	$\frac{8}{11}$		٩,٥٥
	٥,٣		$\frac{20}{5}$
	$\sqrt{144}$		$-\sqrt{44}$

السؤال الثاني: أجب عن السؤال التالي:

١. فن: : مساحة لوحة فنية مربعة الشكل ٦٠٠ سم^٢.
احسب محيط اللوحة إلى أقرب جزء من مئة؟

١. جبر: : الوسط الهندسي للعددين الموجبين أ ، ب هو $\sqrt{أب}$.
أوجد الوسط الهندسي للعددين ٣٢ ، ٥٠ .

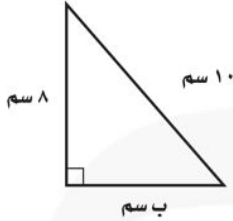
ورقة عمل

(ثاني متوسط - الفصل الدراسي الأول)

نظرية فيثاغورس

٢ - ٥

السؤال الأول: اكتب معادلة لإيجاد طول الضلع المجهول في كل مثلث قائم مما يأتي ثم أوجده، وقرب الإجابة إلى أقرب عشر إذا لزم ذلك:

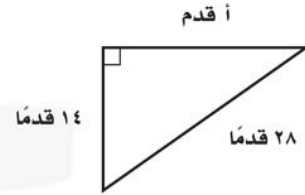


٢

.....

.....

.....

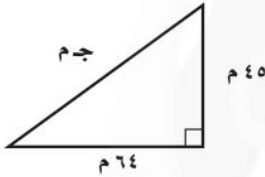


١

.....

.....

.....

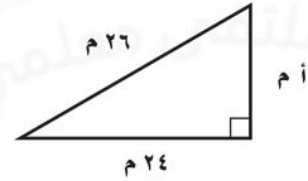


٤

.....

.....

.....

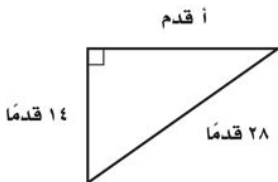


٣

.....

.....

.....

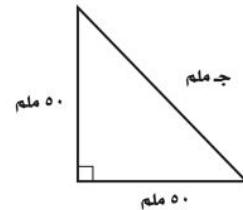


٦

.....

.....

.....



٥

.....

.....

.....

ورقة عمل

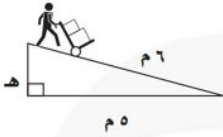
(ثاني متوسط - الفصل الدراسي الأول)

تطبيقات على نظرية فيثاغورس

٦ - ٢

السؤال الأول: اكتب معادلة يمكن استعمالها للإجابة عن كل سؤال مما يأتي، وقدّر الناتج إلى أقرب جزء من عشرة إذا لزم ذلك:

٢ ما ارتفاع الممر المائل (هـ)؟

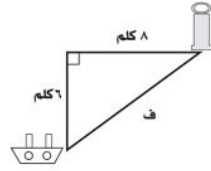


.....

.....

.....

١ كم تبعد السفينة عن برج المراقبة؟

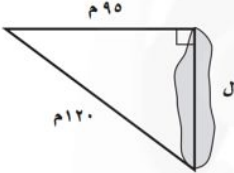


.....

.....

.....

٤ ما طول البحيرة؟

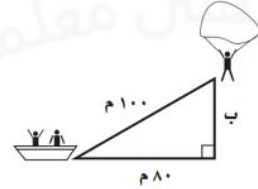


.....

.....

.....

٣ كم يرتفع المظلي عن سطح الماء؟



.....

.....

.....

٦ ما ارتفاع الطرف العلوي للسلم على الأرض؟

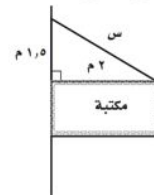


.....

.....

.....

٥ ما طول السلك (س) الذي يشدُّ اللوحة من أعلى؟



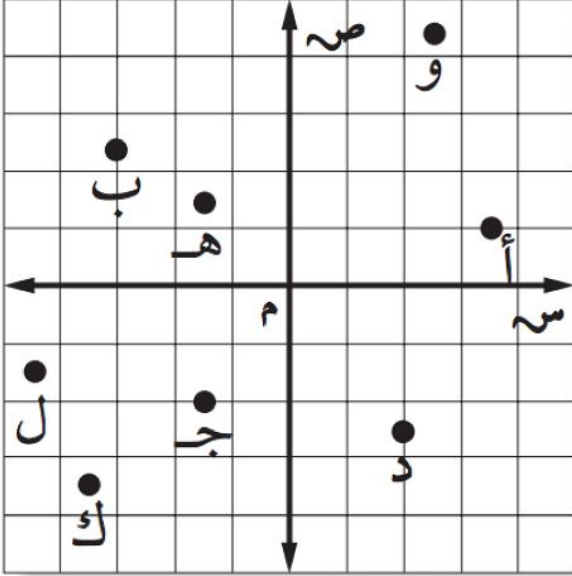
.....

.....

.....

هندسة: الأبعاد في المستوى الإحداثي

٧ - ٢



السؤال الأول: سمِّ الزوج المرتب لكل نقطة مما يأتي:

١	أ	٢	ب
٣	جـ	٤	د
٥	هـ	٦	و
٧	ك	٨	ل

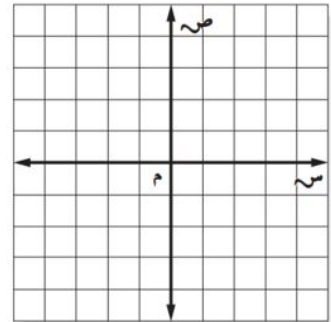
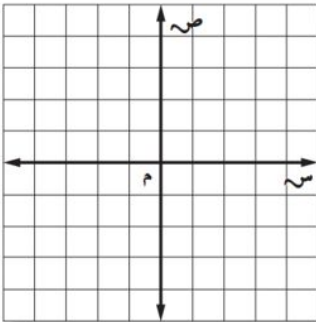
السؤال الثاني: مثل كل زوج مما يأتي. ثم احسب المسافة بين كل نقطتين إلى أقرب جزء من عشرة إذا لزم ذلك:

(١, ٥, ٢) , (٣, ٥, ٤ -)

٢

(١ - , ١) , (٣, ٤)

١



.....

.....

.....

.....

.....

.....

.....

.....

التناسب والتشابه: العلاقات المتناسبة وغير المتناسبة

٣ - ١

السؤال الأول: استعمل المعلومات الآتية لحل التمرينين ١ ، ٢ :

اشترت إحدى المكتبات العامة ٣٦٨ كتابًا جديدًا في شهر محرم، بينما كانت تشتري ١٤ كتابًا جديدًا كل يوم من أيام شهر صفر.

١. هل يتناسب عدد الكتب التي اشترتها المكتبة في شهر صفر مع عدد أيام ذلك الشهر؟

٢. هل يتناسب العدد الكلي للكتب الجديدة خلال شهري محرم وصفر مع عدد أيام شهر صفر؟

ورقة عمل


(ثاني متوسط - الفصل الدراسي الأول)

معدل التغير

٣ - ٢

السؤال الأول: استعمل المعلومات المبينة في التمثيل البياني التالي لحل التمارين ١ - ٤ :

يوضح التمثيل البياني التالي عدد العاملين في مصنع للملابس بين عامي ١٤٢٥ هـ و ١٤٣٠ هـ



١. أوجد معدل التغير في عدد العاملين بين عامي ١٤٢٥ هـ و ١٤٢٧ هـ.

٢. بين أي عامين كان معدل التغير أشد انخفاضاً؟

٣. أوجد معدل التغير في عدد العاملين بين عامي ١٤٢٥ هـ و ١٤٣٠ هـ.

٤. إذا استمر معدل التغير في عدد العاملين بين ١٤٢٥ هـ و ١٤٣٠ هـ، فماذا تتوقع أن يكون عدد العاملين في المصنع عام ١٤٤٠ هـ؟ وضح إجابتك.

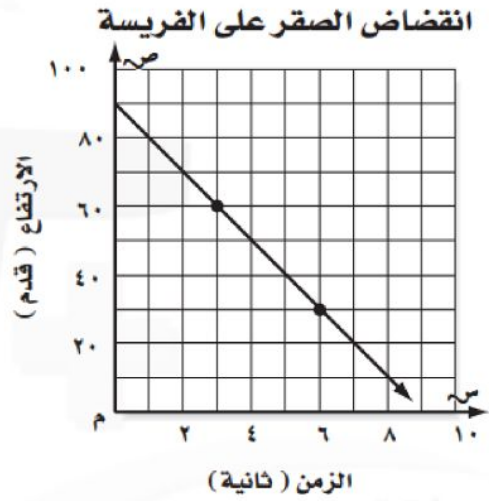
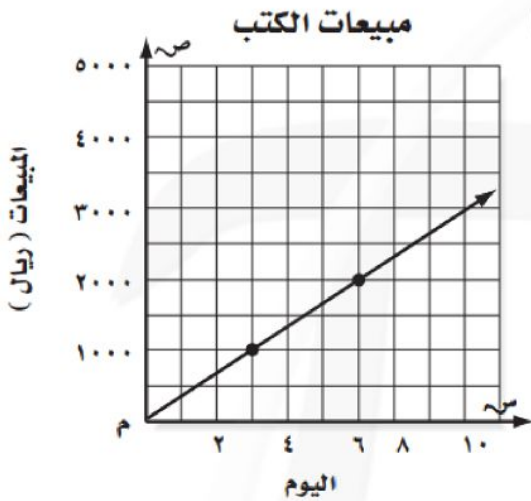
ورقة عمل

(ثاني متوسط - الفصل الدراسي الأول)

المعدل الثابت للتغير

٣ - ٣

السؤال الأول: استعمل الأشكال البيانية المرسومة أدناه لحل التمرينين ١ و ٢:



أ. أوجد المعدل الثابت للتغير، وفسّر معناه.

.....

.....

.....

.....

.....

ب. بيّن ما إذا كانت العلاقة بين الكميتين في الشكل متناسبة أم لا، ووضح إجابتك.

.....

.....

.....

.....

.....

أ. أوجد المعدل الثابت للتغير، وفسّر معناه.

.....

.....

.....

.....

.....

ب. بيّن ما إذا كانت العلاقة بين الكميتين في الشكل متناسبة خطياً أم لا، ووضح إجابتك.

.....

.....

.....

.....

.....

ورقة عمل

(ثاني متوسط - الفصل الدراسي الأول)

حل التناسب

٣ - ٤

السؤال الأول: حل كل تناسب مما يأتي:

	$\frac{٨}{١٦} = \frac{ب}{٥}$	١
	$\frac{٦}{١٠} = \frac{١٨}{س}$	٢
	$\frac{١٢}{٨٠} = \frac{ت}{٥}$	٣
	$\frac{ن}{١٤} = \frac{١١}{١٠}$	٤
	$\frac{٢}{د} = \frac{٢,٥}{٣٥}$	٥
	$\frac{٢,٨}{س} = \frac{٢,٤}{٦}$	٦
	$\frac{ز}{٣٦} = \frac{٣,٥}{١٨}$	٧
	$\frac{ل}{١٤} = \frac{٠,٤٥}{٤,٢}$	٨
	$\frac{٠,٢}{٠,٥} = \frac{٣,٦}{م}$	٩

ورقة عمل

(ثاني متوسط - الفصل الدراسي الأول)

استراتيجية حل المسألة: الرسم

٥ - ٣

السؤال الأول: استعمل استراتيجية الرسم لحل المسألتين ١، ٢:

١. سباحة: يقسم ناصر بركة السباحة إلى أقسام متساوية العرض باستعمال حبل. وقد احتاج إلى ٣٠ دقيقة لإنشاء ٦ أقسام متساوية. كم من الزمن يحتاج لإنشاء ٤ أقسام في بركة مشابهة؟

٢. سفر: انطلقت طائرتان في الوقت نفسه من مطار جدة، وبعد ٣٠ دقيقة كانت إحدى الطائرتين قد قطعت ٢٥ ميلًا أكثر مما قطعت الأخرى. إذا علمت أن المسافة المراد قطعها ١٨٠٠ ميل، وأن سرعة الطائرة السريعة ٥٠٠ ميل في الساعة، فما الزمن الإضافي الذي تحتاج إليه الطائرة البطيئة زيادة على الطائرة السريعة لكي تصل؟

السؤال الثاني: استعمل الاستراتيجية المناسبة لحل التمرين التالي:

١. استعراض المواهب: في عرض المواهب الرياضية، قام ١٨ طفلًا بأداء حركات الجمباز الأرضية، وأدى ١٤ طفلًا حركات على حصان الوثب، وأدى ٦ أطفال حركات الجمباز وحصان الوثب معًا. كم طفلًا شارك في هذا العرض؟

من استراتيجيات حل المسألة
الحل عكسيًا
البحث عن نمط
استعمال أشكال فن
الرسم

تشابه المضلعات

السؤال الأول: حدّد ما إذا كان كل زوج من أزواج المضلعات الآتية متشابهًا أم لا، وفسّر إجابتك:

٢

.....

.....

١

.....

.....

السؤال الثاني: إذا كان كل زوج من المضلعات الآتية متشابهًا، فاكتب تناسبًا وحله لإيجاد القياس المجهول:

٢

.....

.....

.....

١

.....

.....

.....

٤

.....

.....

.....

٣

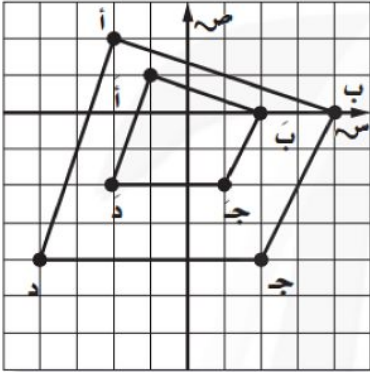
.....

.....

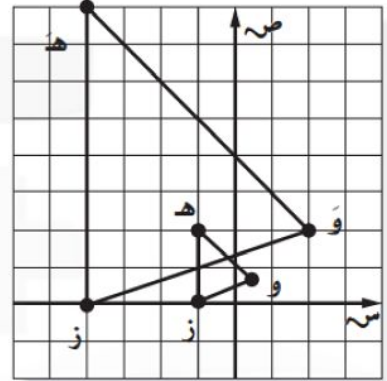
.....

التكبير والتصغير

السؤال الأول: في التمارين الآتية يمثل الشكل هـ و ز تمديدًا للشكل هـ و ز، والشكل أ ب ج د تمديدًا للشكل أ ب ج د. أوجد عامل مقياس كل تمدد وصنّفه فيما إذا كان تكبيرًا أم تصغيرًا:



٢



١

.....

.....

.....

.....

.....

.....

.....

.....

.....

.....

السؤال الثاني: أجب عن السؤال التالي:

١. زهرية: يبلغ قطر زهرية ٤ سم. إذا ازداد القطر بعامل مقياس $\frac{7}{3}$ ، فكم يصبح طوله؟

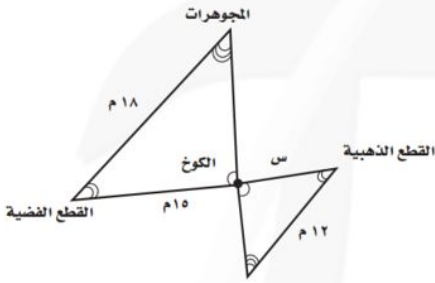
.....

.....

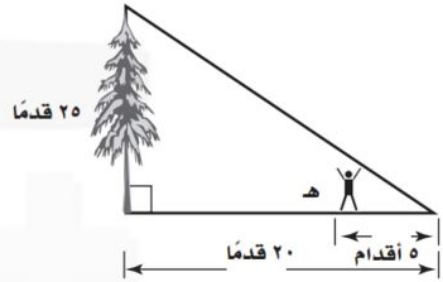
.....

السؤال الأول: في التمارين ١ - ٤ ، افترض أن المثلثات متشابهة، واكتب تناسبًا، واستعمله لحل كل مسألة:

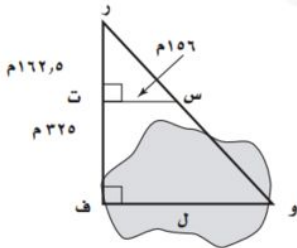
٢ جزيرة الكنز: كم يبعد الكوخ عن القطع الذهبية؟



١ أشجار: ما طول الرجل؟



٤ بركة المياه: كم يبلغ طول البركة؟
(إرشاد: \triangle رس ت ~ \triangle رو ف)



٣ شاطئ: ما عمق المياه على بعد ٣١,٥ مترًا من الشاطئ؟ (إرشاد: \triangle أب ج - \triangle أد ه)

