

تم تحميل و عرض المادة من



موقع مادتي هو موقع تعليمي يعمل على مساعدة المعلمين والطلاب وأولياء الأمور في تقديم حلول الكتب المدرسية والاختبارات وشرح الدروس والملخصات والتحاير وتوزيع المنهج لكل المراحل الدراسية بشكل واضح وسهل مجاناً بتصفح وعرض مباشر أونلاين وتحميل على موقع مادتي

2023 - 1445



تطبيق مادتي




المملكة العربية السعودية

وزارة التعليم

الإدارة العامة للتعليم بمنطقة

VISION 2030



وزارة التعليم
Ministry of Education

ملزمة وأوراق عمل مادة العلوم

الصف الاول الابتدائي


الفصل الدراسي الأول لعام ١٤٤٥ هـ

الاسم :

الفصل :


العلوم





الفصل الأول






الدرس الأول: المخلوقات الحية

يقوم الطالب بالمقارنة بين المخلوقات الحية والأشياء
غير الحية ويصنفها..















-أحوظ المخلوقات الحية باللون الأزرق و الاشياء الغير
حية باللون الأحمر:






تعرف إلى الكائنات الحية

اختر الكائن الحي.

 <input type="checkbox"/>	 <input type="checkbox"/>	 <input type="checkbox"/>
 <input type="checkbox"/>	 <input type="checkbox"/>	 <input type="checkbox"/>
 <input type="checkbox"/>	 <input type="checkbox"/>	 <input type="checkbox"/>
	 <input type="checkbox"/>	 <input type="checkbox"/>
	 <input type="checkbox"/>	



الدرس الأول : المخلوقات الحية ٢

اختر الجواب الصحيح:

(١) كل مما يلي عبارة عن مخلوق حي إلا:



(٢) أي مما يلي مخلوق حي:



صل كل صورة بما يُناسبها:




كانن حي



شيء غير حي







الدرس الثاني: النباتات وأجزاؤها

يقوم الطالب بالتعرف على أجزاء النبات (الجزور والسيقان
يصف وظائف أجزاء النبات.

اصل المفردات في مكانها الصحيح :

الأزهار	الساق	الأوراق	الجلور
---------	-------	---------	--------





صل كل صورة بما يُناسبها:



جُذُور



أوراق




ساق





الفصل الثاني



الدرس الثالث: نمو النباتات

يوضح أهمية الثمار والأزهار للنباتات



صل بين الصورة والكلمة المناسبة لها:



الثمرة

البادرة

البدور

الزهرة

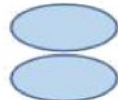


ضع علامة (صح) أمام العبارة:

١. جزء النبات الذي يحيي البدور

٢. تنبُت البذرة ثم تنمو وتكون

٣. جزء النبات الذي ينبت، ثم ينمو ليصير نباتاً جديداً





صل كل مرحلة من مراحل حياة نبات الفاصولياء بالرقم المناسب:




5

4

3




2


1





هيا يا صغيري رتب مراحل نمو النبات





الدرس الرابع: تعيش النباتات في أماكن كثيرة

يقوم بوصف كيف يُمكن للنبات أن يعيش في أماكن كثيرة

يقوم بوصف بيئة الغابة ، وبيئة الصحراء أيضاً

اختر الإجابة الصحيحة:

١. موطن تنمو في أشجار كثيرة وطويلة (الغابة - الصحراء - البحيرة)
٢. موطن تعيش فيه الجمال (الغابة - الصحراء - البحيرة)
٣. منطقة واسعة فيها أعشاب كثيرة (الغابة - الصحراء - البحيرة)

صل بين الصورة والكلمة المناسبة لها:

المنطقة العشبية

الغابة

البحيرة

الصحراء





الفصل الثالث



الدرس الخامس: أنواع الحيوانات
يرى أنواع متعددة من الحيوانات ويقوم بوصفها
يشرح أوجه التشابه والاختلاف بين الحيوانات



صل بين الصورة والكلمة المناسبة:



برماني طائر حشرة ثدي زاحف


اختر الجواب الصحيح:

١. حيوانات لها زعانف تعيش في الماء. (الثدييات - الطيور - الأسماك)

٢. العناكب من الحشرات (صح - خطأ).

٣. بعض الزواحف يغطي جسمها درع تحميها (صح - خطأ).





السؤال الأول ضع علامة (√) أو (X) أما العبارات التالية



تحتاج الطيور إلى الخياشيم لتأكل



البرمائيات لها جلد ناعم ورطب



يغطي أجسام بعض الثدييات شعر



السؤال الثاني : ضع دائرة حول الحيوان الذي يغطي جسمه ريش





الدرس السادس: الحيوانات وحاجاتها

يستطيع الربط بين شكل أسنان الحيوان والطعام المناسب لتناوله

يستطيع تصنيف الحيوانات بناء على نوع طعامها

صل كل حيوان مع نمط غذائه:



أكلات اللحوم



أكلات الأعشاب



اختر الجواب الصحيح:



١. عثر أحمد على جمجمة حيوان في البرية:
تعود هذه الجمجمة لحيوان: (أكلات الأعشاب - أكلات اللحوم)





صل الحيوان مع الأسنان المناسبة له:



أكلات نبات



أكلات لحوم





الدرس السادس: الحيوانات وحاجاتها (٢)

يشرح كيفية حصول الحيوانات المختلفة على حاجاتها



صل كل حيوان بطريقة تنقله:



السباحة



الركض



الزحف



الطيران



صل كل حيوان بـغذائـه المناسب :





الفصل الرابع



الدرس الأول: مواطن على اليابسة (٢)

يصف مواطن اليابسة

يتعرف مواطن اليابسة المختلفة

صل كل حيوان بالمنطقة التي يعيش فيها:



الصحراء



المنطقة العشبية





صل الحيوانات بأماكن عيشها:




المملكة العربية السعودية

وزارة التعليم

الإدارة العامة للتعليم بمنطقة

VISION 2030



وزارة التعليم
Ministry of Education

ملزمة وأوراق عمل مادة العلوم

الصف الاول الابتدائي


الفصل الدراسي الأول لعام ١٤٤٥ هـ

الاسم :

الفصل :


العلوم





الفصل الأول







الدرس الأول: المخلوقات الحية

يقوم الطالب بالمقارنة بين المخلوقات الحية والأشياء غير الحية ويصنفها..













-أحوظ المخلوقات الحية باللون الأزرق و الاشياء الغير حية باللون الأحمر:






تعرف إلى الكائنات الحية

اختر الكائن الحي.

 <input checked="" type="checkbox"/>	 <input type="checkbox"/>	 <input type="checkbox"/>
 <input checked="" type="checkbox"/>	 <input checked="" type="checkbox"/>	 <input checked="" type="checkbox"/>
 <input checked="" type="checkbox"/>	 <input type="checkbox"/>	 <input type="checkbox"/>
 <input type="checkbox"/>	 <input checked="" type="checkbox"/>	 <input type="checkbox"/>



الدرس الأول : المخلوقات الحية ٢

اختر الجواب الصحيح:

(١) كل مما يلي عبارة عن مخلوق حي إلا:



(٢) أي مما يلي مخلوق



صل كل صورة بما يُناسبها:




كانن حيي



شيء غير حيي






الدرس الثاني: النباتات وأجزاؤها

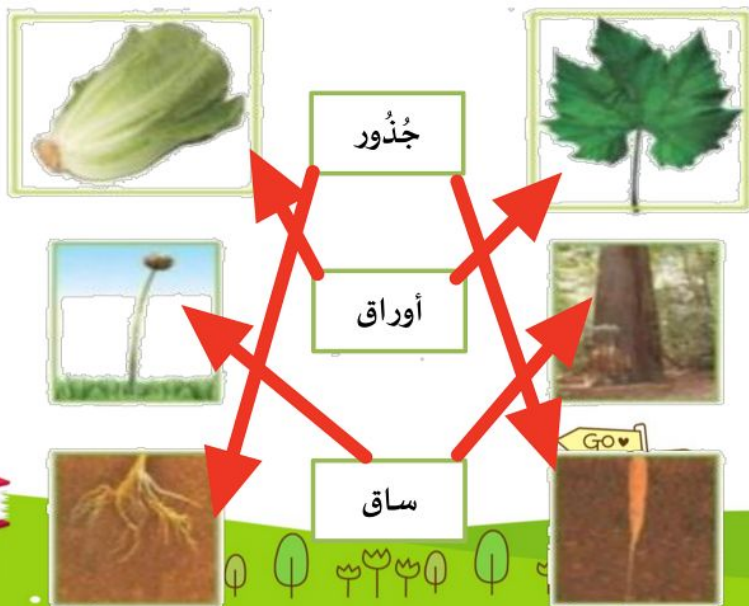
يقوم الطالب بالتعرف على أجزاء النبات (الجزور والسيقان)
يصف وظائف أجزاء النبات.

اصل المفردات في مكانها الصحيح :






صل كل صورة بما يُناسبها:





الفصل الثاني

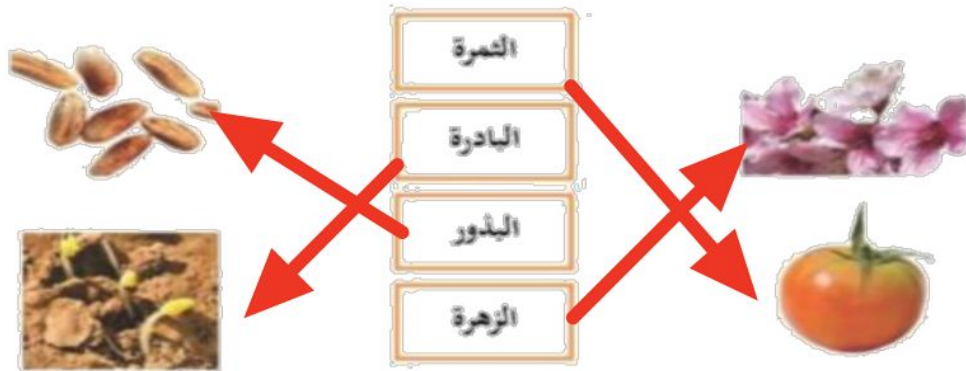


الدرس الثالث: نمو النباتات

يوضح أهمية الثمار والأزهار للنباتات



صل بين الصورة والكلمة المناسبة لها:



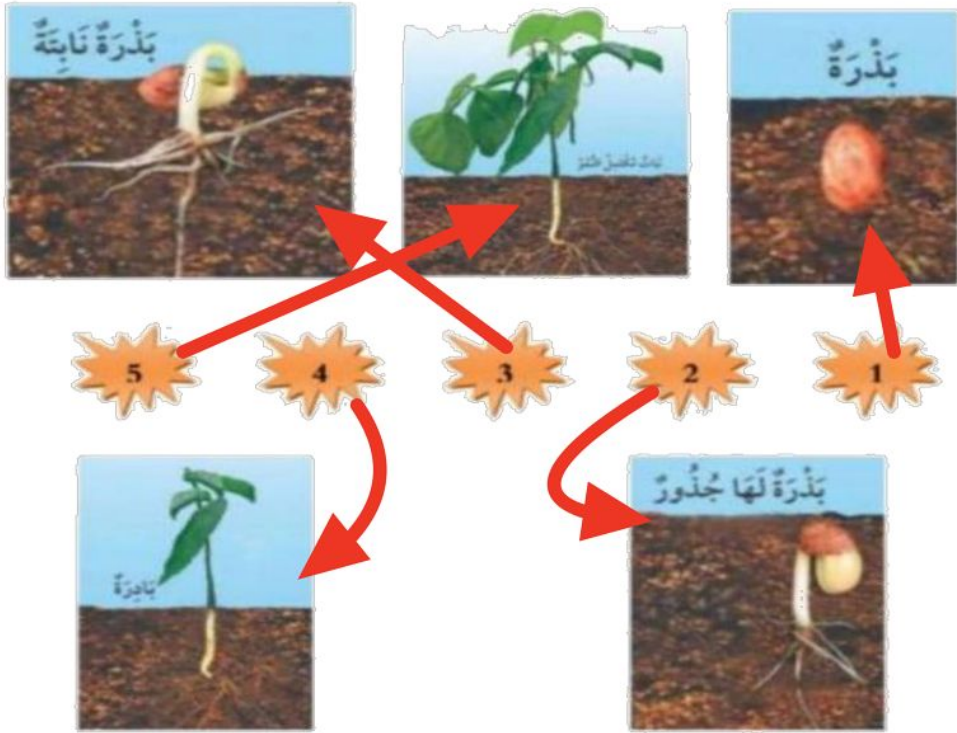
ضع علامة (صح) أمام العبارة:

- جزء النبات الذي يحيي البدور الثمرة
- تنبت البذرة ثم تنمو وتكون نبات
- جزء النبات الذي ينبت، ثم ينمو ليصير نباتاً جديداً البذرة





صل كل مرحلة من مراحل حياة نبات الفاصولياء بالرقم المناسب:






هيا يا صغيري رتب مراحل نمو النبات




٣



١




٢



٤





الدرس الرابع: تعيش النباتات في أماكن كثيرة

يقوم بوصف كيف يُمكن للنبات أن يعيش في أماكن كثيرة

يقوم بوصف بيئة الغابة ، وبيئة الصحراء أيضاً

اختر الإجابة الصحيحة:

١. موطن تنمو في أشجار كثيرة وطويلة (الغابة - الصحراء - البحيرة)
٢. موطن تعيش فيه الجمال (الغابة - الصحراء - البحيرة)
٣. منطقة واسعة فيها أعشاب كثيرة (الغابة - الصحراء - البحيرة)

صل بين الصورة والكلمة المناسبة لها:

المنطقة العشبية

الغابة

البحيرة

الصحراء





الفصل الثالث



الدرس الخامس: أنواع الحيوانات
يرى أنواع متعددة من الحيوانات ويقوم بوصفها
يشرح أوجه التشابه والاختلاف بين الحيوانات



صل بين الصورة والكلمة المناسبة:



زاحف ثدي حشرة طائر برماتي

اختر الجواب الصحيح:

١. حيوانات لها زعانف تعيش في الماء. (الثدييات - الطيور -

الأسماك)

٢. العناكب من الحشرات (صح - خطأ).





السؤال الأول ضع علامة (√) أو (X) أما العبارات التالية

X

تحتاج الطيور إلى الخياشيم لتأكل



✓

البرمائيات لها جلد ناعم ورطب




✓

يغطي أجسام بعض الثدييات شعر



السؤال الثاني : ضع دائرة حول الحيوان الذي يغطي جسمه ريش





الدرس السادس: الحيوانات وحاجاتها

يستطيع الربط بين شكل أسنان الحيوان والطعام المناسب لتناوله

يستطيع تصنيف الحيوانات بناء على نوع طعامها



صل كل حيوان مع نمط غذائه:



أكلات اللحوم



أكلات الأعشاب



اختر الجواب الصحيح:



١. عثر أحمد على جمجمة حيوان في البرية:


(أكلات الأعشاب - أكلات

تعود هذه الجمجمة لحيوان:





صل الحيوان مع الأسنان المناسبة له:



آكلات نبات



آكلات لحوم

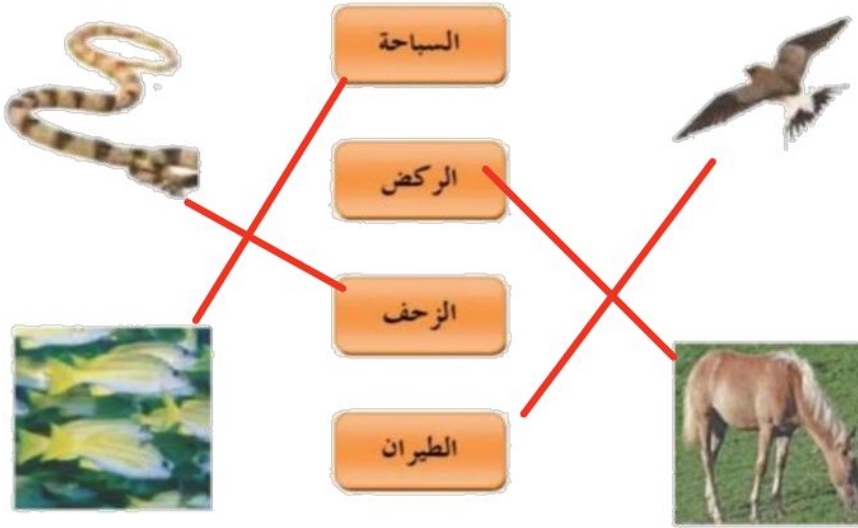




الدرس السادس: الحيوانات وحاجاتها (٢)

يشرح كيفية حصول الحيوانات المختلفة على حاجاتها

صل كل حيوان بطريقة تنقله:




صل كل حيوان بـغذائه المناسب :





الفصل الرابع

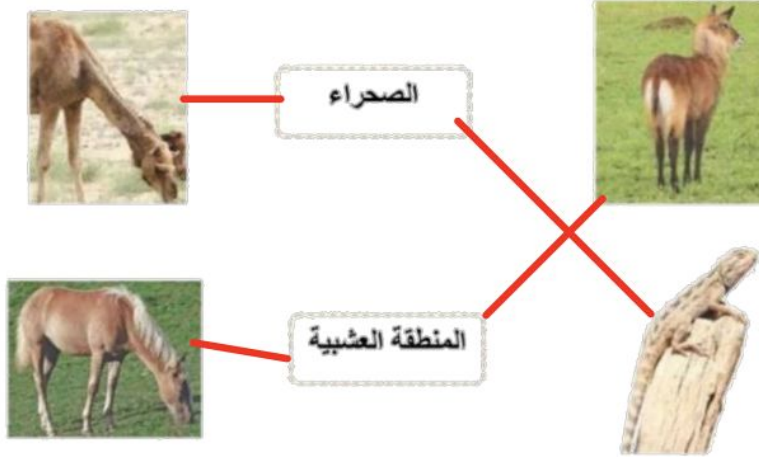


الدرس الأول : مواطن على اليابسة ٢

- يقوم بوصف مواطن اليابسة.
- يتعلم أكثر عن مواطن اليابسة المختلفة.



صن حيوان بالمنطقة التي يعيش فيها:





صل الحيوانات بأماكن عيشها:

