

تم تحميل وعرض المادة من



موقع مادتي هو موقع تعليمي يعمل على مساعدة المعلمين والطلاب وأولياء الأمور في تقديم حلول الكتب المدرسية والاختبارات وشرح الدروس والملخصات والتحضير وتوزيع المنهج لكل المراحل الدراسية بشكل واضح وسهل مجاناً بتصفح وعرض مباشر أونلاين وتحميل على موقع مادتي

2023 - 1445



تطبيق مادتي

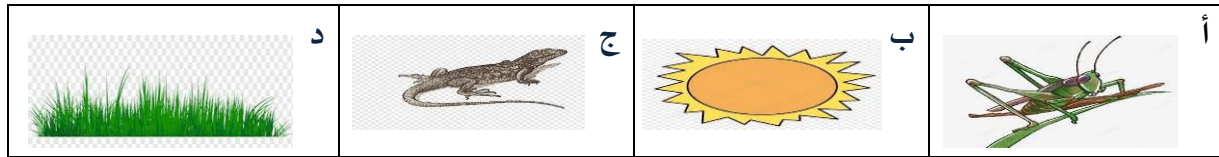




## تقويم ختامي لمهارات علوم الصف الثاني\_ الفصل الدراسي الاول لعام ١٤٤٥ هـ.

\* / نضع علامة ( ✓ ) تحت الأجوبة الصحيحة :

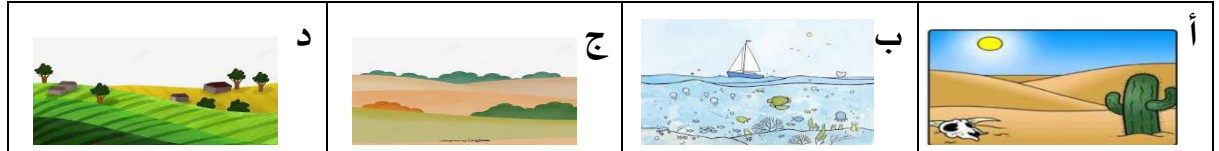
١ / أي المراحل التالية تمثل بداية السلسلة الغذائية :



٢ / كيف تختلف النباتات عن باقي المخلوقات ؟

|                      |                   |                    |                |
|----------------------|-------------------|--------------------|----------------|
| د                    | ج                 | ب                  | أ              |
| تنتج غذاءها من الشمس | تحتاج للماء لتعيش | تحتاج للهواء لتنمو | تحتل مكان صغير |


٣ / أي من هذه المواطن تعيش فيها السحلية :



٤ / ما الخاصية التي ساعدت الدب القطبي على العيش في المنطقة القطبية :

|                |         |               |              |
|----------------|---------|---------------|--------------|
| د              | ج       | ب             | أ            |
| الاسنان الحادة | الحرشيف | العيون الحادة | الفرو السميك |

٥ / المرحلة الأخيرة من دورة حياة الفراشة هي :



• نرتب دورة حياة الفاصولياء



\* نرتب حيوانات السلسلة الغذائية من ١ - ٤



\* كيف نعرف أن الشيء مخلوق حي؟

١- ..... ٢- ..... ٣- ..... ٤- .....

نضع كل كلمة تحت مكانها الصحيح:

تعيش الحيوانات التالية في المواطن (صحراء - غابة - صحراء باردة - غابة مطيرة)



سكرة الشمري



انتهت الاسئلة ...