

تم تحميل وعرض المادة من



موقع مادتي هو موقع تعليمي يعمل على مساعدة المعلمين والطلاب وأولياء الأمور في تقديم حلول الكتب المدرسية والاختبارات وشرح الدروس والملاحظات والتحاير وتوزيع المنهج لكل المراحل الدراسية بشكل واضح وسهل مجاناً بتصفح وعرض مباشر أونلاين وتحميل على موقع مادتي

حمل تطبيق مادتي ليصلك كل جديد



| | | | | |
|---------|---------------|--------|--|--|
| التوقيع | اسم المصحح : | الدرجة |  وزارة التعليم Ministry of Education | المملكة العربية السعودية وزارة التعليم الإدارة العامة للتعليم مدرسة |
| التوقيع | اسم المراجع : | 40 |  رؤية 2030 | |

| | | | |
|---------------------|----------------------|--------------------------|----------------------------------|
| رقم الجلوس | الصف الأول متوسط | العام الدراسي 1445 هـ | أسئلة اختبار الفصل الدراسي الأول |
| عدد الصفحات : 2 | الزمن : ساعة ونصف | المادة : اجتماعيات | اسم الطالب : |

استعن بالله ثم اجب على الاسئلة

السؤال الأول

10

ضع علامة (√) أمام العبارة الصحيحة وعلامة (X) أمام العبارة الخاطئة

| | | |
|-----|---|----|
| () | من نتائج التخطيط التوتر والقلق . | 1 |
| () | شكل الأرض كامل الاستدارة . | 2 |
| () | أول رائد فضاء عربي مسلم هو الأمير سلطان بن سلمان . | 3 |
| () | اهتم المسلمون بعلم الفلك لارتباطه بالامور الشرعية . | 4 |
| () | تم إنشاء الدواوين في عهد الخليفة عمر بن الخطاب . | 5 |
| () | تستمر دورة الأرض اليومية مدة 24 ساعة . | 6 |
| () | من فوائد خطوط الطول معرفة الزمن . | 7 |
| () | يساعد التخطيط على تنظيم الوقت . | 8 |
| () | الانسان يشعر بحركة الأرض . | 9 |
| () | تبلغ نسبة الماء على سطح الأرض 29 % . | 10 |

السؤال الثاني

8

أربط بين العمود [أ] بما يناسبه في العمود [ب] بوضع الرقم المناسب :

| العمود [ب] | العمود [أ] |
|--------------|--|
| 1- المشتري | أقرب كواكب المجموعة الشمسية . |
| 2- استراليا | نجم كروي غازي ملتهب يشع ضوء وحرارة . |
| 3- آسيا | أبعد كواكب المجموعة الشمسية . |
| 4- الكواكب | كل ما يحيط بنا من نجوم ومجرات ومخلوقات حية . |
| 5- عطارذ | أكبر كواكب المجموعة الشمسية . |
| 6- الشمس | أصغر قارات العالم . |
| 7- نبتون | أكبر قارات العالم . |
| 8- الكون | أجسام كروية صلبة معتمة تستمد الضوء والحرارة من الشمس . |

ضع دائرة على الحرف الذي يسبق الإجابة الصحيحة لكل مما يلي :

1- يبلغ عدد دوائر العرض :

أ 360 دائرة ب 180 دائرة ج 150 دائرة

2- العلم الذي يبين معاني القرآن الكريم ويوضحها هو علم :

أ الحديث ب التفسير ج الفقه

3- من أبرز علماء المسلمين في علم الرياضيات :

أ محمد الخوارزمي ب جابر بن حيان ج أبو الريحان البيروني

4- يحدث فصل الصيف في شمال الكرة الأرضية عندما تتعامد أشعة الشمس على :

أ مدار السرطان ب مدار الجدي ج خط الاستواء

5- يبلغ عدد قارات العالم :

أ 7 قارات ب 5 قارات ج 8 قارات

6- قامت حضارة بلاد الرافدين في :

أ الصين ب العراق ج مصر

7- من إنجازات الحضارة الإسلامية في النظام السياسي :

أ القضاء ب الدواوين ج الوزارة

8- العلم الذي يدرس الوقائع وأوقاتها هو علم :

أ الجغرافيا ب الفلك ج التاريخ

9- للأرض :

أ حركة واحدة ب ثلاث حركات ج حركتان

10- ترتيب الأرض من حيث القرب من الشمس :

أ الأول ب الثاني ج الثالث

11- تتميز جميع كواكب المجموعة الشمسية بأنها :

أ شديدة الحرارة ب شديدة البرودة ج ذات شكل كروي

12- الخط الرئيسي من خطوط الطول هو خط :

أ الاستواء ب السرطان ج جرينتش

أ / اذكر الأسس التي قامت عليها الحضارة الإسلامية :

1--1 2-.....-2

3--3 4-.....-4

ب / اكمل الفراغات التالية :

1- قامت الحضارة الفرعونية على نهر في الفترة ما بين سنة ق م إلى سنة ق م .

2- ينتج عن حركة الأرض اليومية ثلاث نتائج هي 1- 2- 3-

نموذج اجابة

| | | | |
|---------|---------------|-----|--|
| التوقيع | اسم المصحح : | رجة | المملكة العربية السعودية وزارة التعليم الإدارة العامة للتعليم مدرسة |
| التوقيع | اسم المراجع : | 40 | رؤية 2030 Ministry of Education |

| | | | |
|---------------------|----------------------|--------------------------|----------------------------------|
| رقم الجلوس | الصف الأول متوسط | العام الدراسي 1445 هـ | أسئلة اختبار الفصل الدراسي الأول |
| عدد الصفحات : 2 | الزمن : ساعة ونصف | المادة : اجتماعيات | اسم الطالب : |

استعن بالله ثم اجب على الاسئلة

السؤال الأول

10

ضع علامة (√) أمام العبارة الصحيحة وعلامة (X) أمام العبارة الخاطئة

| | | |
|-------|---|----|
| (X) | من نتائج التخطيط التوتر والقلق . | 1 |
| (X) | شكل الأرض كامل الاستدارة . | 2 |
| (√) | أول رائد فضاء عربي مسلم هو الأمير سلطان بن سلمان . | 3 |
| (√) | اهتم المسلمون بعلم الفلك لارتباطه بالامور الشرعية . | 4 |
| (√) | تم إنشاء الدواوين في عهد الخليفة عمر بن الخطاب . | 5 |
| (√) | تستمر دورة الأرض اليومية مدة 24 ساعة . | 6 |
| (√) | من فوائد خطوط الطول معرفة الزمن . | 7 |
| (√) | يساعد التخطيط على تنظيم الوقت . | 8 |
| (X) | الانسان يشعر بحركة الأرض . | 9 |
| (X) | تبلغ نسبة الماء على سطح الأرض 29 % . | 10 |

السؤال الثاني

8

أربط بين العمود [أ] بما يناسبه في العمود [ب] بوضع الرقم المناسب :

| العمود [ب] | العمود [أ] |
|--------------|--|
| 1- المشتري | (٥) أقرب كواكب المجموعة الشمسية . |
| 2- استراليا | (٦) نجم كروي غازي ملتهب يشع ضوء وحرارة . |
| 3- آسيا | (٧) أبعد كواكب المجموعة الشمسية . |
| 4- الكواكب | (٨) كل ما يحيط بنا من نجوم ومجرات ومخلوقات حية . |
| 5- عطارذ | (١) أكبر كواكب المجموعة الشمسية . |
| 6- الشمس | (٢) أصغر قارات العالم . |
| 7- نبتون | (٣) أكبر قارات العالم . |
| 8- الكون | (٤) أجسام كروية صلبة معتمة تستمد الضوء والحرارة من الشمس . |

ضع دائرة على الحرف الذي يسبق الإجابة الصحيحة لكل مما يلي :

1- يبلغ عدد دوائر العرض :

أ 360 دائرة ب 180 دائرة ج 150 دائرة

2- العلم الذي يبين معاني القرآن الكريم ويوضحها هو علم :

أ الحديث ب التفسير ج الفقه

3- من أبرز علماء المسلمين في علم الرياضيات :

أ محمد الخوارزمي ب جابر بن حيان ج أبو الريحان البيروني

4- يحدث فصل الصيف في شمال الكرة الأرضية عندما تتعامد أشعة الشمس على :

أ مدار السرطان ب مدار الجدي ج خط الاستواء

5- يبلغ عدد قارات العالم :

أ 7 قارات ب 5 قارات ج 8 قارات

6- قامت حضارة بلاد الرافدين في :

أ الصين ب العراق ج مصر

7- من إنجازات الحضارة الإسلامية في النظام السياسي :

أ القضاء ب الدواوين ج الوزارة

8- العلم الذي يدرس الوقائع وأوقاتها هو علم :

أ الجغرافيا ب الفلك ج التاريخ

9- للأرض :

أ حركة واحدة ب ثلاث حركات ج حركتان

10- ترتيب الأرض من حيث القرب من الشمس :

أ الأول ب الثاني ج الثالث

11- تتميز جميع كواكب المجموعة الشمسية بأنها :

أ شديدة الحرارة ب شديدة البرودة ج ذات شكل كروي

12- الخط الرئيسي من خطوط الطول هو خط :

أ الاستواء ب السرطان ج جرينتش

أ / اذكر الأسس التي قامت عليها الحضارة الإسلامية :

- 1-.....الاساس الديني.....
2-.....الاساس العلمي.....
3-.....الاساس اللغوي.....
4-.....الاساس الاخلاقي.....

ب / اكمل الفراغات التالية :

- 1- قامت الحضارة الفرعونية على نهر..... النيل..... في الفترة ما بين سنة ٣١٥٠ ق.م إلى سنة ٣٠ ق.م .
2- ينتج عن حركة الأرض اليومية ثلاث نتائج هي 1-..... الليل والنهار..... 2-..... تغير اتجاه الرياح.....
3-..... اختلاف التوقيت.....



أسئلة اختبار الفصل الدراسي الأول (الدور الأول) لعام ١٤٤٤ هـ

رقم الجلوس:

الصف:

اسم الطالب:

٤٠

١٠

أولاً: أسئلة الصواب والخطأ من (١) إلى (١٠):

ظل (أ) للعبارة الصحيحة و(ب) للعبارة الخاطئة فيما يلي:

| | | |
|------|--|-----|
| ١ س | شبه الجزيرة العربية مهد الحضارات ومنها انطلقت الهجرات. | () |
| ٢ س | استفاد المسلمون من علوم الحضارات السابقة في مختلف الجوانب. | () |
| ٣ س | ظهرت العناية ببناء القصور في عصر الخلفاء الراشدين. | () |
| ٤ س | لم تكن للعرب معرفة بالتجارة قبل الإسلام. | () |
| ٥ س | وزارة التفويض أن ينفذ الوزير أوامر الخليفة فقط. | () |
| ٦ س | تنتمي المجموعة الشمسية لمجرة درب التبانة. | () |
| ٧ س | كواكب المجموعة الشمسية جميعها ذات شكل كروي. | () |
| ٨ س | أبعاد الأرض متساوية. | () |
| ٩ س | خطوط الطول عبارة عن أنصاف دوائر متساوية في الطول. | () |
| ١٠ س | تتركز اليابسة في نصف الكرة الأرضية الجنوبي. | () |

٢٢

ثانياً: أسئلة الاختيار من متعدد من (١١) إلى (٣٢):

اختر الإجابة الصحيحة من بين البدائل فيما يلي ثم ظلها في ورقة الإجابة:

| | | | |
|-------|--|-------|--|
| ١١ س | تفاعل المجموعات البشرية مع البيئة المحيطة بها: | ١٤ س | أنشئت الدواوين في عهد الخليفة: |
| (أ) | الحضارة | (أ) | أبو بكر الصديق ﷺ |
| (ب) | الوزارة | (ب) | عمر بن الخطاب ﷺ |
| (ج) | القضاء | (ج) | عثمان بن عفان ﷺ |
| (د) | التاريخ | (د) | علي بن أبي طالب ﷺ |
| ١٢ س | سقطت إمبراطورية (الكلدانيين) على يد: | ١٥ س | أول من أدخل نظام الشرطة في الإسلام: |
| (أ) | الفرس | (أ) | عمرو بن العاص ﷺ |
| (ب) | الرومان | (ب) | عمر بن الخطاب ﷺ |
| (ج) | الصينيين | (ج) | معاوية بن أبي سفيان ﷺ |
| (د) | الأكاديين | (د) | أبو بكر الصديق ﷺ |
| ١٣ س | عرفت الكتابة (الهيروغليفية) في الحضارة: | ١٦ س | العلم الذي يهتم ببيان معاني آيات القرآن الكريم هو علم: |
| (أ) | الصينية | (أ) | الفقه |
| (ب) | الفرعونية | (ب) | التفسير |
| (ج) | الإسلامية | (ج) | الحديث |
| (د) | الرومانية | (د) | التاريخ |

تابع الأسئلة

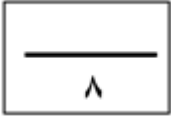
(١)

| | | | |
|-----|---|-----|---|
| س١٧ | من أشهر علماء المسلمين في علم الفيزياء: | س٢٣ | أكبر كواكب المجموعة الشمسية: |
| (أ) | أبو الريحان البيروني | (أ) | زحل |
| (ب) | جابر بن حيان | (ب) | المريخ |
| (ج) | محمد الخوارزمي | (ج) | المشتري |
| (د) | سيبويه | (د) | الأرض |
| س١٨ | اعتنى المسلمون ببناء القلاع والحصون: | س٢٤ | يبلغ عدد دوائر العرض: |
| (أ) | لتكون عواصم للدول الإسلامية | (أ) | ١٢٠ دائرة |
| (ب) | لأغراض اقتصادية | (ب) | ١٥٠ دائرة |
| (ج) | لأغراض دينية | (ج) | ١٨٠ دائرة |
| (د) | لحماية حدود الدولة | (د) | ٣٦٠ دائرة |
| س١٩ | العناية بتوفير وسائل الري ببناء السدود وإقامة الجسور من مظاهر العناية بـ: | س٢٥ | خط الطول الرئيسي يسمى: |
| (أ) | الزراعة | (أ) | جرينتش |
| (ب) | الصناعة | (ب) | الاستواء |
| (ج) | التجارة | (ج) | الجمدي |
| (د) | السياحة | (د) | السرطان |
| س٢٠ | تعد صناعة الأسلحة من الصناعات: | س٢٦ | يبلغ عدد المناطق الزمنية على سطح الأرض: |
| (أ) | المعدنية | (أ) | ٢٨ منطقة |
| (ب) | الخزفية | (ب) | ٢٠ منطقة |
| (ج) | الكيميائية | (ج) | ٢٢ منطقة |
| (د) | الزجاجية | (د) | ٢٤ منطقة |
| س٢١ | كل ما يحيط بنا من نجوم ومجرات ومخلوقات حية: | س٢٧ | درجة مدار السرطان: |
| (أ) | الكون | (أ) | ٢٣,٥° جنوباً |
| (ب) | الشهب | (ب) | ٢٣,٥° شمالاً |
| (ج) | النيازك | (ج) | ٦٦,٥° شمالاً |
| (د) | الكواكب | (د) | ٤٠° جنوباً |
| س٢٢ | يبلغ عدد كواكب المجموعة الشمسية: | س٢٨ | لا يشعر سكان الأرض بحركتها بسبب: |
| (أ) | خمسة | (أ) | كبر حجمها |
| (ب) | سبعة | (ب) | ثقلها |
| (ج) | ثمانية | (ج) | عدم انتظام حركتها |
| (د) | تسعة | (د) | استدارتها |

تابع الأسئلة

| | | | |
|------|---|------|-----------------------------|
| س ٢٩ | سبب تعاقب الليل والنهار: | س ٣١ | أكبر قارات العالم مساحة: |
| (أ) | دوران الأرض حول الشمس | (أ) | آسيا |
| (ب) | ميل محور الأرض | (ب) | أستراليا |
| (ج) | دوران الأرض حول نفسها | (ج) | أوروبا |
| (د) | ثبات ميل محور الأرض | (د) | إفريقيا |
| س ٣٠ | يحدث الصيف في شمال الكرة الأرضية عندما تتعامد أشعة الشمس على: | س ٣٢ | يغطي الماء سطح الأرض بنسبة: |
| (أ) | مدار الجدي | (أ) | ٧١ % |
| (ب) | خط الاستواء | (ب) | ٧٣ % |
| (ج) | الدائرة القطبية الشمالية | (ج) | ٢٩ % |
| (د) | مدار السرطان | (د) | ٦٣ % |

ثالثاً: الأسئلة المقالية:

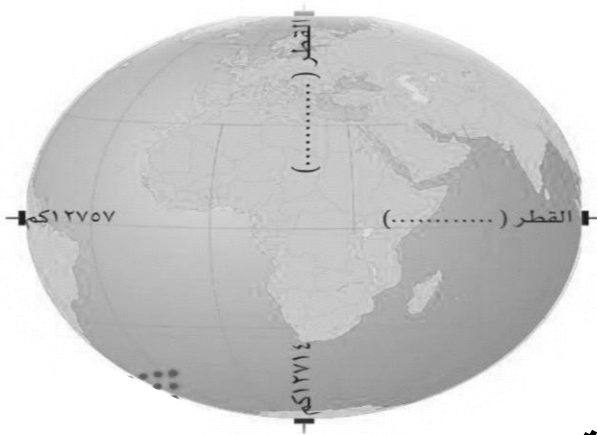


س ٣٣ / اذكر أبرز عاملين لقيام الحضارات.

- ١-
- ٢-

س ٣٤ / ما الأسس التي قامت عليها الحضارة الإسلامية؟

- ١-
- ٢-
- ٣-
- ٤-



س ٣٥ / دون على الشكل ما يأتي:

- أ- محور الأرض القطبي
- ب- محور الأرض الاستوائي.

انتهت الأسئلة

معلم المادة :

يوسف خضر الرحيلي

نموذج اجابة

الصف: الأول المتوسط
المادة: الدراسات الاجتماعية
التاريخ: 1444 / 4 / هـ
الزمن: ساعتان

وزارة التعليم

المملكة العربية السعودية
وزارة التعليم
الإدارة العامة للتعليم بمنطقة المدينة المنورة
مدرسة عبد الله بن أبي السرح المتوسطة

أسئلة اختبار الفصل الدراسي الأول (الدور الأول) لعام 1444 هـ

رقم الجلوس:

الصف:

اسم الطالب:

40

40

10

10

أولاً: أسئلة الصواب والخطأ من (1) إلى (10):

ظل (أ) للعبارة الصحيحة و (ب) للعبارة الخاطئة فيما يلي:

| | | |
|-------|-----|--|
| (✓) | س1 | شبه الجزيرة العربية مهد الحضارات ومنها انطلقت الهجرات. |
| (✓) | س2 | استفاد المسلمون من علوم الحضارات السابقة في مختلف الجوانب. |
| (✗) | س3 | ظهرت العناية ببناء القصور في عصر الخلفاء الراشدين. |
| (✗) | س4 | لم تكن للعرب معرفة بالتجارة قبل الإسلام. |
| (✗) | س5 | وزارة التفويض أن ينفذ الوزير أوامر الخليفة فقط. |
| (✓) | س6 | تنتمي المجموعة الشمسية لمجرة درب التبانة. |
| (✓) | س7 | كواكب المجموعة الشمسية جميعها ذات شكل كروي. |
| (✗) | س8 | أبعاد الأرض متساوية. |
| (✓) | س9 | خطوط الطول عبارة عن أنصاف دوائر متساوية في الطول. |
| (✗) | س10 | تتركز اليابسة في نصف الكرة الأرضية الجنوبي. |

22

٢٢

ثانياً: أسئلة الاختيار من متعدد من (11) إلى (32):

اختر الإجابة الصحيحة من بين البدائل فيما يلي ثم ظلها في ورقة الإجابة:

| | | | |
|--|-------|--|-------|
| أنشئت الدواوين في عهد الخليفة: | س14 | تفاعل المجموعات البشرية مع البيئة المحيطة بها: | س11 |
| أبو بكر الصديق τ | (أ) | الحضارة 1 | (أ) |
| عمر بن الخطاب τ 1 | (ب) | الوزارة | (ب) |
| عثمان بن عفان τ | (ج) | القضاء | (ج) |
| علي بن أبي طالب τ | (د) | التاريخ | (د) |
| أول من أدخل نظام الشرطة في الإسلام: | س15 | سقطت إمبراطورية (الكلدانيين) على يد: | س12 |
| عمر بن العاص τ 1 | (أ) | الفرس 1 | (أ) |
| عمر بن الخطاب τ | (ب) | الرومان | (ب) |
| معاوية بن أبي سفيان τ | (ج) | الصينيين | (ج) |
| أبو بكر الصديق τ | (د) | الأكاديين | (د) |
| العلم الذي يهتم ببيان معاني آيات القرآن الكريم هو علم: | س16 | عرفت الكتابة (الهيروغليفية) في الحضارة: | س13 |
| الفقه | (أ) | الصينية | (أ) |
| التفسير 1 | (ب) | الفرعونية 1 | (ب) |
| الحديث | (ج) | الإسلامية | (ج) |
| التاريخ | (د) | الرومانية | (د) |

تابع الأسئلة

(1)

| | | | |
|-----|---|-----|---|
| 17س | من أشهر علماء المسلمين في علم الفيزياء: | 23س | أكبر كواكب المجموعة الشمسية: |
| (أ) | أبو الريحان البيروني ① | (أ) | زحل |
| (ب) | جابر بن حيان | (ب) | المريخ |
| (ج) | محمد الخوارزمي | (ج) | المشتري ① |
| (د) | سيبويه | (د) | الأرض |
| 18س | اعتنى المسلمون ببناء القلاع والحصون: | 24س | يبلغ عدد دوائر العرض: |
| (أ) | لتكون عواصم للدول الإسلامية | (أ) | 120 دائرة |
| (ب) | لأغراض اقتصادية | (ب) | 150 دائرة |
| (ج) | لأغراض دينية | (ج) | 180 دائرة ① |
| (د) | لحماية حدود الدولة ① | (د) | 360 دائرة |
| 19س | العناية بتوفير وسائل الري ببناء السدود وإقامة الجسور من مظاهر العناية بـ: | 25س | خط الطول الرئيسي يسمى: |
| (أ) | الزراعة ① | (أ) | جرينتش ① |
| (ب) | الصناعة | (ب) | الاستواء |
| (ج) | التجارة | (ج) | الجدي |
| (د) | السياحة | (د) | السرطان |
| 20س | تعد صناعة الأسلحة من الصناعات: | 26س | يبلغ عدد المناطق الزمنية على سطح الأرض: |
| (أ) | المعدنية ① | (أ) | 28 منطقة |
| (ب) | الخزفية | (ب) | 20 منطقة |
| (ج) | الكيميائية | (ج) | 22 منطقة |
| (د) | الزجاجية | (د) | 24 منطقة ① |
| 21س | كل ما يحيط بنا من نجوم ومجرات ومخلوقات حية: | 27س | درجة مدار السرطان: |
| (أ) | الكون ① | (أ) | 23,5° جنوباً |
| (ب) | الشهب | (ب) | 23.5° شمالاً ① |
| (ج) | النيازك | (ج) | 66.5° شمالاً |
| (د) | الكواكب | (د) | 40° جنوباً |
| 22س | يبلغ عدد كواكب المجموعة الشمسية: | 28س | لا يشعر سكان الأرض بحركتها بسبب: |
| (أ) | خمسة | (أ) | كبر حجمها ① |
| (ب) | سبعة | (ب) | ثقلها |
| (ج) | ثمانية ① | (ج) | عدم انتظام حركتها |
| (د) | تسعة | (د) | استدارتها |

تابع الأسئلة

| | | | |
|-----|---|-----|-----------------------------|
| س29 | سبب تعاقب الليل والنهار: | س31 | أكبر قارات العالم مساحة: |
| (أ) | دوران الأرض حول الشمس | (أ) | آسيا ① |
| (ب) | ميل محور الأرض | (ب) | أستراليا |
| (ج) | دوران الأرض حول نفسها ① | (ج) | أوروبا |
| (د) | ثبات ميل محور الأرض | (د) | إفريقيا |
| س30 | يحدث الصيف في شمال الكرة الأرضية عندما تتعامد أشعة الشمس على: | س32 | يغطي الماء سطح الأرض بنسبة: |
| (أ) | مدار الجدي | (أ) | 71 % ① |
| (ب) | خط الاستواء | (ب) | 73 % |
| (ج) | الدائرة القطبية الشمالية | (ج) | 29 % |
| (د) | مدار السرطان ① | (د) | 63 % |

ثالثاً: الأسئلة المقالية:

8
8

2
2

س33/ اذكر أبرز عاملين لقيام الحضارات.

1- الموقع والتضاريس

2- المناخ

س34/ ما الأسس التي قامت عليها الحضارة الإسلامية؟

1- الأساس الديني

2- الأساس اللغوي

3- الأساس العلمي

4- الأساس الأخلاقي

4
4

س35/ دون على الشكل ما يأتي:

أ- محور الأرض القطبي

ب- محور الأرض الاستوائي.

2
2



انتهت الأسئلة

معلم المادة :

يوسف خضر الرحيلي

(3)



أسئلة اختبار الفصل الدراسي الأول (الدور الأول) لعام ١٤٤٤ هـ

رقم الجلوس:

الصف:

اسم الطالب:

٤٠

١٦

أولاً: أسئلة الصواب والخطأ من (١) إلى (١٢):

ظل (أ) للعبارة الصحيحة و (ب) للعبارة الخاطئة فيما يلي:

| | | |
|------|---|-----|
| ١ س | شبه الجزيرة العربية مهد الحضارات ومنها انطلقت الهجرات. | () |
| ٢ س | عرفت الكتابة (الهيروغليفية) في الحضارة الصينية. | () |
| ٣ س | يعد الأساس اللغوي هو الأساس الأول للحضارة الإسلامية. | () |
| ٤ س | استفاد المسلمون من علوم الحضارات السابقة في مختلف الجوانب. | () |
| ٥ س | اعتنى المسلمون بعلم التاريخ لارتباطه بالعلوم الشرعية. | () |
| ٦ س | ارتبط الفن الإسلامي بالدين ارتباطاً وثيقاً. | () |
| ٧ س | لم تكن للعرب معرفة بالتجارة قبل الإسلام. | () |
| ٨ س | الكوكب جسم كروي صلب يشع ضوءاً | () |
| ٩ س | شكل الأرض كامل الاستدارة. | () |
| ١٠ س | حركة الأرض حول محورها تسمى بالحركة اليومية. | () |
| ١١ س | دوائر العرض عبارة عن دوائر كاملة متوازية وغير متساوية في الطول. | () |
| ١٢ س | تتركز اليابسة في نصف الكرة الأرضية الشمالي. | () |

٢٨

ثانياً: أسئلة الاختيار من متعدد من (١٣) إلى (٤٠):

اختر الإجابة الصحيحة من بين البدائل فيما يلي ثم ظلها في ورقة الإجابة:

| | | | |
|-------|--|-------|-------------------------------|
| ١٣ س | أول الشعوب التي سكنت جنوب العراق: | ١٥ س | انتهى العصر الفرعوني على يد: |
| (أ) | الأكاديون | (أ) | السومريون |
| (ب) | الكلدانيون | (ب) | الفرس |
| (ج) | الاشوريون | (ج) | الرومان |
| (د) | السومريون | (د) | العرب |
| ١٤ س | قامت حضارة بلاد الرافدين على ضفاف نهر: | ١٦ س | من النظم السياسية في الإسلام: |
| (أ) | دجلة والفرات | (أ) | الوزارة |
| (ب) | النيل الأبيض والأزرق | (ب) | الإمارة |
| (ج) | الأصفر ومنطقة اليانغتسي | (ج) | الشرطة |
| (د) | سيحون وجيحون | (د) | القضاء |

تابع الأسئلة



| | | | |
|-----|--|-----|--|
| س١٧ | تعني المعاونة في تحمل أعباء الحكم: | س٢٣ | العناية بتوفير وسائل الري ببناء السدود وإقامة الجسور من مظاهر العناية بـ : |
| (أ) | الخلافة | (أ) | الزراعة |
| (ب) | الوزارة | (ب) | الصناعة |
| (ج) | البيعة | (ج) | التجارة |
| (د) | الدواوين | (د) | السياحة |
| س١٨ | تحول الجيش الإسلامي إلى جيش نظامي في عهد الخليفة: | س٢٤ | اعتنى المسلمون بـ لأنها المصدر الأول لغذاء الإنسان: |
| (أ) | عثمان بن عفان ؓ | (أ) | المعادن |
| (ب) | علي بن أبي طالب ؓ | (ب) | التجارة |
| (ج) | عمر بن الخطاب ؓ | (ج) | الصناعة |
| (د) | أبو بكر الصديق ؓ | (د) | الزراعة |
| س١٩ | من منجزات المسلمين في علم الرياضيات: | س٢٥ | تعد صناعة الأدوية من الصناعات: |
| (أ) | تنقية المعادن | (أ) | المعدنية |
| (ب) | دراسة الضوء والصوت | (ب) | الغذائية |
| (ج) | اختراع الصفر | (ج) | الكيميائية |
| (د) | اكتشاف الكثافة | (د) | الزجاجية |
| س٢٠ | نقل العلوم من لغتها الأصلية إلى اللغة العربية: | س٢٦ | تنتمي مجموعتنا الشمسية لمجرة: |
| (أ) | الحضارة | (أ) | زهرة الشمس |
| (ب) | الفنون | (ب) | درب التبانة |
| (ج) | الترجمة | (ج) | المذنب |
| (د) | العمارة | (د) | العين |
| س٢١ | من أشهر المساجد التي بناها المسلمون في دمشق: | س٢٧ | يبلغ عدد كواكب المجموعة الشمسية: |
| (أ) | مسجد عقبة بن نافع | (أ) | خمسة |
| (ب) | المسجد الأموي | (ب) | سبعة |
| (ج) | المسجد الأقصى | (ج) | ثمانية |
| (د) | مسجد القبلتين | (د) | تسعة |
| س٢٢ | اعتنى المسلمون ببناء القلاع والحصون: | س٢٨ | أصغر كواكب المجموعة الشمسية: |
| (أ) | لتكون عواصم للدول الإسلامية | (أ) | زحل |
| (ب) | لأغراض اقتصادية | (ب) | عطارد |
| (ج) | لأغراض دينية | (ج) | المشتري |
| (د) | لحماية حدود الدولة | (د) | الأرض |

تابع الأسئلة

| | | | |
|------|--|------|--|
| س ٢٩ | ترتيب الأرض من حيث القرب من الشمس: | س ٣٥ | لا يشعر سكان الأرض بحركتها بسبب: |
| (أ) | الأول | (أ) | كبر حجمها |
| (ب) | الثاني | (ب) | ثقلها |
| (ج) | الثالث | (ج) | عدم انتظام حركتها |
| (د) | الرابع | (د) | استدارتها |
| س ٣٠ | أول رائد فضاء عربي مسلم صاحب السمو الملكي الأمير بن سلمان بن عبد العزيز: | س ٣٦ | سبب تعاقب الليل والنهار: |
| (أ) | تركي | (أ) | دوران الأرض حول الشمس |
| (ب) | بندر | (ب) | ميل محور الأرض |
| (ج) | سلطان | (ج) | دوران الأرض حول نفسها |
| (د) | أحمد | (د) | ثبات ميل محور الأرض |
| س ٣١ | الخط الوهمي المستقيم الواصل بين القطبين والمار بمركز الأرض يعرف بـ : | س ٣٧ | يحدث الشتاء في شمال الكرة الأرضية عندما تتعامد أشعة الشمس على: |
| (أ) | القطر القطبي | (أ) | مدار الجدي |
| (ب) | خط الاستواء | (ب) | خط الاستواء |
| (ج) | خط جرينتش | (ج) | الدائرة القطبية الشمالية |
| (د) | القطر الاستوائي | (د) | مدار السرطان |
| س ٣٢ | عدد خطوط الطول: | س ٣٨ | أصغر قارات العالم مساحة: |
| (أ) | ٩٠ خطاً | (أ) | آسيا |
| (ب) | ١٨٠ خطاً | (ب) | أستراليا |
| (ج) | ٢٧٠ خطاً | (ج) | أوروبا |
| (د) | ٣٦٠ خطاً | (د) | إفريقيا |
| س ٣٣ | تفيد خطوط الطول في تحديد: | س ٣٩ | يغطي الماء سطح الأرض بنسبة: |
| (أ) | الأقاليم المناخية | (أ) | ٧١ % |
| (ب) | خط الاستواء | (ب) | ٧٣ % |
| (ج) | الزمن | (ج) | ٢٩ % |
| (د) | الارتفاع والانخفاض | (د) | ٦٣ % |
| س ٣٤ | درجة مدار الجدي: | س ٤٠ | أكبر المحيطات مساحة: |
| (أ) | ٢٣,٥° جنوباً | (أ) | المحيط الهندي |
| (ب) | ٢٣,٥° شمالاً | (ب) | المحيط الهادئ |
| (ج) | ٦٦,٥° شمالاً | (ج) | المحيط الأطلسي |
| (د) | ٤٠° جنوباً | (د) | المحيط الجنوبي |

انتهت الأسئلة

معلم المادة :

يوسف خضر الرحيلي

أسئلة اختبار الفصل الدراسي الأول (الدور الأول) لعام 1444 هـ

رقم الجلوس:

الصف:

اسم الطالب:

نموذج اجابة

40

40

12

12

أولاً: أسئلة الصواب والخطأ من (1) إلى (12):

ظل (أ) للعبارة الصحيحة و (ب) للعبارة الخاطئة فيما يلي:

| | | |
|-------|-----|---|
| (✓) | س1 | شبه الجزيرة العربية مهد الحضارات ومنها انطلقت الهجرات. |
| (×) | س2 | عرفت الكتابة (الهيروغليفية) في الحضارة الصينية. |
| (×) | س3 | يعد الأساس اللغوي هو الأساس الأول للحضارة الإسلامية. |
| (✓) | س4 | استفاد المسلمون من علوم الحضارات السابقة في مختلف الجوانب. |
| (×) | س5 | اعتنى المسلمون بعلم التاريخ لارتباطه بالعلوم الشرعية. |
| (✓) | س6 | ارتبط الفن الإسلامي بالدين ارتباطاً وثيقاً. |
| (×) | س7 | لم تكن للعرب معرفة بالتجارة قبل الإسلام. |
| (×) | س8 | الكوكب جسم كروي صلب يشع ضوءاً |
| (×) | س9 | شكل الأرض كامل الاستدارة. |
| (✓) | س10 | حركة الأرض حول محورها تسمى بالحركة اليومية. |
| (✓) | س11 | دوائر العرض عبارة عن دوائر كاملة متوازية وغير متساوية في الطول. |
| (✓) | س12 | تتركز اليابسة في نصف الكرة الأرضية الشمالي. |

28

28

ثانياً: أسئلة الاختيار من متعدد من (13) إلى (40):

اختر الإجابة الصحيحة من بين البدائل فيما يلي ثم ظلها في ورقة الإجابة:

| | | | |
|--|-------|-------------------------------|-------|
| أول الشعوب التي سكنت جنوب العراق: | س13 | انتهى العصر الفرعوني على يد: | س15 |
| (أ) الأكاديون | (أ) | السومريون | (أ) |
| (ب) الكلدانيون | (ب) | الفرس | (ب) |
| (ج) الآشوريون | (ج) | الرومان ① | (ج) |
| (د) السومريون ① | (د) | العرب | (د) |
| قامت حضارة بلاد الرافدين على ضفاف نهر: | س14 | من النظم السياسية في الإسلام: | س16 |
| (أ) دجلة والفرات ① | (أ) | الوزارة ① | (أ) |
| (ب) النيل الأبيض والأزرق | (ب) | الإمارة | (ب) |
| (ج) الأصفر ومنطقة اليانغتسي | (ج) | الشرطة | (ج) |
| (د) سيحون وجيحون | (د) | القضاء | (د) |

تابع الأسئلة



| | | | |
|-------|--|-------|--|
| 17س | تعني المعاونة في تحمل أعباء الحكم: | 23س | العناية بتوفير وسائل الري ببناء السدود وإقامة الجسور من مظاهر العناية بـ : |
| (أ) | الخلافة | (أ) | الزراعة 1 |
| (ب) | الوزارة 1 | (ب) | الصناعة |
| (ج) | البيعة | (ج) | التجارة |
| (د) | الدواوين | (د) | السياحة |
| 18س | تحول الجيش الإسلامي إلى جيش نظامي في عهد الخليفة: | 24س | اعتنى المسلمون بـ لأنها المصدر الأول لغذاء الإنسان: |
| (أ) | عثمان بن عفان τ | (أ) | المعادن |
| (ب) | علي بن أبي طالب τ | (ب) | التجارة |
| (ج) | عمر بن الخطاب τ 1 | (ج) | الصناعة |
| (د) | أبو بكر الصديق τ | (د) | الزراعة 1 |
| 19س | من منجزات المسلمين في علم الرياضيات: | 25س | تعد صناعة الأدوية من الصناعات: |
| (أ) | تنقية المعادن | (أ) | المعدنية |
| (ب) | دراسة الضوء والصوت | (ب) | الغذائية |
| (ج) | اختراع الصفر 1 | (ج) | الكيميائية 1 |
| (د) | اكتشاف الكثافة | (د) | الزجاجية |
| 20س | نقل العلوم من لغتها الأصلية إلى اللغة العربية: | 26س | تنتمي مجموعة عنا الشمسية لمجرة: |
| (أ) | الحضارة | (أ) | زهرة الشمس |
| (ب) | الفنون | (ب) | درب التبانة 1 |
| (ج) | الترجمة 1 | (ج) | المنذب |
| (د) | العمارة | (د) | العين |
| 21س | من أشهر المساجد التي بناها المسلمون في دمشق: | 27س | يبلغ عدد كواكب المجموعة الشمسية: |
| (أ) | مسجد عقبة بن نافع | (أ) | خمسة |
| (ب) | المسجد الأموي 1 | (ب) | سبعة |
| (ج) | المسجد الأقصى | (ج) | ثمانية 1 |
| (د) | مسجد القبليتين | (د) | تسعة |
| 22س | اعتنى المسلمون ببناء القلاع والحصون: | 28س | أصغر كواكب المجموعة الشمسية: |
| (أ) | لتكون عواصم للدول الإسلامية | (أ) | زحل |
| (ب) | لأغراض اقتصادية | (ب) | عطارد 1 |
| (ج) | لأغراض دينية | (ج) | المشتري |
| (د) | لحماية حدود الدولة 1 | (د) | الأرض |

تابع الأسئلة

| | | | |
|-----|--|-----|--|
| 29س | ترتيب الأرض من حيث القرب من الشمس: | 35س | لا يشعر سكان الأرض بحركتها بسبب: |
| (أ) | الأول | (أ) | كبر حجمها 1 |
| (ب) | الثاني | (ب) | ثقلها |
| (ج) | الثالث 1 | (ج) | عدم انتظام حركتها |
| (د) | الرابع | (د) | استدارتها |
| 30س | أول راند فضاء عربي مسلم صاحب السمو الملكي الأمير بن سلمان بن عبد العزيز: | 36س | سبب تعاقب الليل والنهار: |
| (أ) | تركي | (أ) | دوران الأرض حول الشمس |
| (ب) | بندر | (ب) | ميل محور الأرض |
| (ج) | سلطان 1 | (ج) | دوران الأرض حول نفسها 1 |
| (د) | أحمد | (د) | ثبات ميل محور الأرض |
| 31س | الخط الوهمي المستقيم الواصل بين القطبين والمار بمركز الأرض يعرف بـ: | 37س | يحدث الشتاء في شمال الكرة الأرضية عندما تتعامد أشعة الشمس على: |
| (أ) | القطر القطبي 1 | (أ) | مدار الجدي 1 |
| (ب) | خط الاستواء | (ب) | خط الاستواء |
| (ج) | خط جرينتش | (ج) | الدائرة القطبية الشمالية |
| (د) | القطر الاستوائي | (د) | مدار السرطان |
| 32س | عدد خطوط الطول: | 38س | أصغر قارات العالم مساحة: |
| (أ) | 90 خطأ | (أ) | آسيا |
| (ب) | 180 خطأ | (ب) | أستراليا 1 |
| (ج) | 270 خطأ | (ج) | أوروبا |
| (د) | 360 خطأ 1 | (د) | إفريقيا |
| 33س | تفيد خطوط الطول في تحديد: | 39س | يغطي الماء سطح الأرض بنسبة: |
| (أ) | الأقاليم المناخية | (أ) | 71 % 1 |
| (ب) | خط الاستواء | (ب) | 73 % |
| (ج) | الزمن 1 | (ج) | 29 % |
| (د) | الارتفاع والانخفاض | (د) | 63 % |
| 34س | درجة مدار الجدي: | 40س | أكبر المحيطات مساحة: |
| (أ) | 23,5° جنوباً 1 | (أ) | المحيط الهندي |
| (ب) | 23.5° شمالاً | (ب) | المحيط الهادئ 1 |
| (ج) | 66.5° شمالاً | (ج) | المحيط الأطلسي |
| (د) | 40° جنوباً | (د) | المحيط الجنوبي |

انتهت الأسئلة

معلم المادة :

يوسف خضر الرحيلي

السؤال الأول / اختار الإجابة الصحيحة فيما يلي بوضع دائرة حولها:

| | | | | | | | |
|----|--|---|--------------------|---|-------------------|---|---------------------|
| 1 | الأساس الأول للحضارة الإسلامية وأصلها الذي اعتمدت عليه : | أ | الأساس الديني | ب | الأساس اللغوي | ج | الأساس العلمي |
| 2 | من فوائد خطوط الطول ودوائر العرض تحديد الموقع وتحديد : | أ | الارتفاع والانخفاض | ب | الزمن والمناخ | ج | المسافة والسرعة |
| 3 | الحوار الذي يجري بين أبناء الوطن لمناقشة القضايا التي تفيد الوطن هو الحوار : | أ | التربوي | ب | الرياضي | ج | الوطني |
| 4 | هم الجند الذين يعتمد عليهم الخليفة في حفظ الأمن ليلاً : | أ | العسس | ب | الشرطة | ج | الجنود |
| 5 | أول رائد فضاء مسلم عربي الأمير : | أ | خالد بن سعود | ب | سلطان بن سلمان | ج | سلمان بن فهد |
| 6 | يعد المسلمون أول من أدخل السكر في تحلية بعض : | أ | الماكولات | ب | المشروبات | ج | الأدوية |
| 7 | اعتنى المسلمون بعلم الفلك وذلك لارتباطه بالعلوم : | أ | الشرعية | ب | العربية | ج | الطبيعية |
| 8 | من فوائد الحوار : | أ | فهم الجانب المظلم | ب | فهم الآراء الأخرى | ج | فهم الأشياء القديمة |
| 9 | العوامل التي تسهم في قيام الحضارات المناخ و : | أ | الغابات والصحاري | ب | السهول والجبال | ج | الموقع والتضاريس |
| 10 | بني الصينيين سور الصين العظيم من أجل عدوهم الشرير : | أ | المغول | ب | الفرس | ج | الروم |
| 11 | ترتيب الأرض من حيث القرب من الشمس : | أ | الثاني | ب | الثالث | ج | الأول |
| 12 | يسهم التخطيط في بناء الشخصية الوطنية والتي تعد من أهداف رؤية : | أ | 2032 | ب | 2031 | ج | 2030 |
| 13 | عدد خطوط الطول : | أ | 360 خطاً | ب | 180 خطاً | ج | 270 خطاً |
| 14 | من نتائج حركة الأرض حول الشمس : | أ | الفصول الأربعة | ب | اختلاف الزمن | ج | انحراف الاجسام |
| 15 | قسمت الأرض إلى مناطق حرارية وفقاً لاختلاف زاوية : | أ | انحراف الرياح | ب | أشعة الشمس | ج | ميلان الأرض |

تابع الأسئلة في الصفحة التالية



السؤال الثاني/ ضع علامة (√) أمام العبارة الصحيحة وعلامة (x) أمام العبارة غير الصحيحة:

15

1. استفاد المسلمون من علوم الحضارات القديمة .()
2. اهتم علم التفسير بمعاني آيات القرآن الكريم .()
3. اقتصرت الزراعة في البلاد الإسلامية على محصول واحد .()
4. بناء المسلمين المدن الإسلامية لأغراض عسكرية فقط .()
5. ارتبط الفن الإسلامي بالدين الإسلامي ارتباطاً وثيقاً .()
6. الكواكب القريبة للشمس شديدة الحرارة بعكس الكواكب البعيدة منها .()
7. شكل الأرض كامل الاستدارة لان أبعاده متساوية .()
8. خطوط الطول ودوائر العرض شبكة حقيقته ترسم على سطح الأرض .()
9. لا نشعر بحركة الأرض لأنها تدور وفق نظام محكم دقيق .()
10. تغمر مياه المحيطات أغلب مساحة سطح الكرة الأرضية .()
11. الناجحون في حياتهم لا يخططون .()
12. رفع الصوت يساعد على قبول الرأي الآخر .()
13. من أسس نجاح الحوار تحديد الموضوع للحوار والهدف منه .()
14. في القرآن الكريم آيات تدل على ثقافة الحوار في الإسلام .()
15. إنجاز الأعمال في وقتها من فوائد تنظيم الوقت .()

تابع الأسئلة في الصفحة التالية



السؤال الثالث / ضع رقم المصطلح المناسب أمام الجملة المناسبة لها:

| الجملة | الرقم | المصطلح | الرقم |
|---|-------|-----------------|-------|
| وضعوا أسس علم الرياضيات فاستخدموا الترتيم واخترعوا الصفر | | التبانة | 1 |
| مدن صغيرة محصنة تحتوى على أماكن لإقامة و المرافق العامة | | الأجسام الكونية | 2 |
| تفاعل مجموعات البشرية مع البيئة المحيطة بهم | | الوقت | 3 |
| تنتمي مجموعتنا الشمسية إلى مجرة درب | | التوازن | 4 |
| تعد الكويكبات والشهب والنيازك والمذنبات من | | القلاع و الحصون | 5 |
| يقوم التخطيط على أساس تنظيم | | الحوار | 6 |
| تنظيم الوقت بين الدراسة والأسرة يحقق | | الحضارة | 7 |
| تبادل الحديث بين طرفين أو أكثر في قضية محددة يطلق عليه بـ | | المسلمون | 8 |

السؤال الرابع / للأرض حركتان هما :

2

1.

2.

انتهت الأسئلة .. مع تمنياتي لكم بالتوفيق والسداد ..

معلم المادة : مهند

محمد الطويرقي

السؤال الأول / اختار الإجابة الصحيحة فيما يلي بوضع دائرة حولها:

| | | | | | | | |
|----|--|---|--------------------|---|-------------------|---|---------------------|
| 1 | الأساس الأول للحضارة الإسلامية وأصلها الذي اعتمدت عليه : | أ | الأساس الديني | ب | الأساس اللغوي | ج | الأساس العلمي |
| 2 | من فوائد خطوط الطول ودوائر العرض تحديد الموقع وتحديد : | أ | الارتفاع والانخفاض | ب | الزمن والمناخ | ج | المسافة والسرعة |
| 3 | الحوار الذي يجرى بين أبناء الوطن لمناقشة القضايا التي تفيد الوطن هو الحوار : | أ | التربوي | ب | الرياضي | ج | الوطني |
| 4 | هم الجند الذين يعتمد عليهم الخليفة في حفظ الأمن ليلاً : | أ | العسس | ب | الشرطة | ج | الجنود |
| 5 | أول رائد فضاء مسلم عربي الأمير : | أ | خالد بن سعود | ب | سلطان بن سلمان | ج | سلمان بن فهد |
| 6 | يعد المسلمون أول من أدخل السكر في تحلية بعض : | أ | المأكولات | ب | المشروبات | ج | الأدوية |
| 7 | اعتنى المسلمون بعلم الفلك وذلك لارتباطه بالعلوم : | أ | الشرعية | ب | العربية | ج | الطبيعية |
| 8 | من فوائد الحوار : | أ | فهم الجانب المظلم | ب | فهم الآراء الأخرى | ج | فهم الأشياء القديمة |
| 9 | العوامل التي تسهم في قيام الحضارات المناخ و : | أ | الغابات والصحاري | ب | السهول والجبال | ج | الموقع والتضاريس |
| 10 | بني الصينيين سور الصين العظيم من أجل عدوهم الشرس : | أ | المغول | ب | الفرس | ج | الروم |
| 11 | ترتيب الأرض من حيث القرب من الشمس : | أ | الثاني | ب | الثالث | ج | الأول |
| 12 | يسهم التخطيط في بناء الشخصية الوطنية والتي تعد من أهداف رؤية : | أ | 2032 | ب | 2031 | ج | 2030 |
| 13 | عدد خطوط الطول : | أ | 360 خطأ | ب | 180 خطأ | ج | 270 خطأ |
| 14 | من نتائج حركة الأرض حول الشمس : | أ | الفصول الأربعة | ب | اختلاف الزمن | ج | انحراف الاجسام |
| 15 | قسمت الأرض الى مناطق حرارية وفقاً لاختلاف زاوية : | أ | انحراف الرياح | ب | أشعة الشمس | ج | ميلان الأرض |

تابع الأسئلة في الصفحة التالية



السؤال الثاني / ضع علامة (√) أمام العبارة الصحيحة وعلامة (x) أمام العبارة غير الصحيحة:

15

| | |
|-------|--|
| (✓) | 1. استفاد المسلمون من علوم الحضارات القديمة |
| (✓) | 2. اهتم علم التفسير بمعاني آيات القرآن الكريم |
| (✗) | 3. اقتصرت الزراعة في البلاد الإسلامية على محصول واحد |
| (✗) | 4. بناء المسلمين المدن الإسلامية لأغراض عسكرية فقط |
| (✓) | 5. ارتبط الفن الإسلامي بالدين الإسلامي ارتباطاً وثيقاً |
| (✓) | 6. الكواكب القريبة للشمس شديدة الحرارة بعكس الكواكب البعيدة منها |
| (✗) | 7. شكل الأرض كامل الاستدارة لان أبعاده متساوية |
| (✗) | 8. خطوط الطول ودوائر العرض شبكة حقيقته ترسم على سطح الأرض |
| (✓) | 9. لا نشعر بحركة الأرض لأنها تدور وفق نظام محكم دقيق |
| (✓) | 10. تغمر مياه المحيطات أغلب مساحة سطح الكرة الأرضية |
| (✗) | 11. الناجحون في حياتهم لا يخططون |
| (✗) | 12. رفع الصوت يساعد على قبول الرأي الآخر |
| (✓) | 13. من أسس نجاح الحوار تحديد الموضوع للحوار والهدف منه |
| (✓) | 14. في القرآن الكريم آيات تدل على ثقافة الحوار في الإسلام |
| (✓) | 15. إنجاز الأعمال في وقتها من فوائد تنظيم الوقت |

تابع الأسئلة في الصفحة التالية



السؤال الثالث / ضع رقم المصطلح المناسب أمام الجملة المناسبة لها:

| الجملة | الرقم | المصطلح | الرقم |
|---|-------|-----------------|-------|
| وضعوا أسس علم الرياضيات فاستخدموا الترتيم واخترعوا الصفر | ٨ | التبانة | 1 |
| مدن صغيرة محصنة تحوى على أماكن لإقامة و المرافق العامة | ٥ | الأجسام الكونية | 2 |
| تفاعل مجموعات البشرية مع البيئة المحيطة بهم | ٧ | الوقت | 3 |
| تنتمي مجموعتنا الشمسية إلى مجرة درب | ١ | التوازن | 4 |
| تعد الكويكبات والشهب والنيازك والمذنبات من | ٢ | القلاع و الحصون | 5 |
| يقوم التخطيط على أساس تنظيم | ٣ | الحوار | 6 |
| تنظيم الوقت بين الدراسة والأسرة يحقق | ٤ | الحضارة | 7 |
| تبادل الحديث بين طرفين أو أكثر في قضية محددة يطلق عليه بـ | ٦ | المسلمون | 8 |

السؤال الرابع / للأرض حركتان هما :

2

.1

.2

انتهت الأسئلة .. مع تمنياتي لكم بالتوفيق والسداد ..

معلم المادة : مهند

محمد الطويرقي

| | | | |
|---------------------|--------|---------|---------------|
| الدراسات الاجتماعية | المادة | 1443 هـ | العام الدراسي |
| ساعتان | الزمن | الأول | الفصل الدراسي |
| الأول متوسط | الصف | الأول | الدور |

| | |
|------------|------------|
| اسم الطالب | رقم الجلوس |
|------------|------------|

| بيان تقدير الدرجات | | | | | | |
|--------------------|-------|---------|-------|-----------------|-------|------------|
| المراجع | | المصحح | | الدرجة المستحقة | | رقم السؤال |
| التوقيع | الاسم | التوقيع | الاسم | كتابة | رقماً | |
| | | | | | | 1 |
| | | | | | | 2 |
| | | | | | | 3 |
| | | | | | | 4 |
| راجعه: | | جمعه: | | | | المجموع |

(12 درجة)

السؤال الأول :

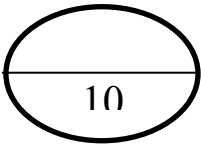
أ) اختر الرقم المناسب من المجموعة الأولى ثم ضعه أمام ما يناسب من المجموعة الثانية ؟

22

| المجموعة الثانية | | المجموعة الأولى | |
|------------------|--|-----------------------------------|---|
| نبيئون | | أكبر قارات العالم | 1 |
| الزراعة | | أكبر محيطات العالم | 2 |
| الهادي | | أقرب كوكب للشمس | 3 |
| آسيا | | أبعد كوكب عن الشمس | 4 |
| الوزارة | | المصدر الأول لغذاء الانسان | 5 |
| المشتري | | تعني المعاونة في تحمل أعباء الحكم | 6 |

ب- ضع علامة (صح) أمام الإجابة الصحيحة وعلامة (خطأ) أمام الإجابة الخاطئة : (10 درجات)

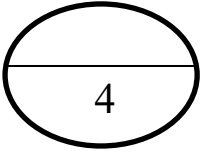
- 1- الحضارة هي تفاعل المجموعات البشرية مع البيئات المحيطة بهم { }
- 2- الموقع والتضاريس من العوامل التي تسهم في قيام الحضارات { }
- 3- نشأت حضارة بلاد الرافدين في سوريا { }
- 4- استمرت حضارة مصر القديمة 3000 سنة { }
- 5- غزا الرومان مصر عام 30 ق.م { }
- 6- أطول الحضارات زمنًا هي الحضارة الفرعونية { }
- 7- من أسس الحضارة الإسلامية الأساس السياسي و الأساس اللغوي { }
- 8- الامارة هي تعيين العمال والولاية على أجزاء من البلاد الإسلامية { }
- 9- من العلماء المسلمين في علم الفيزياء جابر بن حيان { }
- 10- من أشهر علماء النحو سيبويه { }



السؤال الثاني:

اختر الإجابة الصحيحة بوضع دائرة على الحرف المناسب في الخيارات ؟

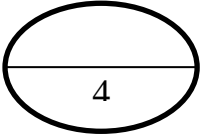
| | | | | | | | |
|--|---|---|---|-----------------|----------|---------------------|-------------|
| 1/ هم الجند الذين يعتمد عليهم أو الوالي في استتباب الامن وحفظ النظام والقبض على الجناة : | | | | | | | |
| أ | ب | ج | د | الشرطة | العسس | الجيش | القضاة |
| 2 / هم رجال يتولون حفظ الأمن ليلاً: | | | | | | | |
| أ | ب | ج | د | القضاة | الشرطة | العسس | الجيش |
| 3 / من العلوم الطبيعية في الحضارة الإسلامية: | | | | | | | |
| أ | ب | ج | د | الفيزياء | الكيمياء | الرياضيات | جميع ما سبق |
| 4 / أول من رسم الخرائط وأصبحت أساساً لخرائط العالم هو: | | | | | | | |
| أ | ب | ج | د | حسان بن النعمان | الادريسي | ابوالريحان البيروني | بن حنبل |
| 5 / من الاجسام الكونية : | | | | | | | |
| أ | ب | ج | د | الشهب | النيازك | المذنبات | جميع ما سبق |



السؤال الثالث :

أكمل الفراغات التالية :

1. الكواكب القريبة من الشمس شديدة
2. الكواكب البعيدة عن الشمس شديدة
3. أول رائد فضاء عربي مسلم هو
4. الخط الرئيسي لخطوط الطول هو



السؤال الرابع :

أجب عما يلي :

عدد أربعة من أهم دوائر العرض ؟

- 1
- 2
- 3
- 4

أسئلة اختبار مادة الاجتماعيات للصف الأول المتوسط للفصل الدراسي الأول لعام 1445

السؤال الأول :

اختاري الإجابة الصحيحة مما يأتي :

1-دوائر العرض تفيد في تحديد :

أ- الزمن ب- المناطق الحرارية ج-خط جرينتش د-المناطق الإدارية

2-عدد خطوط الطول

أ-360 خطا ب-180 خطا ج-270خطا د-450 خطا

3-مدار الجدي

أ-23,5 درجة جنوبا ب-23,5 درجة شمالا ج-66,5 درجة جنوبا د-66.5 درجة شمالا

4-عدد كواكب المجموعة الشمسية

أ-سبعة ب-ثمانية ج-ستة عشر د-تسعة

5-ترتيب الأرض من حيث القرب من الشمس

أ-الأول ب- الثاني ج-الثالث د-الرابع

6-تعد صناعة الادوية من الصناعات

أ-الغذائية ب- الكيماوية ج-الزجاجية د-الفيزيائية

7-أنشئت الدواوين في عهد الخليفة

أ-عمر بن الخطاب رضى الله عنه ب-ابي بكر الصديق رضى الله عنه ج-علي بن ابي طالب رضى الله عنه

د-عثمان بن عفان رضى الله عنه

8-يحدث الصيف في شمال الكرة الأرضية عندما تتعامد اشعة الشمس على

أ-مدار السرطان ب- مدار الجدي ج- خط الاستواء د- درب التبانة

يتبع

9-تنقسم اليابسة الى

أ-سبع كتل كبرى ب-ثمان كتل كبرى ج-تسع كتل كبرى د-خمس كتل كبرى

10 يغطي الماء.....من مساحة سطح الأرض

أ-71% ب-72% ج-29% د-30%

السؤال الثاني :

ضعي علامة صح امام العبارة الصحيحة وخطا امام العبارة الخاطئة مما يأتي

1-من مكونات المجموعة الشمسية أجسام كونية مثل الكويكبات ()

2-من الخصائص المشتركة للمجموعة الشمسية تدور حول محورها ()

3-أكبر كواكب المجموعة الشمسية حجما هو المشتري ()

4-شكل الأرض كامل الاستدارة ()

5-يمتد محور الأرض القطبي من الشمال الى الجنوب ()

6-من فوائد تنظيم الوقت الحد من التوتر والقلق ()

7-تعتني رؤية 2030 بتحقيق شخصية وطنية تحرص على التخطيط ()

8-تحديد الأعمال بدون الزمن ()

9-وضع جميع الأعمال اليومية المهمة وغير المهمة ()

10-من أمثلة العمارة الإسلامية بناء السدود والجسور ()

السؤال الثالث :

أ- فسري مما يأتي :

1-العناية بعلم التاريخ ؟

.....

2-تعاقب الليل والنهار

.....

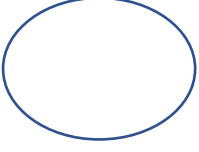
3-أننا لا نشعر بحركة دوران الأرض

.....

يتبع

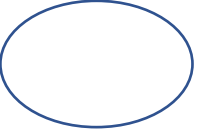
ب- اكتب المصطلح المناسب مما يأتي :

- 1- المرتفعات والمنخفضات التي على سطح الأرض (.....)
2- تفاعل المجموعات البشرية مع البيئات المحيطة بهم (.....)
3- نقل الرسائل بين الخليفة وولاة الأقاليم (.....)



ج- عددي اثنان فقط مما يأتي :

- 1- العلوم الشرعية
1-
2-



2- حركات الأرض

- 1-
2-

3- المحيطات التي تحيط بقارة اسيا

- 1-
2-

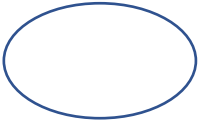
4- خصائص خطوط الطول

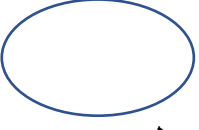
- 1-
2-

السؤال الرابع:

أ- أكمل الفراغات التالية بما يناسبها:

- 1- الكواكب القريبة من الشمس شديدة
2- الكواكب البعيدة من الشمس شديدة
3- أصغر كواكب المجموعة الشمسية حجما
4- يحل فصل الربيع في نصف الأرض الشمالي ويقابله في نصف الأرض الجنوبي
5- يساعدنا التخطيط على ويحقق لنا مجالا للاستمتاع بالوقت عندما جيدا .





ب-صنفي المنجزات حسب علومها في الجدول الاتي:(علم الفلك ، علم الرياضيات ، علم الطب ، علم الصيدلة ، علم الكيمياء)

| المنجزات | علومها |
|---------------------------------|--------|
| 1-بناء المراصد | |
| 2-اختراع الصفر | |
| 3-بناء المستشفيات | |
| 4-اختراع أدوات طبية | |
| 5-تقنية المعادن وعمليات التقطير | |

ج- صحي العبارات الخاطئة التي تحتها خط :

| | |
|---|--|
| 1 | لا أستمتع بوقتي عندما أخطط جيدا |
| 2 | أول بيت وضع للناس المسجد الأقصى في مكة المكرمة |
| 3 | قسمت دول العالم إلى سبع وعشرون منطقة زمنية |
| 4 | اقتصرت الزراعة في البلاد الإسلامية على محصول واحد |
| 5 | الوزارة سجل يدون فيه الاعمال والأموال المتعلقة بالدولة |
| 6 | التخطيط يزيد من التوتر والقلق |

أنتهت الأسئلة أمنيائي لكن بالتوفيق /أ