

تم تحميل وعرض المادة من



موقع مادتي هو موقع تعليمي يعمل على مساعدة المعلمين والطلاب وأولياء الأمور في تقديم حلول الكتب المدرسية والاختبارات وشرح الدروس والملاحظات والتحاير وتوزيع المنهج لكل المراحل الدراسية بشكل واضح وسهل مجاناً بتصفح وعرض مباشر أونلاين وتحميل على موقع مادتي

حمل تطبيق مادتي ليصلك كل جديد



اسم الطالبة/.....

الصف/الأول الابتدائي

المادة/ العلوم



المملكة العربية السعودية

وزارة التعليم

الإدارة العامة للتعليم بمنطقة


اختبار تشخيصي لمادة العلوم الصف الأول لعام ١٤٤٥ هـ

(درجتان لكل فقرة)

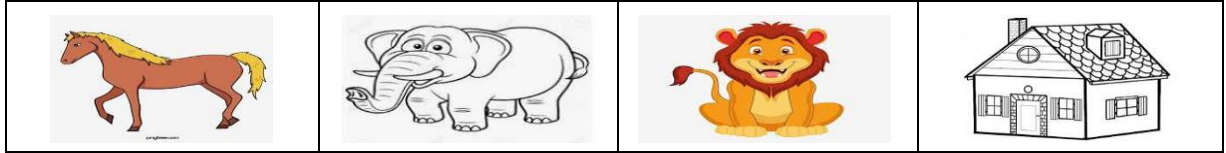
١٠ درجات

* / نحيط الأجابة الصحيحة :

١ / من المخلوقات الحية :




٢ / من الأشياء غير الحية :



٣ / جزء من النبات ينبت ثم ينمو ليصير نبات جديد هو :



٣ / موطن تنمو فيه أشجار كثيرة وطويلة هي :



٥ / موطن من مواطن المياه العذبة تحيط بها اليابسة :



السؤال الثالث

2

صل بين الصورة والكلمة المناسبة

(أ) الصحراء



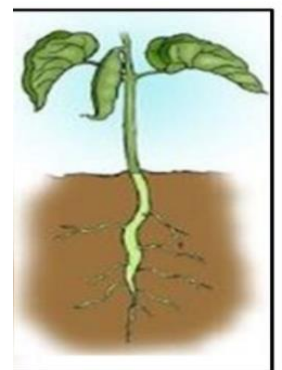
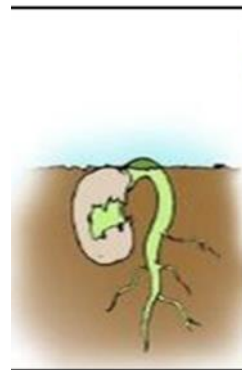

(ب) الغابة



السؤال الرابع: رتب مراحل حياة الفاصوليا بوضع الرقم المناسب تحت الصورة

2


(1) بذرة (2) بذرة لها جذور (3) بادره (4) نبات مكتمل النمو



تصنيف المستوى:

المستوى	المستوى فوق المتوسط	المستوى المتوسط	المستوى دون المتوسط
<u>الدرجة</u>	<u>8-10</u>	<u>5-7</u>	<u>1-4</u>
تصنيف الطالب/ة			

اختر الإجابة الصحيحة بوضع دائرة حول الحرف الدال على الإجابة:

1.			
جميع الصور أعلاه هي :			
(أ)	مخلوقات حية	(ب)	أشياء خيرة حية
(ج)	نباتات	(د)	حيوانات
2.		هل الحجر مخلوق حي ؟	
(أ)	نعم يحتاج إلى الغذاء والهواء	(ب)	لا . لأنه لا ينمو
3.		مراحل نمو المخلوق الحي وعيشه وموته تسمى ...	
(أ)	دورة الحياة	(ب)	النبات الأم
(ج)	الغابة المطيرة	(د)	النبات الأب
4.		كيف تبدو الغابة ؟	
(أ)	رطبة	(ب)	جافة وحارة
(ج)	باردة وفارغة	(د)	جافة وباردة
5.		فيم تختلف البحيرة عن البحر أو المحيط ؟	
(أ)	البحيرة فيها نباتات .	(ب)	البحيرة فيها أسماك .
(ج)	البحيرة مياهها عذبة .	(د)	البحيرة مياهها مالحة .
6.		الأشياء التي نحصل عليها من الأرض ونستخدمها تسمى :	
(أ)	أشياء جديدة .	(ب)	أشياء في الأرض .
(ج)	موارد طبيعية .	(د)	تلوث
7.		أي الموارد الطبيعية التالية مصدره حيواني ؟	
(أ)	طين	(ب)	خشب
(ج)	بلاستيك	(د)	صوف

8	ما الأداة التي تستخدم لمعرفة درجة الحرارة ؟		
(أ)	مقياس المطر .	(ب)	مقياس الحرارة .
(ج)	الظل .	(د)	الضغط







9	ماذا يحصل للبذرة اذا زرعت وسقيت وتعرضت للضوء؟		
(أ)	تنمو إلى بادرة .	(ب)	تبقى داخل الثمرة .
(ج)	تموت .	(د)	لا تنمو .

10	إلى أي حالة من حالات المادة يصنف الهواء ؟		
(أ)	السائلة .	(ب)	الغازية .
(ج)	الصلبية .	(د)	البلازما .

انتهت الاسئلة

اختبار تشخيصي مادة العلوم للصف الأول نموذج (١)

الاسم/

<table border="1"> <tr> <td>اجتاز</td> <td><input type="radio"/></td> </tr> <tr> <td>لم يجتاز</td> <td><input type="radio"/></td> </tr> </table>	اجتاز	<input type="radio"/>	لم يجتاز	<input type="radio"/>	<p>س١/ صنف الصور التالية إلى مخلوقات حية وأشياء غير حية: (بالتوصيل)</p> <div style="display: flex; justify-content: space-around;"> <div style="border: 1px solid black; border-radius: 15px; padding: 5px; width: 150px; text-align: center;">أشياء غير حية</div> <div style="border: 1px solid black; border-radius: 15px; padding: 5px; width: 150px; text-align: center;">مخلوقات حية</div> </div> <div style="display: flex; justify-content: space-around; margin-top: 10px;">     </div>	المقارنة بين المخلوقات الحية والأشياء غير الحية وتصنيفها
اجتاز	<input type="radio"/>					
لم يجتاز	<input type="radio"/>					
<table border="1"> <tr> <td>اجتاز</td> <td><input type="radio"/></td> </tr> <tr> <td>لم يجتاز</td> <td><input type="radio"/></td> </tr> </table>	اجتاز	<input type="radio"/>	لم يجتاز	<input type="radio"/>	<p>س٢/ رتب مراحل حياة نبات الفاصوليا بوضع الرقم المناسب (١ - ٢ - ٣ - ٤)</p> <div style="display: flex; justify-content: space-around; margin-top: 10px;">     </div>	وصف دورة حياة نبات.
اجتاز	<input type="radio"/>					
لم يجتاز	<input type="radio"/>					
<table border="1"> <tr> <td>اجتاز</td> <td><input type="radio"/></td> </tr> <tr> <td>لم يجتاز</td> <td><input type="radio"/></td> </tr> </table>	اجتاز	<input type="radio"/>	لم يجتاز	<input type="radio"/>	<p>س٣/ ضع علامة (✓) تحت الموطن الذي تنمو فيه أشجار كثيرة وطويلة :</p> <div style="display: flex; justify-content: space-around; margin-top: 10px;">    </div> <div style="display: flex; justify-content: space-around; margin-top: 20px;"> <input type="checkbox"/> <input type="checkbox"/> <input type="checkbox"/> </div>	وصف مواطن اليابسة.
اجتاز	<input type="radio"/>					
لم يجتاز	<input type="radio"/>					

<table border="1"> <tr> <td>اجتاز</td> <td><input type="radio"/></td> </tr> <tr> <td>لم يجتاز</td> <td><input type="radio"/></td> </tr> </table>	اجتاز	<input type="radio"/>	لم يجتاز	<input type="radio"/>	<p>س٤/ ضع دائرة حول الإجابة الصحيحة: أيّ الحيوانات التالية يعيش في البحيرة:</p> <table border="1"> <tr> <td></td> <td>ج</td> <td></td> <td>ب</td> <td></td> <td>أ</td> </tr> </table>		ج		ب		أ	<p>وصف مواطن الماء</p>
اجتاز	<input type="radio"/>											
لم يجتاز	<input type="radio"/>											
	ج		ب		أ							
<table border="1"> <tr> <td>اجتاز</td> <td><input type="radio"/></td> </tr> <tr> <td>لم يجتاز</td> <td><input type="radio"/></td> </tr> </table>	اجتاز	<input type="radio"/>	لم يجتاز	<input type="radio"/>	<p>س٥/ اختر الإجابة الصحيحة: من الموارد الطبيعية غير الحية: (الماء - الجمل - الخروف)</p>	<p>التعرف على الموارد الطبيعية ووصفها</p>						
اجتاز	<input type="radio"/>											
لم يجتاز	<input type="radio"/>											
<table border="1"> <tr> <td>اجتاز</td> <td><input type="radio"/></td> </tr> <tr> <td>لم يجتاز</td> <td><input type="radio"/></td> </tr> </table>	اجتاز	<input type="radio"/>	لم يجتاز	<input type="radio"/>	<p>س٦/ أيّ الصور التالية تدل على فصل الشتاء:</p> <table border="1"> <tr> <td></td> <td></td> <td></td> </tr> <tr> <td><input type="radio"/></td> <td><input type="radio"/></td> <td><input type="radio"/></td> </tr> </table>				<input type="radio"/>	<input type="radio"/>	<input type="radio"/>	<p>وصف كيفية تغير الفصول مع تغير الطقس</p>
اجتاز	<input type="radio"/>											
لم يجتاز	<input type="radio"/>											
												
<input type="radio"/>	<input type="radio"/>	<input type="radio"/>										
<table border="1"> <tr> <td>اجتاز</td> <td><input type="radio"/></td> </tr> <tr> <td>لم يجتاز</td> <td><input type="radio"/></td> </tr> </table>	اجتاز	<input type="radio"/>	لم يجتاز	<input type="radio"/>	<p>س٧/ أخط الإجابة الصحيحة: المادة التي تأخذ شكل الوعاء الذي توضع فيه هي: (الصلبة - السائلة - الغازية)</p>	<p>تحديد بعض خصائص المادة.</p>						
اجتاز	<input type="radio"/>											
لم يجتاز	<input type="radio"/>											

مديرة المدرسة:




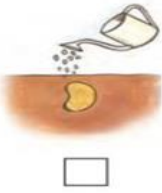







اسم المعلمة:

المشرفة التربوية:

*يرجى الاحتفاظ بالشواهد في ملف خاص بالمعلمة

اختبار تشخيصي مادة العلوم للصف الأول نموذج (٢)

الاسم/

<table border="1"> <tr> <td>اجتاز</td> <td>○</td> </tr> <tr> <td>لم يجتاز</td> <td>○</td> </tr> </table>	اجتاز	○	لم يجتاز	○	<p>س١ / اختر الإجابة الصحيحة: أي مما يلي يحتاج إلى الغذاء والماء والهواء:</p> <div style="display: flex; justify-content: space-around; align-items: center;"> <div style="text-align: center;">  <input type="checkbox"/> </div> <div style="text-align: center;">  <input type="checkbox"/> </div> <div style="text-align: center;">  <input type="checkbox"/> </div> </div>	<p>المقارنة بين المخلوقات الحية الأشياء غير الحية وتصنيفها</p>
اجتاز	○					
لم يجتاز	○					
<table border="1"> <tr> <td>اجتاز</td> <td>○</td> </tr> <tr> <td>لم يجتاز</td> <td>○</td> </tr> </table>	اجتاز	○	لم يجتاز	○	<p>س٢ / أيّ الصور التالية تمثل بذرة:</p> <div style="display: flex; justify-content: space-around; align-items: center;"> <div style="text-align: center;">  <input type="checkbox"/> </div> <div style="text-align: center;">  <input type="checkbox"/> </div> <div style="text-align: center;">  <input type="checkbox"/> </div> </div>	<p>وصف دورة حياة نبات.</p>
اجتاز	○					
لم يجتاز	○					
<table border="1"> <tr> <td>اجتاز</td> <td>○</td> </tr> <tr> <td>لم يجتاز</td> <td>○</td> </tr> </table>	اجتاز	○	لم يجتاز	○	<p>س٣ / صل الحيوان بمكان عيشه :</p> <div style="display: flex; justify-content: space-around;"> <div style="text-align: center;">  <input type="checkbox"/> </div> <div style="text-align: center;">  <input type="checkbox"/> </div> <div style="text-align: center;">  <input type="checkbox"/> </div> <div style="text-align: center;">  <input type="checkbox"/> </div> </div>	<p>وصف مواطن اليابسة.</p>
اجتاز	○					
لم يجتاز	○					
<table border="1"> <tr> <td>اجتاز</td> <td>○</td> </tr> <tr> <td>لم يجتاز</td> <td>○</td> </tr> </table>	اجتاز	○	لم يجتاز	○	<p>س٤ / ضع دائرة حول الإجابة الصحيحة: من مواطن المياه المالحة (المحيط - البحيرة)</p> <div style="text-align: center;">  <input type="checkbox"/> </div>	<p>وصف مواطن الماء</p>
اجتاز	○					
لم يجتاز	○					

س٥ / صل الصورة بما يناسبها:

التعرف على الموارد الطبيعية
ووصفها

اجتاز	<input type="radio"/>
لم يجتاز	<input type="radio"/>



س٦ / أكتب الكلمة المناسبة في الفراغ :

(الصيف - الخريف - الشتاء)



١- أشد الفصول برودة فصل

وصف كيفية تغير
الفصول مع تغير الطقس

اجتاز	<input type="radio"/>
لم يجتاز	<input type="radio"/>

س٧ / أكتب رقم كل عبارة في العمود (أ) أمام ما يناسبها في العمود(ب):

اجتاز	<input type="radio"/>
لم يجتاز	<input type="radio"/>

(ب)	(أ)
 <input type="checkbox"/>	(١) مادة صلبة شكلها ثابت.
 <input type="checkbox"/>	(٢) سوائل تنساب بسرعة.

تحديد بعض خصائص المادة.

مديرة المدرسة:











اسم المعلمة:










المشرفة التربوية:

*يرجى الاحتفاظ بالشواهد في ملف خاص بالمعلمة

اختبار تشخيصي مادة العلوم للصف الأول نموذج (٣)

الاسم/

<table border="1"> <tr> <td>اجتاز</td> <td><input type="radio"/></td> </tr> <tr> <td>لم يجتاز</td> <td><input type="radio"/></td> </tr> </table>	اجتاز	<input type="radio"/>	لم يجتاز	<input type="radio"/>	<p>س١ / اختر الإجابة الصحيحة: أي مما يلي مخلوق حي:</p> <div style="display: flex; justify-content: space-around; align-items: center;"> <div style="text-align: center;">  <p><input type="radio"/></p> </div> <div style="text-align: center;">  <p><input type="radio"/></p> </div> <div style="text-align: center;">  <p><input type="radio"/></p> </div> </div>	<p>المقارنة بين المخلوقات الحية الأشياء غير الحية وتصنيفها</p>
اجتاز	<input type="radio"/>					
لم يجتاز	<input type="radio"/>					
<table border="1"> <tr> <td>اجتاز</td> <td><input type="radio"/></td> </tr> <tr> <td>لم يجتاز</td> <td><input type="radio"/></td> </tr> </table>	اجتاز	<input type="radio"/>	لم يجتاز	<input type="radio"/>	<p>س٢ / حدد جزء النبات الذي ينبت ثم ينمو ويصبح نباتا جديدا:</p> <div style="display: flex; justify-content: space-around; align-items: center;"> <div style="text-align: center;">  </div> <div style="text-align: center;">  </div> <div style="text-align: center;">  </div> </div>	<p>وصف دورة حياة نبات.</p>
اجتاز	<input type="radio"/>					
لم يجتاز	<input type="radio"/>					
<table border="1"> <tr> <td>اجتاز</td> <td><input type="radio"/></td> </tr> <tr> <td>لم يجتاز</td> <td><input type="radio"/></td> </tr> </table>	اجتاز	<input type="radio"/>	لم يجتاز	<input type="radio"/>	<p>س٣ / ضع علامة (✓) تحت الموطن الذي يتميز بكثرة أعشابه:</p> <div style="display: flex; justify-content: space-around; align-items: center;"> <div style="text-align: center;">  <p><input type="checkbox"/></p> </div> <div style="text-align: center;">  <p><input type="checkbox"/></p> </div> <div style="text-align: center;">  <p><input type="checkbox"/></p> </div> </div>	<p>وصف مواطن اليابسة.</p>
اجتاز	<input type="radio"/>					
لم يجتاز	<input type="radio"/>					
<table border="1"> <tr> <td>اجتاز</td> <td><input type="radio"/></td> </tr> <tr> <td>لم يجتاز</td> <td><input type="radio"/></td> </tr> </table>	اجتاز	<input type="radio"/>	لم يجتاز	<input type="radio"/>	<p>س٤ / ضع دائرة حول الإجابة الصحيحة: من مواطن المياه العذبة . (المحيط - البحيرة)</p> <div style="display: flex; align-items: center;"> <div style="margin-right: 20px;">  </div> <div style="font-size: 2em;">←</div> </div>	<p>وصف مواطن الماء</p>
اجتاز	<input type="radio"/>					
لم يجتاز	<input type="radio"/>					

<table border="1"> <tr> <td>اجتاز</td> <td><input type="radio"/></td> </tr> <tr> <td>لم يجتاز</td> <td><input type="radio"/></td> </tr> </table>	اجتاز	<input type="radio"/>	لم يجتاز	<input type="radio"/>	<p>س٥ / اختر الإجابة الصحيحة: من الموارد الطبيعية الحية: (القلم - الحيوانات - الكتاب)</p>	<p>التعرف على الموارد الطبيعية ووصفها</p>						
اجتاز	<input type="radio"/>											
لم يجتاز	<input type="radio"/>											
<table border="1"> <tr> <td>اجتاز</td> <td><input type="radio"/></td> </tr> <tr> <td>لم يجتاز</td> <td><input type="radio"/></td> </tr> </table>	اجتاز	<input type="radio"/>	لم يجتاز	<input type="radio"/>	<p>س٦ / أكتب الكلمة المناسبة في الفراغ: (الخريف - الشتاء) ١ - يصبح الطقس معتدلاً وتتساقط أوراق بعض النباتات في فصل</p>	<p>وصف كيفية تغير الفصول مع تغير الطقس</p>						
اجتاز	<input type="radio"/>											
لم يجتاز	<input type="radio"/>											
<table border="1"> <tr> <td>اجتاز</td> <td><input type="radio"/></td> </tr> <tr> <td>لم يجتاز</td> <td><input type="radio"/></td> </tr> </table>	اجتاز	<input type="radio"/>	لم يجتاز	<input type="radio"/>	<p>س٧ / صل العبارة في العمود (أ) بما يناسبها في العمود(ب):</p> <table border="1"> <thead> <tr> <th data-bbox="359 862 782 918">(ب)</th> <th data-bbox="782 862 1236 918">(أ)</th> </tr> </thead> <tbody> <tr> <td data-bbox="359 918 782 1108">  </td> <td data-bbox="782 918 1236 1518" rowspan="3"> <p>مادة صلبة شكلها ثابت.</p> </td> </tr> <tr> <td data-bbox="359 1108 782 1294">  </td> </tr> <tr> <td data-bbox="359 1294 782 1518">  </td> </tr> </tbody> </table>	(ب)	(أ)		<p>مادة صلبة شكلها ثابت.</p>			<p>تحديد بعض خصائص المادة.</p>
اجتاز	<input type="radio"/>											
لم يجتاز	<input type="radio"/>											
(ب)	(أ)											
	<p>مادة صلبة شكلها ثابت.</p>											
												
												

مديرة المدرسة:

اسم المعلمة:

المشرفة التربوية:

*يرجى الاحتفاظ بالشواهد في ملف خاص بالمعلمة



وزارة التعليم
Ministry of Education



رؤية
VISION 2030
الوزارة
MINISTRY OF EDUCATION
KINGDOM OF SAUDI ARABIA

قياس أداء طالب/ة للصف الأول ابتدائي لمادة العلوم للعام
الدراسي 1443هـ (نموذج 1)

10

اسم الطالب/ة..... الدرجة الكلية

المملكة العربية السعودية
وزارة التعليم
الإدارة العامة للتعليم في منطقة القصيم
الشؤون التعليمية (بنات)
مكتب التعليم جنوب
قسم الصفوف الأولية

4

السؤال الأول:

اختر الإجابة الصحيحة من بين الخيارات الآتية

1. أي من المخلوقات التالية تعتبر من المخلوقات الحية؟

- صخور ○ حيوانات ○ تربة

2. البحار من مواطن المياه..... ويعيش فيها الثدييات والاسماك؟

- المالحة ○ غير المالحة ○ العذبة

3. من خصائص المادة الصلبة انها؟

- شكلها ثابت ○ سريعة الانتشار ○ تأخذ شكل الوعاء

4. أي مما يلي يعتبر من موارد الطبيعة؟



السؤال الثاني

2

ضع اسم كل جزء من أجزاء النبات تحت الصورة المناسبة:

جذور ساق أوراق زهرة

