

تم تحميل وعرض المادة من



موقع مادتي هو موقع تعليمي يعمل على مساعدة المعلمين والطلاب وأولياء الأمور في تقديم حلول الكتب المدرسية والاختبارات وشرح الدروس والملاحظات والتحاير وتوزيع المنهج لكل المراحل الدراسية بشكل واضح وسهل مجاناً بتصفح وعرض مباشر أونلاين وتحميل على موقع مادتي

حمل تطبيق مادتي ليصلك كل جديد





اختبار الفترة الأولى (الفصل الدراسي الثاني)

اسم الطالبة : المادة : رياضيات الصف : الأول الابتدائي

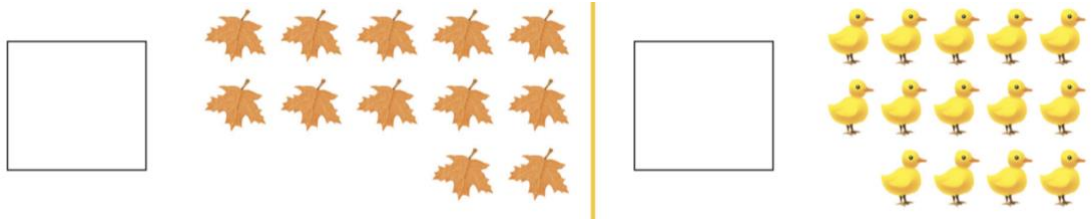
2

السؤال الأول: أكتبي عدد الأشكال في الفراغ :




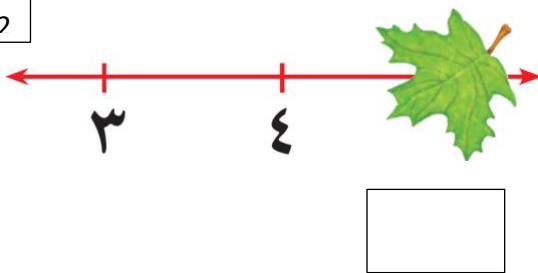
2

السؤال الثاني : أكتبي عدد الأشكال في كل مجموعة ، ثم ضعي دائرة على المجموعة الأكبر




2

السؤال الثالث : أكمل خط الأعداد بكتابة العدد المغطى بورق الشجر :



1

كم عدد العصافير في الصورة ؟



عَصَافِيرَ

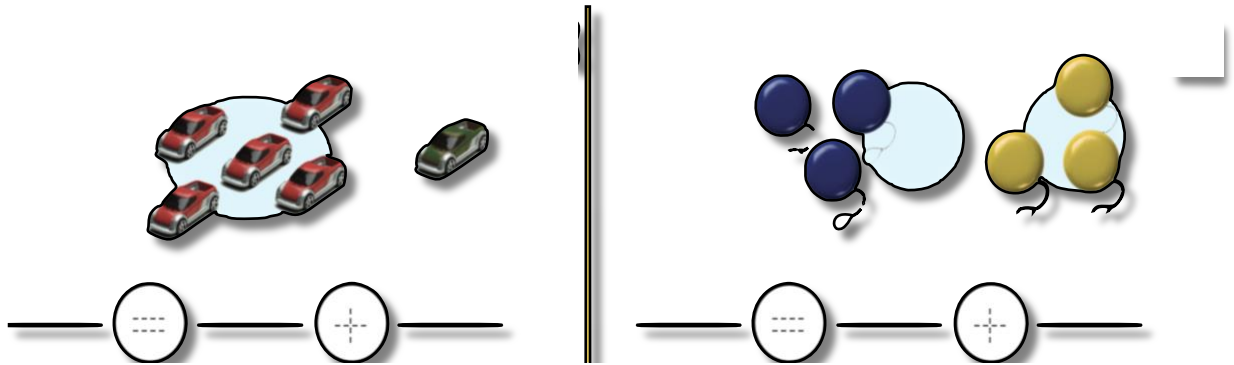
1

السؤال الخامس : أوجدني مجموع الأجزاء

جزء	جزء
١	٢
الكُلُّ	
.....	

2

السؤال السادس : أوجدني جملة الجمع للأشكال التي أمامك



أثق بملكن صغيراتي ...

مديرة المدرسة :
أ.وفاء القرعان

المعلمة الأولى للصفوف المبكرة :
أ.منى المويزى


معلمة المادة : نورة البشري

اسم الطالبة :



- اكملي العد:

										١٠
--	--	--	--	--	--	--	--	--	--	----


- اكتبى العدد المناسب:



- اكتبى كل عدد ثم احيطى العدد الأكبر:



- اكتبى العدد المفقود:



- احيطى الشكل التالي فى النمط المعطى:



نموذج الاجابة


اسم الطالبة :

- اكملي العد :

.	١	٢	٣	٤	٥	٦	٧	٨	٩	١٠
---	---	---	---	---	---	---	---	---	---	----


- اكتبى العدد المناسب :

١٥



- اكتبى كل عدد ثم احيطى العدد الأكبر :

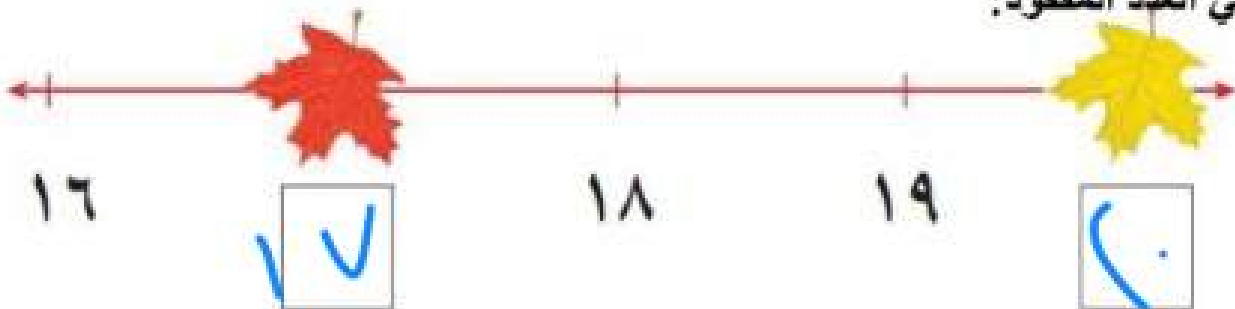
٢



١٤



- اكتبى العدد المفقود :



- احيطى الشكل التالي فى النمط المعطى :

