

تم تحميل وعرض المادة من



موقع مادتي هو موقع تعليمي يعمل على مساعدة المعلمين والطلاب وأولياء الأمور في تقديم حلول الكتب المدرسية والاختبارات وشرح الدروس والملاحظات والتحاير وتوزيع المنهج لكل المراحل الدراسية بشكل واضح وسهل مجاناً بتصفح وعرض مباشر أونلاين وتحميل على موقع مادتي

حمل تطبيق مادتي ليصلك كل جديد



الاختبار الفترتي لمادة العلوم / الصف الثاني / الفصل الثاني

5

السؤال الأول :

اختاري الإجابة الصحيحة مما بين القوسين :

١- تربة تحتوي على الكثير من بقايا النباتات والحيوانات .	١- (الدبال)	٢- (الصخور)
٢- خليط من فتات الصخور وقطع من بقايا الحيوانات والنباتات الميتة .	١- (المعدن)	٢- (التربة)
٣- النباتات والماء والصخور والمعادن أمثلة على .	١- (الموارد الطبيعية)	٢- (الموارد الصناعية)
٤- التربة هي أفضل أنواع التربة للزراعة .	١- (الرملية)	٢- (السطحية)
٥- هي أجزاء صلبة غير حية تتكون منها الصخور .	١- (المعادن)	٢- (النباتات)

5

السؤال الثاني :

ضعي علامة √ أمام العبارة الصحيحة وعلامة X أمام العبارة الخاطئة :

- ١- الجبل هي أرض مرتفعة شديدة الانحدار. ()
- ٢- المحيط تجمع كبير وعميق من الماء المالح. ()
- ٣- يوجد الماء العذب في الثلوج والأنهار. ()
- ٤- الوادي أرض منخفضة تقع بين مرتفعين. ()
- ٥- الفلوريت معدن يستخدم في صنع معجون الأسنان. ()

الدرجة المستحقة:

10

مع تمنياتي لكم بالتوفيق
المعلمة : هندة فرحان العززي

المادة : العلوم الصف : الثاني الابتدائي الزمن : ٤٥ دقيقة	 وزارة التعليم Ministry of Education	المملكة العربية السعودية وزارة التعليم الإدارة العامة للتعليم بمنطقة ابتدائية مكتب التعليم
--	---	--

- ١ - تتكون الكرة الأرضية من :
- ثلاث أغلفة - أربع أغلفة - خمس أغلفة - ست أغلفة
- ٢ - من أشكال اليابسة التي نعيش عليها :
- سهولاً منبسطة - ودياناً منخفضة - جبلاً وتلالاً مرتفعة - كل ذلك صحيح
- ٣ - مناطق مرتفعة ولكنها أقل ارتفاعاً من الجبال :
- السهول - التلال - الجبال - الأنهار
- ٤ - تسمى الأجزاء الكبيرة من اليابسة :
- جزيرة - سهول - وديان - قارات
- ٥ - توجد معظم مياه الأرض في :
- المحيطات - البحار - الأنهار - البحيرات
- ٦ - يغطي الماء من الأرض :
- الربع - النصف - ثلاثة أرباع - الثلث
- ٧ - يأتي الماء الجاري في الأنهار والجداول من ذوبان الثلوج على :
- الآبار - الجبال - البحار - الأشجار
- ٨ - الأجزاء الصلبة غير الحية من الأرض هي :
- الأشجار - الماء - الصخور - الهواء
- ٩ - خليط من فئات الصخور وبقايا النباتات والحيوانات الميتة :
- الصخور - التربة - الدبال - الماء
- ١٠ - نباتات وحيوانات متحللة في التربة :
- الصخور - التربة - الدبال - الماء
- ١١ - أجزاء غير حية تتكون منها الصخور :
- الخشب - الماء - التربة - المعادن
- ١٢ - النبات والماء والصخور والمعادن أمثلة على :
- التربة - المعادن - الدبال - الموارد الطبيعية
- ١٣ - تعد الطبقة السطحية من التربة الأفضل لنمو النباتات لأنها تحتوي على :
- المعادن - الهواء في حبيباتها - صخور مفتتة - بقايا نباتات وحيوانات متحللة

اسئلة اختبار منتصف الفصل (الفترة) لمادة العلوم للصف الثاني ابتدائي
الفصل الدراسي الثاني ١٤٤٤ هـ

١٠

الاسم: الشعبة:

السؤال الأول : اختاري الإجابة الصحيحة من بين الخيارات التالية :

المهارة : تسمية بعض اشكال اليابسة		
١- من اشكال اليابسة		
الانهار	البحيرات	الجبال
المهارة : تعداد بعض مصادر الماء على الارض		
٢- من مصادر الماء على الارض		
الجبال	التلال	المحيطات
المهارة : معرفة مفهوم (الصخور – المعادن)		
٣- أجزاء صلبة غير حية تتكون منها الصخور		
الصخور	المعادن	التربة
المهارة : تعداد بعض الأنواع المختلفة من التربة		
٤- نوع من أنواع التربة يحتفظ بالماء اكثر		
التربة الطينية	التربة الداكنة	التربة الرملية
المهارة : ذكر سبب حدوث الليل والنهار		
٥- سبب حدوث الليل والنهار هو		
دوران الارض	دوران الشمس	دوران القمر

انتهت الأسئلة
مع تمنياتي لك بالتوفيق

المعلمة : نوره محمد الشهراني

اسم الطالب الثلاثي :		المملكة العربية السعودية وزارة التعليم
شعبة		علوم الصف الثاني السؤال الأول

المعادن -
الموارد الطبيعية -
الدهال

اكمل الجمل التالية باستخدام الكلمة المناسبة


- ١- تربة تحوي الكثير من بقايا النباتات والحيوانات
- ٢- أجزاء صلبة غير حية تتكون منها الصخور
- ٣- النباتات والماء والصخور والمعادن أمثلة على

السؤال الثاني : صل كل صورة بما يناسبها ؟

تربة طينية

تربة رملية

تربة زراعية



اسم الطالب الثلاثي :	2030	المملكة العربية السعودية وزارة التعليم
شعبة		علوم الصف الثاني السؤال الاول

اكمل الحمل التالية باستخدام الكلمة المناسبة







المعادن -
الموارد الطبيعية -
الدبال

١-... تربة تحوي الكثير من بقايا النباتات والحيوانات **الدبال**

٢-... أجزاء صلبة غير حية تتكون منها الصخور **المعادن**

٣- النباتات والماء والصخور والمعادن أمثلة على .. الموارد الطبيعية

السؤال الثاني : صل كل صورة بما يناسبها ؟

تربة طينية	
تربة رملية	
تربة زراعية	
	الجرانيت
	المجاثيت
	الكترواز

اختبار مادة العلوم للصف الثاني الابتدائي - منتصف الفصل الدراسي الثاني

٥

اكتب كل كلمة مما يأتي في الفراغ المناسب :

(الجبل - الوادي - التلال - السهل) - في الأرض

١ - منطقة مُنْبَسِطَةٌ وَوَاسِعَةٌ (.. السهل)

 ٢ - منطقة مُرْتَفَعَةٌ جِدًّا مِنَ الْيَابِسَةِ (..... **الجبل**)

 ٣ - مَنَاطِقٌ مُرْتَفَعَةٌ وَ لَكِنْ أَقْلَ ارْتِفَاعًا مِنَ الْجِبَالِ (.. **التلال** ..)

 ٤ - أَرْضٌ مُنْخَفِضَةٌ بَيْنَ الْجِبَالِ (..... **الوادي**)

 ٥ - النَّبَاتَاتُ وَ الصُّخُورُ مِنَ الْمَوَارِدِ الطَّبِيعِيَّةِ (..... **في الأرض**)

٥

أَضِعْ عَلَامَةَ (✓) أَوْ عَلَامَةَ (✗) :

١ - تَسْتَطِيعُ الْحَيَوَانَاتُ الشَّرْبَ مِنْ مَاءِ الْبَحْرِ (✓)

٢ - الدُّبَالُ ضَارٌّ لِلنَّبَاتَاتِ (✗)

٣ - عِنْدَ النَّظَرِ إِلَى الْأَرْضِ مِنَ الْفُضَاءِ يَبْدُو الْمَاءُ بِاللُّوْنِ الْأَزْرَقِ (✓)

٤ - يُمَكِّنُ لِلْأَسْمَاكِ أَنْ تَعِيشَ خَارِجَ الْمَاءِ (✗)

٥ - مِنْ مَصَادِرِ الْمَاءِ الْعَذْبِ الْآبَارُ (✓)



قياس أداء طالب/ة للصف الثاني الابتدائي لمادة العلوم للعام الدراسي 1443هـ (الاختبار البعدي) ن (2)

	اسم الطالب/ة:
	الصف/.....
10	المدرسة/.....

3

❖ السؤال الأول :

✗ أكمل الجمل بما يناسبها من الكلمات التالية (دورة الحياة - يرقة - أرنب)

- يسمى صغير الفراشة.....
- تبين.....كيف ينمو المخلوق الحي ويتغير.
- السلسلة الغذائية (شمس - جزر - - ثعلب)

2

❖ السؤال الثاني:

ضعي علامة (✓) أمام العبارة الصحيحة وعلامة (x) أمام العبارة الصحيحة :

- 1- يوجد الماء العذب في المحيط (.....)
- 2- يطلق على الشمس اسم النجم الحار المتوهج (.....)
- 3- سبب حدوث الليل والنهار دوران الأرض حول محورها (.....)
- 4- الغابة المطيرة موطن تسقط فيه الأمطار كل يوم تقريباً (.....)

2

❖ السؤال الثالث :

✗ إختار الإجابة الصحيحة :

- 1- الكواكب والأقمار والشمس تشكل (النظام الشمسي - الكواكب - الأرض)
- 2- نظامنا الشمسي فيه (ستة كواكب - سبعة كواكب - ثمانية كواكب)
- 3- خليط من فتات الصخور وبقايا النباتات والحيوانات الميتة (التربة - الصخور - المعادن)

*سبب حدوث الليل والنهار

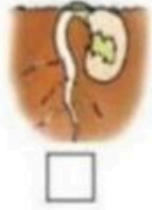
دوران الأرض حول الشمس

دوران الأرض حول محورها

دوران الكواكب

السؤال الرابع:

أرتب الصور التالية بحيث تظهر دورة حياة نبات الفاصوليا، استخدم الأرقام من ١-٤:



انتهت الأسئلة بالتوفيق للجميع

الصف : الثاني ابتدائي		المملكة العربية السعودية وزارة التعليم مكتب التعليم بمحافظة مكتب الفيحاء الطفولة المبكرة بإبتدائية ٦٢
الفصل الدراسي الثاني		
المادة : علوم		
اسئلة تقييم مادة العلوم للصف الثاني الابتدائي (الفصل الدراسي الثاني)		

اسم الطالبة : _____

رقم المعيار	مسمى المعيار	متقن		
		متفوق %١٠٠	متقدم %٩٠ الى اقل من %١٠٠	متمكن %٨٠ الى اقل من %٩٠
غير متقنة	غير مجتاز اقل من ٨٠ %			
١	تسمية بعض أنواع اليابسة			
٢	تعداد بعض مصادر الماء على الأرض			
٤	مفهوم الصخور والمعادن			

السؤال الأول : من خلال الصور التالية نحدد أشكال اليابسة (وادي - جبال - صحراء) :



السؤال الثاني : نصل بين المفردة والعبارة المناسبة لها :

أشياء غير حية موجودة في الأرض
أجزاء غير حية تتكون منها الصخور
تجمع كبير وعميق من الماء المالح
ماء غير مالح مياه البحيرات والانهار والعيون

ماء عذب
المحيط
الصخور
المعادن