

تم تحميل وعرض المادة من



موقع مادتي هو موقع تعليمي يعمل على مساعدة المعلمين والطلاب وأولياء الأمور في تقديم حلول الكتب المدرسية والاختبارات وشرح الدروس والملاحظات والتحاير وتوزيع المنهج لكل المراحل الدراسية بشكل واضح وسهل مجاناً بتصفح وعرض مباشر أونلاين وتحميل على موقع مادتي

حمل تطبيق مادتي ليصلك كل جديد



نموذج تدريب الطلاب على الاختبارات الوطنية (نافس)
الصف الثالث الابتدائي

			اسم الطالب
	الدرجة من ٣٠		المدرسة

مستعينا بالله احب على جميع الأسئلة وعددها (٣٠) سؤال

قسم الرياضيات

س ١	اكتب العدد المناسب في <input type="text"/> (٢٥، <input type="text"/> ، ١٥، ١٠، ٥)						
أ	٥	ب	٢٠	ج	٣٠	د	٥٠

س ٢	حدد اسم منزلة الرقم الذي تحته خط في العدد ٦٧٤٣٨						
أ	العشرات	ب	المئات	ج	الألوف	د	عشرات الألوف

س ٣	اختر الرمز المناسب من الرموز (= ، > ، <) للمقارنة بين ٩٣١ <input type="text"/> ٨٧٥						
أ	<	ب	>	ج	=	د	+

س ٤	أوجد ناتج الجمع = ٥٦ + ٣٨						
أ	٤٨	ب	٨٤	ج	٤٩	د	٩٤

س ٥	اكتب العدد المناسب في الفراغ (٢ + <input type="text"/> = ٩ + ٢)						
أ	٢	ب	٦	ج	٩	د	١١


س ٦	أوجد ناتج الجمع						
$\begin{array}{r} 103 \\ 879 + \\ \hline \end{array}$							
أ	٨٨٢	ب	٩٨٢	ج	٨٩٢	د	٩٢٨

س ٧	أوجد ناتج الطرح = ١٣٧ - ٥٠٠						
أ	٣٦٣	ب	٣٧٣	ج	٤٣٧	د	٤٦٣

س ٨	أوجد ناتج الطرح						
$\begin{array}{r} 45 \\ 28 - \\ \hline \end{array}$							
أ	٧٣	ب	٤٧	ج	٣٧	د	١٧

س ٩	أوجد ناتج الضرب = ٨ × ٤						
أ	١٢	ب	٢٤	ج	٣٢	د	٣٦

س ١٠	أوجد ناتج القسمة = ٥ ÷ ٣٥						
أ	٧	ب	٥	ج	٤	د	٣

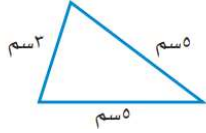
س ١١	الوقت الذي تشير إليه ساعة العقارب المجاورة						
							
أ	٦:١٢	ب	٦:٢٢	ج	٧:١٢	د	٧:٢٢

س ١٢				الكسر الذي يمثله الجزء المضلل في الشكل المجاور			
أ		ب		ج		د	
$\frac{1}{5}$		$\frac{1}{8}$		$\frac{3}{8}$		$\frac{5}{8}$	




س ١٣				اختر الوحدة الأنسب لقياس طول قلم الرصاص			
أ		ب		ج		د	
الملمتر (ملم)		السنتيمتر (سم)		المتر (م)		الكيلومتر (كلم)	

س ١٤				أوجد محيط المثلث المجاور			
أ		ب		ج		د	
١٣ سم		١٤ سم		١٥ سم		١٦ سم	



س ١٥				حدد اسم الجسم في الشكل المجاور			
أ		ب		ج		د	
هرم		أسطوانة		مخروط		كرة	



قسم القراءة

" لم يبق إلا يوم واحد " الكلمة التي فيها مد هي :								١٦
أ	ب	لم	ج	واحد	د	يوم		

الترتيب الصحيح لهذه الكلمات : " المستقبل ، عبادة ، وهو ، طريق ، العمل " :								١٧
أ	وهو المستقبل العمل طريق العبادة	ب	طريق العمل عبادة المستقبل	ج	العمل عبادة وهو طريق المستقبل	د	عبادة المستقبل وهو طريق العمل	

حرف السين الذي يناسب بداية الكلمة التالية : ...فِينَة :								١٨
أ	س	ب	س	ج	س	د	س	

عندما نحول كلمة " رجل " إلى معرفة فإننا نقول :								١٩
أ	أرجل	ب	رجلان	ج	الرجل	د	رجال	

مَعْنَى كَلِمَةِ " العبرة " :								٢٠
أ	الكلام الجميل	ب	العظة والدرس	ج	الكلام المضحك	د	السخرية والاستهزاء	

نوع الهمزة في كلمة " اكتمل " :								٢١
أ	همزة قطع	ب	همزة متوسطة	ج	همزة متطرفة	د	همزة وصل	

" رجع الحجاج غير حاج واحد " يُسمى هذا الأسلوب :								٢٢
أ	أسلوب تعجب	ب	أسلوب استثناء	ج	أسلوب أمر	د	أسلوب استفهام	

ضد كلمة (قوي) :								٢٣
أ	شديد	ب	ضعيف	ج	غليظ	د	خفيف	

اختار الحرف المناسب لإكمال الكلمة التالية " ميا... " :								٢٤
أ	ه	ب	ة	ج	ه	د	ت	

كلمة " موز " تبدأ بحرف :								٢٥
أ	ن	ب	و	ج	م	د	ز	

الحركة التي تسبق حرف المد في كلمة (طيارا) هي :							٢٦
أ	الفتحة	ب	الكسرة	ج	الضمة	د	الشدّة مع الفتحة

اسم الإشارة المناسب لكلمة (سبورة) هو :							٢٧
أ	هذا	ب	هاذان	ج	هذه	د	هاتان

اسمُ الْمَكَانِ مِنَ الْفِعْلِ (نَزَلَ) :							٢٨
أ	يَنْزِلُ	ب	نَازِلٌ	ج	مَنْزِلٌ	د	نَزَالٌ

المعنى الصحيح لكلمة (صنعا) هو :							٢٩
أ	فكرة	ب	قولا	ج	عملا	د	جميع ما سبق

مَا أَجْمَلَ الْأَزْهَارَ (...) عَلامَةُ التَّرْفِيمِ الْمُنَاسِبَةِ :							٣٠
أ	تَعَجُّبٌ (!)	ب	اسْتِيفْهَامٌ (؟)	ج	فَاصِلَةٌ (،)	د	نُقْطَةٌ (.)

انتهت الأسئلة مع تمنياتنا لكم بالتوفيق، ، ،

(اختبار رياضيات الثالث الابتدائي)

٥ : ١ كجم من الإسفنج ١ كجم من الحديد :

أ >

ب <

ج =

د الإسفنج ليس له كتلة

٦ : معك اليوم ٢٠ ريالاً، وقد كان معك أمس ربع هذا العدد زائداً

اثنين، فكم كان معك بالأمس؟

أ ٥

ب ٧

ج ٩

د ١٠

٧ : إذا كان مع أحمد ١٠ أوراق نقدية من فئة ١٠ ريالات فإن المبلغ

الذي مع أحمد بالريال هو:

أ ١٠٠

ب ٨٠

ج ٤٠

د ١٠

٨ : عندما يلتقيان عقربي الساعات والدقائق عند الرقم (١٢) فإن القراءة

الصحيحة لهذه الساعة هي:

أ الثانية عشر تماماً

ب الثانية عشر والرابع

ج الثانية عشر إلا ربع

د الثانية عشر والنصف

١ : مبنى ارتفاعه ٢٧ متراً، كم عدد طوابقه إذا كان ارتفاع كل طابق فيه ٣ أمتار؟

أ ٩

ب ٧

ج ٣

د ٥

٢ : المسألة التي أحلها لأتحقق من أن: $٧٠ \div ١٠ = ٧$ هي:

أ $٧ - ١٠ =$

ب $٧ \times ٧٠ =$

ج $١٠ \times ٧ =$

د $١٠ + ٧ =$

٣ : مع خالد ٣٢ ريالاً، ويرغب في شراء لعبة ثمنها ٨٠ ريالاً، إذا

وفر كل أسبوع ٨ ريالات، فبعد كم أسبوع يستطيع أن يشتري

اللعبة؟

أ ٤

ب ٥

ج ٦

د ١٠

٤ : يسمى طول الإطار الخارجي لشكل ما ب:

أ المساحة

ب المحيط

ج السعة

د الكتلة

(اختبار رياضيات الثالث الابتدائي)

١٣: العددان التاليان في النمط (٢، ٥، ٨، ١١، ١٤، ...) هما:

- أ ١٨، ١٦
ب ١٩، ١٦
ج ١٩، ١٧
د ٢٠، ١٧

١٤: عدد عندما أقربه إلى أقرب مئة يكون الناتج ٤٠٠، هذا العدد هو:

- أ ٣٠١
ب ٣٤٩
ج ٤٠١
د ٥٢٢

١٥: يكتب العدد سبعة وتسعون ألفاً وخمسة مئة واثنان وأربعون بالصيغة القياسية:

- أ ٩٧٠٤٢
ب ٩٧٥٠٠
ج ٩٧٥٤٠
د ٩٧٥٤٢

٩: إذا أكل فهد ٤ قطع من بيتزا مقسمة إلى ٥ قطع متطابقة، فإن

الكسر الذي يُمثل القطع المتبقية من البيتزا يسمى:

- أ نصف
ب خمس
ج ربع
د ثلث

١٠: إذا كان غداً هو يوم الثلاثاء فإن يوم أمس هو:

- أ الأحد
ب الاثنين
ج الأربعاء
د الخميس

١١: العدد الأكبر من الأعداد التالية: ٤٥٠، ٤٠٥، ٥٤٠، ٥٠٤ هو:

- أ ٤٥٠
ب ٤٠٥
ج ٥٤٠
د ٥٠٤

١٢: العدد (٧٠١) يكتب:

- أ مئة وسبعة
ب سبع مئة وعشرة
ج مئة وسبعون
د سبع مئة وواحد

نموذج تدريب

الصف الثالث الابتدائي

اختبار القراءة - الثالث ابتدائي

نموذج ٠١

النص الأول: بيتي النظيفة

في أحد الأيام خرجت عائلة محمد في رحلة إلى حديقة عامة، لعب محمد وإخوته فيها وتناولوا وجبة العشاء، ثم عادوا إلى منزلهم بعد صلاة العصر، تاركين خلفهم -للأسف- نفاياتهم في الحديقة، دون أن يفكر أحد منهم بأن يزيج النفايات في سلة المهملات، ولم يفكروا أيضًا بأن تلك القاذورات قد تؤذي شخصًا آخر أو تؤذي البيئة.

وفي ذات اليوم ذهبت عائلة إبراهيم الحديقة نفسها، وفيما كان إبراهيم يلعب مع أخته سلمى صرخت سلمى بصوت عالٍ: رُجاجة في قدي! سميع الوالدان صراخ ابنتيهما، فركضا نحوها، وتفاجأ بوجود رُجاجة كبيرة شقت قدمها، فحملوها إلى المستشفى، وتحوّلت نزهة عائلة إبراهيم إلى حادثة أفستت فرحتهم.

بعد قراءتك للنص السابق أجب عن الأسئلة التالية (من ١-١٠)، وذلك باختيار الإجابة الصحيحة:

متى ذهبت عائلة محمد إلى الحديقة العامة؟				
١	أ	ليلاً.	ب	عصرًا.
		ج	ظهرًا.	د
				مساءً.

البيئة هي :				
٢	أ	كل ما يحيط بنا.	ب	النباتات.
		ج	البشر.	د
				النفايات.

"ثم بعد صلاة العصر" علام تدل هذه الجملة؟				
٣	أ	زمن.	ب	مكان.
		ج	شخصية.	د
				مشكلة.

"سمع الوالدان صراخ ابنتهما فركضا نحوها" ما شعور الوالدين؟				
٤	أ	فرح.	ب	تعجب.
		ج	خوف.	د
				اطمئنان.

نموذج ٠١

اختبار القراءة - الثالث ابتدائي

٥	أ	ساعة.	ب	صلاة.	ج	شروق.	د	غروب.
ما التوقيت المستخدم في القصة؟								
٦	أ	إبراهيم.	ب	محمد.	ج	سلمى نفسها.	د	عائلة محمد.
من المتسبب في حادثة سلمى؟								
٧	أ	تطلب المساعدة من الكبار.	ب	تخفي الزجاج تحت التراب.	ج	تركه كما هو.	د	تصرخ بصوت عال.
في حال خروجك للنزهة ورؤيتك للزجاج المكسور، ماذا ستفعل؟								
٨	أ	غير مبالٍ.	ب	مسؤول.	ج	عاقل.	د	مجرم.
يصنف سلوك عائلة محمد على أنه:								
٩	أ	حديقتنا الحزينة.	ب	يوم في المشفى.	ج	عائلة إبراهيم.	د	لتكن بيئي نظيفة.
من خلال قراءتك للنص، ما العنوان الأنسب للقصة؟								
١٠	أ	التنزة في الحدائق.	ب	مساعدة الآخرين.	ج	المحافظة على البيئة.	د	التعرف على عائلة إبراهيم.
إنّ الهدف من القصة هو:								

اختبار القراءة - الثالث ابتدائي

نموذج ٠١

النص الثاني: قصة العصفورين الصغيرين

في يوم عاصفٍ من أيام الشتاء التقى عصفوران صغيرانِ على عُصْنِ شَجَرَةٍ زَيْتُونٍ كَبِيرَةٍ، وَالشَّجَرَةُ الضَّخْمَةُ كَانَتْ ضَعِيفَةً وَلَا تَكَادُ تَقْوَى عَلَى مُوَاجَهَةِ الرِّيحِ.
 انْتَفَضَ العُصْفُورُ الأَوَّلُ وَقَالَ: لَقَدْ مَلَلْتُ الإِنْتِقَالَ مِنْ مَكَانٍ إِلَى آخَرَ، مَا أَنْ نَعْتَادُ عَلَى مَسْكَنِ وَدِيَارٍ حَتَّى يُدَاهِمُنَا البَرْدُ وَالشَّتَاءُ، فَنَضْطَرُّ لِلرَّحِيلِ مَرَّةً أُخْرَى.
 ضَحِكَ العُصْفُورُ الثَّانِي، وَقَالَ بِسُخْرِيَّةٍ: مَا أَكْثَرَ تَدْمُوكَ! نَحْنُ هَكَذَا مَعَشَرَ الطُّيُورِ، خُلِقْنَا لِلإِزْتِحَالِ الدَّائِمِ.
 قَالَ الأَوَّلُ: لَكُمْ وَدَدْتُ أَنْ يَكُونَ لِي مَنزِلٌ دَائِمٌ، وَعُنْوَانٌ لَا يَتَغَيَّرُ.
 سَكَتَ قَلِيلًا قَبْلَ أَنْ يُتَابِعَ كَلَامَهُ: تَأَمَّلْ هَذِهِ الشَّجَرَةَ، أَعْتَقِدُ أَنَّ عُمُرَهَا أَكْثَرَ مِنْ مِئَةِ عَامٍ، جُدُورُهَا رَاسِخَةٌ كَأَنَّهَا جُزْءٌ مِنَ المَكَانِ، رُبَّمَا لَوْ نُقِلْتُ إِلَى مَكَانٍ آخَرَ لَمَاتَتْ عَلَى القُورِ.
 قَالَ العُصْفُورُ الثَّانِي: عَجَبًا لِتَفْكِيرِكَ، أَتُقَارِنُ العُصْفُورَ بِالشَّجَرَةِ؟ أَنْتَ تَعْرِفُ أَنَّ لِكُلِّ مَخْلُوقٍ مِنْ مَخْلُوقَاتِ اللهِ طَبِيعَةً خَاصَّةً تُمَيِّزُهُ عَنِ غَيْرِهِ، نَحْنُ مَعَشَرَ الطُّيُورِ مُنذُ أَنْ خَلَقَنَا اللهُ نَطِيرُ وَنَتَنَقَّلُ عَبْرَ الغَابَاتِ، وَالبِحَارِ، وَالجِبَالِ لَمْ نَعْرِفْ فِي عُمُرِنَا القَيُودَ إِلا إِذَا حَبَسْنَا الإِنْسَانَ فِي قَفْصٍ، وَظَنَّنَا هَذَا القَضَاءَ الكَبِيرَ، وَالكُونُ كُلَّهُ لَنَا، ثُمَّ التَفَّتْ فَرَأَى سَحَابَةً سَوْدَاءَ تَقْتَرِبُ بِسُرْعَةٍ نَحْوَهُمَا، فَخَافَ العُصْفُورَانِ خَوْفًا سَدِيدًا، وَبَسَطَ كُلُّ وَاحِدٍ مِنْهُمَا جَنَاحَيْهِ، وَانْطَلَقَا مِثْلَ السَّهْمِ مَدْعُورَيْنِ لِيَلْحَقَا بِسَرِيحِهِمَا.
 بعد قراءتك للنص السابق أجب عن الأسئلة التالية (من ١١-٢٠)، وذلك باختيار الإجابة الصحيحة:

الشجرة التي وقف عليها العصفوران:			
١١	أ التين.	ب الزيتون.	ج العنب.
		د الليمون.	
(تأمل هذه الشجرة) هذا الأسلوب يدل على:			
١٢	أ الأمر.	ب النهي.	ج الدعاء.
		د التمني.	
شعر العصفوران بالخوف الشديد بسبب:			
١٣	أ الفضاء.	ب العواصف والأمطار.	ج الطيران.
		د الشجرة الضخمة.	

نموذج ٠١

اختبار القراءة - الثالث ابتدائي





١٤	أ	الجبل.	ب	المطر.	ج	السهم.	د	البحر.
انطلاقة العصفورين بعد ما شعرا بالخوف تشبه:								
١٥	أ	الاستفهام.	ب	التعجب.	ج	التوقف.	د	التعداد.
تدل علامة التقييم في عبارة: "أتقارن العصفور بالشجرة؟" على:								
١٦	أ	شجار العصفورين.	ب	تجاوز العصفورين.	ج	خوف العصفورين.	د	التقاء العصفورين.
أيُّ الأحداث حصل أولاً:								
١٧	أ	تذمر.	ب	سخرية.	ج	قهر.	د	ذنب.
جملة "لقد مللت الانتقال..." بم يشعر العصفور؟								
١٨	أ	١٠٠ عام.	ب	٥٠ عام.	ج	٧٠ عام.	د	٣٠ عام.
قَدَّر العصفور أن عمر الشجرة ما يقارب:								
١٩	أ	متنقلة ومتغيرة.	ب	سطحية ومنتشرة.	ج	صغيرة وضعيفة.	د	ثابتة وعميقة.
"جذورها راسخة" كلمة (راسخة) تعني أنها:								
٢٠	أ	الغيوم بالمطر.	ب	الجبال بالشجر.	ج	العصفور بالشجرة.	د	نفسه بصديقه.
تعجب العصفور من صديقه لأنه قارن:								

انتهى الاختبار

٥ من ٥

المادة رياضيات الصف الثالث الابتدائي





١ أي الأشكال الآتية يمثل أسطوانة.

أ		ب		ج		د	
---	---	---	---	---	---	---	---

٢ أي الأشكال التالية أنسب لوصف مجسم جميع أوجهه مربعة الشكل.

أ	المكعب	ب	المخروط	ج	الكرة	د	الهرم
---	--------	---	---------	---	-------	---	-------

٣ أي الأشكال التالية ليس له محور تماثل.

أ		ب		ج		د	
أ	٥	ب	٤	ج	٦	د	٣

٤ الشكل المستوي له

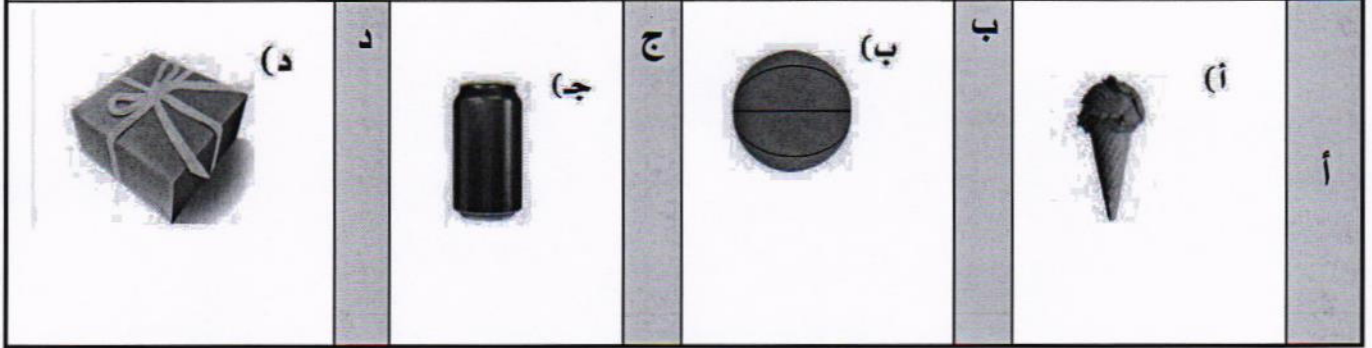
أ	طول فقط	ب	عرض فقط	ج	طول وعرض	د	طول وعرض وارتفاع
---	---------	---	---------	---	----------	---	------------------

٥ مُضَلَّعٌ لَهُ ٦ أَضْلَاعٍ، وَ ٦ زَوَايَا، مَاذَا أُسْمِيَ هَذَا
الْمُضَلَّعُ؟

أ	سداسي	ب	خماسي	ج	رباعي	د	ثمانى
---	-------	---	-------	---	-------	---	-------

المادة رياضيات الصف الثالث الابتدائي

٦ أي مايلي يمثل مخروطاً ؟



٧- أختار الوحدة الأنسب لقياس سعة حوض اسماك:

أ- ل ب- ملل ج- كلم د- سم

٨- مجسم له وجهان دائريان هو:

أ- مكعب ب- أسطوانة ج- هرم د- مخروط

٩- صندوق فيه ١٠ كرات ؛ واحدة منها فقط زرقاء ، صف احتمال اختيار كره زرقاء :

أ- أكثر احتمالاً ب- أقل احتمالاً ج- مستحيل د) اكيد

١٠- أجد محيط الشكل التالي ٢ سم سم ٢ سم :

أ- ٤ سم ب- ٢٠ سم ج- ١٥ سم د) ٢٥ سم