

تم تحميل وعرض المادة من



موقع مادتي هو موقع تعليمي يعمل على مساعدة المعلمين والطلاب وأولياء الأمور في تقديم حلول الكتب المدرسية والاختبارات وشرح الدروس والملاحظات والتحاظير وتوزيع المنهج لكل المراحل الدراسية بشكل واضح وسهل مجاناً بتصفح وعرض مباشر أونلاين وتحميل على موقع مادتي

حمل تطبيق مادتي ليصلك كل جديد



ضع علامة (√) امام العبارة الصحيحة وعلامة (x) امام العبارة الخاطئة ؟

1	تقع دول مجلس التعاون الخليجي في الجزء الجنوبي الشرقي من قارة آسيا	x
2	من أهم نتائج التزام المواطن السعودي بالأنظمة (تحمل المسؤولية)	√
3	النظام هو قواعد واحكام ملزمة	√
4	تنخفض درجات الحرارة كلما ارتفعنا عن مستوى سطح البحر	√
5	ينقسم الغلاف الجوي الى 8 طبقات	x
6	في وطني المملكة العربية السعودية براكين قديمة	√
7	تأسس وأنشئ مجلس التعاون الخليجي عام 1401هـ / 1981م	√
8	تقاس الزلازل بالترموتر	x
9	تقع المملكة العربية السعودية في اقليم الصحاري الحارة الجافة	√
10	تمتلك دول مجلس التعاون موارد اقتصادية لها تأثير اقتصادي كبير على مستوى العالم	√

علل (بم تفسر) لما يأتي ؟

1/ تعد درجة الحرارة أهم عناصر المناخ .

لأنها تؤثر في بقية العناصر الأخرى

2/ شهدت دول مجلس التعاون الخليجي نموا سكانيا كبيرا في العقود الأخيرة

زيادة الموارد الاقتصادية و تحسن وتطور الخدمات الصحية و توفر فرص العمل

3/ صدور الانظمة في المجتمع :

للحماية والمحافظة على الفرد والمجتمع ومعالجة المشكلات المجتمعية

4/ عبث المصطافين والمتنزهين بمناطق النباتات الطبيعية يؤدي للتصحر :

لأنه بهذا السلوك يضعف الفرصة للنباتات الطبيعية للنمو والتكاثر ومن ثم يحدث التصحر

5/ استيراد دول مجلس التعاون واللحوم والماشية من الخارج :

بسبب الزيادة السكانية والاستهلاك الضخم والكبير للحوم

اكمل الفراغات التالية بما يناسبها ؟

1/ يتألف مجلس التعاون الخليجي من ستة من الدول منها :

المملكة العربية السعودية و دولة قطر و مملكة البحرين .

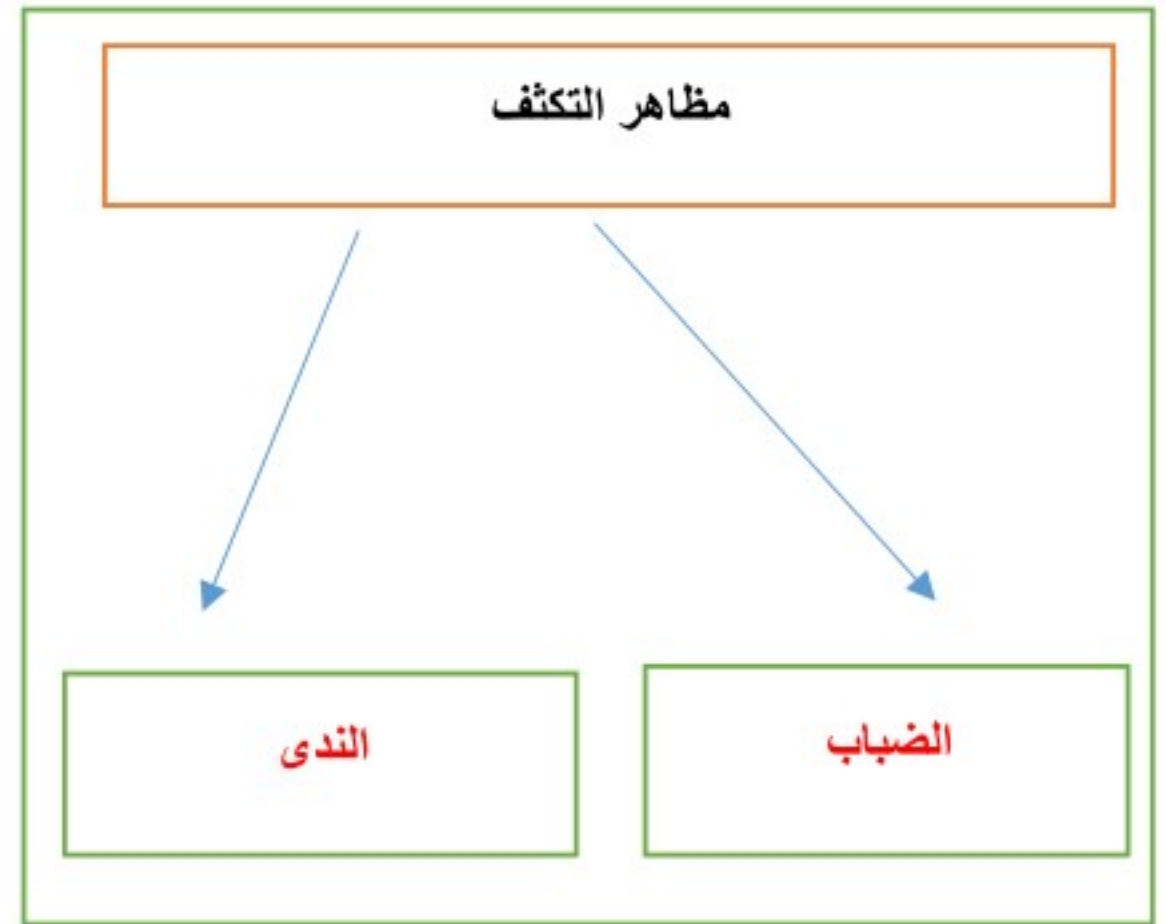
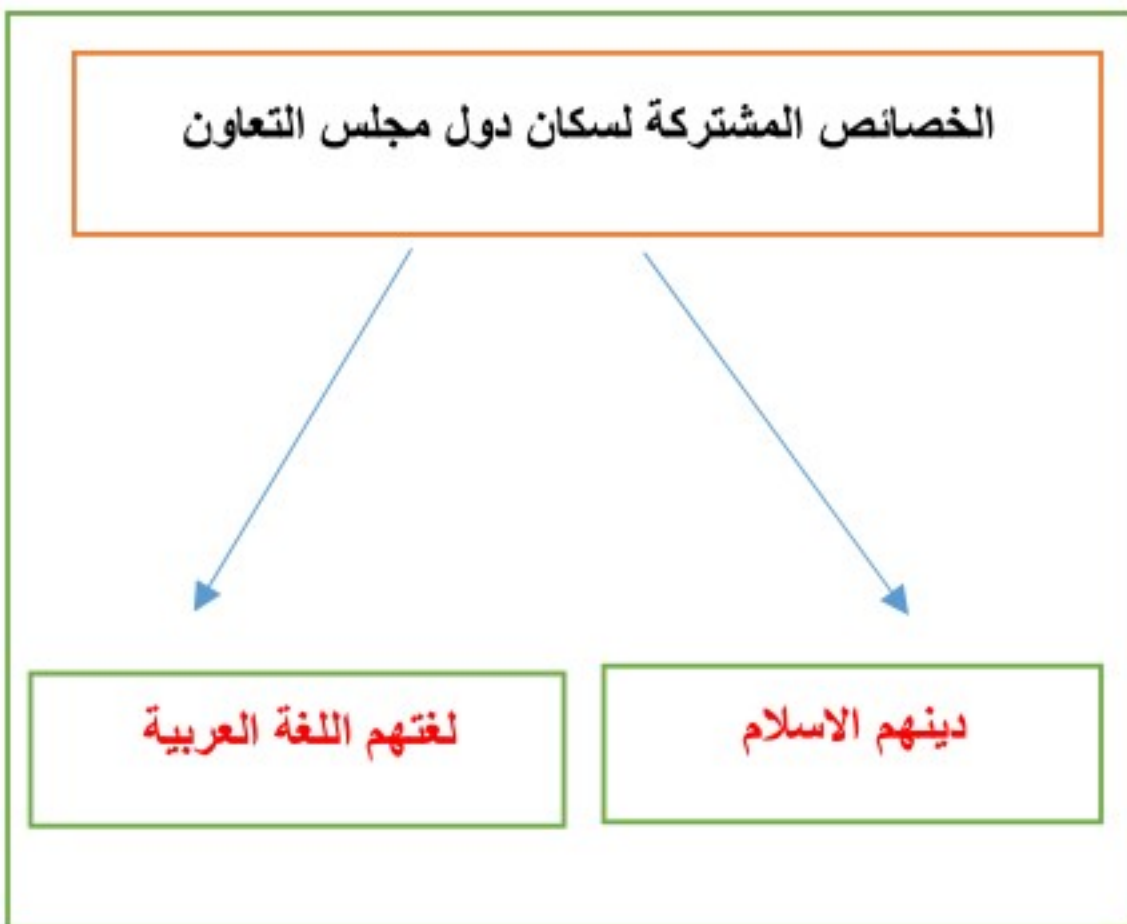
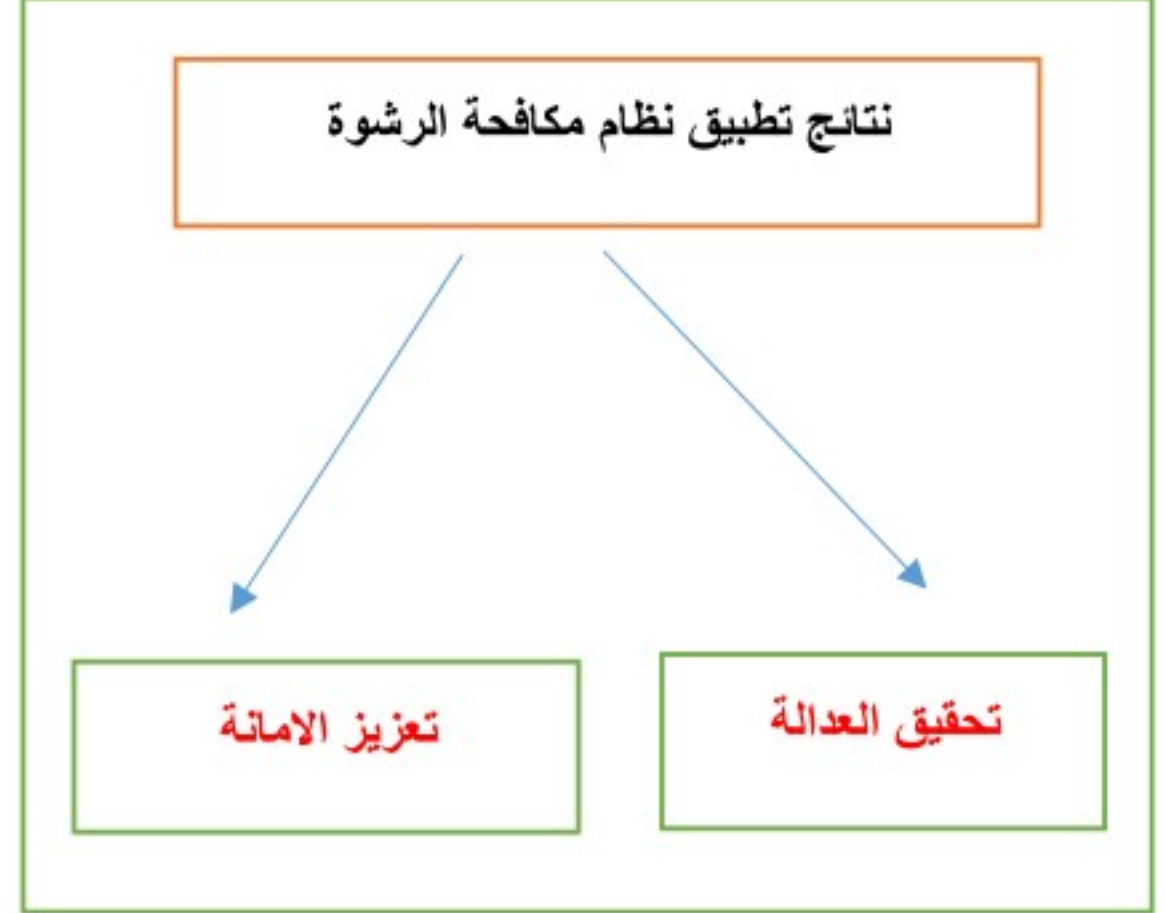
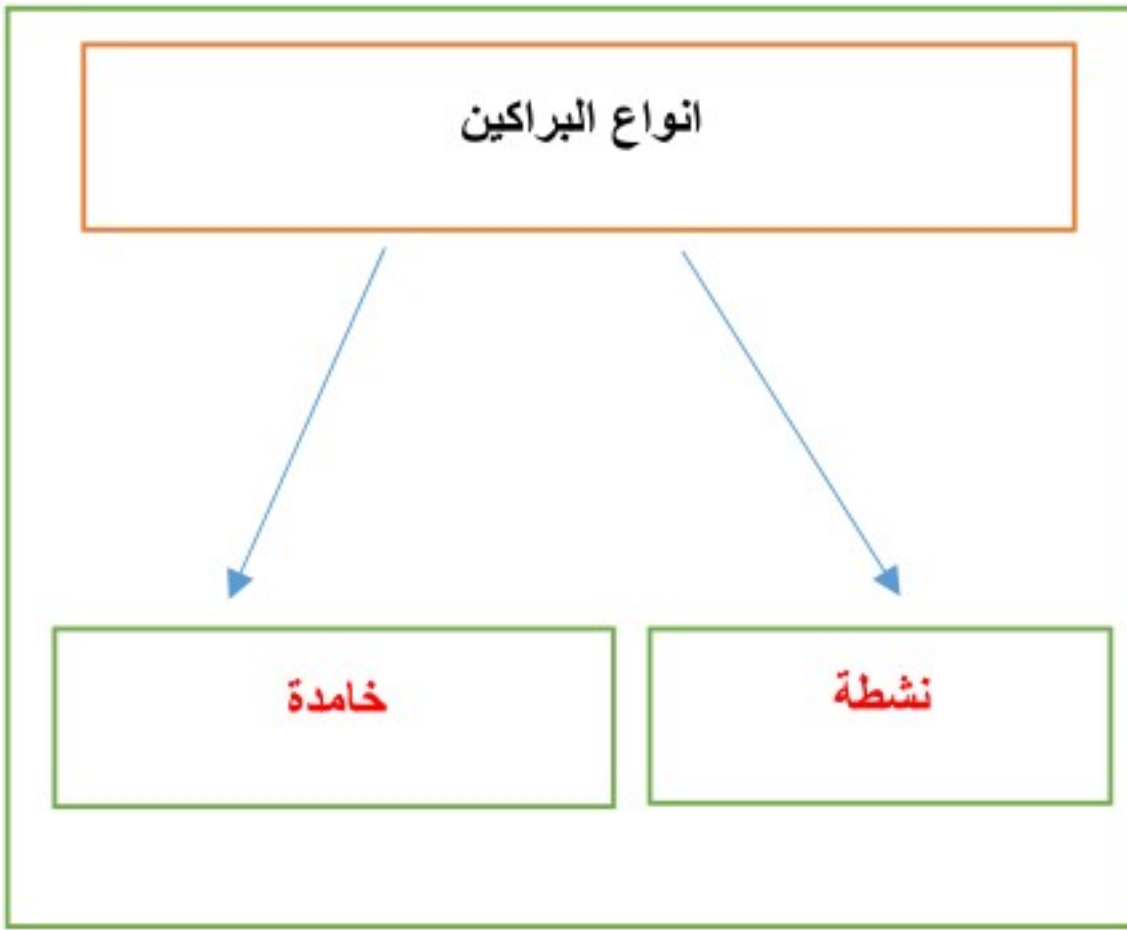
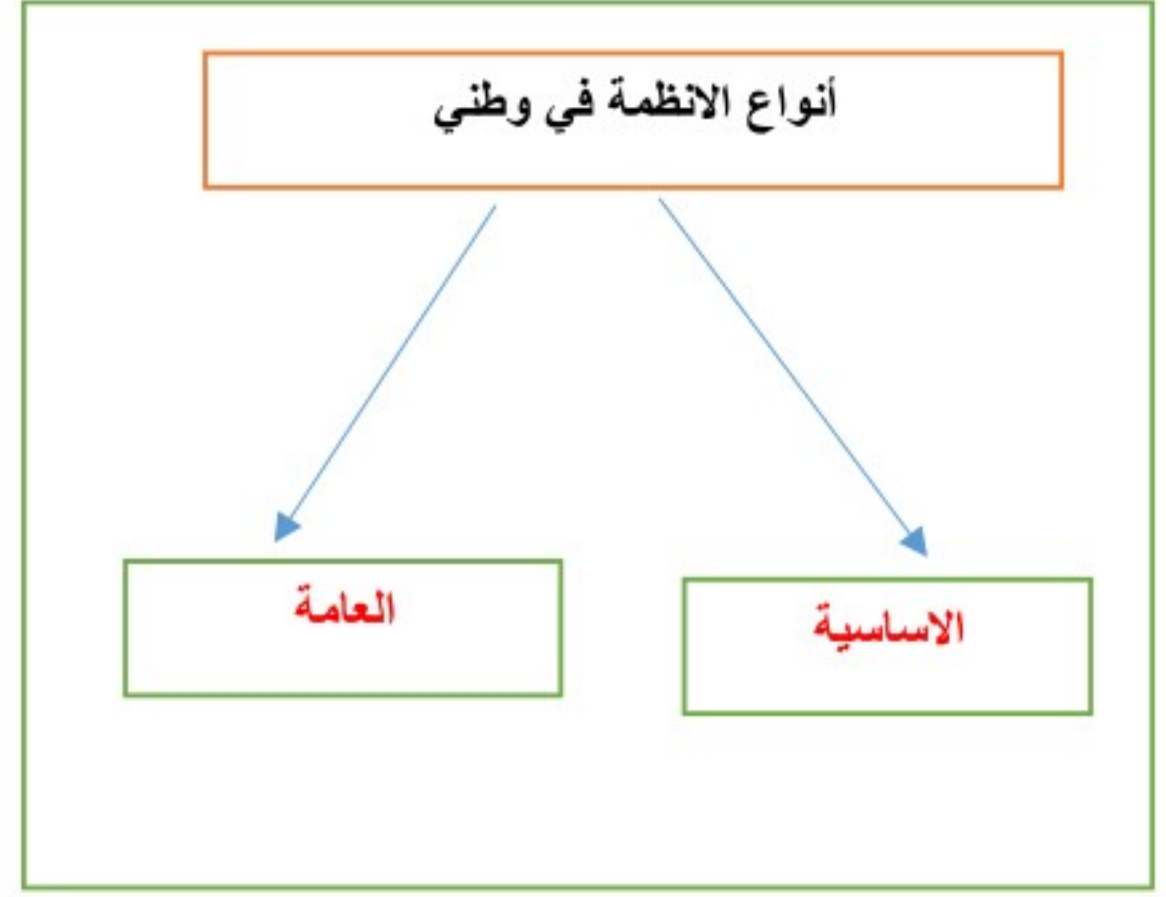
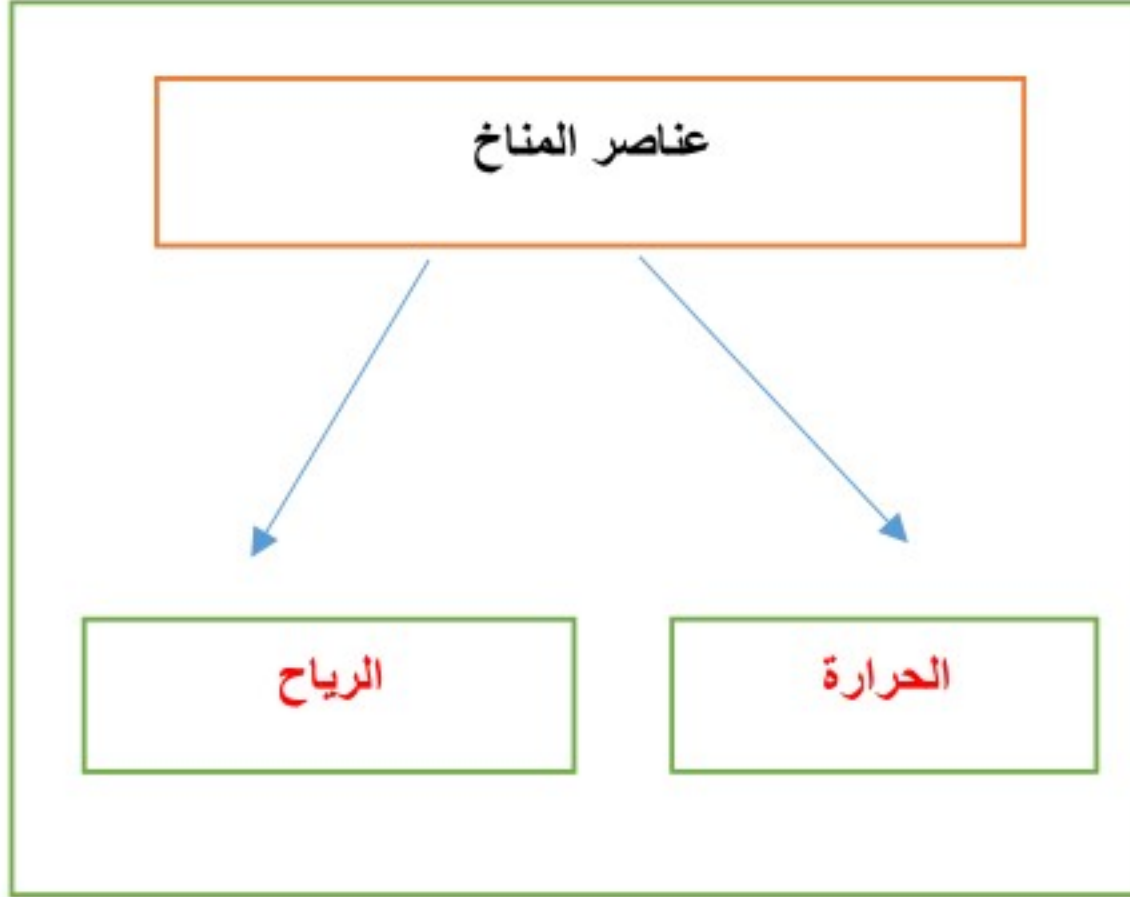
/ العناصر الحية في الغلاف الحيوي تمثل:

الانسان و الحيوان و النبات .

3/ من اهم المحميات في وطني محمية الخنفة و محمية حرة الحرة و محمية الوعول

4/ من العمليات الخارجية لتشكيل سطح الارض التجوية و التعرية .

أكل خرائط المفاهيم التالية ؟



قارن بين كل مما يأتي وفق الجدول ؟

اللائحة	وجه المقارنة	النظام
مفصل	السمة	عام
قرار من مجلس الوزراء	اداة الاصدار	مرسوم ملكي
كثير	التعديل	قليل جدا

أجهزة مجلس التعاون الخليجي		
المجلس الوزاري	وجه المقارنة	المجلس الاعلى
وزراء الخارجية للدول الاعضاء	مكوناته	قادة الدول الاعضاء
مرة واحدة كل ثلاثة أشهر	عقد الاجتماعات	مرة واحدة كل سنة

أكتب مذكرة جغرافية موجزة عن التالي ؟

1/ طبقة الاوزون :

يقع في طبقة الغلاف الجوي العلوي وله اهمية كبيرة حيث يمنع الاشعة الضارة الصادرة من الشمس

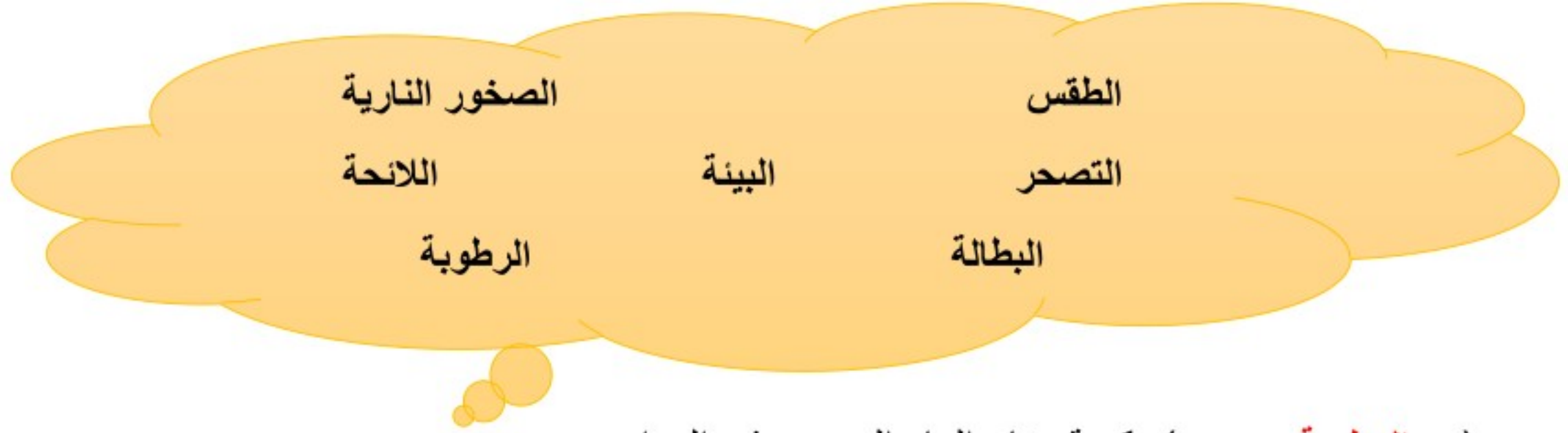
2/ جهود حكومة وطني في المحافظة على البيئة الطبيعية ؟

تقوم حكومة وطني بجهود كبيرة منها (انشاء المحميات الطبيعية) ومبادرات للحفاظ على البيئة منها (مبادرة السعودية الخضراء)

3/ التحديات التي تواجه دول مجلس التعاون الخليجي ؟

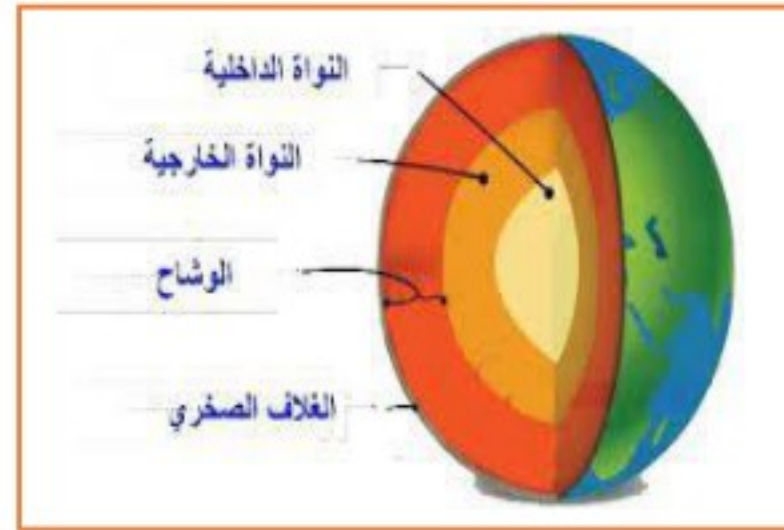
من اهم التحديات التي تواجه دول المجلس (البطالة والعمالة الوافدة والتلوث والتصحر) ولقد قامت دول المجلس بالعديد من الاجراءات لحلها

مستعينا بالشكل أدناه ضع المصطلحات امام مايناسيها من العبارات التالية ؟



- (الرطوبة) كمية بخار الماء الموجود في الهواء .
- (الصخور النارية) صخور منصهرة اندفعت من باطن الارض ثم تصلبت .
- (البيئة) هو الوسط الذي يحيط بالمخلوق الحي فيؤثر فيه ويتأثر به .
- (التصحر) تدهور الاراضي الزراعية والرعية .
- (الطقس) وصف حالة الجو في مدة زمنية قصيرة .
- (البطالة) هو ألا يجد المرء عملا وهو قادر عليه وراغب فيه .

مستعينا بالشكل المجاور تعرف على الصور ادناه ؟



الباروجراف
بالون الطقس
دوارة الرياح
طبقات الارض



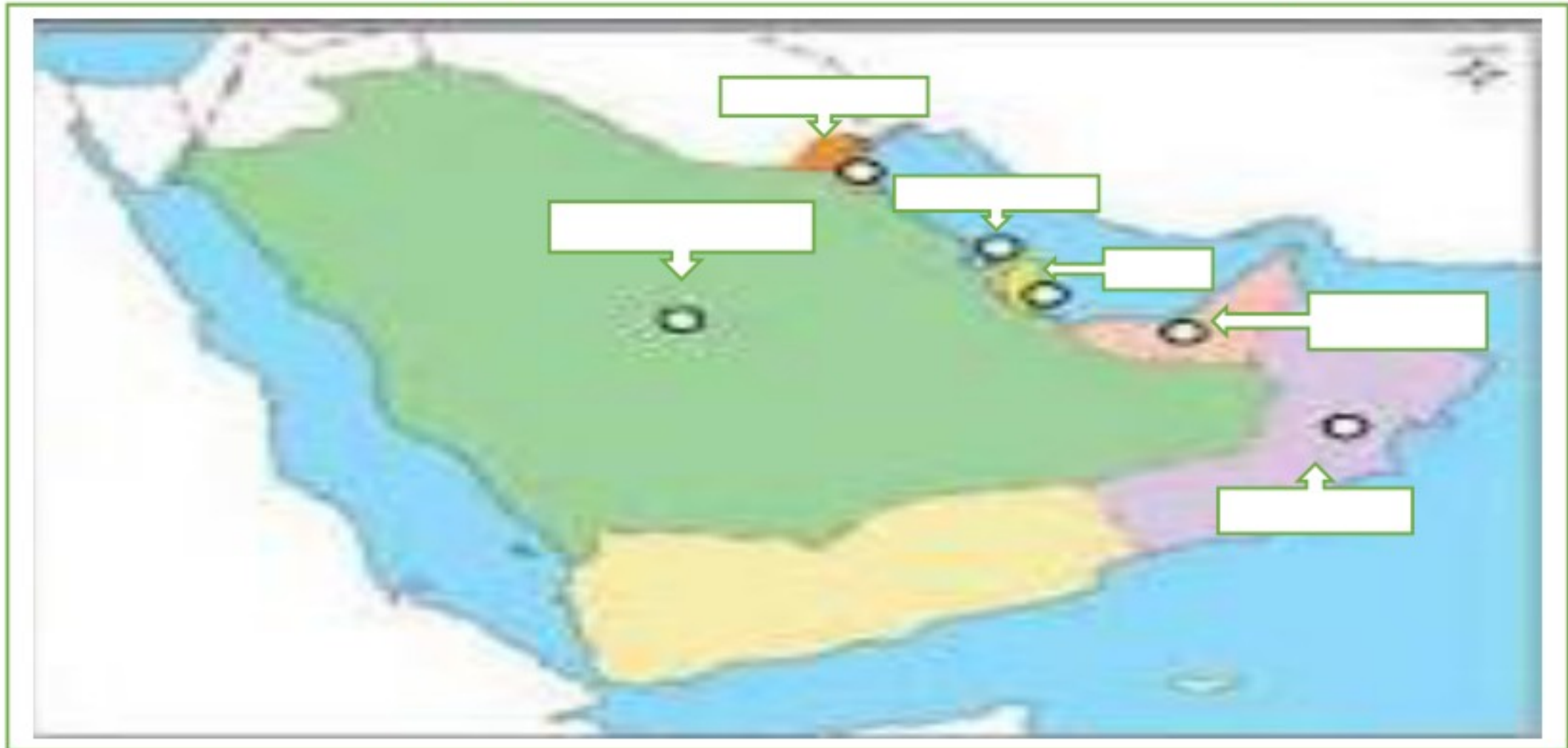
اختر الاجابة الصحيحة فيميااتي ؟

1	من أهم حيوانات في الصحاري الباردة	2	من الانظمة الاساسية في وطني :
أ	القردة	أ	النظام الاساسي للحكم
ب	الدب القطبي	ب	نظام حماية الطفل
ج	الجمال	ج	نظام مكافحة الجرائم المعلوماتية
د	الماعز	د	نظام البنك المركزي
3	نسبة غاز النيتروجين في العلاف الجوي	4	تقاس الرطوبة بجهاز :
أ	70%	أ	الهيغرومتر
ب	75%	ب	الأنيمومتر
ج	78%	ج	الباروجراف
د	80%	د	الترمومتر من
5	حار ممطر طوال العام :	6	وادي الرمة من اطول واكبر الاودية في :
أ	الاقليم الاستوائي	أ	الامارات العربية المتحدة
ب	الاقليم المداري	ب	قطر
ج	الاقليم الصحراوي	ج	الكويت
د	الاقليم الموسمي	د	المملكة العربية السعودية
7	يقع الجبل الاخضر في :	8	آخر مرحلة من مراحل صدور النظام :
أ	الكويت	أ	الاقتراح
ب	قطر	ب	النشر في الصحيفة الرسمية
ج	سلطنة عمان	ج	الاصدار
د	مملكة البحرين	د	الاقرار
9	دخان المصانع وعوادم السيارات :	10	دعم قضية فلسطين ووحدة اليمن :
أ	تلوث الماء	أ	إنجازات سياسية
ب	تلوث الهواء	ب	انجازات عسكرية
ج	تلوث التربة	ج	انجازات اقتصادية
د	تلوث الغذاء	د	انجازات رياضية

ضع الرقم الموجود امام المجموعة الاولى امام مايناسبه من المجموعة الثانية ؟

م	المجموعة الاولى	الرقم	المجموعة الثانية
1	هضبة نجد	4	من الانجازات العسكرية لمجلس التعاون
2	جريدة ام القرى	6	صخور متحولة
3	جزيرة سترة	2	تنشر فيها الانظمة السعودية
4	قوة درع الجزيرة	7	غطاء صخري يحيط بالنواة
5	الغابات الاستوائية		دولة قطر
6	الرخام و الكلس	1	المملكة العربية السعودية
7	الوشاح	8	نسيم البر ونسيم البحر
8	الرياح اليومية	10	طبقة الغلاف الجوي السفلي وتعيش فيها المخلوقات الحية
9	الضغط الجوي	3	مملكة البحرين
10	التروبوسفير	5	تتميز بطول نباتاتها واوراقها الكبيرة والخضراء
		9	ثقل الهواء الموجود على الارض

عزيزي الطالب اكتب اسماء دول مجلس التعاون الخليجي على الخريطة التالية ؟



صمم شكلا تبين فيه العوامل المؤثرة في توزيع الحيوانات على الارض؟

