


تم تحميل وعرض المادة من



موقع مادتي هو موقع تعليمي يعمل على مساعدة المعلمين والطلاب وأولياء الأمور في تقديم حلول الكتب المدرسية والاختبارات وشرح الدروس والملاحظات والتحاير وتوزيع المنهج لكل المراحل الدراسية بشكل واضح وسهل مجاناً بتصفح وعرض مباشر أونلاين وتحميل على موقع مادتي

حمل تطبيق مادتي ليصلك كل جديد



مدرسة		المملكة العربية السعودية
المادة: علوم الأرض والفضاء		وزارة التعليم
الصف: ٣ ثانوي		الإدارة العامة للتعليم بمنطقة
الزمن:		مكتب التعليم
الدرجة كتابة		
التوقيع	اسم المراجع	التوقيع
اسم المصحح		
اختبار نهاية الفصل الدراسي الثاني لمادة علوم الأرض والفضاء - للعام الدراسي ١٤٤٥ هـ		

الاسم/.....	الصف (.....)	رقم الجلوس (.....)
-------------	--------------	--------------------

السؤال الأول: ١/ اختر الإجابة الصحيحة فيما يلي:

١. يُستعمل الفرق الزمني بين وصول الموجات الأولية والأمواج الثانوية في تحديد:

أ - بعد المركز السطحي للزلازل عن محطة الرصد. ب- نوع الصدع. ج- عمق الزلزال د- ما إذا كان اللب سائلاً.

٢. أنظمة مصممة ومبنية للعمل في الفضاء تختلف أنواعها باختلاف مهامها.

أ - المدار الأرضي المنخفض. ب- محطة الفضاء. ج- الأقمار الصناعية. د- المركبات الفضائية.

٣. جسم صلب تترتب فيه الذرات بنمط متكرر.

أ - المعدن. ب- البلورة. ج- الزجاج. د- الكريستال.

٤. ما الصخر الفتاتي الخشن الحبيبات الذي يحوي قطعاً مدببة؟

أ - الحجر الجيري. ب- البريشيا. ج- الحجر الرملي. د- الكونجولوميرات.

٥. تسمى المناطق التي تبتعد عندها الصفائح بعضها عن بعض.

أ - الحدود التحويلية ب- الحدود المتقاربة. ج- الحدود المتباعدة د- الحدود الدولية.

٦. قليلة الانحدار وتمتد مسافات طويلة.

أ - البراكين الدرعية. ب- البراكين المحلية. ج- البراكين المركبة. د- البراكين المخروطية.

٧. إحدى التقنيات المتقدمة التي استعملت لدراسة قاع المحيط، وهو جهاز صغير يُستعمل للكشف عن

التغيرات الطفيفة في المجالات المغناطيسية.

أ - السيزموجرام ب- السونار. ج- جهاز قياس المغناطيسية د- السيزمومتر.

٨. هي النسبة المئوية للفراغات الموجودة بين الحبيبات المكونة للصخر.

أ - النفاذية. ب- المسامية. ج- الحجر الرملي. د- الصخور الرملية.

٩. جسم ذو كثافة هائلة وجاذبيته قوية جداً، ولا يمكن للمادة أو الإشعاع الهروب منه.

أ - الأقزام البيضاء. ب- العمالقة الحمراء. ج- القزم الأسود. د- الثقب الأسود

١٠. المدار المناسب لمحطة الفضاء الدولية.

أ - المدار المنخفض. ب- المدار الأرضي الثابت. ج- المدار المتوسط. د- المدار القطبي.

السؤال الثاني :

١/ ضع كلمة (صح) أمام العبارة الصحيحة وكلمة (خطأ) أمام العبارة الخاطئة فيما يلي:

١. يتيح مخطط التتابع الرئيسي فهم دورة حياة النجم عند تحديد موضعه في المخطط.

٢. ينص قانون كبلر الثاني على أن الكواكب تدور حول الشمس في مدارات على شكل قطع ناقص، وتقع الشمس في إحدى بؤرتيه.

٣. الأحجار الكريمة معادن قيمة لندرته وجمالها.

٤. تنصهر المعادن المختلفة وتتبلور عند درجات حرارة متشابهة.

٥. تتحرك الصفائح الأرضية بسرعات واتجاهات مختلفة على سطح الأرض.

٦. شدة الزلزال هي مقياس للدمار الذي يحدثه الزلزال.

٧. درجة الحرارة والضغط ووجود الماء عوامل لا تؤثر في تشكل الصحارة.

٨. يتميز كل نوع من حدود الصفائح بمعالم جيولوجية محددة.

٩. تتصخر الرسوبيات بعملية التراص والسمنتة.

١٠. اللابة المتصلبة والقطع الصخرية التي تطلقها البراكين في أثناء ثوراتها تسمى المقذوفات الصلبة.

٢/ وضّح لماذا تحتوي العروق على كميات كبيرة من الكوارتز؟

.....
.....

٣/ كيف يستطيع العلماء الحصول على بيانات وعينات المركبات الفضائية غير المأهولة؟

.....
.....
.....
.....

السؤال الثالث:

١/ اختر الإجابة الصحيحة في العمود (أ) مع ما يناسب في العمود (ب) فيما يلي:

العمود (ب)	العمود (أ)
(.....) ألفريد فاجنر	١. من أهم الخصائص الملاحظة في المعدن، لكنة أقل الخصائص في تعرف المعادن.
(.....) ظهر المحيط	٢. تُسمى الخاصية الفيزيائية التي تصف مقاومة المواد للتدفق.
(.....) اللون	٣. عند تعرض مناطق واسعة من القشرة الأرضية لدرجة حرارة وضغط مرتفعين، وتتراوح درجة التحول بين منخفض وعالي.
(.....) الزوجة	٤. سلسلة جبلية ضخمة تحت الماء تمتد على طول قيعان المحيطات في جميع أنحاء الأرض.
(.....) التحول الإقليمي	٥. أول من اقترح فكرة حركة القارات العالم الألماني.

٢/ أكمل الفراغات التالية:

١. تصنف الزلازل بحسب عمق إلى ثلاث أنواع: الزلازل الضحلة، والزلازل

المتوسطة، والزلازل العميق.

٢. علم يعنى باستكشاف الفضاء والمهمات الفضائية.

٣. العملية الثانية المهمة التي تسبب حركة الصفائح الأرضية فتسمى الصفيحة.

٤. يسمى تغير قطبية المجال المغناطيسي للأرض من عادية إلى مقلوبة المغناطيسي.

٥. قد يتغير أي صخر إلى صخر آخر، وتسمى عملية التغير وإعادة التشكل المستمران الصخر.

انتهت الأسئلة

نموذج الإجابة

مدرسة	المملكة العربية السعودية		
اسادة: علوم الأرض والفضاء	وزارة التعليم		
الصف: ٣ ثانوي	الإدارة العامة للتعليم بمنطقة		
الزمن:	مكتب التعليم		
الدرجة كتابة			
اسم المصحح	اسم المراجع	التوقيع	التوقيع
اختبار نهاية الفصل الدراسي الثاني لمادة علوم الأرض والفضاء - للعام الدراسي ١٤٤٥ هـ			

الاسم/.....	الصف (.....)	رقم الجلوس (.....)
-------------	--------------	--------------------

السؤال الأول: ١/ اختر الإجابة الصحيحة فيما يلي:

١. يُستعمل الفرق الزمني بين وصول الموجات الأولية والأمواج الثانوية في تحديد:

أ - بعد المركز السطحي للزلازل عن محطة الرصد. ب- نوع الصدع. ج- عمق الزلزال د- ما إذا كان اللب سائلاً.

٢. أنظمة مصممة ومبنية للعمل في الفضاء تختلف أنواعها باختلاف مهامها.

أ - المدار الأرضي المنخفض. ب- محطة الفضاء. ج- الأقمار الصناعية. د- المركبات الفضائية.

٣. جسم صلب تترتب فيه الذرات بنمط متكرر.

أ - المعدن. ب- البلورة. ج- الزجاج. د- الكريستال.

٤. ما الصخر الفتاتي الخشن الحبيبات الذي يحوي قطعاً مدببة؟

أ - الحجر الجيري. ب- البريشيا. ج- الحجر الرملي. د- الكونجولوميرات.

٥. تسمى المناطق التي تبتعد عندها الصفائح بعضها عن بعض.

أ - الحدود التحويلية ب- الحدود المتقاربة. ج- الحدود المتباعدة د- الحدود الدولية.

٦. قليلة الانحدار وتمتد مسافات طويلة.

أ - البراكين الدرعية. ب- البراكين المحلية. ج- البراكين المركبة. د- البراكين المخروطية.

٧. إحدى التقنيات المتقدمة التي استعملت لدراسة قاع المحيط، وهو جهاز صغير يُستعمل للكشف عن

التغيرات الطفيفة في المجالات المغناطيسية.

أ - السيزموجرام ب- السونار. ج- جهاز قياس المغناطيسية د- السيزمومتر.

٨. هي النسبة المئوية للفراغات الموجودة بين الحبيبات المكونة للصخر.

أ - النفاذية. ب- المسامية. ج- الحجر الرملي. د- الصخور الرملية.

٩. جسم ذو كثافة هائلة وجاذبيته قوية جداً، ولا يمكن للمادة أو الإشعاع الهروب منه.

أ - الأقزام البيضاء. ب- العمالقة الحمراء. ج- القزم الأسود. د- الثقب الأسود

١٠. المدار المناسب لمحطة الفضاء الدولية.

أ - المدار المنخفض. ب- المدار الأرضي الثابت. ج- المدار المتوسط. د- المدار القطبي.

السؤال الثاني :

١ / ضع كلمة (صح) أمام العبارة الصحيحة وكلمة (خطأ) أمام العبارة الخاطئة فيما يلي:

١. يتيح مخطط التتابع الرئيسي فهم دورة حياة النجم عند تحديد موضعه في المخطط. (صح)

٢. ينص قانون كبلر الثاني على أن الكواكب تدور حول الشمس في مدارات على شكل قطع ناقص، وتقع الشمس في إحدى بؤرتيه. (خطأ)

٣. الأحجار الكريمة معادن قيمة لندرته وجمالها. (صح)

٤. تنصهر المعادن المختلفة وتتبلور عند درجات حرارة متشابهة. (خطأ)

٥. تتحرك الصفائح الأرضية بسرعات واتجاهات مختلفة على سطح الأرض. (صح)

٦. شدة الزلزال هي مقياس للدمار الذي يحدثه الزلزال. (صح)

٧. درجة الحرارة والضغط ووجود الماء عوامل لا تؤثر في تشكل الصحارة. (خطأ)

٨. يتميز كل نوع من حدود الصفائح بمعالم جيولوجية محددة. (صح)

٩. تتصخر الرسوبيات بعلميتي التراص والسمنتة. (صح)

١٠. اللابة المتصلبة والقطع الصخرية التي تطلقها البراكين في أثناء ثوراتها تسمى المقذوفات الصلبة. (صح)

٢ / وضح لماذا تحتوي العروق على كميات كبيرة من الكوارتز؟

تحتوي العروق على كميات كبيرة من الكوارتز لأن عنصري السيليكون والأكسجين يتبقيان عندما تتبلور الصحارة بالكامل. ثم يحشر هذا السائل المتبقي في شقوق الصخور.

٣ / كيف يستطيع العلماء الحصول على بيانات وعينات المركبات الفضائية غير المأهولة؟

المركبات الفضائية غير المأهولة تأخذ العديد من الصور والقياسات وترسلها إلى محطات المراقبة الأرضية أو تعود إلى الأرض بعينات ترابية. وهناك مركبات يهبط منها مركبة تقوم بالعديد من التجارب ومنتقلة بين أرجاء السطح تأخذ العينات وتقوم بتحليلها وترسل بياناتها إلى محطات المراقبة الأرضية.

السؤال الثالث:

١/ اختر الإجابة الصحيحة في العمود (أ) مع ما يناسب في العمود (ب) فيما يلي:

العمود (ب)	العمود (أ)
(٥) ألفريد فاجنر	١. من أهم الخصائص الملاحظة في المعدن، لكنة أقل الخصائص في تعرف المعادن.
(٤) ظهر المحيط	٢. تُسمى الخاصية الفيزيائية التي تصف مقاومة المواد للتدفق.
(١) اللون	٣. عند تعرض مناطق واسعة من القشرة الأرضية لدرجة حرارة وضغط مرتفعين، وتتراوح درجة التحول بين منخفض وعالي.
(٢) اللزوجة	٤. سلسلة جبلية ضخمة تحت الماء تمتد على طول قيعان المحيطات في جميع أنحاء الأرض.
(٣) التحول الإقليمي	٥. أول من اقترح فكرة حركة القارات العالم الألماني.

٢/ أكمل الفراغات التالية:

١. تصنف الزلازل بحسب عمق **البؤرة** إلى ثلاث أنواع: الزلازل الضحلة، والزلازل المتوسطة، والزلازل العميق.

٢. علم **الفضاء** يعنى باستكشاف الفضاء والمهام الفضائية.

٣. العملية الثانية المهمة التي تسبب حركة الصفائح الأرضية فتسمى **سحب** الصفيحة.

٤. يسمى تغير قطبية المجال المغناطيسي للأرض من عادية إلى مقلوبة **الانقلاب** المغناطيسي.

٥. قد يتغير أي صخر إلى صخر آخر، وتسمى عملية التغير وإعادة التشكل المستمران **دورة الصخر**.

انتهت الأسئلة

درجة النظري

درجة العملي

١٥

٥

الاسم :

الصف : الثالث /

بِسْمِ اللَّهِ الرَّحْمَنِ الرَّحِيمِ
 (نَسَبُ الْوَالِدِ) (نَسَبُ الْأَبِ) (نَسَبُ الْأُمِّ)
 (نَسَبُ الْأَخِي) (نَسَبُ الْأُخْتِ) (نَسَبُ الْأَخِيَّةِ)

اسئلة اختبار علوم الأرض و الفضاء للصف الثالث ثانوي مسار عام الفصل الدراسي الثاني (١) لعام ١٤٤٥ هـ

السؤال الأول: ~ (أ) اختاري الإجابة الصحيحة من الخيارات المتعددة التي أمامك بوضع دائرة

٨

حول الإجابة الصحيحة :

١ كرة ضخمة مضيئة من الغاز تتكون في معظمها من الهيدروجين والهيليوم.

(أ) النجم (ب) السديم (ج) الكوكب (د) المجرة

٢ سحب تتكون من جزيئات الهيدروجين والهيليوم.

(أ) السحب الذرية (ب) السحب المتأينة (ج) السحب الجزيئية (د) السحب الغبارية

٣ نجوم ذات قطر صغير ودرجات حرارة شديدة ولمعان منخفض .

(أ) الأقزام البيضاء (ب) العملاقة الحمراء (ج) النيترونية (د) المستعر الأعظم

٤ نجوم ذات كثافة عالية يبلغ قطرها المتبقي حوالي ١٦ كيلومترا فقط وتدور بسرعة حول محورها .

(أ) النجم النيتروني (ب) العملاقة الحمراء (ج) الأقزام البيضاء (د) الثقوب السوداء

٥ جسم ذو كثافة هائلة وجاذبيته قوية جدا ولا يمكن للمادة أو الإشعاع الهروب منه .

(أ) الأقزام البيضاء (ب) العملاقة الحمراء (ج) الثقب الأسود (د) القزم الأسود

٦ ما أنواع المجرات الثلاثة ؟

(أ) حلزوني ، بيضاوية ، دائرية (ب) حلزوني ، بيضاوية ، وغير منتظم (ج) دائرية ، بيضاوية ، وغير منتظم (د) كروية ، منتظمة حلزوني

٧ في مجرة درب التبانة تقع الشمس :

(أ) على حافة ذراع الجبار (ب) بالقرب من نواة المجرة (ج) في هالة المجرة (د) داخل نواة المجرة

٨ تقع النجوم الصغيرة في العمر في المجرة .

(أ) هالة (ب) نواة (ج) قرص (د) ذراع



السؤال الثاني: ~ (أ) ضع إشارة (✓) أو (X) أمام العبارات التالية:

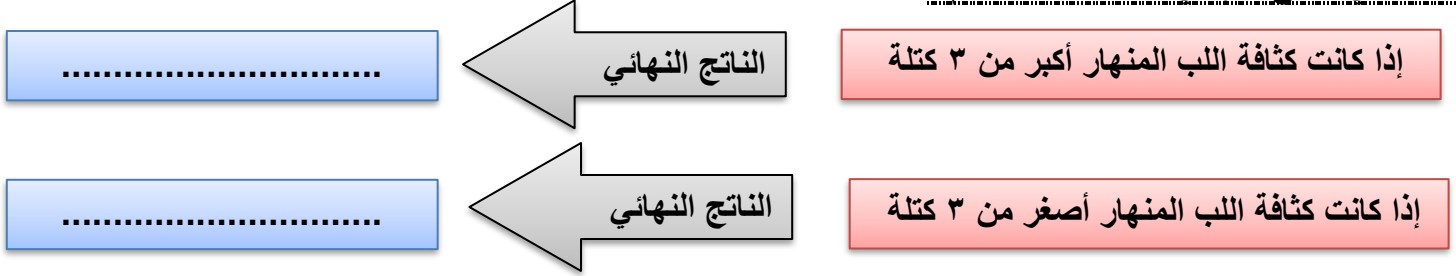
٧

(.....)	١ تقع النجوم ذات درجات الحرارة العالية واللمعان المنخفض في أسفل يمين شريط التتابع .
(.....)	٢ تصنف النجوم الزرقاء بالنجوم الأسخن ذات درجات الحرارة العالية.
(.....)	٣ علم الكون يعني باستكشاف الفضاء والمهمات الفضائية.
(.....)	٤ عبادتا الصيام والحج مرتبطتان بحركة القمر حول الأرض.
(.....)	٥ الطاقة المظلمة هي قوة خفية مجهولة المنشأ تشكل ٦٥٪ من محتوى الكون.

(ب) اجبني عن ما يأتي:

١- تبعد مجرة الدوامة 23MIY عن كوكب الأرض باستعمال القيمة 20.8 km/s/MIY لثابت هابل ، أوجدني سرعة تباعد هذه المجرة ؟

٢- اكملني الناتج النهائي لدورة حياة النجوم:



الجزء العملي: ~ من تجربة العلاقة بين سطوع النجوم وحجمها:

٥


الطريقة العلمية	الإجراءات
المشكلة	هل هناك عوامل تؤثر في كمية إضاءة النجوم ؟
الفرضية
الهدف
الأدوات	مصابيح كهربائية - رقاقة قصدير - شاشة بيضاء
تحليل البيانات	س ١ / ما العوامل التي ترى أن لها دورًا في سطوع المصباحين ؟ وهل الأمر ينطبق على النجوم أيضًا ؟
الاستنتاج

السؤال الثاني: ~ (أ) ضع إشارة (✓) أو (X) أمام العبارات التالية:

٧

(.....)	١ في قانون كبلر الثاني يمكن منه إثبات أن سرعة الكوكب تتناسب عكسيًا مع بعده عن الشمس .
(.....)	٢ تعاونت مدينة الملك عبد العزيز للعلوم والتقنية مع إدارة الفضاء الوطنية الصينية في مهمة ديسكفري ج .
(.....)	٣ المدار القطبي هو المدار المناسب لاستقبال البث التلفزيوني .
(.....)	٤ يمثل البعد الأوجي (r_a) أقرب مسافة فاصلة بين الشمس والكوكب .
(.....)	٥ تدور الكواكب حول الشمس في مدارات على شكل قطع ناقص (مدارات بيضاوية أو أهليلجية) .

(ب) اجبني عن ما يأتي:



١- ما نوع المركبة بالصورة التي أمامك؟

.....

٢- صف طريقة توصيل المؤونة إلى رواد الفضاء بالمحطة الدولية للفضاء مبيّنًا التقنيات الفضائية المستخدمة؟

.....
.....

الجزء العملي: ~ من تجربة العلاقة بين حمولة الصاروخ وسرعة انطلاقه:

٥

الطريقة العلمية	الإجراءات
المشكلة	هل هناك علاقة بين حمولة الصاروخ وسرعة انطلاقه؟
الفرضية
الهدف
الأدوات	بيكربونات الصوديوم - ملعقة صغيرة وكبيرة - فيتامين سي - علبة محكمة الاغلاق
تحليل البيانات	س١ / أي الحالتين كان الارتفاع الذي وصلت له العلبة كبيرًا؟ س٢ / ما العلاقة بين ارتفاع الصاروخ وبين كمية وقوده؟
الاستنتاج

معلمة المادة