

تم تحميل وعرض المادة من



موقع مادتي هو موقع تعليمي يعمل على مساعدة المعلمين والطلاب وأولياء الأمور في تقديم حلول الكتب المدرسية والاختبارات وشرح الدروس والملاحظات والتحاير وتوزيع المنهج لكل المراحل الدراسية بشكل واضح وسهل مجاناً بتصفح وعرض مباشر أونلاين وتحميل على موقع مادتي

حمل تطبيق مادتي ليصلك كل جديد



نموذج اختبار منتصف الفترة لمادة الدراسات الاجتماعية للصف الثالث المتوسط

الدرجة:

20

اسم الطالب	الفصل	أ / ب
------------	-------	-------

**السؤال الاول: ضع علامة (√) أمام العبارة الصائبة وعلامة (x) أمام العبارة الخاطئة لما يأتي؟**

5 درجات

1	يحثنا ديننا الاسلامي على العمل والانجاز
2	التطور التقني لم يقلل من الاعتماد على الأيدي العاملة
3	يساعد علم المساحة في تمثيل مواقع الظواهر الطبيعية
4	عندما يكون الانسان منجزا فانه يشعر بالرضا
5	التضخم غير مضر بالاقتصاد

درجتين

**السؤال الثاني:**

البطالة مشكلة اقتصادية واجتماعية، وقامت حكومة وطني بجهود واجراءات لتقليص نسبة البطالة ومن هذه الاجراءات (برنامج جودة الحياة) عبر بأسلوبك ويايجاز عن هذا البرنامج واهدافه؟

.....

.....

4 درجات

**السؤال الثالث: اختر الاجابة الصحيحة في الجدول ادناه؟**

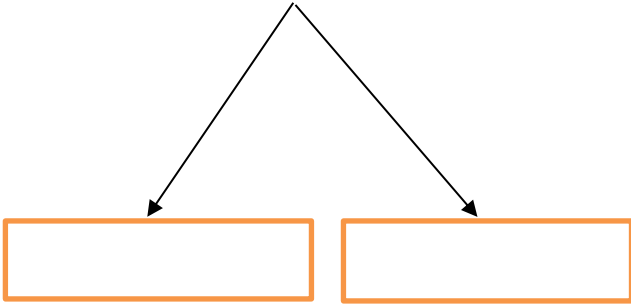
1	نسبة البعد على الخريطة وما يقابله على الطبيعة:	2	كل ما يأتي من اقسام GPS ماعدا :
أ	مقياس الرسم	أ	المستخدم
ب	الاحداثيات	ب	المساحة الارضية
ج	اطار الخريطة	ج	التحكم
د	عنوان الخريطة	د	الاقمار الصناعية
3	الانشطة البشرية في مجال الانتاج والخدمات :	4	من تتوافر لديهم مهارات ولا تتوافر لهم فرص عمل
أ	الانجاز الذاتي	أ	بطالة اختيارية
ب	الانتاج	ب	بطالة هيكلية
ج	التضخم	ج	بطالة مقنعة
د	الاقتصاد الوطني	د	بطالة وظيفية

يتبع

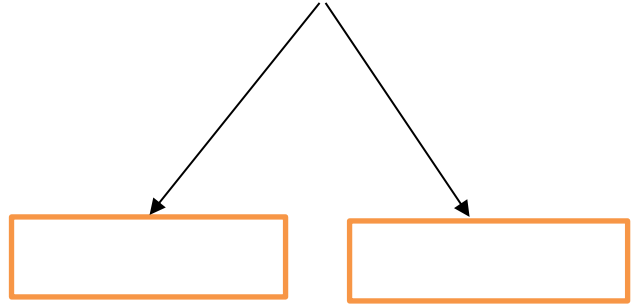
**السؤال الرابع: أكل خرائط المفاهيم التالية؟**

4 درجات

معايير اختيار المهنة



العوامل المؤثرة في الاقتصاد الوطني



درجتين

**السؤال الخامس: قارن بين الخريطة والصور الجوية وفق الجدول أدناه؟**

الصور الجوية	وجه المقارنة	الخريطة
	المفتاح والرموز	
	الظواهر التي تفسرها	

3 درجات

**السؤال السادس: من خلال دراستك لأنواع الخرائط ومستعينا بالشكل المجاور حدد أنواع الخرائط أدناه؟**

خريطة سياسية  
خريطة مناخية  
خريطة اقتصادية  
خريطة تاريخية



**انتهت الاسئلة / محمد القرني**

# نموذج الاجابة

المملكة العربية السعودية

وزارة التعليم

ادارة التعليم .....

مدرسة .....

المادة: الدراسات الاجتماعية

الصف: الثالث المتوسط

اختبار منتصف الفترة

الفصل الدراسي الثالث لعام 1445هـ

20

الدرجة:

نموذج اختبار منتصف الفترة لمادة الدراسات الاجتماعية للصف الثالث المتوسط

أ / ب

الفصل

نموذج اجابة

اسم الطالب

5 درجات

السؤال الاول: ضع علامة (√) أمام العبارة الصائبة وعلامة (x) أمام العبارة الخاطئة لما يأتي؟

√	1	يحثنا ديننا الاسلامي على العمل والانجاز
x	2	التطور التقني لم يقلل من الاعتماد على الأيدي العاملة
√	3	يساعد علم المساحة في تمثيل مواقع الظواهر الطبيعية
√	4	عندما يكون الانسان منجزا فانه يشعر بالرضا
x	5	التضخم غير مضر بالاقتصاد

درجتين

السؤال الثاني:

البطالة مشكلة اقتصادية واجتماعية، وقامت حكومة وطني بجهود واجراءات لتقليص نسبة البطالة ومن هذه الاجراءات (برنامج جودة الحياة) عبر بأسلوبك ويايجاز عن هذا البرنامج واهدافه؟

هو احد برامج رؤية المملكة 2030 ويخدم عدة جوانب منها الجانب الاقتصادي والاجتماعي ويسهم في خفض البطالة وتوفير فرص عمل كثيرة في عدة قطاعات مختلفة

4 درجات

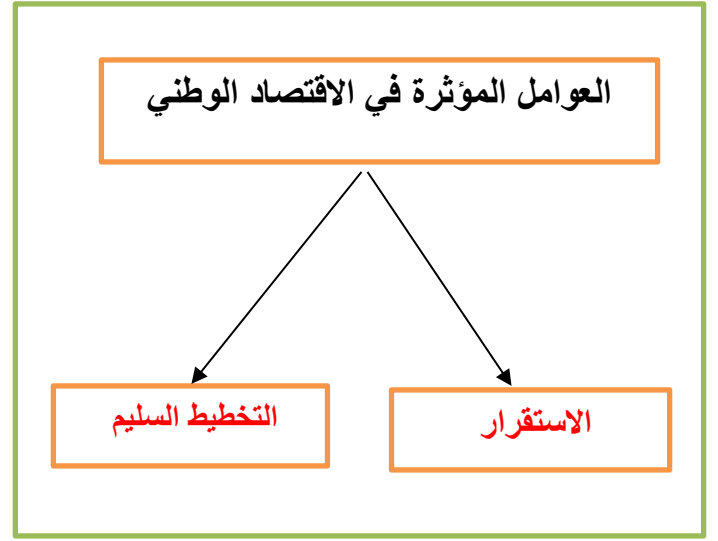
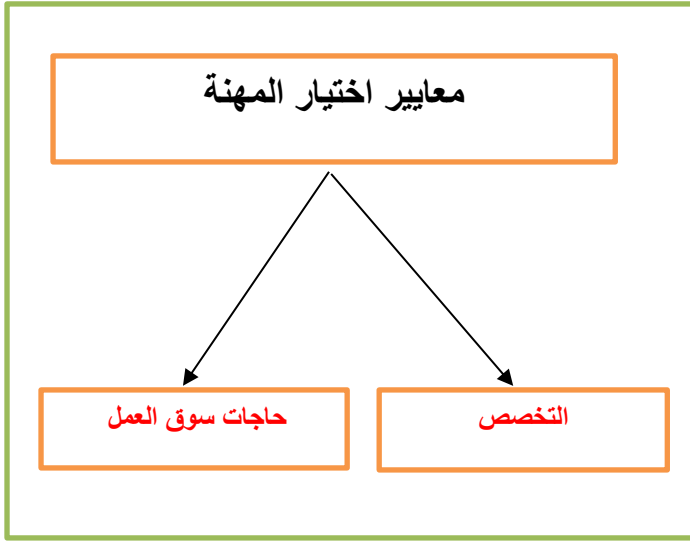
السؤال الثالث: اختر الاجابة الصحيحة في الجدول ادناه؟

كل ما يأتي من اقسام GPS ماعدا :	2	نسبة البعد على الخريطة وما يقابله على الطبيعة:	1
المستخدم	أ	مقياس الرسم	أ
المساحة الارضية	ب	الاحداثيات	ب
التحكم	ج	اطار الخريطة	ج
الاقمار الصناعية	د	عنوان الخريطة	د
من تتوافر لديهم مهارات ولا تتوافر لهم فرص عمل	4	الانشطة البشرية في مجال الانتاج والخدمات :	3
بطالة اختيارية	أ	الانجاز الذاتي	أ
بطالة هيكلية	ب	الانتاج	ب
بطالة مقنعة	ج	التضخم	ج
بطالة وظيفية	د	الاقتصاد الوطني	د

يتبع

## السؤال الرابع: أكل خرائط المفاهيم التالية؟

4 درجات



درجتين

## السؤال الخامس: قارن بين الخريطة والصور الجوية وفق الجدول أدناه؟

الصور الجوية	وجه المقارنة	الخريطة
لا يوجد بها مفتاح ورموز	المفتاح والرموز	يوجد بها مفتاح ورموز
الظواهر الثابتة و المتحركة	الظواهر التي تفسرها	الظواهر الثابتة

3 درجات

## السؤال السادس: من خلال درستك لأنواع الخرائط ومستعينا بالشكل المجاور حدد انواع الخرائط أدناه؟

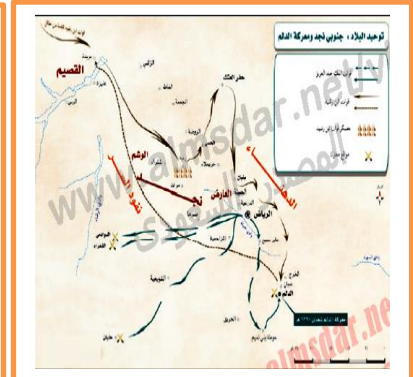
خريطة سياسية  
خريطة مناخية  
خريطة اقتصادية  
خريطة تاريخية



خريطة اقتصادية



خريطة مناخية



خريطة تاريخية

انتهت الاسئلة / محمد القرني



نموذج اختبار منتصف الفترة  
الفصل الدراسي الثالث 1445  
المادة: الدراسات الاجتماعية  
الصف: الثالث المتوسط



وزارة التعليم

إدارة .....

مكتب تعليم .....

مدرسة .....

الدرجة /20

الفصل

إعداد / محمد القرني

اسم الطالب

علم المساحة  
خريطة سياسية  
الخريطة  
خريطة تضاريسية  
الاحداثيات  
الصور المائلة

**السؤال الأول: مستعينا بالشكل المجاور ضع المصطلح امام ما يناسبه من العبارات ادناه؟**

- ( تمثيل سطح الارض او جزء منع على لوحة مستوية ) ❖  
( تقاطع خطوط الطول ودوائر العرض . ) ❖  
( هي صور تلتقط بعدسات التصوير في وضع مائل . ) ❖  
( العلم الذي يبحث في الطرائق المختلفة لتمثيل سطح الارض . ) ❖  
( هي الخرائط التي توضح حدود الدول . ) ❖

5 درجات

**السؤال الثاني : ضع الرقم امام المجموعة الاولى امام ما يناسبه من المجموعة الثانية ؟**

المجموعة الثانية	الرقم	المجموعة الاولى	الرقم
يحيط بالخريطة من الخارج		مقياس الرسم	1
تقاطع خطوط الطول مع دوائر العرض		اطار الخريطة	2
النسبة بين البعد على الخريطة ومايقابله على الطبيعة		عنوان الخريطة	3
اسم وموضوع الخريطة والمكان الذي تمثله			

3 درجات

**السؤال الثالث : اكمل خرائط المفاهيم التالية ؟**



4 درجات

**السؤال الرابع : ( أ ) قارن بين الخريطة والصور الجوية وفق الجدول؟**

الصور الجوية	وجه المقارنة	الخريطة
	المفتاح	
	الظاهرة التي تفسرها	

5 درجات

**( ب ) وضع باختصار اهمية نظام ال GPS ؟**

**السؤال الخامس: عزيزي الطالب من خلال دراستك لأنواع الخرائط صنف ما يأتي مستعينا بالشكل المجاور؟**

خريطة سكانية  
خريطة اقتصادية  
خريطة تاريخية  
خريطة مناخية



3 درجات







نموذج اختبار منتصف الفترة  
الفصل الدراسي الثالث 1445  
المادة: الدراسات الاجتماعية  
الصف: الثالث المتوسط

وزارة التعليم  
Ministry of Education

وزارة التعليم  
ادارة .....  
مكتب تعليم .....  
مدرسة .....

# نموذج الاجابة

اسم الطالب

الدرجة /20

الفصل

علم المساحة  
خريطة سياسية  
الخريطة  
خريطة تضاريسية  
الاحداثيات  
الصور المائلة

**السؤال الأول: مستعينا بالشكل المجاور ضع المصطلح امام ما يناسبه من العبارات ادناه؟**

- ❖ ( الخريطة ) تمثل سطح الارض او جزء منع على لوحة مستوية
- ❖ ( الاحداثيات ) تقاطع خطوط الطول ودوائر العرض .
- ❖ ( الصور المائلة ) هي صور تلتقط بعدسات التصوير في وضع مائل .
- ❖ ( علم المساحة ) العلم الذي يبحث في الطرائق المختلفة لتمثيل سطح الارض .
- ❖ ( خريطة سياسية ) هي الخرائط التي توضح حدود الدول .

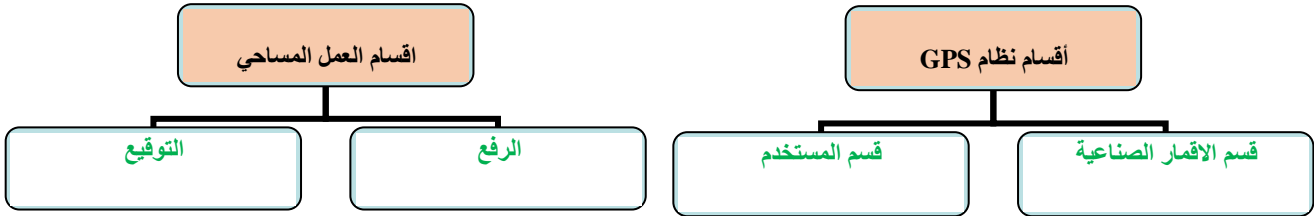
5 درجات

**السؤال الثاني : ضع الرقم امام المجموعة الاولى امام ما يناسبه من المجموعة الثانية ؟**

المجموعة الثانية	الرقم	المجموعة الاولى	الرقم
يحيط بالخريطة من الخارج	2	مقياس الرسم	1
تقاطع خطوط الطول مع دوائر العرض		اطار الخريطة	2
النسبة بين البعد على الخريطة ومايقابله على الطبيعة	1	عنوان الخريطة	3
اسم وموضوع الخريطة والمكان الذي تمثله	3		

3 درجات

**السؤال الثالث : اكمل خرائط المفاهيم التالية ؟**



4 درجات

**السؤال الرابع : ( أ ) قارن بين الخريطة والصور الجوية وفق الجدول؟**

الصور الجوية	وجه المقارنة	الخريطة
لا تحتاج اليه	المفتاح	تحتاج ويوجد فيها
الظواهر الثابتة والمتحركة	الظاهرة التي تفسرها	الظواهر الثابتة فقط

5 درجات

**( ب ) وضع باختصار اهمية نظام ال GPS ؟**

يحدد المواقع بدقة عالية ويفيدنا في تحديد اتجاه القبلة وارشاد سائقي السيارات الى الاماكن التي يقصدونها

**السؤال الخامس: عزيزي الطالب من خلال دراستك لأنواع الخرائط صنف ما يأتي مستعينا بالشكل المجاور؟**

خريطة سكانية  
خريطة اقتصادية  
خريطة تاريخية  
خريطة مناخية



خريطة سكانية



خريطة اقتصادية



خريطة مناخية

3 درجات

التوقيع	اسم المصحح :	الدرجة	 وزارة التعليم Ministry of Education	المملكة العربية السعودية وزارة التعليم الإدارة العامة للتعليم بمنطقة مكتب التعليم مدرسة
التوقيع	اسم المراجع :	40	 رؤية 2030	

رقم الجلوس	الصف الثالث متوسط	العام الدراسي 1445 هـ	أسئلة اختبار منتصف الفصل الدراسي الثالث
عدد الصفحات : 2	الزمن : ساعه	المادة : اجتماعيات	اسم الطالب : .....

### السؤال الأول

استعن بالله ثم اجب على الاسئلة

5

ضع علامة ( √ ) أمام العبارة الصحيحة وعلامة ( X ) أمام العبارة الخاطئة

أ

( )	تساعد المساحة على تمثيل مواقع الظواهر الطبيعية.	1
( )	تتشابه الرموز في كل مفاتيح الخرائط	2
( )	اختلاف المعلومات التي تقدمها الخرائط أدى إلى تنوعها .	3
( )	الصور الجوية توضح الظواهر المتحركة	4
( )	يطلق على المساحة الأرضية المساحة التقليدية	5

5

### السؤال الثاني

أربط بين العمود [ أ ] بما يناسبه في العمود [ ب ] بوضع الرقم المناسب في مربع الإجابة :

م	العمود [ أ ]	الإجابة	العمود [ ب ]
1	توضح الهجرات البشرية في العالم.		خريطة سياسية
2	تمثل الحدود بين الدول		خريطة سكانية
3	تحوي حقول النفط في منطقة الخليج العربي.		خريطة مناخية
4	توضح طريق هجرة نبينا محمد من مكة المكرمة إلى المدينة المنورة		خريطة اقتصادية
5	تمثل مناطق نزول الأمطار صيفا في شبه الجزيرة العربية.		خريطة تاريخية



السؤال الثالث

ضع دائرة على الحرف الذي يسبق الإجابة الصحيحة لكل مما يلي :

5

1- تساعد في معرفة الشهور وأوقات الصلاة وتحديد القبلة .

أ المساحة الأرضية      ب المساحة الفلكية      ج المساحة الملاحية

2- النسبة بين البعد على الخريطة، وما يقابله على الطبيعة:

أ مفتاح الخريطة      ب مقياس الرسم      ج شبكة الاحداثيات

3 - مجموعة من المصطلحات والرموز تمثل الظواهر والمعالم التي على الخريطة

أ مفتاح الخريطة      ب شبكة الاحداثيات      ج المساحة

4- يبين موضوع الخريطة والمكان الذي تمثله:

أ عنوان الخريطة      ب مفتاح الخريطة      ج إطار الخريطة

5- تعني تحديد نُقط على سطح الأرض للمساحات الشاسعة،

أ المساحة الجيوديسية      ب المساحة المستوية      ج المساحة الطبوغرافية

السؤال الرابع

اكتب اثنين فقط لكل مما يلي :

أ - من أنواع مقاييس الرسم :

1- .....

2- .....

ب - استعمالات الصور الجوية :

1- .....


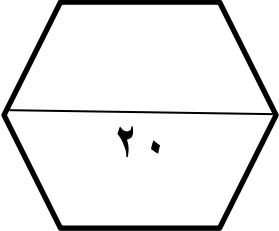
2- .....

ج - مكونات نظام تحديد المواقع العالمي :

1- .....

2- .....

5

الدرجة رقماً	السؤال	 <b>وزارة التعليم</b> Ministry of Education	وزارة التعليم الإدارة العامة للتعليم بمحافظة متوسطة			
			المادة	الصف	زمن الاختبار	
	١س		اجتماعيات	ثالث متوسط	٤٥ دقيقة	
	٢س		اسم الطالب:			
	٣س		الصف:			
عزيزي الطالب / استعن بالله ثم أجب عن الأسئلة التالية :			أسئلة اختبار منتصف الفصل الدراسي الثالث للعام الدراسي ١٤٤٥ هـ			

السؤال الأول : أجب بعلامة (√) أمام العبارة الصحيحة وعلامة (X) أمام العبارة الخاطئة :

( )	١) يحدد إطار الخريطة بعد الانتهاء من رسمها .
( )	٢) الخريطة لا توضح الظواهر المتحركة .
( )	٣) الصورة الجوية توضح خطوط الطول ودوائر العرض .
( )	٤) يشير مؤشر اتجاه الخريطة دائماً نحو جهة الشمال .
( )	٥) من فوائد إطار الخريطة تحديد الجزء الذي تمثله الخريطة .
( )	٦) التوقيع هو نقل المعلومات من الخريطة إلى الطبيعة .

السؤال الثاني : اختر الإجابة الصحيحة في الجمل التالية وذلك بوضع علامة (√) في المربع الذي أمامك :

١	هي وسيلة لتمثيل سطح الكرة الأرضية أو جزء منه بظواهره الطبيعية والبشرية على لوحة مستوية :	٢	هي الخرائط التي تمثل عليها الظواهر الطبيعية التي خلقها الله والتي لا أثر للإنسان في نشأتها :
أ-	<input type="checkbox"/> مقياس الرسم	أ-	<input type="checkbox"/> الخرائط البشرية
ب-	<input type="checkbox"/> الخريطة	ب-	<input type="checkbox"/> الخرائط الطبيعية
ج-	<input type="checkbox"/> علم المساحة	ج-	<input type="checkbox"/> الخرائط التضاريسية
د-	<input type="checkbox"/> الصورة الجوية	د-	<input type="checkbox"/> الخرائط السياسية
٣	توضح طريقة هجرة نبينا محمد صلى الله عليه وسلم من مكة المكرمة إلى المدينة المنورة خريطة :	٤	يقصد بها خطوط الطول ودوائر العرض :
أ-	<input type="checkbox"/> اقتصادية	أ-	<input type="checkbox"/> عنوان الخريطة
ب-	<input type="checkbox"/> مناخية	ب-	<input type="checkbox"/> إطار الخريطة
ج-	<input type="checkbox"/> تاريخية	ج-	<input type="checkbox"/> شبكة الاحداثيات
د-	<input type="checkbox"/> سياسية	د-	<input type="checkbox"/> مقياس الرسم

٥	أفضل أنواع المقاييس هو المقياس :	٦	هي صورة لجزء من سطح الأرض تلتقط بالطائرات أو المناطيد المزودة بالكاميرات التصوير :
أ-	<input type="checkbox"/> الخطي	أ-	<input type="checkbox"/> الظواهر الطبيعية
ب-	<input type="checkbox"/> الكتاني	ب-	<input type="checkbox"/> الاحداثيات
ج-	<input type="checkbox"/> النسي	ج-	<input type="checkbox"/> الخريطة
د-	<input type="checkbox"/> الكسري	د-	<input type="checkbox"/> الصور الجوية
٧	من فوائد نظام تحديد المواقع :	٨	المساحة الفلكية تكون لمعرفة الحسابات الفلكية مثل :
أ-	<input type="checkbox"/> تحديد المواقع تحديداً دقيقاً	أ-	<input type="checkbox"/> معرفة الشهور
ب-	<input type="checkbox"/> تحديد اتجاه القبلة	ب-	<input type="checkbox"/> أوقات الصلاة
ج-	<input type="checkbox"/> إرشاد السفن والطائرات	ج-	<input type="checkbox"/> تحديد القبلة
د-	<input type="checkbox"/> جميع ما سبق	د-	<input type="checkbox"/> جميع ما سبق

السؤال الثالث: اكتب الرقم المناسب من المجموعة ( أ ) أمام ما يناسبه من المجموعة ( ب ) :

مجموعة ( أ )	الاجابة	مجموعة ( ب )
١- المساحة الجيوديسية		الغرض منها إنشاء الخرائط التفصيلية وبيان المعالم وبعض التفاصيل .
٢- المساحة المستوية		الغرض منها رسم الخرائط التفصيلية من أجل بيان ما تحويه الأرض من معالم طبيعية وبشرية .
٣- عنوان الخريطة		تعني الأعمال المساحية التي تغطي جزء صغير من سطح الأرض دون الاهتمام بكروية الأرض .
٤- نظام ( GPS )		تعني تحديد نقط على سطح الأرض للمساحات الشاسعة مع الأخذ في الحسبان بكروية الأرض .
٥- المساحة التفصيلية		الاسم الذي يحدد موضوع الخريطة .
٦- المساحة الطبوغرافية		نظام مترابط يساعد على تحديد احداثيات أي مكان على سطح الأرض بدقة عالية وفق خطوط الطول ودوائر العرض .

انتهت الأسئلة

إعداد : خالد الحربي