

تم تحميل وعرض المادة من



موقع مادتي هو موقع تعليمي يعمل على مساعدة المعلمين والطلاب وأولياء الأمور في تقديم حلول الكتب المدرسية والاختبارات وشرح الدروس والملاحظات والتحاير وتوزيع المنهج لكل المراحل الدراسية بشكل واضح وسهل مجاناً بتصفح وعرض مباشر أونلاين وتحميل على موقع مادتي

حمل تطبيق مادتي ليصلك كل جديد



اختبار التربية الفنية - ثالث ابتدائي - الترم الثالث

الصف : ٣ /

اسم الطالب/ة :

السؤال الأول ، صح او خطأ :

١. الوحدة الزخرفية هي تتكون من الأشكال الزخرفية ويمكن تصنيفها الى ثلاثة أنواع نباتية وهندسية وكتابية

صح خطأ

٢. استخدم الفنان الزخارف الهندسية في جميع المجالات كزخرفة المساجد والأبواب والنوافذ والأثاث والمصاحف

صح خطأ

٣. الطبيعة بمختلف عناصرها مصدر إلهام الفنان

صح خطأ

٤. التكرار هو : إعادة الشيء مرة بعد الأخرى

صح خطأ

٥. من اتجاهات التكرار : مائل وأفقي وعمودي ومنحني

صح خطأ

السؤال الثاني ، صل بين المسمى والشكل المناسب :


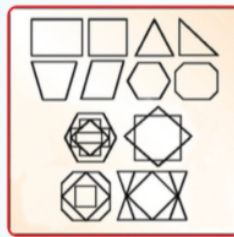


• الزخرفة الهندسية

• الزخرفة النباتية

السؤال الثالث ، اختار ما بين الأقواس وضعه في المكان المناسب في الفراغات التالية :

(الزخرفة بالخطوط ، الزخرفة بالأشكال الدائرية ، الزخرفة بالأشكال الهندسية)



.....

.....

.....

نموذج الاجابة

المملكة العربية السعودية
وزارة التعليم
الإدارة العامة للتعليم بمنطقة
ابتدائية

وزارة التعليم
Ministry of Education

اختبار التربية الفنية - ثالث ابتدائي - الترم الثالث

الصف : ٣ /

اسم الطالب/ة :

السؤال الأول ، صح او خطأ :

١. الوحدة الزخرفية هي تتكون من الأشكال الزخرفية ويمكن تصنيفها الى ثلاثة أنواع نباتية وهندسية وكتابية

صح خطأ

٢. استخدم الفنان الزخارف الهندسية في جميع المجالات كزخرفة المساجد والأبواب والنوافذ والأثاث والمصاحف

صح خطأ

٣. الطبيعة بمختلف عناصرها مصدر إلهام الفنان

صح خطأ

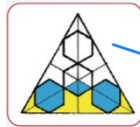
٤. التكرار هو : إعادة الشيء مرة بعد الأخرى

صح خطأ

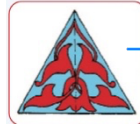
٥. من اتجاهات التكرار : مائل وافقي وعمودي ومنحني

صح خطأ

السؤال الثاني ، صل بين المسمى والشكل المناسب :



الزخرفة الهندسية



الزخرفة النباتية

السؤال الثالث ، اختار ما بين الاقواس وضعه في المكان المناسب في الفراغات التالية :

(الزخرفة بالخطوط ، الزخرفة بالأشكال الدائرية ، الزخرفة بالأشكال الهندسية)

