

تم تحميل وعرض المادة من



موقع مادتي هو موقع تعليمي يعمل على مساعدة المعلمين والطلاب وأولياء الأمور في تقديم حلول الكتب المدرسية والاختبارات وشرح الدروس والملاحظات والتحضير وتوزيع المنهج لكل المراحل الدراسية بشكل واضح وسهل مجاناً بتصفح وعرض مباشر أونلاين وتحميل على موقع مادتي

حمل تطبيق مادتي ليصلك كل جديد



بِسْمِ اللَّهِ الرَّحْمَنِ الرَّحِيمِ



الاسم :

إعداد : سعيد الغامدي

موقع مادنتي 

الفهرس

نظرة شاملة تعطي فكرة عامة عن المواضيع التي سيتناولها كتاب العلوم للصف الثالث المتوسط الفصل الدراسي الثالث

الوحدة الخامسة : الحركة والقوة

الفصل التاسع : الحركة والزخم		
الدرس ٣	الدرس ٢	الدرس ١
الزخم والتصادمات	التسارع	الحركة

الفصل العاشر : القوة وقوانين نيوتن	
الدرس ٢	الدرس ١
القانون الثالث لنيوتن	القانونان الأول والثاني لنيوتن

الوحدة السادسة : الكهرباء والمغناطيسية

الفصل الحادي عشر : الكهرباء	
الدرس ٢	الدرس ١
الدوائر الكهربائية	التيار الكهربائي

الفصل الثاني عشر : المغناطيسية	
الدرس ٢	الدرس ١
الكهرومغناطيسية	الخصائص العامة للمغناطيس

الحركة


لوصف جسم متحرك يتطلب :

(تغير موضعه وتحديد نقطة البداية ونقطة النهاية)

الفرق بين المسافة والإزاحة

طول المسار الذي يتم قطعه في خط غير مستقيم من نقطة البداية إلى نقطة النهاية

طول المسار الذي يتم قطعه في خط مستقيم من نقطة البداية إلى نقطة النهاية



وتقاس بوحدة : **متر / ثانية** ()

ويرمز لها اختصاراً بالرمز ()

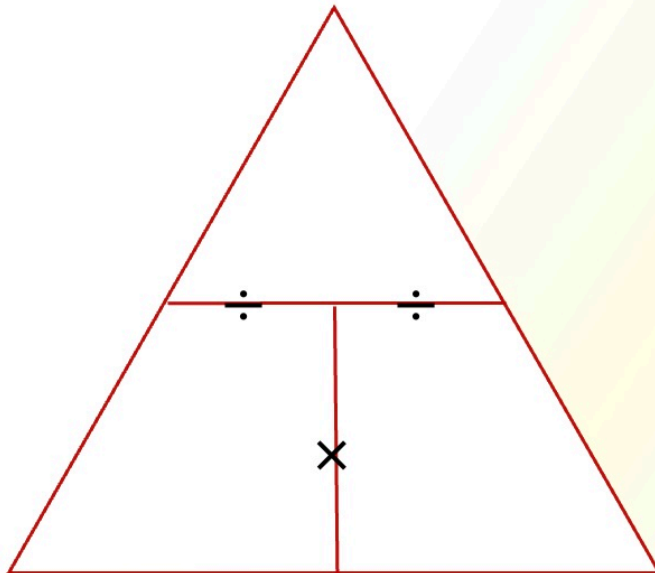
وترتبط السرعة بعاملين هما :

ويرمز لها بالرمز () وتقاس بوحدة : **الثانية** ()

ويرمز له بالرمز () ويقاس بوحدة : **المتر** ()

السرعة المتوسطة =

ع =



تطبيق (١)

احسب سرعة سبّاح يقطع مسافة ٢٧٠ متر في دقيقة ونصف ؟

المعطيات

ف = متر
 ز = دقيقة ونصف
 = ثانية

المطلوب

السرعة (ع) = ؟
 المعادلة المستخدمة
 ع = _____

التعويض في المعادلة

ع = _____
 ع =

تطبيق (٢)

تقطع طائرة ١٢٦٠ كم في ثلاث ساعات , احسب سرعتها المتوسطة ؟

المعطيات

ف = كم
 ز = ساعات

المطلوب

السرعة (ع) = ؟
 المعادلة المستخدمة
 ع = _____

التعويض في المعادلة

ع = _____
 ع =

الفرق بين السرعة المتوسطة والسرعة اللحظية والسرعة الثابتة والسرعة المتجهة

السرعة	هي المسافة التي تقطعها في زمن محدد حتى لو توقفت لظرف ما
السرعة	هي السرعة عند لحظة معينة ويمكن معرفتها من عداد سرعة السيارة
السرعة	في هذه الحالة تكون السرعة المتوسطة والسرعة اللحظية متساويتان الشكل ٤ ص ٢٢
السرعة	مقدار تغير السرعة لجسم ما ، وتحديد اتجاه حركة ذلك الجسم ويمكن التعبير عنها بسهم يشير رأسه للاتجاه الشكل ٥ ص ٢٢

التمثيل البياني للحركة

كلما كان ميل الخط في منحنى (المسافة _ الزمن) أكبر كان مقدار السرعة أكبر

التسارع

(يرمز له بالرمز)

هو التغير في السرعة المتجهة مقسوماً على الزمن اللازم لهذا التغير

()	(إذا كانت السرعة تتزايد فالتسارع في اتجاه السرعة)	الموجب
()	(إذا كانت السرعة تتناقص فالتسارع في اتجاه السرعة)	السالب
	(إذا كانت الحركة ذات سرعة ثابتة فإن التسارع يساوي صفر)	

حساب التسارع

$$\text{التسارع (متر / ثانية }^2\text{)} = \frac{\text{السرعة النهائية} - \text{السرعة الابتدائية}}{\text{الزمن}}$$

	ت (م / ث ^٢) =

تطبيق

واجه متزلج يتحرك بسرعة ٧ م / ث انحداراً أدى إلى زيادة سرعته إلى ١٧ م / ث خلال

٥ ثوان ، احسب تسارع المتزلج ؟

الحل

المعطيات

ع ١ = ٧ م / ث

ع ٢ = ١٧ م / ث

ز = ٥ ث

المطلوب

التسارع (ت) = ؟

المعادلة المستخدمة

ت = _____

التعويض في المعادلة

ت = _____

ت = _____

التمثيل البياني للتسارع

تطبيق

س ١ / هل هذه العبارة صحيحة
(إذا كانت السرعة ثابتة فإن التسارع يساوي صفر)؟

س ٢ / حدد وحدة قياس كلاً من :

	السرعة
	التسارع

س ٣ / متى تكون السرعة اللحظية تساوي السرعة المتوسطة ؟

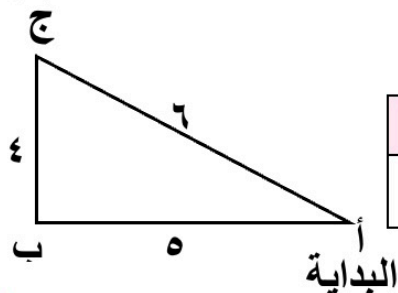
س ٤ / حدد السرعة لمتسابق يقطع ٤ كم في ١٥ دقيقة ؟

س ٥ / تتباطأ السيارة التي تستقلها نظراً لاقترابها من إشارة ضوئية .

فإذا كانت السيارة تسير بسرعة ١٥ م / ث وتوقفت خلال ٨ ثوان

فما تسارع هذه السيارة , وهل التسارع موجب أم سالب ؟

النهاية



س ٦ / أوجد ما يلي باستخدام الشكل :

المسافة من أ إلى ج	الإزاحة من أ إلى أ	المسافة من أ إلى أ	الإزاحة من أ إلى ج

التصادم : ارتطام جسم متحرك بجسم آخر

(الكتلة والقصور الذاتي)

الكتلة	كمية المادة في الجسم وتقاس بالكيلوجرام ()
القصور الذاتي	ميل الجسم لممانعة أي تغيير في حالته الحركية ويزداد بزيادة الكتلة

الشكل ١٢ ص ٣٠

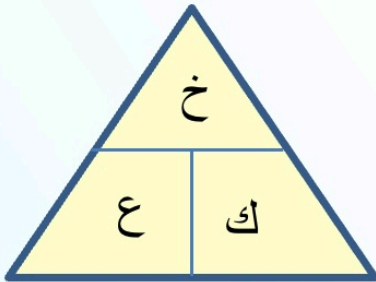
الزخم : مقياس لدرجة صعوبة إيقاف الجسم

ويرمز له اختصاراً بالرمز ()

ويقاس بوحدة : ()

وترتبط بعاملين هما :

(٢)	(١)
ويرمز لها اختصاراً بالرمز ()	ويرمز لها اختصاراً بالرمز ()
وتقاس بوحدة : متر / ثانية ()	وتقاس بوحدة : الكيلوجرام ()



$$\text{الزخم} = \text{الكتلة} \times \text{السرعة}$$

$$\times =$$

تطبيق

احسب زخم دراجة كتلتها ١٤ كجم وتتحرك بسرعة ٢,٥ م / ث شمالاً ؟

حفظ كمية الحركة (الزخم)

مبدأ حفظ الزخم : الشكل ١٣ ص ٣٢

يبقى الزخم الكلي لمجموعة من الأجسام ثابتاً ما لم تؤثر قوى خارجية في المجموعة

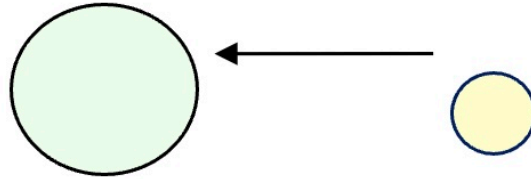
أنواع التصادمات الشكل ١٤ ص ٣٢

التصادم	ارتداد الأجسام المتصادمة بعضها عن بعض
التصادم	التحام الأجسام المتصادمة بعضها مع بعض

قانون حفظ الزخم

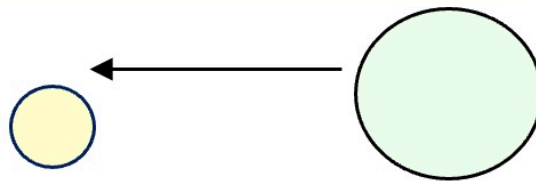
تصادم كرة كتلتها صغيرة بكرة كتلتها كبيرة ساكنة

ترتد الكرة الصغرى و تتحرك الكرة الكبرى في اتجاه حركة الكرة الصغرى قبل التصادم



تصادم كرة كتلتها كبيرة بكرة كتلتها صغيرة ساكنة

تتحرك كلتا الكرتين في نفس الاتجاه وتكون سرعة الكرة الصغرى أكبر



تصادم جسمان متماثلان في الكتلة ولهما نفس السرعة

كلا الكرتان ترتدان ويتحركان في اتجاهين متعاكسين بنفس السرعة

ويساوي الزخم الكلي قبل التصادم وبعد صفرأ



استخدام مبدأ حفظ الزخم

يستخدم للتنبؤ بالسرعة المتجهة للأجسام بعد تصادمها مع افتراض أن الزخم الكلي للأجسام المتصادمة لا يتغير

مثال : الشكل ١٥ ص ٣٣

طالب يلبس مزلاجين ويقف مقابل طالب آخر
ثم طلب من هذا الطالب الذي يقف في الجهة المقابلة أن يقذف إليه حقييته

كتلة الطالب الذي يلبس المزلاجين = ٤٨ كجم

السرعة الابتدائية للطالب الذي يلبس المزلاجين =

كتلة الحقيبة = ٢ كجم

سرعة الحقيبة المتجهة الابتدائية = ٥ م / ث شرقاً

أحسب السرعة المتجهة للطالب الذي يلبس المزلاجين وللحقيبة بعد التقاطها مباشرة ؟

الحل

الزخم الكلي قبل التصادم =	زخم الحقيبة + زخم الطالب الذي يلبس المزلاجين
=	(ك الحقيبة × ع للحقيبة) + (ك الطالب × ع الطالب)
=	(٢ × ٥) + (٤٨ × صفر)
=	() + ()
الزخم الكلي قبل التصادم =	

السرعة المتجهة =	الزخم الكلي بعد التصادم ÷ (كتلة الحقيبة + كتلة الطالب)
=	(+) ÷
=	÷
السرعة المتجهة =	

تطبيق

س ١ / أكتب المصطلح العلمي (ممانعة تغيير الجسم لحالته الحركية) ؟

.....

س ٢ / حدد وحدة قياس كلاً من :

	الكتلة
	الزخم

س ٣ / ماذا يحدث من تصادم كرة ذات كتلة كبيرة بكرة ذات كتلة صغيرة ؟

.....
.....

س ٤ / اصطدمت كرة (أ) كتلتها ١ كجم كانت تتحرك بسرعة متجهة ٣ م / ث شرقاً بكرة أخرى (ب) كتلتها ٢ كجم فتوقفت .

إذا كانت الكرة الثانية (ب) ساكنة قبل التصادم فاحسب سرعتها المتجهة بعد التصادم ؟

زخم الكرة (أ) + زخم الكرة (ب)	= الزخم الكلي قبل التصادم
(ك الكرة × ع الكرة) + (ك الكرة × ع الكرة)	=
(×) + (×)	=
() + ()	=
	= الزخم الكلي قبل التصادم

الزخم الكلي بعد التصادم ÷ (كتلة الكرة أ + كتلة الكرة ب)	= السرعة المتجهة
(+) ÷	=
÷	=
	= السرعة المتجهة

تطبيق الفصل التاسع : الحركة والزخم

س ١ / أكتب تعريفاً لما يلي :

	الإزاحة
	القصور الذاتي

س ٢ / أكمل الفراغات التالية :

	بالنظر للعداد ١٢٠ كلم / ساعة تسمى السرعة
	إذا كانت الحركة ذات سرعة ثابتة فإن التسارع يساوي
	ارتداد الأجسام المتصادمة بعضها عن بعض

س ٣ / اختر الإجابة الصحيحة :

عندما يكون التسارع في نفس اتجاه السرعة	سالب	موجب
سرعة السيارة ١١٠ كلم / ساعة باتجاه الشمال تعني السرعة	المتجهة	المتوسطة
مقياس لدرجة صعوبة إيقاف الجسم	الزخم	القصور

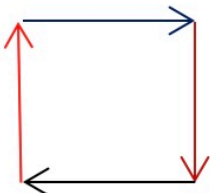
س ٤ / المسائل الحسابية : أكتب القانون ووضح الطريقة ولا تنسى الوحدات:

أ) قطع عداء مسافة السباق ربع كيلومتر في زمن قدره ربع دقيقة . احسب سرعة العداء ؟

ب) احسب تسارع حافلة تحركت من المواقف وبعد ٢,٥ ثانية أصبحت سرعتها ١٠ م / ث ؟

ج) احسب زخم دراجة كتلتها ٢١ كجم وتتحرك بسرعة مقدارها ٧ م / ث جنوباً ؟

س ٥ / تحرك سعد مسافة ٢ كم شمالاً ثم مسافة ٢ كم شرقاً ثم مسافة ٢ كم جنوباً ثم مسافة ٢ كم غرباً ؟



	المسافة الكلية التي قطعها سعد =
	الإزاحة =

القوة () : إما أو الشكل ١ ص ٤٦

حساب القوة المحصلة

١	إذا كانت القوى في اتجاه واحد فإنها	لتكون القوة المحصلة
٢	إذا كانت القوى في اتجاهين متعاكسين فإن	هو القوة المحصلة ويكون اتجاهها في اتجاه القوة الكبرى وتسمى القوى ()
٣	عندما تكون القوتان متعاكستان ومتساويتان تكون القوة المحصلة =	وتسمى القوى ()

الشكل ٢

ص ٤٧

القانون الأول لنيوتن

نص القانون الأول لنيوتن :

إذا كانت القوة المحصلة المؤثرة في جسم ما تساوي صفر فإن الجسم يبقى ساكناً وإذا كان الجسم متحركاً فإنه يبقى متحركاً في خط مستقيم وبسرعة ثابتة

الشكل ٣ ص ٤٩ قوة الاحتكاك

قوة ممانعة تنشأ بين سطوح الأجسام المتلامسة (مقاومة الانزلاق)

أنواع الاحتكاك

الشكل ٤ ص ٥٠	الاحتكاك السكوني
يمنع الأجسام من الحركة وتكون القوة المحصلة تساوي ()	
الشكل ٥ ص ٥١	الاحتكاك الانزلاقي
يعمل على تقليل السرعة ويعود ذلك إلى خشونة السطوح المتلامسة	
الشكل ٦ ص ٥١	الاحتكاك التدحرجي
ينتج عندما يدور جسم فوق سطح ما وهو أقل من الاحتكاك الانزلاقي	

س / وضح الاحتكاك الانزلاقي والتدحرجي في الدراجة الهوائية ؟

الاحتكاك الانزلاقي بين و الاحتكاك التدحرجي بين و

الشكل ٦ ص ٥١

القانون الثاني لنيوتن

يربط القانون الثاني للحركة بين

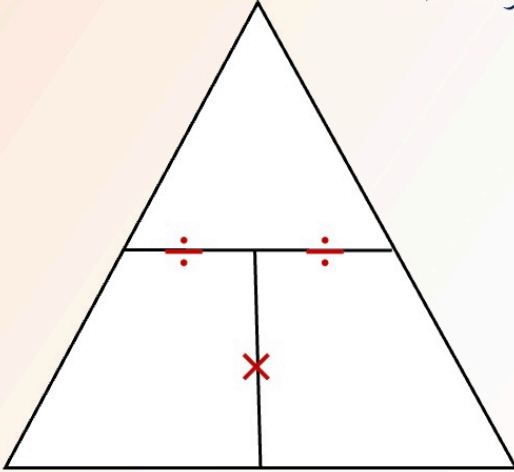
ص ٥٢

الشكل ٧

الكتلة	التسارع	محصلة القوة المؤثرة في الجسم
--------	---------	------------------------------

نص القانون الثاني لنيوتن :

ينص على أن تسارع جسم ما يساوي ناتج قسمة محصلة القوة المؤثرة فيه على كتلته ويكون اتجاه التسارع في اتجاه القوة المحصلة



القوة المحصلة (نيوتن)	التسارع (م / ث ^٢) =
الكتلة (كجم)	
	= ت

الجاذبية

هناك قوة جاذبية بين الجسمين (تسحب الأجسام بعضها في اتجاه بعض)
وتعتمد قوة الجاذبية على :

كتلة الجسمين	علاقة
البعد بين الجسمين	علاقة

مقارنة بين الوزن والكتلة

الوزن (نيوتن)	الكتلة (كجم)
مقدار الجذب المؤثرة في الجسم	مقدار ما في الجسم من مادة
يرتبط الوزن بقيمة الجاذبية الأرضية (٩,٨)	مقدار ثابت ولا يتأثر بالجاذبية الأرضية

س / جسم كتلته ٦٠ كجم قارن بين وزنه وكتلته على الأرض وفي الفضاء ؟

المقارنة	على الأرض	في الفضاء
الوزن		
الكتلة		

استخدام القانون الثاني لنيوتن (يرتبط بالتسارع)

الشكل ٩ ص ٥٥	تتناقص	تتزايد	الشكل ٨ ص ٥٤
تتباطأ (-)	مثال		تتسارع (+)

عند سحب صندوق كتلته ١٠ كجم بقوة محصلة قدرها ٥ نيوتن , فكم يكون التسارع ؟

الشكل ١٠ ص ٥٥ : الانعطاف :

عندما لا تكون القوة المحصلة مع اتجاه الحركة ولا عكسها فيتحرك الجسم في مسار

الحركة الدائرية :

الجسم المتحرك في مسار دائري يتسارع باستمرار

وتكون القوة المحصلة تؤثر فيه باستمرار وتسمى (القوة)

ويكون اتجاهها في مسار

الشكل ١١ ص ٥٧ مثل : حركة القمر الاصطناعي

إذا كانت سرعة القمر الاصطناعي كبيرة جداً عندئذٍ لن يصطدم بالأرض

وسيواصل السقوط بالدوران حول الأرض

مقاومة الهواء :

شكل من أشكال الاحتكاك ويعتمد على : سرعة الجسم وشكله

عندما يسقط الجسم من ارتفاع معين يتسارع بسبب الجاذبية وتزداد سرعته باستمرار وفي الوقت نفسه تزداد مقاومة الهواء له وفي النهاية تصبح قوة مقاومة الهواء نحو الأعلى كبيرة

عندما تصبح مقاومة الهواء مساوية للوزن تصبح القوة المحصلة صفر

ويسقط الجسم بسرعة ثابتة وتسمى هذه السرعة الثابتة بالسرعة

مركز الكتلة :

هي نقطة يبدو أن كتلة الجسم مركزة فيها

(لكل قوة فعل قوة ردة فعل مساوية في المقدار ومعاكسة في الاتجاه)

تؤثر القوى دائماً في صورة أزواج متساوية مقداراً ومتعاكسة اتجاهاً

لا تلغي قوتا الفعل وردة الفعل إحداهما الأخرى عندما تؤثر في جسمين مختلفين

أمثلة :

رافعة السيارة ، دفع الطفل الحائط برجليه عند السباحة ، تحليق الطيور ، إطلاق الصواريخ

ص ٦٣

الشكل ١٧

ص ٦١

الشكل ١٤

ص ٦١

الشكل ١٣

ص ٦٠

الشكل ١٢

ص ٦٢

الشكل ١٥

قوانين نيوتن في عالم الرياضة

ص ٦٣

الشكل ١٦

التغير في الحركة يعتمد على الكتلة

المشي على الأرض (مقارنة كتلة الجسم مع كتلة الأرض)

ص ٦٤

الشكل ١٨

انعدام الوزن

حركة رواد الفضاء داخل المكوك الفضائي

السقوط الحر وانعدام الوزن

الجسم الساقط سقوطاً حراً هو الجسم الذي يتأثر بقوة واحدة فقط

هي قوة الجاذبية سواءً أكنت واقفاً على الأرض أو ساقطاً نحوها

لا تتغير قوة الجاذبية المؤثرة في جسمك

في حين يمكن أن يتغير وزنك الذي تقيسه بالميزان

تحدث حالة انعدام الوزن في السقوط الحر فيبدو الجسم كما لو كان لا وزن له

ص ٦٥

الشكل ١٩

انعدام الوزن في المدار

يكون المكوك الفضائي أثناء حركته في المدار حول الأرض

في حالة سقوط حر حيث يسقط في مسار منحنٍ

وتبدو الأجسام أنها بلا وزن

س ١ / يوجد ثلاثة أنواع للاحتكاك ، أذكرها ؟

--	--	--

س ٢ / أكمل الفراغات التالية :

	تعتمد قوة الجاذبية على البعد بين الجسمين وتكون العلاقة بينهما
	إذا كانت القوى المؤثرة على جسم متزنة فإن القوة المحصلة =
	إما دفع أو سحب

س ٣ / حدد قانون نيوتن للأمثلة التالية :

الثالث	الثاني	الأول	عندما يوجد منحدر تتزايد سرعة الجسم
الثالث	الثاني	الأول	لكل فعل ردة فعل مساوية في المقدار ومتعاكسة في الاتجاه
الثالث	الثاني	الأول	القانون الذي يرتبط بالاحتكاك هو قانون نيوتن

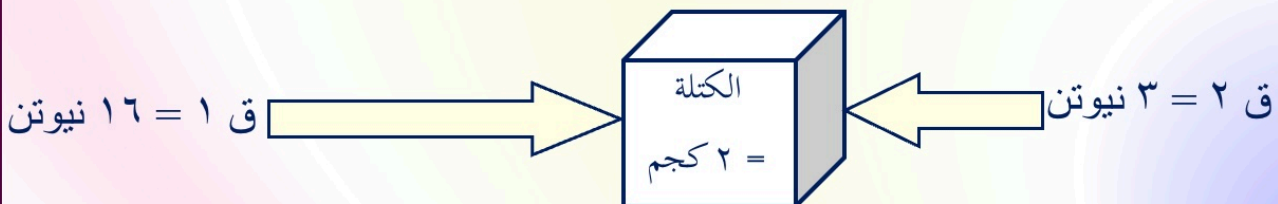
س ٤ / المسائل الحسابية :

أ) احسب تسارع جسم كتلته ٢ كجم أثرت عليه قوة مقدارها ٨ نيوتن ؟

ب) جسم كتلته ٥٠ كجم قارن بين وزنه وكتلته على الأرض وفي الفضاء ؟ وضح الإجابة

المقارنة	في الفضاء	على الأرض
الكتلة		
الوزن		

ج) أحسب التسارع للصندوق في الشكل التالي :



الوحدة السادسة : الكهرباء والمغناطيسية

الفصل الحادي عشر : الكهرباء

الدرس ٢	الدرس ١
الدوائر الكهربائية	التيار الكهربائي

الفصل الثاني عشر : المغناطيسية

الدرس ٢	الدرس ١
الكهرومغناطيسية	الخصائص العامة للمغناطيس

درست أن المواد تتكون من ذرات

والذرة تتكون من نواة (تحوي بروتونات موجبة ونيوترونات متعادلة ويدور حولها إلكترونات سالبة)

الذرة تشحن بشحنة سالبة إذا كسبت إلكترونات وتشحن بشحنة موجبة إذا فقدت إلكترونات

الذرة المشحونة بشحنة موجبة أو سالبة تسمى أيون

الشكل ١ ص ٨٠ في المواد الصلبة إذا دلكت بالوناً بالشعر فإن الإلكترونات الشكل ٢ ص ٨١

تنتقل من ذرات الشعر إلى ذرات سطح البالون فيصبح الشعر (+) والبالون (-)
عدم توازن توزيع الشحنة الكهربائية على الجسم يسمى الشحنة الكهربائية الساكنة
أما في المحاليل فتنقل بسبب حركة الأيونات فملح الطعام يتكون من أيونات الصوديوم
وأيونات الكلور وعند ذوبانها في الماء تتباعد الأيونات عن بعضها فتصبح حرة الحركة

الموصلات	أشباه الموصلات	العوازل
يمكن للإلكترونات الحركة فيها بسهولة مثل : الذهب والنحاس	مواد تتصف كعوازل وبعض الأحيان كموصلات مثل : الجرمانيوم والسليكون	لا يمكن للإلكترونات الحركة فيها بسهولة مثل : البلاستيك والخشب

القوى الكهربائية الشكل ٣ ص ٨١

تؤثر الأجسام المشحونة في بعضها البعض

تنافر	تنافر	تجاذب
- و -	+ و +	- و +

ويعتمد مقدار القوة بين جسمين على

كمية الشحنة (تزداد القوة كلما زادت الشحنة)	المسافة بينهما (تزداد القوة كلما نقصت المسافة)
---	---

المجال الكهربائي

هو الحيز الذي يحيط بالشحنة الكهربائية وتظهر فيه الآثار الكهربائية لتلك الشحنة

عندما تسير في يوم جاف فوق سجادة ثم تلامس مقبض باب فلزي تشعر بلسعة كهربائية حدث ذلك لأن الإلكترونات انتقلت من السجادة إلى قدميك ثم انتشرت على سطح جسمك وعند اقتراب اليد من مقبض الباب أثر المجال الكهربائي في أطراف الأصابع مع مقبض اليد الفلزي ويسمى هذا الفصل إلى شحنة موجبة وشحنة سالبة الناجم عن المجال الكهربائي حث الشحنات وإذا كان المجال الكهربائي قوياً بدرجة كافية ستنتزع الإلكترونات من يدك إلى مقبض الباب وتسمى هذه الحركة السريعة التفريغ الكهربائي ، وكذلك من الأمثلة عليها البرق والصاعقة

التيار الكهربائي :

هو تدفق الشحنات الكهربائية

في المواد الصلبة ()

في المواد السائلة ()

يقاس التيار الكهربائي بوحدة ()

ويعد النموذج الذي يمثل تدفق الماء عبر منحدر بسبب قوة الجاذبية التي تؤثر فيه أفضل طريقة لتوضيح التيار الكهربائي وبالمثل تتدفق الإلكترونات بسبب القوة الكهربائية المؤثرة فيها

الدائرة الكهربائية البسيطة

تتكون من مصدر للطاقة (.....) ومصباح كهربائي وأسلاك توصيل تجعل الدائرة مغلقة ومنها السلك المتوهج داخل المصباح الكهربائي ولا يتوقف إلا بحدوث قطع في الدائرة

الجهد الكهربائي

مقياس مقدار ما يكتسبه كل إلكترون من طاقة الوضع الكهربائية

يقاس الجهد الكهربائي بوحدة ()

كلما زاد الجهد الكهربائي زاد مقدار طاقة الوضع الكهربائية (علاقة)

كيف يسري التيار الكهربائي

عند توصيل طرفي السلك مع البطارية تنتج البطارية مجالاً كهربائياً داخل السلك فيؤثر على الإلكترونات فيجبرها على الحركة نحو القطب الموجب للبطارية وخلال هذه الحركة تتصادم الإلكترونات مع شحنات كهربائية أخرى داخل السلك فتنحرف في اتجاهات مختلفة

البطارية

تزود البطارية الدائرة الكهربائية بالطاقة

تتحول الطاقة بداخل البطارية إلى طاقة

البطارية : يوجد عجينة لينة تفصل بين قطبي البطارية

وتنتقل الإلكترونات من الطرف السالب عبر الأسلاك الخارجية إلى الطرف الموجب

عمر البطارية :

عندما تستهلك المواد الكيميائية المتفاعلة بداخل البطارية يتوقف التفاعل وينتهي عمر البطارية

المقاومة الكهربائية

قياس مدى الصعوبة التي تواجهها الإلكترونات في التدفق خلال المادة

تقاس المقاومة الكهربائية بوحدة تسمى ()

يعتمد مقدار الطاقة الكهربائية المحولة إلى طاقة حرارية وضوء على المقاومة الكهربائية للمواد

استخدام أسلاك النحاس () في المباني . علل (أذكر السبب)

لأن قليلة (لا تسخن للحد الذي تسبب حرائق)

وتعتمد المقاومة أيضاً على :

الطول (علاقة طرية)	السُمك (علاقة عكسية)
تزداد المقاومة بزيادة طول السلك	تزداد المقاومة بنقصان السُمك

فتيل المصباح الكهربائي

يصنع فتيل المصباح من سلك رفيع جداً ويسخن بدرجة كافية لانبعث الضوء منه

ومع ذلك نجد أن الفتيل لا ينصهر لأنه مصنوع من فلز ()

الذي له درجة انصهار عالية جداً وتكون المقاومة الكهربائية له

العلاقة الطردية : إذا زاد المقدار الأول زاد المقدار الثاني والعكس

العلاقة العكسية : إذا زاد المقدار الأول قل المقدار الثاني والعكس

يعتمد مقدار التيار الكهربائي على :

مقاومة المادة الموصلة	الجهد الكهربائي الناتج عن البطارية
يقل التيار الكهربائي بزيادة المقاومة الكهربائية	يزيد التيار الكهربائي بزيادة الجهد الكهربائي

عند رفع الدلو للأعلى يزداد مقدار طاقة وضع الماء داخله

وهذا يزيد من سرعة تدفق الماء الشكل ١٠ ص ٨٧

قانون أوم

الجهد (فولت) (V) =	التيار (أمبير) (A)	×	المقاومة (أوم) (Ω)
ج	ت	×	م

تطبيق

مصباح مقاومته ٢٢٠ أوم , يمر فيه تيار شدته ٠,٥ أمبير , احسب الجهد الكهربائي ؟

ج =	ت	×	م
الجهد (فولت) (V) =	٠,٥ (أمبير) (A)	×	٢٢٠ (أوم) (Ω)
ج			

الدوائر الكهربائية الموصلة على التوالي وعلى التوازي

التوازي	التوالي
يوجد تفرع يسري فيه التيار الكهربائي وإذا تم إزالة أحد الأجهزة فلن يحدث قطع للتيار الكهربائي وتختلف قيمة التيار من مسار لآخر	يوجد مسار للتيار الكهربائي وإذا قطع التيار الكهربائي ستتوقف جميع الأجهزة المتصلة بهذه الدائرة وإذا أضيف جهاز جديد قل التيار

حماية الدوائر الكهربائية

عند زيادة التيار الكهربائي في دوائر التوصيل على التوازي

وذلك بإضافة أجهزة أخرى قد ترتفع درجة الحرارة ويؤدي لحريق ولمنع ذلك تستخدم المنصهرات أو قواطع كهربائية لتضع حداً لزيادة التيار فإذا وصلت شدة التيار الكهربائي إلى ١٥ أمبير أو ٢٠ أمبير يحدث انصهار للسلك الفلزي الرفيع الموجود داخل المنصهر

القدرة الكهربائية

مقدار تحول الطاقة الكهربائية إلى أشكال أخرى من الطاقة ، وحدة قياسها ()

القدرة (واط) (W) =	التيار (أمبير) (A)	×	الجهد (فولت) (V)
القدرة	ت	×	ج

تكلفة الطاقة الكهربائية

عداد الكهرباء يقيس كمية الطاقة الكهربائية المستهلكة : (kWh) بوحدة الكيلو واط . ساعة ويترتب على هذا الاستخدام تكلفة مالية

الكيلو واط . ساعة هو مقدار من الطاقة الكهربائية يساوي

استهلاك قدرة مقدارها ١٠٠٠ واط بشكل مستمر لمدة ساعة واحدة ويكفي لإضاءة مصباح قدرته ١٠٠ واط لمدة ١٠ ساعات وترسل شركة الكهرباء لعملائها فاتورة لتخبرهم بمقدار الطاقة الكهربائية التي استهلكوها خلال شهر ليتم السداد وذلك باستخدام عداد الكهرباء الموجود خارج المبنى

الكهرباء والسلامة

الصدمة الكهربائية

عند التعرض لصدمة كهربائية فإن السوائل في داخل الجسم موصلة جيدة للكهرباء في حين أن مقاومة الجلد الجاف أكثر من مقاومة الجلد الرطب

وقد تكون الصدمة الكهربائية قاتلة

الأمان من الصاعقة

عدم الخروج في الأماكن المكشوفة | تجنب الأماكن العالية | الابتعاد عن الأجسام الطويلة

	س ١ / ما نوع الدوائر الكهربائية المستخدمة في المدارس ؟
	س ٢ / خاصية تزيد في السلك عندما يقل سُمكه ؟
	س ٣ / أذكر مثال على أشباه الموصلات ؟

س ٤ / حدد وحدة قياس كلاً من :

القدرة الكهربائية	المقاومة الكهربائية	الجهد الكهربائي	التيار الكهربائي

س ٥ / ما فائدة المنصهرات (الفيوز) في الأجهزة الكهربائية ؟

س ٦ / مصباح شدته ٠,٥ أمبير موصل بمصدر كهربائي جهده ١١٠ فولت
احسب قدرته الكهربائية

س ٧ / أكمل الفراغات التالية :

أ) السلك المتوهج داخل المصباح مصنوع من فلز
ب) التوصيل ضمن خط واحد يوجد في دوائر التوصيل على
ج) يعتمد مقدار القوة الكهربائية على كمية الشحنة وعلى

س ٨ / اختر الإجابة الصحيحة :

تدفق الشحنات الكهربائية في المواد السائلة	الأيونات	الإلكترونات
نوع الطاقة بداخل البطارية	طاقة كهربائية	طاقة كيميائية
عندما يكون القطبان متشابهان	تجاذب	تنافر
مادة يصعب انتقال الشحنات الكهربائية خلالها	السلك النحاسي	العازل

لاحظ الناس قديماً أن هناك معدن يجذب القطع الحديدية

وقطعاً أخرى من المعدن نفسه يسمى هذا المعدن

وكذلك توصلوا لأول بوصلة في التاريخ بتعليق قطعة ممغنطة تعليقاً حرّاً في الهواء
وذلك لأهميتها الكبرى في الملاحة البحرية

الشكل ١ ص ١٠٤

المغناط

المغناطيس الطبيعي جزء من معدن الجنتايت ولكل مغناطيس طرفان (قطبان)
يسمى أحدهما القطب () ويسمى الآخر القطب ()
القطبان المتشابهان يحدث بينهما والقطبان المختلفان يحدث بينهما

الشكل ٢ ص ١٠٥

المجال المغناطيسي

تساعد برادة الحديد على إظهار خطوط المجال المغناطيسي

كيف يحرك المغناطيس جسماً دون أن يلامسه !

تؤثر القوة المغناطيسية ضمن منطقة تحيط بالمغناطيس تسمى

ش ج

تبدأ خطوط المجال المغناطيسي من القطب الشمالي وتنتهي في القطب الجنوبي

الشكل ٣ ص ١٠٦

يكون المجال المغناطيسي أقوى عند القطبين

الشكل ٤ ص ١٠٦

كيف ينشأ المجال المغناطيسي

تصبح بعض المواد مثل الحديد مغناطيساً , ويحيط بها مجال مغناطيسي ويتولد المجال المغناطيسي
عندما تتحرك الشحنات الكهربائية فحركة الإلكترونات تولد مجالاً مغناطيسياً ويوجد داخل كل
مغناطيس شحنات متحركة وتحتوي كل ذرة على جسيمات مشحونة بشحنة سالبة تسمى
الإلكترونات وحركة هذه الإلكترونات تكون بصورة دائرية حول النواة وحول نفسها في حركة مغزلية
الحديد يوجد به عدد كبير من الذرات لها مجالات مغناطيسية تشير إلى الاتجاه نفسه وتسمى هذه
المجموعة من الذرات التي تشير مجالاتها المغناطيسية إلى الاتجاه نفسه (المنطقة المغناطيسية)

يحتوي الحديد على العديد من المناطق المغناطيسية وتكون مرتبة في اتجاهات مختلفة

لذا لا يؤثر كمغناطيس الشكل ١٥ ص ١٠٧

أما إذا قربنا مغناطيس قوي من الحديد فإنه سيعمل

الشكل ٥ ب ص ١٠٧

على ترتيب المناطق المغناطيسية داخل قطعة الحديد

الشكل ٥ ج ص ١٠٧

وهذه العملية تؤدي إلى مغنطة مشابك الورقة

الشكل ٦ ص ١٠٨

المجال المغناطيس للأرض

الكرة الأرضية لها مجال مغناطيسي ويقوم الغلاف المغناطيسي للكرة الأرضية

بحماية الأرض من كثير من الجسيمات المتأينة القادمة من الشمس

ويعتقد أن مركز المجال المغناطيسي يقع عميقاً في لب الأرض الخارجي

(بسبب حركة الحديد المصهور في اللب)

ويميل المجال المغناطيسي للأرض بزاوية 11° للخط الواصل بين قطبي الأرض الجغرافيين

يختلف موقع القطب المغناطيسي للأرض من سنة إلى أخرى الشكل ٧ ص ١٠٩

فالقطب الشمالي يقع الآن في مكان يختلف عما كان عليه قبل ٢٠ سنة

المغناطيس الطبيعي

تملك بعض المخلوقات الحية أدوات ملاحية طبيعية خاصة مثل النحل والحمام

فهي تستفيد من المغناطيسية لإيجاد طريقها

(وهب الله لهذه المخلوقات قطعاً صغيرة من معدن **المجناثيت** داخل أجسامها ولهذا القطع

مجالات مغناطيسية تعتمد عليها في تعرف المجال المغناطيسي الأرضي لتحديد طريقها)

وتستخدم بالإضافة لذلك نقاطاً استرشادية كالشمس والنجوم

الشكل ٨ ص ١١٠

البوصلة

قضيب مغناطيسي صغير له قطبان شمال وجنوبي

وعند وضعها في مجال مغناطيسي تدور ثم تثبت في اتجاه يوازي خطوط المجال

وكذلك يعمل المجال المغناطيسي للأرض على تدوير إبرة البوصلة

تأثر اتجاه البوصلة بمكان وجودها حول القضيب المغناطيسي

عند إضاءة مصباح كهربائي ستتحرك الشحنات الكهربائية في السلك
وستسمح بمرور التيار الكهربائي وبهذا ينشأ المجال المغناطيسي حول السلك

الشكل ٩ أ ص ١١١

المغناطيس الكهربائي

يصبح المجال المغناطيسي قوياً عند لف السلك الذي يسري فيه التيار الكهربائي
على شكل ملف حلزوني لأن المجالات المغناطيسية تتحد معاً
عند لف سلك حول قضيب حديدي يسري فيه التيار الكهربائي

فإن المجال المغناطيسي يمتد الحديد ليصبح مغناطيس

الشكل ٩ ب ص ١١١

يسمى السلك الذي يلف حول قلب حديدي ويسري فيه تيار كهربائي

بالمغناطيس الكهربائي

الشكل ٩ ج ص ١١١

أمثلة على استخدام المغناطيس الكهربائي

جرس الباب يحتوي على مغناطيس كهربائي فعندما تقفل الدائرة الكهربائية

يعمل المغناطيس الكهربائي وتضرب المطرقة الناقوس

الشكل ١٠ ص ١١٢

الجلفانومتر (مؤشر الوقود في السيارة)

أداة صغيرة تعمل على تحريك إبرة العداد

الأميتر (يستخدم لقياس شدة التيار الكهربائي)

يتكون من جلفانومتر ومقاومة صغيرة جداً ويوصل على التوالي

الشكل ١١

الفولتميتر (يستخدم لقياس فرق الجهد الكهربائي)

ص ١١٣

يتكون من جلفانومتر ومقاومة كبيرة جداً ويوصل على التوازي

الشكل ١٢ ص ١١٤

التجاذب والتنافر المغناطيسي

الأسلاك التي تحمل تياراً كهربائياً تولد مجالاً مغناطيسياً له نفس صفات المجال المغناطيسي الدائم
ويتجاذب السلكان اللذان يسري فيهما تياران كهربائيان في الاتجاه نفسه
كالأقطاب المغناطيسية المختلفة تماماً

المحرك الكهربائي

جهاز يحول الطاقة الكهربائية إلى طاقة حركية وللمحافظة على دوران المحرك يصنع السلك على شكل ملف مما يجعل المجال المغناطيسي يؤثر فيه بقوة تجعله يدور باستمرار

الغلاف المغناطيسي

يؤثر المجال المغناطيسي للأرض في الجسيمات القادمة من الشمس لحماية الأرض وتؤثر هذه التيارات الشمسية على شكل الغلاف المغناطيسي للأرض فتدفعه نحو الاتجاه البعيد عن الشمس وهذا دليل على بديع صنع الخالق عز وجل في الكون (حيث تحمي الإنسان والمخلوقات الحية على الأرض من هذه الجسيمات المشحونة)

الشفق القطبي

تبعث الشمس أحياناً كمية كبيرة من الجسيمات المشحونة مرة واحدة ويشتت المجال المغناطيسي للأرض الكثير منها إلا أن بعضها يولد جسيمات مشحونة في السطح الخارجي للغلاف الجوي للأرض فتتحرك حرمة لولبية على امتداد خطوط المجال المغناطيسي للأرض وتنحرف نحو قطبي الأرض فتتصادم عند القطبين مع ذرات الغلاف الجوي وتسبب انبعاث الضوء من الذرات فتتوهج وتصدر أضواء تعرف بالشفق القطبي (أضواء الشمال)

المولد الكهربائي

جهاز يستخدم المجال المغناطيسي ليحول الطاقة الحركية إلى طاقة كهربائية ولإنتاج تيار كهربائي يشكّل السلك في صورة ملف ولكي يدور الملف يوصل بمصدر قدرة خارجي يزودها بطاقة حركية يغير التيار الكهربائي المتولد في السلك اتجاهه كل نصف دورة مما يسبب تردد التيار من الموجب إلى السالب وعندها يسمى التيار المتردد وفي المملكة العربية السعودية يتغير اتجاه تردد التيار الكهربائي الذي تزود به المنازل بمعدل ٦٠ مرة خلال الثانية

أنواع التيار الكهربائي

التيار المستمر (DC)	التيار المتردد (AC)
تتدفق الإلكترونات في اتجاه واحد مثل البطارية	تغير الإلكترونات اتجاه حركتها عدة مرات في الثانية

استخدام المولدات الضخمة في محطات توليد القدرة الكهربائية تنتج ما يكفي من الكهرباء لآلاف المنازل وذلك باستخدام مصادر متنوعة من الطاقة مثل الفحم أو الغاز أو النفط أو طاقة المياه الساقطة من الشلالات والأكثر شيوعاً هو استخدام الفحم الحجري

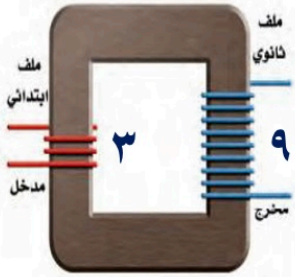
الجهد الكهربائي (مقياس لمقدار الطاقة الكهربائية)

يتم نقل الطاقة الكهربائية المولدة في محطات القدرة الكهربائية إلى المنازل باستخدام الأسلاك بفرق جهد يصل إلى ٧٠٠٠٠٠ فولت ولنقلها إلى المنازل نحتاج إلى استعمال المحول الكهربائي

المحول الكهربائي

جهاز يغير الجهد الكهربائي للتيار المتردد مع ضياع القليل من الطاقة

تستخدم المحولات لرفع الجهد قبل نقل التيار الكهربائي عبر خطوط نقل القدرة لشبكة التوزيع وتستخدم محولات أخرى لخفض الجهد بعد نقله من أجل الاستخدام الصناعي أو المنزلي وتستخدم محولات صغيرة لخفض الجهد من ٢٢٠ فولت إلى أقل لتناسب الأجهزة التي تعمل على البطاريات



يكون للمحول الكهربائي ملفان من الأسلاك الملفوفة حول قلب حديدي إذ يوصل أحدهما بمصدر التيار المتردد ليغير المجال المغناطيسي اتجاهه باستمرار مما يسبب توليد تيار متردد آخر في حلقات الملف الآخر للمحول

نسبة تحويل المحول الكهربائي

عدد لفات الملف الابتدائي (الجهد الداخل)	:	عدد لفات الملف النهائي (الجهد الخارج)
٣	:	٩
(١)	:	(٣)

المحول الرافع للجهد	المحول الخافض للجهد
إذا كان عدد لفات الملف الابتدائي (الداخل) أقل من عدد لفات الملف الثانوي (الخارج)	إذا كان عدد لفات الملف الابتدائي (الداخل) أكبر من عدد لفات الملف الثانوي (الخارج)

إذا كان الجهد الداخل في المثال السابق ٥٠ فولت فكم الجهد الخارج وما نوع المحول الكهربائي ؟

نحدد النسبة بين الجهدين وهي (١ للداخل : ٣ للخارج)

$$\text{الجهد الخارج} = ٣ \times ٥٠ = ١٥٠ \text{ فولت}$$

المحول رافع للجهد لأن عدد لفات الملف الابتدائي أقل من الثانوي

يتدفق التيار الكهربائي بسهولة عبر المواد الموصلة ومنها الفلزات مع وجود بعض المقاومة ولكن هناك مواد تسمى الموصلات فائقة التوصيل لا يواجه التيار الكهربائي فيها أي مقاومة وتكون عند تبريد مادة معينة إلى درجة حرارة منخفضة جداً فمثلاً يصبح الألومنيوم فائق التوصيل عند درجة $- 273^{\circ}$ س وعند مرور التيار الكهربائي لا يحدث تسخين ولا ضياع للطاقة للموصلات فائقة التوصيل صفة غير عادية : المغناطيس يطفو فوق سطح المادة الفائقة التوصيل يتنافر المغناطيس مع المادة فائقة التوصيل لأنها تقوم بتوليد مجال مغناطيسي معاكس لمجال المغناطيس

بمرور تيار كهربائي في سلك صنع من مادة فائقة التوصيل سيكون مجال هذا المغناطيس قوي جداً تحريك الجسيمات في مسارع الجسيمات بسرعة قريبة من سرعة الضوء صناعة أسلاك نقل الطاقة الكهربائية لنقل القدرة الكهربائية لمسافات بعيدة دون خسارة هذه الطاقة صناعة الشرائح الإلكترونية لأجهزة الحاسوب

تستخدم لتصوير مقاطع داخل الجسم للكشف عن تلف الأنسجة والأمراض أو وجود الأورام الخبيثة وتستخدم مجالاً مغناطيسياً قوياً والموجات الراديوية حيث يتم إدخال المريض داخل جهاز وبدخله مغناطيس كهربائي فائق التوصيل ويولد مجالاً مغناطيسياً قوي يصل إلى قوة ٦٠٠٠٠ ضعف شدة المجال المغناطيسي الأرضي تشكل ذرات الهيدروجين ٦٣٪ من الجسم ونواة ذرة الهيدروجين هي البروتون الذي يسلك سلوك مغناطيس صغير وعند التقاط الصورة يعمل المجال المغناطيسي على ترتيب هذه البروتونات مع اتجاه المجال ثم تسلط الموجات الراديوية على المكان المراد تصويره فتمتص البروتونات في الجسم جزءاً من طاقة هذه الأمواج فيتغير ترتيب محاذاتها للمجال

ربط الكهرباء بالمغناطيس

حركة الشحنات الكهربائية ينتج عنها مجال مغناطيسي تجعل المحرك والمولد الكهربائي يعملان

س ١ / ما أكثر مصادر الطاقة استخداماً لتوليد القدرة الكهربائية ؟
س ٢ / كم قطباً يكون للمغناطيس الواحد ؟
س ٣ / أكتب رمز التيار المتردد ؟

س ٤ / ماذا يطلق على المادة التي لا يواجه التيار الكهربائي فيها أي مقاومة ولا يحدث لها تسخين ولا ضياع للطاقة الكهربائية ؟

س ٥ / ما اسم الظاهرة الضوئية التي تحدث في أطراف الأرض البعيدة فوق القطبين ؟

س ٦ / إذا علمت أن نسبة تحويل المحول الكهربائي (٣ : ٦)

احسب الجهد الناتج إذا كان الجهد الخارج ٨٠ فولت وحدد نوع المحول الكهربائي ؟

س ٧ / أكمل الفراغات التالية :

- أ) الجهاز الذي يستخدم لقياس التيار الكهربائي هو
- ب) سلك يلف حول قلب حديدي ويسري فيه تيار كهربائي
- ج) أداة تتكون من إبرة مغناطيسية تتحرك بحرية لتحديد الاتجاهات

س ٨ / اختر الإجابة الصحيحة :

المولد الكهربائي	المحرك الكهربائي	تحويل الطاقة من كهربائية إلى حركية
التيار المتردد	التيار المستمر	تندفق الإلكترونات في اتجاه واحد
MRI	NRI	التصوير بالرنين المغناطيسي
اللب الخارجي	اللب الداخلي	يتولد فيها المجال المغناطيسي الأرضي