

تم تحميل وعرض المادة من



موقع مادتي هو موقع تعليمي يعمل على مساعدة المعلمين والطلاب وأولياء الأمور في تقديم حلول الكتب المدرسية والاختبارات وشرح الدروس والملاحظات والتحاظير وتوزيع المنهج لكل المراحل الدراسية بشكل واضح وسهل مجاناً بتصفح وعرض مباشر أونلاين وتحميل على موقع مادتي

حمل تطبيق مادتي ليصلك كل جديد





الاسم /

الصف/ الرابع الابتدائي

أختبار تشخيصي لمادة العلوم - الصف الرابع

* ما الأجابة الصحيحة فيما يلي :

١ / مجموعة من الأنسجة تقوم بوظيفة محددة:

أ / عضو	ب/ الغشاء الخلوي	ج/ نسيج	د/ خلايا
---------	------------------	---------	----------

٢ / جميع الخلايا النباتية :

أ / تشبه الصناديق	ب/ تؤدي الوظيفة نفسها	ج/ بيضية الشكل	د/ لا تحتوي على كلورفيل
-------------------	-----------------------	----------------	-------------------------

٣ / أصغر وحدة في بناء المخلوقات الحية :

أ / الجين	ب/ العضو	ج/ الخلية	د/ النسيج
-----------	----------	-----------	-----------

٤ / الوظيفة الرئيسية لجذور النبات :

أ / البناء الضوئي	ب/ تنتج البذور	ج/ تمتص الماء والاملاح	د/ تعطي النبات اللون الاخضر
-------------------	----------------	------------------------	-----------------------------

٥ / أي مما يلي يشمل أكثر عدد من الأنواع :

أ / المملكة	ب/ الرتبة	ج/ الشعبة	د/ الطائفة
-------------	-----------	-----------	------------

٦ / أي الممالك التالية يصنع جميع افرادها غذاءه بنفسه :

أ / الفطريات	ب/ الطلائعيات	ج/ البكتيريا	د/ النباتات
--------------	---------------	--------------	-------------

٧ / العوامل الحيوية والعوامل اللاحيوية في بيئة معينة تكون :

أ / النظام البيئي	ب/ الانقراض	ج/ التكيف	د/ التغير
-------------------	-------------	-----------	-----------

٨ / ما الخاصية المشتركة في الرخويات والمفصليات :

أ / لها عمود فقري	ب/ لها هيكل خارجية	ج/ ليس لها عمود فقري	د/ غير قادرة على الحركة
-------------------	--------------------	----------------------	-------------------------

٩ / المعدة من أعضاء الجهاز :

أ / العصبي	ب/ الهيكلية	ج/ الهضمي	د/ التنفسي
------------	-------------	-----------	------------

١٠ / صراع بين المخلوقات الحية على الطعام والماء وجميع الاحتياجات الأخرى :

أ / التنافس	ب/ تحليل الطعام	ج/ الانتاج	د/ الهضم
-------------	-----------------	------------	----------

١٠ درجات

نموذج الاجابة

 الاسم /
 الصف/ الرابع الابتدائي

اختبار تشخيصي لمادة العلوم - الصف الرابع

* ما الأجابة الصحيحة فيما يلي :

١ / مجموعة من الأنسجة تقوم بوظيفة محددة:

أ / عضو	ب/ الغشاء الخلوي	ج/ نسيج	د/ خلايا
---------	------------------	---------	----------

٢ / جميع الخلايا النباتية :

أ / تشبه الصناديق	ب/ تؤدي الوظيفة نفسها	ج/ بيضية الشكل	د/ لاتحتوي على كلورفيل
-------------------	-----------------------	----------------	------------------------

٣ / أصغر وحدة في بناء المخلوقات الحية :

أ/ الجين	ب/ العضو	ج/ الخلية	د/ النسيج
----------	----------	-----------	-----------

٤ / الوظيفة الرئيسية لجذور النبات :

أ / البناء الضوئي	ب/ تنتج البذور	ج/ تمتص الماء والاملاح	د/ تعطي النبات اللون الاخضر
-------------------	----------------	------------------------	-----------------------------

٥ / أي مما يلي يشمل أكثر عدد من الأنواع :

أ / المملكة	ب/ الرتبة	ج / الشعبة	د/ الطائفة
-------------	-----------	------------	------------

٦ / أي الممالك التالية يصنع جميع افرادها غذاءه بنفسه :

أ / الفطريات	ب/ الطلائعيات	ج / البكتيريا	د / النباتات
--------------	---------------	---------------	--------------

٧ / العوامل الحيوية والعوامل اللاحيوية في بيئة معينة تكون :

أ / النظام البيئي	ب/ الانقراض	ج/ التكيف	د/ التغير
-------------------	-------------	-----------	-----------

٨ / ماخاصية المشتركة في الرخويات والمفصليات :

أ/ لها عمود فقري	ب/ لها هيكل خارجية	ج/ ليس لها عمود فقري	د/ غير قادرة على الحركة
------------------	--------------------	----------------------	-------------------------

٩ / المعدة من أعضاء الجهاز :

أ/ العصبي	ب/ الهيكلية	ج / الهضمي	د/ التنفسي
-----------	-------------	------------	------------

١٠ / صراع بين المخلوقات الحية على الطعام والماء وجميع الاحتياجات الأخرى :

أ / التنافس	ب/ تحليل الطعام	ج / الانتاج	د/ الهضم
-------------	-----------------	-------------	----------

١٠ درجات

اختبار تشخيصي لمادة العلوم الصف الرابع لعام ١٤٤٥ هـ

* / أختاري الأجوبة الصحيحة فيما يلي :

١ / أي الأجزاء التالية يوجد في الخلية النباتية فقط :

أ / الكروموسوم	ب/ الغشاء الخلوي	ج/ البلاستيدات	د/ الميتوكوندريا
----------------	------------------	----------------	------------------

٢ / جميع الخلايا النباتية :

أ / تشبه الصناديق	ب/ تؤدي الوظيفة نفسها	ج/ بيضية الشكل	د/ لاتحتوي على كلورفيل
-------------------	-----------------------	----------------	------------------------

٣ / أصغر وحدة في بناء المخلوقات الحية :

أ / الجين	ب/ العضو	ج/ الخلية	د/ النسيج
-----------	----------	-----------	-----------

٤ / مجموعة من الأنسجة تقوم بوظيفة محددة:

أ / عضو	ب/ جهاز حيوي	ج/ نسيج	د/ خلايا
---------	--------------	---------	----------

٥ / أي مما يلي يشمل أكثر عدد من الأنواع :

أ / المملكة	ب/ الرتبة	ج/ الشعبة	د/ الطائفة
-------------	-----------	-----------	------------

٦ / أي الممالك التالية يصنع جميع افرادها غذاءه بنفسه :

أ / الفطريات	ب/ الطلائعيات	ج/ البكتيريا	د/ النباتات
--------------	---------------	--------------	-------------

٧ / تضم الشعبة مجموعة أصغر منها تسمى :

أ / الجنس	ب/ الرتبة	ج/ الطائفة	د/ النوع
-----------	-----------	------------	----------

٨ / ما الخاصية المشتركة في الرخويات والمفصليات :

أ/ لها عمود فقري	ب/ لها هياكل خارجية	ج/ ليس لها عمود فقري	د/ غير قادرة على الحركة
------------------	---------------------	----------------------	-------------------------

٩ / المعدة من أعضاء الجهاز :

أ / العصبي	ب/ الهيكلية	ج/ الهضمي	د/ التنفسي
------------	-------------	-----------	------------

١٠ / وظيفة الجهاز الاخراجي هي :

أ / دعم العضلات	ب/ تحليل الطعام	ج / حماية الأعضاء	د/ اخراج الفضلات
-----------------	-----------------	-------------------	------------------



نموذج الإجابة

..... اسم الطالبة/

الصف/ الرابع الابتدائي

وزارة التعليم
Ministry of Education

المملكة العربية السعودية

وزارة التعليم

الإدارة العامة للتعليم بمنطقة

١٠ درجات

اختبار تشخيصي لمادة العلوم الصف الرابع لعام ١٤٤٥ هـ

* / أختاري الأجوبة الصحيحة فيما يلي :

١ / أي الأجزاء التالية يوجد في الخلية النباتية فقط :

أ / الكروموسوم	ب/ الغشاء الخلوي	ج/ البلاستيدات	د/ الميتوكوندريا
----------------	------------------	----------------	------------------

٢ / جميع الخلايا النباتية :

أ / تشبه الصناديق	ب/ تؤدي الوظيفة نفسها	ج/ بيضية الشكل	د/ لا تحتوي على كلورفيل
-------------------	-----------------------	----------------	-------------------------

٣ / أصغر وحدة في بناء المخلوقات الحية :

أ / الجين	ب/ العضو	ج/ الخلية	د/ النسيج
-----------	----------	-----------	-----------

٤ / مجموعة من الأنسجة تقوم بوظيفة محددة:

أ / عضو	ب/ جهاز حيوي	ج/ نسيج	د/ خلايا
---------	--------------	---------	----------

٥ / أي مما يلي يشمل أكثر عدد من الأنواع :

أ / المملكة	ب/ الرتبة	ج/ الشعبة	د/ الطائفة
-------------	-----------	-----------	------------

٦ / أي الممالك التالية يصنع جميع افرادها غذاءه بنفسه :

أ / الفطريات	ب/ الطلائعيات	ج/ البكتيريا	د/ النباتات
--------------	---------------	--------------	-------------

٧ / تضم الشعبة مجموعة أصغر منها تسمى :

أ / الجنس	ب/ الرتبة	ج/ الطائفة	د/ النوع
-----------	-----------	------------	----------

٨ / ما الخاصية المشتركة في الرخويات والمفصليات :

أ/ لها عمود فقري	ب/ لها هياكل خارجية	ج/ ليس لها عمود فقري	د/ غير قادرة على الحركة
------------------	---------------------	----------------------	-------------------------

٩ / المعدة من أعضاء الجهاز :

أ / العصبي	ب/ الهيكلية	ج/ الهضمي	د/ التنفسي
------------	-------------	-----------	------------

١٠ / وظيفة الجهاز الاخراجي هي :

أ / دعم العضلات	ب/ تحليل الطعام	ج / حماية الأعضاء	د/ اخراج الفضلات
-----------------	-----------------	-------------------	------------------



اختبار تشخيصي في أهم مهارات الصف رابع الفصل الدراسي الأول

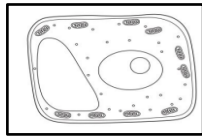
الاسم/

نستعين بالله ثم نبدء بالإجابة على الأسئلة التالية

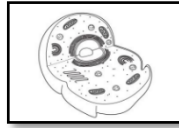
ضع -ي المصطلحات الآتية أمام ما يناسبها من عبارات ..

- [الخلية - النواة - التكاثر - الوراثة - المملكة □ البرمائيات □ الجدار الخلوي - النظام البيئي - الموطن - التلوث]
- ١-..... أصغر وحدة في بناء المخلوقات الحية .
 - ٢-..... تركيب يتحكم في جميع أنشطة الخلية .
 - ٣-..... هي المجموعة الكبرى التي تصنف إليها المخلوقات الحية .
 - ٦-..... إنتاج مخلوقات حية جديدة من النوع نفسه .
 - ٧-..... انتقال الصفات الوراثية من الإباء إلى الأبناء .
 - ٩-..... مخلوقات حية وأشياء غير حية يتفاعل بعضها مع بعض في بيئة معينة.
 - ١٠-..... تقضي جزءاً من دورة حياتها في الماء وتقضي الجزء الآخر على اليابسة.
 - ١١-..... إضافة أشياء ضارة للبيئة.
 - ١٢-..... المكان الذي يعيش فيه المخلوق الحي ويحصل منه على الغذاء .

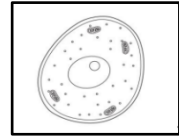
أي الأشكال التالية يمثل نموذج الخلية النباتية



ج



ب



أ

نصل الجهاز (أ) بوظيفته التي يقوم بها في العمود (ب):

الجهاز	الرقم	الوظيفة التي يقوم بها
١) الجهاز الهيكلي		التخلص من الفضلات
٢) الجهاز العصبي		تفكيك الطعام وتحليله
٣) الجهاز الإخراجي		يتحكم في جميع أجهزة الجسم
٤) الجهاز الهضمي		يدعم الجسم ، ويحمي الأعضاء الداخلية

اختار-ي الإجابة الصحيحة فيما يلي :

١- تركيب في الخلية يخزن الماء و الغذاء و الفضلات..		
<input type="checkbox"/> الميتوكوندريا	<input type="checkbox"/> الفجوة العصارية	<input type="checkbox"/> السيتوبلازم
٢- أي مما يأتي من العوامل اللاحوية...		
<input type="checkbox"/> العشب	<input type="checkbox"/> الطائر	<input type="checkbox"/> الصخر
٣- أي الحيوانات التالية تكون درجة حرارة أجسامها ثابتة .		
<input type="checkbox"/> الأسماك	<input type="checkbox"/> السحالي	<input type="checkbox"/> العصافير
٤-المخلوقات الحية التي لا تستطيع صنع غذائها بنفسها تسمى		
<input type="checkbox"/> المنتجات	<input type="checkbox"/> المستهلكات	<input type="checkbox"/> الأعشاب
٥- الخطوة الأولى من خطوات الطريقة العلمية هي ..		
<input type="checkbox"/> أكون فرضية	<input type="checkbox"/> ألاحظ	<input type="checkbox"/> اختبر الفرضية

ضع-ي علامة (√) أمام العبارة الصحيحة و علامة (×) أمام العبارة الخاطئة :

()	يوجد في الخلايا الحيوانية جدار خلوي
()	الصفات المكتسبة سلوك أو مهارة يكتسبها الإنسان بالتدريب
()	المفترس هو الحيوان الذي يتم اصطياده

انتهت الأسئلة ***

أعدته: أ/ عبير الجناعي

