

تم تحميل وعرض المادة من



موقع مادتي هو موقع تعليمي يعمل على مساعدة المعلمين والطلاب وأولياء الأمور في تقديم حلول الكتب المدرسية والاختبارات وشرح الدروس والملاحظات والتحاير وتوزيع المنهج لكل المراحل الدراسية بشكل واضح وسهل مجاناً بتصفح وعرض مباشر أونلاين وتحميل على موقع مادتي

حمل تطبيق مادتي ليصلك كل جديد





اسم الطالبة /..... الفصل /.....

**السؤال الأول : ضع علامة (صح) أمام العبارة الصحيحة , وعلامة (خطأ) أمام العبارة الخاطئة فيما يأتي :**

م	الاسئلة	ص	خ
1	علم الجغرافيا هو علم الكتابة عن الارض		
2	الرومان هم اول من اعتنى بوصف العالم		
3	اتساع مساحة البلدان الإسلامية ساعد في ازدهار علم الجغرافيا في العالم الاسلامي		
4	تعرف المجرة التي يتبعها نظامنا الشمسي عند العرب ب( السكة اللبنية )		

**السؤال الثاني : اختاري الإجابة الصحيحة لما يأتي :**

1	مجموعة هائلة من النجوم والأقمار والمذنبات والسدم	
	أ	الكواكب
	ب	الشمس
	ج	المجرة
2	قاس محيط الكرة الأرضية	
	أ	الفرغاني
	ب	المقدسي
	ج	أبو الفداء
3	مجموعة من الاجرام الصغيرة بين كوكبي المريخ والمشتري	
	أ	النيازك
	ب	الكويكبات
	ج	الشهب
4	عندما نرى ثلاثة ارباع قرص القمر يسمى	
	أ	الهلال
	ب	الاحدب
	ج	التربيع
	د	المحاق

**السؤال الثالث / اكتبى المصطلح المناسب للتعريف التالية :**

1.	قطع من الصخر والحديد والنيكل تأتي من الفضاء الى الأرض وتحترق في الغلاف الجوي
2.	المسافة التي يقطعها الضوء في سنه
3.	سحب كونية ضخمة تتألف من غازات او جزيئات كونية دقيقة
4.	دورة القمر كاملة حول الأرض مقارنة بنجم

**السؤال الرابع / عددي اثنين فقط من**

• أنواع كسوف الشمس 1- ..... 2-.....

• الشروط التي يجب ان تتوفر في الكواكب 1-..... 2-.....

أسئلة اختبار الفترة الأولى لمادة الجغرافيا للصف الثالث ثانوي عام للعام الدراسي ١٤٤٦ هـ

الإسم:..... الشعبة..... الدرجة:

السؤال الأول:

(أ) ضعي علامة صح أمام العبارة الصحيحة وعلامة خطأ أمام العبارة الخاطئة لما يلي مع تصحيح الخطأ أن وجد.

التصحيح	العلامة	العبارة
		1- الجغرافيا كلمة أصلها إفريقي.
		2- الرومان أول من اعتنى بوصف العالم.
		3- أسلوب النظرية الإمكانية من أساليب الجغرافيا الحديثة.
		4- في عصر الكشوف الجغرافية تأكد للناس كروية الأرض.
		5- اتساع مساحة البلدان الإسلامية ساهم في ازدهار علم الجغرافيا.
		6- تعريب العلوم لم يساهم في ازدهار علم الجغرافيا في العالم الإسلامي.
		7- تعرف المجرة التي يتبعها نظامنا الشمسي عند العرب بمجرة درب التبانة.
		8- النجوم مكونة من مواد غير ملتهبة.
		9- المذنبات أجرام تدور حول الأرض.
		10- يبعد القمر عن الأرض أكثر من 284 كم.

(ب) اكمل الفراغات التالي بكلمات مناسبة.

1- من فروع الجغرافيا الطبيعية.....،.....

2- الأجرام السماوية التي تتكون منها المجموعة الشمسية هي

.....،.....،.....،.....

السؤال الثاني:

(أ) ضعي الرقم المناسب من المجموعة أ أمام ما يناسبه من المجموعة ب.

م	المجموعة أ	م	المجموعة ب
1	قاس محيط الكرة الأرضية.		ابن كثير
2	وضع أسس الإسطرلاب.		البكري
3	مؤلف كتاب المسالك والممالك.		الفرغاني
4	مؤلف كتاب أحسن التقاسيم في معرفة الأقاليم.		المقدسي
			أبو عيسى الأسطرلابي

(ب) عللي لما يلي بإجابات وافية.

1- تختلف النجوم في لمعانها من نجم إلى آخر.

2- لماذا لا نرى إلا وجه واحداً للقمر.

(ج) اكتب المصطلح الجغرافي أمام ما يناسبه من المفاهيم التالية.

(المجرة – السدم- الكواكب – النيازك- خسوف القمر – كسوف الشمس- الأقمار)

1- (.....) أجرام سماوية معتمة تستقبل الضوء من الشمس.

2- (.....) الأجرام التي تدور حول الكواكب.

3- (.....) قطع معدنية أو صخرية كبيرة الحجم تأتي من الفضاء الى الأرض ويسقط معظمها أو جزء منها على الأرض.

4- (.....) احتجاب ضوء القمر كله أو جزء منه عندما تقع الأرض بينه وبين الشمس.

5- (.....) مجموعة هائلة من النجوم والأقمار والمذنبات والسدم.

6- (.....) سحب كونية ضخمة تتألف من غازات او جزئيات كونية دقيقة.

---

انتهت الأسئلة

اختبار الفترة الأولى

اسم الطالبة: ..... المادة: جغرافيا الصف:

مستعينة بالله تعالى أجيب عن الأسئلة التالية ..

**السؤال الأول / ضع علامة (√) أو (X) أمام العبارات التالية :**

- 1- الجغرافيا كلمة رومانية تعني علم الكتابة على الارض ( )
- 2- النظرية الإمكانية نظرية جغرافية فلسفية تؤمن بحرية البشر في الاختيار ( )
- 3- من اهم علماء الجغرافيا الفلكية عيسى الأسطرلابي ( )
- 4- تحتوي مجموعة الكواكب على 10 كواكب ( )
- 5- تتشابه الأقمار والكواكب في انها اجسام مضيئة ( )
- 6- سيريس يتبع لمجموعة الكويكبات ( )

**السؤال الثاني: أ / اختاري الإجابة الصحيحة من بين الإجابات التالية :**

1- اقرب الكواكب للشمس هو :

- أ ( الزهرة  
ب ( المريخ  
ج ( عطارد  
د ( الأرض

2- البكري أحد العلماء الجغرافيين الذين كتبوا في مجال الجغرافيا :

- أ ( الفلكية  
ب ( المناخية  
ج ( الإقليمية  
د ( البشرية

3- مؤلف كتاب صورة الأرض :

- أ ( ابن حوقل  
ب ( أبو الفداء  
ج ( المقدسي  
د ( البكري

4- النجم الذي يعد مركز المجموعة بأسرها , وهو ذاتي الضوء

- أ ( الشمس  
ب ( الأرض  
ج ( القمر  
د ( الشهب

5- يحدث اكتمال القمر في :

- أ ( أول شهر  
ب ( اخر الشهر  
ج ( نصف الشهر  
د ( لا يكتمل

6- احد العلوم الاتية ليس من فروع الجغرافيا الطبيعية :

أ ( الحيوية  
ج ( النقل

ب ( التربة  
د ( المياه

السؤال الثالث : أ/ اكتبى المصطلح المناسب :

( الجغرافيا / المجرة / السدم / الأقمار / الإقليم /كسوف الشمس )

- 1-احتجاب ضوء الشمس بسبب وقوع القمر بين الشمس والأرض ( )
- 2-وحدة او مساحة من الأرض ذات خصائص معينة تُكسبها التجانس داخلياً ( )
- 3- علم الكتابة على الأرض ( )
- 4-مجموعة هائلة من النجوم والإقمار والمذنبات والسدم. ( )
- 5-هي الأجرام التي تتبع الكواكب وتدور في أفلاك خاصة حولها ( )

عددى ابرز فروع الجغرافيا البشرية ؟ 3 فقط

.....  
.....

**اختبار (الفترة الأولى) مادة الجغرافيا الفصل الدراسي الأول الفترة الأولى 1445 هـ شعبة (1)****أجيب عن الأسئلة التالية :****السؤال الأول : ( أ ) أكمل :**

- 1- تعرف المجرة التي يتبعها نظامنا الشمسي باسم ..... وتعني السكة اللبنية عند الغرب .
- 2- عدد كواكب المجموعة الشمسية ..... كواكب تدور جميعها حول الشمس .
- 3- للأرض ثلاث حركات منها حركة حول ..... وحول ..... وحركة مع المجموعة الشمسية حول المجرة .

**ب/ اختاري الإجابة الصحيحة مما يلي:**

1- الأجرام التي تتبع الكواكب، وتدور في أفلاك خاصة حولها. وهي تشبه الكواكب في أنها أجسام مُعتمة تسمى :			
أ - الأقمار	ب - السدم	ج - النيازك	د - المذنبات
2- العالم الذي لاحظ أن السفر حول الأرض كاملة يؤدي الى زيادة يوم أو نقصانه :			
أ - العمري	ب - أبو الفداء	ج - المقدسي	د - البكري
3- دخل البرتغاليون المحيط الهندي وعبروا رأس الرجاء الصالح بقيادة :			
أ - أحمد بن ماجد	ب - جيمس كوك	ج - فاسكو دا جاما	د - ابن حوقل
4- وحدة أو مساحة من سطح الأرض ذات خصائص معينة متجانسة :			
أ - الحتمية البيئية	ب - الإحصاء	ج - النظرية الإمكانية	د - الإقليم
5- تكمل الأرض دورة حول نفسها كل :			
أ - 24 ساعة	ب - شهر	ج - 6 أشهر	د - سنة ضوئية
6- يحيط بالأرض من جميع جهاتها ويحمي الأرض من الأشعة الضارة :			
أ - قانون فرل	ب - القطر الاستوائي	ج - القطر القطبي	د - الغلاف الجوي

**ج / ماذا يحدث لو كان مدار القمر حول الأرض يتفق مع مستوى مدار الأرض حول الشمس ؟****السؤال الثاني : أ/ أكمل خريطة المفاهيم التالية :**

**ب/ ضعي علامة (صح) أمام العبارة الصحيحة وعلامة (خطأ) أمام العبارة غير الصحيحة:**

1-	تدور الشمس حول نفسها من الشرق إلى الغرب مع عقارب الساعة.
2-	الجغرافيا كلمة عربية تعني علم الكتابة عن الأرض .
3-	أول من استعمل كلمة جغرافيا هو العالم الإغريقي ايراتوستينز أمين مكتبة الإسكندرية .
4-	لطول المسافات التي تفصل أجرام المجرة عن بعضها أتفق على أن تحسب بالسنة الضوئية .
5-	القطر الاستوائي أطول من القطر القطبي .
6-	الشهب قطع من الصخور والحديد والنيكل تأتي من الفضاء تحترق أثناء احتكاكها بالغلاف الجوي للأرض.

**السؤال الثالث :**

أ/ صنفى الأجرام السماوية التالية بكتابة الرقم المناسب من المجموعة ( أ ) بما يناسبها من أمام المجموعة ( ب ) :

	( أ )	الرقم	( ب )
1	عطارد		كويكب يدور حول الشمس يقع بين المريخ والمشتري
2	سيريس		مذنب يدور حول الشمس يظهر كل 75 سنة .
3	هالي		أول جرم سماوي حط عليه الانسان بعد الأرض
4	القمر		أكثر النجوم لمعاناً في السماء
5	الشعري اليمانية		أقرب كواكب المجموعة الشمسية إلى الشمس
6	درب التبانة		

**ب / علي :**

1- تخلف أوروبا في مجال المعارف الجغرافية في العصور الوسطى .

.....

2- لا يشعر الانسان بحركات الأرض .

.....

**ج/ عددي نتائج دوران الأرض حول محورها . 2 فقط**

.....

.....

انتهت الأسئلة مع خالص الأمنيات بالتوفيق

نورة الزهراني

بسم الله الرحمن الرحيم

اختبار منتصف الفصل الدراسي للصف 3 ث لمادة الجغرافيا

الشعبة :

اسم الطالبة :

1) أكتب المصطلح العلمي للعبارات التالية :

- سحب كونية ضخمة تتألف من غازات .....
- احتجاب ضوء الشمس كله أو جزء منه بسبب وقوع القمر بين الأرض والشمس .....
- قطع من الصخر والحديد تأتي من الفضاء متجهة نحو الأرض .....
- وحدة أو مساحة من الأرض ذات خصائص تميزها عن الأقاليم المجاورة لها .....
- المنازل التي يتخذها القمر أثناء دورانه حول الأرض .....

2) ضعي كلمة ( صح ) أو ( خطأ ) أمام العبارات التالية :

- أول من اعتنى بوصف الأرض هم الإغريق ( )
- كواكب البلوتويد مدارها حول الشمس غير محدد ( )
- الشمس هي مركز المجموعة الشمسية ( )
- الحتمية البيئية تؤمن بسيادة البيئة الطبيعية وتحكمها بالظواهر البشرية ( )
- القطر القطبي أطول من القطر الاستوائي بنحو 43 كم ( )

3) اختاري الإجابة الصحيحة من بين الأقواس :

- تقع بين كوكبي المشتري والمريخ ( الكويكبات . المذنبات . النيازك )
- يحدث خسوف القمر عندما يكون القمر ( محاقا . بدرا . هلالا )
- وضع الجداول الرياضية ( الاسطرلابي . الخوارزمي . الفرغاني )
- يحدث الاعتدال الربيعي في ( 21 مارس . 22 ديسمبر . 23 سبتمبر )
- ألف كتاب صورة الأرض ( ابن حوقل . البكري . المقدسي )

4) أجبي عن ما يأتي :

سبب قوة جاذبية الأرض للأشياء فوق سطحها .

.....

أذكر مثالا واحدا فقط على :

- فروع الجغرافيا الطبيعية :

.....

- نتائج دوران الأرض حول محورها ( نفسها )

.....

- أسباب حدوث الفصول المناخية :

.....

جغرافيا	المادة:	بسم الله الرحمن الرحيم  وزارة التعليم Ministry of Education	المملكة العربية السعودية وزارة التعليم إدارة تعليم الرياض الثانوية ١٤٠
الأول	الفصل:		
الثالث ثانوي مسارات	الصف:		
٥٠ دقيقة	الزمن:		

اختبار الوحدة الأولى والثانية الفصل الدراسي الأول للعام الدراسي ١٤٤٥ هـ

اسم الطالبة	الفصل
-------------	-------

السؤال الأول: ضع حرف (ص) إذا كانت الإجابة صحيحة، وحرف (خ) إذا كانت العبارة خاطئة:

العبارة	صح	خطأ
١ الجغرافيا كلمة رومانية تعني علم الكتابة عن الأرض		
٢ تشابه الأقمار والكواكب في انها أجسام معتمة (غير مضيئة)		
٣ سيريس يتبع لمجموعة الكويكبات		
٤ تدور (الشعراء اليمانية) أكثر النجوم لمعاناً في السماء		

السؤال الثاني:

(علم الجغرافيا - الإقليم - النظرية الامكانية - المذنبات - السنة الضوئية - المجرة - النجوم - التليسكوب) غالياتي أمامك مصطلحات اکتبي المصطلح المناسب امام التعريف المناسب له:-

- ١) المسافة التي يقطعها الضوء في سنة كاملة ( )
- ٢) منظار لرصد الأشياء البعيدة ( )
- ٣) مجموعة هائلة من النجوم والأقمار والمذنبات والسدم ( )
- ٤) العلم الذي يدرس الاختلافات المكانية على سطح الأرض وتوزيع الظواهر الطبيعية والبشرية ( )
- ٥) نظرية جغرافية فلسفية تؤمن بحرية البشر في الاختيار ( )
- ٦) الاجرام المضيئة في السماء ( )
- ٧) وحده أو مساحة من سطح الأرض ذات خصائص معينة تكسبها التجانس داخلياً كما تميزها خارجياً ( )
- ٨) اجرام تدور حول الشمس في مدارات بيضاوية متغيرة ( )

السؤال الثالث: اختاري الإجابة الصحيحة فيما يلي :-

١- أول عالم استخدم كلمة جغرافيا:					
أ	ابن حوقل	ب	المقدسي	ج	ايراتوستينز
٢- دخل البرتغاليين المحيط الهندي عام ١٤٩٧ م ، وعبروا رأس الرجاء الصالح بقيادة :					
أ	ماجلان	ب	فاسكوا دا جاما	ج	كولومبس
٣- مؤلف كتاب صورة الأرض :					
أ	ابن حوقل	ب	المقدسي	ج	البكري
٤- من هؤلاء العلماء لاحظ أن السفر حول الأرض كاملة يؤدي إلى زيادة يوم أو نقصانه:					
أ	أبو الفداء	ب	البكري	ج	ابن حوقل
٥- يستمر الهلال في النمو فنرى حينئذ نصف وجه القمر ويسمى ( التربيع الأول ) في يوم :					
أ	٩ أو ١٠ من الشهر	ب	١١ أو ١٢ من الشهر	ج	٧ أو ٨ من الشهر
٦- أقرب الكواكب الى الشمس هو كوكب :					
أ	الأرض	ب	المريخ	ج	عطارد
٧- احد الكواكب الآتية ليس له توابع :					
أ	اورانوس	ب	الزهرة	ج	زحل
٨- اكثر الكواكب من حيث عدد التوابع :					
أ	زحل	ب	المشتري	ج	الزهرة

السؤال الرابع : غاليتي قارني بين الشهر النجمي والشهر القمري من حيث :-

عدد أيام دورته حول الارض	
	الشهر النجمي
	الشهر القمري

تمت الأسئلة

معلمة المادة / فيحاء العتيبي

جغرافيا	المادة:	بسم الله الرحمن الرحيم  وزارة التعليم Ministry of Education	المملكة العربية السعودية وزارة التعليم إدارة تعليم الرياض الثانوية ١٤٠
الأول	الفصل:		
الثالث ثانوي مسارات	الصف:		
٥٠ دقيقة	الزمن:		

اختبار الوحدة الأولى والثانية الفصل الدراسي الأول للعام الدراسي ١٤٤٥ هـ

اسم الطالبة	الفصل
-------------	-------

السؤال الأول: ضعي حرف (ص) إذا كانت الإجابة صحيحة، وحرف (خ) إذا كانت العبارة خاطئة :

العبارة	صح	خطأ
١ الجغرافيا كلمة اغريقية تعني علم الكتابة عن الأرض		
٢ تشابه الأقمار والكواكب في انها أجسام مضيئة		
٣ سيريس يتبع لمجموعة الكويكبات		
٤ تدور الشمس حول نفسها من الشرق الى الغرب مع عقارب الساعة		

السؤال الثاني:

( علم الجغرافيا - الإقليم - النظرية الامكانية - المذنبات - السنة الضوئية - المجرة - النجوم - التليسكوب )  
 غالياتي أمامك مصطلحات اکتبي المصطلح المناسب امام التعريف المناسب له: -

- (١) المسافة التي يقطعها الضوء في سنة كاملة ( )
- (٢) منظار لرصد الأشياء البعيدة ( )
- (٣) مجموعة هائلة من النجوم والاقمار والمذنبات والسدم ( )
- (٤) العلم الذي يدرس الاختلافات المكانية على سطح الأرض وتوزيع الظواهر الطبيعية والبشرية ( )
- (٥) نظرية جغرافية فلسفية تؤمن بحرية البشر في الاختيار ( )
- (٦) الاجرام المضيئة في السماء ( )
- (٧) وحده أو مساحة من سطح الأرض ذات خصائص معينة تكسبها التجانس داخلياً كما تميزها خارجياً ( )
- (٨) اجرام تدور حول الشمس في مدارات بيضاوية متغيرة ( )

السؤال الثالث: اختاري الإجابة الصحيحة فيما يلي :-

١- أول عالم استخدم كلمة جغرافيا:			
أ	ابن حوقل	ب	المقدسي
ج	ايراتوستينز		
٢- دخل البرتغاليين المحيط الهندي عام ١٤٩٧م ، وعبروا رأس الرجاء الصالح بقيادة :			
أ	ماجلان	ب	فاسكو دا جاما
ج	كولومبس		
٣- مؤلف كتاب صورة الأرض :			
أ	ابن حوقل	ب	المقدسي
ج	البكري		
٤- من هؤلاء العلماء لاحظ أن السفر حول الأرض كاملة يؤدي إلى زيادة يوم أو نقصانه:			
أ	أبو الفداء	ب	البكري
ج	ابن حوقل		
٥- يستمر الهلال في النمو فنرى حينئذ نصف وجه القمر ويسمى ( التربيع الأول ) في يوم :			
أ	٩ أو ١٠ من الشهر	ب	١١ أو ١٢ من الشهر
ج	٧ أو ٨ من الشهر		
٦- أقرب الكواكب الى الشمس هو كوكب :			
أ	الأرض	ب	المريخ
ج	عطارد		
٧- احد الكواكب الآتية ليس له توابع :			
أ	اورانوس	ب	الزهرة
ج	زحل		
٨- اكثر الكواكب من حيث عدد التوابع :			
أ	زحل	ب	المشتري
ج	الزهرة		

السؤال الرابع : غاليتي قارني بين الشهب والنيازك من حيث :-

الإحتراق	الحجم	
		الشهب
		النيازك

تمت الأسئلة

معلمة المادة / فيحاء العتيبي

اسم الطالبة /..... الشعبة /.....

السؤال الأول : ضع علامة (صح) أمام العبارة الصحيحة ، وعلامة (خطأ) أمام العبارة الخاطئة فيما يأتي :

10

م	الاسئلة	ص	خ
1	خسوف القمر هو احتجاب ضوء الشمس - بإرادة الله - كله أو جزء منه عن الأرض بسبب وقوع القمر بين الشمس والأرض.		
2	الشهر القمري = 29.4 يوماً.		
3	من أشهر المذنبات مذنب هالي الذي اكتشف سنة 1682م.		
4	الكويكبات تقع بين كوكبي المريخ والمشتري.		
5	يبعد القمر عن الأرض أكثر من 384 ألف كم، وهو تابع للأرض.		
6	تستعمل لقياس المسافات بين عناصر المجموعة الشمسية، ويطلق عليها (الوحدة الفلكية).		
7	ألغي كوكب بلوتو من تصنيف المجموعة الشمسية فمداره يتقاطع مع مدار كوكب نبتون.		
8	تعد (الشعري اليمانية) أكثر النجوم لمعاناً في السماء		
9	تدور الشمس حول نفسها من الشرق إلى الغرب مع عقارب الساعة.		
10	ويطلق تعبير (البروج) على الكويكبات التي تمر بها الشمس في أثناء مسارها الظاهري في السماء على مدار السنة.		

السؤال الثاني : اختر الإجابة الصحيحة لما يأتي :

1	اجرام تدور حول الشمس في مدارات بيضوية متغيرة .			
	أ	النيازك	ج	الشهب
	ب	الكويكبات	د	المذنبات
	يستمر الهلال في النمو ، فنرى حينئذ نصف وجه القمر ويسمى (التربيع الأول) في يوم			
2	أ	7 أو 8 من الشهر	ج	9 أو 10 من الشهر
	ب	4 أو 5 من الشهر	د	11 أو 12 من الشهر
3	وإذا حدث الكسوف الكلي للشمس فهو لا يستغرق أكثر من			
	أ	سبع دقائق	ج	تسع دقائق
	ب	ثمان دقائق	د	عشر دقائق
	ينفجر في بعض الأحيان ويسقط قطعاً صغيرة ملتصقة إلى الأرض، ويكون سطحه حاراً، وداخله بارد			
4	أ	الشهب	ج	النيازك
	ب	الكويكبات	د	المذنبات
5	هي الأجرام التي تتبع الكواكب، وتدور في أفلاك خاصة حولها. وهي تشبه الكواكب في أنها أجسام مُعتمة			
	أ	الاقمار	ج	النيازك
	ب	الكويكبات	د	الشهب



اعداد فتون

10

اسم الطالبة / ..... الشعبة / .....

عبارة خاطئة فيما يأتي :

## نموذج الإجابة

السؤال الأول : ضع علامة (ص)

م	ص	خ
1		X
2	✓	
3	✓	
4	✓	
5	✓	
6	✓	
7	✓	
8	✓	
9		X
10	✓	

السؤال الثاني : اختر الإجابة الصحيحة لما يأتي :

1	أ	النيازك	ج	الشهب
	ب	الكويكبات	د	المذنبات
2	أ	7 أو 8 من الشهر	ج	9 أو 10 من الشهر
	ب	4 أو 5 من الشهر	د	11 أو 12 من الشهر
3	أ	سبع دقائق	ج	تسع دقائق
	ب	ثمان دقائق	د	عشر دقائق
4	أ	الشهب	ج	النيازك
	ب	الكويكبات	د	المذنبات
5	أ	الاقمار	ج	النيازك
	ب	الكويكبات	د	الشهب



اعداد فتون

اسم الطالبة /..... الشعبة /.....

**السؤال الأول : ضع علامة (صح) أمام العبارة الصحيحة , وعلامة (خطأ) أمام العبارة الخاطئة فيما يأتي :**

10

م	الاسئلة	ص	خ
1	ندرس الجغرافيا لفهم النظم الطبيعية الأساسية التي تؤثر في حياتنا اليومية.		
2	تتحدد فلسفة الجغرافيا بناءً على ذلك في شرح الأنماط المكانية، واستكشاف العلاقات بينها		
3	اول من استعمل مصطلح علم الجغرافيا هو العالم الإغريقي إيراتوستينز عام 240 قبل الميلاد .		
4	أدرك الإغريق أن شكل الأرض كروي بيضوي.		
5	ودخل البرتغاليون المحيط الهندي تحت قيادة كولمبس عام 1497.		

**السؤال الثاني : أختار الإجابة الصحيحة لما يأتي :**

1	انتقلت الجغرافيا الى مرحلة جديدة هدفها بلورة الأفكار الجغرافية في شكل نظريات علمية في منتصف القرن:			
	أ	التاسع عشر	ج	الثاني عشر
2	ب	الرابع عشر	د	الثالث عشر
	نظرة جغرافية فلسفية تؤمن بحرية البشر في الاختيار:			
3	أ	الامكانية	ج	السياسية
	ب	الحتمية البيئية	د	الاقتصادية
4	وضع جداول رياضية ساعدت على إجراء ات الحسابات الفلكية :			
	أ	الخوارزمي	ج	الاسطرلابي
5	ب	الادريسي	د	الفرغاني
	كتاب صورة الارض مؤلفه :			
6	أ	البكري	ج	محمد الادريسي
	ب	المقدسي	د	ابن حوقل

مع تمنياتي لكم بالتوفيق والنجاح , ]

معلمة /م المادة /

# نموذج الاجابة

العبرة الخاطئة فيما يأتي :

السؤال الأول : ضع علامة ( )

10

م	الاسئلة	ص	خ
1	ندرس الجغرافيا لفهم النظم الطبيعية الأساسية التي تؤثر في حياتنا اليومية.	✓	
2	تتحدد فلسفة الجغرافيا بناءً على ذلك في شرح الأنماط المكانية، واستكشاف العلاقات بينها	✓	
3	اول من استعمل مصطلح علم الجغرافيا هو العالم الإغريقي إيراتوستينز عام 240 قبل الميلاد .	✓	
4	أدرك الإغريق أن شكل الأرض كروي بيضوي.	✓	
5	ودخل البرتغاليون المحيط الهندي تحت قيادة كولمبس عام 1497.		x

السؤال الثاني : أختار الإجابة الصحيحة لما يأتي :

م	الاسئلة	أ	ب	ج	د
1	انتقلت الجغرافيا الى مرحلة جديدة هدفها بلورة الأفكار الجغرافية في شكل نظريات علمية في منتصف القرن:	التاسع عشر	الرابع عشر	الثاني عشر	الثالث عشر
2	نظرة جغرافية فلسفية تؤمن بحرية البشر في الاختيار:	الامكانية	الحتمية البيئية	السياسية	الاقتصادية
3	وضع جداول رياضية ساعدت على إجراء الحسابات الفلكية :	الخوارزمي	الادريسي	الاسطرلابي	الفرغاني
4	كتاب صورة الارض مؤلفه :	البكري	المقدسي	محمد الادريسي	ابن حوقل

مع تمنياتي لكم بالتوفيق والنجاح ,

معلمة /م المادة /

اختبار قصير لمادة الجغرافيا للصف الثالث ثانوي مدرسة سيويه الثانوية المسار العام (تقويم)

س ١/ ضلل في ورقة الإجابة الخيار الصحيح لكل فقرة فيما يلي:			
١- جغرافيا كلمة أصلها.....			
أ-انجليزي	ب-إغريقي	ج- امريكي	د- عربي
٢- تنقسم الجغرافيا إلى قسمين كبيرين هما: الجغرافيا الطبيعية والجغرافيا.....			
أ-الفلكية	ب-الإقليمية	ج- الفضائية	د- البشرية
٣- تخلفت أوروبا في مجال المعارف الجغرافية حتى أوائل القرن ..... الميلادي			
أ-العاشر	ب-الثاني عشر	ج- الخامس عشر	د- العشرون
٤- الذي قاس محيط الكرة الأرضية هو.....			
أ-الفرغاني	ب-الخوارزمي	ج-الإسطرابي	د- المقدسي
٥- هو علم الكتابة عن الأرض.....			
أ-الجغرافيا	ب-الفلك	ج- البحار	د- الفضاء
٦- لطول المسافات التي تفصل أجرام المجرة تقاس بـ.....			
أ-السنة الضوئية	ب-السنة الصوتية	ج- الوحدة الجغرافية	د- السنة الشمسية
٧- أن .....كانوا أول من اعتنى بوصف العالم			
أ- الإغريق	ب-العرب	ج-المسلمين	د-الانجليز
٨- تعرف المجرة التي يتبعها نظامنا الشمسي عند العرب باسم.....			
أ-النجمية	ب-الكونية	ج- المجموعة الشمسية	د- درب التبانة
٩- وهو أول جرم سماوي حط عليه الإنسان بعد الأرض.....			
أ-المريخ	ب-الشمس	ج- المشتري	د- القمر
١٠- قد الغي كوكب ..... لان مداره يتقاطع مع مدار كوكب نبتون			
أ-عطارد	ب-الأرض	ج- المريخ	د- بلوتو
١١- بسبب سقوط ظل الأرض عليه عندما تقع بينه وبين الشمس يحدث.....			
أ-كسوف الشمس	ب-خسوف الشمس	ج- كسوف القمر	د- خسوف القمر
١٢- بسبب وقوع القمر بين الشمس والأرض يحدث.....			
أ-كسوف الشمس	ب-خسوف الشمس	ج- كسوف القمر	د- خسوف القمر
س ٢/ ضلل في ورقة الإجابة (ص) إذا كانت العبارة صحيحة و(خ) إذا كانت العبارة خطأ فيما يلي:			
١-جاذبية الأرض تنجح في تثبيت وجه واحد للقمر تجاهها			
٢-وكان أبو الفداء أول من لاحظ أن السفر حول الأرض كاملة يؤدي إلى زيادة يوم أو نقصانه			
٣- عددها ثمانية كواكب بأقمارها أو توابعها تدور جميعها حول الشمس			
٤-الإقليم هو وحدة أو مساحة من سطح الأرض ذات خصائص معينة			
٥-تدور الشمس حول نفسها من الغرب إلى الشرق باتجاه عقارب الساعة			
٦-الكواكب ذاتية الضوء أما الشمس فتعكس ضوء الكوكب			
٧-وتعد الشعري اليمانية أكثر النجوم لمعاناً في السماء			
٨-الشمس هي النجم الذي يعد مركز المجموعة بأسرها			
٩-ومن أشهر المذنبات مذنب هالي			
١٠-الأقمار هي الأجرام التي تتبع الكواكب			
١١- كتاب صورة الأرض للمقدسي			
١٢-حدث الكسوف الكلي فهو لا يستغرق أكثر من سبع دقائق.			

بالتوفيق والسداد

ر/سلطان الغامدي

## الدرجة الافتراضية 1.00

الدرجة

رقم السؤال

1.00

د

ب

ج

ا

1

1.00

ب

ب

ب

ا

2

1.00

د

ب

ب

ا

3

1.00

د

ب

ب

ا

4

1.00

د

ب

ب

ا

5

1.00

د

ب

ب

ا

6

1.00

د

ب

ب

ا

7

1.00

ب

ب

ب

ا

8

1.00

ب

ب

ب

ا

9

1.00

ب

ب

ب

ا

10

1.00

ب

ب

ب

ا

11

1.00

د

ب

ب

ا

12

# صح وخطأ

1.00

الدرجة الافتراضية

الدرجة

رقم السؤال

1.00



1

1.00



2

1.00



3

1.00



4

1.00



5

1.00



6

1.00



7

1.00



8

1.00



9

1.00



10

1.00



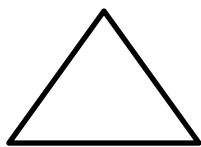
11

1.00



12

## السؤال الأول:



### (أ) اختاري الإجابة الصحيحة لما يلي:

1- يعد ..... أول عالم استعمل كلمة جغرافيا.

أ- ابن حوقل      ب- المقدسي      ج- إيراتوستينز      د- كولومبس

2- جغرافية ..... ليس من فروع الجغرافيا الطبيعية.

أ- الحيوية      ب- النقل      ج- التربة      د- المياه

3- مؤلف كتاب صورة الأرض.....:

أ- أبو الفداء      ب- البكري      ج- المقدسي      د- ابن حوقل

4- أقرب الكواكب إلى الشمس كوكب.....:

أ- عطارد      ب- الزهرة      ج- الأرض      د- المريخ

5- ما يحيط بالكرة الأرضية من جميع جهاتها الغلاف.....:

أ- الجوي      ب- الصخري      ج- المائي      د- الإيواني

6- الرياض، عمان، القاهرة جميعها أمثلة لمدن.....:

أ- العسكرية      ب- الثقافة      ج- الإدارة      د- الصناعة

7- أصغر المحيطات في العالم مساحة المحيط.....:

أ- الجنوبي      ب- المتجمد الشمالي      ج- الهندي      د- الأطلسي

8- من الأمثلة على البحار الهامشية البحر.....:

أ- الميت      ب- الأحمر      ج- المتوسط      د- الكاريبي

9 - مكتشف طريق رأس الرجاء الصالح.....:

أ- ماجلان      ب- فاسكو دا جاما      ج- كولومبس      د- هنري الملاح

10- أكبر زلزال ممكن أن يحدث لا يزيد عن ..... درجات بمقياس ريختر.

أ- 6      ب- 7      ج- 8      د- 9

11- أكبر الدول العربية من حيث المساحة.....:

أ- السودان      ب- الجزائر      ج- ليبيا      د- المملكة العربية السعودية

12- تفصل جبال الأنديز بين.....

أ- الأرجنتين والبرازيل      ب- أمريكا وكندا      ج- الأرجنتين وتشيلي      د- فنزويلا والبيرو

13- منطقة نشوء السحب والأمطار والعواصف هي الغلاف.....

أ- السفلي      ب- العلوي      ج- الأيوني      د- الخارجي

14- تسقط الأمطار في الإقليم الاستوائي طوال العام مع زيادة في فصلي.....

أ- الصيف والشتاء      ب- الربيع والشتاء      ج- الربيع والخريف      د- الخريف والشتاء

15- تتبع منطقة جنوب غرب شبه الجزيرة العربية الإقليم.....

أ- الصحراوي      ب- الاستوائي      ج- الموسمي      د- المداري

16- من الدول التي يتجاوز عدد سكانها المليار نسمة .....

أ- روسيا والهند	ب- أمريكا والصين	ج- إندونيسيا والصين	د- الصين والهند
-----------------	------------------	---------------------	-----------------

17- ليست من خصائص خطوط الكنتور:

أ- خطوط مقفلة	ب- إذا تباعدت دلت على انحدار	ج- تتقاطع ولا تتلقي	د- إذا تقاربت دلت على انحدار
---------------	------------------------------	---------------------	------------------------------

18- يدل اللون الأسود في بيانات الاستشعار عن بعد على.....

أ- الصخور	ب- المياه العميقة	ج- المدن	د- النباتات
-----------	-------------------	----------	-------------

19- الخرائط .....تظهر الأشكال المختلفة التي على سطح الأرض.

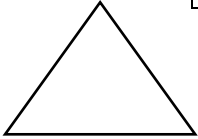
أ- الاقتصادية	ب- السكانية	ج- المناخية	د- التضاريسية
---------------	-------------	-------------	---------------

20- لا تحتاج إلى مفتاح ورموز لتفسير الظواهر.....

أ- الصورة الجوية	ب- الخريطة	ج- الاستشعار عن بعد	د- الصورة الفضائية
------------------	------------	---------------------	--------------------

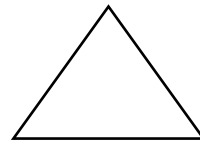
**(ب) أكمل الفراغات التالية بكلمات مناسبة.**

- 1- من العمليات البطانية الفجائية.....، و.....
- 2- من فوائد ظاهرة المد والجزر.....، و.....
- 3- من أنواع الأمواج .....، و.....
- 4- من فوائد تنوع التضاريس .....، و.....
- 5- من أنواع الأمطار .....، و.....



**السؤال الثاني.**

**(أ) فسر جغرافيا ما يلي.**



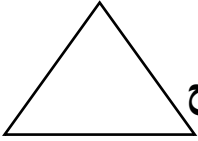
1- نشؤ ظاهرة المد والجزر.

- 2- صغر مساحة اليابس مقارنة بمساحة الماء.

**(ب) صنفى العبارات التالية في موضعها المناسب.**

(عدم التجانس بين الأفراد، قوة العلاقات بين السكان، ارتفاع مستوى المعيشة، انخفاض مستوى المعيشي، عدم التوازن الديموغرافي، شيوع العادات والتقاليد المؤثرة اجتماعيا)

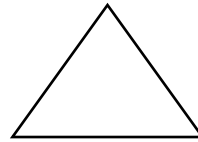
خصائص العمران الحضري	خصائص العمران الريفي



(ج) اكتب كلمة صح أمام العبارة الصحيحة وكلمة خطأ أمام العبارة الخاطئة مع تصحيح الخطأ أن وجد لما يلي:

التصحيح	العلامة المناسبة	العبارة
		1- الكرة الأرضية مفلطحة عند خط الاستواء ومنبعدة عند القطبين.
		2- الكرة الأرضية تنقسم إلى طبقتين فقط.
		3- يقصد بالتجوية الكيميائية تفتت الصخور وتآكلها نتيجة تفاعل المعادن.
		4- تدور الأرض حول محورها مع اتجاه عقارب الساعة.
		5- التسونامي موجات بحرية عملاقة متولدة عن الزلازل.
		6- من المشكلات التي يمكن أن ترافق الحدود المائية تغيير النهر لمجراه.
		7- يتناسب الضغط الجوي مع درجة الحرارة تناسب طردياً.
		8- الأمواج هي حركة الماء الصاعد والهابط بسبب الرياح.
		9- تنتصر المملكة العربية السعودية دول العالم في إنتاج المياه المحلاة.
		10- تساعد الأنشطة البشرية على زيادة التصحر وانتشاره.
		11- تمتاز الحيوانات التي تعيش في الغابات الاستوائية بضخامة حجمها.
		12- تسهم الهجرات السكانية في تغيير أعداد سكان العالم.
		13- تعاني كندا من كثرة دول الجوار.
		14- يقصد بالكثافة السكانية نسبة السكان إلى المساحة.

### السؤال الثالث:



(أ) عددي اثنين لما يلي:

1- من نتائج حركة الأرض حول محورها:

.....  
.....

2- من آثار البراكين:

.....  
.....

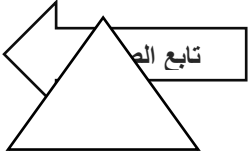
3- من العوامل المؤثرة في الوفيات:

.....  
.....

4- من أدوات الاستشعار عن بعد:

.....  
.....

5- من مشكلات المدن:



**(ب) ضعى المصطلح المناسب للعبارات الجغرافية التالية:**

السنة الكبيسة	مفتاح الخريطة	الصناعة	الخريطة	مقياس الرسم	الدول المثقوية
---------------	---------------	---------	---------	-------------	----------------

- 1- ( ..... ) تحويل المواد الخام من صورتها الطبيعية إلى صورة أخرى.
- 2- ( ..... ) هي الدولة التي تحيط بها دولة من جميع الجهات.
- 3- ( ..... ) ما يضاف فيها يوم إلى شهر فبراير.
- 4- ( ..... ) مجموعة من المصطلحات التي تمثل الظواهر التي توضحها الخريطة.
- 5- ( ..... ) تمثيل لسطح الكرة الأرضية أو لجزء منه على لوحة مستوية.

انتهت الأسئلة

اختبار (قصير) الوحدة الثانية الفصل الدراسي الأول 1444هـ

المادة : الجغرافيا  
الصف : الثالث الثانوي

اسم الطالبة /...../ الشعبة /...../

السؤال الأول : ضع علامة (صح) أمام العبارة الصحيحة ، وعلامة (خطأ) أمام العبارة الخاطئة فيما يأتي :

10

م	الاسئلة	ص	خ
1	خسوف القمر هو احتجاب ضوء الشمس - بإرادة الله - كله أو جزء منه عن الأرض بسبب وقوع القمر بين الشمس والأرض.		
2	الشهر القمري = 29.4 يوماً.		
3	من أشهر المذنبات مذنب هالي الذي اكتشف سنة 1682م.		
4	الكويكبات تقع بين كوكبي المريخ والمشتري.		
5	يبعد القمر عن الأرض أكثر من 384 ألف كم، وهو تابع للأرض.		
6	تستعمل لقياس المسافات بين عناصر المجموعة الشمسية، ويطلق عليها (الوحدة الفلكية).		
7	أغني كوكب بلوتو من تصنيف المجموعة الشمسية فمداره يتقاطع مع مدار كوكب نبتون.		
8	تعد (الشعري اليمانية) أكثر النجوم لمعاناً في السماء		
9	تدور الشمس حول نفسها من الشرق إلى الغرب مع عقارب الساعة.		
10	ويطلق تعبير (البروج) على الكويكبات التي تمر بها الشمس في أثناء مسارها الظاهري في السماء على مدار السنة.		

السؤال الثاني : اختر الإجابة الصحيحة لما يأتي :

1	اجرام تدور حول الشمس في مدارات بيضوية متغيرة .			
	أ	النيازك	ج	الشهب
	ب	الكويكبات	د	المذنبات
	يستمر الهلال في النمو ، فنرى حينئذ نصف وجه القمر ويسمى (التربيع الأول) في يوم			
2	أ	7 أو 8 من الشهر	ج	9 أو 10 من الشهر
	ب	4 أو 5 من الشهر	د	11 أو 12 من الشهر
3	وإذا حدث الكسوف الكلي للشمس فهو لا يستغرق أكثر من			
	أ	سبع دقائق	ج	تسع دقائق
	ب	ثمان دقائق	د	عشر دقائق
	ينفجر في بعض الأحيان ويسقط قطعاً صغيرة ملتصقة إلى الأرض، ويكون سطحه حاراً، وداخله بارد			
4	أ	الشهب	ج	النيازك
	ب	الكويكبات	د	المذنبات
5	هي الاجرام التي تتبع الكواكب، وتدور في أفلاك خاصة حولها. وهي تشبه الكواكب في أنها أجسام مُعتمة			
	أ	الاقمار	ج	النيازك
	ب	الكويكبات	د	الشهب