

تم تحميل وعرض المادة من



موقع مادتي هو موقع تعليمي يعمل على مساعدة المعلمين والطلاب وأولياء الأمور في تقديم حلول الكتب المدرسية والاختبارات وشرح الدروس والملاحظات والتحاظير وتوزيع المنهج لكل المراحل الدراسية بشكل واضح وسهل مجاناً بتصفح وعرض مباشر أونلاين وتحميل على موقع مادتي

حمل تطبيق مادتي ليصلك كل جديد






تقويم ختامي لمهارات علوم الصف الثاني _ الفصل الدراسي الاول لعام ١٤٤٦ هـ

* / نضع علامة (✓) تحت الأجابة الصحيحة :

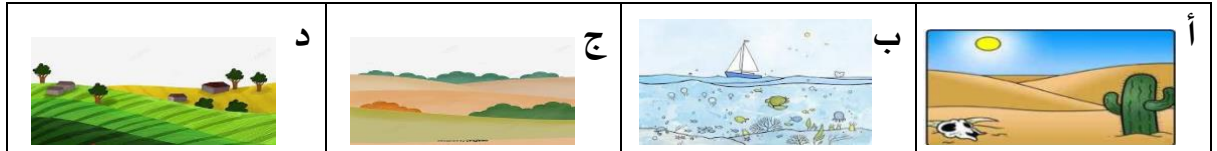
1/ أي المراحل التالية تمثل بداية السلسلة الغذائية :



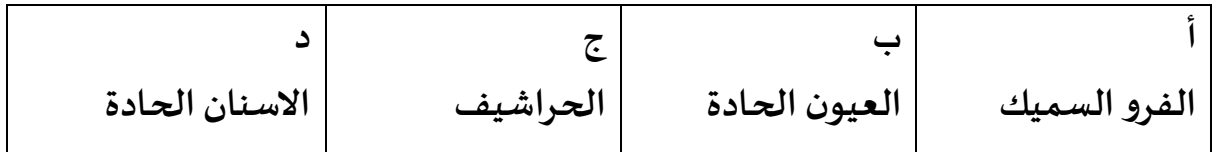
2/ كيف تختلف النباتات عن باقي المخلوقات ؟




3/ أي من هذه المواطن تعيش فيها السحلية :



4/ ما الخاصية التي ساعدت الدب القطبي على العيش في المنطقة القطبية :



5/ المرحلة الأخيرة من دورة حياة الفراشة هي :



• نرتب دورة حياة الفاصولياء



*نُرتب حيوانات السلسلة الغذائية من 1 - 4



*كيف نعرف أن الشيء مخلوق حي؟

1--2-3-4

نضع كل كلمة تحت مكانها الصحيح :

تعيش الحيوانات التالية في المواطن (صحراء - غابة - صحراء باردة - غابة مطيرة)



سكرة الشمري



انتهت الاسئلة ...