

تم تحميل وعرض المادة من



موقع مادتي هو موقع تعليمي يعمل على مساعدة المعلمين والطلاب وأولياء الأمور في تقديم حلول الكتب المدرسية والاختبارات وشرح الدروس والملاحظات والتحاير وتوزيع المنهج لكل المراحل الدراسية بشكل واضح وسهل مجاناً بتصفح وعرض مباشر أونلاين وتحميل على موقع مادتي

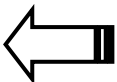
حمل تطبيق مادتي ليصلك كل جديد



الدور	الفصل الدراسي	العام الدراسي
الأول	الأول	١٤٤٥ / ١٤٤٦ هـ
الثالث الثانوي/ الشعبة ()		الصف / الشعبة
فيزياء ١-٣		المادة
ساعتان ونصف		الزمن
٤		عدد الأسئلة
٣		عدد الأوراق

اسم الطالب	الرقم التسلسلي في الكشف
------------	-------------------------	-------

رقم السؤال	الدرجة المستحقة		المصحح		المراجع	
	رقماً	كتابة	الاسم	التوقيع	الاسم	التوقيع
١						
٢						
٣						
٤						
المجموع						



استعن بالله ثم أجب عن الأسئلة الآتية:

السؤال الأول: اختر الإجابة الصحيحة فيما يلي:

١- من الأمثلة على الأوساط الشفافة:			
أ- مظلة المصباح	ب- قطعة القماش	ج- الهواء	د- لوح الخشب
٢- من أمثلة المصادر المستضاءة:			
أ- القمر	ب- الليزر	ج- التلفاز	د- المصباح
٣- من الأمثلة على السطوح الخشنة التي تسبب انعكاس غير منتظم:			
أ- مرآة	ب- ورقة كتاب	ج- ماء ساكن	د- معدن مصقول
٤- خاصية انتقال الوقود في فتيلة القنديل تعد إحدى الظواهر المهمة على خاصية:			
أ- التوتر السطحي	ب- اللزوجة	ج- الخاصية الشعرية	د- التعرق
٥- يقف طالب وزنه 100N على طوبة خرسانية مساحتها 4m ² ، فإن مقدار الضغط المؤثر على الطوبة يساوي:			
أ- 0.04Pa	ب- 25Pa	ج- 100Pa	د- 400Pa
٦- أي الأجسام الآتية لا يحتوي على مادة في حالة البلازما؟			
أ- إضاءة النيون	ب- المصابيح العادية	ج- النجوم	د- البرق
٧- جسم تم غمره في الماء فأصبح وزنه 10N ، فإذا كان وزنه خارج الماء 40N ، كم مقدار قوة الطفو المؤثرة فيه؟			
أ- 10N	ب- 30N	ج- 40N	د- 50N
٨- المرايا المستوية والمرايا المحدبة تكون صفات الصورة المتكوّنة فيها دائماً:			
أ- خيالية ومعتدلة	ب- حقيقية ومقلوبة	ج- حقيقية ومعتدلة	د- خيالية ومقلوبة
٩- تسمى الصبغة التي لها القدرة على امتصاص لونين أساسيين وتعكس لوناً واحداً بـ:			
أ- الصبغة الأساسية	ب- الصبغة الثانوية	ج- الصبغة المتتامة	د- الصبغة الأولية
١٠- موجة زمنها الدوري 100 s ، ما ترددها ؟			
أ- 0.01 s	ب- 0.01 Hz	ج- 100 s	د- 100 Hz
١١- ينتج عن تراكب موجتين أو أكثر:			
أ- انعكاس	ب- انكسار	ج- حيود	د- تداخل
١٢- يسمى معدل اصطدام الضوء بوحدة المساحات بـ:			
أ- الضوء المستقطب	ب- شدة الاضاءة	ج- التدفق الضوئي	د- الاستضاءة
١٣- أي من المتغيرات الآتية لا تؤثر في الزمن الدوري للندول؟			
أ- طول خيط الوندول	ب- ثقل الوندول	ج- تسارع الجاذبية	د- جميع ما سبق
١٤- "ضغط المائع يقل إذا زادت سرعته":			
أ- مبدأ برنولي	ب- مبدأ باسكال	ج- مبدأ أرخميدس	د- القانون العام للغازات
١٥- تكون سرعة الصوت أكبر في:			
أ- الجوامد	ب- السوائل	ج- الغازات	د- الفراغ
١٦- خاصية تمييز الأصوات الرفيعة من الأصوات الغليظة:			
أ- علو الصوت	ب- سرعة الصوت	ج- حدة الصوت	د- مستوى الصوت
١٧- أي مما يلي يعتبر لون ثانوي في الضوء؟			
أ- الأحمر	ب- الأرجواني	ج- الأخضر	د- الأزرق
١٨- إذا كانت الزاوية بين الشعاع الساقط والعمود المقام 60 ، فإن زاوية الانعكاس تساوي:			
أ- 30	ب- 45	ج- 60	د- 90

١٩- إذا كان نصف قطر التكور لمرآة كروية 10cm، فإن البعد البؤري يساوي:

أ- 5cm ب- 10cm ج- 20cm د- 100cm

٢٠- وُضع جسم طوله 10cm أمام عدسة محدبة فتكوّنت له صورة مكبرة 3 مرات، فإن طول الصورة يساوي:

أ- 0.3cm ب- 3cm ج- 30cm د- 1000cm

السؤال الثاني: أ- ضع علامة (✓) أمام الجمل الصحيحة وعلامة (X) أمام الجمل الخاطئة فيما يلي:

- ١- قانون بويل ينص على أن حجم عينة من الغاز يتناسب طردياً مع التغير في درجة حرارتها بالكالفن. ()
- ٢- الزوغان الكروي هو عدم قدرة العدسة الكروية على تجميع أو تركيز الأشعة المتوازية في نقطة واحدة. ()
- ٣- يُسمى السطح العاكس الذي تكون حوافه منحنية نحو المشاهد بالمرآة المقعرة. ()

ب- اختر من العمود (ب) ما يناسبه من العمود (أ) فيما يلي:

(أ)	(ب)
١- العدسات التي تكون سميكة في وسطها وأقل سمكاً عند أطرافها. ()	أ- المنظار الفلكي
٢- يستخدم لتقريب الأجسام البعيدة وتكبير صورها. ()	ب- المجهر
٣- تنصح المصابين بقصر النظر استخدام العدسات. ()	ج- المحدبة
	د- المقعرة

السؤال الثالث:

أ- اكتب المصطلح العلمي لما يلي:

١- (.....) انحراف الضوء عن مساره عند انتقاله بين وسطين شفافين مختلفين في الكثافة.

٢- (.....) إنتاج ضوء يتذبذب في مستوى واحد.

ب- علل: المرايا التي يجب استخدامها على جوانب السيارات تكون محدبة؟

السؤال الرابع:

١- تؤثر آلة بقوة مقدارها 20N في مكبس هيدروليكي مساحة مقطعه العرضي $2m^2$ ، فترفع سيارة صغيرة. فإذا كانت مساحة المقطع العرضي للمكبس الذي ترنكز عليه السيارة $4m^2$ ، فما وزن السيارة؟

٢- إذا كانت سرعة الضوء في الألماس 1.24×10^8 m/s، فما معامل انكسار الألماس؟ $c = 3 \times 10^8$ m/s

انتهت الأسئلة مع رجائي لكم بالتوفيق والنجاح،،،

نموذج الاجابة

مكتب التعليم
مدرسة ثانوية

وزارة التعليم
Ministry of Education

وزارة التعليم
الإدارة العامة للتعليم بمنطقة

الدور	الفصل الدراسي	العام الدراسي
الأول	الأول	١٤٤٥ / ١٤٤٦ هـ
الثالث الثانوي/ الشعبة ()		الصف / الشعبة
فيزياء ١-٣		المادة
ساعتان ونصف		الزمن
٤		عدد الأسئلة
٣		عدد الأوراق

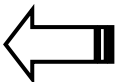
اسم الطالب	الإجابة النموذجية	الرقم التسلسلي في الكشف
------------	-------------------	-------------------------

رقم السؤال	الدرجة المستحقة		المصحح		المراجع	
	رقماً	كتابة	الاسم	التوقيع	الاسم	التوقيع
١	٢٠					
٢	٢					
٣	٣					
٤	٤					
المجموع	٣٠					

تلاؤفة درجة فقط لا علم

ملاحظة تذكيرية: وفق النموذج الثالث والأربعون من خطة الاختبارات ما يحتاج المعلم يوقع على كل ورقة للتصحيح والمراجعة والتدقيق بل يكتفى بالتوقيع على المظروف

الخارجي ولكن لابد من وضع علامات تبع التصحيح والمراجعة والتدقيق..



السؤال الأول: اختر الإجابة الصحيحة فيما يلي:

١- من الأمثلة على الأوساط الشفافة:			
أ- مظلة المصباح	ب- قطعة القماش	ج- الهواء	د- لوح الخشب
٢- من أمثلة المصادر المستضاءة:			
أ- القمر	ب- الليزر	ج- التلفاز	د- المصباح
٣- من الأمثلة على السطوح الخشنة التي تسبب انعكاس غير منتظم:			
أ- مرآة	ب- ورقة كتاب	ج- ماء ساكن	د- معدن مصقول
٤- خاصية انتقال الوقود في فتيلة القنديل تعد إحدى الظواهر المهمة على خاصية:			
أ- التوتر السطحي	ب- اللزوجة	ج- الخاصية الشعرية	د- التعرق
٥- يقف طالب وزنه 100N على طوبة خرسانية مساحتها 4m ² ، فإن مقدار الضغط المؤثر على الطوبة يساوي:			
أ- 0.04Pa	ب- 25Pa	ج- 100Pa	د- 400Pa
٦- أي الأجسام الآتية لا يحتوي على مادة في حالة البلازما؟			
أ- إضاءة النيون	ب- المصابيح العادية	ج- النجوم	د- البرق
٧- جسم تم غمره في الماء فأصبح وزنه 10N ، فإذا كان وزنه خارج الماء 40N ، كم مقدار قوة الطفو المؤثرة فيه؟			
أ- 10N	ب- 30N	ج- 40N	د- 50N
٨- المرايا المستوية والمرايا المحدبة تكون صفات الصورة المتكوّنة فيها دائماً:			
أ- خيالية ومعتدلة	ب- حقيقية ومقلوبة	ج- حقيقية ومعتدلة	د- خيالية ومقلوبة
٩- تسمى الصبغة التي لها القدرة على امتصاص لونين أساسيين وتعكس لوناً واحداً بـ:			
أ- الصبغة الأساسية	ب- الصبغة الثانوية	ج- الصبغة المتتامة	د- الصبغة الأولية
١٠- موجة زمنها الدوري 100 s ، ما ترددها ؟			
أ- 0.01 s	ب- 0.01 Hz	ج- 100 s	د- 100 Hz
١١- ينتج عن تراكب موجتين أو أكثر:			
أ- انعكاس	ب- انكسار	ج- حيود	د- تداخل
١٢- يسمى معدل اصطدام الضوء بوحدة المساحات بـ:			
أ- الضوء المستقطب	ب- شدة الاضاءة	ج- التدفق الضوئي	د- الاستضاءة
١٣- أي من المتغيرات الآتية لا تؤثر في الزمن الدوري للندول؟			
أ- طول خيط الوندول	ب- ثقل الوندول	ج- تسارع الجاذبية	د- جميع ما سبق
١٤- "ضغط المائع يقل إذا زادت سرعته":			
أ- مبدأ برنولي	ب- مبدأ باسكال	ج- مبدأ أرخميدس	د- القانون العام للغازات
١٥- تكون سرعة الصوت أكبر في:			
أ- الجوامد	ب- السوائل	ج- الغازات	د- الفراغ
١٦- خاصية تمييز الأصوات الرفيعة من الأصوات الغليظة:			
أ- علو الصوت	ب- سرعة الصوت	ج- حدة الصوت	د- مستوى الصوت
١٧- أي مما يلي يعتبر لون ثانوي في الضوء؟			
أ- الأحمر	ب- الأرجواني	ج- الأخضر	د- الأزرق
١٨- إذا كانت الزاوية بين الشعاع الساقط والعمود المقام 60 ، فإن زاوية الانعكاس تساوي:			
أ- 30	ب- 45	ج- 60	د- 90

١٩- إذا كان نصف قطر التكور لمرآة كروية 10cm، فإن البعد البؤري يساوي:

أ- 5cm	ب- 10cm	ج- 20cm	د- 100cm
٢٠- وُضع جسم طوله 10cm أمام عدسة محدبة فتكونت له صورة مكبرة 3 مرات، فإن طول الصورة يساوي:			
أ- 0.3cm	ب- 3cm	ج- 30cm	د- 1000cm

السؤال الثاني: أ- ضع علامة (✓) أمام الجمل الصحيحة وعلامة (X) أمام الجمل الخاطئة فيما يلي:

١- قانون بويل ينص على أن حجم عينة من الغاز يتناسب طردياً مع التغير في درجة حرارتها بالكالفن. (X)
٢- الزوغان الكروي هو عدم قدرة العدسة الكروية على تجميع أو تركيز الأشعة المتوازية في نقطة واحدة. (✓)
٣- يُسمى السطح العاكس الذي تكون حوافه منحنية نحو المشاهد بالمرآة المقعرة. (✓)

ب- اختر من العمود (ب) ما يناسبه من العمود (أ) فيما يلي:

(ب)	(أ)
أ- المنظار الفلكي	١- العدسات التي تكون سميكة في وسطها وأقل سمكاً عند أطرافها. (ج) $\frac{1}{2}$
ب- المجهر	٢- يستخدم لتقريب الأجسام البعيدة وتكبير صورها. (أ) $\frac{1}{2}$
ج- المحدبة	٣- تنصح المصابين بقصر النظر استخدام العدسات. (د) $\frac{1}{2}$
د- المقعرة	

السؤال الثالث:

أ- اكتب المصطلح العلمي ما يلي:

١- (.....) الانكسار (.....) انحراف الضوء عن مساره عند انتقاله بين وسطين شفافين مختلفين في الكثافة.

٢- (.....) الاستقطاب (.....) إنتاج ضوء يتذبذب في مستوى واحد.

ب- علل: المرايا التي يجب استخدامها على جوانب السيارات تكون محدبة؟

لانها تغطي مجال واسع للرؤية حيث انها تكون مرآة مقعرة.

السؤال الرابع:

١- تؤثر آلة بقوة مقدارها 20N في مكبس هيدروليكي مساحة مقطعه العرضي $2m^2$ ، فترفع سيارة صغيرة. فإذا كانت مساحة المقطع العرضي للمكبس الذي ترتكز عليه السيارة $4m^2$ ، فما وزن السيارة؟

$$F = 20N \quad A_1 = 2m^2 \quad A_2 = 4m^2 \quad F_2 = F_1 = ??$$

$$\frac{F_1}{A_1} = \frac{F_2}{A_2} \Rightarrow \frac{20}{2} = \frac{F_2}{4} \Rightarrow F_2 = 40N$$

①

①

٢- إذا كانت سرعة الضوء في الألماس 1.24×10^8 m/s، فما معامل انكسار الألماس؟ $c = 3 \times 10^8$ m/s

$$v = 1.24 \times 10^8 \text{ m/s} \quad n = ?? \quad c = 3 \times 10^8 \text{ m/s}$$

$$n = \frac{c}{v} \Rightarrow n = \frac{3 \times 10^8}{1.24 \times 10^8} = 2.42 \text{ (بدون وحدة)}$$

①

①

انتهت الأسئلة مع رجائي لكم بالتوفيق والنجاح،، معلم المادة: فلان بن فلان التوقيع:

مدرسة اختبار نهاية الفصل الدراسي الأول للعام الدراسي ١٤٤٦هـ

الدرجة	المصحح	التوقيع	المراجع	التوقيع	الدرجة النهائية
السؤال الأول					رقماً
السؤال الثاني					كتابة
السؤال الثالث					
المدقق:					التوقيع:

اسم الطالب:
الصف/ الشعبة:
رقم الجلوس:
30

اسم الطالب:

الصف/ الشعبة:

رقم الجلوس:

السؤال الأول: ضع علامة صح (√) أمام العبارة الصحيحة وعلامة خطأ (X) أما العبارة الخاطئة لكل مما يلي:

1. الشحنات لا تفنى ولا تستحدث ولكن يمكن فصلها ()

2. تعمل العدسة المستديرة في المنظار عمل فتحة تسمح بمرور الضوء خلالها وتسبب حيود الضوء ()

3. التيار متساوي في جميع أجزاء دائرة التوازي الكهربائية البسيطة ()

4. الصورة في المرايا المستوية دائما حقيقية ()

1
4

السؤال الثاني: اختر الإجابة الصحيحة لكل من العبارات التالية:
20

السؤال الثاني: اختر الإجابة الصحيحة لكل من العبارات التالية:

1 - سرعة الضوء في الفراغ:

(أ) $3 \times 10^8 \text{ m/s}$ (ب) $1.6 \times 10^{-19} \text{ C}$ (ج) $9 \times 10^9 \text{ N.m}^2/\text{C}^2$ (د) 700 nm

2 - احسب استضاءة سطح يبعد 2m عن مصدر ضوئي تدفقه 1256 lm:

(أ) 25 lx (ب) 628 lx (ج) 2512 lx (د) 1256 lx

3 - وضع جسم على بعد 5 cm أمام مرآة مقعرة بعدها البؤري 15 cm ، اوجد بعد الصورة:

(أ) -7.5 cm (ب) -5 cm (ج) -70 cm (د) -10 cm

4 - ما مقدار الشغل اللازم لنقل شحنة مقدارها 0.15 C خلال فرق جهد كهربائي 9 V :

(أ) 1.35 J (ب) 60 J (ج) 0.15 J (د) 9 J

5 - مكيف كهربائي يعمل على جهد 220 V ويمر به تيار مقداره 9 A احسب مقاومة هذا المكيف:

(أ) 24.4Ω (ب) 1980Ω (ج) 9Ω (د) 220Ω

6 - شحنتان مقدار الأولى 5 C ومقدار الثانية 4 C والمسافة بينهما 3 m احسب مقدار القوة الكهربائية بينهما:

(أ) $6 \times 10^{10} \text{ N}$ (ب) $2 \times 10^{10} \text{ N}$ (ج) $3 \times 10^{10} \text{ N}$ (د) $57 \times 10^{10} \text{ N}$

7 - مصباح كهربائي يمر به تيار 0.5 A ويعمل على جهد 220 V أحسب قدرة هذا المصباح:

(أ) 220 w (ب) 110 w (ج) 440 w (د) 0.5 w

8 - مكثف كهربائي سعته 27 μF وفرق الجهد الكهربائي بين لوحيه 45 V ما مقدار شحنة المكثف؟

(أ) $1.66 \times 10^{-3} \text{ C}$ (ب) $1.215 \times 10^{-3} \text{ C}$ (ج) $0.6 \times 10^{-3} \text{ C}$ (د) $18 \times 10^{-3} \text{ C}$

9 - أوجد المقاومة الكلية لثلاث مقاومات مقدارها 2Ω ، 4Ω ، 6Ω إذا وصلت على التوالي:

(أ) 0.02Ω (ب) 12Ω (ج) 48Ω (د) 0.9Ω

10 - هو عدم قدرة المرآة الكروية على تجميع الأشعة المتوازية جميعها في نقطة واحدة:

(أ) الاستقطاب (ب) الزوجان الكروي (ج) الزوجان اللوني (د) الحيود

11 - المعدل الزمني لتدفق الشحنة الكهربائية:

(أ) الكهرباء الساكنة (ب) التيار الاصطلاحي (ج) التيار الكهربائي (د) البطارية

12 - سطح عاكس حوافه منحنية نحو المشاهد:

(أ) العدسة (ب) المرآة المحدبة (ج) المرآة المقعرة (د) المرآة المستوية

13 - الضوء الناتج عن تراكب ضوء أي مصدرين أو أكثر مشكلاً مقدمات موجية منتظمة:			
(أ) محزوز النفاذ	(ب) الضوء الغير مترابط	(ج) الضوء المترابط	(د) نمط الحيود
14 - جهاز لقياس الأطوال الموجية للضوء باستخدام محزوز الحيود:			
(أ) الفولتمتر	(ب) الأميتر	(ج) المطياف	(د) مولد فان دي جراف
15 - شحن جسم متعادل بملامسته جسم اخر مشحون:			
(أ) الجسم المتعادل	(ب) الشحن بالحث	(ج) الشحن بالتوصيل	(د) الكهرباء الساكنة
16 - أنواع محزوزات الحيود:			
(أ) محزوز الحيود	(ب) المحزوز الغشائي	(ج) محزوزات الانعكاس	(د) جميع ما سبق
17 - جهاز يستخدم لقياس فرق الجهد:			
(أ) مولد فان دي جراف	(ب) المطياف	(ج) الأميتر	(د) الفولتمتر
18 - أداة تتكون من عدد كبير من الشقوق المفردة المتقاربة جداً:			
(أ) معيار ريليه	(ب) المطياف	(ج) العدسة	(د) محزوز الحيود
19 - قطعة صغيرة من فلز تنصهر عندما يمر تيار كبير:			
(أ) قاطع التفريغ الأرضي الخاطئ	(ب) دائرة القصر	(ج) قاطع الدائرة الكهربائية	(د) المنصهر الكهربائي
20 - قطعة من مادة شفاقة تستخدم في تجميع الضوء أو تفريقه وتكوين الصور:			
(أ) المرأة المحدبة	(ب) المرأة المستوية	(ج) المرأة المقعرة	(د) العدسة

السؤال الثالث: املئ الفراغات التالية:

1. أكتب الصيغة الرياضية لقانون سنل:

.....

2. ما الهدف من تجربة قطرة الزيت لملكيان:

.....

3. أذكر أنواع الاستقطاب:

.....1

.....2

مع تمنياتنا لكم بالتوفيق والنجاح،،،

معلمي المادة..

نموذج الإجابة

المملكة العربية السعودية

وزارة التعليم

الإدارة العامة للتعليم بالمنطقة

المادة: فيزياء ٣ مقررات

التاريخ:

الزمن: ساعتين ونصف

وزارة التعليم
المملكة العربية السعودية
KINGDOM OF SAUDI ARABIA
Ministry of Education

مدرسة اختبار نهاية الفصل الدراسي الأول للعام الدراسي ١٤٤٦ هـ

الدرجة	المصحح	التوقيع	المراجع	التوقيع	الدرجة النهائية
السؤال الأول					رقماً
السؤال الثاني					كتابة
السؤال الثالث					
المدقق:					التوقيع:

اسم الطالب:
رقم الجلوس:
30

اسم الطالب:

السؤال الأول: ضع علامة صح (√) أمام العبارة الصحيحة وعلامة خطأ (X) أما العبارة الخاطئة لكل مما يلي:

١. الشحنات لا تفنى ولا تستحدث ولكن يمكن فصلها (√)
٢. تعمل العدسة المستديرة في المنظار عمل فتحة تسمح بمرور الضوء خلالها وتسبب حيود الضوء (√)
٣. التيار متساوي في جميع أجزاء دائرة التوازي الكهربية البسيطة (X)
٤. الصورة في المرايا المستوية دائماً حقيقية (X)
4

موقع
مادنتيري

السؤال الثاني: اختر الإجابة الصحيحة لكل من العبارات التالية:
20

السؤال الثاني: اختر الإجابة الصحيحة لكل من العبارات التالية:

1 - سرعة الضوء في الفراغ:	(أ) $3 \times 10^8 \text{ m/s}$	(ب) $1.6 \times 10^{-19} \text{ C}$	(ج) $9 \times 10^9 \text{ N.m}^2/\text{C}^2$	(د) 700 nm
2 - احسب استضاءة سطح يبعد 2m عن مصدر ضوئي تدفقه 1256 lm:	(أ) 25 lx	(ب) 628 lx	(ج) 2512 lx	(د) 1256 lx
3 - وضع جسم على بعد 5 cm أمام مرآة مقعرة بعدها البؤري 15 cm ، اوجد بعد الصورة:	(أ) -7.5 cm	(ب) -5 cm	(ج) -70 cm	(د) -10 cm
4 - ما مقدار الشغل اللازم لنقل شحنه مقدارها 0.15 C خلال فرق جهد كهربي 9 V :	(أ) 1.35 J	(ب) 60 J	(ج) 0.15 J	(د) 9 J
5 - مكيف كهربي يعمل على جهد 220 V ويمر به تيار مقداره 9 A احسب مقاومة هذا المكيف:	(أ) 24.4 Ω	(ب) 1980 Ω	(ج) 9 Ω	(د) 220 Ω
6- شحنتان مقدار الأولى 5 C ومقدار الثانية 4 C والمسافة بينهما 3 m احسب مقدار القوة الكهربية بينهما:	(أ) $6 \times 10^{10} \text{ N}$	(ب) $2 \times 10^{10} \text{ N}$	(ج) $3 \times 10^{10} \text{ N}$	(د) $57 \times 10^{10} \text{ N}$
7 - مصباح كهربي يمر به تيار 0.5 A ويعمل على جهد 220 V احسب قدرة هذا المصباح:	(أ) 220 w	(ب) 110 w	(ج) 440 w	(د) 0.5 w
8 - مكثف كهربي سعته 27 μF وفرق الجهد الكهربي بين لوحيه 45 V ما مقدار شحنة المكثف؟	(أ) $1.66 \times 10^{-3} \text{ C}$	(ب) $1.215 \times 10^{-3} \text{ C}$	(ج) $0.6 \times 10^{-3} \text{ C}$	(د) $18 \times 10^{-3} \text{ C}$
9 - أوجد المقاومة الكلية لثلاث مقاومات مقدارها 2 Ω ، 4 Ω ، 6 Ω إذا وصلت على التوالي:	(أ) 0.02 Ω	(ب) 12 Ω	(ج) 48 Ω	(د) 0.9 Ω
10 - هو عدم قدرة المرآة الكروية على تجميع الأشعة المتوازية جميعها في نقطة واحدة:	(أ) الاستقطاب	(ب) الزوغان الكروي	(ج) الزوغان اللوني	(د) الحيود
11 - المعدل الزمني لتدفق الشحنة الكهربية:	(أ) الكهرباء الساكنة	(ب) التيار الاصطلاحي	(ج) التيار الكهربي	(د) البطارية
12 - سطح عاكس حوافه منحنية نحو المشاهد:	(أ) العدسة	(ب) المرآة المحدبة	(ج) المرآة المقعرة	(د) المرآة المستوية

13 - الضوء الناتج عن تراكب ضوء أي مصدرين أو أكثر مشكلاً مقدمات موجية منتظمة:			
(أ) محزوز النفاذ	(ب) الضوء الغير مترابط	(ج) الضوء المترابط	(د) نمط الحيود
14 - جهاز لقياس الأطوال الموجية للضوء باستخدام محزوز الحيود:			
(أ) الفولتميتر	(ب) الاميتر	(ج) المطياف	(د) مولد فان دي جراف
15 - شحن جسم متعادل بملامسته جسم اخر مشحون:			
(أ) الجسم المتعادل	(ب) الشحن بالحث	(ج) الشحن بالتوصيل	(د) الكهرباء الساكنة
16 - أنواع محزوزات الحيود:			
(أ) محزوز الحيود	(ب) المحزوز الغشائي	(ج) محزوزات الانعكاس	(د) جميع ما سبق
17 - جهاز يستخدم لقياس فرق الجهد:			
(أ) مولد فان دي جراف	(ب) المطياف	(ج) الأميتر	(د) الفولتميتر
18 - أداة تتكون من عدد كبير من الشقوق المفردة المتقاربة جداً:			
(أ) معيار ريليه	(ب) المطياف	(ج) العدسة	(د) محزوز الحيود
19 - قطعة قصيرة من فلز تنصهر عندما يمر تيار كبير:			
(أ) قاطع التفريغ الأرضي الخاطئ	(ب) دائرة القصر	(ج) قاطع الدائرة الكهربائية	(د) المنصهر الكهربائي
20 - قطعة من مادة شفافة تستخدم في تجميع الضوء أو تفريقه وتكوين الصور:			
(أ) المرآة المحدبة	(ب) المرآة المستوية	(ج) المرآة المقعرة	(د) العدسة

السؤال الثالث: املئ الفراغات التالية:

١. اكتب الصيغة الرياضية لقانون سنل:

$$n_1 \sin \theta_1 = n_2 \sin \theta_2$$

٢. ما الهدف من تجربة قطرة الزيت لملكيان:

(لقياس مقدار شحنة الالكترون)

٣. أذكر أنواع الاستقطاب:

١. الاستقطاب بالترشيح (الفلاتر)

٢. الاستقطاب بالانعكاس

مع تمنياتنا لكم بالتوفيق والنجاح،،،

معلمي المادة..

المادة:	بسم الله الرحمن الرحيم  وزارة التعليم Ministry of Education	المملكة العربية السعودية وزارة التعليم إدارة التعليم مدرسة
المستوى:		
الصف:		
الزمن:		
السنة الدراسية:		

اسم الطالب/ة.....		رقم الجلوس
رقم السؤال	السؤال الأول	السؤال الثاني
الدرجة	٩/	١١/
المراجع/ة	المصحح/ة	المجموع
المدقق/ة		٣٠/

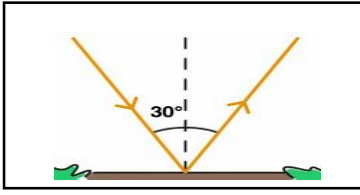
أجيب مستعينة بالله على الأسئلة التالية

السؤال الأول: ظللي الإجابة الصحيحة في ورقة الإجابة:

1. القوة المؤثرة على وحدة المساحات						
أ	الكثافة	ب	الكتلة	ج	الضغط	د
2. ينص عند ثبوت درجة الحرارة فإن حجم عينه من الغاز يتناسب عكسياً مع الضغط المؤثر عليه						
أ	قانون شارل	ب	قانون بويل	ج	قانون جاي لوساك	د
3. من تطبيقات مبدأ باسكال						
أ	الغواصات الحربية	ب	قوة الرفع في الطائرات	ج	المكبس الهيدروليكي	د
4. هي قوى تجاذب كهرومغناطيسية التي تؤثر بين جزيئات المادة ذاتها.						
أ	قوى التماسك	ب	قوى التلاصق	ج	قوى التكاثر	د
5. معامل التمدد الحجمي يعادل معامل التمدد الطولي						
أ	نصف	ب	ضعف	ج	ثلاث أضعاف	د
6. الزمن الذي يحتاج إليه الجسم ليكمل دورة كاملة من الحركة ذهاباً وإياباً						
أ	سعة الاهتزاز	ب	الزمن الدوري	ج	تردد الموجة	د
7. القانون الرياضي يمثّل						
أ	قانون هوك	ب	قانون نيوتن	ج	قانون برنولي	د
8. الموجات التي تتذبذب عمودياً على خط انتشار الموجة						
أ	الموجة الطولية	ب	الموجة المستعرضة	ج	الموجات السطحية	د
9. عدد الاهتزازات الكاملة التي يحدثها الجسم المهتز في الثانية الواحدة						
أ	التردد	ب	القمة	ج	القاع	د
10. يسمى انتقال تغيرات الضغط خلال المادة						
أ	موجة صوتية	ب	موجة صوتية	ج	موجة طولية	د
11. وحدة قياس مستوى الصوت في النظام الدولي هي						
أ	النيوتن	ب	الباسكال	ج	الديسبل	د
12. هو انحناء الضوء، حول الحواجز						
أ	التراكب	ب	الاستقطاب	ج	الحيود	د
13. انعكاس ناتج عن سطح أمس، بحيث تسقط الأشعة متوازية وعندما تنعكس تكون متوازية						
أ	انعكاس منتظم	ب	انعكاس غير منتظم	ج	انعكاس منتظم	د
14. يسمى المعدل الذي ينبعث به الضوء من مصباح ضوئي، مقيساً بوحدته لومن						
أ	شدة الإضاءة	ب	الاستضاءة	ج	التدفق الضوئي	د
15. سطح عاكس، حوافه منحنية نحو المشاهد.						
أ	المرآة المستوية	ب	المرآة المقعرة	ج	المرآة المحدبة	د

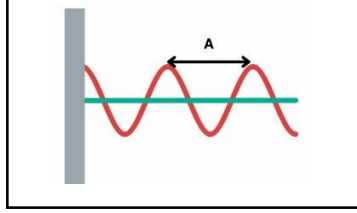
تابع السؤال الأول: ظلل الإجابة الصحيحة مما يأتي

١٨- مقدار زاوية الانعكاس في الشكل :



(أ) 30° (ب) 60°

١٧- المسافة A في الشكل تمثل



(أ) سعة الموجة (ب) الطول الموجي.

١٦- المبدأ العلمي الذي يتضح في الشكل.



مبدأ أرخميدس (ب) مبدأ برنولي.

السؤال الثاني: ظللي حرف (ص) إذا كانت الإجابة صحيحة، وحرف (خ) إذا كانت العبارة خاطئة:

خطأ	صح	السؤال
خ	ص	1. الموائع هي الغازات والسوائل التي تتدفق وليس لها شكل ثابت
خ	ص	2. يطفو مشبك الورق على سطح الماء بسبب الخاصية الشعرية
خ	ص	3. التبخر هو عودة جزيئات السائل من الحالة الغازية إلى الحالة السائلة
خ	ص	4. المرونة هي قدرة الأجسام الصلبة على العودة إلى شكلها الأصلي بعد زوال القوة المؤثرة عليها
خ	ص	5. العوامل المؤثرة على الزمن الدوري للبتندول كتلة تفل البندول و سعة الاهتزاز
خ	ص	6. يحدث تأثير دوبلر في الموجات الميكانيكية فقط
خ	ص	7. التردد الأساسي هو أدنى تردد للرنين في الأنابيب
خ	ص	8. يضاف اللون الأزرق لتبييض الملابس المصفرة حيث أنه مع اللون الأصفر لوانان متتامان
خ	ص	9. العالم جاليليو هو أول من افترض أن للضوء سرعة محددة
خ	ص	10. ينحرف الضوء مبتعداً عن العمود المقام على نقطة السقوط عند انتقاله من الهواء إلى الزجاج
خ	ص	11. يمكن علاج قصر النظر باستخدام عدسات مقعرة

السؤال الثالث: اختر من العمود (أ) ما يناسبها من العمود (ب) ثم ظلل في نموذج الإجابة فيما يلي :-

الحرف الصحي	(أ)	(ب)
ح	1. مبدأ أرخميدس	(1) قطعة من مادة شفافة، مثل الزجاج أو البلاستيك، تستخدم في تجميع الضوء، أو تفريقه وتكوين الصور.
	2. الخاصية الشعرية	(2) الضوء الذي يتذبذب في مستوى واحد
	3. الشمعة (cd)	(3) وحدة قياس شدة الإضاءة في النظام الدولي
	4. الاستقطاب	(4) قوى تسبب ارتفاع الماء من جذور النباتات إلى أعلى الساق والأوراق
	5. قانون سنل	(5) الجسم المغمور في مائع تؤثر فيه قوة رأسية إلى أعلى تساوي وزن المائع المزاح عند طريق الجسم
	6. الزوغان الكروي	(6) يُطلق على عدم قدرة العدسة الكروية على تركيز جميع الأشعة المتوازية في نقطة واحدة
	7. قصر النظر	(7) آلة بصرية تستخدم لمشاهدة الأجسام الصغيرة
	8. التلسكوب	(8) وحدة قياس الضغط في النظام الدولي
	9. العدسة	(9) نسبة جيب زاوية السقوط في الوسط الأول إلى جيب زاوية في الوسط الثاني يعرف ب:
	10. الباسكال	(10) يكون البعد البؤري للعين أقل من البعد البؤري للعين السليمة فتتكون الصور أمام الشبكية.

انتهت الأسئلة

وفقك الله وسدد على درب الخير خطاك

معلمتك : شريفة علي عسيري

المادة:	بسم الله الرحمن الرحيم	المملكة العربية السعودية
المستوى:		وزارة التعليم
الصف:		إدارة التعليم
الزمن:		مدرسة
السنة الدراسية:	١٤٤٦ هـ	

نموذج الإجابة

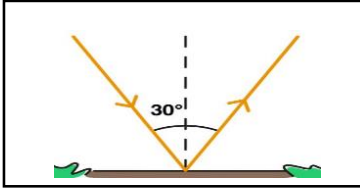
اسم الطالب/ة.....	رقم الجلوس						
رقم السؤال	السؤال الأول	السؤال الثاني	السؤال الثالث	المجموع	المصحح/ة	المراجع/ة	المدقق/ة
الدرجة	٩/	١١/	١٠/	٣٠/			

أجيب مستعينة بالله على الأسئلة التالية

السؤال الأول كل فقرة نصف درجة

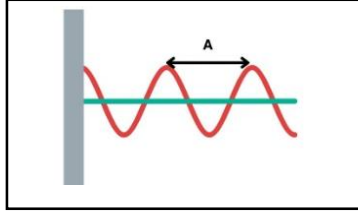
1. القوة المؤثرة على وحدة المساحات	أ	الكثافة	ب	الكتلة	ج	الضغط	د	الحجم
2. ينص عند ثبوت درجة الحرارة فإن حجم عينة من الغاز يتناسب عكسيا مع الضغط المؤثر عليه	أ	قانون شارل	ب	قانون بويل	ج	قانون جاي لوساك	د	قانون أرخميدس
3. من تطبيقات مبدأ باسكال	أ	الغواصات الحربية	ب	قوة الرفع في الطائرات	ج	المكبس الهيدروليكي	د	ال سفن
4. هي قوى تجاذب كهرومغناطيسية التي تؤثر بين جزيئات المادة ذاتها.	أ	قوى التماسك	ب	قوى التلاصق	ج	قوى التكاثر	د	قوى التجاذب
5. معامل التمدد الحجمي يعادل معامل التمدد الطولي	أ	نصف	ب	ضعف	ج	ثلاث أضعاف	د	ثلث
6. الزمن الذي يحتاج إليه الجسم ليكمل دورة كاملة من الحركة ذهابا وإيابا	أ	سعة الاهتزاز	ب	الزمن الدوري	ج	تردد الموجة	د	الطول الموجي
7. القانون الرياضي $F = -kx$ يمثل	أ	قانون هوك	ب	قانون نيوتن	ج	قانون برنولي	د	قانون باسكال
8. الموجات التي تتذبذب عموديا على خط انتشار الموجة	أ	الموجة الطولية	ب	الموجة المستعرضة	ج	الموجات السطحية	د	الموجات الصوتية
9. عدد الاهتزازات الكاملة التي يحدثها الجسم المهتز في الثانية الواحدة	أ	التردد	ب	القمة	ج	القاع	د	البطن
10. يسمى انتقال تغيرات الضغط خلال المادة	أ	موجة ضوئية	ب	موجة صوتية	ج	موجة طولية	د	موجة سطحية
11. وحدة قياس مستوى الصوت في النظام الدولي هي	أ	النيوتن	ب	الباسكال	ج	الديسبل	د	الجول
12. هو انحناء الضوء، حول الحواجز	أ	التراكب	ب	الاستقطاب	ج	الحيود	د	مزج الألوان
13. انعكاس ناتج عن سطح أملس، بحيث تنعكس الأشعة متوازية عندما تسقط متوازية	أ	انعكاس منتظم	ب	انعكاس غير منتظم	ج	انكسار منتظم	د	انكسار غير منتظم
14. يسمى المعدل الذي ينبعث به الضوء من مصباح ضوئي، مقبلا بوحدة لومن	أ	شدة الإضاءة	ب	الاستضاءة	ج	التدفق الضوئي	د	البؤرة
15. سطح عاكس، حوافه منحنية نحو المشاهد	أ	المرآة المستوية	ب	المرآة المقعرة	ج	المرآة المحدبة	د	العدسة

١٨- مقدار زاوية الانعكاس في الشكل :



٣٠° (أ) 60° (ب)

١٧- المسافة A في الشكل تمثل



(أ) سعة الموجة (ب) الطول الموجي.

١٦- المبدأ العلمي الذي يتضح في الشكل.



(أ) مبدأ أرخميدس (ب) مبدأ برنولي.

السؤال الثاني والثالث

درجة واحدة لكل فقرة

السؤال الثاني: ظللي حرف (ص) إذا كانت الإجابة صحيحة، وحرف (خ) إذا كانت العبارة خاطئة:

السؤال	خطأ
1. الموائع هي الغازات والسوائل التي تتدفق وليس لها شكل ثابت	ص
2. يطفو مشبك الورق على سطح الماء بسبب الخاصية الشعرية	ص
3. التبخر هو عودة جزيئات السائل من الحالة الغازية إلى الحالة السائلة	ص
4. المرونة هي قدرة الأجسام الصلبة على العودة إلى شكلها الأصلي بعد زوال القوة المؤثرة عليها	ص
5. العوامل المؤثرة على الزمن الدوري للبدول كتلة ثقل البدول وسعة الاهتزاز	ص
6. يحدث تأثير دوبلر في الموجات الميكانيكية فقط	ص
7. التردد الأساسي هو أدنى تردد للرنين في الأنابيب	ص
8. يضاف اللون الأزرق لتبييض الملابس المصفرة حيث أنه مع اللون الأصفر لوانان متتامان	ص
9. العالم جاليليو هو أول من افترض أن للضوء سرعة محددة	ص
10. ينحرف الضوء مبتعداً عن العمود المقام على نقطة السقوط عند انتقاله من الهواء إلى الزجاج	ص
11. يمكن علاج قصر النظر باستخدام عدسات مقعرة	ص

السؤال الثالث: اختر من العمود (أ) ما يناسبها من العمود (ب) ثم ظلل في نموذج الإجابة فيما يلي :-

الحرف الصحيح	(أ)	(ب)
هـ	1. مبدأ أرخميدس	(أ) قطعة من مادة شفافة، مثل الزجاج أو البلاستيك، تستخدم في تجميع الضوء، أو تفريقه وتكوين الصور.
د	2. الخاصية الشعرية	(ب) الضوء الذي يتذبذب في مستوى واحد
ج	3. الشمعة (cd)	(ج) وحدة قياس شدة الإضاءة في النظام الدولي
ب	4. الاستقطاب	(د) قوى تسبب ارتفاع الماء من جذور النباتات إلى أعلى الساق والأوراق
ح	5. قانون سنل	(هـ) الجسم المغمور في مائع تؤثر فيه قوة رأسية إلى أعلى تساوي وزن المائع المزاح عند طريق الجسم
و	6. الزوجان الكروي	(و) يُطلق على عدم قدرة العدسة الكروية على تركيز جميع الأشعة المتوازية في نقطة واحدة
ي	7. قصر النظر	(ز) آلة بصرية تستخدم لمشاهدة الأجسام الصغيرة
ز	8. التلسكوب	(ح) وحدة قياس الضغط في النظام الدولي
ف	9. العدسة	(ط) نسبة جيب زاوية السقوط في الوسط الأول إلى جيب زاوية في الوسط الثاني يعرف ب:
ح	10. الباسكال	(ي) يكون البعد البؤري للعين أقل من البعد البؤري للعين السليمة فتتكون الصور أمام الشبكية.

انتهت الأسئلة

وفقك الله وسدد على درب الخير خطا

معلمتاك : شريفة علي عسيري

أسئلة الاختبار النهائي الفصل الدراسي الأول - الدور الأول - لعام ١٤٤٦هـ

اسم الطالب	رقم الجلوس	اسم المصحح	اسم المراجع	التوقيع	الدرجة رقما	الدرجة كتابة	درجة ققط
					30		

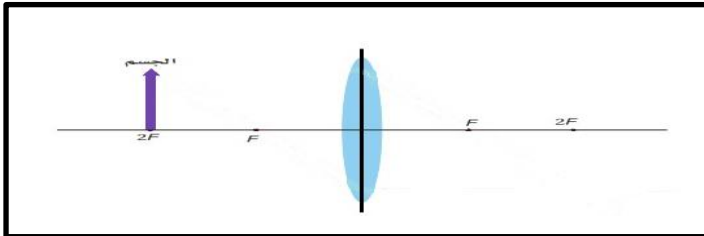
الصف: الثالث الثانوي- عام .
ثانوية
الزمن: ساعتين ونصف .

السؤال الأول:

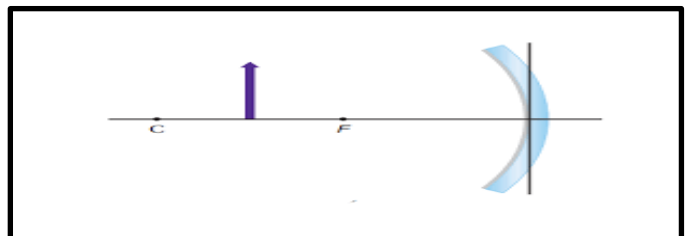
أ - أختَر الإجابة الصحيحة مما يلي:

1	ينجم عن قوى التماسك بين جزيئات المائع:	الخاصية الشعرية	الضغط	التوتر السطحي	قوة الطفو
2	عندما يوضع جسم أمام مرآة محدبة فإن صفات الصورة المتكونة:	حقيقية مقلوبة مكبرة	حقيقية مقلوبة مصغرة	خيالية معتدلة مكبرة	خيالية مصغرة معتدلة
3	من التطبيقات العملية لمبدأ باسكال:	الدراجة الهوائية	البكرات	الرافعة ذات الذراع	المكبس الهيدروليكي
4	قوس المطر ينتج عن ظاهرة:	تحليل الضوء	تجميع الضوء	انعكاس الضوء	امتصاص الضوء
5	حدة الصوت تعتمد على:	سعة الاهتزاز	الطول الموجي	السرعة	تردد الاهتزاز
6	سرعة الصوت تكون أكبر ما يمكن في الأجسام:	الصلبة	السائلة	الغازية	في الفراغ
7	مكبس مساحته 54 cm^2 يؤثر بقوة مقدارها 200 N فما مساحة المكبس الثاني الذي يؤثر بقوة 41000 N	11.07 cm^2	11070 cm^2	12.07 cm^2	12070 cm^2
8	الألوان الأساسية الأولية هي:	الأحمر والأصفر	الأصفر والأخضر والأزرق	البرتقالي والأصفر والأخضر	الأحمر والأخضر والأزرق
9	عندما يسقط شعاع ضوئي من وسط كثيف إلى وسط خفيف بزوايا أكبر من الزاوية الحرجة فإنه يحدث له	انكسار كلي	نعكاس كلي	امتصاص كلي	جميع ما ذكر
10	الموجة التي تظهر واقفة وساكنة، وتتولد نتيجة تداخل موجتين تتحركان في اتجاهين متعاكسين	الموجة السطحية	الموجة الموقوفة	الموجة المستعرضة	الموجة الطولية

ب - من خلال الشكل التالي اوجد مكان تكون الصور بالرسم مع ذكر نوع الصورة:



صفة الصورة



صفة الصورة

ج - أجب عن كل فقرة بما هو مطلوب منك:

- 1- اذكر تطبيق واحد على مبدأ برنولي
- 2- اذكر خاصية واحدة للموائع
- 3- اذكر تطبيق على مبدأ باسكال
- 4- اذكر انواع التداخل لموجتين او اكثر

السؤال الثاني :

اقلب الورقة

1 - ضع علامة (√) أمام العبارات الصحيحة وعلامة (X) أمام العبارات الخاطئة فيما يلي:

1	للضوء خصائص موجية و لكل لون طول موجي محدد
2	الموجات الكهرومغناطيسية هي موجات تحتاج إلى وسط مادي لانتشارها.
3	عند الزاوية الحرجة يكون الشعاع المنكسر معامداً للحد الفاصل بين الوسطين .
4	يحدث الانكسار بسبب اختلاف سرعة الضوء في الوسطين .
5	العلاقة بين التردد و الطول الموجي علاقة طردية

ب - اختر من المجموعة A ما يناسبها في المجموعة B :

المجموعة B		المجموعة A	
النقطة التي تتجمع فيها الأشعة المتوازية بعد انعكاسها عن المرآة .		قصر النظر	1
ضغط المائع المثالي يقل إذا زادت سرعته		مبدأ برنولي	2
النسبة بين سرعة الضوء في الفراغ و سرعته في الوسط .		الموجة	3
اضطراب ينقل الطاقة خلال وسط ناقل أو الفراغ و لا تنتقل جزيئات الوسط		البؤرة	4
من عيوب النظر و الشخص المصاب به لا يستطيع رؤية الأجسام البعيدة بوضوح.		معامل الانكسار	5

السؤال الثالث : حل المسائل التالية

كل فقرة بدرجتين

ب - أوجد الاستضاءة على مسافة 3.0 m أسفل مصباح تدفقه الضوئي 388 lm ؟	أ - إذا وضع جسم على بُعد 11.0 cm من عدسة مجمعة بعدها البؤري 6.0 cm ، فعلى أي بعد من العدسة تتكون الصورة؟
د - ما مقدار طاقة الوضع المخزنة في نابض عندما يستطيع بإزاحة 15 cm علماً بأن مقدار ثابتته يساوي 28 N/m ؟	ج - كتاب فيزياء كتلته 0.80 kg و مساحته 0.055 m ² يستقر على طاولة احسب مقدار الضغط الذي يؤثر به الكتاب ؟

$$\pi = 3.14 \quad \text{--} \quad g = 9.8 \text{ m/s}^2$$

ثوابت قد تحتاج إليها :

نموذج الإجابة

المملكة العربية السعودية
التاريخ: / / 1445 هـ .
وزارة التعليم
المادة: فيزياء (1-3) .
إدارة التعليم بمنطقة
- مكتب تعليم

أسئلة الاختبار النهائي الفصل الدراسي الأول - الدور الأول - لعام 1446 هـ

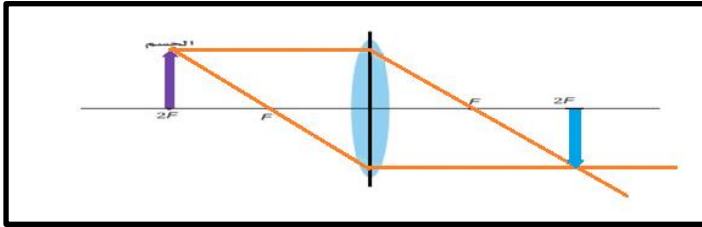
اسم الطالب		نموذج إجابة		رقم الجلوس	
الدرجة رقما	30	الدرجة كتابية	اسم المصحح	التوقيع	اسم المراجع
الدرجة فقط					

الصف: الثالث الثانوي - عام .
ثانوية
الزمن: ساعتين ونصف .
السؤال الأول:

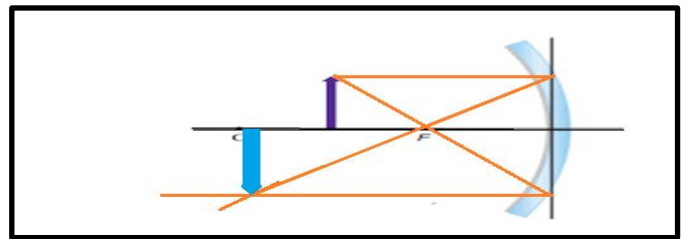
أ - أختار الإجابة الصحيحة مما يلي:

1	ينجم عن قوى التماسك بين جزيئات المائع:	التوتر السطحي	الضغط	قوة الطفو
2	عندما يوضع جسم أمام مرآة محدبة فإن صفات الصورة المتكونة:	حقيقية مقلوبة مكبرة	خيالية معتدلة مكبرة	خيالية مصغرة معتدلة
3	من التطبيقات العملية لمبدأ باسكال:	البكرات	الرافعة ذات الذراع	المكبس الهيدروليكي
4	قوس المطر ينتج عن ظاهرة:	تجميع الضوء	تشتت الضوء	امتصاص الضوء
5	حدة الصوت تعتمد على:	الطول الموجي	السرعة	تردد الاهتزاز
6	سرعة الصوت تكون أكبر ما يمكن في الأجسام:	الصلبة	السائلة	الغازية
7	مكبس مساحته 54 cm^2 يؤثر بقوة مقدارها 200 N فما مساحة المكبس الثاني الذي يؤثر بقوة 41000 N	11070 cm^2	12.07 cm^2	12070 cm^2
8	الألوان الأساسية الأولية هي:	الأصفر والأخضر والأزرق	البرتقالي والأصفر والأخضر	الأحمر والأخضر والأزرق
9	عندما يسقط شعاع ضوئي من وسط كثيف إلى وسط خفيف بزاوية أكبر من الزاوية الحرجة فإنه يحدث له	انعكاس كلي	امتصاص كلي	جميع ما ذكر
10	الموجة التي تظهر واقفة وساكنة، وتتولد نتيجة تداخل موجتين تتحركان في اتجاهين متعاكسين	الموجة السطحية	الموجة المستعرضة	الموجة الطولية

ب - من خلال الشكل التالي اوجد مكان تكون الصور بالرسم مع ذكر نوع الصورة:



صفة الصورة حقيقية ومقلوبة والحجم نفسه



صفة الصورة حقيقية ومقلوبة ومكبرة

ج - أجب عن كل فقرة بما هو مطلوب منك:

- المرداذ (مرداذ العطر) أو بخاخ الطلاء أو تصميم أجنحة الطائرة
الانتشار أو الجريان
المنظار الفلكي أو آلات التصوير أو المجهر
التداخل البناء والتداخل الهدام

- 1- اذكر تطبيق واحد على مبدأ برنولي
2- اذكر خاصية واحدة للموائع
3- اذكر تطبيق على العدسات
4- اذكر أنواع التداخل لموجتين أو أكثر

السؤال الثاني :

اقلب الورقة

1 - ضع علامة (✓) أمام العبارات الصحيحة وعلامة (X) أمام العبارات الخاطئة فيما يلي:

✓	1	للضوء خصائص موجية و لكل لون طول موجي محدد
X	2	الموجات الكهرومغناطيسية هي موجات تحتاج إلى وسط مادي لانتشارها.
✓	3	عند الزاوية الحرجة يكون الشعاع المنكسر معامداً للحد الفاصل بين الوسطين .
✓	4	يحدث الانكسار بسبب اختلاف سرعة الضوء في الوسطين .
X	5	العلاقة بين التردد و الطول الموجي علاقة طردية

ب - اختر من المجموعة A ما يناسبها في المجموعة B :

المجموعة B		المجموعة A	
النقطة التي تتجمع فيها الأشعة المتوازية بعد انعكاسها عن المرآة .	4	قصر النظر	1
ضغط المائع المثالي يقل إذا زادت سرعته	2	مبدأ برنولي	2
النسبة بين سرعة الضوء في الفراغ و سرعته في الوسط .	5	الموجة	3
اضطراب ينقل الطاقة خلال وسط ناقل أو الفراغ و لا تنتقل جزيئات الوسط	3	اليورة	4
من عيوب النظر و الشخص المصاب به لا يستطيع رؤية الأجسام البعيدة بوضوح.	1	معامل الانكسار	5

السؤال الثالث : حل المسائل التالية

كل فقرة بدرجتين

ب - أوجد الاستضاءة على مسافة 3.0 m أسفل مصباح تدفقه الضوئي 388 lm ؟

$$r = 3.0 \text{ m} \quad . \quad P = 388 \text{ lm}$$

$$E = \frac{P}{4\pi r^2}$$

$$= \frac{388}{(4)(3.14)(3)^2} = \frac{388}{113.04}$$

$$E = 3.043 \text{ lx}$$

أ - إذا وضع جسم على بُعد 11.0 cm من عدسة مجمعة بعدها البؤري 6.0 cm ، فعلى أي بعد من العدسة تتكون الصورة؟

$$d_o = 11.0 \text{ cm} \quad . \quad f = 6.0 \text{ cm}$$

$$\frac{1}{f} = \frac{1}{d_o} + \frac{1}{d_i}$$

$$d_i = \frac{d_o f}{d_o - f}$$

$$= \frac{(11)(6)}{11 - 6} = \frac{66}{5}$$

$$d_i = 13.2 \text{ cm}$$

د - ما مقدار طاقة الوضع المخزنة في نابض عندما يستطيل بإزاحة 0.15 m علمًا بأن مقدار ثابتته يساوي 28 N/m ؟

$$k = 28 \text{ N/m} \quad . \quad x = 0.15 \text{ m}$$

$$PE_{sp} = \frac{1}{2} k x^2$$

$$= \left(\frac{1}{2}\right) (28)(0.15)^2$$

$$PE_{sp} = 0.315 \text{ J}$$

ج - كتاب فيزياء كتلته 0.80 kg و مساحته 0.055 m² يستقر على طاولة احسب مقدار الضغط الذي يؤثر به الكتاب ؟

$$m = 0.80 \text{ kg} \quad . \quad A = 0.055 \text{ m}^2$$

$$P = \frac{F}{A} = \frac{m g}{A}$$

$$= \frac{(0.8)(9.8)}{0.055} = \frac{7.84}{0.055}$$

$$P = 142.54 \text{ Pa}$$

موقع
مادنتيري



المملكة العربية السعودية
وزارة التربية والتعليم
الإدارة العامة بمنطقة -----
المدرسة -----

اليوم: -----
التاريخ:
زمن الإجابة: ثلاث ساعات
عدد الأوراق: ٤

اختبار مادة (الفيزياء) للصف (الثالث ثانوي)
الفصل الدراسي ----- الدور ----- للعام الدراسي -----

الاسم الرباعي	
رقم الجلوس	

رقم السؤال	الدرجة رقما	الدرجة كتابة	صححت	التوقيع	راجعت	التوقيع	دققت	التوقيع
الأول								
الثاني								
الثالث								
مجموع الدرجات								



ابدأ مستعيناً بالله متكلاً عليه بالإجابة عن الأسئلة التالية

(أ) ضع علامة صح أو خطأ مع تصحيح الخطأ

4	1	في البرق والنجوم توجد الحالة السائلة من حالات المادة	()
	2	يعتبر الزجاج الأبيض من الأوساط الشفافة	()
	3	المرآة المقعرة تعتبر سطح عاكس حوافه منحنية نحو المشاهد	()
	4	اللون الذي له أعلى طول موجي وأقل تردد هو اللون الأحمر	()
	5	عندما تزداد سرعة المائع يقل ضغطه	()
	6	تسمى الحركة التي يتحركها البندول حركة توافقية بسيطة	()

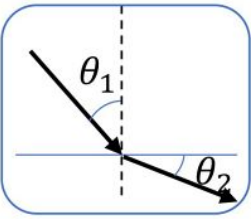
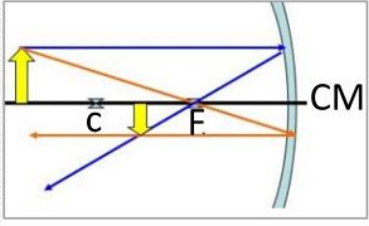
(ب) أذكر مثال لكل مما يأتي

2	1	لون أساسي	المثال
	2	تطبيق على الانكسار الكلي الداخلي	المثال
	3	مبدأ أرخميدس	المثال
	4	انعكاس منتظم	المثال

(ج) انسب كل ظاهرة طبيعية إلى سببها :

2	1	مقدرة الباعوض على السير على الماء	-----
	2	مر ضوء خلال ثقب فانحنى	-----
	3	الأجسام الموجودة تحت سطح الماء تبدو مشوهة	-----
	4	مقدرة الإنسان على سماع أصوات محددة	-----

(د) أوجد المطلوب في كل من الرسوم التالية

2	تجسد الرسم التالية حالة انتقال الضوء من ----- إلى -----		قيمة الزاوية x المحصورة بين الشعاع المنعكس والسطح العاكس
	أذكر صفتين من صفات الصورة بناء على الرسم		الرمز l يعبر عن ----- الرمز m يعبر عن -----

(أ) أكمل الفراغات التالية بالإجابة المناسبة

4

- ١ تعتمد حدة الصوت على
- ٢ يعتمد الزمن الدوري للبندول البسيط على و
- ٣ من أمثلة المرايا التي تنتج دائماً صور وهمية
- ٤ شخص يعاني من قصر النظر سيرتدي نظارة عدستها
- ٥ إذا كان الزمن الدوري لموجة 10s فبالتالي ترددها
- ٦ اتجاه قوة الطفو دوماً للـ
- ٧ معدل نقل الموجات للطاقة يتناسب طردياً مع

(ب) علل لكل مما يأتي

2

(١) استخدام النيلة الزرقاء في غسل الملابس البيضاء.

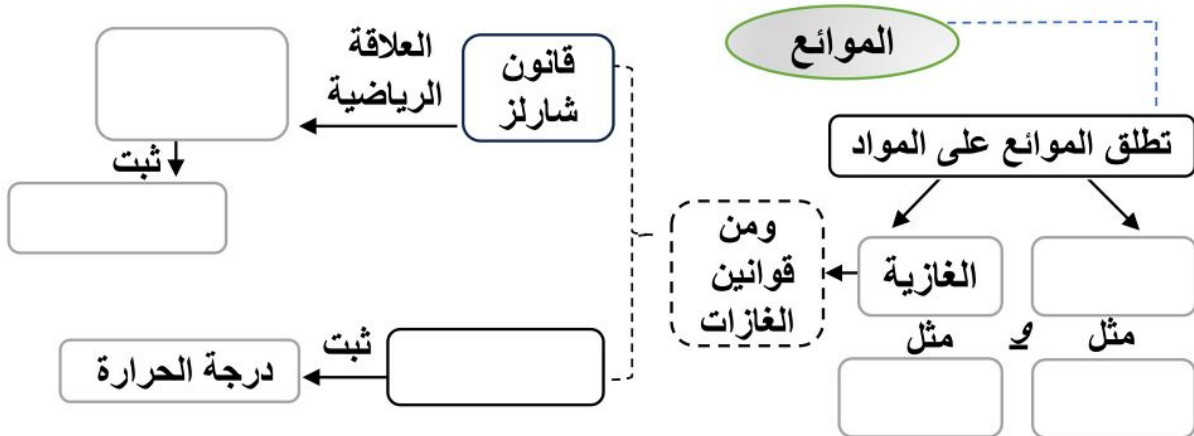
(٢) استخدام مرآة محدبة على جوانب السيارات

(٣) يغوص المسمار الفولاذي عند القاءه في البحر

(٤) الصوت في الكويت أسرع من الصوت في روسيا

(ج) أكمل الخريطة المفاهيمية التالية

3



(د) أوجد ناتج المسألة التالية (لا تنسى كتابة القانون والوحدة)

1

تؤثر آلة بقوة مقدارها 100N في مكبس مساحة مقطعه $0.10m^2$ فترفع سيارة صغيرة موضوعة على مكبس موضوعة على مكبس مساحته $2m^2$ ما وزن السيارة.

(أ) أكتب المصطلح المناسب لكل مما يلي

3

١	(-----): الصورة التي تتكون من التقاء امتدادات الأشعة
٢	(-----): هو إنتاج حزمة ضوء تتذبذب في مستوى واحد .
٣	(-----): عدسة مجمعة ، وسطها أكبر سمكا من أطرافها
٤	(-----): قوى تجاذب تؤثر فيها الجزيئات المتماثلة بعضها في بعض.
٥	(-----): المسافة التي يقطعها الضوء خلال السنة.
٦	(-----): موجة تبدو واقفة وتتولد جراء تداخل موجتين متعاكستين

(ب) أكمل الجدول التالي بما يناسب

2

صيغة قانون سنل الرياضية	وحدة مستوى الصوت	مكونات الموجة المستعرضة
		و -----

(ج) زاوج العمود (أ) بما يناسبه من العمود (ب)

س
٣

4

العمود الأول	الحل	العمود الثاني
أ العلاقة بين الاستضاءة والبعد عن المصدر		طردية
ب نصف قطر مرآة 60cm وبعدها البؤري m ---		طولية
ج إذا كان التدفق الضوئي $200\pi lm$ لمصباح يبعد 5m فاستضاءته إذا lx ---		2
د إن سرعة الضوء في وسط $3 \times 10^8 m/s$ إذا فإن معامل انكسار هذا الوسط يساوي -----		1
هـ موجة الصوت تعتبر موجة -----		عكسية تربيعية
و العلاقة بين التمدد الحراري و التغير بدرجة الحرارة		30
ز موجة الحبال تعتبر موجة -----		مستعرضة
ح موجات الماء تعتبر موجات -----		سطحية

(د) أوجد ناتج المسألة التالية (لا تنسى كتابة القانون والوحدة)

1

إذا وضع جسم على بعد 4cm من عدسة محدبة فتكونت له صورة حقيقية على بعد 4cm ما هو البعد البؤري للعدسة ؟

نموذج اجابة

ابدأ مستعيناً بالله متكلاً عليه بالإجابة

(أ) ضع علامة صح أو خطأ مع تصحيح الخطأ

1	في البرق والنجوم توجد الحالة السائلة من حالات المادة البلازما	(X)
2	يعتبر الزجاج الأبيض من الأوساط الشفافة شبه الشفافة	(X)
3	المرآة المقعرة تعتبر سطح عاكس حوافه منحنية نحو المشاهد	(✓)
4	اللون الذي له أعلى طول موجي وأقل تردد هو اللون الأحمر	(✓)
5	عندما تزداد سرعة المائع يقل ضغطه	(✓)
6	تسمى الحركة التي يتحركها البندول حركة توافقية بسيطة	(✓)

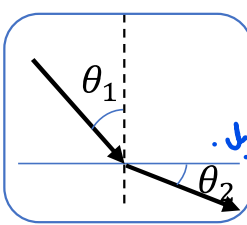
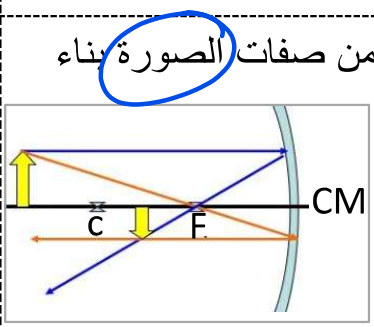
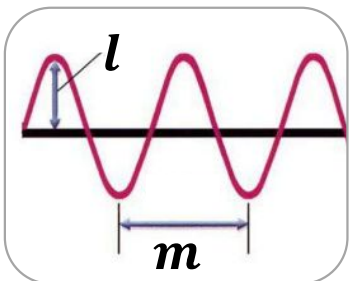
(ب) أذكر مثال لكل مما يأتي

1	لون أساسي	المثال أحمر، أزرق داكن، أخضر
2	تطبيق على الانعكاس الكلي الداخلي	المثال الألياف البصرية، المراب
3	مبدأ أرخميدس	المثال المنظار، طفو السفن
4	انعكاس منتظم	المثال المرايا

(ج) انسب كل ظاهرة طبيعية إلى سببها :

1	مقدرة الباعوض على السير على الماء بسبب التوتر السطحي الناتج عن قوى التماسك
2	مر ضوء خلال ثقب فانحنى ظاهرة حيود الضوء
3	الأجسام الموجودة تحت سطح الماء تبدو مشوهة ظاهرة الانكسار
4	مقدرة الإنسان على سماع أصوات محددة الالذنا حساسة للترددات 20-20000 Hz

(د) أوجد المطلوب في كل من الرسوم التالية

2	تجدد الرسم التالية حالة انتقال الضوء من وسط معامل انكساره أكبر إلى وسط معامل انكساره أصغر.		<p>قيمة الزاوية x المحصورة بين الشعاع المنعكس والسطح العاكس 60°</p> <p>$90^\circ - 30^\circ = 60^\circ$</p>
	أذكر صفتين من صفات الصورة بناء على الرسم	 <p>(1) مقلوبه (2) موهنة (3) حقيقية</p>	<p>الرمز l يعبر عن سعة الموجة</p> <p>الرمز m يعبر عن الطول الموجي λ</p> 

(أ) أكمل الفراغات التالية بالإجابة المناسبة

- ١ تعتمد حدة الصوت على **تردد الموجة**
- ٢ يعتمد الزمن الدوري للبندول البسيط على **طول الحبل** و**تسارع الجاذبية الأرضية**
- ٣ من أمثلة المرايا التي تنتج دائماً صور وهمية **المستوية، المحدبة**
- ٤ شخص يعاني من قصر النظر سيرتدي نظارة عدستها **مقعرة**.
- ٥ إذا كان الزمن الدوري لموجة 10s فبالتالي ترددها **1 Hz أو $\frac{1}{10}$**
- ٦ اتجاه قوة الطفو دوماً للـ **أعلى**.
- ٧ معدل نقل الموجات للطاقة يتناسب طردياً مع **مربع سعة الموجة**

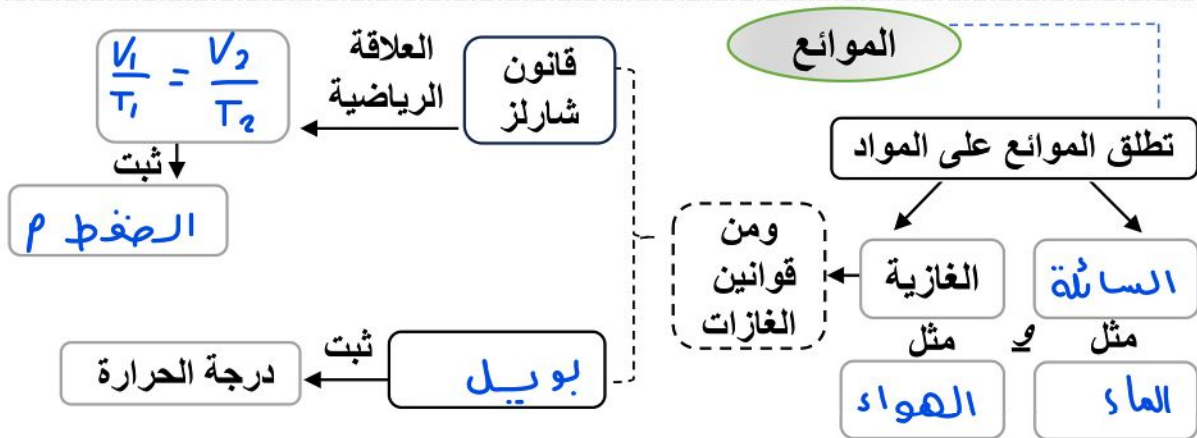
4

(ب) علل لكل مما يأتي

- ١ استخدام النيلة الزرقاء في غسل الملابس البيضاء.
 - ٢ استخدام مرآة محدبة على جوانب السيارات.
 - ٣ يغوص المسمار الفولاذي عند القاءه في البحر
 - ٤ الصوت في الكويت أسرع من الصوت في روسيا
- جو الكويت **ساخن** وكلما ارتفعت درجة الحرارة تزيد سرعة الصوت

2

(ج) أكمل الخريطة المفاهيمية التالية



3

(د) أوجد ناتج المسألة التالية (لا تنسى كتابة القانون والوحدة)

تؤثر آلة بقوة مقدارها 100N في مكبس مساحة مقطعه $0.10m^2$ فترفع سيارة صغيرة موضوعة على مكبس موضوعة على مكبس مساحته $2m^2$ ما وزن السيارة.

1

$$\frac{P_1 = P_2}{\frac{F_1}{A_1} = \frac{F_2}{A_2}} \quad \left| \quad \frac{100}{0,10} = \frac{x}{2} \rightarrow \frac{100}{0,10} x = \frac{200}{0,10} \rightarrow x = 2000N \right.$$

$F_g = 2000N$

(أ) أكتب المصطلح المناسب لكل مما يلي

3	١	(الصورة الوهية): الصورة التي تتكون من التقاء امتدادات الأشعة
	٢	(الاستقطاب): هو انتاج حزمة ضوء تتذبذب في مستوى واحد .
	٣	(العدسة المحدبة): عدسة مجمعة ، وسطها أكبر سمكا من أطرافها
	٤	(قوى التماسك): قوى تجاذب تؤثر فيها الجزيئات المتماثلة بعضها في بعض.
	٥	(السنة الضوئية): المسافة التي يقطعها الضوء خلال السنة.
	٦	(الموجة الموقوفة): موجة تبدو واقفة وتتولد جراء تداخل موجتين متعاكستين

(ب) أكمل الجدول التالي بما يناسب

2	صيغة قانون سنل الرياضية	وحدة مستوى الصوت	مكونات الموجة المستعرضة
	$n_1 \sin \theta_1 = n_2 \sin \theta_2$	ديسبل	القطر و الفتحة

(ج) زاوج العمود (أ) بما يناسبه من العمود (ب)

العمود الأول	الحل	العمود الثاني
أ العلاقة بين الاستضاءة والبعد عن المصدر	و	طردية
ب نصف قطر مرآة 60cm وبعدها البؤري m ---	هـ	طولية
ج إذا كان التدفق الضوئي $200\pi lm$ لمصباح يبعد 5m فاستضاءته إذا lx ---	ج	2
د إن سرعة الضوء في وسط $3 \times 10^8 m/s$ إذا فإن معامل انكسار هذا الوسط يساوي ---	د	1
هـ موجة الصوت تعتبر موجة ---	س	عكسية تربيعية
و العلاقة بين التمدد الحراري و التغير بدرجة الحرارة	ب	30
ز موجة الحبال تعتبر موجة ---	ز	مستعرضة
ح موجات الماء تعتبر موجات ---	ح	سطحية

(د) أوجد ناتج المسألة التالية (لا تنسى كتابة القانون والوحدة)

1	إذا وضع جسم على بعد 4cm من عدسة محدبة فتكونت له صورة حقيقية على بعد 4cm ما هو البعد البؤري للعدسة ؟
	$\frac{1}{f} = \frac{1}{d_i} + \frac{1}{d_o}$ $\frac{1}{f} = \frac{2}{4} \Rightarrow 2f = 4 \Rightarrow \underline{f = 2 \text{ cm}}$ $\frac{1}{f} = \frac{1}{4} + \frac{1}{4}$

اسم الطالب :	 وزارة التعليم Ministry of Education	المجموع	عملي	نظري	المملكة العربية السعودية
رقم الجلوس :		٤٠	١٠	٣٠	وزارة التعليم
المادة : فيزياء					إدارة التعليم بمحافظة حفر الباطن
الصف : ثالث ثانوي					مكتب التعليم بالباطن
الزمن : ساعتان ونصف				الدرجة كتابية :	مدرسة ثانوية الأبناء الأولى

اختبار الفصل الدراسي الأول (الدور الأول) للعام الدراسي ١٤٤٦ هـ

١٠

السؤال الأول : ضع دائرة حول الإجابة الصحيحة فيما يلي :

١- حالة المادة التي لها شكل ثابت هي :					
أ	السائلة	ب	الغازية	ج	الصلبة
د	البلازما				
٢- وحدة قياس الضغط باسكال تكافئ :					
أ	N/m	ب	N^2 / m^2	ج	N / m^2
د	J				
٣- العلاقة الرياضية $PV = nRT$ تمثل :					
أ	قانون شارلر	ب	قانون بويل	ج	قانون الغاز المثالي
د	قانون العام للغازات				
٤- هي بأنها اضطراب يحمل الطاقة خلال المادة أو الفراغ :					
أ	الطول الموجي	ب	التردد	ج	الموجه
د	الرنين				
٥- إذا كانت زاوية الانعكاس تساوي 60° الانعكاس المنتظم فإن زاوية سقوط الشعاع الضوئي تساوي :					
أ	120°	ب	40°	ج	60°
د	30°				
٦- هو انحاء الضوء حول الحواجز :					
أ	الحيور	ب	الاستقطاب	ج	معيار ريله
د	الضوء المترابط				
٧- يسمى كل من اللون الأصفر والازرق الفاتح والارجواني بالألوان					
أ	الثانوية	ب	الأساسية	ج	المتنامة
د	كل ما ذكر صحيح				
٨- هو القانون الذي يوضح مدى انخفاض شدة الضوء عندما يعبر من خلال مرشح استقطاب ثانٍ :					
أ	قانون مالوس	ب	تردد الضوء	ج	إزاحة دوپلر
د	الحركة النسبية				
٩- هو معدل اصطدام الضوء بوحدة المساحات للسطح يسمى :					
أ	الاستضاءة	ب	التدفق الضوئي	ج	الاستقطاب
د	السعة				
١٠- يكون البعد البؤري للمرآة المقعرة هو :					
أ	موجباً	ب	سالِباً	ج	المحور الرئيسي
د	جميع ما ذكر				

السؤال الثاني : ضع علامة (✓) أمام العبارة الصحيحة وعلامة (x) أمام العبارة الخاطئة :

١٠

١-	موجات الصوت تعتبر موجات طولية .	()
٢-	المسافة بين بطنين أو بين عقدتين متتاليتين مساوية لنصف الطول الموجي .	()
٣-	عندما يسقط الضوء على سطح عاكس فإنه يمتص جزء منه على هيئة طاقة حرارية ويعكس الجزء الباقي .	()
٤-	يسمى اللونان الضوئيان اللذان يترآكان معاً لإنتاج اللون الأبيض المتتام .	()
٥-	تعتمد حساسية الأذن على كل من حدة الصوت و سعته .	()
٦-	قابلية المادة الصلبة للطرق والسحب والتشكيل تعتمد على تراكيب المادة ولمعانها .	()
٧-	قوة الأرجاع تكون دائماً مع اتجاه إزاحة ثقل البندول واستطالة النابض .	()
٨-	من العوامل المؤثرة على الزمن الدوري للبندول كتلة ثقل البندول .	()
٩-	الموجات الميكانيكية لا تحتاج لوسط ناقل لكي تنتقل .	()
١٠-	الصفر المطلق (-273) هي درجة الحرارة التي يصبح عندها حجم الغاز كبيراً جداً .	()

السؤال الثالث : ضع المصطلح في الفراغات المناسبة :

٤

(صورة حقيقية – تأثير دوبلر – الموائع - الحركة الدورية)

- ١- (.....) هي مواد قابلة للانسحاب وليس لها شكل محدد .
- ٢- (.....) هو انزياح أو تغير التردد .
- ٣- (.....) أي حركة تكرر في دورة منتظمة .
- ٤- (.....) هي الصورة التي تتكون من التقاء الأشعة المنعكسة ويمكن جمعها على حاجز.

٦

السؤال الرابع : أوجد حل المسائل التالية :

أ- وضع جسم طوله 4 cm أمام مرآة مقعرة نصف قطرها 40 cm وعلى بعد 60 cm منها .
فما بعد الصورة ؟

ب- إذا كان طول البندول يساوي 30 cm فما مقدار الزمن الدوري ؟ حيث أن $g=9.8 \text{ m/s}^2$

انتهت الأسئلة

مع تمنياتي لكم بالتوفيق

اسم الطالب :

الفصل :

السؤال الأول : اختر الإجابة الصحيحة لكل مما يلي :

10

1	أ) الملاء	ب) الخشنة	ج) المرايا	د) جميع الأسطح
2	أ) جاليليو	ب) رومر	ج) ميلكسون	د) نيوتن
3	أ) 8π	ب) 120π	ج) 160π	د) 240π
4	أ) الدبلر	ب) الهيرتز	ج) الواط	د) الديسيل
5	أ) 20 - 20000	ب) 20 - 20000	ج) 20 - 2000	د) 20 - 200000
6	أ) قاع	ب) قمة	ج) بطن	د) عقدة
7	أ) 24.5 N/m	ب) 245 N/m	ج) 490 N/m	د) 980 N/m
8	أ) 110 N	ب) 60 N	ج) 50 N	د) 10 N
9	أ) السفينة	ب) مرذاذ العطر	ج) المكبس الهيدروليكي	د) معجون الأسنان
10	أ) السراب	ب) المنشور الزجاجي	ج) الألياف البصرية	د) المرايا الكروية

10

السؤال الثاني : ضع علامة (√) أمام العبارة الصحيحة وعلامة (x) أمام العبارة الخاطئة فيما يلي :

1	النوابض التي تحقق قانون هوك تسمى بالنوابض المرنة .
2	يعد الرنين شكلاً بسيطاً للحركة التوافقية البسيطة .
3	يقوم الميكروفون بتحويل الطاقة الصوتية إلى طاقة كهربائية .
4	علو الصوت يعتمد على التردد .
5	وحدة قياس التدفق الضوئي هي (lm) وشدة الاستضاءة هي (lx) .
6	الصورة الخيالية تكون ناتجة عن التقاء الأشعة المنعكسة .
7	أكبر كثافة للماء النقي تكون عند درجة حرارة 4 C .
8	تعتمد سعة الموجة على كيفية توليدها ولا تعتمد على سعتها .
9	من تطبيقات مبدأ باسكال كرسي أطباء الأسنان ورافعة السيارات .
10	الشخص المصاب بعيب قرص النظر تتكون الصورة لديه خلف الشبكية .

الموائع	البندول البسيط	الاستضاءة	الموجة	التردد	مبدأ أرخميدس	تأثير دوبلر
---------	----------------	-----------	--------	--------	--------------	-------------

1	جسم صلب كثافته عالية معلق بخيط .
2	مواد تتدفق وليس لها شكل محدد .
3	التغير الذي يحدث في تردد الصوت والنتاج .
4	معدل اصطدام الضوء بوحدة المساحات للسطح .

3

السؤال الخامس :

أطلق فادي صوتا عاليا في اتجاه جرف رأسي يبعد 465 m عنه وسمع الصدى بعد 2.75 s احسب مقدار:
أ - سرعة صوت فادي في الهواء ؟

ب - تردد موجة الصوت إذا كان طولها الموجي يساوي 0.750 m ؟

ج - الزمن الدوري للموجة ؟

1

السؤال الرابع :

تقف فتاة طولها 1.8 m على بعد 2.4 m من مرآة فتكونت لها صورة طولها 0.36 m أوجد البعد البؤري للمرآة ؟

2

السؤال الخامس :

عينة من غاز الأرجون حجمها 20 L ودرجة حرارتها 273 K عند ضغط جوي مقداره 101 Kpa فإذا انخفضت درجة الحرارة حتى 120 K وازداد الضغط حتى 145 Kpa ؟

أ) فما الحجم الجديد لعينة الأرجون ؟

ب) أوجد عدد مولات ذرات الأرجون في العينة ؟

انتهت الأسئلة .. أمنياتي لكم بالتوفيق والنجاح

الاختبار النهائي - الفصل الدراسي الأول - الدور (الأول) - للعام 1446

الدرجة رقمًا	الدرجة كتابةً	المصحح	المراجع

اسم الطالب:

الفصل ()

أجب - مستعيناً بالله- عن الأسئلة الآتية وهي موزعة في جهتي الورقة

السؤال الأول: اختر الإجابة الصحيحة فيما يأتي

1. "عندما تزداد سرعة المائع يقل ضغطه" هذا نص مبدأ						
أ	برنولي	ب	باسكال	ج	أرخميدس	د
2. يستخدم لعلاج قصر النظر:						
أ	عدسات محدبة	ب	عدسات مقعرة	ج	مرايا محدبة	د
3. يحدث الرنين الأول في عمود هوائي مغلق عندما يكون طول عمود الهواء الطول الموجي.						
أ	مساويًا	ب	ثلاثة أرباع	ج	نصف	د
4. يقاس مستوى الصوت بوحدة تسمى:						
أ	الباسكال	ب	الديسبل	ج	اللوكس	د
5. إذا كان الزمن الدوري لموجة صوتية 0.005s فإن ترددها=						
أ	100 Hz	ب	200Hz	ج	300 Hz	د
6. بعد الصورة المتكونة لجسم طوله 3cm وضع أمام مرآة مقعرة بعدها البؤري 1cm =						
أ	0.67cm	ب	0.76cm	ج	1.5cm	د
7. الزمن الدوري لبندول بسيط طول خيطه 0.4m يساوي: $(g=9.8m/s^2)$ $(\pi = 3.14)$						
أ	0.26s	ب	31.12s	ج	1.27s	د
8. عُمر حجر حجمه $0.001m^3$ في الماء الذي كثافته $1000kg/m^3$ فإن قوة الطفو المؤثرة فيه $(g=9.8m/s^2)$						
أ	1N	ب	100N	ج	9.8N	د

السؤال الثاني: أجب عن المسائل الآتية:

1. ما وزن كرة علقت بناض ثابتته $100N/m$ فاستطال بمقدار $0.02m$ ؟	2. كم البعد البؤري لعدسة قطر تكورها $12cm$ ؟
--	--

بقية الأسئلة في الخلف

السؤال الثالث: اكتب رقم المصطلح العلمي المناسب لكل من التعريفات الآتية:

1. الاستقطاب	2. قانون هوك	3. مبدأ أرخميدس	4. الحيود	5. الزاوية الحرجة	6. قانون الانعكاس
1	الجسم المغمور في مائع تؤثر فيه قوة رأسية إلى أعلى تساوي وزن المائع المزاح الذي أزاحه الجسم.	2	القوة التي يؤثر بها نابض تتناسب طردياً مع مقدار استطالته.	3	إنتاج ضوء يتذبذب في اتجاه واحد.
4	زاوية السقوط = زاوية الانعكاس	5	زاوية سقوط يقابلها زاوية انكسار مقدارها 90° .	6	انحناء الضوء حول الحواجز.

السؤال الرابع: ضع علامة (✓) مقابل العبارة الصحيحة، وعلامة (X) مقابل العبارة الخاطئة

1	تشارك كل من السوائل والغازات في كونها موائع () .
2	يزداد طول العمود بين رنينين متتاليين في الأنابيب الهوائية بنوعيتها بمقدار نصف الطول الموجي () .
3	ترسل المجرات إلى الأرض ضوءاً منزاحاً نحو الأحمر () .
4	تتناسب سرعة الصوت في الهواء مع درجة حرارته عكسياً () .
5	ينتقل الصوت في الفراغ () .
6	يستطيع شرطي على جانب الطريق استخدام الرادار لقياس سرعة سيارة لحظة مرورها أمامه () .
7	تميز العدسات المحدبة بتوسيع مجال الرؤية () .
8	حيود الصوت أكبر من حيود الضوء () .

السؤال الخامس: أكمل الفراغات الآتية بما يناسبها:

1	يتناسب الطول الموجي للموجة مع ترددها.
2	يضغط الطفل والكرسي على سطح الأرض، إذا أمال الطفل الكرسي على رجله الخلفيتين إلى الوراء؛ فهل يزداد الضغط أم يقل؟
3	تشارك كل من المرآة المستوية والمرآة المحدبة في كونها تكونان صوراً
4	أي الشكلين المقابلين يمثل الصوت النقي
5	إذا زادت من سرعة تحريكك للحبل لأعلى وأسفل فإن الطول الموجي
6	في الطيف المرئي أقل الألوان تردداً هو اللون

انتهت الأسئلة

معلم المادة

الدرجة	المصحح	التوقيع	المراجع	التوقيع	الدرجة النهائية
السؤال الأول					رقماً
السؤال الثاني					كتابة
السؤال الثالث					
المدقق:					التوقيع:

اسم الطالب/..... رقم الجلوس:..... الرقم الأكاديمي:.....
30

اسم الطالب/..... رقم الجلوس:..... الرقم الأكاديمي:.....

السؤال الأول: ضع علامة صح (√) أمام العبارة الصحيحة وعلامة خطأ (X) أما العبارة الخاطئة لكل مما يلي:

١. للضوء صفة موجية فقط ()
٢. وحدة قياس التدفق الضوئي هي الشمعة (cd) ()
٣. الصورة في المرايا دائماً حقيقية ()
٤. الشحنات المتشابهة تتجاذب والمختلفة تتنافر. ()
٥. الشحنات تفنى وتستحدث ولا يمكن فصلها. ()
٦. إذا انتقل الضوء من وسط شفاف إلى وسط شفاف آخر مختلف عنه في الكثافة فإنه ينكسر ()
٧. خطوط المجال الكهربائي لا تتقاطع ()
٨. مقدار شحنة الإلكترون المفردة تساوي $1.6 \times 10^{-19} \text{ C}$ ()
٩. في تجربة تداخل الشق الأحادي يتكون النمط من هدب مركزي مضيء عريض مه أهداب أقل سمكاً وأقل إضاءة على كلا الجانبين ()
١٠. المادة بطبيعتها تحتوي على نوعين من الشحنة: موجبة وسالبة. ()

١٠

السؤال الثاني: اختر الإجابة الصحيحة لكل من العبارات التالية:

١ - سرعة الضوء في الفراغ:
٢ - احسب استضاءة سطح يبعد 2m عن مصدر ضوئي تدفقه 1256 lm:
٣ - وضع جسم على بعد 5 cm أمام مرآة كروية بعدها البؤري 15 cm، اوجد بعد الصورة:
٤ - ما مقدار الشغل اللازم لنقل شحنة مقدارها 0.15 C خلال فرق جهد كهربائي 9 V:
٥ - مكيف كهربائي يعمل على جهد 220 V ويمر به تيار مقداره 9 A احسب مقاومة هذا المكيف:
٦ - شحنتان مقدار الأولى 5 C ومقدار الثانية 4 C والمسافة بينهما 3 m احسب مقدار القوة الكهربائية بينهما:
٧ - مصباح كهربائي يمر به تيار 0.5 A ويعمل على جهد 220 V احسب قدرة هذا المصباح:

أ) $3 \times 10^8 \text{ m/s}$	ب) $1.6 \times 10^{-19} \text{ C}$	ج) $9 \times 10^9 \text{ N.m}^2/\text{C}^2$	د) 700 nm
أ) 25 lx	ب) 628 lx	ج) 2512 lx	د) 1256 lx
أ) -7.5 cm	ب) -5 cm	ج) -70 cm	د) -10 cm
أ) 60 J	ب) 1.35 J	ج) 0.15 J	د) 9 J
أ) 1980 Ω	ب) 24.4 Ω	ج) 9 Ω	د) 220 Ω
أ) $60 \times 10^9 \text{ N}$	ب) $19.99 \times 10^9 \text{ N}$	ج) $3 \times 10^9 \text{ N}$	د) $57 \times 10^9 \text{ N}$
أ) 220 w	ب) 440 w	ج) 110 w	د) 0.5 w

8 - مكثف كهربائي سعته $F = 27 \times 10^{-6}$ وفرق الجهد الكهربائي بين لوحيه $V = 45$. ما مقدار شحنة المكثف؟			
(أ) $1.66 \times 10^{-6} C$	(ب) $0.6 \times 10^{-6} C$	(ج) $1215 \times 10^{-6} C$	(د) $18 \times 10^{-6} C$
9 - أوجد المقاومة الكلية لثلاث مقاومات مقدارها 2Ω ، 4Ω ، 6Ω إذا وصلت على التوالي:			
(أ) 0.02Ω	(ب) 48Ω	(ج) 12Ω	(د) 0.9Ω
10 - أنواع محزوزات الحيود:			
(أ) محزوز النفاذ	(ب) المحزوز الغشائي	(ج) محزوزات الانعكاس	(د) جميع ما سبق

السؤال الثالث: ضع المصطلح المناسب لكل من العبارات التالية:

10

المطيف	العدسة	الاستقطاب	المرآة المقعرة	الحيود
المجال الكهربائي	المادة الموصلة	الزوغان الكروي	الزاوية الحرجة	قصر النظر

- (١) انحناء الضوء حول الحواجز.
- (٢) سطح عاكس حوافه منحنية نحو المشاهد.
- (٣) إنتاج ضوء يتذبذب في مستوى واحد.
- (٤) قطعة من مادة شفافة تستخدم في تجميع الضوء او تفريقه وتكوين الصور.
- (٥) جهاز لقياس الاطوال الموجية للضوء باستخدام محزوز الحيود.
- (٦) يكون البعد البؤري للعين أقل من البعد البؤري للعين السليمة.
- (٧) هي زاوية السقوط التي ينكسر عندها الشعاع على امتداد الحد الفاصل بين الوسطين.
- (٨) هو عدم قدرة المرآة الكروية على تجميع الأشعة المتوازية جميعها في نقطة واحدة.
- (٩) تسمح بانتقال الشحنات خلالها بسهولة.
- (١٠) المجال الموجود حول أي جسم مشحون.

مع تمنياتنا لكم بالتوفيق والنجاح،،،

معلمي المادة..

الدرجة النهائية	التوقيع	المراجع	التوقيع	المصحح	الدرجة	
كتابة	رقماً					السؤال الأول
						السؤال الثاني
						السؤال الثالث
						السؤال الرابع
	التوقيع:					المدقق:

30

اسم الطالب: الصف/ الشعبة: رقم الجلوس:


استعن بالله ثم أجب عن جميع الأسئلة التالية:

20

السؤال الأول : اختار الإجابة الصحيحة لكل مما يلي:

١. من الأوساط شبه الشفافة:		
الضباب	الهواء	الخشب
٢. احسب استضاءة سطح يبعد 2m عن مصدر ضوئي تدفقه 1256 lm:		
2512 lx	628 lx	25 lx
٣. الجهاز المستخدم لقياس الطول الموجي:		
الفولتметр	الكشاف الكهربائي	المطياف
٤. القدرة الكهربائية هي المعدل الزمني لتحول:		
التيار	الجهد	الطاقة
٥. ما مقدار الشغل اللازم لنقل شحنه مقدارها 0.15 C خلال فرق جهد كهربائي 9 V :		
0.15 J	60 J	1.35 J
٦. مكيف كهربائي يعمل على جهد 220 V ويمر به تيار مقداره 9 A احسب مقاومة هذا المكيف:		
9 Ω	1980 Ω	24.4 Ω
٧. الاميتر هو الجهاز المستخدم لقياس:		
شدة التيار	فرق الجهد	المقاومة
٨. مصباح كهربائي يمر به تيار 0.5 A ويعمل على جهد 220 V احسب قدرة هذا المصباح:		
440 w	110 w	220 w
٩. هو ضوء ذو مقدمات موجية غير متزامنة:		
التداخل	الضوء الغير مترابط	الضوء المترابط
١٠. يستخدم المكثف:		
لتفريغ الطاقة	لتوليد التيار	لتخزين الشحنات
١١. يجب ان تكون شحنة الاختبار المستخدمة لقياس شدة المجال الكهربائي:		
متعادلة	سالبة	موجبة
١٢. مكثف كهربائي سعته 27 μF وفرق الجهد الكهربائي بين لوحيه 45 V ما مقدار شحنة المكثف؟		
0.6 x 10 ⁻³ C	1.215 x 10 ⁻³ C	1.66 x 10 ⁻³ C
١٣. عملية توصيل جسم بالأرض للتخلص من الشحنات تسمى:		
التأريض	التوصيل	الحث
١٤. شحنة الالكترون دائماً:		
متعادلة	موجبة	سالبة

اقلب الصفحة



١٥ . دراسة الكهرباء التي تتجمع وتحتجز في مكان واحد هي:		
الكهرباء الساكنة	الكهرباء التيارية	الكهرباء المتحركة
١٦ . إنتاج ضوء يتذبذب في اتجاه واحد:		
الاستقطاب	النفوذ	الحيود
١٧ . سطح عاكس حوافه منحنية بعيداً عن المشاهد:		
مرآة مقعرة	مرآة محدبة	مرآة مستوية
١٨ . الذي يحدد ألوان الضوء:		
الطول الموجي	درجة الحرارة	السطح
١٩ . عندما تتداخل قمتي موجتين ينشأ عنها:		
هدب مضى	هدب معتم	حيود
٢٠ . مسار الضوء يكون مرئياً بسبب:		
انتشار دقائق الغبار في الهواء	تفاعل الضوء مع الفوتونات	سرعة الضوء في الفراغ العالية

السؤال الثاني : (أ) ضع علامة (✓) أمام العبارة الصحيحة وعلامة (x) أمام العبارة الخاطئة:-

4

	١ . المصدر الرئيسي للضوء على الأرض هو الشمس
	٢ . زاوية السقوط تساوي زاوية الانعكاس
	٣ . فقاعة الصابون هي مثال على الغشاء الرقيق
	٤ . الأجسام التي لها نفس الشحنة تتجاذب

السؤال الثالث/ علل:

2

لماذا يتم استخدام مرايا محدبة في مرايا السيارات؟

.....

.....

.....

السؤال الرابع/ اجب على الأسئلة التالية:

4

• وضع جسم على بعد 35cm امام مرآة مقعرة بعدها البؤري 15 cm ما بعد الصورة عن المرآة؟

.....

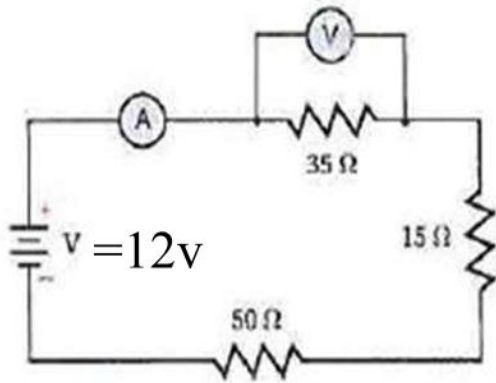
.....

.....

• أرسم دائرة كهربائية موصلة على التوالي:

انتهت الأسئلة بالتوفيق للجميع
معلمي المادة

السؤال الثالث :



1) من خلال الدائرة الكهربائية الموضحة بالرسم اجب عما يلي
أ) ما نوع توصيل المقاومات في الدائرة ؟

توالي

ب) ما قيمة المقاومة المكافئة في الدائرة ؟

$$R = 35 + 15 + 50 = 100 \text{ اوم}$$

ج) احسب قراءة الاميتر ؟

$$I = V/R = 12/100 = 0.12A$$

د) احسب قراءة الفولتميتر ؟

$$V = IR = 0.12 \times 35 = 4.2V$$

2) اثرت الشحنة $8.1 \times 10^{-6} \text{ C}$ بقوة جذب مقدارها 30 N في شحنة ثانية تبعد عنها مسافة 0.03 m
فما مقدار الشحنة الثانية؟ (علما بان ثابت كولوم $K = 9 \times 10^9 \text{ N.m}^2/\text{C}^2$)

$$q_B = \frac{Fr^2}{kq_A}$$

$$q_B = \frac{30 \times 0.03^2}{9 \times 10^9 \times 8.1 \times 10^{-6}} = 3.7 \times 10^{-7} \text{ C}$$

5



السؤال الرابع :

1- ما أصغر سمك لغشاء صابون معامل انكساره 1.33 ليتداخل عنه ضوء طوله الموجي 521nm تداخلا بناءا مع نفسه ؟

$$d = \frac{\lambda}{4n}$$

$$d = \frac{521}{4 \times 1.33} = 97.93nm$$

2- علل لما يأتي :- (أي اجابة صحيحة تأخذ الدرجة كاملة)

أ) تستخدم المرآة المحدبة على جوانب السيارة للرؤية الخلفية..
لأنها تكون صور مصغرة مما يزيد مجال الرؤية

ب) توصيل سلك فلزي بصهرنج عربة نقل البنزين بحيث يلامس الارض
لتفريغ الشحنات الكهربائية الزائدة حتى لا يتم تفريغها خلال بخار البنزين مما يؤدي الى اشتعاله

3) وضع جسم على بعد 8cm أمام عدسة محدبة بعدها البؤري 6cm فما بعد الصورة عن العدسة ؟

$$d_i = \frac{f d_o}{d_o - f}$$
$$d_i = \frac{6 \times 8}{8 - 6}$$
$$d_i = 24cm$$

5

انتهت الاسئلة مع اطيب الامنيات

الصف : الثالث الثانوي
المادة : فيزياء ٣
الزمن : ثلاث ساعات
عدد الأوراق : ٣



المملكة العربية السعودية
وزارة التعليم
إدارة التعليم بالرياض
مدرسة.....

الاختبار النهائي لمادة فيزياء ٣ للفصل الدراسي الأول الدور الأول للعام الدراسي ١٤٤٥ هـ

اسم الطالبة :
رقم الجلوس :

الصف : شعبه : يوم :
التاريخ : / / ١٤٤٤ هـ

رقم السؤال	الدرجة		المصححة		المراجعة		المدققة	
	رقماً	كتابة	الاسم	التوقيع	الاسم	التوقيع	الاسم	التوقيع
الأول								
الثاني								
الثالث								
الرابع								
الدرجة الكلية	رقماً							
	كتابة							

معلمة المادة : فرح ابراهيم

بسم الله الرحمن الرحيم

ابدئي مستعينة بالله متوكلة عليه

السؤال الأول	
أ) أكتبي المفهوم العلمي المناسب لكل من التعاريف التالية	
١	----- : معدل التدفق الضوئي الذي يسقط على مساحة قدرها $1m^2$ من مساحة السطح الداخلي لكرة نصف قطرها $1m$
٢	----- : ظهور الجسم عند النظر إليه من خلال العدسة محاطاً بالألوان
٣	----- : مادة عديمة اللون قليلة السمك تظهر ملونة بمجموعة ألوان
٤	----- : عملية توصيل جسم بالأرض للتخلص من الشحنات الفائضة
٥	----- : خاصية تحدد مقدار التيار الكهربائي الذي سيمر بالدائرة الكهربائية
ب) أكتبي كلمة صح أو خطأ أمام العبارة مع تصحيح الخطأ إن وجد	
١	التدفق الضوئي ينتشر بصورة كروية
٢	تستخدم المرايا المقعرة على جوانب السيارة للرؤية الخلفية
٣	إذا سقط شعاع بزواوية سقوط 30° فإنه ينعكس بزواوية 60°
٤	الخلية الجلفانية تحول الطاقة الكيميائية إلى طاقة كهربائية.
٥	توصل مليكان لكتلة البروتون من خلال تجربة قطرة الزيت.
ج) وضع جسم على بعد 10 Cm أمام مرآة مقعرة بعدها البؤري 5 Cm احسبي بعد الصورة (لا تنسي كتابة الخطوات كاملة)	
١	

للأسئلة بقية (اقلبي الصفحة)

اختاري الإجابة الصحيحة (أ)	
١	من الأوساط شبه الشفافة أ الضباب ب الهواء ج الخشب د الطابوق
٢	أي من التالي تعتبر وحدة الاستضاءة أ الكانديلا ب اللومن ج اللوكس د الشمعة
٣	كلما زاد معامل انكسار الوسط فإن سرعة الضوء أ تزيد الضعف ب تزيد ج تقل د تقل للتسع
٤	المحزوز الأقل تكلفة والأرخص محزوز أ الغشائي ب النفاذ ج الزجاجي د الانعكاس
٥	تناسب القوة الكهروستاتيكية ----- المسافة بين الشحنتين أ طردياً مع مربع ب عكسياً مع مربع ج طردياً د عكسياً
٦	فرق الجهد بين نقطتين إذا بذل شغل قدره 40J لنقل شحنة C 0.005 هو أ 100V ب 1000V ج 800V د 8000V
٧	الأميتر هو الجهاز الذي يستخدم لقياس أ فرق الجهد ب شدة التيار ج المقاومة د القدرة
٨	دائرة القصر هي دائرة مقاومتها أ على التوازي ب على التوالي ج كبيرة جداً د صغيرة جداً
٩	القدرة الكهربائية هي المعدل الزمني لتحول ----- . أ الطاقة ب الجهد ج التيار د المقاومة
١٠	يستخدم للتمييز إذا كان هنالك نجم أم نجمان أ معيار ريليه ب معيار جاوس ج المطيف د المحزوز
(أ) أنكري سبب كل مما يأتي	
١- يتم إضافة النييلة الزرقاء للملابس البيضاء المصفرة .	
٢- يعتبر ضوء الشمس ضوء مركب	

(ب) أذكرى سبب كل مما يأتي

2

٣- يكون الناس داخل السيارة محميين من البروق

٤- يتم تبريد بعض الموصلات من خلال خفضها إلى درجات منخفضة جداً

1

(ج) مصدر ضوئي شدة اضاءته 900Cd أوجدى الاستضاءه له على بعد 3m (اكتبى الخطوات)

(أ) صلي العمود (أ) بما يلائمه من العمود (ب)

2

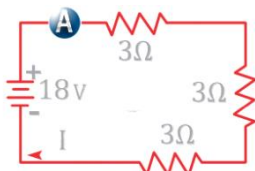
العمود (أ)	العمود (ب)
١ شحن الجسم دون ملامسته	الاستقطاب
٢ انحناء الضوء حول الحواجز	الحيود
٣ انتاج ضوء يتذبذب في مستوى واحد	الحث
٤ يستخدم للكشف عن الشحنات الكهربائية	الكشاف الكهربائي

(ب) قارنى

6

قصر النظر		طول النظر	
العلاج	التعريف	العلاج	التعريف
الصبغات		الوان الضوء	
الثانوية	الأساسية	الثانوية	الأساسية
الجهد الكهربائي		شدة التيار	
الوحدة	القانون	الوحدة	القانون

2



في الرسم المجاور أجيبى عن التالي
 (١) ما نوع توصيل المقاومات (٢) ما مقدار المقاومة المكافئة

انتهت الأسئلة أعانكم الله تعالى ويسر لكم بالتوفيق