

تم تحميل وعرض المادة من



موقع مادتي هو موقع تعليمي يعمل على مساعدة المعلمين والطلاب وأولياء الأمور في تقديم حلول الكتب المدرسية والاختبارات وشرح الدروس والملاحظات والتحضير وتوزيع المنهج لكل المراحل الدراسية بشكل واضح وسهل مجاناً بتصفح وعرض مباشر أونلاين وتحميل على موقع مادتي

حمل تطبيق مادتي ليصلك كل جديد



بسم الله الرحمن الرحيم



الاختبار النهائي

لمادة : الدراسات
الاجتماعية

المملكة العربية السعودية

وزارة التعليم

الإدارة العامة للتعليم بمحافظة

مدرسة

الصف : الأول متوسط

اختبار نهاية الفصل الدراسي الأول

1446هـ الزمن : ساعة ونصف

ادعوه هذا الدعاء قبل البدء في الإجابة اللهم لا سهل إلا ما جعلته سهلاً وأنت تجعل الحزن إذا شئت سهلاً

اسم الطالب : الفصل () رقم الجلوس () f

السؤال الأول: اختر الإجابة الصحيحة فيما يلي:

1. اكبر قارات العالم مساحة قارة :

أ اسيا ب أوروبا ج إفريقيا د استراليا

2. الخط الرئيسي من خطوط الطول هو خط :

أ السرطان ب الجدي ج جرينتش د الاستواء

3. يبلغ عدد دوائر العرض :

أ 360 دائرة ب 180 دائرة ج 90 دائرة د 45 دائرة

4. يحدث فصل الصيف في شمال الكرة الأرضية عندما تتعامد أشعة الشمس على :

أ خط جرينتش ب خط الاستواء ج مدار الجدي د مدار السرطان

5. يبلغ عدد قارات العالم :

أ 9 قارات ب 8 قارات ج 7 قارات د 6 قارات

6. ترتيب الأرض من حيث القرب من الشمس :

أ الرابع ب الثالث ج الثاني د الأول

7. تتميز جميع كواكب المجموعة الشمسية بأنها :

أ شديدة الحرارة ب شديدة البرودة ج ذات شكل كروي د لا شيء مما سبق

8. يبلغ عدد المناطق الزمنية على سطح الأرض :

أ 20 منطقة ب 32 منطقة ج 28 منطقة د 24 منطقة

9. للأرض :

أ حركة واحدة ب حركتان ج ثلاث حركات د أربع حركات

10. عدد الفصول المناخية :

أ أربعة فصول ب خمسة فصول ج ستة فصول د فصلان

11. تنتمي مجموعتنا الشمسية لمجرة :							
أ	العين	ب	المذنب	ج	درب التبانة	د	زهرة الشمس
12. تقوم الحضارات على العديد من العوامل :							
أ	الصخور والرياح	ب	التضاريس والرياح	ج	المناخ والتربة	د	الموقع والتضاريس
13. تفاعل المجموعات البشرية مع البيئة المحيطة بها :							
أ	النهضة	ب	التاريخ	ج	القرون	د	الحضارة
14. من أبرز علماء المسلمين في علم الرياضيات :							
أ	البيروني	ب	الخوارزمي	ج	جابر بن حيان	د	البخاري
15. قامت حضارة بلاد الرافدين في :							
أ	العراق	ب	الصين	ج	مصر	د	اليمن
16. تم بناء سور الصين العظيم على يد الصينيين لمنع من غزوهم :							
أ	الفرس	ب	الروم	ج	المغول	د	الاعريق
17. الأساس الأول للحضارة الإسلامية :							
أ	الأساس الديني	ب	الأساس الزراعي	ج	الأساس الاقتصادي	د	الأساس السياسي
18. العلم الذي يدرس الوقائع وأوقاتها :							
أ	علم الرياضيات	ب	علم الفلك	ج	علم الجغرافيا	د	علم التاريخ
19. يسهم التخطيط في بناء الشخصية الوطنية والتي تعد من أهداف رؤية :							
أ	2060م	ب	2050م	ج	2030م	د	2070م
20. يساعدنا التخطيط على تحقيق عدد من الأهداف منها :							
أ	هدر الوقت	ب	النجاح والتفوق	ج	ضياع الصحة	د	ضعف الشخصية

السؤال الثاني: ضع علامة (√) إذا كانت الإجابة صحيحة، وعلامة (x) إذا كانت العبارة خاطئة فيما يلي:

م	السؤال	صح أم خطأ
1	شكل الأرض كامل الاستدارة	
2	أول رائد فضاء عربي مسلم هو الأمير سلطان بن سلمان	
3	اهتم المسلمون بعلم الفلك لارتباطه بالأمور الشرعية	
4	تم انشاء الدواوين في عهد الخليفة عمر بن الخطاب	
5	تستمر دورة الأرض اليومية مدة 24 ساعة	
6	من فوائد خطوط الطول معرفة الزمن	
7	الانسان يشعر بحركة الأرض	
8	قامت الحضارة الفرعونية على نهر النيل	
9	الترجمة هي نقل العلوم من لغتها الاصلية إلى الفارسية	
10	من نتائج التخطيط التوتر والقلق	

السؤال الثالث: اختر من العمود (أ) ما يناسبه من العمود (ب) فيما يلي :-

(أ)	الحرف الصحيح
1. المشتري	(أ) نجم كروي غازي ملتهب يشع ضوء وحرارة
2. الكواكب	(ب) أقرب كواكب المجموعة الشمسية
3. عطارد	(ج) العلم الذي يبين معاني القران الكريم ويوضحها
4. الشمس	(د) أكبر كواكب المجموعة الشمسية
5. نبتون	(هـ) حفظ الأمن ليلاً
6. الكون	(و) كل ما يحيط بنا من نجوم ومجرات ومخلوقات حية
7. العسس	(ز) أجسام كروية صلبة معتمدة تستمد الضوء والحرارة من الشمس
8. التفسير	(ح) أبعد كواكب المجموعة الشمسية

السؤال الرابع: صحح ما تحته خط :-

أ- تبلغ نسبة الماء على سطح الأرض 29%

.....

ب- تعد قارة إفريقيا أصغر قارات العالم

.....

انتهت الأسئلة

وفقك الله وسدد على درب الخير خطاك

معلم المادة / خالد الحربي

نموذج الإجابة

١. اكبر قارات العالم مساحة قارة :			
أ	ب	ج	د
آسيا	أوروبا	إفريقيا	استراليا
٢. الخط المار بـ خطوط الطول هو خط :			
3 من 2			
أ	ب	ج	د
خط جرينتش	خط الجدي	خط جرينتش	الاستواء
٣. يبلغ عدد دوائر العرض :			
أ	ب	ج	د
٣٦٠ دائرة	١٨٠ دائرة	٩٠ دائرة	٤٥ دائرة
٤. يحدث فصل الصيف في شمال الكرة الأرضية عندما تتعامد أشعة الشمس على :			
أ	ب	ج	د
خط جرينتش	خط الاستواء	مدار الجدي	مدار السرطان
٥. يبلغ عدد قارات العالم :			
أ	ب	ج	د
٩ قارات	٨ قارات	٧ قارات	٦ قارات
٦. ترتيب الأرض من حيث القرب من الشمس :			
أ	ب	ج	د
الرابع	الثالث	الثاني	الأول
٧. تتميز جميع كواكب المجموعة الشمسية بأنها :			
أ	ب	ج	د
شديدة الحرارة	شديدة البرودة	ذات شكل كروي	لا شيء مما سبق
٨. يبلغ عدد المناطق الزمنية على سطح الأرض :			
أ	ب	ج	د
٢٠ منطقة	٢٢ منطقة	٢٨ منطقة	٢٤ منطقة

٩. للأرض :

أ حركة واحدة ب حركتان ج ثلاث حركات د أربع حركات

١٠. عدد الفصول المناخية :

أ أربعة فصول ب خمسة فصول ج ستة فصول د فصلان

١١. تنتمي مجموعتنا الشمسية لمجرة :

أ العين ب المذنب ج درب التبانة د زهرة الشمس

١٢. تقوم الحضارات على العديد من العوامل :

أ الصخور والرياح ب التضاريس والرياح ج المناخ والتربة د الموقع والتضاريس

١٣. تفاعل المجموعات البشرية مع البيئة المحيطة بها :

أ النهضة ب التاريخ ج القرون د الحضارة

١٤. من أبرز علماء المسلمين في علم الرياضيات :

أ البيروني ب الخوارزمي ج جابر بن حيان د البخاري

١٥. قامت حضارة بلاد الرافدين في :

أ العراق ب الصين ج مصر د اليمن

١٦. تم بناء سور الصين العظيم على يد الصينيين لمنع من غزوهم :

أ الفرس ب الروم ج المغول د الاغريق

١٧. الأساس الأول للحضارة الإسلامية :

أ الأساس الديني ب الأساس الزراعي ج الأساس الاقتصادي د الأساس السياسي

١٨. العلم الذي يدرس الوقائع وأوقاتها :

أ علم الرياضيات ب علم الفلك ج علم الجغرافيا د علم التاريخ

١٩. يسهم التخطيط في بناء الشخصية الوطنية والتي تعد من أهداف رؤية :

أ ٢٠٦٠م ب ٢٠٥٠م ج ٢٠٣٠م د ٢٠٧٠م

٢٠. يساعدنا التخطيط على تحقيق عدد من الأهداف منها :

أ هدر الوقت ب النجاح والتفوق ج ضياع الصحة د ضعف الشخصية

السؤال الثاني: ضعي علامة (√) إذا كانت الإجابة صحيحة، وعلامة (x) إذا كانت العبارة خاطئة فيما يلي:

م	السؤال	صح أم خطأ
١	شكل الأرض كامل الاستدارة	x
٢	أول رائد فضاء عربي مسلم هو الأمير سلطان بن سلمان	x
٣	اهتم المسلمون بعلم الفلك لارتباطه بالأمر الشرعية	x
٤	تم انشاء الدواوين في عهد الخليفة عمر بن الخطاب	x
٥	تستمر دورة الأرض اليومية مدة ٢٤ ساعة	x
٦	من فوائد خطوط الطول معرفة الزمن	x
٧	الانسان يشعر بحركة الأرض	x
٨	قامت الحضارة الفرعونية على نهر النيل	x
٩	الترجمة هي نقل العلوم من لغتها الاصلية إلى الفارسية	x
١٠	من نتائج التخطيط التوتر والقلق	x

السؤال الثالث: اختاري من العمود (أ) ما يناسبه من العمود (ب) فيما يلي :-

الحرف الصحيح	(أ)	(ب)
د	١. المشتري	(أ) نجم كروي غازي ملتهب يشع ضوء وحرارة
ب	٢. الكواكب	(ب) أقرب كواكب المجموعة الشمسية
ب	٣. عطارد	(ج) العلم الذي يبين معاني القران الكريم ويوضحها
د	٤. الشمس	(د) أكبر كواكب المجموعة الشمسية
ج	٥. نبتون	(هـ) حفظ الأمن ليلاً
ج	٦. الكون	(و) كل ما يحيط بنا من نجوم ومجرات ومخلوقات حية
د	٧. العس	(ز) أجسام كروية صلبة معتمة تستمد الضوء والحرارة من الشمس
ج	٨. التفسير	(ح) أبعد كواكب المجموعة الشمسية

السؤال الرابع: صححي ما تحته خط :-

أ- تبلغ نسبة الماء على سطح الأرض ٢٩٪

.....
الدين

ب- تعد قارة إفريقيا أصغر قارات العالم

.....
استراليا

التوقيع	اسم المصحح :	الدرجة	 وزارة التعليم Ministry of Education	المملكة العربية السعودية وزارة التعليم الإدارة العامة للتعليم مدرسة
التوقيع	اسم المراجع :	40	 رؤية 2030	

رقم الجلوس	الصف الأول متوسط	العام الدراسي 1446هـ	أسئلة اختبار الفصل الدراسي الأول
عدد الصفحات : 2	الزمن : ساعة ونصف	المادة : اجتماعيات	اسم الطالب :

استعن بالله ثم اجب على الاسئلة

السؤال الأول

10

ضع علامة (√) أمام العبارة الصحيحة وعلامة (X) أمام العبارة الخاطئة

()	1	من نتائج التخطيط التوتر والقلق .
()	2	شكل الأرض كامل الاستدارة .
()	3	أول رائد فضاء عربي مسلم هو الأمير سلطان بن سلمان .
()	4	اهتم المسلمون بعلم الفلك لارتباطه بالامور الشرعية .
()	5	تم إنشاء الدواوين في عهد الخليفة عمر بن الخطاب .
()	6	تستمر دورة الأرض اليومية مدة 24 ساعة .
()	7	من فوائد خطوط الطول معرفة الزمن .
()	8	يساعد التخطيط على تنظيم الوقت .
()	9	الانسان يشعر بحركة الأرض .
()	10	تبلغ نسبة الماء على سطح الأرض 29 % .

السؤال الثاني

8

أربط بين العمود [أ] بما يناسبه في العمود [ب] بوضع الرقم المناسب :

العمود [ب]	العمود [أ]
1- المشتري	() أقرب كواكب المجموعة الشمسية .
2- استراليا	() نجم كروي غازي ملتهب يشع ضوء وحرارة .
3- آسيا	() أبعد كواكب المجموعة الشمسية .
4- الكواكب	() كل ما يحيط بنا من نجوم ومجرات ومخلوقات حية .
5- عطارذ	() أكبر كواكب المجموعة الشمسية .
6- الشمس	() أصغر قارات العالم .
7- نبتون	() أكبر قارات العالم .
8- الكون	() أجسام كروية صلبة معتمة تستمد الضوء والحرارة من الشمس .

ضع دائرة على الحرف الذي يسبق الإجابة الصحيحة لكل مما يلي :

1- يبلغ عدد دوائر العرض :

أ 360 دائرة ب 180 دائرة ج 150 دائرة

2- العلم الذي يبين معاني القرآن الكريم ويوضحها هو علم :

أ الحديث ب التفسير ج الفقه

3- من أبرز علماء المسلمين في علم الرياضيات :

أ محمد الخوارزمي ب جابر بن حيان ج أبو الريحان البيروني

4- يحدث فصل الصيف في شمال الكرة الأرضية عندما تتعامد أشعة الشمس على :

أ مدار السرطان ب مدار الجدي ج خط الاستواء

5- يبلغ عدد قارات العالم :

أ 7 قارات ب 5 قارات ج 8 قارات

6- قامت حضارة بلاد الرافدين في :

أ الصين ب العراق ج مصر

7- من إنجازات الحضارة الإسلامية في النظام السياسي :

أ القضاء ب الدواوين ج الوزارة

8- العلم الذي يدرس الوقائع وأوقاتها هو علم :

أ الجغرافيا ب الفلك ج التاريخ

9- للأرض :

أ حركة واحدة ب ثلاث حركات ج حركتان

10- ترتيب الأرض من حيث القرب من الشمس :

أ الأول ب الثاني ج الثالث

11- تتميز جميع كواكب المجموعة الشمسية بأنها :

أ شديدة الحرارة ب شديدة البرودة ج ذات شكل كروي

12- الخط الرئيسي من خطوط الطول هو خط :

أ الاستواء ب السرطان ج جرينتش

أ / اذكر الأسس التي قامت عليها الحضارة الإسلامية :

1- 2-

3- 4-

ب / اكمل الفراغات التالية :

1- قامت الحضارة الفرعونية على نهر في الفترة ما بين سنة ق م إلى سنة ق م .

2- ينتج عن حركة الأرض اليومية ثلاث نتائج هي 1- 2-

3-

نموذج الإجابة

التوقيع	اسم المصحح :	جدة	المملكة العربية السعودية وزارة التعليم الإدارة العامة للتعليم مدرسة
التوقيع	اسم المراجع :	40	Ministry of Education رؤية 2030

رقم الجلوس	الصف الأول متوسط	العام الدراسي 1446هـ	أسئلة اختبار الفصل الدراسي الأول
عدد الصفحات : 2	الزمن : ساعة ونصف	المادة : اجتماعيات	اسم الطالب :

استعن بالله ثم اجب على الاسئلة

السؤال الأول

10

ضع علامة (√) أمام العبارة الصحيحة وعلامة (X) أمام العبارة الخاطئة

(X)	من نتائج التخطيط التوتر والقلق .	1
(X)	شكل الأرض كامل الاستدارة .	2
(√)	أول رائد فضاء عربي مسلم هو الأمير سلطان بن سلمان .	3
(√)	اهتم المسلمون بعلم الفلك لارتباطه بالامور الشرعية .	4
(√)	تم إنشاء الدواوين في عهد الخليفة عمر بن الخطاب .	5
(√)	تستمر دورة الأرض اليومية مدة 24 ساعة .	6
(√)	من فوائد خطوط الطول معرفة الزمن .	7
(√)	يساعد التخطيط على تنظيم الوقت .	8
(X)	الانسان يشعر بحركة الأرض .	9
(X)	تبلغ نسبة الماء على سطح الأرض 29 % .	10

السؤال الثاني

8

أربط بين العمود [أ] بما يناسبه في العمود [ب] بوضع الرقم المناسب :

العمود [ب]	العمود [أ]
1- المشتري	(٥) أقرب كواكب المجموعة الشمسية .
2- استراليا	(٦) نجم كروي غازي ملتهب يشع ضوء وحرارة .
3- آسيا	(٧) أبعد كواكب المجموعة الشمسية .
4- الكواكب	(٨) كل ما يحيط بنا من نجوم ومجرات ومخلوقات حية .
5- عطارذ	(١) أكبر كواكب المجموعة الشمسية .
6- الشمس	(٢) أصغر قارات العالم .
7- نبتون	(٣) أكبر قارات العالم .
8- الكون	(٤) أجسام كروية صلبة معتمة تستمد الضوء والحرارة من الشمس .

ضع دائرة على الحرف الذي يسبق الإجابة الصحيحة لكل مما يلي :

1- يبلغ عدد دوائر العرض :

- | | | | | | |
|---|-----------|---|-----------|---|-----------|
| أ | 360 دائرة | ب | 180 دائرة | ج | 150 دائرة |
|---|-----------|---|-----------|---|-----------|
- 2- العلم الذي يبين معاني القرآن الكريم ويوضحها هو علم :
- | | | | | | |
|---|--------|---|---------|---|-------|
| أ | الحديث | ب | التفسير | ج | الفقه |
|---|--------|---|---------|---|-------|
- 3- من أبرز علماء المسلمين في علم الرياضيات :
- | | | | | | |
|---|----------------|---|--------------|---|----------------------|
| أ | محمد الخوارزمي | ب | جابر بن حيان | ج | أبو الريحان البيروني |
|---|----------------|---|--------------|---|----------------------|
- 4- يحدث فصل الصيف في شمال الكرة الأرضية عندما تتعامد أشعة الشمس على :
- | | | | | | |
|---|--------------|---|------------|---|-------------|
| أ | مدار السرطان | ب | مدار الجدي | ج | خط الاستواء |
|---|--------------|---|------------|---|-------------|
- 5- يبلغ عدد قارات العالم :
- | | | | | | |
|---|---------|---|---------|---|---------|
| أ | 7 قارات | ب | 5 قارات | ج | 8 قارات |
|---|---------|---|---------|---|---------|
- 6- قامت حضارة بلاد الرافدين في :
- | | | | | | |
|---|-------|---|--------|---|-----|
| أ | الصين | ب | العراق | ج | مصر |
|---|-------|---|--------|---|-----|
- 7- من إنجازات الحضارة الإسلامية في النظام السياسي :
- | | | | | | |
|---|--------|---|----------|---|---------|
| أ | القضاء | ب | الدواوين | ج | الوزارة |
|---|--------|---|----------|---|---------|
- 8- العلم الذي يدرس الوقائع وأوقاتها هو علم :
- | | | | | | |
|---|-----------|---|-------|---|---------|
| أ | الجغرافيا | ب | الفلك | ج | التاريخ |
|---|-----------|---|-------|---|---------|
- 9- للأرض :
- | | | | | | |
|---|------------|---|------------|---|--------|
| أ | حركة واحدة | ب | ثلاث حركات | ج | حركتان |
|---|------------|---|------------|---|--------|
- 10- ترتيب الأرض من حيث القرب من الشمس :
- | | | | | | |
|---|-------|---|--------|---|--------|
| أ | الأول | ب | الثاني | ج | الثالث |
|---|-------|---|--------|---|--------|
- 11- تتميز جميع كواكب المجموعة الشمسية بأنها :
- | | | | | | |
|---|---------------|---|---------------|---|--------------|
| أ | شديدة الحرارة | ب | شديدة البرودة | ج | ذات شكل كروي |
|---|---------------|---|---------------|---|--------------|
- 12- الخط الرئيسي من خطوط الطول هو خط :
- | | | | | | |
|---|----------|---|---------|---|--------|
| أ | الاستواء | ب | السرطان | ج | جرينتش |
|---|----------|---|---------|---|--------|

أ / اذكر الأسس التي قامت عليها الحضارة الإسلامية :

- 1-.....الاساس الديني.....
 2-.....الاساس العلمي.....
 3-.....الاساس اللغوي.....
 4-.....الاساس الاخلاقي.....

ب / اكمل الفراغات التالية :

- 1- قامت الحضارة الفرعونية على نهر..... النيل..... في الفترة ما بين سنة ٣١٥٠ ق.م إلى سنة ٣٠ ق.م .
 2- ينتج عن حركة الأرض اليومية ثلاث نتائج هي 1-..... الليل والنهار..... 2-..... تغير اتجاه الرياح.....
 3-..... اختلاف التوقيت.....

الصف	الأول المتوسط	العام الدراسي	١٤٤٦ هـ	أسئلة اختبار الفصل الدراسي الأول
الزمن	ساعة ونصف	المادة	اجتماعيات	
اسم الطالبة :				

رقم السؤال	الدرجة رقماً	الدرجة كتابة	المصححة	المراجعة
الأول				
الثاني				
الثالث			التوقيع	التوقيع
الرابع				

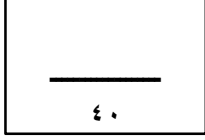
السؤال الأول : ضعي علامة (✓) أمام العبارة الصحيحة و علامة (x) أمام العبارة الخاطئة:	
م	العبارة
١	تمتد محور الأرض القطبي من الشمال إلى الجنوب .
٢	عدد كواكب المجموعة الشمسية ثمانية .
٣	أقرب الكواكب للشمس عطارد .
٤	أول بيت وضع للناس على وجه الأرض الكعبة المشرفة في مكة المكرمة .
٥	العسس هم رجال يتولون حفظ الأمن ليلاً .
٦	الجدية في التزام التخطيط للدراسة .
٧	فوائد تحديد الوقت الحد من التوتر و القلق .
٨	دوائر العرض هي دوائر وهمية عرضية ترسم على نموذج الكرة الأرضية و الخرائط .
٩	شكل الأرض كامل الاستدارة .
١٠	أبعاد الأرض متساوي .
١١	تعد صناعة الأدوية من الصناعات الغذائية .
١٢	لم يعتني المسلمون بالزراعة .
١٣	بغداد عاصمة الشام .
١٤	من نتائج التخطيط التوتر و القلق .
١٥	أنشئت الدواوين في عهد الخليفة أبو بكر الصديق <small>رضي الله عنه</small> .

السؤال الثاني : صلي ما في المجموعة (أ) بما يناسبها من المجموعة (ب) باستعمال الأرقام فيما يلي :		
الرقم	أ	ب
١	خطوط وهمية طولية ترسم على شكل الأرض من القطب الشمالي إلى القطب الجنوبي .	علم الكيمياء و الفيزياء
٢	المحيطات التي تحيط بقارة آسيا .	علم الفلك
٣	تعنى المعاونة في تحمل أعباء الحكم .	الوزارة
٤	بناء المراصد .	المحيط الهادي
٥	العلوم الطبيعية .	خطوط الطول

السؤال الثالث : اختاري الإجابة الصحيحة :		
١. أكبر كواكب المجموعة الشمسية :		
أ - المشتري	ب - عطارد	ج - الأرض
٢. أصغر كوكب في المجموعة الشمسية :		
أ - عطارد	ب - الأرض	ج - المشتري
٣. دوائر العرض تفيد في تحديد :		
أ - المناطق الحرارية	ب - الزمن	ج - خط جرينتش
٤. عدد خطوط الطول :		
أ - ٣٦٠	ب - ١٨٠	ج - ٣٧٠
٥. عدد كواكب المجموعة الشمسية :		
أ - ثمانية	ب - سبعة	ج - تسعة
٦. تعد صناعة الأدوية من أهم الصناعات :		
أ - الغذائية	ب - الكيماوية	ج - الزجاجية
٧. يشمل النظام الإداري على :		
أ - الشورى	ب - الدواوين	ج - الزراعة
٨. أنشئت الدواوين في عهد الخليفة :		
أ - أبو بكر الصديق ؓ	ب - عمر بن الخطاب ؓ	ج - علي بن أبي طالب ؓ
٩. يوجد مسجد عقبة بن نافع في :		
أ - مصر	ب - تونس	ج - الجزائر
١٠. يوجد المسجد الأموي في :		
أ - فلسطين	ب - دمشق	ج - لبنان
١١. يساعد التخطيط على :		
أ - الغش	ب - ضياع الوقت	ج - النجاح
١٢. أكبر المحيطات مساحة هو :		
أ - المحيط الهندي	ب - المحيط الأطلسي	ج - المحيط الهادي
١٣. أصغر المحيطات مساحة هو :		
أ - المحيط الهادي	ب - المحيط الهندي	ج - المحيط المتجمد الشمالي
١٤. تغمر المياه من مساحة الأرض :		
أ - ٢٩	ب - ٥٠	ج - ٧١
١٥. من أهم العلوم الشرعية :		
أ - النحو	ب - الصرف	ج - التفسير

السؤال الرابع : أجبني عن الأسئلة التالية :		
١ - حدوث الفصول المناخية الأربعة ؟		
٢ - سبب تقسيم العالم إلى ٢٤ منطقة زمنية ؟		
٣ - أذكر أهم العلوم الشرعية ؟		
٤ - أين يوجد مسجد القبلتين ؟		
٥ - ما هي أكبر القارات بالكرة الأرضية ؟		

نموذج الإجابة



VISION
30
المملكة العربية السعودية
KINGDOM OF SAUDI ARABIA

وزارة التعليم

المملكة العربية السعودية
وزارة التعليم
الإدارة العامة للتعليم بمنطقة الجوف
متوسطة أم المؤمنين بنات - ثانوية - الجوف

نموذج إجابة	١٤٤٦ هـ	العام الدراسي	الأول المتوسط	الصف
أسئلة اختبار الفصل الدراسي الأول	اجتماعيات	المادة	ساعة ونصف	الزمن
				اسم الطالبة :

المراجعة	المصححة	الدرجة كتابة	الدرجة رقماً	رقم السؤال
				الأول
				الثاني
التوقيع	التوقيع			الثالث
				الرابع

السؤال الأول : ضعي علامة (✓) أمام العبارة الصحيحة و علامة (x) أمام العبارة الخاطئة:		
م	العبارة	الإجابة
١	تمتد محور الأرض القطبي من الشمال إلى الجنوب .	(✓)
٢	عدد كواكب المجموعة الشمسية ثمانية .	(✓)
٣	أقرب الكواكب للشمس عطارد .	(✓)
٤	أول بيت وضع للناس على وجه الأرض الكعبة المشرفة في مكة المكرمة .	(✓)
٥	العسس هم رجال يتولون حفظ الأمن ليلاً .	(✓)
٦	الجدية في التزام التخطيط للدراسة .	(✓)
٧	فوائد تحديد الوقت الحد من التوتر و القلق .	(✓)
٨	دوائر العرض هي دوائر وهمية عرضية ترسم على نموذج الكرة الأرضية و الخرائط .	(✓)
٩	شكل الأرض كامل الاستدارة .	(x)
١٠	أبعاد الأرض متساوي .	(x)
١١	تعد صناعة الأدوية من الصناعات الغذائية .	(x)
١٢	لم يعتني المسلمون بالزراعة .	(x)
١٣	بغداد عاصمة الشام .	(x)
١٤	من نتائج التخطيط التوتر و القلق .	(x)
١٥	أنشئت الدواوين في عهد الخليفة أبو بكر الصديق .	(x)

السؤال الثاني : صلي ما في المجموعة (أ) بما يناسبها من المجموعة (ب) باستعمال الأرقام فيما يلي :			
الرقم	أ	الإجابة	ب
١	خطوط وهمية طولية ترسم على شكل الأرض من القطب الشمالي إلى القطب الجنوبي .	٥	علم الكيمياء و الفيزياء
٢	المحيطات التي تحيط بقارة آسيا .	٤	علم الفلك
٣	تعنى المعاونة في تحمل أعباء الحكم .	٣	الوزارة
٤	بناء المراصد .	٢	المحيط الهادي
٥	العلوم الطبيعية .	١	خطوط الطول

تابع

السؤال الثالث : اختاري الإجابة الصحيحة :		
١- أكبر كواكب المجموعة الشمسية :		
أ - المشتري	ب - عطارد	ج - الأرض
٢- أصغر كوكب في المجموعة الشمسية :		
أ - عطارد	ب - الأرض	ج - المشتري
٣- دوائر العرض تفيد في تحديد :		
أ - المناطق الحرارية	ب - الزمن	ج - خط جرينتش
٤- عدد خطوط الطول :		
أ - ٣٦٠	ب - ١٨٠	ج - ٣٧٠
٥- عدد كواكب المجموعة الشمسية :		
أ - ثمانية	ب - سبعة	ج - تسعة
٦- تعد صناعة الأدوية من أهم الصناعات :		
أ - الغذائية	ب - الكيماوية	ج - الزجاجية
٧- يشمل النظام الإداري على :		
أ - الشورى	ب - الدواوين	ج - الزراعة
٨- أنشئت الدواوين في عهد الخليفة :		
أ - أبو بكر الصديق ؓ	ب - عمر بن الخطاب ؓ	ج - علي بن أبي طالب ؓ
٩- يوجد مسجد عقبة بن نافع في :		
أ - مصر	ب - تونس	ج - الجزائر
١٠- يوجد المسجد الأموي في :		
أ - فلسطين	ب - دمشق	ج - لبنان
١١- يساعد التخطيط على :		
أ - الغش	ب - ضياع الوقت	ج - النجاح
١٢- أكبر المحيطات مساحة هو :		
أ - المحيط الهندي	ب - المحيط الأطلسي	ج - المحيط الهادي
١٣- أصغر المحيطات مساحة هو :		
أ - المحيط الهادي	ب - المحيط الهندي	ج - المحيط المتجمد الشمالي
١٤- تغمر المياه من مساحة الأرض :		
أ - ٢٩	ب - ٥٠	ج - ٧١
١٥- من أهم العلوم الشرعية :		
أ - النحو	ب - الصرف	ج - التفسير

السؤال الرابع : أجبني عن الأسئلة التالية :	
١- حدوث الفصول المناخية الأربعة ؟	
بسبب دوران الأرض حول الشمس .	
٢- سبب تقسيم العالم إلى ٢٤ منطقة زمنية ؟	
تجنباً لاختلاف التوقيت داخل الدولة الواحدة .	
٣- أذكر أهم العلوم الشرعية ؟	
التفسير و الحديث و الفقه .	
٤- أين يوجد مسجد القبلتين ؟	
المدينة المنورة .	
٥- ما هي أكبر القارات بالكرة الأرضية ؟	
آسيا .	

موقع **مادنتري**

الاختبار النهائي للفصل الدراسي الأول

الدرجة رقمًا	الدرجة كتابة	المصحح	التوقيع	المراجع	التوقيع
	40				

اسم الطالب: رقم الجلوس:

السؤال الأول: ضع علامة (√) أمام العبارة الصحيحة وعلامة (X) أمام العبارة الخاطئة:

10

1	الشمس من مكونات المجموعة الشمسية.
2	الأرض هي المكان الوحيد الذي توجد فيه الحياة بين سائر كواكب الكون.
3	شكل الأرض مثلثة.
4	تدور الأرض حول محورها في ثلاثون ساعة.
5	تعاقب الليل والنهار ينتج عن حركة الأرض حول محورها.
6	اعتمد المسلمون على قيم الإسلام في دراساتهم وأنشاء المعرفة.
7	الترجمة هي نقل العلوم من لغتها الأصلية إلى اللغة الفارسية.
8	يساعدنا التخطيط في المحافظة على الصحة من حيث انتظام النوم ومواعيد الوجبات.
9	لا يوجد ارتباط بين الفن الإسلامي والدين.
10	كان للعرب معرفة بالتجارة قبل الإسلام.

السؤال الثاني : اختر الإجابة الصحيحة:

10

1- تدور الأرض حول	أ - القمر	ب - الشمس	ج - الزهرة
2- هو الخط الوهمي المستقيم الواصل بين أبعد نقطتين على خط الاستواء	أ - القطر الاستوائي	ب - القطر القطبي	ج - القطر الشمالي
3- من المناطق الحرارية على سطح الأرض	أ - المنطقة الحارة	ب - المنطقتان المعتدلتان	ج - جميع ما سبق
4- يغطي 71% من مساحة سطح الأرضية	أ - الماء	ب - اليابسة	ج - الجبال
5- هو الأساس الأول للحضارة الإسلامية واعتمد على القرآن الكريم والسنة النبوية	أ - الأساس السياسي	ب - الأساس الديني	ج - الأساس العلمي
6- تعني المعاونة في تحمل أعباء الحكم	أ - بيت المال	ب - الإمارة	ج - الوزارة
7- من أسس النجاح إدارة الوقت بطريقة	أ - منظمة	ب - عشوائية	ج - غير منظمة
8- هو الإعداد المنظم لتحديد المهام والاعمال المستقبلية ومواعيد القيام بها وكيفية إنجازها	أ - الإدارة	ب - التخطيط	ج - الاقتصاد

9- لماذا نحتاج التخطيط		
أ - بناء شخصيتنا الوطنية	ب - الاستمتاع بالوقت	ج - جميع ما سبق
10- اعتنى المسلمون ب..... لأنها المصدر الأول لغذاء الانسان		
أ - الزراعة	ب - الصناعة	ج - التعليم

السؤال الثالث : اختر من المجموعة (أ) ما يناسبها في المجموعة (ب) مستعينا " بالأرقام"

10

المجموعة (أ)	الأرقام	المجموعة (ب)
1		درب التبانة
2		خطوط الطول
3		الحضارة القديمة
4		العسس
5		العلوم الشرعية
6		النجاح والتفوق
7		خطوات تنظيم الوقت
8		العلوم الطبيعية
9		آسيا
10		المحيط الهادي
		حضارة بلاد الرافدين
		علم الحديث
		المجموعة الشمسية
		حصر الاعمال اليومية
		التخطيط
		خط جرينتش
		أكبر القارات
		حفظ الامن ليلاً
		أكبر المحيطات
		علم الفيزياء

السؤال الرابع : اجب على الاسئلة الاتية:

10

1. عرف خطوط الطول؟

.....

2. كم عدد دوائر العرض؟

.....

3. من الفصول المناخية الاربعة..... و

4. من خطوات تنظيم الوقت للمهام الدراسية..... و

5. عرف سطح الارض؟

.....

6. ماهي الحضارة؟

7. بم تميزت عمارة المساجد؟

8. لماذا اعتنى المسلمون ببناء الحصون والقلاع؟

نموذج الإجابة



العام الدراسي: ١٤٤٦ هـ
المادة: الدراسات الاجتماعية
الصف: الأول متوسط
الزمن: ساعة ونصف
الدور: الأول

الاختبار النهائي للفصل الدراسي الأول

الدرجة رقمًا	الدرجة كتابة	المصحح	التوقيع	المراجع	التوقيع
40					

اسم الطالب: رقم الجلوس:

السؤال الأول: ضع علامة (√) أمام العبارة الصحيحة وعلامة (X) أمام العبارة الخاطئة:

10

1	الشمس من مكونات المجموعة الشمسية.	√
2	الأرض هي المكان الوحيد الذي توجد فيه الحياة بين سائر كواكب الكون.	√
3	شكل الأرض مثلثة.	X
4	تدور الأرض حول محورها في ثلاثون ساعة.	X
5	تعاقب الليل والنهار ينتج عن حركة الأرض حول محورها.	√
6	اعتمد المسلمون على قيم الإسلام في دراساتهم وأنشاء المعرفة.	√
7	الترجمة هي نقل العلوم من لغتها الأصلية إلى اللغة الفارسية.	X
8	يساعدنا التخطيط في المحافظة على الصحة من حيث انتظام النوم ومواعيد الوجبات.	√
9	لا يوجد ارتباط بين الفن الإسلامي والدين.	X
10	كان للعرب معرفة بالتجارة قبل الإسلام.	√

السؤال الثاني : اختر الإجابة الصحيحة:

10

1- تدور الأرض حول	أ - القمر	ب - الشمس	ج - الزهرة
2- هو الخط الوهمي المستقيم الواصل بين أبعد نقطتين على خط الاستواء	أ - القطر الاستوائي	ب - القطر القطبي	ج - القطر الشمالي
3- من المناطق الحرارية على سطح الأرض	أ - المنطقة الحارة	ب - المنطقتان المعتدلتان	ج - جميع ما سبق
4- يغطي 71% من مساحة سطح الأرضية	أ - الماء	ب - اليابسة	ج - الجبال
5- هو الأساس الأول للحضارة الإسلامية واعتمد على القرآن الكريم والسنة النبوية	أ - الأساس السياسي	ب - الأساس الديني	ج - الأساس العلمي
6- تعني المعاونة في تحمل أعباء الحكم	أ - بيت المال	ب - الإمارة	ج - الوزارة
7- من أسس النجاح إدارة الوقت بطريقة	أ - منظمة	ب - عشوائية	ج - غير منظمة
8- هو الإعداد المنظم لتحديد المهام والاعمال المستقبلية ومواعيد القيام بها وكيفية إنجازها	أ - الإدارة	ب - التخطيط	ج - الاقتصاد

9- لماذا نحتاج التخطيط		
أ - بناء شخصيتنا الوطنية	ب - الاستمتاع بالوقت	ج - جميع ما سبق
10- اعتنى المسلمون ب..... لأنها المصدر الأول لغذاء الانسان		
أ - الزراعة	ب - الصناعة	ج - التعليم

السؤال الثالث : اختر من المجموعة (أ) ما يناسبها في المجموعة (ب) مستعينا " بالأرقام"

10

المجموعة (ب)	الأرقام	المجموعة (أ)
حضارة بلاد الرافدين	3	1 درب التبانة
علم الحديث	5	2 خطوط الطول
المجموعة الشمسية	1	3 الحضارة القديمة
حصر الاعمال اليومية	7	4 العسس
التخطيط	6	5 العلوم الشرعية
خط جرينتش	2	6 النجاح والتفوق
أكبر القارات	9	7 خطوات تنظيم الوقت
حفظ الامن ليلاً	4	8 العلوم الطبيعية
أكبر المحيطات	10	9 آسيا
علم الفيزياء	8	10 المحيط الهادي

السؤال الرابع : اجب على الاسئلة الاتية:

10

1. عرف خطوط الطول؟
- خطوط وهمية طويلة ترسم على شكل الكرة الارضية من القطب الشمالي الى القطب الجنوبي.
2. كم عدد دوائر العرض؟
180 دائرة
3. من الفصول المناخية الاربعة **الشتاء والصيف**
4. من خطوات تنظيم الوقت للمهام الدراسية اعداد قائمة الاعمال و كتابة جميع الاعمال في قائمة واحدة
5. عرف سطح الارض؟
هو كل ما على وجه الكرة الارضية من مرتفعات ومنخفضات.
6. ماهي الحضارة؟
هي تفاعل المجموعات البشرية مع البيئات المحيطة بهم.
7. بم تميزت عمارة المساجد؟
تميزت في اول امرها ببساطة البناء ثم تطورت واصبحت مثلاً رائعاً في فن العمارة والزخرفة الاسلامية.
8. لماذا اعتنى المسلمون ببناء الحصون والقلاع؟
لحماية حدود الدولة



أسئلة اختبار الفصل الدراسي الأول (الدور الأول) لعام ١٤٤٦ هـ

رقم الجلوس:

الصف:

اسم الطالب:

٤٠

١٠

أولاً: أسئلة الصواب والخطأ من (١) إلى (١٠):

ظل (أ) للعبارة الصحيحة و(ب) للعبارة الخاطئة فيما يلي:

١ س	شبه الجزيرة العربية مهد الحضارات ومنها انطلقت الهجرات.	()
٢ س	استفاد المسلمون من علوم الحضارات السابقة في مختلف الجوانب.	()
٣ س	ظهرت العناية ببناء القصور في عصر الخلفاء الراشدين.	()
٤ س	لم تكن للعرب معرفة بالتجارة قبل الإسلام.	()
٥ س	وزارة التفويض أن ينفذ الوزير أوامر الخليفة فقط.	()
٦ س	تنتمي المجموعة الشمسية لمجرة درب التبانة.	()
٧ س	كواكب المجموعة الشمسية جميعها ذات شكل كروي.	()
٨ س	أبعاد الأرض متساوية.	()
٩ س	خطوط الطول عبارة عن أنصاف دوائر متساوية في الطول.	()
١٠ س	تتركز اليابسة في نصف الكرة الأرضية الجنوبي.	()

٢٢

ثانياً: أسئلة الاختيار من متعدد من (١١) إلى (٣٢):

اختر الإجابة الصحيحة من بين البدائل فيما يلي ثم ظلها في ورقة الإجابة:

١١ س	تفاعل المجموعات البشرية مع البيئة المحيطة بها:	١٤ س	أنشئت الدواوين في عهد الخليفة:
(أ)	الحضارة	(أ)	أبو بكر الصديق ﷺ
(ب)	الوزارة	(ب)	عمر بن الخطاب ﷺ
(ج)	القضاء	(ج)	عثمان بن عفان ﷺ
(د)	التاريخ	(د)	علي بن أبي طالب ﷺ
١٢ س	سقطت إمبراطورية (الكلدانيين) على يد:	١٥ س	أول من أدخل نظام الشرطة في الإسلام:
(أ)	الفرس	(أ)	عمرو بن العاص ﷺ
(ب)	الرومان	(ب)	عمر بن الخطاب ﷺ
(ج)	الصينيين	(ج)	معاوية بن أبي سفيان ﷺ
(د)	الأكاديين	(د)	أبو بكر الصديق ﷺ
١٣ س	عرفت الكتابة (الهيروغليفية) في الحضارة:	١٦ س	العلم الذي يهتم ببيان معاني آيات القرآن الكريم هو علم:
(أ)	الصينية	(أ)	الفقه
(ب)	الفرعونية	(ب)	التفسير
(ج)	الإسلامية	(ج)	الحديث
(د)	الرومانية	(د)	التاريخ

تابع الأسئلة

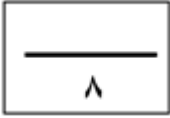
(١)

س١٧	من أشهر علماء المسلمين في علم الفيزياء:	س٢٣	أكبر كواكب المجموعة الشمسية:
(أ)	أبو الريحان البيروني	(أ)	زحل
(ب)	جابر بن حيان	(ب)	المريخ
(ج)	محمد الخوارزمي	(ج)	المشتري
(د)	سيبويه	(د)	الأرض
س١٨	اعتنى المسلمون ببناء القلاع والحصون:	س٢٤	يبلغ عدد دوائر العرض:
(أ)	لتكون عواصم للدول الإسلامية	(أ)	١٢٠ دائرة
(ب)	لأغراض اقتصادية	(ب)	١٥٠ دائرة
(ج)	لأغراض دينية	(ج)	١٨٠ دائرة
(د)	لحماية حدود الدولة	(د)	٣٦٠ دائرة
س١٩	العناية بتوفير وسائل الري ببناء السدود وإقامة الجسور من مظاهر العناية بـ:	س٢٥	خط الطول الرئيسي يسمى:
(أ)	الزراعة	(أ)	جرينتش
(ب)	الصناعة	(ب)	الاستواء
(ج)	التجارة	(ج)	الجلي
(د)	السياحة	(د)	السرطان
س٢٠	تعد صناعة الأسلحة من الصناعات:	س٢٦	يبلغ عدد المناطق الزمنية على سطح الأرض:
(أ)	المعدنية	(أ)	٢٨ منطقة
(ب)	الخزفية	(ب)	٢٠ منطقة
(ج)	الكيميائية	(ج)	٢٢ منطقة
(د)	الزجاجية	(د)	٢٤ منطقة
س٢١	كل ما يحيط بنا من نجوم ومجرات ومخلوقات حية:	س٢٧	درجة مدار السرطان:
(أ)	الكون	(أ)	٢٣,٥° جنوباً
(ب)	الشهب	(ب)	٢٣,٥° شمالاً
(ج)	النيازك	(ج)	٦٦,٥° شمالاً
(د)	الكواكب	(د)	٤٠° جنوباً
س٢٢	يبلغ عدد كواكب المجموعة الشمسية:	س٢٨	لا يشعر سكان الأرض بحركتها بسبب:
(أ)	خمسة	(أ)	كبر حجمها
(ب)	سبعة	(ب)	ثقلها
(ج)	ثمانية	(ج)	عدم انتظام حركتها
(د)	تسعة	(د)	استدارتها

تابع الأسئلة

س ٢٩	سبب تعاقب الليل والنهار:	س ٣١	أكبر قارات العالم مساحة:
(أ)	دوران الأرض حول الشمس	(أ)	آسيا
(ب)	ميل محور الأرض	(ب)	أستراليا
(ج)	دوران الأرض حول نفسها	(ج)	أوروبا
(د)	ثبات ميل محور الأرض	(د)	إفريقيا
س ٣٠	يحدث الصيف في شمال الكرة الأرضية عندما تتعامد أشعة الشمس على:	س ٣٢	يغطي الماء سطح الأرض بنسبة:
(أ)	مدار الجدي	(أ)	٧١ %
(ب)	خط الاستواء	(ب)	٧٣ %
(ج)	الدائرة القطبية الشمالية	(ج)	٢٩ %
(د)	مدار السرطان	(د)	٦٣ %

ثالثاً: الأسئلة المقالية:



س ٣٣ / اذكر أبرز عاملين لقيام الحضارات.

- ١-
- ٢-

س ٣٤ / ما الأسس التي قامت عليها الحضارة الإسلامية؟

- ١-
- ٢-
- ٣-
- ٤-

س ٣٥ / دون على الشكل ما يأتي:

أ- محور الأرض القطبي

ب- محور الأرض الاستوائي.



انتهت الأسئلة

معلم المادة :

يوسف خضر الرحيلي

نموذج الإجابة

المملكة العربية السعودية

وزارة التعليم

الإدارة العامة للتعليم بمنطقة المدينة المنورة

مدرسة عبد الله بن أبي السرح المتوسطة

الصف: الأول المتوسط

المادة: الدراسات الاجتماعية

التاريخ: ٤/ ٤٦/ ١٤٤٦ هـ

الزمن: ساعتان

وزارة التعليم

أسئلة اختبار الفصل الدراسي الأول (الدور الأول) لعام ١٤٤٦ هـ

رقم الجلوس:

الصف:

اسم الطالب:

40

40

10

10

أولاً: أسئلة الصواب والخطأ من (1) إلى (10):

ظل (أ) للعبارة الصحيحة و (ب) للعبارة الخاطئة فيما يلي:

(✓)	س1	شبه الجزيرة العربية مهد الحضارات ومنها انطلقت الهجرات.
(✓)	س2	استفاد المسلمون من علوم الحضارات السابقة في مختلف الجوانب.
(×)	س3	ظهرت العناية ببناء القصور في عصر الخلفاء الراشدين.
(×)	س4	لم تكن للعرب معرفة بالتجارة قبل الإسلام.
(×)	س5	وزارة التفويض أن ينفذ الوزير أوامر الخليفة فقط.
(✓)	س6	تنتمي المجموعة الشمسية لمجرة درب التبانة.
(✓)	س7	كواكب المجموعة الشمسية جميعها ذات شكل كروي.
(×)	س8	أبعاد الأرض متساوية.
(✓)	س9	خطوط الطول عبارة عن أنصاف دوائر متساوية في الطول.
(×)	س10	تتركز اليابسة في نصف الكرة الأرضية الجنوبي.

22

٢٢

ثانياً: أسئلة الاختيار من متعدد من (11) إلى (32):

اختر الإجابة الصحيحة من بين البدائل فيما يلي ثم ظلها في ورقة الإجابة:

أنشئت الدواوين في عهد الخليفة:	س14	تفاعل المجموعات البشرية مع البيئة المحيطة بها:	س11
أبو بكر الصديق τ	(أ)	الحضارة 1	(أ)
عمر بن الخطاب τ 1	(ب)	الوزارة	(ب)
عثمان بن عفان τ	(ج)	القضاء	(ج)
علي بن أبي طالب τ	(د)	التاريخ	(د)
أول من أدخل نظام الشرطة في الإسلام:	س15	سقطت إمبراطورية (الكلدانيين) على يد:	س12
عمر بن العاص τ 1	(أ)	الفرس 1	(أ)
عمر بن الخطاب τ	(ب)	الرومان	(ب)
معاوية بن أبي سفيان τ	(ج)	الصينيين	(ج)
أبو بكر الصديق τ	(د)	الأكاديين	(د)
العلم الذي يهتم ببيان معاني آيات القرآن الكريم هو علم:	س16	عرفت الكتابة (الهيروغليفية) في الحضارة:	س13
الفقه	(أ)	الصينية	(أ)
التفسير 1	(ب)	الفرعونية 1	(ب)
الحديث	(ج)	الإسلامية	(ج)
التاريخ	(د)	الرومانية	(د)

تابع الأسئلة

(1)

17س	من أشهر علماء المسلمين في علم الفيزياء:	23س	أكبر كواكب المجموعة الشمسية:
(أ)	أبو الريحان البيروني ①	(أ)	زحل
(ب)	جابر بن حيان	(ب)	المريخ
(ج)	محمد الخوارزمي	(ج)	المشتري ①
(د)	سيبويه	(د)	الأرض
18س	اعتنى المسلمون ببناء القلاع والحصون:	24س	يبلغ عدد دوائر العرض:
(أ)	لتكون عواصم للدول الإسلامية	(أ)	120 دائرة
(ب)	لأغراض اقتصادية	(ب)	150 دائرة
(ج)	لأغراض دينية	(ج)	180 دائرة ①
(د)	لحماية حدود الدولة ①	(د)	360 دائرة
19س	العناية بتوفير وسائل الري ببناء السدود وإقامة الجسور من مظاهر العناية بـ:	25س	خط الطول الرئيسي يسمى:
(أ)	الزراعة ①	(أ)	جرينتش ①
(ب)	الصناعة	(ب)	الاستواء
(ج)	التجارة	(ج)	الجدى
(د)	السياحة	(د)	السرطان
20س	تعد صناعة الأسلحة من الصناعات:	26س	يبلغ عدد المناطق الزمنية على سطح الأرض:
(أ)	المعدنية ①	(أ)	28 منطقة
(ب)	الخزفية	(ب)	20 منطقة
(ج)	الكيميائية	(ج)	22 منطقة
(د)	الزجاجية	(د)	24 منطقة ①
21س	كل ما يحيط بنا من نجوم ومجرات ومخلوقات حية:	27س	درجة مدار السرطان:
(أ)	الكون ①	(أ)	23,5° جنوباً
(ب)	الشهب	(ب)	23.5° شمالاً ①
(ج)	النيازك	(ج)	66.5° شمالاً
(د)	الكواكب	(د)	40° جنوباً
22س	يبلغ عدد كواكب المجموعة الشمسية:	28س	لا يشعر سكان الأرض بحركتها بسبب:
(أ)	خمسة	(أ)	كبر حجمها ①
(ب)	سبعة	(ب)	ثقلها
(ج)	ثمانية ①	(ج)	عدم انتظام حركتها
(د)	تسعة	(د)	استدارتها

تابع الأسئلة

موقع
مادنتيري

س29	سبب تعاقب الليل والنهار:	س31	أكبر قارات العالم مساحة:
(أ)	دوران الأرض حول الشمس	(أ)	آسيا ①
(ب)	ميل محور الأرض	(ب)	أستراليا
(ج)	دوران الأرض حول نفسها ①	(ج)	أوروبا
(د)	ثبات ميل محور الأرض	(د)	إفريقيا
س30	يحدث الصيف في شمال الكرة الأرضية عندما تتعامد أشعة الشمس على:	س32	يغطي الماء سطح الأرض بنسبة:
(أ)	مدار الجدي	(أ)	71 % ①
(ب)	خط الاستواء	(ب)	73 %
(ج)	الدائرة القطبية الشمالية	(ج)	29 %
(د)	مدار السرطان ①	(د)	63 %

ثالثاً: الأسئلة المقالية:

8
8

2
2

س33/ اذكر أبرز عاملين لقيام الحضارات.

1- الموقع والتضاريس

2- المناخ

س34/ ما الأسس التي قامت عليها الحضارة الإسلامية؟

1- الأساس الديني

2- الأساس اللغوي

3- الأساس العلمي

4- الأساس الأخلاقي

4
4

س35/ دون على الشكل ما يأتي:

أ- محور الأرض القطبي

ب- محور الأرض الاستوائي.

2
2



انتهت الأسئلة

موقع
مادنتيري

(3)

معلم المادة :

يوسف خضر الرحيلي

التاريخ: / / ١٤٤٦ هـ

الصف: الأول المتوسط

المادة: الدراسات الإجتماعية
والمواطنة

الفصل الدراسي: الأول



المملكة العربية السعودية

وزارة التربية والتعليم

مدرسة:

(الاختبار النهائي)

اسم الطالبة:

1. عرف الحضارة : ()

.....

2. أكمل ما يلي: ()

✚ من النظم السياسية في الإسلام و

✚ القطر القطبي هو

✚ من أهم حركات الأرض حركة وحركة

✚ من فوائد الحوار و

3. اذكر أهم المدن الإسلامية : ()

.....

.....

4. ضع علامة (✓) أمام العبارة الصحيحة وعلامة (x) أمام العبارة الخاطئة: ()

• تتكون المجموعة الشمسية من نجم واحد وسبعة كواكب . ()

• التخطيط يساعدنا على النجاح . ()

• رفع الصوت أثناء الحوار يقنع الآخرين برأيك . ()

5. اذكر فوائد خطوط الطول : ()

.....

حقيبة إنجاز المعلم والمعلمة إعداد الأستاذ/ بندر الحازمي

التاريخ: / / ١٤٤٦ هـ

الصف: الأول المتوسط

المادة: الدراسات الإجتماعية
والمواطنة

الفصل الدراسي: الأول



المملكة العربية السعودية

وزارة التربية والتعليم

مدرسة:

(الاختبار النهائي)

اسم الطالبة:

6. ضعي خط تحت الغجابه الصحيحة فيما يلي : ()

• هو علم يقصد به استنباط الأحكام الشرعية من القرآن الكريم .

(الحديث – الفقه – التفسير)

• تعتبر صناعة الأدوية والعمور من الصناعات

(الكيمائية – المعدنية – الزجاجية)

• تشغل اليابسة نسبة% من مساحة سطح الأرض .

(80 – 70 – 29)

انتهت الأسئلة مع تمنياتي للجميع بالتوفيق

معلمة المادة:

توقيع ولي الأمر بالعلم:

موقع
مادنتري

حقيية إنجاز المعلم والمعلمة إعداد الأستاذ/ بندر الحازمي

نموذج الاجابة

تاريخ: / / 1446هـ

الصف: الأول المتوسط

المادة: الدراسات الإجتماعية
والمواطنة

الفصل الدراسي: الأول



المملكة العربية السعودية
وزارة التربية والتعليم

مدرسة:
(الاختبار النهائي)
اسم الطالبة:

1. عرف الحضارة : ()

تفاعل المجموعات البشرية مع البيئة المحيطة بهم وما ينتج عنه من أثر ديني أو فكري أو اجتماعي أو عمراني أو سياسي في مدة محددة .

2. أكمل ما يلي: ()

✚ من النظم السياسية في الإسلام الخلافة و البيعة و الشورى .

✚ القطر القطبي هو الخط الوهمي المستقيم الواصل بين القطبين والمار بمركز الأرض .

✚ من أهم حركات الأرض حركة يومية وحركة سنوية .

✚ من فوائد الحوار معرفة الحقيقة وفهم الآراء الأخرى .

3. اذكر أهم المدن الإسلامية : ()

البصرة ، والكوفة ، وبغداد ، والقيروان ، والقيروان وغيرها .

4. ضعي علامة (✓) أمام العبارة الصحيحة وعلامة (x) أمام العبارة الخاطئة: ()

• تتكون المجموعة الشمسية من نجم واحد وسبعة كواكب . (x)

• التخطيط يساعدنا على النجاح . (✓)

• رفع الصوت أثناء الحوار يقنع الآخرين برأيك . (x)

التاريخ: / / 1446هـ

الصف: الأول المتوسط

المادة: الدراسات الإجتماعية
والمواطنة

الفصل الدراسي: الأول



المملكة العربية السعودية

وزارة التربية والتعليم

مدرسة:

(الاختبار النهائي)

اسم الطالبة:

()

5. اذكر في فوائد خطوط الطول :

تحديد المواقع على سطح الكرة الأرضية ، ومعرفة الزمن في مختلف جهات الأرض .

()

6. ضعي خط تحت العجاجة الصحيحة فيما يلي :

• هو علم يقصد به استنباط الأحكام الشرعية من القرآن الكريم .

(الحديث – الفقه – التفسير)

• تعتبر صناعة الأدوية والعطور من الصناعات

(الكيميائية – المعدنية – الزجاجية)

• تشغل اليابسة نسبة% من مساحة سطح الأرض .

(80 – 70 – 29)

انتهت الأسئلة مع تمنياتي للجميع بالتوفيق

معلمة المادة:

توقيع ولي الأمر بالعلم:

موقع
مادنتيري

حقيبة إنجاز المعلم والمعلمة إعداد الأستاذ/ بندر الحازمي



أسئلة اختبار الفصل الدراسي الأول (الدور الأول) لعام ١٤٤٦ هـ

رقم الجلوس:

الصف:

اسم الطالب:

٤٠

١٦

أولاً: أسئلة الصواب والخطأ من (١) إلى (١٢):

ظل (أ) للعبارة الصحيحة و(ب) للعبارة الخاطئة فيما يلي:

()	١ س	شبه الجزيرة العربية مهد الحضارات ومنها انطلقت الهجرات.
()	٢ س	عرفت الكتابة (الهيروغليفية) في الحضارة الصينية.
()	٣ س	يعد الأساس اللغوي هو الأساس الأول للحضارة الإسلامية.
()	٤ س	استفاد المسلمون من علوم الحضارات السابقة في مختلف الجوانب.
()	٥ س	اعتنى المسلمون بعلم التاريخ لارتباطه بالعلوم الشرعية.
()	٦ س	ارتبط الفن الإسلامي بالدين ارتباطاً وثيقاً.
()	٧ س	لم تكن للعرب معرفة بالتجارة قبل الإسلام.
()	٨ س	الكوكب جسم كروي صلب يشع ضوءاً
()	٩ س	شكل الأرض كامل الاستدارة.
()	١٠ س	حركة الأرض حول محورها تسمى بالحركة اليومية.
()	١١ س	دوائر العرض عبارة عن دوائر كاملة متوازية وغير متساوية في الطول.
()	١٢ س	تتركز اليابسة في نصف الكرة الأرضية الشمالي.

٢٨

ثانياً: أسئلة الاختيار من متعدد من (١٣) إلى (٤٠):

اختر الإجابة الصحيحة من بين البدائل فيما يلي ثم ظلها في ورقة الإجابة:

١٣ س	أول الشعوب التي سكنت جنوب العراق:	١٥ س	انتهى العصر الفرعوني على يد:
(أ)	الأكاديون	(أ)	السومريون
(ب)	الكلدانيون	(ب)	الفرس
(ج)	الاشوريون	(ج)	الرومان
(د)	السومريون	(د)	العرب
١٤ س	قامت حضارة بلاد الرافدين على ضفاف نهر:	١٦ س	من النظم السياسية في الإسلام:
(أ)	دجلة والفرات	(أ)	الوزارة
(ب)	النيل الأبيض والأزرق	(ب)	الإمارة
(ج)	الأصفر ومنطقة اليانغتسي	(ج)	الشرطة
(د)	سيحون وجيحون	(د)	القضاء

تابع الأسئلة



س١٧	تعني المعاونة في تحمل أعباء الحكم:	س٢٣	العناية بتوفير وسائل الري ببناء السدود وإقامة الجسور من مظاهر العناية بـ :
(أ)	الخلافة	(أ)	الزراعة
(ب)	الوزارة	(ب)	الصناعة
(ج)	البيعة	(ج)	التجارة
(د)	الدواوين	(د)	السياحة
س١٨	تحول الجيش الإسلامي إلى جيش نظامي في عهد الخليفة:	س٢٤	اعتنى المسلمون بـ لأنها المصدر الأول لغذاء الإنسان:
(أ)	عثمان بن عفان ؓ	(أ)	المعادن
(ب)	علي بن أبي طالب ؓ	(ب)	التجارة
(ج)	عمر بن الخطاب ؓ	(ج)	الصناعة
(د)	أبو بكر الصديق ؓ	(د)	الزراعة
س١٩	من منجزات المسلمين في علم الرياضيات:	س٢٥	تعد صناعة الأدوية من الصناعات:
(أ)	تنقية المعادن	(أ)	المعدنية
(ب)	دراسة الضوء والصوت	(ب)	الغذائية
(ج)	اختراع الصفر	(ج)	الكيميائية
(د)	اكتشاف الكثافة	(د)	الزجاجية
س٢٠	نقل العلوم من لغتها الأصلية إلى اللغة العربية:	س٢٦	تنتمي مجموعتنا الشمسية لمجرة:
(أ)	الحضارة	(أ)	زهرة الشمس
(ب)	الفنون	(ب)	درب التبانة
(ج)	الترجمة	(ج)	المذنب
(د)	العمارة	(د)	العين
س٢١	من أشهر المساجد التي بناها المسلمون في دمشق:	س٢٧	يبلغ عدد كواكب المجموعة الشمسية:
(أ)	مسجد عقبة بن نافع	(أ)	خمسة
(ب)	المسجد الأموي	(ب)	سبعة
(ج)	المسجد الأقصى	(ج)	ثمانية
(د)	مسجد القبلتين	(د)	تسعة
س٢٢	اعتنى المسلمون ببناء القلاع والحصون:	س٢٨	أصغر كواكب المجموعة الشمسية:
(أ)	لتكون عواصم للدول الإسلامية	(أ)	زحل
(ب)	لأغراض اقتصادية	(ب)	عطارد
(ج)	لأغراض دينية	(ج)	المشتري
(د)	لحماية حدود الدولة	(د)	الأرض

تابع الأسئلة

س ٢٩	ترتيب الأرض من حيث القرب من الشمس:	س ٣٥	لا يشعر سكان الأرض بحركتها بسبب:
(أ)	الأول	(أ)	كبر حجمها
(ب)	الثاني	(ب)	ثقلها
(ج)	الثالث	(ج)	عدم انتظام حركتها
(د)	الرابع	(د)	استدارتها
س ٣٠	أول رائد فضاء عربي مسلم صاحب السمو الملكي الأمير بن سلمان بن عبد العزيز:	س ٣٦	سبب تعاقب الليل والنهار:
(أ)	تركي	(أ)	دوران الأرض حول الشمس
(ب)	بندر	(ب)	ميل محور الأرض
(ج)	سلطان	(ج)	دوران الأرض حول نفسها
(د)	أحمد	(د)	ثبات ميل محور الأرض
س ٣١	الخط الوهمي المستقيم الواصل بين القطبين والمار بمركز الأرض يعرف بـ :	س ٣٧	يحدث الشتاء في شمال الكرة الأرضية عندما تتعامد أشعة الشمس على:
(أ)	القطر القطبي	(أ)	مدار الجدي
(ب)	خط الاستواء	(ب)	خط الاستواء
(ج)	خط جرينتش	(ج)	الدائرة القطبية الشمالية
(د)	القطر الاستوائي	(د)	مدار السرطان
س ٣٢	عدد خطوط الطول:	س ٣٨	أصغر قارات العالم مساحة:
(أ)	٩٠ خطأ	(أ)	آسيا
(ب)	١٨٠ خطأ	(ب)	أستراليا
(ج)	٢٧٠ خطأ	(ج)	أوروبا
(د)	٣٦٠ خطأ	(د)	إفريقيا
س ٣٣	تفيد خطوط الطول في تحديد:	س ٣٩	يغطي الماء سطح الأرض بنسبة:
(أ)	الأقاليم المناخية	(أ)	٧١ %
(ب)	خط الاستواء	(ب)	٧٣ %
(ج)	الزمن	(ج)	٢٩ %
(د)	الارتفاع والانخفاض	(د)	٦٣ %
س ٣٤	درجة مدار الجدي:	س ٤٠	أكبر المحيطات مساحة:
(أ)	٢٣,٥° جنوباً	(أ)	المحيط الهندي
(ب)	٢٣,٥° شمالاً	(ب)	المحيط الهادئ
(ج)	٦٦,٥° شمالاً	(ج)	المحيط الأطلسي
(د)	٤٠° جنوباً	(د)	المحيط الجنوبي

انتهت الأسئلة

معلم المادة :

يوسف خضر الرحيلي

أسئلة اختبار الفصل الدراسي الأول (الدور الأول) لعام ١٤٤٦ هـ

رقم الجلوس:

الصف:

اسم الطالب: نموذج الإجابة

40

40

12

12

أولاً: أسئلة الصواب والخطأ من (1) إلى (12):

ظل (أ) للعبارة الصحيحة و (ب) للعبارة الخاطئة فيما يلي:

(✓)	س1	شبه الجزيرة العربية مهد الحضارات ومنها انطلقت الهجرات.
(✗)	س2	عرفت الكتابة (الهيروغليفية) في الحضارة الصينية.
(✗)	س3	يعد الأساس اللغوي هو الأساس الأول للحضارة الإسلامية.
(✓)	س4	استفاد المسلمون من علوم الحضارات السابقة في مختلف الجوانب.
(✗)	س5	اعتنى المسلمون بعلم التاريخ لارتباطه بالعلوم الشرعية.
(✓)	س6	ارتبط الفن الإسلامي بالدين ارتباطاً وثيقاً.
(✗)	س7	لم تكن للعرب معرفة بالتجارة قبل الإسلام.
(✗)	س8	الكوكب جسم كروي صلب يشع ضوءاً.
(✗)	س9	شكل الأرض كامل الاستدارة.
(✓)	س10	حركة الأرض حول محورها تسمى بالحركة اليومية.
(✓)	س11	دوائر العرض عبارة عن دوائر كاملة متوازية وغير متساوية في الطول.
(✓)	س12	تتركز اليابسة في نصف الكرة الأرضية الشمالي.

28

28

ثانياً: أسئلة الاختيار من متعدد من (13) إلى (40):

اختر الإجابة الصحيحة من بين البدائل فيما يلي ثم ظلها في ورقة الإجابة:

س13	أول الشعوب التي سكنت جنوب العراق:	س15	انتهى العصر الفرعوني على يد:
(أ)	الأكاديون	(أ)	السومريون
(ب)	الكلدانيون	(ب)	الفرس
(ج)	الآشوريون	(ج)	الرومان ①
(د)	السومريون ①	(د)	العرب
س14	قامت حضارة بلاد الرافدين على ضفاف نهر:	س16	من النظم السياسية في الإسلام:
(أ)	دجلة والفرات ①	(أ)	الوزارة ①
(ب)	النيل الأبيض والأزرق	(ب)	الإمارة
(ج)	الأصفر ومنطقة اليانغتسي	(ج)	الشرطة
(د)	سيحون وجيحون	(د)	القضاء

تابع الأسئلة



(1)

17س	تعني المعاونة في تحمل أعباء الحكم:	23س	العناية بتوفير وسائل الري ببناء السدود وإقامة الجسور من مظاهر العناية بـ :
(أ)	الخلافة	(أ)	الزراعة 1
(ب)	الوزارة 1	(ب)	الصناعة
(ج)	البيعة	(ج)	التجارة
(د)	الدواوين	(د)	السياحة
18س	تحول الجيش الإسلامي إلى جيش نظامي في عهد الخليفة:	24س	اعتنى المسلمون بـ لأنها المصدر الأول لغذاء الإنسان:
(أ)	عثمان بن عفان τ	(أ)	المعادن
(ب)	علي بن أبي طالب τ	(ب)	التجارة
(ج)	عمر بن الخطاب τ 1	(ج)	الصناعة
(د)	أبو بكر الصديق τ	(د)	الزراعة 1
19س	من منجزات المسلمين في علم الرياضيات:	25س	تعد صناعة الأدوية من الصناعات:
(أ)	تنقية المعادن	(أ)	المعدنية
(ب)	دراسة الضوء والصوت	(ب)	الغذائية
(ج)	اختراع الصفر 1	(ج)	الكيميائية 1
(د)	اكتشاف الكثافة	(د)	الزجاجية
20س	نقل العلوم من لغتها الأصلية إلى اللغة العربية:	26س	تنتمي مجموعة عنا الشمسية لمجرة:
(أ)	الحضارة	(أ)	زهرة الشمس
(ب)	الفنون	(ب)	درب التبانة 1
(ج)	الترجمة 1	(ج)	المنذب
(د)	العمارة	(د)	العين
21س	من أشهر المساجد التي بناها المسلمون في دمشق:	27س	يبلغ عدد كواكب المجموعة الشمسية:
(أ)	مسجد عقبة بن نافع	(أ)	خمسة
(ب)	المسجد الأموي 1	(ب)	سبعة
(ج)	المسجد الأقصى	(ج)	ثمانية 1
(د)	مسجد القبليتين	(د)	تسعة
22س	اعتنى المسلمون ببناء القلاع والحصون:	28س	أصغر كواكب المجموعة الشمسية:
(أ)	لتكون عواصم للدول الإسلامية	(أ)	زحل
(ب)	لأغراض اقتصادية	(ب)	عطارد 1
(ج)	لأغراض دينية	(ج)	المشتري
(د)	لحماية حدود الدولة 1	(د)	الأرض

تابع الأسئلة

س29	ترتيب الأرض من حيث القرب من الشمس:	س35	لا يشعر سكان الأرض بحركتها بسبب:
(أ)	الأول	(أ)	كبر حجمها 1
(ب)	الثاني	(ب)	ثقلها
(ج)	الثالث 1	(ج)	عدم انتظام حركتها
(د)	الرابع	(د)	استدارتها
س30	أول راند فضاء عربي مسلم صاحب السمو الملكي الأمير بن سلمان بن عبد العزيز:	س36	سبب تعاقب الليل والنهار:
(أ)	تركي	(أ)	دوران الأرض حول الشمس
(ب)	بندر	(ب)	ميل محور الأرض
(ج)	سلطان 1	(ج)	دوران الأرض حول نفسها 1
(د)	أحمد	(د)	ثبات ميل محور الأرض
س31	الخط الوهمي المستقيم الواصل بين القطبين والمار بمركز الأرض يعرف بـ:	س37	يحدث الشتاء في شمال الكرة الأرضية عندما تتعامد أشعة الشمس على:
(أ)	القطر القطبي 1	(أ)	مدار الجدي 1
(ب)	خط الاستواء	(ب)	خط الاستواء
(ج)	خط جرينتش	(ج)	الدائرة القطبية الشمالية
(د)	القطر الاستوائي	(د)	مدار السرطان
س32	عدد خطوط الطول:	س38	أصغر قارات العالم مساحة:
(أ)	90 خطأ	(أ)	آسيا
(ب)	180 خطأ	(ب)	أستراليا 1
(ج)	270 خطأ	(ج)	أوروبا
(د)	360 خطأ 1	(د)	إفريقيا
س33	تفيد خطوط الطول في تحديد:	س39	يغطي الماء سطح الأرض بنسبة:
(أ)	الأقاليم المناخية	(أ)	71 % 1
(ب)	خط الاستواء	(ب)	73 %
(ج)	الزمن 1	(ج)	29 %
(د)	الارتفاع والانخفاض	(د)	63 %
س34	درجة مدار الجدي:	س40	أكبر المحيطات مساحة:
(أ)	23,5° جنوباً 1	(أ)	المحيط الهندي
(ب)	23.5° شمالاً	(ب)	المحيط الهادئ 1
(ج)	66.5° شمالاً	(ج)	المحيط الأطلسي
(د)	40° جنوباً	(د)	المحيط الجنوبي

انتهت الأسئلة

معلم المادة :

يوسف خضر الرحيلي

(3)

السؤال الأول / اختار الإجابة الصحيحة فيما يلي بوضع دائرة حولها:

1	الأساس الأول للحضارة الإسلامية وأصلها الذي اعتمدت عليه :	أ	الأساس الديني	ب	الأساس اللغوي	ج	الأساس العلمي
2	من فوائد خطوط الطول ودوائر العرض تحديد الموقع وتحديد :	أ	الارتفاع والانخفاض	ب	الزمن والمناخ	ج	المسافة والسرعة
3	الحوار الذي يجري بين أبناء الوطن لمناقشة القضايا التي تفيد الوطن هو الحوار :	أ	التربوي	ب	الرياضي	ج	الوطني
4	هم الجند الذين يعتمد عليهم الخليفة في حفظ الأمن ليلاً :	أ	العسس	ب	الشرطة	ج	الجنود
5	أول رائد فضاء مسلم عربي الأمير :	أ	خالد بن سعود	ب	سلطان بن سلمان	ج	سلمان بن فهد
6	يعد المسلمون أول من أدخل السكر في تحلية بعض :	أ	الماكولات	ب	المشروبات	ج	الأدوية
7	اعتنى المسلمون بعلم الفلك وذلك لارتباطه بالعلوم :	أ	الشرعية	ب	العربية	ج	الطبيعية
8	من فوائد الحوار :	أ	فهم الجانب المظلم	ب	فهم الآراء الأخرى	ج	فهم الأشياء القديمة
9	العوامل التي تسهم في قيام الحضارات المناخ و :	أ	الغابات والصحاري	ب	السهول والجبال	ج	الموقع والتضاريس
10	بني الصينيين سور الصين العظيم من أجل عدوهم الشرس :	أ	المغول	ب	الفرس	ج	الروم
11	ترتيب الأرض من حيث القرب من الشمس :	أ	الثاني	ب	الثالث	ج	الأول
12	يسهم التخطيط في بناء الشخصية الوطنية والتي تعد من أهداف رؤية :	أ	2032	ب	2031	ج	2030
13	عدد خطوط الطول :	أ	360 خطاً	ب	180 خطاً	ج	270 خطاً
14	من نتائج حركة الأرض حول الشمس :	أ	الفصول الأربعة	ب	اختلاف الزمن	ج	انحراف الاجسام
15	قسمت الأرض إلى مناطق حرارية وفقاً لاختلاف زاوية :	أ	انحراف الرياح	ب	أشعة الشمس	ج	ميلان الأرض

تابع الأسئلة في الصفحة التالية



السؤال الثاني/ ضع علامة (√) أمام العبارة الصحيحة وعلامة (x) أمام العبارة غير الصحيحة:

15

1. استفاد المسلمون من علوم الحضارات القديمة .()
2. اهتم علم التفسير بمعاني آيات القرآن الكريم .()
3. اقتصرت الزراعة في البلاد الإسلامية على محصول واحد .()
4. بناء المسلمين المدن الإسلامية لأغراض عسكرية فقط .()
5. ارتبط الفن الإسلامي بالدين الإسلامي ارتباطاً وثيقاً .()
6. الكواكب القريبة للشمس شديدة الحرارة بعكس الكواكب البعيدة منها .()
7. شكل الأرض كامل الاستدارة لان أبعاده متساوية .()
8. خطوط الطول ودوائر العرض شبكة حقيقته ترسم على سطح الأرض .()
9. لا نشعر بحركة الأرض لأنها تدور وفق نظام محكم دقيق .()
10. تغمر مياه المحيطات أغلب مساحة سطح الكرة الأرضية .()
11. الناجحون في حياتهم لا يخططون .()
12. رفع الصوت يساعد على قبول الرأي الآخر .()
13. من أسس نجاح الحوار تحديد الموضوع للحوار والهدف منه .()
14. في القرآن الكريم آيات تدل على ثقافة الحوار في الإسلام .()
15. إنجاز الأعمال في وقتها من فوائد تنظيم الوقت .()

تابع الأسئلة في الصفحة التالية



السؤال الثالث / ضع رقم المصطلح المناسب أمام الجملة المناسبة لها:

الجملة	الرقم	المصطلح	الرقم
وضعوا أسس علم الرياضيات فاستخدموا الترقيم واخترعوا الصفر		التبانة	1
مدن صغيرة محصنة تحتوى على أماكن لإقامة و المرافق العامة		الأجسام الكونية	2
تفاعل مجموعات البشرية مع البيئة المحيطة بهم		الوقت	3
تنتمي مجموعتنا الشمسية إلى مجرة درب		التوازن	4
تعد الكويكبات والشهب والنيازك والمذنبات من		القلاع و الحصون	5
يقوم التخطيط على أساس تنظيم		الحوار	6
تنظيم الوقت بين الدراسة والأسرة يحقق		الحضارة	7
تبادل الحديث بين طرفين أو أكثر في قضية محددة يطلق عليه بـ		المسلمون	8

السؤال الرابع / للأرض حركتان هما :

2

1.

2.

انتهت الأسئلة .. مع تمنياتي لكم بالتوفيق والسداد ..

معلم المادة : مهند

محمد الطويرقي

نموذج الاجابة

السؤال الاول / اختار الإجابة الصحيحة فيما يلي بوضع دائرة حولها:

15

1	الأساس الأول للحضارة الإسلامية وأصلها الذي اعتمدت عليه :	أ	الأساس الديني	ب	الأساس اللغوي	ج	الأساس العلمي
2	من فوائد خطوط الطول ودوائر العرض تحديد الموقع وتحديد :	أ	الارتفاع والانخفاض	ب	الزمن والمناخ	ج	المسافة والسرعة
3	الحوار الذي يجرى بين أبناء الوطن لمناقشة القضايا التي تفيد الوطن هو الحوار :	أ	التربوي	ب	الرياضي	ج	الوطني
4	هم الجند الذين يعتمد عليهم الخليفة في حفظ الأمن ليلاً :	أ	العسس	ب	الشرطة	ج	الجنود
5	أول رائد فضاء مسلم عربي الأمير :	أ	خالد بن سعود	ب	سلطان بن سلمان	ج	سلمان بن فهد
6	يعد المسلمون أول من أدخل السكر في تحلية بعض :	أ	المأكولات	ب	المشروبات	ج	الأدوية
7	اعتنى المسلمون بعلم الفلك وذلك لارتباطه بالعلوم :	أ	الشرعية	ب	العربية	ج	الطبيعية
8	من فوائد الحوار :	أ	فهم الجانب المظلم	ب	فهم الآراء الأخرى	ج	فهم الأشياء القديمة
9	العوامل التي تسهم في قيام الحضارات المناخ و :	أ	الغابات والصحاري	ب	السهول والجبال	ج	الموقع والتضاريس
10	بني الصينيين سور الصين العظيم من أجل عدوهم الشرس :	أ	المغول	ب	الفرس	ج	الروم
11	ترتيب الأرض من حيث القرب من الشمس :	أ	الثاني	ب	الثالث	ج	الأول
12	يسهم التخطيط في بناء الشخصية الوطنية والتي تعد من أهداف رؤية :	أ	2032	ب	2031	ج	2030
13	عدد خطوط الطول :	أ	360 خطأ	ب	180 خطأ	ج	270 خطأ
14	من نتائج حركة الأرض حول الشمس :	أ	الفصول الأربعة	ب	اختلاف الزمن	ج	انحراف الاجسام
15	قسمت الأرض الى مناطق حرارية وفقاً لاختلاف زاوية :	أ	انحراف الرياح	ب	أشعة الشمس	ج	ميلان الأرض

تابع الأسئلة في الصفحة التالية



السؤال الثاني / ضع علامة (√) أمام العبارة الصحيحة وعلامة (x) أمام العبارة غير الصحيحة:

15

(✓)	1. استفاد المسلمون من علوم الحضارات القديمة
(✓)	2. اهتم علم التفسير بمعاني آيات القرآن الكريم
(✗)	3. اقتصرت الزراعة في البلاد الإسلامية على محصول واحد
(✗)	4. بناء المسلمين المدن الإسلامية لأغراض عسكرية فقط
(✓)	5. ارتبط الفن الإسلامي بالدين الإسلامي ارتباطاً وثيقاً
(✓)	6. الكواكب القريبة للشمس شديدة الحرارة بعكس الكواكب البعيدة منها
(✗)	7. شكل الأرض كامل الاستدارة لان أبعاده متساوية
(✗)	8. خطوط الطول ودوائر العرض شبكة حقيقته ترسم على سطح الأرض
(✓)	9. لا نشعر بحركة الأرض لأنها تدور وفق نظام محكم دقيق
(✓)	10. تغمر مياه المحيطات أغلب مساحة سطح الكرة الأرضية
(✗)	11. الناجحون في حياتهم لا يخططون
(✗)	12. رفع الصوت يساعد على قبول الرأي الآخر
(✓)	13. من أسس نجاح الحوار تحديد الموضوع للحوار والهدف منه
(✓)	14. في القرآن الكريم آيات تدل على ثقافة الحوار في الإسلام
(✓)	15. إنجاز الأعمال في وقتها من فوائد تنظيم الوقت

تابع الأسئلة في الصفحة التالية



السؤال الثالث / ضع رقم المصطلح المناسب أمام الجملة المناسبة لها:

الجملة	الرقم	المصطلح	الرقم
وضعوا أسس علم الرياضيات فاستخدموا الترقيم واخترعوا الصفر	٨	التبانة	1
مدن صغيرة محصنة تحوى على أماكن لإقامة و المرافق العامة	٥	الأجسام الكونية	2
تفاعل مجموعات البشرية مع البيئة المحيطة بهم	٧	الوقت	3
تنتمي مجموعتنا الشمسية إلى مجرة درب	١	التوازن	4
تعد الكويكبات والشهب والنيازك والمذنبات من	٢	القلاع و الحصون	5
يقوم التخطيط على أساس تنظيم	٣	الحوار	6
تنظيم الوقت بين الدراسة والأسرة يحقق	٤	الحضارة	7
تبادل الحديث بين طرفين أو أكثر في قضية محددة يطلق عليه بـ	٦	المسلمون	8

السؤال الرابع / للأرض حركتان هما :

2

.1

.2

انتهت الأسئلة .. مع تمنياتي لكم بالتوفيق والسداد ..

معلم المادة : مهند

محمد الطويرقي

الدرجة رقماً من 40	الدرجة كتابة
-----------------------	-----------------

المادة: الدراسات الاجتماعية
الصف: الأول المتوسط
الزمن: ساعة ونصف



المملكة العربية السعودية
وزارة التعليم
الإدارة العامة للتعليم منطقة الرياض
مدرسة صبحاء المتوسطة

الاجتبار النهائي لمادة الدراسات الاجتماعية الفصل الدراسي الأول لعام 1446 هـ

الاسم: رقم الجلوس:

اسم المصحح: أسامة الزهراني توقيع: المراجع: توقيع:

20

كهرالسؤال الأول : اختر الإجابة الصحيحة لكل من الخيارات التالية:

(1) ترتيب الأرض بالنسبة للشمس من حيث القرب هو

أ	الثالث	ب	الرابع	ج	الثامن
---	--------	---	--------	---	--------

(2) تعد صناعة الادوية من الصناعات:

أ	الكيميائية	ب	الغذائية	ج	الزجاجية
---	------------	---	----------	---	----------

(3) عدد خطوط الطول :

أ	360 خط	ب	460 خط	ج	560 خط
---	--------	---	--------	---	--------

(4) عدد دوائر العرض

أ	180	ب	280	ج	290
---	-----	---	-----	---	-----

(5) ينتج عن حركة الأرض حول محورها:

أ	ميل محورها	ب	تعاقب الليل والنهار	ج	حدوث الفصول الأربعة
---	------------	---	---------------------	---	---------------------

(6) ينتج عن حركة الأرض حول الشمس:

أ	مدار الجدي	ب	حدوث الفصول الأربعة	ج	تعاقب الليل و النهار
---	------------	---	---------------------	---	----------------------

(7) نجم غازي ملتهب يشع بالضوء والحرارة:

أ	القمر	ب	الشمس	ج	كوكب الزهرة
---	-------	---	-------	---	-------------

(8) تقع مجموعتنا الشمسية في مجرة درب:

أ	السلطانة	ب	التبانة	ج	السافانا
---	----------	---	---------	---	----------

(9) العوامل التي تسهم في قيام الحضارات :

أ	الصحاري	ب	البيئة	ج	الموقع والتضاريس والمناخ
---	---------	---	--------	---	--------------------------

(10) اقرب الكواكب للشمس هو:

أ	زحل	ب	الزهرة	ج	عطارد
---	-----	---	--------	---	-------

السؤال الثاني: ضع علامة صح امام العبارة الصحيحة وعلامة خطأ امام العبارة الخاطئة:

1	دوائر العرض عبارة عن دوائر كاملة متوازية وغير متساوية الطول.
2	يعد الأساس اللغوي هو الأساس الأول للحضارة الإسلامية.
3	حركة الأرض حول محورها تسمى بالحركة اليومية.
4	ارتبط الفن الإسلامي بالدين ارتباطاً وثيقاً.
5	تعرف خطوط الطول ودوائر العرض بمسمى الاحداثيات
6	تعتني رؤية 2030 بتحقيق شخصية وطنية تحرص على التخطيط.
7	من الأمثلة على العمارة الإسلامية بناء المساجد و المدن والحصون والقلاع.
8	أثرت اللغة العربية في الحضارة الإسلامية
9	الانسان لا يشعر بحركة الأرض بسبب كبر حجمها.
10	يبدأ فصل الشتاء في (22) من شهر ديسمبر

السؤال الثالث: أكمل الفراغات الاتية :

(الحضارة - المحيط - الوزارة - التخطيط - القضاء)

الاجابة	الجملة
	(1) هي الجهود البشرية المادية والمعنوية التي قام بها الإنسان على مر العصور.
	(2) هو مسطح واسع وعميق من المياه المالحة يحيط بكتل اليابسة.
	(3) تعني بمعاونة في تحمل أعباء الحكم
	(4) هو الاعداد المنظم لتحديد المهام والأعمال المستقبلية
	(5) هو علم تعيين القضاة للفصل بين الناس في الخصومات

انتهت الأسئلة ,, أصدق الدعوات للجميع بالتوفيق والنجاح

الدراسات الاجتماعية	المادة	1445هـ	العام الدراسي
ساعتان	الزمن	الأول	الفصل الدراسي
الأول متوسط	الصف	الأول	الدور

اسم الطالب	رقم الجلوس
------------	------------

بيان تقدير الدرجات						
المراجع		المصحح		الدرجة المستحقة		رقم السؤال
التوقيع	الاسم	التوقيع	الاسم	كتابة	رقماً	
						1
						2
						3
						4
راجعه:		جمعه:				المجموع

(12 درجة)

السؤال الأول :

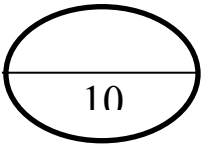
أ) اختر الرقم المناسب من المجموعة الأولى ثم ضعه أمام ما يناسب من المجموعة الثانية ؟

22

المجموعة الثانية		المجموعة الأولى	
نبيئون		أكبر قارات العالم	1
الزراعة		أكبر محيطات العالم	2
الهادي		أقرب كوكب للشمس	3
آسيا		أبعد كوكب عن الشمس	4
الوزارة		المصدر الأول لغذاء الانسان	5
المشتري		تعني المعاونة في تحمل أعباء الحكم	6

ب- ضع علامة (صح) أمام الإجابة الصحيحة وعلامة (خطأ) أمام الإجابة الخاطئة : (10 درجات)

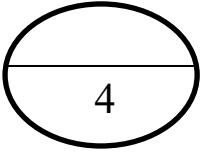
- 1- الحضارة هي تفاعل المجموعات البشرية مع البيئات المحيطة بهم { }
- 2- الموقع والتضاريس من العوامل التي تسهم في قيام الحصارات { }
- 3- نشأت حضارة بلاد الرافدين في سوريا { }
- 4- استمرت حضارة مصر القديمة 3000 سنة { }
- 5- غزا الرومان مصر عام 30 ق.م { }
- 6- أطول الحضارات زمنًا هي الحضارة الفرعونية { }
- 7- من أسس الحضارة الإسلامية الأساس السياسي و الأساس اللغوي { }
- 8- الامارة هي تعيين العمال والولاية على أجزاء من البلاد الإسلامية { }
- 9- من العلماء المسلمين في علم الفيزياء جابر بن حيان { }
- 10- من أشهر علماء النحو سيبويه { }



السؤال الثاني:

اختر الاجابة الصحيحة بوضع دائرة على الحرف المناسب في الخيارات ؟

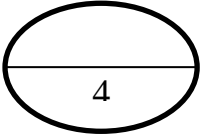
1/ هم الجند الذين يعتمد عليهم أو الوالي في استتباب الامن وحفظ النظام والقبض على الجناة :							
أ	الشرطة	ب	العسس	ج	الجيش	د	القضاة
2 / هم رجال يتولون حفظ الأمن ليلاً:							
أ	القضاة	ب	الشرطة	ج	العسس	د	الجيش
3 / من العلوم الطبيعية في الحضارة الاسلامية:							
أ	الفزياء	ب	الكيمياء	ج	الرياضيات	د	جميع ما سبق
4 / أول من رسم الخرائط وأصبحت أساسًا لخرائط العالم هو:							
أ	حسان بن النعمان	ب	الادريسي	ج	ابوالريحان البيروني	د	بن حنبل
5 / من الاجسام الكونية :							
أ	الشهب	ب	النيازك	ج	المذنبات	د	جميع ما سبق



السؤال الثالث :

أكمل الفراغات التالية :

1. الكواكب القريبة من الشمس شديدة
2. الكواكب البعيدة عن الشمس شديدة
3. أول رائد فضاء عربي مسلم هو
4. الخط الرئيسي لخطوط الطول هو



السؤال الرابع :

أجب عما يلي :

عدد أربعة من أهم دوائر العرض ؟

- 1
- 2
- 3
- 4