

تم تحميل وعرض المادة من



موقع مادتي هو موقع تعليمي يعمل على مساعدة المعلمين والطلاب وأولياء الأمور في تقديم حلول الكتب المدرسية والاختبارات وشرح الدروس والملاحظات والتحضير وتوزيع المنهج لكل المراحل الدراسية بشكل واضح وسهل مجاناً بتصفح وعرض مباشر أونلاين وتحميل على موقع مادتي

حمل تطبيق مادتي ليصلك كل جديد



	المادة	الرعاية الصحية	العام الدراسي	١٤٤٦ هـ	الدرجة	
٢٠	الصف	ثالث ثانوي مسار الصحة والحياة				
نموذج رقم (١)	اختبار الفترة					
()	اسم الطالب	الصف الأول				

السؤال الأول / ظلّل حرف الإجابة الصحيحة من العمود (ب) بما يناسبها من العمود (أ) في النموذج المرفق : درجتان

رقم السؤال	العمود (أ)	حرف الإجابة	العمود (ب)
1	مجموعة خاصة من الأدوات المنحنية أو المستقيمة تكون مسننة النهايات تستخدم لضغط الاوعية الدموية	A ()	الملف الصحي الموحد
2	يستمع الطبيب إلى الأصوات الصادرة من داخل جسم المريض	B ()	حفظ الملفات
3	الترتيب المنهجي أو المنظم للأوراق أو البطاقات بحيث يكون الرجوع اليها سهلا في المستقبل	C ()	الاصغاء
4	عبارة عن منصة صحية رقمية توفر معلومات محدثة للمرضى	D ()	المرفقات

السؤال الثاني : ظلل حرف (ص) إذا كانت الإجابة صحيحة، وحرف (خ) إذا كانت العبارة خاطئة في النموذج المرفق : (٦ درجات)

6	الحالة الدماغية التي يشير اليها محيط رأس الرضيع فوق الرتبة المئوية ٩٥ هو تراكم السوائل حول الدماغ
7	وضعية الركبة والصدر تستخدم في الفحوصات المهبلية والقسطرة البولية
8	لا يمكن الإفصاح عن المعلومات الطبية السرية ما لم يوقع المريض على تصريح بالإفصاح عن المعلومات لشركات التأمين
9	عند تعبئة استمارة التأمين ، ما عليك سوى تضمين معلومات موجزة مختصرة
10	توفر الهيئة العامة السعودية للغذاء والدواء قوائم بالأدوية المتوفرة في المملكة العربية السعودية
11	السجل المغلق هو سجل لمريض توفي ، أو نقل إلى طبيب أو منشأة أخرى

السؤال الثالث : أذكر اثنين من المعلومات التي يجب جمعها قبل إعطاء أي دواء ؟ (٢ درجات)

-١
-٢

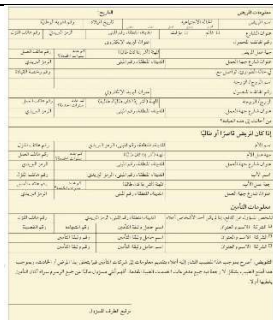
(٥ درجات كل فقرة نصف درجة)

السؤال الرابع / أختار الإجابة الصحيحة في ما يلي ؟

١- تستخدم هذه الوضعية في لتسهيل التنفس والتوتر وتشجيع التصريف ولفحص الرأس والرقبة :			
أ/ وضعية فاوولر	ب/ وضعية سيمز	ج/ وضعية الركبة	د/ وضعية الاستلقاء
٢- يستخدم الطبيب يديه أو أصابعه ليشعر بنواحي الجسم المختلفة :			
أ/ الجس	ب/ الملاحظة	ج/ القرع	د/ الإصغاء
٣- من طرق إعطاء الأدوية ويطبق مباشرة على سطح الجلد ::			
أ/ فموي	ب/ شرجي	ج/ موضعي	د/ الاستنشاق
٤- من أنواع الحقن وتكون الحقنة تحت الطبقة العلوية من الجلد ومن امثلتها اختبار التحسس :			
أ/ تحت الجلد	ب/ عضلي	ج/ وريدي	د/ داخل الادمة
٥- الكبسولة و الأقراص و قرص المص والمغلف المعوي أمثلة على اشكال الأدوية :			
أ/ السوائل	ب/ المواد لصلبة	ج/ المواد شبه الصلبة	د/ المواد الغازية
٦- هو سجل قيد الاستخدام حاليا لان المستشفى تعين المريض في الوقت الراهن:			
أ/ السجل النشط	ب/ السجل المغلق	ج/ السجل غير النشط	د/ السجل المهمل
٧- أنظمة السجلات الصحية الإلكترونية تعرف ب :			
أ/ بوابات المرضى	ب/ البريد الصوتي	ج/ خدمات الرد	د/ المجيب الآلي
٨- خطاب يستخدم لإعلام المريض بموعد محدد ويجب تضمين جميع المعلومات بما فيها الوقت والتاريخ واليوم :			
أ/ خطاب الاستدعاء	ب/ خطاب الموعد	ج/ خطاب الاستشارة	د/ خطاب الاستفسار
٩- سجل يومي لجميع المرضى المعانين وجميع الرسوم المستحقة وجميع المدفوعات المستلمة :			
أ/ اسجل الحساب	ب/ قسيمة الدفع	ج/ البيان اليومي	د/ بطاقة الحساب
١٠- لفزر المكالمات يجب عليك الحصول على معلومات محددة وتشمل:			
أ/ اسم المتصل	ب/ رقم المريض	ج/ تاريخ الميلاد	د/ جميع ما سبق

(٤ درجات واحدة)

الجانب العملي / أ- ماذا تمثل الأشكال الموضحة ادناه ؟



(درجة واحدة)

ب/ ما المقصود ب ROA ؟

المادة	الرعاية الصحية	العام الدراسي	١٤٤٦ هـ	الدرجة	
الصف	ثالث ثانوي مسار الصحة والحياة				٢٠
اختبار الفترة					
نموذج رقم (١)					

اسم الطالب		الصف الأول	()
------------	--	------------	-----

نموذج الإجابة

السؤال الأول / ظل حرف الإجابة الصحيحة من العمود (ب) بما يناسبها من العمود (أ) في النموذج المرفق : درجتان

رقم السؤال	العمود (أ)	حرف الإجابة	العمود (ب)
1	مجموعة خاصة من الأدوات المنحنية أو المستقيمة تكون مسننة النهايات تستخدم لضغط الاوعية الدموية	A (4)	الملف الصحي الموحد
2	يستمع الطبيب إلى الأصوات الصادرة من داخل جسم المريض	B (3)	حفظ الملفات
3	الترتيب المنهجي أو المنظم للأوراق أو البطاقات بحيث يكون الرجوع اليها سهلاً في المستقبل	C (2)	الاصغاء
4	عبارة عن منصة صحية رقمية توفر معلومات محدثة للمرضى	D (1)	المرفقات

السؤال الثاني : ظل حرف (ص) إذا كانت الإجابة صحيحة، وحرف (خ) إذا كانت العبارة خاطئة في النموذج المرفق : (٦ درجات)

6	الحالة الدماغية التي يشير اليها محيط رأس الرضيع فوق الرتبة المئوية ٩٥ هو تراكم السوائل حول الدماغ	صح
7	وضعية الركبة والصدر تستخدم في الفحوصات المهبلية والقسطرة البولية	خطأ
8	لا يمكن الإفصاح عن المعلومات الطبية السرية ما لم يوقع المريض على تصريح بالإفصاح عن المعلومات لشركات التأمين	صح
9	عند تعبئة استمارة التأمين ، ما عليك سوى تضمين معلومات موجزة مختصرة	خطأ
10	توفر الهيئة العامة السعودية للغذاء والدواء قوائم بالأدوية المتوفرة في المملكة العربية السعودية	صح
11	السجل المغلق هو سجل لمريض توفي ، أو نقل إلى طبيب أو منشأة أخرى	خطأ

السؤال الثالث : أذكر اثنين من المعلومات التي يجب جمعها قبل إعطاء أي دواء ؟ (٢ درجات)

- ١- عمل الدواء
- ٢- كيفية الحصول عليه
- ٣- استخدامات الدواء
- ٤- الجرعة

ممكن تكون الإجابة غير هذه النقاط صفحة ٢٢٥ - ٢٢٦


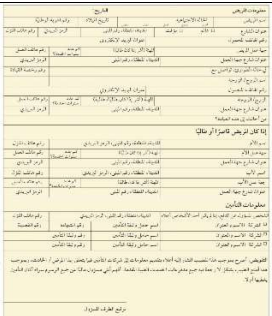


(٥ درجات كل فقرة نصف درجة)

السؤال الرابع / أختار الإجابة الصحيحة في ما يلي ؟

١- تستخدم هذه الوضعية في لتسهيل التنفس والتوتر وتشجيع التصريف ولفحص الرأس والرقبة :			
أ/ وضعية فاوولر	ب/ وضعية سيمز	ج/ وضعية الركبة	د/ وضعية الاستلقاء
٢- يستخدم الطبيب يديه أو أصابعه ليشعر بنواحي الجسم المختلفة :			
أ/ الجبس	ب/ الملاحظة	ج/ القرع	د/ الإصغاء
٣- من طرق إعطاء الأدوية ويطبق مباشرة على سطح الجلد ::			
أ/ فموي	ب/ شرجي	ج/ موضعي	د/ الاستنشاق
٤- من أنواع الحقن وتكون الحقنة تحت الطبقة العلوية من الجلد ومن امثلتها اختبار التحسس :			
أ/ تحت الجلد	ب/ عضلي	ج/ وريدي	د/ داخل الادمة
٥- الكبسولة و الأقراص و قرص المص والمغلف المعوي أمثلة على اشكال الأدوية :			
أ/ السوائل	ب/ المواد لصلبة	ج/ المواد شبه الصلبة	د/ المواد الغازية
٦- هو سجل قيد الاستخدام حاليا لان المستشفى تعين المريض في الوقت الراهن:			
أ/ السجل النشاط	ب/ السجل المغلق	ج/ السجل غير النشاط	د/ السجل المهمل
٧- أنظمة السجلات الصحية الإلكترونية تعرف ب :			
أ/ بوابات المرضى	ب/ البريد الصوتي	ج/ خدمات الرد	د/ المجيب الآلي
٨- خطاب يستخدم لإعلام المريض بموعد محدد ويجب تضمين جميع المعلومات بما فيها الوقت والتاريخ واليوم :			
أ/ خطاب الاستدعاء	ب/ خطاب الموعد	ج/ خطاب الاستشارة	د/ خطاب الاستفسار
٩- سجل يومي لجميع المرضى المعانين وجميع الرسوم المستحقة وجميع المدفوعات المستلمة :			
أ/ اسجل الحساب	ب/ قسيمة الدفع	ج/ البيان اليومي	د/ بطاقة الحساب
١٠- لفزر المكالمات يجب عليك الحصول على معلومات محددة وتشمل:			
أ/ اسم المتصل	ب/ رقم المريض	ج/ تاريخ الميلاد	د/ جميع ما سبق

(٤ درجات واحدة)

الجانب العملي / أ- ماذا تمثل الأشكال الموضحة ادناه ؟

			
أدوات إزالة الغرز	استمارة معلومات المريض	جهاز تخطيط القلب	وضعية الاستلقاء

(درجة واحدة)

ب/ ما المقصود ب ROA ؟

أضيفت للحساب

السؤال الأول: (أ) اختاري الإجابة الصحيحة فيما يلي:

1	عادة مايشير أي محيط رأس اعلى من الرتبة المئوية 95 الى وجود	أ قصور القلب	ب استسقاء الرأس	ج صغر الدماغ	د تورم
2	الموازين المترية تقيس بالكيلوجرام وقيمة اصغر تدريجة فيها هي	أ ٠.١ كغ	ب ١ كغ	ج اجرام	د ٠.٥ كغ
3	الوضعية المستخدمة في فحص او علاج الظهر والعمود الفقري هي وضعية	أ سمير	ب الإنكباب على البطن	ج الاستلقاء	د الركبة - الصدر
4	أداة لقياس التوتر او الضغط داخل العين هي	أ مقياس ضغط العين	ب منظار العين	ج الملقاط	د المنظار
5	مجموعة من الأدوات تستخدم لضغط الاوعية الدموية لإيقاف النزف او الإمساك بالأنسجة هي	أ المشارط	ب المرقات	ج المبادعات	د الابر
6	تنشأ النبضة في	أ العقدة الجيبية الأذينية	ب الصمام المطرالي	ج الأذين الأيسر	د الشريان الأورطي

(ب) اختاري من المجموعة (أ) الخاصية المناسبة لها من المجموعة (ب) وذلك بكتابة الرقم المناسب أمامها ؟

(أ)	الرقم	(ب)
(1) الدواء		تنكس في العمود الفقري ناجم عن تدهور الغضروف والعظم
(2) هشاشة العظام		السماح بفحص الحلق
(3) الحسر		عقار يستخدم للعلاج او الوقاية
(4) خافض اللسان		قصر النظر
		بعد النظر



السؤال الثاني :

أ) أكمل الفراغات التالية بما يناسبها:

- 1) من المعلومات الدوائية التي يلزم الحصول عليها من مئدر موثوق قبل إعطاء الدواء
- 2) من طرق الحقن و.....
- 3) اثناء ECG تحدث الموجة p
.....
- 4) من الصحيحات الستة هي و.....

ب) قارني بين كل مما يلي حسب أوجه المقارنة الموضحة :

أوجه المقارنة	وضعية سيمز	وضعية فاوولر
الاستخدام		
طريقة الطبيب	الجس	القرع

انتهت الأسئلة ، أتمنى لك دوام التوفيق

1	محيط الرأس الطبيعي لطفل حديث الولادة		
أ	30-25 سم	ب	36-32 سم
ج	45-40 سم	د	55-50 سم

2	الطريقة الصحيحة لقياس الطول باستخدام شريط القياس		
أ	من الركبة إلى الرأس	ب	من الخصر إلى القدم
ج	من الكتف إلى الركبة	د	من الرأس إلى أخمص القدمين

3	ما القياسات الثلاثة التي تؤخذ بانتظام للرضيع		
أ	الوزن والطول ومحيط الرأس	ب	الوزن ومحيط الرأس ومحيط الصدر
ج	الطول ومحيط الرأس ومحيط الصدر	د	الوزن ومحيط الرأس ومحيط الخصر

4	الجهاز المستخدم لقياس محيط الرأس		
أ	الميزان	ب	مقياس الحرارة
ج	شريط القياس	د	المسطرة

5	يشير محيط الرأس الأعلى من الرتبة المئوية 95 إلى وجود		
أ	حمى بالرأس	ب	إستسقاء الرأس
ج	صلع الرأس	د	صغر الرأس

5	من أسباب استسقاء الرأس (موه الرأس)		
أ	التهابات الحمل	ب	الاعلاق الباكر لليوافيخ الدماغية
ج	عيوب وراثية	د	التهاب السحايا الجرثومي

6	زيادة الضغط داخل الجمجمة وتلف الدماغ عند الرضع ينشأ عن		
أ	صغر الرأس	ب	موه الرأس
ج	صلع الرأس	د	صداع الدماغ

7	تعد من أسباب صغر الدماغ عدا		
أ	التهابات الحمل	ب	الأورام
ج	العيوب الوراثية	د	الاعلاق الباكر لليوافيخ الدماغية

8	يُقاس الوزن بشكل متكرر للبالغين لمراقبة كل ما يأتي عدا	
أ	ب	فقدان الوزن أو زيادته
جـ	د	أمراض الغدة الدرقية
		اضطرابات الجهاز الهضمي
		التهاب المفاصل

9	يكون محيط الرأس والصدر متساويين عند الأطفال في عمر	
أ	ب	6 شهور إلى سنة
جـ	د	3سنوات-4سنوات
		سنة إلى سنتين
		4سنوات-5سنوات

10	قيمة أصغر تدرجة في الموازين المترية	
أ	ب	0.01 كجم
جـ	د	0.1 كجم
		0.1 جم
		10 جم

11	يُقاس الطول بوحدة	
أ	ب	سم
جـ	د	سم ³
		سم ²
		مم

12	يُعتبر قياس محيط رأس الرضيع مهماً في الفحوصات الدورية	
أ	ب	لتحديد الطول المثالي
جـ	د	لتقدير الوزن
		لتقييم تطور نمو الدماغ
		لتحديد صحة السمع والبصر

13	يكون محيط الرأس أكبر من محيط الصدر عند الأطفال في عمر	
أ	ب	من سن الولادة إلى سنة
جـ	د	سنتين إلى 3سنوات
		سنة ونصف إلى سنتين
		3سنوات - 4 سنوات

14	عندما يكون هناك اشتباه في تكلس الغضروف الضلعي عند الرضع لا بد من قياس	
أ	ب	محيط الصدر
جـ	د	محيط الرأس
		محيط البطن
		الوزن

الصواب والخطأ:

1	تستخدم قياسات الطول والوزن لتحديد الزيادة أو النقص في الوزن والأمراض الناجمة عنهما.
2	يحتاج الأطفال الذكور والاناث رسوم بيانية واحدة لأنهم ينمون بأنماط ومعدلات متساوية.
3	تشير أنماط النمو غير الطبيعية إلى التغذية الجيدة أو الأمراض الوراثية.
4	معظم المرضى حساسون بشدة لتغيرات الوزن.
5	من المهم عند قياس الطول أن يقف المريض منتصباً قدر الإمكان.
6	عند قياس محيط رأس الرضيع يوضع شريط القياس على الجبين تحت الحاجبين.
7	يجب قياس الطول للرضع أثناء وجودهم في وضعية الاستلقاء.
8	الوزن المثالي للرضيع لا يعتمد على عمره.

المقالي : أكتب المصطلح العلمي الدال على العبارات التالية

- 1- تتكس في العمود الفقري ناجم عن تدهور في الغضروف والعظم ()
 2- تراكم السوائل حول الدماغ. ()

المزوجة :

العمود 2		العمود 1	
الطول والوزن ومحيط الرأس	أ	يستخدم لوزن المرضى غير القادرين على الوقوف	1
الطول والوزن ومحيط الصدر	ب	يستخدم لوزن المرضى المصابين بالغيوبة أو المشلولين	2
ميزان الكرسي المتحرك	جـ	القياسات التي تؤخذ بانتظام للرضيع	3
ميزان مدمج بالسرير	د	يقاس الطول بشكل متكرر عند البالغين للتحري عن	4
ميزان بعارضة موازنة	هـ	تراكم السوائل حول الدماغ	5
تتكس العمود الفقري	و		
استسقاء الرأس	ز		

علل لما يأتي

1- يحتاج الأطفال الذكور والاناث رسوم بيانية مختلفة للوزن والطول بالنسبة للعمر

.....

2- يُعتبر قياس محيط رأس الرضيع مهماً في الفحوصات الدورية

.....

3- قياس الطول بشكل متكرر عند البالغين

.....

نموذج الإجابة

الاختيار من متعدد:

1	محيط الرأس الطبيعي لطفل حديث الولادة		
أ	30-25 سم	ب	36-32 سم
ج	45-40 سم	د	55-50 سم

2	الطريقة الصحيحة لقياس الطول باستخدام شريط القياس		
أ	من الركبة إلى الرأس	ب	من الخصر إلى القدم
ج	من الكتف إلى الركبة	د	من الرأس إلى أخمص القدمين

3	ما القياسات الثلاثة التي تؤخذ بانتظام للرضيع		
أ	الوزن والطول ومحيط الرأس	ب	الوزن ومحيط الرأس ومحيط الصدر
ج	الطول ومحيط الرأس ومحيط الصدر	د	الوزن ومحيط الرأس ومحيط الخصر

4	الجهاز المستخدم لقياس محيط الرأس		
أ	الميزان	ب	مقياس الحرارة
ج	شريط القياس	د	المسطرة

5	يشير محيط الرأس الأعلى من الرتبة المئوية 95 إلى وجود		
أ	حمى بالرأس	ب	إستسقاء الرأس
ج	صلع الرأس	د	صغر الرأس

5	من أسباب استسقاء الرأس (موه الرأس)		
أ	التهابات الحمل	ب	الاغلاق الباكر لليوافيخ الدماغية
ج	عيوب وراثية	د	التهاب السحايا الجرثومي

6	زيادة الضغط داخل الجمجمة وتلف الدماغ عند الرضع ينشأ عن		
أ	صغر الرأس	ب	موه الرأس
ج	صلع الرأس	د	صداع الدماغ

7	تعد من أسباب صغر الدماغ عدا		
أ	التهابات الحمل	ب	الأورام
ج	العيوب الوراثية	د	الاغلاق الباكر لليوافيخ الدماغية

8	يُقاس الوزن بشكل متكرر للبالغين لمراقبة كل ما يأتي عدا	
أ	ب	فقدان الوزن أو زيادته
جـ	د	أمراض الغدة الدرقية
		اضطرابات الجهاز الهضمي
		التهاب المفاصل

9	يكون محيط الرأس والصدر متساويين عند الأطفال في عمر	
أ	ب	6 شهور إلى سنة
جـ	د	3 سنوات-4 سنوات
		سنة إلى سنتين
		4 سنوات-5 سنوات

10	قيمة أصغر تدرجة في الموازين المترية	
أ	ب	0.01 كجم
جـ	د	0.1 كجم
		0.1 جم
		10 جم

11	يُقاس الطول بوحدة	
أ	ب	سم
جـ	د	سم ³
		سم ²
		مم

12	يُعتبر قياس محيط رأس الرضيع مهماً في الفحوصات الدورية	
أ	ب	لتحديد الطول المثالي
جـ	د	لتقدير الوزن
		لتقييم تطور نمو الدماغ
		لتحديد صحة السمع والبصر

13	يكون محيط الرأس أكبر من محيط الصدر عند الأطفال في عمر	
أ	ب	من سن الولادة إلى سنة
جـ	د	سنتين إلى 3 سنوات
		سنة ونصف إلى سنتين
		3 سنوات - 4 سنوات

14	عندما يكون هناك اشتباه في تكلس الغضروف الضلعي عند الرضع لابد من قياس	
أ	ب	محيط الصدر
جـ	د	محيط الرأس
		محيط البطن
		الوزن

الصواب والخطأ:

1	تستخدم قياسات الطول والوزن لتحديد الزيادة أو النقص في الوزن والأمراض الناجمة عنهما.	✓
2	يحتاج الأطفال الذكور والاناث رسوم بيانية واحدة لأنهم ينمون بأنماط ومعدلات متساوية.	✗
3	تشير أنماط النمو غير الطبيعية إلى التغذية الجيدة أو الأمراض الوراثية.	✗
4	معظم المرضى حساسون بشدة لتغيرات الوزن.	✓
5	من المهم عند قياس الطول أن يقف المريض منتصباً قدر الإمكان.	✓
6	عند قياس محيط رأس الرضيع يوضع شريط القياس على الجبين تحت الحاجبين.	
7	يجب قياس الطول للرضع أثناء وجودهم في وضعية الاستلقاء.	
8	الوزن المثالي للرضيع لا يعتمد على عمره.	

المقالي : أكتب المصطلح العلمي الدال على العبارات التالية

- 1- تتكس في العمود الفقري ناجم عن تدهور في الغضروف والعظم ()
 2- تراكم السوائل حول الدماغ. ()

المزوجة :

العمود 2		العمود 1	
أ	الطول والوزن ومحيط الرأس	1	يستخدم لوزن المرضى غير القادرين على الوقوف
ب	الطول والوزن ومحيط الصدر	2	يستخدم لوزن المرضى المصابين بالغيوبية أو المشلولين
جـ	ميزان الكرسي المتحرك	3	القياسات التي تؤخذ بانتظام للرضيع
د	ميزان مدمج بالسرير	4	يقاس الطول بشكل متكرر عند البالغين للتحري عن
هـ	ميزان بعارضة موازنة	5	تراكم السوائل حول الدماغ
و	تتكس العمود الفقري		
ز	استسقاء الرأس		

علل لما يأتي

1- يحتاج الأطفال الذكور والاناث رسوم بيانية مختلفة للوزن والطول بالنسبة للعمر

.....

2- يُعتبر قياس محيط رأس الرضيع مهماً في الفحوصات الدورية

.....

3- قياس الطول بشكل متكرر عند البالغين

.....