

تم تحميل وعرض المادة من



موقع مادتي هو موقع تعليمي يعمل على مساعدة المعلمين والطلاب وأولياء الأمور في تقديم حلول الكتب المدرسية والاختبارات وشرح الدروس والملاحظات والتحاير وتوزيع المنهج لكل المراحل الدراسية بشكل واضح وسهل مجاناً بتصفح وعرض مباشر أونلاين وتحميل على موقع مادتي

حمل تطبيق مادتي ليصلك كل جديد



المملكة العربية السعودية

وزارة التعليم

اوراق عمل

فيزياء 1

اول ثانوي مسارات

للفصل الدراسي الثاني

موقع
مادتي



اقرأ في الكتاب صفحة:
9-10-11

(شرح الدرس)



أخي الطالب: السلام عليكم ورحمة الله وبركاته - مبدأ التعاون مبدأ عظيم في الحياة
١- المقرر: ٢- عضو: ٣- عضو:
٤- عضو: ٥- عضو: ٦- عضو:

المجموعة
رقم ()

الهدف من الدرس: تعريف علم الفيزياء - اجراء العمليات الحسابية وفقاً للقوانين الفيزيائية وباستخدام التعبير العلمي.

كيف تؤثر الفيزياء في حياتنا؟

لماذا ندرس علم الفيزياء؟

ماذا تعرف عن الفيزياء؟

التهيئة

المفردات: الفيزياء

نشاط ①: من التجربة الاستهلاكية الآتية، هل تسقط جميع الأجسام بالسرعة نفسها؟ Page 9



الهدف منها: استكشاف حركة جسم ساقط سقوطاً حراً. لمشاهدة التجربة من خلال الباركود الآتي:

الأدوات: خمس قطع معدنية، وشريط لاصق. سؤال التجربة: كيف يؤثر وزن الجسم في سرعة سقوطه؟

المشاهدة:

الاستنتاج:

نشاط ②: أكمل الفراغ الآتي

١- تعريف الفيزياء: هو فرع من فروع العلم يعنى بدراسة

ويدرس العلاقة بين

٢- علاقة الفيزياء بالرياضيات:

٣- دارسوا الفيزياء يعلمون في مجالات مرتبطة بالفيزياء مثل

٤- تقسم العلاقات الرياضية بين كميتين في القانون العلمي إلى علاقيتين:

* العلاقة الطردية بين كميتين إذا زادت الكمية الأولى الكمية الأخرى وإذا نقصت الكمية الأولى نقصت الكمية الأخرى. البسط $V = \frac{d}{t}$ المقام

** العلاقة العكسية بين كميتين إذا زادت الكمية الأولى الكمية الأخرى وإذا نقصت الكمية الأولى زادت الكمية الأخرى. علاقة عكسية

تدريب ①: وُصِّل مصباح كهربائي مقاومته 50.0Ω في دائرة كهربائية مع بطارية فرق جهدها 9.0 volts

ما مقدار التيار الكهربائي المار في المصباح؟ علماً بأن معادلة أوم تعطى بالعلاقة ($V = I \times R$)

حيث المقاومة (R) ، فرق جهدها (V) ، التيار الكهربائي (I): (استخدم الخطوات المتفق عليها في حل أي مسألة حسابية في الفيزياء) Q1 Page 11

التحقق من الفهم

* اختر الإجابة الصحيحة فيما يلي:

① فرع من فروع العلم يعنى بدراسة العالم الطبيعي ويدرس المادة والطاقة والعلاقة بينهما:

أ- علم الفيزياء ب- علم الرياضيات ج- علم الاحياء د- علم الأرض

② تستخدم الفيزياء باعتبارها لغة قادرة على التعبير عن القوانين والظواهر الفيزيائية بشكل واضح ومفهوم:

أ- العلوم ب- الرياضيات ج- الانجليزي د- الهندسة

③ يعتبر الوزن عامل مؤثر في سرعة سقوط الجسم، وأن سرعة الجسم تزداد مع ازدياد وزنه.

أ- العبارة صحيحة ب- العبارة خاطئة

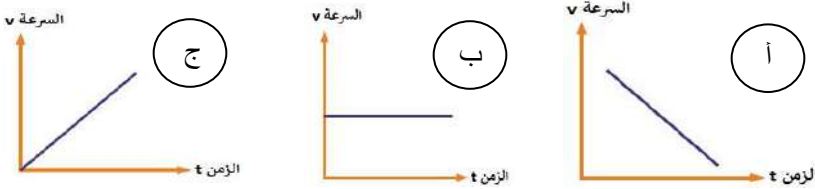
④ لديك القانون التالي $P = m v$ ، ما نوع العلاقة بين P و v :

أ- علاقة طردية ب- علاقة عكسية ج- علاقة تربيعية د- علاقة تكعيبية

⑤ أعد كتابة المعادلة الآتية $F = m a$ للحصول على a ؟ حيث القوة (F) ، الكتلة (m) ، التسارع (a)

أ- $a = F m$ ب- $a = F / m$ ج- $a = m / F$ د- $a = F - m$

⑥ أي مما يلي من المنحنيات البيانية الآتية يمثل علاقة طردية:



أجب عما يلي:

١- ما أهمية الرياضيات في علم الفيزياء؟ Q22 Page 26

ج/.....

٢- أعد كتابة المعادلة: $F = B q v$ للحصول على v بدلالة كل من F ، q ، B . Q7 Page 15

ج/.....

٣- لديك العلاقة الآتية $F = \frac{mv^2}{r}$ ، ما نوع العلاقة بين كل مما يلي؟ Q27 Page 26

a. F و r نوع العلاقة

b. F و m نوع العلاقة

c. F و v نوع العلاقة

٤- يعبر عن مقدار قوة جذب الأرض للجسم بالعلاقة: $F = m g$ ؛ حيث m تمثل كتلة الجسم و g التسارع الناتج عن الجاذبية الأرضية ($g = 9.80 \text{ m/s}^2$) . أوجد القوة المؤثرة في جسم كتلته 41.63 Kg ؟ Q32 Page 27

ج/.....



أخي الطالب: السلام عليكم ورحمة الله وبركاته - مبدأ التعاون مبدأ عظيم في الحياة
١- المقرر: ٢- عضو: ٣- عضو:
٤- عضو: ٥- عضو: ٦- عضو:

المجموعة
رقم ()

اقرأ في الكتاب صفحة: 12

(شرح الدرس)

الهدف من الدرس: أن يوضح الطريقة العلمية - أن يستخدم خطوات الطريقة العلمية في تجاربه الفيزيائية وما يتعرض له من مشاكل.



ما الخطوات التي تستخدمها لحل المشكلة؟

ماذا تعمل إذا صادفت مشكلة ما في حياتك؟

التهيئة:

المفردات: الطريقة العلمية - الفرضية العلمية

كيف تستخدم الطريقة العلمية في حل مشكلة تعطل السيارة مثلاً؟

نشاط ①: كيف تساعد سائق السيارة في حل مشكلة تعطل السيارة؟



نشاط ②: عرف الطريقة العلمية وما هي الخطوات التي ينبغي اتباعها في الطريقة العلمية؟

تعريف الطريقة العلمية:

خطوات الطريقة العلمية:

① ② ③

④ ⑤ ⑥

نشاط ③: ما المقصود بالفرضية العلمية وكيف يتم اختبار صحة الفرضية العلمية؟

تعريف الفرضية العلمية:

يتم اختبار صحة الفرضية العلمية:

نشاط ④: أكمل الفراغ الآتي: من أنواع المتغيرات أثناء إجراء التجارب العلمية:

① المتغير المستقل: هو المتغير الذي يمكن فيه أثناء إجراء التجربة ويمثل على محور x . مثل/ مقدار الحرارة اللازمة للتمدد.

② المتغير : هو المتغير الذي يتبع المتغير المستقل ويمثل على محور y . مثل/ مقدار التمدد الحاصل في المادة بسبب الحرارة.

تدريب ①: تجربة قياس التغير / اجمع خمس حلقات معدنية متماثلة يستطيل بشكل ملحوظ عندما تعلق به حلقة معدنية. ص ١٢



a- ارسم بيانيا العلاقة بين طول النابض والكتلة المعلقة به. لمشاهدة التجربة من خلال الباركود الآتي:

الاستطالة

عدد الحلقات	الكتلة المعلقة	الاستطالة في النابض
حلقة واحدة	50 g	
حلقتين	100 g	
ثلاث حلقات	150 g	
أربع حلقات	200 g	
خمس حلقات	250 g	

b- التحليل والاستنتاج:

نلاحظ أن العلاقة بين الكتلة والطول علاقة

الكتلة → 50 100 150 200 250 300

التحقق من الفهم

* اختر الإجابة الصحيحة فيما يلي:

① أسلوب للإجابة عن تساؤلات علمية بهدف تفسير الظواهر الطبيعية المختلفة:

أ- الفرضية العلمية ب- الطريقة العلمية ج- التجربة العلمية د- النموذج العلمي

② تبدأ الطريقة العلمية بطرح أسئلة بناءً على المشاهدات ثم محاولة البحث عن إجابات منطقية لها عن طريق وضع الفرضيات.

أ- العبارة الصحيحة ب- العبارة خاطئة

③ وضع نتائج التجربة في جدول ورسمها بيانياً يسمى:

أ- تحليل البيانات ب- تحديد المشكلة ج- وضع الفرضية د- الاستنتاج

④ وضعت ندى نبتة داخل صندوق مغلق ومعزول وبعد فترة من الزمن وجدت هذه النبتة قد ماتت ولكي تحل هذه المشكلة بطريقة علمية عن سبب موت النبتة، فما يجب عليها القيام به كخطوة قادمة؟


أ- الاستنتاج ب- اختبار الفرضية ج- تحليل البيانات د- وضع الفرضية

⑤ لا يمكن للدليل العلمي الوثوق به إلا إذا كانت التجارب والنتائج قابلة للتكرار.

أ- العبارة صحيحة ب- العبارة خاطئة

واجب رقم ١

١- أكمل خريطة المفاهيم أدناه باستخدام بما يناسبها من خطوات الطريقة العلمية: Q20 Page 26
(جمع المعلومات ، تحليل البيانات ، يدعم الفرضية ، اختبار صحة الفرضية ، لا يدعم الفرضية) .



٢- ما المقصود بالطريقة العلمية؟ Q21 Page 26

جـ ٢ /

٣- في تجربة عملية، قيس حجم الغاز داخل بالون وحددت علاقته بتغير درجة الحرارة. ما المتغير المستقل، وما المتغير التابع فيها؟ Q25 Page 26

جـ ٣ / المتغير المستقل:

المتغير التابع:



اقرأ في الكتاب صفحة:
13-14

أخي الطالب: السلام عليكم ورحمة الله وبركاته - مبدأ التعاون مبدأ عظيم في الحياة
١- المقرر: ٢- عضو: ٣- عضو:
٤- عضو: ٥- عضو: ٦- عضو:

المجموعة
رقم ()

(شرح الدرس)

الهدف من الدرس: أن يتعرف الطالب على عناصر البناء العلمي - أن يفرق الطالب بين القانون العلمي والنظرية العلمية.



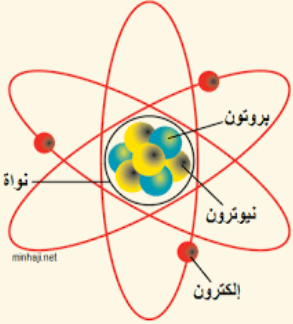
أعط أمثلة على النماذج العلمية التي تعرفها؟

ماذا يتبادر إلى ذهنك حينما تسمع كلمة نموذج؟

التهيئة:

المفردات: النموذج العلمي - القانون العلمي - النظرية العلمية

كيف تميز بين القانون العلمي والنظرية العلمية؟



نشاط ①: ما المقصود بالنموذج العلمي وما فائدته وعلى ماذا يعتمد مع التوضيح بمثال؟

تعريف النموذج العلمي:

الفائدة من النموذج العلمي:

يعتمد النموذج العلمي على:

أمثلة على النماذج العلمية:

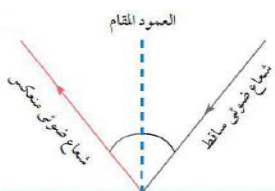
نشاط ②: عرف القانون العلمي مع إعطاء أمثلة عليه؟

تعريف القانون العلمي:

عبارة عن قاعدة تجمع لـ ظاهرة طبيعية متكررة.

ويعبر عن القانون العلمي بـ

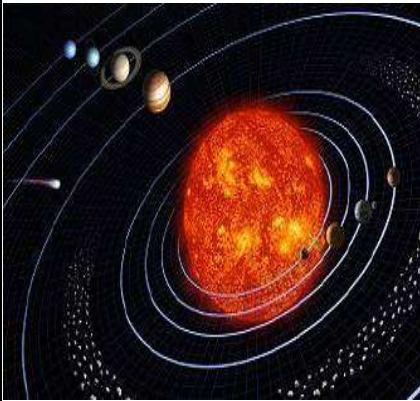
أمثلة على القانون العلمي:



نشاط ③: عرف النظرية العلمية مع إعطاء مثال على ذلك؟

النظرية العلمية:

مثال على النظرية العلمية:



نشاط ④: ما الفرق بين القانون العلمي والنظرية العلمية؟

التحقق من الفهم

* اختر الإجابة الصحيحة فيما يلي:

١- أفضل تفسير ممكن لمبدأ عمل الأشياء:			
أ- الفرضية	ب- النظرية	ج- القانون	د- التوقع
٢- قاعدة طبيعية تجمع مشاهدات مترابطة لوصف ظاهرة طبيعية متكررة تعرف بـ :			
أ- النظرية العلمية	ب- النموذج العلمي	ج- القانون العلمي	د- الطريقة العلمية
٣- أي مما يلي ليس من عناصر البناء العلمي:			
أ- الفرضية العلمية	ب- الحقيقة العلمية	ج- القانون العلمي	د- الدقة
٤- " الطاقة لا تفتنى ولا تستحدث من العدم بل تتحول من شكل لآخر " تعتبر:			
أ- فرضية	ب- قانون	ج- نظرية	د- تجربة
٥- أداة مهمة في الفيزياء لنمذجة الظاهرة لمحاولة تفسيرها:			
أ- المعادلات الرياضية	ب- الطريقة العلمية	ج- التجارب العلمية	د- النماذج العلمية
٦- تتغير النظريات وتُعدّل عندما تُوفّر التجارب الجديدة ملاحظات جديدة:			
أ- العبارة صحيحة	ب- العبارة خاطئة		

أجب عما يلي:

١- ما الفرق بين النظرية العلمية والقانون العلمي؟ وما الفرق بين الفرضية والنظرية العلمية؟ أعط أمثلة مناسبة. Q28 Page 26

a- الفرق بين النظرية العلمية والقانون العلمي:

مثال توضيحي:

b- الفرق بين الفرضية والنظرية العلمية:

مثال توضيحي:

المجموعة
رقم ()أخي الطالب: السلام عليكم ورحمة الله وبركاته - مبدأ التعاون مبدأ عظيم في الحياة
١- المقرر: ٢- عضو: ٣- عضو:
٤- عضو: ٥- عضو: ٦- عضو:اقرأ في الكتاب صفحة:
16-17

(شرح الدرس)

الهدف من الدرس: أن يعرف الطالب مفهوم القياس - أن يتعرف الطالب على النظام الدولي للوحدات.



عندما تزور الطبيب يقوم بعمل عدة قياسات لك، ما هي القياسات مع ذكر وحداتها وأسماء الأجهزة المستخدمة؟

التهيئة:

المفردات: القياس - النظام الدولي للوحدات.

كيف نقيس؟ وما الأنظمة المستخدمة في القياس؟

نشاط ①: من خلال الشكل الآتي، أعط تعريفاً لـ القياس مع التوضيح بمثال؟



القياس:

مثال توضيحي: مثل قياس طول الباب حيث:

الكمية المجهولة هي والكمية المعيارية التي نقيس بها هي

الكميات الأساسية ووحدات قياسها في النظام الدولي

نشاط ②: علل يعتبر النظام الدولي للوحدات النظام الأوسع انتشاراً في العالم؟

(انظر الجدول في الكتاب ص ١٧)

الرمز	الوحدة الأساسية	الكمية الأساسية
m	meter	الطول length
Kg	kilogram	الكتلة mass
s	second	الزمن time
K	Kelvin	درجة الحرارة temperature
mol	mole	كمية المادة amount of substance
A	ampere	التيار الكهربائي electric current
cd	candela	شدة الإضاءة luminous intensity

السبب/.....

ملاحظة: عدد الكميات الأساسية في النظام الدولي للوحدات

نشاط ③: عدد أقسام الكميات الفيزيائية مع التوضيح؟

١- الكميات الأساسية:

أمثلة على الكميات الأساسية:

٢- الكميات المشتقة:

أمثلة على الكميات المشتقة:

نشاط ④: ما المقصود بالبادئات مع التوضيح بأمثلة؟

البادئات:

مثل:

البادئات المستخدمة مع وحدات النظام الدولي

القوة	الرمز	البادئة
10 ⁻¹⁵	f	<u>femto</u> فيمتو
10 ⁻¹²	p	<u>Pico</u> بيكو
10 ⁻⁹	n	<u>nano</u> نانو
10 ⁻⁶	μ	<u>micro</u> ميكرو
10 ⁻³	m	<u>Milli</u> ملي
10 ⁻²	c	<u>Centi</u> سنتي
10 ⁻¹	d	<u>Deci</u> ديسي
10 ³	k	<u>Kilo</u> كيلو
10 ⁶	M	<u>Mega</u> ميغا
10 ⁹	G	<u>Giga</u> جيغا
10 ¹²	T	<u>Tera</u> تيرا

التحقق من الفهم

* اختر الإجابة الصحيحة فيما يلي:

① مقارنة كمية مجهولة بكمية أخرى معلومة يعرف بـ :

أ- تحليل الكميات ب- المعايرة ج- القياس د- الضبط

② إذا قيست كتلة جسم ما فإن الكمية المجهولة هي كتلة هذا الجسم وبالتالي فإن الكمية المعيارية هي :

أ- Kg ب- g ج- m د- cm

③ الكمية المعيارية لقياس الزمن:

أ- m ب- s ج- Kg د- N

④ نظام الوحدات الأكثر انتشاراً في العالم هو النظام:

أ- الدولي ب- الانجليزي ج- الفرنسي د- البريطاني

⑤ يقاس الطول في النظام الدولي للوحدات بوحدة:

أ- (Kg) kilogram ب- meter (m) ج- inch د- foot

⑥ من الكميات الأساسية حسب تصنيف النظام الدولي للوحدات:

أ- الطول ب- السرعة ج- الشحنة الكهربائية د- الجهد الكهربائي

⑦ تقاس درجة الحرارة في النظام الدولي للوحدات بوحدة:

أ- pound ب- mole ج- (K) Kelvin د- (s) second

⑧ (5µm) يكافئ:

أ- $5 \times 10^{-3} \text{ m}$ ب- $5 \times 10^{-6} \text{ m}$ ج- $5 \times 10^{-9} \text{ m}$ د- $5 \times 10^{+3} \text{ m}$

⑨ البادئة التي معناها ١٠ مرفوعة الى القوة ٦ هي:

أ- Pico (p) ب- Mega (M) ج- Nano (n) د- Giga (G)

واجب رقم ٢

١- أي القيم التالية تساوي 5440000 m :

أ- 544 Km ب- 54.4 Km ج- 5.44 Km د- 5440 Km

٢- ما النظام الدولي للوحدات؟ Q23 Page 26

٣- ماذا تُسمى قيم المتر الآتية؟ Q24 Page 26

..... = $\frac{1}{1000} \text{ m}$ -a = $\frac{1}{1000} \text{ m}$ -b = 1000 m -c

٤- اشتق وحدة قياس السرعة إذا علمت أن: الزمن (t) / المسافة (d) = السرعة (v) ؟



اقرأ في الكتاب صفحة:
18

أخي الطالب: السلام عليكم ورحمة الله وبركاته - مبدأ التعاون مبدأ عظيم في الحياة
١- المقرر: ٢- عضو: ٣- عضو:
٤- عضو: ٥- عضو: ٦- عضو:

المجموعة
رقم ()

(شرح الدرس)

الهدف من الدرس: أن يتعرف الطالب على تحليل الوحدات - أن يوجد الطالب معامل التحويل من وحدة لأخرى.



ما المقصود بـ معامل التحويل؟

ماذا نعمل إذا كانت نتائج التجارب بوحدة غير وحدات النظام الدولي؟

التهيئة:

المفردات: تحليل الوحدات - معامل التحويل.

كيف نحول الوحدات من وحدة لأخرى؟

نشاط ①: ما المقصود بتحليل الوحدات؟ وما الفائدة منه؟ وما المقصود بمعامل التحويل؟

تحليل الوحدات: هي التعامل مع الوحدات باعتبارها للتأكد من المعادلات والقوانين ووحدة القياس.

الفائدة من تحليل الوحدات: يستخدم في إيجاد

معامل التحويل:

مثال توضيحي لمعامل التحويل: كم معامل التحويل اللازم للتحويل من Kg إلى g ؟

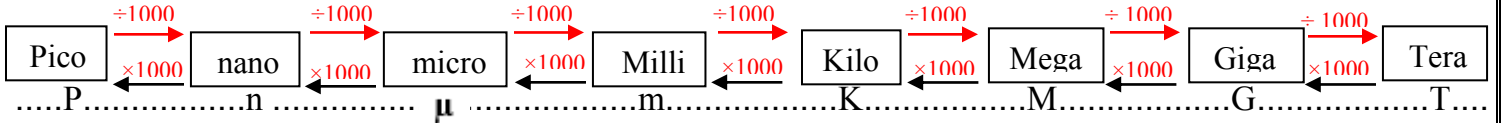
$$1 \text{ Kg} = \dots\dots\dots \text{ g}$$

وحدة الحجم (m³)
أو اللتر (L) حيث
1 L = 1000 m³

نشاط ②: وضح طريقة تحليل الوحدات؟

a- للتحويل من كبير إلى صغير:
b- للتحويل من صغير إلى كبير:

جدول توضيحي:



للتحويل من Km/h إلى m/s :

أولاً: نحول من Km إلى m :

ثم نحول من h إلى s :

وباختصار: $\text{Km/h} \xrightarrow{3.6 \times} \text{m/s}$ $\text{m/s} \xrightarrow{3.6 \div} \text{Km/h}$

تدريب ①: كم MHz في 750 kHz ؟ Page 18 Q 9

تدريب ②: عبّر عن 5201 cm بوحدة km ؟ Page 18 Q 10

التحقق من الفهم

* اختر الإجابة الصحيحة فيما يلي:

① طريقة للتأكد من صحة المعادلات والقوانين ووحدات القياس تعرف بـ :

أ- الطريقة العلمية	ب- تحليل الوحدات	ج- الفرضية العلمية	د- لا شيء مما سبق
--------------------	------------------	--------------------	-------------------

② التعامل مع الوحدات باعتبارها كميات جبرية:

أ- القانون العلمي	ب- الطريقة العلمية	ج- تحليل الوحدات	د- النظرية العلمية
-------------------	--------------------	------------------	--------------------

③ 5000000 يكافئ:

أ- 5 P (Pico)	ب- 5 K (Kilo)	ج- 5 μ (micro)	د- 5 M (Mega)
---------------	---------------	--------------------	---------------

④ إذا شربت كمية من الماء مقدارها 200 ml ، هذا يعني أنك شربت بوحدة اللتر:

أ- 2 l	ب- 0.2 l	ج- 0.02 l	د- 0.002 l
--------	----------	-----------	------------

⑤ أراد فيصل حساب عدد الثواني في الأسبوع وتوصل إلى الجواب الصحيح وهو:

أ- 10080 s	ب- 1440 s	ج- 604800 s	د- 68400 s
------------	-----------	-------------	------------

⑥ أراد أحمد أن يمارس رياضة الجري بحيث يقطع في اليوم 500 m ، فكم المسافة المقطوعة بوحدة Km؟

أ- 500 Km	ب- 500000 Km	ج- 0.5 Km	د- 2 Km
-----------	--------------	-----------	---------

أجب عما يلي:

١- حوّل 42.3 cm إلى وحدة المتر؟ Page 27 Q34

أ- 42.3 m	ب- 4.23 m	ج- 0.423 m	د- 4230 m
-----------	-----------	------------	-----------

٢- حول السرعة 5.30 m/s إلى Km/h ؟ Page 12 Q18

٣- إذا أعطيت المسافة بوحدة Km والسرعة بوحدة m/s ، أي العمليات أدناه تعبر عن إيجاد الزمن بالثواني: Page 29 Q3

أ- ضرب المسافة في السرعة ، ثم ضرب الناتج في 1000	ب- قسمة المسافة على السرعة ، ثم ضرب الناتج في 1000
ج- قسمة المسافة على السرعة ، ثم قسمة الناتج على 1000	د- ضرب المسافة في السرعة ، ثم قسمة الناتج على 1000



اقرأ في الكتاب صفحة:
19-20

أخي الطالب: السلام عليكم ورحمة الله وبركاته - مبدأ التعاون مبدأ عظيم في الحياة
١- المقرر: ٢- عضو: ٣- عضو:
٤- عضو: ٥- عضو: ٦- عضو:

المجموعة
رقم ()

(شرح الدرس)

الهدف من الدرس: أن يميز الطالب بين الدقة والضبط - أن يحدد الطالب دقة الكميات المقاسة.



قس طول كتاب الفيزياء بالمسطرة؟

ما أهمية الدقة والضبط في القياسات؟ ما العوامل المؤثرة في دقة القياس؟

التهيئة:

المفردات: الدقة - الضبط - اختلاف زاوية النظر.

ما الطريقة الصحيحة للقياس؟

نشاط ①: تعاون مع مجموعتك في قياس طول كتاب الفيزياء باستخدام المسطرة ثم حدد المجموعة الأكثر دقة والأكثر ضبطاً؟

رقم المجموعة	متوسط القراءات الثلاث	دقة الأداة المستخدمة = هامش الخطأ = خطأ القياس بالقانون: دقة الأداة = (نصف قيمة أصغر تدريج) (هامش الخطأ ± متوسط القراءة)	قراءة القياس	المجموعة الأكثر دقة
1			±	
2			±	المجموعة الأكثر ضبطاً
3			±	

نشاط ②: ما الفرق بين الدقة والضبط من خلال النشاط السابق؟

تعريف الدقة:

تعريف الضبط:

طول قلم الرصاص (4.85 ± 0.05) cm

1



②

①


طول قلم الرصاص (4.8 ± 0.25) cm

2



المسطرة الأكثر دقة: السبب:

نشاط ③: علل: يجب أن تقرأ التدريجات بشكل عمودي وبعين واحدة على التدريج في القياس؟ لاحظ الشكل الآتي.




نشاط ④: كيف تحسب دقة القياس (خطأ القياس أو هامش الخطأ) لأي أداة؟



قانون حساب دقة القياس: دقة القياس =

وعليه فإن قراءة القياس: قراءة القياس = ±

نشاط ⑤: ما الطريقة الشائعة لاختبار ضبط الجهاز؟



تدريب ② : أكمل الجدول الآتي:

أداة	أصغر تدريج	دقة الأداة = نصف قيمة أصغر تدريج	هامش الخطأ ± قراءة القياس
١- 
٢- 

التحقق من الفهم

* اختر الإجابة الصحيحة فيما يلي:

① تسمى درجة الإتقان في القياس:

أ- الدقة	ب- الضبط	ج- القيمة المعتمدة	د- القيمة المقبولة
② وصف اتفاق نتائج القياس مع القيمة المقبولة في القياس يعرف بـ :			
أ- القياس	ب- الفرضية	ج- الدقة	د- الضبط
③ ضبط نتائج التجربة يساوي نصف قيمة أصغر تدريج في الأداة:			
أ- العبارة صحيحة	ب- العبارة خاطئة		
④ تكون الدقة أكبر كلما كان هامش الخطأ في القياس أكبر.			
أ- العبارة صحيحة	ب- العبارة خاطئة		
⑤ الطريقة الشائعة لاختبار الضبط في الجهاز ليعطي قراءة صحيحة تسمى:			
أ- معايرة صفر الجهاز	ب- معايرة الجهاز	ج- معايرة النقطتين	د- لا شيء مما سبق
⑥ اختلاف زاوية النظر يقصد بها التغير الظاهري في موقع الجسم عند النظر إليه من زوايا مختلفة.			
أ- العبارة صحيحة	ب- العبارة خاطئة		
⑦ أكثر الأخطاء الشخصية شيوعاً في القياس يكون ناتج عن:			
أ- عدم ضبط الجهاز	ب- تدريجات الجهاز المستخدم	ج- زاوية النظر للقراءة	د- جميع ما سبق

واجب رقم ٣

١- أقرأ القياس الموضح في الشكل الآتي، وضمن خطأ القياس في الإجابة: Q37 Page 27



أ- 3.6A	ب- 3.55A
ج- $3.6 \pm 0.1A$	د- $3.6 \pm 0.2A$

جـ / ١

٢- قام طالبان بقياس سرعة الضوء، فحصل الأول على $(3.001 \pm 0.001) \times 10^8$ m/s ، وحصل الثاني على $(2.999 \pm 0.006) \times 10^8$ m/s .

Q30 Page26 a- أيهما أكثر دقة؟ b- أيهما أكثر ضبطاً؟ علماً بأن القيمة المعيارية لسرعة الضوء هي: 2.99792458×10^8 m/s

-a

-b



اقرأ في الكتاب صفحة:
31-32

أخي الطالب: السلام عليكم ورحمة الله وبركاته - مبدأ التعاون مبدأ عظيم في الحياة
١- المقرّر: ٢- عضو: ٣- عضو:
٤- عضو: ٥- عضو: ٦- عضو:

المجموعة
رقم ()

(شرح الدرس)

الهدف من الدرس: ① تمثيل حركة جسم بالمخطط التوضيحي للحركة. ② نرسم نموذج الجسم النقطي لتمثيل حركة الجسم.



التهيئة: ماذا يتبادر إلى ذهنك حينما تسمع كلمة حركة أو سيارة مسرعة أو طفل يتأرجح؟

المفردات: المخطط التوضيحي للحركة - نموذج الجسم النقطي.

عدد بعض أنواع الحركة مع ذكر مثال؟ وكيف نمثلها؟

نشاط ①: من التجربة الاستهلالية الآتية، في سباق سيارتين لعبة، هل يمكنك أن تبين أيهما أسرع السيارة A أم B؟ Page 31



تدريب ①: a- رتب صور حركة العداء حسب التقاطها؟



a- اللقطة الأولى : صورة رقم ، اللقطة الثانية : صورة رقم ، اللقطة الثالثة : صورة رقم ، اللقطة الرابعة : صورة رقم

b- على ماذا استندت في ترتيب الصور؟

b- استندت في ترتيب الصور على

نشاط ②: أعط تعريفاً مناسباً لـ مخطط الحركة ونموذج الجسم النقطي من خلال المقارنة بين الصورتين الآتيتين؟



تعريف مخطط الحركة:

تعريف نموذج الجسم النقطي:

تدريب ②: ارسم نموذج الجسم النقطي المناسب للشكل الآتي:



مخطط الحركة التوضيحي

نموذج الجسم النقطي

التحقق من الفهم

* اختر الإجابة الصحيحة فيما يلي:

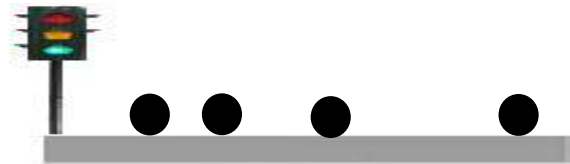
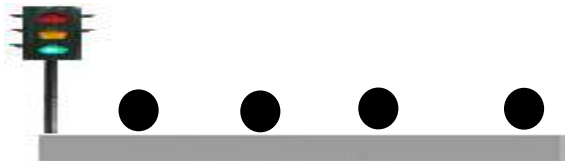
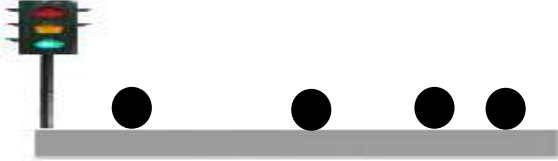
① توجد عدة طرق لوصف الحركة؛ حيث يمكن وصفها بـ :

أ- الكلمات ب- مخططات الحركة ج- جدول البيانات د- التمثيلات المتكافئة

② تمثيل حركة العداء بالتقاط سلسلة من الصور المتتابة خلال أزمنة متعاقبة يعرف بـ :

أ- المخطط التوضيحي للحركة ب- نموذج الجسم النقطي ج- مخطط الجسم الحر د- الرسم البياني (المنحنيات)

③ أي مما يلي يمثل نموذج الجسم النقطي لسيارة بدأت بالتوقف عند إشارة المرور:



④ أي العبارات التالية تعبر بشكل صحيح عن النموذج الجسمي النقطي لحركة طائرة تقلع من مطار؟ Q1 Page 57

أ- تكونُ النقاط نمطًا وتفصل بينهما مسافات متساوية. ب- تكونُ النقاط متباعدة في البداية، ثم تتقارب مع تسارع الطائرة.

ج- تكونُ النقاط متقاربة في البداية، ثم تتباعد مع تسارع الطائرة. د- تكونُ النقاط متقاربة في البداية، ثم تتباعد ثم تتقارب مرة أخرى عندما تستوي الطائرة وتتحرك بالسرعة العادية للطيران.

⑤ لمتابعة مواقع الخيول في السباق تؤخذ لهم صور متتالية في فترات زمنية متساوية.

أ- العبارة صحيحة ب- العبارة خاطئة

⑥ عند رسم سهم ممثلًا حركة متسابق فإن طول السهم يمثل المقدار دائما بعد الجسم عن نقطة الأصل ورأس السهم يمثل الاتجاه.

أ- العبارة صحيحة ب- العبارة خاطئة

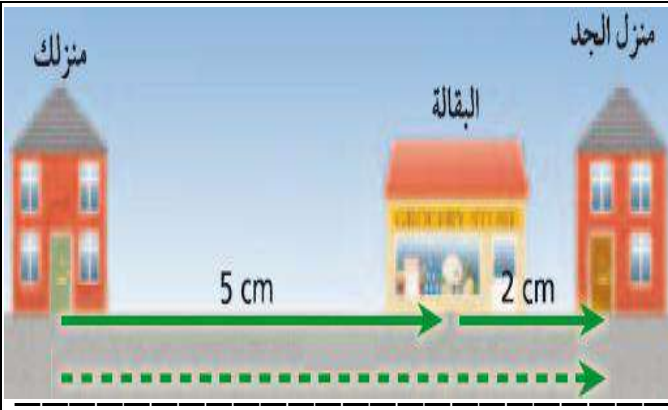
أجب عما يلي:

١- ما الهدف من رسم المخطط التوضيحي للحركة؟ Q35 Page 54

٢- متى يمكن معاملة الجسم كجسيم نقطي؟ Q36 Page 54

٣- ارسم نموذج الجسم النقطي لتمثيل حركة راكب دراجة هوائية بسرعة ثابتة؟ Q1 Page 33

تدريب ②: احسب محصلة المتجهين الآتيين حسب الشكل الآتي؟



المحصلة =

نشاط ④: عرف المحصلة؟

التحقق من الفهم

* اختر الإجابة الصحيحة فيما يلي:

① النقطة التي عندها قيمة كل من المتغيرين صفراً في المنحنى البياني تعرف بـ :

أ- نقطة تقاطع المنحنيات ب- نقطة الميل ج- نقطة الاصل د- نقطة النهاية

② الموقع هو المسافة الفاصلة بين الجسم ونقطة الأصل وتكون دائماً موجبة.

أ- العبارة صحيحة ب- العبارة خاطئة

③ الكميات التي تحدد بالمقدار والاتجاه معا:

أ- الكميات العددية ب- الكميات القياسية ج- الكميات المتجهة د- الكميات الاساسية

④ من أمثلة الكميات العددية:

أ- الازاحة ب- الزمن ج- القوة د- السرعة

⑤ من أمثلة الكميات المتجهة:

أ- الطول ب- الكتلة ج- القوة د- درجة الحرارة

⑥ كمية متجهة تمثل البعد المتجه المستقيم بين البداية والنهاية:

أ- المسافة ب- الازاحة ج- المنحنى د- الطول

⑦ المحصلة عبارة عن متجه ناتج عن جمع متجهين أو أكثر بحيث يشير دائماً من ذيل المتجه الأول إلى رأس المتجه الآخر:

أ- العبارة صحيحة ب- العبارة خاطئة

⑧ انطلق محمد من منزله إلى مدرسته الذي يبعد 100 m ثم عاد مباشرة إلى منزله ، الإزاحة التي قطعها محمد تساوي :

أ- صفر ب- 100 m ج- 150 m د- 200 m

⑨ عندما تكون الازاحة تساوي صفر، إذا يلزم أن تكون الفترة الزمنية Δt تساوي صفر .

أ- العبارة صحيحة ب- العبارة خاطئة

⑩ جسيم انطلق من السكون فقطع مسافة 20m بعد زمن قدره 45s ، احسب الفترة الزمنية المستغرقة لقطع هذه المسافة؟

أ- 20 s ب- 65 s ج- 25 s د- 45 s

أجب عما يلي:

١- يمثل النموذج الجسيمي النقطي أدناه حركة طالب يسير من بيته إلى المدرسة: أعد رسم الشكل، وارسم متجهات لتمثيل

الإزاحة بين كل نقطتين؟ Q6 Page 37

البيت • • • • • المدرسة



اقرأ في الكتاب صفحة:
38-39-40

المجموعة
رقم ()

أخي الطالب: السلام عليكم ورحمة الله وبركاته - مبدأ التعاون مبدأ عظيم في الحياة
١- المقرر: ٢- عضو: ٣- عضو:
٤- عضو: ٥- عضو: ٦- عضو:

الهدف من الدرس: تطور منحنيات لـ (الموقع - الزمن) لأجسام متحركة - نستخدم متجه (الموقع - الزمن) لتحديد موقع الجسم أو أزياعته.
نصف حركة الجسم باستخدام التمثيلات المتكافئة.

(شرح الدرس)



هل من الممكن تمثيل الحركة بطرائق مختلفة غير المخطط التوضيحي للحركة ونموذج الجسم النقطي؟ وضح ذلك؟

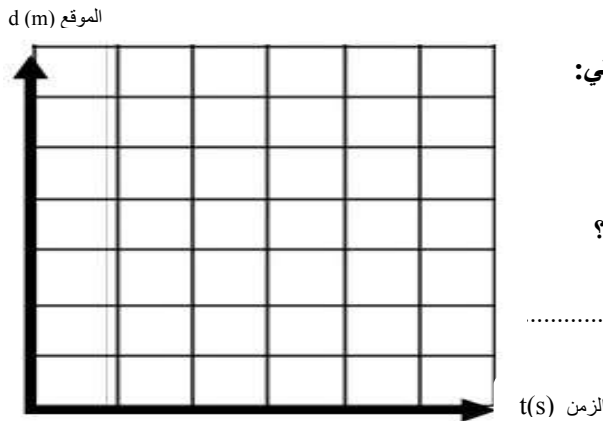
التهيئة:

كيف نحسب الميل رياضياً رياضياً وماذا يمثل فيزيائياً؟

ما هي أهم المعلومات التي تستطيع معرفتها من المنحنى البياني للموقع - الزمن؟

المفردات: منحنى الموقع - الزمن، الموقع اللحظي.

الموقع-الزمن	
الزمن (s)	الموقع (m)
0.0	0.0
5.0	1.0
10.0	2.0
15.0	3.0
20.0	4.0
25.0	5.0



نشاط ①: من خلال الجدول الآتي أجب عن الآتي:
(a) ارسم بيانياً منحنى (الموقع - الزمن) للجدول البياني الآتي:

(b) صف حركة الجسم حسب المنحنى (الموقع - الزمن)؟

يتحرك بسرعة

(c) احسب ميل منحنى (الموقع - الزمن) وماذا يمثل فيزيائياً؟

الزمن (s) t

يمثل ميل المنحنى البياني لموقع - الزمن:

(d) يصل العداء إلى بعد 20.0m عن نقطة البداية من خلال الرسم البياني عند

(e) يكون العداء بعد مضي 4.5 s من خلال الرسم البياني عند

a. جدول البيانات.

الموقع-الزمن	
الزمن (s)	الموقع (m)
0.0	0.0
5.0	1.0
10.0	2.0
15.0	3.0
20.0	4.0
25.0	5.0
30.0	6.0

b. منحنى (الموقع - الزمن).

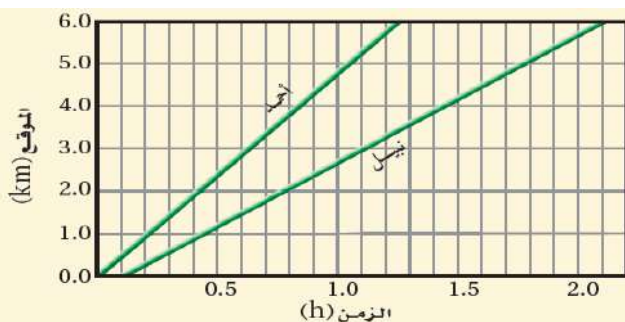


نشاط ②: تأمل الأشكال الآتية ثم أعط تعريفاً مناسباً لـ التمثيلات المتكافئة؟

c. النموذج الجسمي النقطي.

النهاية • • • • • البداية

تعريف التمثيلات المتكافئة:



تدريب ①: خرج أحمد في نزهة مشياً على الأقدام، وبعد وقت بدأ صديقه نبيل السير خلفه، وقد تم تمثيل حركتهما بمنحنى (الموقع-الزمن) كما في الشكل المقابل. Q18 Page 41

a- ما الزمن الذي سار خلاله أحمد قبل أن يبدأ نبيل المشي؟

b- هل سيلحق نبيل بأحمد؟ فسر ذلك.

التفسير:

تدريب ②: نستنتج مما سبق: أن من فوائد الرسم البياني لمنحنى (الموقع- الزمن) نستطيع معرفة:

①

③

التحقق من الفهم

* اختر الإجابة الصحيحة فيما يلي:

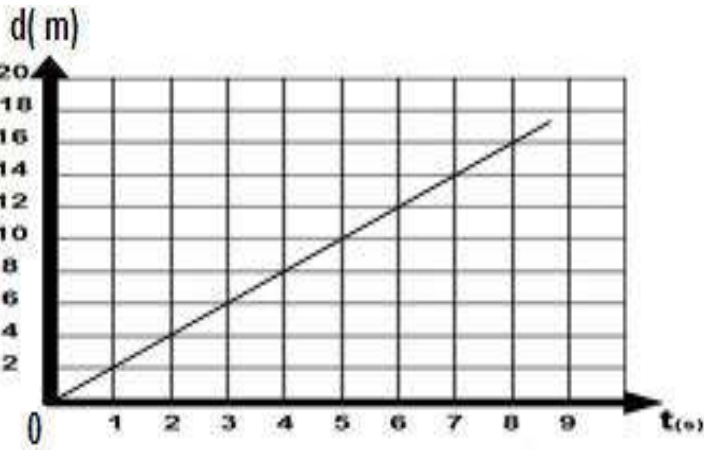
① ميل الخط المستقيم في الرسم البياني هو التغير الرأسي التغير الأفقي:

أ- مضافا الى ب- مطروحا من ج- مضروبا في د- مقسوما على

② أكمل الفراغ: يمكن استخدام منحنيات الموقع - الزمن من خلال حساب الميل لإيجاد:

أ- الموقع اللحظي ب- الزمن عند أي موقع ج- متى وأين يتقابل الجسمان د - السرعة المتجهة

واجب رقم ٤



١- حسب الشكل الآتي:

a- احسب ميل الخط البياني لمنحنى الموقع - الزمن ؟

.....

b- مقدار المسافة التي يقطعها الجسم بعد مرور زمن مقداره 3 s ؟

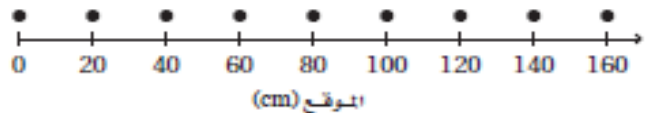
c- حدد المسافة التي قطعها الجسم بين اللحظتين 2.0 s و 7.0 s ؟

d- متى كان الجسم على بُعد 10.0 m عن نقطة الأصل؟

e- حدد الزمن الذي استغرقه قرص الهوكي ليتحرك من موقع يبعد 4 m عن نقطة الأصل إلى موقع يبعد عنها 8 m عنها؟

٢- يمثل النموذج الجسيمي النقطي في الشكل الآتي طفلاً يزحف على أرضية غرفة. مثل حركته باستخدام منحنى (الموقع- الزمن)، علماً بأن الفترة الزمنية بين كل نقطتين متتاليتين تساوي 1s .

Q19 Page 42





اقرأ في الكتاب صفحة:
43 - 44 - 45

أخي الطالب: السلام عليكم ورحمة الله وبركاته - مبدأ التعاون مبدأ عظيم في الحياة
١- المقرر: ٢- عضو: ٣- عضو:
٤- عضو: ٥- عضو: ٦- عضو:

المجموعة
رقم ()

(شرح الدرس)



الهدف من الدرس: تعريف السرعة المتجهة - نقارن بين مفهومي السرعة المتجهة المتوسطة والسرعة المتوسطة.

ما هي أهم المعلومات المستنتجة من الرسم البياني لمنحنى (الموقع - الزمن)؟

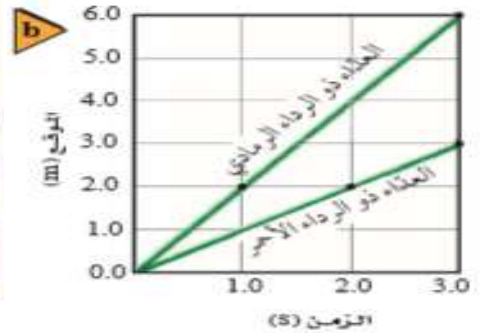
عدد طرق تمثيل الحركة؟

التهينة:

عدد أنواع السرعة؟ أي سرعة يقيس: نظام ساهر - حساس عداد السرعة في السيارة - نظام الرصد الآلي؟ ولماذا؟

المفردات: السرعة المتجهة المتوسطة - السرعة المتوسطة.

نشاط ①: تأمل الرسم البياني لمنحنى (الموقع - الزمن) ثم أجب عن الآتي:



- (a) ميل الخط البياني لمنحنى (- الزمن) يمثل: أ- الموقع ب- الزمن ج- السرعة المتجهة المتوسطة د- السرعة المتوسطة
(b) أيهما أكبر (مياً) انحداراً العداء الرمادي أم الأحمر؟ الأكبر انحداراً العداء وبالتالي الأسرع
(c) احسب ميل العداء الرمادي؟

نشاط ②: عرف السرعة المتجهة وكيف يتم حسابها رياضياً وبيانياً؟

السرعة المتجهة: ورمزها (.....) وتقاس بوحدة.....

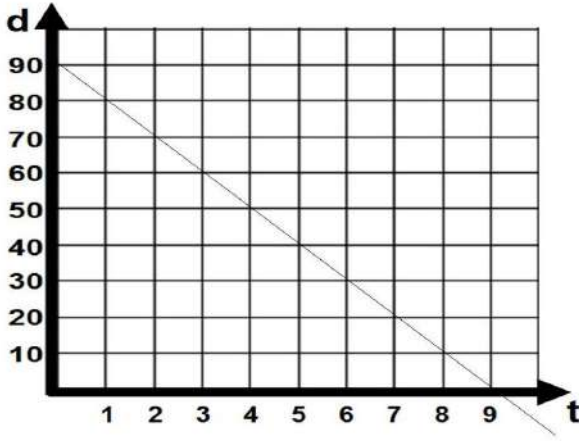
وتحسب بطريقتين: ① الطريقة البيانية:

② الطريقة الحسابية:

تدريب ①: قارن بين السرعة المتجهة المتوسطة والسرعة المتوسطة؟

المقارنة	السرعة المتجهة المتوسطة (m/s)	السرعة المتوسطة (m/s)
التعريف الرمز	هي سرعة حركة الجسم. وتكون إشارة إزاحة الجسم ورمزها (.....)	هي سرعة حركة الجسم. وتكون إشارة إزاحة الجسم ورمزها (.....)
بيانياً		

تدريب ②: أكمل الفراغ الآتي:



a- الجسم في الشكل الآتي يتحرك بسرعة في الاتجاه

b- احسب الميل؟

.....

.....

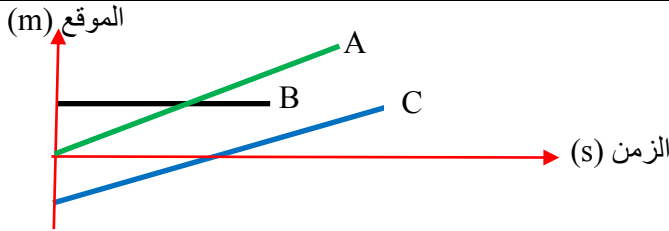
.....

c- السرعة المتجهة المتوسطة =

d- السرعة المتوسطة =

التحقق من الفهم

* اختر الإجابة الصحيحة فيما يلي:



① رتبّ منحنيات (الموقع - الزمن) وفق السرعة المتوسطة للجسم

من الأكبر إلى الأصغر، حسب الشكل الآتي:

د- BCA

ج- BAC

ب- ACB

أ- ABC

② ميل الخط البياني لمنحنى (الموقع - الزمن) لجسم يتحرك يدل على:

د- التسارع المتوسط

ج- السرعة اللحظية

ب- السرعة المتجهة المتوسطة

أ- السرعة المتوسطة

③ إذا كانت السرعة المتجهة المتوسطة لجسم ما -20 m/s ، فإن سرعته المتوسطة تساوي:

د- صفر

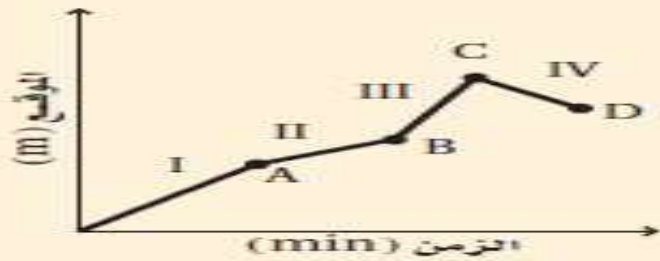
ج- 10 m/s

ب- 20 m/s

أ- -20 m/s

أجب عما يلي:

* اختر الإجابة الصحيحة فيما يلي:



يبين الرسم البياني حركة شخص يركب دراجة هوائية.

استخدم هذا الرسم للإجابة عن الأسئلة الآتية:

Q2 Page 57

① متى بلغت السرعة المتجهة للدراجة أقصى قيمة لها؟

د- عند النقطة B

ج- عند النقطة C

ب- في الفترة III

أ- في الفترة I

② ما الموقع الذي تكون عنده الدراجة أبعد ما يمكن عن نقطة البداية؟

د- النقطة D

ج- النقطة C

ب- النقطة B

أ- النقطة A

③ في أي فترة زمنية قطع راكب الدراجة أكبر مسافة؟

د- في الفترة IV

ج- في الفترة III

ب- في الفترة II

أ- في الفترة I

④ وضح العلاقة بين السرعة المتوسطة والسرعة المتجهة المتوسطة؟ Q32 Page 49

.....



اقرأ في الكتاب صفحة:
46-47-48

أخي الطالب: السلام عليكم ورحمة الله وبركاته - مبدأ التعاون مبدأ عظيم في الحياة
١- المقرر: ٢- عضو: ٣- عضو:
٤- عضو: ٥- عضو: ٦- عضو:

المجموعة
رقم ()

(شرح الدرس)

الهدف من الدرس: تعريف السرعة المتجهة اللحظية- تصميم مسائل تصويرية وفيزيائية ورياضية لمسائل الحركة.



لماذا أطلقنا على الكمية ($\Delta d/\Delta t$) السرعة المتجهة المتوسطة ولم نسميها ببساطة السرعة المتجهة؟
ما أهمية عمل نماذج مصورة ونماذج فيزيائية للحركة قبل بدء حل معادلة ما؟ عدد طرق تمثيل الحركة؟

التهيئة:

ما المقصود بالسرعة المتجهة اللحظية؟ وكيف يتم حسابها؟

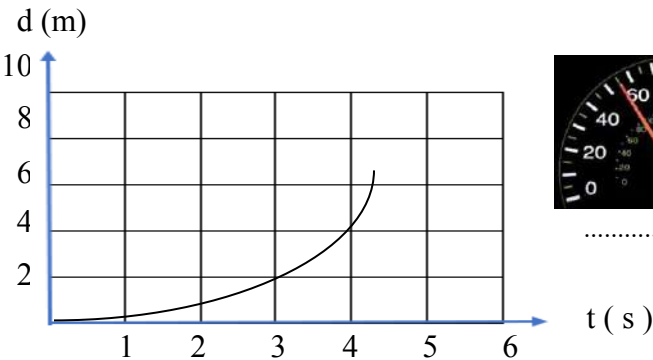
متى تتساوى السرعة المتجهة المتوسطة مع السرعة المتجهة اللحظية؟

المفردات: السرعة المتجهة اللحظية.

نشاط ① / تجربة: متجهات السرعة اللحظية ص ٧٤

أهداف التجربة: تعرف متى تكون السرعة أكبر ما يمكن وأصغر ما يمكن.

الأدوات	الخطوات	المشاهدة	الرسم لـ متجهات السرعة اللحظية
١- كتلة ذات خطاف ٢- خيط طوله 1m	١- اربط خيط ب الكتلة ٢- اسحب الكتلة بحذر إلى أحد الجوانب اتركها ثم لاحظ سرعة الحركة والاتجاه.	عند البداية السرعة تدرجياً حتى تصل نقطة ثم تدرجياً حتى تصل	النهاية البداية نقطة المنتصف
الاستنتاج	a- أين كانت السرعة أكبر ما يمكن؟ عند b- أين كانت السرعة أقل ما يمكن؟ عند c- وضح كيف يمكن قياس السرعة المتوسطة باستخدام المتجهات؟		



تدريب ①: صف حركة الجسم في المنحنى البياني ثم أجب عما يلي؟

a- نوع حركة الجسم:

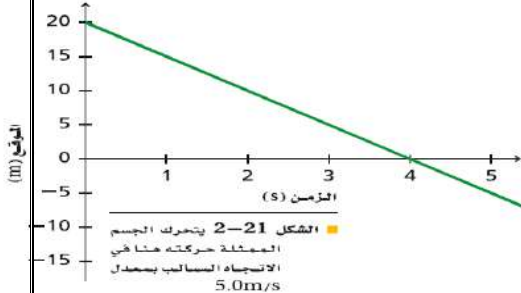
b- تعريف السرعة المتجهة اللحظية:

c- طريقة حسابها:



نشاط ②: اكتب معادلة الحركة بدلالة السرعة المتجهة المتوسطة للشكل الآتي؟

علماً بأن المعادلة العامة للخط المستقيم البياني في الرياضيات: $y = mx + b$



تدريب ②: احسب المسافة المقطوعة لجسم انطلق من السكون فتحرك بسرعة مقدارها 20 m/s لمدة 3 s ؟

التحقق من الفهم

* اختر الإجابة الصحيحة فيما يلي:

① السرعة المتجهة اللحظية السرعة المتوسطة للجسم إذا كان يتحرك بسرعة ثابتة.

أ- أكبر من ب- أصغر من ج- تساوي د- صفر بالنسبة

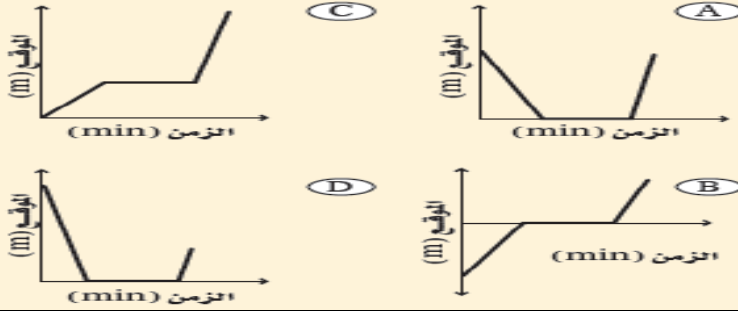
② يقيس رادار نظام ساهر للسيارة المسرعة:

أ- السرعة المتجهة المتوسطة ب- السرعة المتوسطة ج- السرعة المتجهة اللحظية د- جميع ما سبق

③ نزل سنجاب من فوق شجرة ارتفاعها 8 m بسرعة منتظمة خلال 1.5 min ، وانتظر عند أسفل الشجرة مدة 2.3 min ، ثم تحرك مرة أخرى في اتجاه حبة بندق على الأرض مدة 0.7 min . فجأة صدر صوت مرتفع سبب فرار السنجاب بسرعة إلى أعلى الشجرة، فبلغ الموقع نفسه الذي انطلق منه خلال 0.1 min .

أي الرسوم البيانية التالية يمثل بدقة الإزاحة الرأسية للسنجاب مقيسة من قاعدة الشجرة؟ (نقطة الأصل تقع عند قاعدة الشجرة).

Q5 Pega57

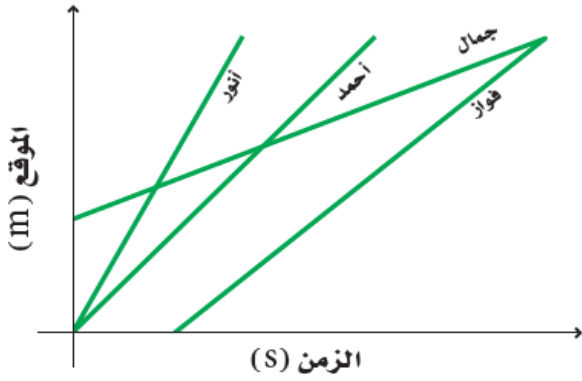


أ- A ب- B ج- C د- D

واجب رقم ٥

١- يبين منحى (الموقع - الزمن) في الشكل الآتي حركة أربعة من الطلاب في طريق عودتهم من المدرسة. رتب الطلاب حسب السرعة المتجهة

المتوسطة لكل منهم من الأبطأ إلى الأسرع. Q44 Page 54



الترتيب من الأبطأ إلى الأسرع: ① ② ③ ④

٢- إذا علمت موقع جسم متحرك عند نقطتين في مسار حركته، وكذلك الزمن الذي استغرقه الجسم للوصول من النقطة الأولى إلى

الأخرى، فهل يمكنك تعيين سرعته المتجهة اللحظية وسرعته المتجهة المتوسطة؟ فسر ذلك؟ Q42 Page 54

٣- تحركت دراجة بسرعة ثابتة مقدارها 4.0 m/s مدة 0.5 s . ما المسافة التي قطعها خلال هذه المدة؟ Q46 Page 54



اقرأ في الكتاب صفحة:
59 - 60 - 61

أخي الطالب: السلام عليكم ورحمة الله وبركاته - مبدأ التعاون مبدأ عظيم في الحياة
١- المقرر: ٢- عضو: ٣- عضو:
٤- عضو: ٥- عضو: ٦- عضو:

المجموعة
رقم ()

الهدف من الدرس: تعرف التسارع (العجلة) - تربط السرعة المتجهة والتسارع مع حركة الجسم - تمثل بيانياً العلاقة بين السرعة المتجهة والزمن.
(شرح الدرس)

التهيئة: صف سرعة حركة الطائرة عند الإقلاع - صف سرعة حركة السيارة عند اقترابها من إشارة المرور؟

ما وحدة التسارع المقترحة منك؟ ماذا يساوي ميل منحنى السرعة المتجهة - الزمن؟

ماذا نسمي تغير السرعة بالنسبة للزمن؟

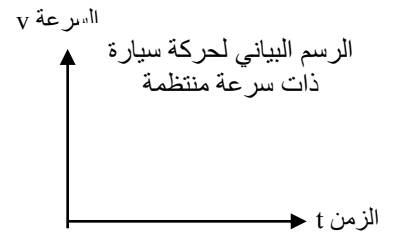
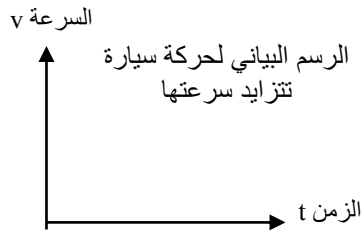
المفردات: منحنى السرعة المتجهة - الزمن ، التسارع.



نشاط ①: من التجربة الاستهلاكية الاتية، هل تبدو جميع أنواع الحركة بالشكل نفسه عند تمثيلها بيانياً؟ Page 60

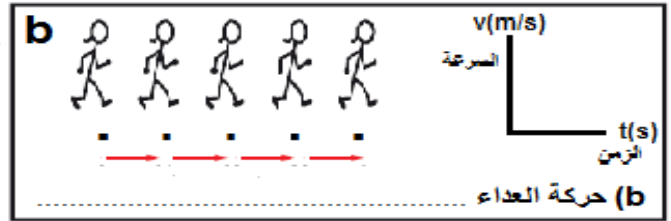
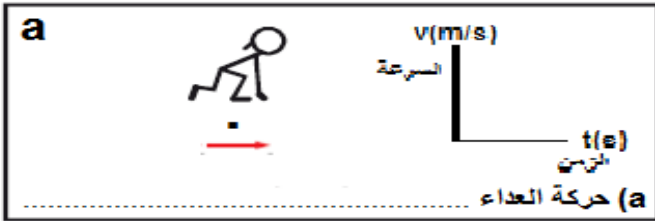


سؤال التجربة: كيف تقارن الرسم البياني لحركة سيارة ذات سرعة منتظمة بالرسم البياني لحركة سيارة تتزايد سرعتها؟

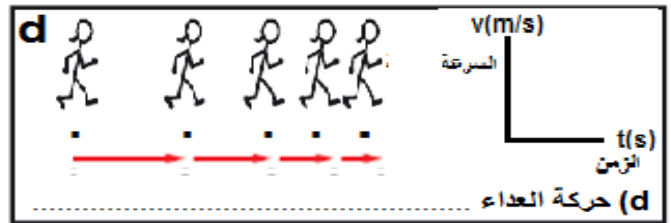
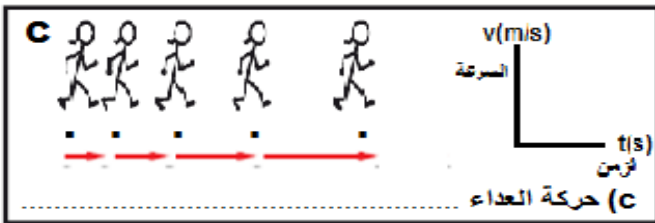


الاستنتاج:

نشاط ②: تأمل المخططات التوضيحية ثم صف حركة العداء مع رسم الخط البياني في كل حالة مع التوضيح؟



اعتمدنا في الرسم البياني لحركة العداء على



نشاط ③: عرّف التسارع المتجه المتوسط مع ذكر رمزه ووحدته وطريقة حسابه؟

التسارع المتجه المتوسط:

رمزه (.....) ويقاس بوحدته (.....).

ويمكن حساب التسارع المتجه المتوسط حسابياً:

ويمكن حساب التسارع المتجه المتوسط بيانياً:

ملاحظة: المساحة المحصورة تحت منحنى (السرعة المتجهة - الزمن) :

تدريب ①: أجب عما يلي:

السرعة المتجهة - الزمن	
السرعة المتجهة (m/s)	الزمن (s)
0.00	0.00
10.0	1.00
20.0	2.00
30.0	3.00
40.0	4.00
50.0	5.00

a- أرسم بيانياً الخط البياني لمنحنى السرعة المتجهة - الزمن؟

b- احسب ميل الخط البياني لمنحنى السرعة المتجهة - الزمن؟

c- ماذا يمثل ميل الخط البياني لمنحنى السرعة المتجهة - الزمن؟

التحقق من الفهم

* اختر الإجابة الصحيحة فيما يلي:



① الرسم البياني لمنحنى (السرعة - الزمن) في الشكل الآتي يمثل جسم:

أ- ساكن ب- يتحرك بسرعة متزايدة ج- يتحرك بسرعة متناقصة د- يتحرك بسرعة ثابتة

② ميل الخط البياني لمنحنى (السرعة - الزمن) لجسم يتحرك يدل على:

أ- السرعة المتوسطة ب- السرعة المتجهة المتوسطة ج- التسارع المتجه المتوسط د- التسارع المتوسط

③ وحدة قياس التسارع حسب النظام الدولي للوحدات:

أ- m/s ب- m/s² ج- m د- s/m

④ تسارع الجسم المتحرك بسرعة ثابتة يساوي تسارع الجسم:

أ- المتزايد السرعة ب- الساكن ج- الصاعد د- المتناقص السرعة

⑤ إذا كانت سرعة الجسم ثابتة، فإن التسارع:

أ- يتزايد ب- يتناقص ج- ثابت د- صفر

⑥ تتشابه السرعة المتجهة والتسارع في أن كليهما عبارة عن معدل تغير بالنسبة للزمن: Q51 Page 88

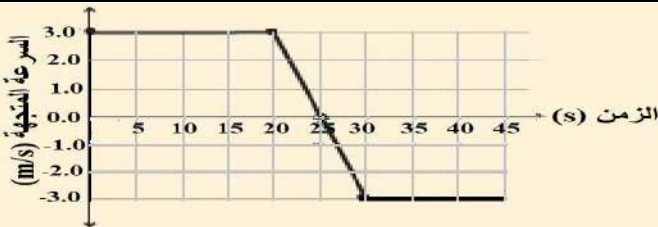
أ- العبارة صحيحة ب- العبارة خاطئة

⑦ المساحة تحت منحنى (السرعة المتجهة - الزمن) تساوي:

أ- إزاحة الجسم ب- سرعة الجسم ج- تسارع الجسم د- موقع الجسم

⑧ يمثل الرسم البياني التالي حركة شاحنة، ما الإزاحة الكلية للشاحنة؟

افرض ان الاتجاه الموجب نحو الشمال:



أ- 45 m جنوباً ب- 60 m شمالاً ج- 15 m شمالاً د- 120 m شمالاً

أجب عما يلي:

١- ما المعلومات التي يمكن استخلاصها من منحنى (السرعة المتجهة - الزمن)؟ Q12 Page 69

٢- إذا كان تسارع جسم يساوي صفرًا فهل هذا يعني أن سرعته المتجهة تساوي صفرًا؟ أعط مثالاً. Q65 Page 87



اقرأ في الكتاب صفحة:
62-63-64-65

أخي الطالب: السلام عليكم ورحمة الله وبركاته - مبدأ التعاون مبدأ عظيم في الحياة
١- المقرر: ٢- عضو: ٣- عضو:
٤- عضو: ٥- عضو: ٦- عضو:

المجموعة
رقم ()

الهدف من الدرس: تربط السرعة المتجهة والتسارع مع حركة الجسم.

(شرح الدرس)

ماذا نسمي تغير السرعة عند لحظة زمنية محددة؟

عدد أنواع السرعة التي مرت معك مبينا كيفية حسابها؟

التهيئة:

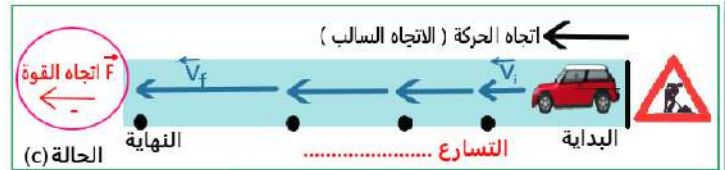
أعط أمثلة على أنواع التسارع للأجسام المتحركة مع تحديد نوع التسارع؟

المفردات: التسارع المتوسط - التسارع اللحظي

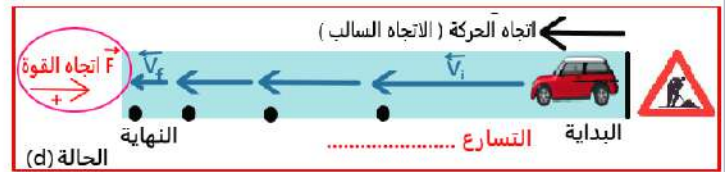
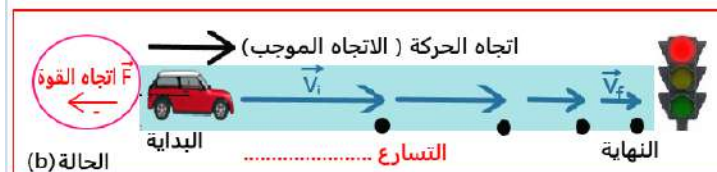
نشاط ①: قارن بين التسارع المتجه المتوسط والتسارع المتوسط والتسارع اللحظي من حيث التعريف وطريقة حسابه؟

الكمية	التسارع المتجه المتوسط	التسارع المتوسط	التسارع اللحظي
التعريف	هو التغير في السرعة خلال الزمن	هو التغير في السرعة خلال الزمن	هو التغير في السرعة خلال الزمن
طريقة حسابه

نشاط ②: وضح حالات التسارع الموجب والتسارع السالب من خلال تأمل نموذج الجسم النقضي لأربع طرق مختلفة في مسار مستقيم بتسارع ثابت مع التوضيح؟



متى يكون التسارع موجب ومتى يكون التسارع سالب؟



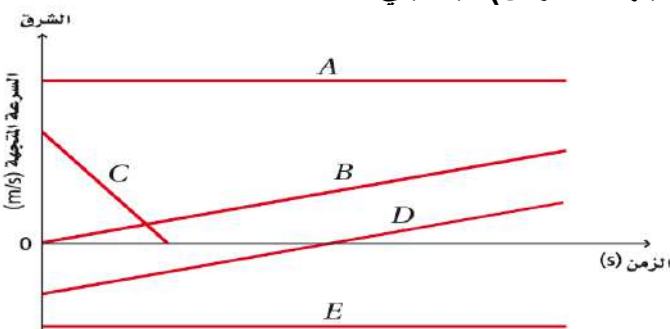
① السرعة متزايدة في الاتجاه الموجب للحركة إذن التسارع

② السرعة متناقصة في الاتجاه الموجب إذن التسارع

③ السرعة متزايدة في الاتجاه السالب إذن التسارع

④ السرعة متناقصة في الاتجاه السالب إذن التسارع

تدريب ①: وضح سرعة وتسارع كل عداء في منحنيات (السرعة المتجهة - الزمن) فيما يلي؟



منحنى A: السرعة والتسارع

منحنى B: السرعة والتسارع

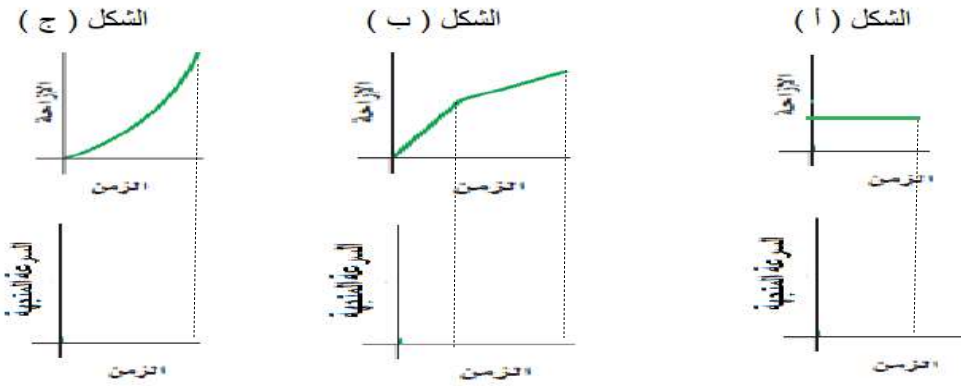
منحنى C: السرعة والتسارع

منحنى D: السرعة والتسارع

منحنى E: السرعة والتسارع

تدريب ②: سيارة سباق تزداد سرعتها من 4.0 m/s إلى 36.0 m/s خلال فترة زمنية مقدارها 4.0 s . أوجد تسارعها المتوسط؟ Q6 Page 68

تدريب ③: أرسم المنحنى البياني لما يلي:
للشكل (أ) والشكل (ب) والشكل (ج)



التحقق من الفهم

* اختر الإجابة الصحيحة فيما يلي:

① تسارع سيارة يساوي -5 m/s^2 ، هذا يعني:

أ- السيارة تتحرك بسرعة ثابتة في الاتجاه الموجب	ب- السيارة تقل سرعتها في الاتجاه السالب	ج- السيارة تزداد سرعتها في الاتجاه الموجب	د- السيارة تزداد سرعتها في الاتجاه السالب
--	---	---	---

② ميل المماس لمنحنى (السرعة المتجهة - الزمن) لجسم يدل على:

أ- السرعة المتوسطة	ب- التسارع اللحظي	ج- التسارع المتجه المتوسط	د- التسارع المتوسط
--------------------	-------------------	---------------------------	--------------------

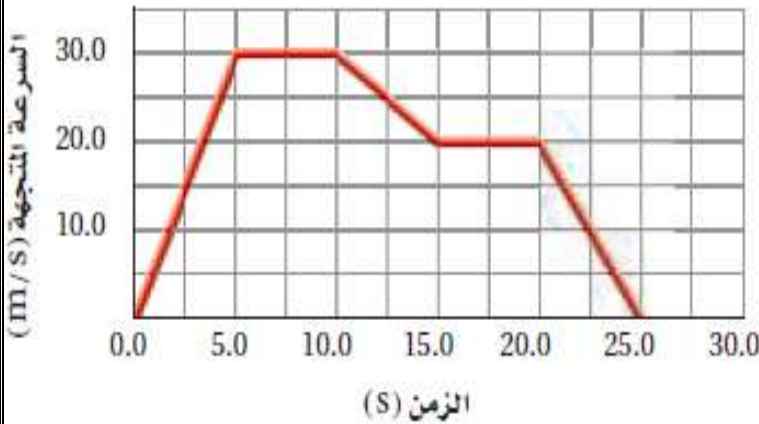
③ عندما يشير متجه التسارع والسرعة المتجهة لجسم إلى اتجاهين متعاكسين ، فإن هذا يعني أن:

أ- سرعة الجسم تزداد	ب- سرعة الجسم تتناقص	ج- الجسم يتحرك بسرعة ثابتة	د- الجسم ساكن
---------------------	----------------------	----------------------------	---------------

واجب رقم ٦

١- أوجد تسارع الجسم المتحرك في الأزمنة الآتية: Q79 Page 89

a- خلال الثواني الخمس الأولى من الرحلة (5.0 s)



b- بين 5.0 s و 10.0 s

c- بين 10.0 s و 15.0 s

٢- هل للسيارة التي تتباطأ تسارع سالب دائماً؟ فسر إجابتك. Q63 Page 87



اقرأ في الكتاب صفحة:
70-71-72

أخي الطالب: السلام عليكم ورحمة الله وبركاته - مبدأ التعاون مبدأ عظيم في الحياة

١- المقرر: ٢- عضو: ٣- عضو:
٤- عضو: ٥- عضو: ٦- عضو:

المجموعة
رقم ()

(شرح الدرس)

الهدف من الدرس: تفسر منحني (الموقع - الزمن) للحركة ذات التسارع الثابت - تحدد العلاقات الرياضية التي تربط بين كل من الموقع والسرعة والتسارع والزمن - تطبق علاقات بيانية ورياضية لحل المسائل التي تتعلق بالتسارع الثابت.



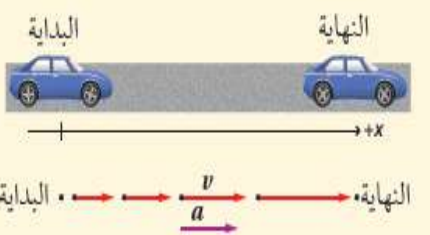
كيف تحسب التسارع المتوسط لجسم متحرك تغيرت سرعته خلال فترة من الزمن؟

التهيئة:

صف كيف يمكنك أن تحسب تسارع سيارة، مبيناً أدوات القياس التي ستستخدمها؟

متى يتساوى التسارع المتوسط مع التسارع اللحظي؟

نشاط ①: استنتج المعادلة الأولى للحركة (السرعة المتجهة النهائية بدلالة التسارع المتوسط) ؟ (مساعدة: استخدم قانون التسارع المتوسط)



نشاط ②: أكمل الفراغ الآتي من خلال الرسم البياني مما تعلمت سابقاً:

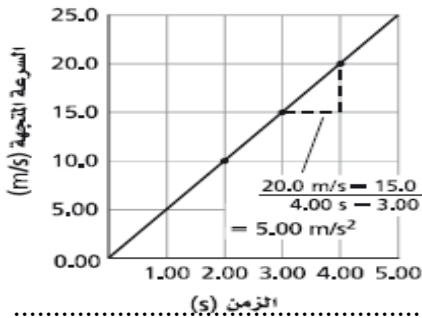
a - يمثل ميل الخط البياني لـ منحني (الموقع - الزمن)

b - يمثل ميل الخط البياني لـ منحني (السرعة المتجهة - الزمن)

c - المساحة تحت منحني (السرعة المتجهة - الزمن) تساوي عددياً

ملاحظة: حسب المنحني المقابل نجد أن التسارع =

حسب المنحني المقابل نجد أيضاً أن الإزاحة =



تدريب ①: تسير حافلة بسرعة 30.0 m/s ، فإذا زادت سرعتها بمعدل ثابت مقداره 3.5 m/s^2 ، فما السرعة التي تصل إليها

الحافلة بعد 6.8 s ؟ مساعدة: لديك معادلات الحركة الثلاث بتسارع ثابت [حاول معرفة كل رمز في المعادلات لكي تختار المعادلة الأنسب]

معادلات الحركة الثلاث بتسارع ثابت

$$V_f - V_i = a (t_f - t_i) \quad \text{----- 1}$$

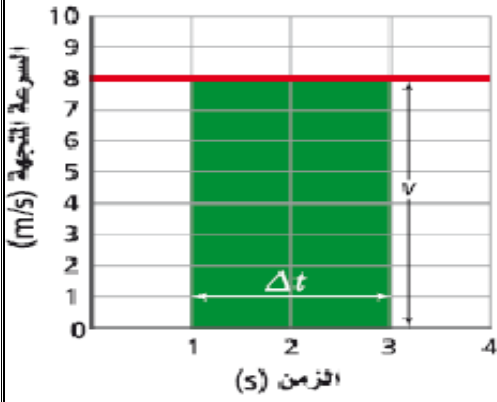
$$d_f - d_i = (V_i t_f) + \left(\frac{1}{2} a t_f^2\right) \quad \text{----- 2}$$

$$V_f^2 - V_i^2 = 2 a (d_f - d_i) \quad \text{----- 3}$$

تدريب منزلي ②: تتدحرج كرة إلى أسفل تل بتسارع منتظم 2.0 m/s^2 ، فإذا بدأت الكرة حركتها من السكون واستغرقت 4.0 s

قبل أن تتوقف. ما المسافة التي قطعتها الكرة قبل أن تتوقف؟ Q1 page 93

التحقق من الفهم

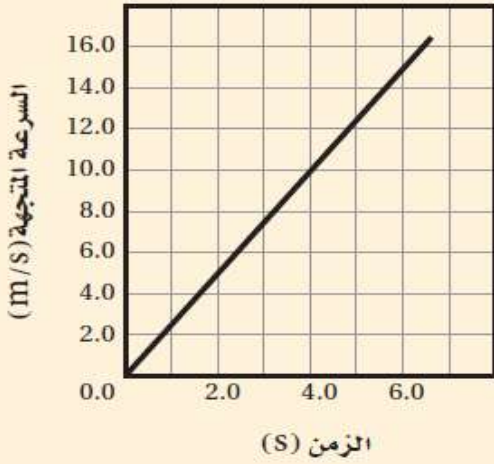


أجب عما يلي من المنحنى الآتي:

- أ- الإزاحة المقطوعة خلال الفترة من 1.0 s إلى 3.0 s =
- ب- التسارع المتجه المتوسط =

* اختر الإجابة الصحيحة فيما يلي:

١- ما تسارع السيارة الموضح بالرسم الآتي: Q1 page 128



-
-
-
-
-
-

أ- 0.20 m/s^2

ب- 0.40 m/s^2

ج- 1.0 m/s^2

د- 2.5 m/s^2

٢- بالاعتماد على الرسم البياني أعلاه، ما المسافة التي قطعتها السيارة بعد 4 s ؟ Q2 page 128

-
-
-
-
-

أ- 13 m

ب- 20 m

ج- 80 m

د- 90 m

٣- إذا تحركت السيارة في الرسم البياني السابق بتسارع ثابت، فكم تكون سرعتها المتجهة بعد 10 s ؟ Q3 page 128

-
-
-
-
-

أ- 10 Km/h

ب- 25 Km/h

ج- 90 Km/h

د- 120 Km/h



اقرأ في الكتاب صفحة:
79-80-81

أخي الطالب: السلام عليكم ورحمة الله وبركاته - مبدأ التعاون مبدأ عظيم في الحياة

١- المقرر: ٢- عضو: ٣- عضو:
٤- عضو: ٥- عضو: ٦- عضو:

المجموعة
رقم ()

(شرح الدرس)

الهدف من الدرس: تعرف التسارع الناتج عن الجاذبية الأرضية - تحل مسائل تتضمن أجساماً تسقط سقوطاً حراً.



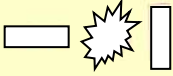
نسقط كرة وورقة من أعلى كلاهما في اتجاه الأرض. ما رأيكم في سرعة سقوطها نحو الأرض؟

التهينة:

ما القوة التي تجعل الأجسام تسقط نحو الأرض؟ ما معنى السقوط الحر؟ ماذا نسمي التسارع الناتج من هذه القوة وكم يساوي؟

المفردات: السقوط الحر - التسارع الناتج عن الجاذبية الأرضية.

نشاط ①: وضح هل تسقط جميع الأجسام (المختلفة في الوزن والكثافة والحجم) بالسرعة نفسها أم لا وذلك عند إهمال احتكاك مع الهواء وعند أخذ احتكاك مع الهواء في الاعتبار؟ شاهد التجربة من الباركود الآتي:



عند إهمال مقاومة الهواء نلاحظ أن جميع الأجسام


.....



وعند أخذ مقاومة الهواء بعين الاعتبار نلاحظ أن جميع الأجسام

.....

نشاط ②: عرف السقوط الحر؟

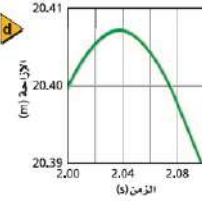
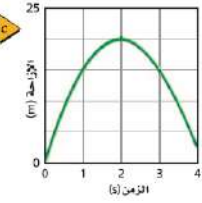
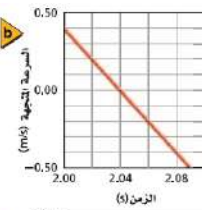
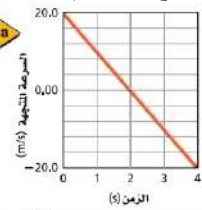
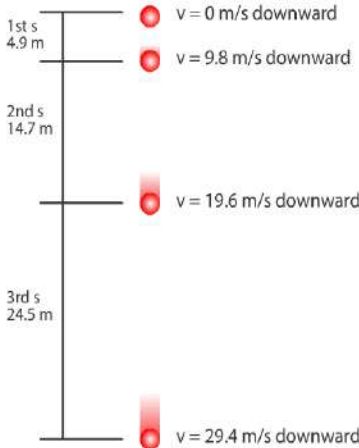


نشاط ③: ما المقصود بالتسارع الناتج عن الجاذبية الأرضية وما رمزه ووحدته؟

هو تسارع الأجسام الساقطة..... تحت تأثير

ويساوي ورمزه (.....) ووحدته (.....).

نشاط ④: تأمل المحاكاة التالية، ثم مقدار استنتاج تسارع الأجسام الساقطة من خلال التغير في المسافة والسرعة لكرة ساقطة وذلك خلال فترات زمنية محددة مع التوضيح لقيمة السرعة عند أقصى ارتفاع للجسم؟



تدريب ①: سقط قلم من أعلى سطح طاولة، كم مقدار تسارعه بإهمال مقاومة الهواء؟

.....

التحقق من الفهم

* ضع العلامة المناسبة أمام الجملة الآتية:

① استنتج جاليليو أن جميع الأجسام التي تسقط سقوطاً حراً يكون لها التسارع نفسه عند إهمال مقاومة الهواء ولا يتأثر هذا بنوع مادة الجسم أو وزنه أو كونه سقط أو قذف. ()

② أكمل الفراغات الآتية:

a- حركة الأجسام تحت تأثير الجاذبية الأرضية فقط مع إهمال مقاومة الهواء يعرف بـ

b- تسارع الناتج عن الجاذبية الأرضية هو تسارع جسم يسقط سقوطاً حراً نتيجة تأثير الجاذبية فيه ورمزه واتجاهه

c- تستخدم معادلات الحركة الثلاث بتسارع ثابت في مسائل الأجسام التي تسقط سقوطاً حراً وذلك باستبدال a بـ

d- تكون السرعة النهائية للجسم المقذوف لأعلى عند أقصى ارتفاع

e- إذا سقط جسم لأسفل فإن إشارة تسارع الجاذبية الأرضية إذا اختير الاتجاه لأعلى على أنه موجب تكون الإشارة

واجب رقم ٧

١- افترض أنك قذفت كرة إلى أعلى. صف التغيرات في كل من سرعة الكرة المتجهة وتسارعها؟ Q46 Page 82

نلاحظ أن الكرة في أثناء صعودها سرعتها بمعدل ثابت حتى تصل

ثم تأخذ الكرة في السقوط فتبدأ سرعتها

أما التسارع

٢- سقط أصيص أزهار من شرفة ترتفع 85m من أرضية الشارع. ما الزمن الذي استغرقه في السقوط قبل أن يصطدم بالأرض:

Q4 Page 93

أ- 4.2 s	ب- 8.3 s	ج- 8.7 s	د- 17 s
----------	----------	----------	---------

٣- يسقط حجراً سقوطاً حراً. ما سرعته بعد 8.0 s؟ وما إزاحته؟ Q92 Page 90



اقرأ في الكتاب صفحة:
95-96-97

أخي الطالب: السلام عليكم ورحمة الله وبركاته - مبدأ التعاون مبدأ عظيم في الحياة
١- المقرر: ٢- عضو: ٣- عضو:
٤- عضو: ٥- عضو: ٦- عضو:

المجموعة
رقم ()

الهدف من الدرس: تُعرّف القوة.

(شرح الدرس)



ما الذي يجعل كرة القدم، أو أي جسم آخر يتوقف أو يبدأ الحركة أو يغير اتجاهه؟

التهيئة:

ما الطرق المستخدمة لتغيير حركة كتاب فوق سطح الطاولة؟

ما هي القوة وما هي آثارها؟ وما رمزها وما وحدتها؟

المفردات: القوة - قوة التلامس (التماس) - قوة المجال - مخطط الجسم الحر.

نشاط ①: من التجربة الاستهلاكية الآتية، ما القوى التي يمكن أن تؤثر في جسم معلق بخيط؟ Page 95

ما القوة الأكبر؟

التفكير الناقد: ارسم مخططاً توضيحياً للتجربة، واستخدم الأسهم لتوضيح القوى المؤثرة في الكتاب.

تدريب ①: إذا وضع كتاب على سطح طاولة فكيف يمكنك أن تحركه؟

نشاط ②: عرف القوة؟ مع ذكر رمزها ووحدتها؟

تعريف القوة:

ورمزها ووحدة قياسها

نشاط ③: لدراسة القوة المؤثرة في حركة جسم ما، ماذا يجب أن نحدد؟

يجب أن نحدد: ① ②
نشاط ④: عدد أنواع القوى مع التوضيح بأمثلة لكل نوع؟

١- قوى

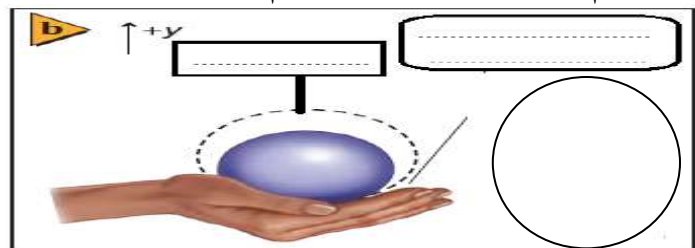
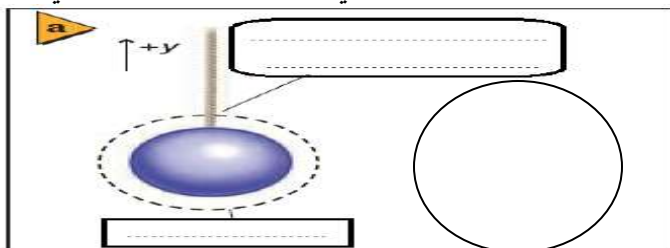
مثل:

٢- قوى

مثل:

نشاط ⑤: عرف مخطط الجسم الحر؟

تدريب ②: ارسم داخل الدائرة مخطط الجسم الحر لكرة موضوعة في راحة اليد وأخرى معلقة في خيط حسب الشكل الآتي؟



الرسم:

التحقق من الفهم

* اختر الإجابة الصحيحة فيما يلي:

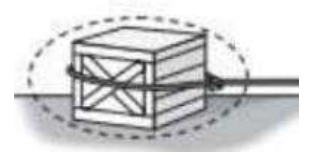
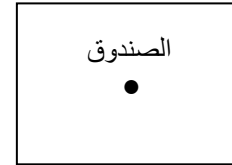
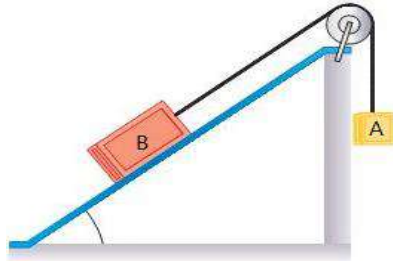
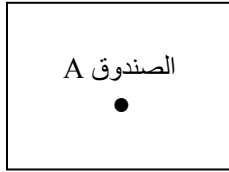
① يرمز للقوة بالرمز:			
أ- g	ب- F	ج- a	د- m
② تقاس القوة حسب النظام الدولي بوحدة:			
أ- Kg.m/s	ب- m	ج- Kg	د- N
③ القوة من أمثلة الكميات:			
أ- العددية	ب- القياسية	ج- المتجهة	د- الأساسية
④ أكمل الفراغ بما يناسبه (المحيط الخارجي - النظام) ، لدراسة القوة المؤثرة في الكتاب الموضوع على الطاولة نستطيع أن نقول أن: الكتاب هو وقوة الجاذبية هي			
⑤ تصنف القوى إلى قوى تلامس وقوى مجال وبالتالي فإن الكتلة:			
أ- قوة تلامس	ب- قوة مجال	ج- قوة جذب	د- ليست قوة
⑥ أي الكميات التالية تعتبر " قوة مجال ":			
أ- قوة الشد	ب- الوزن	ج- الدفع	د- مقاومة الهواء
⑦ النموذج الفيزيائي الذي يمثل القوى المؤثرة في جسم ما بحيث تشير متجهات القوة بعيداً عن الجسم حتى لو كانت تمثل قوى دفع يعرف بـ:			
أ- المخطط التوضيحي للحركة	ب- المخطط الجسمي النقطي	ج- مخطط الجسم الحر	د- لا شيء مما سبق

أجب عما يلي:

١- صنف كلاً من الوزن، الكتلة، القصور الذاتي، الدفع باليد، مقاومة الهواء، وقوة النابض، والتسارع إلى:
a- قوة تلامس b- قوة مجال c- ليست قوة Page 104 Q9

الوزن	الكتلة	القصور الذاتي	الدفع باليد	الدفع	مقاومة الهواء	قوة النابض	التسارع

٢- ارسم مخطط الجسم الحر لما يلي:



٣- حدد النظام، وارسم مخطط الحركة، ومخطط الجسم الحر لكل من الحالات الآتية بتمثيل جميع القوى ومسبباتها، وتعيين اتجاه

التسارع والقوة المحصلة والقوة المحصلة، مراعيًا رسم المتجهات بأطوال مناسبة: Page 98 Q1



a- سقوط أصيص أزهار سقوطاً حراً (أهمل أي قوى تنشأ عن مقاومة الهواء).

b- هبوط مظلي خلال الهواء ، وبسرعة متجهة منتظمة (يؤثر الهواء في المظلي بقوة إلى أعلى). Page 98 Q2





اقرأ في الكتاب صفحة:
98-99-100-101

أخي الطالب: السلام عليكم ورحمة الله وبركاته - مبدأ التعاون مبدأ عظيم في الحياة

١- المقرر: ٢- عضو: ٣- عضو:
٤- عضو: ٥- عضو: ٦- عضو:

المجموعة
رقم ()

(شرح الدرس)

الهدف من الدرس: يوضح العلاقة بين القوة التسارع - بحسب محصلة جمع القوى - يطبق قانون نيوتن الثاني في حل المسائل.

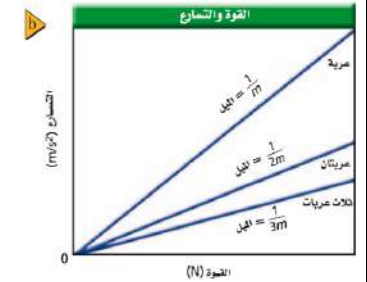
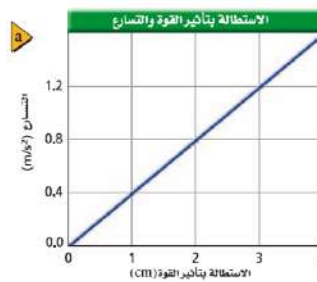
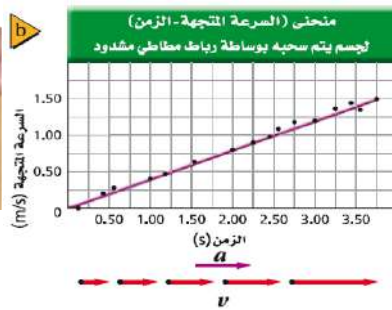



التهيئة: كيف يتحرك الجسم عندما تؤثر فيه قوة أو أكثر؟ وما المنحنى البياني المتوقع لحركة للجسم؟

كيف يعتمد التسارع على القوة المؤثرة في الجسم؟ متى يتزن الجسم الواقع تحت تأثير قوتين؟

المفردات: القوة المحصلة - قانون نيوتن الثاني.

نشاط ①: كيف يتحرك الجسم عندما تؤثر فيه قوة أو أكثر؟ * عند التأثير على الجسم بقوة ثابتة في اتجاه واحد مثل الرباط المشدود:



العلاقة بين القوة والتسارع



نشاط ②: ماذا يحدث إذا دفعت أنت وزميلك طاولة، فأثر كل منكما بقوة معينة؟

١- إذا تم دفع الطاولة بقوتين متساويتين في المقدار ومتعاكستين في الاتجاه فإن الطاولة

٢- إذا تم دفع الطاولة بقوتين متساويتين في المقدار ولهما نفس الاتجاه فإن الطاولة

٣- إذا تم دفع الطاولة بقوتين غير متساويتين في المقدار ومتعاكستين في الاتجاه فإن الطاولة

٤- إذا تم دفع الطاولة بقوتين غير متساويتين في المقدار ولهما نفس في الاتجاه فإن الطاولة

وعليه فإن تعريف القوة المحصلة:

نشاط ③: اذكر نص قانون نيوتن الثاني مع كتابة الصيغة الرياضية؟ "تذكر: قانون نيوتن 2 يربط بين القوة والتسارع"

تسارع السيارة a كتلة السيارة m
القوة المحصلة F

النص: إذا أثرت قوة أو محصلة قوى (F) في جسم كتلته (m) فإنها تكسبه

الصيغة الرياضية:

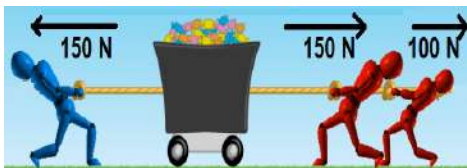
تدريب ①: ما الوحدات الدولية المستخدمة لقياس القوة وماذا تكافئ مع تعريف النيوتن؟

تقاس القوة بوحدة تسمى () ويرمز لها بالرمز ()

تعريف النيوتن: هو مقدار القوة التي إذا أثرت على جسم كتلته

في اتجاه القوة

تدريب ②: احسب مقدار محصلة القوى للأشكال الآتية؟



المحصلة $F =$



المحصلة $F =$



المحصلة $F =$

تدريب ③: تتباطأ سيارة كتلتها 2300 Kg بمعدل 3.0 m/s^2 عندما تقترب من إشارة مرور . ما مقدار القوة المحصلة التي تجعلها تتباطأ

وفق المقدار المذكور؟ Page 125 Q49

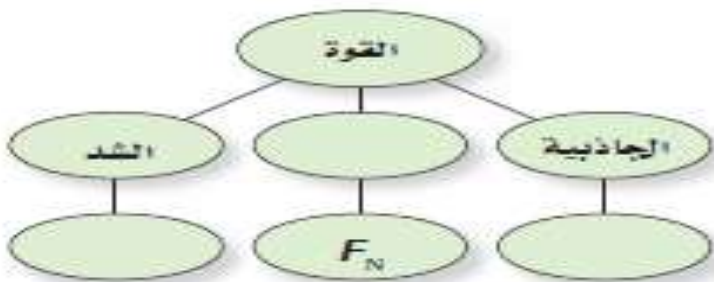
التحقق من الفهم

* اختر الإجابة الصحيحة فيما يلي:

① كلما زادت كتلة صندوق فإنه يحتاج لقوة أكبر لدفعه:			
أ- العبارة صحيحة	ب- العبارة خاطئة		
② النيوتن يكافئ:			
أ- $\text{m/s}^2 / \text{Kg}$	ب- m/s.Kg	ج- Kg.m/s^2	د- Kg.m/s
③ " تسارع جسم ما يتناسب طردياً مع القوة المحصلة المؤثرة فيه وعكسياً مع كتلته " ، هذا نص:			
أ- قانون نيوتن الأول	ب- قانون نيوتن الثاني	ج- قانون نيوتن الثالث	د- قانون الجذب الكوني
④ القانون الذي يوضح أنه كلما أثرت بقوة أكبر في تحريك بدالات دراجتك على طريق مستو فإن سرعتك تزداد:			
أ- قانون نيوتن الأول	ب- قانون نيوتن الثاني	ج- قانون نيوتن الثالث	د- قانون الجذب الكوني
⑤ إذا أثر لاعب بمضربه على كرة معدنية كتلتها 0.5 Kg فتحركت بتسارع مقداره 2m/s^2 ، فكم تكون قوة المضرب تلك اللحظة؟			
أ- 1 N	ب- 4 N	ج- 2.5 N	د- 2 N

أجب عما يلي:

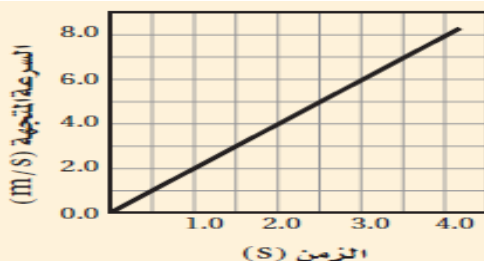
١- أكمل خريطة المفاهيم أدناه باستخدام المصطلحات والرموز التالية
القوة العمودية ، F_g ، F_T Page125 Q40



٢- ما القوة المحصلة التي تؤثر في كرة كتلتها 1.0 Kg وتسقط سقوطاً حراً؟ Page 125 Q48

٣- افترض أن تسارع جسم يساوي صفراً، فهل يعني هذا عدم وجود أي قوى تؤثر فيه؟ Page 125 Q41

٤- اعتماداً على الرسم البياني الآتي، ما مقدار القوة المؤثرة في عربة كتلتها 16 Kg ؟



Page 129 Q7



اقرأ في الكتاب صفحة:
103-104

أخي الطالب: السلام عليكم ورحمة الله وبركاته - مبدأ التعاون مبدأ عظيم في الحياة

١- المقرر: ٢- عضو: ٣- عضو:
٤- عضو: ٥- عضو: ٦- عضو:

المجموعة
رقم ()

(شرح الدرس)

الهدف من الدرس: تشرح معنى قانون نيوتن الأول.



ماذا يقصد بالقصور الذاتي؟ وهل يعتبر قوة؟

كيف تكون حركة الجسم عندما تؤثر فيه القوة المحصلة صفراً؟

التهينة:

ما السبب في تغير السرعة المتجهة لجسم ما؟
وما الشرط اللازم لتحقيقه في اتزان الجسم؟

ما الفترة الزمنية التي تستمر فيها كرة تتدحرج على سطح أفقي خشن أو ناعم؟

المفردات: قانون نيوتن الأول - القصور الذاتي - الاتزان.



الكرة الساكنة تبقى ساكنة



الكرة المتدحرجة بسرعة ثابتة وعلى خط مستقيم تبقى على
دحرجتها دون توقف ما لم تؤثر عليها قوى خارجية

نشاط ①: اذكر نص قانون نيوتن الأول مع كتابة الصيغة الرياضية؟ (من خلال تأمل الصورة الآتية)

النص:

الصيغة الرياضية:

تدريب ①: أعط أمثلة توضيحية على قانون نيوتن الأول أو ما يسمى أحياناً بقانون القصور؟

①

②



نشاط ②: عرف القصور الذاتي؟ (من خلال تأمل الصورة الآتية)

التعريف:

تدريب ②: أعط أمثلة توضيحية على القصور الذاتي؟

①

②



نشاط ③: ما الشروط اللازمة حتى يكون الجسم في حالة اتزان؟ (من خلال تأمل الصورة الآتية)

يحدث الاتزان حسب قانون نيوتن الأول إذا تحقق الشرط الآتي:

نشاط ④: عرف القوة المحصلة؟ (من خلال تأمل الصورة الآتية)



تدريب ③: أكمل الجدول الآتي لبعض أنواع القوى:

الاتجاه	التعريف	الرمز	القوة
..... للسطح و..... اتجاه الحركة. للحركة الانزلاقية بين الأسطح.	f_r	الاحتكاك
..... على سطح كلا من الجسمين. على الجسم.	F_N	قوة
..... للحبل أو الخيط ومتباعدة عن الجسم. أو حبل أو سلك في جسم متصل به، وتؤدي إلى	F_T	القوة التي يؤثر بها
..... في اتجاه مركز الأرض. تنتج عن		الوزن

التحقق من الفهم

* اختر الإجابة الصحيحة فيما يلي:

① وفقاً لقانون يبقى الجسم ساكناً أو يستمر بحركته بسرعة متجهة ثابتة إذا كانت القوة المحصلة المؤثرة فيه صفراً.			
أ- نيوتن الأول	ب- نيوتن الثاني	ج- نيوتن الثالث	د- الجذب الكوني
② يكون الجسم في حالة اتزان انتقالي إذا كانت القوة المحصلة المؤثرة فيه صفراً.			
أ- العبارة صحيحة	ب- العبارة خاطئة		
③ القوة المحصلة لقوتين متساويتين في المقدار وفي نفس الاتجاه تساوي:			
أ- الفرق بين القوتين	ب- مجموع القوتين	ج- صفر	د- لا شيء مما سبق
④ أي من الأمثلة الآتية فقط مثال على الاتزان:			
أ- الجسم الذي يكون في حالة سكون	ج- الجسم الذي تسارعه يساوي صفراً		
ب- الجسم المتحرك بسرعة منتظمة	د- جميع ما سبق		
⑤ كل ما يحدث اضطراباً في حالة الاتزان يسمى:			
أ- اتزان	ب- قوة محصلة	ج- قوة موازنة	د- جميع ما سبق
⑥ يكون اتجاه القوة العمودية دائماً عمودياً على السطح الذي يلامس الجسم:			
أ- العبارة صحيحة	ب- العبارة خاطئة		
⑦ عندما تتحرك السيارة للأمام في الشارع فإن اتجاه قوة الاحتكاك مع الأسفلت تكون:			
أ- مع اتجاه الحركة	ب- عكس اتجاه الحركة	ج- عمودية على اتجاه الحركة	د- لا شيء مما سبق
⑧ من الأمثلة على قانون نيوتن الأول:			
أ- ارتداد المدفع للخلف	ب- انطلاق الصاروخ	ج- الكتاب على الطاولة	د- جميع ما سبق

أجب عما يلي:

١- قوتان أفقيتان إحداهما 225 N والأخرى 165 N ، تؤثران في قارب في الاتجاه نفسه. أوجد القوة الأفقية المحصلة التي تؤثر في القارب مقداراً واتجاهاً؟ Page102 Q6

٢- هل يمكن أن تشعر بالقصور الذاتي لقلم رصاص أو كتاب؟ إذا كنت تستطيع فصف ذلك. Page 104 Q10

٣- إذا كان كتابك متزناً فما القوى التي تؤثر فيه؟ Page 125 Q42



اقرأ في الكتاب صفحة:
105-106

أخي الطالب: السلام عليكم ورحمة الله وبركاته - مبدأ التعاون مبدأ عظيم في الحياة
١- المقرر: ٢- عضو: ٣- عضو:
٤- عضو: ٥- عضو: ٦- عضو:

المجموعة
رقم ()

(شرح الدرس)



هل الكتلة هي الوزن؛ وضح ذلك؟

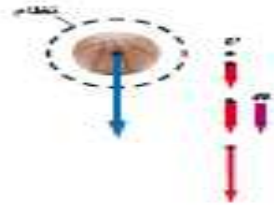
ماذا يدرس قانون نيوتن الثاني وما صيغته الرياضية؟

التهينة:

المفردات: الوزن

لماذا وزن رواد الفضاء على سطح القمر يصبح أقل بكثير من وزنه على سطح الأرض؟

الهدف من الدرس: تصف العلاقة بين وزن الجسم وكتلته.



نشاط ①: تأمل كلا من النموذجين التصويري والفيزيائي لكرة تسقط سقوطاً حراً في الشكل الآتي؛
ما القوى التي تؤثر في الكرة؟
القوى المؤثرة في الكرة:



نشاط ②: عرف الوزن ثم اكتب الصيغة الرياضية المستخدمة لحساب وزن الجسم؟ من خلال مشاهدة المقطع الاتي :

التعريف: ورمزه (.....) ويقاس بوحدة (.....)

الصيغة الرياضية:

نشاط ③: ما العوامل المؤثرة في وزن الجسم؟

تدريب ①: ما وزن بطيخة كتلتها 4.0 Kg ؟ Q 15 Page 106

نشاط ④: ما العلاقة بين قوة النابض في الميزان وقوة وزنه عندما تقف عليه؟



تدريب ②: يتعلم أحمد التزلج على الجليد، ويساعده أبوه بأن يسحبه بحيث يكتسب تسارعاً مقداره 0.80 m/s^2 . فإذا كانت كتلة أحمد 27.2 Kg ، فما مقدار القوة التي يسحبه بها أبوه؟ (أهمل المقاومة بين الجليد وحذاء التزلج) Q 16 Page 106

التحقق من الفهم

* اختر الإجابة الصحيحة فيما يلي:

① الوزن من الأمثلة على الكميات:			
أ- العددية	ب- المتجهة	ج- القياسية	د- الأساسية
② يقاس الوزن بوحدة:			
أ- Kg	ب- N	ج- g	د- m/s^2
③ الفرق بين الكتلة والوزن أن الكتلة ثابتة ولا تختلف باختلاف الموقع.			
أ- العبارة صحيحة		ب- العبارة خاطئة	
④ أيهما أسهل: رفع شاحنة الإسمنت؛ على سطح الأرض أم على سطح القمر؟			
أ- على سطح الأرض	ب- على سطح القمر	ج- متساويان في الرفع	د- لا شيء ما سبق

واجب رقم ٨

١- تزن دراجتك النارية 2450 N ، فما كتلتها بالكيلوجرام؟ Page 125 Q51

٢- يقف شخص كتلته 65 Kg فوق لوح تزلج على الجليد. إذا اندفع هذا الشخص بقوة 9.0 N فما تسارعه؟ Page 111 Q23

٣- يسحب طالبان دمية كتلتها 0.5 Kg ، بالتأثير فيهما أفقياً بقوتين 140.0 N و 138.0 N في اتجاهين متعاكسين. ما التسارع الأفقي للدمية؟

أ- $9.8 m/s^2$	ب- $8.0 m/s^2$	ج- $4.9 m/s^2$	د- $4.0 m/s^2$
----------------	----------------	----------------	----------------

٤- ما وزن مجس فضائي كتلته 225 Kg على سطح القمر؟ (مع افتراض أن مقدار تسارع الجاذبية على القمر $1.62 m/s^2$) Page 128 Q4

أ- 139 N	ب- 364.5 N	ج- $1.35 \times 10^3 N$	د- $2.21 \times 10^3 N$
----------	------------	-------------------------	-------------------------



أخي الطالب: السلام عليكم ورحمة الله وبركاته - مبدأ التعاون مبدأ عظيم في الحياة

١- المقرر: ٢- عضو: ٣- عضو:
٤- عضو: ٥- عضو: ٦- عضو:

المجموعة
رقم ()

اقرأ في الكتاب صفحة:
107-108-109-110

(شرح الدرس)



لماذا تشعر بأنك أثقل عندما يتسارع المصعد لأعلى وأخف عندما يتسارع لأسفل؟

ما الوزن وما العوامل المؤثرة فيه؟

التهيئة:

ما الفرق في قراءة الميزان بين الوقوف بقدمين أو بقدم واحدة بينما القدم الأخرى على الأرض؟

المفردات: الوزن الظاهري - القوة المعيقة - السرعة الحدية. **الهدف من الدرس:** نقارن بين الوزن الحقيقي والوزن الظاهري.



نشاط ①: عرف الوزن الظاهري؟ ناقش مع زملائك الأوضاع الآتية:

الوزن الظاهري:

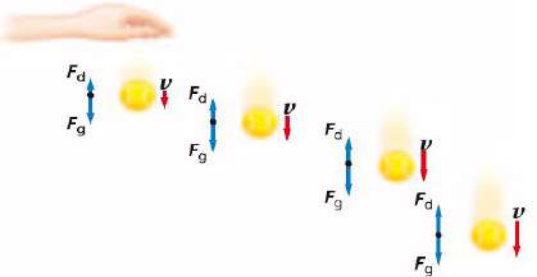
مناقشة أوضاع وزن الشخص في المصعد:

- الوزن الحقيقي = الوزن الظاهري عندما يكون المصعد
- الوزن الحقيقي يكون أكبر من الوزن الظاهري إذا كان المصعد تسارعه ويكون الوزن الحقيقي أصغر من الوزن الظاهري إذا كان المصعد تسارعه

نشاط ②: بفرض أن شخصاً ما يقف على ميزان في مصعد، وله كتلة مقدارها $m(Kg)$:

في البداية كان المصعد ساكناً ومن ثم تسارع المصعد لأعلى بمقدار (a) لمدة زمنية مقدارها (t) ، ومن ثم تابع حركته لأعلى بسرعة منتظمة. هل ستكون قراءة الميزان أثناء تسارع المصعد لأعلى: أكبر، أم مساوية، أم أقل من قراءة الميزان عندما كان المصعد ساكناً؟

نشاط ③: عرف القوة المعيقة وما العوامل المؤثرة فيها؟ من خلال الشكل الآتي:



القوة المعيقة:

العوامل المؤثرة في القوة المعيقة:

نشاط ④: عرف السرعة الحدية موضعاً متى يصل الجسم للسرعة الحدية؟ من خلال مشاهدة المقطع الآتي:



السرعة الحدية:

يصل الجسم للسرعة الحدية: إذا كانت القوة المعيقة للجسم وزن الجسم (قوة جاذبية الأرض للجسم).

تدريب ①: وضع ميزان داخل مصعد. ما القوة التي يؤثر بها الميزان في شخص يقف عليه كتلته $53 Kg$ ووزنه $519 N$ ، في الحالات التالية: a - إذا تحرك المصعد بسرعة منتظمة إلى أعلى. Q 53 Page 126

b- إذا تحرك المصعد إلى أسفل بسرعة منتظمة.

c- إذا تسارع المصعد بمقدار 0.2 m/s^2 في أثناء حركته إلى أسفل.

التحقق من الفهم

* اختر الإجابة الصحيحة فيما يلي:

① الميزان داخل المصعد يقرأ الوزن الحقيقي للجسم عندما يكون المصعد:

أ- يتسارع نحو الأعلى ب- يتسارع نحو الأسفل ج- متزن د- جميع ما سبق

② عندما تقف على ميزان داخل مصعد يتسارع لأعلى فإن قراءة الميزان:

أ- أقل من وزنك ب- تساوي وزنك ج- أكبر من وزنك د- تساوي صفر

③ الأجسام الخفيفة ذات السطوح الكبيرة يكون تأثيرها أكبر بالقوة المعيقة من الأجسام الثقيلة ذات السطوح الصغيرة.

أ- العبارة صحيحة ب- العبارة خاطئة

④ يقل الوزن في حالة تسارع المصعد لأسفل وفي حالة تباطؤ المصعد لأعلى.

أ- العبارة صحيحة ب- العبارة خاطئة

⑤ يقف طالب كتلته 50.0 Kg في مصعد ساكن. ما مقدار القوة المحصلة المؤثرة في الطالب؟

أ- 9.8 N ب- 0 N ج- 490 N د- 588 N

أجب عما يلي:

١- يقف طالب كتلته 50.0 Kg في مصعد يتسارع إلى أعلى بمقدار 1.80 m/s^2 . ما مقدار القوة المحصلة المؤثرة في الطالب؟

أ- 9.8 N ب- 90.0 N ج- 480 N د- 588 N

٢- هبط مظلي بسرعة منتظمة متخذاً هيئة الصقر المجنح. هل يتسارع المظلي بعد فتح مظلته؟ إذا كانت إجابتك نعم ففي أي اتجاه؟ فسر

إجابتك باستخدام قوانين نيوتن. Page 111 Q26



اقرأ في الكتاب صفحة:
112-113--116-117-119

أخي الطالب: السلام عليكم ورحمة الله وبركاته - مبدأ التعاون مبدأ عظيم في الحياة

١- المقرر: ٢- عضو: ٣- عضو:
٤- عضو: ٥- عضو: ٦- عضو:

المجموعة
رقم ()

(شرح الدرس)



التهنئة: ماذا يحدث لك إذا دفعت ظهر زميلك وكلاكما يرتدي حذاء التزلج؟ لماذا تتحرك إلى الخلف؟

عندما تستند على جدار لماذا لا تسقط؟ أعط أمثلة توضيحية على قانون نيوتن الثالث؟

المفردات: أزواج التأثير المتبادل - قانون نيوتن الثالث - قوة الشد - القوة العمودية

الهدف من الدرس: تعرّف قانون نيوتن الثالث - توضح قوى الشد التي تنشأ في الخيوط والحبال من خلال قانون نيوتن الثالث تعرف القوة العمودية - تحدد مقدار القوة العمودية من خلال تطبيق قانون نيوتن الثاني .

نشاط ①: بالتعاون مع أفراد مجموعتك نأفّس المجموعات الأخرى باستخدام الأدوات الآتية لتحريك السيارة: سيارة لعبة خفيفة- بالون - مصاص - لاصق.



المجموعة الفائزة:

الفكرة الرئيسية:

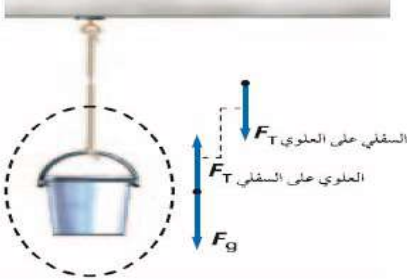
نشاط ②: اذكر نص قانون نيوتن الثالث مع كتابة الصيغة الرياضية وإعطاء أمثلة عليه؟ من خلال مشاهدة المقطع الآتي :



الصيغة الرياضية:

أمثلة توضيحية:

نشاط ③: وضح قوى الشد التي تنشأ في الخيوط والحبال من خلال قانون نيوتن الثالث؟



تعريف قوة الشد:

ويرمز لها بالرمز (.....) وتقاس بوحدته (.....) .

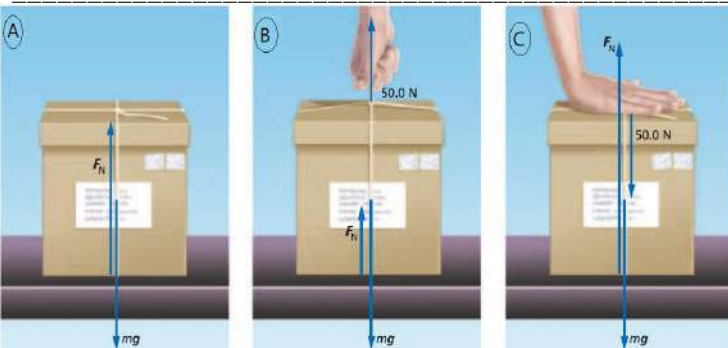
ملاحظة: العلاقة بين قوة الشد ووزن الجسم المعلق إذا كان الجسم متزن:

نشاط ④: عرف القوة العمودية مع ذكر رمزها ووحدتها؟ من خلال الشكل الآتي :



التعريف: هي قوة يؤثر بها في جسم آخر وتكون مستوى التلامس بينهما.

ويرمز لها بالرمز (.....) وتقاس بوحدته (.....) ويرمز لها بالرمز (.....) .



نشاط ⑤: حدد قيمة القوة العمودية في الشكل الآتي؟

تدريب ①: يُسلم صالح صندوقاً كتلته 13 Kg إلى شخص كتلته 61 Kg يقف على منصة. ما القوة العمودية التي تؤثر بها المنصة في هذا الشخص؟ Page120 Q38

التحقق من الفهم

* اختر الإجابة الصحيحة فيما يلي:

① ارتداد المدفع إلى الخلف أثناء إطلاق القذيفة هو تطبيق على قانون نيوتن:

أ- الأول ب- الثاني ج- الثالث د- الجذب الكوني

② كتاب الفيزياء الموضوع على الطاولة القوة العمودية المؤثرة فيه وزنه.

أ- أكبر من ب- أصغر من ج- تساوي د- ضعف

③ يبين الرسم الآتي دلوّاً ساكناً معلقاً بحبل. على افتراض أن الحبل مهمل الكتلة، ما مقدار القوة المحصلة المؤثرة في الدلو؟



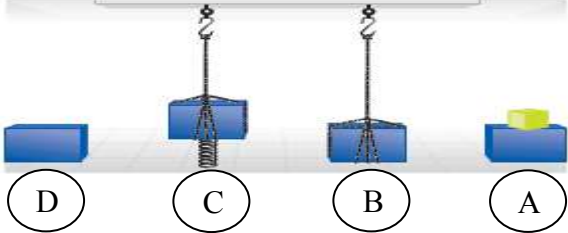
أ- 0.0 N ب- 2.0 N ج- 9.8 N د- 2.0×10^1 N

④ من الرسم السابق، ما مقدار قوة الشد في الحبل؟

أ- 9.8 N ب- 10 N ج- 14.2 N د- 2.0×10^1 N

واجب رقم ٩

١- الشكل الآتي عبارة عن كتلة في أربعة أوضاع مختلفة. رتب هذه الأوضاع بحسب مقدار القوة العمودية بين الكتلة والسطح، من الأكبر إلى الأصغر، أشر إلى أي علاقة بين نتائج الإجابة. Page 125 Q44



٢- لماذا يكون الشد ثابتاً في كل نقاط حبل مهمل الكتلة؟ Page 125 Q45

٣- يجلس طفل كتلته 45 Kg في أرجوحة كتلتها 3.2 Kg مربوطة إلى غصن شجرة، ما مقدار قوة الشد في حبل الأرجوحة؟ Page 128 Q5

٤- إذا تدلى غصن الشجرة في المسألة السابقة إلى أسفل بحيث تستند قدما الطفل على الأرض، وأصبحت قوة الشد في حبل الأرجوحة 220 N، فما مقدار القوة العمودية المؤثرة في قدمي الطفل؟ Page 129 Q6



اقرأ في الكتاب صفحة:
131-132-133

أخي الطالب: السلام عليكم ورحمة الله وبركاته - مبدأ التعاون مبدأ عظيم في الحياة

١- المقرر: ٢- عضو: ٣- عضو:
٤- عضو: ٥- عضو: ٦- عضو:

المجموعة
رقم ()

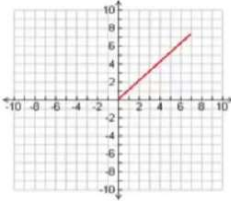
(شرح الدرس)



المتجه في الشكل الآتي في أي بعد؟

ماذا يحدث إذا كانت القوى التي تؤثر في المتسلق ليست عمودية أو أفقية؟

التهيئة:



كيف يمكن لمتسلقي الصخور تجنب السقوط في الصورة الآتية؟

المفردات: تعريف المتجه - شروط نقل المتجه - محصلة المتجهات.


الهدف من الدرس: تحسب مجموع متجهين أو أكثر في بعدين بطريقة الرسم وبالطريقة الحسابية.



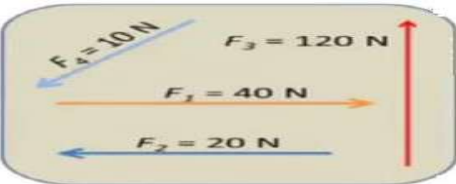
لمشاهدة التجربة:

نشاط ①: تجربة استهلالية: هل صحيح أن $2N + 2N = 2N$ ؟ الخطوات Page 122

سؤال التجربة: هل يمكن لمجموع (محصلة) قوتين متساويتين تؤثران في جسم أن يساوي إحدى هاتين القوتين؟



نشاط ②: ما المقصود بالمتجهات؟ يعد تأمل الشكل الآتي.



نشاط ③: عدد طرق جمع المتجهات مع التوضيح؟

الطريقة الأولى: جمع المتجهات بيانياً بالرسم:

يتم جمع متجهين أو أكثر بتوصيل المتجه مع المتجه الآخر ثم رسم المتجه المحصل من رأس المتجه الأول مع رأس المتجه الأخير، حيث:

① إذا كان المتجهين لهما نفس الاتجاه: فإن مقدار المتجه المحصل = ناتج المتجهين.

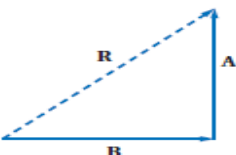
② إذا كان المتجهين متعاكسين في الاتجاه: فإن مقدار المتجه المحصل = ناتج المتجهين من بعضهما.

③ إذا كان المتجهين بينهما زاوية: نحتاج إلى منقلة ومسطرة وذلك لرسم المتجهات بالزوايا الصحيحة وقياس مقدار المتجه المحصل (المحصلة) وقياسها. وبالتالي: نستعمل المسطرة لقياس المحصلة R لمعرفة مقدار المحصلة ونستعمل المنقلة لقياس المتجه المحصل (المحصلة).

ملاحظة: عند نقل المتجه من مكان لآخر (شروط نقل المتجه) يجب المحافظة على: ١- ٢-

الطريقة الثانية: جمع المتجهات حسابياً على حسب الزاوية بين المتجهين:

① إذا كان الزاوية بين متجهين قائمة (90°) يفضل استخدام نظرية فيثاغورس:



② إذا كان الزاوية بين متجهين يمكن استخدام قانون الجيب أو جيب التمام:

$$R^2 = A^2 + B^2 - 2AB \cos \theta$$

أو قانون جيب التمام

$$\frac{R}{\sin \theta} = \frac{A}{\sin a} = \frac{B}{\sin b}$$

قانون الجيب

تدريب ①: قطعت سيارة 125.0 Km في اتجاه الغرب، ثم 65.0 Km في اتجاه الجنوب. فما مقدار إزاحتها؟

حل المسألة بطريقة الرسم وبالطريقة الحسابية. Page 134 Q1

الطريقة الأولى: الرسم

طول المحصلة =

الطريقة الثانية: حسابياً

التحقق من الفهم

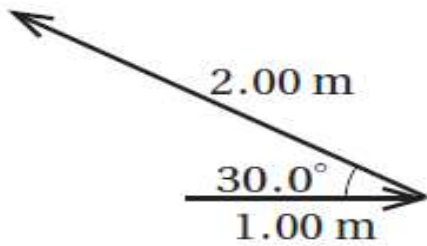
* ضع علامة (✓) أمام العبارة الصحيحة وعلامة (×) أمام العبارة الخاطئة فيما يلي:

- ١- للدلالة على الكميات المتجهة يتم بوضع سهم فوق رمزها أو استخدم الأحرف الغامقة (bold).
- ٢- إذا أردت جمع متجهين أو أكثر بطريقة الرسم يكون ذلك بوضع ذيل المتجه الآخر على رأس المتجه الأول.
- ٣- عند جمع متجهين بينهما زاوية قائمة يُفضل استخدام قانون الجيب.
- ٤- إذا أردنا رسم المتجه المحصل يتم ذلك بتوصيل ذيل المتجه الأول مع رأس المتجه الآخر.
- ٥- محصلة المتجهين لقوتين متعاكستين تساوي اتجاهها مجموعهما.

أجب عما يلي:

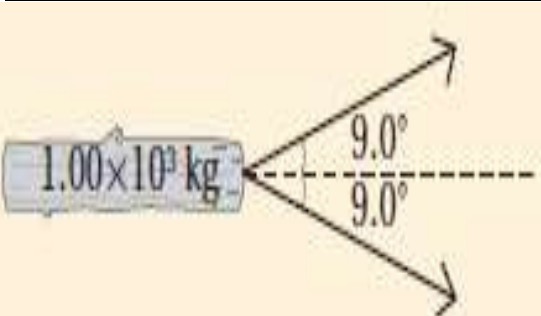
١- متجهان، طول الأول 1.00 m ، وطول الثاني 2.00 m ، والزاوية المحصورة بينهما 30.00 . ما مقدار مربع طول متجه المحصلة؟

أ- 1.54 m ²	ب- 3.00 m ²	ج- 7.00 m ²	د- 8.46 m ²
------------------------	------------------------	------------------------	------------------------



٢- يُسحب جذع شجرة كتلته 1.00×10^3 Kg بجرايين. إذا كانت الزاوية المحصورة بين الجرايين 18.0° (كما في الشكل)، وكل جرار يسحب بقوة 8.00×10^2 ، فما مقدار القوة المحصلة التي سيؤثران بها في جذع الشجرة؟ Page 159 Q1

أ- 250 N	ب- 1.52×10^3 N	ج- 1.58×10^3 N	د- 1.60×10^3 N
----------	-------------------------	-------------------------	-------------------------





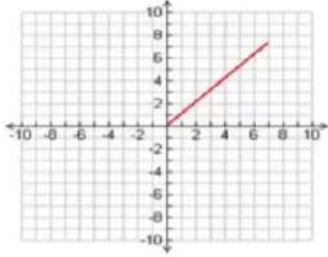
اقرأ في الكتاب صفحة:
134-135-136

أخي الطالب: السلام عليكم ورحمة الله وبركاته - مبدأ التعاون مبدأ عظيم في الحياة

١- المقرر: ٢- عضو: ٣- عضو:
٤- عضو: ٥- عضو: ٦- عضو:

المجموعة
رقم ()

(شرح الدرس)



لماذا نُحلل المتجهات إلى مركباتها؟

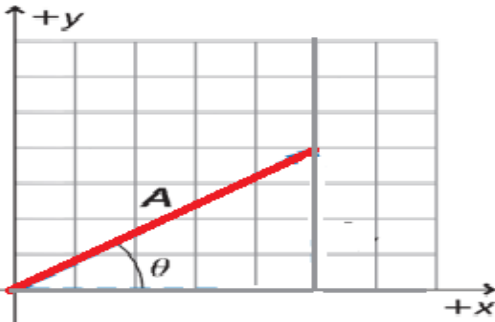
ماذا يقصد بتجزئة المتجه؟

التهيئة:

المتجه في الشكل الآتي في أي بعد؟

المفردات: المركبات - تحليل المتجه.

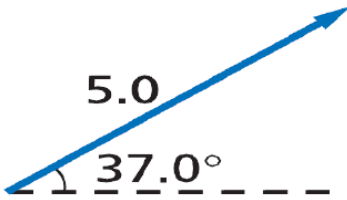
الهدف من الدرس: تحدد مركبتي كل متجه - تجمع مركبات المتجه.



نشاط ①: حل المتجه الآتي A ثم بين المقصود بتحليل المتجه؟

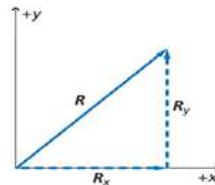
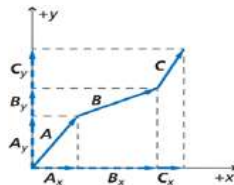
تعريف تحليل المتجه:

تدريب ①: أوجد مركبتي المتجه M المبين في الشكل الآتي: Page 138 Q11



نشاط ②: لماذا نحلل المتجهات؟

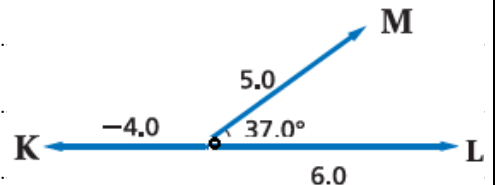
لأن
① بتحليل كل متجه إلى مركبتيه
② تجمع مركبات محور X على حده $R_x = A_x + B_x + C_x + \dots$
③ تجمع مركبات محور Y على حده $R_y = A_y + B_y + C_y + \dots$
④ مقدار واتجاه المحصلة:



$$R^2 = R_x^2 + R_y^2$$

$$\theta = \tan\left(\frac{R_x}{R_y}\right)$$

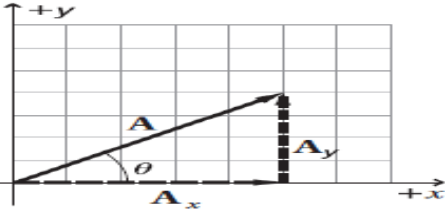
تدريب منزلي ②: أوجد محصلة المتجهات الثلاثة المبينة في الشكل الآتي؟ Page 138 Q12 (في ورقة خارجية)



التحقق من الفهم

** اختر الإجابة الصحيحة فيما يلي:

① يبيّن النظام الإحداثي أدناه مركبتي المتجه A . كيف تحدد اتجاه المتجه A ؟



أ- في عكس اتجاه حركة عقارب الساعة بدءًا من المحور الرأسي (y)

ب- في اتجاه حركة عقارب الساعة بدءًا من المحور الرأسي (y)

ج- في عكس اتجاه حركة عقارب الساعة بدءًا من المحور الأفقي (x)

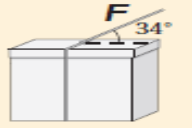
د- في اتجاه حركة عقارب الساعة بدءًا من المحور الأفقي (x)

② أوجد مقدار المركبة الرأسية (y) لقوة مقدارها 95.3 N تؤثر بزاوية 57.1° بالنسبة إلى الأفقي؟ Page 159 Q4

أ- 51.8 N

ب- 80.0 N

③ يُوثر خيط في صندوق كما في الشكل أدناه بقوة مقدارها 18 N تميل على الأفقي بزاوية 34° . ما مقدار المركبة الأفقية للقوة المؤثرة في الصندوق؟ Page 159 Q5



أ- 10 N

ب- 15 N

ج- 21.7 N

د- 32 N

واجب رقم ١٠

١- هل تساوي المسافة التي تمشيها مقدار إزاحتك؟ أعط مثالاً يدعم استنتاجك. Page 138 Q9

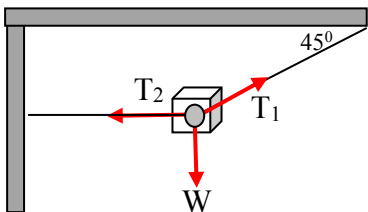
٢- اطرح المتجه K من المتجه L ؟ Page 138 Q10



٣- أوجد المركبتين الأفقية والرأسية لكل من المتجهات الآتية الموضحة في الشكل الآتي؟ Page 156 Q59



٤- يتزن جسم تحت تأثير ثلاث قوى كما في الشكل الآتي ما قيمة قوة الشد T_1 إذا كان وزن الجسم $W=50N$ ؟





اقرأ في الكتاب صفحة:
139-140-141

أخي الطالب: السلام عليكم ورحمة الله وبركاته - مبدأ التعاون مبدأ عظيم في الحياة
١- المقرر: ٢- عضو: ٣- عضو:
٤- عضو: ٥- عضو: ٦- عضو:

المجموعة
رقم ()

(شرح الدرس)

لماذا إذا دفعت كتاب فوق سطح طاولة يستمر قليلاً ثم يتوقف؟ وماذا يسمى هذا الاحتكاك مع ذكر أنواع الاحتكاك؟

التهيئة:

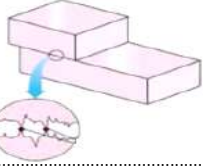


كيف تتوقع الحركة على الأرض بدون احتكاك؟

ماذا يقصد بقوة الاحتكاك وما العوامل المؤثرة فيها؟

المفردات: الاحتكاك الحركي - الاحتكاك السكوني - معامل الاحتكاك الحركي والسكوني.

الهدف من الدرس: تعرّف قوة الاحتكاك - تميّز بين الاحتكاك السكوني والاحتكاك الحركي.



نشاط ①: عرف قوة الاحتكاك وما وحدة قياسها؟ من خلال اجراء التجربة ومشاهدة الصورة و الفيديو الآتي:

التعريف:

وتقاس بوحدته ويرمز لها بالرمز (.....).

نشاط ②: ما أنواع قوى الاحتكاك مع التمييز بينهم؟ من خلال مشاهدة الصور والفيديو الآتي:



النوع ①: مثل: دفع صندوق فوق سطح الأرض

ورمزها (.....) وهي قوة تؤثر في السطح عندما ملامساً سطحاً اخر.



النوع ②: وهي قوة تؤثر في السطح عندما على السطح الآخر الملامس له.

ورمزها (.....) مثل: دفع أريكة على أرضية الغرفة

نشاط ③: ما العوامل المؤثرة في قوة الاحتكاك؟ وما وحدة معامل الاحتكاك؟ من خلال التجربة وتأمل الفيديو والصورة الآتية:



العوامل المؤثرة:

الصيغة الرياضية لحساب قوة الاحتكاك الحركي:

الصيغة الرياضية لحساب قوة الاحتكاك السكوني:

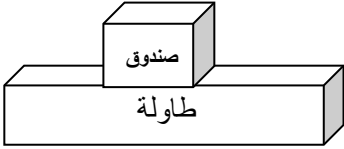
وحدة معامل الاحتكاك:

تدريب ①: يدفع عامر صندوقاً ممتلئاً بالكتب من مكتبه إلى سيارته. فإذا كان وزن الصندوق والكتب معاً 134 N ومعامل الاحتكاك السكوني بين البلاط والصندوق 0.55 ، فما مقدار القوة التي يجب أن يدفع بها عامر حتى يبدأ الصندوق في الحركة؟ Page 142 Q16

تدريب ②: يؤثر فتى بقوة أفقية مقدارها 36 N في زلاجة وزنها 52 N عندما يسحبها على رصيف أسمنتي بسرعة منتظمة. ما معامل الاحتكاك الحركي بين الرصيف والزلاجة الفلزية؟ أهمل مقاومة الهواء. (تدريب منزلي) Page 142 Q15

التحقق من الفهم

* اختر الإجابة الصحيحة فيما يلي:

① تسحب أنت وصديقك صندوقاً على أرضية الغرفة نحو الشرق، فيكون اتجاه قوة الاحتكاك:			
أ- شرقاً	ب- غرباً	ج- إلى أعلى	د- إلى أسفل
② القوة العمودية التي تؤثر في صندوق كتلته 10 Kg يستقر على سطح طاولة:			
			
أ- 10 Kg إلى أعلى	ب- 10 Kg إلى أسفل	ج- 98 Kg إلى أعلى	د- 98 N إلى أعلى
③ ما محصلة القوة التي يتعرض لها صندوق ينزلق عندما تؤثر عليه قوة 100 N والاحتكاك بين الصندوق والأرض مقداره 30 N ؟			
أ- 100 N	ب- 130 N	ج- 70 N	د- 0 N
④ إذا زاد عرض الطريق فإن احتكاك إطار السيارة بالطريق: Page 156 Q50			
أ- يزداد الاحتكاك	ب- يقل الاحتكاك	ج- لا يتأثر	د- يصبح صفراً

أجب عما يلي:

١- إذا أثرت بقوة أفقية مقدارها 20.0 N لدفع صندوق كتلته 10.2 Kg على سطح الأرض بسرعة متجهة ثابتة، فما مقدار معامل الاحتكاك الحركي بين الصندوق وسطح الأرض؟

٢- قرّر بعض الطلاب بناء عربة خشبية كتلتها 30.0 Kg فوق زلاجة. فإذا وضعت العربة على الثلج وصعد عليها راكبان كتلة كل منهما 90.0 Kg ، فما مقدار القوة التي يجب أن يسحب بها شخص العربة لكي تبدأ الحركة؟ اعتبر معامل الاحتكاك السكوني بين العربة والثلج 0.15 . Page159 Q3

أ- 1.8×10^2 N	ب- 3.1×10^2 N	ج- 2.1×10^3 N	د- 1.4×10^4 N
------------------------	------------------------	------------------------	------------------------

٣- ما معنى أن يكون معامل الاحتكاك أكبر من واحد؟ حدد طريقة لقياسه. Page 156 Q49

خاص بالميميزين ٤- دفعت صندوقاً خشبياً كتلته 2 Kg على طاولة خشبية بقوة أفقية 11.8 N . إذا علمت أن قوة الاحتكاك المؤثرة في الصندوق 3.8 N ، فما مقدار تسارعه على سطح الطاولة؟



اقرأ في الكتاب صفحة:
146 - 147 - 148

أخي الطالب: السلام عليكم ورحمة الله وبركاته - مبدأ التعاون مبدأ عظيم في الحياة

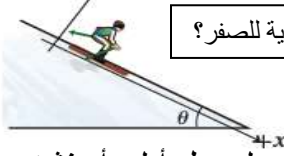
١- المقرر: ٢- عضو: ٣- عضو:
٤- عضو: ٥- عضو: ٦- عضو:

المجموعة
رقم ()

لماذا ينبغي علينا اختيار نظام إحداثي مناسب أثناء تحليل حركة جسم على سطح مائل؟ وهل تختلف مركبة وزن الجسم في السطح الأفقي عن المائل؟

التهيئة:

(شرح الدرس)

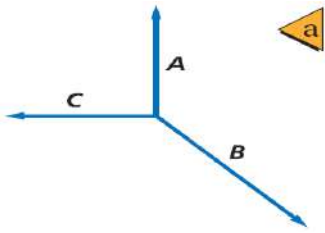


كيف نجعل محصلة القوتين المؤثرة في جسم ما التي لا تساوي صفرًا مساوية للصفر؟

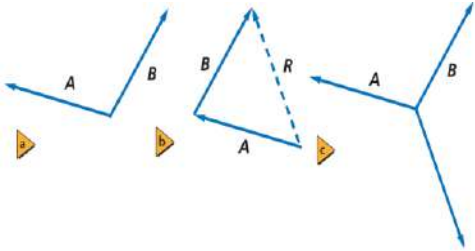
ماذا يقصد بقولنا إن الجسم متزن؟

المفردات: القوة الموازنة.

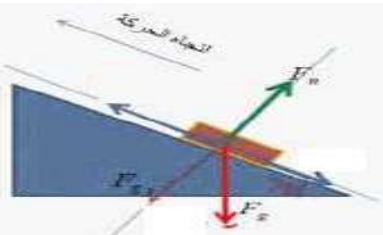
الهدف من الدرس: تحدد القوى التي تسبب الاتزان عندما تؤثر ثلاث قوى في جسم ما - تحلل حركة جسم على سطح أملس أو خشن.



نشاط ①: إذا أثرت ثلاث قوى على جسم ما، فمتى يتزن الجسم؟ من خلال مشاهدة الفيديو الآتي:



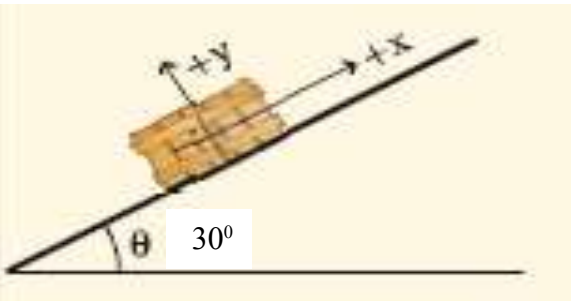
نشاط ②: عرف القوة الموازنة؟ من خلال تأمل المتجهات الآتية:



نشاط ③: كيف يمكن تطبيق قوانين الاتزان على السطوح ذات المستوى المائل؟ من خلال تأمل الشكل الآتي:

Page 148 Q5

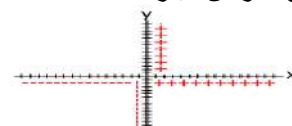
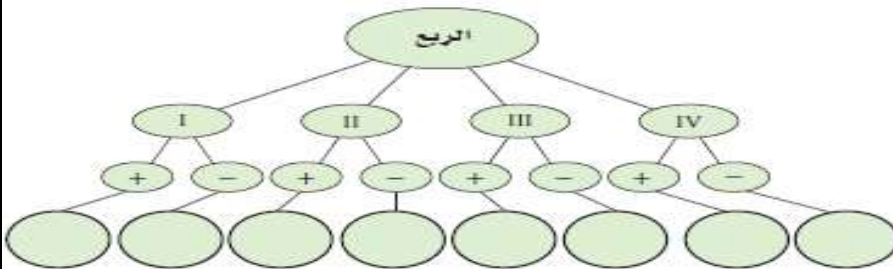
تدريب ①: يستقر صندوق وزنه 562 N على سطح مائل بزاوية 30° كما في الشكل. أوجد مركبتي قوة الوزن؟



تدريب ②: أكمل خريطة المفاهيم الآتية مستخدماً الجيب

وجيب التمام والظل للإشارة إلى اقتران بإشارة موجبة أو سالبة في كل ربع من الدائرة. قد تبقى بعض الدوائر فارغة، وقد يشتمل بعضها الآخر على أكثر من عبارة.

Pega 156 Q42



التحقق من الفهم

* اختر الإجابة الصحيحة فيما يلي:

① إشارة مركبتي المتجه تكون سالبة إذا وقع المتجه في الربع:

أ- الأول ب- الثاني ج- الثالث د- الرابع

② اتجاه القوة الموازنة لقوة تتجه بزاوية 45 غرب الشمال:



أ- 45 غرب الشمال ب- 45 شرق الشمال ج- 45 شرق الجنوب د- 45 غرب الجنوب

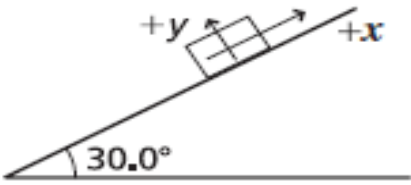
③ القوة الموازنة مقداراً واتجاهاً لقوتين تؤثران في جسم؛ إحداهما مقدارها 40 N نحو اليمين ، والأخرى مقدارها 30 N نحو اليسار:

أ- 70 N ب- 10 N ج- 10 N نحو اليسار د- 10 N نحو اليمين

واجب رقم ١١

١- يمثل مخطط الجسم الحر صندوقاً كتلته 1.50 Kg يستقر على سطح مائل حسب الشكل الآتي يوضح تحليل حركة جسم على سطح مائل. ما مركبة وزن الصندوق الموازية للسطح المائل؟

أ- 3.27 N ب- 7.35 N ج- 7.50 N د- 12.7 N



٢- ما مركبة وزن الصندوق العمودية على السطح المائل في الشكل السابق؟

أ- 3.27 N ب- 5.66 N ج- 7.35 N د- 12.7 N

٣- يجلس طفل كتلته 41.2 Kg على سطح يميل على الأفقي بزاوية 52.4°. إذا كان معامل الاحتكاك السكوني بينه وبين السطح 0.72 ، فما مقدار قوة الاحتكاك السكوني التي تؤثر في الطفل؟ Page 159 Q8

٤- هل يمكن لجسم متزن أن يتحرك؟ وضح ذلك. Page 156 Q54



اقرأ في الكتاب صفحة:
161 - 162 - 163-164

أخي الطالب: السلام عليكم ورحمة الله وبركاته - مبدأ التعاون مبدأ عظيم في الحياة

- ١- المقرر: ٢- عضو: ٣- عضو:
٤- عضو: ٥- عضو: ٦- عضو:

المجموعة
رقم ()

(شرح الدرس)

لماذا تتخذ المقذوفات مسار قطع مكافئ منحني؟

ما القوى التي تؤثر في الجسم (ارسم مخطط الجسم الحر) بعد إطلاقه؟


التهيئة:

هل تختلف الحركة الأفقية عن الحركة الرأسية للمقذوف؟ ولماذا تتغير السرعة الرأسية بانتظام بينما تظل السرعة الأفقية ثابتة؟

المفردات: المقذوف - مسار المقذوف. ◀ تجربة السقوط من فوق الحافة: أسقط كرتين من حافة أحدهما أفقياً والآخرى رأسياً في اللحظة نفسها، من الأسرع؟

الهدف من الدرس: ملاحظة أن الحركتين الرأسية والأفقية للمقذوف مستقلتان - الربط بين أقصى ارتفاع يصل إليه المقذوف، وزمن تحليقه في الهواء، وسرعته الابتدائية الرأسية باستعمال الحركة الرأسية - تحدد المدى الأفقي باستعمال الحركة الأفقية. تفسر كيف يعتمد شكل مسار المقذوف على الإطار المرجعي الذي يلاحظ منه.

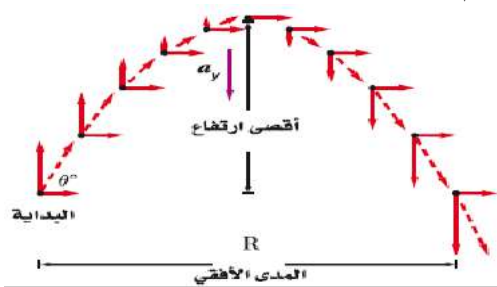
نشاط ①: هل يمكنك وصف حركة المقذوف؟ من خلال الشكل الآتي:



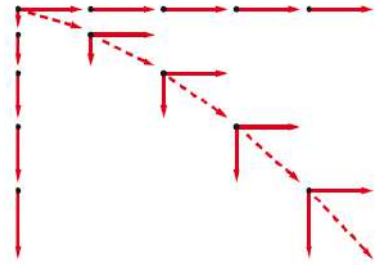
- يسمى الجسم الذي يطلق في الهواء
- القوة الوحيدة المؤثرة في المقذوف عند إطلاق الجسم واكسابه سرعة ابتدائية وبإهمال قوة مقاومة الهواء في أثناء حركته هي
- هذه القوة التي تجعله يتحرك في مسار أو على شكل
- تسمى حركة الجسم المقذوف في الهواء ويُسمى المسار الذي يسلكه المقذوف في الهواء بـ

نشاط ②: تجربة استهلالية: صف حركة المقذوف في كلا الاتجاهين الأفقي والرأسي مع الرسم؟ من خلال تأمل الشكل الآتي:

الشكل الآتي يوضح مخطط للحركة الأفقية والرأسية لجسم مقذوف حيث تكون حيث يمكن فصل حركة الجسم إلى مركبتها:



نشاط ③: ما هي أهم الملاحظات على المقذوفات التي تطلق بزاوية؟ من خلال تأمل الشكل الآتي:



- المقذوف بزاوية تكون لسرعة الابتدائية مركبتان:
- يرتفع الجسم المقذوف رأسياً لأعلى بسرعة تدريجياً حتى تصل
- مقدار السرعة في أثناء الصعود مقدار السرعة في أثناء النزول عند كل نقطة في الاتجاه الرأسي ويكون الاختلاف الوحيد بينهما في السرعة حيث إنهما متعاكستان.
- الكميتان اللتان ترافق مسار المقذوف،
١-
٢-

⑤ عند أقصى ارتفاع يصل إليه الجسم فإن للمقذوف لأن السرعة الرأسية

⑥ زمن التحليق: هو الزمن الذي يقضيه المقذوف في الهواء ويساوي

تدريب ①: تقذف كرة في الهواء بزاوية 50° بالنسبة إلى المحور الرأسي وبسرعة ابتدائية 11.0 m/s. احسب أقصى ارتفاع تصله الكرة؟ Page 167 Q7

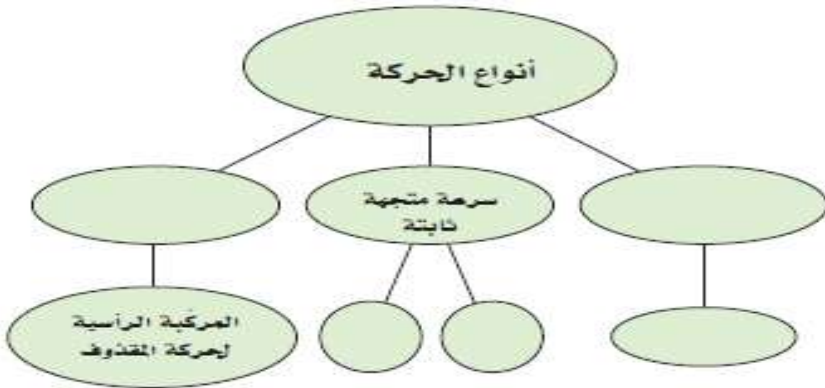
التحقق من الفهم

* اختر الإجابة الصحيحة فيما يلي:

① يسمى المسار الذي يسلكه المقذوف في الهواء:			
أ- مسار دائري	ب- قطع مكافئ	ج- قطع ناقص	د- قطع زائد
② لكي يمك اللاعب المستقبل الكرة عند مستوى صدره، يجب أن يصوب اللاعب الرامي الكرة صدر اللاعب المستقبل.			
أ- إلى جانب	ب- أسفل	ج- فوق	د- مباشرة على
③ المركبة الرأسية (السرعة الرأسية) لحركة المقذوف ثابتة لعدم وجود قوى تؤثر في هذا الاتجاه.			
أ- العبارة صحيحة	ب- العبارة خاطئة		
④ أسقطت برتقالة من ارتفاع معين في اللحظة نفسها التي أطلقت فيها رصاصة أفقياً من بندقية من الارتفاع نفسه. أي العبارات التالية صحيحة؟			
أ- تسارع الجاذبية الأرضية أكبر على البرتقالة، لأن البرتقالة أثقل.	ج- ستكون سرعتاهما متساويتين.		
ب- تؤثر قوة الجاذبية الأرضية في الرصاصة بصورة أقل من البرتقالة، لأن الرصاصة أسرع كثيراً.	د- سيصطدم الجسمان بالأرض في اللحظة نفسها.		

أجب عما يلي:

- ١- أكمل خريطة المفاهيم أدناه باستخدام المصطلحات التالية:
سرعة ثابتة، المركبة الأفقية لحركة المقذوف، تسارع ثابت،
حركة بالسرعة النسبية، حركة دائرية منتظمة. Page 180 Q27



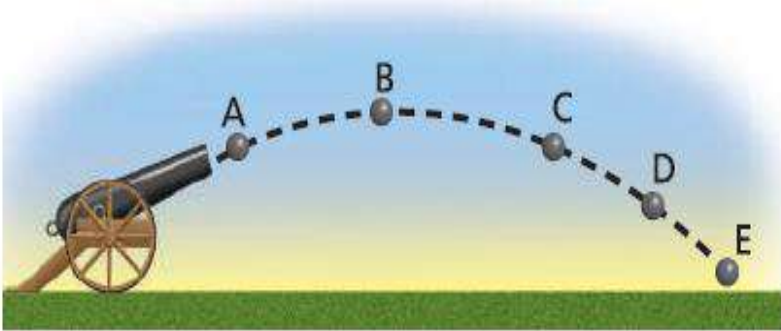
٢- ادرس الشكل الآتي الذي يمثل مسار قذيفة مدفع، ثم أجب عن الأسئلة التالية: Page 180 Q28

a- أين يكون مقدار المركبة الرأسية للسرعة المتجهة أكبر ما يمكن؟

b- أين يكون مقدار المركبة الأفقية للسرعة المتجهة أكبر ما يمكن؟

c- أين تكون السرعة المتجهة الرأسية أقل ما يمكن؟

d- أين يكون مقدار التسارع أقل ما يمكن؟



٣- قذفت كرة رأسياً إلى أعلى بسرعة متجهة 20 m/s . ما سرعة الكرة المتجهة عند عودتها إلى نقطة الإطلاق نفسها؟ أهمل مقاومة الهواء. Page 180 Q33

٤- تخيل أنك تجلس في سيارة وتقفذ كرة رأسياً إلى أعلى. Page 180 Q36

a- إذا كانت السيارة تتحرك بسرعة متجهة ثابتة فهل تسقط الكرة أمامك أم خلفك ، أم في يدك؟

b- إذا كانت السيارة تتحرك في منعطف بسرعة ثابتة المقدار فأين تسقط الكرة؟



اقرأ في الكتاب صفحة:
168 - 169 - 170

أخي الطالب: السلام عليكم ورحمة الله وبركاته - مبدأ التعاون مبدأ عظيم في الحياة

١- المقرر: ٢- عضو: ٣- عضو:
٤- عضو: ٥- عضو: ٦- عضو:

المجموعة
رقم ()

(شرح الدرس)

كيف تحدد اتجاه تسارع الجسم المتحرك حركة دائرية منتظمة؟

ماذا تسمى حركة الأجسام التي تسير في مسار دائري؟

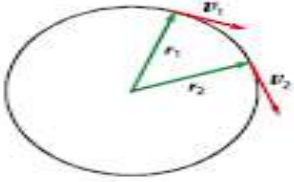
التهيئة:

هل يكون للجسم الذي يتحرك بسرعة ثابتة المقدار في مسار دائري تسارع؟ وضح ذلك؟

المفردات: الحركة الدائرية المنتظمة - التسارع المركزي - القوة المركزية.

الهدف من الدرس: تفسر لماذا يتسارع الجسم الذي يتحرك بسرعة ثابتة المقدار في مسار دائري. تصف كيف يعتمد مقدار التسارع المركزي على سرعة الجسم ونصف قطر مساره الدائري - تحدد القوة التي تسبب التسارع المركزي.

نشاط ①: عرف الحركة الدائرية المنتظمة مع ذكر مثال على ذلك؟ من خلال الشكل الآتي:



التعريف: هي حركة جسم أو جسيم بسرعة المقدار حول دائرة نصف قطره

مثال:

تدريب ①: لماذا يتسارع الجسم الذي يتحرك في مسار دائري بالرغم أنه يتحرك بسرعة ثابتة المقدار؟

نشاط ②: ما المقصود بـ الزمن الدوري مع ذكر رمزه مع بيان مقدار المسافة التي يقطعها الجسم في الدورة الواحدة؟

تعريف الزمن الدوري: ويرمز له بالرمز (.....)

مقدار المسافة التي يقطعها الجسم في الدورة الواحدة =

نشاط ③: عرف التسارع المركزي مع كتابة الصيغة الرياضية؟ من خلال مشاهدة المقطع الآتي:



تعريف التسارع المركزي:

الصيغة الرياضية: الصيغة الثانية: الصيغة الأولى:

نشاط ④: ما الفرق بين القوة المركزية وقوة الطرد المركزية مع التوضيح؟



القوة الوهمية	القوة المركزية (F_c)
هي قوة	هي قوة في اتجاه
مثل /	مثل /
القانون:	القانون:

تدريب ②: يسير متسابق بسرعة مقدارها 8.8 m/s في منعطف نصف قطره 25 m . ما مقدار التسارع المركزي للمتسابق؟ وما مصدر القوة

المؤثرة فيه؟ Page 171 Q10

التحقق من الفهم

* اختر الإجابة الصحيحة فيما يلي:

① تسارع الأجسام التي تتحرك في مسار دائري ناتج عن:			
أ- تغير مقدار سرعتها	ب- تغير اتجاه سرعتها	ج- تغير مقدار واتجاه سرعتها	د- القصور الذاتي
② إذا ربطت كرة بخيط وجعلتها تدور في مسار دائري فإن هناك قوة شد مركزية تسحب الكرة للداخل وقوة طرد مركزية تسحب الكرة للخارج.			
أ- العبارة صحيحة	ب- العبارة خاطئة		
③ إذا انقطع الخيط الممسك بالكرة اثناء دورانها فإن الكرة تتحرك:			
أ- قطريا للخارج بشكل دائري	ب- في خط مستقيم مماسي للمركز	ج- في خط مستقيم بعيدا عن المركز	د- لا شيء مما سبق
④ تتحرك السيارات المستخدمة في مدينة ألعاب بسرعة ثابتة مقداراً تساوي 4.0 m/s في مسار دائري نصف قطره 4.0 m . ما مقدار التسارع المركزي لكلٍ منها؟			
أ- 1.0 m/s^2	ب- 2.0 m/s^2	ج- 4.0 m/s^2	د- 16 m/s^2
⑤ إذا تحركت سيارة في مسار دائري بقوة 25 N بتسارع مركزي مقداره 5 m/s^2 ، فإن كتلة السيارة:			
أ- 25 Kg	ب- 100 Kg	ج- 5 Kg	د- 0.16 Kg

أجب عما يلي:

١- هل يمكنك الدوران في منعطف بالتسارعين الآتيين؟ فسر إجابتك. Page 180 Q30

a- تسارع يساوي صفراً:

b- تسارع ثابت:

٢- ما العلاقة بين القوة المحصلة وسرعة الجسم المتحرك للحصول على حركة دائرية منتظمة؟ Page 180 Q31

٣- ما اتجاه القوة المؤثرة في الملابس في اثناء دوران الغسالة؟ وما الذي يولد هذه القوة؟ Page 171 Q13

٤- تكمل سيارة كتلتها 615 Kg دورة سباق في مضمار دائري نصف قطره 50.0 m في 14.3 s . إذا تحركت السيارة بسرعة ثابتة المقدار:

a- فما مقدار تسارع السيارة؟ b- وما مقدار القوة التي تؤثر بها الطريق في عجلات السيارة لتنتج هذا التسارع؟ Page 181 Q42

خاص بالميزين: يُورجج بهلوان كرة فلزية كتلتها 2.7 Kg ، ومربوطة بطرف حبل من النايلون طوله 72.0 cm في مسار دائري فوق رأسه، بحيث تكمل الكرة دورة كاملة خلال 0.98 s . ما مقدار قوة الشد F_T التي تؤثر بها الكرة في الحبل؟ تحل في ورقة خارجية الجواب الصحيح = 0.92 N



اقرأ في الكتاب صفحة:
172-173-174

أخي الطالب: السلام عليكم ورحمة الله وبركاته - مبدأ التعاون مبدأ عظيم في الحياة
١- المقرر: ٢- عضو: ٣- عضو:
٤- عضو: ٥- عضو: ٦- عضو:

المجموعة
رقم ()

(شرح الدرس)



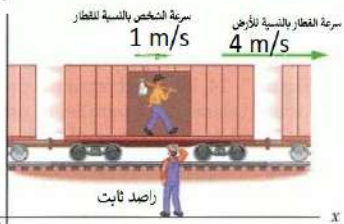
ما المقصود بالسرعة النسبية؟ وهل تختلف السرعة حينما يسجلها راصد ثابت عن راصد متحرك؟ وكيف نقيس السرعة؟

التهنية:

إذا كنت بسيارتك في نفس اتجاه حركة السيارات هل تختلف حركة السيارات بالنسبة لك كما لو كنت في عكس الاتجاه؟

المفردات: السرعة النسبية

الهدف من الدرس: تحلل حالات حيث تكون مجموعة المحاور متحركة - تحل مسائل تتعلق بالسرعة النسبية.


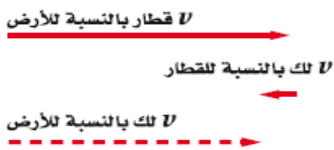


نشاط ①: ما المقصود بالسرعة النسبية مع كتابة الصيغة الرياضية؟ من خلال الشكل الآتي:

التعريف:

ويمكن استعمال الجمع الاتجاهي لحل مسائل السرعة النسبية:
حيث سرعة الجسم a بالنسبة للجسم c هي حاصل الجمع الاتجاهي لسرعة الجسم a بالنسبة للجسم b ، ثم سرعة الجسم b بالنسبة للجسم c .

نشاط ②: كيف نجمع السرعات إذا كانت في بعد واحد؟ (تأمل الشكلين جيدا)



نستنتج مما سبق:

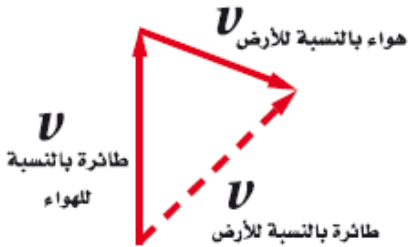
① نجمع إذا كانت الحركتان في ② نطرح إحداهما من الأخرى إذا كانت الحركتان

نشاط ③: كيف نجمع السرعات إذا كانت في بعدين؟

ينطبق مبدأ جمع السرعات النسبية أيضاً على الحركة في بعدين.


مثل: حركة الطائرة بالنسبة للأرض وحركة قارب في تيار متحرك من الماء.

يمكن إيجاد سرعة الطائرة بالنسبة للأرض بواسطة كما في الشكل:



تدريب ①: إذا كنت تركب قطاراً يتحرك بسرعة مقدارها 15.0 m/s بالنسبة للأرض، وركضت مسرعاً في اتجاه مقدمة القطار بسرعة

2.0 m/s بالنسبة للقطار، فما سرعتك بالنسبة للأرض؟ Page 174 Q19



a- سرعتك بالنسبة للقطار = b- سرعة القطار بالنسبة للأرض =

c- سرعتك بالنسبة للأرض؟؟

التحقق من الفهم

** اختر الإجابة الصحيحة فيما يلي:

① إذا كنت تركب قطار يتحرك بسرعة مقدارها 20 m/s بالنسبة للأرض. وكنت جالساً في القطار، فما سرعتك بالنسبة للأرض؟

أ- صفر	ب- 10 m/s	ج- -20 m/s	د- 20 m/s
--------	---------------------	----------------------	---------------------

② يبين الرسم التوضيحي الآتي السرعة المتجهة لشاحنة بالنسبة إلى الطريق $V_{t/r}$ ، والسرعة المتجهة لصندوق في مؤخرة الشاحنة ينزلق شمالاً بالنسبة إلى الشاحنة $V_{b/t}$ ، ما سرعة الصندوق بالنسبة للطريق؟

علماً بأن t ترمز إلى الشاحنة و b للطريق و r للصندوق.

أ- 8.00 m/s	ب- 10.2 m/s	ج- 12.0 m/s	د- 20.0 m/s
-----------------------	-----------------------	-----------------------	-----------------------

واجب رقم ١٢

١- يركض طالب على ضفة نهر بسرعة مقدارها 10 Km/h ، ويرى قارباً يتقدم نحوه بسرعة مقدارها 20 Km/h ، ما مقدار سرعة اقتراب الطالب من القارب؟ Page 183 Q5

٢- تطير طائرة في اتجاه الجنوب بسرعة 175 Km/h بالنسبة إلى الهواء، وهناك رياح تهب في اتجاه الشرق بسرعة 85 Km/h بالنسبة إلى الأرض، ما مقدار سرعة الطائرة واتجاهها بالنسبة إلى الأرض؟ Page 175 Q24

٣- لماذا تبدو سرعة السيارة المتحركة على الخط السريع وفي اتجاه معاكس للسيارة التي تركبها أكبر من السرعة المحددة؟ Page 180 Q32

٤- إذا أردت أن تتجاوز سيارةً بسيارتك على الطريق السريع، وكانت السيارتان تسيران في الاتجاه نفسه فسوف تستغرق زمناً أطول ممل لو كانت السيارتان تسيران في اتجاهين متعاكسين. فسّر ذلك. Page 181 Q37

الإجابات

المملكة العربية السعودية

وزارة التعليم

اوراق عمل

فيزياء 1

اول ثانوي مسارات

للفصل الدراسي الثاني

موقع
مادتي



اقرأ في الكتاب صفحة:
9-10-11

(شرح الدرس)



أخي الطالب: السلام عليكم ورحمة الله وبركاته - مبدأ التعاون مبدأ عظيم في الحياة
١- المقرر: اسم الطالب
٢- عضو:
٣- عضو:
٤- عضو:
٥- عضو:
٦- عضو:

المجموعة
رقم ()

الهدف من الدرس: تعريف علم الفيزياء - اجراء العمليات الحسابية وفقاً للقوانين الفيزيائية وباستخدام التعبير العلمي.

كيف تؤثر الفيزياء في حياتنا؟

لماذا ندرس علم الفيزياء؟

ماذا تعرف عن الفيزياء؟

التهيئة

المفردات: الفيزياء

نشاط ①: من التجربة الاستهلاكية الآتية، كيف يؤثر وزن الجسم في سرعة سقوطه؟ ص ٩



الهدف منها: استكشاف حركة جسم ساقط سقوطاً حراً. لمشاهدة التجربة من خلال الباركود الآتي:

الأدوات: خمس قطع معدنية، وشريط لاصق.

المشاهدة: تسقط الخمس القطع كما لو أنها قطعة واحدة.

الاستنتاج: أن وزن الجسم لا يؤثر في سرعة سقوطه لأن جميع الأجسام واقعة

تحت تأثير الجاذبية الأرضية.

نشاط ②: ما المقصود بالفيزياء؟ وما علاقة الفيزياء بالرياضيات؟

تعريف الفيزياء: فرع من فروع العلم يُعنى بدراسة العالم الطبيعي المادة والطاقة وكيفية ارتباطهما.

علاقة الفيزياء بالرياضيات: يستخدم علماء الفيزياء الرياضيات بوصفها لغة قادرة على التعبير عن القوانين

والظواهر الفيزيائية بشكل واضح ومفهوم على هيئة معادلات رياضية.

نشاط ③: أكمل الفراغ الآتي

١- الهدف من دراسة علم الفيزياء فهم العالم الطبيعي من حولنا.

٢- يعمل دارسو الفيزياء في مجالات ومهن متعددة حيث يعمل البعض باحثاً في الجامعات أو المعاهد أو المصانع

٣- ويعمل البعض الآخر في مجالات مرتبطة بالفيزياء مثل علم الفلك والهندسة والطب والكمبيوتر.

تدريب ①: وُصِّل مصباح كهربائي مقاومته (R) 50.0 Ω في دائرة كهربائية مع بطارية فرق جهدها (V) 2.0 volts ،

احسب مقدار التيار الكهربائي (I) المار خلال المصباح؟ إذا كانت العلاقة الرياضية لحساب فرق الجهد الكهربائي V = IR

(استخدم الخطوات المتفق عليها في حل أي مسألة حسابية في الفيزياء) Q1 Page 26

التيار I=? ، فرق الجهد V=2v ، المقاومة الكهربائية R=50 Ω

$$V=IR$$

$$I \times 50 = 2$$

$$I = 2/50$$

$$I = 0.04 \text{ A}$$

التحقق من الفهم

١

* اختر الإجابة الصحيحة فيما يلي:

① فرع من فروع العلم يعنى بدراسة العالم الطبيعي ويدرس المادة والطاقة والعلاقة بينهما:

علم الفيزياء ب- علم الرياضيات ج- علم الاحياء د- علم الأرض

② تستخدم الفيزياء باعتبارها لغة قادرة على التعبير عن القوانين والظواهر الفيزيائية بشكل واضح ومفهوم:

أ- الكيمياء الرياضيات ج- الانجليزي د- الهندسة

③ أعد كتابة المعادلة الآتية $v = d / t$ للحصول على d بدلالة v ، t حيث v السرعة ، d المسافة ، t الزمن ؟

$d = vt$ ب- $d = v / t$ ج- $d = t / v$ د- $d = t - v$

④ دفع رجل صندوقا كتلته 10 Kg بقوة مقدارها 100N ، احسب تسارع الجسم؟ حيث $F = m a$ ، F القوة – m الكتلة – a التسارع.

أ- 0.01 ب- 10 ج- 1000 د- 110

واجب رقم

١

١- ما أهمية الرياضيات في علم الفيزياء؟ Q22 Page 26

ج/ تستخدم الفيزياء الرياضيات باعتبارها لغة قادرة على التعبير عن القوانين والظواهر الفيزيائية بشكل واضح ومفهوم .

تستخدم الفيزياء الرياضيات باعتبارها لغة قادرة على التعبير عن القوانين والظواهر الفيزيائية بشكل واضح ومفهوم .

والمعادلات الرياضية تمثل أداة مهمة في نمذجة المشاهدات ووضع التوقعات لتفسير الظواهر الفيزيائية المختلفة .

٢- أعد كتابة المعادلة: $F = B q v$ للحصول على v بدلالة كل من F ، q ، B . Q7 Page 15

ج/ $F = Bqv$

$F/Bq = Bqv/Bq$

$v = F/Bq$

٣- لديك العلاقة الآتية $F = \frac{mv^2}{R}$ ، ما نوع العلاقة بين كل مما يلي؟ Q27 Page 26

أ. F و R نوع العلاقة علاقة عكسية

ب. F و m نوع العلاقة علاقة طردية

ج. F و v نوع العلاقة علاقة طردية تربيعية

٤- يعبر عن مقدار قوة جذب الأرض للجسم بالعلاقة: $F = m g$ ؛ حيث m تمثل كتلة الجسم و g التسارع الناتج عن الجاذبية الأرضية

($g = 9.80 \text{ m/s}^2$) . أوجد القوة المؤثرة في جسم كتلته 41.63 Kg ؟ Q32 Page 27

ج/ $g=9.8 \text{ m/s}^2$ $F=??$ $m=41.63 \text{ Kg}$

$F=mg$

$F=41.63 \times 9.8 = 407.97N$



أخي الطالب: السلام عليكم ورحمة الله وبركاته - مبدأ التعاون مبدأ عظيم في الحياة
١- المقرر: ٢- عضو: ٣- عضو:
٤- عضو: ٥- عضو: ٦- عضو:

المجموعة
رقم ()

اقرأ في الكتاب صفحة: 12

(شرح الدرس)

الهدف من الدرس: أن يوضح الطريقة العلمية - أن يستخدم خطوات الطريقة العلمية في تجاربه الفيزيائية وما يتعرض له من مشاكل.



ما الخطوات التي تستخدمها لحل المشكلة؟

ماذا تعمل إذا صادفت مشكلة ما في حياتك؟

التهيئة:

المفردات: الطريقة العلمية - الفرضية العلمية

كيف تستخدم الطريقة العلمية في حل مشكلة تعطل السيارة مثلاً؟

نشاط ①: كيف تساعد سائق السيارة في حل مشكلة تعطل السيارة؟

نقوم أولاً بتحديد المشكلة ثم جمع المعلومات عن هذه المشكلة ثم نضع الفرضيات الممكنة

لحل المشكلة ثم نختبرها ثم نحلل ابيانات ونستنتج الحل.



نشاط ②: عرف الطريقة العلمية؟

هي عملية منظمة للملاحظة والتجريب والتحليل للإجابة عن الأسئلة حول العالم الطبيعي.

حيث تمثل أسلوب للإجابة عن تساؤلات علمية بهدف تفسير الظواهر الطبيعية المختلفة.

نشاط ③: عدد خطوات الطريقة العلمية؟

③ وضع الفرضيات

② جمع المعلومات

① تحديد المشكلة

⑥ الاستنتاج

⑤ تحليل البيانات

④ اختبار صحة الفرضيات

نشاط ④: ما المقصود بـ الفرضية العلمية؟

هي تخمين علمي عن كيفية ارتباط المتغيرات بعضها مع بعض.

نشاط ⑤: كيف يتم اختبار صحة الفرضية العلمية؟

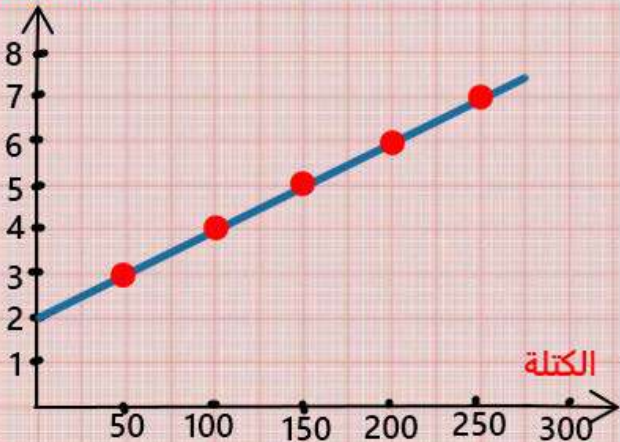
يتم من خلال تصميم التجارب وتنفيذها.

تدريب ①: تجربة قياس التغير / اجمع خمس حلقات معدنية متماثلة يستطيل بشكل ملحوظ عندما تعلق به حلقة معدنية. ص ١٢

a- ارسم بيانيا العلاقة بين طول النابض والكتلة المعلقة به. لمشاهدة التجربة من خلال الياكود الآتي:



الاستطالة



عدد الحلقات	الكتلة المعلقة	طول النابض
حلقة واحدة	50g	3cm
حلقيتين	100g	4cm
ثلاث حلقات	150g	5cm
أربع حلقات	200g	6cm
خمس حلقات	250g	7cm

b- التحليل والاستنتاج:

نلاحظ أن العلاقة بين الكتلة والطول علاقة طردية

التحقق من الفهم ٢

* اختر الإجابة الصحيحة فيما يلي:

① أسلوب للإجابة عن تساؤلات علمية بهدف تفسير الظواهر الطبيعية المختلفة:

أ- الفرضية العلمية الطريقة العلمية ج- التجربة العلمية د- النموذج العلمي

② تبدأ الطريقة العلمية بطرح أسئلة بناءً على المشاهدات ثم محاولة البحث عن إجابات منطقية لها عن طريق وضع الفرضيات.

أ- العبارة الصحيحة ب- العبارة خاطئة

③ وضع نتائج التجربة في جدول ورسمها بيانياً يسمى:

أ- تحليل البيانات ب- تحديد المشكلة ج- وضع الفرضية د- الاستنتاج

④ وضعت ندى نبتة داخل صندوق مغلق ومعزول وبعد فترة من الزمن وجدت هذه النبتة قد ماتت ولكي تحل هذه المشكلة بطريقة علمية عن سبب موت النبتة، فما يجب عليها القيام به كخطوة قادمة؟

أ- الاستنتاج ب- اختبار الفرضية ج- تحليل البيانات وضع الفرضية

⑤ لا يمكن للدليل العلمي الوثوق به إلا إذا كانت التجارب والنتائج قابلة للتكرار.

أ- العبارة صحيحة ب- العبارة خاطئة

ورقة الواجب رقم ٢

١- أكمل خريطة المفاهيم أدناه باستخدام المصطلحات التالية: Q20 Page 26
(جمع المعلومات ، تحليل البيانات ، يدعم الفرضية ، اختبار صحة الفرضية ، لا يدعم الفرضية) .



٢- ما المقصود بالطريقة العلمية؟ Q21 Page 26

ج٢/ هي عملية منظمة للملاحظة والتجريب والتحليل للإجابة عن الأسئلة حول العالم الطبيعي.

٣- في تجربة عملية، قيس حجم الغاز داخل بالون وحددت علاقته بتغير درجة الحرارة. ما المتغير المستقل، وما المتغير التابع فيها؟ Q25 Page 26

ج٣/ المتغير المستقل: درجة الحرارة.

المتغير التابع: حجم الغاز.



اقرأ في الكتاب صفحة:
13-14

أخي الطالب: السلام عليكم ورحمة الله وبركاته - مبدأ التعاون مبدأ عظيم في الحياة
١- المقرر: ٢- عضو: ٣- عضو:
٤- عضو: ٥- عضو: ٦- عضو:

المجموعة
رقم ()

(شرح الدرس)



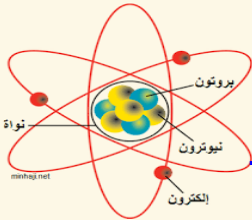
الهدف من الدرس: أن يتعرف الطالب على عناصر البناء العلمي - أن يفرق الطالب بين القانون العلمي والنظرية العلمية.

ماذا يتبادر إلى ذهنك حينما تسمع كلمة نموذج؟ أعط أمثلة على النماذج العلمية التي تعرفها؟

التهيئة:

المفردات: النموذج العلمي - القانون العلمي - النظرية العلمية

كيف تميز بين القانون العلمي والنظرية العلمية؟



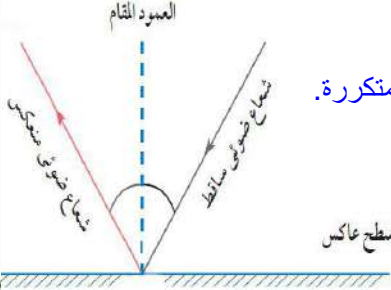
نشاط ①: ما المقصود بالنموذج العلمي وما فائدته وعلى ماذا يعتمد مع التوضيح بمثال؟

تعريف النموذج العلمي: هي أدوات ووسائل تسهل دراسة وتفسير الظواهر الطبيعية.

الفائدة من النموذج العلمي: لتبسيط الفكرة وتقريبها أو الظاهرة المراد دراستها لتسهيل شرحها.

يعتمد النموذج العلمي على: التجريب.

أمثلة على النماذج العلمية: نموذج الكرة الأرضية - نموذج الذرة في الكيمياء.



نشاط ②: عرف القانون العلمي مع إعطاء أمثلة عليه؟

القانون العلمي: هو قاعدة طبيعية تجمع مشاهدات مترابطة لوصف ظاهرة طبيعية متكررة.

ويمكن التعبير عن هذا القانون بـ علاقة بين متغيرين أو أكثر على هيئة معادلة.

أمثلة على القانون العلمي: قانون الانعكاس وقانون حفظ الشحنة

وقوانين نيوتن للحركة وقانون الجذب الكوني.

نشاط ③: عرف النظرية العلمية مع إعطاء مثال على ذلك؟

النظرية العلمية: هو الإطار الذي يجمع بين عناصر البناء العلمي في موضوع من موضوعات العلم

ويكون مدعوماً بالملاحظات والنتائج التجريبية لتفسير الظواهر الطبيعية المختلفة.

مثل: نظرية التجاذب الكوني ونظرية سقوط الأجسام.

نشاط ④: ما الفرق بين القانون العلمي والنظرية العلمية؟

القانون العلمي يصف الظاهرة بينما النظرية تفسر سبب حدوث الظاهرة.

التحقق من الفهم ٣

* اختر الإجابة الصحيحة فيما يلي:

١- أفضل تفسير موجود لمبدأ عمل الأشياء:	أ- الفرضية	النظرية <input type="radio"/>	ج- القانون	د- التوقع
٢- قاعدة طبيعية تجمع مشاهدات مترابطة لوصف ظاهرة طبيعية متكررة تعرف بـ :	أ- النظرية العلمية	ب- النموذج العلمي <input type="radio"/>	القانون العلمي <input type="radio"/>	د- الطريقة العلمية
٣- تتغير النظريات وتُعدل عندما تُوفّر التجارب الجديدة ملاحظات جديدة:	أ- العبارة خاطئة <input type="radio"/>	ب- العبارة خاطئة <input type="radio"/>		

١- ما الفرق بين النظرية العلمية والقانون العلمي؟ وما الفرق بين الفرضية والنظرية العلمية؟ أعط أمثلة مناسبة. Q28 Page 26

a- الفرق بين النظرية العلمية والقانون العلمي:

القانون العلمي قاعدة طبيعية تجمع مشاهدات مترابطة لوصف ظاهرة طبيعية مثل قانون الانعكاس .

بينما النظرية العلمية تفسير للقانون العلمي بالاعتماد على المشاهدات .

وعليه فإن النظرية تفسير سبب حدوث الحدث بينما القانون يصف الحدث نفسه .

b- الفرق بين الفرضية والنظرية العلمية:

تختبر النظرية العلمية أكثر من مرة قبل ان تقبل . أما الفرضية فهي فكرة أو تصور عن كيفية حدوث الأشياء .

المجموعة
رقم ()أخي الطالب: السلام عليكم ورحمة الله وبركاته - مبدأ التعاون مبدأ عظيم في الحياة
١- المقرر: ٢- عضو: ٣- عضو:
٤- عضو: ٥- عضو: ٦- عضو:اقرأ في الكتاب صفحة:
16-17

(شرح الدرس)

الهدف من الدرس: أن يعرف الطالب مفهوم القياس - أن يتعرف الطالب على النظام الدولي للوحدات.



عندما تزور الطبيب يقوم بعمل عدة قياسات لك، ما هي القياسات مع ذكر وحداتها وأسماء الأجهزة المستخدمة؟

التهيئة:

المفردات: القياس - النظام الدولي للوحدات.

كيف نقيس؟ وما الأنظمة المستخدمة في القياس؟

الكمية المجهولة
??الكمية المعروفة
(Kg)

نشاط ①: من خلال الشكل الآتي، أعط تعريفاً لـ القياس مع التوضيح بمثال؟

القياس: مقارنة كمية مجهولة بأخرى معيارية (معلومة).

مثال توضيحي: قياس طول الباب فالكمية المجهولة طول الباب والكمية المعيارية المتر (m).

نشاط ②: علل يعتبر النظام الدولي للوحدات النظام الأوسع انتشاراً في العالم؟

(انظر الجدول في الكتاب ص ١٧)

السبب/ لتعميم النتائج بشكل مفهوم لدى الناس وسهولة التحويل بين وحداته.

ملاحظة: عدد الكميات الأساسية في النظام الدولي للوحدات سبع كميات.

نشاط ③: عدد أقسام الكميات الفيزيائية مع التوضيح؟

تقسم إلى قسمين:

١- الكميات الأساسية:

هي الكميات التي تعرف بذاتها وتقاس مباشرة.

مثل: الزمن - الكتلة - الطول.

البادئات المستخدمة مع وحدات النظام الدولي

القوة	الرمز	البادئة
10 ⁻¹⁵	f	femto فيمتو
10 ⁻¹²	p	Pico بيكو
10 ⁻⁹	n	nano نانو
10 ⁻⁶	μ	micro ميكرو
10 ⁻³	m	Milli مللي
10 ⁻²	c	Centi سنتي
10 ⁻¹	d	Deci ديسي
10 ³	k	Kilo كيلو
10 ⁶	M	Mega ميغا
10 ⁹	G	Giga جيجا
10 ¹²	T	Tera تيرا

٢- الكميات المشتقة:

هي الكميات التي يمكن اشتقاقها وتبسيطها إلى كميات أخرى.

مثل: السرعة - التسارع - الكثافة.

نشاط ④: ما المقصود بالبادئات مع التوضيح بأمثلة؟

البادئات:

هي مضاعفات أو أجزاء تستخدم في تحويل وحدات النظام الدولي باستخدام قوة مناسبة

للرقم 10 .

مثل: الكيلو (k) يمثل ب ألف = 1000 وهكذا

التحقق من الفهم ٤

* اختر الإجابة الصحيحة فيما يلي:

① مقارنة كمية مجهولة بكمية أخرى معلومة يعرف بـ :

أ- تحليل الكميات ب- المعايرة ج- القياس د- الضبط

② إذا قيست كتلة جسم ما فإن الكمية المجهولة هي كتلة هذا الجسم وبالتالي فإن الكمية المعيارية هي :

أ- Kg ب- g ج- m د- cm

③ الكمية المعيارية لقياس الزمن:

أ- m ب- s ج- Kg د- N

④ نظام الوحدات الأكثر انتشاراً في العالم هو النظام:

أ- الدولي ب- الانجليزي ج- الفرنسي د- البريطاني

⑤ يقاس الطول في النظام الدولي للوحدات بوحدة:

أ- kilogram (Kg) ب- meter (m) ج- inch د- foot

⑥ من الكميات الأساسية حسب تصنيف النظام الدولي للوحدات:

أ- الطول ب- السرعة ج- الشحنة الكهربائية د- الجهد الكهربائي

⑦ تقاس درجة الحرارة في النظام الدولي للوحدات بوحدة:

أ- pound ب- mole ج- Kelvin (K) د- second (s)

⑧ الميكرو (μ) يساوي:

أ- أي عشرة مرفوعة إلى القوة - ٣ (10^{-3}) ب- أي عشرة مرفوعة للقوة - ٦ (10^{-6}) ج- أي عشرة مرفوعة إلى القوة - ٩ (10^{-9}) د- أي عشرة مرفوعة إلى القوة - ١٢ (10^{-12})

⑨ البادئة التي معناها ١٠ مرفوعة إلى القوة ٦ هي:

أ- Pico (p) ب- Mega (M) ج- Nano (n) د- Giga (G)

ورقة الواجب رقم ٤

١- أي القيم التالية تساوي 5440000 m :

أ- 544 Km ب- 54.4 Km ج- 5.44 Km د- 5440 Km

5440000m

5440km

لأن الكيلو بـ 1000

٢- اشتق وحدة قياس السرعة إذا علمت أن السرعة (v) = المسافة (d) / الزمن (t) ؟

الزمن / المسافة = السرعة

وحدة الزمن / وحدة المسافة = وحدة السرعة

وحدة الزمن (s) / وحدة المسافة (m) = وحدة السرعة

بالتالي وحدة السرعة سوف تكون (m/s)



اقرأ في الكتاب صفحة:
18

أخي الطالب: السلام عليكم ورحمة الله وبركاته - مبدأ التعاون مبدأ عظيم في الحياة
١- المقرر: ٢- عضو: ٣- عضو:
٤- عضو: ٥- عضو: ٦- عضو:

المجموعة
رقم ()

(شرح الدرس)

الهدف من الدرس: أن يتعرف الطالب على تحليل الوحدات - أن يوجد الطالب معامل التحويل من وحدة لأخرى.



ما المقصود بـ معامل التحويل؟

ماذا نعمل إذا كانت نتائج التجارب بوحدة غير وحدات النظام الدولي؟

التهيئة:

المفردات: تحليل الوحدات - معامل التحويل.

كيف نحول الوحدات من وحدة لأخرى؟

نشاط ①: ما المقصود بتحليل الوحدات؟ وما الفائدة منه؟ وما المقصود بمعامل التحويل؟

تحليل الوحدات: هي التعامل مع الوحدات باعتبارها كميات جبرية للتأكد من صحة المعادلات والقوانين ووحدة القياس.

الفائدة من تحليل الوحدات: يستخدم في إيجاد معامل التحويل

معامل التحويل: هو معامل ضرب يساوي الواحد الصحيح.

مثال توضيحي لمعامل التحويل: كم معامل التحويل اللازم للتحويل من Kg إلى g ؟

$$1 \text{ Kg} = 1000 \text{ g}$$

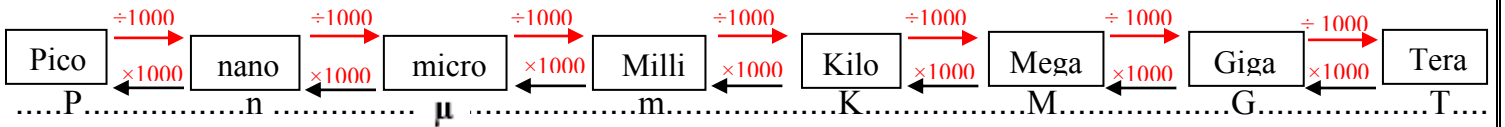
نضرب في 1000

وحدة الحجم (m³)
أو اللتر (L) حيث
1 L = 1000 m³

نشاط ②: وضح طريقة تحليل الوحدات؟

a- للتحويل من كبير إلى صغير:
b- للتحويل من صغير إلى كبير:

جدول توضيحي:



للتحويل من Km/h إلى m/s :

أولا : نحول من Km إلى m : نضرب البسط في 1000 للتحويل من كبير إلى صغير حيث معامل التحويل 1000

ثم نحول من h إلى s : نضرب المقام في 60×60=3600 للتحويل إلى ثانية (s)

وباختصار: $\text{Km/h} \xrightarrow{3.6 \times} \text{m/s}$
 $\text{m/s} \xrightarrow{3.6 \div} \text{Km/h}$

تدريب ①: كم MHz في 750 kHz ؟ Page 18 Q 9

$$750 \text{ KHz} / \text{M Hz}$$

$$750000/1000000$$

$$0.75 \text{ M Hz}$$

تدريب ②: حوّل 5201 cm إلى km ؟ Page 18 Q 10

$$1 \text{ m} = 100 \text{ cm} \quad 1 \text{ Km} = 1000 \text{ m}$$

$$5201/100000$$

أولا نحول إلى متر ثم نحول إلى كيلو متر بالقسمة على 100000

$$0.05201 \text{ Km}$$

التحقق من الفهم ٥

* اختر الإجابة الصحيحة فيما يلي:

① طريقة للتأكد من صحة المعادلات والقوانين ووحدات القياس تعرف بـ :

أ- الطريقة العلمية تحليل الوحدات ج- الفرضية العلمية د- لا شيء مما سبق

② التعامل مع الوحدات باعتبارها كميات جبرية:

أ- القانون العلمي ب- الطريقة العلمية ج- تحليل الوحدات د- النظرية العلمية

③ تسمى قيم المتر الآتية: 1000000 m فيما يلي:

أ- P (Pico) ب- K (Kilo) ج- μ (micro) د- M (Mega)

④ ما معامل التحويل اللازم لتحويل من gram إلى kilogram ؟

حيث أن $1\text{Km}=1000\text{m}$ إذن معامل التحويل 1000 ونقسم لأن التحويل من صغير إلى كبير

أ- نضرب في 100 ب- نقسم على 100 ج- نضرب في 1000 د- نقسم على 1000

⑤ أراد فيصل حساب عدد الثواني في الأسبوع وتوصل إلى الجواب الصحيح وهو:

أ- 10080 s ب- 1440 s ج- 604800 s د- 68400 s

⑥ أراد أحمد أن يمارس رياضة الجري بحيث يقطع في اليوم 500 m ، فكم المسافة المقطوعة بوحدة Km؟

أ- 500 Km ب- 500000 Km ج- 0.5 Km د- 2 Km

واجب رقم ٥

١- حوّل 42.3 cm إلى وحدة المتر؟ Page 27 Q34

$$1\text{m}=100\text{cm}$$

إذن نقسم لأن التحويل من صغير إلى كبير ومعامل التحويل = 100

$$42.3/100 = 0.423$$

أ- 42.3 m ب- 4.23 m ج- 0.423 m د- 4230 m

٢- حول السرعة 5.30 m/s إلى Km/h ؟ Page 12 Q17

$$1\text{Km}=1000\text{m} \quad h=1 \times 60 \times 60 = 3600\text{s}$$

التحويل من صغير إلى كبير إذن نقسم على معامل التحويل

البسط نقسم على 1000 والمقام نقسمه على 3600 ومقام المقام بسط كما تعلمنا في الرياضيات

$$(5.30 \times 3600) / 1000$$

$$= 19.08 \text{Km/h}$$

٣- إذا أعطيت المسافة بوحدة Km والسرعة بوحدة m/s ، أي العمليات أدناه تعبر عن إيجاد الزمن بالثواني: Page 29 Q3

أ- ضرب المسافة في السرعة ، ثم ضرب الناتج في 1000 ج- قسمة المسافة على السرعة ، ثم ضرب الناتج في 1000

ب- ضرب المسافة على السرعة ، ثم قسمة الناتج على 1000 د- ضرب المسافة في السرعة ، ثم قسمة الناتج على 1000

الزمن / المسافة = السرعة

السرعة / المسافة = الزمن

وبالتالي نقسم المسافة على السرعة لإيجاد الزمن ومن ثم نضرب الناتج في 1000 للتحويل من Km إلى m



اقرأ في الكتاب صفحة:
19-20

أخي الطالب: السلام عليكم ورحمة الله وبركاته - مبدأ التعاون مبدأ عظيم في الحياة
١- المقرر: ٢- عضو: ٣- عضو:
٤- عضو: ٥- عضو: ٦- عضو:

المجموعة
رقم ()

(شرح الدرس)

الهدف من الدرس: أن يميز الطالب بين الدقة والضبط - أن يحدد الطالب دقة الكميات المقاسة.



قس طول كتاب الفيزياء بالمسطرة؟

ما أهمية الدقة والضبط في القياسات؟ ما العوامل المؤثرة في دقة القياس؟

التهيئة:

المفردات: الدقة - الضبط - اختلاف زوايا النظر.

ما الطريقة الصحيحة للقياس؟

نشاط ①: تعاون مع مجموعتك في قياس طول كتاب الفيزياء باستخدام المسطرة ثم حدد المجموعة الأكثر دقة والأكثر ضبطاً؟

رقم المجموعة	متوسط القراءات الثلاث	دقة الأداة المستخدمة = هامش الخطأ = خطأ القياس بالقانون: دقة الأداة = (نصف قيمة أصغر تدريج)	قراءة القياس (متوسط القراءة ± هامش الخطأ)	المجموعة الأكثر دقة
1			±	
2			±	المجموعة الأكثر ضبطاً
3			±	

نشاط ②: ما الفرق بين الدقة والضبط من خلال النشاط السابق؟

تعريف الدقة: هي درجة الاتقان في القياس وتعبر عن مدى تقارب نتائج القياس بغض النظر عن صحتها.

تعريف الضبط: هو وصف اتفاق نتائج القياس مع القيمة المقبولة في القياس. أي القيمة المعتمدة التي قاسها خبراء مؤهلون.

طول قلم الرصاص (4.85 ± 0.05) cm

1


تدريب ①: ما العوامل التي يعتمد عليها دقة القياس؟ وأي المسطرتين أكثر دقة ولماذا؟
① الأداة المستخدمة في القياس. ② الطريقة المستخدمة في القياس.

طول قلم الرصاص (4.8 ± 0.25) cm

2

المسطرة الأكثر دقة: الأولى. السبب: لأنها ذات تدريج بقيم أصغر.

نشاط ③: علل: يجب أن تقرأ التدريجات بشكل عمودي وبعين واحدة على التدريج في القياس من خلال النظر للشكل الآتي؟



حتى تعطي قراءة صحيحة ز عند القراءة بزوايا مختلفة فإن الموقع الظاهري للجسم يختلف.

نشاط ④: كيف تحسب دقة القياس (خطأ القياس أو هامش الخطأ) لأي أداة؟

قانون حساب دقة القياس: دقة القياس = نصف قيمة أصغر تدريج في القياس.


وعليه فإن قراءة القياس: قراءة القياس = هامش الخطأ (الدقة) ± متوسط القراءة

نشاط ⑤: ما الطريقة الشائعة لاختبار ضبط الجهاز؟



طريقة الشائعة لاختبار الضبط في الجهاز تسمى معايرة نقطتين:

وتتم بـ: (1) معايرة صفر الجهاز بحيث يشير للصفر.

(2) معايرة الجهاز بقيمة معلومة للتأكد من صحة القراءة.



تدريب ② : أكمل الجدول الآتي:

الأداة	أصغر تدرّيج	دقة الأداة = نصف أصغر تدرّيج	قراءة القياس \pm هامش الخطأ
١- 	2	الدقة = $0.5 \times 2 = 1$	14 ± 1
٢- 	1	الدقة = $0.5 \times 1 = 0.5$	$1.5 \pm 0.5 \text{ cm}$

التحقق من الفهم ٦

* اختر الإجابة الصحيحة فيما يلي:

① تسمى درجة الإتقان في القياس:

الدقة أ- الضبط ب- القيم المقبولة ج- القيم الافتراضية د-

② وصف اتفاق نتائج القياس مع القيمة المقبولة في القياس يعرف بـ :

أ- القياس أ- الضبط ب- الفرضية ج- الدقة د-

③ ضبط نتائج التجربة يساوي نصف قيمة أصغر تدرّيج في الأداة:

أ- العبارة صحيحة أ- العبارة خاطئة ب-

④ تكون الدقة أكبر كلما كان هامش الخطأ في القياس أكبر.

أ- العبارة صحيحة أ- العبارة خاطئة ب-

⑤ الطريقة الشائعة لاختبار الضبط في الجهاز ليعطي قراءة صحيحة تسمى:

أ- معايرة صفر الجهاز أ- معايرة الجهاز ب- معايرة النقطتين ج- معايرة صفر الجهاز د-

⑥ اختلاف زاوية النظر يقصد بها التغير الظاهري في موقع الجسم عند النظر إليه من زوايا مختلفة.

أ- العبارة صحيحة أ- العبارة خاطئة ب-

⑦ أكثر الأخطاء الشخصية شيوعاً في القياس يكون ناتج عن:

أ- عدم ضبط الجهاز أ- تدريبات الجهاز المستخدم ب- زاوية النظر للقراءة ج- جميع ما سبق د-

واجب رقم ٦

١- أقرأ القياس الموضح في الشكل الآتي، وضمن خطأ القياس في الإجابة: Q37 Page 27

أ- 3.6 A	ب- 3.55 A
<input type="radio"/> أ- $3.6 \pm 0.1 \text{ A}$	د- $3.6 \pm 0.2 \text{ A}$

جـ / ١ الدقة = $0.5 \times 0.2 = 0.1$



٢- قام طالبان بقياس سرعة الضوء، فحصل الأول على $(3.001 \pm 0.001) \times 10^8 \text{ m/s}$ ، وحصل الثاني على $(2.999 \pm 0.006) \times 10^8 \text{ m/s}$.

Q30 Page 26 a- أيهما أكثر دقة؟ b- أيهما أكثر ضبطاً؟ علماً بأن القيمة المعيارية لسرعة الضوء هي: $2.99792458 \times 10^8 \text{ m/s}$

a- الأكثر دقة الأول دقته 0.001 صغيرة جداً مقارنة بالثاني.

b- الأكثر ضبطاً الثاني لأن إجابته قريبة جداً من القيمة المعيارية.



اقرأ في الكتاب صفحة:
32-33

أخي الطالب: السلام عليكم ورحمة الله وبركاته - مبدأ التعاون مبدأ عظيم في الحياة
١- المقر: ٢- عضو: ٣- عضو:
٤- عضو: ٥- عضو: ٦- عضو:

المجموعة
رقم ()

(شرح الدرس)

الهدف من الدرس: ① تمثيل حركة جسم بالمخطط التوضيحي للحركة. ② نرسم نموذج الجسم النقطي لتمثيل حركة الجسم.



التهيئة: ماذا يتبادر إلى ذهنك حينما تسمع كلمة حركة أو سيارة مسرعة أو طفل يتأرجح؟

المفردات: المخطط التوضيحي للحركة - نموذج الجسم النقطي.

عدد بعض أنواع الحركة مع ذكر مثال؟ وكيف نمثلها؟

نشاط ①: من التجربة الاستهلالية الآتية، في سباق سيارتين لعبة، هل يمكنك أن تبين أيهما أسرع السيارة A أم B؟ Page 31



السيارة الأسرع هي السيارة الحمراء (A)
لأنها قطعت مسافة أكبر مقارنة بالسيارة الأخرى الزرقاء (B) خلال نفس الزمن.

تدريب ①: a- رتب صور حركة العداء حسب التقاطها؟



a- اللقطة الأولى: صورة رقم 3، اللقطة الثانية: صورة رقم 1، اللقطة الثالثة: صورة رقم 4، اللقطة الرابعة: صورة رقم 2

b- على ماذا استندت في ترتيب الصور؟

b- استندت في ترتيب الصور على يعد العداء من الشجرة واعتبرتها نقطة مرجع.

نشاط ②: أعط تعريفاً مناسباً لمخطط الحركة ونموذج الجسم النقطي من خلال المقارنة بين الصورتين الآتيتين؟



تعريف مخطط الحركة: عبارة عن تمثيل لحركة الجسم بسلسلة من الصور المتتابعة التي تظهر موقع الجسم خلال أزمنة متعاقبة.

تعريف نموذج الجسم النقطي: عبارة عن تمثيل لحركة الجسم بسلسلة من النقاط المفردة التي تظهر موقع الجسم خلال أزمنة متعاقبة.

تدريب ②: ارسم نموذج الجسم النقطي المناسب للشكل الآتي:

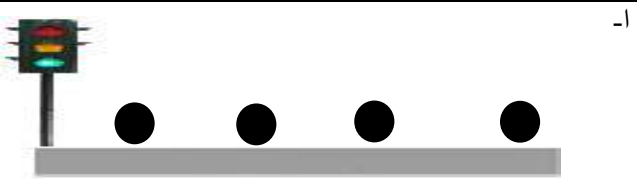
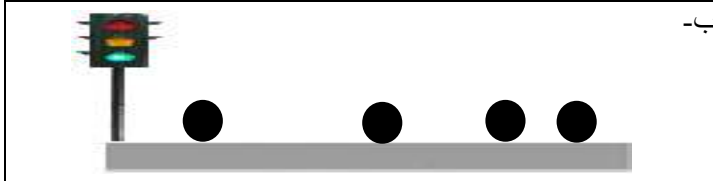
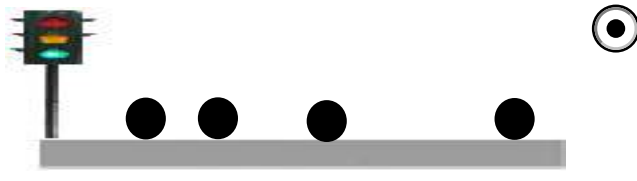



مخطط الحركة التوضيحي



نموذج الجسم النقطي

* اختر الإجابة الصحيحة فيما يلي:

① توجد عدة طرق لوصف الحركة؛ حيث يمكن وصفها بـ :		أ- الكلمات	ب- مخططات الحركة	ج- جدول البيانات	د- التمثيلات المتكافئة <input type="radio"/>
② تمثيل حركة العداء بالتقاط سلسلة من الصور المتتالية خلال أزمنة متعاقبة يعرف بـ :					
المخطط التوضيحي للحركة		ب- نموذج الجسم النقطي	ج- مخطط الجسم الحر	د- الرسم البياني (المنحنيات)	<input type="radio"/>
③ أي مما يلي يمثل نموذج الجسم النقطي لسيارة بدأت بالتوقف عند إشارة المرور:					
-أ-		-ب-			
					
<input checked="" type="radio"/>		<input type="radio"/>			
-د-		-ج-			
					
④ أي العبارات التالية تعبر بشكل صحيح عن النموذج الجسمي النقطي لحركة طائرة تَقَلع من مطار؟ Q1 Page 57					
أ- تكون النقاط نمطاً وتفصل بينهما مسافات متساوية.		ب- تكون النقاط متباعدة في البداية، ثم تتقارب مع تسارع الطائرة.			
<input type="radio"/>		<input type="radio"/>			
تكون النقاط متقاربة في البداية، ثم تتباعد مع تسارع الطائرة.		د- تكون النقاط متقاربة في البداية، ثم تتباعد ثم تتقارب مرة أخرى عندما تستوي الطائرة وتتحرك بالسرعة العادية للطيران.			
⑤ لمتابعة مواقع الخيول في السباق تؤخذ لهم صور متتالية في فترات زمنية متساوية.					
لعبرة صحيحة <input type="radio"/>		ب- العبارة خاطئة			
⑥ عند رسم سهم ممثلاً حركة متسابق فإن طول السهم يمثل المقدار دائماً بعد الجسم عن نقطة الأصل ورأس السهم يمثل الاتجاه.					
العبرة صحيحة <input type="radio"/>		ب- العبارة خاطئة			

١- ما الهدف من رسم المخطط التوضيحي للحركة؟ Q35 Page 54

يعطي المخطط التوضيحي للحركة صورة عن الحركة تساعد على تصور كل من الازاحة والسرعة المتجهة .

٢- متى يمكن معاملة الجسم كجسيم نقطي؟ Q36 Page 54

يمكن معاملة الجسم بوصفه جسماً نقطياً بشرطين:

١- إذا كانت حركته الداخلية غير مهمة.

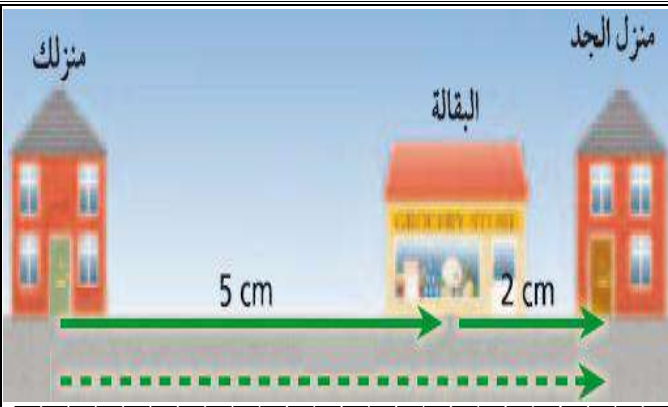
٢- إذا كان الجسم صغيراً مقارنة بالمسافة التي تحركها ذلك الجسم.

٣- استخدم نموذج الجسم النقطي لرسم مخطط توضيحي لراكب دراجة هوائية يتحرك بسرعة ثابتة؟ Q1 Page 33



تدريب ②: احسب محصلة المتجهين الآتيين حسب الشكل الآتي؟

المحصلة = $5 + 2 = 7 \text{ cm}$



نشاط ④: عرف المحصلة؟

هو ناتج جمع متجهين أو أكثر.

التحقق من الفهم ٨

* اختر الإجابة الصحيحة فيما يلي:

① النقطة التي عندها قيمة كل من المتغيرين صفراً في المنحنى البياني تعرف بـ:	أ- نقطة تقاطع المنحنيات	ب- نقطة الميل	ج- نقطة الاصل	د- نقطة النهاية
② الموقع هو المسافة الفاصلة بين الجسم ونقطة الأصل وتكون دائماً موجبة.	أ- العبارة صحيحة	ب- العبارة خاطئة	ممكن أن يكون الموقع سالباً.	
③ الكميات التي تحدد بالمقدار والاتجاه معا:	أ- الكميات العددية	ب- الكميات القياسية	ج- الكميات المتجهة	د- الكميات الأساسية
④ من أمثلة الكميات العددية:	أ- الإزاحة	ب- الزمن	ج- القوة	د- السرعة
⑤ من أمثلة الكميات المتجهة:	أ- الطول	ب- الكتلة	ج- القوة	د- درجة الحرارة
⑥ كمية متجهة تمثل البعد المتجه المستقيم بين البداية والنهاية:	أ- المسافة	ب- الإزاحة	ج- المنحنى	د- الطول
⑦ المحصلة عبارة عن متجه ناتج عن جمع متجهين أو أكثر بحيث يشير دائماً من ذيل المتجه الأول إلى رأس المتجه الآخر.	أ- العبارة صحيحة	ب- العبارة خاطئة		
⑧ انطلق محمد من منزله إلى مدرسته الذي يبعد 100 m ثم عاد مباشرة إلى منزله ، الإزاحة التي قطعها محمد تساوي:	أ- صفر	ب- 100 m	ج- 150 m	د- 200 m
⑨ عندما تكون الإزاحة تساوي صفر، إذا يلزم أن تكون الفترة الزمنية Δt تساوي صفر .	أ- العبارة صحيحة	ب- العبارة خاطئة	لإثباته عاودنا نفس النقطة	
⑩ جسيم انطلق من السكون فقطع مسافة 20 m بعد زمن قدره 45s ، احسب الفترة الزمنية المستغرقة لقطع هذه المسافة؟	أ- 20 s	ب- 65 s	ج- 25 s	د- 45 s

واجب رقم ٨

١- يمثل النموذج الجسيمي النقضي أدناه حركة طالب يسير من بيته إلى المدرسة: أعد رسم الشكل، وارسم متجهات لتمثيل الإزاحة بين نقطتين؟ Q6 Page 37

البيت • • • • • المدرسة

البيت ← ← ← ← ← المدرسة

أسهم متساوية الطول لأن المسافات بين

النقاط متساوية.



اقرأ في الكتاب صفحة:
38-39-40

أخي الطالب: السلام عليكم ورحمة الله وبركاته - مبدأ التعاون مبدأ عظيم في الحياة

١- المقرر: ٢- عضو: ٣- عضو:
٤- عضو: ٥- عضو: ٦- عضو:

المجموعة
رقم ()

الهدف من الدرس: تطور منحنيات لـ (الموقع - الزمن) لأجسام متحركة - نستخدم متجه (الموقع - الزمن) لتحديد موقع الجسم أو أزياعته. نصف حركة الجسم باستخدام التمثيلات المتكافئة.

(شرح الدرس)



هل من الممكن تمثيل الحركة بطرائق مختلفة غير المخطط التوضيحي للحركة ونموذج الجسم النقطي؟ وضح ذلك؟

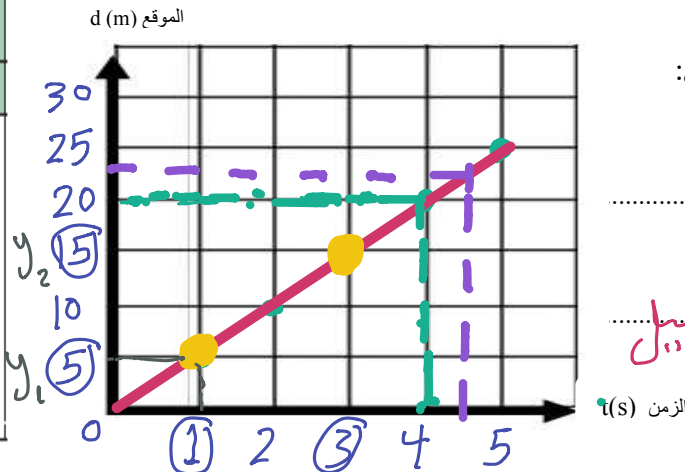
التهيئة:

كيف نحسب الميل رياضياً رياضياً وماذا يمثل فيزيائياً؟

ما هي أهم المعلومات التي تستطيع معرفتها من المنحني البياني للموقع - الزمن؟

المفردات: منحني الموقع - الزمن، الموقع اللحظي.

الموقع-الزمن	
الزمن (s)	الموقع (m)
0.0	0.0
5.0	1.0
10.0	2.0
15.0	3.0
20.0	4.0
25.0	5.0



نشاط ①: من خلال الجدول الآتي أجب عن الآتي:

(a) ارسم بيانياً منحني (الموقع - الزمن) للجدول البياني الآتي:

(b) صف حركة الجسم حسب المنحني (الموقع - الزمن)؟

يتحرك بسرعة ثابتة

(c) احسب ميل منحني (الموقع - الزمن) وماذا يمثل فيزيائياً؟

$$\text{الميل} = \frac{y_2 - y_1}{x_2 - x_1} = \frac{15 - 5}{3 - 1} = \frac{10 \text{ m}}{2 \text{ s}}$$

$$\therefore \text{الميل} = 5 \text{ m/s}$$

يمثل ميل المنحني البياني لموقع - الزمن: السرعة المتجهة المتوسطة

(d) يصل العداء إلى بعد 20.0m عن نقطة البداية من خلال الرسم البياني عند 4s

(e) يكون العداء بعد مضي 4.5 s من خلال الرسم البياني عند 22.5 m

١٤ جدول البيانات:

الموقع-الزمن	
الزمن (s)	الموقع (m)
0.0	0.0
5.0	1.0
10.0	2.0
15.0	3.0
20.0	4.0
25.0	5.0
30.0	6.0

نشاط ②: تأمل الأشكال الآتية ثم أعط تعريفاً مناسباً لـ التمثيلات المتكافئة؟

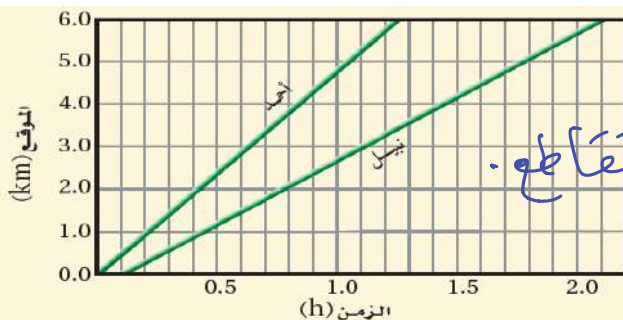
١٥ منحني (الموقع - الزمن):



C. النموذج الجسمي النقطي.
النهاية • • • • • البداية

تعريف التمثيلات المتكافئة:

لهم عبارة عن عدة طرق تستخدم لوصف الحركة تحوي على نفس المعلومات.



تدريب ①: خرج أحمد في نزهة مشياً على الأقدام، وبعد وقت بدأ صديقه نبيل السير خلفه، وقد تم تمثيل حركتهما بمنحني (الموقع-الزمن) كما في الشكل الآتي. متى يتقابلان أحمد ونبيل؟ فسر ذلك.

الجواب: لا يتقابلان. لعدم وجود نقطة تقاطع.

الشرط اللازم تحققه في المنحني البياني لكي يتقابلان:

وجود نقطة تقاطع.

تدريب ②: نستنتج مما سبق: أن من فوائد الرسم البياني لمنحنى (الموقع- الزمن) نستطيع معرفة:

- ① الموقع عند أي لحظة .
- ② الزمن المستغرق لأي موقع .
- ③ متى وأين يتقابل الجسمان
- ④ السرعة المتجهة .

التحقق من الفهم ٩

* اختر الإجابة الصحيحة فيما يلي:

① ميل الخط المستقيم في الرسم البياني هو التغير الرأسي التغير الأفقي:			
أ- مضافا الى	ب- مطروحا من	ج- مضروبا في	د- مقسوما على
② أكمل الفراغ: يمكن استخدام منحنيات الموقع - الزمن من خلال حساب الميل لإيجاد:			
أ- الموقع اللحظي	ب- الزمن المستغرق للوصول الى موقع معين	ج- متى وأين يتقابل الجسمان	د- السرعة المتجهة

$$\text{الميل} = \frac{\Delta y}{\Delta x}$$

واجب رقم ٩

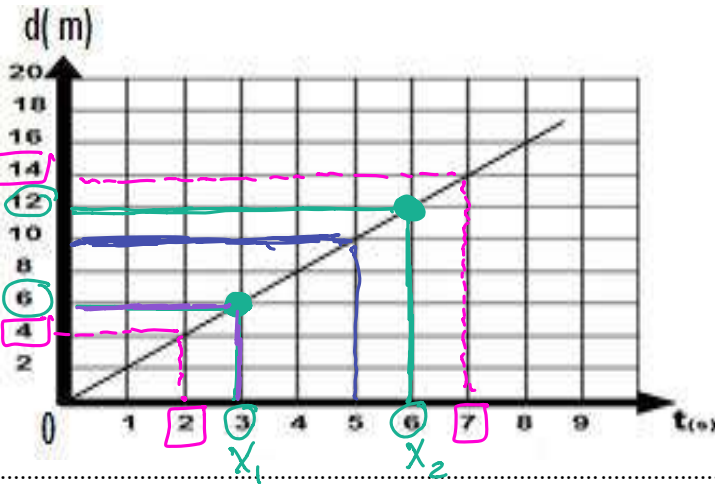
١- حسب الشكل الآتي:

a- احسب ميل الخط البياني لمنحنى الموقع - الزمن ؟

نختار نقطتين

$$\text{الميل} = \frac{y_2 - y_1}{x_2 - x_1}$$

$$= \frac{12 - 6}{6 - 3} = \frac{6}{3} = 2 \text{ m/s}$$



b- مقدار المسافة التي يقطعها الجسم بعد مرور زمن مقداره 3 s ؟

$$6 \text{ m}$$

c- حدد المسافة التي قطعها الجسم بين اللحظتين 2.0 s و 7.0 s ؟

$$14 - 4 = 10 \text{ m}$$

d- متى كان الجسم على بُعد 10.0 m عن نقطة الأصل؟ عند 5 s

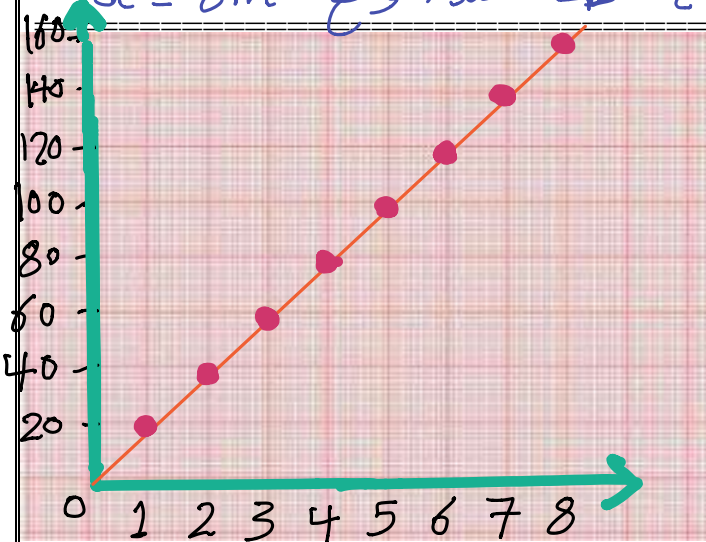
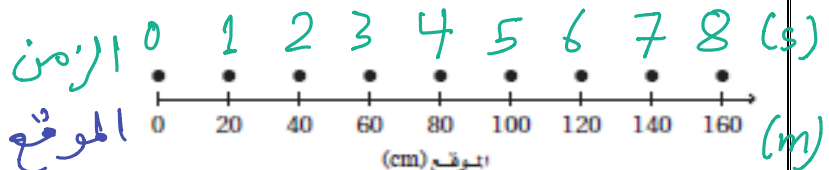
$$5 \text{ s}$$

e- حدد الزمن الذي استغرقه قرص الهوكي ليتحرك من موقع يبعد 4 m عن نقطة الأصل إلى موقع يبعد عنها 8 m عنها؟

$$\left. \begin{array}{l} d = 4 \text{ m عند الموقع} \rightarrow t = 8 \text{ s} \\ d = 8 \text{ m عند الموقع} \rightarrow t = 16 \text{ s} \end{array} \right\} \Rightarrow \Delta t = 16 - 8 = 8 \text{ s}$$

٢- يمثل النموذج الجسيمي النقطي في الشكل الآتي طفلاً يزحف على أرضية غرفة. مثل حركته باستخدام منحنى (الموقع- الزمن)، علماً بأن الفترة الزمنية بين كل نقطتين متتاليتين تساوي 1s .

Q19 Page 42



المجموعة
رقم ()أخي الطالب: السلام عليكم ورحمة الله وبركاته - مبدأ التعاون مبدأ عظيم في الحياة
١- المقرر: ٢- عضو: ٣- عضو:
٤- عضو: ٥- عضو: ٦- عضو:اقرأ في الكتاب صفحة:
43 - 44 - 45

(شرح الدرس)



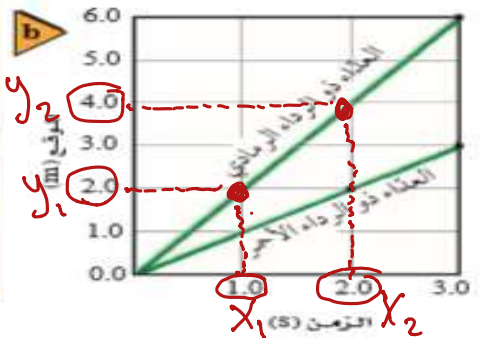
الهدف من الدرس: تعريف السرعة المتجهة - نقارن بين مفهومي السرعة المتجهة المتوسطة والسرعة المتوسطة.

عدد طرق تمثيل الحركة؟ ما هي أهم المعلومات المستنتجة من الرسم البياني لمنحنى (الموقع - الزمن)؟

عدد أنواع السرعة؟ أي سرعة يقيس: نظام ساهر - حساس عداد السرعة في السيارة - نظام الرصد الآلي؟ ولماذا؟

المفردات: السرعة المتجهة المتوسطة - السرعة المتوسطة.

نشاط ①: تأمل الرسم البياني لمنحنى (الموقع - الزمن) ثم أجب عن الآتي:



(a) ميل الخط البياني لمنحنى (- الزمن) يمثل: أ- الموقع ب- الزمن ج- السرعة المتجهة المتوسطة د- السرعة المتوسطة

(b) أيهما أكبر (مياً) انحداراً العداء الرمادي أم الأحمر؟ الأكبر انحداراً العداء الرمادي. وبالتالي الأسرع. الرمادي

(c) احسب ميل العداء الرمادي؟

$$\text{الميل} = \frac{y_2 - y_1}{x_2 - x_1} = \frac{4 - 2}{2 - 1} = \frac{2 \text{ m}}{1 \text{ s}} = 2 \text{ m/s}$$

وبالتالي سرعة العداء الرمادي 2 m/s

نشاط ②: عرف السرعة المتجهة وكيف يتم حسابها رياضياً وبيانياً؟

السرعة المتجهة: هو معدل تغير الموقع بالنسبة للزمن. ورمزها (v) وتقاس بوحدة (m/s).

وتحسب بطريقتين: ① الطريقة البيانية: من خلال حساب الميل لمنحنى (الموقع - الزمن).

② الطريقة الحسابية: بالقانون: حيث f النهائي و i الابتدائي

تدريب ①: قارن بين السرعة المتجهة المتوسطة والسرعة المتوسطة؟

المقارنة	السرعة المتجهة المتوسطة (m/s)	السرعة المتوسطة (m/s)
التعريف	هي مقدار واتجاه سرعة حركة الجسم.	هي مقدار سرعة حركة الجسم.
الرمز	ورمزها (v) (موجبة أو سالبة)	ورمزها (V) (موجبة)
بيانياً	ميل منحنى (الموقع - الزمن)	القيمة المطلقة لميل منحنى (الموقع - الزمن)

تدريب ②: أكمل الفراغ الآتي:

a- الجسم في الشكل الآتي يتحرك بسرعة ثابتة في الاتجاه السالب.

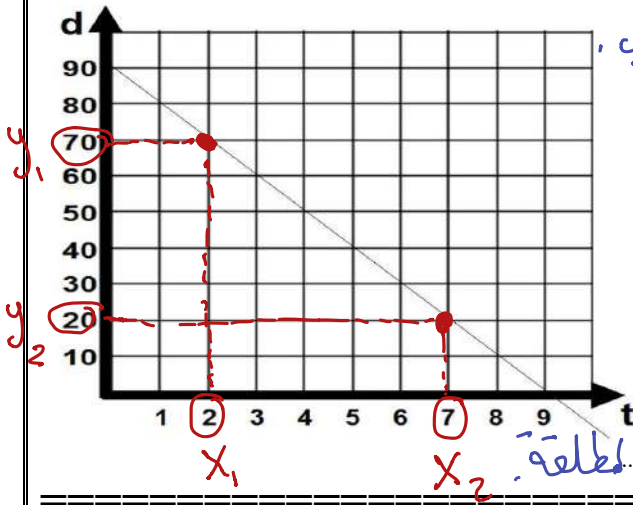
b- احسب الميل؟

$$\text{الميل} = \frac{y_2 - y_1}{x_2 - x_1} = \frac{20 - 70}{7 - 2} = \frac{-50}{5} = -10 \text{ m/s}$$

$$\therefore \text{الميل} = -10 \text{ m/s}$$

c- السرعة المتجهة المتوسطة = -10 m/s

d- السرعة المتوسطة = $+10 \text{ m/s}$ لأننا نأخذ القيمة المطلقة.

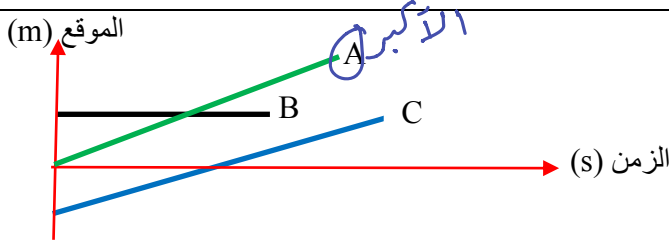


التحقق من الفهم ١٠

* اختر الإجابة الصحيحة فيما يلي:

① رتبّ منحنيات (الموقع - الزمن) وفق السرعة المتوسطة للجسم

من الأكبر إلى الأصغر، حسب الشكل الآتي:



أ- ABC

ب- ACB

ج- BAC

د- BCA

② ميل الخط البياني لمنحنى (الموقع - الزمن) لجسم يتحرك يدل على:

أ- السرعة المتوسطة

ب- السرعة المتجهة المتوسطة

ج- التسارع المتوسط

د- السرعة اللحظية

③ إذا كانت السرعة المتجهة المتوسطة لجسم ما -20 m/s ، فإن سرعته المتوسطة تساوي: 20 m/s لأننا نأخذ القيمة المطلقة

أ- -20 m/s

ب- 20 m/s

ج- 10 m/s

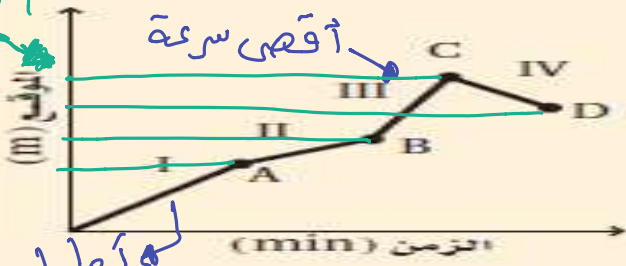
د- صفر

واجب رقم ١٠

* اختر الإجابة الصحيحة فيما يلي:

يبين الرسم البياني حركة شخص يركب دراجة هوائية.

استخدم هذا الرسم للإجابة عن الأسئلة الآتية: Q2 Page 57



سؤال عن الزمن

① متى بلغت السرعة المتجهة للدراجة أقصى قيمة لها؟

أ- في الفترة I

ب- في الفترة III

ج- عند النقطة C

د- عند النقطة B

② ما الموقع الذي تكون عنده الدراجة أبعد ما يمكن عن نقطة البداية؟

أ- النقطة A

ب- النقطة B

ج- النقطة C

د- النقطة D

③ في أي فترة زمنية قطع راكب الدراجة أكبر مسافة؟

أ- في الفترة I

ب- في الفترة II

ج- في الفترة III

د- في الفترة IV

④ وضح العلاقة بين السرعة المتوسطة والسرعة المتجهة المتوسطة؟ Q32 Page 49

السرعة المتوسطة = القيمة المطلقة للسرعة المتجهة المتوسطة



اقرأ في الكتاب صفحة:
46-47-48

أخي الطالب: السلام عليكم ورحمة الله وبركاته - مبدأ التعاون مبدأ عظيم في الحياة
١- المقرر: ٢- عضو: ٣- عضو:
٤- عضو: ٥- عضو: ٦- عضو:

المجموعة
رقم ()

(شرح الدرس)

الهدف من الدرس: تعريف السرعة المتجهة اللحظية- تصميم مسائل تصويرية وفيزيائية ورياضية لمسائل الحركة.



لماذا أطلقنا على الكمية ($\Delta d/\Delta t$) السرعة المتجهة المتوسطة ولم نسميها ببساطة السرعة المتجهة؟
ما أهمية عمل نماذج مصورة ونماذج فيزيائية للحركة قبل بدء حل معادلة ما؟ عدد طرق تمثيل الحركة؟

التهيئة:

ما المقصود بالسرعة المتجهة اللحظية؟ وكيف يتم حسابها؟

متى تتساوى السرعة المتجهة المتوسطة مع السرعة المتجهة اللحظية؟

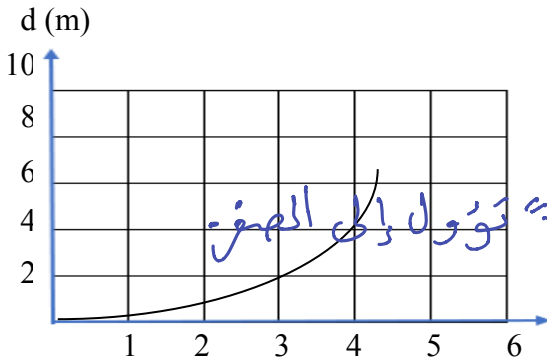
المفردات: السرعة المتجهة اللحظية.

نشاط ① / تجربة: متجهات السرعة اللحظية ص ٧

أهداف التجربة: تعرف متى تكون السرعة أكبر ما يمكن وأصغر ما يمكن.

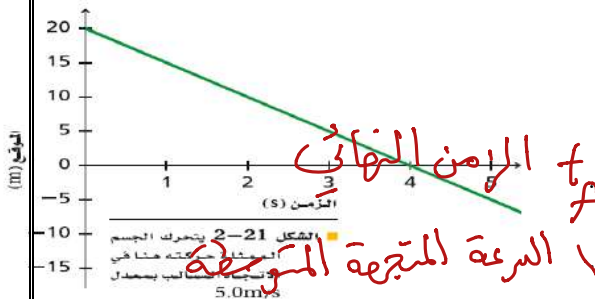
الأدوات	الخطوات	المشاهدة	الرسم لـ متجهات السرعة اللحظية
١- كتلة ذات خطاف ٢- خيط طوله 1m	١- اربط خيط ب الكتلة ٢- اسحب الكتلة بحذر إلى أحد الجوانب اتركها ثم لاحظ سرعة الحركة والاتجاه.	عند البداية السرعة "تتزايد" تدريجياً حتى تصل نقطة "المنتصف" ثم "تتناقص" تدريجياً حتى تصل "النهاية".....	الرسم لـ متجهات السرعة اللحظية البداية النهاية نقطة المنتصف
الاستنتاج		a- أين كانت السرعة أكبر ما يمكن؟ عند "المنتصف"..... b- أين كانت السرعة أقل ما يمكن؟ عند "البداية" و"النهاية"..... c- وضح كيف يمكن قياس السرعة المتوسطة باستخدام المتجهات؟ من خلال مدرجة أطوال المتجهات.....	

تدريب ①: صف حركة الجسم في المنحنى البياني ثم أجب عما يلي؟



a- نوع حركة الجسم: يتحرك بسرعة متغيرة
b- تعريف السرعة المتجهة اللحظية: هي سرعة الجسم مقداراً و اتجاهاً عند لحظة زمنية قصيرة جداً تؤول إلى الصفر.
c- طريقة حسابها: تساوي ميل المماس لمنحنى (الموقع - الزمن).

نشاط ②: اكتب معادلة الحركة بدلالة السرعة المتجهة المتوسطة للشكل الآتي؟



علماً بأن المعادلة العامة للخط المستقيم البياني في الرياضيات: $y = mx + b$
حيث m الميل = السرعة
 d_f الموقع النهائي
 d_i الموقع الابتدائي
الميل
 $d_f = v t_f + d_i$
الزمن النهائي t_f
الزمن الابتدائي t_i
السرعة المتجهة المتوسطة v

تدريب ②: احسب المسافة المقطوعة لجسم انطلق من السكون فتحرك بسرعة مقدارها 20 m/s لمدة 3 s ؟

$$d_f = ?? \quad d_i = 0 \quad t_i = 0 \quad v = 20 \text{ m/s} \quad t_f = 3 \text{ s}$$

$$d_f = v t_f + d_i$$

$$= (20 \times 3) + 0 = 60 \text{ m}$$

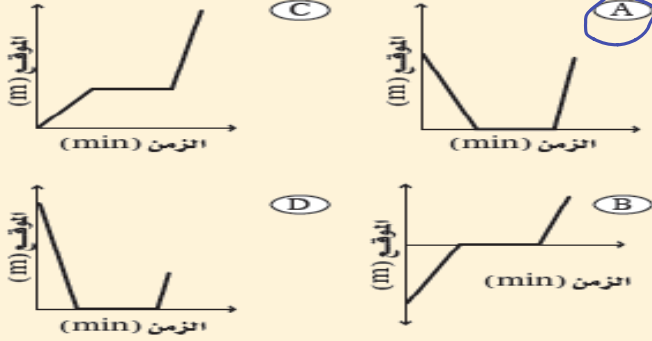
* اختر الإجابة الصحيحة فيما يلي:

١) السرعة المتجهة اللحظية تكون السرعة المتجهة المتوسطة للجسم إذا كان يتحرك بسرعة ثابتة.

أ- أكبر من ب- أصغر من ج- تساوي د- صفر

٢) يقيس الرادار للسيارة المسرعة:

أ- السرعة المتجهة المتوسطة ب- السرعة المتوسطة ج- السرعة المتجهة اللحظية د- جميع ما سبق



٣) نزل سنجاب من فوق شجرة ارتفاعها 8 m بسرعة منتظمة خلال 1.5 min ، وانتظر عند أسفل الشجرة مدة 2.3 min ، ثم تحرك مرة أخرى في اتجاه حبة بندق على الأرض مدة 0.7 min . فجأة صدر صوت مرتفع سبب فرار السنجاب بسرعة إلى أعلى الشجرة، فبلغ الموقع نفسه الذي انطلق منه خلال 0.1 min .

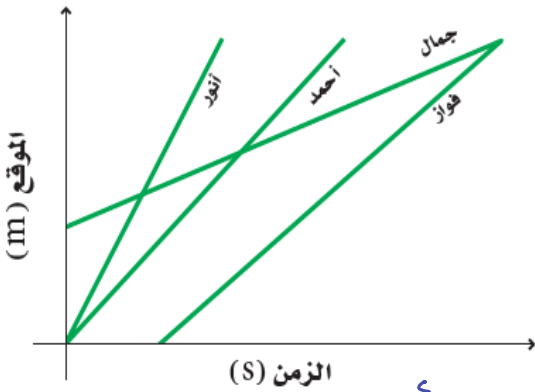
أي الرسوم البيانية التالية يمثل بدقة الإزاحة الرأسية للسنجاب مقبسة من قاعدة الشجرة؟ (نقطة الأصل تقع عند قاعدة الشجرة).

Q5 Pega57

أ- A ب- B ج- C د- D

٤) يبين منحنى (الموقع - الزمن) في الشكل الآتي حركة أربعة من الطلاب في طريق عودتهم من المدرسة. رتب الطلاب حسب

السرعة المتجهة المتوسطة لكل منهم من الأبطأ إلى الأسرع. Q44 Pega54



الترتيب من الأبطأ إلى الأسرع: ① جمال ② فوز ③ أحمد ④ أنور

١- إذا علمت موقع جسم متحرك عند نقطتين في مسار حركته، وكذلك الزمن الذي استغرقه الجسم للوصول من النقطة الأولى إلى الأخرى، فهل يمكنك تعيين سرعته المتجهة اللحظية وسرعته المتجهة المتوسطة؟ فسر ذلك؟ Q42 Pega54

يمكن تعيين السرعة المتجهة المتوسطة بقسمة التغير في الموقع على التغير في الزمن ولا يمكن تعيين السرعة المتجهة اللحظية

٢- تحركت دراجة بسرعة ثابتة مقدارها 4.0 m/s مدة 0.5 s . ما المسافة التي قطعها خلال هذه المدة؟ Q46 Pega54

التحليل: $V = 4 \text{ m/s} \quad t = 0.5 \text{ s} \quad d = ??$

$$V = \frac{d}{t} \Rightarrow d = V t$$

$$\therefore d = 4 \times 0.5 = 2 \text{ m}$$



اقرأ في الكتاب صفحة:
60 - 61 - 62

أخي الطالب: السلام عليكم ورحمة الله وبركاته - مبدأ التعاون مبدأ عظيم في الحياة
١- المقرر: عضو: ٢- عضو: ٣- عضو:
٤- عضو: عضو: ٥- عضو: ٦- عضو:

المجموعة
رقم ()

الهدف من الدرس: تعرف التسارع (العجلة) - تربط السرعة المتجهة والتسارع مع حركة الجسم - تمثل بيانياً العلاقة بين السرعة المتجهة والزمن.
(شرح الدرس)

صف سرعة حركة الطائرة عند الإقلاع - صف سرعة حركة السيارة عند اقترابها من إشارة المرور؟

التهيئة:

ما وحدة التسارع المقترحة منك؟ ماذا يساوي ميل منحنى السرعة المتجهة - الزمن؟

ماذا نسمي تغير السرعة بالنسبة للزمن؟

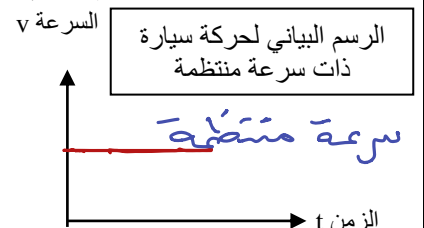
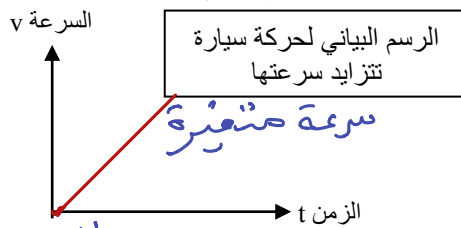
المفردات: منحنى السرعة المتجهة - الزمن ، التسارع.



نشاط ①: من التجربة الاستهلاكية الاتية، هل تبدو جميع أنواع الحركة بالشكل نفسه عند تمثيلها بيانياً؟ Page 60

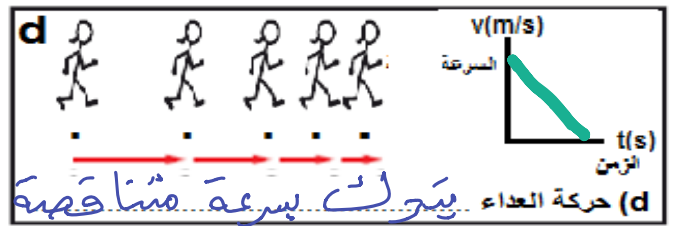
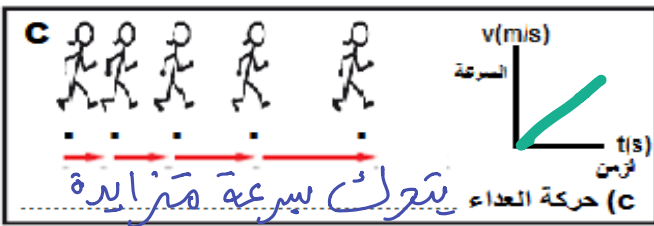
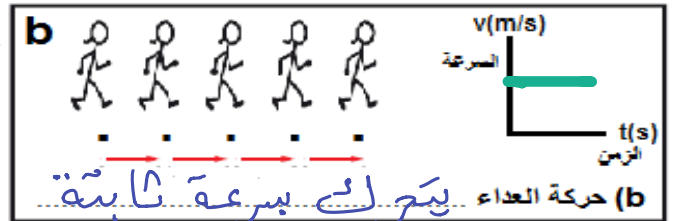



سؤال التجربة: كيف تقارن الرسم البياني لحركة سيارة ذات سرعة منتظمة بالرسم البياني لحركة سيارة تتزايد سرعتها؟



الاستنتاج: تختلف المنحنيات البيانية حسب سرعة الجسم.

نشاط ②: تأمل المخططات التوضيحية ثم صف حركة العاء مع رسم الخط البياني في كل حالة مع التوضيح؟



اعتمدنا في الرسم البياني لحركة العاء على

نشاط ③: عرّف التسارع المتجه المتوسط مع ذكر رمزه ووحدته وطريقة حسابه؟

التسارع المتجه المتوسط: هو معدل تغير السرعة بالنسبة للزمن.

رمزه () ويقاس بوحدته (.....) m/s^2 .

$$a = \frac{\Delta v}{\Delta t}$$

$$a = \frac{v_f - v_i}{t_f - t_i}$$

ويمكن حسابه حسابياً: بالقانونين

ويمكن حسابه بيانياً: تساوي ميل منحنى (السرعة - الزمن) البياني.
ملاحظة: المساحة المحصورة تحت منحنى (السرعة المتجهة - الزمن):

تدريب ①: أجب عما يلي:

a- أرسم بيانياً الخط البياني لمنحنى السرعة المتجهة - الزمن؟

b- احسب ميل الخط البياني لمنحنى السرعة المتجهة - الزمن؟

$$\text{الميل} = \frac{y_2 - y_1}{x_2 - x_1} = \frac{30 - 10}{3 - 1} = \frac{20}{2} = 10 \text{ m/s}^2$$

$$\therefore \text{الميل} = 10 \text{ m/s}^2$$

c- ماذا يمثل ميل الخط البياني لمنحنى السرعة المتجهة - الزمن؟ التسارع.

السرعة المتجهة
V (m/s)



السرعة المتجهة - الزمن	
السرعة المتجهة (m/s)	الزمن (s)
0.00	0.00
10.0	1.00
20.0	2.00
30.0	3.00
40.0	4.00
50.0	5.00

الزمن (s)

المتجه المتوسط



التحقق من الفهم ١٢

* اختر الإجابة الصحيحة فيما يلي:

① الرسم البياني لمنحنى (السرعة - الزمن) في الشكل الآتي يمثل جسم:

- أ- ساكن ب- يتحرك بسرعة متزايدة ج- يتحرك بسرعة متناقصة د- يتحرك بسرعة ثابتة

② ميل الخط البياني لمنحنى (السرعة - الزمن) لجسم يتحرك يدل على:

- أ- السرعة المتوسطة ب- السرعة المتجهة المتوسطة ج- التسارع المتجه المتوسط د- التسارع المتوسط

③ وحدة قياس التسارع حسب النظام الدولي للوحدات:

- أ- m/s ب- m/s² ج- m د- s/m

④ تسارع الجسم المتحرك بسرعة ثابتة يساوي تسارع الجسم: لأن التسارع يساوي الصفر.

- أ- المتزايد السرعة ب- الساكن ج- الصاعد د- المتناقص السرعة

⑤ إذا كانت سرعة الجسم ثابتة، فإن التسارع:

- أ- يتزايد ب- يتناقص ج- ثابت د- صفر

⑥ تتشابه السرعة المتجهة والتسارع في أن كليهما عبارة عن معدل تغير بالنسبة للزمن: Q51 Page 88

- أ- العبارة صحيحة ب- العبارة خاطئة

⑦ المساحة تحت منحنى (السرعة المتجهة - الزمن) تساوي:

- أ- إزاحة الجسم ب- سرعة الجسم ج- تسارع الجسم د- موقع الجسم

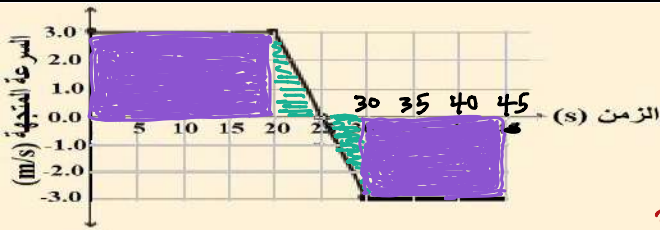
⑧ يمثل الرسم البياني التالي حركة شاحنة، ما الإزاحة الكلية للشاحنة؟

افرض ان الاتجاه الموجب نحو الشمال:

$$\text{الإزاحة في الاتجاه الموجب} = 20 \times 3 = 60$$

$$\text{الإزاحة في الاتجاه السالب} = 15 \times 3 = 45$$

$$\text{الإزاحة الكلية} = 60 - 45 = 15 \text{ م}^2$$



- أ- 45 m جنوباً ب- 60 m شمالاً ج- 15 m شمالاً د- 120 m شمالاً

ملحوظة: الإزاحة = المساحة المحصورة تحت منحنى (السرعة المتجهة - الزمن)

واجب رقم ١٢

١- ما المعلومات التي يمكن استخلاصها من منحنى السرعة المتجهة - الزمن؟ Q12 Page 69

يمكن معرفة مقدار السرعة عند أي لحظة ⑤ الزمن عند أي موقع

⑥ إشارة كل من السرعة والإزاحة والتسارع.

٢- إذا كان تسارع جسم يساوي صفراً فهل هذا يعني أن سرعته المتجهة تساوي صفراً؟ أعط مثلاً؟ Q65 Page 87

ليس شرطاً حيث يمكن أن يتحرك الجسم بسرعة ثابتة ويكون تسارعه صفراً.



اقرأ في الكتاب صفحة:
62-63-64-65

أخي الطالب: السلام عليكم ورحمة الله وبركاته - مبدأ التعاون مبدأ عظيم في الحياة
١- المقرر: ٢- عضو: ٣- عضو:
٤- عضو: ٥- عضو: ٦- عضو:

المجموعة
رقم ()

الهدف من الدرس: تربط السرعة المتجهة والتسارع مع حركة الجسم.

(شرح الدرس)

ماذا نسمي تغير السرعة عند لحظة زمنية محددة؟

عدد أنواع السرعة التي مرت معك مبينا كيفية حسابها؟

التهيئة:

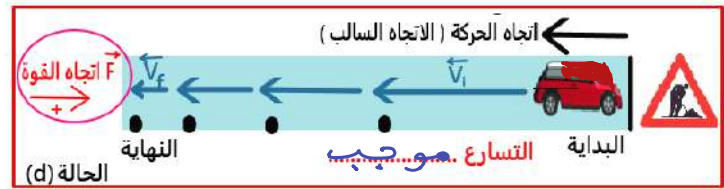
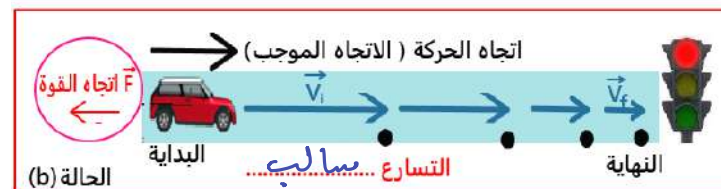
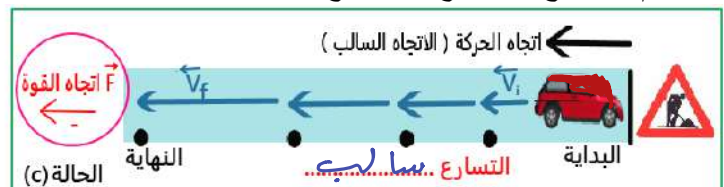
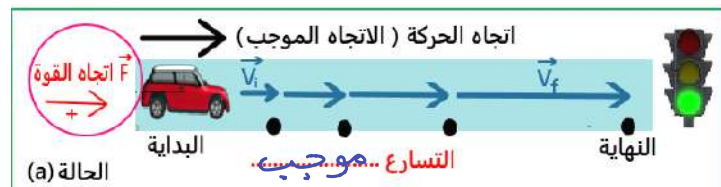
أعط أمثلة على أنواع التسارع للأجسام المتحركة مع تحديد نوع التسارع؟

المفردات: التسارع المتوسط - التسارع اللحظي

نشاط ①: قارن بين التسارع المتجه المتوسط والتسارع المتوسط واللحظي من حيث التعريف وطريقة حسابه؟

الكمية	التسارع المتجه المتوسط	التسارع المتوسط	التسارع اللحظي
التعريف	هو التغير في السرعة خلال الزمن مقداراً و اتجاهاً .	هو التغير في السرعة خلال الزمن مقداراً .	هو التغير في السرعة خلال الزمن مقداراً .
طريقة حسابه	بمساوي ميل الخط البياني لمنحنى (السرعة - الزمن).	بمساوي القيمة المطلقة لميل منحنى (السرعة - الزمن).	بمساوي ميل المماس لمنحنى لحظة صغيرة جداً تؤول إلى الصفر.

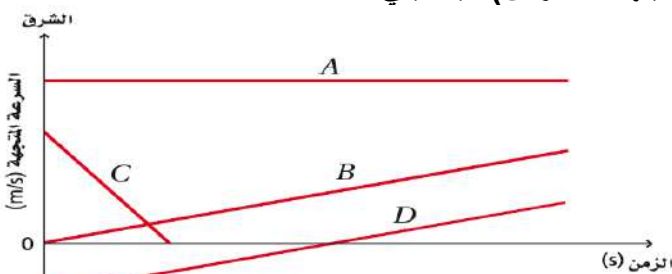
نشاط ②: وضح حالات التسارع الموجب والتسارع السالب من خلال تأمل نموذج الجسم النقضي لأربع طرق مختلفة في مسار مستقيم بتسارع ثابت مع التوضيح؟



① السرعة متزايدة في الاتجاه الموجب للحركة إذن التسارع .. موجب ..

② السرعة متناقصة في الاتجاه الموجب إذن التسارع .. سالب ..

تدريب ①: وضح سرعة وتسارع كل عداء في منحنيات (السرعة المتجهة - الزمن) فيما يلي؟



منحنى A: السرعة .. ثابتة .. والتسارع .. صفر ..

منحنى B: السرعة .. متزايدة .. والتسارع .. موجب ..

منحنى C: السرعة .. متناقصة .. والتسارع .. سالب ..

منحنى D: السرعة .. متزايدة .. والتسارع .. موجب ..

منحنى E: السرعة .. ثابتة .. والتسارع .. صفر ..

البيانية النهائية

تدريب ②: سيارة سباق تزداد سرعتها من 4.0 m/s إلى 36.0 m/s خلال فترة زمنية مقدارها 4.0 s . أوجد تسارعها المتوسط؟ Q6 Page 68

$$V_i = 4 \text{ m/s} \quad V_f = 36 \text{ m/s} \quad \Delta t = 4 \text{ s} \quad a = ??$$

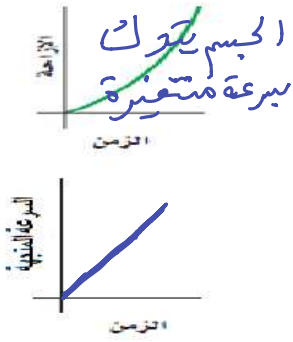
$$a = \frac{V_f - V_i}{t_f - t_i} \Rightarrow a = \frac{36 - 4}{4} = \frac{32}{4} = 8 \text{ m/s}^2$$

التحليل

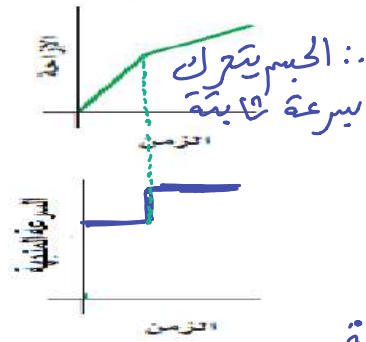
القانون

المعروض


الشكل (ج)



الشكل (ب)



الشكل (أ)



تدريب ③: أرسم المنحنى البياني لما يلي: للشكل (أ) والشكل (ب) والشكل (ج)

التحقق من الفهم ١٣

* اختر الإجابة الصحيحة فيما يلي: يبدل على اتجاه الحركة
① تسارع سيارة يساوي 5 m/s^2 ، هذا يعني:

أ- السيارة تتحرك بسرعة ثابتة في الاتجاه الموجب
ب- السيارة تقل سرعتها في الاتجاه السالب
ج- السيارة تزداد سرعتها في الاتجاه الموجب
د- السيارة تزداد سرعتها في الاتجاه السالب

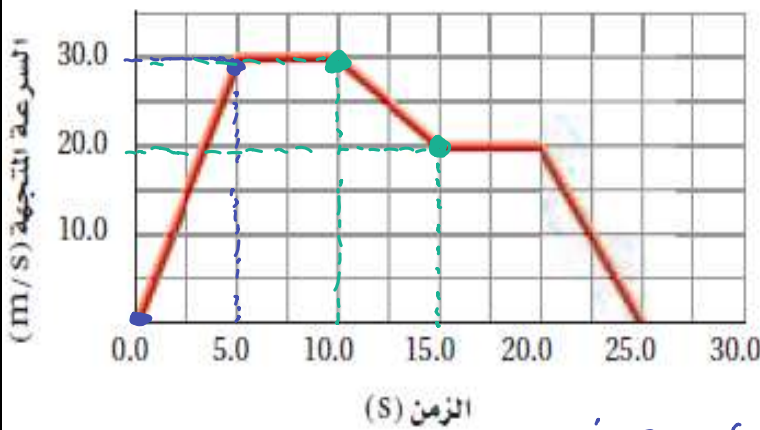
② ميل المماس لمنحنى (السرعة المتجهة - الزمن) لجسم يدل على:

أ- السرعة المتوسطة
ب- التسارع اللحظي
ج- التسارع المتجه المتوسط
د- التسارع المتوسط

③ عندما يشير متجه التسارع والسرعة المتجهة لجسم إلى اتجاهين متعاكسين، فإن هذا يعني أن:

أ- سرعة الجسم تزداد
ب- سرعة الجسم تتناقص
ج- الجسم يتحرك بسرعة ثابتة
د- الجسم ساكن

واجب رقم ١٣



١- أوجد تسارع الجسم المتحرك في الأزمنة التالية: Q79 Page 89

a- خلال الثواني الخمس الأولى من الرحلة (5.0 s)

$$\text{الميل} = \frac{y_2 - y_1}{x_2 - x_1} = \frac{30 - 0}{5 - 0} = \frac{30}{5} = 6 \text{ m/s}^2$$

b- بين 5.0 s و 10.0 s

نلاحظ أن الجسم سرعته ثابتة في التسارع = صفر

c- بين 10.0 s و 15.0 s

$$\text{الميل} = \frac{y_2 - y_1}{x_2 - x_1} = \frac{30 - 20}{15 - 10} = \frac{10}{5} = 2 \text{ m/s}^2$$

٢- هل للسيارة التي تتباطأ تسارع سالب دائماً؟ فسر إجابتك. Q63 Page 87

لا، قد تتباطأ السيارة ويكون تسارعها موجب

مثل السيارة التي تتباطأ في الاتجاه السالب للحركة يكون تسارعها موجب



اقرأ في الكتاب صفحة:
70-71-72

أخي الطالب: السلام عليكم ورحمة الله وبركاته - مبدأ التعاون مبدأ عظيم في الحياة

١- المقرر: ٢- عضو: ٣- عضو:
٤- عضو: ٥- عضو: ٦- عضو:

المجموعة
رقم ()

(شرح الدرس)

الهدف من الدرس: تفسر منحني (الموقع - الزمن) للحركة ذات التسارع الثابت - تحدد العلاقات الرياضية التي تربط بين كل من الموقع والسرعة والتسارع والزمن - تطبق علاقات بيانية ورياضية لحل المسائل التي تتعلق بالتسارع الثابت.



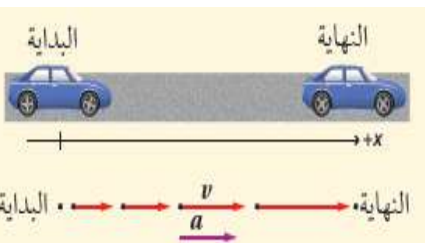
التهيئة: كيف تحسب التسارع المتوسط لجسم متحرك تغيرت سرعته خلال فترة من الزمن؟

التهيئة:

صف كيف يمكنك أن تحسب تسارع سيارة، مبيناً أدوات القياس التي ستستخدمها؟

متى يتساوى التسارع المتوسط مع التسارع اللحظي؟

نشاط ①: استنتج المعادلة الأولى للحركة (السرعة المتجهة النهائية بدلالة التسارع المتوسط)؟ (مساعدة: استخدم قانون التسارع المتوسط)



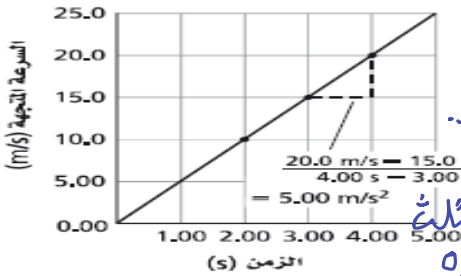
$$a = \frac{v_f - v_i}{t_f - t_i}$$

من قانون التسارع

بمخرجه الطرفين في الوسطين

$$\therefore v_f - v_i = a(t_f - t_i) \text{ --- ①}$$

نشاط ②: أكمل الفراغ الآتي من خلال الرسم البياني مما تعلمت سابقاً:



a - يمثل ميل الخط البياني لـ منحني (الموقع - الزمن) ... السرعة المتجهة المتوسطة

b - يمثل ميل الخط البياني لـ منحني (السرعة المتجهة - الزمن) ... التسارع المتجه المتوسط

c - المساحة تحت منحني (السرعة المتجهة - الزمن) تساوي عددياً ... الإزاحة

ملاحظة: حسب المنحني المقابل نجد أن التسارع = 5.00 m/s^2 ، والإزاحة = مسافة المثلث

$0.5 \times 5 \times 25 = 62.5 \text{ m}$

تدريب ①: تسير حافلة بسرعة 30.0 m/s ، فإذا زادت سرعتها بمعدل ثابت مقداره 3.5 m/s^2 ، فما السرعة التي تصل إليها

الحافلة بعد 6.8 s ؟ مساعدة: لديك معادلات الحركة الثلاث بتسارع ثابت [حاول معرفة كل رمز في المعادلات لكي تختار المعادلة الأنسب]

معادلات الحركة الثلاث بتسارع ثابت

$$v_f - v_i = a(t_f - t_i) \text{ ----- 1}$$

$$d_f - d_i = (v_i t_f) + \left(\frac{1}{2} a t_f^2\right) \text{ ----- 2}$$

$$v_f^2 - v_i^2 = 2 a (d_f - d_i) \text{ ----- 3}$$

$$v_i = 30 \text{ m/s} \rightarrow a = 3.5 \text{ m/s}^2 \rightarrow v_f = ?? \rightarrow t = 6.8 \text{ s}$$

$$v_f - v_i = a(t_f - t_i) \text{ --- ①}$$

$$v_f - 30 = 3.5(6.8 - 0)$$

$$\therefore v_f = +30 + 23.8 = 53.8 \text{ m/s}$$

تدريب منزلي ②: تتدحرج كرة إلى أسفل تل بتسارع منتظم 2.0 m/s^2 ، فإذا بدأت الكرة حركتها من السكون واستغرقت 4.0 s

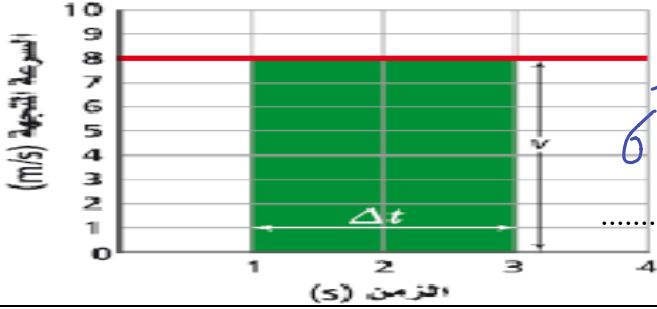
قبل أن تتوقف. ما المسافة التي قطعتها الكرة قبل أن تتوقف؟ Q1 page 93

$$a = 2 \text{ m/s}^2 \rightarrow v_i = 0 \rightarrow t_i = 0 \rightarrow d_i = 0 \rightarrow t_f = 4 \text{ s} \rightarrow d_f = ??$$

$$d_f - d_i = v_i t_f + \frac{1}{2} a t_f^2$$

$$d_f - 0 = (0 \times t_f) + \frac{1}{2} \times 2 \times (4)^2 = \frac{1}{2} \times 2 \times 16 = 16 \text{ m}$$

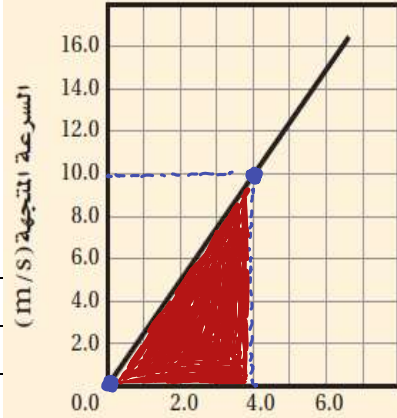
* اختر الإجابة الصحيحة فيما يلي:



Q1 page 88 أجب عما يلي من المنحنى الآتي:
 -a الإزاحة المقطوعة خلال الفترة من 1.0 s إلى 3.0 s = المساحة المحصورة

= مساحة المستطيل = الطول × العرض = $3 \times 2 = 6 \text{ m}$

-b التسارع المتجه المتوسط = $\frac{\Delta v}{\Delta t}$ = صفر لأن السرعة ثابتة.



Q1 page 128 (مساعدة اختر أي نقطتين واضحتين)
 التسارع = ميل المنحنى (السرعة المتجهة - الزمن)

$$a = \frac{v_2 - v_1}{t_2 - t_1} = \frac{10 - 0}{4 - 0} = \frac{10 \text{ m/s}}{4 \text{ s}} = 2.5 \text{ m/s}^2$$

- أ- 0.20 m/s^2 ب- 0.40 m/s^2
 ج- 1.0 m/s^2 د- 2.5 m/s^2 (✓)

Q2 page 128 ؟ 4 s ما المسافة التي قطعها السيارة بعد 4 s بالاعتماد على الرسم البياني أعلاه، ما المسافة التي قطعها السيارة بعد 4 s ؟

المسافة التي قطعها السيارة بعد 4 s تساوي المساحة المحصورة تحت المنحنى

الارتفاع × القاعدة × 0.5 = مساحة المثلث = المساحة المحصورة تحت المنحنى
 $= 0.5 \times 4 \times 10 = 20 \text{ m}$

- أ- 13 m ب- 20 m (✓) ج- 80 m د- 90 m

Q3 page 128 ؟ 10 s إذا تحركت السيارة في الرسم البياني السابق بتسارع ثابت، فكم تكون سرعتها المتجهة بعد 10 s ؟

بما أنه السيارة تتحرك بتسارع ثابت ∴ نستخدم معادلات الحركة بتسارع ثابت المناسبة

وبما أن الجواب Km/h ∴

$$v_f - v_i = a(t_f - t_i) \quad \text{--- (1)}$$

$$v_f - 0 = 2.5(10 - 0)$$

$$v_f = 25 \text{ m/s}$$

$$25 \frac{\text{m}}{\text{s}} \rightarrow \frac{\text{km}}{\text{h}}$$

$$25 \div \left(\frac{1000}{3600}\right) = 90 \text{ km/h}$$

- أ- 10 Km/h ب- 25 Km/h ج- 90 Km/h د- 120 Km/h

١- تسير سيارة سباق في حلبة بسرعة 44m/s ، وتتباطأ بمعدل ثابت بحيث تصل سرعتها إلى 22 m/s خلال 11s .
 ما المسافة التي قطعها السيارة خلال هذا الزمن؟ Q26 page 77

$$v_i = 44 \text{ m/s} \quad v_f = 22 \text{ m/s} \quad \Delta t = 11 \text{ s} \quad d = ?$$

نضتار المعادلة المناسبة:

ولكن أولاً نوجد التسارع (a) ∴

$$a = \frac{v_f - v_i}{t_f - t_i} = \frac{22 - 44}{11} = \frac{-22}{11} = -2 \text{ m/s}^2$$

ثم نعوض في المعادلة (3)

$$v_f^2 - v_i^2 = 2a(d_f - d_i)$$

$$22^2 - 44^2 = 2(-2)(d_f - 0)$$

$$4d = -1452 \quad \div 4 \quad 1452 \quad \div (-2) \quad 363 \text{ m}$$



اقرأ في الكتاب صفحة:
79-80-81

أخي الطالب: السلام عليكم ورحمة الله وبركاته - مبدأ التعاون مبدأ عظيم في الحياة
١- المقرر: ٢- عضو: ٣- عضو:
٤- عضو: ٥- عضو: ٦- عضو:

المجموعة
رقم ()

(شرح الدرس)

الهدف من الدرس: تعرف التسارع الناتج عن الجاذبية الأرضية - تحل مسائل تتضمن أجساماً تسقط سقوطاً حراً.



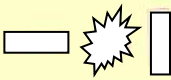
نسقط كرة وورقة من أعلى كلاهما في اتجاه الأرض. ما رأيكم في سرعتها نحو الأرض؟

التهيئة:

ما القوة التي تجعل الأجسام تسقط نحو الأرض؟ ما معنى السقوط الحر؟ ماذا نسمي التسارع الناتج من هذه القوة وكم يساوي؟

المفردات: السقوط الحر - التسارع الناتج عن الجاذبية الأرضية.

نشاط ①: وضح هل تسقط جميع الأجسام (المختلفة في الوزن والكثافة والحجم) بالسرعة نفسها أم لا وذلك عند إهمال احتكاك مع الهواء وعند أخذ احتكاك مع الهواء في الاعتبار؟ شاهد التجربة من الباركود الآتي:




عند إهمال مقاومة الهواء نلاحظ أن جميع الأجسام... يكون لها التسارع نفسه
والذي يساوي تسارع الجاذبية الأرضية (g).

وعند أخذ مقاومة الهواء بعين الاعتبار نلاحظ أن جميع الأجسام... تختلف في السرعة

بسبب الاحتكاك مع الهواء وعليه فالأجسام الثقيلة تهبط أولاً
إلى الأرض ثم الخفيفة.

نشاط ②: عرف السقوط الحر؟

هو حركة الأجسام تحت تأثير الجاذبية الأرضية فقط مع إهمال مقاومة الهواء

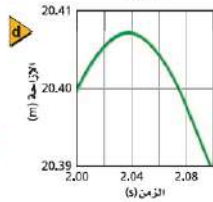
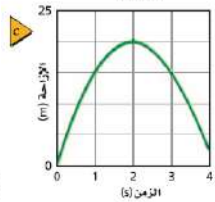
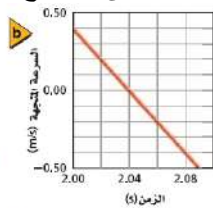
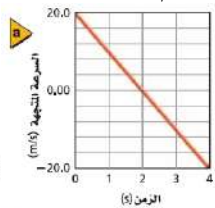
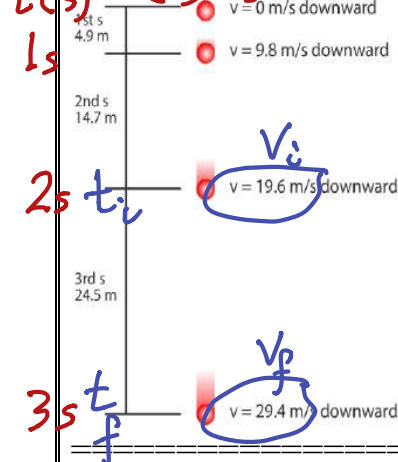


نشاط ③: ما المقصود بالتسارع الناتج عن الجاذبية الأرضية وما رمزه ووحدته؟

هو تسارع الأجسام الساقطة... سقوطاً حراً... تحت تأثير قوة الجاذبية الأرضية

ويساوي $9,8 \text{ m/s}^2$. ورمزه (g) ووحدته (m/s^2).

نشاط ④: تأمل المحاكاة التالية، ثم مقدار استنتاج تسارع الأجسام الساقطة من خلال التغير في المسافة والسرعة لكرة ساقطة وذلك خلال فترات زمنية محددة مع التوضيح لقيمة السرعة عند أقصى ارتفاع للجسم؟



بتطبيق قانون التسارع:

$$g = \frac{v_f - v_i}{t_f - t_i}$$

$$= \frac{29,4 - 19,6}{3 - 2} = \frac{9,8}{1} = 9,8 \text{ m/s}^2$$

تدريب ①: سقط قلم من أعلى سطح طاولة، كم مقدار تسارعه بإهمال مقاومة الهواء؟

تسارعه = تسارع الجاذبية الأرضية = $g = 9,8 \text{ m/s}^2$ لأنه سقط سقوطاً حراً

تدريب ②: يسقط حجراً سقوطاً حراً. ما سرعته بعد 8.0 s؟ وما إزاحته؟ Q92 Page 90 **يا فتراض أن الاتجاه لأعلى هو وكيف تختلف إجابتك عن المسألة إذا قمت باختيار النظام الإحداثي بحيث يكون الاتجاه المعاكس هو الاتجاه الموجب. الموجب.**

التحليل: $V_i = 0 \text{ m/s}$, $t_i = 0 \text{ s}$, $d_i = 0 \text{ m}$, $g = -9.8 \text{ m/s}^2$, $t_f = 8 \text{ s}$, $d_f = ?$

القانون: اختيار المعادلة الأنسب: **التعويض:**

$V_f - V_i = g(t_f - t_i)$ — ①

$V_f - 0 = -9.8(8 - 0)$

$\therefore V_f = -9.8(8) = -78.4 \text{ m/s}$

له الإشارة لها معنى فيزيائي أي أن السرعة في الاتجاه المعاكس

التحقق من الفهم: اختر الإجابة الصحيحة فيما يلي: ١٥

① استنتج جاليليو أن جميع الأجسام التي تسقط سقوطاً حراً يكون لها التسارع نفسه عند إهمال مقاومة الهواء ولا يتأثر هذا بنوع مادة الجسم أو وزنه أو كونه سقط أو قذف.

أ. العبارة صحيحة

ب. العبارة خاطئة

② أكمل الفراغات الآتية:

a- حركة الأجسام تحت تأثير الجاذبية الأرضية فقط مع إهمال مقاومة الهواء يعرف بـ **السقوط الحر**.

b- تسارع الناتج عن الجاذبية الأرضية هو تسارع جسم يسقط سقوطاً حراً نتيجة تأثير الجاذبية فيه ورمزه **g** واتجاهه **لأسفل**.

c- تستخدم معادلات الحركة الثلاث بتسارع ثابت في مسائل الأجسام التي تسقط سقوطاً حراً وذلك باستبدال **a** بـ **g**.

d- تكون السرعة النهائية للجسم المقذوف لأعلى عند أقصى ارتفاع **صفر**.

e- إذا سقط جسم لأسفل فإن إشارة تسارع الجاذبية الأرضية إذا اختير الاتجاه لأعلى على أنه موجب تكون الإشارة **سالبة**.

واجب رقم ١٥

١- افترض أنك قذفت كرة إلى أعلى. صف التغيرات في كل من سرعة الكرة المتجهة وتسارعها؟ Q46 Page 82

نلاحظ أن الكرة في أثناء صعودها تتناقص سرعتها بمعدل ثابت حتى تصل الصفر عند أقصى ارتفاع ثم تأخذ الكرة في السقوط فتبدأ سرعتها تتزايد حتى تصل أقصى قيمة لها قبل اصطدامها بالأرض. أما التسارع فيظل ثابتاً أثناء التخليق.

٢- سقط أصيص أزهار من شرفة ترتفع 85m من أرضية الشارع. ما الزمن الذي استغرقه في السقوط قبل أن يصطدم بالأرض: Q4 Page 93

١٧ s-د

٨.7 s-ج

٨.3 s-ب

4.2 s-أ

التحليل: $V_i = 0 \text{ m/s}$, $t_i = 0 \text{ s}$, $d_i = 0 \text{ m}$, $d_f = 85 \text{ m}$, $t_f = ?$

وبافتراض أن الاتجاه لأعلى موجب

القانون: نختار المعادلة الأنسب: ②

$d_f - d_i = V_i t_f + \left(\frac{1}{2} g t_f^2\right)$

$-85 - 0 = (0 \times t_f) + \left(\frac{1}{2} \times -9.8 \times t_f^2\right)$

$-85 = -\frac{1}{2} \times 9.8 t_f^2$

$85 = 4.9 t_f^2$

$t_f^2 = \frac{85}{4.9} \Rightarrow t_f = \sqrt{17.34} = 4.16 \text{ s}$

إشارة السالب تدل على أن السرعة والتسارع والإزاحة عكس اتجاه الحركة



اقرأ في الكتاب صفحة:
95-96-97

أخي الطالب: السلام عليكم ورحمة الله وبركاته - مبدأ التعاون مبدأ عظيم في الحياة
١- المقرر: ٢- عضو: ٣- عضو:
٤- عضو: ٥- عضو: ٦- عضو:

المجموعة
رقم ()

الهدف من الدرس: تُعرّف القوة.

Force

(شرح الدرس)

ما الذي يجعل كرة القدم، أو أي جسم آخر يتوقف أو يبدأ الحركة أو يغير اتجاهه؟

التهيئة:

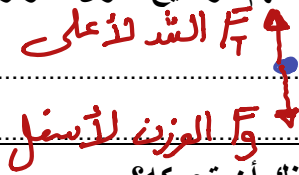
ما الطرق المستخدمة لتغيير حركة كتاب فوق سطح الطاولة؟

ما هي القوة وما هي آثارها؟ وما رمزها وما وحدتها؟

المفردات: القوة - قوة التلامس (التماس) - قوة المجال - مخطط الجسم الحر.



نشاط ①: من التجربة الاستهلاكية الآتية، ما القوى التي يمكن أن تؤثر في جسم معلق بخيط؟ ص ٩٥
قوتان: ① قوة الموزن (F_g) لأسفل ② قوة الشد (F_t) لأعلى.
التفكير الناقد: ارسم مخططاً توضيحياً للتجربة، واستخدم الأسهم لتوضيح القوى المؤثرة في الكتاب.



تدريب ①: إذا وضع كتاب على سطح طاولة فكيف يمكنك أن تحركه؟

① دفع الكتاب ② سحب الكتاب ③ إسقاط الكتاب سقوياً أو فيكتسب تسارع بسبب الجاذبية الأرضية.

نشاط ②: عرف القوة؟ مع ذكر رمزها ووحدتها؟

تعريف القوة: هي دفع أو سحب يؤثر في الجسم فيغير شكله أو اتجاهه أو موضعه أو حركته.
ورمزها (F) ووحدتها قياسها (N) نيوتن.

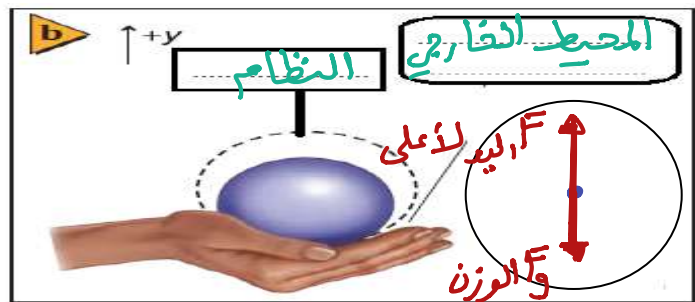
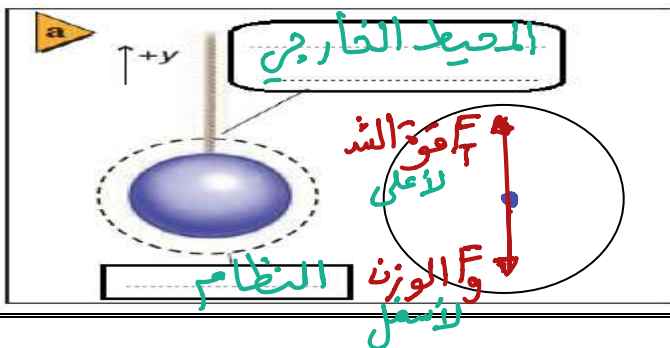
نشاط ③: لدراسة القوة المؤثرة في حركة جسم ما، ماذا يجب أن نحدد؟

يجب أن نحدد: ① النظام (الجسم الذي ندرس القوى المؤثرة فيه) المحيط الخارجي (كل ما يحيط بالنظام).
نشاط ④: عدد أنواع القوى مع التوضيح بمثال؟ نوعان!

① قوى التلامس (التماس): هي القوى التي تؤثر في الأجسام المتلامسة.
مثل: قوة الشد، قوة الاحتكاك، قوة الدفع، القوة العمودية.

② قوى المجال: هي القوى التي تؤثر في الأجسام بغض النظر عن وجود تلامس بينهما.
نشاط ⑤: عرف مخطط الجسم الحر؟ مثل / قوة الموزن - القوة الكهربائية، القوة المغناطيسية.

هو نموذج فيزيائي يمثل القوى المؤثرة في الجسم بحيث يُسَرِّم اتجاهات القوة بعيداً عن الجسم.
تدريب ②: ارسم داخل الدائرة مخطط الجسم الحر لكرة موضوعة في راحة اليد وأخرى معلقة في خيط حسب الشكل الآتي؟



* اختر الإجابة الصحيحة فيما يلي:


① يرمز للقوة بالرمز:			
أ- g	ب- F	ج- a	د- m
② تقاس القوة حسب النظام الدولي بوحدة:			
أ- Kg.m/s	ب- m	ج- Kg	د- N
③ القوة من أمثلة الكميات:			
أ- العددية	ب- القياسية	ج- المتجهة	د- الأساسية
④ لدراسة القوة المؤثرة في الكتاب الموضوع على الطاولة نستطيع أن نقول أن: (المحيط الخارجي - النظام) الكتاب هو النظام وقوة الجاذبية هي المحيط الخارجي			
⑤ تصنف القوى إلى قوى تلامس وقوى مجال وبالتالي فإن الكتلة:			
أ- قوة تلامس	ب- قوة مجال	ج- قوة جذب	د- ليست قوة
⑥ أي الكميات التالية تعتبر " قوة مجال ":			
أ- قوة الشد	ب- الوزن	ج- الدفع	د- مقاومة الهواء
⑦ النموذج الفيزيائي الذي يمثل القوى المؤثرة في جسم ما بحيث تشير متجهات القوة بعيداً عن الجسم حتى لو كانت تمثل قوى دفع يعرف بـ:			
أ- المخطط التوضيحي للحركة	ب- المخطط الجسم النقطي	ج- مخطط الجسم الحر	د- لا شيء مما سبق

واجب رقم ١٦

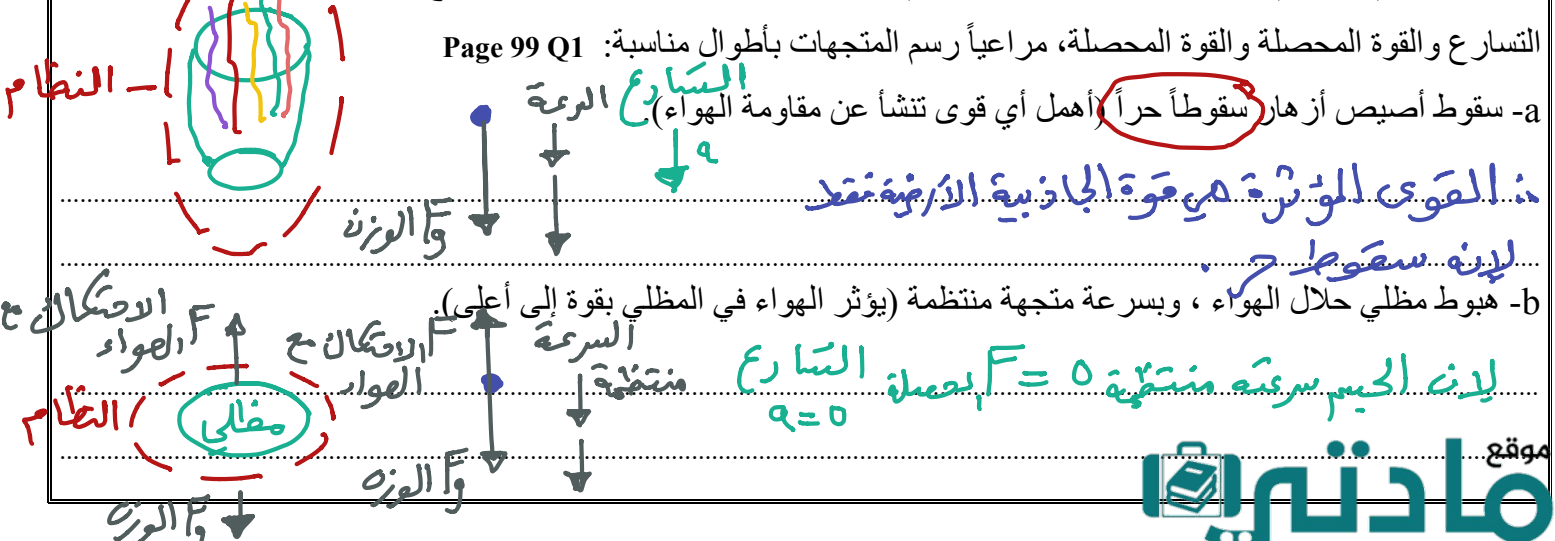
١- صنّف كلا من الوزن، الكتلة، القصور الذاتي، والدفع باليد، والمقاومة، ومقاومة الهواء، وقوة النابض، والتسارع إلى: **a- قوة تلامس** **b- قوة مجال** **c- ليست قوة** Page 105 Q9

الوزن	الكتلة	القصور الذاتي	الدفع باليد	المقاومة	مقاومة الهواء	قوة النابض	التسارع
قوة مجال	ليست قوة	ليست قوة	قوة تلامس	قوة مجال	قوة تلامس	قوة تلامس	ليست قوة

٢- ارسم مخطط الجسم الحر لما يلي:



٣- حدد النظام، وارسم مخطط الحركة، ومخطط الجسم الحر لكل من الحالات الآتية بتمثيل جميع القوى ومسبباتها، وتعيين اتجاه التسارع والقوة المحصلة والقوة المحصلة، مراعيًا رسم المتجهات بأطوال مناسبة: Page 99 Q1





اقرأ في الكتاب صفحة:
98-99-100-101

أخي الطالب: السلام عليكم ورحمة الله وبركاته - مبدأ التعاون مبدأ عظيم في الحياة

١- المقرر: ٢- عضو: ٣- عضو:
٤- عضو: ٥- عضو: ٦- عضو:

المجموعة
رقم ()

(شرح الدرس)

الهدف من الدرس: يوضح العلاقة بين القوة التسارع - بحسب محصلة جمع القوى - يطبق قانون نيوتن الثاني في حل المسائل.

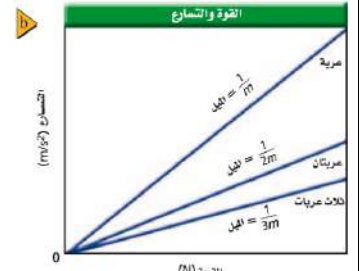
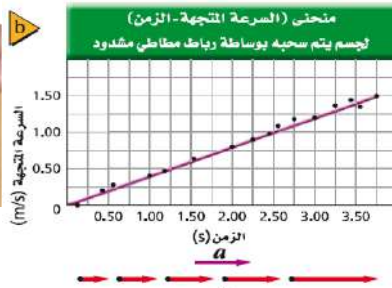



التهيئة: كيف يتحرك الجسم عندما تؤثر فيه قوة أو أكثر؟ وما المنحنى البياني المتوقع لحركة للجسم؟

كيف يعتمد التسارع على القوة المؤثرة في الجسم؟ متى يترن الجسم الواقع تحت تأثير قوتين؟


المفردات: القوة المحصلة - قانون نيوتن الثاني.

نشاط ①: كيف يتحرك الجسم عندما تؤثر فيه قوة أو أكثر؟ * عند التأثير على الجسم بقوة ثابتة في اتجاه واحد مثل الرباط المشدود:



العلاقة بين القوة والتسارع: علاقة طردية حيث كلما زادت القوة زاد التسارع.

نشاط ②: ماذا يحدث إذا دفعت أنت وزميلك طاولة، فأثر كل منكما فيها بقوة معينة؟



- إذا تم دفع الطاولة بقوتين متساويتين في المقدار ومتعاكستين في الاتجاه فإن الطاولة لن تتحرك.
 - إذا تم دفع الطاولة بقوتين متساويتين في المقدار ولهما نفس الاتجاه فإن الطاولة تتحرك باتجاه القوتين.
 - إذا تم دفع الطاولة بقوتين غير متساويتين في المقدار ومتعاكستين في الاتجاه فإن الطاولة تتحرك باتجاه القوة الأكبر.
 - إذا تم دفع الطاولة بقوتين غير متساويتين في المقدار ولهما نفس في الاتجاه فإن الطاولة تتحرك باتجاه القوتين.
- وعليه فإن تعريف القوة المحصلة: هي ناتج جمع قوتين أو أكثر.

نشاط ③: اذكر نص قانون نيوتن الثاني مع كتابة الصيغة الرياضية؟ "تذكر: قانون نيوتن 2 يربط بين القوة والتسارع" تسارع الجسم a كتلة الجسم m

النص: "إذا أثرت قوة أو محصلة قوى (F) في جسم كتلته (m) فإنها تكسبه تسارع (a) في نفس اتجاه القوة".
الصيغة الرياضية: $F = ma$ حيث m كتلة الجسم و a تسارع الجسم.

تدريب ①: ما الوحدات الدولية المستخدمة لقياس القوة وماذا تكافئ مع تعريف النيوتن؟

تقاس القوة بوحدة تسمى (النيوتن) ويرمز لها بالرمز (N).

تعريف النيوتن: هو مقدار القوة التي إذا أثرت في جسم كتلته (1 كغ) أكسبه تسارع مقدار (1 m/s²) في نفس اتجاه القوة.
تدريب ②: احسب مقدار محصلة القوى للأشكال الآتية؟



$$F_{\text{المحصلة}} = 150 + 100 - 150 = 100 \text{ N}$$



$$F_{\text{المحصلة}} = 150 - 150 = 0$$



$$F_{\text{المحصلة}} = 100 - 70 = 30 \text{ N}$$

تدريب ③: تتباطأ سيارة كتلتها 2300 Kg بمعدل 3.0 m/s^2 عندما تقترب من إشارة مرور. ما مقدار القوة المحصلة التي تجعلها تتباطأ

وفق المعدل المذكور؟ Page 126 Q49

$$m = 2300 \text{ kg} \quad a = -3 \text{ m/s}^2 \quad F = ??$$

التحليل:
القانون:
التعويض:

$$F = ma$$

$$F = 2300 \times (-3) = -6900 \text{ N}$$

له الإشارة السالبة لها معنى فيزيائي (القوة في عكس اتجاه الحركة)

التحقق من الفهم ١٧

* اختر الإجابة الصحيحة فيما يلي:

① كلما زادت كتلة صندوق فإنه يحتاج لقوة أكبر لدفعه:

أ- العبارة صحيحة ب- العبارة خاطئة

② النيوتن يكافئ:

من قانون نيوتن الثاني $F = ma$

أ- $\text{m/s}^2 / \text{Kg}$ ب- $\text{m/s} \cdot \text{Kg}$ ج- $\text{Kg} \cdot \text{m/s}^2$ د- $\text{Kg} \cdot \text{m/s}$

③ " تسارع جسم ما يتناسب طردياً مع القوة المحصلة المؤثرة فيه وعكسياً مع كتلته " ، هذا نص:

أ- قانون نيوتن الأول ب- قانون نيوتن الثاني ج- قانون نيوتن الثالث د- قانون الجذب الكوني

④ القانون الذي يوضح أنه كلما أثرت بقوة أكبر في تحريك بدالات دراجتك على طريق مستو فإن سرعتك تزداد:

أ- قانون نيوتن الأول ب- قانون نيوتن الثاني ج- قانون نيوتن الثالث د- قانون الجذب الكوني

⑤ إذا أثر لاعب بمضربه على كرة معدنية كتلتها 0.5 Kg فتحركت بتسارع مقداره 2 m/s^2 ، فكم تكون قوة المضرب تلك اللحظة؟

أ- 1 N ب- 4 N ج- 2.5 N د- 2 N

$$F = ma = 0.5 \times 2 = 1 \text{ N}$$

واجب رقم ١٧

١- أكمل خريطة المفاهيم أدناه باستخدام المصطلحات والرموز التالية

القوة العمودية ، F_g ، F_T Page 126 Q40



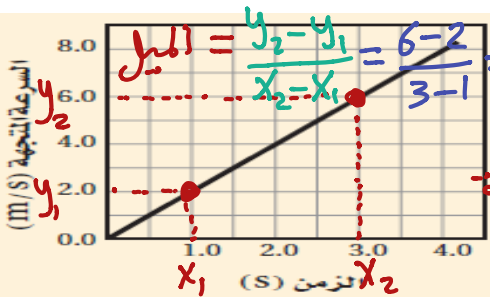
٢- ما القوة المحصلة التي تؤثر في كرة كتلتها 1.0 Kg وتسقط سقوطاً حراً؟ Page 126 Q48

القوة المحصلة في الكرة التي تسقط سقوطاً حراً هي قوة الجاذبية الأرضية (F_g) فقط بإهمال مقاومة الهواء. وبالتالي $F = ma$

$$F_g = mg \Rightarrow F_g = 1 \times 9.8 = 9.8 \text{ N}$$

٣- افترض أن تسارع جسم يساوي صفراً، فهل يعني هذا وجود أي قوى تؤثر فيه؟ Page 126 Q41

إذا تسارع جسم يساوي صفراً فهذا يعني أن القوة المحصلة المؤثرة في الجسم = صفر. يعني توجد قوى ولكن محصلتها = صفر.



٤- اعتماداً على الرسم البياني الآتي، ما مقدار القوة المؤثرة في عربة كتلتها 16 Kg $F = ??$ $m = 16 \text{ kg}$

Page 130 Q7

$$F = ma = 16 \times 2 = 32 \text{ N}$$

(ميل منحن) = السرعة - الزمن



اقرأ في الكتاب صفحة:
103-104

أخي الطالب: السلام عليكم ورحمة الله وبركاته - مبدأ التعاون مبدأ عظيم في الحياة
١- المقرر: ٢- عضو: ٣- عضو:
٤- عضو: ٥- عضو: ٦- عضو:

المجموعة
رقم ()

(شرح الدرس)

الهدف من الدرس: تشرح معنى قانون نيوتن الأول.



ماذا يقصد بالقصور الذاتي؟ وهل يعتبر قوة؟

كيف تكون حركة الجسم عندما تؤثر فيه القوة المحصلة صفراً؟

التهيئة:

ما السبب في تغير السرعة المتجهة لجسم ما؟ وما الشرط اللازم تحققه في اتزان الجسم؟

ما الفترة الزمنية التي تستمر فيها كرة تتدحرج على سطح أفقي خشن أو ناعم؟

المفردات: قانون نيوتن الأول - القصور الذاتي - الاتزان.

a



الكرة الساكنة تبقى ساكنة

b



الكرة المتدحرجة بسرعة ثابتة وعلى خط مستقيم تبقى على دحرجتها دون توقف ما لم تؤثر عليها قوى خارجية

نشاط ①: اذكر نص قانون نيوتن الأول مع كتابة الصيغة الرياضية؟ (من خلال تأمل الصورة الآتية)

النص: **در يبقر الجسم على حالته من سكون أو حركة بسرعة منتظمة ما لم تؤثر عليه قوة محصلة.**

الصيغة الرياضية: $F = 0$

تدريب ①: أعط أمثلة توضيحية على قانون نيوتن الأول أو ما يسمى أحياناً بقانون القصور؟

- الجسم المتحرك بسرعة ثابتة.
- الجسم الساكن مثل / الكتاب الموضوع على الطاولة.



نشاط ②: عرف القصور الذاتي؟ (من خلال تأمل الصورة الآتية)

التعريف: **هو صفة الجسم التي تغير في حالته من سكون أو حركة.**

تدريب ②: أعط أمثلة توضيحية على القصور الذاتي؟

- اندفاع الراكب للأمام عند توقف السيارة فجأة.
- انقلاب السيارة السرعة عند تغير اتجاه حركتها فجأة.



$F = 0$ محصلة

نشاط ③: ما الشروط اللازمة حتى يكون الجسم في حالة اتزان؟ (من خلال تأمل الصورة الآتية)

يحدث الاتزان حسب قانون نيوتن الأول إذا تحقق الشرط الآتي:

أن تكون القوى المحصلة المؤثرة في الجسم = صفر.

نشاط ④: عرف القوة المحصلة؟ (من خلال تأمل الصورة الآتية)

هي كل ما يحدث اضطراب في حالة الاتزان.

تدريب ③: أكمل الجدول الآتي لبعض أنواع القوى:

القوة	الرمز	التعريف	الاتجاه
الاحتكاك	f_f	قوة ... تـلـاـجـسـن .. تؤثر في اتجاه ... مـاـكـسـيـن ... للحركة الانزلاقية بين الأسطح.	موازنة ... للسطح و ... عـكـسـيـن ... اتجاه الحركة.
العمودية	F_N	قوة ... تـلـاـجـسـن .. يؤثر بها السطح ... عـمـودـيـاً ... على الجسم.	عمودية ... على سطح كلا من الجسمين.
الشد	F_T	القوة التي يؤثر بها ... خـيـط ... أو حبل أو سلك في جسم متصل به، وتؤدي إلى ... سـحـبه ...	موازنة ... للحبل أو الخيط ومبتعدة عن الجسم.
الوزن	W	قوة ... مـجـالـيـة ... تنتج عن ... الجاذبية الأرضية ... بين جسمين.	للأفضل ... في اتجاه مركز الأرض.

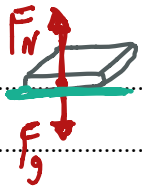
* اختر الإجابة الصحيحة فيما يلي:

١ وفقاً لقانون يبقى الجسم ساكناً أو يستمر بحركته بسرعة متجهة ثابتة إذا كانت القوة المحصلة المؤثرة فيه صفراً.			
أ- نيوتن الأول	ب- نيوتن الثاني	ج- نيوتن الثالث	د- الجذب الكوني
٢ يكون الجسم في حالة اتزان إذا كانت القوة المحصلة المؤثرة فيه صفراً.			
أ- العبارة صحيحة	ب- العبارة خاطئة		
٣ القوة المحصلة لقوتين متساويتين في المقدار وفي نفس الاتجاه تساوي:			
أ- الفرق بين القوتين	ب- مجموع القوتين	ج- صفر	د- لا شيء مما سبق
٤ أي من الأمثلة الآتية فقط مثال على الاتزان:			
أ- الجسم الذي يكون في حالة سكون	ج- الجسم الذي تسارعه يساوي صفراً		
ب- الجسم المتحرك بسرعة منتظمة	د- جميع ما سبق		
٥ كل ما يحدث اضطراباً في حالة الاتزان يسمى:			
أ- اتزان	ب- قوة محصلة	ج- قوة موازنة	د- جميع ما سبق
٦ يكون اتجاه القوة العمودية دائماً عمودياً على السطح الذي يلامس الجسم:			
أ- العبارة صحيحة	ب- العبارة خاطئة		
٧ عندما تتحرك السيارة للأمام في الشارع فإن اتجاه قوة الاحتكاك مع الأسفلت تكون:			
أ- مع اتجاه الحركة	ب- عكس اتجاه الحركة	ج- عمودية على اتجاه الحركة	د- لا شيء مما سبق
٨ من الأمثلة على قانون نيوتن الأول:			
أ- ارتداد المدفع للخلف	ب- انطلاق الصاروخ	ج- الكتاب على الطاولة	د- جميع ما سبق

١- هل يمكن أن تشعر بالقصور الذاتي لقدم رصاص أو كتاب؟ إذا كنت تستطيع فصف ذلك. Page 104 Q10

نعم يمكن الشعور بالقصور الذاتي لقدم رصاص أو كتاب.
يتم ذلك بالكسب القلم تسارع ثم سحب اليد في الاتجاه المعاكس.

٢- إذا كان كتابك متزناً فما القوى التي تؤثر فيه؟ Page 125 Q42



الكتاب المتزن ← القوى المحصلة المؤثرة فيه = صفر.
القوى المؤثرة هي ← ① قوة الوزن (قوة الجاذبية الأرضية) للأسفل.
② القوة العمودية (قوة رد الفعل العمودي) لأعلى.

٣- قوتان أفقيتان إحداهما 225 N والأخرى 165 N ، تؤثران في قارب في الاتجاه نفسه. أوجد القوة الأفقية المحصلة التي

تؤثر في القارب مقداراً واتجاهاً؟ Page103 Q6

$$F_1 = 225 \text{ N} \quad F_2 = 165 \text{ N} \quad \text{المحصلة } F = ??$$

التحليل:



$$F = F_1 + F_2$$

$$= 225 + 165 = 390 \text{ N}$$



* اختر الإجابة الصحيحة فيما يلي:

① الوزن من الأمثلة على الكميات:			
أ- العددية	ب- المتجهة	ج- القياسية	د- الأساسية
② يقاس الوزن بوحدة:			
أ- Kg	ب- N	ج- g	د- m/s ²
③ الفرق بين الكتلة والوزن أن الكتلة ثابتة ولا تختلف باختلاف الموقع.			
أ- العبارة صحيحة		ب- العبارة خاطئة	
④ أيهما أسهل: رفع شاحنة الإسمنت؛ على سطح الأرض أم على سطح القمر؟			
أ- على سطح الأرض	ب- على سطح القمر	ج- متساويان في الرفع	د- لا شيء مما سبق

واجب رقم ١٩

١- تزن دراجتك النارية 2450 N ، فما كتلتها بالكيلوجرام؟ Page 125 Q51

التحليل : سارع الجاذبية الأرضية $g = 9.8 \text{ m/s}^2$ ، الكتلة $m = ??$ ، الوزن $F_g = 2450 \text{ N}$

القانون : $F_g = m g$

التعويض : $2450 = m \times 9.8 \Rightarrow m = \frac{2450}{9.8} = 250 \text{ kg}$

٢- يقف شخص كتلته 65 Kg فوق لوح تزلج على الجليد. إذا اندفع هذا الشخص بقوة 9.0 N فما تسارعه؟ Page 111 Q23

التحليل : الكتلة $m = 65 \text{ kg}$ ، القوة $F = 9 \text{ N}$ ، التسارع $a = ??$

القانون : $F = m a$

التعويض : $9 = 65 \times a \Rightarrow a = \frac{9}{65} = 0.14 \text{ m/s}^2$

٣- يسحب طالبان دمية كتلتها 0.5 Kg ، بالتأثير فيهما أفقياً بقوتين 140.0 N و 138.0 N في اتجاهين متعاكسين. ما التسارع الأفقي للدمية؟

أ- 9.8 m/s ²	ب- 8.0 m/s ²	ج- 4.9 m/s ²	د- 4.0 m/s ²
-------------------------	-------------------------	-------------------------	-------------------------

التحليل : الكتلة $m = 0.5 \text{ kg}$ ، القوة $F_1 = 140 \text{ N}$ ، القوة $F_2 = -138 \text{ N}$ ، التسارع $a = ??$

القانون : $F = m a$

التعويض : $140 - 138 = 0.5 a$

$2 = 0.5 a \Rightarrow a = \frac{2}{0.5} = 4 \text{ m/s}^2$

٤- ما وزن مجس فضائي كتلته 225 Kg على سطح القمر؟ (مع افتراض أن مقدار تسارع الجاذبية على القمر 1.62 m/s²) Page 128 Q4

أ- 139 N	ب- 364.5 N	ج- 1.35 × 10 ³ N	د- 2.21 × 10 ³ N
----------	------------	-----------------------------	-----------------------------

التحليل : الكتلة $m = 225 \text{ kg}$ ، التسارع $g_{\text{القمر}} = 1.62 \text{ m/s}^2$ ، الوزن $F_{\text{القمر}} = ??$

القانون : $F_{\text{القمر}} = m g_{\text{القمر}}$

التعويض : $F_{\text{القمر}} = 225 \times 1.62 = 364.5 \text{ N}$

المجموعة
رقم ()أخي الطالب: السلام عليكم ورحمة الله وبركاته - مبدأ التعاون مبدأ عظيم في الحياة
١- المقرّر: ٢- عضو: ٣- عضو:
٤- عضو: ٥- عضو: ٦- عضو:اقرأ في الكتاب صفحة:
107-108-109-110

(شرح الدرس)



لماذا تشعر بأنك أثقل عندما يتسارع المصعد لأعلى وأخف عندما يتسارع لأسفل؟

ما الوزن وما العوامل المؤثرة فيه؟

التهينة:

ما الفرق في قراءة الميزان بين الوقوف بقدمين أو بقدم واحدة بينما القدم الأخرى على الأرض؟

المفردات: الوزن الظاهري - القوة المعيقة - السرعة الحدية. الهدف من الدرس: نقارن بين الوزن الحقيقي والوزن الظاهري.



نشاط ①: عرف الوزن الظاهري؟ ناقش مع زملائك الأوضاع الآتية:

الوزن الظاهري: هو الوزن الذي نحس به
ونفسه نتيجة تسارع الجسم.

مناقشة أوضاع وزن الشخص في المصعد:

١- الوزن الحقيقي = الوزن الظاهري عندما يكون المصعد ساكن أو يتحرك بسرعة منتظمة. (أي أن تسارعه = صفر)

٢- الوزن الحقيقي يكون أكبر من الوزن الظاهري إذا كان المصعد تسارعه موجب. ويكون الوزن الحقيقي أصغر من الوزن الظاهري إذا كان المصعد تسارعه سالب.

نشاط ②: بفرض أن شخصاً ما يقف على ميزان في مصعد، وله كتلة مقدارها $m(Kg)$:

في البداية كان المصعد ساكناً ومن ثم تسارع المصعد لأعلى بمقدار (a) لمدة زمنية مقدارها (t)، ومن ثم تابع حركته لأعلى بسرعة منتظمة. هل ستكون قراءة الميزان أثناء تسارع المصعد لأعلى: أكبر، أم مساوية، أم أقل من قراءة الميزان عندما كان المصعد ساكناً؟

من قانون نيوتن الثاني

$$F = ma$$

$$F - F_g = ma$$

منه يزيد الوزن إذا كان تسارع المصعد موجب.

وينقص الوزن إذا كان تسارع المصعد سالب.

نشاط ③: عرف القوة المعيقة وما العوامل المؤثرة فيها؟ من خلال الشكل الآتي:

القوة المعيقة: هي قوة مماثلة للمائع الذي يتحرك خلاله.

العوامل المؤثرة في القوة المعيقة:

١- خصائص المائع: لزوجة - درجة حرارته.

٢- خصائص الجسم: شكله - حجمه - حركته.



نشاط ④: عرف السرعة الحدية موضحاً متى يصل الجسم للسرعة الحدية؟ من خلال مشاهدة المقطع الآتي:

السرعة الحدية: هي السرعة المنتظمة التي يصل إليها الجسم المغمور خلال فترة معينة.

يصل الجسم للسرعة الحدية: إذا كانت القوة المعيقة للجسم تساوي وزن الجسم (قوة جاذبية الأرض للجسم).

تدريب ①: وضع ميزان داخل مصعد. ما القوة التي يؤثر بها الميزان في شخص يقف عليه كتلته 53 Kg ووزنه 519 N، في الحالات

التالية: a- إذا تحرك المصعد بسرعة منتظمة إلى أعلى. Q 53 Page 126

ب- المصعد يتحرك بسرعة منتظمة. : تسارعه = صفر $m = 53 \text{ Kg}$ ، $F = ?$ الميزان

$$F - F_g = ma$$

$$F - 519 = 53(0) \Rightarrow F = 519 \text{ N}$$

b- إذا تحرك المصعد إلى أسفل بسرعة منتظمة.

$$F - F_g = m a$$

∴ السرعة منتظمة $\leftarrow a = 0$

$$F - 519 = 53 \times 0 \Rightarrow F = 519 \text{ N}$$

c- إذا تسارع المصعد بمقدار 0.2 m/s^2 في أثناء حركته إلى أسفل.

$$a = -0.2 \text{ m/s}^2 \quad m = 53 \text{ kg} \quad F_g = 519 \text{ N} \quad F = ??$$

$$F - F_g = m a$$

$$F - 519 = 53 \times (-0.2)$$

$$F - 519 = -10.6 \Rightarrow F = 519 - 10.6 = 508.4 \text{ N}$$

التحقق من الفهم ٢٠

* اختر الإجابة الصحيحة فيما يلي:

① الميزان داخل المصعد يقرأ الوزن الحقيقي للجسم عندما يكون المصعد:

أ- يتسارع نحو الأعلى ب- يتسارع نحو الأسفل ج- متزن د- جميع ما سبق

② عندما تقف على ميزان داخل مصعد يتسارع لأعلى فإن قراءة الميزان:

أ- أقل من وزنك ب- تساوي وزنك ج- أكبر من وزنك د- تساوي صفر

③ الأجسام الخفيفة ذات السطوح الكبيرة يكون تأثيرها أكبر بالقوة المعيقة من الأجسام الثقيلة ذات السطوح الصغيرة.

أ- العبارة صحيحة ب- العبارة خاطئة

④ يقل الوزن في حالة تسارع المصعد لأسفل وفي حالة تباطؤ المصعد لأعلى.

أ- العبارة صحيحة ب- العبارة خاطئة

⑤ يقف طالب كتلته 50.0 Kg في مصعد ساكن. ما مقدار القوة المحصلة المؤثرة في الطالب؟

∴ المصعد ساكن ∴ $F = 0$ المحصلة أي أنه توجد قوتين ولكن محصلتها صفر

أ- 9.8 N ب- 0 N ج- 490 N د- 588 N

واجب رقم ٢٠

١- يقف طالب كتلته 50.0 Kg في مصعد يتسارع إلى أعلى بمقدار 1.80 m/s^2 . ما مقدار القوة المحصلة المؤثرة في الطالب؟

أ- 9.8 N ب- 90.0 N ج- 480 N د- 588 N


$$m = 50 \text{ kg} \quad a = 1.80 \text{ m/s}^2 \quad F = ??$$

$$F = m a$$

$$F = 50 \times 1.8 = 90 \text{ N}$$

٢- هبط مظلي بسرعة منتظمة متخذاً هيئة الصقر المجنح. هل يتسارع المظلي بعد فتح مظلته؟ إذا كانت إجابتك نعم ففي أي اتجاه؟ فسر

إجابتك باستخدام قوانين نيوتن. Page 111 Q26



بعد فتح المظلة فإن المظلي يتسارع لأعلى لفترة من الزمن بسبب إضافة قوة لأعلى ناتجة من الهواء.



اقرأ في الكتاب صفحة:
112-113-116-117-119

أخي الطالب: السلام عليكم ورحمة الله وبركاته - مبدأ التعاون مبدأ عظيم في الحياة
١- المقرر: ٢- عضو: ٣- عضو:
٤- عضو: ٥- عضو: ٦- عضو:

المجموعة
رقم ()

(شرح الدرس)



التهنئة: ماذا يحدث لك إذا دفعت ظهر زميلك وكلاكما يرتدي حذاء التزلج؟ لماذا تتحرك إلى الخلف؟

عندما تستند على جدار لماذا لا تسقط؟ أعط أمثلة توضيحية على قانون نيوتن الثالث؟

المفردات: أزواج التأثير المتبادل - قانون نيوتن الثالث - قوة الشد - القوة العمودية

الهدف من الدرس: تعرّف قانون نيوتن الثالث - توضح قوى الشد التي تنشأ في الخيوط والحبال من خلال قانون نيوتن الثالث تعرف القوة العمودية - تحدد مقدار القوة العمودية من خلال تطبيق قانون نيوتن الثاني .

نشاط ①: بالتعاون مع أفراد مجموعتك نأفَس المجموعات الأخرى باستخدام الأدوات الآتية لتحريك السيارة: سيارة لعبة خفيفة- بالون - مصاص - لاصق.



المجموعة الفائزة: هي الأوسع.

الفكرة الرئيسية: أن تكون قوة دفع الهواء في الرجا.

المعاكس للحركة مما يؤدي إلى تحريك السيارة للأمام.

نشاط ②: اذكر نص قانون نيوتن الثالث مع كتابة الصيغة الرياضية وإعطاء أمثلة عليه؟ من خلال مشاهدة المقطع الآتي :



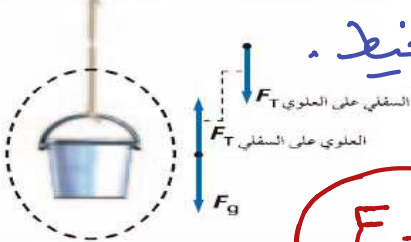
النص: لكل قوة فعل رد فعل مساوٍ له في المقدار ومعاكس له في الاتجاه في زوجي التأثير المتبادل.

$$F_{AB} = -F_B$$



أمثلة توضيحية: انطلاق الصاروخ - ارتداد المدفع - دفع الصديقين.

نشاط ③: وضح قوى الشد التي تنشأ في الخيوط والحبال من خلال قانون نيوتن الثالث؟



تعريف قوة الشد: هي اسم يُطلق على القوة التي تؤثر في الجبل أو الخيط .

ويرمز لها بالرمز (.....) وتقاس بوحدة (نيوتن «N»).

ملاحظة: العلاقة بين قوة الشد ووزن الجسم المعلق إذا كان الجسم متزن:

$$F_g = F_T$$

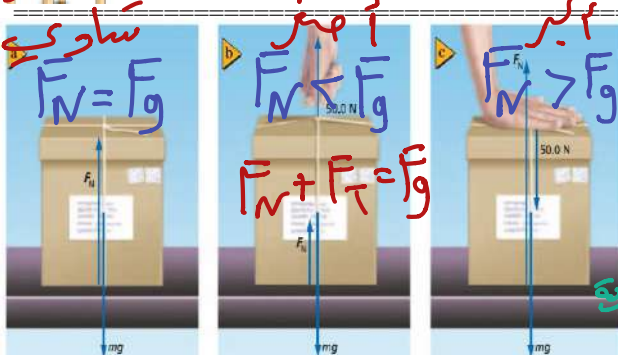
ما دام الجسم متزن: القوتان متساويتان

نشاط ④: عرف القوة العمودية مع ذكر رمزها ووحدتها؟ من خلال الشكل الآتي :

التعريف: هي قوة تلامس... يؤثر بها... سطح... في جسم آخر وتكون دائماً عمودية على مستوى التلامس بينهما.

ويرمز لها بالرمز (.....) وتقاس بوحدة (النيوتن «N»).

نشاط ⑤: حدد قيمة القوة العمودية في الشكل الآتي؟



من قانون نيوتن الثاني $F = ma$ بملاحظة

$$F_T + F_N - F_g = ma$$

كتلة الجسم

$$F_N = F_g - F_T + ma$$

قوة الشد

قوة الوزن

تدريب ①: يُسلم صالح صندوقاً كتلته 13 Kg إلى شخص كتلته 61 Kg يقف على منصة. ما القوة العمودية التي تؤثر بها المنصة في هذا الشخص؟ Page120 Q38

$m_1 = 13 \text{ kg}$ و $m_2 = 61 \text{ kg}$ و $F_N = ??$

المحصلة $F = m \cdot a$
 $F_N - F_{g1} - F_{g2} = m \cdot a$ (التأرجع = صفر لأن الشخص واقف)
 $F_N = F_{g1} + F_{g2} = (m_1 + m_2) \cdot g = (13 + 61) \times 9.8 = 725.2 \text{ N}$

التحقق من الفهم ٢١

* اختر الإجابة الصحيحة فيما يلي:

① ارتداد المدفع إلى الخلف أثناء إطلاق القذيفة هو تطبيق على قانون نيوتن:

أ- الأول	ب- الثاني	ج- الثالث	د- الجذب الكوني
----------	-----------	-----------	-----------------

② كتاب الفيزياء الموضوع على الطاولة القوة العمودية المؤثرة فيه وزنه.

أ- أكبر من	ب- أصغر من	ج- تساوي	د- ضعف
------------	------------	----------	--------

③ يبين الرسم الآتي دلواً ساكناً معلقاً بحبل. على افتراض أن الحبل مهمل الكتلة، ما مقدار القوة المحصلة المؤثرة في الدلو؟

الدلو ساكن :- القوة المحصلة المؤثرة فيه = صفر حيث $F = m \cdot a$



0.0 N	ب- 2.0 N	ج- 9.8 N	د- $2.0 \times 10^1 \text{ N}$
-------	----------	----------	--------------------------------

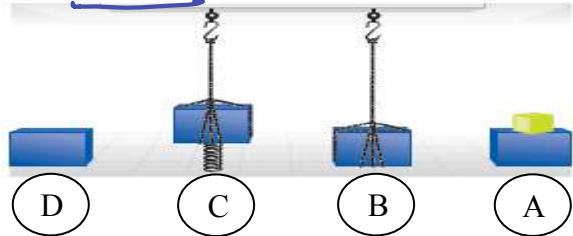
④ من الرسم السابق، ما مقدار قوة الشد في الحبل؟

الحبل متزن :- $F_T = F_g = m \cdot g = 2 \times 9.8 = 19.6 \text{ N}$

أ- 9.8 N	ب- 10 N	ج- 14.2 N	د- $2.0 \times 10^1 \text{ N}$ بالتقريب
----------	---------	-----------	---

واجب رقم ٢١

١- الشكل الآتي عبارة عن كتلة في أربعة أوضاع مختلفة. رتب هذه الأوضاع بحسب مقدار القوة العمودية بين الكتلة والسطح، من الأكبر إلى الأصغر، أشر إلى أي علاقة بين نتائج الإجابة. Page 125 Q44



الترتيب: أولاً A ثم D ثم B ثم C

٢- لماذا يكون الشد ثابتاً في كل نقاط حبل مهمل الكتلة؟ Page 125 Q45

متساوي في جميع نقاط الحبل حسب قانون نيوتن الثالث

٣- يجلس طفل كتلته 45 Kg في أرجوحة كتلتها 3.2 Kg مربوطة إلى غصن شجرة، ما مقدار قوة الشد في حبل الأرجوحة؟ Page 130 Q5

أ- $3.1 \times 10^2 \text{ N}$	ب- $4.4 \times 10^2 \text{ N}$	ج- $4.5 \times 10^2 \text{ N}$	د- $4.7 \times 10^2 \text{ N}$
--------------------------------	--------------------------------	--------------------------------	--------------------------------

$m_1 = 45 \text{ kg}$ و $m_2 = 3.2 \text{ kg}$ و $F_T = ??$

الوزن $F_T = F_g \Rightarrow F_T = m_1 \cdot g + m_2 \cdot g = (45 + 3.2) \times 9.8 = 472.36 \text{ N}$

٤- إذا تدلى غصن الشجرة في المسألة السابقة إلى أسفل بحيث تستند قدما الطفل على الأرض، وأصبحت قوة الشد في حبل الأرجوحة 220 N، فما مقدار القوة العمودية المؤثرة في قدمي الطفل؟ Page 130 Q6

أ- $2.2 \times 10^2 \text{ N}$	ب- $2.5 \times 10^2 \text{ N}$	ج- $4.3 \times 10^2 \text{ N}$	د- $6.9 \times 10^2 \text{ N}$
--------------------------------	--------------------------------	--------------------------------	--------------------------------

بما أن الجسم متزن $F = 0 \Rightarrow F_N + F_T - F_g = 0$

$F_N = F_g - F_T = 472.36 - 220 = 252.36 \text{ N}$



اقرأ في الكتاب صفحة:
131-132-133

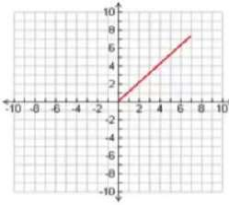
أخي الطالب: السلام عليكم ورحمة الله وبركاته - مبدأ التعاون مبدأ عظيم في الحياة
١- المقرر: ٢- عضو: ٣- عضو:
٤- عضو: ٥- عضو: ٦- عضو:

المجموعة
رقم ()

(شرح الدرس)

ماذا يحدث إذا كانت القوى التي تؤثر في المتعلق ليست عمودية أو أفقية؟

المتجه في الشكل الآتي في أي بعد؟



كيف يمكن لمتسلقي الصخور تجنب السقوط في الصورة الآتية؟

المفردات: تعريف المتجه - شروط نقل المتجه - محصلة المتجهات.

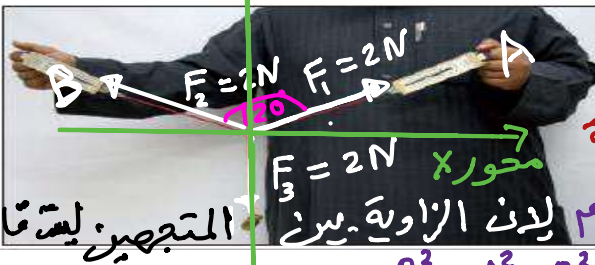
الهدف من الدرس: تحسب مجموع متجهين أو أكثر في بعدين بطريقة الرسم وبالطريقة الحسابية.



لمشاهدة التجربة:

نشاط ①: تجربة استهلاكية: هل صحيح أن $2N + 2N = 2N$ ؟ الخطوات Page 122

سؤال التجربة: هل يمكن لمجموع (محصلة) قوتين متساويتين تؤثران في جسم أن يساوي إحدى هاتين القوتين؟



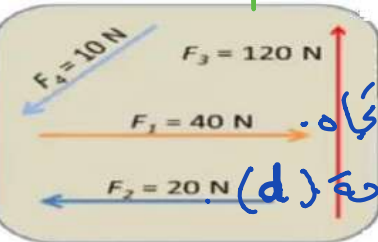
نعم إذا جمعت القوتين جماً اتجاهياً وبما أن الجسم متزن $\vec{F} + \vec{F}_2 + \vec{F}_3 = 0 \Rightarrow F = 0$ المحصلة

محصلة القوتين F_1 و F_2 \Rightarrow بتطبيق قانون جيب التمام لأن الزاوية بين المتجهين ليست قائمة

حيث $\phi = 180 - 120$

$R^2 = A^2 + B^2 - 2AB \cos \theta \Rightarrow R^2 = 2^2 + 2^2 - (2 \times 2 \times 2 \cos 60) = 4$

نشاط ②: ما المقصود بالمتجهات؟ يعد تأمل الشكل الآتي. $\therefore R = 2N$



هي تمثيل للكميات الفيزيائية المنجزة التي نحدد بالمقدار والاتجاه.

مثل / القوة (F) - السرعة (v) - التسارع (a) - الإزاحة (d)

نشاط ③: عدد طرق جمع المتجهات مع التوضيح؟ الطريقة الأولى: جمع المتجهات بيانياً بالرسم:

يتم جمع متجهين أو أكثر بوضع رأس المتجه على ذيل المتجه الأول برأس المتجه الأخير، حيث:

① إذا كان المتجهين لهما نفس الاتجاه: فإن مقدار المتجه المحصل = ناتج جمع المتجهين.

② إذا كان المتجهين متعاكسين في الاتجاه: فإن مقدار المتجه المحصل = ناتج طرح المتجهين من بعضهما.

③ إذا كان المتجهين بينهما زاوية: نحتاج إلى منقلة ومسطرة وذلك لرسم المتجهات بالزوايا الصحيحة وقياس مقدار المتجه المحصل (المحصلة) وقياسها. وبالتالي: نستعمل المسطرة لقياس طول المحصلة R لمعرفة مقدار المحصلة ونستعمل المنقلة لقياس اتجاه المحصل (المحصلة).

ملاحظة: عند نقل المتجه من مكان لآخر (شروط نقل المتجه) يجب المحافظة على: ١- طول المتجه ٢- ذيل المتجه

الطريقة الثانية: جمع المتجهات حسابياً:

① إذا كان الزاوية بين متجهين قائمة (90°) يفضل استخدام نظرية فيثاغورس: $R^2 = A^2 + B^2$

② إذا كان الزاوية بين متجهين ليست قائمة: يمكن استخدام قانون الجيب أو قانون جيب التمام: $R^2 = A^2 + B^2 - 2AB \cos \theta$

قانون الجيب $\frac{R}{\sin \theta} = \frac{A}{\sin a} = \frac{B}{\sin b}$ أو قانون جيب التمام $R^2 = A^2 + B^2 - 2AB \cos \theta$

المقابل = الوتر

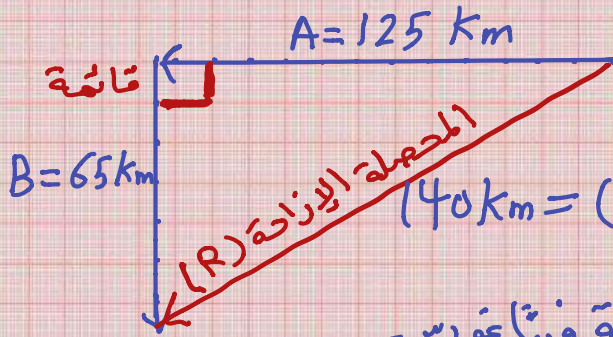
الزاوية بين المتجهين (الذي يجمع الأضلاع)

جمع متجهين حسابياً

المحصلة

تدريب ①: قطعت سيارة 125.0 Km في اتجاه الغرب، ثم 65.0 Km في اتجاه الجنوب. فما مقدار إزاحتها؟

حل المسألة بطريقة الرسم والطريقة الحسابية. Page 134 Q1



الطريقة الأولى: الرسم. نختار مقياس رسم مناسب
حيث كل 1 cm يـ 10 km مثلاً

الطريقة الثانية: حسابياً باستخدام المسطرة = باستخدام المسطرة = $140 \text{ km} = (10) \times \text{مقياس الرسم}$

الطريقة الثانية: حسابياً باستخدام القانون:

∴ الزاوية بين المتجهين قائمة: نستخدم نظرية فيثاغورس

$$R^2 = A^2 + B^2$$

$$R^2 = 125^2 + 65^2$$

$$\therefore R = \sqrt{(125^2 + 65^2)} = 140,89 \text{ Km}$$

التحقق من الفهم ٢٢

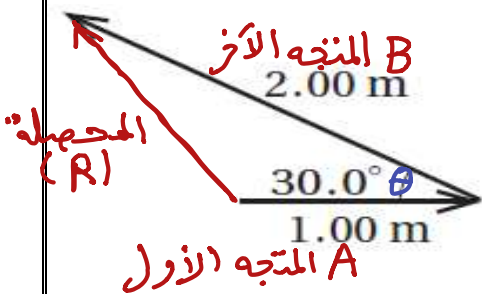
* ضع علامة (√) أمام العبارة الصحيحة وعلامة (x) أمام العبارة الخاطئة فيما يلي:

- ١- للدلالة على الكميات المتجهة يتم وضع سهم فوق رمزها أو استخدم الأحرف الغامقة (bold). \vec{F} أو \mathbf{F} (✓)
- ٢- إذا أردت جمع متجهين أو أكثر بطريقة الرسم يكون ذلك بوضع ذيل المتجه الأول على رأس المتجه الآخر. (x)
- ٣- عند جمع متجهين بينهما زاوية قائمة يُفضل استخدام قانون الجيب. (x)
- ٤- إذا أردنا رسم المتجه المحصل يتم ذلك بتوصيل ذيل المتجه الأول مع رأس المتجه الآخر. (✓)
- ٥- محصلة المتجهين لقوتين متعاكستين تساوي اتجاهها مجموعهما. (✓)

واجب رقم ٢٢

١- متجهان، طول الأول 1.00 m ، وطول الثاني 2.00 m ، والزاوية المحصورة بينهما 30.0°. ما مقدار مربع طول متجه المحصلة؟

١- 1.54 m ²	ب- 3.00 m ²	ج- 7.00 m ²	د- 8.46 m ²
------------------------	------------------------	------------------------	------------------------



$$A = 1 \text{ m} \quad B = 2 \text{ m} \quad \theta = 30^\circ \quad R^2 = ? ?$$

بما أن الزاوية بين المتجهين ليست قائمة

∴ نستخدم قانون جيب التمام أو قانون الجيب!

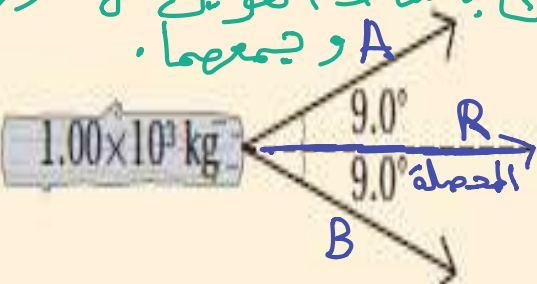
$$R^2 = A^2 + B^2 - 2AB \cos \theta$$

$$R^2 = 1^2 + 2^2 - (2 \times 1 \times 2 \times \cos 30) = 1,535$$

٢- يُسحب جذع شجرة كتلته $1.00 \times 10^3 \text{ Kg}$ بجرايين. إذا كانت الزاوية المحصورة بين الجرايين 18.0° (كما في الشكل)، وكل جرار يسحب بقوة 8.00×10^2 ، فما مقدار القوة المحصلة التي سيؤثران بها في جذع الشجرة؟ هناك طريقتان

أ- 250 N	ب- $1.52 \times 10^3 \text{ N}$	ج- $1.58 \times 10^3 \text{ N}$	د- $1.60 \times 10^3 \text{ N}$
----------	---------------------------------	---------------------------------	---------------------------------

ب- باستخدام القوسين على محور X و جمعهما.



١- نستخدم قانون جيب التمام:

$$R^2 = A^2 + B^2 - 2AB \cos \theta \quad \text{حيث } \theta = 180 - 18$$

$$R^2 = 800^2 + 800^2 - (2 \times 800 \times 800 \cos 162)$$

$$R = \sqrt{2497352,34} = 1580,3 \text{ N}$$



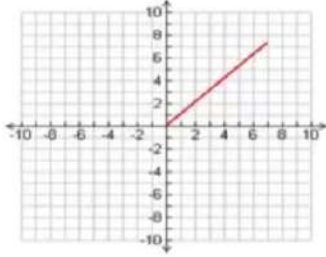
اقرأ في الكتاب صفحة:
134-135-136

أخي الطالب: السلام عليكم ورحمة الله وبركاته - مبدأ التعاون مبدأ عظيم في الحياة

١- المقرر: ٢- عضو: ٣- عضو:
٤- عضو: ٥- عضو: ٦- عضو:

المجموعة
رقم ()

(شرح الدرس)



لماذا نُحلل المتجهات إلى مركباتها؟

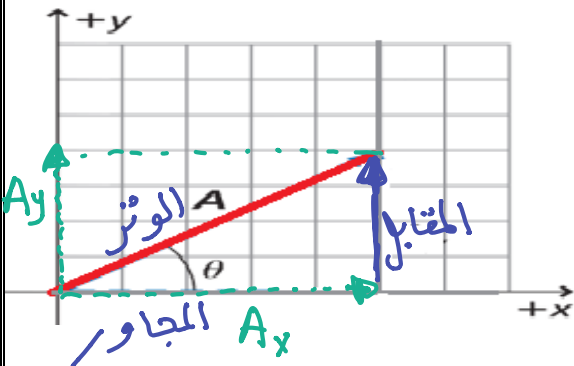
ماذا يقصد بتجزئة المتجه؟

التهيئة:

المتجه في الشكل الآتي في أي بعد؟

المفردات: المركبات - تحليل المتجه.

الهدف من الدرس: تحدد مركبتي كل متجه - تجمع مركبات المتجه.



نشاط ①: حل المتجه الآتي A؟ ثم بين المقصود بتحليل المتجه؟

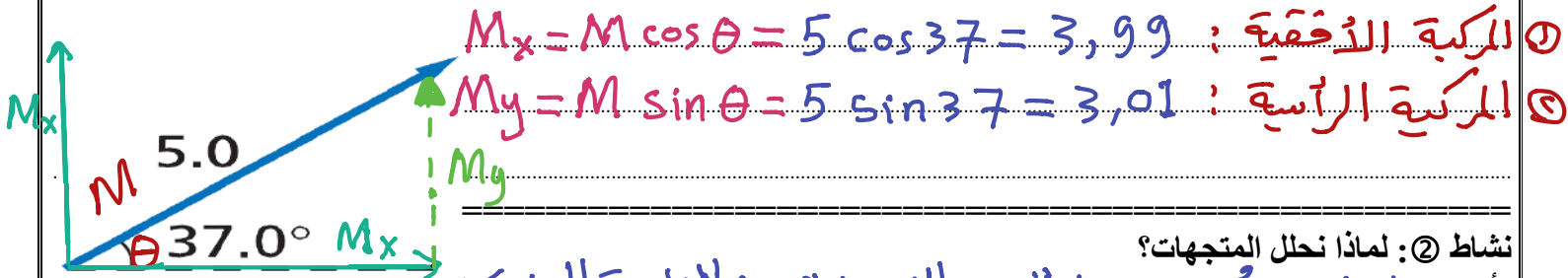
$$\cos \theta = \frac{\text{المجاور}}{\text{الوتر}} \Rightarrow \cos \theta = \frac{A_x}{A} \Rightarrow A_x = A \cos \theta$$

$$\sin \theta = \frac{\text{المقابل}}{\text{الوتر}} \Rightarrow \sin \theta = \frac{A_y}{A} \Rightarrow A_y = A \sin \theta$$

تعريف تحليل المتجه:

هو تجزئة المتجه إلى مركبتين أحدهما أفقية (A_x) والأخرى رأسية (A_y)

تدريب ①: أوجد مركبتي المتجه M المبين في الشكل الآتي: Page 138 Q11



نشاط ②: لماذا نحلل المتجهات؟

لأن ذلك يسهل عملية جمع المتجهات من الناحية الجبرية

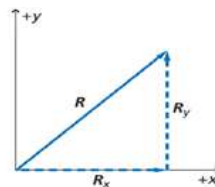
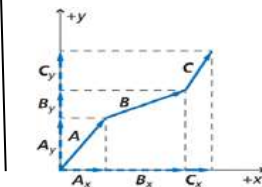
① بتحليل كل متجه إلى مركبتيه

② تجمع مركبات محور X على حده $R_x = A_x + B_x + C_x + \dots$

③ تجمع مركبات محور Y على حده

④ $R_y = A_y + B_y + C_y + \dots$ تحسب المحصلة باستخدام نظرية فيثاغورس.

مقدار واتجاه المحصلة:

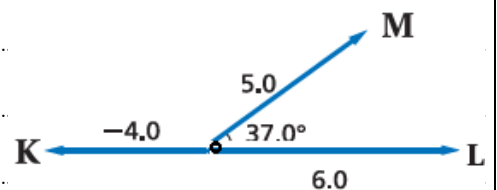


$$R^2 = R_x^2 + R_y^2$$

$$\theta = \tan^{-1} \left(\frac{R_y}{R_x} \right)$$

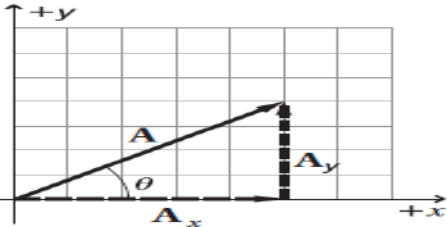
تدريب منزلي ②: أحسب محصلة المتجهات الثلاث التالية: Q 12 Page 138

(الحل في صفحة مسجلة بآبناغ الاي)
نعمل جدول ونحلل كل متجه إلى مركبتيه ثم نجمع مركبات
محور X على حدة ومحور Y على حدة ثم نحسب المحصلة



** اختر الإجابة الصحيحة فيما يلي:

① يبين النظام الإحداثي أدناه مركبتي المتجه A . كيف تحدد اتجاه المتجه A ؟



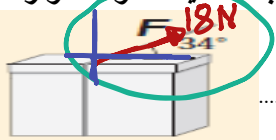
أ- في عكس اتجاه حركة عقارب الساعة بدءًا من المحور الرأسي (y) ج- في عكس اتجاه حركة عقارب الساعة بدءًا من المحور الأفقي (x)

ب- في اتجاه حركة عقارب الساعة بدءًا من المحور الرأسي (y) د- في اتجاه حركة عقارب الساعة بدءًا من المحور الأفقي (x)

② أوجد مقدار المركبة الرأسية (y) لقوة مقدارها 95.3 N تؤثر بزاوية 57.1° بالنسبة إلى الأفقي؟ أ- 51.8 N ب- 80.0 N ج- 114 N د- 175 N

$$F_y = F \sin \theta = 95,3 \sin 57,1 = 80,02 \text{ N}$$

③ يؤثر خيط في صندوق كما في الشكل أدناه بقوة مقدارها 18 N تميل على الأفقي بزاوية 34°. ما مقدار المركبة الأفقية للقوة المؤثرة في الصندوق؟ أ- 10 N ب- 15 N ج- 21.7 N د- 32 N

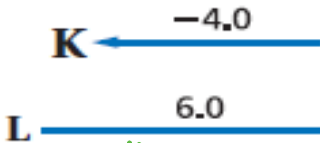


$$F_x = F \cos \theta = 18 \cos 34 = 14.37 \text{ N}$$

١- هل تساوي المسافة التي تمشيها مقدار إزاحتك؟ أعط مثالاً يدعم استنتاجك. Page 138 Q9

لا، ليس بالضرورة حيث يمكن الذهاب من البيت إلى المدرسة ثم العودة إلى البيت فتصبح الإزاحة صفر والمسافة مثلاً 200m ذهاباً وإياباً.

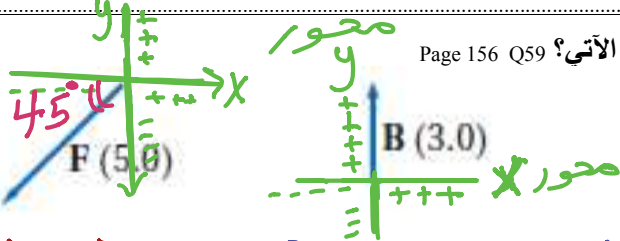
٢- اطرح المتجه K من المتجه L ؟ Page 138 Q10



$$L - K = 6 - (-4) = 6 + 4 = 10$$

إلى جهة اليمين.

٣- أوجد المركبتين الأفقية والرأسية لكل من المتجهات الآتية الموضحة في الشكل الآتي؟ Page 156 Q59



القاعدة مع المتجهات التي تقع زاوية مع الأفقي: $A_x = A \cos \theta$ و $A_y = A \sin \theta$

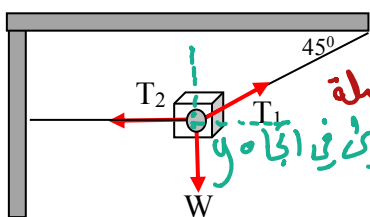
$$A_x = A \cos \theta = 3 \cos 180 = -3 \quad \wedge \quad A_y = A \sin \theta = 3 \sin 180 = 0$$

$$B_x = B \cos \theta = 3 \cos 90 = 0 \quad \wedge \quad B_y = B \sin \theta = 3 \sin 90 = 3$$

$$F_x = F \cos \theta = 5 \cos 225 = -3.5 \quad \wedge \quad F_y = F \sin \theta = 5 \sin 225 = -3.5$$

$$F_x = F \cos \theta = -5 \cos 45 = -3.5 \quad \wedge \quad F_y = F \sin \theta = -F \sin 45 = -3.5$$

خاص بالمميزين: ٤- يتزن جسم تحت تأثير ثلاث قوى كما في الشكل الآتي ما قيمة قوة الشد T_1 إذا كان وزن الجسم $W = 50 \text{ N}$ ؟



بما أن الجسم متزن ∴ $\sum F_x = 0$ و $\sum F_y = 0$

معادلة ① $\sum F_x = 0$ و معادلة ② $\sum F_y = 0$

من معادلة ② $T_1 \sin \theta - W - 0 = 0$

من معادلة ② $T_1 \sin 45 - 50 = 0 \Rightarrow T_1 = 50 \text{ N}$

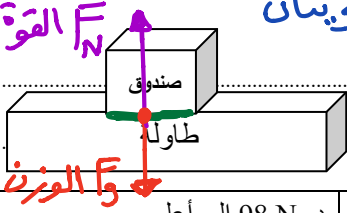
** اختر الإجابة الصحيحة فيما يلي:

١ تسحب مجموعة من الكلاب زلاجة ثقيلة على الثلج نحو الشرق، فيكون اتجاه قوة الاحتكاك: **لوزن الاحتكاك في عكس اتجاه الحركة**

- أ- شرقاً ب- غرباً ج- إلى أعلى د- إلى أسفل

٢ القوة العمودية التي تؤثر في صندوق كتلته 10 Kg يستقر على سطح طاولة: **القوتان متساويتان**

$$F_N = F_g = mg = 10 \times 9.8 = 98 \text{ N}$$



- أ- 10 Kg إلى أعلى ب- 10 Kg إلى أسفل ج- 98 Kg إلى أعلى د- 98 N إلى أعلى

٣ ما محصلة القوة التي يتعرض لها صندوق ينزلق عندما تؤثر عليه قوة 100 N والاحتكاك بين الصندوق والأرض مقداره 30 N؟

- أ- 100 N ب- 130 N ج- 70 N د- 0 N



٤ إذا زاد عرض الطريق فإن احتكاك إطار السيارة بالطريق: Page 156 Q50

- أ- يزداد الاحتكاك ب- يقل الاحتكاك ج- لا يتأثر د- يصبح صفراً

١- إذا أثرت بقوة أفقية مقدارها 20.0 N لدفع صندوق كتلته 10.2 Kg على سطح الأرض بسرعة متجهة ثابتة، فما مقدار معامل الاحتكاك الحركي بين الصندوق و سطح الأرض؟

الحل: $F = 20 \text{ N}$ الدفع، $m = 10.2 \text{ kg}$ ، $a = 0 \Rightarrow F = 0$ المحصلة، $\mu_k = ??$

$$f_k = \mu_k F_N$$

$$20 = \mu_k (10.2 \times 9.8) \Rightarrow \mu_k = \frac{20}{99.96} = 0.2$$

٢- قرّر بعض الطلاب بناء عربة خشبية كتلتها 30.0Kg فوق زلاجة. فإذا وضعت العربة على الثلج وصعد عليها راكبان كتلة كل منهما 90.0Kg، فما مقدار القوة التي يجب أن يسحب بها شخص العربة لكي تبدأ الحركة؟ اعتبر معامل الاحتكاك السكوني بين العربة والثلج 0.15.

- أ- $1.8 \times 10^2 \text{ N}$ ب- $3.1 \times 10^2 \text{ N}$ ج- $2.1 \times 10^3 \text{ N}$ د- $1.4 \times 10^4 \text{ N}$

الحل: $m_1 = 30 \text{ kg}$ ، $m_2 = 90 \text{ kg}$ ، $m_3 = 90 \text{ kg}$ ، $f_s = ??$ ، $\mu_s = 0.15$

$$f_s = \mu_s F_N$$

$$F_N = F_g = m g$$

$$f_s = 0.15 (30 + 90 + 90) \times 9.8 = 308.7 \text{ N} \approx 310 \text{ N}$$

٣- ما معنى أن يكون معامل الاحتكاك أكبر من واحد؟ حدد طريقة لقياسه. Page 156 Q49

يعني ذلك أن قوة الاحتكاك أكبر من القوة العمودية. لقياس معامل الاحتكاك نسحب جسم على سطح ما ومن ثم قياس القوة التي نحتاج إليها لتريكه بسرعة ثابتة ثم قياس وزنها الجسم $\mu_k = \frac{f_k}{F_N}$ خاص بالمميزين؛ دفعت صندوقاً خشبياً كتلته 2 Kg على طاولة خشبية بقوة أفقية 11.8 N. إذا علمت أن قوة الاحتكاك المؤثرة في الصندوق 3.8 N، فما مقدار تسارعه على سطح الطاولة؟

- أ- 1.8 m/s^2 ب- 2.0 m/s^2 ج- 3.1 m/s^2 د- 4.0 m/s^2

الحل: $m = 2 \text{ kg}$ ، $F = 11.8 \text{ N}$ الدفع، $f_k = 3.8 \text{ N}$ ، $a = ??$

$$F - f_k = ma$$

$$11.8 - 3.8 = 2a$$

$$8 = 2a \Rightarrow a = \frac{8}{2} = 4 \text{ m/s}^2$$



اقرأ في الكتاب صفحة:
146 - 147 - 148

أخي الطالب: السلام عليكم ورحمة الله وبركاته - مبدأ التعاون مبدأ عظيم في الحياة

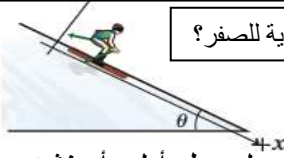
١- المقرر: ٢- عضو: ٣- عضو:
٤- عضو: ٥- عضو: ٦- عضو:

المجموعة
رقم ()

لماذا ينبغي علينا اختيار نظام إحداثي مناسب أثناء تحليل حركة جسم على سطح مائل؟ وهل تختلف مركبة وزن الجسم في السطح الأفقي عن المائل؟

التهيئة:

(شرح الدرس)

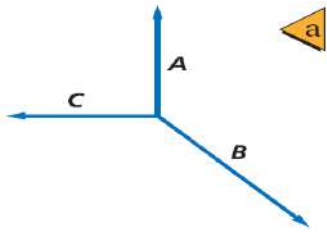


كيف نجعل محصلة القوتين المؤثرة في جسم ما التي لا تساوي صفرًا مساوية للصفر؟

ماذا يقصد بقولنا إن الجسم مترن؟

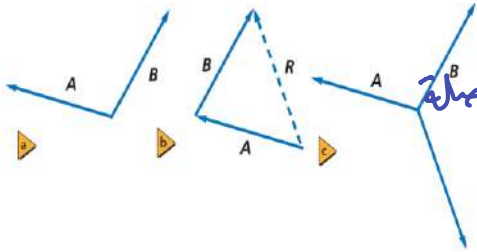
المفردات: القوة الموازنة.

الهدف من الدرس: تحدد القوى التي تسبب الاتزان عندما تؤثر ثلاث قوى في جسم ما - تحلل حركة جسم على سطح أملس أو خشن.



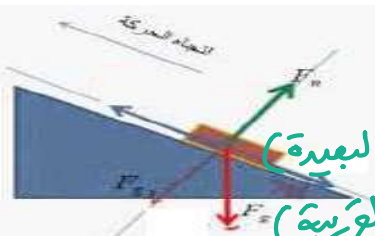
نشاط ①: إذا أثرت ثلاث قوى على جسم ما، فمتى يتزن الجسم؟ من خلال مشاهدة الفيديو الآتي:

يتزن الجسم الواقع تحت تأثير عدة قوى إذا كانت القوة المحصلة المؤثرة في الجسم تساوي صفر.



نشاط ②: عرف القوة الموازنة؟ من خلال تأمل المتجهات الآتية:

هي القوة التي تجعل الجسم مترنًا وتساوي القوة المحصلة في المقدار وتعاكسها في الاتجاه.



نشاط ③: كيف يمكن تطبيق قوانين الاتزان على السطوح ذات المستوى المائل؟ من خلال تأمل الشكل الآتي:

في الأسطح المائلة يمكن تحليل المتجه على النحو الآتي:

$$F_x = F \sin \theta \quad \text{①} \quad \text{المركبة الأفقية (البعيدة)}$$

$$F_y = F \cos \theta \quad \text{②} \quad \text{المركبة الرأسية (القريبة)}$$

Page 142 Q15

تدريب ①: يستقر صندوق وزنه 562 N على سطح مائل بزاوية 30° كما في الشكل. أوجد مركبتي قوة الوزن؟

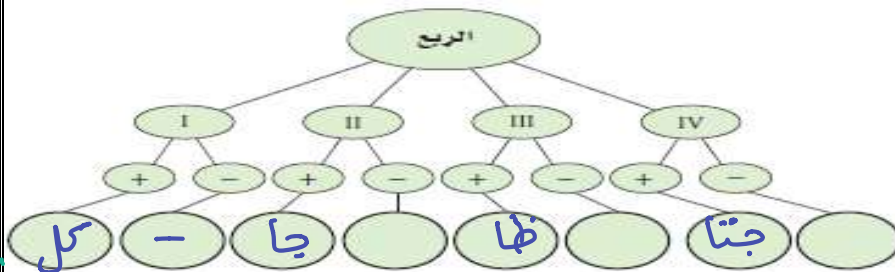
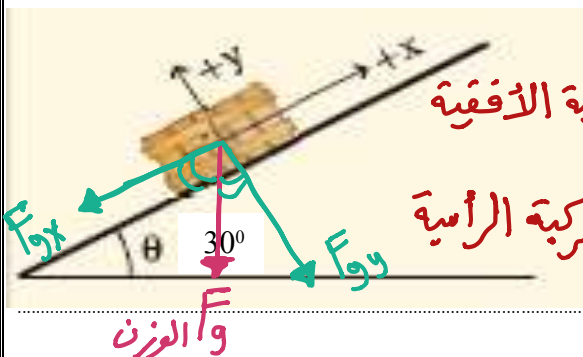
$$F_y = 562 \text{ N} \quad \theta = 30^\circ \quad F_{yx} = ?? \quad F_{yy} = ??$$

$$F_{yx} = F_y \sin \theta$$

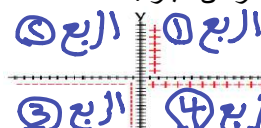
$$= -562 \sin 30 = -281 \text{ N}$$

$$F_{yy} = F_y \cos \theta$$

$$= -562 \cos 30 = -486,7 \text{ N}$$



تدريب ②: أكمل خريطة المفاهيم الآتية مستخدماً الجيب وجيب التمام والظل للإشارة إلى اقتتران بإشارة موجبة أو سالبة في كل ربع من الدائرة. قد تبقى بعض الدوائر فارغة، وقد يشتمل بعضها الآخر على أكثر من عبارة.



Page 156 Q42

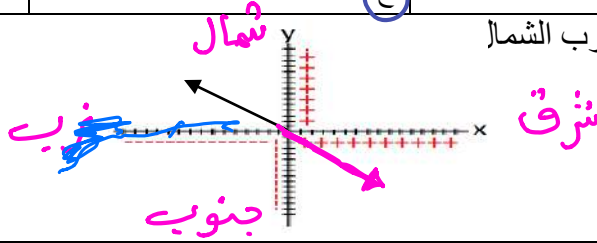
التحقق من الفهم ٢٥

** اختر الإجابة الصحيحة فيما يلي:

① إشارة مركبتي المتجه تكون سالبة إذا وقع المتجه في الربع:

- أ- الأول ب- الثاني ج- الثالث د- الرابع


② اتجاه القوة الموازنة لقوة تتجه بزاوية 45 غرب الشمال



- أ- 45 غرب الشمال ب- 45 شرق الشمال ج- 45 شرق الجنوب د- 45 غرب الجنوب

③ القوة الموازنة مقداراً واتجاهاً لقوتين تؤثران في جسم؛ إحداهما مقدارها 40 N نحو اليمين ، والأخرى مقدارها 30 N نحو اليسار:

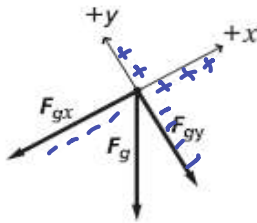
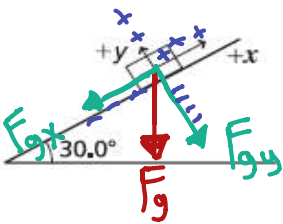
- أ- 70 N ب- 10 N ج- 10 N نحو اليسار د- 10 N نحو اليمين



واجب رقم ٢٥

١- يمثل مخطط الجسم الحر صندوقاً كتلته 1.50 Kg يستقر على سطح مائل حسب الشكل الآتي الذي يوضح تحليل حركة جسم على سطح مائل. ما مركبة وزن الصندوق الموازية للسطح المائل؟

- أ- 3.27 N ب- 7.35 N ج- 7.50 N د- 12.7 N



تذكر $F_g = mg$ $F_{gx} = F_g \sin \theta$

$$= -1,5 \times 9,8 \sin 30 = -7,35 N$$

٢- ما مركبة وزن الصندوق العمودية على السطح المائل في الشكل السابق؟

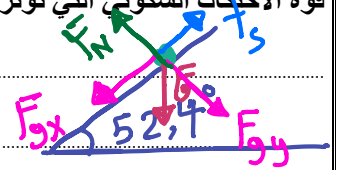
- أ- 3.27 N ب- 5.66 N ج- 7.35 N د- 12.7 N

$$F_{gy} = F_g \cos \theta$$

$$= -1,5 \times 9,8 \cos 30 = -12,7 N$$

٣- يجلس طفل كتلته 41.2 Kg على سطح يميل على الأفقي بزاوية 52.4°. إذا كان معامل الاحتكاك السكوني بينه وبين السطح 0.72 ، فما مقدار قوة الاحتكاك السكوني التي تؤثر في الطفل؟ Page 159 Q8

$m = 41,2 \text{ Kg}$ ، $\theta = 52,4^\circ$ ، $\mu_s = 0,72$ ، $f_s = ??$



$$f_s = \mu_s F_N$$

$$= \mu_s (F_{gy}) = -0,72 \times (41,2 \times 9,8 \cos 52,4)$$

$$= -177,4 N \approx -188 N = -1,8 \times 10^2 N$$

٤- هل يمكن لجسم متزن أن يتحرك؟ وضح ذلك. Page 156 Q54

نعم إذا كان الجسم يتحرك بسرعة ثابتة وبالتالي تسارعه = صفر والقوى المحصلة المؤثرة فيه = صفر.



اقرأ في الكتاب صفحة:
163 - 164 - 166

أخي الطالب: السلام عليكم ورحمة الله وبركاته - مبدأ التعاون مبدأ عظيم في الحياة

- ١- المقرر: ٢- عضو: ٣- عضو:
٤- عضو: ٥- عضو: ٦- عضو:

المجموعة
رقم ()

(شرح الدرس)

لماذا تتخذ المقذوفات مسار قطع مكافئ منحني؟

ما القوى التي تؤثر في الجسم (ارسم مخطط الجسم الحر) بعد إطلاقه؟

التهيئة:

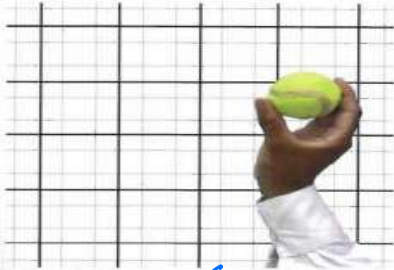
هل تختلف الحركة الأفقية عن الحركة الرأسية للمقذوف؟ ولماذا تتغير السرعة الرأسية بانتظام بينما تظل السرعة الأفقية ثابتة؟

تجربة السقوط من فوق الحافة: أسقط كرتين من حافة أحدهما أفقياً والآخرى رأسياً في اللحظة نفسها، من الأسرع؟

المفردات: المقذوف - مسار المقذوف.

الهدف من الدرس: ملاحظة أن الحركتين الرأسية والأفقية للمقذوف مستقلتان - الربط بين أقصى ارتفاع يصل إليه المقذوف، وزمن تحليقه في الهواء، وسرعته الابتدائية الرأسية باستعمال الحركة الرأسية - تحدد المدى الأفقي باستعمال الحركة الأفقية. تفسر كيف يعتمد شكل مسار المقذوف على الإطار المرجعي الذي يلاحظ منه.

نشاط ①: هل يمكنك وصف حركة المقذوف؟ من خلال الشكل الآتي:



① يسمى الجسم الذي يطلق في الهواء **مقذوف**.

② القوة الوحيدة المؤثرة في المقذوف عند إطلاق الجسم وإكسابه سرعة ابتدائية وبإهمال قوة مقاومة الهواء

في أثناء حركته هي **قوة الجاذبية الأرضية**.

③ هذه القوة التي تجعله يتحرك في مسار **منحن** أو على شكل **قطع مكافئ**.

④ تُسمى حركة الجسم المقذوف في الهواء **مسار المقذوف** ويُسمى المسار الذي يسلكه المقذوف في الهواء **القطع المكافئ**.

نشاط ②: تجربة استهلالية: صف حركة المقذوف في كلا الاتجاهين الأفقي والرأسي مع الرسم؟ من خلال تأمل الشكل الآتي:

الشكل الآتي يوضح مخطط للحركة الأفقية والرأسية لجسم مقذوف حيث تكون

حيث يمكن فصل حركة الجسم إلى مركبتيها:

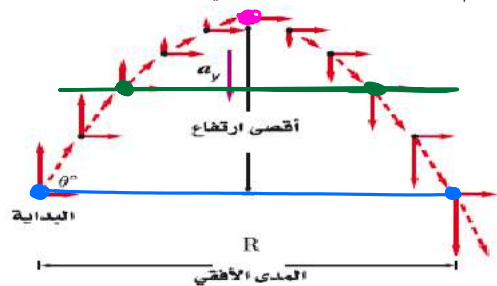
مركبة أفقية (ثابتة) و **مركبة رأسية (متغيرة)**

a- السرعة في الاتجاه الأفقي (المركبة الأفقية)

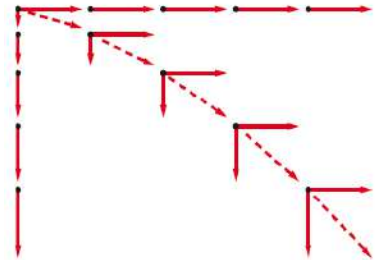
و السبب في ذلك **عدم وجود قوى تؤثر في هذا الاتجاه**.

b- السرعة في الاتجاه الرأسي (المركبة الرأسية) **متغيرة**.

و السبب في ذلك **لديها واقعة تحت تأثير قوة الجاذبية الأرضية**.



نشاط ③: ما هي أهم الملاحظات على المقذوفات التي تطلق بزاوية؟ من خلال تأمل الشكل الآتي:



① المقذوف بزاوية تكون لسرعة ابتدائية مركبتان: ① أفقية ② رأسية

② يرتفع الجسم المقذوف رأسياً لأعلى بسرعة **متناقصة** تدريجياً حتى تصل **الصفر**

عند أقصى ارتفاع له، ثم يأخذ في السقوط بسرعة **متزايدة**.

③ مقدار السرعة في أثناء الصعود **يساوي** مقدار السرعة في أثناء النزول عند كل نقطة في

الاتجاه الرأسي ويكون الاختلاف الوحيد بينهما في **اتجاه** السرعة حيث إنهما متعاكستان.

④ الكميتان اللتان ترافق مسار المقذوف،

١- أقصى ارتفاع يصل إليه المقذوف

٢- المدى الأفقي (R) هو المسافة الأفقية التي يقطعها المقذوف

⑤ عند أقصى ارتفاع يصل إليه الجسم فإن للمقذوف سرعة أفقية فقط

⑥ زمن التحليق: هو الزمن الذي يقضيه المقذوف في الهواء ويساوي **زمن الصعود + زمن النزول**.

تدريب ①: تقذف كرة في الهواء بزاوية 50° بالنسبة إلى المحور الرأسي وبسرعة ابتدائية 11.0 m/s. احسب أقصى ارتفاع تصله الكرة؟

عند أقصى ارتفاع $v_y = 0$ و $v_x = 11 \text{ m/s}$
 $\theta = 40^\circ$ و $v_i = 11 \text{ m/s}$ و $y_{\text{max}} = ??$
 $v_f^2 - v_i^2 = 2a(d_f - d_i)$ أو $v_f^2 = v_i^2 + 2ad_f$ (3)

نختار إحدى المعادلتين ونحوّلها إلى معادلات حركة المقذوفات ولكن (4)

عند أقصى ارتفاع $v_y = 0$ و $v_x = 11 \text{ m/s}$
 $v_f^2 - v_i^2 = 2(-9)(y_f - y_i)$ و $y_i = 0$ و $y_f = 0$

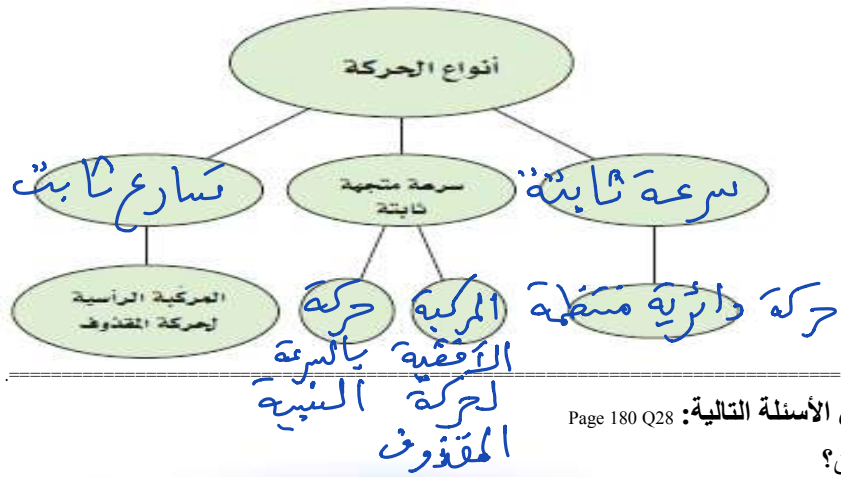
$$\frac{y}{f} = \frac{v_{iy}^2}{2g} = \frac{(v_i \sin \theta)^2}{2g} = \frac{(11 \sin 40)^2}{2 \times 9,8} = 2,55 m$$

التحقق من الفهم ٢٦

* اختر الإجابة الصحيحة فيما يلي:

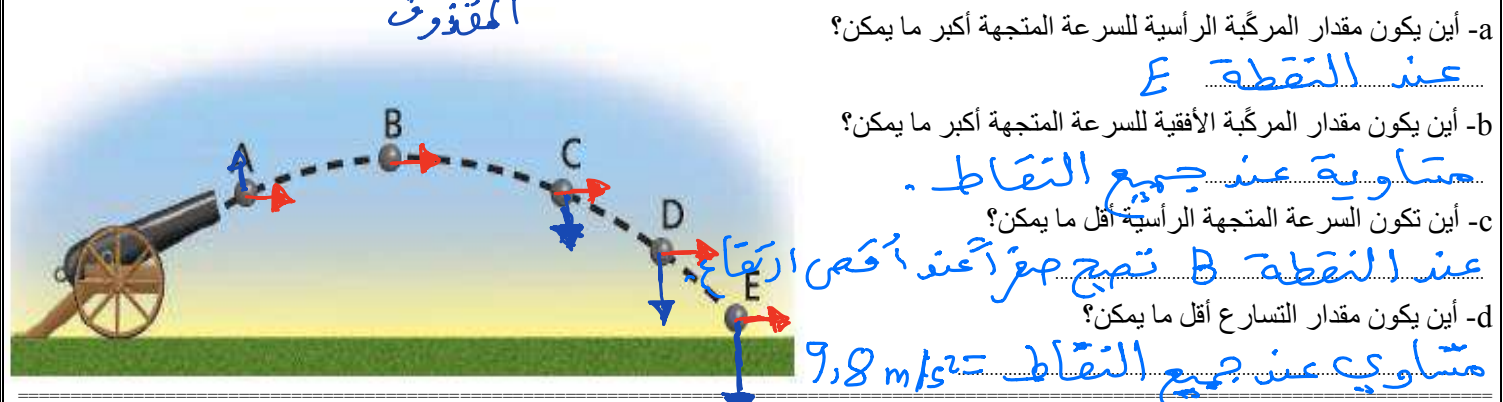
١ يسرى المسار الذي يسلكه المقذوف في الهواء:			
أ- مسار دائري	ب- قطع مكافئ	ج- قطع ناقص	د- قطع زائد
٢ لكي يمك اللعاب المستقبل الكرة عند مستوى صدره، يجب أن يصوب اللعاب الرامي الكرة صدر اللعاب المستقبل.			
أ- إلى جانب	ب- أسفل	ج- فوق	د- مباشرة على
٣ المركبة الرأسية (السرعة الرأسية) لحركة المقذوف ثابتة لعدم وجود قوى تؤثر في هذا الاتجاه.			
أ- العبارة صحيحة			
٤ أسقطت برتقالة من ارتفاع معين في اللحظة نفسها التي أطلقت فيها رصاصة أفقيًا من بندقية من الارتفاع نفسه. أي العبارات التالية صحيحة؟			
أ- تسارع الجاذبية الأرضية أكبر على البرتقالة، لأن البرتقالة أثقل.		ج- ستكون سرعتاهما متساويتين.	
ب- تؤثر قوة الجاذبية الأرضية في الرصاصة بصورة أقل من البرتقالة، لأن الرصاصة أسرع كثيرًا.		د- سيصطدم الجسمان بالأرض في اللحظة نفسها.	

واجب رقم ٢٦



١- أكمل خريطة المفاهيم أدناه باستخدام المصطلحات التالية:
سرعة ثابتة، المركبة الأفقية لحركة المقذوف، تسارع ثابت،
حركة بالسرعة النسبية، حركة دائرية منتظمة. Page 180 Q27

٢- ادرس الشكل الآتي الذي يمثل مسار قذيفة مدفع، ثم أجب عن الأسئلة التالية: Page 180 Q28



a- أين يكون مقدار المركبة الرأسية للسرعة المتجهة أكبر ما يمكن؟
عند النقطة E
b- أين يكون مقدار المركبة الأفقية للسرعة المتجهة أكبر ما يمكن؟
متساوية عند جميع النقاط.
c- أين تكون السرعة المتجهة الرأسية أقل ما يمكن؟
عند النقطة B تصبح صفرًا عند أقصى ارتفاع.
d- أين يكون مقدار التسارع أقل ما يمكن؟
متساوي عند جميع النقاط $9,8 m/s^2$

٣- قذفت كرة رأسياً إلى أعلى بسرعة متجهة 20 m/s. ما سرعة الكرة المتجهة عند عودتها إلى نقطة الإطلاق نفسها؟ أهمل مقاومة الهواء. Page 180 Q33

سوف يكون المقدار نفسه والاختلاف فقط في اتجاه السرعة
متساوية $-20 m/s$

٤- تخيل أنك تجلس في سيارة وتقفذ كرة رأسياً إلى أعلى. Page 180 Q36

a- إذا كانت السيارة تتحرك بسرعة متجهة ثابتة فهل تسقط الكرة أمامك أم خلفك، أم في يدك؟

تسقط في يدك لأن كلاهما تتحركان بنفس السرعة.

b- إذا كانت السيارة تتحرك في منعطف بسرعة ثابتة المقدار فأين تسقط الكرة؟

تسقط بجانبك خارج المنعطف.



اقرأ في الكتاب صفحة:
168 - 169 - 170

أخي الطالب: السلام عليكم ورحمة الله وبركاته - مبدأ التعاون مبدأ عظيم في الحياة

١- المقرر: ٢- عضو: ٣- عضو:
٤- عضو: ٥- عضو: ٦- عضو:

المجموعة
رقم ()

(شرح الدرس)

كيف تحدد اتجاه تسارع الجسم المتحرك حركة دائرية منتظمة؟

ماذا تسمى حركة الأجسام التي تسير في مسار دائري؟

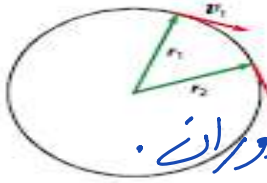
التهيئة:

هل يتسارع الجسم الذي يتحرك بسرعة ثابتة المقدار في مسار دائري؟ وضح ذلك؟

المفردات: الحركة الدائرية المنتظمة - التسارع المركزي - القوة المركزية.

الهدف من الدرس: تفسر لماذا يتسارع الجسم الذي يتحرك بسرعة ثابتة المقدار في مسار دائري - تصف كيف يعتمد مقدار التسارع المركزي على سرعة الجسم ونصف قطر مساره الدائري - تحدد القوة التي تسبب التسارع المركزي.

نشاط ①: عرف الحركة الدائرية المنتظمة مع ذكر مثال على ذلك؟ من خلال الشكل الآتي:



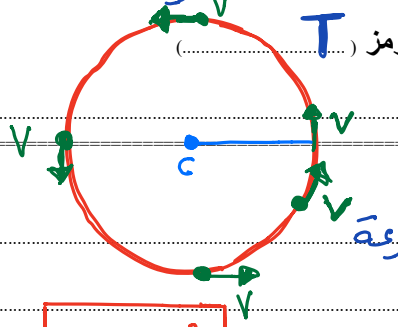
التعريف: هي حركة جسم أو جسيم بسرعة ثابتة المقدار حول دائرة نصف قطرها ثابتة.

مثال: حركة حجر مربوط في خيط على ساعة ثابتة من مركز الدوران.

تدريب ①: لماذا يتسارع الجسم الذي يتحرك في مسار دائري بالرغم أنه يتحرك بسرعة ثابتة المقدار؟

يسبب تغير السرعة اتجاهها حيث أن التسارع هو معدل تغير السرعة مقداراً واتجاهاً

نشاط ②: ما المقصود بـ الزمن الدوري مع ذكر رمزه مع بيان مقدار المسافة التي يقطعها الجسم في الدورة الواحدة؟



تعريف الزمن الدوري: هو الزمن اللازم لإكمال دورة كاملة ويرمز له بالرمز (T)

مقدار المسافة التي يقطعها الجسم في الدورة الواحدة = $2\pi r$ حيث r نصف القطر

نشاط ③: عرف التسارع المركزي مع كتابة الصيغة الرياضية؟ من خلال مشاهدة المقطع الآتي:



تعريف التسارع المركزي: هو تسارع جسم يتحرك في مسار دائري بسرعة

ثابتة المقدار في اتجاه مركز الدائرة. ورمزه (a_c)

الصيغة الرياضية: $a_c = \frac{v^2}{r}$ أو $a_c = \frac{(2\pi r)^2}{T^2} = \frac{4\pi^2 r}{T^2}$

نشاط ④: ما الفرق بين القوة المركزية وقوة الطرد المركزية مع التوضيح؟



القوة المركزية (F_c)	القوة الوهمية
هي قوة جذب في اتجاه المركز	هي قوة غير حقيقية لا وجود لها
مثل: قوة جذب الشمس للأرض	مثل: اندفاع الراكب نحو الباب عند المنطف
تنتج الجسم	القوة المركزية
القانون: $F_c = m a_c$	القانون:

تدريب ②: يسير متسابق بسرعة مقدارها 8.8 m/s في منعطف نصف قطره 25 m. ما مقدار التسارع المركزي للمتسابق؟ وما مصدر القوة

المؤثرة فيه؟ Page 167 Q7

مصدر القوة = ?? \rightarrow $a_c = ??$ \rightarrow $r = 25 m$ \rightarrow $v = 8.8 m/s$

$$a_c = \frac{v^2}{r} \Rightarrow a_c = \frac{(8.8)^2}{25} = 3.1 m/s^2$$

مصدر القوة: الاحتكاك بالطريق مع ذراع المتسابق

* اختر الإجابة الصحيحة فيما يلي:

١ تسارع الأجسام التي تتحرك في مسار دائري ناتج عن:			
أ- تغير مقدار سرعتها	ب- تغير اتجاه سرعتها	ج- تغير مقدار واتجاه سرعتها	د- القصور الذاتي
٢ إذا ربطت كرة بخيط وجعلتها تدور في مسار دائري فإن هناك قوة شد مركزية تسحب الكرة للداخل وقوة طرد مركزية تسحب الكرة للخارج.			
أ- العبارة صحيحة		ب- العبارة خاطئة	
٣ إذا انقطع الخيط الممسك بالكرة أثناء دورانها فإن الكرة تتحرك:			
أ- تقريبا للخارج بشكل دائري	ب- في خط مستقيم مماسي للمركز	ج- في خط مستقيم بعيدا عن المركز	د- لا شيء مما سبق
٤ تتحرك السيارات المستخدمة في مدينة ألعاب بسرعة ثابتة مقدارًا تساوي 4.0 m/s في مسار دائري نصف قطره 4.0 m. ما مقدار التسارع المركزي لكل منها؟			
أ- 1.0 m/s ²	ب- 2.0 m/s ²	ج- 4.0 m/s ²	د- 16 m/s ²
٥ إذا تحركت سيارة في مسار دائري بقوة 25 N بتسارع مركزي مقداره 5 m/s ² ، فإن كتلة السيارة: $m = \frac{F_c}{a_c} = \frac{25}{5} = 5 \text{ Kg}$			
أ- 25 Kg	ب- 100 Kg	ج- 5 Kg	د- 0.16 Kg

١- هل يمكنك الدوران في منعطف بالتسارعين الآتيين؟ فسر إجابتك.

a- تسارع يساوي صفرًا:

لا، لأن السرعة سوف تتغير اتجاهًا فيصبح لدي تسارع.

b- تسارع ثابت:

نعم حيث يتغير اتجاه التسارع مع ثبات المقدار.

٢- ما العلاقة بين القوة المحصلة وسرعة الجسم المتحرك للحصول على حركة دائرية منتظمة؟ Page 180 Q31

للحصول على الحركة الدائرية المنتظمة لابد أن تكون القوة المحصلة عمودية على اتجاه السرعة اللحظية.

٣- ما اتجاه القوة المؤثرة في الملابس في أثناء دوران الغسالة؟ وما الذي يولد هذه القوة؟ Page 171 Q13

اتجاهها نحو مركز اسطوانة الغسالة الذي يولدها دوران الغسالة. السرعة v والقوة المركزية F_c .

٤- تكمل سيارة كتلتها 615 Kg دورة سباق في مضمار دائري نصف قطره 50.0 m في 14.3 s. إذا تحركت السيارة بسرعة ثابتة المقدار:

a- فما مقدار تسارع السيارة؟ b- وما مقدار القوة التي تؤثر بها الطريق في عجلات السيارة لتنتج هذا التسارع؟

a) $a_c = \frac{v^2}{r}$ أو $a_c = \frac{4\pi^2 r}{T^2}$

$\therefore a_c = \frac{4\pi^2 \times 50}{(14.3)^2} = 9.59 \text{ m/s}^2$

b) $F_c = m a_c$

$= 615 \times 9.59$

$= 5897.85 \text{ N}$

$= 5.9 \times 10^3 \text{ N}$

خاص بالميزين ٥- يُورجج بهلوان كرة فليزية كتلتها 2.7 Kg ، ومربوطة بطرف حبل من النايلون طوله 72.0 cm في مسار دائري فوق رأسه، بحيث تكمل الكرة دورة كاملة خلال 0.98 s. ما مقدار قوة الشد F_T التي تؤثر بها الكرة في الحبل؟

$m = 2.7 \text{ Kg}$ ، $r = 72 \text{ cm} = 0.72 \text{ m}$ ، $T = 0.98 \text{ s}$ ، $F_T = ??$

$F_T = F_c = m a_c = m \left(\frac{4\pi^2 r}{T^2} \right) = 2.7 \times \frac{4\pi^2 \times 0.72}{(0.98)^2} = \frac{76.74}{0.96} = 79.9 \text{ N}$



اقرأ في الكتاب صفحة:
172-173-174

أخي الطالب: السلام عليكم ورحمة الله وبركاته - مبدأ التعاون مبدأ عظيم في الحياة
١- المقرر: ٢- عضو: ٣- عضو:
٤- عضو: ٥- عضو: ٦- عضو:

المجموعة
رقم ()

(شرح الدرس)



ما المقصود بالسرعة النسبية؟ وهل تختلف السرعة حينما يسجلها راصد ثابت عن راصد متحرك؟ وكيف نقيس السرعة؟

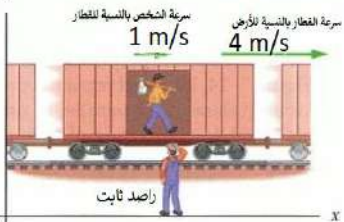
التهينة:

إذا كنت بسيارتك في نفس اتجاه حركة السيارات هل تختلف حركة السيارات بالنسبة لك كما لو كنت في عكس الاتجاه؟

المفردات: السرعة النسبية

الهدف من الدرس: تحلل حالات حيث تكون مجموعة المحاور متحركة - تحل مسائل تتعلق بالسرعة النسبية.

نشاط ①: ما المقصود بالسرعة النسبية مع الصيغة الرياضية؟ من خلال الشكل الآتي:

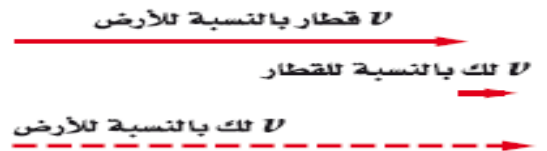
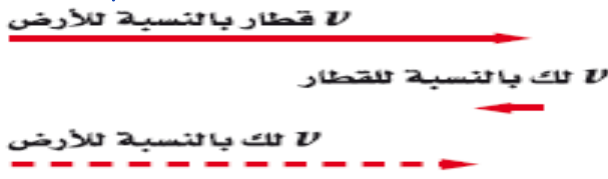


التعريف: هي سرعة الجسم بالنسبة لسرعة جسم آخر.

ويمكن استعمال الجمع الاتجاهي لحل مسائل السرعة النسبية: $V_{a/c} = V_{a/b} + V_{b/c}$
حيث سرعة الجسم a بالنسبة للجسم c هي حاصل الجمع الاتجاهي لسرعة الجسم a بالنسبة للجسم b ، ثم سرعة الجسم b بالنسبة للجسم c.

نشاط ②: كيف نجمع السرعات إذا كانت في بعد واحد؟ (تأمل الشكل السابق)

① نجمع إذا كانت الحركتان في الاتجاه واحد
② نطرح إحداهما من الأخرى إذا كانت الحركتان في اتجاهين متعاكسين

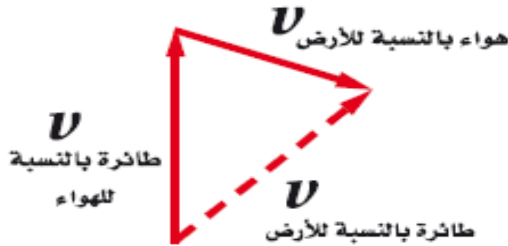


نشاط ③: كيف نجمع السرعات إذا كانت في بعدين؟

ينطبق مبدأ جمع السرعات النسبية أيضاً على الحركة في بعدين.

مثل: حركة الطائرة بالنسبة للأرض وحركة قارب في تيار متحرك من الماء.

يمكن إيجاد سرعة الطائرة بالنسبة للأرض بواسطة الجمع الاتجاهي كما في الشكل:



حسب الزاوية بين المتجهين وبالتالي:

1) إذا كانت الزاوية بين المتجهين قائمة \Rightarrow نستخدم نظرية فيثاغورس

2) إذا كانت الزاوية بين المتجهين غير قائمة \Rightarrow نستخدم قانون جيب التمام أو قانون الجيب

تدريب ①: إذا كنت تركب قطاراً يتحرك بسرعة مقدارها 15.0 m/s بالنسبة للأرض، وركضت مسرعاً في اتجاه مقدمة القطار بسرعة 2.0 m/s بالنسبة للقطار، فما سرعتك بالنسبة للأرض؟ Page 167 Q7

$$V_{\text{الأرض}/\text{القطار}} = 15 \text{ m/s} \quad \vee \quad V_{\text{القطار}/\text{أنت}} = +2 \text{ m/s} \quad \vee \quad V = ??$$

$$V_{a/c} = V_{a/b} + V_{b/c} \Rightarrow V_{\text{الأرض}/\text{أنت}} = V_{\text{القطار}/\text{أنت}} + V_{\text{الأرض}/\text{القطار}}$$

$$= 2 + 15$$

$$= 17 \text{ m/s}$$

* اختر الإجابة الصحيحة فيما يلي $20 = 0 + 20 = 20$ $\frac{السرعة}{الوقت} = \frac{السرعة}{الوقت} + \frac{السرعة}{الوقت}$

١ إذا كنت تركب قطار يتحرك بسرعة مقدارها 20 m/s بالنسبة للأرض. وكنت جالساً في القطار، فما سرعتك بالنسبة للأرض؟

- أ- صفر ب- 10 m/s ج- 20 m/s د- 20 m/s

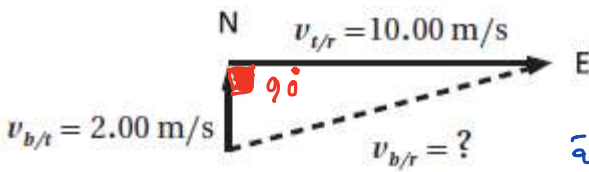
٢ يركض طالب على ضفة نهر بسرعة مقدارها 10 Km/h ، ويرى قارباً يتقدم نحوه بسرعة مقدارها 20 Km/h ، ما مقدار سرعة اقتراب الطالب من القارب؟

السرعة/القارب = ؟؟ \rightarrow السرعة/القارب = -2.0 km/h \rightarrow السرعة/القارب = 1.0 km/h

نحوها إلى m ونجدها بتأريخ: $10 \text{ km/h} + 20 \text{ km/h} = 30 \text{ km/h} \rightarrow \left(\frac{1000}{3600}\right)$

- أ- 3 m/s ب- 8 m/s ج- 40 m/s د- 100 m/s

٣ يبين الرسم التوضيحي الآتي السرعة المتجهة لشاحنة بالنسبة إلى الطريق Vt/r ، والسرعة المتجهة لصندوق في مؤخرة الشاحنة ينزلق شمالاً بالنسبة إلى الشاحنة Vb/t ، ما سرعة الصندوق بالنسبة للطريق؟



السرعة المتجهة للصندوق (b) ، الطريق (r) ، الشاحنة (t)

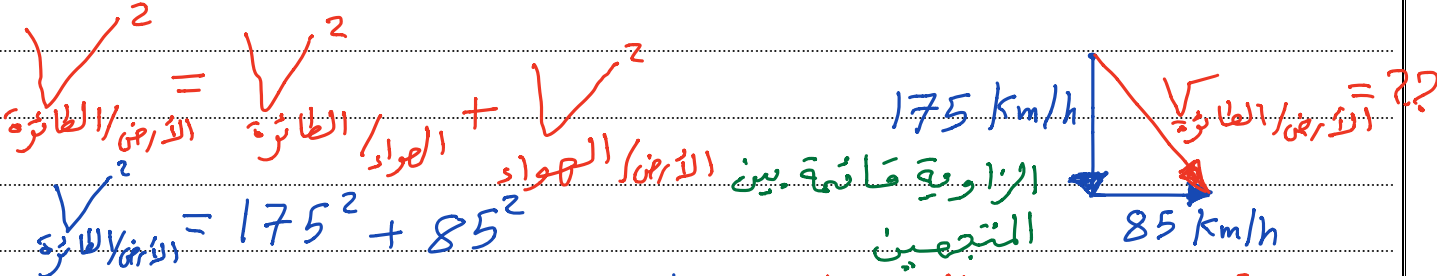
علماً بأن t ترمز إلى الشاحنة و r للطريق و b للصندوق.

الزاوية بين المتجهين متعامدة

$V_{b/r} = V_{b/t} + V_{t/r}$
 $= 2^2 + 10^2 = 104 \Rightarrow V_{b/r} = \sqrt{104}$

- أ- 8.00 m/s ب- 10.2 m/s ج- 12.0 m/s د- 20.0 m/s

١- تطير طائرة في اتجاه الجنوب بسرعة 175 Km/h بالنسبة إلى الهواء، وهناك رياح تهب في اتجاه الشرق بسرعة 85 Km/h بالنسبة إلى الأرض، ما مقدار سرعة الطائرة واتجاهها بالنسبة إلى الأرض؟ Page 175 Q24



$V_{الطائرة}^2 = 175^2 + 85^2$
 $V_{الطائرة} = 194.55 \text{ km/h}$
 $\theta = \tan^{-1}(175/85) = 64^\circ$

٢- لماذا تبدو سرعة السيارة المتحركة على الخط السريع وفي اتجاه معاكس للسيارة التي تركبها أكبر من السرعة المحددة؟ Page 180 Q32

لأننا نجمع مقدار سرعتي السيارتين معاً للحصول على مقدار السرعة النسبية لتلك السيارة بالنسبة إلى سيارتك.

٣- إذا أردت أن تتجاوز سيارة بسيارتك على الطريق السريع، وكانت السيارتان تسيران في الاتجاه نفسه فسوف تستغرق زمناً أطول ممل لو كانت السيارتان تسيران في اتجاهين متعاكسين، فسّر ذلك. Page 181 Q37

السرعة النسبية لسيارتين تتحركان في الاتجاه نفسه أقل من السرعة النسبية لهما عندما تتحركان في اتجاهين متعاكسين.

أوراق عمل أخرى

موقع
مادنتري

أوراق عمل فيزياء ١

الصف الأول ثانوي ١٤٤
الفصل الدراسي الثاني

ثانوية المدائن

هذه الأوراق لا تغني عن الكتاب

موقع
مادنتيريا

اسم الطالب :

الفصل :

ورقة عمل الفصل الأول (مدخل إلى علم الفيزياء)

س1: اكتب المصطلح العلمي ؟

علم الفيزياء	الطريقة العلمية	الفرضية	النماذج العلمية
القانون العلمي	النظرية العلمية	القياس	الضبط
الدقة			

- () تسهل دراسة وتفسير الظواهر الطبيعية العلمية.
- () إطار يجمع بين عناصر البناء العلمي في موضوع من موضوعات العلم .
- () درجة اتقان القياس .
- () اتقان نتائج القياس مع القيمة المقبولة في القياس .
- () قاعدة طبيعية تجمع مشاهدات مترابطة لوصف ظاهرة طبيعية متكررة.
- () تخمين علمي عن كيفية ارتباط المتغيرات بعضها البعض.
- () مقارنة كمية مجهولة بأخرى معيارية.
- () العلم الذي يعني بدراسة العالم الطبيعي (الطاقة والمادة وكيفية ارتباطهما ببعض)
- () أسلوب للإجابة عن تساؤلات علمية بهدف تفسير الظواهر الطبيعية المختلفة.

س2 : ضع علامة (v) امام العبارة الصحيحة وعلامة (x) امام العبارة الخاطئة :-

- 1-النماذج العلمية تعتمد على التجريب ()
- 2- الضبط هو درجة اتقان في القياس ()
- 3- من تقنيات القياس الجيد قراءة التدريجات بشكل عمودي وبعين واحدة ()

س3 : فرق الجهد الكهربائي v في دائرة كهربائية يساوي حاصل ضرب شدة التيار الكهربائي I في المقاومة الكهربائية R في تلك الدائرة

$$V = I \times R$$

ما مقاومة مصباح كهربائي يمر فيه تيار كهربائي مقداره 0.5A عند وصله بفرق جهد مقداره 120V

س4 : اختر الإجابة الصحيحة ؟

1- الفيزياء هي دراسة :

أ- الكائنات الحية ب- المعادلات الرياضية ج- العالم الطبيعي د - الطريقة العلمية

2- تبدأ الطريقة العلمية بـ :

أ-وضع الفرضيات ب- طرح الأسئلة ج- وضع النظريات د- وضع القوانين

3- تفسير علمي لظاهرة بناء على مشاهدات واستقصاءات مع مرور الزمن :

أ- النظرية العلمية ب- القانون العلمي ج- الفرضية العلمية د- الحقيقة العلمية

4- لكي تثبت صحة الفرضية نحتاج إلى :

أ-التجريب ب- الملاحظة ج- التحليل د- الاستنتاج

5- مما يلي لا يعتبر من عناصر البناء العلمي :

أ- الدقة ب- الفرضية ج- النموذج د- الحقيقة

6- التعبير التالي $V = I \times R$ يمثل :

أ-نظرية علمية ب- فرضية علمية ج- قانون علمي د- طريقة علمية

7- العبارة الرياضية الصحيحة التي تكافئ العلاقة التالية

أ- $d = \frac{v}{t}$ ب- $d = v \times t$ ج- $d = \frac{t}{v}$ د- $t = \frac{v}{d}$

8- نظام الوحدات المعتمد في المملكة العربية السعودية :

أ- النظام الدولي ب- الفرنسي ج- البريطاني د- العربي

9- من الوحدات التالية ليس وحدة لكمية أساسية:

أ-نيوتن ب- كالفن ج- ثانية د- كيلوجرام

10- وحدة قياس لكمية أساسية في النظام الدولي :

أ- جول ب- كاندلا ج- نيوتن د- أوم

11- الحجم يعتبر كمية :

أ- أساسية ب- مشتقة ج- متجهه د- أصيلة

12- من الكميات المشتقة :

أ- كمية المادة ب- درجة الحرارة المطلقة ج- الزمن د- الطاقة

13- أي القيم تساوي 25cm

أ- 2500 m ب- 250 m ج- 0.25 m د- 0.025 m

14- 23GV تعادل :

أ- $23 \times 10^{-9} v$ ب- $23 \times 10^9 v$ ج- $23 \times 10^6 v$ د- $23 \times 10^{-6} v$

- 15- كتلة كرة معدنية 300g فكم تكون كتلة الكرة بوحدة Kg
 أ- 3000 ب- 0.3 ج- 30000 د- 3
- 16- علبة ماء كتب عليها ان سعتها 0.5 L فهذا يعني ان سعتها بالملييلتر يساوي :-
 أ- 500 mL ب- 5 mL ج- 50 mL د- 5000
- 17- مقارنة كمية مجهولة بأخرى معيارية :
 أ - الضبط ب- الدقة ج- القياس د - الاتقان
- 18- اتفاق نتائج القياس مع القيمة المقبولة للقياس :
 أ - الضبط ب- الدقة ج- القياس د- الاتقان
- 19- مسطرة أقل تدريج فيها 1 mm فإن دقة القياس تساوي
 أ- $\pm 1 mm$ ب- $\pm 2 mm$ ج- $\pm 0.25 mm$ د- $\pm 0.5 mm$
- 20- قام ثلاث طلاب بقياس طول كتاب عدة مرات فكانت متوسط النتائج كالتالي

الطالب	محمد	فهد	ناصر
القياس	$101 \pm 1mm$	$100 \pm 0.5mm$	$102 \pm 2mm$

فإن الطالب الأكثر دقة في القياس

- أ - محمد ب- فهد ج- ناصر د- جميعهم نفس الدقة

س5 : عبر عن 100 cm بوحدة Km ؟

ورقة عمل الفصل الثاني (تمثيل الحركة)

س1: اكتب المصطلح العلمي ؟

النظام الاحداثي	نقطة الأصل	الازاحة	السرعة المتجهة اللحظية
المسافة	الكميات المتجهة	الكميات العددية	السرعة المتوسطة
السرعة المتجهة المتوسطة			

- () ميل الخط البياني (الموقع - الزمن) .
- () هي الكميات التي يعبر عنها بالمقدار والاتجاه معا.
- () القيمة المطلقة للسرعة المتجهة المتوسطة .
- () نظام يستخدم لوصف الحركة (يحدد فيه نقطة الأصل والاتجاه الذي تتزايد فيه القيم)
- () هي الكميات التي تحدد بالمقدار فقط.
- () تكون عندها قيمة كل من المتغيرين صفر .
- () مقدار سرعة واتجاه حركته عند لحظة زمنية معينة.
- () كمية عددية تصف بعد الجسم عن نقطة الأصل.
- () كمية متجهة تمثل تغير موقع الجسم في اتجاه معين.

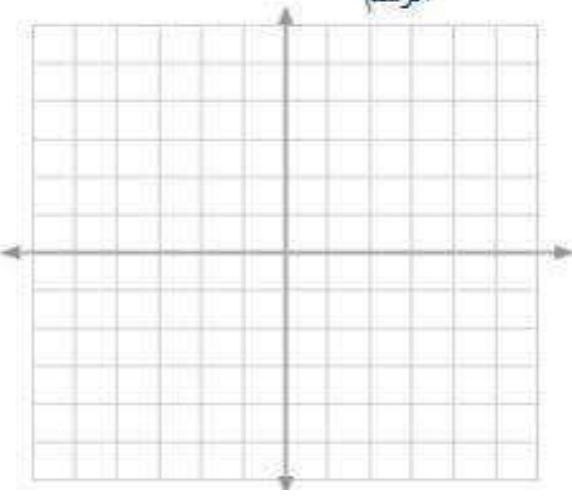
س2 : ضع علامة (\checkmark) امام العبارة الصحيحة وعلامة (\times) امام العبارة الخاطئة :-

- 1-المسافة كمية متجهة ()
- 2- ميل الخط البياني (الموقع - الزمن) يمثل السرعة المتوسطة ()
- 3- نقول بأن سرعه الجسم منتظمة اذا كانت سرعة الجسم المتوسطة المتجهة مساوية لسرعه اللحظية ()

س3 : من الجدول ارسم منحنى حركة دراجة ومن ثم احسب سرعتها المتوسطة المتجهة

الرسم

الزمن	الموقع
0	0
3	1
6	2
9	3
12	4



س4 : اختر الإجابة الصحيحة ؟

1-صورة تظهر موقع الجسم متحرك في فترات زمنية متساوية :

أ- الحركة ب- الموقع ج- مخطط الحركة د- نموذج الجسم النقطي

2- مجموعة من النقاط المفردة المتتالية بدلا من الجسم في المخطط التوضيحي للحركة:

أ-نموذج الحركة ب- نموذج الموقع ج- نموذج الجسم النقطي د- نموذج بديل

3- الكمية الفيزيائية التي تمثل كمية متجهه هي :

أ- المسافة ب- الزمن ج- السرعة د- الكتلة

4- النقطة في النظام الاحداثي التي تكون عندها كلا المتغيرين يساوي صفر :

أ- الأصل ب- المتجه ج- المقدار د- المسافة

5- موقع الجسم عند لحظة زمنية معينة :

أ- الموقع اللحظي ب- الموقع النهائي ج- الموقع الابتدائي د- الموقع الحقيقي

6- عداد السيارة يقيس:

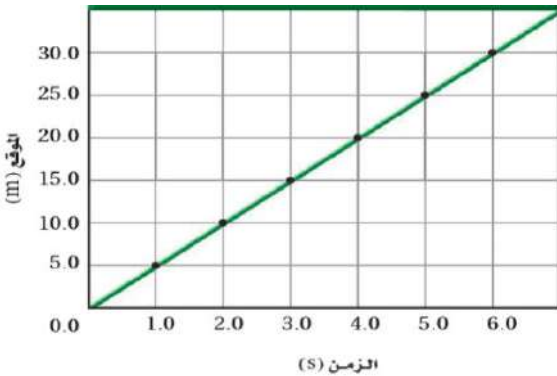
أ-المسافة ب- الازاحة ج- التسارع د- المقدار

7- تحركت سيارة في اتجاه الشرق 10Km ومن ثم اتجه نحو الغرب 15Km فإن المحصلة

أ- 25 غربا ب- 25 شرقا ج- 5 غربا د- 5 شرقا

8- تتحرك دراجة في اتجاه الشرق 100م ثم يغير من اتجاهه الى الشرق قاطعا 80م ثم يغير من اتجاهه الى الغرب قاطعا 20م فإن المسافة المقطوعة تساوي:

أ- 200م ب- 40م ج- 180م د- 0



9- من الشكل عند أي لحظة زمنية يكون العداء على مسافة 15

أ- 3 ب- 4

ج- 5 د- 3

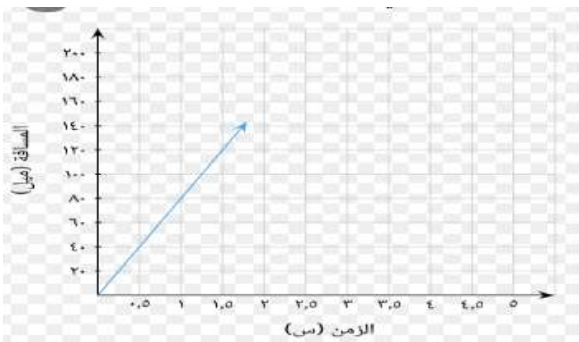
10- من الشكل أي العبارات صحيحة التي تعبر عن حركة زورق:

أ- بعد مرور نصف ثانيه قطع مسافة 20 متر

ب- بعد مرور ثانية واحدة قطع مسافة 80 متر

ج- بعد مرور ثانية واحدة قطع مسافة 60 متر

د- بعد مرور ثانية واحدة قطع مسافة 40 متر



11- تغير الموقع مقسوما على الفترة الزمنية يمثل

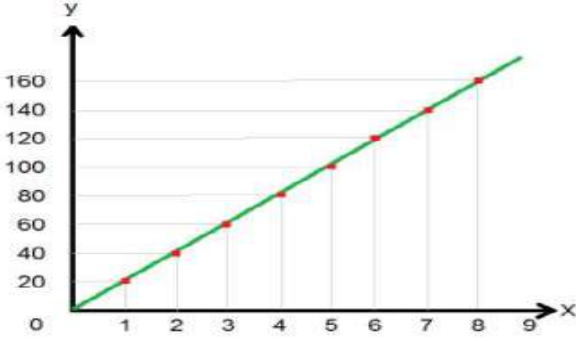
أ- السرعة المتجهة المتوسطة ب- الإزاحة ج- السرعة اللحظية د- السرعة اللحظية المتجهة

12- تحرك عداء من موقع 10 م إلى موقع 10 - م خلال زمن قدره 5 ثواني فإن سرعته المتوسطة تساوي :-

أ- 4 ب- -4 ج- -20 د- 20

13- من الشكل احسب السرعة المتوسطة المتجهة :

أ- 40 ب- 20 ج- -20 د- -40



ورقة عمل الفصل الثالث (الحركة المتسارعة)

س1: اكتب المصطلح العلمي ؟

التسارع	التسارع اللحظي	السقوط الحر

() المعدل الزمني لتغير السرعة المتجهة للجسم .

() التغير في السرعة المتجهة خلال فترة زمنية صغيرة جداً .

() حركة سقوط الجسم تحت تأثير الجاذبية الأرضية فقط .

س2 : ضع علامة (\checkmark) امام العبارة الصحيحة وعلامة (\times) امام العبارة الخاطئة :-

1- سرعة الجسم عند اقصى ارتفاع تساوي صفر ()

2- تسارع الجسم عند اقصى ارتفاع يساوي صفر ()

3- التسارع كمية عددية ()

4- تختلف قيمة تسارع الجاذبية باختلاف الارتفاع عن الأرض ()

5- المساحة تحت منحنى السرعة المتجهة - الزمن تمثل إزاحة الجسم ()

س3 : تتحرك دراجة بسرعة منتظمة 2 m/s وعندما بدأت تصعد مستوى مانلا تباطأت سرعته وفق تسارع ثابت 0.52 m/s^2

ما الزمن الذي استغرقه حتى توقف عند نهاية المستوى المائل ؟

س4 : احسب التسارع المنتظم لسيارة تغير سرعتها من 23 m/s الى 83 m/s خلال 7 s ؟

س5 : اختر الإجابة الصحيحة ؟

1- التسارع المتوسط:

أ- التغير في الموقع مقسوماً على مقدار زمن معين ب- التغير في السرعة المتجهة مقسوماً على مقدار زمن التغير
ج- التغير الذي يحدث لموقع الجسم في اتجاه معين د - التغير في إزاحة الجسم مقسوماً على الزمن

2- يتسارع جسم عندما :

أ- تزداد سرعته ب- تقل سرعته ج- يتغير اتجاه حركته د- جميع ما سبق

3- يتحرك جسم في خط مستقيم وبسرعة ثابتة فإن تسارعه :

أ- ثابت ب- يتزايد ج- يتناقص د- يساوي صفر

4- يتحرك متزلج بتسارع يساوي صفر فإن سرعته :

أ- ثابتة ب- متزايدة ج- متناقصة د- تساوي صفر

5- تزداد سرعة عداء من 1 m/s إلى 1.6m/s خلال فترة زمنية 3 s فإن تسارعه يساوي :

أ- 0.2 ب- 0.6 ج- 0.53 د- 0

6- تتحرك دراجة نارية من السكون بتسارع مقداره 3m/s² فإن سرعتها بعد مرور 8 s :

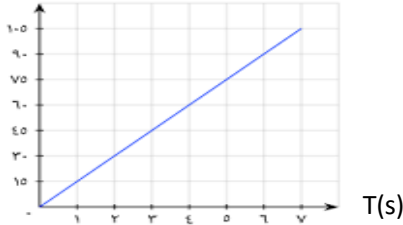
أ- 2.6 ب- 0.375 ج- 24 د- 0

7- تسير سيارة بسرعة 25 m/s ثم تتباطىء سرعتها بمعدل 2 m/s² كم ستكون سرعتها بعد مرور 4 s

أ- 17 ب- 8 ج- 50 د- 33

8- احسب تسارع السيارة من الشكل البياني:

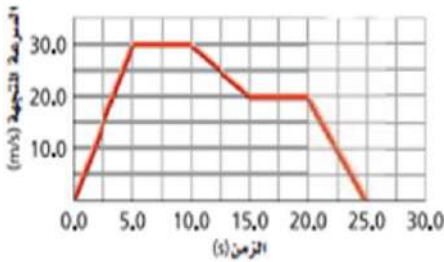
V(m/s)



أ- 15 ب- 15- ج- 0 د- 0.066

9- تسارع الجسم المبينة حركته في الشكل خلال الفترة الزمنية من 5 إلى 10 :

أ- صفر ب- 6 ج- 2 د- 4



10- في تجربة السقوط الحر عند إسقاط كره معدنية وكره مطاطية من نفس الارتفاع مهملاً احتكاك الهواء فإن:

أ- تصل الكرة الحديدية أولاً ب- تصل الكرة المطاطية أولاً ج- تصلان معاً د- لا يمكن التنبؤ

11- سقطت كرة من نافذة في أعلى مبنى سقوطاً حراً فإذا اصطدمت بالأرض بعد مرور 3 ثواني فإن سرعته أثناء الاصطدام بالأرض تساوي :

أ- 9.8 ب- 19.6 ج- 29.4 د- 0

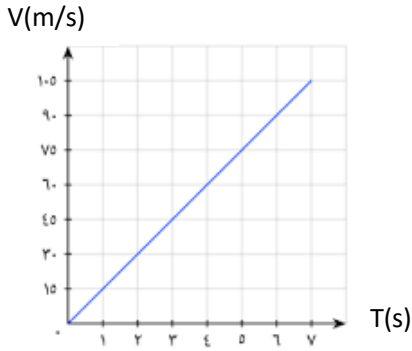
12- قذف جسم إلى أعلى بسرعة ابتدائية 4m/s وبعد مرور 5 s وصل إلى أقصى ارتفاع احسب سرعته عند أقصى ارتفاع :

أ- 20 ب- 49 ج- 0 د-

13- حركة الجسم تحت تأثير الجاذبية الأرضية فقط

أ- الحركة المتزنه ب- السقوط الحر ج- السقوط المتزن د- حر الحركة

16- من الشكل احسب الازاحة التي قطعتها سياره بعد مرور 6 ثواني بوحدة المتر



أ- 540 ب- 270

ج- 0 د- 90

س 6 : قم بإجراء التحويلات الاتية :

30min = s

2hr = s

4km = m

30 km/hr = m/s

ورقة عمل الفصل الرابع (القوى في بعد واحد)

س1: اكتب المصطلح العلمي ؟

القوة	قانون نيوتن الأول	قانون نيوتن الثاني	قانون نيوتن الثالث
الوزن	الوزن الظاهري	القوة المعيقة	السرعة الحدية
قوة الشد	القوة العمودية		

() قوة تلامس يؤثر بها السطح في جسم آخر .

() كل مؤثر في الجسم فيغير من حالته الحركية أو شكله .

() لكل فعل ردة فعل مساوية لها في المقدار ومعاكسة لها في الاتجاه .

() اذا اثرت قوة على جسم ما فإنها تكسبه تسارع.

() قوة ممانعة يؤثر بها المائع في جسم يتحرك خلاله.

() القوة التي يؤثر بها الخيط او الحبل .

() سرعة منتظمة تصل اليها الكرة عندما تتساوى القوى المعيقة مع قوة الجاذبية الارضية

() مقدار جذب الأرض للأجسام .

() الجسم الساكن يبقى ساكن والمتحرك متحرك بسرعة منتظمة وفي خط مستقيم مالم تؤثر عليه قوة .

() القوة التي يؤثر بها الميزان على الجسم .

س2 : ضع علامة (\checkmark) امام العبارة الصحيحة وعلامة (\times) امام العبارة الخاطئة :-

1- يكون الجسم في حالة اتزان اذا كانت محصلة القوى المؤثر عليه أكبر من الصفر ()

2- القوة المعيقة هي قوة تلامس يؤثر بها السطح ()

3- الوزن كمية عددية ()

4- تتغير كتلة جسم عندما ننقله الى القمر ()

5- يسمى قانون نيوتن الثاني بالقصور الذاتي ()

س3:- تؤثر قوة مقدارها 10N على جسم فتكسبه تسارع مقداره $5m/s^2$ احسب كتلة هذا الجسم ؟

س5 : اختر الإجابة الصحيحة ؟

1- مؤثر يغير من حالة الجسم الحركية:

أ- التسارع ب- الطاقة ج- القوة د - السرعة

2- من القوى التالية قوة مجال :

أ- الدفع ب- السحب ج- المغناطيسية د- جميع ما سبق

3- مما يلي قوة تماس :

أ- الجاذبية ب- الكهربائية ج- المغناطيسية د- الشد

4- من القوى التالية ليست قوة مجال :

أ- الجاذبية ب- الكهربائية ج- الدفع د- المغناطيسية

5- من الشكل محصلة القوى المؤثرة على الجسم :

أ- 4 شرقاً ب- 22 ج- 4 غرباً د- 9N و 13N

6- من الشكل محصلة القوى المؤثرة على الجسم :

أ- 6 شرقاً ب- 6 غرباً ج- 30 غرباً د- 18 شرقاً و 12N و 18N و 24N

7- يتزن الجسم إذا كان

أ- متباطئ ب- متسارع ج- تسارعه منعدم د- جميع ما سبق

8- مقاومة وممانعة الجسم التغير في حركته او سكونه :-

أ- القوة ب- القصور الذاتي ج- الدفع د- الزخم

9- اذا اثرت قوة على جسم فإنه يكتسب تسارع يتناسب:

أ- طرديا مع القوة المؤثرة ب- عكسيا مع القوة المؤثرة ج- طرديا مع كتلة الجسم د- عكسيا مع مربع كتلته

10- ركل لاعب كرة كتلتها 0.3Kg بقوة قدرها 4N فاككتسبت تسارع مقداره :

أ- 13.3 ب- 0.075 ج- 1.2 د- 4

11- من الشكل احسب تسارع الجسم :



أ- 1.4 يمين ب- 1.4 يسار ج- 0.71 يمين د- 0.71 يسار

12- اذا كانت كتلة كرة حديدية 20Kg ووضعت داخل مصعد يتحرك بسرعة ثابتة مقدارها 4m/s فإن قراءة الميزان :

أ- 80 ب- 5 ج- 198 د- 9.8

13- وضع صندوق كتلته 18Kg داخل مصعد يتحرك للأعلى بتسارع مقداره 2m/s² فإن قراءة الميزان :-

أ- 176.4 ب- 140.4 ج- 212.4 د- 36

14- وضع صندوق كتلته 15Kg داخل مصعد يتحرك للأعلى بتباطؤ مقداره 3m/s² فإن قراءة الميزان :-

أ- 192 ب- 102 ج- 147 د- 45

15- كتلة جسم على سطح الأرض تساوي 40Kg فإذا علمت ان الجاذبية على سطح القمر تساوي سدس الجاذبية على الأرض فكم تكون كتلة الجسم على سطح القمر

أ- 392

ب- 40

ج- 65.3

د- 0

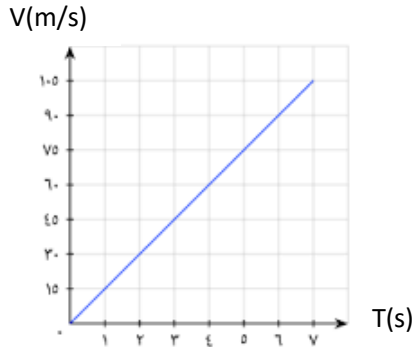
16- من الشكل القوة المؤثرة على جسم كتلته 10Kg

أ- 150

ب- 1.5

ج- 0.67

د- 15



17- اندفاع البالون في الهواء عند تفريغها من الهواء تطبيق على قانون نيوتن :

أ- الأول

ب- الثاني

ج- الثالث

د- الرابع

18- قوة الفعل وردة الفعل محصلة القوى لها تساوي:-

أ- صفر

ب- ليس لها محصلة قوى

ج- حاصل جمع القوتين

د- حاصل طرح القوتين

19- القوة العمودية المؤثرة على جسم وزنة 13N موضوع على طاولة تساوي :

أ- 127.4 للأعلى

ب- 127.4 للأسفل

ج- 13 للأعلى

د- 13 للأسفل

20- يتحرك جسم داخل مائع تسمى القوة التي يؤثر بها المائع على الجسم:-

أ- الوزن الظاهري

ب- القوة المعيقة

ج- قوة الطفو

د- محصلة القوى

ورقة عمل الفصل الخامس (القوى في بعدين)

س1: اكتب المصطلح العلمي ؟

القوة الموازنة	الاحتكاك الحركي	الاحتكاك السكوني قوة الاحتكاك	محصلة القوى تحليل المتجه
----------------	-----------------	----------------------------------	-----------------------------

- () قوة تلامس تؤثر في اتجاه معاكس للحركة الانزلاقية بين السطوح .
- () قوة تنشأ بين سطحين متلامسين عند انزلاق أحدهما على الآخر .
- () قوة تنشأ بين سطحين متلامسين بالرغم عدم انزلاق أحدهما على الآخر.
- () مجموع المتجهات لجميع القوى التي تؤثر على جسما ما.
- () تجزئة المتجه الى مركبتين.
- () قوة تجعل الجسم متزناً

س2 : ضع علامة (\checkmark) امام العبارة الصحيحة وعلامة (\times) امام العبارة الخاطئة :-

1- يتحرك الجسم اذا كانت قوة الاحتكاك اكبر من قوة الدفع ()

2- تجمع القوى اذا كانت في اتجاه واحد ()

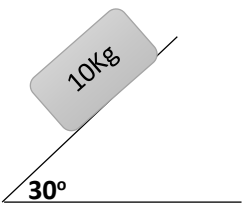
3- العلاقة بين قوة الاحتكاك الحركي والقوة العمودية علاقة خطية ()

4- في الاحتكاك الحركي يكون اتجاه قوة الاحتكاك مع اتجاه الحركة ()

5- القوة الموازنة تكون في اتجاه المحصلة ()

س3:- يسحب أحمد صندوق كتلته 40Kg على سطح خشن معامل الاحتكاك له 0.3 احسب مقدار قوة الاحتكاك ؟

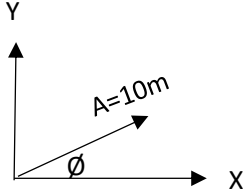
س4: يستقر صندوق كتلته 10Kg على سطح مائل يصنع زاوية مقدارها 30° فوق الافقي اوجد مركبة الوزن الموازية للسطح المائل ؟



س5 : اختر الإجابة الصحيحة ؟

1- تؤثر قوتين على جسم الأولى في اتجاه الشرق مقدارها 50 نيوتن والثانية في اتجاه الشمال مقدارها 20 نيوتن فإن القوة المحصلة تساوي:

- أ- 70 نيوتن ب- 53.9 نيوتن ج- 2900 نيوتن د- 30 نيوتن



2- تتحرك سيارة في اتجاه شمال شرق مسافة 10m وبزاوية $\theta=30^\circ$ فإن قيمة المركبة السينية تساوي :

- أ- 300 ب- 5 ج- 8.7 د- 0

3- تتحرك دراجة مسافة 100 متر في اتجاه الشمال فإن قيمة المركبة السينية والصادية تساوي :

- أ- $A_x=100 / A_y=0$ ب- $A_x=0 / A_y=0$ ج- $A_x=0 / A_y=100$ د- $A_x=50 / A_y=50$

4- تعتمد قوة الاحتكاك على :

أ- وزن الجسم ب- مساحة السطح ومعامل الاحتكاك ج- القوة العمودية ومساحة السطح د- القوة العمودية ومعامل الاحتكاك

5- يتحرك جسم وزنه 30 نيوتن بسرعة ثابتة على سطح أفقي خشن تحت تأثير قوة سحب مقدارها 70 نيوتن احسب معامل الاحتكاك الحركي :

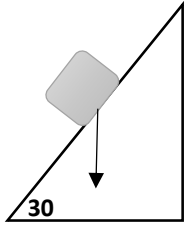
- أ- 1 ب- 2.30 ج- 0.4 د- 0

6- احسب قوة الاحتكاك الحركي لسيارة وزنها 900 نيوتن تتسارع على سطح معامل احتكاكه 0.3 :

- أ- 180 ب- 4500 ج- 0.0002 د- 1764

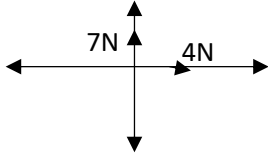
7- ينزلق صندوق كتلته 10 كيلوجرام على سطح مائل بزاوية 30 مقدار القوة العمودية تساوي

- أ- 49 ب- 98 ج- 84.9 د- 8.7



8- من الشكل اوجد قيمة القوة الموزونة وموقعها :-

أ- 8.1 الربع الاول ب- 8.1 الربع الثالث ج- 3.3 الربع الأول د- 3.3 الربع الثالث



9- ازاحتان الأولى 10Km والثانية 15Km مقدار محصلتهما إذا كانت الزاوية بينهما 120° :

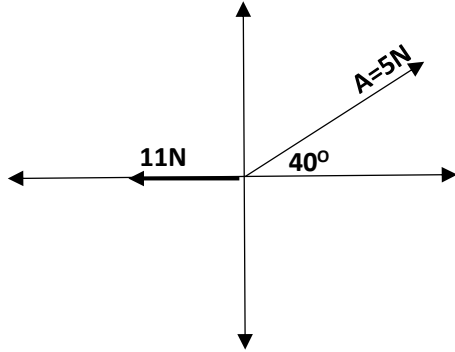
- أ- 21.8 ب- 18 ج- 24.2 د- 13.2

10- صندوقين لهما نفس الحجم والكتلة ومختلفين بالشكل أي من الشكلين له قوة احتكاك أكبر :



أ- A ب- B ج- متساويتين د- المعلومات غير كافية للإجابة

11- من الشكل احسب محصلة القوى المؤثرة على جسم:



- أ- 7.9 ب- 4.97 ج- 7.2 د- 12.2

ورقة عمل الفصل السادس (الحركة في بعدين)

س1: اكتب المصطلح العلمي ؟

المقذوف	مسار المقذوف	المدى الافقي	زمن التحليق
()	(الجسم الذي يطلق في الهواء .		
()	(حركة الجسم المقذوف في الهواء.		
()	(المسافة التي يقطعها المقذوف.		
()	(الزمن الذي يقضيه المقذوف في الهواء.		

س2 : ضع علامة (\checkmark) امام العبارة الصحيحة وعلامة (\times) امام العبارة الخاطئة :-

- 1- يتناسب التسارع المركزي طرديا مع نصف القطر ()
- 2- الزمن الذي يقضيه المقذوف في الهواء يسمى زمن التحليق ()
- 3- اتجاه التسارع المركزي يكون في اتجاه مركز الدائرة ()
- 4- السرعة في الاتجاه الافقي ثابتة دائما ()
- 5- يختلف مقدار الزمن في الحركة الأفقية عنه في الحركة الرأسية ()

س3:- يتدفق نهر بسرعة 5م/ث غربا ويتحرك قارب بسرعة 3م/ث غربا بالنسبة للنهر فما مقدار سرعة القارب لشخص يقف على ضفة النهر؟

س4: احسب التسارع المركزي لجسم يدور بسرعة مقدارها 4م/ث في مدار نصف قطره 3م وكذلك احسب الثوة المركزية؟

س5: أطلق مقذوف بزاوية 40° بسرعة ابتدائية 30م/ث احسب الزمن اللازم للوصول لأقصى ارتفاع ؟ وكذلك احسب زمن التحليق؟

س5 : اختر الإجابة الصحيحة ؟

1- المسار الذي يسلكه المقذوف في الهواء قطع :

أ- ناقص ب- زائد ج- مكافئ د - دائري

2- المركبة الرأسية لسرعة المقذوف أثناء صعوده وهبوطه عند نفس المستوى :

أ- متساوية مقداراً واتجاهاً ب- متساوية مقداراً ومعاكسه في الاتجاه ج- غير متساوية مقداراً واتجاهاً د- متساوية مقداراً ومتشابهة في الاتجاه

3- سرعة المقذوف الرأسية عند أقصى ارتفاع :

أ- السرعة الابتدائية ب- صفر ج- المركبة الرأسية للسرعة الابتدائية د- المركبة الأفقية للسرعة الابتدائية

4- اطلق جسم بزاوية فوصل الى أقصى ارتفاع بعد مرور 3 ثواني زمن تحليق المقذوف يساوي :

أ- 3 ب- 1.5 ج- 6 د- 9

5- اطلقت قذيفة بزاوية 30° مع الأفقي وبسرعة مقدارها 20 m/s كم الزمن اللازم بالثانية لتصل الى أقصى ارتفاع :

أ- 1.02 ب- 0.98 ج- 98 د- 0

6- الحركة التي يتحرك بها الجسم بسرعة ثابتة المقدار حول مركز دائرة نصف قطرها ثابت :

أ- الحركة الاهتزازية ب- الحركة الدورانية ج- الحركة الموجية د- الحركة الدائرية

7- يدور جسم بسرعة 3 m/s في مدار دائري نصف قطره 2 m فإن تسارعه المركزي

أ- 4.5 ب- 22500 ج- 18 د- 6

8- احسب القوة المركزية لسيارة كتلتها 900 كجم عندما تدخل دوار بتسارعه 5 m/s^2 :-

أ- 4500 ب- 22500 ج- 36 د- 0

9- جسم كتلته 1 كجم مربوط في خيط مهمل الكتلة طوله 2 متر ويتحرك في مسار دائري أفقي وبسرعه 2 م/ث احسب القوة المركزية:

أ- 0 ب- 2 ج- 0.5 د- 8

10- عربة تتحرك بسرعه 8 m/s بالنسبة للأرض ويركض مسافر الى مؤخرة العربة بسرعه 2 m/s بالنسبة للعربة فما سرعته بالنسبة للأرض

أ- 10 m/s ب- 6 m/s ج- 4 m/s د- 16 m/s

11- يطير طائر باتجاه الشمال بسرعه 8 m/s وتهب رياح باتجاه الشرق بسرعه 6 m/s فإن سرعة الطائر بالنسبة للأرض:

أ- 14 ب- 10 ج- 2 د- 0

أوراق عمل فيزياء ١

الإجابات

الصف الأول ثانوي ١٤٤
الفصل الدراسي الثاني

ثانوية المدائن

هذه الأوراق لا تغني عن الكتاب

موقع
مادنتري

اسم الطالب :

الفصل :

ورقة عمل الفصل الأول (مدخل إلى علم الفيزياء)

س1: اكتب المصطلح العلمي ؟

علم الفيزياء	الطريقة العلمية	الفرضية	النماذج العلمية
القانون العلمي	النظرية العلمية	القياس	الضبط
الدقة			

(النماذج العلمية) تسهل دراسة وتفسير الظواهر الطبيعية العلمية.

(النظرية العلمية) إطار يجمع بين عناصر البناء العلمي في موضوع من موضوعات العلم .

(الدقة) درجة اتقان القياس .

(الضبط) اتقان نتائج القياس مع القيمة المقبولة في القياس .

(القانون العلمي) قاعدة طبيعية تجمع مشاهدات مترابطة لوصف ظاهرة طبيعية متكررة.

(الفرضية) تخمين علمي عن كيفية ارتباط المتغيرات بعضها البعض.

(القياس) مقارنة كمية مجهولة بأخرى معيارية.

(علم الفيزياء) العلم الذي يعني بدراسة العالم الطبيعي (الطاقة والمادة وكيفية ارتباطهما ببعض)

(الطريقة العلمية) أسلوب للإجابة عن تساؤلات علمية بهدف تفسير الظواهر الطبيعية المختلفة.

س2 : ضع علامة (v) امام العبارة الصحيحة وعلامة (x) امام العبارة الخاطئة :-

1- النماذج العلمية تعتمد على التجريب (✓)

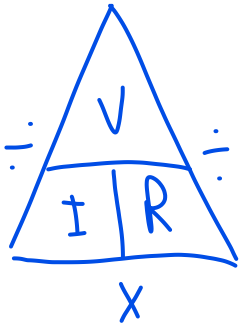
2- الضبط هو درجة اتقان في القياس (x) الدقة

3- من تقنيات القياس الجيد قراءة التدريجات بشكل عمودي وبعين واحدة (✓)

س3 : فرق الجهد الكهربائي v في دائرة كهربائية يساوي حاصل ضرب شدة التيار الكهربائي I في المقاومة الكهربائية R في تلك الدائرة

$$V = I \times R$$

ما مقاومة مصباح كهربائي يمر فيه تيار كهربائي مقداره 0.5A عند وصله بفرق جهد مقداره 120V



$$V = I \times R$$

$$R = \frac{V}{I} = \frac{120V}{0.5A} = 240 \Omega$$

المقاومة

$$R = ??$$

$$I = 0.5 A$$

$$V = 120V$$

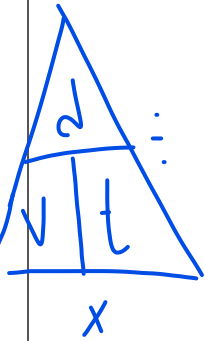
المعطيات

المطلوب

الحل :-

س4 : اختر الإجابة الصحيحة ؟

- 1- الفيزياء هي دراسة :
أ- الكائنات الحية ب- المعادلات الرياضية ج- العالم الطبيعي د- الطريقة العلمية
- 2- تبدأ الطريقة العلمية ب :
أ- وضع الفرضيات ب- طرح الأسئلة (التجربة المنهكية) ج- وضع النظريات د- وضع القوانين
- 3- تفسير علمي لظاهرة بناء على مشاهدات واستقصاءات مع مرور الزمن :
أ- النظرية العلمية ب- القانون العلمي ج- الفرضية العلمية د- الحقيقة العلمية
- 4- لكي نثبت صحة الفرضية نحتاج إلى :
أ-التجريب ب- الملاحظة ج- التحليل د- الاستنتاج
- 5- مما يلي لا يعتبر من عناصر البناء العلمي :
أ- الدقة ب- الفرضية ج- النموذج د- الحقيقة
- 6- التعبير التالي $V = I \times R$ يمثل :
أ-نظرية علمية ب- فرضية علمية ج- قانون علمي د- طريقة علمية
- 7- العبارة الرياضية الصحيحة التي تكافئ العلاقة التالية
أ- $d = \frac{v}{t}$ ب- $d = v \times t$ ج- $V = \frac{d}{t}$ د- $t = \frac{v}{d}$
- 8- نظام الوحدات المعتمد في المملكة العربية السعودية :
أ- النظام الدولي ب- الفرنسي ج- البريطاني د- العربي
- 9- من الوحدات التالية ليس وحدة لكمية أساسية:
أ-نيوتن ب- كالفن ج- ثانية د- كيلوجرام
- 10- وحدة قياس لكمية أساسية في النظام الدولي :
أ- جول ب- كاندلا ج- نيوتن د- أوم
- 11- الحجم يعتبر كمية :
أ- أساسية ب- مشتقة ج- متجهه د- أصيلة
- 12- من الكميات المشتقة :
أ- كمية المادة ب- درجة الحرارة المطلقة ج- الزمن د- الطاقة
- 13- أي القيم تساوي 25cm
أ- 2500 m ب- 250 m ج- 0.25 m د- 0.025 m
Handwritten: $25 \times 10^{-2} = 0.25 \text{ m}$, $25 \div 100 = 0.25 \text{ m}$
- 14- 23GV تعادل :
أ- $23 \times 10^{-9} \text{ v}$ ب- $23 \times 10^9 \text{ v}$ ج- $23 \times 10^6 \text{ v}$ د- $23 \times 10^{-6} \text{ v}$



جول

S

K
 $25 \times 10^{-2} = 0.25 \text{ m}$
 $25 \div 100 = 0.25 \text{ m}$

25cm

Mol
أي القيم تساوي

2500 m

ب-

$23 \times 10^9 \text{ v}$

ب-

$23 \times 10^{-9} \text{ v}$

أ-

$$300 \div 1000 = 0.3 \text{ kg}$$

$$300 \times 10^{-3} = 0.3 \text{ kg}$$

فكم تكون كتلة الكرة بوحدة

300g

15- كتلة كرة معدنية

أ- 3000

ب- 0.3

ج- 30000

د- 5000

ج- 50 mL

ب- 5 mL

أ- 500 mL

16- عبة ماء كتب عليها ان سعتها 0.5 L فهذا يعني ان سعتها بالمليتر يساوي :-

17- مقارنة كمية مجهولة بأخرى معيارية :

د - الاتقان

ج- القياس

ب- الدقة

أ - الضبط

18- اتفاق نتائج القياس مع القيمة المقبولة للقياس :

د- الاتقان

ج- القياس

ب- الدقة

أ - الضبط

19- مسطرة أقل تدريج فيها

1 mm

فإن دقة القياس تساوي

د- $\pm 0.5 \text{ mm}$

ج- $\pm 0.25 \text{ mm}$

ب- $\pm 2 \text{ mm}$

أ- $\pm 1 \text{ mm}$

20- قام ثلاث طلاب بقياس طول كتاب عدة مرات فكانت متوسط النتائج كالتالي

الطالب	محمد	فهد	ناصر
القياس	$101 \pm 1 \text{ mm}$	$100 \pm 0.5 \text{ mm}$	$102 \pm 2 \text{ mm}$

فإن الطالب الأكثر دقة في القياس

د- جميعهم نفس الدقة

ج- ناصر

ب- فهد

أ - محمد

* حول 140 km/h الى m/s

$$\frac{140 \times 1000}{3600} = 38.88 \text{ m/s}$$

$$1400 \times 60$$

ساعة
دقيقة
ثانية

* حول الزمن (ساعة) الى وحدة الثانية (s) ؟

$$3 \times 60 \times 60 = 10800 \text{ s}$$

ورقة عمل الفصل الثاني (تمثيل الحركة)

س1: اكتب المصطلح العلمي ؟

النظام الاحداثي	نقطة الأصل	الازاحة	السرعة المتجهة اللحظية
المسافة	الكميات المتجهة	الكميات العددية	السرعة المتوسطة
السرعة المتجهة المتوسطة			

ميل الخط البياني (الموقع - الزمن) .

الكميات المتجهة هي الكميات التي يعبر عنها بالمقدار والاتجاه معا.

القيمة المطلقة للسرعة المتجهة المتوسطة .

النظام الاحداثي نظام يستخدم لوصف الحركة (يحدد فيه نقطة الأصل والاتجاه الذي تتزايد فيه القيم)

الكميات العددية هي الكميات التي تحدد بالمقدار فقط.

نقطة الأصل تكون عندها قيمة كل من المتغيرين صفر .

السرعة المتجهة اللحظية مقدار سرعة واتجاه حركته عند لحظة زمنية معينة.

المسافة كمية عددية تصف بعد الجسم عن نقطة الأصل.

الازاحة كمية متجهة تمثل تغير موقع الجسم في اتجاه معين.

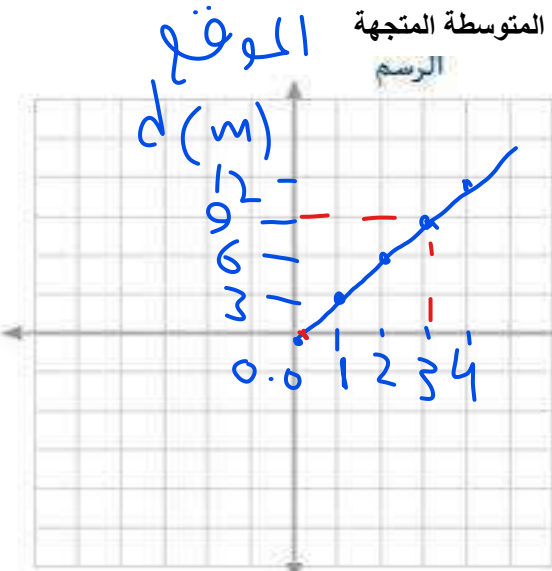
س2 : ضع علامة (v) امام العبارة الصحيحة وعلامة (x) امام العبارة الخاطئة :-

1- المسافة كمية متجهة (X) عدد (قياسية)
2- ميل الخط البياني (الموقع - الزمن) يمثل السرعة المتوسطة (X) السرعة المتجهة المتوسطة

3- نقول بأن سرعه الجسم منتظمة اذا كانت سرعة الجسم المتوسطة المتجهة مساوية لسرعه اللحظية (✓)

س3 : من الجدول ارسم منحنى حركة دراجة ومن ثم احسب سرعتها المتوسطة المتجهة

الزمن	الموقع
0	0
3	1
6	2
9	3
12	4



المعطيات:
 $d_i = 0$ | $t_i = 0$
 $d_f = 9\text{m}$ | $t_f = 3\text{s}$
 المطلوب:

$v = ??$

$$v = \frac{d_f - d_i}{t_f - t_i}$$

$$v = \frac{9 - 0}{3 - 0} = 3 \text{ m/s}$$

الحل

س4 : اختر الإجابة الصحيحة ؟

1-صورة تظهر موقع الجسم متحرك في فترات زمنية متساوية :

أ- الحركة ب- الموقع ج- مخطط الحركة د- نموذج الجسم النقطي

2- مجموعة من النقاط المفردة المتتالية بدلا من الجسم في المخطط التوضيحي للحركة:

أ-نموذج الحركة ب- نموذج الموقع ج- نموذج الجسم النقطي د- نموذج بديل

3- الكمية الفيزيائية التي تمثل كمية متجهة هي :

أ- المسافة ب- الزمن ج- السرعة د- الكتلة

4- النقطة في النظام الاحداثي التي تكون عندها كلا المتغيرين يساوي صفر :

أ- الأصل ب- المتجه ج- المقدار د- المسافة

5- موقع الجسم عند لحظة زمنية معينة :

أ- الموقع اللحظي ب- الموقع النهائي ج- الموقع الابتدائي د- الموقع الحقيقي

6- عداد السيارة يقيس:

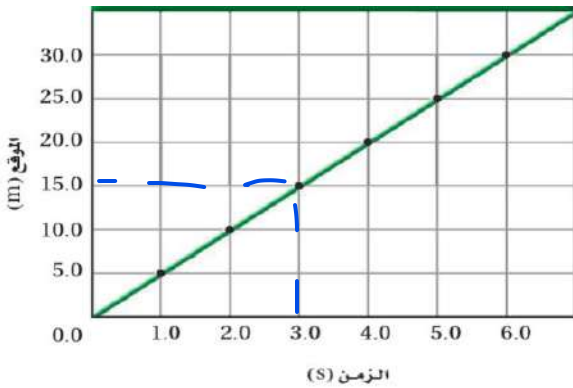
أ-المسافة ب- الازاحة ج- التسارع د- المقدار

7- تحركت سيارة في اتجاه الشرق 10Km ومن ثم اتجه نحو الغرب 15Km فإن المحصلة

أ- 25 غربا ب- 25 شرقا ج- 5 غربا د- 5 شرقا

8- تتحرك دراجة في اتجاه الشرق 100م ثم يغير من اتجاهه الى الشرق قاطعا 80م ثم يغير من اتجاهه الى الغرب قاطعا 20م فإن المسافة المقطوعة تساوي:

أ- 200م ب- 40م ج- 180م د- 0



9- من الشكل عند أي لحظة زمنية يكون العداء على مسافة 15م

أ- 3 ب- 4 ج- 5 د- 6

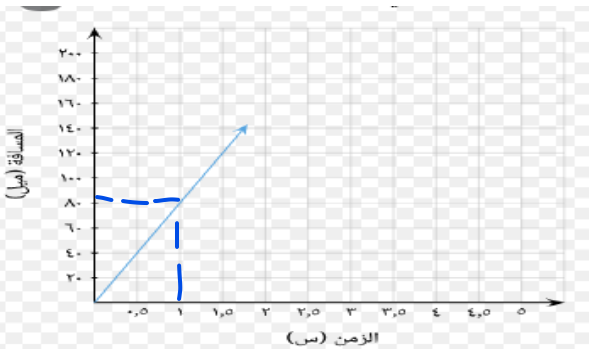
10- من الشكل أي العبارات صحيحة التي تعبر عن حركة زورق:

أ- بعد مرور نصف ثانية قطع مسافة 20 متر

ب- بعد مرور ثانية واحدة قطع مسافة 80 متر

ج- بعد مرور ثانية واحدة قطع مسافة 60 متر

د- بعد مرور ثانية واحدة قطع مسافة 40 متر



11- تغير الموقع مقسوما على الفترة الزمنية يمثل

أ- السرعة المتجهة المتوسطة

ب- الاراحة

ج- السرعة اللحظية

د- السرعة المتجهة المتجهة

12- تحرك عداء من موقع 10 م الى موقع 10 - م خلال زمن قدره 5 ثواني فإن سرعته المتوسطة تساوي :-

أ- 4

ب- -4

ج- -20

د- 20

13- من الشكل احسب السرعة المتوسطة المتجهة :

أ- 40

ب- 20

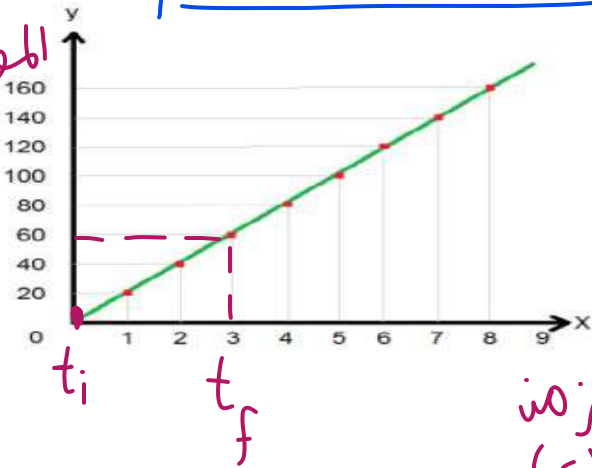
ج- -20

د- -40

$$\bar{v} = \frac{\Delta d}{\Delta t} = \frac{(-10) - (10)}{5} = -4$$

$$\bar{v} = |-4| = 4$$

الموقع (م)
 d_f
 d_i



الزمن (s)

$$\bar{v} = \frac{\Delta d}{\Delta t} = \frac{d_f - d_i}{t_f - t_i} = \frac{60 - 0}{3 - 0} = 20 \text{ m/s}$$

ورقة عمل الفصل الثالث (الحركة المتسارعة)

س1: اكتب المصطلح العلمي ؟

التسارع	التسارع اللحظي	السقوط الحر

(التسارع) المعدل الزمني لتغير السرعة المتجهة للجسم .

(التسارع اللحظي) التغير في السرعة المتجهة خلال فترة زمنية صغيرة جداً .

(السقوط الحر) حركة سقوط الجسم تحت تأثير الجاذبية الأرضية فقط .

س2 : ضع علامة (v) امام العبارة الصحيحة وعلامة (x) امام العبارة الخاطئة :-

1- سرعة الجسم عند اقصى ارتفاع تساوي صفر (✓)

2- تسارع الجسم عند اقصى ارتفاع يساوي صفر (X)

3- التسارع كمية عددية (X) منحنى

4- تختلف قيمة تسارع الجاذبية باختلاف الارتفاع عن الأرض (✓)

5- المساحة تحت منحنى السرعة المتجهة - الزمن تمثل إزاحة الجسم (✓)

س3 : تتحرك دراجة بسرعة منتظمة 2 m/s وعندما بدأت تصعد مستوى مانلا تباطأت سرعته وفق تسارع ثابت 0.52 m/s^2

ما الزمن الذي استغرقه حتى توقف عند نهاية المستوى المائل ؟

$$v_f = v_i + at$$

المطلوب ①

المطلوب ②

المعطيات ①

$$v_f - v_i = at \Rightarrow t = \frac{v_f - v_i}{a}$$

$$t = ??$$

$$v_i = 2 \text{ m/s}$$

$$a = -0.52 \text{ m/s}^2$$

$$v_f = 0$$

$$t = \frac{0 - 2 \text{ m/s}}{-0.52 \text{ m/s}^2} = 3.8 \text{ s}$$

س4 : احسب التسارع المنتظم لسيارة تغير سرعتها من 23 m/s الى 83 m/s خلال 7 s ؟

$$a = \frac{\Delta v}{\Delta t} = \frac{v_f - v_i}{\Delta t} = \frac{83 \text{ m/s} - 23 \text{ m/s}}{7 \text{ s}}$$

المطلوب ②

المعطيات ①

$$v_i = 23 \text{ m/s}$$

$$v_f = 83 \text{ m/s}$$

$$\Delta t = 7 \text{ s}$$

$$a = ??$$

$$a = 8.6 \text{ m/s}^2$$

س5 : اختر الإجابة الصحيحة ؟

1- التسارع المتوسط:

- أ- التغير في الموقع مقسوماً على مقدار زمن معين
 ب- التغير في السرعة المتجهة مقسوماً على مقدار زمن التغير
 ج- التغير الذي يحدث لموقع الجسم في اتجاه معين د - التغير في إزاحة الجسم مقسوماً على الزمن

2- يتسارع جسم عندما :

- أ- تزداد سرعته ب- تقل سرعته ج- يتغير اتجاه حركته د- جميع ما سبق
 3- يتحرك جسم في خط مستقيم وبسرعة ثابتة فإن تسارعه :

- أ- ثابت ب- يتزايد ج- يتناقص د- يساوي صفر
 4- يتحرك متزلج بتسارع يساوي صفر فإن سرعته :

- أ- ثابتة ب- متزايدة ج- متناقصة د- تساوي صفر
 5- تزداد سرعة عداء من 1 m/s إلى 1.6 m/s خلال فترة زمنية 3 s فإن تسارعه يساوي :

$$a = \frac{v_f - v_i}{\Delta t}$$

$$a = \frac{1.6 - 1}{3} = 0.2 \text{ m/s}^2$$

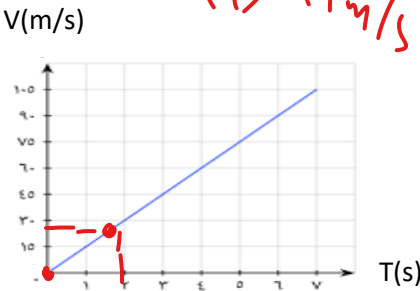
$$v_f = v_i + at = 0 + (0.2) \times (8) = 1.6 \text{ m/s}$$

- أ- 0.2 ب- 0.6 ج- 0.53 د- 0
 6- تتحرك دراجة نارية من السكون بتسارع مقداره 3 m/s² فإن سرعتها بعد مرور 8 s :

- أ- 2.6 ب- 0.375 ج- 24 د- 0
 7- تسيير سيارة بسرعة 25 m/s ثم تتباطئء سرعتها بمعدل 2 m/s² كم ستكون سرعتها بعد مرور 4 s :

$$v_f = 25 + (-2) \times (4) = 17 \text{ m/s}$$

- أ- 17 ب- 8 ج- 50 د- 33
 8- احسب تسارع السيارة من الشكل البياني:



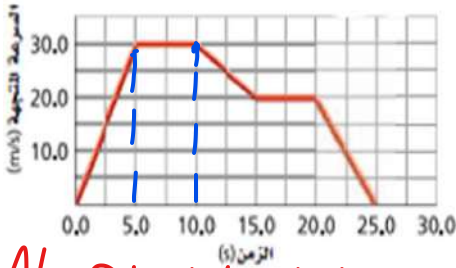
$$a = \frac{v_f - v_i}{t_f - t_i} = \frac{10 - 0}{5 - 0} = 2 \text{ m/s}^2$$

ب- 15

د- 0.066

$$a = \frac{30 \text{ m/s} - 0}{2 \text{ s} - 0} = 15 \text{ m/s}^2$$

9- تسارع الجسم المبينة حركته في الشكل خلال الفترة الزمنية من 5 إلى 10 :



ب- 6

د- 4

أ- صفر

ج- 2

10- في تجربة السقوط الحر عند إسقاط كرة معدنية وكره مطاطية من نفس الارتفاع مهملاً احتكاك الهواء فإن: $v_f = v_i + gt = 0 + (9.80) \times (3)$

- أ- تصل الكرة الحديدية أولاً ب- تصل الكرة المطاطية أولاً
 ج- تصلان معاً د- لا يمكن التنبؤ
 11- سقطت كرة من نافذة في أعلى مبنى سقوطاً حراً فإذا اصطدمت بالأرض بعد مرور 3 ثواني فإن سرعته أثناء الاضطدام بالأرض تساوي :

- أ- 9.8 ب- 19.6 ج- 29.4 د- 0
 12- قذف جسم إلى أعلى بسرعة ابتدائية 4 m/s وبعد مرور 5 s وصل إلى أقصى ارتفاع احسب سرعته عند أقصى ارتفاع :

- أ- 20 ب- 49 ج- 0 د-

عند أقصى ارتفاع السرعة = 0

13- حركة الجسم تحت تأثير الجاذبية الأرضية فقط

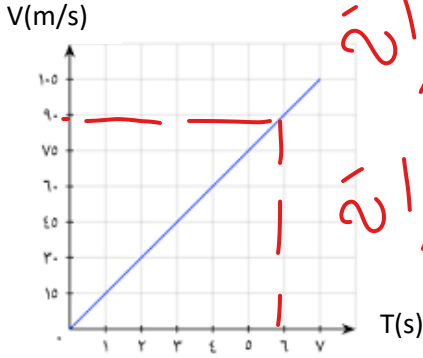
د- حر الحركة

ج- السقوط المتزن

ب- السقوط الحر

أ- الحركة المتزنه

16- من الشكل احسب الازاحة التي قطعتها سياره بعد مرور 6 ثواني بوحدۃ المتر



ب- 270
د- 90

أ- 540

ج- 0

الازاحة = المساحة تحت المنحنى

$$الارتفاع = \frac{1}{2} \times لقاعدة \times الازاحة$$

$$= \frac{1}{2} \times 6 \times 90 = 270$$

س 6 : قم بإجراء التحويلات الاتية :

$$30 \text{ min} = 30 \times 60 = 1800 \text{ s}$$

$$2 \text{ hr} = 2 \times 60 \times 60 = 7200 \text{ s}$$

$$4 \text{ km} = 4 \times 1000 = 4000 \text{ m}$$

$$30 \text{ km/hr} = \frac{30 \times 1000}{1 \times 60 \times 60} \text{ m/s}$$

$$= 8.3 \text{ m/s}$$

ورقة عمل الفصل الرابع (القوة في بعد واحد)

س1: اكتب المصطلح العلمي ؟

القوة	قانون نيوتن الأول	قانون نيوتن الثاني	قانون نيوتن الثالث
الوزن	الوزن الظاهري	القوة المعيقة	السرعة الحدية
قوة الشد	القوة العمودية		

(القوة العمودية) قوة تلامس يؤثر بها السطح في جسم آخر .

(القوة) كل مؤثر في الجسم فيغير من حالته الحركية أو شكله .

(قانون نيوتن الثالث) لكل فعل ردة فعل مساوية لها في المقدار ومعاكسة لها في الاتجاه .

(قانون نيوتن الثاني) إذا أثرت قوة على جسم ما فإنها تكسبه تسارع .

(القوة المعيقة) قوة ممانعة يؤثر بها المائع في جسم يتحرك خلاله .

(قوة الشد) القوة التي يؤثر بها الخيط أو الحبل .

(السرعة الحدية) سرعة منتظمة تصل إليها الكرة عندما تتساوى القوى المعيقة مع قوة الجاذبية الأرضية .

(الوزن) مقدار جذب الأرض للأجسام .

(قانون نيوتن الأول) الجسم الساكن يبقى ساكن والمتحرك يتحرك بسرعة منتظمة وفي خط مستقيم ما لم تؤثر عليه قوة .

(الوزن الظاهري) القوة التي يؤثر بها الميزان على الجسم .

س2 : ضع علامة (v) امام العبارة الصحيحة وعلامة (x) امام العبارة الخاطئة :-

1- يكون الجسم في حالة اتزان اذا كانت محصلة القوى المؤثر عليه أكبر من الصفر (x) **أصح**


2- القوة المعيقة هي قوة تلامس يؤثر بها السطح (x) **القوة العمودية**

3- الوزن كمية عددية (x) **متجهه**

4- تتغير كتلة جسم عندما نقله الى القمر (x) **الكتلة ثابتة في مكان**

5- يسمى قانون نيوتن الثاني بالقصور الذاتي (x) **الأول**

س3:- تؤثر قوة مقدارها 10N على جسم فتكسبه تسارع مقداره $5m/s^2$ احسب كتلة هذا الجسم ؟



$$m = \frac{F}{a} = \frac{10}{5} = 2 \text{ kg}$$

المعطيات: ① المعلوم: ② المطلوب: ③ الحل:

$$m = ??$$

$$F = 10 \text{ N}$$

$$a = 5 \text{ m/s}^2$$

س5 : اختر الإجابة الصحيحة ؟

1- مؤثر يغير من حالة الجسم الحركية:

أ- التسارع ب- الطاقة ج- القوة د- السرعة

2- من القوى التالية قوة مجال :

أ- الدفع ب- السحب ج- المغناطيسية د- جميع ما سبق

3- مما يلي قوة تماس :

أ- الجاذبية ب- الكهربائية ج- المغناطيسية د- الشد

4- من القوى التالية ليست قوة مجال :

أ- الجاذبية ب- الكهربائية ج- الدفع د- المغناطيسية

5- من الشكل محصلة القوى المؤثرة على الجسم :

أ- 4 شرقاً ب- 22 ج- 4 غرباً د- 18 شرقاً

6- من الشكل محصلة القوى المؤثرة على الجسم :

أ- 6 شرقاً ب- 6 غرباً ج- 30 غرباً د- 18 شرقاً

7- يتزن الجسم إذا كان

أ- متباطئ ب- متسارع ج- تسارعه منعدم د- جميع ما سبق

8- مقاومة وممانعة الجسم التغير في حركته او سكونه :-

أ- القوة ب- القصور الذاتي ج- الدفع د- الزخم

9- اذا اثرت قوة على جسم فإنه يكتسب تسارع يتناسب:

أ- طرديا مع القوة المؤثرة ب- عكسيا مع القوة المؤثرة ج- طرديا مع كتلة الجسم د- عكسيا مع مربع كتلته

10- ركل لاعب كرة كتلتها 0.3Kg بقدمته بقوة قدرها 4N فاكسبت تسارع مقداره :

أ- 13.3 ب- 0.075 ج- 1.2 د- 4

11- من الشكل احسب تسارع الجسم :

أ- 1.4 يمين ب- 1.4 يسار ج- 0.71 يمين د- 0.71 يسار

12- اذا كانت كتلة كرة حديدية 20Kg ووضعت داخل مصعد يتحرك بسرعة ثابتة مقدارها 4m/s فإن قراءة الميزان :

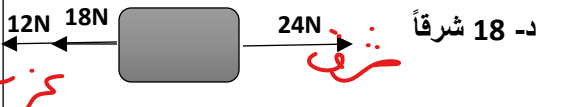
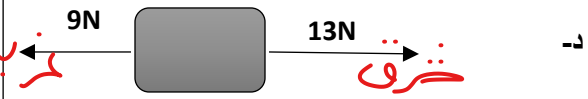
أ- 80 ب- 5 ج- 196 د- 9.8

13- وضع صندوق كتلته 18Kg داخل مصعد يتحرك للأعلى بتسارع مقداره 2m/s² فإن قراءة الميزان :-

أ- 176.4 ب- 140.4 ج- 212.4 د- 36

14- وضع صندوق كتلته 15Kg داخل مصعد يتحرك للأعلى بتباطؤ مقداره 3m/s² فإن قراءة الميزان :-

أ- 192 ب- 102 ج- 147 د- 45



$$a = \frac{F}{m} = \frac{4N}{0.3} = 13.3$$

$$a = \frac{F}{m} = \frac{(21-4)}{5} = 1.4$$

$$F = mg = 20 \times 9.8 = 196N$$

$$F = m(g+a) = 18(9.8+2) = 212.4N$$

$$F = m(g+a) = 15(9.8-3) = 102N$$

* مسائل المصعد
 ① المصعد ثابت أو يتحرك لعمود منتظمة $F = mg$
 ② يتسارع إلى الأعلى أو يتباطئ إلى الأسفل $F = m(g+a)$
 ③ يتسارع إلى الأسفل أو يتباطئ إلى الأعلى $F = m(g+a)$

15- كتلة جسم على سطح الأرض تساوي 40Kg فإذا علمت ان الجاذبية على سطح القمر تساوي سدس الجاذبية على الأرض فكم تكون كتلة الجسم على سطح القمر

ثابتة كالاب كوكب

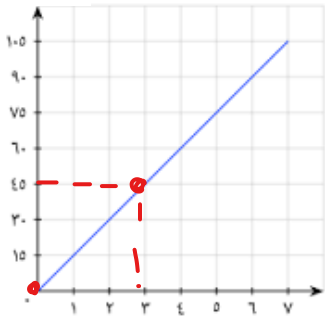
د- 0

ج- 65.3

ب- 40

أ- 392

V(m/s)



$$a = \frac{V_f - V_i}{t_f - t_i} = \frac{45 - 0}{3 - 0} = 15 \text{ m/s}^2$$

$$F = m \times a = 10 \text{ kg} \times 15 = 150 \text{ N}$$

16- من الشكل القوة المؤثرة على جسم كتلته 10Kg

ب- 1.5

د- 15

أ- 150

ج- 0.67

17- اندفاع البالون في الهواء عند تفريغها من الهواء تطبيق على قانون نيوتن :

د- الرابع

ج- الثالث

ب- الثاني

أ- الأول

18- قوة الفعل وردة الفعل محصلة القوى لها تساوي :-

ب- ليس لها محصلة قوى

أ- صفر

19- القوة العمودية المؤثرة على جسم وزنة 13N

ب- 127.4 للأسفل

أ- 127.4 للأعلى

20- يتحرك جسم داخل مائع تسمى القوة التي يؤثر بها المائع على الجسم :-

ب- القوة المعيقة

أ- الوزن الظاهري

منزل

$$F = 3 - 3 = 0$$

ج- حاصل جمع القوتين

موضوع على طاولة تساوي : $F_N = 13 \text{ N}$

ج- 13 للأعلى

د- 13 للأسفل



د- محصلة القوى

ج- قوة الطفو

ورقة عمل الفصل الخامس (القوى في بعدين)

س 1: اكتب المصطلح العلمي ؟

القوة الموازنة	الاحتكاك الحركي	الاحتكاك السكوني قوة الاحتكاك	محصلة القوى تحليل المتجه
----------------	-----------------	----------------------------------	-----------------------------

قوة تلامس تؤثر في اتجاه معاكس للحركة الانزلاقية بين السطوح (**قوة الاحتكاك**)
 قوة تنشأ بين سطحين متلامسين عند انزلاق أحدهما على الآخر (**الاحتكاك الحركي**)
 قوة تنشأ بين سطحين متلامسين بالرغم من عدم انزلاق أحدهما على الآخر (**الاحتكاك السكوني**)
 مجموع المتجهات لجميع القوى التي تؤثر على جسم ما (**محصلة القوى**)
 تجزئة المتجه الى مركبتين (**تحليل القوى**)
 قوة تجعل الجسم متزاناً (**القوة الموازنة**)

س 2: ضع علامة (\checkmark) امام العبارة الصحيحة وعلامة (\times) امام العبارة الخاطئة

(\times) يتحرك الجسم اذا كانت قوة الاحتكاك اكبر من قوة الدفع - 1 **م ص**

(\checkmark) تجمع القوى اذا كانت في اتجاه واحد - 2

(\checkmark) العلاقة بين قوة الاحتكاك الحركي والقوة العمودية علاقة خطية - 3

(\times) في الاحتكاك الحركي يكون اتجاه قوة الاحتكاك مع اتجاه الحركة - 4 **عكس**

(\times) القوة الموازنة تكون في اتجاه المحصلة - 5 **عكس القدرة المحصلة**

س 3: يسحب أحمد صندوق كتلته 40Kg على سطح خشبي معامل الاحتكاك له 0.3 احسب مقدار قوة الاحتكاك ؟

$$f_k = \mu_k \cdot F_N$$

$$f_k = \mu_k \cdot mg$$

$$= (0.3) \times (40 \times 9.80) = 117.6 \text{ N}$$

المعلوب: ② الجواب: ③

$$f_k = ??$$

المعطيات: ①

$$m = 40 \text{ kg}$$

$$\mu_k = 0.3$$

$$g = 9.80 \text{ m/s}^2$$

س 4: يستقر صندوق كتلته 10Kg على سطح مائل يصنع زاوية مقدارها 30° فوق الافقي اوجد مركبة الوزن الموازية للسطح المائل ؟

$$F = mg \sin \theta$$

$$= (10 \times 9.80) \sin(30)$$

$$= 49 \text{ N}$$

المعلوب: ② الجواب: ③

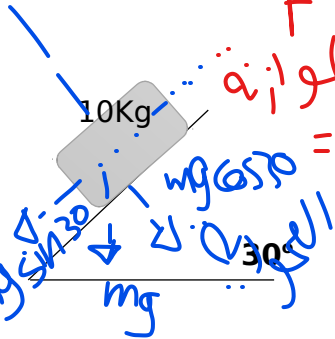
$$F = ??$$

المعطيات: ①

$$m = 10 \text{ kg}$$

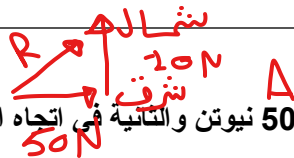
$$\theta = 30^\circ$$

$$g = 9.80 \text{ m/s}^2$$



س 5 : اختر الإجابة الصحيحة ؟

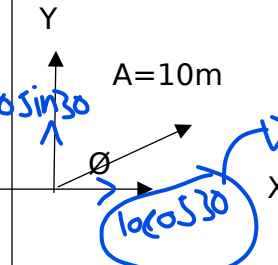
هذه فينا محاورس
 $R = \sqrt{50^2 + 20^2} = 53.9 N$



تؤثر قوتين على جسم الأولى في اتجاه الشرق مقدارها 50 نيوتن والثانية في اتجاه الشمال مقدارها 20 نيوتن فإن القوة المحصلة تساوي 1

- أ- 70 نيوتن
- ب- 53.9 نيوتن
- ج- 2900 نيوتن
- د- 30 نيوتن

تتحرك سيارة في اتجاه شمال شرق مسافة 10m وبزاوية $\theta = 30^\circ$ فإن قيمة المركبة السينية تساوي 2-



- أ- 300
- ب- 5
- ج- 8.7
- د- 0

تتحرك دراجة مسافة 100 متر في اتجاه الشمال فإن قيمة المركبة السينية والصادية تساوي 3-

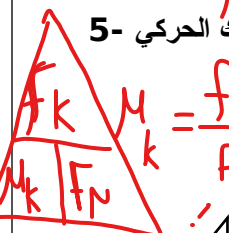
- أ- $Ax=100 / Ay=0$
- ب- $Ax=0 / Ay=0$
- ج- $Ax=0 / Ay=100$
- د- $Ax=50 / Ay=50$

لا يوجد من السينات أي متجه

تتعتمد قوة الاحتكاك على 4-

- أ- وزن الجسم
- ب- مساحة السطح ومعامل الاحتكاك
- ج- القوة العمودية ومساحة السطح
- د- القوة العمودية ومعامل الاحتكاك

يتحرك جسم وزنه 30 نيوتن بسرعة ثابتة على سطح افقي خشن تحت تأثير قوة سحب مقدارها 70 نيوتن احسب معامل الاحتكاك الحركي 5-



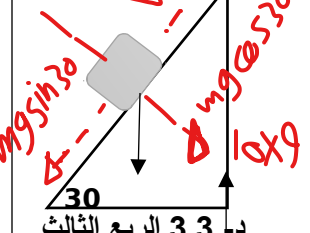
- أ- 1
- ب- 2.30
- ج- 0.4
- د- 0

احسب قوة الاحتكاك الحركي لسيارة وزنها 900 نيوتن تتسارع على سطح معامل احتكاكه 0.3 6-

- أ- 270
- ب- 4500
- ج- 0.0002
- د- 1764

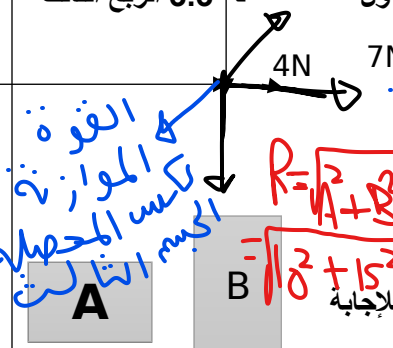
ينزلق صندوق كتلته 10 كيلوجرام على سطح مائل بزاوية 30 مقدار القوة العمودية تساوي 7-

- أ- 49
- ب- 98
- ج- 84.9
- د- 8.7



من الشكل اوجد قيمة القوة الموزونة وموقعها 8-

- أ- 8.1 الربع الاول
- ب- 8.1 الربع الثالث
- ج- 3.3 الربع الأول
- د- 3.3 الربع الثالث



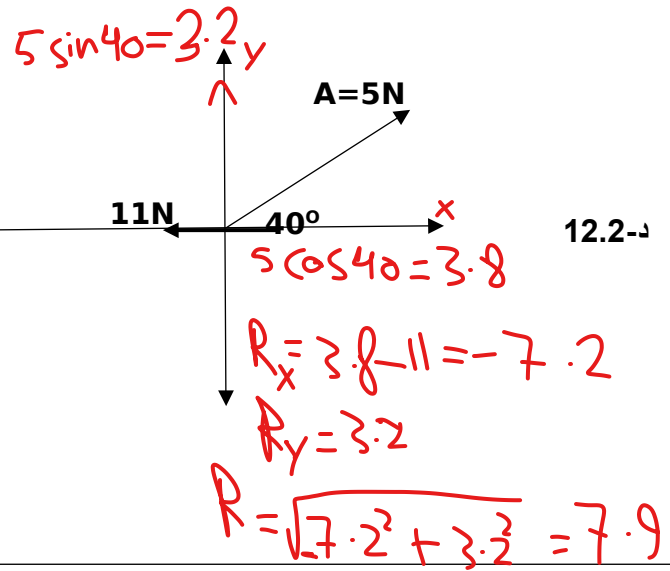
مقدار محصلتهما اذا كانت الزاوية بينهما 120 9-

- أ- 21.8
- ب- 18
- ج- 24.2
- د- 13.2

صندوقين لهما نفس الحجم والكتلة ومختلفين بالشكل أي من الشكلين له قوة احتكاك أكبر 10-

- أ- ب
- ب- 18
- ج- متساويين
- د- المعلومات غير كافية للإجابة

من الشكل احسب محصلة القوى المؤثرة على جسم B 11-



- أ- 7.9
- ب- 4.97
- ج- 7.2
- د- 12.2

ورقة عمل الفصل السادس (الحركة في بعدين)

س1: اكتب المصطلح العلمي ؟

المقذوف	مسار المقذوف	المدى الأفقي	زمن التحليق
(المقذوف) الجسم الذي يطلق في الهواء .	(مسار المقذوف) حركة الجسم المقذوف في الهواء.	(المدى الأفقي) المسافة التي يقطعها المقذوف.	(زمن التحليق) الزمن الذي يقضيه المقذوف في الهواء.

س2: ضع علامة (v) امام العبارة الصحيحة وعلامة (x) امام العبارة الخاطئة :-

1- يتناسب التسارع المركزي طرديا مع نصف القطر (X) **عكسيا**

2- الزمن الذي يقضيه المقذوف في الهواء يسمى زمن التحليق (✓)

3- اتجاه التسارع المركزي يكون في اتجاه مركز الدائرة (✓)

4- السرعة في الاتجاه الأفقي ثابتة دائما (✓)

5- يختلف مقدار الزمن في الحركة الأفقية عنه في الحركة الرأسية (X)



بنفس الاتجاه نجمع

س3:- يتدفق نهر بسرعة 5 م/ث غربا ويتحرك قارب بسرعة 3 م/ث غربا بالنسبة للنهر فما مقدار سرعة القارب لشخص يقف على الضفة النهر؟

المعطيات:

$$\frac{\text{القارب}}{\text{المراقب}} = \frac{\text{النهر}}{\text{المراقب}} + \frac{\text{القارب}}{\text{المراقب}}$$

$$= 5 + 3 = 8 \text{ m/s}$$

المطلوب:

$$\frac{\text{القارب}}{\text{المراقب}} = 2?$$

المطلوب:

$$\frac{\text{النهر}}{\text{المراقب}} = 5 \text{ m/s}$$

المعطيات:

$$\frac{\text{القارب}}{\text{المراقب}} = 3 \text{ m/s}$$

س4: احسب التسارع المركزي لجسم يدور بسرعة مقدارها 4 م/ث في مدار نصف قطره 3 م وكذلك احسب القوة المركزية؟

المطلوب:

$$a_c = \frac{v^2}{r} = \frac{4^2}{3} = 5.3 \text{ m/s}^2$$

المطلوب:

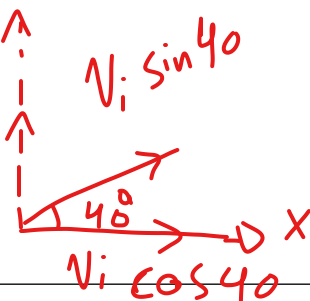
$$a_c = ??$$

المعطيات:

$$v = 4 \text{ m/s}$$

$$r = 3 \text{ m}$$

س5: اطلق مقذوف بزاوية 40° بسرعة ابتدائية 30 م/ث احسب الزمن اللازم للوصول لأقصى ارتفاع؟ وكذلك احسب زمن التحليق؟



المطلوب:

$$v_{yi} = v_i \sin \theta = 30 \sin 40 = 19.28 \text{ m/s}$$

$$v_f = v_i + gt$$

$$v_f - v_i = gt$$

$$t = \frac{v_f - v_i}{g} = \frac{0 - 19.28}{-9.8} = 1.97 \text{ s}$$

المطلوب:

$$t = ??$$

زمن التحليق = ??

المعطيات:

$$\theta = 40^\circ$$

$$v_i = 30 \text{ m/s}$$

$$v_f = 0$$

زمن التحليق = $2 \times t = 2 \times 1.97 = 3.94 \text{ s}$

س5 : اختر الإجابة الصحيحة ؟

1- المسار الذي يسلكه المقذوف في الهواء قطع :

أ- ناقص

ب- زائد

ج- مكافئ

2- المركبة الرأسية لسرعة المقذوف أثناء صعوده وهبوطه عند نفس المستوى:

أ- متساوية مقداراً واتجاهاً ب- متساوية مقداراً ومعاكسه في الاتجاه ج- غير متساوية مقداراً واتجاهاً د- متساوية مقداراً ومتشابهة في الاتجاه

3- سرعة المقذوف الرأسية عند أقصى ارتفاع :

أ- السرعة الابتدائية ب- صفر ج- المركبة الرأسية للسرعة الابتدائية د- المركبة الأفقية للسرعة الابتدائية


4- اطلق جسم بزاوية فوصل الى أقصى ارتفاع بعد مرور 3 ثواني زمن تحليق المقذوف يساوي :

أ- 3

ب- 1.5

ج- 6

$$t = 2 \times t$$
$$= 2 \times 3 = 6$$



5- اطلقت نذيفة بزاوية 30° مع الأفقي وبسرعة مقدارها 20 m/s كم الزمن اللازم بالثانية لتصل الى أقصى ارتفاع :

أ- 1.02

ب- 0.98

ج- 1.02

د- 0

6- الحركة التي يتحرك بها الجسم بسرعة ثابتة المقدار حول مركز دائرة نصف قطرها ثابت :

أ- الحركة الاهتزازية

ب- الحركة الدورانية

ج- الحركة الموجية

د- الحركة الدائرية

7- يدور جسم بسرعة 3 m/s في مدار دائري نصف قطره 2 m فإن تسارعه المركزي

أ- 4.5

ب- 22500

ج- 18

$$a_c = \frac{v^2}{r} = \frac{3^2}{2} = 4.5 \text{ m/s}^2$$

8- احسب القوة المركزية لسيارة كتلتها 900 كجم عندما تدخل دوار بتسارع مقداره 5 m/s²

أ- 4500

ب- 22500

ج- 36

د- 0

$$F = ma_c$$
$$= 900 \times 5 = 4500 \text{ N}$$

9- جسم كتلته 1 كجم مربوط في خيط مهمل الكتلة طوله 2 متر ويتحرك في مسار دائري أفقي وبسرعة 2 م/ث احسب القوة المركزية:

أ- 0

ب- 2

ج- 0.5

د- 8

$$F_c = m a_c = m \frac{v^2}{r}$$
$$= 1 \times \frac{2^2}{2} = 2 \text{ N}$$

10- عربة تتحرك بسرعة 8 m/s بالنسبة للأرض ويركض مسافر الى مؤخرة العربة بسرعة 2 m/s بالنسبة للعربة فما سرعته بالنسبة للأرض

أ- 10 m/s

ب- 6 m/s

ج- 4 m/s

د- 16 m/s

$$v = 8 - 2 = 6 \text{ m/s}$$

11- يطير طائر باتجاه الشمال بسرعة 8 m/s وتهب رياح باتجاه الشرق بسرعة 6 m/s فإن سرعة الطائر بالنسبة للأرض:

أ- 14

ب- 10

ج- 2

د- 0

$$v = \sqrt{A^2 + B^2}$$
$$= \sqrt{8^2 + 6^2} = 10 \text{ m/s}$$

