

تم تحميل وعرض المادة من



موقع مادتي هو موقع تعليمي يعمل على مساعدة المعلمين والطلاب وأولياء الأمور في تقديم حلول الكتب المدرسية والاختبارات وشرح الدروس والملاحظات والتحاير وتوزيع المنهج لكل المراحل الدراسية بشكل واضح وسهل مجاناً بتصفح وعرض مباشر أونلاين وتحميل على موقع مادتي

حمل تطبيق مادتي ليصلك كل جديد





نموذج اختبار منتصف الفصل  
الفصل الدراسي الثالث 1446  
المادة: الدراسات الاجتماعية  
الصف: الثاني المتوسط



وزارة التعليم  
ادارة التعليم  
مكتب تعليم  
مدرسة

الدرجة /20

الفصل

إعداد / محمد القرني

اسم الطالب

العالم العربي  
العالم الاسلامي  
التركيب النوعي  
الأمية  
لاجوس  
سورابايا  
التركيب العمري

**السؤال الأول: مستعينا بالشكل المجاور ضع المصطلح امام ما يناسبه من العبارات ادناه؟**

- ( العاصمة السابقة لدولة نيجيريا ) ❖  
( مركز صناعي وميناء بحري هام لإنдонيسيا ) ❖  
( مجموعة الدول الاعضاء في جامعة الدول العربية ) ❖  
( توزيع السكان الى ذكور واثاث ونسبة كل منهم الى جملة السكان ) ❖  
( هي فقدان القدرة على القراءة والكتابة ) ❖

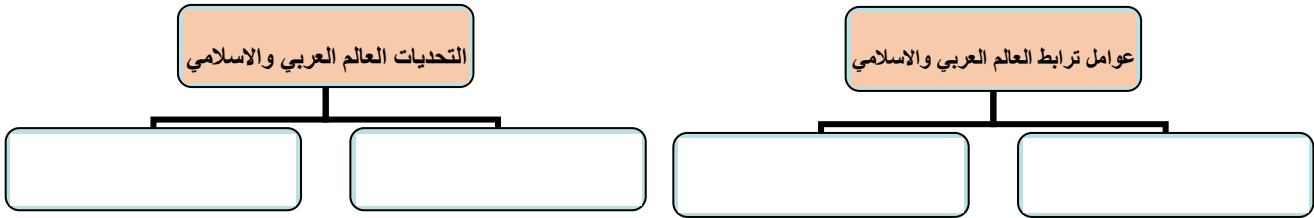
5 درجات

**السؤال الثاني : ضع الرقم امام المجموعة الاولى امام ما يناسبه من المجموعة الثانية؟**

المجموعة الثانية	الرقم	المجموعة الاولى	الرقم
المملكة العربية السعودية		هضبة بلوختان	1
مصر		جبال الحجاز	2
تركيا		نهر النيل	3
باكستان			

3 درجات

**السؤال الثالث : أكمل خرائط المفاهيم التالية ؟**



4 درجات

**السؤال الرابع : ( أ ) قارن بين اندونيسيا و ألبانيا وفق الجدول؟**

ألبانيا	وجه المقارنة	اندونيسيا
	الموقع	
	المناخ	
	العاصمة	

4 درجات

**( ب ) وضح باختصار اهمية موقع العالم العربي والاسلامي ؟**

**السؤال الخامس: ضع علامة (√) امام العبارة الصائبة وعلامة ( x ) امام العبارة الخاطئة ؟**

1	الترابط بين دول العالم العربي والاسلامي يخدم العالم أجمع
2	يتركز ويتوزع أغلب سكان العالم العربي والاسلامي في قارتي آسيا وأفريقيا
3	تعادل مساحة العالم العربي والاسلامي ربع مساحة اليابسة
4	تقع نيجيريا في وسط قارة أفريقيا على المحيط الاطلسي

4 درجات



نموذج اختبار منتصف الفصل  
الفصل الدراسي الثالث 1446  
اسات الاجتماعية  
لثاني المتوسط



وزارة التعليم  
ادارة التعليم .....  
مكتب تعليم .....  
مدرسة .....

# نموذج الاجابة

الدرجة /20

اسم الد

العالم العربي  
العالم الاسلامي  
التركيب النوعي  
الأمية  
لاجوس  
سورابايا  
التركيب العمري

**السؤال الأول: مستعينا بالشكل المجاور ضع المصطلح امام ما يناسبه من العبارات ادناه؟**

- ❖ ( لاجوس ) العاصمة السابقة لدولة نيجيريا .
- ❖ ( سورابايا ) مركز صناعي وميناء بحري هام لإندونيسيا .
- ❖ ( العالم العربي ) مجموعة الدول الاعضاء في جامعة الدول العربية .
- ❖ ( التركيب النوعي ) توزيع السكان الى ذكور واثاث ونسبة كل منهم الى جملة السكان .
- ❖ ( الأمية ) هي فقدان القدرة على القراءة والكتابة .

5 درجات

**السؤال الثاني : ضع الرقم امام المجموعة الاولى امام ما يناسبه من المجموعة الثانية؟**

المجموعة الثانية	الرقم	المجموعة الاولى	الرقم
المملكة العربية السعودية	2	هضبة بلوختان	1
مصر	3	جبال الحجاز	2
تركيا		نهر النيل	3
باكستان	1		

3 درجات

**السؤال الثالث : أكمل خرائط المفاهيم التالية ؟**



4 درجات

**السؤال الرابع : ( أ ) قارن بين اندونيسيا و ألبانيا وفق الجدول؟**

ألبانيا	وجه المقارنة	اندونيسيا
جنوب شرق اوروبا	الموقع	جنوب شرق آسيا
مناخ البحر الابيض المتوسط	المناخ	مناخ استوائي
تيرانا	العاصمة	جاكرتا

4 درجات

( ب ) وضح باختصار اهمية موقع العالم العربي والاسلامي ؟  
يقع وسط العالم القديم (آسيا وأفريقيا وأوروبا) ومهد الديانات السماوية (اليهودية والنصرانية و الإسلام) ويطل على مسطحات مائية ومضائق هامة ومرور طرق التجارة العالمية بأراضيه

**السؤال الخامس: ضع علامة (√) امام العبارة الصائبة وعلامة ( x ) امام العبارة الخاطئة ؟**

√	الترابط بين دول العالم العربي والاسلامي يخدم العالم أجمع	1
√	يتركز ويتوزع أغلب سكان العالم العربي والاسلامي في قارتي آسيا وأفريقيا	2
x	تعادل مساحة العالم العربي والاسلامي ربع مساحة اليابسة	3
√	تقع نيجيريا في وسط قارة افريقيا على المحيط الاطلسي	4

4 درجات

اختبار مادة : الدراسات الاجتماعية	الصف : ثاني متوسط	الفصل الدراسي : الثالث لعام ١٤٤٦ هـ
الاسم: .....	الدرجة	معلم المادة: ..... التوقيع : .....
	٢٠	

السؤال الأول: ضع علامة (√) أمام العبارة الصحيحة وعلامة (X) أمام العبارة الخاطئة :

م	العبارة	الإجابة
١	تبلغ مساحة العالم العربي لوحده نحو ١٤ مليون كم٢ .	
٢	يختلف توزيع سكان العالم العربي والإسلامي وكثافتهم من منطقة إلى أخرى	
٣	تمتاز دول العالم العربي والإسلامي بروابط قوية توصلها للتقارب والتكامل فيما بينها .	
٤	لعب الإستعمار دوراً سلبياً في العالم الإسلامي مما أدى إلى تفشي الفقر .	
٥	من مراحل التخطيط للواجبات المدرسية تسجيل مواعيد الواجبات.	
٦	الأولويات المهمة وغير العاجلة يجب التركيز عليها في الجدول وعملها في أقرب وقت	
٧	الأعمال الطويلة المدى يكون إنجازها في أكثر من أسبوع إلى شهر أو فصل دراسي	
٨	تنتشر لغة البهاسا في إيران .	
٩	من مميزات مناخ العالم العربي والإسلامي أنه مناخ قاري .	
١٠	من أسباب انتشار البطالة في العالم الإسلامي التركيز على التعليم التقني	

السؤال الثاني: اختر الإجابة الصحيحة:

١	بدأ رسول الله صلى الله عليه وسلم دعوة التوحيد من :	أ مكة المكرمة	ب المدينة المنورة	ج الطائف	د تبوك
٢	يحد العالم العربي والإسلامي غرباً :	أ المحيط الأطلسي	ب المحيط الهادي	ج المحيط الهندي .	د المحيط الأحمر
٣	تقع جبال أطلس شمال غرب	أ إفريقيا	ب آسيا	ج أوروبا	د أمريكا الجنوبية
٤	يقصد بالعالم العربي الدول التي تضمها :	أ جامعة الدول العربية	ب منظمة العالم الإسلامي	ج مجلس التعاون الخليجي	د مجلس العالم الإسلامي
٥	تبلغ عدد دول العالم الإسلامي :	أ ٥٧ دولة	ب ٦٠ دولة	ج ٥٢ دولة	د ٧٧
٦	تبلغ عدد الجزر في إندونيسيا نحو	أ ١٨ ألف جزيرة	ب ١١ ألف جزيرة	ج ١٥ ألف جزيرة .	د ٢٢ ألف جزيرة .
٧	أول وصول للإسلام لقارة إفريقيا كان إلى :	أ الحبشة	ب السودان	ج مصر	د العراق
٨	من المحاصيل التي تشترك في زراعتها كل من إندونيسيا ونيجيريا :	أ الموز	ب التفاح	ج البرتقال	د نخيل الزيت
٩	هي ترتيب الأعمال والأنشطة وفق أهميتها مع مراعاة الزمن المطلوب لتنفيذها	أ الكماليات	ب	ج التخطيط	د الأولويات
١٠	تعتبر أندونيسيا ثاني أكبر بلد منتج :	أ للذهب	ب	ج للزئبق	د للقصدير

انتهت الأسئلة ،،،، مع تمنياتي لكم بالتوفيق والنجاح ،،،، معلم المادة /

اختبار مادة : الدراسات الاجتماعية	الصف : ثاني متوسط	الفصل الدراسي : الثالث لعام ١٤٤٦ هـ
الاسم: .....	الدرجة	معلم المادة: .....
	٢٠	التوقيع : .....

السؤال الأول: ضع علامة (√) أمام العبارة الصحيحة وعلامة (X) أمام العبارة الخاطئة :

م	العبارة	الإجابة
١	تبلغ مساحة العالم العربي لوحده نحو ١٤ مليون كم٢ .	√
٢	يختلف توزيع سكان العالم العربي والإسلامي وكثافتهم من منطقة إلى أخرى	√
٣	تمتاز دول العالم العربي والإسلامي بروابط قوية توصلها للتقارب والتكامل فيما بينها .	√
٤	لعب الإستعمار دوراً سلبياً في العالم الإسلامي مما أدى إلى تفشي الفقر .	√
٥	من مراحل التخطيط للواجبات المدرسية تسجيل مواعيد الواجبات.	√
٦	الأولويات المهمة وغير العاجلة يجب التركيز عليها في الجدول وعملها في أقرب وقت	√
٧	الأعمال الطويلة المدى يكون إنجازها في أكثر من أسبوع إلى شهر أو فصل دراسي	√
٨	تنتشر لغة البهاسا في إيران .	X
٩	من مميزات مناخ العالم العربي والإسلامي أنه مناخ قاري .	X
١٠	من أسباب انتشار البطالة في العالم الإسلامي التركيز على التعليم التقني	X

السؤال الثاني: اختر الإجابة الصحيحة:

١	بدأ رسول الله صلى الله عليه وسلم دعوة التوحيد من :	أ	مكة المكرمة	ب	المدينة المنورة	ج	الطائف	د	تيوك
٢	يحد العالم العربي والإسلامي غرباً :	أ	المحيط الأطلسي	ب	المحيط الهادي	ج	المحيط الهندي .	د	المحيط الأحمر
٣	تقع جبال أطلس شمال غرب	أ	إفريقيا	ب	آسيا	ج	أوروبا	د	أمريكا الجنوبية
٤	يقصد بالعالم العربي الدول التي تضمها :	أ	جامعة الدول العربية	ب	منظمة العالم الإسلامي	ج	مجلس التعاون الخليجي	د	مجلس العالم الإسلامي
٥	تبلغ عدد دول العالم الإسلامي :	أ	٥٧ دولة	ب	٦٠ دولة	ج	٥٢ دولة	د	٧٧
٦	تبلغ عدد الجزر في إندونيسيا نحو	أ	١٨ ألف جزيرة	ب	١١ ألف جزيرة	ج	١٥ ألف جزيرة .	د	٢٢ ألف جزيرة .
٧	أول وصول للإسلام لقارة إفريقيا كان إلى :	أ	الحبشة	ب	السودان	ج	مصر	د	العراق
٨	من المحاصيل التي تشترك في زراعتها كل من إندونيسيا ونيجيريا :	أ	الموز	ب	التفاح	ج	البرتقال	د	نخيل الزيت
٩	هي ترتيب الأعمال والأنشطة وفق أهميتها مع مراعاة الزمن المطلوب لتنفيذها	أ	الكماليات	ب		ج	التخطيط	د	الأولويات
١٠	تعتبر أندونيسيا ثاني أكبر بلد منتج :	أ	للذهب	ب		ج	للزنك	د	للقصدير

انتهت الأسئلة ،،،، مع تمنياتي لكم بالتوفيق والنجاح ،،،، معلم المادة /موقع

20

الدرجة:

نموذج اختبار منتصف الفترة لمادة الدراسات الاجتماعية للصف الثاني المتوسط

أ / ب

الفصل

اسم الطالب

5 درجات

السؤال الاول: ضع علامة (√) أمام العبارة الصائبة وعلامة (x) أمام العبارة الخاطئة لما يأتي؟

1	الترباط والتنسيق المشترك بين دول العالم العربي والاسلامي يخدم العالم أجمع
2	يتفق الناس جميعا في ميولهم نحو الهوايات
3	عندما اخطط لتنظيم وقتي لا ابالي بحساب الزمن
4	تعد اندونيسيا أكبر دولة اسلامية من حيث عدد السكان
5	يقصد بالتركيب النوعي للسكان توزيعهم حسب الأعمار

درجتين

السؤال الثاني: عبر بأسلوبك ورأيك في الموضوع التالي؟

احمد طالب في الصف الثاني المتوسط قام بإعداد خطة للمذاكرة، كيف يستطيع معرفة ان تخطيطه غير صحيح وماهي الحلول المناسبة للتغلب على المشكلات التي قد تواجهه عند تطبيق ما خطط له:

.....

.....

.....

4 درجات

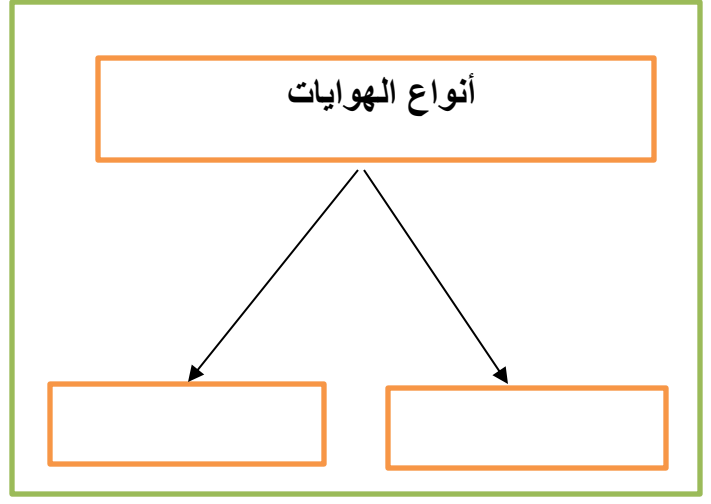
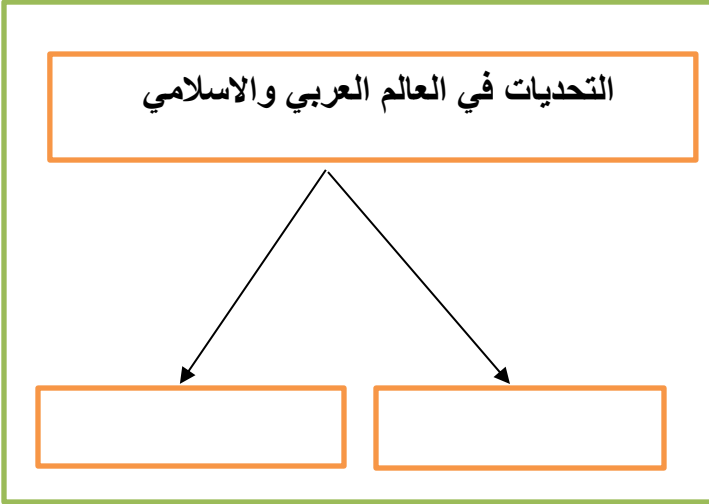
السؤال الثالث: اختر الاجابة الصحيحة في الجدول ادناه؟

1	العاصمة السابقة لنيجيريا :	2	ترتيب الاعمال وفق أهميتها والزمن لتنفيذها :
أ	ابوجا	أ	الأولويات
ب	لاجوس	ب	الهوايات
ج	كانو	ج	تقويم التخطيط
د	إبادان	د	ادارة الوقت
3	تعتبر اندونيسيا ثاني اكبر بلد في العالم في انتاج :	4	من اسباب انتشار الفقر في العالم العربي والاسلامي
أ	النفط	أ	قوة الانتاج
ب	الغاز الطبيعي	ب	البطالة والامية
ج	الذهب	ج	الاستقرار
د	القصدير	د	ازدهار التنمية

يتبع

4 درجات

السؤال الرابع: أكل خرائط المفاهيم التالية؟



3 درجات

السؤال الخامس: ضع الرقم الموجود امام المجموعة الاولى امام يناسبها من المجموعة الثانية؟

المجموعة الثانية	الرقم	المجموعة الأولى	الرقم
المملكة العربية السعودية		جبال طوروس	1
مصر		هضبة نجد	2
باكستان		نهر النيل	3
تركيا			

درجتين

السؤال السادس: عزيزي الطالب أمامك الخريطة الطبيعية لجمهورية ألبانيا الاسلامية تأمل هذه الخريطة



ثم أجب على الاسئلة ادناه؟

(أ) أين تقع البانيا من قارة أوروبا؟

.....

(ب) ماذا يحد البانيا من جهة الشرق؟

.....

(ج) صف بإيجاز السطح في البانيا؟

.....

(د) ماهي عاصمة البانيا؟

.....

انتهت الاسئلة

# نموذج الاجابة

المملكة العربية السعودية  
وزارة التعليم  
ادارة التعليم  
مدرسة

المادة: الدراسات الاجتماعية  
الصف: الثاني المتوسط  
اختبار منتصف الفترة  
الفصل الدراسي الثالث لعام 1446هـ

20

الدرجة:

نموذج اختبار منتصف الفترة لمادة الدراسات الاجتماعية للصف الثاني المتوسط

اسم الطالب

نموذج اجابة

الفصل

أ / ب

5 درجات

السؤال الاول: ضع علامة (√) أمام العبارة الصائبة وعلامة (x) أمام العبارة الخاطئة لما يأتي؟

√	1	التربط والتنسيق المشترك بين دول العالم العربي والاسلامي يخدم العالم أجمع
x	2	يتفق الناس جميعا في ميولهم نحو الهوايات
x	3	عندما اخطط لتنظيم وقتي لا ابالي بحساب الزمن
√	4	تعد اندونيسيا أكبر دولة اسلامية من حيث عدد السكان
x	5	يقصد بالتركيب النوعي للسكان توزيعهم حسب الأعمار

درجتين

السؤال الثاني: عبر بأسلوبك ورأيك في الموضوع التالي؟

احمد طالب في الصف الثاني المتوسط قام بإعداد خطة للمذاكرة، كيف يستطيع معرفة ان تخطيطه غير صحيح وماهي الحلول المناسبة للتغلب على المشكلات التي قد تواجهه عند تطبيق ما خطط له:

يعرف ان التخطيط غير صحيح: عندما يشعر بالقلق وضيق الوقت وتراكم الاعمال

الحلول المناسبة هي : اختيار المكان والوقت المناسبين للمذاكرة و الابتعاد عن كل ما يؤثر على المذاكرة كالجوال والتلفاز وتحديد وقت للاستراحة .

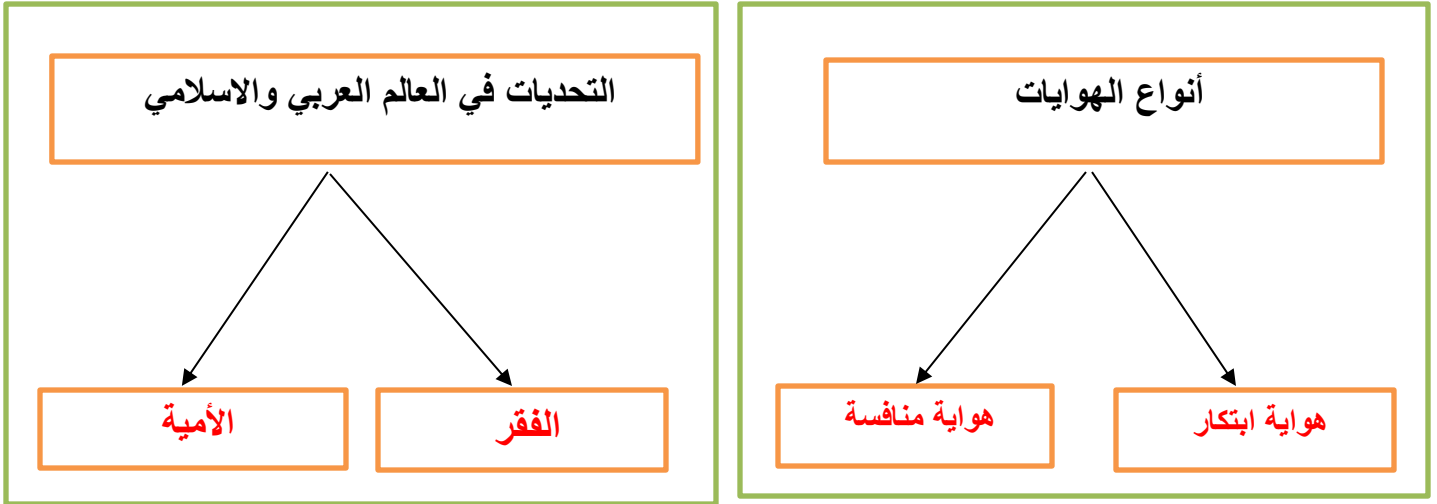
4 درجات

السؤال الثالث: اختر الاجابة الصحيحة في الجدول ادناه؟

1	العاصمة السابقة لنيجيريا :	2	ترتيب الاعمال وفق أهميتها والزمن لتنفيذها :
أ	ابوجا	أ	الأولويات
ب	لاجوس	ب	الهوايات
ج	كانو	ج	تقويم التخطيط
د	إبادان	د	ادارة الوقت
3	تعتبر اندونيسيا ثاني اكبر بلد في العالم في انتاج :	4	من اسباب انتشار الفقر في العالم العربي والاسلامي
أ	النفط	أ	قوة الانتاج
ب	الغاز الطبيعي	ب	البطالة والامية
ج	الذهب	ج	الاستقرار
د	القصدير	د	ازدهار التنمية

يتبع

## السؤال الرابع: أكل خرائط المفاهيم التالية؟



## السؤال الخامس: ضع الرقم الموجود امام المجموعة الاولى امام يناسبها من المجموعة الثانية؟

المجموعة الثانية	الرقم	المجموعة الأولى	الرقم
المملكة العربية السعودية	2	جبال طوروس	1
مصر	3	هضبة نجد	2
باكستان		نهر النيل	3
تركيا	1		

## السؤال السادس: عزيزي الطالب أمامك الخريطة الطبيعية لجمهورية ألبانيا الاسلامية تأمل هذه الخريطة



ثم أجب على الاسئلة ادناه؟

(أ) أين تقع البانيا من قارة أوروبا؟

جنوب شرق اوربا

(ب) ماذا يحد البانيا من جهة الشرق؟

مقدونيا واليونان

(ج) صف بإيجاز السطح في البانيا؟

مرتفعات جبلية في الشرق وسهول ساحلية في الغرب

(د) ماهي عاصمة البانيا؟

تيرانا

انتهت الاسئلة / محمد القرني

التوقيع	اسم المصحح :	الدرجة	 وزارة التعليم Ministry of Education	المملكة العربية السعودية وزارة التعليم الإدارة العامة للتعليم بمنطقة مكتب التعليم مدرسة
التوقيع	اسم المراجع :	..... 20	 رؤية 2030	

رقم الجلوس	الصف الثاني متوسط	العام الدراسي 1446 هـ	أسئلة اختبار منتصف الفصل الثالث ( الدور الأول )
عدد الصفحات : 2	الزمن : ساعة ونصف	المادة : اجتماعيات	اسم الطالب : .....

### السؤال الأول

استعن بالله ثم اجب على الاسئلة

20

ضع علامة ( √ ) أمام العبارة الصحيحة وعلامة ( X ) أمام العبارة الخاطئة

أ

( )	يصل عدد الجزر الإندونيسية إلى عشرة آلاف جزيرة .	1
( )	تساوي مساحة العالم العربي نحو 14 مليون كم 2 .	2
( )	تقع ألبانيا في جنوب شرق أوروبا	3
( )	تعتبر لاجوس العاصمة الحالية لنيجيريا وتقع في الوسط	4
( )	من العوامل البشرية المؤثرة في توزيع السكان الأنشطة الاقتصادية .	5

5

### السؤال الثاني

أربط بين العمود [ أ ] بما يناسبه في العمود [ ب ] بوضع الرقم المناسب في مربع الإجابة :

م	العمود [ أ ]	الإجابة	العمود [ ب ]
1	الدول الأعضاء في منظمة التعاون الإسلامي		الأمية
2	الدول ذات المستوى الاقتصادي المنخفض		البطالة
3	هم الأفراد الذين يعيشون بلا عمل		العالم الإسلامي
4	الدول التي تضمها جامعة الدول العربية		الدول الفقيرة
5	فقدان القدرة على القراءة والكتابة		الدول العربية

### السؤال الثالث

ضع دائرة على الحرف الذي يسبق الإجابة الصحيحة لكل مما يلي :

10

1- من آثار الأمية في العالم العربي والإسلامي:

أ	ارتفاع تنافسية الاقتصاد	ب	ركود التنمية	ج	انتشار الصحة
---	-------------------------	---	--------------	---	--------------

2-تزداد الكثافة السكانية في المناطق :

أ	الرعية	ب	الرملية	ج	الصناعية
3 - تمثل مساحة العالم العربي والإسلامي بالنسبة إلى مساحة العالم :					
أ	الثالث	ب	الربع	ج	الخمس
4- تطل نيجيريا من الجنوب على :					
أ	المحيط الهندي	ب	خليج غينيا	ج	خليج البنغال
5- تعد مركزا صناعيا وميناء بحريا لإندونيسيا					
أ	سورابايا	ب	دورسو	ج	لاجوس

### السؤال الرابع

5

اذكر اثنين فقط لكل مما يلي :

1- من العوامل التي ساعدت على انتشار الفقر في العالم العربي والإسلامي:

أ - ..... ب-.....

2- يتوزع أغلب سكان العالم العربي والإسلامي بين قارتي :

أ - ..... ب-.....

3- من الخصائص السكانية التي تميز العالم العربي والإسلامي :

أ - ..... ب-.....

المادة / الدراسات الاجتماعية

الصف / الثاني المتوسط

الزمن / 45 دقيقة

20



وزارة التعليم  
Ministry of Education

المملكة العربية السعودية

وزارة التعليم

إدارة تعليم

مكتب تعليم

متوسطة

اختبار منتصف الفصل الدراسي الثالث

لعام / 1446هـ

اسم الطالب / ..... الصف / .....

السؤال الأول / اختر الإجابة الصحيحة في الجمل التالية وذلك بوضع علامة ( ✓ ) في المربع الصحيح.

1	تبلغ مساحة العالم العربي والإسلامي نحو	2	من أهمية موقع العالم العربي والإسلامي
أ- <input type="checkbox"/>	34 مليون كم <sup>2</sup>	أ- <input type="checkbox"/>	وقوعه في قارات العالم القديم
ب- <input type="checkbox"/>	43 مليون كم <sup>2</sup>	ب- <input type="checkbox"/>	مهد الديانات السماوية الثلاث
ج- <input type="checkbox"/>	41 مليون كم <sup>2</sup>	ج- <input type="checkbox"/>	إطلالته على مسطحات مائية مهمة
د- <input type="checkbox"/>	14 مليون كم <sup>2</sup>	د- <input type="checkbox"/>	جميع ما سبق
3	يشغل العالم العربي والإسلامي نحو	4	يبلغ عدد الدول الإسلامية
أ- <input type="checkbox"/>	81 دائرة عرضية	أ- <input type="checkbox"/>	58
ب- <input type="checkbox"/>	82 دائرة عرضية	ب- <input type="checkbox"/>	22
ج- <input type="checkbox"/>	83 دائرة عرضية	ج- <input type="checkbox"/>	56
د- <input type="checkbox"/>	80 دائرة عرضية	د- <input type="checkbox"/>	57
5	أكبر دول العالم الإسلامي من حيث المساحة	6	أكبر دول العالم الإسلامي من حيث عدد السكان
أ- <input type="checkbox"/>	المملكة العربية السعودية	أ- <input type="checkbox"/>	إيران
ب- <input type="checkbox"/>	اندونيسيا	ب- <input type="checkbox"/>	إندونيسيا
ج- <input type="checkbox"/>	الجزائر	ج- <input type="checkbox"/>	مصر
د- <input type="checkbox"/>	كازاخستان	د- <input type="checkbox"/>	كازاخستان
7	تقع في جنوب شرق اسيا	8	تقع في وسط أفريقيا
أ- <input type="checkbox"/>	البانيا	أ- <input type="checkbox"/>	نيجريا
ب- <input type="checkbox"/>	اندونيسيا	ب- <input type="checkbox"/>	اندونيسيا
ج- <input type="checkbox"/>	نيجيريا	ج- <input type="checkbox"/>	البانيا
د- <input type="checkbox"/>	تركيا	د- <input type="checkbox"/>	المغرب
9	تقع في جنوب شرق اوروبا	10	من نتائج البطالة
أ- <input type="checkbox"/>	نيجيريا	أ- <input type="checkbox"/>	انتشار الجهل
ب- <input type="checkbox"/>	اندونيسيا	ب- <input type="checkbox"/>	الحروب
ج- <input type="checkbox"/>	اوكرانيا	ج- <input type="checkbox"/>	انتشار الفقر
د- <input type="checkbox"/>	البانيا	د- <input type="checkbox"/>	لا شيء مما سبق

السؤال الثاني/ ضع علامة ( ✓ ) أمام العبارة الصحيحة و علامة ( X ) أمام العبارة الخاطئة:

{ }	-1 تعادل مساحة العالم العربي والاسلامي سدس مساحة اليابسة
{ }	-2 من اشهر المحاصيل الزراعية في نيجيريا الفول السوداني
{ }	-3 تبلغ مساحة العالم العربي نحو 14 مليون كم <sup>2</sup>
{ }	-4 تشكل الجبال المظهر السائد في العالم العربي والإسلامي

السؤال الثالث : أصل بين العمود ( أ ) بما يناسبه من العمود ( ب ) بوضع الرقم المناسب أمامه فيما يلي :

( أ )		( ب )	
١	العالم العربي		هي فقدان القدرة على القراءة والكتابة
٢	العالم الإسلامي		هي الدولة ذات المستوى الاقتصادي المنخفض
٣	التركيب النوعي		هو توزيع السكان إلى ذكور وإناث
٤	التركيب العمري		الدول الأعضاء في جامعة الدول العربية
٥	الدولة الفقيرة		الدول الأعضاء في منظمة التعاون الإسلامي
6	الأمية		هو تقسيم السكان إلى فئات حسب أعمارهم

انتهت الأسئلة

إعداد : خالد الحربي

موقع  
مادنتيري

اسم الطالبة: .....	الدرجة: ٢٠
--------------------	---------------

السؤال الأول: (١٠ فقرات) (كل فقرة درجة)

أ- اختاري الإجابة الصحيحة فيما يلي: -

١-	يتحدث سكان الدول العربية باللغة:	أه العربية	ب- الإنجليزية	ج- الهوسا
٢-	تزداد الكثافة السكانية في المناطق:	أه ٣الرعوية	ب- الصناعية	ج- الرملية
٣-	تطل نيجيريا من الجنوب على:	أه المحيط الهندي	ب- خليج غينيا	ج- المحيط الهادي
٤-	تقع هضبة بلوخرستان في غرب دولة:	أه قرغيزستان	ب- باكستان	ج- افغانستان
٥-	تمثل مساحة العالم العربي والإسلامي بالنسبة لمساحة العالم:	أه الثلث	ب- الربع	ج- الخمس
٦-	من العوامل التي ساعدت على انتشار البطالة في العالم العربي والإسلامي:	أه تأخر سن الزواج	ب- قلة الصناعة	ج- الهجرة
٧-	الدول العربية هي الدول التي تضمها جامعة الدول لعربية وعددها:	أه ٢٠ دولة	ب- ٢١ دولة	ج- ٢٢ دولة
٨-	يتوزع اغلب سكان العالم العربي والاسلامي بين قارتي:	أه امريكا واسيا	ب- اسيا وافريقيا	ج- أوروبا وأمريكا

ب- اجيبي عما يلي:

أ- علي: من الصناعات في نيجيريا المنتجات الخشبية؟

..... -

ب- عرفني الأمية؟

..... -



السؤال الثاني: (١٠ فقرات) (كل فقرة درجة)

أ- اربط بين ما في المجموعة (أ) بما يناسبها في المجموعة (ب) مستعينة بالأرقام:

(ب)	(أ)
الموقع	الظاهرة
<input type="radio"/> على نهر النيل <input type="radio"/> في وسط اسيا <input type="radio"/> غرب شبه الجزيرة العربية	١- جبال الحجاز. ٢- السهول الفيضية

ب- ضعي كلمة {صح} أمام العبارة الصحيحة أو كلمة {خطأ} أمام العبارة الخاطئة فيما يلي:

١-	الترباط بين دول العالم العربي والاسلامي يخدم العالم أجمع.
٢-	تقع ألبانيا في جنوب شرق أوروبا.
٣-	يصل عدد الجزر الأندونيسية إلى عشرة آلاف جزيرة.
٤-	من العوامل البشرية المؤثرة في توزيع السكان الأنشطة الاقتصادية.
٥-	يمثل سكان العالم العربي والاسلامي نحو ٣٠٠ مليون نسمة.
٦-	يقصد بالتركيب النوعي للسكان توزيع السكان حسب الاعمار.

ت- انسي العواصم التالية إلى دولها:

أ- تيرانا: .....

ب- جاكرتا: .....

انتهت الأسئلة  
تمنيتي لكن بالتوفيق

الاختبار التحريري القصير لمادة الدراسات الاجتماعية للفصل الدراسي الثالث لعام 1446


الاسم	الصف	اليوم	التاريخ	الدرجة
	الثاني متوسط			

السؤال الأول: ضع علامة صح امام العبارة الصحيحة وعلامة خطأ امام العبارة الخاطئة فيما يلي:

الأسئلة	الإجابة
1	الترباط والتنسيق المشترك بين دول العالم العربي والإسلامي يخدم العالم اجمع
2	يتفق الناس جميعا في ميولهم نحو الهويات
3	عندما اخطط لتنظيم وقتي لا ابالي بحساب الزمن
4	تعد اندونيسيا اكبر الدول الإسلامية من حيث عدد السكان
5	يقصد بالتركيب النوعي للسكان توزيعهم حسب الاعمار

(ب): اختاري الإجابة الصحيحة في الجدول ادناه:

1	العاصمة السابقة لنيجيريا:	2	ترتيب الاعمال وفق أهميتها والزمن لتنفيذها :
أ	ابوجا	أ	الأولويات
ب	لاجوس	ب	الهويات
ج	كانو	ج	تقويم التخطيط
د	ابادان	د	إدارة الوقت
3	تعتبر اندونيسيا ثاني اكبر بلد في العالم في إنتاج	4	من أسباب انتشار الفقر في العالم العربي والإسلامي
أ	النفط	أ	قوة الإنتاج
ب	الغاز الطبيعي	ب	البطالة والامية
ج	الذهب	ج	الاستقرار
د	القصدير	د	ازدهار التنمية



السؤال الثاني (أ): أكمل خرائط المفاهيم التالية:

التحديات في العالم العربي والاسلامي

أنواع الهوايات



(ب): صلي العمود الأول بما يناسبه من العمود الثاني فيما يلي:

العمود الثاني	العمود الأول	
المملكة العربية السعودية	جبال طوروس	1
مصر	هضبة نجد	2
باكستان	نهر النيل	3
تركيا		

(ج): عزيزتي امامك الخريطة الطبيعية لجمهورية البانيا تأملي هذه الخريطة ثم اجيبي على ما يلي:

(أ) اين تقع البانيا من قارة أوروبا؟



-----  
(ب) ماذا يحد البانيا من جهة الشرق؟

-----  
(ج) ماذا يحد البانيا من جهة الغرب؟

-----  
(د) ماهي عاصمة البانيا؟

-----  
انتهى الاختبار أتمنى لك النجاح

اسم الطالب : .....

اختبار منتصف الفصل الثالث للصف ثاني متوسط لمادة الدراسات الاجتماعية

6

السؤال الأول:

ضع علامة (  $\sqrt$  ) أمام الإجابة الصحيحة وعلامة ( X ) أمام الإجابة الخاطئة:

- (1) تبلغ مساحه العالم العربية والإسلامي نحو 34 مليون كم<sup>2</sup> ( )
- (2) الصور الجوية المائلة تلتقط والعدسات في وضع مائل بحيث تغطي مساحة اكبر ( )
- (3) من فوائد نظام تحديد المواقع العالمي هو تحديد اتجاه القبلة ( )
- (4) ( )
- (5) لغة (الهوسا) تستخدم في قارة افريقيا ( )
- (6) لا يستطيع الشخص ان يقيس المسافات بين المدن بالجوال ( )

6

السؤال الثاني: اختاري الإجابة الصحيحة بوضع دائرة عليها:

1	أي من الخيارات التالية من عناصر الخريطة ؟			
أ	نقطية	ب	اطار الخريطة	ج لا شيء
2	الصورة الجوية تمثل			
أ	ماهو على سطح الارض	ب	حقيقة ماهو على سطح الأرض (صورة)	ج باطن الارض
3				
أ	تبوك	ب	افريقيا	ج اوروبا
4	تقع دولة البانيا في قارة			
أ	أوروبا	ب	افريقيا	ج اسيا
5	من ابرز المشكلات التي تواجه العالم العربي الإسلامي			
أ	الفقر	ب	البطالة	ج جميع ماسبق
6	من اهم اثار الامية في العالم العربي والإسلامي هو			
أ	ارتفاع الاقتصاد	ب	انتشار الصحة	ج ركود التنمية

السؤال الثالث: (1) استعين بالكلمات التالية وأكملي الفراغات بما يناسبها

البطالة	الخرائط النباتات	الخريطة
ايران	1,9 مليار نسمة	باب المنذب

- 1) هي وسيلة لتمثيل سطح الكرة الأرضية او جزء منه .....
- 2) تمثل توزيع الخرائط الغابات المطيرة .....
- 3) من العوامل التي ساعدت على انتشار البطالة في العالم العربي الإسلامي .....
- 4) يقع المضيق ..... في اليمن ويصل البحر الأحمر ببحر العرب
- 5) عدد سكان العالم العربي والإسلامي في 1442هـ .....
- 6) تستخدم اللغة الفارسية في دولة .....

2) عدد 2 من الظواهر الطبيعية على سطح الأرض

- 1- .....
- 2- .....

تمت الأسئلة