

تم تحميل وعرض المادة من



موقع مادتي هو موقع تعليمي يعمل على مساعدة المعلمين والطلاب وأولياء الأمور في تقديم حلول الكتب المدرسية والاختبارات وشرح الدروس والملاحظات والتحضير وتوزيع المنهج لكل المراحل الدراسية بشكل واضح وسهل مجاناً بتصفح وعرض مباشر أونلاين وتحميل على موقع مادتي

حمل تطبيق مادتي ليصلك كل جديد



اختبار الفترة لمادة الكيمياء الفصل الدراسي الثالث للعام الدراسي (1446هـ)

الصف : ثاني ثانوي مسارات
المادة : كيمياء 2-3



المملكة العربية السعودية
وزارة التعليم
مدارس القلم الأهلية

15

اسم الطالبة:

السؤال الأول :

اختاري الإجابة الصحيحة من بين الأقواس :

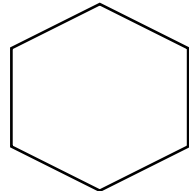
1- يطلق مصطلح المركب العضوي على المركبات التي تحتوي على		
أ- النيتروجين	ب- الكربون	ج- الأكسجين
2- أي مما يلي ليس من أنواع المتشكلات		
أ- المتشكلات الجزيئة	ب- المتشكلات الفراغية	ج- المتشكلات الهندسية
3- المركب الذي له الصيغة C_3H_8 هو		
أ-ميثان	ب-بيوتان	ج- بروبان
4- عملية فصل مكونات النفط إلى مكونات أبسط منها من خلال تكتفها عند درجات حرارة مختلفة		
أ-التقطير الجزيئي	ب-الترشيح	ج- التبلور
5- تسمى كل التفرعات الجانبية :		
أ-السلسلة المتماثلة	ب-السلسلة الرئيسية	ج-المجموعات البديلة

السؤال الثاني :

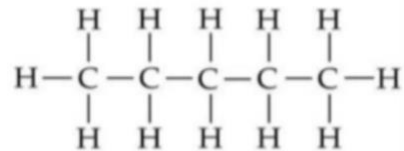
أ/ ماهي الصيغة الجزيئة والبنائية للبنزين ؟

.....
.....

ب/ ما اسم المركب التالي ؟ وما الصيغة الجزيئة له ؟



/2



/1

المملكة العربية السعودية
وزارة التعليم
مدارس القلم الأهلية

اختبار الفترة لمادة الكيمياء الفصل الدراسي الثالث للعام الدراسي (1446هـ)
الصف : ثاني ثانوي مسارات
المادة : كيمياء 2-3

اسم الطالبة:



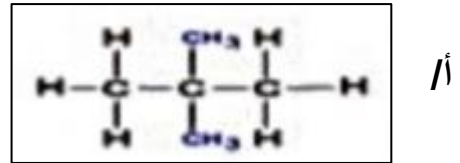
اسم المركب
الصيغة الجزيئية

اسم المركب
الصيغة الجزيئية

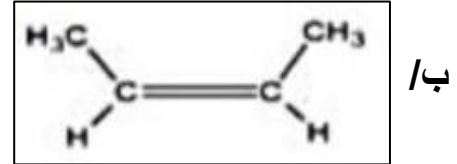
انتقلي للصفحة التالية

ج/ استخدم قواعد نظام الايوباك (IUPAC) لتسمية الصيغ البنائية للمركبات الآتية :

اسم المركب:



اسم المركب:



السؤال الثالث :

5

ضعي علامة (✓) أمام العبارة الصحيحة وعلامة (X) أمام العبارة الخاطئة لكل من العبارات التالية:

- 1- الصيغة العامة للألكانات C_2H_{2n} . ()
- 2- تختلف الهيدروكربونات الأروماتية عن الأليفاتية في أنها تحتوي على حلقة البنزين . ()
- 3- الالكانات أكثر نشاطا من الالكينات . ()
- 4- البيوتان والبيوتان الحلقي يمثلان زوجا من المتشكلات . ()
- 5- تكسير الجزيئات الكبيرة إلى جزيئات أصغر يسمى التكسير الحراري . ()

أرجوا لكن التوفيق والسداد

معلمة المادة : دعواتكم الصالحة جزيتم خيرا

اختبار الفترة لمادة الكيمياء الفصل الدراسي الثالث للعام الدراسي (1446هـ) (نموذج إجابة)

المملكة العربية السعودية
وزارة التعليم
مدارس القلم الأهلى

15

نموذج الإجابة

السؤال الأول :

اختاري الإجابة الصحيحة من بين الأقواس :

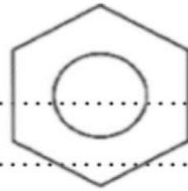
5

1- يطلق مصطلح المركب العضوي على المركبات التي تحتوي على		
أ- النيتروجين	ب- الكربون	ج- الأكسجين
2- أي مما يلي ليس من أنواع المتشكلات		
أ- المتشكلات الجزيئية	ب- المتشكلات الفراغية	ج- المتشكلات الهندسية
3- المركب الذي له الصيغة C_3H_8 هو		
أ-ميثان	ب-بيوتان	ج- بروبان
4- عملية فصل مكونات النفط إلى مكونات أبسط منها من خلال تكتفها عند درجات حرارة مختلفة		
أ- التقطير الجزيئي	ب- الترشيح	ج- التبلور
5- تسمى كل التفرعات الجانبية :		
أ-السلسلة المتماثلة	ب-السلسلة الرئيسية	ج-المجموعات البديلة

السؤال الثاني :

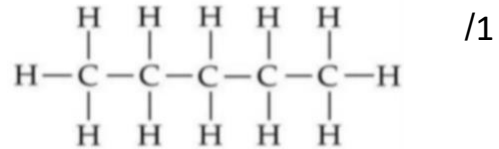
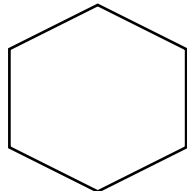
أ/ ماهي الصيغة الجزيئية والبنائية للبنزين ؟

..... C_6H_6



ب/ ما اسم المركب التالي ؟ وما الصيغة الجزيئية له ؟

/2



اسم المركب هكسان حلقي

اسم المركب بنتان

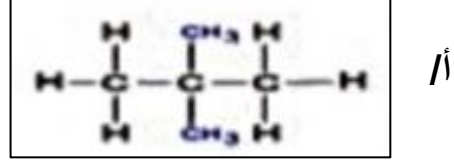
الصيغة الجزيئية C_6H_{12}

الصيغة الجزيئية C_5H_{12}

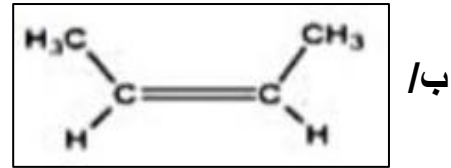
انتقلي للصفحة التالية

ج/ استخدمي قواعد نظام الايوباك (IUPAC) لتسمية الصيغ البنائية للمركبات الآتية :

اسم المركب: 2,2 ثنائي ميثيل بروبان



اسم المركب: سيس-2-بيوتين



السؤال الثالث :

5

- ضعي علامة (✓) أمام العبارة الصحيحة وعلامة (X) أمام العبارة الخاطئة لكل من العبارات التالية:
- 1- الصيغة العامة للألكانات C_2H_{2n} . (X)
 - 2- تختلف الهيدروكربونات الأروماتية عن الأليفاتية في أنها تحتوي على حلقة البنزين . (✓)
 - 3- الالكانات أكثر نشاطاً من الالكينات . (X)
 - 4- البيوتان والبيوتان الحلقي يمثلان زوجاً من المتشكلات . (X)
 - 5- تكسير الجزيئات الكبيرة إلى جزيئات أصغر يسمى التكسير الحراري . (✓)

أرجوا لكن التوفيق والسداد

معلمة المادة : دعواتكم الصالحة جزيتم خيرًا

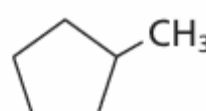

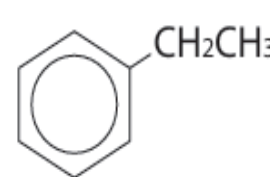
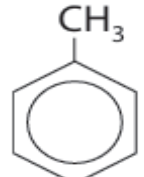

اختبار كيمياء

الصف : الصف الثاني الثانوي /

المادة : كيمياء

اسم الطالب :

السؤال الأول :- أختَر الإجابة الصحيحة لكل مما يلي :

1	الهيدروكربونات مركبات تحتوي على عنصري ؟	أ	الكربون والهيدروجين	ب	الكربون والاكسجين	ج	الاكسجين والهيدروجين	د	الكربون والنيون
2	ماعدد الروابط التي يكونها الكربون مع الذرات ؟	أ	رابطة واحدة	ب	رابطين	ج	3 روابط	د	4 روابط
3	مركبات تحتوي على روابط ثلاثية ؟	أ	الالكانات	ب	الالكينات	ج	الالكينات	د	الهكسين
4	الاسم العلمي للمركب العضوي التالي ؟								
5	الصيغة العامة للألكينات هي ؟	أ	ميثيل ديكان حلقي	ب	ميثيل هكسان حلقي	ج	ايثيل بروبان حلقي	د	ميثيل بنتان حلقي
6	الاسم العلمي للمركب العضوي التالي ؟	أ	C_nH_{2n}	ب	C_nH_{2n+2}	ج	C_nH_{2n-2}	د	C_nH_{+2}
7	أي من الطرق التالية تمثل الصيغة البنائية للميثان ؟	أ	نونان	ب	هبتان	ج	هكسان	د	ديكان
8	تحتوي مركبات الألكينات على روابط ؟	أ	ميثيل ديكان حلقي	ب	ميثيل هكسان حلقي	ج	ايثيل بروبان حلقي	د	ميثيل بنتان حلقي
9	الصيغة العامة للبنزين هي ؟	أ	ثنائية	ب	أحادية	ج	ثلاثية	د	رباعية
10	ما أسم المركب التالي ؟	أ		ب		ج		د	
		$C - C - C = C - C = C - C$							
أ	4،1 هكسدايين	ب	4،2 هبتادايين	ج	5،3 نونادايين	د	1،1 ديكادايين		

اختبار كيمياء

الصف : الصف الثاني الثانوي /

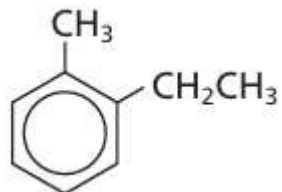
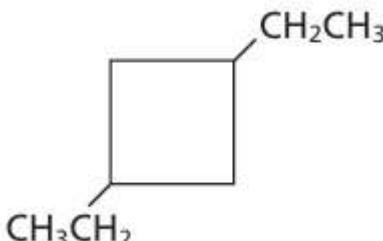
المادة : كيمياء

اسم الطالب :

السؤال الثاني :- أجب عن الأسئلة التالية :-

أرسم أشكال كل من سيس 3 - هكسين وترانس 3 - هكسين
سيس 3 - هكسين
ترانس 3 - هكسين

سم المركبات التالية :

الرقم	صيغة المركب	التسمية
1		
2	$\text{CH}_3\text{CH}=\text{CHCH}(\text{CH}_3)\text{CH}_3$	
3		

مع تمنياتي للجميع بالتوفيق

نموذج الإجابة

ادارة تعليم

ثانوية قرطبة

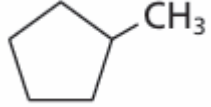


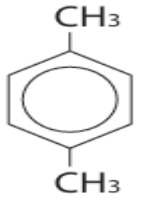
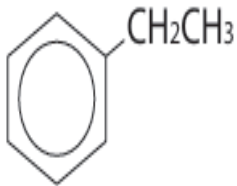
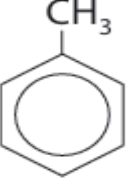

اختبار كيمياء

الصف : الصف الثاني الثانوي /

المادة : كيمياء

اسم الطالب :

السؤال الأول :- أختَر الإجابة الصحيحة لكل مما يلي :

1 - الهيدروكربونات مركبات تحتوي على عنصري ؟			
أ- الكربون والهيدروجين	ب- الكربون والاكسجين	ج- الاكسجين والهيدروجين	د- الكربون والنيون
2 ماعدد الروابط التي يكونها الكربون مع الذرات			
أ- 1 رابطة واحدة	ب- 2 رابطتين	ج- 3 روابط	د- 4 روابط
3 - مركبات تحتوي على روابط ثلاثية ؟			
أ- الالكانات	ب- الالكينات	ج- الالكينات	د- الهكسين
4 - الأسم العلمي للمركب العضوي التالي ؟			
			
أ- ميثيل ديكان حلقي	ب- ميثيل هكسان حلقي	ج- ايثيل بروبان حلقي	د- ميثيل بنتان حلقي
5 - الصيغة العامة للألكينات هي ؟			
أ- C_nH_{2n}	ب- C_nH_{2n+2}	ج- C_nH_{2n-2}	د- C_nH_{+2}
6- الاسم العلمي للمركب العضوي التالي ؟			
$CH_3CH_2CH_2CH_2CH_2CH_3$			
أ- هكسان	ب- هبتان	ج- نونان	د- ديكان
7 - أي من الطرق التالية تمثل الصيغة البنائية للميثان ؟			
أ- 	ب- $\begin{array}{c} H \\ \\ H-C-H \\ \\ H \end{array}$	ج- CH_4	د- 
8 - تحتوي مركبات الألكينات على روابط ؟			
أ- ثنائية	ب- أحادية	ج- ثلاثية	د- رباعية
9 - الصيغة العامة للبنزين هي ؟			
أ- 	ب- 	ج- 	د- 
10 ما أسم المركب التالي ؟			
أ- 4،1 هكساديين	ب 2،4 هبتاديين	ج 3،5 نوناديين	د 1،1 ديكاديين

أقلب الصفحة

اختبار كيمياء

الصف : الصف الثاني الثانوي /

المادة : كيمياء

اسم الطالب :

السؤال الثاني :- أجب عن الأسئلة التالية :-

ترانس 3 هكسين	سيس 3 هكسين

سم المركبات التالية :

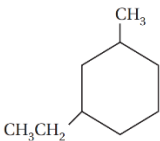
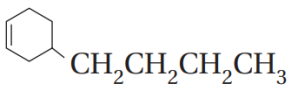
التسمية	صيغة المركب	الرقم
2- إيثيل - 1 ميثيل بنزين		1
4 - ميثيل 2 - بنتين حلقي	$\text{CH}_3\text{CH} = \text{CHCH}(\text{CH}_3)\text{CH}_3$	2
3،1 - ثنائي إيثيل بيوتان حلقي		3


مع تمنياتي للجميع بالتوفيق

اختبار مادة الكيمياء (الفصل الأول - الهيدروكربونات) - الصف الثاني ثانوي - المسار العام (نموذج ١)

اسم الطالبة	الصف	الدرجة من 15
.....		

السؤال الأول : اختاري الإجابة الصحيحة فيما يلي :

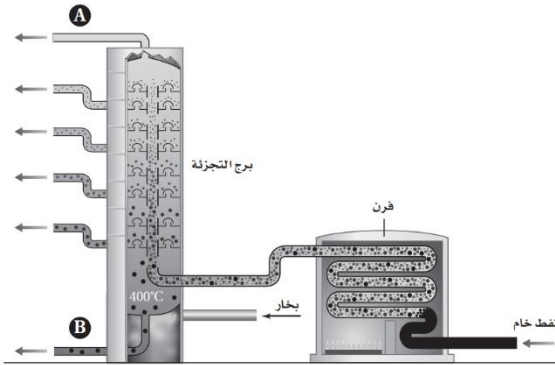
1	قسم من الكيمياء يهتم بدراسة الكربون ومركباته :	أ - الكيمياء التحليلية	ب - الكيمياء العضوية	ج - الكيمياء الحيوية	د - الكيمياء الفيزيائية
2	ماعدد الروابط التي يكوها الكربون مع غيره من الذرات ؟	أ - 4	ب - 3	ج - 2	د - 5
3	الصيغة العامة للألكانات	أ - C_nH_{2n}	ب - C_nH_{2n+2}	ج - C_nH_{2n-2}	د - C_nH_{2n-1}
4	أي المركبات التالية غير مشبع ؟	أ - CH_4	ب - C_2H_2	ج - C_2H_6	د - C_4H_{10}
5	هي العملية التي تحول فيها المكونات الثقيلة إلى جازولين عند طريق تكسير الجزيئات الكبيرة إلى جزيئات أصغر عند غياب الأكسجين ووجود عامل مساعد:	أ - التكسير الحراري	ب - التقطير التجزيئي	ج - البلمرة	د - التبخير السطحي
6	الروابط بين ذرات الكربون في الألكينات :	أ - أحادية	ب - ثنائية	ج - ثلاثية	د - أيونية
7	سمي المركب التالي :	$\begin{array}{c} CH_2CH_3 \\ \\ CH_3CH_2CH_2CH_2CHCH_3 \end{array}$			
أ - 5 - إيثيل هكسان	ب - 2 - إيثيل هكسان	ج - 3 - ميثيل هبتان	د - 5 - ميثيل هبتان		
8	سمي المركب التالي :				
أ - 1 - إيثيل - 3 - ميثيل هكسان حلقي	ب - 3, 1 - ثنائي إيثيل هكسان حلقي	ج - 3, 1 - ثنائي ميثيل هكسان حلقي	د - 3, 1 - إيثيل ميثيل هكسان حلقي		
9	الصيغة البنائية الصحيحة لمركب : 3 - ميثيل هكسان	أ - $CH_3CH_2CH_2CH_2CH_2CH_3$	ب - $CH_3CH_2CH_2CH_2CH(CH_3)CH_3$	ج - $CH_3CH_2CH(CH_3)CH_2CH_2CH_3$	د - $CH_3(CH_2)_8CH_3$
10	الإسم الصحيح للمركب التالي :	$CH_3CH_2CH=CHCH_2CH_2CH=CH_2$			
أ - 1، 5 - أوكتادين	ب - 3، 7 - أوكتادين	ج - 1، 5 - ثنائي أوكتين	د - 3، 7 - أثنائي أوكتين		
11	سمي المركب التالي :				
أ - 1 - بيوتيل - 3 - هكسين حلقي	ب - 3 - بيوتيل - 1 - هكسين حلقي	ج - 1 - هكسيل بيوتان	د - 4 - هكسيل بيوتان		
12	حددي نوع المتشكلات التالية :				
أ - متشكلات بنائية	ب - متشكلات ضوئية	ج - متشكلات فراغية	د - متشكلات هندسية		
13	ما الصيغة الجزيئية للبنزين ؟	أ - C_6H_6	ب - C_6H_{12}	ج - C_6H_{14}	د - $C_{12}H_{12}$

14	أي المركبات الأروماتية التالية مسبب للسرطان؟		
أ - التولوين	ب - الجلايسين	ج - البنزوبايرين	د - الزايلين
15	سمي المركب التالي : $\text{CH}_2\text{CH}_2\text{CH}_3$ 		
أ - بنزين	ب - بروبييل بنزين	ج - بروبييل هكسان حلقي	د - ايثيل بنزين
16	الألكاينات لا تذوب في الماء لأنها :		
أ - قطبية	ب - غير قطبية	ج - أيونية	د - تساهمية

السؤال الثاني : ضعي (√) أو (x) أمام العبارة المناسبة :

م	العبارة	الإجابة
1	يذوب البروبان جيداً في الماء	
2	تُعد الألكانات هيدروكربونات مشبعة لإحتوائها على روابط أحادية	
3	تحتوي الهيدروكربونات على الكربون والهيدروجين فقط	
4	يُعتبر البنزين من المركبات الأليفاتية	

السؤال الثالث : استخدمي الشكل التالي للإجابة عن الأسئلة التالية :



- أ - ما الحالة الفيزيائية للمادة التي تُجمع عند الأنبوب A :
- ب - فيم تُستخدم المادة التي تُجمع عند الأنبوب A :
- ج - في أي الأنبوبين A أو B تُجمع الهيدروكربونات ذات درجات الغليان المرتفعة ؟
- د - في أي الأنبوبين A أو B تُجمع الهيدروكربونات الصغيرة ؟

السؤال الرابع : قارني بين المركبين التاليين من حيث :

$\text{CH}_2 = \text{CH}_2$	$\text{CH}_3\text{CH}_2\text{CH}_2\text{CH}_3$	بنود المقارنة
		1 - مشبع أو غير مشبع
		2 - الإسم العلمي
		3 - النشاط الكيميائي
		4 - استخدامه

انتهت الأسئلة تمنياتي لكم بالتوفيق

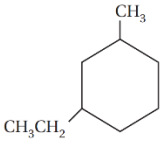
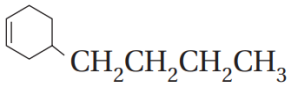

اختبار مادة الكيمياء (الفصل الأول - الهيدروكربونات) - الصف الثاني ثانوي - المسار العام (نموذج ١)


الدرجة

نموذج الإجابة

اسم الطالبة

السؤال الأول : اختاري الإجابة الصحيحة فيما يلي :

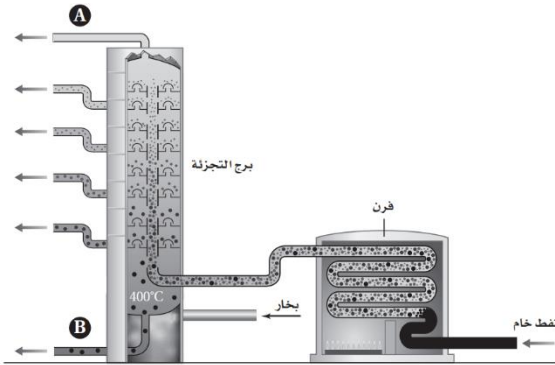
1	قسم من الكيمياء يهتم بدراسة الكربون ومركباته :	أ - الكيمياء التحليلية	ب - الكيمياء العضوية	ج - الكيمياء الحيوية	د - الكيمياء الفيزيائية
2	ماعدد الروابط التي يكوّنها الكربون مع غيره من الذرات ؟	أ - 4	ب - 3	ج - 2	د - 5
3	الصيغة العامة للألكانات	أ - C_nH_{2n}	ب - C_nH_{2n+2}	ج - C_nH_{2n-2}	د - C_nH_{2n-1}
4	أي المركبات التالية غير مشبع ؟	أ - CH_4	ب - C_2H_2	ج - C_2H_6	د - C_4H_{10}
5	هي العملية التي تحول فيها المكونات الثقيلة إلى جازولين عند طريق تكسير الجزيئات الكبيرة إلى جزيئات أصغر عند غياب الأكسجين ووجود عامل مساعد:	أ - التكسير الحراري	ب - التقطير التجزيئي	ج - البلمرة	د - التبخير السطحي
6	الروابط بين ذرات الكربون في الألكينات :	أ - أحادية	ب - ثنائية	ج - ثلاثية	د - أيونية
7	سمي المركب التالي :	$\begin{array}{c} CH_2CH_3 \\ \\ CH_3CH_2CH_2CH_2CHCH_3 \end{array}$			
أ - 5 - إيثيل هكسان	ب - 2 - إيثيل هكسان	ج - 3 - ميثيل هبتان	د - 5 - ميثيل هبتان		
8	سمي المركب التالي :				
أ - 1 - إيثيل - 3 - ميثيل هكسان حلقي	ب - 3, 1 - ثنائي إيثيل هكسان حلقي	ج - 3, 1 - ثنائي ميثيل هكسان حلقي	د - 3, 1 - إيثيل ميثيل هكسان حلقي		
9	الصيغة البنائية الصحيحة لمركب : 3 - ميثيل هكسان	أ - $CH_3CH_2CH_2CH_2CH_2CH_3$	ب - $CH_3CH_2CH_2CH_2CHCH_3$	ج - $CH_3CH_2CHCH_2CH_2CH_3$	د - $CH_3(CH_2)_8CH_3$
10	الإسم الصحيح للمركب التالي :	$CH_3CH_2CH=CHCH_2CH_2CH=CH_2$			
أ - 1، 5 - أوكتادين	ب - 3، 7 - أوكتادين	ج - 1، 5 - ثنائي أوكتين	د - 3، 7 - أثنائي أوكتين		
11	سمي المركب التالي :				
أ - 1 - بيوتيل - 3 - هكسين حلقي	ب - 3 - بيوتيل - 1 - هكسين حلقي	ج - 1 - هكسيل بيوتان	د - 4 - هكسيل بيوتان		
12	حددي نوع المتشكلات التالية :				
أ - متشكلات بنائية	ب - متشكلات ضوئية	ج - متشكلات فراغية	د - متشكلات هندسية		
13	ما الصيغة الجزيئية للبنزين ؟	أ - C_6H_6	ب - C_6H_{12}	ج - C_6H_{14}	د - $C_{12}H_{12}$

14	أي المركبات الأروماتية التالية مسبب للسرطان ؟		
أ - التولوين	ب - الجلايسين	ج - البنزوبايرين	د - الزايلين
15	سمي المركب التالي : $\text{CH}_2\text{CH}_2\text{CH}_3$ 		
أ - بنزين	ب - بروبييل بنزين	ج - بروبييل هكسان حلقي	د - ايثيل بنزين
16	الألكاينات لا تذوب في الماء لأنها :		
أ - قطبية	ب - غير قطبية	ج - أيونية	د - تساهمية

السؤال الثاني : ضعي (✓) أو (×) أمام العبارة المناسبة :

م	العبارة	الإجابة
1	يذوب البروبان جيداً في الماء	×
2	تُعد الألكانات هيدروكربونات مشبعة لإحتوائها على روابط أحادية	✓
3	تحتوي الهيدروكربونات على الكربون والهيدروجين فقط	✓
4	يُعتبر البنزين من المركبات الأليفاتية	×

السؤال الثالث : استخدم الشكل التالي للإجابة عن الأسئلة التالية :



- أ - ما الحالة الفيزيائية للمادة التي تُجمع عند الأنبوب A :**غاز**.....
 ب - فيم تُستخدم المادة التي تُجمع عند الأنبوب A :**وقود**.....
 ج - في أي الأنبوبين A أو B تُجمع الهيدروكربونات ذات درجات الغليان المرتفعة ؟
B.....
 د - في أي الأنبوبين A أو B تُجمع الهيدروكربونات الصغيرة ؟**A**.....

السؤال الرابع : قارني بين المركبين التاليين من حيث :

$\text{CH}_2 = \text{CH}_2$	$\text{CH}_3\text{CH}_2\text{CH}_2\text{CH}_3$	بنود المقارنة
غير مشبع	مشبع	1 - مشبع أو غير مشبع
ايثين	بيوتان	2 - الإسم العلمي
نشط كيميائياً	ضعيف النشاط الكيميائي	3 - النشاط الكيميائي
هرمون النضج أو النمو في النبات	يستخدم في القداحات والمشاعل الصغيرة	4 - استخدامه

انتهت الأسئلة تمنياتي لكم بالتوفيق

اختبار مادة الكيمياء (الفصل الثاني - مشتقات المركبات الهيدروكربونية وتفاعلاتها) - الصف الثاني ثانوي - المسار العام (نموذج ٢)

اسم الطالبة	الصف	الدرجة
.....		

السؤال الأول : اختاري الإجابة الصحيحة فيما يلي :

1	المجموعة الوظيفية في هاليدات الأريل هي :	أ - هالوجين	ب - كربونيل	ج - أمين	د - أميد
2	الصيغة العامة للإستر	أ - $R-C(=O)-R'$	ب - $R-C(=O)-OH$	ج - $R-C(=O)-O-R'$	د - $R-C(=O)-N(H)R$
3	الإسم الصحيح للمركب التالي :	$\begin{array}{cccc} H & F & F & H \\ & & & \\ H-C & -C & -C & -C-H \\ & & & \\ H & H & H & H \end{array}$			
4	الإسم الصحيح للمركب التالي : $CH_3(CH_2)_3CH_2NH_2$	أ - 1, 2 - ثنائي فلورو بيوتان	ب - 2 - فلورو بيوتان	ج - 3 - فلورو بيوتان	د - 2, 3 - ثنائي فلورو بيوتان
5	يسمى المركب التالي حمض	$CH_3-(CH_2)_4-C(=O)-OH$			
6	نوع المركب الناتج من إضافة الماء إلى الألكين	أ - الهكسانويك	ب - البيوتانويك	ج - الإيثانويك	د - الميثانويك
7	يستخدم لحفظ العينات البيولوجية :	أ - ألكان	ب - هاليد ألكيل	ج - كحول	د - حمض كربوكسيلي
8	ما المجموعة الوظيفية الظاهرة في الشكل التالي :	$CH_3CH_2CH_2-C(=O)-H$			
9	ما نوع المركب الذي يمثله الجزئ التالي :	أ - أميد	ب - كربوكسيل	ج - كربونيل	د - إستر
10	ما نوع التفاعل التالي :	$\begin{array}{c} H & O & & H & O & & H & O & & CH_3 \\ & & & & & & & & & \\ H-C & -C & -OH & + & H_3C-C & -C & -OH & \rightarrow & H-C & -C & -N & -C & -C & -OH & + & H_2O \\ & & & & & & & & & & & & & & & \\ NH_2 & & & & NH_2 & & NH_2 & & H & & H & & O & & & \end{array}$			
11	لا توجد روابط هيدروجينية بين جزيئاتها	أ - الماء	ب - الإيثانول	ج - الأسيتون	د - الإيثانويك
12	مركب عضوي له رائحة الفواكه والأزهار	أ - الكحول	ب - الحمض الكربوكسيلي	ج - الإيثر	د - الإستر
13	أي التالي ليس من خواص البوليمرات :	أ - غير مكلفة	ب - سهولة تحضيرها	ج - قابلة للصدأ	د - تُسحب في صورة ألياف

14	من نواتج تفاعل التكثف بين الكحول و الأحماض الكربوكسيلية		
أ - ايثر	ب - هاليد آريل	ج - هاليد ألكيل	د - استر
15	عللي : درجة غليان الإيثانول أعلى من درجة غليان الأمينوإيثان بالرغم من كتلتيهما متساوية تقريباً		
أ - لأن الرابطة O-H في الإيثانول أقل قطبية من الرابطة N-H في الأمينوإيثان	ب - لأن الرابطة O-H في الإيثانول أكثر قطبية من الرابطة N-H في الأمينوإيثان		
ج - لأن الرابطة O-H في الإيثانول متساوية القطبية مع الرابطة N-H في الأمينوإيثان	د - لأن الرابطة O-H في الإيثانول غير قطبية بينما الرابطة N-H في الأمينوإيثان قطبية		
16	تفاعلات ترتبط فيها المونمرات معاً :		
أ - الهدرجة	ب - الهلجنة	ج - البلمرة	د - الإستبدال

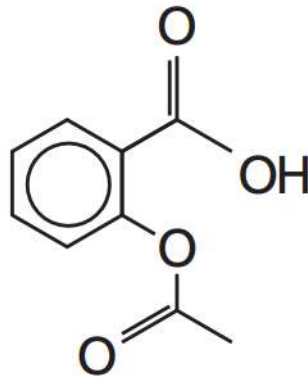
السؤال الثاني : ضعي (√) أو (x) أمام العبارة المناسبة :

م	العبارة	الإجابة
1	يُحضر البنزين بحذف جزئ ماء من البنتانول	
2	البلاكالايت أول بوليمر صناعي وهو نوع من البلاستيك	
3	أكسدة الكحول الثانوي تنتج ألدهيد	
4	الكربونيل هي المجموعة الوظيفية المشتركة بين الألهيدات والكيونونات	

السؤال الثالث : قارني بين المركبين التاليين من حيث :

بنود المقارنة		
	$\begin{array}{cccc} \text{H} & \text{H} & & \text{H} & \text{H} \\ & & & & \\ \text{H}-\text{C}-\text{C}-\text{O}-\text{C}-\text{C}-\text{H} \\ & & & & \\ \text{H} & \text{H} & & \text{H} & \text{H} \end{array}$	$\begin{array}{ccc} \text{H} & \text{H} & \\ & & \\ \text{H}-\text{C}-\text{C}-\text{OH} \\ & & \\ \text{H} & \text{H} & \end{array}$
1 - نوع المركب		
2 - اسم المجموعة الوظيفية في المركب		
3 - الاسم العلمي للمركب		
4 - تكون روابط هيدروجينية (نعم أم لا)		
5 - استخدامه		

السؤال الرابع : ضعي دائرة حول المجموعات الوظيفية في الصيغة البنائية التالية ، مع ذكر اسم كل منها



انتهت الأسئلة تمنياتي لكم بالتوفيق

اختبار مادة الكيمياء (الفصل الثالث - المركبات العضوية الحيوية) - الصف الثاني ثانوي - المسار العام (نموذج 1)

الدرجة	الصف	اسم الطالبة
	

السؤال الأول : اختاري الإجابة الصحيحة فيما يلي :

1	يستعمل العلجوم البحري سماً سترويدياً كآلية دفاع عن النفس :	أ - الديوكسين	ب - الليبيز الفسفوري	ج - البوفوتوكسين	د - الكيراتين
2	رابطة تنتج من تفاعل ثلاث من حمض البالمتيك مع الجليسرول هي رابطة :	أ - هيدروجينية	ب - إيثرية	ج - إسترية	د - أيونية
3	الكولاجين بروتين يوجد في الجلد و الأربطة و العظام يعمل على :	أ - الدعم البنائي	ب - النقل	ج - الإتصال	د - الإنزيم
4	وحدة البناء الأساسية للحمض النووي هي :	أ - الجليسيريد الثلاثي	ب - النيوكلويد	ج - القواعد النيتروجينية	د - الفوسفات
5	يعد التركيب التالي :				
أ - ليبيد فسفوري	ب - كوليسترول	ج - شمع	د - بيتيد		
6	يُعرف اللاكتوز بسكر	أ - الدم	ب - الحليب	ج - المائدة	د - الشعير
7	سكر يتكون من ست ذرات كربون ويحتوي مجموعة كيتون :	أ - سليولوز	ب - فركتوز	ج - نشا	د - جلايوجين
8	الجلايوجين مركب عضوي حيوي يوجد في	أ - البروتينات	ب - الكربوهيدرات	ج - الليبيدات	د - الأحماض النووية
9	التالي هو بروتين نقل :	أ - البابين	ب - الكولاجين	ج - الهيموجلوبين	د - الأنسولين
10	السكروز سكر ثنائي يتكون من :	أ - جلوكوز وفركتوز	ب - جالاكتوز وفركتوز	ج - جلوكوز ولاكتوز	د - جلوكوز ومالتوز
11	المجموعات الوظيفية الموجودة في سكر الجلوكوز هي :	أ - الدهيد و هيدروكسيل	ب - كيتون و هيدروكسيل	ج - أمين و هيدروكسيل	د - أميد و هيدروكسيل
12	عدد الأحماض الأمينية التي تستطيع تكوين بروتين :	أ - 10	ب - 20	ج - 40	د - 50
13	بوليمر لا يذوب في الماء ويكوّن الجدران القاسية للخلية النباتية :	أ - نشا	ب - سليولوز	ج - فركتوز	د - مالتوز
14	الأحماض الدهنية في الخلايا الدهنية في الجسم تخزن على شكل	أ - بروتين	ب - جليسيريد ثلاثي	ج - فيتامين	د - كربوهيدرات
15	يوجد في الأغشية البلازمية ويتكون من رأس وذيلين	أ - جليسيريد ثلاثي	ب - ليبيد فسفوري	ج - شمع	د - سترويد
16	مبلمر حيوي يحتوي النيتروجين ويقوم بتخزين المعلومات الوراثية :	أ - نشا	ب - حمض نووي	ج - ليبيد	د - هيدروكربون
17	نوع الروابط الموجودة بين القواعد النيتروجينية في شريط DNA :	أ - هيدروجينية	ب - تناسقية	ج - تساهمية	د - أيونية
18	المجموعة الوظيفية في الحمض الأميني :	أ - هيدروكسيل	ب - كربوكسيل	ج - أمين وكربوكسيل	د - أميد وكربوكسيل
19	تُعد الأحماض الأمينية الوحدات البنائية في :	أ - الكربوهيدرات	ب - الأحماض النووية	ج - الليبيدات	د - البروتينات
20	الحمض الأميني هو :	أ - سيرين	ب - سستين	ج - جلوتامين	د - جلايسين

21	أي مما يلي لا ينطبق على الكربوهيدرات ؟
أ - توجد السكريات الأحادية باستمرار بين التركيب الحلقي وتركيب السلسلة المفتوحة	ب - ترتبط السكريات الأحادية في النشا بنفس نوع الروابط التي ترتبط بها في اللاكتوز
ج - لجميع الكربوهيدرات الصيغة العامة $C_n(H_2O)_n$	د - تقوم النباتات فقط في صنع السليلوز ، ويهضمه الإنسان بسهولة
22	حمض دهني له الصيغة : $CCH_2CH_2CH_2CH_2CH_2CH_2CH_2CH=CHCH_2CH_2CH_2CH_2CH_2CH_2CH_2CH_3$
أ - الأوليك	ب - الستريك
ج - البالميتيك	د - الخليك

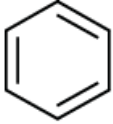
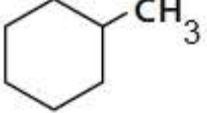
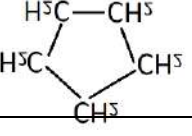
السؤال الثاني : ضعي (✓) أو (x) أمام العبارة المناسبة :

م	العبارة	الإجابة
1	ينتج حمض الستريك المشبع من هدرجة حمض الأوليك غير المشبع	
2	التركيب الحلقي في السكريات هي الأكثر استقراراً من السلاسل المفتوحة	
3	النشا سكر عديد يتكون من وحدات الفركتوز	
4	يصنف الكيراتين على أنه بروتين نقل	
5	الجلابكوجين يوجد في كبد الإنسان وعضلاته	
6	الأنسولين هرمون بروتيني يحوي 51 حمض أميني تنتجه خلايا البنكرياس	
7	الحمض النووي ينتج من ارتباط 3 أحماض دهنية بروابط استر	
8	توجد القاعدة النيتروجينية اليوارسيل في شريط RNA	
9	الديوكسي رايبونوكليك حمض يوجد في شريط DNA	
10	الليبيز الفسفوري أنزيم يوجد في سم الأفاعي	

السؤال الثالث : اختاري الإجابة المركب العضوي الحيوي المناسب في القائمة (أ) بما يناسبها من رابطة كيميائية في القائمة (ب) :

م	الإجابة	القائمة (أ)	م	القائمة (ب)
1		ليبيدات	(أ)	تساهمية
2		كربوهيدرات	(ب)	ببتيدية
3		بروتينات	(ج)	اثرية
4		القواعد النيتروجينية	(د)	استرية
5		السكر والفوسفات في النيوكلوديد	(هـ)	هيدروجينية
6			(و)	كربوكسيلية

انتهت الأسئلة تمنياتي لكم بالتوفيق

السؤال الأول : ضعي دائرة على الاجابة الصحيحة :			
الهيدروكربون المشبع روابطه :		$CH_3 - CH_2 - CH_2 - CH_2 - CH_3$	
ثلاثية فقط	أحادية فقط	1 - ميثيل - 2 - بنتان	بنتان
ثنائية وثلثية	ثنائية فقط	2 - بنتين	بنتان حلقي
الصيغة الجزيئية ل البيوتين :			
$C_4 H_8$	$C_4 H_{10}$	بنزين	هكسان
$C_4 H_6$	$C_4 H_9$	بنتان حلقي	هكسان حلقي
الصيغة العامة للألكينات :		$CH_3CH=CH_2$	
$C_n H_{2n-2}$	$C_n H_{2n+2}$	بيوتين	بيوتان
$C_n H_{2n-1}$	$C_n H_{2n}$	بروبان	بروبين
مركبات عضوية تحتوي على حلقات بنزين كجزء من بنائها :		$CH_3 - \overset{\overset{CH_3}{ }}{CH} - CH_2 - \overset{\overset{CH_3}{ }}{CH} - CH_3$	
مركبات حيوية	مركبات اليقاتية	2, 4 - ثنائي ميثيل بنتين	2, 4 - ثنائي ميثيل بنتين
مركبات صناعية	مركبات أروماتية	2 - ميثيل - 4 - ميثيل بنتان	2, 4 - ثنائي ميثيل بنتان
تمثيل المركب في الشكل التالي على أنه :			
		1 - إيثيل بنزين	1 - ميثيل بنزين
تفصيلي	هيكلي	1 - ميثيل هكسان حلقي	1 - إيثيل هكسان حلقي
مكثف	خطي		
الألكان الذي يحوي سبع ذرات كربون :		$CH \equiv C - CH_3$	
نونان	هبتان	هكسين	بروبان
هكسان	هبتين	بروبين	بيوتين
المركب الذي يحوي كربون ماعدا الاكاسيد والكربيدات		هيدروكربون يحتوي رابطة ثلاثية	
مركب عضوي	مركب غير عضوي	الكاين	الكان
مركب غير مشبع	مركب مشبع	الكيل	الكين
الألكان الذي n = 2		هيدروكربون يحوي ذرة كربون واحدة	
$C_2 H_4$	$C_2 H_2$	بيوتان	بروبان
$C_2 H_5$	$C_2 H_6$	بنتان	ميثان

السؤال الثاني : ارسمي الصيغة البنائية للمركبات التالية :	
2-1- ثنائي ميثيل بروبان حلقي	2- إيثيل بيوتان

السؤال الثالث - أكتبي المطلوب في كل فقرة مما يلي :	
	1- اسم الالكان الذي يحوي ثمان ذرات كربون
	2- الصيغة البنائية للألكين الذي $n = 4$
	3- الصيغة الجزيئية للألكاين الذي $n = 5$
	4- اثنان من أنواع المتشكلات

موقع مادتي