

تم تحميل وعرض المادة من



موقع مادتي هو موقع تعليمي يعمل على مساعدة المعلمين والطلاب وأولياء الأمور في تقديم حلول الكتب المدرسية والاختبارات وشرح الدروس والملاحظات والتحاير وتوزيع المنهج لكل المراحل الدراسية بشكل واضح وسهل مجاناً بتصفح وعرض مباشر أونلاين وتحميل على موقع مادتي

حمل تطبيق مادتي ليصلك كل جديد



٨

الصف :

الاسم :

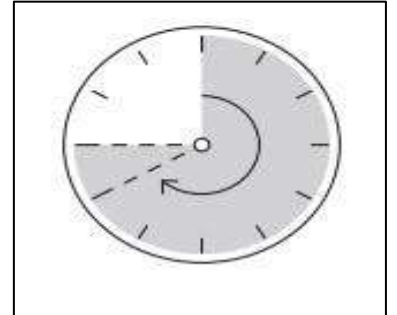
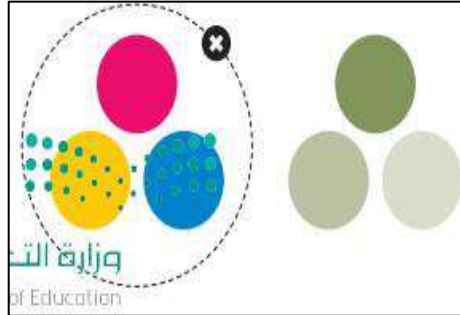
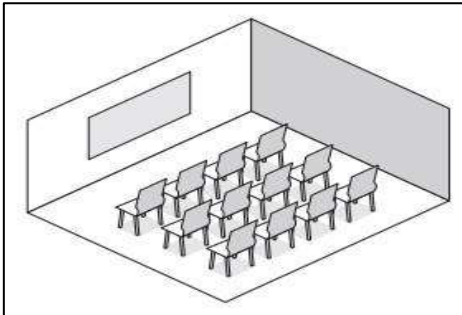
نصف درجة لكل فقرة

السؤال الأول : ضع علامة \checkmark أو X :-

١	تعد دالة IF من أكثر الدوال شيوعاً في برنامج مايكروسوفت إكسل.
٢	تتيح دالة IF إجراء مقارنات منطقية يمكن أن يكون لها نتيجة واحدة.
٣	يمكن أن تعرض الدالة IF قيماً مختلفة حسب الشرط.
٤	يمكنك استخدام المخطط الخطي لعرض النسب المئوية.
٥	يمكنك استخدام المخطط الدائري لإظهار البيانات التي تتغير بمرور الوقت.
٦	مايكروسوفت باوربوينت يُعد أحد أهم برامج العروض التقديمية والذي يمكن استخدامه لعرض افكارك ومشروعاتك في مجالات مختلفة.
٧	تحرير المخطط البياني في مايكروسوفت باوربوينت تختلف عن تحريره في مايكروسوفت إكسل.
٨	لمعاينة العرض التقديمي نضغط على زر F5 في لوحة المفاتيح.
٩	لا يمكنك تغيير حجم رسم SmartArt بعد إدراجه.
١٠	الرؤوس والتذييلات هي مواضع أعلى وأسفل كل شريحة تظهر في الشريحة الاولى فقط.

السؤال الثاني : هناك نصائح لإنشاء عرض تقديمي متميز ، أكتب النصيحة المناسبة أسفل كل صورة تصفها(ثلاثة فقط) : درجة لكل فقرة

استخدام التأثيرات الانتقالية والحركية	استخدم ألواناً مناسبة	اعرف جمهورك	تحقق من مكان العرض	حدد هدفك بدقة	حدد وقت العرض
---------------------------------------	-----------------------	-------------	--------------------	---------------	---------------





نموذج الإجابة

الاسم :

الصف :

٨

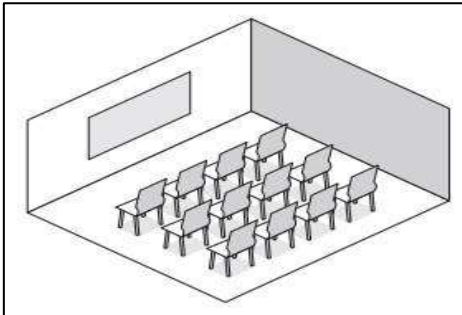
نصف درجة لكل فقرة

السؤال الأول : ضع علامة √ أو X :-

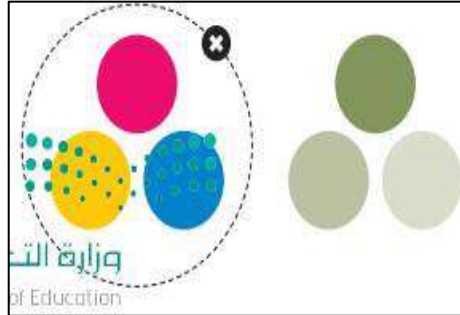
✓	تعد دالة IF من أكثر الدوال شيوعاً في برنامج مايكروسوفت إكسل.	١
X	تتيح دالة IF إجراء مقارنات منطقية يمكن أن يكون لها نتيجة واحدة.	٢
✓	يمكن أن تعرض الدالة IF قيماً مختلفة حسب الشرط.	٣
X	يمكنك استخدام المخطط الخطي لعرض النسب المئوية.	٤
X	يمكنك استخدام المخطط الدائري لإظهار البيانات التي تتغير بمرور الوقت.	٥
✓	مايكروسوفت باوربوينت يُعد أحد أهم برامج العروض التقديمية والذي يمكن استخدامه لعرض أفكارك ومشروعاتك في مجالات مختلفة.	٦
X	تحرير المخطط البياني في مايكروسوفت باوربوينت تختلف عن تحريره في مايكروسوفت إكسل.	٧
✓	لمعاينة العرض التقديمي نضغط على زر F5 في لوحة المفاتيح.	٨
X	لا يمكنك تغيير حجم رسم SmartArt بعد إدراجه.	٩
X	الرؤوس والتنزيلات هي مواضع أعلى وأسفل كل شريحة تظهر في الشريحة الأولى فقط.	١٠

السؤال الثاني : هناك نصائح لإنشاء عرض تقديمي متميز ، أكتب النصيحة المناسبة أسفل كل صورة تصفها (ثلاثة فقط) : درجة لكل فقرة

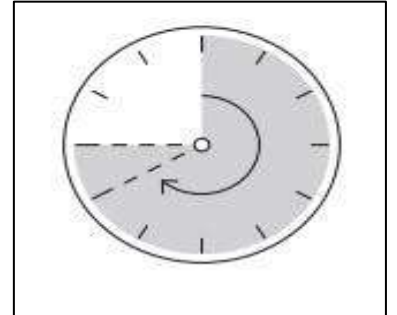
استخدام التأثيرات الانتقالية والحركية	استخدم ألواناً مناسبة	اعرف جمهورك	تحقق من مكان العرض	حدد هدفك بدقة	حدد وقت العرض
---------------------------------------	-----------------------	-------------	--------------------	---------------	---------------



تحقق من مكان العرض



استخدم الواناً مناسبة



حدد وقت العرض

١٢

الصف :

الاسم :

السؤال الأول : ضع علامة \checkmark أو X :-

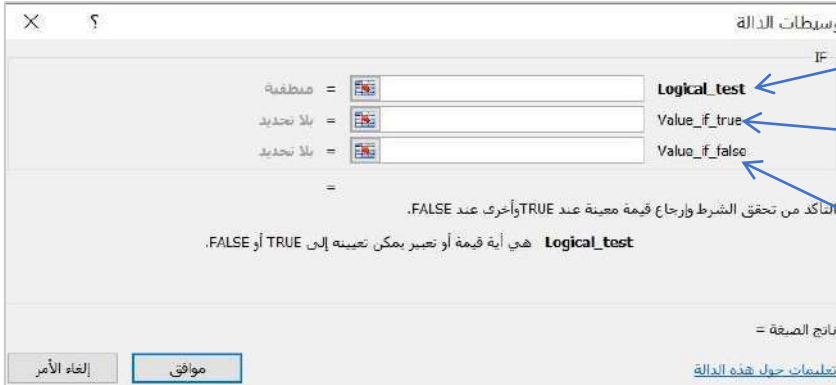
١	تبدأ جميع الدوال بعلامة التساوي "=" .
٢	طريقة " عادي (Normal View)" هي طريقة العرض الافتراضية في الباوربوينت.
٣	اثناء معاينة العرض التقديمي يمكنك التنقل بين الشرائح عن طريق الفأرة أو مفاتيح الأسهم في لوحة المفاتيح.
٤	في مايكروسوفت إكسل لا يمكنك كتابة صيغة IF فقط يمكنك إدراجها.
٥	في الباوربوينت تتيح لك طريقة العرض " فارز الشرائح " مشاهدة الشرائح بحجم أكبر.

السؤال الثاني: بيّن وظيفة المشار إليه مما يلي :

النتيجة عند عدم تحقق الشرط

النتيجة عند تحقق الشرط

الشرط الذي ستتحقق منه



السؤال الثالث : صل بين كل أيقونة ووظيفتها المناسبة في مايكروسوفت باوربوينت :

إضافة رأس وتذييل	<input type="radio"/>	<input type="radio"/>	
معاينة الشرائح بحجم أصغر	<input type="radio"/>	<input type="radio"/>	
يُعد طريقة العرض النموذجية	<input type="radio"/>	<input type="radio"/>	
إدراج صورة من الإنترنت	<input type="radio"/>	<input type="radio"/>	

نموذج الإجابة

١٢

الاسم :

الصف :

السؤال الأول : ضع علامة √ أو X :-

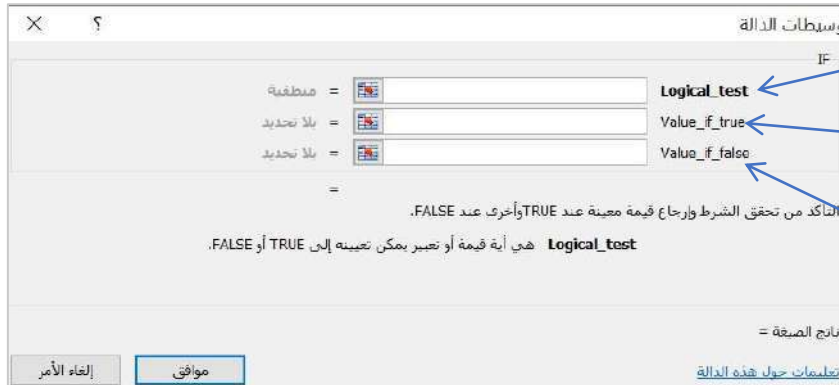
✓	تبدأ جميع الدوال بعلامة التساوي "=" .	١
✓	طريقة " عادي (Normal View)" هي طريقة العرض الافتراضية في الباوربوينت.	٢
✓	اثناء معاينة العرض التقديمي يمكنك التنقل بين الشرائح عن طريق الفأرة أو مفاتيح الأسهم في لوحة المفاتيح.	٣
X	في مايكروسوفت إكسل لا يمكنك كتابة صيغة IF فقط يمكنك إدراجها.	٤
X	في الباوربوينت تتيح لك طريقة العرض " فارز الشرائح " مشاهدة الشرائح بحجم أكبر.	٥

السؤال الثاني: بيّن وظيفة المشار إليه مما يلي :

النتيجة عند عدم تحقق الشرط

النتيجة عند تحقق الشرط

الشرط الذي ستتحقق منه



الشرط الذي ستتحقق منه

النتيجة عند تحقق الشرط


النتيجة عند عدم تحقق الشرط

السؤال الثالث : صل بين كل أيقونة ووظيفتها المناسبة في مايكروسوفت باوربوينت :

إضافة رأس وتذييل	
معاينة الشرائح بحجم أصغر	
يُعد طريقة العرض النموذجية	
إدراج صورة من الإنترنت	

موقع

انتهت الاسئلة



اختبار فكري (تحريري) لمادة المهارات الرقمية أول متوسط الفصل الثالث لعام ١٤٤٦ هـ

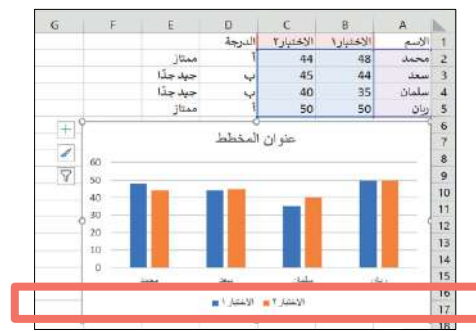
السؤال الاول: اختاري الإجابة الصحيحة:

١	دوال تحمل وسيطاتها ونتائجها قيمة مكونة من عنصرين عادة ما تكون صواب أو خطأ:				
أ	الدوال المنطقية	ب	الدوال النصية	ج	الدوال الرياضية
٢	تبدأ جميع الدوال بعلامة:				
أ	*	ب	/	ج	=
٣	يمكننا فتح نافذة الطباعة من علامة تبويب :				
أ	ادراج	ب	ملف	ج	حركات
٤	نوع من أنواع المخططات يستخدم لعرض النسب المئوية :				
أ	العامودي	ب	الخطي	ج	الدائري

السؤال الثاني: ضعي علامة (صح) أمام العبارة الصحيحة وعلامة (خطأ) أمام العبارة الخاطئة :

١	لا يمكننا حذف المخطط بعد إنشائه.
٢	لا يمكننا إنشاء المخططات الشريطية في برنامج إكسل .
٣	تعد دالة IF من أكثر الدوال شيوعاً في برنامج مايكروسوفت إكسل.
٤	يمكننا تغيير نوع المخطط من علامة تبويب تصميم المخطط.

السؤال المساعد: تمثل الصور التالية (SmartArt - أنواع المخططات المختلفة - وسيلة إيضاح)



.....

.....

انتهت الأسئلة ,, بالتوفيق غاليتي

مديرة المدرسة :

معلمة المادة:



وزارة التعليم
Ministry of Education

نموذج الإجابة

المملكة العربية السعودية
إدارة التعليم
المتوسطة.....

اختبار فكري (تحريري) لمادة المهارات الرقمية أول متوسط الفصل الثالث لعام ١٤٤٦ هـ

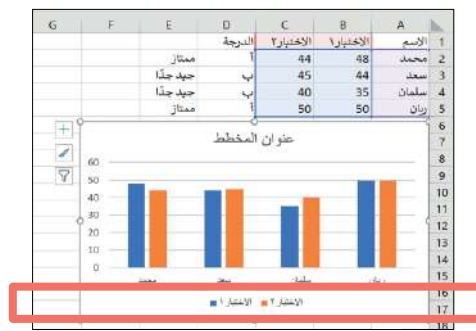
السؤال الاول: اختاري الإجابة الصحيحة:

١	دوال تحمل وسيطاتها ونتائجها قيمة مكونة من عنصرين عادة ما تكون صواب أو خطأ:				
أ	الدوال المنطقية	ب	الدوال النصية	ج	الدوال الرياضية
٢	تبدأ جميع الدوال بعلامة:				
أ	*	ب	/	ج	=
٣	يمكننا فتح نافذة الطباعة من علامة تبويب :				
أ	ادراج	ب	ملف	ج	حركات
٤	نوع من أنواع المخططات يستخدم لعرض النسب المئوية :				
أ	العامودي	ب	الخطي	ج	الدائري

السؤال الثاني: ضعي علامة (صح) أمام العبارة الصحيحة وعلامة (خطأ) أمام العبارة الخاطئة :

١	لا يمكننا حذف المخطط بعد إنشائه.
٢	لا يمكننا إنشاء المخططات الشريطية في برنامج إكسل .
٣	تعد دالة IF من أكثر الدوال شيوعاً في برنامج مايكروسوفت إكسل.
٤	يمكننا تغيير نوع المخطط من علامة تبويب تصميم المخطط.

السؤال المساعد: تمثل الصور التالية (SmartArt - أنواع المخططات المختلفة - وسيلة إيضاح)



وسيلة إيضاح

أنواع المخططات المختلفة





انتهت الأسئلة ,, بالتوفيق غاليتي

مديرة المدرسة :

معلمة المادة:

اختبار مادة : المهارات الرقمية	الصف : أول متوسط	الفصل الدراسي : الثالث لعام ١٤٤٦ هـ
الاسم:	الدرجة	معلم المادة: التوقيع :
	٨	

السؤال الأول: ضع علامة (√) أمام العبارة الصحيحة وعلامة (X) أمام العبارة الخاطئة :

م	العبارة	الإجابة
١	إضافة رأس أو تذييل لشرائح العرض التقديمي اختر:	
٢	إدراج صورة في العرض التقديمي اختر:	
٣	إضافة شريحة جديدة إلى عرض تقديمي اختر:	
٤	لتغيير تخطيط الرسم البياني	

السؤال الثاني: اختر الإجابة الصحيحة:

١	من أنواع نتائج دالة IF	أ أرقام ونصوص	ب دالة أخرى	ج صح وخطأ	د جميع ما سبق
٢	لتمثيل البيانات بشكل مخطط خطي:	أ 	ب 	ج 	د 
٣	إضافة نص إلى الشرائح اختر:	أ 	ب 	ج 	د 
٤	لتنسيق الشريحة اختر تبويب:	أ تصميم	ب عرض	ج تخطيط	د رسم

انتهت الأسئلة ،،،، مع تمنياتي لكم بالتوفيق والنجاح ،،،، معلم المادة /

اختبار مادة : المهارات الرقمية	الصف : أول متوسط	الفصل الدراسي : الثالث لعام ١٤٤٦ هـ
الاسم:	الدرجة	معلم المادة: التوقيع :
	٨	

السؤال الأول: ضع علامة (√) أمام العبارة الصحيحة وعلامة (X) أمام العبارة الخاطئة :

م	العبارة	الإجابة
١	إضافة رأس أو تذييل لشرائح العرض التقديمي اختر:	√
٢	إدراج صورة في العرض التقديمي اختر:	√
٣	إضافة شريحة جديدة إلى عرض تقديمي اختر:	×
٤	لتغيير تخطيط الرسم البياني	×

السؤال الثاني: اختر الاجابة الصحيحة:

١	من أنواع نتائج دالة IF	ب	ارقام ونصوص	د	جميع ما سبق
٢	لتمثيل البيانات بشكل مخطط خطي:	ب		ج	
٣	إضافة نص إلى الشرائح اختر:	ب		ج	
٤	لتنسيق الشريحة اختر تبويب:	ب	عرض	ج	تخطيط
		د	رسم		



المادة: المهارات الرقمية الصف: أول متوسط الفصل الدراسي الثالث اختبارات أعمال السنة عملي (بدون معمل)	 وزارة التعليم Ministry of Education	المملكة العربية السعودية وزارة التعليم إدارة التعليم بـ..... مدرسة.....
المجموع:	الفصل:	اسم الطالبة:

السؤال الأول: اختاري الإجابة الصحيحة فيما يلي:

1. يمكن إدراج دالة IF في إكسل من خلال التبويب:						
أ	المطور	ب	الصيغ	ج	التصنيف	د
تخطيط						
2. يمكن إضافة شريحة جديدة في باوربوينت باستخدام:						
أ	بالنقر على زر إضافة شريحة" من الشريط الرئيسي	ب	بالنقر على الشريحة الأخيرة ثم السحب للأسفل	ج	الضغط على مفتاح Esc على لوحة المفاتيح	د
الضغط على مفتاح CTRL على لوحة المفاتيح						
3. نضيف تأثيرات حركية على مربع النص في باوربوينت باستخدام:						
أ	اختيار الحركة من قائمة إدراج وتحديد نوع الحركة المطلوب	ب	الانتقال إلى تصميم واختيار الحركة، ثم تحديد نوع الحركة المرغوبة	ج	النقر على العنصر في الشريحة، ثم من علامة التبويب حركات	د
بالنقر على زر تخطيط في شريط الأدوات ثم اختيار حركات						

السؤال الثاني: ضع علامة (√) إذا كانت الإجابة صحيحة، وعلامة (X) إذا كانت العبارة خاطئة فيما يلي:

م	السؤال	الإجابة
1	الدوال المنطقية في إكسل تقوم بالتحقق من شروط معينة وإعطاء نتيجة صحيحة أو خاطئة.	()
2	يمكن استدعاء دالة IF في إكسل هي من علامة تبويب "صيغ".	()
3	يمكن إضافة مربع نص إلى شريحة في باوربوينت من علامة تبويب "إدراج".	()
4	اختصار "Ctrl + P" يستخدم لعرض الشرائح في باوربوينت.	()
5	يمكن تغيير مقياس الأرقام على محور المخطط في باوربوينت.	()

السؤال الثالث: اختاري من العمود (أ) ما يناسبها من العمود (ب) فيما يلي :

(أ)	الحرف الصحيح	(ب)
1. تأثيرات الانتقال		(أ) يشمل تنظيمات مختلفة، مثل الهيكل التنظيمي، والقوائم
2. مصادر عبر الإنترنت		(ب) إضافة معلومات مثل رقم الصفحة، واسم العرض، وتاريخ العرض
3. SmartArt		(ج) الانزلاق أو التلاشي أو الظهور الفوري وغيرها
4. الرؤوس والتذييلات		(د) يطبق على العناصر المختلفة بما في ذلك مربعات النص والشكل والصور وغيرها

انتهت الأسئلة

موقع مادنتري

المادة: المهارات الرقمية الصف: أول متوسط الفصل الدراسي الثالث اختبارات أعمال السنة عملي (بدون معمل)	نموذج الإجابة	المملكة العربية السعودية وزارة التعليم إدارة التعليم بـ..... مدرسة.....
Ministry of Education		
نموذج الإجابة		

السؤال الأول: اختاري الإجابة الصحيحة فيما يلي:

1. يمكن إدراج دالة IF في إكسل من خلال التبويب:					
أ	المطور	ب	الصيغ	ج	التصنيف
د	تخطيط				
2. يمكن إضافة شريحة جديدة في باوربوينت باستخدام:					
أ	بالنقر على زر إضافة شريحة من الشريط الرئيسي	ب	بالنقر على الشريحة الأخيرة ثم السحب للأسفل	ج	الضغط على مفتاح Esc على لوحة المفاتيح
د	الضغط على مفتاح CTRL على لوحة المفاتيح				
3. نضيف تأثيرات حركية على مربع النص في باوربوينت باستخدام:					
أ	اختيار الحركة من قائمة إدراج وتحديد نوع الحركة المطلوب	ب	الانتقال إلى تصميم واختيار الحركة، ثم تحديد نوع الحركة المرغوبة	ج	النقر على العنصر في الشريحة، ثم من علامة التبويب حركات
د	بالنقر على زر تخطيط في شريط الأدوات ثم اختيار حركات				

السؤال الثاني: ضع علامة (√) إذا كانت الإجابة صحيحة، وعلامة (X) إذا كانت العبارة خاطئة فيما يلي:

م	السؤال	الإجابة
1	الدوال المنطقية في إكسل تقوم بالتحقق من شروط معينة وإعطاء نتيجة صحيحة أو خاطئة.	(√)
2	يمكن استدعاء دالة IF في إكسل هي من علامة تبويب "صيغ".	(√)
3	يمكن إضافة مربع نص إلى شريحة في باوربوينت من علامة تبويب "إدراج".	(√)
4	اختصار "Ctrl + P" يستخدم لعرض الشرائح في باوربوينت.	(X)
5	يمكن تغيير مقياس الأرقام على محور المخطط في باوربوينت.	(√)

السؤال الثالث: اختاري من العمود (أ) ما يناسبها من العمود (ب) فيما يلي :

(أ)	الحرف الصحيح	(ب)
1. تأثيرات الانتقال	ج	(أ) يشمل تنظيمات مختلفة، مثل الهيكل التنظيمي، والقوائم
2. تأثيرات حركية	د	(ب) إضافة معلومات مثل رقم الصفحة، واسم العرض، وتاريخ العرض
3. SmartArt	أ	(ج) الانزلاق أو التلاشي أو الظهور الفوري وغيرها
4. الرؤوس والتذييلات	ب	(د) يطبق على العناصر المختلفة بما في ذلك مربعات النص والشكل والصور وغيرها

انتهت الأسئلة

معلمة المادة: أ- مشاعل محمد الشمrani

الاسم / الصف

10

السؤال الأول : ضعي علامة ✓ امام العبارات الصحيحة وعلامة ✗ امام العبارات الخاطئة :

- 1- تستخدم المخططات لمقارنة القيم ()
- 2- لايمكنك استخدام العمليات الحسابية في IF ()
- 3- في اكسل تبدأ جميع الدوال بعلامة التساوي "=" ()
- 4- في كل مره تقوم بتعديل بيانات جدولك لايجب عليك ادراج مخطط جديد انما تتعدل البيانات تلقائيا ()
- 5- في دالة IF يجب ان تستخدم علامتي التنصيص عند استخدام النص كشرط ()

السؤال الثاني : اختاري رمز الإجابة الصحيحة فيما يلي :

1- رسم بياني دائري مقسم الى شرائح دائرية يستخدم لإظهار نسب كل جزء :		
أ. المخطط الخطي	ب. المخطط الدائري	ج. المخطط الهرمي
2- تعتبر دالة IF من الدوال :		
أ. المنطقية	ب. العددية	ج. النصية

السؤال الثالث :

اختاري المخطط المناسب لمايلي :		
1	مخطط يستخدم لعرض النسب المئوية
2	مخطط يستخدم لمقارنة القيم
3	مخطط يوضح كيف تتغير البيانات مع مرور الوقت

الدائري



الخطي



الشريطي



الجزء العملي

س1: أ- اختاري الإجابة الصحيحة لكل من العبارات التالية: -

1- تسمى التأثيرات التي تحدث عند الانتقال من شريحة إلى شريحة أخرى أثناء تقديم العرض.			
أ- حركات	ب- تصميم	ج- انتقالات	
2- يمكن إضافة صور او فيديو الى شرائح العرض التقديمي وذلك من قائمة:			
أ- ادراج	ب- تحرير	ج- ملف	
3- يتم إضافة تأثيرات حركية على محتويات الشريحة كالنصوص والصور وذلك من قائمة			
أ- تنسيق	ب- حركات	ج- انتقالات	
4- لإضافة مخطط بياني في برنامج الاكسل من قائمة:			
أ- ادراج	ب- ملف	ج- تنسيق	
5- لإضافة الدالة المنطقية IF من علامة تبويب:			
أ- ادراج	ب- ملف	ج- الصيغ	
6- طريقة العرض الأساسية في برنامج الباوربوينت:			
أ- العادي	ب- فارز الشرائح	ج- للقراء	
7- لإجراء عرض تقديمي من الشريحة الأولى يتم الضغط من لوحة المفاتيح على زر			
أ- F6	ب- F2	ج- F5	

س3/ من خلال دراستك لدالة IF صلي العمود الأول بما يناسبه من العمود الثاني:

العمود الثاني		العمود الأول	
القيمة المراد إرجاعها عند تقييم logical_test إلى خطأ		Logical_test	1
القيمة المراد إرجاعها عند تقييم logical_test إلى صواب		Value_if_true	2
تعتبر قيمة أو تعبير منطقي يمكن تقييمه على أنه صواب أو خطأ		Value_if_false	3

نموذج الاجابة

الاسم / الصف /

10

السؤال الأول : ضعي علامة ✓ امام العبارات الصحيحة وعلامة ✗ امام العبارات الخاطئة :

- 1- تستخدم المخططات لمقارنة القيم (صح)
- 2- لايمكنك استخدام العمليات الحسابية في IF (خطأ)
- 3- في اكسل تبدأ جميع الدوال بعلامة التساوي "=" (صح)
- 4- في كل مره تقوم بتعديل بيانات جدولك لايجب عليك ادراج مخطط جديد انما تتعدل البيانات تلقائيا (صح)
- 5- في دالة IF يجب ان تستخدم علامتي التنصيص عند استخدام النص كشرط (صح)

السؤال الثاني : اختاري رمز الإجابة الصحيحة فيما يلي :

1- رسم بياني دائري مقسم الى شرائح دائرية يستخدم لإظهار نسب كل جزء :		
أ. المخطط الخطي	ب. المخطط الدائري	ج. المخطط الهرمي
2- تعتبر دالة IF من الدوال :		
أ. المنطقية	ب. العددية	ج. النصية

السؤال الثالث :

اختاري المخطط المناسب لمايلي :		
1الدائري.....	مخطط يستخدم لعرض النسب المئوية
2الشريطي.....	مخطط يستخدم لمقارنة القيم
3الخطي.....	مخطط يوضح كيف تتغير البيانات مع مرور الوقت

الدائري



الخطي



الشريطي



الجزء العملي

س1: أ- اختاري الإجابة الصحيحة لكل من العبارات التالية: -

1- تسمى التأثيرات التي تحدث عند الانتقال من شريحة إلى شريحة أخرى أثناء تقديم العرض.			
أ- حركات	ب- تصميم	ج- انتقالات	
2- يمكن إضافة صور او فيديو الى شرائح العرض التقديمي وذلك من قائمة:			
أ- ادراج	ب- تحرير	ج- ملف	
3- يتم إضافة تأثيرات حركية على محتويات الشريحة كالنصوص والصور وذلك من قائمة			
أ- تنسيق	ب- حركات	ج- انتقالات	
4- لإضافة مخطط بياني في برنامج الاكسل من قائمة:			
أ- ادراج	ب- ملف	ج- تنسيق	
5- لإضافة الدالة المنطقية IF من علامة تبويب:			
أ- ادراج	ب- ملف	ج- الصيغ	
6- طريقة العرض الأساسية في برنامج الباوربوينت:			
أ- العادي	ب- فارز الشرائح	ج- للقراء	
7- لإجراء عرض تقديمي من الشريحة الأولى يتم الضغط من لوحة المفاتيح على زر			
أ- F6	ب- F2	ج- F5	

س3/ من خلال دراستك لدالة IF صلي العمود الأول بما يناسبه من العمود الثاني :

العمود الثاني	
القيمة المراد إرجاعها عند تقييم logical_test إلى خطأ	3
القيمة المراد إرجاعها عند تقييم logical_test إلى صواب	2
تعتبر قيمة أو تعبير منطقي يمكن تقييمه على أنه صواب أو خطأ	1

العمود الأول	
Logical_test	1
Value_if_true	2
Value_if_false	3

أختبار مادة مهارات رقمية الفصل الدراسي الثالث (الفترة الأولى) للصف الأول متوسط

أسم الطالبة:	الدرجة (المستحقة) (عملي)	12	الدرجة (المستحقة) (نظري)	8
--------------	-------	-----------------------------	----	-----------------------------	---

(الجزء النظري) ضعي دائرة O حول الاجابة الصحيحة:

8

1-	دالة تقوم بإجراء اختبار منطقي ويعيد قيمة واحدة لنتيجة صواب وخطأ
	(أ) دالة Sum (ب) دالة Average (ج) دالة If (د) دالة Max
2-	تبدأ جميع الدوال بعلامة
	(أ) + (ب) - (ج) * (د) =
3-	يتم إدراج دالة If من تبويب
	(أ) إدراج (ب) تخطيط الصفحة (ج) الصيغ (د) بيانات
4-	يمكن استخدام دالة If لـ
	(أ) تنسيق الجداول (ب) إجراء الحسابات (ج) إجراء الاختبارات المنطقية (د) الخيار ب و ج
5-	يتيح برنامج إكسل تنسيق المخططات البيانية فيمكن
	(أ) ألوانها (ب) خطوطها (ج) خصائصها (د) جميع ماسبق
6-	نوع من أنواع المخططات مفيد في مقارنة القيم
	(أ) مخططات الأعمدة والأشرطة (ب) المخططات الخطية (ج) المخططات الدائرية (د) المخططات المساحية
7-	يتم إدراج المخططات البيانية من قائمة
	(أ) ملف (ب) الصفحة الرئيسية (ج) إدراج (د) بيانات
8-	أي من البرامج التالية يعد برنامج جداول بيانات
	(أ) مايكروسوفت إكسل لنظام أي أو إس (ب) دو كس توجو لنظام جوجل (ج) ليبر أوفيس كالك (د) جميع ماسبق
(سؤال مساعد) من درجتان فقط	
9-	يمكن أن تحتوي عبارة IF على نتيجتين قد تكون:
	(أ) نص (ب) رقم (ج) دوال اخرى (د) جميع ماسبق
10-	لطباعة الأوراق التي تم العمل فيها نختار الأمر
	(أ) طباعة أوراق نشطة (ب) طباعة التحديد (ج) طباعة أوراق غير نشطة (د) طباعة كامل المستند

ضعي كلمة (صح) أم (خطأ) أمام العبارات التالية:

1. المقارنة بين الأرقام أوضح وأسرع من المقارنة بين الأشكال	
2. الدوال المنطقية هي التي تحمل وسيطاتها ونتائجها قيمة مكونة من عنصرين عادة ما تكون صواب أو خطأ	
3. تعد دالة IF واحدة من أكثر الدوال شيوعاً في برنامج مايكروسوفت إكسل	
4. القيمة التي يتم إرجاعها إذا كان Logical_test صحيحة هي قيمة رقمية فقط	
5. لا يمكنك استخدام العمليات الحسابية في دوال IF.	
6. عبارة IF قد تكون نتيجتها نص	
7. تستخدم المخططات الخطية لمقارنة القيم.	
8. عند الانتهاء من كتابة دالة IF في شريط الصيغة يجب الضغط على زر Enter	
9. المخطط البياني هو تمثيل مرئي للمعلومات	
10. بمجرد اختيار نوع المخطط البياني فإنه لا يمكن تغييره	
11. في دالة IF يجب ان يكون هناك قوسان حول النص الذي تريد اظهاره على انه صواب او خطأ للشرط	
12. في مرة تقوم فيها بتغيير شيء ما في جدولك , لا يجب عليك إعادة إدراج المخطط لتمثيل معلوماتك مرة أخرى	
(سؤال مساعد) من درجتان فقط	
2	
1. يجب تحديد بياناتك أولاً , قبل إنشاء مخطط	
2. سيخبرك مايكروسوفت إكسل دائماً إذا كانت هناك مشكلة في وظيفة قمت بإنشائها	

انتهت الأسئلة - تمنياتي لكي بالتوفيق والنجاح

نموذج الاجابة

أجابات اختبار اول متوسط:

جدول أجابات الأسئلة:									
(10)	(9)	(8)	(7)	(6)	(5)	(4)	(3)	(2)	(1)
أ	د	د	ج	أ	د	ج	ج	د	ج

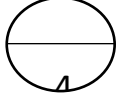
خطأ	1.
صح	2.
صح	3.
خطأ	4.
خطأ	5.
صح	6.
خطأ	7.
صح	8.
صح	9.
خطأ	10.
خطأ	11.
صح	12.
(سؤال مساعد) من درجتان فقط	
صح	3
خطأ	4

أختبار مادة مهارات رقمية 1-3 الفصل الدراسي الثالث (الفترة الثانية) للصف أول متوسط

الدرجة المستحقة (نظري)	الدرجة المستحقة (عملي)	أسم الطالبة:	الصف:
8	12		

(الجزء النظري)

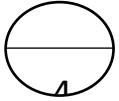
السؤال الأول: أختاري الإجابة الصحيحة لكل سؤال ثم ضعي إجابة كل سؤال في جدول الأجابات الذي أمامك:



جدول الأجابات:							
(1)	(2)	(3)	(4)	(5)	(6)	(7)	(8)

جدول الأسئلة:

1-	يعد أحد أهم برامج العروض التقديمية	(أ) مايكروسوفت وورد	(ب) مايكروسوفت بوربوينت	(ج) مايكروسوفت اكسل	(د) مايكروسوفت ون نوت
2-	هي مواضع أعلى وأسفل كل شريحة يمكنك من كتابة معلومات حول العرض التقديمي وتظهر في كافة الشرائح	(أ) الملاحظات	(ب) الرؤوس التنزيلات	(ج) السمات	(د) طرق العرض
3-	تأثيرات الحركة التي تحدث (أثناء عرض الشرائح) عند الانتقال من شريحة إلى أخرى أثناء تقديم العرض	(أ) الانتقالات	(ب) ضبط التوقيت	(ج) تأثيرات الحركة	(د) الحركات
4-	يمكن إضافة تأثيرات الحركة في العرض التقديمي إلى	(أ) نصوص	(ب) صور	(ج) اشكال	(د) جميع ماسبق
5-	يمكن تغيير نمط ولون المخطط البياني من خلال علامة التبويب:	(أ) حركات	(ب) الانتقالات	(ج) التصميم	(د) عرض الشرائح
6-	من التلميحات والنصائح التي تعزز جودة العرض التقديمي:	(أ) حدد وقت العرض	(ب) حدد هدفك بدقة	(ج) اعرف جمهورك	(د) جميع ماسبق
7-	يمكن ادراج ملفات الصوت والفيديو في :	(أ) الشريحة الأولى	(ب) الشريحة الأولى والأخيرة	(ج) أي شريحة	(د) لاشيء مما سبق
8-	يجب تحضير عرضك التقديمي جيداً ومن الأمور التي تساعد على ذلك:	(أ) دراسة الموضوع جيداً	(ب) البحث عن المعلومات في المصادر المختلفة	(ج) عدم جعل الشرائح مزدحمة بالنصوص والصور	(د) جميع ماسبق



السؤال الثاني: ضعي كلمة (صح) أم (خطأ) أمام العبارات التالية:

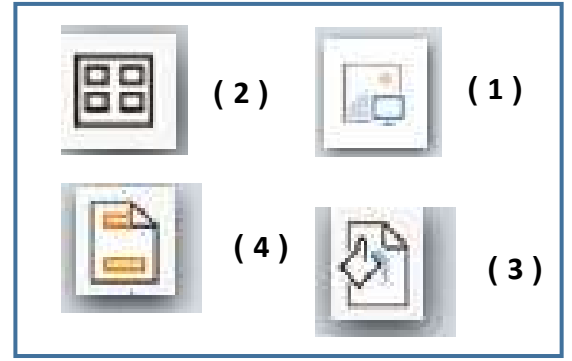
(1) إذا رغبت في عرض شيء ما فمن الجيد تجميع أفكارك ويمكنك القيام بذلك من خلال الشرائح	
(2) ينصح باستخدام الكثير من السمات للعرض التقديمي	
(3) باستخدام عرض صفحة الملاحظات يمكنك كتابة الملاحظات التي تريد عرضها عن شريحة معينة	
(4) يمكن إدراج ملف صوتي في العرض التقديمي الخاص بك	
(5) لا يمكن تغيير المدة للتأثير الانتقالي	
(6) يمكن إدراج مقطع فيديو في العرض التقديمي الخاص بك من خلال جهاز الحاسب الخاص بك فقط	
(7) يجب التحقق من مكان العرض والمعدات قبل البدء بالعرض	
(8) ينصح باستخدام ألوان متعددة بدلاً من استخدام درجات اللون	

يتبع

1

الأيقونة

وظيفة الأيقونة	
تطبيق نسق على الشريحة	
إدراج صورة من جهاز الحاسب الخاص بك	
إضافة رأس وتذييل الصفحة	
يسمح لك بمعاينة الشرائح بشكل أصغر	



السؤال الثاني:

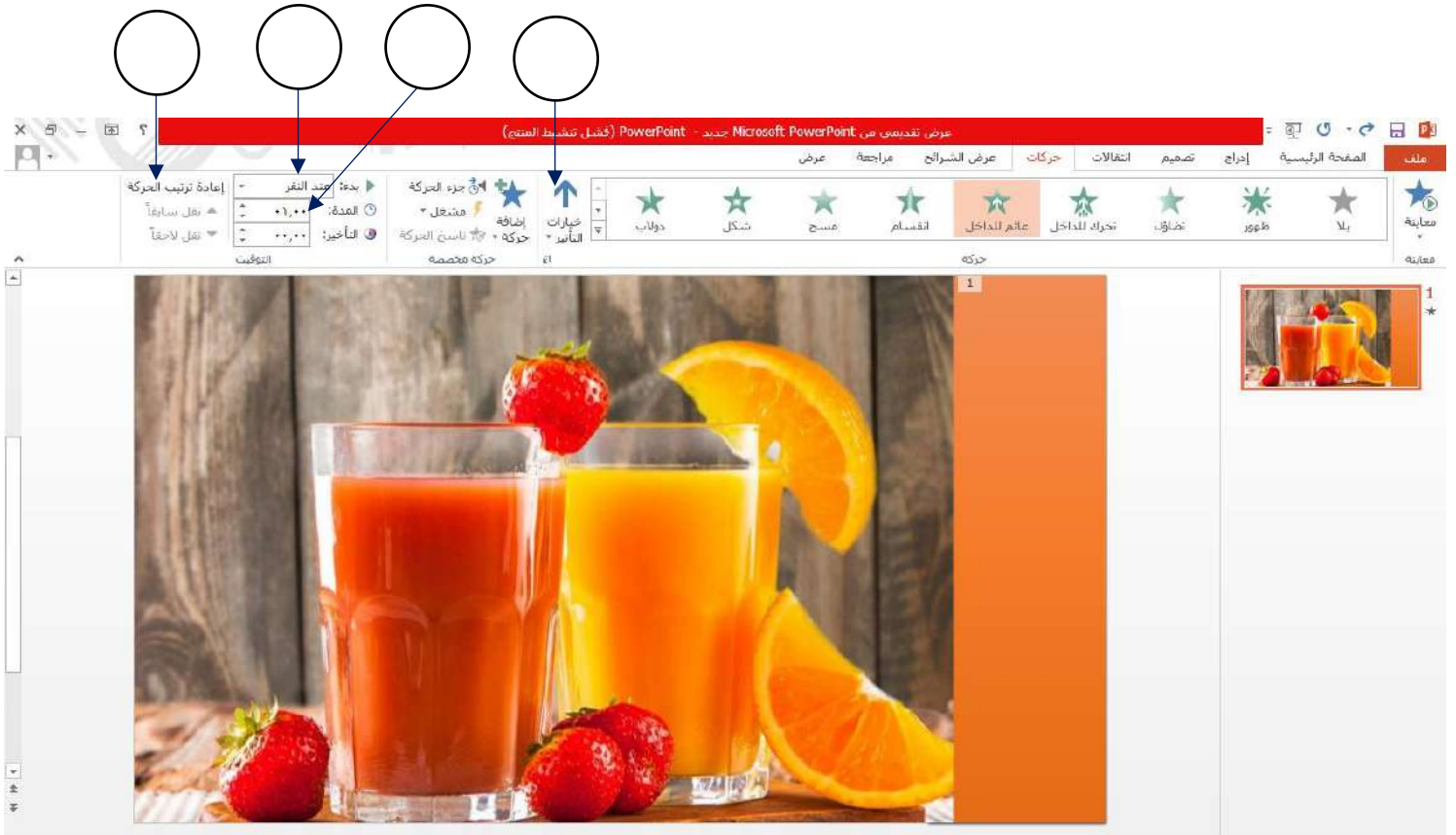
1

حددي الجملة الصحيحة والخاطئة فيما يلي:		
الجملة خاطئة	الجملة صحيحة	
		1- يتم تطبيق نفس التذييل على جميع الشرائح
		2- طريقة العرض "فارز الشرائح" هو العرض الأساسي للبرنامج
		3- يمكن تحديد مدة الانتقال
		4- لا يمكن تخصيص رسم SmartArt أو مخطط

السؤال الثالث: من خلال الخيارات المتاحة أمامك أكتبي رقم كل خيار في المربع المناسب في الصورة التالية:

1

(1) عرض المزيد من الخيارات حول تأثير معين.	(3) تغيير الترتيب الذي ستظهر به تأثيرات الحركة
(2) بدء حركة بعد الضغط على عنصر معين في الشريحة.	(4) تعيين المدة التي تستغرقها الحركات



نموذج الاجابة

جدول الأجابات:							
(8)	(7)	(6)	(5)	(4)	(3)	(2)	(1)
د	ج	د	ج	د	أ	ب	ب

السؤال المساعد	الأختيار	(ب)
1	3	التوقيت
2		الحركات
3	1	السمات
4	2	العادي
	4	فازر الشرائح

صح
خطأ
صح
صح
خطأ
خطأ
صح
خطأ

وظيفة الأيقونة	
(3)	تطبيق نسق على الشريحة
(1)	إدراج صورة من جهاز الحاسب الخاص بك
(4)	إضافة رأس وتذييل الصفحة
(2)	يسمح لك بمعاينة الشرائح بشكل أصغر

الجملة خاطئة	الجملة صحيحة	حددي الجملة الصحيحة والخاطئة فيما يلي:
	*	1- يتم تطبيق نفس التذييل على جميع الشرائح
*		2- طريقة العرض "فازر الشرائح" هو العرض الأساسي للبرنامج
	*	3- يمكن تحديد مدة الأنتقال
*		4- لا يمكن تخصيص رسم SmartArt او مخطط



الاختبار النظري الفصلي لمادة المهارات الرقمية الصف الأول متوسط الفصل الثالث للعام الدراسي 1446هـ

اسم الطالبية: الشعبة:

5

السؤال الأول : ضعي عبارة (صح) أمام العبارات الصحيحة وعبارة (خطأ) أمام العبارات الخاطئة فيما يلي:

1	تعتبر دالة if من أكثر الدوال شيوعا في برنامج الاكسل
2	بمجرد اختيار نوع المخطط البياني لايمكنك تغييره
3	من أنواع المخططات البيانية الخطي والدائري
4	لايمكنك استخدام العمليات الحسابية في IF
5	يعتمد عدد الشرائح في العرض التقديمي على الموضوع الذي تريد تقديمه
6	في دالة IF عند كتابة الأرقام داخل الشرط يتم وضع علامتي تنصيص
7	يمكن تطبيق نفس التذييل على جميع الشرائح .
8	لايمكنك استخدام العمليات الحسابية في IF
9	الدوال المنطقية ترجع لقيمتين إما صح أو خطأ
10	يعد برنامج مايكروسوفت بوربوينت أحد أهم برامج العروض التقديمية

5

السؤال الثاني : رتبي خطوات إدراج الدالة IF بالترتيب :

اكتب القيمة إذا لم يتحقق الشرط.	
أدرج الدالة IF.	
اكتب الشرط.	
اضغط على الخلية التي ارغب بعرض النتائج داخلها.	
اكتب القيمة التي ستظهر إذا تحقق الشرط.	

وفقن الله

المعلمة : عهود الحربي

المادة : المهارات الرقمية
 الفصل : الدراسي الثالث
 اليوم : الأربعاء
 الدرجة : ٢٠ /

اختبار فترة الفصل الدراسي الثالث للعام الدراسي ١٤٤٦ هـ

اسم الطالب	الصف
------------	------

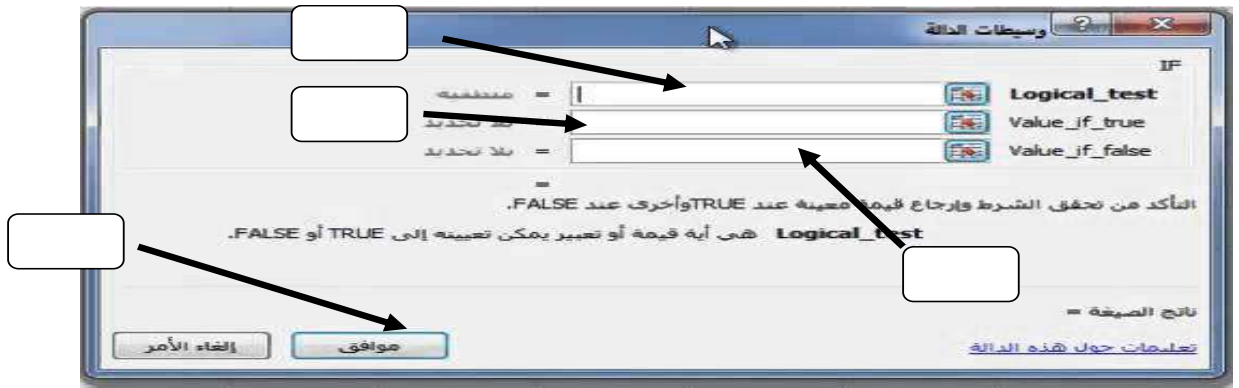
السؤال الأول / (أ) اختر الاجابة الصحيحة لكل مما يلي :
 الدرجة (١٠ /) (النظري)

١	يمكنك إدراج ملفات الصوت
أ-	في الشريحة الأولى فقط
ب-	في أي شريحة
ج -	في الشريحة الأولى أو الأخيرة
٢	يُعد أحد أهم برامج العروض التقديمية
أ-	برنامج مايكروسوفت وورد
ب-	برنامج مايكروسوفت إكسل
ج -	برنامج مايكروسوفت باوربوينت
٣	لمشاهدة كيف يبدو العرض التقديمي ، يمكنك الضغط على
أ-	F2
ب-	F5
ج -	F3
٤	تتيح لك طريقة العرض (فارز الشرائح)
أ-	تحريك الشرائح لتغيير ترتيبها
ب-	إضافة الملاحظات على الشرائح
ج-	رؤية كيف يبدو العرض التقديمي في الواقع

(ب) ضع علامة (صح) أمام العبارة الصحيحة وعلامة (خطأ) أمام العبارة الخاطئة لكل من العبارات التالية:

١	إذا رغبت في عرض شيء ما فمن الجيد تجميع أفكارك ويمكن القيام بذلك من خلال الشرائح
٢	لا يمكنك استخدام العمليات الحسابية في دوال IF
٣	باستخدام عرض صفحة الملاحظات لا يمكنك كتابة الملاحظات التي تريد عرضها عن شريحة معينة
٤	يمكن تطبيق نفس التذييل على جميع الشرائح
٥	تستخدم المخططات الخطية لمقارنة القيم
٦	بمجرد اختيار نوع المخطط البياني لا يمكن تغييره

السؤال الثاني / (أ) في الصورة مربع الحوار الخاص بالدالة المنطقية IF ضع في الفراغ الرقم المناسب :
 ١- رسالة تحقق الشرط ٢- الشرط ٣- رسالة عدم تحقق الشرط ٤- ادراج دالة IF
 الدرجة (١٠ /) (العملي)

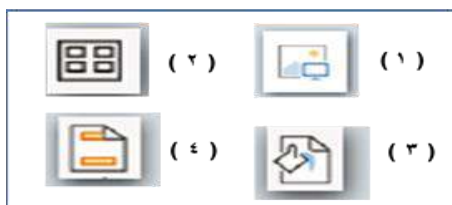


(ب) رتب خطوات إدراج مخطط في برنامج مايكروسوفت إكسل :

إدراج - تحديد البيانات - اضغط إدراج مخطط خطي أو دائري - من مجموعة المخططات

- ١-
 ٢-
 ٣-
 ٤-

الأيقونة



(ج) طابق بين الأيقونة ووظيفتها لكل مما يلي :

وظيفة الأيقونة	
إدراج صورة من جهاز الحاسب الخاص بك	
إضافة رأس وتذييل الصفحة	

اختبار الفترة الثانية مادة المهارات الرقمية للصف (الأول المتوسط) - نموذج (أ) -

مستعينة بالله أجيب عن الأسئلة التالية (الجزء النظري):-

السؤال الاول *** اختاري الإجابة الصحيحة :-

1. لإعداد عروض تقديمية نستخدم برنامج مايكروسوفت				
أ.	بوربوينت	ب.	Excel اكسل	ج. Word وورد
د.	Access			
2. هي مواضع أعلى وأسفل كل شريحة يمكنك من كتابة معلومات حول العرض التقديمي وتظهر في كافة الشرائح:				
أ.	الملاحظات .	ب.	الرأس والتذييل	ج. طرق العرض
د.	السمات .			
3. تأثيرات الحركة التي تحدث عند الانتقال من شريحة إلى شريحة أخرى عند تقديم العرض .				
أ.	ادراج .	ب.	حركات .	ج. انتقالات .
د.	تصميم .			
4. يمكن ادراج ملفات صوت او فيديو في				
أ.	الشريحة الأولى فقط .	ب.	الشريحة الأخيرة فقط .	ج. الشريحة الأولى والأخيرة فقط .
د.	في أي شريحة .			

السؤال الثاني *** اختاري العلامة الصحيحة (صح) او (خطأ):-

م	العبرة	اختاري العلامة
1.	لا يجب أن تأخذ بعين الاعتبار اراء الآخرين وانتقاداتهم بشأن العرض التقديمي .	صح خطأ
2.	المخططات البيانية المستخدمة في برنامج العروض التقديمية تمثل البيانات الرقمية .	صح خطأ
3.	يمكن استخدام أي نوع من رسومات smart art لتقديم أي نوع من المعلومات .	صح خطأ
4.	لا يوضح تأثير الحركة طريقة ظهور الصورة أو اختفائها تدريجيا .	صح خطأ

السؤال الثالث *** عددي اثنان من طرق عرض الشرائح :-

1-.....

2-.....



اختبار الفترة الثانية مادة المهارات الرقمية للصف (الأول المتوسط) - نموذج (ب) -

مستعينة بالله أجيب عن الأسئلة التالية (الجزء النظري):-

السؤال الاول *** اختاري الإجابة الصحيحة :-

1. لإعداد عروض تقديمية نستخدم برنامج مايكروسوفت					
أ.	Word وورد	ب.	Excel اكسل	ج.	بوربوينت
د.	Access				
2. يمكن ادراج ملفات صوت او فيديو في					
أ.	الشريحة الأخيرة فقط .	ب.	الشريحة الأولى فقط .	ج.	في أي شريحة .
د.	الشريحة الأولى والأخيرة فقط				
3. تأثيرات الحركة التي تحدث عند الإنتقال من شريحة إلى شريحة أخرى عند تقديم العرض .					
أ.	انتقالات .	ب.	حركات .	ج.	ادراج .
د.	تصميم .				
4. هي مواضع أعلى وأسفل كل شريحة يمكنك من كتابة معلومات حول العرض التقديمي وتظهر في كافة الشرائح:					
أ.	الرأس والتذييل	ب.	الملاحظات .	ج.	السمات .
د.	طرق العرض				

السؤال الثاني *** اختاري العلامة الصحيحة (صح) او (خطأ):-

م	العبارة	اختاري العلامة
1.	لا يجب أن تأخذ بعين الإعتبار آراء الآخرين وانتقاداتهم بشأن العرض التقديمي .	صح خطأ
2.	يوضح تأثير الحركة طريقة ظهور الصورة أو اختفائها تدريجيا .	صح خطأ
3.	يمكن استخدام أي نوع من رسومات smart art لتقديم أي نوع من المعلومات .	صح خطأ
4.	المخططات البيانية المستخدمة في برنامج العروض التقديمية تمثل البيانات الرقمية .	صح خطأ

السؤال الثالث *** عددي اثنان من طرق عرض الشرائح :-

1-

2-



اختبار الفترة الثانية مادة المهارات الرقمية لمعلومات للصف (الأول المتوسط) - نموذج (ج) -

مستعينة بالله أجيب عن الأسئلة التالية (الجزء النظري):

السؤال الاول *** اختاري الإجابة الصحيحة :-

1. لإعداد عروض تقديمية نستخدم برنامج مايكروسوفت					
أ.	بوربوينت	ب.	Excel اكسل	ج.	Word وورد
د.	Access				
2. تأثيرات الحركة التي تحدث عند الانتقال من شريحة إلى شريحة أخرى عند تقديم العرض .					
أ.	ادراج .	ب.	حركات .	ج.	انتقالات .
د.	تصميم .				
3. هي مواضع أعلى وأسفل كل شريحة يمكنك من كتابة معلومات حول العرض التقديمي وتظهر في كافة الشرائح:					
أ.	الملاحظات .	ب.	طرق العرض	ج.	الرأس والتذييل
د.	السمات .				
4. يمكن ادراج ملفات صوت او فيديو في					
أ.	الشريحة الأولى فقط .	ب.	الشريحة الأخيرة فقط	ج.	في أي شريحة
د.	الشريحة الأولى والأخيرة فقط .				

السؤال الثاني *** اختاري العلامة الصحيحة (صح) او (خطأ):-

م	العبرة	اختاري العلامة
1.	يجب أن تأخذ بعين الإعتبار آراء الآخرين وانتقاداتهم بشأن العرض التقديمي .	صح خطأ
2.	المخططات البيانية المستخدمة في برنامج العروض التقديمية تمثل البيانات الرقمية .	صح خطأ
3.	يمكن استخدام أي نوع من رسومات smart art لتقديم أي نوع من المعلومات .	صح خطأ
4.	لا يوضح تأثير الحركة طريقة ظهور الصورة أو اختفائها تدريجياً .	صح خطأ

السؤال الثالث *** عددي اثنان من طرق عرض الشرائح :-

1-

2-

الاسم / الصف

10

السؤال الأول : ضعي علامة ✓ امام العبارات الصحيحة وعلامة ✗ امام العبارات الخاطئة :

- 1- تستخدم المخططات لمقارنة القيم ()
- 2- لايمكنك استخدام العمليات الحسابية في IF ()
- 3- في اكسل تبدأ جميع الدوال بعلامة التساوي "=" ()
- 4- في كل مره تقوم بتعديل بيانات جدولك لايجب عليك ادراج مخطط جديد انما تتعدل البيانات تلقائيا ()
- 5- في دالة IF يجب ان تستخدم علامتي التنصيص عند استخدام النص كشرط ()

السؤال الثاني : اختاري رمز الإجابة الصحيحة فيما يلي :

1- رسم بياني دائري مقسم الى شرائح دائرية يستخدم لإظهار نسب كل جزء :		
أ. المخطط الخطي	ب. المخطط الدائري	ج. المخطط الهرمي
2- تعتبر دالة IF من الدوال :		
أ. المنطقية	ب. العددية	ج. النصية

السؤال الثالث :

اختاري المخطط المناسب لمايلي :		
1	مخطط يستخدم لعرض النسب المئوية
2	مخطط يستخدم لمقارنة القيم
3	مخطط يوضح كيف تتغير البيانات مع مرور الوقت

الدائري



الخطي



الشريطي



الجزء العملي

س1: أ- اختاري الإجابة الصحيحة لكل من العبارات التالية: -

1- تسمى التأثيرات التي تحدث عند الانتقال من شريحة إلى شريحة أخرى أثناء تقديم العرض.			
أ- حركات	ب- تصميم	ج- انتقالات	
2- يمكن إضافة صور او فيديو الى شرائح العرض التقديمي وذلك من قائمة:			
أ- ادراج	ب- تحرير	ج- ملف	
3- يتم إضافة تأثيرات حركية على محتويات الشريحة كالنصوص والصور وذلك من قائمة			
أ- تنسيق	ب- حركات	ج- انتقالات	
4- لإضافة مخطط بياني في برنامج الاكسل من قائمة:			
أ- ادراج	ب- ملف	ج- تنسيق	
5- لإضافة الدالة المنطقية IF من علامة تبويب:			
أ- ادراج	ب- ملف	ج- الصيغ	
6- طريقة العرض الأساسية في برنامج الباوربوينت:			
أ- العادي	ب- فارز الشرائح	ج- للقراء	
7- لإجراء عرض تقديمي من الشريحة الأولى يتم الضغط من لوحة المفاتيح على زر			
أ- F6	ب- F2	ج- F5	

س3/ من خلال دراستك لدالة IF صلي العمود الأول بما يناسبه من العمود الثاني :

العمود الثاني		العمود الأول	
القيمة المراد إرجاعها عند تقييم logical_test إلى خطأ		Logical_test	1
القيمة المراد إرجاعها عند تقييم logical_test إلى صواب		Value_if_true	2
تعتبر قيمة أو تعبير منطقي يمكن تقييمه على أنه صواب أو خطأ		Value_if_false	3

