

تم تحميل وعرض المادة من



موقع مادتي هو موقع تعليمي يعمل على مساعدة المعلمين والطلاب وأولياء الأمور في تقديم حلول الكتب المدرسية والاختبارات وشرح الدروس والملاحظات والتحاير وتوزيع المنهج لكل المراحل الدراسية بشكل واضح وسهل مجاناً بتصفح وعرض مباشر أونلاين وتحميل على موقع مادتي

حمل تطبيق مادتي ليصلك كل جديد



اسم الطالب : .....

الصف : ١ /

تقويم نهائي لمادة علوم الصف الأول الفصل الدراسي الثالث لعام ١٤٤٦ هـ

السؤال الأول : ضع علامة (✓) أمام العبارة الصحيحة و علامة (x) أمام العبارات الخاطئة ؟

٦

١- الطقس حالة السماء و الجو خلال سنة .

٢- فصل الصيف أكثر الفصول برودة .

٣- الحركة هي تغير موقع الجسم .

٤- الجاذبية قوة تسحب الأشياء في اتجاه الأرض .

٥- الضوء شكل من أشكال الطاقة يمكننا من رؤية الأشياء .

٦- الصوت يحدث نتيجة اهتزاز الأشياء .

السؤال الثاني : أجب عن الأسئلة التالية مستعينا بالصورة أدناه ؟

٥



١- ضع دائرة حول مصدر من مصادر الضوء ؟

٢- ضع خطا حول الصورة التي تمثل قوة الدفع ؟

٣- موقع الكتاب ؟ **أعلى الطاولة** **أسفل الطاولة**

٤- موقع المقص ؟ **يمين السلة** **يسار السلة**

٥- تدل لوحة الجدار على فصل ؟ **الصيف** **الشتاء**

السؤال الثالث : صل كل صورة بالكلمة المناسبة لها ؟

٣



يتبع <<<

مقياس المطر

طقس معتدل

اهتزاز

السؤال الثالث : أختَر الإجابة الصحيحة فيما يلي ؟

٦

٢- تمثل الصورة المجاورة فصل .

٠ الربيع

٠ الشتاء

٠ الخريف




١- يستخدم المقياس المجاور لقياس .

٠ درجة الحرارة

٠ كمية المطر

٠ اتجاه الرياح




٤- نوع حركة المروحة .

٠ متعرجة

٠ دورانية

٠ مستقيمة




٣- نوع القوة المؤثرة .

٠ الدفع

٠ السحب

٠ الاحتكاك



٦- يحدث الصوت نتيجة .

٠ حركة الأشياء

٠ اهتزاز الأشياء

٠ قوة الأشياء




٥- تعتبر الشمس طاقة .

٠ حرارية

٠ كهربائية

٠ صوتية



السؤال الرابع : أكمل الفراغات التالية بالكلمة المناسبة ؟

٦

الحرارة      الربيع      المسطرة      الاحتكاك      مصادر      الصوت

١- ..... مقدار سخونة الشيء أو برودته .

٢- ..... قوة تبطئ حركة الأشياء .

٣- ..... الحرارة ( الشمس - النفط - الغاز ) .

٤- ..... تستخدم لقياس المسافة بين بعدين أو جسمين .

٥- ..... يحدث نتيجة اهتزاز الأجسام .

٦- فصل ..... يكون الجو معتدل و تنمو النباتات ويتوفر الطعام للحيوانات .

انتهت الأسئلة

موقع  
مادنتيري

# نموذج الإجابة

المملكة العربية السعودية  
وزارة التعليم  
إدارة التعليم بـ  
مدرسة :

اسم الطالب : .....

الصف : ١ /

وزارة التعليم

تقويم نهائي لمادة علوم الصف الأول الفصل الدراسي الثالث لعام ١٤٤٦ هـ

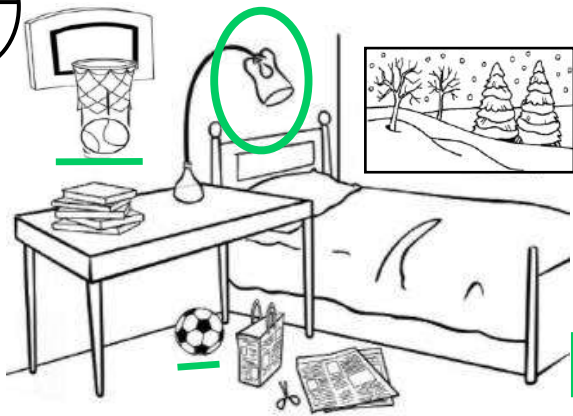
السؤال الأول : ضع علامة (✓) أمام العبارة الصحيحة و علامة (✗) أمام العبارات الخاطئة ؟

٦

- ١- الطقس حالة السماء و الجو خلال سنة . ✓
- ٢- فصل الصيف أكثر الفصول برودة . ✗
- ٣- الحركة هي تغير موقع الجسم . ✓
- ٤- الجاذبية قوة تسحب الأشياء في اتجاه الأرض . ✓
- ٥- الضوء شكل من أشكال الطاقة يمكننا من رؤية الأشياء . ✓
- ٦- الصوت يحدث نتيجة اهتزاز الأشياء . ✓

السؤال الثاني : أجب عن الأسئلة التالية مستعينا بالصورة أدناه ؟

٥



- ١- ضع دائرة حول مصدر من مصادر الضوء ؟
- ٢- ضع خطا حول الصورة التي تمثل قوة الدفع ؟
- ٣- موقع الكتاب ؟ **أعلى الطاولة** أسفل الطاولة
- ٤- موقع المقص ؟ **يمين السلة** يسار السلة
- ٥- تدل لوحة الجدار على فصل ؟ **الشتاء** الصيف

السؤال الثالث : صل كل صورة بالكلمة المناسبة لها ؟

٣



يتبع <<<

مقياس المطر

طقس معتدل

اهتزاز

السؤال الثالث : أختَر الإجابة الصحيحة فيما يلي ؟

٦

٢- تمثل الصورة المجاورة فصل .

٠ الربيع

٠ **الشتاء**

٠ الخريف




١- يستخدم المقياس المجاور لقياس .

٠ درجة الحرارة

٠ كمية المطر

٠ **اتجاه الرياح**




٤- نوع حركة المروحة .

٠ متعرجة

٠ **دورانية**

٠ مستقيمة




٣- نوع القوة المؤثرة .

٠ الدفع

٠ السحب

٠ **الاحتكاك**

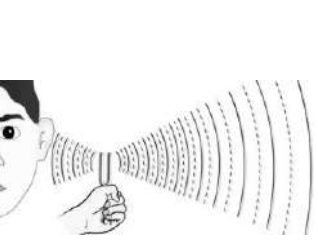


٦- يحدث الصوت نتيجة .

٠ حركة الأشياء

٠ **اهتزاز الأشياء**

٠ قوة الأشياء




٥- تعتبر الشمس طاقة .

٠ **حرارية**

٠ كهربائية

٠ صوتية



السؤال الرابع : أكمل الفراغات التالية بالكلمة المناسبة ؟

٦

الحرارة      الربيع      المسطرة      الاحتكاك      مصادر      الصوت

١- ..... **الحرارة** ..... مقدار سخونة الشيء أو برودته .

٢- ..... **الاحتكاك** ..... قوة تبطئ حركة الأشياء .

٣- ..... **مصادر** ..... الحرارة ( الشمس - النفط - الغاز ) .

٤- ..... **المسطرة** ..... تستخدم لقياس المسافة بين بعدين أو جسمين .

٥- ..... **الصوت** ..... يحدث نتيجة اهتزاز الأجسام .

٦- فصل ..... **الربيع** ..... يكون الجو معتدل و تنمو النباتات ويتوفر الطعام للحيوانات .

## تقويم ختامي لمهارات علوم الصف الأول \_ الفصل الدراسي الثالث لعام ١٤٤٦ هـ

\* / نحيط الأجابة الصحيحة :

<ul style="list-style-type: none"> <li>○ غائم</li> <li>○ مشمس</li> <li>○ ممطر</li> </ul>	<p>المهارة توضيح مفهوم الطقس</p> <p><u>حالة الطقس تمثل :</u></p> 	
<ul style="list-style-type: none"> <li>○ مقياس الرياح</li> <li>○ مقياس المطر</li> <li>○ مقياس الحرارة</li> </ul>	<p>المهارة تعداد الأدوات المختلفة لقياس الطقس</p> <p><u>من ادوات قياس الطقس :</u></p> 	
<ul style="list-style-type: none"> <li>○ الشتاء والصيف</li> <li>○ الخريف والشتاء</li> <li>○ الربيع والخريف</li> </ul>	<p>المهارة تعداد الفصول الأربعة</p> <p><u>الصور تمثل من فصول السنة :</u></p> 	
<ul style="list-style-type: none"> <li>○ الحركة</li> <li>○ التعب</li> <li>○ الموقع</li> </ul>	<p>المهارة التعبير عن مفهوم الحركة</p> <p><u>تغير موقع الشيء يسمى ؟</u></p> 	
<ul style="list-style-type: none"> <li>○ جاذبية</li> <li>○ سحب</li> <li>○ احتكاك</li> </ul>	<p>المهارة تعداد بعض انواع القوى</p> <p><u>نوع القوة التالية :</u></p> 	

<ul style="list-style-type: none"> <li>○ الطاقة</li> <li>○ التعب</li> <li>○ الخمول</li> </ul>	<p>المهارة</p> <p>توضيح مفهوم الطاقة</p> <p><u>الطعام الذي آكله يعطيني؟</u></p> 	
<ul style="list-style-type: none"> <li>○ الطقس</li> <li>○ الغذاء</li> <li>○ أشكال الطاقة</li> </ul>	<p>المهارة</p> <p>ذكر بعض أشكال الطاقة</p> <p><u>الشمس والكهرباء والرياح من:</u></p> 	
<ul style="list-style-type: none"> <li>○ الشمس</li> <li>○ المطر</li> <li>○ الكتب</li> </ul>	<p>المهارة</p> <p>تعداد بعض مصادر الحرارة</p> <p><u>من مصادر الحرارة على الأرض:</u></p> 	
<ul style="list-style-type: none"> <li>○ جسم مظلم</li> <li>○ جسم شفاف</li> <li>○ جسم مضئ</li> </ul>	<p>المهارة</p> <p>استنتاج مفهوم الضوء من خلال مجموعة من الصور</p> <p><u>يسمح بمرور الضوء لأنه:</u></p> 	
<ul style="list-style-type: none"> <li>○ الكهرباء</li> <li>○ السحب</li> <li>○ القلم</li> </ul>	<p>المهارة</p> <p>التمثيل لبعض مصادر الضوء</p> <p><u>من مصادر الضوء:</u></p> 	
<ul style="list-style-type: none"> <li>○ يكتب</li> <li>○ يلعب</li> <li>○ يهتز</li> </ul>	<p>المهارة</p> <p>استنتاج سبب حدوث الصوت</p> <p><u>يصدر صوتاً لأنه.....</u></p> 	

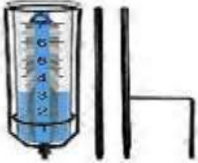

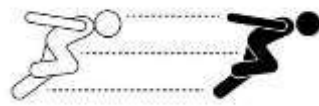

# نموذج الإجابة





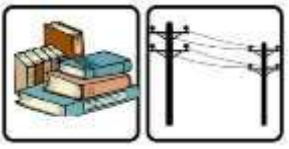

وزارة التعليم

الاسم / .....  
الصف / .....

تقويم ختامي لمهارات علوم الصف الأول \_ الفصل الدراسي الثالث لعام ١٤٤٦ هـ

\*/ نحيط الأجابة الصحيحة :

<p>○ غائم ○ مشمس ○ <b>مطر</b></p>	<p>المهارة توضيح مفهوم الطقس</p> <p><u>حالة الطقس تمثل :</u></p> 	<p>المهارة</p>
<p>○ مقياس الرياح ○ <b>مقياس المطر</b> ○ مقياس الحرارة</p>	<p>المهارة تعداد الأدوات المختلفة لقياس الطقس</p> <p><u>من ادوات قياس الطقس :</u></p> 	<p>المهارة</p>
<p>○ الشتاء والصيف ○ الخريف والشتاء ○ <b>الربيع والخريف</b></p>	<p>المهارة تعداد الفصول الأربعة</p> <p><u>الصور تمثل من فصول السنة :</u></p> 	<p>المهارة</p>
<p>○ <b>الحركة</b> ○ التعب ○ الموقع</p>	<p>المهارة التعبير عن مفهوم الحركة</p> <p><u>تغير موقع الشيء يسمى ؟</u></p> 	<p>المهارة</p>
<p>○ جاذبية ○ <b>سحب</b> ○ احتكاك</p>	<p>المهارة تعداد بعض انواع القوى</p> <p><u>نوع القوة التالية :</u></p> 	<p>المهارة</p>

<ul style="list-style-type: none"> <li>○ الطاقة</li> <li>○ التعب</li> <li>○ الخمول</li> </ul>	<p>المهارة</p> <p>توضيح مفهوم الطاقة</p> <p><u>الطعام الذي آكله يعطيني ؟</u></p> 	<p>المهارة</p>
<ul style="list-style-type: none"> <li>○ الطقس</li> <li>○ الغذاء</li> <li>○ أشكال الطاقة</li> </ul>	<p>المهارة</p> <p>ذكر بعض أشكال الطاقة</p> <p><u>الشمس والكهرباء والمراوح من :</u></p> 	<p>المهارة</p>
<ul style="list-style-type: none"> <li>○ الشمس</li> <li>○ المطر</li> <li>○ الكتب</li> </ul>	<p>المهارة</p> <p>تعداد بعض مصادر الحرارة</p> <p><u>من مصادر الحرارة على الارض:</u></p> 	<p>المهارة</p>
<ul style="list-style-type: none"> <li>○ جسم مظلم</li> <li>○ جسم شفاف</li> <li>○ جسم مضئ</li> </ul>	<p>المهارة</p> <p>استنتاج مفهوم الضوء من خلال مجموعة من الصور</p> <p><u>يسمح بمرور الضوء لأنه :</u></p> 	<p>المهارة</p>
<ul style="list-style-type: none"> <li>○ الكهرباء</li> <li>○ السحب</li> <li>○ القلم</li> </ul>	<p>المهارة</p> <p>التمثيل لبعض مصادر الضوء</p> <p><u>من مصادر الضوء :</u></p> 	<p>المهارة</p>
<ul style="list-style-type: none"> <li>○ يكتب</li> <li>○ يلعب</li> <li>○ يهتز</li> </ul>	<p>المهارة</p> <p>استنتاج سبب حدوث الصوت</p> <p><u>يصدر صوتا لأنه .....</u></p> 	<p>المهارة</p>

التاريخ:	 وزارة التعليم Ministry of Education	المملكة العربية السعودية
المادة: العلوم		وزارة التعليم
الصف: الأول الابتدائي		الإدارة العامة للتعليم بمنطقة .....
الفصل / .....		اسم الطالب/ة .....

## تقويم ختامي لمهارات علوم الصف الأول - (الفصل الدراسي الثالث) عام ١٤٤٦

السؤال الأول: نكتب (الصيف\_ الشتاء\_ الربيع\_ الخريف) تحت صورة كل فصل:










السؤال الثاني: نصل كل كلمة بالصورة المناسبة:

السؤال الثاني:



غانم

ضوء

حرارة

صوت

دفع

السؤال الثالث: نحدد موقع الأشياء ب (تحت\_ يمين - فوق \_ خلف ) تحت كل صورة :










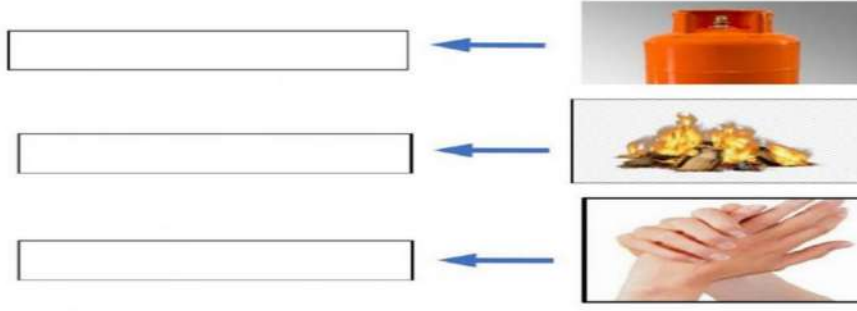

السؤال الرابع: \* نضع إشارة صح تحت الجسم الذي يسمح بمرور الضوء من خلاله :



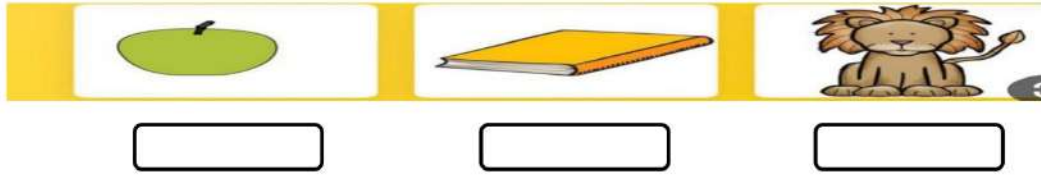
ب/ ايهما نلبس في فصل الشتاء ؟



السؤال الخامس: نكتب مصادر الحرارة بجانب كل صورة ( الاحتكاك \* احتراق الخشب \* الغاز )



السؤال السادس: ١. أيهما يصدر صوت:



٢ / ما مصادر الضوء الطبيعية على الأرض:



السؤال السابع: ١. نصف نوع الحركة في الصور التالية ( دورانية \* مستقيم \* متعرج ):



ب. نصل كل مفردة بمعناها

مقدار البعد بين جسمين

السرعة

وصف حركة الجسم سريعة او بطيئة

المسافة



بالتوفيق يا صغاري

سكره الشمري

# نموذج الاجابة

المملكة العربية ال  
وزارة التعل  
الإدارة العامة للتعليم ب

الصف: الأول الابتدائي

Ministry of Education

الفصل / .....

اسم الطالب/ة .....

تقويم ختامي لمهارات علوم الصف الأول - (الفصل الدراسي الثالث) عام ١٤٤٦

السؤال الأول: نكتب (الصيف الشتاء الربيع الخريف) تحت صورة كل فصل:



الخريف



الربيع



الشتاء



الصيف

السؤال الثاني: نصل كل كلمة بالصورة المناسبة:



غانم

ضوء

حرارة

صوت

دفع

السؤال الثالث: نحدد موقع الأشياء ب (تحت - يمين - فوق - خلف) تحت كل صورة:



فوق



تحت



يمين



خلف

السؤال الرابع: \* نضع إشارة صح تحت الجسم الذي يسمح بمرور الضوء من خلاله:

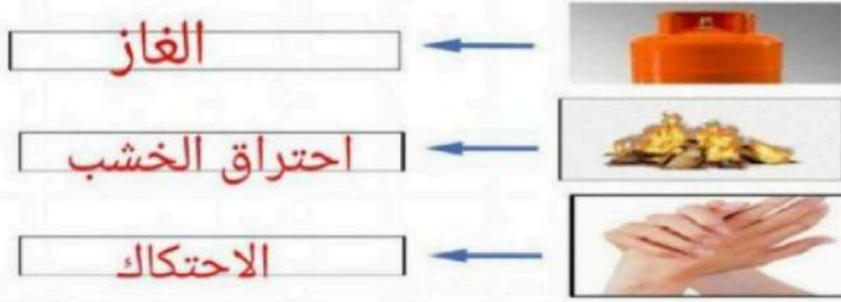


ب/ ايهما نلبس في فصل الشتاء؟




غيب عطاء مة

السؤال الخامس: نكتب مصادر الحرارة بجانب كل صورة ( الاحتكاك \* احتراق الخشب \* الغاز )



السؤال السادس: ١ أيها يصدر صوت:



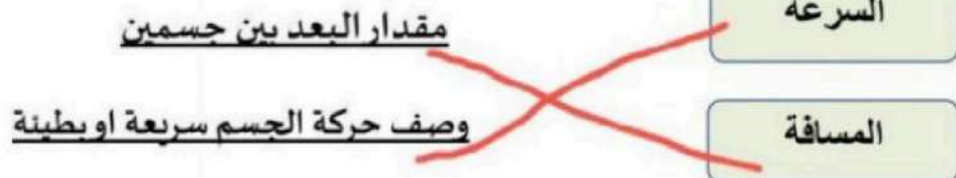
٢ / ما مصادر الضوء الطبيعية على الأرض:



السؤال السابع: ١ نصف نوع الحركة في الصور التالية ( دورانية \* مستقيم \* متعرج ):



ب نصل كل مفردة بمعناها



بالتوفيق يا صغاري  
سكره الشمري

موقع  
**مادتي**



# تقويم ختامي لمهارات العلوم الصف الأول - ١٤٤٥



نكتب. ( الشتاء - الصيف - الربيع - الخريف ) تحت كل فصل :



.....

.....

.....

.....

نصل كل كلمة بالصورة المناسبة:



غانم

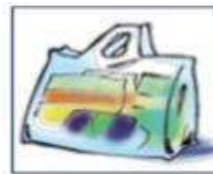
ضوء

حرارة

صوت

دفع

\* نضع إشارة **صح** تحت الجسم الذي يسمح بمرور الضوء من خلاله :



أيهما نلبس في فصل الشتاء ؟

مادتي

موقع

# تقويم ختامي لمهارات العلوم الصف الأول - ١٤٤٥

نكتب. مصادر الحرارة بجانب كل صورة ( الاحتكاك - احتراق الخشب - الغاز ) :



.....

.....

.....


١. أيهما يصدر صوت :



٢ / ما مصادر الضوء الطبيعية على الأرض :



نصف نوع الحركة في الصور التالية ( دورانية \* مستقيم \* متعرج ) :



.....

.....

.....



# نموذج الاجابة

تقويم ختامي لمقاربات العلوم الصف  
الأول - ١٤٤٥



نكتب. ( الشتاء - الصيف - الربيع - الخريف ) تحت كل فصل :



الشتاء



الصيف



الخريف



الربيع

نصل كل كلمة بالصورة المناسبة:



غانم

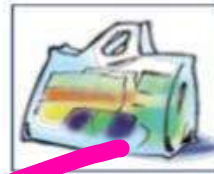
ضوء

حرارة

صوت

دفع

+ نضع إشارة صح تحت الجسم الذي يسمح بمرور الضوء من خلاله :



اهما نلبس في فصل الشتاء ؟



موقع مادتي

# تقويم ختامي لمهارات العلوم الصف الأول - ١٤٤٥

نكتب. مصادر الحرارة بجانب كل صورة ( الاحتكاك - احتراق الخشب - الغاز ) :



الإحتكاك



الغاز



احتراق الخشب

١. أيهما يصدر صوت :



٢. ما مصادر الضوء الطبيعية على الأرض :




نصف نوع الحركة في الصور التالية ( دورانية \* مستقيم \* متعرج ) :



دورانية



متعرج



مستقيم