

تم تحميل وعرض المادة من



موقع مادتي هو موقع تعليمي يعمل على مساعدة المعلمين والطلاب وأولياء الأمور في تقديم حلول الكتب المدرسية والاختبارات وشرح الدروس والملاحظات والتحاير وتوزيع المنهج لكل المراحل الدراسية بشكل واضح وسهل مجاناً بتصفح وعرض مباشر أونلاين وتحميل على موقع مادتي

حمل تطبيق مادتي ليصلك كل جديد



بسم الله الرحمن الرحيم

المملكة العربية السعودية		المملكة العربية السعودية
وزارة التعليم		وزارة التعليم
إدارة تعليم		إدارة تعليم
مدرسة		مدرسة
الدرجة كتابة:		الدرجة كتابة:
اسم المصحح	اسم المصحح	اسم المصحح
اسم المراجع	اسم المراجع	اسم المراجع

إختبار نهاية الفصل الدراسي الثالث (الدور الأول) لعام ١٤٤٦ هـ

اسم الطالب:
٢٠

السؤال الأول: (أ) ضع علامة (√) أمام العبارة الصحيحة وعلامة (X) أمام العبارة الخاطئة:

١	تركز رؤية المملكة ٢٠٣٠ على استثمار الموارد البشرية	()
٢	تعد المناطق الجبلية في جنوب السعودية عامل جذب سياحي	()
٣	الخريطة : رسم توضيحي مصغر لسطح الأرض أو لجزء منه	()
٤	استعمال الخرائط الرقمية والحصول عليها أسهل من الخريطة الورقية	()
٥	توزيع سكان العالم ليس منتظما بل يتفاوت بين الدول والمدن ومن قارة إلى أخرى	()
٦	يكثر السكان في السهول والهضاب غير الوعرة	()
٧	تنقسم مصادر المياه إلى قسمين : المياه العذبة ، المياه المالحة	()
٨	تزداد الكثافة السكانية في المناطق ذات المناخ المعتدل	()
٩	النفط هو من أهم الموارد في وطني المملكة العربية السعودية	()
١٠	حقول النفط في وطني كثيرة منها حقول برية وحقول بحرية	()
١١	من المعادن المهمة والمتوفرة في وطني : الذهب والفضة والحديد	()
١٢	من أهم المحاصيل الزراعية في وطني : القمح والتمور والخضروات	()
١٣	من صادرات وطني : السيارات والطائرات والقطارات	()
١٤	تزداد الكثافة السكانية في الجبال الشاهقة والصحاري الجافة	()
١٥	أسست شركة (أرامكو السعودية) للعناية بالزراعة	()

(ب) صنف الموارد الطبيعية الآتية في الجدول الآتي:

الحيوانات	النفط	الحديد	النباتات	الرياح
-----------	-------	--------	----------	--------

موارد طبيعية متجددة	موارد طبيعية غير متجددة

السؤال الثاني (أ) إختار الإجابة الصحيحة:

٢٠

١	قبل إكتشاف النفط تأتي الزراعة في صدارة الأنشطة :	السكانية	الرياضية	الثقافية
٢	من عوامل نجاح الزراعة:	التربة	البحار	الرمال
٣	من فوائد الصناعة:	توفير فرص العمل	قلة المال	عدم تطور الدول
٤	تراجعت حرفة الرعي في وطني بسبب:	تدهور المراعي الطبيعية	البحار	المحيطات
٥	لتسرب المياه إلى باطن الأرض أثر كبير في ارتفاع منسوب :	المياه الجوفية	مياه البحر	مياه المحيط
٦	معظم حقول النفط في وطني في المنطقة:	الغربية	الجنوبية	الشرقية
٧	المياه التي تملأ سطح الأرض ولا تحتاج إلى جهد لاستخراجها هي :	مياه البحر المحلاة	المياه الجوفية	المياه السطحية
٨	يقع وطني المملكة العربية السعودية ضمن المنطقة التي يتسم مناخها ب :	البرودة	الثلوج	الجفاف
٩	تنقسم النباتات في وطني المملكة العربية السعودية إلى قسمين: النباتات الحولية، والنباتات :	الصنوبرية	البلوط	المعمرة
١٠	من أسباب قلة الثروة الحيوانية في وطني :	توفير الدعم لمربي الماشية	تنوع الأعلاف	ضعف حرفة الرعي
١١	من أهم مقومات الصناعة :	الزراعة	الرعي	رأس المال
١٢	حركة البيع والشراء :	الجغرافيا	التاريخ	التجارة
١٣	هو الفرق بين قيمة صادرات الدولة وقيمة وارداتها :	الصناعة	الوظائف الحكومية	الميزان التجاري
١٤	من أهم العناصر المناخية المؤثرة في نوع النبات وكثافته :	الجبال	الصحراء	الأمطار
١٥	من المراحل الأولى التي تمر بها صناعة النفط :	الشراء	الاستيراد	الاستطلاع

(ب) إختار من المجموعة (أ) ما يناسبها في المجموعة (ب) مستعينا " بالأرقام "

المجموعة (أ)	الأرقام	المجموعة (ب)
١ من أشهر الأودية في وطني	()	الغوار
٢ من موارد المياه في وطني	()	السفانية
٣ من العوامل المؤثرة في نمو النبات الطبيعي	()	المناخ
٤ أكبر حقل نفطي بحري في العالم	()	مياه البحر المحلاه
٥ أكبر حقل نفطي بري في العالم	()	وادي الرمة

بسم الله الرحمن الرحيم

المملكة العربية السعودية		الفصل الدراسي الثالث
وزارة التعليم		المادة: الدراسات الاجتماعية
إدارة تعليم		الصف: الخامس الابتدائي
مدرسة		الزمن : ساعة
الدرجة كتابة:		٤٠ ٤٠
اسم المصحح	توقيعه	
اسم المراجع	توقيعه	

إختبار نهاية الفصل الدراسي الثالث (الدور الأول) لعام ١٤٤٦ هـ

اسم الطالب:	<h1>نموذج الاجابة</h1>	٢٠
		٢٠

السؤال الأول: (أ) ضع علامة (√) أمام العبارة الصحيحة وعلامة (X) أمام العبارة الخاطئة:

١	تركز رؤية المملكة ٢٠٣٠ على استثمار الموارد البشرية	√
٢	تعد المناطق الجبلية في جنوب السعودية عامل جذب سياحي	√
٣	الخريطة : رسم توضيحي مصغر لسطح الأرض أو لجزء منه	√
٤	استعمال الخرائط الرقمية والحصول عليها أسهل من الخريطة الورقية	√
٥	توزيع سكان العالم ليس منتظما بل يتفاوت بين الدول والمدن ومن قارة إلى أخرى	√
٦	يكثر السكان في السهول والهضاب غير الوعرة	√
٧	تنقسم مصادر المياه إلى قسمين : المياه العذبة ، المياه المالحة	√
٨	تزداد الكثافة السكانية في المناطق ذات المناخ المعتدل	√
٩	النفط هو من أهم الموارد في وطني المملكة العربية السعودية	√
١٠	حقول النفط في وطني كثيرة منها حقول برية وحقول بحرية	√
١١	من المعادن المهمة والمتوفرة في وطني : الذهب والفضة والحديد	√
١٢	من أهم المحاصيل الزراعية في وطني : القمح والتمور والخضروات	√
١٣	من صادرات وطني : السيارات والطائرات والقطارات	X
١٤	تزداد الكثافة السكانية في الجبال الشاهقة والصحاري الجافة	X
١٥	أسست شركة (أرامكو السعودية) للعناية بالزراعة	X

(ب) صنف الموارد الطبيعية الآتية في الجدول الآتي:

الحيوانات	النفط	الحديد	النباتات	الرياح
-----------	-------	--------	----------	--------

موارد طبيعية متجددة	موارد طبيعية غير متجددة
الحيوانات	النفط
النباتات	الحديد
الرياح	

السؤال الثاني (أ) إختار الإجابة الصحيحة:

٢٠
٢٠

١	قبل إكتشاف النفط تأتي الزراعة في صدارة الأنشطة :	السكانية	الرياضية	الثقافية
٢	من عوامل نجاح الزراعة:	التربة	البحار	الرمال
٣	من فوائد الصناعة:	توفير فرص العمل	قلة المال	عدم تطور الدول
٤	تراجعت حرفة الرعي في وطني بسبب:	تدهور المراعي الطبيعية	البحار	المحيطات
٥	لتسرب المياه إلى باطن الأرض أثر كبير في ارتفاع منسوب :	المياه الجوفية	مياه البحر	مياه المحيط
٦	معظم حقول النفط في وطني في المنطقة:	الغربية	الجنوبية	الشرقية
٧	المياه التي تملأ سطح الأرض ولا تحتاج إلى جهد لاستخراجها هي :	مياه البحر المحلاة	المياه الجوفية	المياه السطحية
٨	يقع وطني المملكة العربية السعودية ضمن المنطقة التي يتسم مناخها ب :	البرودة	الثلوج	الجفاف
٩	تنقسم النباتات في وطني المملكة العربية السعودية إلى قسمين: النباتات الحولية، والنباتات :	الصنوبرية	البلوط	المعمرة
١٠	من أسباب قلة الثروة الحيوانية في وطني :	توفير الدعم لمربي الماشية	تنوع الأعلاف	ضعف حرفة الرعي
١١	من أهم مقومات الصناعة :	الزراعة	الرعي	رأس المال
١٢	حركة البيع والشراء :	الجغرافيا	التاريخ	التجارة
١٣	هو الفرق بين قيمة صادرات الدولة وقيمة وارداتها :	الصناعة	الوظائف الحكومية	الميزان التجاري
١٤	من أهم العناصر المناخية المؤثرة في نوع النبات وكثافته :	الجبال	الصحراء	الأمطار
١٥	من المراحل الأولى التي تمر بها صناعة النفط :	الشراء	الاستيراد	الاستطلاع

(ب) إختار من المجموعة (أ) ما يناسبها في المجموعة (ب) مستعينا " بالأرقام "

المجموعة (أ)	الارقام	المجموعة (ب)
١ من أشهر الأودية في وطني	٥	الغوار
٢ من موارد المياه في وطني	٤	السفانية
٣ من العوامل المؤثرة في نمو النبات الطبيعي	٣	المناخ
٤ أكبر حقل نفطي بحري في العالم	٢	مياه البحر المحلاه
٥ أكبر حقل نفطي بري في العالم	١	وادي الرمة

المصحح : التوقيع: المراجع التوقيع: الدرجة كتابة: درجة

اسم الطالب : رقم الجلوس ()

السؤال الأول / اختر الإجابات الصحيحة فيما يلي بوضع دائرة حولها:

٢٠

١	هي حركة البيع والشراء لمختلف أنواع السلع هي:	أ	التجارة	ب	الرعي	ج	الخدمات
٢	الذي أنشأ أول خريطة عالمية هو العالم المسلم :	أ	محمد الإدريسي	ب	ابن سينا	ج	الحسن بن الهيثم
٣	من عوامل نجاح الزراعة :	أ	الآلات الحديثة	ب	قلة المياه	ج	الرعي الجائر
٤	هي كل ما أودعه الله تعالى في الطبيعة من مخزون لتلبية احتياجات الانسان:	أ	الموارد الطبيعية	ب	الانشطة الاقتصادية	ج	التضاريس
٥	هي احدى مقومات الحياة ومن صفاتها مقاومة الجفاف:	أ	النباتات المعمرة	ب	نباتات الزينة في الشوارع	ج	النباتات المعمرة
٦	من أسباب كثافة السكان في السهول :	أ	سهولة البناء والتنقل	ب	قلة المياه	ج	ارتفاع درجات الحرارة
٧	هي تحويل المادة الخام الموجودة في الطبيعة الغير مستفاد منها الى منتجات مفيدة :	أ	الصناعة	ب	الزراعة	ج	الرعي
٨	تأتي الزراعة في الصدارة بين الأنشطة:	أ	الاقتصادية	ب	الثقافية	ج	الرياضية
٩	من فوائد الصناعة:	أ	توفير الأراضي	ب	توفير فرص العمل	ج	توفير الطاقة
١٠	هي رسم توضيحي مصغر لسطح الأرض أو لجزء منه	أ	الصورة الجوية	ب	مقياس الرسم	ج	الخريطة


السؤال الثاني / أكمل

أ - من مقومات الصناعة :

١ - ٢ -

ب - من اهم المعادن في وطني

١ - ٢ -



السؤال الثالث/ ضع علامة (√) أمام العبارات الصحيحة وعلامة (x) أمام العبارات غير الصحيحة:

١٠

١. توزيع السكان في العالم ليس منتظماً	() .
٢. يكثر السكان في السهول والهضاب غير الوعرة	() .
٣. من أهم صادرات المملكة النفط والتمور	() .
٤. تراجعت حرفة الرعي بسبب تدهور المراعي	() .
٥. لا تعد الثروة الحيوانية من الموارد الاقتصادية في وطني	() .
٦. تسمى النباتات الحولية بالنباتات الموسمية مثل نبات الأقحوان	() .
٧. تستورد المملكة وسائل النقل ومنها السيارات والطائرات	() .
٨. حقل الغوار هو أكبر حقل بري في العالم	() .
٩. يأتي وطني في المركز الخامس عالمياً في احتياطي النفط	() .
١٠. تزداد الكثافة السكانية في المناطق القطبية	() .

السؤال الرابع / ضع الكلمات الموجودة في الجدول التالي في الفراغ المناسب:

٦

الرقمية	السمر	مياه البحر المحلاة	الخدمات	التضاريس	المياه الجوفية
---------	-------	--------------------	---------	----------	----------------

١. تتولى الهيئة العامة للمساحة والمعلومات الجيومكانية إنتاج الخرائط
٢. يعنى بتوزيع السكان من أجل توزيع عليهم.
٣. من أنواع النباتات المعمرة
٤. يسهم تنوع في اختلاف الغطاء النباتي.
٥. هي المياه الموجودة في باطن الأرض.
٦. هي المياه المنقاة من الأملاح والشوائب.

--- انتهت الأسئلة ---

نموذج الإجابة

السؤال الأول / اختر الإجابات الصحيحة فيما يلي بوضع دائرة حولها:

٢٠

١	هي حركة البيع والشراء لمختلف أنواع السلع هي:	أ	التجارة	ب	الرعي	ج	الخدمات
٢	الذي أنشأ أول خريطة عالمية هو العالم المسلم :	أ	محمد الإدريسي	ب	ابن سينا	ج	الحسن بن الهيثم
٣	من عوامل نجاح الزراعة :	أ	الألات الحديثة	ب	قلة المياه	ج	الرعي الجائر
٤	هي كل ما أودعه الله تعالى في الطبيعة من مخزون لتلبية احتياجات الإنسان:	أ	الموارد الطبيعية	ب	الانشطة الاقتصادية	ج	التضاريس
٥	هي إحدى مقومات الحياة ومن صفاتها مقاومة الجفاف:	أ	النباتات المعمرة	ب	نباتات الزينة في الشوارع	ج	النباتات المعمرة
٦	من أسباب كثافة السكان في السهول :	أ	سهولة البناء والتنقل	ب	قلة المياه	ج	ارتفاع درجات الحرارة
٧	هي تحويل المادة الخام الموجودة في الطبيعة الغير مستفاد منها الى منتجات مفيدة :	أ	الصناعة	ب	الزراعة	ج	الرعي
٨	تأتي الزراعة في الصدارة بين الأنشطة:	أ	الاقتصادية	ب	الثقافية	ج	الرياضية
٩	من فوائد الصناعة:	أ	توفير الأراضي	ب	توفير فرص العمل	ج	توفير الطاقة
١٠	هي رسم توضيحي مصغر لسطح الأرض أو لجزء منه	أ	الصورة الجوية	ب	مقياس الرسم	ج	الخريطة

السؤال الثاني / أكمل


أ - من مقومات الصناعة :

١ رأس المال - وسائل النقل - ٢ - المادة الخام - مصادر الطاقة

ب - من أهم المعادن في وطني

١ الذهب، الفضة، والرصاص - ٢ - النحاس، والحديد، والقصدير

انظر خلف الورقة



السؤال الثالث/ ضع علامة (√) أمام العبارات الصحيحة وعلامة (x) أمام العبارات غير الصحيحة:

١٠

١. توزيع السكان في العالم ليس منتظماً	(√)
٢. يكثر السكان في السهول والهضاب غير الوعرة	(√)
٣. من أهم صادرات المملكة النفط والتمور	(√)
٤. تراجعت حرفة الرعي بسبب تدهور المراعي	(√)
٥. لا تعد الثروة الحيوانية من الموارد الاقتصادية في وطني	(x)
٦. تسمى النباتات الحولية بالنباتات الموسمية مثل نبات الأقحوان	(√)
٧. تستورد المملكة وسائل النقل ومنها السيارات والطائرات	(√)
٨. حقل الغوار هو أكبر حقل بري في العالم	(√)
٩. يأتي وطني في المركز الخامس عالمياً في احتياطي النفط	(x)
١٠. تزداد الكثافة السكانية في المناطق القطبية	(x)

السؤال الرابع / ضع الكلمات الموجودة في الجدول التالي في الفراغ المناسب:

٦

الرقمية	السمر	مياه البحر المحلاة	الخدمات	التضاريس	المياه الجوفية
---------	-------	--------------------	---------	----------	----------------

١. تتولى الهيئة العامة للمساحة والمعلومات الجيومكانية إنتاج الخرائط	الرقمية
٢. يعنى بتوزيع السكان من أجل توزيع	الخدمات
٣. من أنواع النباتات المعمرة	السمر
٤. يسهم تنوع	التضاريس
٥. هي المياه الموجودة في باطن الأرض.	المياه الجوفية
٦. مياه البحر المحلاة	هي المياه المنقاة من الأملاح والشوائب.

--- انتهت الأسئلة ---

المادة: الدراسات الاجتماعية
الصف: الخامس الابتدائي
الزمن: ساعة
التاريخ:



المملكة العربية السعودية
وزارة التعليم
الإدارة العامة للتعليم بمنطقة
مدرسة

أسئلة الفصل الدراسي الثالث (الدور الأول) للعام ١٤٤٦ هـ

اسم الطالبة: رقم الجلوس:

الدرجة كتابة	الدرجة بعد المراجعة	المراجع	الدرجة كتابة	الدرجة	المصحح
		التوقيع			التوقيع
	٤٠			٤٠	

السؤال الأول: أ) ضع علامة (√) امام العبارة الصحيحة وعلامة (×) امام العبارة الخاطئة:

()	تعد المعادن من أهم الثروات الاقتصادية في وطني	(١)
()	تنقسم التجارة في وطني الى داخلية وخارجية	(٢)
()	من أهم صادرات المملكة النفط والتمور	(٣)
()	توزيع السكان في العالم ليس منتظم بل يتفاوت من مكان الى اخر	(٤)
()	يكثر السكان في المدن الساحلية والسهول	(٥)
()	تراجعت حرفة الرعي بسبب انتقال الناس الى المدن	(٦)
()	يبتعد الانسان عن المناطق الاستوائية بسبب ارتفاع رطوبة الجو	(٧)
()	اول من رسم الخرائط البابليون في العراق والفراعنة في مصر	(٨)
()	تعتبر الشمس من الموارد المتجددة في الطبية	(٩)
()	من صور المحافظة على المياه ترشيد استهلاكها	(١٠)
()	بيع السلع والبضائع وشراها داخل الوطن يسمى تجارة خارجية	(١١)
()	تزداد الكثافة السكانية في الجبال الشاهقة والصحاري الجافة	(١٢)
()	يعتبر نبات الأقحوان من النباتات المعمرة	(١٣)
()	المياه الجوفية هي المياه التي تملأ سطح الأرض ولا تحتاج لجهد لخراجها	(١٤)

(ب) اختاري الإجابة الصحيحة فيما يأتي:

١٤

١	تستعمل مياه الصرف الصحي المعالجة في
أ	ري المنتزهات
ب	الغسيل
ج	الشرب
٢	تأتي الزراعة في الصدارة بين الأنشطة
أ	الأقتصادية
ب	السياحية
ج	الرياضية
٣	هي تحويل المادة الخام الموجودة في الطبية للاستفادة منها
أ	الصناعة
ب	التجارة
ج	الرعي
٤	من عوامل نجاح الزراعة
أ	التربة
ب	البحار
ج	الرمال
٥	من فوائد الصناعة
أ	توفير فرص العمل
ب	توفير المادة الخام
ج	توفير الأراضي
٦	أكبر حقل بري في العالم هو
أ	الغوار
ب	منيفة
ج	السفانية
٧	ينمو نبات التين الشوكي في البيئة
أ	الجبليّة
ب	الأودية
ج	الرمال
٨	من امثلة المياة العذبة
أ	البحار
ب	الانهار
ج	المحيطات
٩	من الموارد الطبيعية الغير متجددة
أ	الرياح
ب	الحديد
ج	الهواء
١٠	تسمى النباتات المعمرة
أ	العشبية
ب	الدائمة
ج	الشوكية
١١	من العوامل البشرية المؤثرة في سكان العالم
أ	المياه
ب	الاقتصاد
ج	المناخ
١٢	يسكن في قارة اسيا من سكان العالم نحو
أ	٤٠٪
ب	٦٠٪
ج	٢٠٪
١٣	تشكل قارة .. ما يقارب ١٪ من سكان العالم
أ	افريقيا
ب	استراليا
ج	أمريكا
١٤	يقوم على تبادل السلع والمنتجات ويشمل التجارة والخدمات هو
أ	النشاط الزراعي
ب	النشاط التجاري
ج	النشاط الصناعي

السؤال الثاني: أ) أملئ الفراغات بالكلمات المساعدة:

التربة

السفانية

الخرائط الرقمية

تنوع الاعلاف

١) هي الخرائط التي يمكن تحديثها بسهولة

٢) تعمل على تثبيت النبات وتمدها بالعناصر الغذائية اللازمة لنموها

٣) من أساليب تنمية الثروة الحيوانية

٤) اكبر حقل نفطي بحري انتاج في العالم هو

ب) صلي المجموعة (أ) بما يناسبها في المجموعة (ب) باستخدام الأرقام:

(أ)	(ب)
١) هي رسم لسطح الأرض او جزء منه	صيد الأسماك
٢) من أهم المعادن الموجودة في وطني	التعليم والصحة
٣) من أهم الخدمات في وطني	الفضة والنحاس
٤) من أهم الأنشطة الاقتصادية في وطني	الخريطة

السؤال الثالث: أذكرني فقط ٤ من مقومات الصناعة :

- ١-
- ٢-
- ٣-
- ٤-

انتهت الأسئلة
والله الموفق

نموذج الإجابة

نموذج إجابة الفصل الدراسي الثالث (الدور الأول) للعام ١٤٤٦ هـ

اسم الطالبة: رقم الجلوس:

الدرجة كتابة	الدرجة بعد المراجعة	المراجع	الدرجة كتابة	الدرجة	المصحح
		التوقيع			التوقيع
	٤٠			٤٠	

السؤال الأول: أ) ضع علامة (√) امام العبارة الصحيحة وعلامة (×) أمام العبارة الخاطئة:

(صح)	تعد المعادن من أهم الثروات الاقتصادية في وطني	(١)
(صح)	تنقسم التجارة في وطني الى داخلية وخارجية	(٢)
(صح)	من أهم صادرات المملكة النفط والتمور	(٣)
(صح)	توزيع السكان في العالم ليس منتظم بل يتفاوت من مكان الى اخر	(٤)
(صح)	يكثر السكان في المدن الساحلية والسهول	(٥)
(صح)	تراجعت حرفة الرعي بسبب انتقال الناس الى المدن	(٦)
(صح)	يبتعد الانسان عن المناطق الاستوائية بسبب ارتفاع رطوبة الجو	(٧)
(صح)	اول من رسم الخرائط البابليون في العراق والفرعنه في مصر	(٨)
(صح)	تعتبر الشمس من الموارد المتجددة في الطبيعة	(٩)
(صح)	من صور المحافظة على المياه ترشيد استهلاكها	(١٠)
(خطأ)	بيع السلع والبضائع وشراها داخل الوطن يسمى تجارة خارجية	(١١)
(خطأ)	تزداد الكثافة السكانية في الجبال الشاهقة والصحاري الجافة	(١٢)
(خطأ)	يعتبر نبات الأقحوان من النباتات المعمرة	(١٣)
(خطأ)	المياه الجوفية هي المياه التي تعلو سطح الأرض ولا تحتاج لجهد لاجراجها	(١٤)

(ب) اختاري الإجابة الصحيحة فيما يأتي:

١٤

١	تستعمل مياه الصرف الصحي المعالجة في			
أ	ري المنتزهات	ب	الغسيل	ج
٢	تأتي الزراعة في الصدارة بين الأنشطة			
أ	الأقتصادية	ب	السياحية	ج
٣	هي تحويل المادة الخام الموجودة في الطبيعة للاستفادة منها			
أ	الصناعة	ب	التجارة	ج
٤	من عوامل نجاح الزراعة			
أ	التربة	ب	البحار	ج
٥	من فوائد الصناعة			
أ	توفير فرص العمل	ب	توفير المادة الخام	ج
٦	أكبر حقل بري في العالم هو			
أ	الغوار	ب	منيفة	ج
٧	ينمو نبات التين الشوكي في البيئة			
أ	الجبليّة	ب	الأودية	ج
٨	من امثلة المياة العذبة			
أ	البحار	ب	الانهار	ج
٩	من الموارد الطبيعية الغير متجددة			
أ	الرياح	ب	الحديد	ج
١٠	تسمى النباتات المعمرة			
أ	العشبية	ب	الدائمة	ج
١١	من العوامل البشرية المؤثرة في سكان العالم			
أ	المياه	ب	الاقتصاد	ج
١٢	يسكن في قارة اسيا من سكان العالم نحو			
أ	٤٠٪	ب	٦٠٪	ج
١٣	تشكل قارة			
أ	افريقيا	ب	استراليا	ج
١٤	يقوم على تبادل السلع والمنتجات ويشمل التجارة والخدمات هو			
أ	النشاط الزراعي	ب	النشاط التجاري	ج

السؤال الثاني: أ) أملئ الفراغات بالكلمات المساعدة:

التربة

السفانية

الخرائط الرقمية

تنوع الاعلاف

١) هي الخرائط التي يمكن تحديثها بسهولة **الخرائط الرقمية**

٢) تعمل على تثبيت النبات وتمدها بالعناصر الغذائية اللازمة لنموها **التربة**

٣) من أساليب تنمية الثروة الحيوانية **تنوع الاعلاف**

٤) اكبر حقل نفطي بحري انتاج في العالم هو **السفانية**

ب) صلي المجموعة (أ) بما يناسبها في المجموعة (ب) باستخدام الأرقام:

(أ)		(ب)
١) هي رسم لسطح الأرض او جزء منه	٤	صيد الأسماك
٢) من أهم المعادن الموجودة في وطني	٣	التعليم والصحة
٣) من أهم الخدمات في وطني	٢	الفضة والنحاس
٤) من أهم الأنشطة الاقتصادية في وطني	١	الخريطة

السؤال الثالث: أذكرني فقط ٤ من مقومات الصناعة :

١ - الأسواق / الكوادر البشرية والخبرة الفنية

٢ - رأس المال / وسائل النقل

٣ - المادة الخام / مصادر الطاقة

انتهت الأسئلة

والله الموفق

الدرجة	المصحح	التوقيع	المراجع	التوقيع
٤٠				

رقم الجلوس

اسم الطالب

اختبار مادة الدراسات الاجتماعية للفصل الدراسي الثالث ١٤٤٦ هـ
استعن بالله ثم أجب على جميع الأسئلة التالية

١٦

السؤال الأول :-

ضع علامة (√) امام العبارة الصحيحة وعلامة (×) امام العبارة الخاطئة مما يلي :-

١. كانت الزراعة في صدارة الأنشطة الاقتصادية للسكان قديما ()
٢. تراجعت حرفة الرعي بسبب تدهور المراعي الطبيعية ()
٣. الصناعة هي تحويل المادة الخام الأولية إلى منتج أكثر فائدة للإنسان ()
٤. تعد المناطق الجبلية في جنوب المملكة عامل جذب سياحي ()
٥. تحرص حكومة وطني المملكة العربية السعودية أن تكون قيمة الواردات أعلى من الصادرات ()
٦. تأتي المملكة العربية السعودية في المركز الأول عالميا في احتياطي النفط ()
٧. أسست شركة أرامكو السعودية للعناية بالزراعة ()
٨. قلة المياه تعد من المشكلات الوطنية ()

السؤال الثاني :-

اختر الرقم من العمود (أ) وضعه أمام ما يناسبه من العمود (ب) :

(أ) (ب)

١. التعليم () البيع والشراء ()
٢. المادة الخام () من الصادرات ()
٣. التمور () من مقومات الصناعة ()
٤. التجارة () من الخدمات ()

ابني الغالي باقي الأسئلة في الخلف ...

السؤال الثالث:-

ضع خطا تحت الإجابة الصحيحة مما يلي :

- ١- من عوامل نجاح الزراعة
أ - التربة ب- الرمال ج- البحار
- ٢- تأتي الزراعة في الصدارة بين الأنشطة :
أ - السكانية ب- الاجتماعية ج- الرياضية
- ٣- أكبر حقول النفط في اليابسة مساحة وإنتاجا في العالم هي:
أ - الغوار ب- منيفه ج- العقيق
- ٤- معظم حقول النفط في المملكة العربية السعودية في المنطقة :
أ - الشرقية ب- الغربية ج- الشمالية
- ٥- تستعمل مياه الصرف الصحي المعالجة في :
أ - ري المنتزهات ب- الشرب ج- المياه السطحية

١٠

السؤال الرابع:-

ضع الكلمات التالية فيما يناسبها من الفراغات :

(تجارة داخلية - فرص العمل - وجود الآلات - السفانية)

- ١- بيع السلع والبضائع وشراؤها داخل الوطن يسمى
- ٢- من فوائد الصناعة توفير
- ٣- من أهم عوامل نجاح الزراعة
- ٤- أكبر حقول نفطي بحري في العالم هو حقول

٨

السؤال الخامس :-

أذكر اثنين من أبرز صادرات وطني المملكة العربية السعودية ؟

.....
.....

٢

نموذج الإجابة

التوقيع	المراجع	التوقيع	المصحح

اسم الطالب.....

اختبار مادة الدراسات الاجتماعية للفصل الدراسي الثالث ١٤٤٦ هـ
استعن بالله ثم أجب على جميع الأسئلة التالية

١٦

السؤال الأول :-

ضع علامة (√) امام العبارة الصحيحة وعلامة (×) امام العبارة الخاطئة مما يلي :-

()
()
()
()
()
()
()
()

١. كانت الزراعة في صدارة الأنشطة الاقتصادية للسكان قديما
٢. تراجعت حرفة الرعي بسبب تدهور المراعي الطبيعية
٣. الصناعة هي تحويل المادة الخام الأولية إلى منتج أكثر فائدة للإنسان
٤. تعد المناطق الجبلية في جنوب المملكة عامل جذب سياحي
٥. تحرص حكومة وطني المملكة العربية السعودية أن تكون قيمة الواردات أعلى من الصادرات
٦. تأتي المملكة العربية السعودية في المركز الأول عالميا في احتياطي النفط
٧. أسست شركة أرامكو السعودية للعناية بالزراعة
٨. قلة المياه تعد من المشكلات الوطنية

السؤال الثاني :-

اختر الرقم من العمود (أ) وضعه امام ما يناسبه من العمود (ب) :

(ب)

(أ)

١. التعليم (4) البيع والشراء
٢. المادة الخام (3) من الصادرات
٣. التمور (2) من مقومات الصناعة
٤. التجارة (1) من الخدمات

ابني الغالي باقي الأسئلة في الخلف ...

السؤال الثالث:-

ضع خطا تحت الإجابة الصحيحة ممايلي :

١- من عوامل نجاح الزراعة

أ - التربة ب- الرمال ج- البحار

٢- تأتي الزراعة في الصدارة بين الأنشطة :

أ - السكانية ب- الاجتماعية ج- الرياضية

٣- أكبر حقول النفط في اليابسة مساحة وإنتاجا في العالم هي:

أ - الغوار ب- منيفه ج- العقيق

٤- معظم حقول النفط في المملكة العربية السعودية في المنطقة :

أ - الشرقية ب- الغربية ج- الشمالية

٥- تستعمل مياه الصرف الصحي المعالجة في :

أ - ري المنتزهات ب- الشرب ج- المياه السطحية

١٠

السؤال الرابع:-

ضع الكلمات التالية فيما يناسبها من الفراغات :

(تجارة داخلية - فرص العمل - وجود الآلات - السفانية)

١- بيع السلع والبضائع وشراؤها داخل الوطن يسمى ..**تجارة داخلية**

٢- من فوائد الصناعة توفير**فرص...العمل**

٣- من أهم عوامل نجاح الزراعة **وجود الآلات**

٤- أكبر حقل نفطي بحري في العالم هو حقل **السفانية**

٨

السؤال الخامس :-

أذكر اثنين من أبرز صادرات وطني المملكة العربية السعودية ؟

1- التمور

2- النفط 3- المنتجات البتر.وكيماوية

٢

موقع **مادنتري**

(انتهت الأسئلة)

تمنياتي للجميع بالتوفيق والنجاح ,,

المادة: الدراسات الاجتماعية
الصف: الخامس الابتدائي
الزمن:
عدد الأوراق: 4
عدد الأسئلة: 3



المملكة العربية السعودية
وزارة التعليم
الإدارة العامة للتعليم
المدرسة ب

بسم الله الرحمن الرحيم
أسئلة اختبار مادة الدراسات الاجتماعية الصف الخامس الابتدائي

للعام الدراسي ١٤٤٦ هـ

الفصل الدراسي الثالث (الدور الأول)

الاسم :

رقم الجلوس :

اليوم : التاريخ : / / ١٤٤٦ هـ

الزمن :

المراجعة		المصححة		الدرجة		رقم السؤال
التوقيع	الاسم	التوقيع	الاسم	كتابة	رقمًا	
						السؤال الأول
						السؤال الثاني
						السؤال الثالث
						المجموع
						40

التوقيع :

جمعه :

التوقيع :

راجعه :

تعليمات عامة:

- ✓ استعمل القلم الأزرق فقط.
- ✓ لا يُسمح بالقلم الأزرق الذي يُمسح.
- ✓ لا يسمح باستخدام المرسام ولا الماسح.
- ✓ أجب على جميع الأسئلة على ورقة الأسئلة.

معلم/ة المادة :

.....

السؤال الأول : ضع دائرة حول الحرف الذي يمثل الاجابة الصحيحة فيما يلي

15

1. اكبر حقول النفط في اليابسة مساحة و انتاجا في العالم

أ الغوار ب السفانية ج منيفة د بقيق

2. من أنواع النباتات الحولية

أ العرعر ب الطلع ج الأقحوان د السدر

3. تستعمل مياة الصرف الصحي المعالجة في

أ الغسيل ب ري المنتزهات ج الشرب د الإستحمام

4. هي احدى مقومات الحياة ومن صفاتها مقاومة الجفاف

أ النباتات المعمرة ب النباتات الحولية ج المزارع د المنتزهات

5. من أمثلة المياه الجوفية

أ البرك ب الانهار ج البحيرات د الآبار

6. ينمو نبات التين الشوكي في البيئة

أ الجبلية ب المستنقعات ج الأودية د الغابات

7. تأتي الزراعة في الصدارة بين الأنشطة

أ الرياضية ب السياحية ج الاقتصادية د الاجتماعية

8. من فوائد الصناعة

أ توفير فرص العمل ب توفير المزارع ج توفير الأراضي د توفير الطاقة

9. هي حركة البيع والشراء لكافة أنواع السلع

أ التجارة ب الصناعة ج الزراعة د الرعي

10. من العوامل الطبيعية المؤثرة في توزيع السكان

أ تضاريس ب النشاط السياسي ج النشاط الاقتصادي د النشاط الصناعي

11. المراحل التي يمر بها النفط

أ الاستطلاع ب التنقيب ج حفر الابار د جميع ماذكر

12. من عوامل نجاح الزراعة في وطني

أ التربة ب الضرائب ج تلوث التربة د الرعي الجائر

13. الصادرات والواردات تعبر عن

أ الصناعة ب التجارة الداخلية ج التجارة الخارجية د الزراعة

14. ينمو نبات الأرتي

أ الاودية ب الرمال ج الجبال د السهول الساحلية

15. هي تحويل المواد الخام الأولية الى مواد أكثر فائدة للإنسان

أ الزراعة ب التجارة ج الرعي د الصناعة

السؤال الثاني : ضع علامة ✓ أما العبارة الصحيحة و علامة × أما العبارة الخاطئة

15

()	1. تعد الثروة الحيوانية من الموارد الاقتصادية في وطني
()	2. لا تعمل التربة على تثبيت النبات وتمده بالعناصر الغذائية
()	3. تسمى النباتات الحولية بالنباتات الموسمية
()	4. من أسباب قلة الثروة الحيوانية في وطني الاستهلاك الضخم من اللحوم
()	5. من أساليب المحافظة على الثروة المائية رمي النفايات فيها
()	6. تنقسم التجارة في وطني الى تجارة داخلية وتجارة خارجية
()	7. تراجعت حرفة الرعي بسبب استقرار الناس في المدن
()	8. الصناعة هي تحويل المادة الخام الأولية الى منتج اكثر فائدة للإنسان
()	9. تزداد الكثافة السكانية في الجبال الشاهقة والصحاري الجافة
()	10. التجارة الخارجية هي حركة البيع والشراء داخل الوطن
()	11. من اهم واردات المملكة العربية السعودية الأجهزة الكهربائية
()	12. توزيع السكان في العالم منتظم
()	13. اسست شركة ارامكو السعودية للعناية بالزراعة
()	14. من اهم صادرات المملكة النفط
()	15. تستورد المملكة جميع وسائل النقل ومنها السيارات والطائرات

السؤال الثالث : ضع الكلمات الموجودة في الجدول التالي في الفراغ المناسب

10

تنوع الأعلاف	النفط	مياه البحر المحلاة	رأس المال	المياه الجوفية
الرعي	التمور	المواد الغذائية	النباتات الحولية	التضاريس

1. من أساليب تنمية الثروة الحيوانية

2. تنبت عقب سقوط الأمطار وتتغذى عليها الحيوانات.

3. هي المياه المنقاة من الأملاح والشوائب.

4. يسهم تنوع في اختلاف الغطاء النباتي .

5. هي المياه الموجودة في باطن الأرض.

6. تعتبر زراعة من المحاصيل الزراعية في وطني.

7. من أهم الأنشطة الاقتصادية في وطني

8. صناعة من أهم الصناعات في وطني.

9. من أهم صادرات المملكة العربية السعودية

10. من مقومات الصناعة في وطني.

معلم /ة :

.....

انتهت الأسئلة
دعواتي لكم بالتوفيق

المادة: الدراسات الاجتماعية
الصف: الخامس الابتدائي
الزمن:
عدد الأوراق: ٤
عدد الأسئلة: ٣



المملكة العربية السعودية
وزارة التعليم
الإدارة العامة للتعليم
المدرسة ب

بسم الله الرحمن الرحيم
اجابة اختبار مادة الدراسات الاجتماعية الصف الخامس الابتدائي

للعام الدراسي ١٤٤٦ هـ
الفصل الدراسي الثالث (الدور الأول)

الاسم :

رقم الجلوس :

اليوم : التاريخ : / / ١٤٤٦ هـ

الزمن :

المراجعة		المصححة		الدرجة		رقم السؤال
التوقيع	الاسم	التوقيع	الاسم	كتابة	رقمًا	
						السؤال الأول
						السؤال الثاني
						السؤال الثالث
					٤٠	المجموع

نموذج الاجابة

جمعه :
راجعه :
التوقيع :
التوقيع :

تعليمات عامة:

- ✓ استعمل القلم الأزرق فقط.
- ✓ لا يُسمح بالقلم الأزرق الذي يُمسح.
- ✓ لا يُسمح باستخدام المرسام ولا الماسح.
- ✓ أُجيب على جميع الأسئلة على ورقة الأسئلة.

معلم/ة المادة :

.....

السؤال الأول : ضع دائرة حول الحرف الذي يمثل الاجابة الصحيحة فيما يلي

١٥

١. اكبر حقول النفط في اليابسة مساحة و انتاجا في العالم							
أ	الغوار	ب	السفانية	ج	منيقة	د	بقيق
٢. من أنواع النباتات الحولية							
أ	العرعر	ب	الطلع	ج	الأقحوان	د	السدر
٣. تستعمل مياة الصرف الصحي المعالجة في							
أ	الغسيل	ب	ري المنتزهات	ج	الشرب	د	الإستحمام
٤. هي احدى مقومات الحياة ومن صفاتها مقاومة الجفاف							
أ	النباتات المعمرة	ب	النباتات الحولية	ج	المزارع	د	المنتزهات
٥. من أمثلة المياه الجوفية							
أ	البرك	ب	الانهار	ج	البحيرات	د	الآبار
٦. ينمو نبات التين الشوكي في البيئة							
أ	الجبلية	ب	المستنقعات	ج	الأودية	د	الغابات
٧. تأتي الزراعة في الصدارة بين الأنشطة ...							
أ	الرياضية	ب	السياحية	ج	الاقتصادية	د	الاجتماعية
٨. من فوائد الصناعة							
أ	توفير فرص العمل	ب	توفير المزارع	ج	توفير الأراضي	د	توفير الطاقة
٩. هي حركة البيع والشراء لكافة أنواع السلع							
أ	التجارة	ب	الصناعة	ج	الزراعة	د	الرعي
١٠. من العوامل الطبيعية المؤثرة في توزيع السكان							
أ	تضاريس	ب	النشاط السياسي	ج	النشاط الاقتصادي	د	النشاط الصناعي
١١. المراحل التي يمر بها النفط							
أ	الاستطلاع	ب	التنقيب	ج	حفر الابار	د	جميع ماذكر
١٢. من عوامل نجاح الزراعة في وطني							
أ	التربة	ب	الضرائب	ج	تلوث التربة	د	الرعي الجائر
١٣. الصادرات والواردات تعبر عن							
أ	الصناعة	ب	التجارة الداخلية	ج	التجارة الخارجية	د	الزراعة
١٤. ينمو نبات الأربي							
أ	الأودية	ب	الرمال	ج	الجبال	د	السهول الساحلية
١٥. هي تحويل المواد الخام الأولية الى مواد أكثر فائدة للإنسان							
أ	الزراعة	ب	التجارة	ج	الرعي	د	الصناعة

السؤال الثاني : ضع علامة ✓ أما العبارة الصحيحة و علامة × أما العبارة الخاطئة

١٥

(صح)	١. تعد الثروة الحيوانية من الموارد الاقتصادية في وطني
(خطأ)	٢. لا تعمل التربة على تثبيت النبات وتمده بالعناصر الغذائية
(صح)	٣. تسمى النباتات الحولية بالنباتات الموسمية
(صح)	٤. من أسباب قلة الثروة الحيوانية في وطني الاستهلاك الضخم من اللحوم
(خطأ)	٥. من أساليب المحافظة على الثروة المائية رمي النفايات فيها
(صح)	٦. تنقسم التجارة في وطني الى تجارة داخلية وتجارة خارجية
(صح)	٧. تراجعت حرفة الرعي بسبب استقرار الناس في المدن
(صح)	٨. الصناعة هي تحويل المادة الخام الأولية الى منتج اكثر فائدة للإنسان
(خطأ)	٩. تزداد الكثافة السكانية في الجبال الشاهقة والصحاري الجافة
(خطأ)	١٠. التجارة الخارجية هي حركة البيع والشراء داخل الوطن
(صح)	١١. من اهم واردات المملكة العربية السعودية الأجهزة الكهربائية
(خطأ)	١٢. توزيع السكان في العالم منتظم
(خطأ)	١٣. اسست شركة ارامكو السعودية للعناية بالزراعة
(صح)	١٤. من اهم صادرات المملكة النفط
(صح)	١٥. تستورد المملكة جميع وسائل النقل ومنها السيارات والطائرات

السؤال الثالث : ضع الكلمات الموجودة في الجدول التالي في الفراغ المناسب

١٠

تنوع الأعلاف	النفط	مياه البحر المحلاة	رأس المال	المياه الجوفية
الرعي	التمور	المواد الغذائية	النباتات الحولية	التضاريس

١. من أساليب تنمية الثروة الحيوانية ... **تنوع الاعلاف**

٢. ... **النباتات الحولية**

٣. **مياه البحر المحلاة**

٤. يسهم تنوع ... **التضاريس**

٥. ... **المياه الجوفية**

٦. تعتبر زراعة ... **التمور**

٧. من أهم الأنشطة الاقتصادية في وطني ... **الرعي**

٨. صناعة ... **المواد الغذائية**

٩. من اهم صادرات المملكة العربية السعودية ... **النفط**

١٠. **راس المال**

معلم /ة :

انتهت الأسئلة
دعواتي لكم بالتوفيق

موقع
مادنتيري

المادة : الدراسات الاجتماعية
الصف : الخامس
الزمن : ساعة ونصف



المملكة العربية السعودية
وزارة التعليم
إدارة التعليم
مدرسة

اختبار مادة الدراسات الاجتماعية للصف الخامس
الفصل الدراسي الثالث (الدور الأول) لعام 1446هـ

س1	اسم الطالب :				
	التوقيع	التوقيع	أربعون درجة فقط	40	20

السؤال الأول: ضعي علامة (√) أمام العبارة الصحيحة وعلامة (X) أما العبارة الخاطئة :

م	العبارة	الإجابة
1.	يقع وطني المملكة العربية السعودية ضمن المنطقة الدافئة	
2.	تقتصر محطات تحلية المياه على الساحل الغربي من المملكة العربية السعودية	
3.	من النباتات الجبلية في وطني نبات العرعر	
4.	تتأثر النباتات الطبيعية في وطني المملكة العربية السعودية بالمناخ.	
5.	تعد التربة من العوامل المؤثرة في توزيع النبات الطبيعي	
6.	مؤسسات الدولة هي الأجهزة الحكومية المكلفة بمهام لخدمة الوطن، والمواطن	
7.	الخدمات الحكومية هي الأعمال التي تقوم بها الدولة من خلال مؤسساتها لمصلحة المجتمع، وأفراده.	
8.	الأمن هو: الطمأنينة، والاستقرار الذي نشعر به، ويوفر لنا البيئة الملائمة للتنمية، والرخاء.	
9.	من مهام رئاسة أمن الدولة: مواجهة المجرمين، والإرهابيين، وتوفير الحماية للدولة، ومواطنيها.	
10.	يعتبر البنك من المؤسسات العامة.	

السؤال الثاني: اختاري الإجابة الصحيحة:

أ) المياه السطحية	ب) البحار	ج) الانهار
2. تعتبر مورد جديد يدعم موارد المياه الأخرى في المملكة العربية السعودية		
أ) مياه الصرف الصحي المعالجة	ب) المياه السطحية	ج) المياه الجوفية
3. تعتبر الآبار نوع من أنواع المياه		
أ) الجوفية	ب) السطحية	ج) البحر المحلاه
4. أهم العناصر المناخية المؤثرة في نوع النبات وكثافته		
أ) الأمطار	ب) الحرارة	ج) الرياح
5. من النباتات المعمرة في وطني المملكة العربية السعودية		
أ) الأثل	ب) السمر	ج) جميع ما سبق
6. الأنواع الرئيسية لمؤسسات الدولة		
أ) مؤسسات عامة	ب) مؤسسات خاصة	ج) جميع ما سبق
7. من مؤسسات الدولة		
أ) وزارة الداخلية	ب) وزارة العدل	ج) جميع ما سبق
8. تحقيق الأمن، والإستقرار، ومنع الجريمة، ومكافحة المخدرات من مهام وزارة.		
أ) الداخلية	ب) الخارجية	ج) التجارة
9. حماية الأنظمة التقنية، والشبكات، والبرامج، والبيانات الحكومية من الهجمات الرقمية من مهام:		
أ) الهيئة الوطنية للأمن السيبراني	ب) النيابة العامة	ج) رئاسة أمن الدولة
10. من أبرز المدن الطبية السعودية مدينة الملك		
أ) سعود الطبية بالرياض	ب) فيصل الطبية في عسير	ج) جميع ما سبق

معلمنا المادة : الدراسات الاجتماعية
الصف : الخامس
الزمن : ساعة ونصف



المملكة العربية السعودية
وزارة التعليم
إدارة التعليم
مدرسة

المياه الجوفية (ج)	المياه السطحية (ب)	المياه الصرفة الصحي المعالجة (أ)
3. تعتبر الآبار نوع من أنواع المياه		
البحر المحلاه (ج)	السطحية (ب)	الجوفية (أ)
4. أهم العناصر المناخية المؤثرة في نوع النبات وكثافته		
الرياح (ج)	الحرارة (ب)	الأمطار (أ)
5. من النباتات المعمرة في وطني المملكة العربية السعودية		
جميع ما سبق (ج)	السمر (ب)	الأثل (أ)
6. الأنواع الرئيسية لمؤسسات الدولة		
جميع ما سبق (ج)	مؤسسات خاصة (ب)	مؤسسات عامة (أ)
7. من مؤسسات الدولة		
جميع ما سبق (ج)	وزارة العدل (ب)	وزارة الداخلية (أ)
8. تحقيق الأمن، والاستقرار، ومنع الجريمة، ومكافحة المخدرات من مهام وزارة.		
التجارة (ج)	الخارجية (ب)	الداخلية (أ)
9. حماية الأنظمة التقنية، والشبكات، والبرامج، والبيانات الحكومية من الهجمات الرقمية من مهام:		
رئاسة أمن الدولة (ج)	النيابة العامة (ب)	الهيئة الوطنية للأمن السيبراني (أ)
10. من أبرز المدن الطبية السعودية مدينة الملك		
جميع ما سبق (ج)	فيصل الطبية في عسير (ب)	سعود الطبية بالرياض (أ)

موقع مادنتري

المادة : الدراسات الاجتماعية
الصف : الخامس
الزمن : ساعة
اليوم :
التاريخ : / / ١٤٤٦ هـ



المملكة العربية السعودية
وزارة التعليم
إدارة تعليم
مدرسة

اختبار مادة الدراسات الاجتماعية للصف الخامس الابتدائي الفصل الدراسي الثالث (الدور الأول) لعام ١٤٤٦ هـ

اسم الطالب :

اسم المدقق	اسم المراجع	اسم المصحح	الدرجة كتابة	الدرجة	س ٢	س ١
التوقيع	التوقيع	التوقيع	أربعون درجة فقط	٤٠	٢٠	٢٠

السؤال الأول: ضع علامة (√) أمام العبارة الصحيحة وعلامة (×) أما العبارة الخاطئة :

٢٠

م	العبارة	الإجابة
١	الخريطة رسم توضيحي مصغر لسطح الأرض، أو جزء منه توضح الظواهر الطبيعية، والبشرية	
٢	عرف الإنسان الخرائط قبل معرفته الكتابة.	
٣	يختلف توزيع السكان باختلاف المناخ من منطقة إلى أخرى.	
٤	يعتبر الأمن سبب رئيس في استقرار السكان وجذبهم	
٥	تُعد النزاعات، والحروب أحد أهم العوامل في توزيع السكان	
٦	من أهم صادرات وطني المملكة العربية السعودية النفط والمنتجات المحلية	
٧	من أسباب تراجع حرفة الرعي ظهور أنشطة سكانية أخرى	
٨	تتأثر النباتات الطبيعية في وطني المملكة العربية السعودية بأحواله المناخية.	
٩	تعمل التربة على تثبيت النباتات وتمدها بالعناصر الغذائية المذابة فيها	
١٠	تعد الثروة الحيوانية من الموارد الاقتصادية المهمة في وطني باعتبارها مصدراً غذائياً	
١١	في وطني المملكة العربية السعودية أنواع مختلفة من المعادن تدخل في الصناعات	
١٢	من الأمثلة على المياه السطحية العيون و الأودية	
١٣	من أساليب تنمية الثروة الحيوانية تنويع الأعلاف	
١٤	لقيام الصناعة لا بد من توافر المادة الخام	
١٥	من مجالات نشاط الخدمات النقل والترفيه	
١٦	تحرص حكومة وطني على أن تكون قيمة الواردات أعلى من قيمة الصادرات.	
١٧	تقتصر محطات تحلية المياه على الساحل الغربي من المملكة العربية السعودية	
١٨	يقع وطني المملكة العربية السعودية ضمن المنطقة الدافئة	
١٩	تزداد الكثافة السكانية في المناطق الصحراوية.	
٢٠	يتركز سكان العالم في النصف الجنوبي من الكرة الأرضية.	

تابع بقية الأسئلة

السؤال الثاني: اختر الاجابة الصحيحة:

١	تعتبر الآبار نوع من أنواع المياه	أ الجوفية	ب السطحية	ج البحر المحلاة
٢	من العوامل الطبيعية المؤثرة في توزيع السكان :	أ التضاريس	ب النشاط السياسي	ج النشاط الاقتصادي
٣	تتنوع المناطق المناخية على سطح الأرض بين	أ حارة ومعتدلة وباردة	ب حارة وباردة	ج حارة ومعتدلة
٤	هي مياه البحر المنتقاة من الأملاح والشوائب.	أ مياه البحر المحلاة	ب المياه الجوفية	ج المياه السطحية
٥	أهم العناصر المناخية المؤثرة في نوع النبات وكثافته:	أ الأمطار	ب الحرارة	ج الرياح
٦	تتميز الخرائط بسهولة تحديث بياناتها	أ الورقية	ب الرقمية	ج الإلكترونية
٧	من أهم واردات وطني المملكة العربية السعودية:	أ وسائل النقل	ب النفط	ج التمور
٨	من أنواع التضاريس التي يكثر السكان فيها:	أ السهول	ب الجبال الشاهقة	ج الصحاري
٩	تعتبر المحيطات والبحار من مصادر المياه	أ المالحة	ب العذبة	ج جميع ما سبق
١٠	تعرف الموارد كل ماودعه الله في الطبيعة من مخزون لتلبية احتياجات الإنسان	أ الطبيعية	ب الصناعية	ج جميع ما سبق
١١	هي المياه التي تخزنت في باطن الأرض وتحتاج لجهد استخراجها	أ المياه السطحية	ب المياه الجوفية	ج مياه البحر المحلاة
١٢	تحويل الموارد الطبيعية إلى منتجات مفيدة للإنسان هو النشاط:	أ الزراعي	ب الصناعي	ج التجاري
١٣	هي المياه التي تعلقو سطح الأرض ولا تحتاج لجهد استخراجها	أ المياه الجوفية	ب المياه السطحية	ج مياه البحر المحلاة
١٤	النشاط هو الأعمال والمجهودات التي يؤديها الإنسان لتلبية احتياجاته الأساسية.	أ السياسي	ب الاقتصادي	ج التجاري
١٥	تتوافر المعادن في المملكة العربية السعودية بخاصة في الجهات	أ الشرقية	ب الغربية	ج الشمالية
١٦	يقصد بحركة البيع، والشراء لمختلف أنواع السلع المحلية والمستوردة:	أ الرعي	ب التجارة	ج الخدمات
١٧	من النباتات المعمرة في وطني المملكة العربية السعودية	أ الأبقوان	ب الطلح	ج السمح
١٨	من أهم صادرات وطني المملكة العربية السعودية	أ الأجهزة الكهربائية	ب التمور	ج وسائل النقل
١٩	بيع، وشراء السلع، والبضائع بين الوطن، ودول أخرى يسمى التجارة	أ الداخلية	ب الخارجية	ج المشتركة
٢٠	من أسباب انخفاض عدد العاملين في الزراعة:	أ قلة الأمطار	ب الآلات الحديثة	ج قلة الأيدي العاملة

انتهت الأسئلة ،،،، مع تمنياتي لكم بالتوفيق والنجاح ،،،،

معلم المادة /

المادة : الدراسات الاجتماعية
الصف : الخامس
الزمن : ساعة
اليوم :
التاريخ : / / ١٤٤٦ هـ



المملكة العربية السعودية
وزارة التعليم
إدارة تعليم
مدرسة

اختبار مادة الدراسات الاجتماعية للصف الخامس الابتدائي
الفصل الدراسي الثالث (الدور الأول) لعام ١٤٤٦ هـ

نموذج الاجابة

اسم المدقق	الدرجة	١ س	٢ س	٤٠
التوقيع		٢٠	٢٠	

السؤال الأول: ضع علامة (√) أمام العبارة الصحيحة وعلامة (×) أما العبارة الخاطئة :

م	العبارة	الإجابة
١	الخريطة رسم توضيحي مصغر لسطح الأرض، أو جزء منه توضح الظواهر الطبيعية، والبشرية	√
٢	عرف الإنسان الخرائط قبل معرفته الكتابة.	√
٣	يختلف توزيع السكان باختلاف المناخ من منطقة إلى أخرى.	√
٤	يعتبر الأمن سبب رئيس في استقرار السكان وجذبهم	√
٥	تُعد النزاعات، والحروب أحد أهم العوامل في توزيع السكان	√
٦	من أهم صادرات وطني المملكة العربية السعودية النفط والمنتجات المحلية	√
٧	من أسباب تراجع حرفة الرعي ظهور أنشطة سكانية أخرى	√
٨	تتأثر النباتات الطبيعية في وطني المملكة العربية السعودية بأحواله المناخية.	√
٩	تعمل التربة على تثبيت النباتات وتمدها بالعناصر الغذائية المذابة فيها	√
١٠	تعد الثروة الحيوانية من الموارد الاقتصادية المهمة في وطني باعتبارها مصدراً غذائياً	√
١١	في وطني المملكة العربية السعودية أنواع مختلفة من المعادن تدخل في الصناعات	√
١٢	من الأمثلة على المياه السطحية العيون و الأودية	√
١٣	من أساليب تنمية الثروة الحيوانية تنوع الأعلاف	√
١٤	لقيام الصناعة لا بد من توافر المادة الخام	√
١٥	من مجالات نشاط الخدمات النقل والترفيه	√
١٦	تحرص حكومة وطني على أن تكون قيمة الواردات أعلى من قيمة الصادرات.	×
١٧	تقتصر محطات تحلية المياه على الساحل الغربي من المملكة العربية السعودية	×
١٨	يقع وطني المملكة العربية السعودية ضمن المنطقة الدافئة	×
١٩	تزداد الكثافة السكانية في المناطق الصحراوية.	×
٢٠	يتركز سكان العالم في النصف الجنوبي من الكرة الأرضية.	×

تابع بقية الأسئلة

السؤال الثاني: اختر الاجابة الصحيحة:

١	تعتبر الآبار نوع من أنواع المياه	أ <u>الجوفية</u>	ب السطحية	ج البحر المحلاة
٢	من العوامل الطبيعية المؤثرة في توزيع السكان :	أ <u>التضاريس</u>	ب النشاط السياسي	ج النشاط الاقتصادي
٣	تتنوع المناطق المناخية على سطح الأرض بين	أ <u>حارة ومعتدلة وباردة</u>	ب حارة وباردة	ج حارة ومعتدلة
٤	هي مياه البحر المنتقاة من الأملاح والشوائب.	أ <u>مياه البحر المحلاة</u>	ب المياه الجوفية	ج المياه السطحية
٥	أهم العناصر المناخية المؤثرة في نوع النبات وكثافته:	أ <u>الأمطار</u>	ب الحرارة	ج الرياح
٦	تتميز الخرائط بسهولة تحديث بياناتها	أ <u>الورقية</u>	ب الرقمية	ج الإلكترونية
٧	من أهم واردات وطني المملكة العربية السعودية:	أ <u>وسائل النقل</u>	ب النفط	ج التمور
٨	من أنواع التضاريس التي يكثر السكان فيها:	أ <u>السهول</u>	ب الجبال الشاهقة	ج الصحاري
٩	تعتبر المحيطات والبحار من مصادر المياه	أ <u>المالحة</u>	ب العذبة	ج جميع ما سبق
١٠	تعرف الموارد كل ماودعه الله في الطبيعة من مخزون لتلبية احتياجات الإنسان	أ <u>الطبيعية</u>	ب الصناعية	ج جميع ما سبق
١١	هي المياه التي تخزنت في باطن الأرض وتحتاج لجهد استخراجها	أ المياه السطحية	ب <u>المياه الجوفية</u>	ج مياه البحر المحلاة
١٢	تحويل الموارد الطبيعية إلى منتجات مفيدة للإنسان هو النشاط:	أ الزراعي	ب <u>الصناعي</u>	ج التجاري
١٣	هي المياه التي تعلقو سطح الأرض ولا تحتاج لجهد استخراجها	أ المياه الجوفية	ب <u>المياه السطحية</u>	ج مياه البحر المحلاة
١٤	النشاط هو الأعمال والمجهودات التي يؤديها الإنسان لتلبية احتياجاته الأساسية.	أ السياسي	ب <u>الاقتصادي</u>	ج التجاري
١٥	تتوافر المعادن في المملكة العربية السعودية بخاصة في الجهات	أ الشرقية	ب <u>الغربية</u>	ج الشمالية
١٦	يقصد بحركة البيع، والشراء لمختلف أنواع السلع المحلية والمستوردة:	أ الرعي	ب <u>التجارة</u>	ج الخدمات
١٧	من النباتات المعمرة في وطني المملكة العربية السعودية	أ الأقحوان	ب <u>الطلح</u>	ج السمح
١٨	من أهم صادرات وطني المملكة العربية السعودية	أ الأجهزة الكهربائية	ب <u>التمور</u>	ج وسائل النقل
١٩	بيع، وشراء السلع، والبضائع بين الوطن، ودول أخرى يسمى التجارة	أ الداخلية	ب <u>الخارجية</u>	ج المشتركة
٢٠	من أسباب انخفاض عدد العاملين في الزراعة:	أ قلة الأمطار	ب <u>الآلات الحديثة</u>	ج قلة الأيدي العاملة

انتهت الأسئلة ،،،، مع تمنياتي لكم بالتوفيق والنجاح ،،، موقع

معلم المادة /

المادة : الدراسات الاجتماعية
الصف : خامس
الزمن : ساعة ونصف



المملكة العربية السعودية
وزارة التعليم
إدارة تعليم
مدرسة

اختبار الفصل الدراسي الثالث (الدور الأول) لعام ١٤٤٦ هـ

أسم الطالب :

اسم المراجع	اسم المصحح	الدرجة كتابة	الدرجة رقماً	س ٢	س ١
التوقيع	التوقيع	أربعون درجة فقط	٤٠	٢٠	٢٠

السؤال الأول: ضع علامة (√) أمام العبارة الصحيحة وعلامة (X) أمام العبارة الخاطئة :

٢٠

م	العبارة	الإجابة
١	يختلف توزيع السكان باختلاف المناخ من منطقة إلى أخرى.	
٢	يعتبر الأمن سبب رئيس في استقرار السكان وجذبهم	
٣	تُعد النزاعات، والحروب أحد أهم العوامل في توزيع السكان	
٤	تنقسم الأودية في المملكة العربية السعودية إلى قسمين من حيث التصريف: داخلي وخارجي.	
٥	تتأثر النباتات الطبيعية في وطني المملكة العربية السعودية بأحواله المناخية.	
٦	بيع السلع، والبضائع، وشراؤها بين مدن الوطن تسمى التجارة الخارجية	
٧	كان نشاط الصناعة في صدارة الأنشطة الاقتصادية للسكان قبل اكتشاف النفط	
٨	تزداد الكثافة السكانية في المناطق الصحراوية.	
٩	يتوزع سكان العالم بشكل منتظم من قارة إلى أخرى.	
١٠	يقع وطني المملكة العربية السعودية ضمن المنطقة الدافئة	

السؤال الثاني: اختر الاجابة الصحيحة:

٢٠

هي حشائش تنبت عقب سقوط الأمطار وتنتهي بنهاية الموسم حيث تتغذى عليها الحيوانات				١	
أ	النباتات الحولية	ب	النباتات المعمرة	ج	النباتات المزهرة
من أنواع النباتات الحولية في وطني المملكة العربية السعودية				٢	
أ	الثمام	ب	الأثل	ج	السمر
من النباتات المعمرة في وطني المملكة العربية السعودية				٣	
أ	الطلح	ب	الأقحوان	ج	السمح
تعد من الموارد الاقتصادية المهمة في وطني بما تنتجه من الصوف والجلود كمصدر صناعي				٤	
أ	الثروة الحيوانية	ب	الثروة النباتية	ج	الثروة الطبيعية
من أسباب قلة الثروة الحيوانية في وطني				٥	
أ	استهلاك اناث الحيوانات	ب	كثرة الغطاء النباتي	ج	قوة حرفة الرعي
حقل هو أكبر حقل نفطي بري في العالم.				٦	
أ	شيبه	ب	السفانية	ج	الغوار
حقل أكبر حقل نفطي بحري في العالم				٧	
أ	شيبه	ب	الغوار	ج	السفانية
تتوافر المعادن في المملكة العربية السعودية بخاصة في الجهات				٨	
أ	الشمالية	ب	الشرقية	ج	الغربية
هي حشائش تنبت عقب سقوط الأمطار وتذبل بسرعة وتتغذى عليها الحيوانات				٩	
أ	النباتات الموسمية	ب	النباتات الحولية	ج	النباتات المعمرة
من أسباب انخفاض عدد العاملين في الزراعة:				١٠	
أ	قلة الأيدي العاملة	ب	قلة الأمطار	ج	الآلات الحديثة

انتهت الأسئلة ،،،، مع تمنياتي لكم بالتوفيق والنجاح ،،،، معلم المادة /

المادة : الدراسات الاجتماعية
الصف : خامس
الزمن : ساعة ونصف



المملكة العربية السعودية
وزارة التعليم
إدارة تعليم
مدرسة

اختبار الفصل الدراسي الثالث (الدور الأول) لعام ١٤٤٦ هـ

نموذج الاجابة

اسم المراجع	س ١	س ٢	س ٣	س ٤	س ٥
التوقيع	٢٠	٢٠	٤٠	أربعون درجة فقط	التوقيع

السؤال الأول: ضع علامة (√) أمام العبارة الصحيحة وعلامة (X) أمام العبارة الخاطئة :

٢٠

م	العبارة	الإجابة
١	يختلف توزيع السكان باختلاف المناخ من منطقة إلى أخرى.	√
٢	يعتبر الأمن سبب رئيس في استقرار السكان وجذبهم	√
٣	تُعد النزاعات، والحروب أحد أهم العوامل في توزيع السكان	√
٤	تنقسم الأودية في المملكة العربية السعودية إلى قسمين من حيث التصريف: داخلي وخارجي.	√
٥	تتأثر النباتات الطبيعية في وطني المملكة العربية السعودية بأحواله المناخية.	√
٦	بيع السلع، والبضائع، وشراؤها بين مدن الوطن تسمى التجارة الخارجية	X
٧	كان نشاط الصناعة في صدارة الأنشطة الاقتصادية للسكان قبل اكتشاف النفط	X
٨	تزداد الكثافة السكانية في المناطق الصحراوية.	X
٩	يتوزع سكان العالم بشكل منتظم من قارة إلى أخرى.	X
١٠	يقع وطني المملكة العربية السعودية ضمن المنطقة الدافئة	X

السؤال الثاني: اختر الاجابة الصحيحة:

٢٠

هي حشائش تنبت عقب سقوط الأمطار وتنتهي بنهاية الموسم حيث تتغذى عليها الحيوانات				١	
أ	<u>النباتات الحولية</u>	ب	النباتات المعمرة	ج	النباتات المزهرة
من أنواع النباتات الحولية في وطني المملكة العربية السعودية				٢	
أ	<u>الثمام</u>	ب	الأثل	ج	السمر
من النباتات المعمرة في وطني المملكة العربية السعودية				٣	
أ	<u>الطلح</u>	ب	الأقحوان	ج	السمح
تعد من الموارد الاقتصادية المهمة في وطني بما تنتجه من الصوف والجلود كمصدر صناعي				٤	
أ	<u>الثروة الحيوانية</u>	ب	الثروة النباتية	ج	الثروة الطبيعية
من أسباب قلة الثروة الحيوانية في وطني				٥	
أ	<u>استهلاك اناث الحيوانات</u>	ب	كثرة الغطاء النباتي	ج	قوة حرفة الرعي
حقل هو أكبر حقل نفطي بري في العالم.				٦	
أ	شيبه	ب	السفانية	ج	<u>الغوار</u>
حقل أكبر حقل نفطي بحري في العالم				٧	
أ	شيبه	ب	الغوار	ج	<u>السفانية</u>
تتوافر المعادن في المملكة العربية السعودية بخاصة في الجهات				٨	
أ	الشمالية	ب	الشرقية	ج	<u>الغربية</u>
هي حشائش تنبت عقب سقوط الأمطار وتذبل بسرعة وتتغذى عليها الحيوانات				٩	
أ	النباتات الموسمية	ب	النباتات الحولية	ج	<u>النباتات المعمرة</u>
من أسباب انخفاض عدد العاملين في الزراعة:				١٠	
أ	قلة الأيدي العاملة	ب	قلة الأمطار	ج	<u>الآلات الحديثة</u>

انتهت الأسئلة ،،،، مع تمنياتي لكم بالتوفيق والنجاح ،،،، معلم المادة /

المادة : الدراسات الاجتماعية
الصف : الخامس
الزمن : ساعة ونصف



المملكة العربية السعودية
وزارة التعليم
إدارة التعليم
مكتب
مدرسة

اختبار مادة الدراسات الاجتماعية للصف الخامس
الفصل الدراسي الثالث (الدور الأول) لعام 1446 هـ

اسم المدققة	اسم المراجعة	اسم المصححة	الدرجة كتابة	الدرجة	س3	س2	س1
التوقيع	التوقيع	التوقيع	أربعون درجة فقط	40	20	10	10

السؤال الأول: ضعي علامة (V) أمام العبارة الصحيحة وعلامة (X) أما العبارة الخاطئة :

م	العبارة	الإجابة
1.	تنقسم الأودية في المملكة العربية السعودية إلى قسمين من حيث التصريف: داخلي وخارجي.	
2.	تتأثر النباتات الطبيعية في وطني المملكة العربية السعودية بأحواله المناخية.	
3.	تعمل التربة على تثبيت النباتات وتمدها بالعناصر الغذائية المذابة فيها.	
4.	تعد الثروة الحيوانية من الموارد الاقتصادية المهمة في وطني باعتبارها مصدراً غذائياً.	
5.	في وطني المملكة العربية السعودية أنواع مختلفة من المعادن تدخل في الصناعات	
6.	للبيئة تأثير في تحديد نوع النشاط الذي يمارسه السكان.	
7.	لقيام الصناعة لا بد من توافر المادة الخام	
8.	يعتبر البنك من المؤسسات العامة.	
9.	بيع السلع، والبضائع، وشراؤها بين مدن الوطن تسمى التجارة الخارجية.	
10.	يقع وطني المملكة العربية السعودية ضمن المنطقة الدافئة	

السؤال الثاني: ضعي الكلمة المناسبة من بين الأقواس في الفراغ المناسب :

(الميزان التجاري - الثاني - الخارجية - السطحية - الصحة - داخلي - الجوفية - الزراعة - الجلود - السفانية)	العبارة
1.	المياه هي المياه التي تخزن في باطن الأرض وتحتاج لجهد استخراجها.
2.	حقل أكبر حقل نفطي بحري في العالم.
3.	كان نشاط في صدارة الأنشطة الاقتصادية للسكان قبل اكتشاف النفط.
4.	من مهام وزارة إنشاء مراكز الرعاية الصحية الأولية والمستشفيات
5.	يقصد بالفرق بين قيمة صادرات الدولة وقيمة وارداتها بـ التجاري.
6.	بيع، وشراء السلع، والبضائع بين الوطن، ودول أخرى يسمى التجارة
7.	تعد الثروة الحيوانية من الموارد الاقتصادية المهمة في وطني بما تنتجه من الصوف و كمصدر صناعي.
8.	تنقسم الأودية في المملكة العربية السعودية إلى قسمين من حيث التصريف إلى خارجي و.....
9.	يأتي وطني المملكة العربية السعودية في المركز عالمياً في إنتاج، وتصدير النفط.
10.	المياه هي تجمعات مائية تكونت بسبب الأمطار ومنها العيون والأودية

السؤال الثالث: اختاري الإجابة الصحيحة:

1.	من أسباب قلة الثروة الحيوانية في وطني:	(أ) الاستهلاك الضخم من اللحوم	(ب) استهلاك إناث الحيوانات	(ج) جميع ما سبق
2.	تعتبر مورد جديد يدعم موارد المياه الأخرى في المملكة العربية السعودية	(أ) مياه الصرف الصحي	(ب) المياه السطحية	(ج) المياه الجوفية
3.	تعتبر الآبار نوع من أنواع المياه الجوفية	(أ) الجوفية	(ب) السطحية	(ج) البحر المحلاة
4.	واجبنا تجاه شهداء الواجب، والوطن:	(أ) الدعاء لهم بالمغفرة	(ب) نفتخر بهم	(ج) جميع ما سبق
5.	من أسباب انخفاض عدد العاملين في الزراعة:	(أ) الآلات الحديثة	(ب) قلة الأمطار	(ج) قلة الأيدي العاملة
6.	تتوافر المعادن في المملكة العربية السعودية خاصة في الجهات الغربية	(أ) الغربية	(ب) الوسطى	(ج) جميع ما سبق
7.	يقصد بحركة البيع، والشراء لمختلف أنواع السلع المحلية والمستوردة:	(أ) التجارة	(ب) الرعي	(ج) الخدمات
8.	من نماذج أعمال رجل الأمن:	(أ) مواجهة الإرهاب	(ب) تحقيق الأمن، وضبطه	(ج) جميع ما سبق
9.	تحقيق الأمن، والإستقرار، ومنع الجريمة، ومكافحة المخدرات من مهام وزارة:	(أ) الداخلية	(ب) التجارة	(ج) الخارجية
10.	من أهم فوائد الصناعة :	(أ) توفير فرص العمل	(ب) الحصول على الأموال	(ج) جميع ما سبق
11.	هي مياه البحر المنتقاة من الأملاح والشوائب.	(أ) البحر المحلاة	(ب) الجوفية	(ج) السطحية
12.	أهم العناصر المناخية المؤثرة في نوع النبات وكثافته:	(أ) الأمطار	(ب) الحرارة	(ج) الحرارة
13.	لقيام الصناعة لا بد من توفر عدة مقومات من أهمها:	(أ) المادة الخام	(ب) رأس المال	(ج) جميع ما سبق
14.	تجمعات مائية باطنية تكونت بسبب الأمطار:	(أ) المياه السطحية	(ب) البحار	(ج) الأنهار
15.	تحويل المادة الخام الموجودة في الطبيعة إلى منتج يلبي احتياجات الإنسان	(أ) الصناعة	(ب) الزراعة	(ج) التجارة
16.	من أهم الأنشطة الاقتصادية:	(أ) الزراعة	(ب) الصناعة	(ج) جميع ما سبق
17.	حماية الأنظمة التقنية، والشبكات، والبرامج، والبيانات الحكومية من الهجمات الرقمية من مهام:	(أ) الهيئة الوطنية للأمن السيبراني	(ب) رئاسة أمن الدولة	(ج) النيابة العامة
18.	حقل هو أكبر حقل نفطي بري في العالم .	(أ) الغوار	(ب) السفانية	(ج) شبيه
19.	من نتائج الأمن:	(أ) الإستقرار	(ب) الرخاء، والنعمة	(ج) جميع ما سبق
20.	من أهم واردات وطني المملكة العربية السعودية:	(أ) وسائل النقل	(ب) النفط	(ج) التمور

انتهت الأسئلة ،،،، مع تمنياتي لكن بالتوفيق والنجاح ،،،، معلمي المادة /

المادة : الدراسات الاجتماعية

الصف : الخامس



المملكة العربية السعودية

وزارة التعليم

إدارة التعليم

مكتب

نموذج الاجابة

1. من أسباب قلة الثروة الحيوانية في وطني:

اسم المدققة	اختبار مادة الدراسات الاجتماعية للصف الخامس الفصل الدراسي الثالث (الدور الأول) لعام 1446هـ	س 1	س 2
التوقيع		10	10

م	العبارة	الإجابة
1.	تنقسم الأودية في المملكة العربية السعودية إلى قسمين من حيث التصريف: داخلي وخارجي.	✓
2.	تتأثر النباتات الطبيعية في وطني المملكة العربية السعودية بأحواله المناخية.	✓
3.	تعمل التربة على تثبيت النباتات وتمدها بالعناصر الغذائية المذابة فيها.	✓
4.	تعد الثروة الحيوانية من الموارد الاقتصادية المهمة في وطني باعتبارها مصدراً غذائياً.	✓
5.	في وطني المملكة العربية السعودية أنواع مختلفة من المعادن تدخل في الصناعات	✓
6.	للبيئة تأثير في تحديد نوع النشاط الذي يمارسه السكان.	✓
7.	لقيام الصناعة لا بد من توافر المادة الخام	✓
8.	يعتبر البنك من المؤسسات العامة.	✗
9.	بيع السلع، والبضائع، وشراؤها بين مدن الوطن تسمى التجارة الخارجية.	✗
10.	يقع وطني المملكة العربية السعودية ضمن المنطقة الدافئة	✗

(الميزان التجاري - الثاني - الخارجي - السطحية - الصحة - داخلي - الجوفية - الزراعة - الجلود - السفانية)	
1.	المياه الجوفية هي المياه التي تخزنت في باطن الأرض وتحتاج لجهد استخراجها.
2.	حقل السفانية أكبر حقل نفطي بحري في العالم.
3.	كان نشاط الزراعة في صدارة الأنشطة الاقتصادية للسكان قبل اكتشاف النفط.
4.	من مهام وزارة الصحة إنشاء مراكز الرعاية الصحية الأولية والمستشفيات
5.	يقصد بالفرق بين قيمة صادرات الدولة وقيمة وارداتها بـ الميزان التجاري التجاري.
6.	بيع، وشراء السلع، والبضائع بين الوطن، ودول أخرى يسمى التجارة الخارجية
7.	تعد الثروة الحيوانية من الموارد الاقتصادية المهمة في وطني بما تنتجه من الصوف و الجلود كمصدر صناعي.
8.	تنقسم الأودية في المملكة العربية السعودية إلى قسمين من حيث التصريف إلى خارجي و داخلي
9.	يأتي وطني المملكة العربية السعودية في المركز الثاني عالمياً في إنتاج، وتصدير النفط.
10.	المياه السطحية هي تجمعات مائية تكونت بسبب الأمطار ومنها العيون والأودية

السؤال الأول: ط
السؤال الثاني: ضعي الكلمة المناسبة من بين الأقواس في الفراغ المناسب :

السؤال الثالث: اختاري الاجابة الصحيحة:

1. الاستهلاك الضخم من اللحوم	(ب) استهلاك إناث الحيوانات	(ج) جميع ما سبق
2. تعتبر مورد جديد يدعم موارد المياه الأخرى في المملكة العربية السعودية		
1. مياه الصرف الصحي	(ب) المياه السطحية	(ج) المياه الجوفية
3. تعتبر الآبار نوع من أنواع المياه		
1. الجوفية	(ب) السطحية	(ج) البحر المحلاة
4. واجبنا تجاه شهداء الواجب، والوطن:		
1. الدعاء لهم بالمغفرة	(ب) نفتخر بهم	(ج) جميع ما سبق
5. من أسباب انخفاض عدد العاملين في الزراعة:		
1. الآلات الحديثة	(ب) قلة الأمطار	(ج) قلة الأيدي العاملة
6. تتوافر المعادن في المملكة العربية السعودية خاصة في الجهات		
1. الغربية	(ب) الوسطى	(ج) جميع ما سبق
7. يقصد بحركة البيع، والشراء لمختلف أنواع السلع المحلية والمستوردة:		
1. التجارة	(ب) الرعي	(ج) الخدمات
8. من نماذج أعمال رجل الأمن:		
1. مواجهة الإرهاب	(ب) تحقيق الأمن، وضبطه	(ج) جميع ما سبق
9. تحقيق الأمن، والاستقرار، ومنع الجريمة، ومكافحة المخدرات من مهام وزارة.		
1. الداخلية	(ب) التجارة	(ج) الخارجية
10. من أهم فوائد الصناعة :		
1. توفير فرص العمل	(ب) الحصول على الأموال	(ج) جميع ما سبق
11. هي مياه البحر المنتقاة من الأملاح والشوائب.		
1. البحر المحلاة	(ب) الجوفية	(ج) السطحية
12. أهم العناصر المناخية المؤثرة في نوع النبات وكثافته:		
1. الأمطار	(ب) الحرارة	(ج) الحرارة
13. لقيام الصناعة لا بد من توفر عدة مقومات من أهمها:		
1. المادة الخام	(ب) رأس المال	(ج) جميع ما سبق
14. تجمعات مائية باطنية تكونت بسبب الأمطار:		
1. المياه السطحية	(ب) البحار	(ج) الأنهار
15. تحويل المادة الخام الموجودة في الطبيعة إلى منتج يلبي احتياجات الإنسان		
1. الصناعة	(ب) الزراعة	(ج) التجارة
16. من أهم الأنشطة الاقتصادية:		
1. الزراعة	(ب) الصناعة	(ج) جميع ما سبق
17. حماية الأنظمة التقنية، والشبكات، والبرامج، والبيانات الحكومية من الهجمات الرقمية من مهام:		
1. الهيئة الوطنية للأمن السيبراني	(ب) رئاسة أمن الدولة	(ج) النيابة العامة
18. حقل هو أكبر حقل نفطي بري في العالم .		
1. الغوار	(ب) السفانية	(ج) شبيه
19. من نتائج الأمن:		
1. الاستقرار	(ب) الرخاء، والنعمة	(ج) جميع ما سبق
20. من أهم واردات وطني المملكة العربية السعودية:		
1. وسائل النقل	(ب) النفط	(ج) التمور

موقع
مادنتري

انتهت الأسئلة ،،،، مع تمنياتي لكن بالتوفيق والنجاح ،،،، معلمة المادة /

المادة	بسم الله الرحمن الرحيم أسئلة اختبار مادة الدراسات الاجتماعية الفصل الدراسي الثالث للعام الدراسي ١٤٤٥ - ١٤٤٦ هـ للفصل الخامس الابتدائي	المملكة العربية السعودية وزارة التعليم
الصف		
الزمن		
ساعة ونصف	الدور	الأول

اسم الطالب :	الفصل :	الرقم :
اسم المصحح :	توقيعه :	الدرجة كتابة :
اسم المراجع :	توقيعه :	٤٠

السؤال الأول أ/ ضع علامة (✓) أمام العبارة الصحيحة وعلامة (x) أمام العبارة الخاطئة مما يلي :

٢٠	()	١- تُعد الثروة الحيوانية من الموارد الاقتصادية في وطني
	()	٢- من أسباب قلة الثروة الحيوانية في وطني الاستهلاك الضخم من اللحوم
	()	٣- تراجعت حرفة الرعي بسبب استقرار الناس في المدن
	()	٤- من أهم صادرات المملكة النفط والتمر
	()	٥- تستورد المملكة جميع وسائل النقل ومنها السيارات والطائرات
	()	٦- التعاون مع رجال الأمن واجب ديني و وطني
	()	٧- مكافحة الحرائق من مهمات أمن الطرق
	()	٨- حب الوطن لا يؤثر في الأمن
	()	٩- المدن الطبية هي مدن صغيرة
	()	١٠- لا تقدم الدولة الحماية الإجتماعية للمواطنين والمقيمين
	()	١١- الحماية والأمن من وظائف المؤسسات الخاصة
	()	١٢- من مهام وزارة الصحة إنشاء مراكز لإيواء الأيتام
	()	١٣- المؤسسات نوعان مؤسسة عامة (حكومية) و مؤسسة خاصة
	()	١٤- تقدم هيئة الهلال الأحمر السعودي خدمات الإسعاف
	()	١٥- تقوم وزارة الداخلية بمهام سلامة الحجاج

ب / ضع الرقم المناسب من المجموعة (أ) أمام ما يناسبه من المجموعة (ب)

ب	أ
مؤسسة خاصة	١- التعليم
البيع والشراء	٢- المادة الخام
من مقومات الصناعة	٣- التمور
من الصادرات	٤- التجارة
من الخدمات	٥- شركة سيارات

السؤال الثاني/ اختر الإجابة الصحيحة مما يلي :

- ١ - لتسرب المياه إلى باطن الأرض أثر كبير في ارتفاع منسوب :
أ - المياه الجوفية ب - مياه البحر ج - مياه الأودية
- ٢ - تستعمل مياه الصرف الصحي المعالجة في :
أ - الاستحمام ب - ري المنتزهات ج - الشرب
- ٣ - ينمو نبات الأروطي في :
أ - الأودية ب - الجبال ج - الرمال
- ٤ - معظم حقول النفط في المملكة العربية السعودية تقع في المنطقة :
أ - الشرقية ب - الجنوبية ج - الغربية
- ٥ - أكبر حقول النفط في اليابسة مساحةً وإنتاجاً هو :
أ - منيفة ب - الغوار ج - السفانية
- ٦ - تأتي الزراعة قديماً في الصدارة بين الأنشطة :
أ - الرياضية ب - الاجتماعية ج - الاقتصادية
- ٧ - من عوامل نجاح الزراعة :
أ - التربة ب - الرمال ج - البحار
- ٨ - من فوائد الصناعة :
أ - توفير الأراضي ب - توفير فرص العمل ج - توفير المواد الخام
- ٩ - ينمو نبات الزيتون البري :
أ - الرمال ب - الأودية ج - الجبال
- ١٠ - تُعد الخفجي والجبيل ورأس تنورة :
أ - موانئ تصدير ب - حقول بحرية ج - حقول برية

السؤال الثالث / اكتب اسم المؤسسة الحكومية التي تؤدي المهام الآتية :

تجهيز الجيش

افتتاح المدارس

علاج المرضى

الأمن والحماية

ب / أكمل الفراغات التالية بما يناسبها من الكلمات التالية

السطحية

السفانية

الآراك

تنوع الأعلاف

الجوفية

الداخلية

- أ - بيع السلع والبضائع وشراؤها داخل الوطن يسمى التجارة
- ب - المياه هي المياه التي تعلق سطح الأرض ولا تحتاج إلى جهد لاستخراجها
- ج - نبات ينمو في الأودية و السهول
- د - المياه هي المياه التي تخزنت في باطن الأرض وتحتاج جهد لاستخراجها
- هـ - من أكبر الحقول النفطية في البحر هو حقل
- و- من أساليب تنمية الثروة الحيوانية

المادة	بسم الله الرحمن الرحيم أسئلة اختبار مادة الدراسات الاجتماعية الفصل الدراسي الثالث للعام الدراسي ١٤٤٥ - ١٤٤٦ هـ للفصل الخامس الابتدائي	المملكة العربية السعودية وزارة التعليم
الصف		
الزمن	ساعة ونصف	
الدور	الأول	
اسم الطالب :		
اسم المصحح		
اسم المراجع		
كتابة :		

نموذج الاجابة

السؤال الأول / ضع علامة (✓) أمام العبارة الصحيحة وعلامة (x) أمام العبارة الخاطئة مما يلي :

- | | | |
|----|---------|--|
| | (صح) | ١- تُعد الثروة الحيوانية من الموارد الاقتصادية في وطني |
| ٢٠ | (صح) | ٢- من أسباب قلة الثروة الحيوانية في وطني الاستهلاك الضخم من اللحوم |
| | (صح) | ٣- تراجعت حرفة الرعي بسبب استقرار الناس في المدن |
| | (صح) | ٤- من أهم صادرات المملكة النفط والتمر |
| | (صح) | ٥- تستورد المملكة جميع وسائل النقل ومنها السيارات والطائرات |
| | (صح) | ٦- التعاون مع رجال الأمن واجب ديني و وطني |
| | (خطأ) | ٧- مكافحة الحرائق من مهمات أمن الطرق |
| | (خطأ) | ٨- حب الوطن لا يؤثر في الأمن |
| | (خطأ) | ٩- المدن الطبية هي مدن صغيرة |
| | (خطأ) | ١٠- لا تقدم الدولة الحماية الإجتماعية للمواطنين والمقيمين |
| | (خطأ) | ١١- الحماية والأمن من وظائف المؤسسات الخاصة |
| | (خطأ) | ١٢- من مهام وزارة الصحة إنشاء مراكز لإيواء الأيتام |
| | (خطأ) | ١٣- المؤسسات نوعان مؤسسة عامة (حكومية) و مؤسسة خاصة |
| | (صح) | ١٤- تقدم هيئة الهلال الأحمر السعودي خدمات الإسعاف |
| | (صح) | ١٥- تقوم وزارة الداخلية بمهام سلامة الحجاج |

ب / ضع الرقم المناسب من المجموعة (أ) أمام ما يناسبه من المجموعة (ب)

ب	أ
مؤسسة خاصة	١- التعليم
البيع والشراء	٢- المادة الخام
من مقومات الصناعة	٣- التمور
من الصادرات	٤- التجارة
من الخدمات	٥- شركة سيارات

السؤال الثاني/ اختر الإجابة الصحيحة مما يلي :

- ١ - لتسرب المياه إلى باطن الأرض أثر كبير في ارتفاع منسوب :
أ - المياه الجوفية ب - مياه البحر ج - مياه الأودية
- ٢ - تستعمل مياه الصرف الصحي المعالجة في :
أ - الاستحمام ب - ري المنتزهات ج - الشرب
- ٣ - ينمو نبات الأرتوى في :
أ - الأودية ب - الجبال ج - الرمال
- ٤ - معظم حقول النفط في المملكة العربية السعودية تقع في المنطقة :
أ - الشرقية ب - الجنوبية ج - الغربية
- ٥ - أكبر حقول النفط في اليابسة مساحةً وإنتاجاً هو :
أ - منيفة ب - الغوار ج - السفانية
- ٦ - تأتي الزراعة قديماً في الصدارة بين الأنشطة :
أ - الرياضية ب - الاجتماعية ج - الاقتصادية
- ٧ - من عوامل نجاح الزراعة :
أ - التربة ب - الرمال ج - البحار
- ٨ - من فوائد الصناعة :
أ - توفير الأراضي ب - توفير فرص العمل ج - توفير المواد الخام
- ٩ - ينمو نبات الزيتون البري :
أ - الرمال ب - الأودية ج - الجبال
- ١٠ - تُعد الخفجي والجبيل ورأس تنورة :
أ - موانئ تصدير ب - حقول بحرية ج - حقول برية

السؤال الثالث / اكتب اسم المؤسسة الحكومية التي تؤدي المهام الآتية :

تجهيز الجيش

افتتاح المدارس

علاج المرضى

الأمن والحماية

وزارة الدفاع

وزارة التعليم

وزارة الصحة

وزارة الداخلية

ب / أكمل الفراغات التالية بما يناسبها من الكلمات التالية

السطحية

السفانية

الآراك

تنوع الأعلاف

الجوفية

الداخلية

- أ - بيع السلع والبضائع وشراؤها داخل الوطن يسمى التجارة الداخلية
- ب - المياه السطحية هي المياه التي تعلق سطح الأرض ولا تحتاج إلى جهد لاستخراجها
- ج - نبات الآراك ينمو في الأودية و السهول
- د - المياه الجوفية هي المياه التي تخزنت في باطن الأرض وتحتاج جهد لاستخراجها
- هـ - من أكبر الحقول النفطية في البحر هو حقل السفانية
- و- من أساليب تنمية الثروة الحيوانية تنوع الأعلاف

المعلم	المملكة العربية السعودية وزارة التعليم الإدارة العامة للتعليم محافظة مدرسة
المرحلة	الابتدائية	
الصف	الخامس	
المادة	الدراسات الاجتماعية	
الزمن	٩٠ دقيقة	اسم الطالب /

السؤال الاول : اختر الإجابة الصحيحة فيما يلي بوضع دائرة عليها :-

١٤

١ من سمات مناخ المملكة العربية السعودية أنه :

بارد جاف كثير الامطار

٢ من أنواع النبات الحولية :

الاقحوان الطلح العرعر

٣ تستعمل مياه الصرف الصحي المعالجة في :

الغسيل الشرب ري المنتزهات

٤ هي إحدى مقومات الحياة ومن صفاتها مقاومة الجفاف :

النباتات المعمرة النباتات الحولية المزارع

٥ من أمثلة المياه الجوفية :

الانهار الآبار البحيرات

٦ هي مياه البحر المنقاه من الاملاح والشوائب :

المياه الجوفية المياه السطحية مياه البحر المحلاة

٧ هي تحويل المادة الخام الأولية الى منتج اكثر فائدة للانسان :

الصناعة التجارة الزراعة

٨ اكبر حقل نفطي بحري في العالم :

بقيق السفانية الغوار

٩ تأتي الزراعة في صدارة الانشطة للسكان :

الاجتماعية الرياضية الاقتصادية

١٠ هي الاجهزة الحكومية المكلفة بمهام لخدمة الوطن و المواطن :

الحماية الاجتماعية الخدمات الحكومية مؤسسات الدولة


اسم الطالب :

١١	هي حركة البيع والشراء لمختلف انواع السلع والبضائع المحلية والمستوردة :		
	التجارة	الزراعة	الصناعة
١٢	هي الاعمال التي تقوم لها الدولة لمصلحة المجتمع و افراده :		
	المؤسسات العامة	المؤسسات الخاصة	الخدمات الحكومية
١٣	من فوائد الصناعة :		
	توفير المزارع	توفير فرص العمل	توفير الاراضي
١٤	من عوامل نجاح الزراعة في وطني :		
	التربة	الضرائب	الرعي الجائر

١٢

السؤال الثاني : ضع علامة (√) أمام الإجابة الصحيحة وعلامة (x) امام الإجابة الخاطئة:-

()	(١) تعد الثروة الحيوانية من الموارد الاقتصادية في وطني .
()	(٢) تعمل التربة على تثبيت النبات وتمده بالعناصر الغذائية .
()	(٣) تسمى النباتات المعمرة بالنباتات الموسمية .
()	(٤) من أسباب قلة الثروة الحيوانية في وطني الاستهلاك الضخم من اللحوم
()	(٥) من أساليب المحافظة على الثروة المائية تجنب رمي النفايات فيها.
()	(٦) تراجعت حرفة الرعي بسبب استقرار الناس في المدن .
()	(٧) التعاون مع رجال الامن واجب ديني و وطني .
()	(٨) من عوامل نجاح الزراعة الاراضي الصالحة و توافر المياه .
()	(٩) الغوار هو اكبر حقل نفطي بري في العالم .
()	(١٠) من وظائف مؤسسات الدولة الحماية و الامن و تنمية المجتمع .
()	(١١) معظم حقول النفط في وطني موجودة في المنطقة الغربية .
()	(١٢) يعتبر التعليم والصحة من اهم الخدمات في وطني .



اسم الطالب :

٨

استعن بالكلمات التالية وأكمل الفراغات بما يناسبها :-

السؤال الثالث :

وزارة الداخلية	الميزان التجاري	التجارة الخارجية	التجارة الداخلية
المياه الجوفية	التضاريس	وزارة الصحة	وزارة العمل و التنمية

- ١- من اهم اعمالها تحقيق الامن والاستقرار و منع الجريمة
- ٢- هي بيع وشراء السلع والبضائع بين الوطن والدول الاخرى
- ٣- من اهم اعمالها الحفاظ على صحة المواطنين من خلال مراكز الرعاية الصحية
- ٤- الفرق بين قيمة صادرات الدولة وقيمة وارداتها
- ٥- هي عملية بيع و شراء السلع والبضائع داخل الدولة
- ٦- من اهم اعمالها متابعة احوال المواطنين وحماية الاطفال و النساء
- ٧- يسهم تنوع في اختلاف الغطاء النباتي .
- ٨- هي المياه الموجودة في باطن الأرض

السؤال الرابع :

أ) صل عبارات المجموعة (أ) بما يناسبها في المجموعة (ب) باستعمال الأرقام :

٦

القائمة (أ)	الأرقام	القائمة (ب)
١) من واردات وطني	()	وزارة التعليم
٢) من صادرات وطني	()	الالات و الاجهزة الكهربائية
٣) من المؤسسات العامة	()	سوق تجاري
٤) من المؤسسات الخاصة	()	النفط والتمور

ب) اذكر اثنتين من مقومات الصناعة :

١-

٢-

انتهت الاسئلة / مع اطيب الامنيات بالتوفيق و النجاح .


اسم الطالب :

١١	هي حركة البيع والشراء لمختلف انواع السلع والبضائع المحلية والمستوردة :	التجارة	الزراعة	الصناعة
١٢	هي الاعمال التي تقوم لها الدولة لمصلحة المجتمع و افراده :	المؤسسات العامة	المؤسسات الخاصة	الخدمات الحكومية
١٣	من فوائد الصناعة :	توفير المزارع	توفير فرص العمل	توفير الاراضي
١٤	من عوامل نجاح الزراعة في وطني :	التربة	الضرائب	الرعي الجائر

١٢

السؤال الثاني : ضع علامة (√) امام الإجابة الصحيحة وعلامة (x) امام الإجابة الخاطئة:-

(√)	(١) تعد الثروة الحيوانية من الموارد الاقتصادية في وطني .
(√)	(٢) تعمل التربة على تثبيت النبات وتمده بالعناصر الغذائية .
(x)	(٣) تسمى النباتات المعمرة بالنباتات الموسمية .
(√)	(٤) من أسباب قلة الثروة الحيوانية في وطني الاستهلاك الضخم من اللحوم
(√)	(٥) من أساليب المحافظة على الثروة المائية تجنب رمي النفايات فيها .
(√)	(٦) تراجعت حرفة الرعي بسبب استقرار الناس في المدن .
(√)	(٧) التعاون مع رجال الامن واجب ديني و وطني .
(√)	(٨) من عوامل نجاح الزراعة الاراضي الصالحة و توافر المياه .
(√)	(٩) الغوار هو اكبر حقل نفطي بري في العالم .
(√)	(١٠) من وظائف مؤسسات الدولة الحماية و الامن و تنمية المجتمع .
(x)	(١١) معظم حقول النفط في وطني موجودة في المنطقة الغربية .
(√)	(١٢) يعتبر التعليم والصحة من اهم الخدمات في وطني .



اسم الطالب :

٨

السؤال الثالث :

استعن بالكلمات التالية وأكمل الفراغات بما يناسبها :-

التجارة الداخلية	التجارة الخارجية	الميزان التجاري	وزارة الداخلية
وزارة العمل والتنمية	وزارة الصحة	التضاريس	المياه الجوفية

- ١- من اهم اعمالها تحقيق الامن والاستقرار و منع الجريمة **وزارة الداخلية**
- ٢- هي بيع وشراء السلع والبضائع بين الوطن والدول الاخرى **التجارة الخارجية**
- ٣- من اهم اعمالها الحفاظ على صحة المواطنين من خلال مراكز الرعاية الصحية ... **وزارة الصحة**
- ٤- الفرق بين قيمة صادرات الدولة وقيمة وارداتها ... **الميزان التجاري**
- ٥- هي عملية بيع و شراء السلع والبضائع داخل الدولة ... **التجارة الداخلية**
- ٦- من اهم اعمالها متابعة احوال المواطنين وحماية الاطفال و النساء ... **وزارة العمل والتنمية**
- ٧- يسهم تنوع ... **التضاريس** ... في اختلاف الغطاء النباتي .
- ٨- هي المياه الموجودة في باطن الأرض ... **المياه الجوفية**

السؤال الرابع :

أ) صل عبارات المجموعة (أ) بما يناسبها في المجموعة (ب) باستعمال الأرقام :

٦

القائمة (أ)	الأرقام	القائمة (ب)
(١) من واردات وطني	(٣)	وزارة التعليم
(٢) من صادرات وطني	(١)	الالات و الاجهزة الكهربائية
(٣) من المؤسسات العامة	(٤)	سوق تجاري
(٤) من المؤسسات الخاصة	(٢)	النفط والتمور

ب) اذكر اثنتين من مقومات الصناعة :

- ١- رأس المال . الاسواق . مصادر الطاقة .
- ٢- المادة الخام . الخبرة الفنية . وسائل النقل .

 **موقع مادتيرو**

انتهت الاسئلة / مع اطيب الامنيات بالتوفيق و النجاح .

اسئلة اختبار الفصل الدراسي الثالث لمادة الدراسات الاجتماعية الصف الخامس (الدور الأول) لعام 1446هـ

اسم الطالبة الفصل

13

السؤال الأول: أ) اختار الإجابة الصحيحة فيما يلي بوضع دائرة عليها:

1	رسم توضيحي مصغر لسطح الأرض أو لجزء منه:	أ	الخريطة	ب	الجغرافيا	ج	الموارد الطبيعية
2	هي كل ما أودعه الله سبحانه وتعالى في الطبيعة:	أ	السكان	ب	الموارد الطبيعية	ج	التضاريس
3	هي إحدى أهم مقومات الحياة ومن صفاتها مقاومة الجفاف:	أ	النباتات المعمرة	ب	النباتات الحولية	ج	النبات الطبيعي
4	تعمل لتثبيت النباتات وتمدها بالعناصر الغذائية اللازمة لنموها:	أ	التضاريس	ب	التربة	ج	الغطاء النباتي
5	أكبر حقل نفطي بري في العالم:	أ	السفانية	ب	منيقة	ج	الغوار
6	أول مرحلة تمر بها صناعة النفط:	أ	التنقيب	ب	التكرير	ج	الاستطلاع
7	تستعمل مياه الصرف الصحي المعالجة في:	أ	المياه السطحية	ب	الشرب	ج	ري المنزهات
8	معظم حقول النفط في وطني هي في المنطقة:	أ	الشرقية	ب	الغربية	ج	الشمالية
9	ينمو نبات الأوطى في:	أ	الأودية	ب	الرمال	ج	الجبال
10	تأتي الزراعة في الصدارة بين الأنشطة:	أ	الاجتماعية	ب	السكانية	ج	الرياضية
11	من عوامل نجاح الزراعة:	أ	الرمال	ب	التربة	ج	البحار
12	من أبرز صادرات وطني:	أ	الفطن	ب	النفط ومشتقاته	ج	وسائل النقل
13	هو الفرق بين قيمة صادرات الدولة وقيمة وارداتها:	أ	الصادرات	ب	الواردات	ج	الميزان التجاري

السؤال الثاني: أ) ضع إشارة (✓) امام الإجابة الصحيحة وإشارة (x) أمام الإجابة الخاطئة:

1	كانت الزراعة في صدارة الأنشطة الاقتصادية للسكان قديما.
2	تحرص حكومة وطني على أن تكون قيمة الواردات أعلى من قيمة الصادرات.
3	تراجعت حرفة الرعي بسبب تدهور المراعي الطبيعية.
4	لا يمارس السكان أعمالا أو حرفا في حياتهم اليومية.

13

5	من فوائد الصناعة توفير فرص العمل.
6	قلة المياه تعد من المشكلات الوطنية.
7	أسست شركة أرامكو للعناية بمجال النفط.
8	يعاني وطني من قلة الثروة الحيوانية.
9	تنتشر تربية النحل في عدة مناطق في وطني.
10	من أساليب تنمية الثروة الحيوانية تنوع الأعلاف.
11	من العوامل المؤثرة في نمو النبات الطبيعي المناخ.
12	الأنهار ليست من موارد المياه في وطني.
13	لا تؤثر درجات الحرارة في نمو النباتات.

6

السؤال الثالث: أجبني عن المطلوب: (أ) أذكرى ثلاث من موارد المياه في وطني:

.....(1

.....(2

.....(3

(ب) أذكرى ثلاث من أهم الأنشطة الاقتصادية في وطني:

.....(1

.....(2

.....(3

8

(ب) صنفى الكلمات بما يناسبها في الجدول التالي:

الأقحوان	النحاس	الآلات	مصادر الطاقة
----------	--------	--------	--------------

المعادن	نباتات حولية	مقومات الصناعة	الواردات

تمت الأسئلة

تمنياتي لكن بالتوفيق

موقع
مادنتري