

تم تحميل وعرض المادة من



موقع مادتي هو موقع تعليمي يعمل على مساعدة المعلمين والطلاب وأولياء الأمور في تقديم حلول الكتب المدرسية والاختبارات وشرح الدروس والملاحظات والتحضير وتوزيع المنهج لكل المراحل الدراسية بشكل واضح وسهل مجاناً بتصفح وعرض مباشر أونلاين وتحميل على موقع مادتي

حمل تطبيق مادتي ليصلك كل جديد





وزارة التعليم  
Ministry of Education

المملكة العربية السعودية

وزارة التعليم

إدارة التعليم بـ .....

مدرسة .....

# اوراق عمل

## الدراسات الاجتماعية

### الصف الخامس الابتدائي

#### الفصل الدراسي الثالث

اسم الطالب: .....

الصف أو الفصل: .....

موقع  
مادتي





أضع علامة (✓) أمام العبارة الصحيحة، وعلامة (✗) أمام العبارة الخاطئة فيما يلي:

- عرفت الخرائط بعد معرفة الكتابة.
- تتولى الهيئة العامة للمساحة والمعلومات الجيومكانية إنتاج الخرائط الجيولوجية (طبقات الأرض) الرقمية لوطني المملكة العربية السعودية.
- الخريطة رسم توضيحي مصغر لسطح الأرض أو لجزء منه.

أكمل الفراغات التالية :

- أنشئ العالم المسلم ..... القُرشيّ أول خريطة عالمية صحيحة.
- تتولى الهيئة العامة لـ..... والمعلومات ..... إنتاج الخرائط الرقمية للمملكة العربية السعودية.
- توضح الخرائط الظواهر ..... مثل: الأنهار والجبال، أو الظواهر ..... مثل: توزيع السُّكَّان.

ما مميزات الخرائط الرقمية ؟

.....  
.....





أذكر ثلاثة من الأماكن التي تنخفض فيها الكثافة السكانية:

١. ....
٢. ....
٣. ....

أضع علامة (✓) أمام العبارة الصحيحة، وعلامة (✗) أمام العبارة الخاطئة فيما يلي:

- تشكل قارة أستراليا ما يقارب ١١٪ من سُكَّان العالم.
- يتركز سُكَّان العالم في النصف الجنوبي من الكرة الأرضية
- يُعْتَنى بتوزيع السُّكَّان من أجل توزيع الخِدْمات عليهم، والتخطيط للتنمية لتحقيقها.

أكمل الفراغات التالية بما يناسبها مما بين الأقواس:

(النشاط السياسي - الموارد الطبيعية - التضاريس - النشاط الاقتصادي)

- من العوامل الطبيعية المؤثرة على في توزيع السكان في العالم:  
.....، و.....
- من العوامل الطبيعية المؤثرة على في توزيع السكان في العالم:  
.....، و.....

موقع  
مادنتير

الدرجة

اسم الطالب/ة: .....

## الدرس الثاني والعشرون توزيع السكان



أضع علامة (✓) أمام العبارة الصحيحة، وعلامة (×) أمام العبارة الخاطئة فيما يلي:

- ترتفع الكثافة السكانية في السواحل البحرية وقُرب الأنهار.
- يكثر وجود السكان كلما زاد ارتفاع التضاريس وزادت وعورتها.
- الثلوج من مصادر المياه العذبة.

أختار الإجابة الصحيحة:

من مصادر المياه المالحة: .....		
ج- المياه الجوفية	ب- المحيطات	أ- الأنهار
من أسباب انخفاض كثافة السكان في الجبال والمرتفعات الشاهقة: .....		
ج- برودة مناخها	ب- سهولة البناء فيها	أ- اعتدال مناخها
من أسباب ارتفاع كثافة السكان في السهول: .....		
ج- صعوبة الزراعة فيها	ب- شدة انحدار مسالكها	أ- يسر التنقل فيها

ما أسباب ارتفاع كثافة السُّكَّان قرب المياه؟

.....

.....

.....



ما أسباب ارتفاع كثافة السُّكَّان في المناطق ذات المناخ المعتدل؟

١. ....
٢. ....
٣. ....

أضع علامة (✓) أمام العبارة الصحيحة، وعلامة (✗) أمام العبارة الخاطئة فيما يلي:

- تنخفض الكثافة السكانية في المناطق الصحراوية بسبب كثرة الأمطار.
- تُنقسَم الموارد الطبيعية إلى أربعة أقسام.
- ضوء الشمس من الموارد الطبيعية غير المتجددة.

أكمل الفراغات الآتية:

- تزداد الكثافة السكانية في المناطق ذات المناخ .....
- الموارد الطبيعية ..... الموارد التي تتجدد ذاتيًا بتدبير الله.
- الموارد الطبيعية ..... الموارد الموجودة في الطبيعة بمقادير ثابتة، وما يُؤخذ منها لا يُعوّض.

موقع مادنتري

الدرجة

اسم الطالب/ة: .....





أضع علامة (✓) أمام العبارة الصحيحة، وعلامة (x) أمام العبارة الخاطئة فيما يلي:

- الأمن سبب رئيسي في استقرار السكان وجذبهم.
- يكثر وجود السكان في البلدان ذات الاقتصاد المنخفض.
- تهدد الحروب استقرار السكان.

أختار الإجابة الصحيحة:

يقوم النشاط ..... على تبادل السلع والمنتجات.		
أ- الزراعي	ب- التجاري	ج- الصناعي
يقوم النشاط ..... على تحويل الموارد الطبيعية إلى منتجات مفيدة للإنسان.		
أ- الزراعي	ب- التجاري	ج- الصناعي
يعد النشاط ..... من أهم الأنشطة الأساسية في العالم وأقدمها.		
أ- الزراعي	ب- التجاري	ج- الصناعي

ما معنى النشاط الاقتصادي؟

.....

.....

.....



أضع علامة (✓) أمام العبارة الصحيحة، وعلامة (x) أمام العبارة الخاطئة فيما يلي:

- تقوم المملكة العربية السعودية بتحلية مياه الآبار المالحة وتحويلها إلى مياه عذبة صالحة للشرب.
- يعد الماء العُنْصُرُ الأساسي للحياة على سطح الأرض.
- تستعمل مياه الصرف الصحي المعالجة في ري الحدائق والمنتزهات.

أكمل الفراغات التالية:

- تُغطّي المملكة .....% من احتياجاتها لمياه الشرب من تحلية مياه البحر.
- يتسم مناخ المملكة العربية السعودية ب.....
- من أمثلة المياه الجوفية في المملكة العربية السعودية: .....

أختار الإجابة الصحيحة:

.....: المياه التي تخزنت في باطن الأرض وتحتاج إلى جهد لاستخراجها.		
أ- المياه الجوفية	ب- المياه السطحية	ج- مياه البحار المحلاة
.....: مياه البحر المُنقَّاة من الأملاح والشوائب.		
أ- المياه الجوفية	ب- المياه السطحية	ج- مياه البحار المحلاة
.....: المياه التي تعلو سطح الأرض ولا تحتاج إلى جهد لاستخراجها.		
أ- المياه الجوفية	ب- المياه السطحية	ج- مياه البحار المحلاة



أضع علامة (✓) أمام العبارة الصحيحة، وعلامة (x) أمام العبارة الخاطئة فيما يلي:

- تنمو جميع النباتات في المناطق الحارة.
- ينمو في مرتفعات عسير غطاء نباتي كثيف.
- الزيتون البري من أبرز نباتات بيئة الرمال.

أكمل الفراغات التالية بما يناسبها مما بين الأقواس:

(التضاريس - المناخ - التربة)

- ..... أهم العناصر المناخية المؤثرة في نوع النبات وكثافته.
- تمتد ..... النباتات بالعناصر الغذائية اللازمة لنموها.
- يُسهم تنوع ..... في اختلاف الغطاء النباتي.

ما أنواع النباتات الموجودة في وطننا؟

.....

.....

.....

.....

.....

.....

موقع  
مادنتيري

الدرجة

اسم الطالب/ة: .....



## الدرس السابع والعشرون الثروة الحيوانية



أضع علامة (✓) أمام العبارة الصحيحة، وعلامة (x) أمام العبارة الخاطئة فيما يلي:

- استهلاك ذكور الحيوانات من أسباب قلة الثروة الحيوانية في وطننا.
- في المملكة العربية السعودية أكبر مزارع للأبقار في العالم.
- تعد مشتقات الألبان مصدرًا صناعيًا.

أعلل الآتي:

- أطلقت وزارة البيئة والمياه والزراعة مبادرات تُسهم في تطوير قطاع النحل.

.....  
.....

- سعي الدولة لتحقيق الاكتفاء الذاتي في الثروة الحيوانية.

.....  
.....

أذكر بعض أساليب تنمية الثروة الحيوانية:

.....  
.....  
.....  
.....



أختار الإجابة الصحيحة:

تأتي المملكة العربية السعودية في المركز ..... عالميًا في إنتاج النفط.		
أ- الأول	ب- الثاني	الثالث
..... أكبر حقل نفطي بري في العالم.		
أ- برقان	ب- السَّفَانِيَّة	ج- الغَوَّار
..... أكبر حقل نفطي بحري في العالم.		
أ- السَّفَانِيَّة	ب- الغَوَّار	ج- برقان

أذكر خمسة معادن موجودة في وطننا:

..... ، ..... ، ..... ، ..... ، .....

أذكر المراحل التي تمر بها صناعة النفط:

- ..... ١
- ..... ٢
- ..... ٣
- ..... ٤
- ..... ٥
- ..... ٦
- ..... ٧
- ..... ٨

موقع مادنتيري

الدرجة

اسم الطالب/ة: .....





أضع علامة (✓) أمام العبارة الصحيحة، وعلامة (x) أمام العبارة الخاطئة فيما يلي:

- تأتي الزراعة في صدارة الأنشطة الاقتصادية للسُّكَّان، وذلك بعد اكتشاف النفط.
- للبيئة تأثير في تحديد نوع النشاط الذي يمارسه السكان.
- الزراعة هي الانتقال والتَّرحال بحثاً عن الماء والعشب.

أكمل الفراغات التالية:

- يحرص وطني المملكة العربية السعودية على تحسين بيئة الإنتاج الحيواني وفق الشروط البيطرية والصحية من خلال ..... الذي تقوم به الشركات الزراعية.
- من أهم الأنشطة الاقتصادية: ....., ....., .....

أعلل الآتي:

- انخفاض عدد العاملين في الزراعة انخفاضاً كبيراً مؤخراً.

.....  
.....

- تراجع حرفة الرعي وتدهورها.

.....  
.....

موقع  
مادنتيري

الدرجة

اسم الطالب/ة: .....



ما معنى الخدمات؟

.....  
.....  
.....

أختار الإجابة الصحيحة:

.....: حركة البيع والشراء لمُخْتَلِف أنواع السِّلَع المحلية والمستوردة.		
أ- الصناعة	التجارة	ج- الخدمات
من صادرات وطننا: .....		
أ- وسائل النقل	ب- النفط	ج- الآلات
من واردات وطننا: .....		
أ- التمور	ب- الآلات	ج- النفط

أكمل الفراغات الآتية:

- الميزان التجاري: الفرق بين قيمة ..... الدولة وقيمة .....
- الصناعة: تحويل المادة ..... الموجودة في الطبيعة التي لا يمكن الاستفادة منها مباشرة إلى ..... يلبي احتياجات الإنسان.

موقع  
مادنتيري

الدرجة

اسم الطالب/ة: .....

# أوراق عمل أخرى

موقع  
مادنتري

# اوراق عمل

## الدراسات الاجتماعية

الصف الخامس الابتدائي

الفصول الدراسية الثلاثة

موقع  
مادتي

# الفصل الدراسي الثالث



بسم الله الرحمن الرحيم

ورقة عمل درس ( تاريخ الخرائط وتطورها )

اسم الطالب : ..... الصف : خامس / .....

س / ما المقصود بالخريطة ؟

ج / .....

س / ضع علامة ( √ ) أمام العبارة الصحيحة وعلامة ( × ) أمام العبارة الخاطئة فيما يلي :

- ١ - يذكر المؤرخون أن الإنسان عرف الخرائط قبل معرفة الكتابة
- ٢ - كان البابليون في العراق والفرعون في مصر من أوائل من رسم الخرائط
- ٣ - أنشأ العالم المسلم محمد الإدريسي أول خريطة عالمية صحيحة مبنية وفق الأصول العلمية

س / اذكر اثنين من الفروق بين الخريطة الورقية والخريطة الرقمية :

- ١- .....
- ٢- .....



بسم الله الرحمن الرحيم

ورقة عمل درس ( تاريخ الخرائط وتطورها )

اسم الطالب : ..... الصف : خامس / .....

س / ما المقصود بالخريطة ؟

ج / .....

س / ضع علامة ( √ ) أمام العبارة الصحيحة وعلامة ( × ) أمام العبارة الخاطئة فيما يلي :

- ١ - يذكر المؤرخون أن الإنسان عرف الخرائط قبل معرفة الكتابة
- ٢ - كان البابليون في العراق والفرعون في مصر من أوائل من رسم الخرائط
- ٣ - أنشأ العالم المسلم محمد الإدريسي أول خريطة عالمية صحيحة مبنية وفق الأصول العلمية

س / اذكر اثنين من الفروق بين الخريطة الورقية والخريطة الرقمية :

- ١- .....
- ٢- .....



بسم الله الرحمن الرحيم

ورقة عمل درس ( السكان )

اسم الطالب : ..... الصف : خامس / .....

س / اختر الاجابة الصحيحة من بين الأقواس فيما يلي :

- ( منتظماً - متفاوت - متساوي )  
( أفريقيا - آسيا - أوروبا )  
( آسيا - استراليا - افريقيا )

- ١ - يتوزع السكان توزيعاً  
٢ - أكثر سكان العالم يسكن في قارة  
٣ - يقل عدد السكان في قارة

س / اذكر العوامل المؤثرة في توزيع السكان في العالم ؟



بسم الله الرحمن الرحيم

ورقة عمل درس ( السكان )

اسم الطالب : ..... الصف : خامس / .....

س / اختر الاجابة الصحيحة من بين الأقواس فيما يلي :

- ( منتظماً - متفاوت - متساوي )  
( أفريقيا - آسيا - أوروبا )  
( آسيا - استراليا - افريقيا )

- ١ - يتوزع السكان توزيعاً  
٢ - أكثر سكان العالم يسكن في قارة  
٣ - يقل عدد السكان في قارة

س / اذكر العوامل المؤثرة في توزيع السكان في العالم ؟





سم الله الرحمن الرحيم

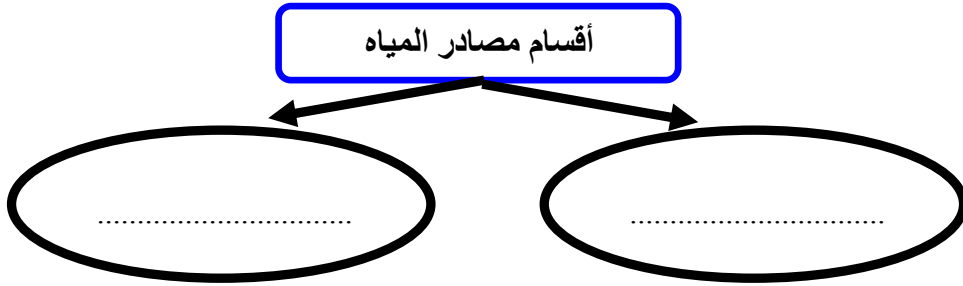
ورقة عمل درس ( توزيع السكان – العوامل الطبيعية : التضاريس والمياه )

اسم الطالب : ..... الصف : خامس / .....

س / اكمل الفراغات التالية بما يناسب ؟

- يكثر السكان في ..... و ..... غير الوعرة ، في حين ..... وجود السكان  
كلما زاد ..... التضاريس وزادت وعورتها .

س / تنقسم مصادر المياه إلى قسمين اذكرها؟



س / اذكر ثلاثاً من المدن القريبة من المناطق المائية الجاذبة للسكان في وطني المملكة العربية السعودية ؟

ج / .....



سم الله الرحمن الرحيم

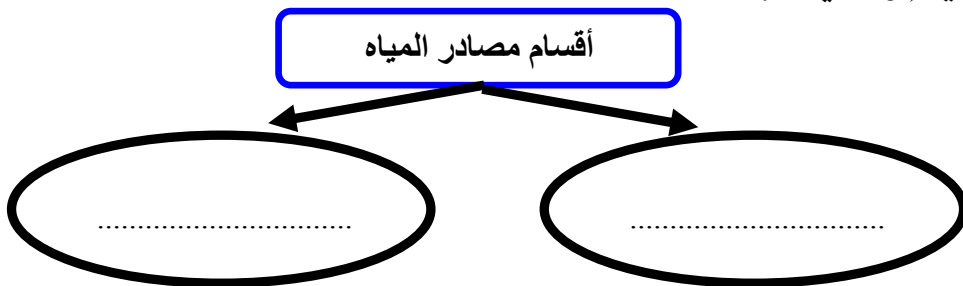
ورقة عمل درس ( توزيع السكان – العوامل الطبيعية : التضاريس والمياه )

اسم الطالب : ..... الصف : خامس / .....

س / اكمل الفراغات التالية بما يناسب ؟

- يكثر السكان في ..... و ..... غير الوعرة ، في حين ..... وجود السكان  
كلما زاد ..... التضاريس وزادت وعورتها .

س / تنقسم مصادر المياه إلى قسمين اذكرها؟



س / اذكر ثلاثاً من المدن القريبة من المناطق المائية الجاذبة للسكان في وطني المملكة العربية السعودية ؟

ج / .....



بسم الله الرحمن الرحيم

ورقة عمل درس ( توزيع السكان – العوامل الطبيعية : المناخ والموارد )

اسم الطالب : ..... الصف : خامس / .....

س / ضع علامة ( √ ) أمام العبارة الصحيحة وعلامة ( × ) أمام العبارة الخاطئة فيما يلي :

- ١ – تزداد الكثافة السكانية في المناطق القطبية
- ٢ – تنقل الكثافة السكانية في الصحارى الحارة
- ٣ – يبتعد الإنسان عن المناطق الاستوائية بسبب ارتفاع رطوبة الجو

س / تنقسم الموارد الطبيعية إلى قسمين أذكرها؟

..... / ١

..... / ٢



بسم الله الرحمن الرحيم

ورقة عمل درس ( توزيع السكان – العوامل الطبيعية : المناخ والموارد )

اسم الطالب : ..... الصف : خامس / .....

س / ضع علامة ( √ ) أمام العبارة الصحيحة وعلامة ( × ) أمام العبارة الخاطئة فيما يلي :

- ١ – تزداد الكثافة السكانية في المناطق القطبية
- ٢ – تنقل الكثافة السكانية في الصحارى الحارة
- ٣ – يبتعد الإنسان عن المناطق الاستوائية بسبب ارتفاع رطوبة الجو

س / تنقسم الموارد الطبيعية إلى قسمين أذكرها؟

..... / ١

..... / ٢

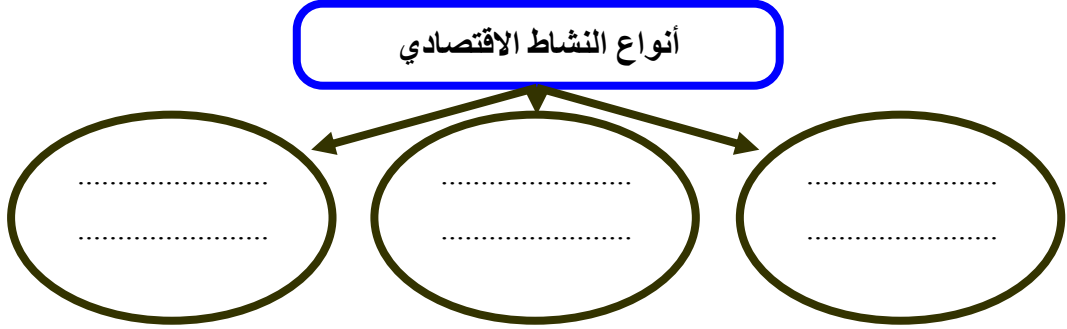


بسم الله الرحمن الرحيم

ورقة عمل درس ( توزيع السكان – العوامل البشرية )

اسم الطالب : ..... الصف : خامس / .....

س / ينقسم النشاط الاقتصادي الى ثلاثة أنواع اذكرها ؟



س / ضع علامة ( √ ) أمام العبارة الصحيحة وعلامة ( × ) أمام العبارة الخاطئة فيما يلي :

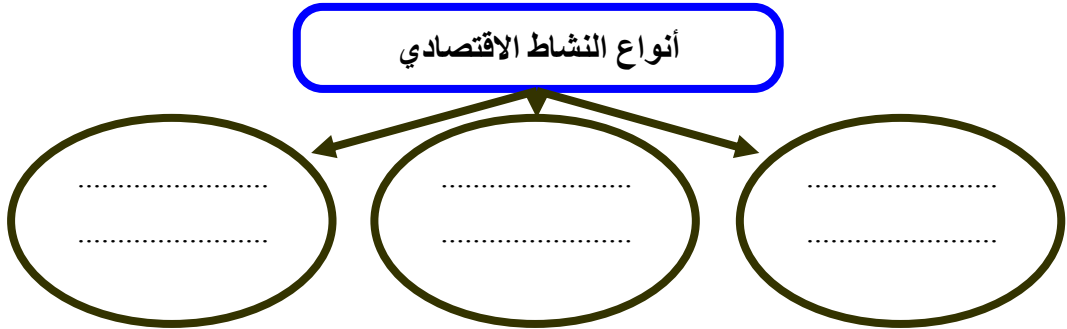
- ١ – النشاط الاقتصادي هو الاعمال والمجهودات التي يؤديها الإنسان ؛ لتلبية احتياجاته الأساسية
- ٢ – تعد النزاعات والحروب أحد أهم العوامل المؤثرة في توزيع السكان
- ٣ – الأمن سبب رئيسي في استقرار السكان وجذبهم

بسم الله الرحمن الرحيم

ورقة عمل درس ( توزيع السكان – العوامل البشرية )

اسم الطالب : ..... الصف : خامس / .....

س / ينقسم النشاط الاقتصادي الى ثلاثة أنواع اذكرها ؟



س / ضع علامة ( √ ) أمام العبارة الصحيحة وعلامة ( × ) أمام العبارة الخاطئة فيما يلي :

- ١ – النشاط الاقتصادي هو الاعمال والمجهودات التي يؤديها الإنسان ؛ لتلبية احتياجاته الأساسية
- ٢ – تعد النزاعات والحروب أحد أهم العوامل المؤثرة في توزيع السكان
- ٣ – الأمن سبب رئيسي في استقرار السكان وجذبهم

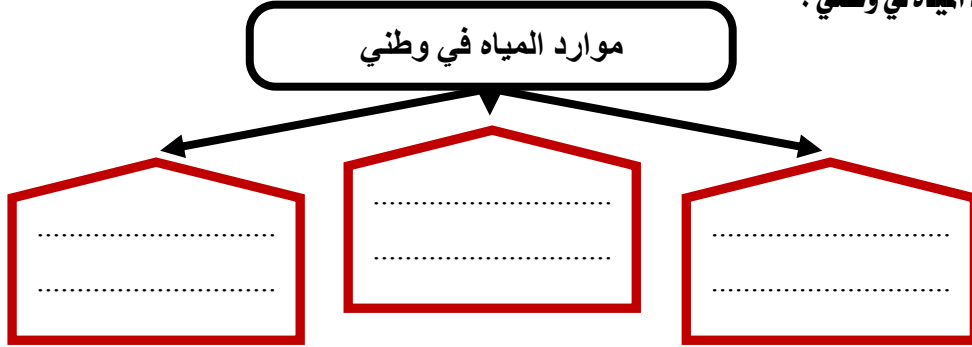


بسم الله الرحمن الرحيم

ورقة عمل درس ( المياه )

اسم الطالب : ..... الصف : خامس / .....

س / اذكر موارد المياه في وطني ؟



س / لماذا لجأت حكومة وطني إلى تحلية مياه البحر ؟

ج / .....

س / كيف نحافظ على الثروة المائية :

١- .....

٢- .....

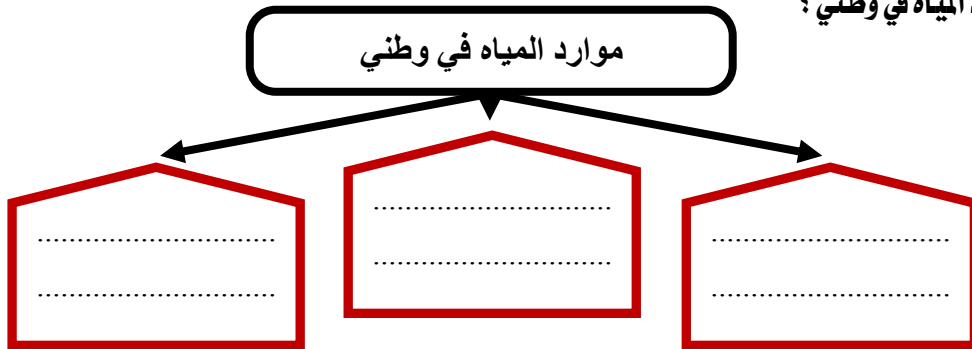


بسم الله الرحمن الرحيم

ورقة عمل درس ( المياه )

اسم الطالب : ..... الصف : خامس / .....

س / اذكر موارد المياه في وطني ؟



س / لماذا لجأت حكومة وطني إلى تحلية مياه البحر ؟

ج / .....

س / كيف نحافظ على الثروة المائية :

١- .....

٢- .....

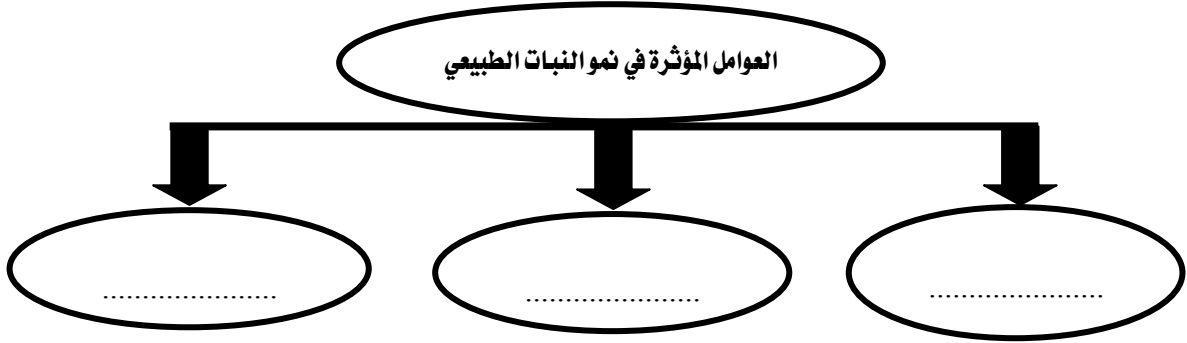


بسم الله الرحمن الرحيم  
ورقة عمل درس ( النبات الطبيعي )

اسم الطالب : ..... الصف : خامس / .....

س / تتأثر النباتات الطبيعية في وطني المملكة العربية السعودية بأحواله المناخية ؛ لذا تتنوع إلى نوعين أذكرهما :

س / اذكر العوامل المؤثرة في نمو النبات الطبيعي :



س / لماذا نحتاج إلى تحديد المحميات الطبيعية في وطني المملكة العربية السعودية ؟

ج / .....

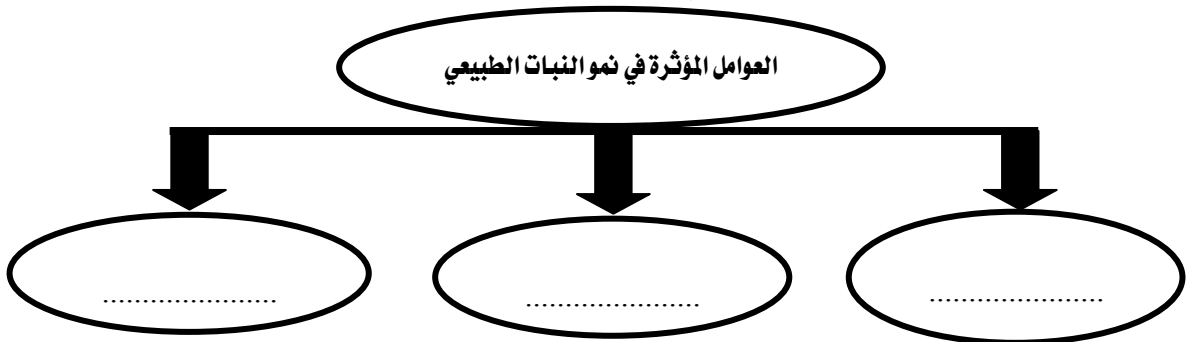


بسم الله الرحمن الرحيم  
ورقة عمل درس ( النبات الطبيعي )

اسم الطالب : ..... الصف : خامس / .....

س / تتأثر النباتات الطبيعية في وطني المملكة العربية السعودية بأحواله المناخية ؛ لذا تتنوع إلى نوعين أذكرهما :

س / اذكر العوامل المؤثرة في نمو النبات الطبيعي :



س / لماذا نحتاج إلى تحديد المحميات الطبيعية في وطني المملكة العربية السعودية ؟

ج / .....



بسم الله الرحمن الرحيم  
ورقة عمل درس ( الثروة الحيوانية )

اسم الطالب : ..... / الصف : خامس / .....

س / اذكر أسباب قلة الثروة الحيوانية في وطني المملكة العربية السعودية ؟

أسباب قلة الثروة الحيوانية في وطني

Four empty trapezoidal boxes for writing answers, each containing two horizontal dotted lines.

س / اذكر أسباب تنمية الثروة الحيوانية ؟

Four rounded rectangular boxes for writing answers, numbered 1, 2, 3, and 4 from right to left. Each box contains two horizontal dotted lines.



بسم الله الرحمن الرحيم  
ورقة عمل درس ( الثروة الحيوانية )

اسم الطالب : ..... / الصف : خامس / .....

س / اذكر أسباب قلة الثروة الحيوانية في وطني المملكة العربية السعودية ؟

أسباب قلة الثروة الحيوانية في وطني

Four empty trapezoidal boxes for writing answers, each containing two horizontal dotted lines.

س / اذكر أسباب تنمية الثروة الحيوانية ؟

Four rounded rectangular boxes for writing answers, numbered 1, 2, 3, and 4 from right to left. Each box contains two horizontal dotted lines.



بسم الله الرحمن الرحيم  
ورقة عمل درس ( النفط والمعادن )

اسم الطالب : ..... الصف : خامس / .....

س / أكمل الفراغات التالية بما يناسب :

- أ - يعد النفط من أهم الموارد في وطني المملكة العربية السعودية حيث يأتي في المركز ..... عالمياً في الاحتياط منه
- ب - يعد حقل الغوار أكبر حقل نفطي ..... في العالم ،
- كما يعد حقل السفانية أكبر حقل نفطي ..... في العالم
- ج - معظم حقول النفط في وطني المملكة العربية السعودية هي في المنطقة .....

س / اذكر ثلاثة من أهم المعادن في وطني المملكة العربية السعودية :

أهم المعادن في وطني

.....	.....	.....
-------	-------	-------



بسم الله الرحمن الرحيم  
ورقة عمل درس ( النفط والمعادن )

اسم الطالب : ..... الصف : خامس / .....

س / أكمل الفراغات التالية بما يناسب :

- أ - يعد النفط من أهم الموارد في وطني المملكة العربية السعودية حيث يأتي في المركز ..... عالمياً في الاحتياط منه
- ب - يعد حقل الغوار أكبر حقل نفطي ..... في العالم ،
- كما يعد حقل السفانية أكبر حقل نفطي ..... في العالم
- ج - معظم حقول النفط في وطني المملكة العربية السعودية هي في المنطقة .....

س / اذكر ثلاثة من أهم المعادن في وطني المملكة العربية السعودية :

أهم المعادن في وطني

.....	.....	.....
-------	-------	-------



بسم الله الرحمن الرحيم  
ورقة عمل درس ( الزراعة والرعي )

اسم الطالب : ..... / الصف : خامس / .....

س / اختر الاجابة الصحيحة من بين الأقواس فيما يلي :

- ١ - تأتي الزراعة في الصدارة بين ( الأنشطة الاجتماعية - الأنشطة السكانية - الأنشطة الاقتصادية )  
٢ - من عوامل نجاح الزراعة ( الرمال - البحار - الأراضي الصالحة للزراعة )

س / ما أهم مشكلة تواجه الزراعة في وطني المملكة العربية السعودية ؟

ج / .....

س / اذكر اسباب تراجع حرفة الرعي في وطني المملكة العربية السعودية :

١- .....

٢ - .....

٣ - .....



بسم الله الرحمن الرحيم  
ورقة عمل درس ( الزراعة والرعي )

اسم الطالب : ..... / الصف : خامس / .....

س / اختر الاجابة الصحيحة من بين الأقواس فيما يلي :

- ١ - تأتي الزراعة في الصدارة بين ( الأنشطة الاجتماعية - الأنشطة السكانية - الأنشطة الاقتصادية )  
٢ - من عوامل نجاح الزراعة ( الرمال - البحار - الأراضي الصالحة للزراعة )

س / ما أهم مشكلة تواجه الزراعة في وطني المملكة العربية السعودية ؟

ج / .....

س / اذكر اسباب تراجع حرفة الرعي في وطني المملكة العربية السعودية :

١- .....

٢ - .....

٣ - .....



بسم الله الرحمن الرحيم

ورقة عمل درس ( الصناعة والتجارة والخدمات )

اسم الطالب : ..... الصف : خامس / .....

س / ما المقصود بالصناعة؟

ج / .....

س / عدد أهم مقومات الصناعة؟

أهم مقومات الصناعة

.....	.....	.....	.....	.....	.....
.....	.....	.....	.....	.....	.....

س / عدد أربعة من أهم الصناعات في وطني المملكة العربية السعودية :

- ج / ١ - ..... ٢ - ..... ٣ - ..... ٤ - .....

س / تنقسم التجارة إلى نوعين اذكرهما؟

أنواع التجارة

.....	.....
-------	-------



بسم الله الرحمن الرحيم

ورقة عمل درس ( الصناعة والتجارة والخدمات )

اسم الطالب : ..... الصف : خامس / .....

س / ما المقصود بالصناعة؟

ج / .....

س / عدد أهم مقومات الصناعة؟

أهم مقومات الصناعة

.....	.....	.....	.....	.....	.....
.....	.....	.....	.....	.....	.....

س / عدد أربعة من أهم الصناعات في وطني المملكة العربية السعودية :

- ج / ١ - ..... ٢ - ..... ٣ - ..... ٤ - .....

س / تنقسم التجارة إلى نوعين اذكرهما؟

أنواع التجارة

.....	.....
-------	-------