

تم تحميل وعرض المادة من



موقع مادتي هو موقع تعليمي يعمل على مساعدة المعلمين والطلاب وأولياء الأمور في تقديم حلول الكتب المدرسية والاختبارات وشرح الدروس والملاحظات والتحاير وتوزيع المنهج لكل المراحل الدراسية بشكل واضح وسهل مجاناً بتصفح وعرض مباشر أونلاين وتحميل على موقع مادتي

حمل تطبيق مادتي ليصلك كل جديد



اسم الطالبة: رقم الجلوس:

المادة : دراسات اجتماعية					
اليوم :					
التاريخ : / / ١٤٤٦هـ					
الزمن : ثلاث ساعات					
عدد الصفحات : (٥) عدد الأسئلة : (٤)		الدرجة رقماً		الدرجة المستحقة	
الدرجة كتابة		الدرجة رقماً		الدرجة	
السؤال	الدرجة رقماً	الدرجة كتابة	المصححة	المراجعة	المدققة
الأول					
الثاني					
الثالث					
الرابع					

رددي أثناء انتظارك :

- (سبحان الله و بحمده) مئة مرة .
- (لا حول و لا قوة إلا بالله) كنز من كنوز الجنة .
- (حسبي الله لا إله إلا هو عليه توكلت وهو رب العرش العظيم) سبع مرات .
- (لا إله إلا الله وحده لا شريك له و له الملك وله الحمد وهو على كل شيء قدير) مائة مرة .
- (اللهم صل وسلم على نبينا محمد) عشر مرات .
- اكثري من الاستغفار .

اسم الطالبة :

الاختبار النهائي لمادة الدراسات الاجتماعية للصف الأول الثانوي نظام المسارات
الفصل الدراسي الثالث (الدور الأول) لعام ١٤٤٦ هـ

طالبتي الغالية :

استعيني بالله سبحانه وتعالى ثم اقرئي الأسئلة جيداً وأجيبني عما يأتي:

السؤال الأول: أ / أكمل الفراغات التالية بما يناسبها :

- (١) الدول الأعضاء في جامعة الدول العربية عددها دولة.
- (٢) انتهت الحرب العالمية الأولى باستسلام. وانتصار دول الحلفاء على المحور.
- (٣) اللغة الرسمية في الولايات المتحدة الأمريكية هي اللغة يتحدث بها ٨٠٪ من السكان.
- (٤) عدد الدول المشاركة في الحرب العالمية الأولى دولة.
- (٥) ترتبط دول الخليج العربي بعدة روابط أبرزها روابط الدين و والثقافة .
- (٦) استضافت المملكة العربية السعودية القمة العربية ٢٩ في مدينة الظهران بالمملكة العربية السعودية عام ١٤٣٩ هـ وأطلق عليها الملك سلمان حفظه الله اسم قمةتضامنا مع القضية الفلسطينية.
- (٧) يضم الاتحاد الأوروبي دولة تغطي معظم أنحاء القارة.
- (٨) يقع مقر منظمة التعاون الإسلامي في مدينة وتضم في عضويتها ٥٧ دولة .

ب / صنفى المصطلحات تبعاً لتعريفاتها في الجدول التالي..

الحرب العالمية - هيئة الأمم المتحدة - سايكس بيكو - الكشوف الجغرافية - البخور - رابطة العالم الإسلامي

منظمة أنشئت بعد الحرب العالمية الثانية من أجل إقرار السلام والعدل في العالم	
اتفاقية سرية وقعت بين فرنسا وبريطانيا وروسيا على أن يتقاسموا أملاك الدولة العثمانية في العراق والشام .	
الطريق التجاري العالمي الذي كان العرب في شبه الجزيرة العربية يسيطرون عليه منذ ما قبل الإسلام	
رحلات بحرية قام بها الأوروبيين لاكتشاف مناطق جديدة في القرن الخامس عشر .	
منظمة إسلامية شعبية عالمية مقرها مكة المكرمة تعني بإيضاح حقيقة الدعوة الإسلامية .	

ج / ما النتائج المترتبة على :

❖ قيام الاتحاد الأوروبي .

.....
.....
.....

السؤال الثاني :

أ) اختاري الإجابة الصحيحة في الآتي :

١. وقعت قنبلتي هيروشيما و ناجازاكي على عام ١٩٤٥ م :			
أ- اليابان	ب- الصين	ج- ألمانيا	د- تركيا
٢- تشكل الولايات المتحدة القسم الأكبر من قارة :			
أ- أوروبا	ب- أمريكا الشمالية	ج- أستراليا	د- أفريقيا
٣- منظمة من أهدافها تنسيق السياسة النفطية للبلدان الأعضاء وحماية مصالح الدول المنتجة للنفط :			
أ- أوبك	ب- اليونسكو	ج- اليونسيف	د. الفاو
٤- المسرح الرئيسي للحرب العالمية الأولى قارة :			
أ- آسيا	ب- أستراليا	ج- أمريكا	د- أوروبا
٥- أكبر دولة في العالم من حيث المساحة :			
أ- روسيا الاتحادية	ب- الصين	ج- كندا	د- الجزائر
٦- اللغة الرسمية في الصين هي :			
أ- الفارسية	أ- العربية	ج- الإنجليزية	د- لغة هان

ب) انسبي المظاهر التضاريسية التالية الى بلدانها :

قزوين - الأبلش - هاواي - الدانوب - أوب

١- جبال تقع في شرق الولايات المتحدة الأمريكية	
٢- نهر ينبع من ألمانيا ويجتاز دول الاتحاد الأوروبي	
٣- جزيرة في المحيط الهادي تعد أصغر الولايات في الولايات المتحدة	
٤- أكبر مسطح مائي داخلي في العالم جنوب روسيا	

ج) عللي :

موقع **مادنتيري**



١. يشهد سكان الاتحاد الأوروبي نموا بطيئا مقارنة بسكان العالم .

٢. تنوع المناخ والمحاصيل الزراعية في الولايات المتحدة .

السؤال الثالث :

أ) صلي العامود أ بما يناسبه من العامود ب :

ب	أ	
فاسكو دا جاما	مستشار ألمانيا وعمل على تسليح الجيش وأصبح أقوى جيش في العالم	١
أحمد بن ماجد	عقدت القمة الاستثنائية الافتراضية لدول مجموعة العشرين عام ٢٠٢٠ م برئاسته لتنسيق الجهود العالمية لمكافحة جائحة كورونا.	٢
بلفور	استطاع أن يدور حول أفريقيا مكتشفاً طريق رأس الرجاء الصالح.	٣
جيمس كوك	عالم البحار المسلم الملقب بأسد البحار استفاد منه فاسكو دي جاما في رحلته الى الهند	٤
الملك سلمان حفظه الله	اعطى اليهود وعد ينص على تأسيس وطن قومي لهم في فلسطين	٥
هتلر	مكتشف قارة أستراليا	٦
الملك خالد رحمه الله		٧

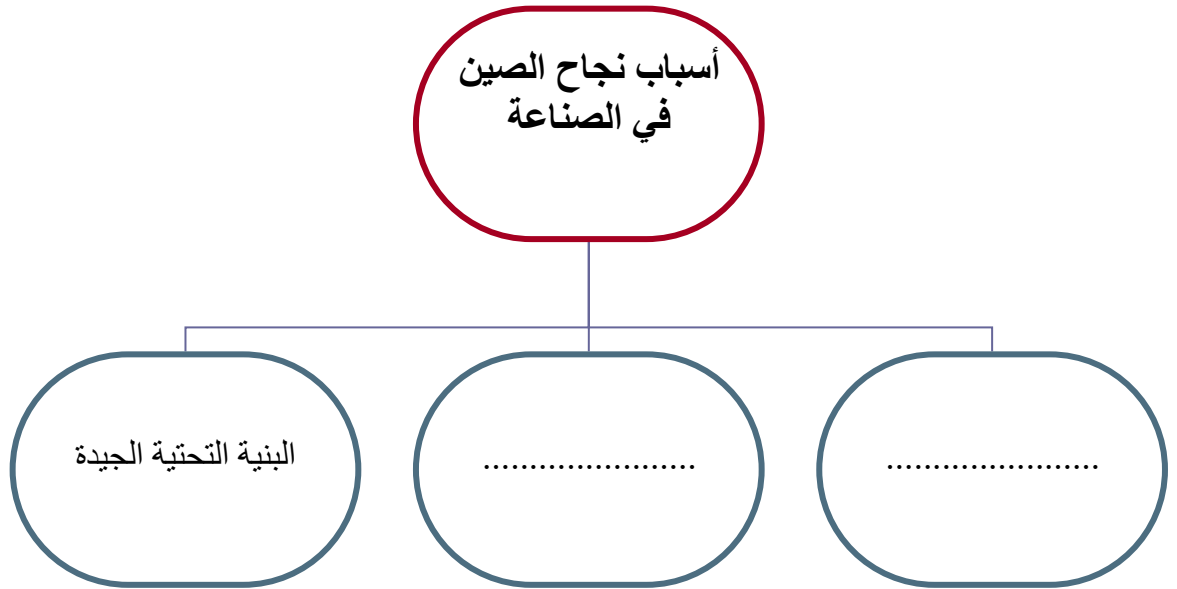
ب) أذكرى نتائج الحرب العالمية الأولى (٢ فقط) :

.....

.....

.....

ج / أكمل خريطة المفاهيم التالية :



السؤال الرابع :

أ/ ضعي علامة (✓) أمام العبارة الصحيحة وعلامة (×) أمام العبارة الخاطئة :

١. عدد الخسائر البشرية في الحرب العالمية الثانية خمسة ملايين قتيل ()
٢. أكثر دول العالم اكتظاظا بالسكان الصين. ()
٣. كان من نتائج الكشوف الجغرافية إثبات كروية الأرض ()
٤. أنشئت الجامعة العربية قبل انشاء هيئة الأمم المتحدة بنحو ستة أشهر. ()
٥. قامت الصين بإطلاق أول رائد فضاء بشري في تاريخ العالم. ()

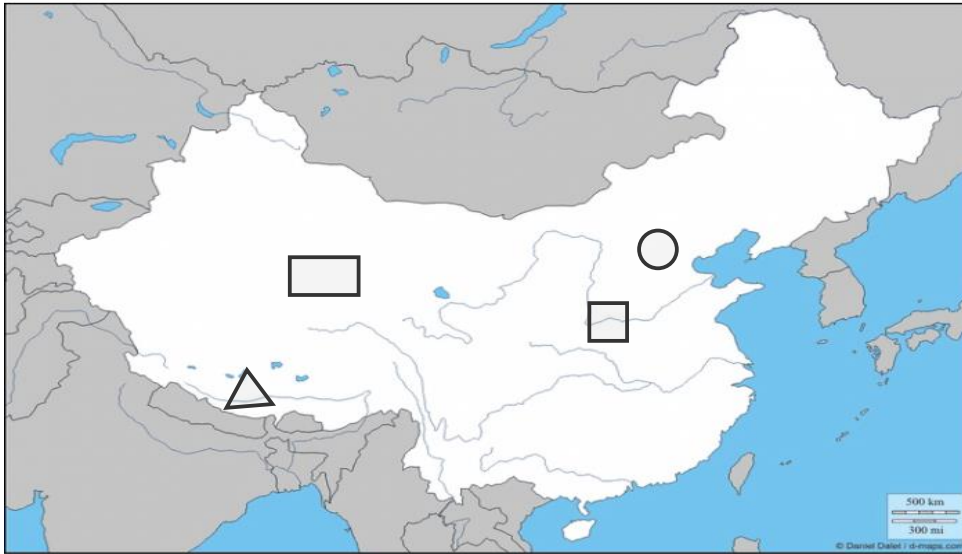
ب/ اشرحي السبب الرئيسي المباشر لقيام الحرب العالمية الأولى.

.....

.....

.....

ج) أمامك خريطة لجمهورية الصين أكتبى الرقم المناسب على الخريطة :



- ١- النهر الأصفر
- ٢- هضبة التبت
- ٣- العاصمة بكين
- ٤- جبال الهملايا

انتهت الأسئلة .

جعلني الله وإياكن ممن يُفْرَن بالفردوس الاعلى من الجنة ☺

معلمتك /

نموذج الإجابة

بسم الله

المملكة العربية السعودية

وزارة التعليم

مكتب التعليم

ثانوية

الاختبار النهائي لمادة الدراسات الاجتماعية للصف الأول الثانوي نظام المسارات
الفصل الدراسي الثالث (الدور الأول) لعام ١٤٤٦ هـ

طالبتي الغالية :

١٠

١٠

استعيني بالله سبحانه وتعالى ثم اقرئي الأسئلة جيداً وأجيبى عما يأتي:

السؤال الأول: أ / أكملى الفراغات التالية بما يناسبها :

٤

- (١) الدول الأعضاء في جامعة الدول العربية عددها ٢٢ دولة.
- (٢) انتهت الحرب العالمية الأولى باستسلام ألمانيا وانتصار دول الحلفاء على المحور.
- (٣) اللغة الرسمية في الولايات المتحدة الأمريكية هي اللغة الإنجليزية يتحدث بها ٨٠٪ من السكان.
- (٤) عدد الدول المشاركة في الحرب العالمية الأولى ٣٣ دولة.
- (٥) ترتبط دول الخليج العربي بعدة روابط أبرزها روابط الدين واللغة العادات التقاليد والثقافة.
- (٦) استضافت المملكة العربية السعودية القمة العربية ٢٩ في مدينة الظهران بالمملكة العربية السعودية عام ١٤٣٩ هـ وأطلق عليها الملك سلمان حفظه الله اسم قمة القدس تضامناً مع القضية الفلسطينية.
- (٧) يضم الاتحاد الأوربي ٢٧ دولة تغطي معظم أنحاء القارة.
- (٨) يقع مقر منظمة التعاون الإسلامي في مدينة جدة وتضم في عضويتها ٥٧ دولة .

٥

ب / صنفى المصطلحات تبعاً لتعريفاتها في الجدول التالي..

الحرب العالمية - هيئة الأمم المتحدة - سايكس بيكو - الكشوف الجغرافية - البخور - رابطة العالم الإسلامي

منظمة أنشئت بعد الحرب العالمية الثانية من أجل إقرار السلام والعدل في العالم	هيئة الأمم المتحدة
اتفاقية سرية وقعت بين فرنسا وبريطانيا وروسيا على أن يتقاسموا أملاك الدولة العثمانية في العراق والشام .	سايكس بيكو
الطريق التجاري العالمي الذي كان العرب في شبه الجزيرة العربية يسيطرون عليه منذ ما قبل الإسلام	البخور
رحلات بحرية قام بها الأوروبيين لاكتشاف مناطق جديدة في القرن الخامس عشر .	الكشوف الجغرافية
منظمة إسلامية شعبية عالمية مقرها مكة المكرمة تعني بإيضاح حقيقة الدعوة الإسلامية .	رابطة العالم الإسلامي

ج / ما النتائج المترتبة على :

١

❖ قيام الاتحاد الأوروبي .

موقع
مادنتيري

ارتفع مستوى المعيشة لشعبها و نمت أسواقها الداخلية

السؤال الثاني :

أ) اختاري الإجابة الصحيحة في الآتي :

٦

١. وقعت قنبلتي هيروشيما و ناجازاكي على عام ١٩٤٥ م :			
أ- اليابان	ب- الصين	ج- ألمانيا	د- تركيا
٢- تشكل الولايات المتحدة القسم الأكبر من قارة :			
أ- أوروبا	ب- أمريكا الشمالية	ج- أستراليا	د- أفريقيا
٣- منظمة من أهدافها تنسيق السياسة النفطية للبلدان الأعضاء وحماية مصالح الدول المنتجة للنفط :			
أ- أوبك	ب- اليونسكو	ج- اليونسيف	د. الفاو
٤- المسرح الرئيسي للحرب العالمية الأولى قارة :			
أ- آسيا	ب- أستراليا	ج- أمريكا	د- أوروبا
٥- أكبر دولة في العالم من حيث المساحة :			
أ- روسيا الاتحادية	ب- الصين	ج- كندا	د- الجزائر
٦- اللغة الرسمية في الصين هي :			
أ- الفارسية	أ- العربية	ج- الإنجليزية	د- لغة هان

ب) انسبي المظاهر التضاريسية التالية الى بلدانها :

٢

قزوين - الأبلش - هاواي - الدانوب - أوب

١- جبال تقع في شرق الولايات المتحدة الأمريكية	الأبلش
٢- نهر ينبع من ألمانيا ويجتاز دول الاتحاد الأوروبي	الدانوب
٣- جزيرة في المحيط الهادي تعد أصغر الولايات في الولايات المتحدة	هاواي
٤- أكبر مسطح مائي داخلي في العالم جنوب روسيا	قزوين

ج) عّلي :

٢

١. يشهد سكان الاتحاد الأوروبي نموا بطيئا مقارنة بسكان العالم .

تأخر سن الزواج وتحديد النسل

٢. تنوع المناخ والمحاصيل الزراعية في الولايات المتحدة .

بسبب اتساع المساحة في الولايات المتحدة .

ب	أ	
فاسكو دا جاما	٣	١ مستشار ألمانيا وعمل على تسليح الجيش وأصبح أقوى جيش في العالم
أحمد بن ماجد	٤	٢ عقدت القمة الاستثنائية الافتراضية لدول مجموعة العشرين عام ٢٠٢٠ م برئاسته لتنسيق الجهود العالمية لمكافحة جائحة كورونا.
بلفور	٥	٣ استطاع أن يدور حول أفريقيا مكتشفاً طريق رأس الرجاء الصالح.
جيمس كوك	٦	٤ عالم البحار المسلم الملقب بأسد البحار استفاد منه فاسكو دي جاما في رحلته الى الهند
الملك سلمان حفظه الله	٢	٥ اعطى اليهود وعد ينص على تأسيس وطن قومي لهم في فلسطين
هتلر	١	٦ مكتشف قارة أستراليا
الملك خالد رحمه الله		٧

٢

(ب) أذكرى نتائج الحرب العالمية الأولى (٢ فقط) :

- ١- الخسائر البشرية ٢ - الخسائر المادية ٣- تفكك الدولة العثمانية
 - ٤- اتساع مساحة بعض دول أوروبا وتقلص بعضها الآخر . ٥- انشاء بعض المنظمات الدولية
 - ٦- وقوع كثير من بلدان العالم العربي تحت الانتداب .
- ج / أكمل خريطة المفاهيم التالية :

موقع **مادتي**

أسباب نجاح الصين
في الصناعة

البنية التحتية الجيدة

رخص الأيدي العاملة

رخص العملة

أ/ ضعي علامة (✓) أمام العبارة الصحيحة وعلامة (×) أمام العبارة الخاطئة :

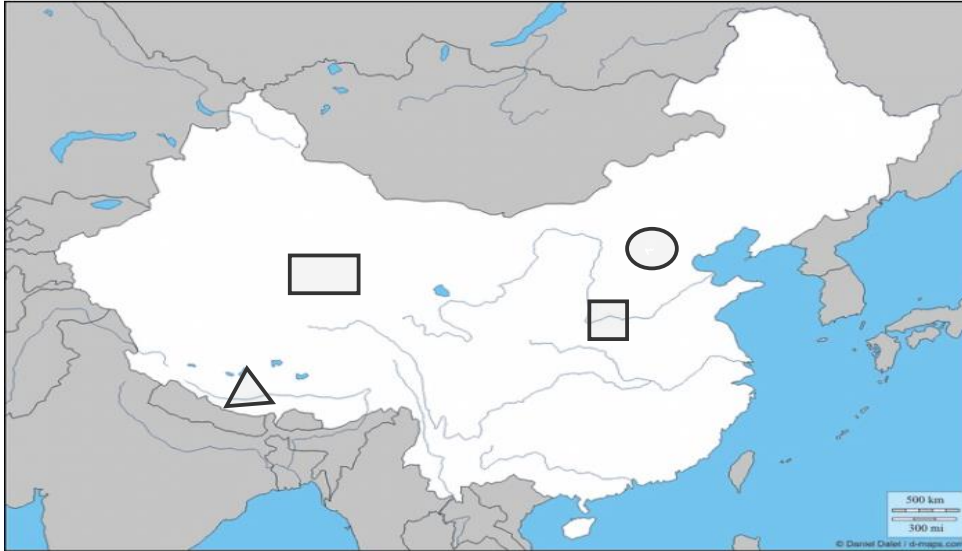
١. عدد الخسائر البشرية في الحرب العالمية الثانية خمسة ملايين قتيل (×)
٢. أكثر دول العالم اكتظاظا بالسكان الصين. (✓)
٣. كان من نتائج الكشوف الجغرافية إثبات كروية الأرض (✓)
٤. أنشئت الجامعة العربية قبل انشاء هيئة الأمم المتحدة بنحو ستة أشهر. (✓)
٥. قامت الصين بإطلاق أول رائد فضاء بشري في تاريخ العالم. (×)

١

ب/ اشرحي السبب الرئيسي المباشر لقيام الحرب العالمية الأولى.

اغتيال طالب صربي ولي عهد النمسا آنذاك وزوجته أثناء زيارتهم لسراييفو عاصمة البوسنة والهرسك

ج) أمامك خريطة لجمهورية الصين أكتبى الرقم المناسب على الخريطة :



٤

- ١- النهر الأصفر
- ٢- هضبة التبت
- ٣- العاصمة بكين
- ٤- جبال الهملايا

انتهت الأسئلة .

جعلني الله وإياكن ممن يُؤزَن بالفردوس الاعلى من الجنة ☺

معلمتك /



المدققة	المراجعة	المصححة	الدرجة		م
			رقما	كتابه	
					السؤال الاول
					السؤال الثاني
					مجموع الدرجات

المادة	الاختبار النهائي (الدراسات الاجتماعية)
المرحلة	(الأول الثانوي) (المسار العام)
الفصل الدراسي	(الثالث)
العام الدراسي	1446هـ
الدور	الأول (لطالبات الانتساب)
زمن الاختبار	حصة كامله
الدرجة	30 درجة

اسم الطالبة : الشعبة : رقم الجلوس :

أجيب عن جميع الأسئلة التالية علماً بأن عدد الأسئلة (2) موزعة على (2) صفحات أولاً: أسئلة الاختبار من متعدد من الفقرة (1) إلى الفقرة (20) اختاري الإجابة الصحيحة بوضع دائرة حول (الحرف) :		
1- المسرح الرئيسي لأحداث الحرب العالمية (الأولى) هي قارة : أ- آسيا. ب- أوروبا . ج- أفريقيا د- أستراليا.	2- استفاد الرحالة البرتغالي (فاسكو دي جاما) في ملاحه (المحيط الهندي) من البحار العربي: أ- أحمد بن ماجد. ب- المقدسي. ج- محمد الإدريسي. د- ابن بطوطة.	3- (الاشتراكية-النازية- الفاشية) تشارك المسميات السابقة في أنها : أ- أنظمة. ب- ثورات. د- أزمات. د- تحالفات.
4- من نتائج الحرب العالمية (الثانية) ظهور قوتين عظيمتين هما : أ-الاتحاد السوفيتي – أمريكا. ب- فرنسا – بريطانيا. ج-ألمانيا -إيطاليا. د-النمسا – بلغاريا.	5- (- بلغاريا – اليابان - ألمانيا) <u>العنصر المُتمم</u> لدول المحور في الحرب العالمية (الثانية) هو : أ-فرنسا . ب- بريطانيا . ج-روسيا . د- إيطاليا.	6- فقدت اليابان بعد الحرب العالمية (الثانية) البلدان التي احتلتها وأصبحت تحت الأشراف : أ- البريطاني. ب- الفرنسي ج-الأمريكي. د-الألماني.
7 استمر الكفاح (الجزائري) ضد (الفرنسين) أكثر من سنوات : أ- 3 ب- 4 ج- 5 د- 7	8- وقع الملك (عبد العزيز) معاهدة الأخوة (العربية) بين (المملكة العربية السعودية) مع : أ-الجزائر . ب-مصر . ج- العراق . د-لبنان.	9-تم اختيار مدينة (الرياض) مقراً لأمانة مجلس (التعاون الخليجي) بسبب: أ-الموقع الاستراتيجي للمملكة. ب-الاهتمام بقضايا المسلمين . ج-صون السلم والامن الدولي. د-إقامة معسكرات الايواء.
10- النظام المعتمد في حكم (الصين) هو: أ-الحزب الواحد . ب-الرأسمالية. ج-الفاشية. د-النازية.	11- يضم (الاتحاد الأوروبي) دولة أ- 27 ب- 50 ج- 60 د- 87	12- القارة العجوز هي : أ- آسيا. ب- أوروبا. ج-استراليا. د-امريكا.
13- تصيب (الولايات المتحدة الامريكية) الكوارث الطبيعية بسبب الأعاصير الاستوائية من خليج : أ- عمان. ب- المكسيك. ج-العربي. د-عدن .	14-(تسمم الكحول- التدخين- حوادث المرور-الجريمة العنيفة) تسهم العوامل السابقة في انخفاض العمر النسبي للذكور في دولة : أ- بريطانيا . ب- إيطاليا . ج-روسيا . د-الصين.	15- العملة الرخيصة + البنية التحتية + المهارة الانتاجية = اقتصاد قوي تتحقق <u>المعادلة</u> السابقة في دولة: أ-فرنسا . ب-ألمانيا . ج-روسيا . د-الصين.

<p>18_ الجهة التي قدمت المساعدات لأكثر من (37) دولة في العالم هي : أ-مركز الملك سلمان للإغاثة والاعمال الإنسانية . ب- التحالف الإسلامي العسكري لمحاربة الإرهاب. ج-المركز العالمي لمكافحة الفكر المتطرف . د-الصندوق السعودي للتنمية .</p>	<p>17- تحوي العبارات التالية معلومات تاريخية عن أسباب القضايا التي دعمتها (المملكة) فأبها صائب؟ أ-العدوان الثلاثي على لبنان عام 1956م . ب-احتلال الصرب للبوستنة والهرسك . ج- الانضمام الى حلفي وارسو والاطلسي. د-تأسيس محمد بن سلمان مركز الإغاثة .</p>	<p>16 - نتج عن اعتماد (المملكة) في رؤية 2030 م بناء على المقومات والأسس: أ- اقتصاد مزدهر ووطن طموح. ب- وجود الآثار القديمة. ج- موقعها على ثلاث قارات. د-الموقع الاستراتيجي</p>
	<p>20- أبرز إنجازات مجموعة العشرين أ- تحسين مستوى مراقبة الأسواق المالية . ب- الدعوة لتطبيق أحكام الشريعة الإسلامية. ج- تقديم الإغاثة للمسلمين المتضررين. د- تنسيق جهود القائمين بالعمل الإسلامي.</p>	<p>19- تأسست منظمة (التعاون الإسلامي) عام 1969م بسبب : أ- تطبيق احكام الشريعة. ب-حل الخلافات الدولية. ج-إدارة اتفاقات التجارة. د-إحراق المسجد الأقصى.</p>

ثالثاً: أسئلة الصواب والخطأ من فقرة (1) إلى فقرة (10) ضعي علامة (✓)نهاية العبارة الصحيحة وعلامة (x) نهاية العبارة الخاطئة:

1	أعلى معدلات المواليد في جمهورية <u>إلمانيا</u> بـ 6 مولود لكل ألف من السكان في الاتحاد الأوروبي	
2	تعترف الصين بـ 56 مجموعة عرقية رسمياً أكبرها عرق هان.	
3	ظهرت حركة عدم الانحياز بعد نهاية الحرب العالمية الأولى.	
4	يعتبر محاربة الفكر المتطرف من أهم أهداف التحالف الإسلامي العسكري لمحاربة الإرهاب .	
5	تبنّت الحكومة الأمريكية الدعوة إلى إقامة جامعة الدول العربية .	
6	تضم منظمة التعاون الإسلامي في عضويتها 50 دولة وعلى رأسهم المملكة العربية السعودية .	
7	بلغ عدد الدول المشاركة في الحرب العالمية الأولى 33 دولة.	
8	دعمت الكنيسة الأوروبية حركة الكشوف الجغرافية وأصدرت مراسيم حق ملكية الأقاليم المكتشفة لملوك اسبانيا والبرتغال .	
9	تتكون الولايات المتحدة الأمريكية من 50 ولاية متماسكة الكتلة	
10	طريق البخور هو طريق التجارة العالمي الذي كان العرب في شبه الجزيرة يسيطرون عليه قبل الإسلام.	

نموذج الاجابة

المملكة العربية السعودية
وزارة التعليم
إدارة تعليم البنات بمحافظة جدة
مكتب الفيحاء الثانوية/1

المراجعة	المدققة

المادة	الاختبار النهائي (الدراسات الاجتماعية)
المرحلة	(الأول الثانوي) (المسار العام)
الفصل الدراسي	(الثالث)
العام الدراسي	1446هـ
الدور	الأول (لطالبات الانتساب)
زمن الاختبار	حصة كاملة
الدرجة	30 درجة

اسم الطالبة: الشعبة: رقم الجلوس:

أجيب عن جميع الأسئلة التالية علماً بأن عدد الأسئلة (2) موزعة على (2) صفحات أولاً: أسئلة الاختبار من متعدد من الفقرة (1) إلى الفقرة (20) اختاري الإجابة الصحيحة بوضع دائرة حول (الحرف) :		
1- المسرح الرئيسي لأحداث الحرب العالمية (الأولى) هي قارة : أ- آسيا. ب- أوروبا. ج- أفريقيا د- أستراليا.	2- استفاد الرحالة البرتغالي (فاسكو دي جاما) في ملاحه (المحيط الهندي) من البحار العربي: أ- أحمد بن ماجد. ب- المقدسي. ج- محمد الإدريسي. د- ابن بطوطة.	3- (الاشتراكية-النازية- الفاشية) تشترك المسميات السابقة في أنها: أ- أنظمة. ب- ثورات. ج- أزمات. د- تحالفات.
4- من نتائج الحرب العالمية (الثانية) ظهور قوتين عظيمتين هما : أ-الاتحاد السوفيتي - أمريكا. ب- فرنسا - بريطانيا. ج-ألمانيا -إيطاليا. د-النمسا - بلغاريا.	5- (- بلغاريا - اليابان - ألمانيا) العنصر المُتمم لدول المحور في الحرب العالمية (الثانية) هو : أ-فرنسا . ب- بريطانيا . ج-روسيا . د- إيطاليا.	6- فقدت اليابان بعد الحرب العالمية (الثانية) البلدان التي احتلتها وأصبحت تحت الأشراف : أ- البريطاني. ب- الفرنسي ج-الأمريكي. د-الألماني.
7 استمر الكفاح (الجزائري) ضد (الفرنسين) أكثر من سنوات : أ- 3 ب- 4 ج- 5 د- 7	8- وقع الملك (عبد العزيز) معاهدة الأخوة (العربية) بين (المملكة العربية السعودية) مع : أ-الجزائر . ب-مصر . ج- العراق . د-لبنان.	9-تم اختيار مدينة (الرياض) مقراً لأمانة مجلس (التعاون الخليجي) بسبب: أ-الموقع الاستراتيجي للمملكة. ب-الاهتمام بقضايا المسلمين . ج-صون السلم والامن الدولي . د-إقامة معسكرات الايواء.
10- النظام المعتمد في حكم (الصين) هو: أ-الحزب الواحد. ب-الراسمالية. ج-الفاشية. د-النازية.	11- يضم (الاتحاد الأوروبي) دولة أ- 27 ب- 50 ج- 60 د- 87	12- القارة العجوز هي : أ- آسيا. ب- أوروبا. ج-أستراليا. د-أمريكا.
13- تصيب (الولايات المتحدة الامريكية) الكوارث الطبيعية بسبب الأعاصير الاستوائية من خليج : أ- عمان. ب- المكسيك. ج-العربي. د-عدن .	14- (تسمم الكحول- التدخين- حوادث المرور-الجريمة العنيفة) تسهم العوامل السابقة في انخفاض العمر النسبي للذكور في دولة : أ- بريطانيا . ب- إيطاليا . ج-روسيا . د-الصين.	15- العملة الرخيصة + البنية التحتية + المهارة الانتاجية = اقتصاد قوي تتحقق المعادلة السابقة في دولة: أ-فرنسا . ب-ألمانيا . ج-روسيا . د-الصين.

<p>18_ الجهة التي قدمت المساعدات لأكثر من (37 دولة في العالم هي : أ-مركز الملك سلمان للإغاثة والاعمال الإنسانية . ب- التحالف الإسلامي العسكري لمحاربة الإرهاب . ج-المركز العالمي لمكافحة الفكر المتطرف . د-الصندوق السعودي للتنمية .</p>	<p>17- تحوي العبارات التالية معلومات تاريخية عن أسباب القضايا التي دعمتها (المملكة) فأيهما صائب؟ أ-العدوان الثلاثي على لبنان عام 1956 م . ب-احتلال الصرب للبوستة والهرسك . ج- الانضمام الى حلفي وارسو والاطلسي . د-تأسيس محمد بن سلمان مركز الإغاثة .</p>	<p>16 - نتج عن اعتماد (المملكة) في رؤية 2030 م بناء على المقومات والأسس: أ- اقتصاد مزدهر ووطن طموح . ب- وجود الآثار القديمة . ج- موقعها على ثلاث قارات . د-الموقع الاستراتيجي</p>
	<p>20- أبرز إنجازات مجموعة العشرين أ- تحسين مستوى مراقبة الأسواق المالية . ب- الدعوة لتطبيق أحكام الشريعة الإسلامية . ج- تقديم الإغاثة للمسلمين المتضررين . د- تنسيق جهود القائمين بالعمل الإسلامي .</p>	<p>19- تأسست منظمة (التعاون الإسلامي) عام 1969م بسبب : أ- تطبيق احكام الشريعة . ب-حل الخلافات الدولية . ج-إدارة اتفاقات التجارة . د-إحراق المسجد الأقصى .</p>

ثالثاً: أسئلة الصواب والخطأ من فقرة (1) إلى فقرة (10) ضع علامة (✓)نهاية العبارة الصحيحة وعلامة (x) نهاية العبارة الخاطئة:

✗	1 أعلى معدلات المواليد في جمهورية المانيا بـ 6 مولود لكل ألف من السكان في الاتحاد الأوروبي	1
✓	2 تعترف الصين بـ 56 مجموعة عرقية رسمياً أكبرها عرق هان.	2
✗	3 ظهرت حركة عدم الانحياز بعد نهاية الحرب العالمية الأولى.	3
✓	4 يعتبر محاربة الفكر المتطرف من أهم أهداف التحالف الإسلامي العسكري لمحاربة الإرهاب .	4
✗	5 تبنت الحكومة الأمريكية الدعوة إلى إقامة جامعة الدول العربية .	5
✗	6 تضم منظمة التعاون الإسلامي في عضويتها 50 دولة وعلى رأسهم المملكة العربية السعودية .	6
✓	7 بلغ عدد الدول المشاركة في الحرب العالمية الأولى 33 دولة.	7
✓	8 دعمت الكنيسة الأوروبية حركة الكشوف الجغرافية وأصدرت مراسيم حق ملكية الأقاليم المكتشفة لملوك اسبانيا والبرتغال .	8
✗	9 تتكون الولايات المتحدة الأمريكية من 50 ولاية متماسكة الكتلة	9
✓	10 طريق البخور هو طريق التجارة العالمي الذي كان العرب في شبه الجزيرة يسيطرون عليه قبل الإسلام.	10

موقع مادنتري

اختبار الصف اولى الثانوى مسارات لمادة الدراسات الاجتماعية الفصل الدراسي الثالث الدور الأول الانتظام لعام ١٤٤٦هـ
 (لا إله إلا الله العظيم الحليم لا إله إلا الله رب العرش العظيم لا إله إلا الله رب السموات ورب الأرض رب العرش الكريم) "دعاء الكرب".

السؤال الأول:

٤٠

أجيبى مستعينة بالله وبإتسامة مشرقة للحياة ...

أكملى الجدول التالى بما يناسبها من الكلمات:

(القاهرة/ مكة المكرمة/ الرياض/ فينبا/ جدة)

مقرها	المنظمة
	رابطة العالم الاسلامي
	الدول المصدرة للبتروال اوبك
	مجلس التعاون لدول الخليج
	جامعة الدول العربية
	منظمة التعاون الاسلامي

السؤال الثانى:

(أ) أختارى الإجابة الصحيحة:

- ١) /أنشئت رابطة العالم الإسلامى عام (١٣٨١هـ / ١٢٨٢هـ / ١٤٢٨هـ)
- ٢) من دول جامعة الدول العربية (باكستان / الهند / المملكة العربية السعودية)
- ٣) اللغة الرسمية فى الصين (اللغة العربية / اللغة هان /)
- ٤) دعمت المملكة مصر حيث قدمت لها (٢٠ _ ٣٠) طائرة حربية
- ٥) تطل الولايات المتحدة الأمريكية من الشرق على (المحيط الأطلسى / المحيط الهادى)
- ٦) يحد الولايات المتحدة الأمريكية من الشمال (كندا / المكسيك / المحيط الأطلسى)
- ٧) كتاب أحسن التقاسيم فى معرفة الأقاليم لـ (المقدسى / البكرى /)
- ٨) من أهم الجبال الموجودة فى روسيا (جبال الأورال / جبال الهند / جبال روكى)
- ٩) كتاب نزهة المشتاق فى اختراق الآفاق (البكرى / الأدريسى / ابن ماجد)
- ١٠) من الأسلحة التى استخدمت فى الحرب العالمية الأولى (الطائرة / الغواصة / جميع ما سبق)
- ١١) هى منظمة إسلامية شعبية مقرها مكة المكرمة (رابطة العالم الإسلامى / مجلس التعاون لدول الخليج)
- ١٢) دام كفاح الجزائر ضد فرنسا (٥ سنوات _ ٦ سنوات _ ٧ سنوات)
- ١٣) من أهداف هيئة الأمم المتحدة (النزاعات بين الدول / حفظ السلام والامن الدولى)

أ) ضع علامة صح (✓) أمام الإجابة الصحيحة وعلامة خطأ (x) أمام الإجابة الخاطئة:

- ١) عاصمة الصين بكين ()
- ٢) فاسكو دي جاما هو الذي اكتشف استراليا ()
- ٣) أقيمت المملكة العربية السعودية العرصات في كل مكان فرحاً باستقلال الجزائر ()
- ٤) عاصمة روسيا جاكرتا ()
- ٥) قام بتبرعات عينية للشعب الفلسطيني مثل سيارات الإسعاف والمجوهرات هو الملك فهد ()
- ٦) من نتائج الحرب العالمية الأولى مقتل ٣ ملايين قتيل ()
- ٧) انشئ صندوقين (صندوق الأقصى/ صندوق انتفاضه القدس) هو الملك سلمان بن عبد العزيز ()
- ٨) اللغة الرسمية للولايات المتحدة الامريكية هي اللغة الإنجليزية ()
- ٩) وجود الأماكن المقدسة في المملكة العربية السعودية من المقومات السياسية ()
- ١٠) من أنواع الكشوف الجغرافية فرنسية وهولندية ()
- ١١) اكثر دول العالم اكتظاظا بالسكان الصين ()
- ١٢) تقع الصين في شرق قارة آسيا ()
- ١٣) يقصد العدوان الثلاثي إسرائيل وفرنسا فقط ()

ب) أكمل الفراغات التالية:

- ١) من أهداف هيئة الأمم المتحدة و.....
- ٢) عللي سبب اختيار المملكة العربية السعودية لتكون من ضمن دول العشرين
- ٣) الأمير الذي أعلن التحالف الإسلامية العسكرية هو
- ٤) من مقومات الدولة القوية والمؤثرة و.....
- ٥) من اهم المساعدات العمل الاغاثي لمركز الملك سلمان بن عبد العزيز

وفتكن الله لما فيه خير الدنيا والآخرة

معلمة المادة:

انتهت الأسئلة بحمد الله وتوفيقه

اختبار الصف اولى الثانوى مسارات لمادة الدراسات الاجتماعية الفصل الدراسي الثالث الدور الأول الانتظام لعام ١٤٤٦هـ
(لا إله إلا الله العظيم الحليم لا إله إلا الله رب العرش العظيم لا إله إلا الله رب السموات ورب الأرض رب العرش الكريم) "دعاء الكرب".

٤٠

السؤال الأول:

أجيبى مستعينة بالله وبإبتسامة مشرقة للحياة ...

أكملى الجدول التالى بما يناسبها من الكلمات:

(القاهرة/ مكة المكرمة/ الرياض/ فينينا/ جدة)

مقرها	المنظمة
مكة المكرمة	رابطة العالم الاسلامي
فينينا	الدول المصدرة للبترول اوبك
الرياض	مجلس التعاون لدول الخليج
القاهرة	جامعة الدول العربية
جدة	منظمة التعاون الاسلامي

السؤال الثانى:

أختاري الإجابة الصحيحة:

- ١) /أنشئت رابطة العالم الإسلامي عام (١٣٨١هـ / ١٢٨٢هـ / ١٤٢٨هـ)
- ٢) من دول جامعة الدول العربية (باكستان / الهند / المملكة العربية السعودية)
- ٣) اللغة الرسمية في الصين (اللغة العربية / اللغة هان /)
- ٤) دعمت المملكة مصر حيث قدمت لها (٢٠ / ٣٠) طائرة حربية
- ٥) تطل الولايات المتحدة الامريكية من الشرق على (المحيط الاطلسي / المحيط الهادي)
- ٦) يحد الولايات المتحدة الامريكية من الشمال (كندا / المكسيك / المحيط الأطلسي)
- ٧) كتاب أحسن التقاسيم في معرفة الأقاليم لـ (المقدسي / البكري /)
- ٨) من اهم الجبال الموجودة في روسيا (جبال الاورال / جبال الهند / جبال روكي)
- ٩) كتاب نزهة المشتاق في اختراق الافاق (البكري / الادريسي / ابن ماجد)
- ١٠) من الأسلحة التي استخدمت في الحرب العالمية الأولى (الطائرة / الغواصة / جميع ما سبق)
- ١١) هي منظمة إسلامية شعبية مقرها مكة المكرمة (رابطة العالم الإسلامي / مجلس التعاون لدول الخليج)
- ١٢) دام كفاح الجزائر ضد فرنسا (٥ سنوات / ٦ سنوات / ٧ سنوات)
- ١٣) من اهداف هيئة الأمم المتحدة (النزاعات بين الدول / حفظ السلام والامن الدولي)

أ) ضع علامة صح (✓) أمام الإجابة الصحيحة وعلامة خطأ (x) أمام الإجابة الخاطئة:

- ١) عاصمة الصين بكين (✓)
- ٢) فاسكو دي جاما هو الذي اكتشف استراليا (x)
- ٣) أقيمت المملكة العربية السعودية العرصات في كل مكان فرحاً باستقلال الجزائر (✓)
- ٤) عاصمة روسيا جاكرتا (x)
- ٥) قام بتبرعات عينية للشعب الفلسطيني مثل سيارات الإسعاف والمجوهرات هو الملك فهد (✓)
- ٦) من نتائج الحرب العالمية الأولى مقتل ٣ ملايين قتيل (x)
- ٧) انشئ صندوقين (صندوق الأقصى/ صندوق انتفاضه القدس) هو الملك سلمان بن عبد العزيز (x)
- ٨) اللغة الرسمية للولايات المتحدة الامريكية هي اللغة الإنجليزية (✓)
- ٩) وجود الأماكن المقدسة في المملكة العربية السعودية من المقومات السياسية (x)
- ١٠) من أنواع الكشوف الجغرافية فرنسية وهولندية (✓)
- ١١) اكثر دول العالم اكتظاظا بالسكان الصين (✓)
- ١٢) تقع الصين في شرق قارة آسيا (✓)
- ١٣) يقصد العدوان الثلاثي إسرائيل وفرنسا فقط (x)

ب) أكمل الفراغات التالية :

- ١) من أهداف هيئة الأمم المتحدة / حفظ السلام والامن الدولي / تحقيق التعاون الدولي
- ٢) علي سبب اختيار المملكة العربية السعودية لتكون من ضمن دول العشرين لمكانتها الاقتصادية ولأهميتها السياسية ودورها على الساحة الدولية
- ٣) الأمير الذي أعلن التحالف الإسلامية العسكرية هو الأمير محمد بن سلمان
- ٤) من مقومات الدولة القوية والمؤثرة / السياسية / العسكرية / الاجتماعية / الاقتصادية / التاريخية
- ٥) من اهم المساعدات العمل الاغاثي لمركز الملك سلمان بن عبد العزيز التعليم والايواء والصحة

وففكن الله لما فيه خير الدنيا والآخرة

معلمة المادة:

انتهت الأسئلة بحمد الله وتوفيقه

موقع



الدرجة النهائية	رقما	كتابة

اسم الطالب:
رقم الجلوس :

م	الدرجة المستحقة		المراجع
	رقما	كتابة	
السؤال الأول			
السؤال الثاني			
السؤال الثالث			
المجموع			

السؤال الأول : أسئلة الصواب والخطأ

20

في الفقرات من (1-20) ضع علامة (√) امام العبارة الصحيحة علامة (X) امام العبارة الخاطئة مما يأتي :-

الاجابة	العبارة
	1- السنة النبوية هي المصدر الثاني للتشريع الاسلامي
	2- موقع المملكة العربية السعودية يربط بين قارات العالم القديم
	3- تقدم المملكة الدعم الكامل للدول الاسلامية والعربية
	4- اعتمد النظام الملكي على البيعة وهو مبدأ اسلامي أصيل
	5- قامت على أرض المملكة العربية السعودية ممالك قديمة
	6- من المقومات الاجتماعية لوطني الولاء والانتماء لله ولرسوله ولولي الامر
	7- أعلن الملك عبد العزيز رفضه التام لقرار تقسيم فلسطين
	8- اجتاحت العدو الاسرائيلي أراضي لبنان عام 1422هـ
	9- أمر الملك فيصل بقطع النفط عن الدول المتعاونة مع العدو الاسرائيلي في حرب اكتوبر
	10- نجحت الانتفاضة الجزائرية في تحقيق الاستقلال
	11- تخلت المملكة العربية السعودية عن مصر اثناء العدوان الثلاثي عليها
	12- وضع مشروع لنظام الجامعة العربية في مكة عام 1445م
	13- شارك الملك فهد في القمة الاولى لمجلس التعاون
	14- وعدت بريطانيا حلفائها اليهود بوطن قومي في الارجننتين
	15- صبح هتلر مستشار لفرنسا بعد تسلم الحزب النازي الحكم
	16- صغر الولايات المتحدة الامريكية والية الاسكا
	17- يبلغ عدد دول الاتحاد الاوربي 21 دولة اوربية
	18- تقع روسيا الاتحادية في شمال افريقيا
	19- تتخذ جامعة الدول العربية من مكة مقر لها
	20- يقع مقر رابطة العالم الاسلامي في الرياض

السؤال الثاني : أ - اذكر المقومات الاساسية للمملكة العربية السعودية

10

- | | | |
|-----|-----|-----|
| 1 - | 2 - | 3 - |
| | 4 - | 5 - |

اختر الاجابة الصحيحة في الفقرات من (1-20) مما يأتي :

1	عدد المسطحات المائية التي تطل عليها المملكة	أ- اثنان	ب- واحد	ج- ثلاثة	د- اربع
2	يعد الملك عبد العزيز مؤسس الدولة السعودية	أ- الثالثة	ب- الثانية	ج- الاولى	د- الرابعة
3	كانت بداية التنقيب عن النفط في عهد الملك	أ- عبد العزيز	ب- خالد	ج- فيصل	د- فهد
4	عاش قوم ثمود في وطني في منطقة	أ- العلا	ب- الربع الخالي	ج- جيزان	د- نجران
5	بدأت الازمة اللبنانية في عهد الملك	ب- خالد	ب - سعود	ج - عبد العزيز	د- فيصل
6	كان العدوان الاسرائيلي عام 1311هـ / 1461م على مصر والاردن و	أ- سوريا	ب- العراق	ج - المغرب	د- لبنان
7	من الدول التي اتسعت مساحتها بعد الحرب العالمية الاولى	أ- إيطاليا	ب- ألمانيا	ج - النمسا	د- بلغاريا
8	تولى موسوليني في ايطاليا زعامة الحزب	أ- الفاشي	ب- الشيوعي	ج - الاشتراكي	د- النازي
9	الدولة الاقل سكانا في الاوربي هي	أ- مالطا	ب- فرنسا	ج - ألمانيا	د- ايطاليا
10	تعد عاصمة لروسيا الاتحادية مدينة	أ- موسكو	ب- وارسو	ج - براغ	د- كييف
11	أكبر بلد في العالم من حيث المساحة	أ- امريكا	ب - ألمانيا	ج - الصين	د- روسيا
12	أكبر دول العالم من حيث عدد السكان	أ- روسيا	ب- أمريكا	ج - كندا	د- الصين
13	تقع جمهورية الصين في	أ- جنوب اسيا	ب- غرب اسيا	ج - شمال اسيا	د- شرق اسيا
14	اعلى سلطة داخل الجامعة العربية	أ- اللجان الدائمة	ب- الأمانة العامة	ج- المؤتمر الوزاري	د- مجلس الجامعة
15	يقع مقر منظمة أوبك في	أ- باريس	ب - لندن	ج- فينا	د- جنيف
16	الجهاز القضائي لهيئة الامم المتحدة	أ - مجلس الوصاية	ب- مجلس الامن	ج - الأمانة العامة	د- المحكمة الدولية
17	عقدت القمة العربية التاسعة والعشرين (قمة القدس) عام 1439هـ / 2018م) في	أ- الطائف	ب - جدة	ج- الرياض	د- الظهران
18	تأتي روسيا من حيث انتاج الطاقة الكهربائية عالميا في الترتيب	أ - الاول	ب- الثاني	ج- الرابع	د- الثالث
19	أعلى قمة جبلية في العالم هي	أ- مونت بلانك	ب - بافاريا	ج- البرانس	د- إفرست
20	اول جنس بشري استوطن اراضي امريكا	أ - الاوروبيين	ب- الصينين	ج- الافارقة	د- المغول الاسيوي

وفقكم الله



موقع
مادنتري

كتابة

رقما

أسم الطالب/ة :

رقم الجلوس

نموذج الإجابة

المراجع

السؤال الثالث

المجموع

السؤال الأول : أسئلة الصواب والخطأ

20

في الفقرات من (1-20) ضع علامة (√) امام العبارة الصحيحة علامة (x) امام العبارة الخاطئة مما يأتي :

الاجابة	العبارة
√	1- السنة النبوية هي المصدر الثاني للتشريع الاسلامي
√	2- موقع المملكة العربية السعودية يربط بين قارات العالم القديم
√	3- تقدم المملكة الدعم الكامل للدول الاسلامية والعربية
√	4- اعتمد النظام الملكي على البيعة وهو مبدأ اسلامي أصيل
√	5- قامت على أرض المملكة العربية السعودية ممالك قديمة
√	6- من المقومات الاجتماعية لوطني الولاء والانتماء لله ولرسوله ولولي الامر
√	7- أعلن الملك عبد العزيز رفضه التام لقرار تقسيم فلسطين
√	8- اجتاحت العدو الاسرائيلي أراضي لبنان عام 1422هـ
√	9- أمر الملك فيصل بقطع النفط عن الدول المتعاونة مع العدو الاسرائيلي في حرب اكتوبر
√	10- نجحت الانتفاضة الجزائرية في تحقيق الاستقلال
X	11- تخلت المملكة العربية السعودية عن مصر اثناء العدوان الثلاثي عليها
X	12- وضع مشروع لنظام الجامعة العربية في مكة عام 1445م
X	13- شارك الملك فهد في القمة الاولى لمجلس التعاون
X	14- وعدت بريطانيا حلفائها اليهود بوطن قومي في الارجنتين
X	15- صبح هتلر مستشار لفرنسا بعد تسلم الحزب النازي الحكم
X	16- صغر الولايات المتحدة الامريكية والية الاسكا
X	17- يبلغ عدد دول الاتحاد الاوربي 21 دولة اوربية
X	18- تقع روسيا الاتحادية في شمال افريقيا
X	19- تتخذ جامعة الدول العربية من مكة مقر لها
X	20- يقع مقر رابطة العالم الاسلامي في الرياض

السؤال الثاني : أ - اذكر المقومات الاساسية للمملكة العربية السعودية

10

1 الدينية 2 السياسية 3 الاقتصادية 4 الوطنية 5 الحضارية 6 الاجتماعية 7 الجغرافية 8 السياحية

اختار الإجابة الصحيحة في الفقرات من (1-10) مما يأتي :

1	عدد المسطحات المائية التي تطل عليها المملكة	أ - اثنان	ب - واحد	ج - ثلاثة	د - اربع
2	يعد الملك عبد العزيز مؤسس الدولة السعودية	أ - الثالثة	ب - الثانية	ج - الاولى	د - الرابعة
3	كانت بداية التنقيب عن النفط في عهد الملك	أ - عبد العزيز	ب - خالد	ج - فيصل	د - فهد
4	عاش قوم ثمود في وطني في منطقة	أ - العلاء	ب - الربع الخالي	ج - جيزان	د - نجران
5	بدأت الأزمة اللبنانية في عهد الملك	أ - خالد	ب - سعود	ج - عبد العزيز	د - فيصل
6	كان العدوان الاسرائيلي عام 1311هـ / 1461م على مصر والاردن و	أ - سوريا	ب - العراق	ج - المغرب	د - لبنان
7	من الدول التي اتسعت مساحتها بعد الحرب العالمية الاولى	أ - إيطاليا	ب - ألمانيا	ج - النمسا	د - بلغاريا
8	تولى موسوليني في إيطاليا زعامة الحزب	أ - الفاشي	ب - الشيوعي	ج - الاشتراكي	د - النازي
9	الدولة الأقل سكانا في الاوربي هي	أ - مالطا	ب - فرنسا	ج - ألمانيا	د - إيطاليا
10	تعد عاصمة لروسيا الاتحادية مدينة	أ - موسكو	ب - وارسو	ج - براغ	د - كييف
11	أكبر بلد في العالم من حيث المساحة	أ - أمريكا	ب - ألمانيا	ج - الصين	د - روسيا
12	أكبر دول العالم من حيث عدد السكان	أ - روسيا	ب - أمريكا	ج - كندا	د - الصين
13	تقع جمهورية الصين في	أ جنوب اسيا	ب - غرب اسيا	ج - شمال اسيا	د - شرق اسيا
14	اعلى سلطة داخل الجامعة العربية	أ - اللجان الدائمة	ب - الأمانة العامة	ج - المؤتمر الوزاري	د - مجلس الجامعة
15	يقع مقر منظمة أوبك في	أ - باريس	ب - لندن	ج - فينا	د - جنيف
16	الجهاز القضائي لهيئة الامم المتحدة	أ - مجلس الوصاية	ب - مجلس الامن	ج - الأمانة العامة	د - المحكمة الدولية
17	عقدت القمة العربية التاسعة والعشرين (قمة القدس) عام 1439هـ / 2218 م) في	أ - الطائف	ب - جدة	ج - الرياض	د - الظهران
18	تأتي روسيا من حيث انتاج الطاقة الكهربائية عالميا في الترتيب	أ - الاول	ب - الثاني	ج - الرابع	د - الثالث
19	أعلى قمة جبلية في العالم هي	أ - مونت بلانك	ب - بافاريا	ج - البرانس	د - إفريست
20	اول جنس بشري استوطن اراضي امريكا	أ - الاوروبيين	ب - الصينين	ج - الافارقة	د - المغول الاسيوي

اختبار نهائي دراسات اجتماعية أول ثانوي مسارات الفصل الثالث 1446 هـ

السؤال الأول : اختاري الإجابة الصحيحة فيما يلي :

سلسلة جبلية تقع في الاتحاد الأوروبي فيها أعلى قمة (مونت بلاك)								
1	أ	جبال الألب	ب	جبال الأورال	ج	جبال الألب	د	جبال ماكنلي
شهدت قيام الحزب النازي قبل قيام الحرب العالمية الثانية								
2	أ	روسيا	ب	ألمانيا	ج	إيطاليا	د	اليابان
أول مستعمرة إنجليزية تكونت منها أمريكا								
3	أ	واشنطن	ب	فرجينيا	ج	تكساس	د	لوس أنجلوس
جبال تشكل الحدود بين الصين والهند								
4	أ	الأورال	ب	الألب	ج	أطلس	د	الهملايا
قبل الحرب العالمية الأولى كان العالم العربي تحت الاستعمار ما عدا وطني								
5	أ	البريطاني	ب	الفرنسي	ج	الإيطالي	د	الهولندي
تعد الديانة الرئيسية في الصين								
6	أ	الإسلام	ب	النصرانية	ج	اليهودية	د	البوذية
تبنت فكرة الدعوة إلى جامعة الدول العربية								
7	أ	بريطانيا	ب	فرنسا	ج	ألمانيا	د	روسيا
أعلنت ألمانيا استسلامها في معركة المارن عام								
8	أ	1914م	ب	1918م	ج	1939م	د	1945م
انشأت بسبب الحريق الاجرامي الذي ارتكب في المسجد الأقصى								
9	أ	منظمة التعاون الإسلامي	ب	جامعة الدول العربية	ج	هيئة الأمم المتحدة	د	رابطة العالم الإسلامي
تمتلك ثاني أكبر ميزانية للبحوث والتنمية في العالم								
10	أ	روسيا	ب	الاتحاد الأوروبي	ج	الصين	د	أمريكا



السؤال الثاني :

أ- صلي العمود الاول بما يناسبه في العمود الثاني فيما يلي:

العمود الثاني	العمود الاول	
الدفاع عن المصالح العربية والقضايا الوطنية	منظمة أوبك	1
تنسيق وتوحيد السياسات النفطية للبلدان الاعضاء	هيئة الأمم المتحدة	2
التصدي للتحديات التي تواجه العالم الإسلامي	جامعة الدول العربية	3
حفظ السلام والامن الدولي	اتفاقية سايكس بيكو	4
معاهدة سرية بين فرنسا وبريطانيا لتقسيم المشرق العربي	منظمة التعاون الإسلامي	5
تمتلك اكبر مخزون للنفط والغاز الطبيعي		

ب- اكتبى كلمة صح أو خطأ فيما يلي:

الجملة	صح أم خطأ
1/ كان السبب المباشر للحرب العالمية الأولى اغتيال ولي العهد النمساوي	
2/ قامت الولايات المتحدة الامريكية بالقاء القنبلة الذرية على مدينة برلين الألمانية	
3/ ضمت بقية أجزاء الولايات المتحدة الامريكية عن طريق الكشوفات الجغرافية	
4/ بلغت خسائر البشرية في الحرب العالمية الأولى 9 مليون قتيل	
5/ أدى الانفاق العسكري الكبير في روسيا لضعفها اقتصاديا	
6/ من اهداف الاتحاد الأوربي تأسيس المواطنة الأوروبية	
7/ طالبت المانيا بمدينة دانزنج التي يمثل الروس اغلب سكانها	
8/ تقع الصين شرق آسيا ويحكمها الحزب الشيوعي	
9/ عقدت قمة مجموعة العشرين عام 2020 في اليابان	
10/نسبة ضئيلة من أراضي روسيا صالحة للزراعة	

السؤال الثالث :

(أ) اكمل الفراغ التالي بما يناسبه:

	بداية الحرب العالمية الأولى	ارخي بالتاريخ الميلادي
	بداية الحرب العالمية الثانية	
	نشأة منظمة رابطة العالم الإسلامي	
	نهاية الحرب العالمية الثانية	
	نهاية الحرب العالمية الأولى	

(ب) أكمل الفراغات بما يناسبها فيما يلي :

بحيرة بايكل	نيويورك	القاهرة	33 دولة	أوروبا	نهر الدانوب
فاسكو د جاما	روسيا	نهر أمور	المغول	أفريقيا	27 دولة

1/ اكتشف طريق رأس الرجاء الصالح ووصل الى الهند (-----)

2/ أكبر البحيرات في روسيا الاتحادية (-----)

3/ أكبر دول العالم من حيث المساحة (-----)

4/ يقع مقر هيئة الأمم المتحدة في (-----)

5/ بلغ عدد الدول التي شاركت الحرب العالمية الأولى (-----)

6/ أول جنس بشري استوطن أراضي أمريكا (-----)

7/ مثلت ميدان التنافس الأوربي على أراضيها (-----)

8/ خرجت رحلات الكشوف الجغرافية من قارة (-----)

9/ يبلغ عدد دول الاتحاد الأوربي (-----)


10/ يعتبر أطول انهار الاتحاد الأوربي وينبع من ألمانيا (-----)

انتهت الأسئلة بالتوفيق

نموذج الاجابة

السؤال الأول : اختاري الإجابة الصحيحة فيما يلي :

سلسلة جبلية تقع في الاتحاد الأوروبي فيها اعلى قمة (مونت بلاك)				
1	أ	جبال الابلش	ب	جبال الاورال
	ج	جبال الالب	د	جبال ماكنلي
شهدت قيام الحزب النازي قبل قيام الحرب العالمية الثانية				
2	أ	روسيا	ب	المانيا
	ج	إيطاليا	د	اليابان
اول مستعمرة انجليزية تكونت منها أمريكا				
3	أ	واشنطن	ب	فرجينيا
	ج	تكساس	د	لوس انجلوس
جبال تشكل الحدود بين الصين والهند				
4	أ	الاورال	ب	الابلش
	ج	اطلس	د	الهمليا
قبل الحرب العالمية الأولى كان العالم العربي تحت الاستعمار ماعدا وطني				
5	أ	البريطاني	ب	الفرنسي
	ج	الإيطالي	د	الهولندي
تعد الديانة الرئيسية في الصين				
6	أ	الإسلام	ب	النصرانية
	ج	اليهودية	د	البوذية
تبنت فكرة الدعوة الى جامعة الدول العربية				
7	أ	بريطانيا	ب	فرنسا
	ج	المانيا	د	روسيا
أعلنت ألمانيا استسلامها في معركة المارن عام				
8	أ	1914م	ب	1918م
	ج	1939م	د	1945م
انشأت بسبب الحريق الاجرامي الذي ارتكب في المسجد الأقصى				
9	أ	منظمة التعاون الإسلامي	ب	جامعة الدول العربية
	ج	هيئة الأمم المتحدة	د	رابطة العالم الاسلامي
تمتلك ثاني اكبر ميزانية للبحوث والتنمية في العالم				
10	أ	روسيا	ب	الاتحاد الأوربي
	ج	الصين	د	أمريكا



السؤال الثاني :

أ- صلي العمود الاول بما يناسبه في العمود الثاني فيما يلي:

العمود الثاني		العمود الاول	
الدفاع عن المصالح العربية والقضايا الوطنية	3	منظمة أوبك	1
تنسيق وتوحيد السياسات النفطية للبلدان الاعضاء	1	هيئة الأمم المتحدة	2
التصدي للتحديات التي تواجه العالم الإسلامي	5	جامعة الدول العربية	3
حفظ السلام والامن الدولي	2	اتفاقية سايكس بيكو	4
معاهدة سرية بين فرنسا وبريطانيا لتقسيم المشرق العربي	4	منظمة التعاون الإسلامي	5
تمتلك اكبر مخزون للنفط والغاز الطبيعي			

ب- اكتبى كلمة صح أو خطأ فيما يلي:

الجملة	صح أم خطأ
1/ كان السبب المباشر للحرب العالمية الأولى اغتيال ولي العهد النمساوي	صح
2/ قامت الولايات المتحدة الامريكية بألقاء القنبلة الذرية على مدينة برلين الألمانية	خطأ
3/ ضمت بقية أجزاء الولايات المتحدة الامريكية عن طريق الكشوفات الجغرافية	صح
4/ بلغت خسائر البشرية في الحرب العالمية الأولى 9 مليون قتيل	صح
5/ أدى الانفاق العسكري الكبير في روسيا لضعفها اقتصاديا	خطأ
6/ من اهداف الاتحاد الأوربي تأسيس المواطنة الأوروبية	صح
7/ طالبت المانيا بمدينة دانزنج التي يمثل الروس اغلب سكانها	خطأ
8/ تقع الصين شرق آسيا ويحكمها الحزب الشيوعي	صح
9/ عقدت قمة مجموعة العشرين عام 2020 في اليابان	خطأ
10/نسبة ضئيلة من أراضي روسيا صالحة للزراعة	صح

موقع مادنتري

يتبع

السؤال الثالث :

(أ) اكمل الفراغ التالي بما يناسبه:

1914	بداية الحرب العالمية الأولى	ارخي بالتاريخ الميلادي
1939	بداية الحرب العالمية الثانية	
1962	نشأة منظمة رابطة العالم الإسلامي	
1945	نهاية الحرب العالمية الثانية	
1918	نهاية الحرب العالمية الأولى	

(ب) أكمل الفراغات بما يناسبها فيما يلي :

بايكل	نيويورك	القاهرة	33 دولة	أوروبا	نهر الدانوب
فاسكو د جاما	روسيا	نهر أمور	المغول	أفريقيا	27 دولة

- 1/ اكتشف طريق رأس الرجاء الصالح ووصل الى الهند (فاسكو د جاما)
- 2/ أكبر البحيرات في روسيا الاتحادية بحيرة (بايكل)
- 3/ أكبر دول العالم من حيث المساحة (روسيا)
- 4/ يقع مقر هيئة الأمم المتحدة في (نيويورك)
- 5/ بلغ عدد الدول التي شاركت الحرب العالمية الأولى (33 دولة)
- 6/ أول جنس بشري استوطن أراضي أمريكا (المغول)
- 7/ مثلت ميدان التنافس الأوربي على أراضيها (أفريقيا)
- 8/ خرجت رحلات الكشوف الجغرافية من قارة (أوروبا)
- 9/ يبلغ عدد دول الاتحاد الأوروبي (27 دولة)
- 10/ يعتبر أطول انهار الاتحاد الأوروبي وينبع من ألمانيا (نهر الدانوب)

انتهت الأسئلة بالتوفيق

اختبار الصف الأول ثانوى مادة الدراسات الاجتماعية الفصل الدراسي الثالث (الاختبار الثانى ٤٠ درجة)

اسم الطالب / الصف

السؤال الأول :

اختاري العبارة الصحيحة من بين الخيارات التالية :

- ١/ اسهم في الإرشاد الملاحي لعدد من الكشوف الجغرافية
أ- أبن ماجد ب- الادريسي ج- أبن بطوطة د- المقدسي
- ٢/ مكتشف طريق راس الرجاء الصالح
أ - فاسكوداجاما ب- كولومبوس. ج-جون كابوت. د - جيمس كوك
- ٣/ تمكن من الوصول للسواحل الشرقية لأستراليا ونيوزيلندا
أ- الأمير هنري الملاح. ب- ماجلان. ج-جون كابوت. د - جيمس كوك
- ٤/ بلغ عدد الدول المشاركة في الحرب العالمية الأولى
أ- ٢٢. ب- ٣٣. ج- ٤٤. د- ٥٥.
- ٥/ بلغت الخسائر البشرية في الحرب العالمية الأولى
أ - ٩ مليون نسمة. ب- ١٠ مليون نسمة. ج- ١١ مليون نسمة. د - ١٢ مليون نسمة
- ٦/ من نتائج الحرب العالمية الأولى وقوع عدد الدول العربية تحت الانتداب وفق اتفاقية
أ - لندن. ب- سايكس بيكو. ج- وعد بلفور. د- باريس
- ٧/ من آثار الحرب العالمية الأولى صدور وعد بلفور سنة ١٩١٧م بإعطاء وطن قومي لليهود في
أ - فلسطين. ب- العراق. ج- سوريا. د - لبنان
- ٨ / اتسعت مساحة بعض دول اوربا بعد الحرب العالمية الأولى مثل
أ - ألمانيا. ب - اليابان. ج - بريطانيا. د- النمسا
- ٩/ اتبعت سياسة العزلة لإبعاد النفوذ الأوربي
أ - القارة الآسيوية. ب- القارة الأفريقية. ج - القارة الأمريكية. د- استراليا
- ١٠ - قامت فيها الثورة الشيوعية وأقاموا فيها أول دولة اشتراكية معلنين قيام
أ - الاتحاد السوفيتي. ب- الولايات المتحدة الأمريكية ج - يوغسلافيا. د- المملكة المتحدة
- ١١ - تأسست الولايات المتحدة الأمريكية من مستعمرات بريطانية كان عددها
أ - ١١. ب- ١٢. ج - ١٣. د - ١٤
- ١٢ / أكبر الأقليات في الولايات المتحدة الأمريكية:
أ - الأفارقة. ب- الأوربيون ج- الأستراليون. د - العرب
- ١٣ / أكثر الدول الأعضاء في الاتحاد الأوروبي سكاناً هي دولة :
أ - ألمانيا. ب- فرنسا. ج- إيطاليا. د- مالطة

١٤ / عدد الدول الأعضاء في الإتحاد الأوروبي :

أ - ٢٧ . ب - ٢٨ . ج - ٢٩ . د - ٣٠

١٥ / تفصل روسيا بين قارتي :

أ - آسيا واوربا . ب - أوروبا وأفريقيا . ج - آسيا وأستراليا . د - آسيا وأفريقيا

١٦ / أكثر بلدان العالم اكتظاظا بالسكان :

أ - بريطانيا . ب - الهند . ج - أمريكا . د - الصين

١٧ / تمتلك الصين أكبر ميزانية للبحوث والتنمية في العالم.

١ - أول . ب - ثاني . ج - ثالث . د - رابع.

١٨ / تعد الحضارة أحد أقدم الحضارات في العالم حيث ازدهرت في حوض النهر الأصفر

أ - الصينية . ب - الهندية . ج - المصرية . د - العراقية.

١٩ / يحد الصين دوله.

أ - ١٤ . ب - ١٥ . ج - ١٦ . د - ١٧

٢٠ - تقع روسيا الإتحادية في اوراسيا.

أ - شرق . ب - غرب . ج - شمال . د - جنوب

السؤال الثاني :

ضعي علامة (صح أو خطأ) بعد مايناسبها في العبارات التالية :

- ١/ من دوافع الكشوف الجغرافية الدينية الرغبة في الحصول على منتجات الشرق (.....)
- ٢/ قامت حركة الكشوف الجغرافية لدوافع سياسية واقتصادية فقط. (.....)
- ٣/ الكشوف الجغرافية هي الرحلات البحرية الواسعة التي قام بها بعض الأوروبيين في القرن ١٥ الميلادي لاكتشاف مناطق جديدة. (.....)
- ٤/ من نتائج الكشوف الجغرافية على العالم العربي والإسلامي اضعاف دولة المماليك وسقوطها. (.....)
- ٥/ تعد الولايات المتحدة الأميركية مثالا للتنوع العرقي والثقافي (.....)
- ٦/ السبب المباشر للحرب العالمية الأولى هو اغتيال طالب صربي لولي عهد النمسا. (.....)
- ٧/ لم يوافق الملك عبدالعزيز رحمه الله على التعاون مع بريطانيا في حملتها ضد الدولة العثمانية. (.....)
- ٨ / تمكن الحزب النازي من تسلم الحكم في إيطاليا واصبح هتلر مستشارا. (.....)
- ٩/ تعتبر بريطانيا من دول الحلفاء في الحرب العالمية الثانية. (.....)
- ١٠/ اندلعت الحرب العالمية الثانية سنة ١٩٣٩م. (.....)
- ١١ / مرحلة تفوق دول المحور هي مرحلة تميزت بانتصار المانيا وحلفائها في الحرب العالمية الثانية. (.....)
- ١٢ / من نتائج الحرب العالمية الثانية تقسيم باريس عاصمة فرنسا إلى قسمين شرقي وغربي. (.....)
- ١٣ / عدد سكان الولايات المتحدة الأميركية (٣٢٧,٧ مليون نسمة). (.....)
- ١٤ / تعتبر قمة مونت بلاك أعلى قمة جبلية في الولايات المتحدة الأميركية. (.....)
- ١٥ / أطول أنهار أوربا هو نهر الدانوب. (.....)
- ١٦ / يعتبر المناخ الصيني أحد أقسام المناخات في الإتحاد الأوروبي. (.....)
- ١٧ / تشكل جبال الأورال الحدود التقليدية بين روسيا الآسيوية وروسيا الأوروبية. (.....)
- ١٨ / يعد النمو السكاني في الولايات المتحدة الأميركية بطيئا. (.....)
- ١٩ / اتخذ الملك عبدالعزيز رحمه الله موقفا مسانداً لطرف ضد اخر حماية لمصالح بلاده. (.....)
- ٢٠ / الصين في المرتبة الثالثة عالمياً من حيث المساحة. (.....)
- ٢١ / المشكلة الرئيسية لضعف الاقتصاد الروسي هي الانفاق العسكري الكبير. (.....)

انتهت الأسئلة

نموذج الاجابة

اسم الطالب /

السؤال الأول :

اخترى العبارة الصحيحة من بين الخيارات التالية :

- ١/ اسهم في الإرشاد الملاحي لعدد من الكشوف الجغرافية
أ - ابن ماجد ب - الادريسي ج - ابن بطوطة د - المقدسي
- ٢/ مكتشف طريق راس الرجاء الصالح
أ - فاسكوداجاما ب - كولومبوس ج - جون كابوت د - جيمس كوك
- ٣/ تمكن من الوصول للسواحل الشرقية لأستراليا ونيوزيلندا
أ - الأمير هنري الملاح ب - ماجلان ج - جون كابوت د - جيمس كوك
- ٤/ بلغ عدد الدول المشاركة في الحرب العالمية الأولى
أ - ٢٢ ب - ٣٣ ج - ٤٤ د - ٥٥
- ٥/ بلغت الخسائر البشرية في الحرب العالمية الأولى
أ - ٩ مليون نسمة ب - ١٠ مليون نسمة ج - ١١ مليون نسمة د - ١٢ مليون نسمة
- ٦/ من نتائج الحرب العالمية الأولى وقوع عدد الدول العربية تحت الانتداب وفق اتفاقية
أ - لندن ب - سايكس بيكو ج - وعد بلفور د - باريس
- ٧/ من آثار الحرب العالمية الأولى صدور وعد بلفور سنة ١٩١٧م بإعطاء وطن قومي لليهود في
أ - فلسطين ب - العراق ج - سوريا د - لبنان
- ٨/ اتسعت مساحة بعض دول اوربا بعد الحرب العالمية الأولى مثل
أ - ألمانيا ب - اليابان ج - بريطانيا د - النمسا
- ٩/ اتبعت سياسة العزلة لإبعاد النفوذ الأوربي
أ - القارة الآسيوية ب - القارة الأفريقية ج - القارة الأمريكية د - استراليا
- ١٠ - قامت فيها الثورة الشيوعية وأقاموا فيها أول دولة اشتراكية معلنين قيام
أ - الاتحاد السوفيتي ب - الولايات المتحدة الأمريكية ج - يوغسلافيا د - المملكة المتحدة
- ١١ - تأسست الولايات المتحدة الأمريكية من مستعمرات بريطانيا كان عددها
أ - ١١ ب - ١٢ ج - ١٣ د - ١٤
- ١٢ / أكبر الأقليات في الولايات المتحدة الأمريكية:
أ - الأفارقة ب - الأوربيون ج - الأستراليون د - العرب
- ١٣ / أكثر الدول الأعضاء في الاتحاد الأوروبي سكاناً هي دولة :
أ - ألمانيا ب - فرنسا ج - إيطاليا د - مالطة

١٤ / عدد الدول الأعضاء في الإتحاد الأوروبي :

أ - ٢٧ . ب - ٢٨ . ج - ٢٩ . د - ٣٠

١٥ / تفصل روسيا بين قارتي :

أ - آسيا وأوروبا . ب - أوروبا وأفريقيا . ج - آسيا وأستراليا . د - آسيا وأفريقيا

١٦ / أكثر بلدان العالم اكتظاظًا بالسكان :

أ - بريطانيا . ب - الهند . ج - أمريكا . د - الصين

١٧ / تمتلك الصين أكبر ميزانية للبحوث والتنمية في العالم.

١ - أول . ب - ثاني . ج - ثالث . د - رابع.

١٨ / تعد الحضارة أحد أقدم الحضارات في العالم حيث ازدهرت في حوض النهر الأصفر

أ - الصينية . ب - الهندية . ج - المصرية . د - العراقية.

١٩ / يحد الصين دوله.

أ - ١٤ . ب - ١٥ . ج - ١٦ . د - ١٧.

٢٠ - تقع روسيا الإتحادية في أوراسيا.

أ - شرق . ب - غرب . ج - شمال . د - جنوب

السؤال الثاني :

ضع علامة (صح أو خطأ) بعد ما يناسبها في العبارات التالية :

- ١/ من دوافع الكشوف الجغرافية الدينية الرغبة في الحصول على منتجات الشرق (X)
- ٢/ قامت حركة الكشوف الجغرافية لدوافع سياسية واقتصادية فقط. (X)
- ٣/ الكشوف الجغرافية هي الرحلات البحرية الواسعة التي قام بها بعض الأوروبيين في القرن ١٥ الميلادي لاكتشاف مناطق جديدة. (✓)
- ٤/ من نتائج الكشوف الجغرافية على العالم العربي والإسلامي اضعاف دولة المماليك وسقوطها. (✓)
- ٥/ تعد الولايات المتحدة الأميركية مثالاً للتنوع العرقي والثقافي (✓)
- ٦/ السبب المباشر للحرب العالمية الأولى هو اغتيال طالب صربي لولي عهد النمسا. (X)
- ٧/ لم يوافق الملك عبدالعزيز رحمه الله على التعاون مع بريطانيا في حملتها ضد الدولة العثمانية. (✓)
- ٨/ تمكن الحزب النازي من تسلم الحكم في إيطاليا وأصبح هتلر مستشاراً. (X)
- ٩/ تعتبر بريطانيا من دول الحلفاء في الحرب العالمية الثانية. (✓)
- ١٠/ اندلعت الحرب العالمية الثانية سنة ١٩٣٩ م. (✓)
- ١١/ مرحلة تفوق دول المحور هي مرحلة تميزت بانتصار المانيا وحلفائها في الحرب العالمية الثانية. (✓)
- ١٢/ من نتائج الحرب العالمية الثانية تقسيم باريس عاصمة فرنسا إلى قسمين شرقي وغربي. (X)
- ١٣/ عدد سكان الولايات المتحدة الأميركية (٣٢٧,٧ مليون نسمة). (X)
- ١٤/ تعتبر قمة مونت بلاك أعلى قمة جبلية في الولايات المتحدة الأميركية. (X)
- ١٥/ أطول أنهار أوروبا هو نهر الدانوب. (✓)
- ١٦/ يعتبر المناخ الصيني أحد أقسام المناخات في الإتحاد الأوروبي. (X)
- ١٧/ تشكل جبال الأورال الحدود التقليدية بين روسيا الآسيوية وروسيا الأوروبية. (✓)
- ١٨/ يعد النمو السكاني في الولايات المتحدة الأميركية بطيئاً. (✓)
- ١٩/ اتخذ الملك عبدالعزيز رحمه الله موقفاً مسانداً لطرف ضد آخر حماية لمصالح بلاده. (X)
- ٢٠/ الصين في المرتبة الثالثة عالمياً من حيث المساحة. (✓)
- ٢١/ المشكلة الرئيسية لضعف الاقتصاد الروسي هي الانفاق العسكري الكبير. (✓)

انتهت الأسئلة

اختبار الفصل الدراسي الثالث "الفترة الثانية" العام الدراسي 1446 هـ

الشعبة ()

اسم الطالبة رباعياً

رقم السؤال	الدرجة	المصححة	المراجعة	المدققة
السؤال الأول				
السؤال الثاني				
السؤال الثالث				

السؤال الأول/ أ. اختاري الإجابة الصحيحة في الآتي..

1. مثلت بلدانها ميدان التنافس الأوروبي الرامي إلى السيطرة واستغلال ثرواتها الطبيعية (آسيا – أفريقيا – أوروبا - أمريكا)
2. سلسلة جبلية تفصل بين روسيا الآسيوية وروسيا الأوروبية (روكي- الأورال – تويغال – كنلن)
3. من أنواع نباتات القارة الأوروبية في المناخ القطبي غابات (النفضية – الصنوبرية – البحر المتوسط – التندرا)
4. فرضت معاهدات الصلح غرامات باهظة على (روسيا – إيطاليا – ألمانيا - بريطانيا)
5. أعلنت الحرب على صربيا عام 1914 وكان شرارة الحرب العالمية الأولى اغتيال ولي عهدنا (ألمانيا – النمسا – روسيا - إيطاليا)
6. لُقّب بأسد البحار (البكري – المقديسي – الإدريسي – ابن ماجد)
7. يقع مقر هيئة الأمم المتحدة في (نيويورك – واشنطن – كاليفورنيا – فلوريدا)
8. لم يبحر لأبعد من مضيق جبل طارق ولقب بالملاح (ماجلان – جيمس كوك – هنري – كولومبس)
9. استضافت (المملكة العربية السعودية – العراق – الكويت – قطر) اجتماع مجموعة العشرين عام 2020
10. من نتائج الحرب العالمية الأولى إنشاء (هيئة الأمم المتحدة – منظمة العالم الإسلامي – مجلس التعاون الخليجي – عصبة الأمم)
11. أصبح (هتلر – لينين – موسوليني – سالين) مستشاراً ألمانياً وقائداً للحزب النازي
12. يصب نهر لينا في (المحيط المتجمد الشمالي – البحر الأحمر – بحر الصين – البحر الميت)
13. تُعرف بسقف العالم نظراً لارتفاعها الشديد .. هضبة (منغوليا – سيبيريا – التبت – الشطوط)
14. عدد اللغات في الإتحاد الأوروبي (23 – 33 – 44 – 55) لغة
15. شهدت روسيا قيام الثورة (الرأس مالية – الشيوعية – النازية – الفاشية) التي قادها البلاشفة
16. كانت أول مستعمرة أمريكية (فرجينيا – نيويورك – كاليفورنيا – فلوريدا) الإنجليزية على ساحل المحيط الأطلسي
17. يُنسب كتاب نزهة المشتاق في اختراق الأفاق لـ (البكري – المقديسي – الإدريسي – ابن ماجد)
18. تتكون الولايات المتحدة الأمريكية من (20 - 30 - 40 - 50) ولاية

2. بما تفسرين الآتي؟؟

تنوع المناخ في الولايات المتحدة الأمريكية؟
يشهد سكان الإتحاد الأوروبي نمواً بطيئاً؟

ب/ 1. أكمل الفراغ الآتي بما يتناسب مع الجملة..

أكبر الولايات المتحدة الأمريكية (.....)
أصغر الولايات المتحدة الأمريكية (.....)

ج/ صححي ما تحته خط في الآتي..

1. تمكن موسوليني زعيم الحزب الفاشي عام 1922 م من تسلم السلطة في النمسا
3. من نتائج الحرب العالمية الثانية تفكك الدولة العثمانية.
4. أوفت بريطانيا بعهدا للشريف حسين ونصبته ملكاً على العرب
5. تشكل الحدود البرية لروسيا 14 دولة

السؤال الثاني/ أ. أحيي د (✓) أو (X) أمام العبارات التالية..

1	بروكسل في بلجيكا هي عاصمة الإتحاد الأوروبي
2	ساهم الرحالة ابن بطوطة في تقديم معلومات جديدة عن أماكن عدة في أفريقيا
3	يقع مقر جامعة الدول العربية في القاهرة
4	تفكك الإتحاد السوفيتي عام 1991 م
5	تم اكتشاف استراليا على يد الملاحه الإيطالي أمريكو فيسبوتشي
6	يُعد عنصر المغول الآسيوي أول جنس بشري استوطن الأراضي التي تكونت منها الولايات المتحدة الأمريكية
7	تمتلك روسيا ربع المياه العذبة في العالم
8	المقر السابق لمنظمة أوبك كان في جنيف في سويسرا
9	الأيدي العاملة في الصين رخيصة
10	شاركت المملكة العربية السعودية في الحروب العالمية الأولى والثانية بموافقة الملك عبد العزيز آل سعود
11	انتهت الحرب العالمية الثانية باستسلام دول المحور
12	ألقت الولايات المتحدة الأمريكية قنبلي هيروشيما ونجازاكي على اليابان
13	يتمتع جنوب أوروبا بمناخ البحر الأبيض المتوسط
14	تستغرق الرحلة بالقطار بين موسكو في الغرب وميناء فلاد فستوك في الشرق سبعة ايام
15	تتمتع روسيا بارتفاع في الكثافة السكانية
16	أكبر عرق في الصين هو عرق هان
17	بلغت الخسائر البشرية في الحرب العالمية الثانية 70 مليون قتيل
18	بحر قزوين هو أكبر البحيرات في روسيا وأكبر مسطح مائي داخلي في العالم
19	تُعد أولى أفكار التوحيد السلمي في أوروبا بالتعاون والمساواة تلك التي قدمها فيكتور هوجو عام 1851 م
20	تأسست الولايات المتحدة الأمريكية من 10 مستعمرات بريطانية على طول ساحل المحيط الأطلسي

ب. صفني المصطلحات تبعاً لتعريفاتها في الجدول التالي..

1	الكشوف الجغرافية	2	الاشتراكية	3	ساكس بيكو
---	------------------	---	------------	---	-----------

اتفاقية سرية وقعت بين فرنسا وبريطانيا بموافقة روسيا على أن يتقاسم أملاك الدولة العثمانية في الهلال الخصيب
رحلات بحرية قام بها مجموعة من الرحالة الأوروبيين

ج. 1. وازني بين المسمى ونوع المظهر التضاريسي وموقعه في الجدول التالي..

1	2	3	4	5
جوبي	إفرست	بيرينغ	الألب	هورن

مضيق يفصل بين آسيا وأمريكا الشمالية	سلسلة جبلية في أوروبا	بحيرة في الولايات المتحدة الأمريكية	أعلى قمة جبلية في العالم	صحراء في الصين
-------------------------------------	-----------------------	-------------------------------------	--------------------------	----------------

2. رتبي الدول التالية تبعاً لمساحتها من الأكبر إلى الأصغر

الولايات المتحدة الأمريكية	روسيا	الصين	كندا
----------------------------	-------	-------	------

السؤال الثالث/ أ. حددي على خريطة العالم سير رحلة فاسكو ديجاما في الوصول

للهند/ المحيط الهندي/ المحيط الأطلسي

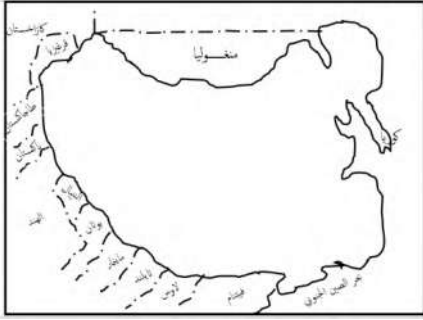


د. صفني الدول العربية الآتية بين ماهي (مؤسس أو عضو في جامعة الدول

العربية)



الدول المؤسسة	
الدول الأعضاء	



ج. 1. حددي على خريطة الصين الآتي ..

(هضبة منغوليا / نهر هو انغ هو / روسيا/ بحر الصين الشرقي)

أين تقع الصين بالنسبة لقارة آسيا؟

عاصمة الصين هي

2. أُرسمي خريطة الولايات المتحدة الأمريكية ووضحي عليها الآتي .. (الحدود / سلسلة جبال روكي / نهر المسيسيبي / السهول الوسطى /


العاصمة)



ب/ من اين ينبع وأين يصب نهر المسيسيبي؟

ينبع من

يصب في



2. إلى ماذا ترمز الأيقونات التالية؟؟

ابحثي عن الكلمة المفقودة ..

ا	ل	ا	ب	لا	ش
م	ن	غ	و	ل	ي
ب	ب	ي	ط	ا	ل
ص	ك	ح	ي	ه	ت

خ	س	لا	ت	م	س	ر
ا	ل	د	ا	ن	و	ب
ب	ب	ي	ط	ا	ل	ر
ص	ك	ح	ي	ه	ت	م

سلسلة جبلية في الولايات المتحدة الأمريكية

أطول أنهار أوروبا

انتهت الأسئلة بالتوفيق والنجاح.. معلمات المادة.. أ. ذكرى إخوان أ. وضحي السبعي

اختبار الفصل الدراسي الثالث "الفترة الثانية" العام الدراسي 1446 هـ

الشعبة ()

اسم الطالبة رباعياً

رقم السؤال	السؤال
المدققة	السؤال الثالث

نموذج الاجابة

13

السؤال الأول/ أ. اختاري الإجابة الصحيحة في الآتي..

1. مثلت بلدانها ميدان التنافس الأوروبي الرامي إلى السيطرة واستغلال ثرواتها الطبيعية (آسيا - أفريقيا - أوروبا - أمريكا)
2. سلسلة جبلية تفصل بين روسيا الآسيوية وروسيا الأوروبية (روكي - الأورال - توغال - كنلن)
3. من أنواع نباتات القارة الأوروبية في المناخ القطبي غابات (النفضية - الصنوبرية - البحر المتوسط - التندرا)
4. فرضت معاهدات الصلح غرامات باهظة على (روسيا - إيطاليا - ألمانيا - بريطانيا)
5. أعلنت الحرب على صربيا عام 1914 وكان شرارة الحرب العالمية الأولى اغتيال ولي عهدها (ألمانيا - النمسا - روسيا - إيطاليا)
6. لقب بأسد البحار (البكري - المقديسي - الإدريسي - ابن ماجد)
7. يقع مقر هيئة الأمم المتحدة في (نيويورك - واشنطن - كاليفورنيا - فلوريدا)
8. لم يبحر لأبعد من مضيق جبل طارق ولقب بالملاح (ماجلان - جيمس كوك - هنري - كولومبس)
9. استضافت (المملكة العربية السعودية - العراق - الكويت - قطر) اجتماع مجموعة العشرين عام 2020
10. من نتائج الحرب العالمية الأولى إنشاء (هيئة الأمم المتحدة - منظمة العالم الإسلامي - مجلس التعاون الخليجي - عصبة الأمم)
11. أصبح (هتلر - لينين - موسوليني - سالين) مستشاراً ألمانياً وقائداً للحزب النازي
12. يصب نهر لينا في (المحيط المتجمد الشمالي - البحر الأحمر - بحر الصين - البحر الميت)
13. تُعرف بسقف العالم نظراً لارتفاعها الشديد .. هضبة (منغوليا - سيبيريا - التبت - الشطوط)
14. عدد اللغات في الإتحاد الأوروبي (23 - 33 - 44 - 55) لغة
15. شهدت روسيا قيام الثورة (الرأس مالية - الشيوعية - النازية - الفاشية) التي قادها البلاشفة
16. كانت أول مستعمرة أمريكية (فرجينيا - نيويورك - كاليفورنيا - فلوريدا) الإنجليزية على ساحل المحيط الأطلسي
17. يُنسب كتاب نزهة المشتاق في اختراق الأفاق لـ (البكري - المقديسي - الإدريسي - ابن ماجد)
18. تتكون الولايات المتحدة الأمريكية من (20 - 30 - 40 - 50) ولاية

2. بما تفسرين الآتي؟؟

تنوع المناخ في الولايات المتحدة الأمريكية؟ اتساع المساحة
يشهد سكان الإتحاد الأوروبي نمواً بطيئاً؟ تحديد النسل وتأخر سن الزواج

ب/ 1. أكمل الفراغ الآتي بما يتناسب مع الجملة..

أكبر الولايات المتحدة الأمريكية (الأسكا)
أصغر الولايات المتحدة الأمريكية (هاواي)

ج/ صححي ما تحته خط في الآتي..

إيطاليا
الحرب العالمية الأولى
نكثت بعهداها
الصين

1. تمكن موسوليني زعيم الحزب الفاشي عام 1922 م من تسلم السلطة في النمسا

3. من نتائج الحرب العالمية الثانية تفكك الدولة العثمانية.

4. أوفت بريطانيا بعهداها للشريف حسين ونصبته ملكاً على العرب

5. تشكل الحدود البرية لروسيا 14 دولة

15.5

السؤال الثاني/ أ. أحيي بـ (✓) أو (X) أمام العبارات التالية..

✓	1 بروكسل في بلجيكا هي عاصمة الإتحاد الأوروبي
✓	2 ساهم الرحالة ابن بطوطة في تقديم معلومات جديدة عن أماكن عدة في أفريقيا
✓	3 يقع مقر جامعة الدول العربية في القاهرة
✓	4 تفكك الإتحاد السوفيتي عام 1991 م
X	5 تم اكتشاف استراليا على يد الملاحة الإيطالي أمريكو فيسبوتشي
✓	6 يُعد عنصر المغول الآسيوي أول جنس بشري استوطن الأراضي التي تكونت منها الولايات المتحدة الأمريكية
✓	7 تمتلك روسيا ربع المياه العذبة في العالم
✓	8 المقر السابق لمنظمة أوبك كان في جنيف في سويسرا
✓	9 الأيدي العاملة في الصين رخيصة
X	10 شاركت المملكة العربية السعودية في الحروب العالمية الأولى والثانية بموافقة الملك عبد العزيز آل سعود
✓	11 انتهت الحرب العالمية الثانية باستسلام دول المحور
✓	12 ألقت الولايات المتحدة الأمريكية قنبليتي هيروشيما ونجازاكي على اليابان
✓	13 يتمتع جنوب أوروبا بمناخ البحر الأبيض المتوسط
✓	14 تستغرق الرحلة بالقطار بين موسكو في الغرب وميناء فلاد فستوك في الشرق سبعة أيام
X	15 تتمتع روسيا بارتفاع في الكثافة السكانية
✓	16 أكبر عرق في الصين هو عرق هان
✓	17 بلغت الخسائر البشرية في الحرب العالمية الثانية 70 مليون قتيل
✓	18 بحر قزوين هو أكبر البحيرات في روسيا وأكبر مسطح مائي داخلي في العالم
✓	19 تُعد أولى أفكار التوحيد السلمي في أوروبا بالتعاون والمساواة تلك التي قدمها فيكتور هوجو عام 1851 م
X	20 تأسست الولايات المتحدة الأمريكية من 10 مستعمرات بريطانية على طول ساحل المحيط الأطلسي

ب. صفني المصطلحات تبعاً لتعريفاتها في الجدول التالي...

1	الكشوف الجغرافية	2	الاشتراكية	3	ساكس بيكو
---	------------------	---	------------	---	-----------

2	اتفاقية سرية وقعت بين فرنسا وبريطانيا بموافقة روسيا على أن يتقاسم أملاك الدولة العثمانية في الهلال الخصيب
1	رحلات بحرية قام بها مجموعة من الرحالة الأوروبيين

ج. 1. وازني بين المسمى ونوع المظهر التضاريسي وموقعه في الجدول التالي..

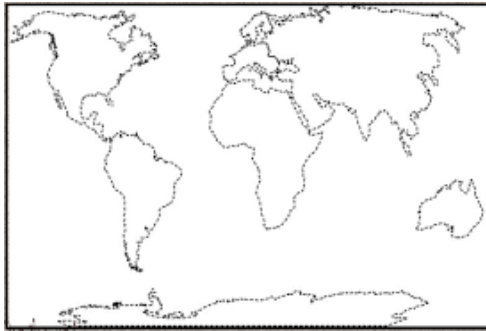
1	جوبي	2	إفرست	3	بيرينغ	4	الألب	5	هورن
---	------	---	-------	---	--------	---	-------	---	------

1	2	5	4	3
صحراء في الصين	أعلى قمة جبلية في العالم	بحيرة في الولايات المتحدة الأمريكية	سلسلة جبلية في أوروبا	مضيق يفصل بين آسيا وأمريكا الشمالية

2. رتبي الدول التالية تبعاً لمساحتها من الأكبر إلى الأصغر

الولايات المتحدة الأمريكية	روسيا	الصين	كندا
3	1	4	2

11.5



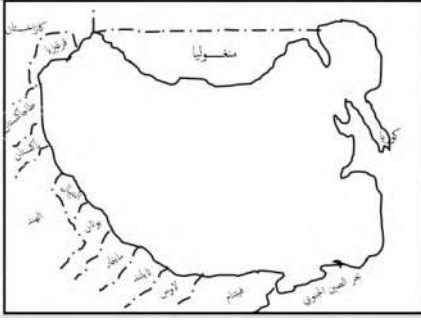
السؤال الثالث/ أ. حددي على خريطة العالم سير رحلة فاسكو دي جاما في الوصول للهند/ المحيط الهندي/ المحيط الأطلسي



ب. صفني الدول العربية الآتية بين ماهي (مؤسس أو عضو في جامعة الدول العربية)

الدول المؤسسة	السعودية	مصر
الدول الأعضاء	السودان	الجزائر

ج.1. حددي على خريطة الصين الآتي ..



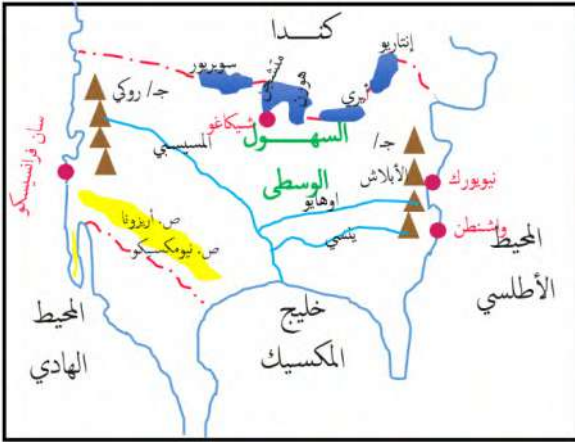
(هضبة منغوليا / نهر هوانغ هو / روسيا/ بحر الصين الشرقي)

أين تقع الصين بالنسبة لقارة آسيا؟ شرق آسيا

عاصمة الصين هي بكين

2. أُرسمي خريطة الولايات المتحدة الأمريكية ووضعي عليها الآتي.. (الحدود / سلسلة جبال روكي/ نهر المسيسيبي/ السهول الوسطى/

العاصمة)



ب/ من اين ينبع و أين يصب نهر المسيسيبي؟

ينبع من سلسلة جبال روكي

يصب في خليج المكسيك

	
منظمة الأوبك	هيئة الأمم المتحدة

2. إلى ماذا ترمز الأيقونات التالية؟؟

ابحثي عن الكلمة المفقودة ..

ا	ل	ا	ب	لا	ش
م	ن	غ	و	ل	ي
ب	ب	ي	ط	ا	ل
ص	ك	ح	ي	ه	ت

ر	س	م	ت	لا	س	خ
ل	ل	د	ا	ن	و	ب
ر	ل	ا	ط	ي	ب	ب
م	ت	ه	ي	ح	ك	ص

سلسلة جبلية في الولايات المتحدة الأمريكية

أطول أنهار أوروبا

انتهت الأسئلة بالتوفيق والنجاح.. معلمات المادة.. أ. ذكري إخوان أ. وضحي السبعي

اختبار الصف الأول ثانوي مادة الدراسات الاجتماعية الفصل الدراسي الثالث (الاختبار الثاني ٤٠ درجة)

اسم الطالبة /..... الصف.....

السؤال الأول :

اخترى العبارة الصحيحة من بين الخيارات التالية :

- ١/ اسهم في الإرشاد الملاحي لعدد من الكشوف الجغرافية
أ-أبن ماجد ب - الادريسي ج -أبن بطوطه د- المقدسي
- ٢/مكتشف طريق راس الرجاء الصالح
أ – فاسكوداجاما ب- كولومبوس. ج-جون كابوت. د – جيمس كوك
- ٣/تمكن من الوصول للسواحل الشرقية لأستراليا ونيوزيلندا
أ-الأمير هنري الملاح. ب- ماجلان. ج-جون كابوت. د – جيمس كوك
- ٤/بلغ عدد الدول المشاركة في الحرب العالمية الأولى
أ- ٢٢. ب- ٣٣. ج -٤٤. د- ٥٥.
- ٥/ بلغت الخسائر البشرية في الحرب العالمية الأولى
أ – ٩ مليون نسمة. ب- ١٠ مليون نسمة. ج- ١١ مليون نسمة. د - ١٢ مليون نسمة
- ٦/من نتائج الحرب العالمية الأولى وقوع عدد الدول العربية تحت الانتداب وفق اتفاقية
أ – لندن. ب-سايكس بيكو. ج- وعد بلفور. د- باريس
- ٧/ من آثار الحرب العالمية الأولى صدور وعد بلفور سنة ١٩١٧م بإعطاء وطن قومي لليهود في
أ – فلسطين. ب -العراق. ج- سوريا. د – لبنان
- ٨ /اتسعت مساحة بعض دول اوربا بعد الحرب العالمية الأولى مثل
أ – المانيا. ب – اليابان. ج – بريطانيا. د- النمسا
- ٩/ اتبعت سياسة العزله لإبعاد النفوذ الأوربي
أ – القارة الاسيوية. ب- القارة الافريقية. ج – القارة الامريكية. د- استراليا
- ١٠ -قامت فيها الثورة الشيوعية وأقاموا فيها أول دولة اشتراكية معلنين قيام
أ – الاتحاد السوفيتي. ب- الولايات المتحدة الأميركية ج – يوغسلافيا. د- المملكة المتحدة
- ١١ -تأسست الولايات المتحدة الأميركية من مستعمرات بريطانياه كان عددها
أ – ١١. ب- ١٢. ج – ١٣. د – ١٤
- ١٢ / اكبر الأقليات في الولايات المتحدة الأميركية:
أ - الأفارقة. ب- الأوربيون ج- الأستراليون. د – العرب
- ١٣ / أكثر الدول الأعضاء في الاتحاد الأوروبي سكاناً هي دولة :
أ – المانيا. ب- فرنسا. ج-إيطاليا. د- مالطه

١٤ / عدد الدول الأعضاء في الإتحاد الأوروبي :

أ - ٢٧ . ب - ٢٨ . ج - ٢٩ . د - ٣٠

١٥ / تفصل روسيا بين قارتي :

أ - آسيا واوربا . ب - أوروبا وأفريقيا . ج - آسيا وأستراليا . د - آسيا وأفريقيا

١٦ / أكثر بلدان العالم اكتظاظا بالسكان :

أ - بريطانيا . ب - الهند . ج - أمريكا . د - الصين

١٧ / تمتلك الصين أكبر ميزانية للبحوث والتنمية في العالم.

١ - أول . ب - ثاني . ج - ثالث . د - رابع.

١٨ / تعد الحضارة أحد أقدم الحضارات في العالم حيث ازدهرت في حوض النهر الأصفر

أ - الصينية . ب - الهندية . ج - المصرية . د - العراقية.

١٩ / يحد الصين دوله.

أ - ١٤ . ب - ١٥ . ج - ١٦ . د - ١٧.

٢٠ - تقع روسيا الإتحادية في اوراسيا.

أ - شرق . ب - غرب . ج - شمال . د - جنوب

السؤال الثاني :

ضعي علامة (صح أو خطأ) بعد مايناسبها في العبارات التالية :

- ١/ من دوافع الكشوف الجغرافية الدينيه الرغبة في الحصول على منتجات الشرق (.....)
- ٢/ قامت حركة الكشوف الجغرافية لدوافع سياسيه واقتصادية فقط. (.....)
- ٣/ الكشوف الجغرافية هي الرحلات البحرية الواسعة التي قام بها بعض الأوروبيين في القرن ١٥ الميلادي لاكتشاف مناطق جديدة. (.....)
- ٤/ من نتائج الكشوف الجغرافية على العالم العربي والإسلامي اضعاف دولة المماليك وسقوطها. (.....)
- ٥/ تعد الولايات المتحدة الأميركية مثالا للتنوع العرقي والثقافي (.....)
- ٦/ السبب المباشر للحرب العالمية الأولى هو اغتيال طالب صربي لولي عهد النمسا. (.....)
- ٧/ لم يوافق الملك عبدالعزيز رحمه الله على التعاون مع بريطانيا في حملتها ضد الدولة العثمانية. (.....)
- ٨ / تمكن الحزب النازي من تسلم الحكم في إيطاليا واصبح هتلر مستشارًا. (.....)
- ٩/ تعتبر بريطانيا من دول الحلفاء في الحرب العالمية الثانية. (.....)
- ١٠/ اندلعت الحرب العالمية الثانية سنة ١٩٣٩م. (.....)
- ١١/ مرحلة تفوق دول المحور هي مرحلة تميزت بانتصار المانيا وحلفائها في الحرب العالمية الثانية. (.....)
- ١٢/ من نتائج الحرب العالمية الثانية تقسيم باريس عاصمة فرنسا إلى قسمين شرقي وغربي. (.....)
- ١٣/ عدد سكان الولايات المتحدة الأميركية (٣٢٧,٧ مليون نسمة). (.....)
- ١٤ / تعتبر قمة مونت بلانك أعلى قمة جبلية في الولايات المتحدة الأميركية. (.....)
- ١٥ / أطول أنهار اوربا هو نهر الدانوب. (.....)
- ١٦ / يعتبر المناخ الصيني أحد اقسام المناخات في الإتحاد الأوروبي. (.....)
- ١٧ / تشكل جبال الأورال الحدود التقليدية بين روسيا الآسيوية وروسيا الأوروبية. (.....)
- ١٨ / يعد النمو السكاني في الولايات المتحدة الأميركية بطيئًا. (.....)
- ١٩ / اتخذ الملك عبدالعزيز رحمه الله موقفا مسانداً لطرف ضد اخر حماية لمصالح بلاده. (.....)
- ٢٠ / الصين في المرتبة الثالثة عالمياً من حيث المساحة. (.....)
- ٢١ / المشكلة الرئيسية لضعف الاقتصاد الروسي هي الانفاق العسكري الكبير. (.....)

انتهت الأسئلة

نموذج الاجابة

اسم الطالبة /

السؤال الأول :

اخترى العبارة الصحيحة من بين الخيارات التالية :

- ١/ اسهم في الإرشاد الملاحي لعدد من الكشوف الجغرافية
أ- **أبن ماجد** ب- الادريسي ج- ابن بطوطة د- المقدسي
- ٢/ مكتشف طريق راس الرجاء الصالح
أ- **فاسكوداجاما** ب- كولومبوس ج- جون كابوت د- جيمس كوك
- ٣/ تمكن من الوصول للسواحل الشرقية لأستراليا ونيوزيلندا
أ- الأمير هنري الملاح ب- ماجلان ج- جون كابوت د- **جيمس كوك**
- ٤/ بلغ عدد الدول المشاركة في الحرب العالمية الأولى
أ- ٢٢ ب- **٣٣** ج- ٤٤ د- ٥٥
- ٥/ بلغت الخسائر البشرية في الحرب العالمية الأولى
أ- **٩ مليون نسمة** ب- ١٠ مليون نسمة ج- ١١ مليون نسمة د- ١٢ مليون نسمة
- ٦/ من نتائج الحرب العالمية الأولى وقوع عدد الدول العربية تحت الانتداب وفق اتفاقية
أ- لندن ب- **ب- سايكس بيكو** ج- وعد بلفور د- باريس
- ٧/ من آثار الحرب العالمية الأولى صدور وعد بلفور سنة ١٩١٧م بإعطاء وطن قومي لليهود في
أ- **فلسطين** ب- العراق ج- سوريا د- لبنان
- ٨/ اتسعت مساحة بعض دول اوربا بعد الحرب العالمية الأولى مثل
أ- المانيا ب- اليابان ج- **بريطانيا** د- النمسا
- ٩/ اتبعت سياسة العزله لإبعاد النفوذ الأوربي
أ- القارة الاسيوية ب- القارة الافريقية ج- **القارة الامريكية** د- استراليا
- ١٠- قامت فيها الثورة الشيوعية وأقاموا فيها أول دولة اشتراكية معلنين قيام
أ- **الاتحاد السوفيتي** ب- الولايات المتحدة الأمريكية ج- يوغسلافيا د- المملكة المتحدة
- ١١- تأسست الولايات المتحدة الأمريكية من مستعمرات بريطانياه كان عددها
أ- ١١ ب- ١٢ ج- **١٣** د- ١٤
- ١٢/ أكبر الأقليات في الولايات المتحدة الأمريكية:
أ- الأفارقة ب- **الأوروبيون** ج- الأستراليون د- العرب
- ١٣/ أكثر الدول الأعضاء في الاتحاد الأوروبي سكاناً هي دولة :
أ- **المانيا** ب- فرنسا ج- إيطاليا د- مالطه

١٤ / عدد الدول الأعضاء في الإتحاد الأوروبي :

أ - ٢٧ . ب - ٢٨ . ج - ٢٩ . د - ٣٠

١٥ / تفصل روسيا بين قارتي :

أ - آسيا واوربا . ب - أوروبا وأفريقيا . ج - آسيا وأستراليا . د - آسيا وأفريقيا

١٦ / أكثر بلدان العالم اكتظاظا بالسكان :

أ - بريطانيا . ب - الهند . ج - أمريكا . د - الصين

١٧ / تمتلك الصين أكبر ميزانية للبحوث والتنمية في العالم.

١ - أول . ب - ثاني . ج - ثالث . د - رابع.

١٨ / تعد الحضارة أحد أقدم الحضارات في العالم حيث ازدهرت في حوض النهر الأصفر

أ - الصينية . ب - الهندية . ج - المصرية . د - العراقية.

١٩ / يحد الصين دوله.

أ - ١٤ . ب - ١٥ . ج - ١٦ . د - ١٧.

٢٠ - تقع روسيا الإتحادية في اوراسيا.

أ - شرق . ب - غرب . ج - شمال . د - جنوب

السؤال الثاني :

ضعي علامة (صح أو خطأ) بعد مايناسبها في العبارات التالية :

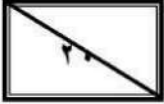
- ١/ من دوافع الكشوف الجغرافية الدينية الرغبة في الحصول على منتجات الشرق (..X..)
- ٢/ قامت حركة الكشوف الجغرافية لدوافع سياسيه واقتصادية فقط. (..X..)
- ٣/ الكشوف الجغرافية هي الرحلات البحرية الواسعة التي قام بها بعض الأوروبيين في القرن ١٥ الميلادي لاكتشاف مناطق جديدة. (..✓...)
- ٤/ من نتائج الكشوف الجغرافية على العالم العربي والإسلامي اضعاف دولة المماليك وسقوطها. (..✓...)
- ٥/ تعد الولايات المتحدة الأميركية مثالا للتنوع العرقي والثقافي (..✓...)
- ٦/ السبب المباشر للحرب العالمية الأولى هو اغتيال طالب صربي لولي عهد النمسا. (..X..)
- ٧/ لم يوافق الملك عبدالعزيز رحمه الله على التعاون مع بريطانيا في حملتها ضد الدولة العثمانية. (..✓...)
- ٨ / تمكن الحزب النازي من تسلم الحكم في إيطاليا واصبح هتلر مستشارًا. (..X..)
- ٩/ تعتبر بريطانيا من دول الحلفاء في الحرب العالمية الثانية. (..✓...)
- ١٠/ اندلعت الحرب العالمية الثانية سنة ١٩٣٩م. (..✓...)
- ١١/ مرحلة تفوق دول المحور هي مرحلة تميزت بانتصار المانيا وحلفائها في الحرب العالمية الثانية. (..✓...)
- ١٢/ من نتائج الحرب العالمية الثانية تقسيم باريس عاصمة فرنسا إلى قسمين شرقي وغربي. (..X..)
- ١٣/ عدد سكان الولايات المتحدة الأميركية (٣٢٧,٧ مليون نسمة). (..X..)
- ١٤ / تعتبر قمة مونت بلاك أعلى قمة جبلية في الولايات المتحدة الأميركية. (..X..)
- ١٥ / أطول أنهار اوربا هو نهر الدانوب. (..✓...)
- ١٦ / يعتبر المناخ الصيني أحد اقسام المناخات في الإتحاد الأوروبي. (..X..)
- ١٧ / تشكل جبال الأورال الحدود التقليدية بين روسيا الآسيوية وروسيا الأوروبية. (..✓...)
- ١٨ / يعد النمو السكاني في الولايات المتحدة الأميركية بطيئًا. (..✓...)
- ١٩ / اتخذ الملك عبدالعزيز رحمه الله موقفا مسانداً لطرف ضد اخر حماية لمصالح بلاده. (..X..)
- ٢٠ / الصين في المرتبة الثالثة عالمياً من حيث المساحة. (..✓...)
- ٢١ / المشكلة الرئيسية لضعف الاقتصاد الروسي هي الانفاق العسكري الكبير. (..✓...)

انتهت الأسئلة

المادة:	بسم الله الرحمن الرحيم	المملكة العربية السعودية
اليوم:		وزارة التعليم
الصف:		إدارة تعليم القطيف
الزمن:		المدرسة : الثانوية الثالثة بالقطيف
السنة الدراسية:	وزارة التعليم Ministry of Education	
الأجتماعيات		
الأول ثانوي		
ساعة ونصف		
١٤٤٦هـ		

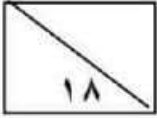
**اختبار مادة الاجتماعيات مسارات الفصل الدراسي الثالث لعام ١٤٤٦هـ
(الدور الأول) /انتساب**

اسم الطالبة رياعياً	رقم السؤال	السؤال الأول	السؤال الثاني	السؤال الثالث	رقم الجلوس
	الدرجة				المجموع



السؤال الأول: اختاري الإجابة الصحيحة فيما يلي :

١	أرض المملكة العربية السعودية في الماضي كانت محور لطريق :	أ	التوابل	ب	الحرير	ج	الذهب
٢	أنهت المملكة العربية السعودية معاناة اللبنانيين باتفاقية :	أ	الطائف	ب	مكة	ج	الرياض
٣	أسهم في اكتشاف طريق رأس الرجاء الصالح البحارة البرتغالي :	أ	ماجلان	ب	الأمير هنري	ج	فاسكو دي جاما
٤	السبب المباشر للحرب العالمية الثانية هو :	أ	تطور الأزمة البولندية	ب	قيام الثورة الشيوعية	ج	اغتيال ولي عهد النمسا
٥	اول مستعمرة انجليزية تكونت منها أمريكا هي :	أ	واشنطن	ب	لوس انجلوس	ج	فرجينيا
٦	جبال تشكل الحدود بين الهند والصين :	أ	الأبلاش	ب	الهملايا	ج	أطلس
٧	اتخذت الجامعة العربية من مدينة مقراً لها	أ	جنيف	ب	القاهرة	ج	مكة المكرمة
٨	(تتكون الولايات المتحدة الأمريكية من ولاية	أ	٣٠	ب	٤٠	ج	٥٠
٩	(تُعرف بسقف العالم نظراً لارتفاعها الشديد .. هضبة :	أ	منغوليا	ب	التبت	ج	سيبيريا
١٠	(تمكن من الوصول الى السواحل الشرقية لأستراليا ونيوزيلندا :	أ	هنري الملاح	ب	جون كابوت	ج	جيمس كوك



السؤال الثاني: أ) اجيبي ب (صح) إذا كانت الإجابة صحيحة، وب (خطأ) إذا كانت العبارة خاطئة:

١) اتبع الجيش الشيوعي في أفغانستان سياسة الأرض المحروقة
٢) أفتتح الملك عبدالله بن عبد أءاء العزيز مركز اعتءال لمكافحة الفكر المتطرف بالرياض
٣) السبب المباشر للحرب العالمية الأولى هو اغتيال ولي عهد النمسا على يد طالب صربي
٤) تمتلك الصين ربع المياه العذبة في العالم
٥) أنشأت منظمة الدول المصدرة للنفط الأوبك لتنسيق وتوحيد السياسات النفطية بين الأعضاء

ب) أكمل الفراغات التالية :

١- قامت على أرض المملكة حضارات وممالك قديمة مثل

٢- أطلق الملك سلمان بن عبد العزيز على القمة العربية ٢٩ التي عقدت بالظهران ب

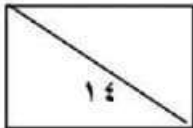
٣- يربط طريق رأس الرجاء الصالح بين المحيط والمحيط

٤- بلغ عدد الدول المشاركة في الحرب العالمية الأولى دولة

٥- يحتل أقتصاد الصين المرتبة عالمياً

٦- لدى روسيا أكبر احتياطي العالم من و

٧- نشأت بدلاً من عصبة الأمم المتحدة



السؤال الثالث : أ) بما تفسرين :

١- تحظى المملكة العربية السعودية بمكانة اقتصادية منفردة بين دول العالم

٢- نجح الملك عبد العزيز في تجنب المملكة العربية السعودية آثار الحرب العالمية الأولى الثانية

٣- تنوع المناخ في روسيا الاتحادية

ب) انسبي المظاهر التضاريسية التالية الى بلدانها :

قزوين - الأبلش - هاواي - الدانوب - البحر المتوسط

	١- جبال تقع في شرق الولايات المتحدة الأمريكية
	٢- نهرينبع من ألمانيا ويجتاز دول الاتحاد الأوروبي
	٣- جزيرة في المحيط الهادي تعد أصغر الولايات في الولايات المتحدة
	٤- أكبر مسطح مائي داخلي في العالم جنوب روسيا

ج) ضعي الدول أمام أبرز التغيرات السياسية لها فبيل الحرب العالمية الثانية :

(إيطاليا - اليابان - ألمانيا - روسيا - الولايات المتحدة الأمريكية)

الدول	التغيرات السياسية
	١- شهدت ازدهاراً في مجال الصناعة وزادت قوتها بسبب سيادتها على أسواق الشرق الأقصى
	٢- تمكن الحزب النازي من تسلّم الحكم وأصبح هتلر مستشاراً وعمل على تسليح الجيش حتى أصبح من أقوى الجيوش في العالم
	٣- قامت فيها الثورة الشيوعية وأقاموا فيها أول دولة اشتراكية وأعلنت قيام الاتحاد السوفيتي
	٤- خرجت من الحرب منهكة رغم انتصارها وتأثرت كثيراً بالأزمة الاقتصادية العالمية

انتهت الأسئلة

معلومات المادة : فاطمة آل فهيدة - قدرية الغريافي

موقع
مادنتيرا

المصحح: أ.
الدرجة كتابة:

٤٠

الاسم:
الصف:
رقم الجلوس : ()

المراجع: أ.
الدرجة كتابة:

٤٠

السؤال الأول: اختر الإجابة الصحيحة فيما يلي :

١/ اسهم في الإرشاد الملاحي لعدد من الكشوف الجغرافية

أ ابن ماجد ب الادريسي ج ابن بطوطة د جيمس كوك

٢/مكتشف طريق راس الرجاء الصالح

أ فاسكوداجاما ب كولومبوس ج جون كابوت د جيمس كوك

٣/تمكن من الوصول للسواحل الشرقية لأستراليا ونيوزيلندا

أ الأمير هنري الملاح ب ماجلان ج ٣٣ وزارة د ٤٠ وزارة

٤/بلغ عدد الدول المشاركة في الحرب العالمية الأولى

أ ٢٢ ب ٢٣ ج ٢٤ د ٢٥

٥/ بلغت الخسائر البشرية في الحرب العالمية الأولى

أ ٩ مليون نسمة ب ١٠ مليون نسمة ج ١١ مليون نسمة د ١٢ مليون نسمة

٦//من نتائج الحرب العالمية الأولى وقوع عدد الدول العربية تحت الانتداب وفق اتفاقية

أ لندن ب سايكس بيكو ج وعد بلفور د باريس

٧/ من آثار الحرب العالمية الأولى صدور وعد بلفور سنة ١٩١٧م بإعطاء وطن قومي لليهود في

أ فلسطين ب العراق ج سوريا د لبنان

٨/ اتسعت مساحة بعض دول أوروبا بعد الحرب العالمية الأولى مثل

أ ألمانيا ب اليابان ج بريطانيا د النمسا

٩/ اتبعت سياسة العزلة لإبعاد النفوذ الأوربي

أ القارة الاسيوية ب القارة الافريقية ج القارة الامريكية د استراليا

١٠- قامت فيها الثورة الشيوعية وأقاموا فيها أول دولة اشتراكية معلنين قيام

أ الاتحاد السوفيتي ب الولايات المتحدة الأمريكية ج يوغسلافيا د المملكة المتحدة

١١- تأسست الولايات المتحدة الأمريكية من مستعمرات بريطانية كان عددها

أ ١١ ب ١٢ ج ١٣ د ٤

١٢/ اكبر الاقليات في الولايات المتحدة الأمريكية:

أ الأفارقة ب الأوربيون ج الأستراليون د العرب

١٣/ عدد الدول الأعضاء في الإتحاد الأوروبي :

أ ٢٧ ب ٢٨ ج ٢٩ د ٣٠

١٤/ تفصل روسيا بين قارتي :

أ آسيا واوربا. ب أوروبا وأفريقيا. ج آسيا وأستراليا د آسيا وأفريقيا

١٥/ أكثر بلدان العالم اكتظاظا بالسكان:

أ بريطانيا ب الهند ج أمريكا د الصين

١٦ / تمتلك الصين أكبر ميزانية للبحوث والتنمية في العالم.

أ أول ب ثاني ج ثالث د رابع

١٧ / تعد الحضارة أحد أقدم الحضارات في العالم حيث ازدهرت في حوض النهر الأصفر

أ الصينية ب الهندية ج المصرية د العراقية

١٨ / يحد الصين دولة.

أ ١٤ ب ١٥ ج ١٦ د ١٧

١٩ - تقع روسيا الاتحادية في أوراسيا.

أ شرق ب غرب ج شمال د جنوب

٢٠ - أكثر الدول الأعضاء في الاتحاد الأوروبي سكاناً هي دولة :

أ ألمانيا ب فرنسا ج إيطاليا د مالطة

السؤال الثاني: أجب بعلامة (√) للعبارة الصحيحة وعلامة (X) للعبارة الخاطئة

١	من دوافع الكشوف الجغرافية الدينية الرغبة في الحصول على منتجات الشرق
٢	قامت حركة الكشوف الجغرافية لدوافع سياسية واقتصادية فقط
٣	الكشوف الجغرافية هي الرحلات البحرية الواسعة التي قام بها بعض الأوروبيين في القرن ١٥ الميلادي لاكتشاف مناطق جديدة.
٤	من نتائج الكشوف الجغرافية على العالم العربي والإسلامي اضعاف دولة المماليك وسقوطها
٥	تعد الولايات المتحدة الأميركية مثالا للتنوع العرقي والثقافي
٦	السبب المباشر للحرب العالمية الأولى هو اغتيال طالب صربي لولي عهد النمسا
٧	لم يوافق الملك عبدالعزيز رحمه الله على التعاون مع بريطانيا في حملتها ضد الدولة العثمانية.
٨	تمكن الحزب النازي من تسلم الحكم في إيطاليا واصبح هتلر مستشاراً.
٩	تعتبر بريطانيا من دول الحلفاء في الحرب العالمية الثانية.
١٠	اندلعت الحرب العالمية الثانية سنة ١٩٣٩ م.
١١	مرحلة تفوق دول المحور هي مرحلة تميزت بانتصار ألمانيا وحلفائها في الحرب العالمية الثانية.
١٢	من نتائج الحرب العالمية الثانية تقسيم باريس عاصمة فرنسا إلى قسمين شرقي وغربي.
١٣	المشكلة الرئيسية لضعف الاقتصاد الروسي هي الانفاق العسكري الكبير.
١٤	تعتبر قمة مونت بلاك أعلى قمة جبلية في الولايات المتحدة الأميركية.
١٥	أطول أنهار أوربا هو نهر الدانوب.
١٦	يعتبر المناخ الصيني أحد اقسام المناخات في الإتحاد الأوروبي.
١٧	تشكل جبال الأورال الحدود التقليدية بين روسيا الآسيوية وروسيا الأوروبية.
١٨	يعد النمو السكاني في الولايات المتحدة الأميركية بطيئاً.
١٩	اتخذ الملك عبدالعزيز رحمه الله موقفاً مسانداً لطرف ضد اخر حماية لمصالح بلاده.
٢٠	الصين في المرتبة الثالثة عالمياً من حيث المساحة.

اليوم	التاريخ	الزمن
الأحد	/ / 1446هـ	ساعتان
اسم الطالبة		

نموذج اختبار مادة الاجتماعيات للصف الأول الثانوي مسارات "ل عام 1446 هـ

ظلي في نموذج الاجابة اجابتك عن كل من الفقرات التالية :

1 / اختاري الإجابة الصحيحة من بين الخيارات التالية :

1	سلسلة جبلية تقع في الاتحاد الأوروبي فيما أعلى قمة مونت بلانك	2	اكتشف طريق رأس الرجاء الصالح ووصل إلى الهند .
A	جبال الألباش	A	جميس كوك
B	جبال الألب	B	فاسكودا جاما
C	جبال الأورال	C	ماجلان
D	جبال ماكنلي	D	كولومبس
3	شهدت قيام الحزب النازي قبل قيام الحرب العالمية الثانية .	4	أكبر البحيرات في روسيا الاتحادية .
A	روسيا	A	بحيرة التبت
B	إيطاليا	B	بحيرة قزوين
C	ألمانيا	C	بحيرة باكيال
D	اليابان	D	بحيرة سيبيريا
5	أول مستعمرة انجليزية تكونت منها أمريكا .	6	أولى دول العالم من حيث المساحة .
A	واشنطن	A	روسيا
B	تكساس	B	أمريكا
C	فرجينيا	C	الصين
D	لوس انجلوس	D	كندا
7	جبال تشكل الحدود بين الصين والهند .	8	يقع مقر هيئة الأمم المتحدة في .
A	الأورال	A	القاهرة
B	الهimalايا	B	نيويورك
C	الألباش	C	جنيف
D	أطلس	D	جدة
9	قبل الحرب العالمية الأولى كان العالم العربي تحت الاستعمار .	10	بلغ عدد الدول التي شاركت الحرب العالمية الأولى .
A	البريطاني	A	22 دولة
B	الفرنسي	B	33 دولة
C	الايطالي	C	44 دولة
D	الهولندي	D	66 دولة
11	تعد الديانة الرئيسية في الصين .	12	أول جنس بشري استوطن أراضي أمريكا .
A	الإسلام	A	الروس
B	اليهودية	B	التتار
C	النصرانية	C	العرب
D	البوذية	D	المغول
13	تبنت فكرة الدعوة إلى إقامة جامعة الدول العربية .	14	مثلت ميدان التنافس الأوروبي على أرضها .
A	بريطانيا	A	أوروبا
B	ألمانيا	B	أمريكا
C	فرنسا	C	أفريقيا
D	روسيا	D	آسيا
15	أعلنت ألمانيا استسلامها في معركة المارن عام .	16	خرجت رحلات الكشوفات الجغرافية من قارة .
A	1914 م	A	آسيا
B	1939 م	B	أوروبا
C	1918 م	C	أفريقيا
D	1945 م	D	أستراليا
17	أنشأت بسبب الحريق الإجرامي الذي ارتكب في المسجد الأقصى .	18	يبلغ عدد دول الاتحاد الأوروبي .
A	منظمة التعاون الإسلامي	A	22 دولة
B	جامعة الدول العربية	B	25 دولة
C	هيئة الأمم المتحدة	C	23 دولة
D	رابطة العالم الإسلامي	D	27 دولة
19	تمتلك ثاني أكبر ميزانية للبحوث والتنمية في العالم .	20	يعتبر أطول أنهار الاتحاد الأوروبي وينبع من ألمانيا .
A	روسيا	A	نهر الفولغا
B	الاتحاد الأوروبي	B	نهر الدانوب
C	الصين	C	نهر أمور
D	أمريكا	D	نهر كوليمبا

2 / قرري مدى صحة أو خطأ كل من الفقرات التالية .

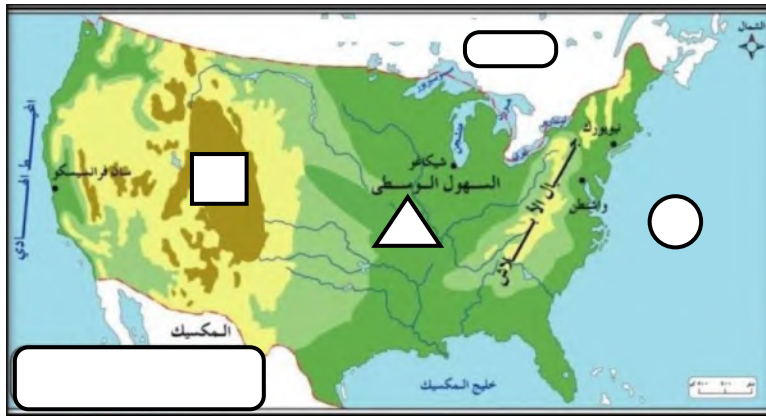
العبارة	A : صح	B : خطأ
21		كان السبب المباشر لقيام الحرب العالمية الثانية اغتيال طالب صربي ولي عهد النمسا .
22		قامت الولايات المتحدة الأمريكية بإلقاء القنبلة الذرية على مدينة برلين الألمانية .
23		ضمت بقية أجزاء الولايات المتحدة الأمريكية عن طريق الكشوفات الجغرافية .
24		بلغت الخسائر البشرية في الحرب العالمية الأولى 9 مليون قتيل .
25		أدى الانفاق العسكري الكبير في روسيا لضعفها اقتصادياً .
26		من أهداف الاتحاد الأوروبي تأسيس المواطنة الأوروبية .
27		طلبت ألمانيا بمدينة دانننج التي يمثل الروس أغلب سكانها .
28		تقع الصين شرق آسيا ويحكمها الحزب الشيوعي .
29		عقدت قمة مجموعة العشرين عام 2020 في اليابان .
30		نسبة ضئيلة من أراضي روسيا صالحة للزراعة .

3 / أقرني المنظمات في العمود الأول بما يناسبها من أهدافها في العمود الثاني .

الرقم	الأهداف
A	• الدفاع عن المصالح العربية والقضايا الوطنية .
B	• تنسيق وتوحيد السياسات النفطية للبدان الأعضاء .
C	• التصدي للتحديات التي تواجه العالم الإسلامي
D	• حفظ السلام والأمن الدولي

م	المنظمة
31	منظمة أوبك
32	هيئة الأمم المتحدة
33	جامعة الدول العربية
34	منظمة التعاون الإسلامي

4 / من يكون	<ul style="list-style-type: none"> • أنشأ أكاديمية للعلوم البحرية واستعان بخبراء الفلك والملاحة. • معاهدة سرية بين فرنسا وبريطانيا لتقسيم المشرق العربي.
5 / ارخي	<ul style="list-style-type: none"> • بداية الحرب العالمية الثانية. • نشأة منظمة رابطة العالم الإسلامي



6 / (دولة تكونت من 13 مستعمرة بريطانية) .

من خلال الخريطة التي أمامك أجبني عما يلي :

أ / اسم الدولة :

ب / سعي المظاهر التي تمثلها الرموز التالية :		
	●	1
	▲	2
	■	3
	■	4

المقرر : الدراسات الاجتماعية
الصف : أول ثانوي - مسارات
الزمن :
التاريخ : / / ١٤٤٦ هـ



المملكة العربية السعودية
وزارة التعليم
الإدارة العامة للتعليم
مدرسة

أسئلة اختبار الفصل الدراسي الثالث للعام الدراسي ١٤٤٦ هـ

السؤال الأول :- ظلل الحرف (ص) أمام العبارة الصحيحة والحرف (خ) أمام العبارة الخاطئة في ورقة الإجابة :

م	العبارة	الإجابة
١	تقتضي العقيدة الإسلامية حب الوطن والاعتزاز به وبتاريخه	
٢	مقر جامعة الدولة العربية في القاهرة	
٣	عدد الدول الأعضاء في مجلس التعاون الخليجي سبعة دول	
٤	تخلت المملكة عن مصر اثناء العدوان الثلاثي	
٥	صاحب فكرة الاتحاد الأوروبي هو فكتور هيوجو	
٦	ولاية ألاسكا هي أكبر ولايات أمريكا	
٧	عاصمة الصين هي بكين	
٨	استضافت المملكة مجموعة العشرين ٢٠٢٠ م	
٩	الاتحاد الأوروبي هو الوريث الوحيد للاتحاد السوفيتي	
١٠	بند ٥٠٩ ينص على خروج إسرائيل من سوريا	

السؤال الثاني :- اختر من القائمة (ب) ما يناسب من القائمة (أ) ثم ظلل في ورقة الإجابة :-

م	الاختيار الصحيح	(أ)	(ب)
١	()	بداية الحرب العالمية الأولى	أ
٢	()	نهاية الحرب العالمية الثانية	ب
٣	()	مجموعة العشرين	ج
٤	()	استقلال الجزائر	د
٥	()	منظمة أوبك	هـ
			و

السؤال الثالث: اختر الإجابة الصحيحة :

١	يقع مقر رابطة العالم الإسلامي في						
أ	الرياض	ب	مكة المكرمة	ج	المدينة المنورة	د	الدمام
٢	بلغ عدد الدول المشاركة في الحرب العالمية الأولى						
أ	٣٠ دولة	ب	٣٣ دولة	ج	٣٥ دولة	د	٤٠ دولة
٣	أكبر دولة بالعالم من حيث المساحة هي						
أ	الصين	ب	كندا	ج	روسيا	د	أمريكا
٤	عاصمة البوسنة والهرسك هي						
أ	كابول	ب	تيرانا	ج	سراييفو	د	استنبول
٥	بلد المليون شهيد هي						
أ	ليبيا	ب	السودان	ج	مصر	د	الجزائر
٦	عاصمة روسيا هي						
أ	كازان	ب	وارسو	ج	كييف	د	موسكو
٧	تتكون الولايات المتحدة الأمريكية من						
أ	٥٠ ولاية	ب	٥١ ولاية	ج	٥٣ ولاية	د	٥٥ ولاية
٨	مكتشف طريق الرجاء الصالح هو الرحالة						
أ	فاسكودوجاما	ب	ابن بطوطة	ج	ماجلان	د	كولومبوس
٩	عاصمة الولايات المتحدة الأمريكية هي						
أ	سان فرانسيسكو	ب	واشنطن	ج	نيويورك	د	فرجينيا
١٠	مقر الاتحاد الأوروبي في						
أ	فيينا	ب	بروكسل	ج	جنيف	د	لندن

انتهت الأسئلة مع دعائي لكم بالتوفيق....