

تم تحميل وعرض المادة من



موقع مادتي هو موقع تعليمي يعمل على مساعدة المعلمين والطلاب وأولياء الأمور في تقديم حلول الكتب المدرسية والاختبارات وشرح الدروس والملاحظات والتحاير وتوزيع المنهج لكل المراحل الدراسية بشكل واضح وسهل مجاناً بتصفح وعرض مباشر أونلاين وتحميل على موقع مادتي

حمل تطبيق مادتي ليصلك كل جديد



بسم الله الرحمن الرحيم

| | | |
|--------------------------|--|-----------------------------|
| المملكة العربية السعودية |  | الفصل الدراسي الثالث |
| وزارة التعليم | | المادة: الدراسات الاجتماعية |
| إدارة تعليم | | الصف: السادس الابتدائي |
| مدرسة | | الزمن : ساعة |
| الدرجة كتابة: | | ٤٠ |
| اسم المصحح | توقيعه | |
| اسم المراجع | توقيعه | |

إختبار نهاية الفصل الدراسي الثالث (الدور الأول) لعام ١٤٤٦هـ

| | |
|-------------------|--|
| اسم الطالب: | |
| ٢٠ | |

السؤال الأول: (أ) ضع علامة (√) أمام العبارة الصحيحة وعلامة (X) أمام العبارة الخاطئة:

| | | |
|----|--|-----|
| ١ | من الأمانة الحفاظ على أسرار الناس | () |
| ٢ | إهمال الأمانة يقود إلى عقاب في الدنيا وعقاب في الآخرة | () |
| ٣ | خيانة الوطن مخالفة للأمانة | () |
| ٤ | عندما أجد آثاراً قديمة أبلغ الجهات المختصة عنها | () |
| ٥ | التعليم والصحة من حقوق المواطن | () |
| ٦ | الأمانة تحقق الأمن للوطن وتحافظ على الدين وتمنع الفساد وتؤدي إلى الاستقرار | () |
| ٧ | من فوائد الصدق : كسب ثقة الآخرين | () |
| ٨ | الآثار سجل حضاري مهم للوطن لأنها تعبر عن امتداد تاريخ الوطن وتراثه | () |
| ٩ | يحتاج المجتمع إلى مشاركة مواطنيه ومؤسساته في خدمته | () |
| ١٠ | من فوائد المشاركة مع المجتمع تقوية التعاون بين الناس | () |
| ١١ | التعداد السكاني : هو حصر شامل لكل الأفراد في الوطن وجمع معلومات عن خصائصهم | () |
| ١٢ | السكان هم المواطنون والمقيمون في الوطن من ذكور وإناث | () |
| ١٣ | مناخ وطني المملكة العربية السعودية بوجه عام بارد صيفا وشتاء وكثير الأمطار | () |
| ١٤ | ضريبة القيمة المضافة في وطني ٢٥ % | () |
| ١٥ | من مظاهر الصدق : الغش والكذب والتزوير | () |

(ب) ضع الكلمات التالية في الفراغات المناسبة:

| | | | | |
|-------|-----|-----------|-------------|-----|
| وهمية | ١٨٠ | خط جرينتش | خط الاستواء | ٣٦٠ |
|-------|-----|-----------|-------------|-----|

١- تتصف خطوط الطول بأنها وعددها خطأً ، وخطها الرئيس هو

٢- عدد دوائر العرض دائرة خطها الرئيس هو

يتبع ←

السؤال الثاني (أ) إختتر الإجابة الصحيحة:

٢٠

| | | | | |
|----|---|------------------|-----------------|--------------------------|
| ١ | من العوامل المؤثرة في مناخ وطني المملكة العربية السعودية : | الموقع الجغرافي | الموقع السياسي | الموقع التاريخي |
| ٢ | توزيع السكان في جميع مناطق وطني : | متفاوت | مستاو | منتظم |
| ٣ | أكثر فئة من السكان في وطني: | متوسطو السن | صغار السن | كبار السن |
| ٤ | واجبنا تجاه موظف الإحصاء وتعداد السكان هو: | التعاون معه | الكذب عليه | إعطائه معلومات غير صحيحة |
| ٥ | ينتقل الناس من البلدات الصغيرة للإقامة في المدن الكبيرة بسبب: | الوظائف | الزراعة | الرعي |
| ٦ | أكثر مناطق وطني من حيث عدد السكان هي منطقة: | الجوف | الباحة | الرياض |
| ٧ | تقع أجزاء واسعة من المملكة العربية السعودية ضمن الحزام : | القطبي | المعتدل | الصحراوي |
| ٨ | يقع وطني المملكة العربية السعودية ضمن المنطقة التي يتسم مناخها ب : | البرودة | الثلوج | الجفاف |
| ٩ | تقع المملكة العربية السعودية من قارة اسيا في أقصى : | الشمال الشرقي | الجنوب الشرقي | الجنوب الغربي |
| ١٠ | يحد المملكة العربية السعودية من جهة الغرب : | الخليج العربي | بحر العرب | البحر الأحمر |
| ١١ | يقصد به موقع وطني المملكة العربية السعودية بالنسبة لخطوط الطول ودوائر العرض : | الموقع الاقتصادي | الموقع التاريخي | الموقع الفلكي |
| ١٢ | تهطل الأمطار في المملكة العربية السعودية بقلّة الإفي : | شرقها | شمالها | جنوبها الغربي |
| ١٣ | إنتماء الانسان إلى وطنه : | السياسة | الخيانة | المواطنة |
| ١٤ | قول الحقيقة دون تغيير وفعل ماهو صحيح : | الغش | الكذب | الصدق |
| ١٥ | يبحث عن الآثار ويكشف عنها : | عالم الطب | عالم الاقتصاد | عالم الآثار |

(ب) إختتر من المجموعة (أ) مايناسبها في المجموعة (ب) مستعينا " بالأرقام"

| المجموعة (أ) | الارقام | المجموعة (ب) |
|--------------------------------------|---------|-------------------------------|
| ١ من واجبات المواطن | () | هيئة الزكاة والضريبة والجمارك |
| ٢ من حقوق المواطن | () | الآثار |
| ٣ تعرض فيه المقتنيات التاريخية | () | المتحف |
| ٤ العلم الذي يعنى بالمواقع التاريخية | () | التعليم |
| ٥ تتولى تحصيل الضرائب | () | التزام الأنظمة |

بسم الله الرحمن الرحيم

| | | |
|--------------------------|--|-----------------------------|
| المملكة العربية السعودية |  | الفصل الدراسي الثالث |
| وزارة التعليم | | المادة: الدراسات الاجتماعية |
| إدارة تعليم | | الصف: السادس الابتدائي |
| مدرسة | | الزمن : ساعة |
| الدرجة كتابة: | | ٤٠ ٤٠ |
| اسم المصحح | توقيعه | |
| اسم المراجع | توقيعه | |

إختبار نهاية الفصل الدراسي الثالث (الدور الأول) لعام ١٤٤٦هـ

| |
|----|
| ٢٠ |
| ٢٠ |

نموذج الاجابة

اسم الطالب: ..

السؤال الأول: (أ) ضع علامة (√) أمام العبارة الصحيحة وعلامة (X) أمام العبارة الخاطئة:

| | | |
|----|---|---|
| ١ | من الأمانة الحفاظ على أسرار الناس | √ |
| ٢ | إهمال الأمانة يقود إلى عقاب في الدنيا وعقاب في الآخرة | √ |
| ٣ | خيانة الوطن مخالفة للأمانة | √ |
| ٤ | عندما أجد آثاراً قديمة أبلغ الجهات المختصة عنها | √ |
| ٥ | التعليم والصحة من حقوق المواطن | √ |
| ٦ | الأمانة تحقق الأمن للوطن وتحافظ على الدين وتمنع الفساد وتؤدي إلى الاستقرار | √ |
| ٧ | من فوائد الصدق : كسب ثقة الآخرين | √ |
| ٨ | الآثار سجل حضاري مهم للوطن لأنها تعبر عن امتداد تاريخ الوطن وتراثه | √ |
| ٩ | يحتاج المجتمع إلى مشاركة مواطنيه ومؤسساته في خدمته | √ |
| ١٠ | من فوائد المشاركة مع المجتمع تقوية التعاون بين الناس | √ |
| ١١ | التعداد السكاني : هو حصر شامل لكل الأفراد في الوطن وجمع معلومات عن خصائصهم | √ |
| ١٢ | السكان هم المواطنون والمقيمون في الوطن من ذكور وإناث | √ |
| ١٣ | مناخ وطني المملكة العربية السعودية بوجه عام بارد صيفاً وشتاءً وكثير الأمطار | X |
| ١٤ | ضريبة القيمة المضافة في وطني ٢٥ % | X |
| ١٥ | من مظاهر الصدق : الغش والكذب والتزوير | X |

(ب) ضع الكلمات التالية في الفراغات المناسبة:

| | | | | |
|-------|-----|-----------|-------------|-----|
| وهمية | ١٨٠ | خط جرينتش | خط الاستواء | ٣٦٠ |
|-------|-----|-----------|-------------|-----|

١- تتصف خطوط الطول بأنها **وهمية** وعددها **٣٦٠** خطأً ، وخطها الرئيس هو **خط جرينتش**

٢- عدد دوائر العرض **١٨٠** دائرة وخطها الرئيس هو **خط الاستواء**



يتبع

السؤال الثاني (أ) إختار الإجابة الصحيحة:

٢٠

٢٠

| | | |
|----|---|---|
| ١ | من العوامل المؤثرة في مناخ وطني المملكة العربية السعودية : | |
| ٢ | توزيع السكان في جميع مناطق وطني : | الموقع الجغرافي |
| ٣ | أكثر فئة من السكان في وطني: | الموقع السياسي |
| ٤ | واجبنا تجاه موظف الإحصاء وتعداد السكان هو: | الموقع التاريخي |
| ٥ | ينتقل الناس من البلدات الصغيرة للإقامة في المدن الكبيرة بسبب: | متفاوت |
| ٦ | أكثر مناطق وطني من حيث عدد السكان هي منطقة: | منتظم |
| ٧ | تقع أجزاء واسعة من المملكة العربية السعودية ضمن الحزام : | كبار السن |
| ٨ | يقع وطني المملكة العربية السعودية ضمن المنطقة التي يتسم مناخها ب : | صغار السن |
| ٩ | تقع المملكة العربية السعودية من قارة اسيا في أقصى : | متوسط السن |
| ١٠ | يحد المملكة العربية السعودية من جهة الغرب : | واجبنا تجاه موظف الإحصاء وتعداد السكان هو: |
| ١١ | يقصد به موقع وطني المملكة العربية السعودية بالنسبة لخطوط الطول ودوائر العرض : | التعاون معه |
| ١٢ | تهطل الأمطار في المملكة العربية السعودية بقلّة الإفي : | الوظائف |
| ١٣ | إنتماء الانسان إلى وطنه : | أكثر مناطق وطني من حيث عدد السكان هي منطقة: |
| ١٤ | قول الحقيقة دون تغيير وفعل ماهو صحيح : | الجوف |
| ١٥ | يبحث عن الآثار ويكشف عنها : | تقع أجزاء واسعة من المملكة العربية السعودية ضمن الحزام : |
| | | القطبي |
| | | البرودة |
| | | تقع المملكة العربية السعودية من قارة اسيا في أقصى : |
| | | الجنوب الشرقي |
| | | يحد المملكة العربية السعودية من جهة الغرب : |
| | | الخليج العربي |
| | | يقصد به موقع وطني المملكة العربية السعودية بالنسبة لخطوط الطول ودوائر العرض : |
| | | الموقع الاقتصادي |
| | | تهطل الأمطار في المملكة العربية السعودية بقلّة الإفي : |
| | | شرقها |
| | | إنتماء الانسان إلى وطنه : |
| | | السياسة |
| | | قول الحقيقة دون تغيير وفعل ماهو صحيح : |
| | | الغش |
| | | يبحث عن الآثار ويكشف عنها : |
| | | عالم الطب |
| | | عالم الآثار |

(ب) إختار من المجموعة (أ) مايناسبها في المجموعة (ب) مستعينا " بالأرقام"

| المجموعة (أ) | الارقام | المجموعة (ب) |
|--------------------------------------|---------|-------------------------------|
| ١ من واجبات المواطن | ٥ | هيئة الزكاة والضريبة والجمارك |
| ٢ من حقوق المواطن | ٤ | الآثار |
| ٣ تعرض فيه المقتنيات التاريخية | ٣ | المتحف |
| ٤ العلم الذي يعنى بالمواقع التاريخية | ٢ | التعليم |
| ٥ تتولى تحصيل الضرائب | ١ | التزام الأنظمة |

المصحح : التوقيع: المراجع : التوقيع: الدرجة كتابية: درجة

اسم الطالب : رقم الجلوس ()

٢٠

السؤال الأول / اختر الإجابات الصحيحة فيما يلي بوضع دائرة حولها:

| | | | | | |
|----|--|---|---------------------------|---|---------------------------|
| ١ | هي انتماء الانسان الى وطنه على أسس من القيم والاخلاق والمبادئ : | | | | |
| أ | المواطنة | ب | الأمانة | ج | الصدق |
| ٢ | عدد دوائر العرض: | | | | |
| أ | ١٨٠ دائرة | ب | ١٥٠ دائرة | ج | ١٨٠ دائرة |
| ٣ | من مظاهر الأمانة | | | | |
| أ | حفظ الأسرار | ب | اخذ شيء ليس من حقنا | ج | الرشوة |
| ٤ | خط الطول الرئيسي ودرجته صفر هو خط: | | | | |
| أ | جرينيثش | ب | السرطان | ج | الجدى |
| ٥ | من واجبات المواطن | | | | |
| أ | التزام الأنظمة | ب | العبث بالملكات العامة | ج | التزوير والغش |
| ٦ | تعرض فيه المقتنيات التاريخية | | | | |
| أ | المتحف | ب | الحديقة | ج | السوق |
| ٧ | عدد خطوط الطول: | | | | |
| أ | ٣٦٠ خطأ | ب | ٣٥٥ خطأ | ج | ٣٥٠ خطأ |
| ٨ | تبلغ مساحة وطني المملكة العربية السعودية: | | | | |
| أ | ٢.٠٠٠.٠٠٠ كم ^٢ | ب | ٣.٠٠٠.٠٠٠ كم ^٢ | ج | ٤.٠٠٠.٠٠٠ كم ^٢ |
| ٩ | المال الذي تحصله الدولة من الأشخاص والمؤسسات أو الشركات لدعم المجتمع وتطويره | | | | |
| أ | الأجور | ب | الضريبة | ج | الزكاة |
| ١٠ | من سمات الموقع الجغرافي السياسية لوطني : تحيط به | | | | |
| أ | ٦ دول عربية | ب | ٧ دول عربية | ج | ٨ دول عربية |


السؤال الثاني /: أكمل

أ - من حقوق المواطن:

١ - ٢ -

ب - تمكننا خطوط الطول من تحديد :

١ - ٢ -



السؤال الثالث/ ضع علامة (√) أمام العبارات الصحيحة وعلامة (x) أمام العبارات غير الصحيحة:

١٠

| | |
|--|-----|
| ١. ضريبة القيمة المضافة في وطني هي ١٥ % | () |
| ٢. الصدق هو قول الحقيقة دون تغيير وفعل ما هو صحيح | () |
| ٣. الموقع الفلكي هو موقع وطني بالنسبة لخطوط الطول ودوائر العرض | () |
| ٤. عندما نجد آثاراً قديمة نبلغ الجهات المختصة عنها | () |
| ٥. خطوط الطول دوائر كاملة | () |
| ٦. يحد وطني من جهة الغرب البحر الأحمر | () |
| ٧. الرياض من المدن المليونية في عدد السكان | () |
| ٨. فرضت (ضريبة السلع المنتقاه) للحد من استعمال منتجات التبغ ومشروبات الطاقة | () |
| ٩. يتميز مناخ مناطق وطني بكثرة الأمطار واعتدال الحرارة طوال العام | () |
| ١٠. تأتي المملكة في المركز السادس من بين الدول العربية من حيث المساحة | () |

السؤال الرابع / ضع الكلمات الموجودة في الجدول التالي في الفراغ المناسب:

٦

| المواطن المسؤول | دوائر العرض | التعداد السكاني | الصحراوي | الأمانة | دعم المحتاجين |
|-----------------|-------------|-----------------|----------|---------|---------------|
|-----------------|-------------|-----------------|----------|---------|---------------|

١. من فوائد المشاركة المجتمعية.

٢. إذا تحققت لدى المواطن تحقق الأمن له ولوطنه.

٣. حصر شامل لجميع أفراد الوطن وجمع معلومات عن خطائهم .

٤. هي دوائر وهمية كاملة موازية لخط الاستواء.

٥. هو الانسان ذو الخلق الحميد الملتزم لتعاليم دينه السمحة .

٦. تقع المملكة ضمن الأقليم.....

--- انتهت الأسئلة ---

الدرجة كتابية: درجة

المصحح :

رقم الجلوس ()

اسم الطالب

نموذج الاجابة

السؤال الأول / اختر الإجابات الصحيحة فيما يلي بوضع دائرة حولها:

| | | | | | | | |
|----|--|---|---------------------------|---|---------------------------|---|---------------------------|
| ١ | هي انتماء الانسان الى وطنه على أسس من القيم والاخلاق والمبادئ : | أ | المواطنة | ب | الأمانة | ج | الصدق |
| ٢ | عدد دوائر العرض: | أ | ١٨٠ دائرة | ب | ١٥٠ دائرة | ج | ١٨٠ دائرة |
| ٣ | من مظاهر الأمانة | أ | حفظ الأسرار | ب | اخذ شيء ليس من حقنا | ج | الرشوة |
| ٤ | خط الطول الرئيسي ودرجته صفر هو خط: | أ | جرينيثش | ب | السرطان | ج | الجدى |
| ٥ | من واجبات المواطن | أ | التزام الأنظمة | ب | العبث بالملكات العامة | ج | التزوير والغش |
| ٦ | تعرض فيه المقتنيات التاريخية | أ | المتحف | ب | الحديقة | ج | السوق |
| ٧ | عدد خطوط الطول: | أ | ٣٦٠ خطأ | ب | ٣٥٥ خطأ | ج | ٣٥٠ خطأ |
| ٨ | تبلغ مساحة وطني المملكة العربية السعودية: | أ | ٢.٠٠٠.٠٠٠ كم ^٢ | ب | ٣.٠٠٠.٠٠٠ كم ^٢ | ج | ٤.٠٠٠.٠٠٠ كم ^٢ |
| ٩ | المال الذي تحصله الدولة من الأشخاص والمؤسسات أو الشركات لدعم المجتمع وتطويره | أ | الأجور | ب | الضريبة | ج | الزكاة |
| ١٠ | من سمات الموقع الجغرافي السياسية لوطني : تحيط به | أ | ٦ دول عربية | ب | ٧ دول عربية | ج | ٨ دول عربية |

السؤال الثاني /: أكمل

أ - من حقوق المواطن:

١ - العناية بمستقبل المواطن... ٢ - تحقيق الاستقرار، وحفظ الأمن.

ب - تمكننا خطوط الطول من تحديد:

١ - المواقع ٢ - التوقيت

انظر خلف الورقة

السؤال الثالث/ ضع علامة (√) أمام العبارات الصحيحة وعلامة (x) أمام العبارات غير الصحيحة:

١٠

| | |
|--|-----|
| ١. ضريبة القيمة المضافة في وطني هي ١٥ % | (√) |
| ٢. الصدق هو قول الحقيقة دون تغيير وفعل ما هو صحيح | (√) |
| ٣. الموقع الفلكي هو موقع وطني بالنسبة لخطوط الطول ودوائر العرض | (√) |
| ٤. عندما نجد آثاراً قديمة نبلغ الجهات المختصة عنها | (√) |
| ٥. خطوط الطول دوائر كاملة | (x) |
| ٦. يحد وطني من جهة الغرب البحر الأحمر | (√) |
| ٧. الرياض من المدن المليونية في عدد السكان | (√) |
| ٨. فرضت (ضريبة السلع المنتقاه) للحد من استعمال منتجات التبغ ومشروبات الطاقة | (√) |
| ٩. يتميز مناخ مناطق وطني بكثرة الأمطار واعتدال الحرارة طوال العام | (x) |
| ١٠. تأتي المملكة في المركز السادس من بين الدول العربية من حيث المساحة | (x) |

السؤال الرابع / ضع الكلمات الموجودة في الجدول التالي في الفراغ المناسب:

٦

| المواطن المسؤول | دوائر العرض | التعداد السكاني | الصحراوي | الأمانة | دعم المحتاجين |
|-----------------|-------------|-----------------|----------|---------|---------------|
|-----------------|-------------|-----------------|----------|---------|---------------|

١. **دعم المحتاجين** من فوائد المشاركة المجتمعية.

٢. إذا تحققت **الأمانة** لدى المواطن تحقق الأمن له ولوطنه.

٣. **التعداد السكاني** حصر شامل لجميع أفراد الوطن وجمع معلومات عن خصائصهم .

٤. **دوائر العرض** هي دوائر وهمية كاملة موازية لخط الاستواء.

٥. **المواطن المسؤول** هو الانسان ذو الخلق الحميد الملتزم لتعاليم دينه السمحة .

٦. تقع المملكة ضمن الأقليم **الصحراوي**

موقع
مادنتيري

--- انتهت الأسئلة ---

المادة: الدراسات الاجتماعية
الصف: السادس الابتدائي
الزمن: ساعة
التاريخ:



المملكة العربية السعودية
وزارة التعليم
الإدارة العامة للتعليم بمنطقة
مدرسة

أسئلة الفصل الدراسي الثالث (الدور الأول) للعام ١٤٤٦ هـ

اسم الطالبة: رقم الجلوس:

| الدرجة كتابية | الدرجة بعد المراجعة | المراجع | الدرجة كتابية | الدرجة | المصحح |
|---------------|---------------------|---------|---------------|--------|---------|
| | | | | | |
| | | التوقيع | | | التوقيع |
| | ٤٠ | | | ٤٠ | |

السؤال الأول: أ) ضعي علامة (√) امام العبارة الصحيحة وعلامة (×) أمام العبارة الخاطئة: ٤

| | | |
|-----|---|------|
| () | المواطنة هي الانتماء للوطن على أسس القيم والاخلاق | (١) |
| () | من واجبات المواطن الأمانة والصدق | (٢) |
| () | من فوائد الصدق تقوية العلاقات بين الناس | (٣) |
| () | غياب الصدق والأمانة يؤدي الى الفساد والفوضى | (٤) |
| () | الأثار ثروة وطنية والحفاظ عليها واجب وطني | (٥) |
| () | يستفيد الوطن من الأثار لتعزيز الجانب الثقافي | (٦) |
| () | من وظائف الضرائب مالية واقتصادية واجتماعية | (٧) |
| () | تصرف الزكاة لمستحقين الضمان الاجتماعي (الأسر المحتاجة) | (٨) |
| () | عندما أجد اثار قديمة أبلغ الجهات المختصة عنها | (٩) |
| () | تدور الأرض حول محورها مدة ٢٤ ساعة | (١٠) |
| () | مناخ المملكة العربية السعودية بارد وكثير الأمطار | (١١) |
| () | خطوط الطول هي عبارة عن دوائر كاملة حقيقية | (١٢) |
| () | قيمة ضريبة الدخل في المملكة ٤٠٪ | (١٣) |
| () | تأسست هيئة الزكاة والضريبة والجمارك في عهد الملك عبدالله بن عبدالعزيز | (١٤) |

(ب) اختاري الإجابة الصحيحة فيما يأتي:

١٤

| | | | | |
|----|--|---|-------------------|---------------|
| ١ | من أمثلة الاعمال والتنقيب الأثري في وطني..... | | | |
| أ | الفاو | ب | سكاكا | ج الطائف |
| ٢ | هي الأماكن التي تعرض فيها الآثار والقصص التاريخية..... | | | |
| أ | المتاحف | ب | المدارس | ج الملاعب |
| ٣ | ضريبة القيمة المضافة في وطني..... | | | |
| أ | ١٥% | ب | ٢٥% | ج ٣٠% |
| ٤ | عدد خطوط الطول..... | | | |
| أ | ٣٦٠ | ب | ١٢٠ | ج ١٨٠ |
| ٥ | أكثر سكان المملكة من فئة..... | | | |
| أ | شباب | ب | كبار السن | ج صغار السن |
| ٦ | ينتقل الناس من البلدان الصغيرة الى المدن بسبب..... | | | |
| أ | الوظائف | ب | الزراعة | ج الرعي |
| ٧ | خط الطول الرئيسي و درجته صفر هو..... | | | |
| أ | جرينتش | ب | الجدى | ج السرطان |
| ٨ | العلم الذي يعتني بالمواقع التاريخية هو..... | | | |
| أ | الاثار | ب | الطب | ج الهندسة |
| ٩ | من أنواع الصدق في القول..... | | | |
| أ | تجنب الكذب | ب | الغش | ج اتقان العمل |
| ١٠ | من فوائد المشاركة المجتمعية..... | | | |
| أ | عدم التعاون | ب | دعم المحتاجين | ج عدم الثقة |
| ١١ | تقع أجزاء واسعة من المملكة العربية السعودية ضمن الحزام | | | |
| أ | البارد | ب | الصحرا | ج القطبي |
| ١٢ | تمكنا خطوط الطول من تحديد..... | | | |
| أ | المناخ | ب | المواقع والتواقيت | ج الزلازل |
| ١٣ | تحيط بالمملكة العربية السعودية.....عربية | | | |
| أ | خمس دول | ب | ثماني دول | ج ستة دول |
| ١٤ | تربط المملكة العربية السعودية بين..... قارات | | | |
| أ | خمس | ب | ثلاث | ج أربعة |

السؤال الثاني: أ) أملئ الفراغات بالكلمات المساعدة:

الموقع الجغرافي

السكان

التعليم والصحة

الضريبة

- ١) هم المواطنون والمقيمون في الوطن من ذكور وإناث
- ٢) من حقوق المواطن
- ٣) المال الذي تحصله الدولة من الأشخاص والشركات
- ٤) يقصد به موقع المملكة العربية السعودية بالنسبة للعالم والدول المجاورة

| (ب) | (أ) |
|-----------------|---|
| التزام النظام | ١) حصر شامل لكل الأفراد في الوطن |
| الصدق | ٢) من السمات الدينية والثقافية في وطني وجود |
| قبلة المسلمين | ٣) هو قول الحقيقة دون تغيير وتزييف |
| التعداد السكاني | ٤) من مظاهر الأمانة |

السؤال الثالث: أذكرني فقط ٤ من واجبات المواطن :

- ١-
- ٢-
- ٣-
- ٤-

انتهت الأسئلة
والله الموفق

المادة: الدراسات الاجتماعية
الصف : سادس الابتدائي
الزمن : ساعة
التاريخ:



المملكة العربية السعودية
وزارة التعليم
الإدارة العامة للتعليم بمنطقة

مدرسة

نموذج إجابة الفصل الدراسي الثالث (الدور الأول) للعام ١٤٤٦ هـ

اسم الطالبة:
نموذج الإجابة

| الدرجة كتابية | سرعة بعد المراجعة | المراجع | الدرجة كتابية | الدرجة | المصحح |
|---------------|-------------------|---------|---------------|--------|---------|
| | | | | | |
| | | التوقيع | | | التوقيع |
| | ٤٠ | | | ٤٠ | |

السؤال الأول: أ) ضع علامة (√) امام العبارة الصحيحة وعلامة (×) أمام العبارة الخاطئة: ٤

| | |
|---------|--|
| (صح) | (١) المواطنة هي الانتماء للوطن على أسس القيم والأخلاق |
| (صح) | (٢) من واجبات المواطن الأمانة والصدق |
| (صح) | (٣) من فوائد الصدق تقوية العلاقات بين الناس |
| (صح) | (٤) غياب الصدق والأمانة يؤدي الى الفساد والفوضى |
| (صح) | (٥) الأثار ثروة وطنية والحفاظ عليها واجب وطني |
| (صح) | (٦) يستفيد الوطن من الأثار لتعزيز الجانب الثقافي |
| (صح) | (٧) من وظائف الضرائب مالية واقتصادية واجتماعية |
| (صح) | (٨) تصرف الزكاة لمستحقين الضمان الاجتماعي (الأسر المحتاجة) |
| (صح) | (٩) عندما أجد اثار قديمة أبلغ الجهات المختصة عنها |
| (صح) | (١٠) تدور الأرض حول محورها مدة ٢٤ ساعة |
| (خطأ) | (١١) مناخ المملكة العربية السعودية بارد وكثير الأمطار |
| (خطأ) | (١٢) خطوط الطول هي عبارة عن دوائر كاملة حقيقية |
| (خطأ) | (١٣) قيمة ضريبة الدخل في المملكة ٤٠٪ |
| (خطأ) | (١٤) تأسست هيئة الزكاة والضريبة والجمارك في عهد الملك عبدالله بن عبدالعزيز |

← يتبع

(ب) اختاري الإجابة الصحيحة فيما يأتي:

١٤

| | | | | |
|----|--|---|------------------|---------------|
| ١ | من أمثلة الاعمال والتنقيب الأثري في وطني..... | | | |
| أ | الفاو | ب | سكاكا | ج الطائف |
| ٢ | هي الأماكن التي تعرض فيها الآثار والقصص التاريخية..... | | | |
| أ | المتاحف | ب | المدارس | ج الملاعب |
| ٣ | ضريبة القيمة المضافة في وطني..... | | | |
| أ | ١٥% | ب | ٢٥% | ج ٣٠% |
| ٤ | عدد خطوط الطول..... | | | |
| أ | ٣٦٠ | ب | ١٢٠ | ج ١٨٠ |
| ٥ | أكثر سكان المملكة من فئة..... | | | |
| أ | شباب | ب | كبار السن | ج صغار السن |
| ٦ | ينتقل الناس من البلدان الصغيرة الى المدن بسبب..... | | | |
| أ | الوظائف | ب | الزراعة | ج الرعي |
| ٧ | خط الطول الرئيسي و درجته صفر هو..... | | | |
| أ | جرينتش | ب | الجدى | ج السرطان |
| ٨ | العلم الذي يعتني بالمواقع التاريخية هو..... | | | |
| أ | الاثار | ب | الطب | ج الهندسة |
| ٩ | من أنواع الصدق في القول..... | | | |
| أ | تجنب الكذب | ب | الغش | ج اتقان العمل |
| ١٠ | من فوائد المشاركة المجتمعية..... | | | |
| أ | عدم التعاون | ب | دعم المحتاجين | ج عدم الثقة |
| ١١ | تقع أجزاء واسعة من المملكة العربية السعودية ضمن الحزام | | | |
| أ | البارد | ب | الصحراوي المداري | ج القطبي |
| ١٢ | تمكنا خطوط الطول من تحديد..... | | | |
| أ | المناخ | ب | المواقع والتوقيت | ج الزلازل |
| ١٣ | تحيط بالمملكة العربية السعودية.....عربية | | | |
| أ | خمس دول | ب | ثماني دول | ج ستة دول |
| ١٤ | تربط المملكة العربية السعودية بين..... قارات | | | |
| أ | خمس | ب | ثلاث | ج أربعة |

السؤال الثاني: أ) أملئ الفراغات بالكلمات المساعدة:

٤

الموقع الجغرافي

السكان

التعليم والصحة

الضريبة

١) هم المواطنون والمقيمون في الوطن من ذكور وإناث **السكان**

٢) من حقوق المواطن **التعليم والصحة**

٣) المال الذي تحصله الدولة من الأشخاص والشركات **الضريبة**

٤) يقصد به موقع المملكة العربية السعودية بالنسبة للعالم والدول المجاورة **الموقع الجغرافي**

٤

| (ب) | | (أ) |
|-----------------|---|---|
| التزام النظام | ٤ | ١) حصر شامل لكل الأفراد في الوطن |
| الصدق | ٣ | ٢) من السمات الدينية والثقافية في وطني وجود |
| قبلة المسلمين | ٢ | ٣) هو قول الحقيقة دون تغيير وتزييف |
| التعداد السكاني | ١ | ٤) من مظاهر الأمانة |

السؤال الثالث: أذكرني فقط ٤ من واجبات المواطن :

٤

١- الأمانة و الصدق / التزام المسؤولية

٢- الفخر بالوطن و تراثه / المشاركة المجتمعية

٣- المحافظة على البيئة / المحافظة على الممتلكات العامة والخاصة

٤- التزام الأنظمة / التميز والابداع في الدراسة والعمل

انتهت الأسئلة

والله الموفق

رقم الجلوس

| الدرجة | المصحح | التوقيع | المراجع | التوقيع |
|--------|--------|---------|---------|---------|
| ٤٠ | | | | |

اسم الطالب

اختبار مادة الدراسات الاجتماعية للفصل الدراسي الثالث ١٤٤٦ هـ
استعن بالله ثم أجب على جميع الأسئلة التالية

٢٠

السؤال الأول :-

ضع علامة (√) امام العبارة الصحيحة وعلامة (×) امام العبارة الخاطئة ممايلي :-

١. من الأمانة الحفاظ على أسرار الناس ()
٢. تقع المملكة العربية السعودية في أقصى الجنوب الغربي لقارة اسيا ()
٣. من السمات الدينية والثقافية لوطني أن فيه الحرمين الشريفين ()
٤. خيانة الوطن مخالفة للأمانة ()
٥. يقطع خط جرينتش الكرة الأرضية من الشمال إلى الجنوب ()
٦. يزداد التوقيت ساعة واحدة كلما اتجهنا شرق خط جرينتش بمقدار ١٥ خطأً ()
٧. تساعدنا دوائر العرض على معرفة التوقيت ()
٨. خطوط الطول دوائر كاملة ()
٩. مناخ المملكة العربية السعودية بارد صيفا معتدل شتاءً ()
١٠. ضريبة القيمة المضافة في وطني تبلغ ٢٥ % ()

٤

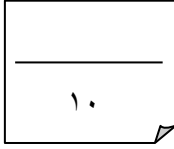
السؤال الثاني :-

اختر الرقم من العمود (أ) وضعه امام ما يناسبه من العمود (ب) :

- | | |
|---------------------------------------|--------------------|
| (أ) | (ب) |
| ١- من واجبات المواطن | () المتحف |
| ٢- من حقوق المواطن | () الاثار |
| ٣- العلم الذي يعنى بالمواقع التاريخية | () التعليم |
| ٤- تعرض فيه المقتنيات التاريخية | () التزام الأنظمة |

ابني الغالي باقي الأسئلة في الخلف ...

السؤال الثالث:-

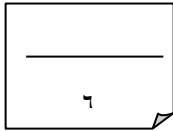


ضع الكلمات التالية بما يناسبها من الفراغات :

(موازية - متساوية - القطبين - ٣٦٠ - وهمية)

- ١ . تتصف خطوط الطول بأنها وعددها خط .
- ٢ . تلتقي جميع خطوط الطول عند
- ٣ . تتصف دوائر العرض بأنها و لخط الأستواء

السؤال الرابع:-



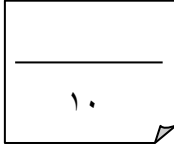
ضع خطا تحت الإجابة الصحيحة من بين الأقواس التالية :

- ١- توزيع السكان في جميع مناطق وطني (متغير باستمرار - متساوي - متفاوت)
- ٢- أكثر فئة من السكان في وطني (متوسطو السن - صغار السن - كبار السن)
- ٣- ينتقل الناس من البلدات الصغيرة للإقامة في المدن الكبيرة بسبب (الوظائف - الزراعة - الرعي)

(انتهت الأسئلة)

موقع مادنتري

السؤال الثالث:-

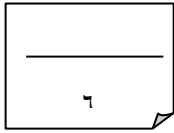


ضع الكلمات التالية بما يناسبها من الفراغات :

(موازية - متساوية - القطبين - ٣٦٠ - وهمية)

- ١ . تتصف خطوط الطول بأنها **متساوية** وعددها**٣٦٠**... خط .
- ٢ . تلتقي جميع خطوط الطول عند **القطبين**...
- ٣ . تتصف دوائر العرض بأنها **وهمية ومتوازية** خط الأستواء

السؤال الرابع :-



ضع خطا تحت الإجابة الصحيحة من بين الأقواس التالية :

- ١- توزيع السكان في جميع مناطق وطني (متغير باستمرار - متساوي - متفاوت)
- ٢- أكثر فئة من السكان في وطني (متوسطو السن - صغار السن - كبار السن)
- ٣- ينتقل الناس من البلدات الصغيرة للإقامة في المدن الكبيرة بسبب (الوظائف - الزراعة - الرعي)

(انتهت الأسئلة)

موقع مادنتري

المادة : الدراسات الاجتماعية
الصف : السادس
الزمن : ساعة
اليوم :
التاريخ : / / ١٤٤٦ هـ



المملكة العربية السعودية
وزارة التعليم
إدارة تعليم
مدرسة

اختبار مادة الدراسات الاجتماعية للصف السادس الابتدائي الفصل الدراسي الثالث (الدور الأول) لعام ١٤٤٦ هـ

اسم الطالب :

| اسم المدقق | اسم المراجع | اسم المصحح | الدرجة كتابة | الدرجة | ٢س | ١س |
|------------|-------------|------------|-----------------|--------|----|----|
| التوقيع | التوقيع | التوقيع | أربعون درجة فقط | ٤٠ | ٢٠ | ٢٠ |

السؤال الأول: ضع علامة (√) أمام العبارة الصحيحة وعلامة (×) أمام العبارة الخاطئة :

٢٠

| م | العبارة | الإجابة |
|----|--|---------|
| ١ | عالم الآثار يحلل المعلومات، ويربطها بالامتداد التاريخي. | |
| ٢ | يستفاد من الآثار أنها مورد سياحي للوطن | |
| ٣ | دعم المحتاجين من فوائد المشاركة في المجتمع | |
| ٤ | يؤثر الموقع الفلكي في مناخ وطني المملكة العربية السعودية | |
| ٥ | يتمتع مواطنو المملكة العربية السعودية بكامل حقوقهم . | |
| ٦ | المواطن المسؤول هو: ذو الخلق الحميد، الملتزم بتعاليم دينه السمحة، والمنتمي لوطنه. | |
| ٧ | خطوط الطول وهمية ترسم على الخرائط ومجسمات الكرة الأرضية | |
| ٨ | تمكّننا دوائر العرض من تحديد المواقع | |
| ٩ | للضرائب وظائف عدة منها: اقتصادية، ومالية، واجتماعية. | |
| ١٠ | يحتاج المجتمع إلى مشاركة المواطنين بما لديهم لخدمة الآخرين | |
| ١١ | للمشاركة المجتمعية ضوابط مهمة لحماية الطلبة وتحقيق أثر كبير | |
| ١٢ | من أنواع الصدق في القول تجنب الكذب | |
| ١٣ | من فوائد الصدق كسب ثقة الآخرين | |
| ١٤ | من مظاهر الأمانة حفظ حقوق الآخرين | |
| ١٥ | المواطنة انتماء الإنسان إلى وطنه على أسس من القيم، والأخلاق، والمبادئ مع التمتع بالحقوق وأداء الواجبات . | |
| ١٦ | السكان هم المواطنون في الوطن من ذكور وإناث | |
| ١٧ | المحافظة على الممتلكات العامة، والخاصة من أبرز حقوق المواطن. | |
| ١٨ | شهد وطني المملكة العربية السعودية حضارة واحدة فقط | |
| ١٩ | الأمانة هي قول الحقيقة دون تغيير، وفعل ما هو صحيح. | |
| ٢٠ | يجرى التعداد السكاني لتحديد عدد السكان | |

تابع بقية الأسئلة

| | | | | |
|----|--|----------------------------------|--------------------------------------|---------------------------|
| ١ | من أمثلة أعمال التنقيب الأثري في وطني وتقع في وادي الدوأسر | أ الفاو | ب الرَبْدَة | ج جُرْش |
| ٢ | من أمثلة أعمال التنقيب الأثري في وطني وتقع في جنوب شرق المدينة المنورة | أ الرَبْدَة | ب جُرْش | ج الفاو |
| ٣ | من أمثلة أعمال التنقيب الأثري في وطني وتقع في جنوب خميس مشيط | أ جُرْش | ب الرَبْدَة | ج الفاو |
| ٤ | تهتم هيئة التراث في وزارة بالآثار في مناطق المملكة العربية السعودية وتعتني بها | أ الثقافة | ب التعليم | ج السياحة |
| ٥ | تفرض على ما يحصل عليه غير السعوديين من دخل غير الرواتب | أ ضريبة الدخل | ب ضريبة القيمة المضافة | ج ضريبة السلع المنتقاة |
| ٦ | تفرض على بعض السلع لتقليل استخدامها، والحد من أضرارها. | أ ضريبة السلع المنتقاة | ب ضريبة القيمة المضافة | ج ضريبة الدخل |
| ٧ | تفرض على السلع، والخدمات في مراحل البيع، والشراء | أ ضريبة القيمة المضافة | ب ضريبة السلع المنتقاة | ج ضريبة الدخل |
| ٨ | انتماء الإنسان إلى وطنه على أسس من القيم، والأخلاق، والمبادئ | أ المواطنة | ب الحقوق | ج الواجبات |
| ٩ | قول الحقيقة دون تغيير، وفعل ما هو صحيح | أ الصدق | ب الكذب | ج الإشاعة |
| ١٠ | سجل حضاري مهم للوطن؛ لأنها تعبر عن امتداد تاريخه، وتراثه | أ الآثار | ب المتاحف | ج السياحة |
| ١١ | خط الطول الرئيس هو خط | أ الاستواء | ب جرينتش | ج الجدي |
| ١٢ | تمكّنا خطوط الطول من | أ تحديد المناخ | ب تحديد التوقيت | ج معرفة الظواهر الفلكية |
| ١٣ | قسم الوقت حسب المناطق الزمنية إلى منطقة زمنية | أ ٢٥ | ب ٢٤ | ج ٢٣ |
| ١٤ | يبلغ عدد خطوط الطول | أ ٣٧٠ | ب ٣٦٠ | ج ٣٥٠ |
| ١٥ | يكثر السكان في لوجود خدمات وفرص عمل | أ القرى | ب المدن | ج الهجر |
| ١٦ | يقع مدار في شمال خط الاستواء | أ الجدي | ب السرطان | ج المريخ |
| ١٧ | مناخ الربع الخالي | أ بارد صيفاً ترتفع فيه الرطوبة | ب حار صيفاً بارد شتاءً شديد الجفاف | ج معتدل |
| ١٨ | سبب انخفاض درجات الحرارة على المرتفعات الجبلية في غرب المملكة نتيجة | أ الأمطار | ب الارتفاع | ج الانخفاض |
| ١٩ | تهطل الأمطار في المملكة العربية السعودية بقلة إلا في | أ الشمال | ب الجنوب الغربي | ج الشرق |
| ٢٠ | هو حصر شامل لكل الأفراد الوطن وجمع المعلومات عن خصائصهم | أ السكان | ب التعداد السكاني | ج الاقتصاد السكاني |

المادة : الدراسات الاجتماعية
الصف : السادس
الزمن : ساعة
اليوم :
التاريخ : / / ١٤٤٦ هـ



المملكة العربية السعودية
وزارة التعليم
إدارة تعليم
مدرسة

اختبار مادة الدراسات الاجتماعية للصف السادس الابتدائي
الفصل الدراسي الثالث (الدور الأول) لعام ١٤٤٦ هـ

نموذج الاجابة

اسم الطالب

| اسم المدقق | الدرجة | ١ س | ٢ س | الدرجة | الدرج |
|------------|---------|---------|-----------------|--------|-------|
| التوقيع | التوقيع | التوقيع | أربعون درجة فقط | ٤٠ | ٢٠ |
| | | | | | |

السؤال الأول: ضع علامة (√) أمام العبارة الصحيحة وعلامة (×) أمام العبارة الخاطئة :

٢٠

| م | العبارة | الإجابة |
|----|--|---------|
| ١ | عالم الآثار يحلل المعلومات، ويربطها بالامتداد التاريخي. | √ |
| ٢ | يستفاد من الآثار أنها مورد سياحي للوطن | √ |
| ٣ | دعم المحتاجين من فوائد المشاركة في المجتمع | √ |
| ٤ | يؤثر الموقع الفلكي في مناخ وطني المملكة العربية السعودية | √ |
| ٥ | يتمتع مواطنو المملكة العربية السعودية بكامل حقوقهم . | √ |
| ٦ | المواطن المسؤول هو: ذو الخلق الحميد، الملتزم بتعاليم دينه السمحة، والمنتمي لوطنه. | √ |
| ٧ | خطوط الطول وهمية ترسم على الخرائط ومجسمات الكرة الأرضية | √ |
| ٨ | تمكّننا دوائر العرض من تحديد المواقع | √ |
| ٩ | للضرائب وظائف عدة منها: اقتصادية، ومالية، واجتماعية. | √ |
| ١٠ | يحتاج المجتمع إلى مشاركة المواطنين بما لديهم لخدمة الآخرين | √ |
| ١١ | للمشاركة المجتمعية ضوابط مهمة لحماية الطلبة وتحقيق أثر كبير | √ |
| ١٢ | من أنواع الصدق في القول تجنب الكذب | √ |
| ١٣ | من فوائد الصدق كسب ثقة الآخرين | √ |
| ١٤ | من مظاهر الأمانة حفظ حقوق الآخرين | √ |
| ١٥ | المواطنة انتماء الإنسان إلى وطنه على أسس من القيم، والأخلاق، والمبادئ مع التمتع بالحقوق وأداء الواجبات . | √ |
| ١٦ | السكان هم المواطنون في الوطن من ذكور وإناث | × |
| ١٧ | المحافظة على الممتلكات العامة، والخاصة من أبرز حقوق المواطن. | × |
| ١٨ | شهد وطني المملكة العربية السعودية حضارة واحدة فقط | × |
| ١٩ | الأمانة هي قول الحقيقة دون تغيير، وفعل ما هو صحيح. | × |
| ٢٠ | يجرى التعداد السكاني لتحديد عدد السكان | × |

تابع بقية الأسئلة

السؤال الثاني: اختر الإجابة الصحيحة:

٢٠

| | | | | | | | |
|----|--|---|------------------------------|---|---|---|-----------------------|
| ١ | من أمثلة أعمال التنقيب الأثري في وطني وتقع في وادي الدوأسر | أ | <u>الفاو</u> | ب | الرَبْدَة | ج | جُرْش |
| ٢ | من أمثلة أعمال التنقيب الأثري في وطني وتقع في جنوب شرق المدينة المنورة | أ | <u>الرَبْدَة</u> | ب | جُرْش | ج | الفاو |
| ٣ | من أمثلة أعمال التنقيب الأثري في وطني وتقع في جنوب خميس مشيط | أ | <u>جُرْش</u> | ب | الرَبْدَة | ج | الفاو |
| ٤ | تهتم هيئة التراث في وزارة بالآثار في مناطق المملكة العربية السعودية وتعتني بها | أ | <u>الثقافة</u> | ب | التعليم | ج | السياحة |
| ٥ | تفرض على ما يحصل عليه غير السعوديين من دخل غير الرواتب | أ | <u>ضريبة الدخل</u> | ب | ضريبة القيمة المضافة | ج | ضريبة السلع المنتقاة |
| ٦ | تفرض على بعض السلع لتقليل استخدامها، والحد من أضرارها. | أ | <u>ضريبة السلع المنتقاة</u> | ب | ضريبة القيمة المضافة | ج | ضريبة الدخل |
| ٧ | تفرض على السلع، والخدمات في مراحل البيع، والشراء | أ | <u>ضريبة القيمة المضافة</u> | ب | ضريبة السلع المنتقاة | ج | ضريبة الدخل |
| ٨ | انتماء الإنسان إلى وطنه على أسس من القيم، والأخلاق، والمبادئ | أ | <u>المواطنة</u> | ب | الحقوق | ج | الواجبات |
| ٩ | قول الحقيقة دون تغيير، وفعل ما هو صحيح | أ | <u>الصدق</u> | ب | الكذب | ج | الإشاعة |
| ١٠ | سجل حضاري مهم للوطن؛ لأنها تعبر عن امتداد تاريخه، وتراثه | أ | <u>الآثار</u> | ب | المتاحف | ج | السياحة |
| ١١ | خط الطول الرئيس هو خط | أ | الاستواء | ب | <u>جرينتش</u> | ج | الجدى |
| ١٢ | تمكّنا خطوط الطول من | أ | تحديد المناخ | ب | <u>تحديد التوقيت</u> | ج | معرفة الظواهر الفلكية |
| ١٣ | قسم الوقت حسب المناطق الزمنية إلى منطقة زمنية | أ | ٢٥ | ب | <u>٢٤</u> | ج | ٢٣ |
| ١٤ | يبلغ عدد خطوط الطول | أ | ٣٧٠ | ب | <u>٣٦٠</u> | ج | ٣٥٠ |
| ١٥ | يكثر السكان في لوجود خدمات وفرص عمل | أ | القرى | ب | <u>المدن</u> | ج | الهجر |
| ١٦ | يقع مدار في شمال خط الاستواء | أ | الجدى | ب | <u>السرطان</u> | ج | المريخ |
| ١٧ | مناخ الربع الخالي | أ | بارد صيفاً ترتفع فيه الرطوبة | ب | <u>حار صيفاً بارد شتاءً شديد الجفاف</u> | ج | معتدل |
| ١٨ | سبب انخفاض درجات الحرارة على المرتفعات الجبلية في غرب المملكة نتيجة | أ | الأمطار | ب | <u>الارتفاع</u> | ج | الانخفاض |
| ١٩ | تهطل الأمطار في المملكة العربية السعودية بقلة إلا في | أ | الشمال | ب | <u>الجنوب الغربي</u> | ج | الشرق |
| ٢٠ | هو حصر شامل لكل الأفراد الوطن وجمع المعلومات عن خصائصهم | أ | السكان | ب | <u>التعداد السكاني</u> | ج | الاقتصاد السكاني |

انتهت الأسئلة ،،،، مع تمنياتي لكم بالتوفيق والنجاح موقع

معلم المادة /

اختبار الفصل الدراسي الثالث (الدور الأول) لعام ١٤٤٦ هـ

أسم الطالب :

| اسم المراجع | اسم المصحح | الدرجة كتابة | الدرجة رقماً | س ٢ | س ١ |
|-------------|------------|-----------------|--------------|-----|-----|
| التوقيع | التوقيع | أربعون درجة فقط | ٤٠ | ٢٠ | ٢٠ |
| | | | | | |

السؤال الأول: ضع علامة (√) أمام العبارة الصحيحة وعلامة (X) أمام العبارة الخاطئة :

| م | العبارة | الإجابة |
|----|---|---------|
| ١ | المواطن المسؤول هو: ذو الخلق الحميد، الملتزم بتعاليم دينه السمحة، والمنتمي لوطنه. | |
| ٢ | عالم الآثار يحلل المعلومات، ويربطها بالامتداد التاريخي. | |
| ٣ | يستفاد من الآثار أنها مورد سياحي للوطن | |
| ٤ | للضرائب وظائف عدة منها: اقتصادية، ومالية، واجتماعية. | |
| ٥ | خطوط الطول وهمية ترسم على الخرائط ومجسمات الكرة الأرضية | |
| ٦ | الأمانة هي قول الحقيقة دون تغيير، وفعل ما هو صحيح. | |
| ٧ | المحافظة على الممتلكات العامة، والخاصة من أبرز حقوق المواطن. | |
| ٨ | شهد وطني المملكة العربية السعودية حضارة واحدة فقط | |
| ٩ | السكان هم المواطنون في الوطن من ذكور وإناث | |
| ١٠ | يجرى التعداد السكاني لتحديد عدد السكان | |

السؤال الثاني: اختر الإجابة الصحيحة:

٢٠

| | | | |
|--|----------------------------------|---|------------------------------|
| الجهة التي تتولى تحصيل الضرائب، ومتابعتها في وطني هي الهيئة العامة لـ..... | | | |
| أ | الزكاة، والدخل | ب | الترفيه |
| ج | السياحة | | |
| انتماء الإنسان إلى وطنه على أسس من القيم، والأخلاق، والمبادئ | | | |
| أ | المواطنة | ب | الحقوق |
| ج | الواجبات | | |
| قول الحقيقة دون تغيير، وفعل ما هو صحيح | | | |
| أ | الصدق | ب | الكذب |
| ج | الإشاعة | | |
| المعلومات و يربطها بالامتداد التاريخي | | | |
| أ | عالم الآثار | ب | عالم التاريخ |
| ج | عالم الجغرافيا | | |
| من أمثلة أعمال التنقيب الأثري في وطني وتقع في وادي الدواسر | | | |
| أ | الفاو | ب | الرَبْدَة |
| ج | جُرَش | | |
| خط الطول الرئيس هو خط | | | |
| أ | الجدبي | ب | الاستواء |
| ج | جرينتش | | |
| تمكّنا خطوط الطول من | | | |
| أ | معرفة الظواهر الفلكية | ب | تحديد المناخ |
| ج | تحديد التوقيت | | |
| قسم الوقت حسب المناطق الزمنية إلى منطقة زمنية | | | |
| أ | ٢٦ | ب | ٢٥ |
| ج | ٢٤ | | |
| يبلغ عدد خطوط الطول | | | |
| أ | ٣٨٠ | ب | ٣٧٠ |
| ج | ٣٦٠ | | |
| مناخ الربع الخالي | | | |
| أ | معتدل | ب | بارد صيفاً ترتفع فيه الرطوبة |
| ج | حار صيفاً بارد شتاءً شديد الجفاف | | |

انتهت الأسئلة ،،،، مع تمنياتي لكم بالتوفيق والنجاح ،،،، معلم المادة /

المادة : الدراسات الاجتماعية
الصف : سادس
الزمن : ساعة ونصف

المملكة العربية السعودية
وزارة التعليم
إدارة تعليم
مدرسة

اختبار الفصل الدراسي الثالث (الدور الأول) لعام ١٤٤٦ هـ

نموذج الاجابة

| اسم المراجع | الدرجة حسابها | الدرجة ربما | ٢ س | ١ س |
|-------------|---------------|-----------------|-----|-----|
| التوقيع | التوقيع | أربعون درجة فقط | ٤٠ | ٢٠ |

السؤال الأول: ضع علامة (√) أمام العبارة الصحيحة وعلامة (X) أمام العبارة الخاطئة :

| م | العبارة | الإجابة |
|----|---|---------|
| ١ | المواطن المسؤول هو: ذو الخلق الحميد، الملتزم بتعاليم دينه السمحة، والمنتمي لوطنه. | √ |
| ٢ | عالم الآثار يحلل المعلومات، ويربطها بالامتداد التاريخي. | √ |
| ٣ | يستفاد من الآثار أنها مورد سياحي للوطن | √ |
| ٤ | للضرائب وظائف عدة منها: اقتصادية، ومالية، واجتماعية. | √ |
| ٥ | خطوط الطول وهمية ترسم على الخرائط ومجسمات الكرة الأرضية | √ |
| ٦ | الأمانة هي قول الحقيقة دون تغيير، وفعل ما هو صحيح. | × |
| ٧ | المحافظة على الممتلكات العامة، والخاصة من أبرز حقوق المواطن. | × |
| ٨ | شهد وطني المملكة العربية السعودية حضارة واحدة فقط | × |
| ٩ | السكان هم المواطنون في الوطن من ذكور وإناث | × |
| ١٠ | يجرى التعداد السكاني لتحديد عدد السكان | × |

السؤال الثاني: اختر الاجابة الصحيحة:

٢٠

| | | | |
|--|---|---|------------------------------|
| الجهة التي تتولى تحصيل الضرائب، ومتابعتها في وطني هي الهيئة العامة لـ..... | | | |
| أ | <u>الزكاة، والدخل</u> | ب | الترفيه |
| ج | السياحة | | |
| انتماء الإنسان إلى وطنه على أسس من القيم، والأخلاق، والمبادئ | | | |
| أ | <u>المواطنة</u> | ب | الحقوق |
| ج | الواجبات | | |
| قول الحقيقة دون تغيير، وفعل ما هو صحيح | | | |
| أ | <u>الصدق</u> | ب | الكذب |
| ج | الإشاعة | | |
| المعلومات و يربطها بالامتداد التاريخي | | | |
| أ | <u>عالم الآثار</u> | ب | عالم التاريخ |
| ج | عالم الجغرافيا | | |
| من أمثلة أعمال التنقيب الأثري في وطني وتقع في وادي الدواسر | | | |
| أ | <u>الفاو</u> | ب | الرَبْدَة |
| ج | جُرَش | | |
| خط الطول الرئيس هو خط | | | |
| أ | الجدبي | ب | الاستواء |
| ج | <u>جرينتش</u> | | |
| تمكنا خطوط الطول من | | | |
| أ | معرفة الظواهر الفلكية | ب | تحديد المناخ |
| ج | <u>تحديد التوقيت</u> | | |
| قسم الوقت حسب المناطق الزمنية إلى منطقة زمنية | | | |
| أ | ٢٦ | ب | ٢٥ |
| ج | <u>٢٤</u> | | |
| يبلغ عدد خطوط الطول | | | |
| أ | ٣٨٠ | ب | ٣٧٠ |
| ج | <u>٣٦٠</u> | | |
| مناخ الربع الخالي | | | |
| أ | معتدل | ب | بارد صيفاً ترتفع فيه الرطوبة |
| ج | <u>حار صيفاً بارد شتاءً شديد الجفاف</u> | | |

انتهت الأسئلة ،،،، مع تمنياتي لكم بالتوفيق والنجاح ،،،، معلم المادة /

| | | | |
|---|--|--|--------------------|
| المملكة العربية السعودية وزارة التعليم الإدارة العامة للتعليم محافظة | المعلم المرحلة الصف المادة الزمن | الفصل الدراسي الثالث - الاختبار النهائي العام الدراسي ١٤٤٦ هـ رؤية VISION 2030 وزارة التعليم | اسم الطالب / |
| اللايتدائية | السادس | الدراسات الاجتماعية | ٩٠ دقيقة |

١٢

السؤال الاول : اختار الإجابة الصحيحة فيما يلي بوضع دائرة عليها :-

| | | | | |
|----|--|-----------------------|--------------------|-----------------------|
| ١ | اطلق خادم الحرمين الشريفين الملك سلمان بن عبد العزيز رؤية المملكة ٢٠٣٠ في عام : | ١٤٣٧ هـ | ١٤٣٠ هـ | ١٤٣٤ هـ |
| ٢ | تحضير الطلبة لمهن المستقبل وتحسين التعليم ومخرجاته من اهم مجالات برنامج : | التحول الوطني | جودة الحياة | تنمية القدرات البشرية |
| ٣ | تقع المملكة العربية السعودية في قارة اسيا . | جنوب شرق | جنوب غرب | شمال شرق |
| ٤ | يقع وطني المملكة العربية السعودية في نطاق المنطقة : | الباردة | المعتدلة | الحارة |
| ٥ | بلغ عدد برامج تحقيق رؤية المملكة ٢٠٣٠ : | ١٣ برنامج | ١٥ برنامج | ١٧ برنامج |
| ٦ | تبلغ مساحة وطني المملكة العربية السعودية | ٢ مليون كم | ٣ مليون كم | ٥ مليون كم |
| ٧ | تولى خادم الحرمين الشريفين الملك سلمان حكم المملكة العربية السعودية عام : | ١٤٣٦ هـ | ١٤٣٣ هـ | ١٤٣٠ هـ |
| ٨ | من إنسانية خادم الحرمين الشريفين الملك سلمان دعمه للجمعية الخيرية لرعاية الايتام تدل على انه : | التفاخر | التكبر | حب الخير |
| ٩ | قضى الملك سلمان بن عبد العزيز أميراً على منطقة الرياض حوالي : | ٥٠ عام | ٥٨ عام | ٥٤ عام |
| ١٠ | انشأ المركز العالمي لمكافحة الفكر المتطرف (اعتدال) في عهد الملك : | عبدالله بن عبد العزيز | فيصل بن عبد العزيز | سلمان بن عبد العزيز |



اسم الطالب :

| | | | | |
|----|---|---------|--------|-----------|
| ١١ | من جوانب عناية خادم الحرمين الشريفين بالتاريخ والتراث افتتاح حي الطريف في : | الدرعية | القصيم | المدينة |
| ١٢ | أطلق خادم الحرمين الشريفين الملك سلمان بن عبدالعزيز ضمن رؤية ٢٠٣٠ مشروع : | التطوير | نيوم | الجنادرية |

١٢

السؤال الثاني : ضع علامة (√) أمام الإجابة الصحيحة وعلامة (x) أمام الإجابة الخاطئة:-

| | |
|-----|---|
| () | (١) تلقى الملك سلمان بن عبدالعزيز تعليمه في مدرسة الأمراء بالرياض . |
| () | (٢) تولى الملك سلمان بن العزيز حكم المملكة العربية السعودية خلفاً لأخيه الملك عبدالله . |
| () | (٣) تقع مدينة نيوم المستقبلية و المشروع الاستثماري الضخم في شرق المملكة . |
| () | (٤) العمق الاسلامي العربي و موقع وطني الاستراتيجي من اهم ركائز رؤية ٢٠٣٠ |
| () | (٥) تقوم رؤية المملكة ٢٠٣٠ على التخطيط السليم وحكمة القيادة السعودية. |
| () | (٦) عرف خادم الحرمين الشريفين الملك سلمان بالدقة والانضباط في العمل |
| () | (٧) خصص برنامج خدمة ضيوف الرحمن لتحسين نمط حياة الفرد والمجتمع. |
| () | (٨) من أهم أعمال الخير للملك سلمان بن عبد العزيز مساعدة الدول الفقيرة . |
| () | (٩) من انجازات الملك سلمان تمكين المرأة في مجالات العمل المختلفة . |
| () | (١٠) اتساع مساحة وطني وخلوه من المسطحات المائية يؤثر في مناخ وطني . |
| () | (١١) من اهداف مشروع نيوم تنويع الاقتصاد و جمع افضل العقول البشرية . |
| () | (١٢) تحسين مستوى المعيشة ونمط الحياة من أسس برنامج جودة الحياة . |

استعن بالكلمات التالية وأكمل الفراغات بما يناسبها : -

السؤال الثالث :

| | | | | |
|---|-------------------------|------------|-------------|--------------|
| ٤ | ادفع ريالاً تنقذ عربياً | خطوط الطول | دوائر العرض | جانحة كورونا |
|---|-------------------------|------------|-------------|--------------|

١- هي دوائر وهمية كاملة موازية لخط الاستواء تسمى

٢- أعد الملك سلمان برنامج وطني لمساعدة الفلسطينيين تحت شعار

اسم الطالب :

٣- هي انصاف دوائر وهمية متساوية تتقاطع عند القطبين تسمى

٤- من أبرز إنجازات الملك سلمان بن عبدالعزيز مواجهة

السؤال الرابع : صل عبارات المجموعة (أ) بما يناسبها في المجموعة (ب) باستعمال الأرقام :

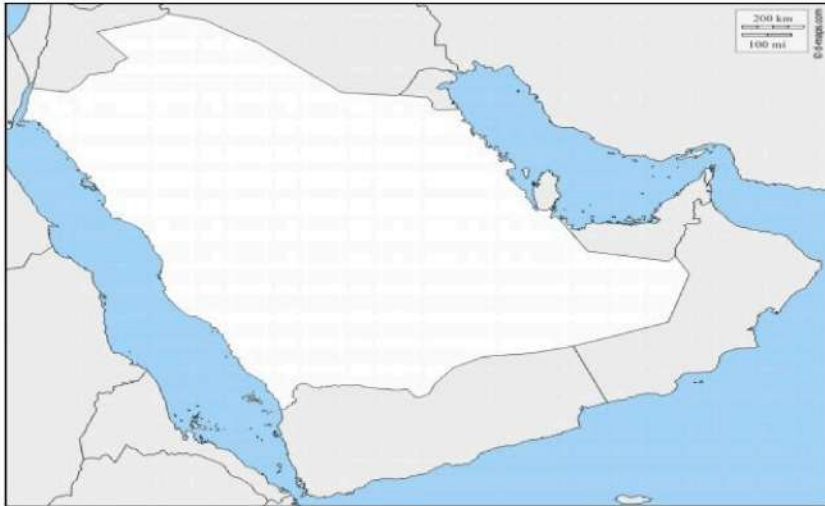
٦

| القائمة (أ) | الأرقام | القائمة (ب) |
|-------------------------------|---------|---------------|
| (١) الخط الرئيسي لخطوط الطول | () | تحديد المناخ |
| (٢) الخط الرئيسي لدوائر العرض | () | ٣٦٠ خط |
| (٣) من فوائد خطوط الطول | () | خط جرينتش |
| (٤) من فوائد دوائر العرض | () | ١٨٠ دائرة |
| (٥) عدد خطوط الطول | () | تحديد التوقيت |
| (٦) عدد دوائر العرض | () | خط الاستواء |

اكتب ما تدل عليه الأرقام الموجودة على الخريطة :-

السؤال الخامس :

٦



- ١-
- ٢-
- ٣-
- ٤-
- ٥-
- ٦-

| | | | |
|---|---------|--|--------------|
| المملكة العربية السعودية وزارة التعليم الإدارة العامة للتعليم | المعلم | الفصل الدراسي الثالث - الاختبار النهائي العام الدراسي ١٤٤٦ هـ | محافظة |
| مرحلة | المرحلة | | مدرسة |
| السادس | | | اسم الطالب |
| الدراسات الاجتماعية | | | |
| ٩٠ دقيقة | | | |

نموذج الاجابة

١٢

السؤال الاول : اِختار الإجابة الصحيحة فيما يلي بوضع دائرة عليها :-

١ اطلق خادم الحرمين الشريفين الملك سلمان بن عبد العزيز رؤية المملكة ٢٠٣٠ في عام :

١٤٣٤ هـ

١٤٣٠ هـ

١٤٣٧ هـ

٢ تحضير الطلبة لمهن المستقبل وتحسين التعليم ومخرجاته من اهم مجالات برنامج :

تنمية القدرات البشرية

جودة الحياة

التحول الوطني

٣ تقع المملكة العربية السعودية في قارة اسيا .

شمال شرق

جنوب غرب

جنوب شرق

٤ يقع وطني المملكة العربية السعودية في نطاق المنطقة :

الحارة

المعتدلة

الباردة

٥ بلغ عدد برامج تحقيق رؤية المملكة ٢٠٣٠ :

١٧ برنامج

١٥ برنامج

١٣ برنامج

٦ تبلغ مساحة وطني المملكة العربية السعودية

٥ مليون كم

٣ مليون كم

٢ مليون كم

٧ تولى خادم الحرمين الشريفين الملك سلمان حكم المملكة العربية السعودية عام :

١٤٣٠ هـ

١٤٣٣ هـ

١٤٣٦ هـ

٨ من إنسانية خادم الحرمين الشريفين الملك سلمان دعمه للجمعية الخيرية لرعاية الايتام تدل على انه :

حب الخير

التكبر

التفاخر

٩ قضى الملك سلمان بن عبد العزيز أميراً على منطقة الرياض حوالي :

٥٤ عام

٥٨ عام

٥٠ عام

١٠ انشأ المركز العالمي لمكافحة الفكر المتطرف (اعتدال) في عهد الملك :

سلمان بن عبد العزيز

فيصل بن عبد العزيز

عبدالله بن عبد العزيز



اسم الطالب :

١١ من جوانب عناية خادم الحرمين الشريفين بالتاريخ والتراث افتتاح حي الطريف في :

المدينة

القصيم

الدرعية

١٢ أطلق خادم الحرمين الشريفين الملك سلمان بن عبدالعزيز ضمن رؤية ٢٠٣٠ مشروع :

الجنادرية

نيوم

التطوير

١٢

السؤال الثاني : ضع علامة (√) أمام الإجابة الصحيحة وعلامة (×) أمام الإجابة الخاطئة:-

| | |
|-------|---|
| (√) | (١) تلقى الملك سلمان بن عبدالعزيز تعليمه في مدرسة الأمراء بالرياض . |
| (√) | (٢) تولى الملك سلمان بن العزيز حكم المملكة العربية السعودية خلفاً لأخيه الملك عبدالله . |
| (×) | (٣) تقع مدينة نيوم المستقبلية و المشروع الاستثماري الضخم في شرق المملكة . |
| (√) | (٤) العمق الاسلامي العربي و موقع وطني الاستراتيجي من اهم ركائز رؤية ٢٠٣٠ . |
| (√) | (٥) تقوم رؤية المملكة ٢٠٣٠ على التخطيط السليم وحكمة القيادة السعودية. |
| (√) | (٦) عرف خادم الحرمين الشريفين الملك سلمان بالدقة والانضباط في العمل |
| (×) | (٧) خصص برنامج خدمة ضيوف الرحمن لتحسين نمط حياة الفرد والمجتمع. |
| (√) | (٨) من أهم أعمال الخير للملك سلمان بن عبد العزيز مساعدة الدول الفقيرة . |
| (√) | (٩) من انجازات الملك سلمان تمكين المرأة في مجالات العمل المختلفة . |
| (√) | (١٠) اتساع مساحة وطني وخلوه من المسطحات المائية يؤثر في مناخ وطني . |
| (√) | (١١) من اهداف مشروع نيوم تنويع الاقتصاد و جمع افضل العقول البشرية . |
| (√) | (١٢) تحسين مستوى المعيشة ونمط الحياة من أسس برنامج جودة الحياة . |

استعن بالكلمات التالية وأكمل الفراغات بما يناسبها :-

السؤال الثالث :

٤

ادفع ريالاً تنقذ عربياً

خطوط الطول

دوائر العرض

جانحة كورونا

١- هي دوائر وهمية كاملة موازية لخط الاستواء تسمى **دوائر العرض**

٢- أعد الملك سلمان برنامج وطني لمساعدة الفلسطينيين تحت شعار **ادفع ريالاً تنقذ عربياً**

اسم الطالب :

٣- هي انصاف دوائر وهمية متساوية تتقاطع عند القطبين تسمى خطوط الطول

٤- من أبرز إنجازات الملك سلمان بن عبدالعزيز مواجهة جانحة كورونا

السؤال الرابع : صل عبارات المجموعة (أ) بما يناسبها في المجموعة (ب) باستعمال الأرقام :

| الرقم | القائمة (أ) | الأرقام | القائمة (ب) |
|-------|--------------------------------|---------|---------------|
| ٦ | (١) الخط الرئيس لخطوط الطول | (٤) | تحديد المناخ |
| | (٢) الخط الرئيس لدوائر العرض | (٥) | خط ٣٦٠ |
| | (٣) من فوائد خطوط الطول | (١) | خط جرينتش |
| | (٤) من فوائد دوائر العرض | (٦) | ١٨٠ دائرة |
| | (٥) عدد خطوط الطول | (٣) | تحديد التوقيت |
| | (٦) عدد دوائر العرض | (٢) | خط الاستواء |

السؤال الخامس : اكتب ما تدل عليه الأرقام الموجودة على الخريطة :-

٦



١- الأردن

٢- العراق

٣- الخليج العربي

٤- سلطنة عمان

٥- اليمن

٦- البحر الاحمر

المادة: الدراسات الاجتماعية
الصف : السادس الابتدائي
الزمن: ساعه ونصف
عدد الأوراق: ٤
عدد الأسئلة: ٣



المملكة العربية السعودية
وزارة التعليم
الإدارة العامة للتعليم بالقصيم
ابتدائية المحيلاني

بسم الله الرحمن الرحيم

أسئلة اختبار مادة الدراسات الاجتماعية الصف السادس الابتدائي

للعام الدراسي ١٤٤٦ هـ

الفصل الدراسي الثالث (الدور الأول)

الاسم :

رقم الجلوس :

| المراجعة | | المصححة | | الدرجة | | رقم السؤال |
|----------|-------|---------|-------|--------|-------|---------------|
| التوقيع | الاسم | التوقيع | الاسم | كتابة | رقمًا | |
| | | | | | | السؤال الأول |
| | | | | | | السؤال الثاني |
| | | | | | | السؤال الثالث |
| | | | | | | المجموع |
| | | | | | | ٤٠ |

التوقيع :

جمعه :

التوقيع :

راجعه :

السؤال الأول : ضع دائرة حول الحرف الذي يمثل الإجابة الصحيحة فيما يلي

١٥

1. ضريبة القيمة المضافة في المملكة العربية السعودية

أ 10% ب 15% ج 20% د 25%

2. هي الأماكن التي تعرض فيها الآثار وقصصها التاريخية

أ المستشفيات ب المتاحف ج المدارس د البيوت

3. من أهم الأمثلة لأعمال التنقيب الأثري في وطني

أ تبوك ب الفاو ج حائل د عرعر

4. من أنواع الصدق في القول

أ الغش والتزوير ب تجنب الكذب والمبالغة ج إتقان العمل د الامانة

5. الجهة التي تتولى تحصيل الضرائب في وطني

أ وزارة التعليم ب هيئة الزكاة والجمارك ج وزارة الثقافة د وزارة الصحة

6. العلم الذي يعنى بالمواقع التاريخية

أ الطب ب الهندسة ج الآثار د الفلك

7. ينتقل الناس من البلدات الصغيرة للإقامة في المدن الكبيرة بسبب

أ الوظائف ب الزراعة ج الرعي د الصناعة

8. توزيع السكان في جميع مناطق وطني

أ متساوي ب متغير باستمرار ج متفاوت د منتظم

9. أكثر فئة من السكان في وطني

أ صغار السن ب متوسطو السن ج كبار السن د الاطفال

10. واجبنا تجاه موظف الإحصاء وتعداد السكان هو

أ عدم الإجابة عن الاسئلة ب التعاون معه وتزويده بالمعلومات ج اعطاؤه إجابات غير صحيحة د تجنب التعاون معه

11. من فوائد المشاركة في المجتمع

أ دعم المحتاجين ب عدم الانتماء للوطن ج عدم الثقة د عدم تحمل المسؤولية

12. هو حصر شامل لكل الأفراد في الوطن

أ التعداد السكاني ب المشاركة المجتمعية ج المواطنة د الضرائب

13. عدد خطوط الطول

أ 360 ب 180 ج 90 د 30

14. خط الطول الرئيسي ودرجته صفر

أ الاستواء ب جرينتش ج الجدي د السرطان

15. عدد دوائر العرض

أ 180 ب 360 ج 90 د 30

السؤال الثاني : ضع علامة ✓ أما العبارة الصحيحة و علامة × أما العبارة الخاطئة

١٥

| | |
|-----|--|
| () | ١. الآثار هي سجل حضاري مهم للوطن لأنها تعبر عن امتداد تاريخ الوطن وتراثه |
| () | ٢. من صور الأمانة المحافظة على اسرار الناس |
| () | ٣. من واجبات المواطن التزام الأنظمة والقوانين |
| () | ٤. المواطن المسؤول هو الانسان ذو الخلق الحميد الملتزم بتعاليم دينه |
| () | ٥. كان الرسول صلى الله عليه وسلم يلقب بالصادق الامين |
| () | ٦. غياب الصدق والامانه يؤدي الى الاستقرار والامن |
| () | ٧. اهمال الأمانة يقود الى عقاب في الدنيا وعقاب في الآخرة |
| () | ٨. خيانة الوطن مخالفة للامانة |
| () | ٩. ضريبة القيمة المضافة في وطني ٢٥% |
| () | ١٠. عندما اجد اثار قديمة ابلغ الجهات المختصة عنها |
| () | ١١. التعليم والصحة من حقوق المواطن |
| () | ١٢. يقطع خط جرينيتش الكرة الأرضية من الشمال الى الجنوب |
| () | ١٣. خطوط الطول هي دوائر كاملة |
| () | ١٤. ينقص التوقيت ساعة واحدة كلما ابتعدنا ١٥ درجة غرب خط جرينيتش |
| () | ١٥. تساعدنا دوائر العرض على معرفة التوقيت |

السؤال الثالث : ضع الكلمات الموجودة في الجدول التالي في الفراغ المناسب

١٠

| متساوية | الامن | التزام الانظمة | التعليم | المتحف |
|-------------------------------|------------|------------------------|---------|--------|
| هيئة الزكاة والضريبة والجمارك | خط جرنييتش | تعزيز انتماء المواطنين | ٣٦٠ | السكان |

١. تتصف خطوط الطول بأنها

٢. عدد خطوط الطول

٣. الخط الرئيسي لخطوط الطول هو

٤. الأمانة تحقق للوطن.

٥. من واجبات المواطن

٦. من حقوق المواطن

٧. تعرض فيه المقتنيات التاريخية.

٨. تتولى تحصيل الضرائب

٩. من فوائد المشاركة في المجتمع

١٠. هم المواطنون والمقيمون في الوطن من ذكور واناث

انتهت الأسئلة
دعواتي لكم بالتوفيق

نموذج الإجابة

المملكة
وزارة
الإدارة
ابتدائية المحبلي

المادة: الدراسات الاجتماعية
الصف: السادس الابتدائي
الزمن: ساعة ونصف
عدد الأوراق: ٤
عدد الأسئلة: ٣

2030
المملكة العربية السعودية
KINGDOM OF SAUDI ARABIA

بسم الله الرحمن الرحيم

أسئلة اختبار مادة الدراسات الاجتماعية الصف السادس الابتدائي

للعام الدراسي ١٤٤٦ هـ

الفصل الدراسي الثالث (الدور الأول)

الاسم :

رقم الجلوس :

| المراجعة | | المصححة | | الدرجة | | رقم السؤال |
|----------|-------|---------|-------|--------|-------|---------------|
| التوقيع | الاسم | التوقيع | الاسم | كتابة | رقمًا | |
| | | | | | | السؤال الأول |
| | | | | | | السؤال الثاني |
| | | | | | | السؤال الثالث |
| | | | | | | المجموع |
| | | | | | | ٤٠ |

التوقيع :

جمعه :

التوقيع :

راجعه :

السؤال الأول : ضع دائرة حول الحرف الذي يمثل الإجابة الصحيحة فيما يلي

١٥

1. ضريبة القيمة المضافة في المملكة العربية السعودية

أ 10% ب 15% ج 20% د 25%

2. هي الأماكن التي تعرض فيها الآثار وقصصها التاريخية

أ المستشفيات ب المتاحف ج المدارس د البيوت

3. من أهم الأمثلة لأعمال التنقيب الأثري في وطني

أ تبوك ب الفاو ج حائل د عرعر

4. من أنواع الصدق في القول

أ الغش والتزوير ب تجنب الكذب والمبالغة ج إتقان العمل د الامانة

5. الجهة التي تتولى تحصيل الضرائب في وطني

أ وزارة التعليم ب هيئة الزكاة والجمارك ج وزارة الثقافة د وزارة الصحة

6. العلم الذي يعنى بالمواقع التاريخية

أ الطب ب الهندسة ج الآثار د الفلك

7. ينتقل الناس من البلدات الصغيرة للإقامة في المدن الكبيرة بسبب

أ الوظائف ب الزراعة ج الرعي د الصناعة

8. توزيع السكان في جميع مناطق وطني

أ متساوي ب متغير باستمرار ج متفاوت د منتظم

9. أكثر فئة من السكان في وطني

أ صغار السن ب متوسطو السن ج كبار السن د الاطفال

10. واجبنا تجاه موظف الإحصاء وتعداد السكان هو

أ عدم الإجابة عن الاسئلة ب التعاون معه وتزويده بالمعلومات ج اعطاؤه إجابات غير صحيحة د تجنب التعاون معه

11. من فوائد المشاركة في المجتمع

أ دعم المحتاجين ب عدم الانتماء للوطن ج عدم الثقة د عدم تحمل المسؤولية

12. هو حصر شامل لكل الأفراد في الوطن

أ التعداد السكاني ب المشاركة المجتمعية ج المواطنة د الضرائب

13. عدد خطوط الطول

أ 360 ب 180 ج 90 د 30

14. خط الطول الرئيسي ودرجته صفر

أ الاستواء ب حرينتش ج الجدي د السرطان

15. عدد دوائر العرض

أ 180 ب 360 ج 90 د 30

السؤال الثاني : ضع علامة ✓ أما العبارة الصحيحة و علامة × أما العبارة الخاطئة

١٥

| | |
|-------|---|
| (✓) | ١ . الآثار هي سجل حضاري مهم للوطن لأنها تعبر عن امتداد تاريخ الوطن وتراثه |
| (✓) | ٢ . من صور الأمانة المحافظة على اسرار الناس |
| (✓) | ٣ . من واجبات المواطن التزام الأنظمة والقوانين |
| (✓) | ٤ . المواطن المسؤول هو الانسان ذو الخلق الحميد الملتزم بتعاليم دينه |
| (✓) | ٥ . كان الرسول صلى الله عليه وسلم يلقب بالصادق الامين |
| (×) | ٦ . غياب الصدق والامانه يؤدي الى الاستقرار والامن |
| (✓) | ٧ . اهمال الأمانة يقود الى عقاب في الدنيا وعقاب في الآخرة |
| (✓) | ٨ . خيانة الوطن مخالفة للامانة |
| (×) | ٩ . ضريبة القيمة المضافة في وطني ٢٥ % |
| (✓) | ١٠ . عندما اجد اثار قديمة ابلغ الجهات المختصة عنها |
| (✓) | ١١ . التعليم والصحة من حقوق المواطن |
| (✓) | ١٢ . يقطع خط جرينيتش الكرة الأرضية من الشمال الى الجنوب |
| (×) | ١٣ . خطوط الطول هي دوائر كاملة |
| (✓) | ١٤ . ينقص التوقيت ساعة واحدة كلما ابتعدنا ١٥ درجة غرب خط جرينيتش |
| (×) | ١٥ . تساعدنا دوائر العرض على معرفة التوقيت |

السؤال الثالث : ضع الكلمات الموجودة في الجدول التالي في الفراغ المناسب

١٠

| متساوية | الامن | التزام الانظمة | التعليم | المتحف |
|-------------------------------|------------|------------------------|---------|--------|
| هيئة الزكاة والضريبة والجمارك | خط جرينيتش | تعزيز انتماء المواطنين | ٣٦٠ | السكان |

١. تتصف خطوط الطول بأنها...**متساوية**....

٢. عدد خطوط الطول**٣٦٠**.....

٣. الخط الرئيسي لخطوط الطول هو **خط جرينيتش**.....

٤. الأمانة تحقق **الامن**..... للوطن.

٥. من واجبات المواطن **التزام الانظمة**.....

٦. من حقوق المواطن **التعليم**.....

٧. **المتحف**..... تعرض فيه المقتنيات التاريخية.

٨. تتولى تحصيل الضرائب **هيئة الزكاة والضريبة والدخل**.....

٩. من فوائد المشاركة في المجتمع **تعزيز انتماء المواطنين**.....

١٠. هم المواطنون والمقيمون في الوطن من ذكور واناث **السكان**.....

انتهت الأسئلة
دعواتي لكم بالتوفيق

المادة: الدراسات الاجتماعية
الصف: السادس الابتدائي
الزمن:
عدد الأوراق: 4
عدد الأسئلة: 3



المملكة العربية السعودية
وزارة التعليم
الإدارة العامة للتعليم
المدرسة ب

بسم الله الرحمن الرحيم

أسئلة اختبار مادة الدراسات الاجتماعية الصف السادس الابتدائي

للعام الدراسي 1446 هـ

الفصل الدراسي الثالث (الدور الأول)

الاسم :

رقم الجلوس :

اليوم : التاريخ : / / 1446 هـ

الزمن :

| المراجعة | | المصححة | | الدرجة | | رقم السؤال |
|----------|-------|---------|-------|--------|-------|---------------|
| التوقيع | الاسم | التوقيع | الاسم | كتابة | رقمًا | |
| | | | | | | السؤال الأول |
| | | | | | | السؤال الثاني |
| | | | | | | السؤال الثالث |
| | | | | | | المجموع |
| | | | | | | 40 |

التوقيع :

جمعه :

التوقيع :

راجعه :

تعليمات عامة:

- ✓ استعمل القلم الأزرق فقط.
- ✓ لا يُسمح بالقلم الأزرق الذي يُمسح.
- ✓ لا يسمح باستخدام المرسام ولا الماسح.
- ✓ أجب على جميع الأسئلة على ورقة الأسئلة.

معلم/ة المادة :

.....

| | | | | |
|---|----------------------|---|--------------------|---|
| 1.تولي خادم الحرمين الشريفين الملك سلمان بن عبدالعزيز الحكم عام | | | | |
| أ | 1436 | ب | 1430 | ج |
| د | 1441 | 2. من إنسانية خادم الحرمين الشريفين الملك سلمان دعمه للجمعية الخيرية لرعاية الأيتام | | |
| أ | وقار | ب | إنسان | ج |
| د | احسان | 3. قضى الملك سلمان بن عبدالعزيز أميراً على منطقة الرياض حوالي | | |
| أ | 58 عاماً | ب | 34 عاماً | ج |
| د | 20 عاماً | 4. أنشأ المركز العالمي لمكافحة الفكر المتطرف(اعتدال) في عهد الملك | | |
| أ | سعود | ب | عبدالله | ج |
| د | خالد | 5. من جوانب عناية خادم الحرمين الشريفين بالتاريخ والتراث افتتاح حي الطريف في | | |
| أ | الدرعية | ب | حريملاء | ج |
| د | مكة | 6. أطلق خادم الحرمين الشريفين الملك سلمان بن عبدالعزيز ضمن رؤية 2030 مشروع | | |
| أ | التطوير | ب | الجنادرية | ج |
| د | المدن السياحية | 7. يعنى بتقديم حلول سكانية تلبي احتياجات و تطلعات الأسرة السعودية | | |
| أ | برنامج الاسكان | ب | برنامج جودة الحياة | ج |
| د | برنامج اعتدال | 8. لزيادة خدمات حجاج وزوار بيت الله الحرام والمسجد النبوي والعناية بالتاريخ الإسلامي انشئء برنامج | | |
| أ | خدمة ضيوف الرحمن | ب | جودة الحياة | ج |
| د | تكافل | 9. اشرف على مشروع نيوم صاحب السمو الملكي | | |
| أ | محمد بن سلمان | ب | خالد الفيصل | ج |
| د | سلطان بن سلمان | 10. يرمي الى تحويل المملكة الى قوة صناعية رائدة ومنصة لوجستية دولية | | |
| أ | برنامج الإسكان | ب | برنامج جودة الحياة | ج |
| د | برنامج تطوير | 11. يرمي الى التميز في الأداء الحكومي والإرتقاء بمستوى الخدمات المعيشية | | |
| أ | برنامج التحول الوطني | ب | برنامج الإسكان | ج |
| د | جمعية انسان | 12. يعنى بتحسين الجوانب المالية والإستثمارية وزيادة كفاءة الإنفاق والإيرادات برنامج | | |
| أ | تطوير القطاع المالي | ب | التحول الوطني | ج |
| د | جودة الحياة | 13. عدد خطوط الطول | | |
| أ | 360 | ب | 180 | ج |
| د | 30 | 14. خط الطول الرئيسي ودرجته صفر | | |
| أ | الاستواء | ب | جرينتش | ج |
| د | السرطان | 15. عدد دوائر العرض | | |
| أ | 180 | ب | 360 | ج |
| د | 30 | | | |

السؤال الثاني : ضع علامة ✓ أما العبارة الصحيحة و علامة × أما العبارة الخاطئة

15

| | |
|-----|--|
| () | 1. تلقى الملك سلمان تعليمه في مدرسة الأمراء بالرياض |
| () | 2. تولى الملك سلمان الحكم خلفاً لأخيه الملك فهد بن عبدالعزيز يرحمه الله |
| () | 3. من حرص الملك سلمان على العلم دوامه على القراءة يومياً |
| () | 4. ولد خادم الحرمين الشريفين الملك سلمان في مدينة جدة |
| () | 5. عرف الملك سلمان بالدقة والانضباط في العمل |
| () | 6. من أهم أعمال الخير للملك سلمان بن عبد العزيز مساعدة الدول الفقيرة |
| () | 7. ساند حكام المملكة العربية السعودية القضية الفلسطينية منذ القدم |
| () | 8. أعلنت رؤية المملكة 2030 في عهد الملك عبد الله |
| () | 9. تحسين مستوى العيش ونمط الحياة من أسس برنامج جودة الحياة |
| () | 10. الموقع الجغرافي لوطني محور مهم في رؤية 2030 |
| () | 11. تقع مدينة نيوم المستقبلية في شمال غرب السعودية بالقرب من خليج العقبة |
| () | 12. التخصيص يعنى بتعزيز دور القطاع الخاص في تقديم الخدمات |
| () | 13. العمق الإسلامي والعربي لوطني لانه يوجد فيه الحرمين الشريفين |
| () | 14. الملاعب والمتاحف والمطاعم من الأماكن الترفيهية لتحسين نمط الحياة |
| () | 15. من إنجازات الملك سلمان تمكين المرأة في مجالات العمل المختلفة |

السؤال الثالث : ضع الكلمات الموجودة في الجدول التالي في الفراغ المناسب

10

| | | | | |
|-----------------|----------------------------|-------------------------|-------------|-----------------------------|
| المستقبل الجديد | لمطقة الرياض | سلمان بن عبدالعزيز | رؤية 2030 | رفع معاشات الضمان الاجتماعي |
| رياض الأطفال | اطلاق برنامج التحول الوطني | ادفع ريالاً تنقذ عربياً | خط الاستواء | جانحة كورونا |

1. من ابرز قرارات الملك سلمان في المئة يوم الأولى من توليه الحكم

2. اعد الملك سلمان برنامج وطني وتنفيذه تحت شعار لمساعدة الاشقاء الفلسطينيين.

3. حصلت المرأة السعودية على حق التصويت في الانتخابات البلدية في عهد الملك

4. اتخذ الملك سلمان عدد من الإجراءات لمواجهة لحماية المواطنين والمقيمين

5. من ابرز إنجازات الملك سلمان بن عبد العزيز.....

6. مما يدل على فكر خادم الحرمين الشريفين التطويري التطور الكبير ل.....،، عندما كان أميراً عليها.

7. هي دوائر وهمية ترسم على الكرة الأرضية والدائرة الرئيسية هي ويقسم الكرة الأرضية لجزء شمالي وآخر جنوبي.

8. هي خطة مستقبلية للطموحات والأهداف التي نريد تحقيقها

9. اسم نيوم يعني

10. من الأهداف توسيع المراحل الأولية في التعليم مثل

انتهت الأسئلة
دعواتي لكم بالتوفيق

معلم /ة :

المادة: الدراسات الاجتماعية
الصف: السادس الابتدائي
الزمن:
عدد الأوراق: 4
عدد الأسئلة: 3



المملكة العربية السعودية
وزارة التعليم
الإدارة العامة للتعليم
المدرسة ب

بسم الله الرحمن الرحيم

أسئلة اختبار مادة الدراسات الاجتماعية الصف السادس الابتدائي

للعام الدراسي 1446 هـ

الفصل الدراسي الثالث (الدور الأول)

نموذج الاجابة

| المراجعة | | المصححة | | الدرجة | | رقم السؤال |
|----------|-------|---------|-------|--------|-------|---------------|
| التوقيع | الاسم | التوقيع | الاسم | كتابة | رقمًا | |
| | | | | | | السؤال الأول |
| | | | | | | السؤال الثاني |
| | | | | | | السؤال الثالث |
| | | | | | | المجموع |
| | | | | | | 40 |

التوقيع :

جمعه :

التوقيع :

راجعه :

تعليمات عامة:

- ✓ استعمل القلم الأزرق فقط.
- ✓ لا يُسمح بالقلم الأزرق الذي يُمسح.
- ✓ لا يسمح باستخدام المرسام ولا الماسح.
- ✓ أجب على جميع الأسئلة على ورقة الأسئلة.

معلم/ة المادة :

.....

السؤال الأول : ضع دائرة حول الحرف الذي يمثل الإجابة الصحيحة فيما يلي

١٥

| | | | | |
|--|----------------------|---|--------------------|---|
| ١. تولي خادم الحرمين الشريفين الملك سلمان بن عبدالعزيز الحكم عام | | | | |
| أ | 1436 | ب | 1430 | ج |
| د | 1441 | د | 1440 | ج |
| ٢. من إنسانية خادم الحرمين الشريفين الملك سلمان دعمه للجمعية الخيرية لرعاية الأيتام | | | | |
| أ | وقار | ب | إنسان | ج |
| د | احسان | د | ارتقاء | ج |
| ٣. قضى الملك سلمان بن عبدالعزيز أميراً على منطقة الرياض حوالي | | | | |
| أ | 58 عاماً | ب | 34 عاماً | ج |
| د | 20 عاماً | د | 10 عاماً | ج |
| ٤. أنشأ المركز العالمي لمكافحة الفكر المتطرف (اعتدال) في عهد الملك | | | | |
| أ | سعود | ب | عبدالله | ج |
| د | خالد | د | سلمان | ج |
| ٥. من جوانب عناية خادم الحرمين الشريفين بالتاريخ والتراث افتتاح حي الطريف في | | | | |
| أ | الدرعية | ب | حريملاء | ج |
| د | مكة | د | القصيم | ج |
| ٦. أطلق خادم الحرمين الشريفين الملك سلمان بن عبدالعزيز ضمن رؤية 2030 مشروع | | | | |
| أ | التطوير | ب | الجنادرية | ج |
| د | المدن السياحية | د | نيوم | ج |
| ٧. يعنى بتقديم حلول سكنية تلبي احتياجات و تطلعات الأسرة السعودية | | | | |
| أ | برنامج الاسكان | ب | برنامج جودة الحياة | ج |
| د | برنامج اعتدال | د | برنامج التخصيص | ج |
| ٨. لزيادة خدمات حجاج وزوار بيت الله الحرام والمسجد النبوي والعناية بالتاريخ الإسلامي انشئ برنامج | | | | |
| أ | خدمة ضيوف الرحمن | ب | جودة الحياة | ج |
| د | تكافل | د | الاسكان | ج |
| ٩. اشرف على مشروع نيوم صاحب السمو الملكي | | | | |
| أ | محمد بن سلمان | ب | خالد الفيصل | ج |
| د | سلطان بن سلمان | د | الوليد بن طلال | ج |
| ١٠. يرمي الى تحويل المملكة الى قوة صناعية رائدة ومنصة لوجستية دولية | | | | |
| أ | برنامج الإسكان | ب | برنامج جودة الحياة | ج |
| د | برنامج تطوير | د | برنامج الصناعة | ج |
| ١١. يرمي الى التميز في الأداء الحكومي والإرتقاء بمستوى الخدمات المعيشية | | | | |
| أ | برنامج التحول الوطني | ب | برنامج الإسكان | ج |
| د | جمعية انسان | د | برنامج جودة الحياة | ج |
| ١٢. يعنى بتحسين الجوانب المالية والإستثمارية وزيادة كفاءة الإنفاق والإيرادات برنامج | | | | |
| أ | تطوير القطاع المالي | ب | التحول الوطني | ج |
| د | جودة الحياة | د | الإسكان | ج |
| ١٣. عدد خطوط الطول | | | | |
| أ | 360 | ب | 180 | ج |
| د | 30 | د | 90 | ج |
| ١٤. خط الطول الرئيسي ودرجته صفر | | | | |
| أ | الاستواء | ب | جرينتش | ج |
| د | السرطان | د | الجدى | ج |
| ١٥. عدد دوائر العرض | | | | |
| أ | 180 | ب | 360 | ج |
| د | 30 | د | 90 | ج |

السؤال الثاني : ضع علامة ✓ أما العبارة الصحيحة و علامة × أما العبارة الخاطئة

١٥

| | |
|-------|---|
| (✓) | ١ . تلقى الملك سلمان تعليمه في مدرسة الأمراء بالرياض |
| (×) | ٢ . تولى الملك سلمان الحكم خلفاً لأخيه الملك فهد بن عبدالعزيز برحمه الله |
| (✓) | ٣ . من حرص الملك سلمان على العلم دوامه على القراءة يومياً |
| (×) | ٤ . ولد خادم الحرمين الشريفين الملك سلمان في مدينة جدة |
| (✓) | ٥ . عرف الملك سلمان بالدقة والانضباط في العمل |
| (✓) | ٦ . من أهم أعمال الخير للملك سلمان بن عبد العزيز مساعدة الدول الفقيرة |
| (✓) | ٧ . ساند حكام المملكة العربية السعودية القضية الفلسطينية منذ القدم |
| (×) | ٨ . أعلنت رؤية المملكة 2030 في عهد الملك عبد الله |
| (✓) | ٩ . تحسين مستوى العيش ونمط الحياة من أسس برنامج جودة الحياة |
| (✓) | ١٠ . الموقع الجغرافي لوطني محور مهم في رؤية 2030 |
| (✓) | ١١ . تقع مدينة نيوم المستقبلية في شمال غرب السعودية بالقرب من خليج العقبة |
| (✓) | ١٢ . التخصيص يعنى بتعزيز دور القطاع الخاص في تقديم الخدمات |
| (✓) | ١٣ . العمق الإسلامي والعربي لوطني لانه يوجد فيه الحرمين الشريفين |
| (✓) | ١٤ . الملاعب والمتاحف والمطاعم من الأماكن الترفيهية لتحسين نمط الحياة |
| (✓) | ١٥ . من إنجازات الملك سلمان تمكين المرأة في مجالات العمل المختلفة |

السؤال الثالث : ضع الكلمات الموجودة في الجدول التالي في الفراغ المناسب

10

| | | | | |
|-----------------|----------------------------|-------------------------|-------------|-----------------------------|
| المستقبل الجديد | لمطقة الرياض | سلمان بن عبدالعزيز | رؤية 2030 | رفع معاشات الضمان الاجتماعي |
| رياض الأطفال | اطلاق برنامج التحول الوطني | ادفع ريالاً تنقذ عربياً | خط الاستواء | جائحة كورونا |

1. من ابرز قرارات الملك سلمان في المئة يوم الأولى من توليه الحكم **رفع معاشات الضمان الاجتماعي**

2. اعد الملك سلمان برنامج وطني وتنفيذه تحت شعار **ادفع ريالاً تنقذ عربياً** لمساعدة الاشقاء الفلسطينيين.

3. حصلت المرأة السعودية على حق التصويت في الانتخابات البلدية في عهد الملك **سلمان بن عبدالعزيز**.

4. اتخذ الملك سلمان عدد من الإجراءات لمواجهة **جائحة كورونا**..... لحماية المواطنين والمقيمين

5. من ابرز إنجازات الملك سلمان بن عبد العزيز **اطلاق برنامج التحول الوطني**

6. مما يدل على فكر خادم الحرمين الشريفين التطويري التطور الكبير **لمدينة الرياض**، عندما كان أميراً عليها.

7. هي دوائر وهمية ترسم على الكرة الأرضية والدائرة الرئيسية هي **خط الاستواء**..... ويقسم الكرة الأرضية لجزء شمالي وآخر جنوبي.

8. هي خطة مستقبلية للطموحات والأهداف التي نريد تحقيقها **رؤية 2030**...

9. اسم نيوم يعني **المستقبل الجديد**...

10. من الأهداف توسيع المراحل الأولية في التعليم مثل **رياض الأطفال**.....

انتهت الأسئلة
دعواتي لكم بالتوفيق

معلم /ة :

اسئلة اختبار الفصل الدراسي الثالث لمادة الدراسات الاجتماعية الصف السادس(الدور الأول) لعام 1446هـ

اسم الطالبة..... الفصل.....

13

السؤال الأول: أ) اختار الإجابة الصحيحة فيما يلي بوضع دائرة عليها:

| | | | | | | | |
|----|---|---|-------------------------|---|-----------------|---|--------------------------|
| 1 | هي انتماء الإنسان إلى وطنه على أسس من القيم والأخلاق والحقوق والواجبات: | أ | المواطنة | ب | الأمن | ج | الأمانة |
| 2 | سجل حضاري مهم للوطن وتعبر عن امتداد تاريخ الوطن وتراثه: | أ | المواطنة | ب | الآثار | ج | الحضارة |
| 3 | الجهة التي تتولى تحصيل الضرائب في وطني: | أ | هيئة الزكاة والضريبة | ب | الموارد البشرية | ج | وزارة التنمية الاجتماعية |
| 4 | خطها الرئيس هو خط جرينتش ودرجته صفر: | أ | خطوط الطول والعرض | ب | خطوط الطول | ج | خطوط العرض |
| 5 | تدور الأرض حول محورها مرة كل: | أ | 24 ساعة | ب | 25 ساعة | ج | 23 ساعة |
| 6 | خطها الرئيس هو خط الاستواء ودرجته صفر: | أ | خطوط الطول والعرض | ب | خطوط الطول | ج | خطوط العرض |
| 7 | يحد وطني من جهة الغرب: | أ | الخليج العربي | ب | اليمن | ج | البحر الأحمر |
| 8 | يتصف المناخ في مناطق الربع الخالي بأنه: | أ | شديد الجفاف | ب | جاف | ج | معتدل |
| 9 | هم المواطنون والمقيمون في الوطن من ذكور وإناث: | أ | المواطنة | ب | السكان | ج | المجتمع |
| 10 | ينتقل الناس من البلدات الصغيرة للإقامة في المدن الكبيرة بسبب: | أ | الزراعة | ب | الرعي | ج | الوظائف |
| 11 | أكثر فئة من السكان في وطني: | أ | متوسطو السن | ب | كبار السن | ج | صغار السن |
| 12 | واجبنا تجاه موظف الإحصاء وتعداد السكان هو: | أ | تجنب الإجابة عن الاسئلة | ب | التعاون معه | ج | إعطاؤه إجابات غير صحيحة |
| 13 | توزيع السكان في جميع مناطق وطني | أ | متساو | ب | متغير | ج | متفاوت |

السؤال الثاني: أ) ضع إشارة (✓) امام الإجابة الصحيحة وإشارة (x) أمام الإجابة الخاطئة:

| | |
|---|---|
| 1 | من فوائد الضرائب الاقتصادية الحد من التضخم ومواجهة الأزمات. |
| 2 | ضريبة القيمة المضافة في وطني قيمتها 10%. |
| 3 | من الأمانة الحفاظ على أسرار الناس. |
| 4 | عدد خطوط الطول 180 خطا. |

13

| | |
|----|---|
| 5 | تمكننا خطوط الطول من معرفة التوقيت. |
| 6 | يزداد الوقت ساعة واحدة كلما اتجهنا شرق خط جرينتش. |
| 7 | يقع مدار الجدي في جنوب خط الاستواء. |
| 8 | تمكننا دوائر العرض من تحديد المناخ. |
| 9 | يشغل وطني ثلثي مساحة شبه الجزيرة العربية. |
| 10 | من السمات الدينية لوطني وجود الحرمين الشريفين. |
| 11 | أكثر سكان وطني هم من الذكور. |
| 12 | من ضوابط المشاركة المجتمعية أن تتوافق مع العادات والتقاليد. |
| 13 | من الأهمية السياسية لوطني أنه قلب قارات العالم الثلاث. |

6

السؤال الثالث: أجبني عن المطلوب: (أ) أذكرى ثلاث عوامل مؤثرة في مناخ وطني:

(1)

(2)

(3)

(ب) أذكرى ثلاثة من مظاهر الصدق:

(1)

(2)

(3)

8

(ب) صنفى الكلمات بما يناسبها في الجدول التالي:

| | | | |
|--------|--------|---------|----------------|
| الآثار | المتحف | التعليم | التزام الأنظمة |
|--------|--------|---------|----------------|

| تعرض فيه المقتنيات التاريخية | علم يعتني بالموافع التاريخية | من واجبات المواطن | من حقوق المواطن |
|------------------------------|------------------------------|-------------------|-----------------|
| | | | |

تمت الأسئلة

تمنياتي لكن بالتوفيق

نموذج الإجابة

.....
14هـ

اسئلة اختبار الفصل الدراسي الثالث لمادة الدراسات الاجتماعية الصف السادس (الدور الأول) لعام 1446هـ

اسم الطالبة الفصل

13

السؤال الأول: أ) اختار الإجابة الصحيحة فيما يلي بوضع دائرة عليها:

| | | | | | | | |
|----|---|---|-------------------------|---|-----------------|---|--------------------------|
| 1 | هي انتماء الإنسان إلى وطنه على أسس من القيم والأخلاق والحقوق والواجبات: | أ | المواطنة | ب | الأمن | ج | الأمانة |
| 2 | سجل حضاري مهم للوطن وتعبر عن امتداد تاريخ الوطن وتراثه: | أ | المواطنة | ب | الأثار | ج | الحضارة |
| 3 | الجهة التي تتولى تحصيل الضرائب في وطني: | أ | هيئة الزكاة والضريبة | ب | الموارد البشرية | ج | وزارة التنمية الاجتماعية |
| 4 | خطها الرئيس هو خط جرينتش ودرجته صفر: | أ | خطوط الطول والعرض | ب | خطوط الطول | ج | خطوط العرض |
| 5 | تدور الأرض حول محورها مرة كل: | أ | 24 ساعة | ب | 25 ساعة | ج | 23 ساعة |
| 6 | خطها الرئيس هو خط الاستواء ودرجته صفر: | أ | خطوط الطول والعرض | ب | خطوط الطول | ج | خطوط العرض |
| 7 | يحد وطني من جهة الغرب: | أ | الخليج العربي | ب | اليمن | ج | البحر الأحمر |
| 8 | يتصف المناخ في مناطق الربع الخالي بأنه: | أ | شديد الجفاف | ب | جاف | ج | معتدل |
| 9 | هم المواطنون والمقيمون في الوطن من ذكور وإناث: | أ | المواطنة | ب | السكان | ج | المجتمع |
| 10 | ينتقل الناس من البلدات الصغيرة للإقامة في المدن الكبيرة بسبب: | أ | الزراعة | ب | الرعي | ج | الوظائف |
| 11 | أكثر فئة من السكان في وطني: | أ | متوسط السن | ب | كبار السن | ج | صغار السن |
| 12 | واجبنا تجاه موظف الإحصاء وتعداد السكان هو: | أ | تجنب الإجابة عن الاسئلة | ب | التعاون معه | ج | إعطاؤه إجابات غير صحيحة |
| 13 | توزيع السكان في جميع مناطق وطني | أ | متساو | ب | متغير | ج | متفاوت |

السؤال الثاني: أ) ضع إشارة (✓) امام الإجابة الصحيحة وإشارة (x) أمام الإجابة الخاطئة:

| | | |
|---|---|---|
| 1 | من فوائد الضرائب الاقتصادية الحد من التضخم ومواجهة الأزمات. | ✓ |
| 2 | ضريبة القيمة المضافة في وطني قيمتها 10%. | ✗ |
| 3 | من الأمانة الحفاظ على أسرار الناس. | ✓ |
| 4 | عدد خطوط الطول 180 خطا. | ✗ |

13

| | | |
|---|----|---|
| ✓ | 5 | تمكننا خطوط الطول من معرفة التوقيت. |
| ✓ | 6 | يزداد الوقت ساعة واحدة كلما اتجهنا شرق خط جرينتش. |
| ✓ | 7 | يقع مدار الجدي في جنوب خط الاستواء. |
| ✓ | 8 | تمكننا دوائر العرض من تحديد المناخ. |
| ✓ | 9 | يشغل وطني ثلثي مساحة شبه الجزيرة العربية. |
| ✓ | 10 | من السمات الدينية لوطني وجود الحرمين الشريفين. |
| ✓ | 11 | أكثر سكان وطني هم من الذكور. |
| ✓ | 12 | من ضوابط المشاركة المجتمعية أن تتوافق مع العادات والتقاليد. |
| ✓ | 13 | من الأهمية السياسية لوطني أنه قلب قارات العالم الثلاث. |

السؤال الثالث: أجبني عن المطلوب: (أ) أذكرى ثلاث عوامل مؤثرة في مناخ وطني:

6

(1) الموقع الفلكي.

(2) الموقع الجغرافي.

(3) التضاريس.

(ب) أذكرى ثلاثة من مظاهر الصدق:

(1) تجنب الكذب والمبالغة.

(2) التأكد من الخبر قبل نقله.

(3) تجنب النش والتزوير.

8

(ب) صنفى الكلمات بما يناسبها في الجدول التالي:

| | | | |
|--------|--------|---------|----------------|
| الآثار | المتحف | التعليم | التزام الأنظمة |
|--------|--------|---------|----------------|

| | | | |
|------------------------------|------------------------------|-------------------|-----------------|
| تعرض فيه المقتنيات التاريخية | علم يعتني بالموافق التاريخية | من واجبات المواطن | من حقوق المواطن |
| المتحف | الآثار | التزام الأنظمة | التعليم |

تمت الأسئلة

تمنياتي لكن بالتوفيق

| | | |
|--------|---|---|
| المادة | بسم الله الرحمن الرحيم أسئلة اختبار مادة الدراسات الاجتماعية الفصل الدراسي الثالث للعام الدراسي ١٤٤٥ - ١٤٤٦ هـ للصف السادس الابتدائي  وزارة التعليم Ministry of Education | المملكة العربية السعودية وزارة التعليم |
| الصف | | |
| الزمن | | ساعة ونصف |
| الدور | الأول | |

اسم الطالب : الفصل : الرقم :

| | | |
|-------------|----------|----------------|
| اسم المصحح | توقيعه : | الدرجة كتابة : |
| اسم المراجع | توقيعه : | ٤٠ |

السؤال الأول أ/ ضع علامة (✓) أمام العبارة الصحيحة وعلامة (x) أمام العبارة الخاطئة مما يلي :

- ١- تولى الملك سلمان بن عبدالعزيز الحكم خلفاً لأخيه الملك عبدالله يرحمه الله ()
- ٢- تلقى الملك سلمان بن عبدالعزيز تعليمه في مدرسة الأمراء بالرياض ()
- ٣- قضى الملك سلمان بن عبدالعزيز أميراً على منطقة الرياض ٥٨ عاماً ()
- ٤- عُرف الملك سلمان بن عبدالعزيز " حفظه الله " بالدقة والانضباط في العمل ()
- ٥- برنامج جودة الحياة من برامج تحقيق رؤية المملكة ()
- ٦- مشروع نيوم من أكبر المشروعات طموحاً ويقع شمال غرب المملكة ()
- ٧- أعلنت رؤية المملكة ٢٠٣٠ في عهد الملك عبدالله بن عبدالعزيز " رحمه الله " ()
- ٨- التخصيص ليس استثماراً فاعلاً ()
- ٩- تحسين مستوى العيش ونمط الحياة من أسس برنامج جودة الحياة ()
- ١٠- من عوامل نجاح رؤية المملكة ٢٠٣٠ العمق الإسلامي والعربي ()
- ١١- من ركائز رؤية المملكة ٢٠٣٠ قدرات المملكة الإستثمارية الضخمة ()
- ١٢- حصلت المرأة السعودية على حق التصويت في الانتخابات البلدية في عهد الملك سلمان ()
- ١٣- قضية فلسطين هي القضية التي اعتنى بها خادم الحرمين الشريفين الملك سلمان بن عبدالعزيز ()
- ١٤- الملاعب والمتاحف والمطاعم من الأماكن الترفيهية لتحسين نمط الحياة ()
- ١٥- اسم نيوم يعني المستقبل الجديد ()

ب/ ضع الرقم من المجموعة (أ) أمام ما يناسبه من المجموعة (ب) فيما يلي :

| (أ) | (ب) |
|---|--|
| ١- من صفات الملك سلمان بن عبدالعزيز | () مكافحة الفساد وتعزيز النزاهة |
| ٢- برنامج ادفع ريبالا تنفذ عربيا | () أحد برامج رؤية المملكة |
| ٣- برنامج تنمية القدرات البشرية | () تخصيص ٢٠ مليار لبرنامج الإسكان |
| ٤- من إنجازات الملك سلمان بن عبدالعزيز | () أعده الملك سلمان لمساعدة الفلسطينيين |
| ٥- من قرارات المئة يوم الأولى للملك سلمان | () محبته للمجتمع |

السؤال الثاني / اختر الإجابة الصحيحة مما يلي :

١- تولى خادم الحرمين الشريفين الملك سلمان بن عبدالعزيز الحكم في عام :

أ- ١٤٣٦ هـ ب- ١٤٤٠ هـ ج- ١٤١٦ هـ

٢- تم إعلان رؤية المملكة ٢٠٣٠ في عام :

أ- ١٤٣٠ هـ ب- ١٤٣٧ هـ ج- ١٤٣٣ هـ

٣- تم إنشاء المركز العالمي لمكافحة الفكر المتطرف (اعتدال) في عهد الملك :

أ- فهد بن عبدالعزيز ب- عبدالله بن عبدالعزيز ج- سلمان بن عبدالعزيز

٤- اتخذ الملك سلمان عددا من الاجراءات لحماية صحة المواطنين و المقيمين في المملكة العربية السعودية لمواجهة :

أ- جائحة كورونا ب- الفكر المتطرف ج- الإرهاب

٥- من جوانب عناية خادم الحرمين الشريفين بالتاريخ والتراث افتتاح حي الطريف في :

أ- حريملاء ب- الدرعية ج- القصيم

٦- أشرف على مشروع نيوم صاحب السمو الملكي الأمير :

أ- سلطان بن سلمان ب- الوليد بن طلال ج- محمد بن سلمان

ب / أكمل الفراغات التالية بما يناسبها من الكلمات الآتية :

(القطبين - خط الاستواء - ٣٦٠ - وهمية - صفر - متساوية - ١٨٠ - خط جرينتش - موازية)

تتصف خطوط الطول بأنها وعددها خطأ وخطها الرئيس

هو ودرجته وتلتقي جميع خطوط الطول

تتصف دوائر العرض بأنها و غير لخط الاستواء عددها

دائرة وخطها الرئيس هو

السؤال الثالث / اكتب المفهوم الذي تمثله كل عبارة مما يأتي :

(الرؤية - خطوط الطول - السكان - الموقع الجغرافي - التعداد السكاني)

١- (.....) يقصد به موقع وطني المملكة العربية السعودية بالنسبة للعالم والدول المجاورة .

٢- (.....) هي أنصاف دوائر وهمية متساوية تتقاطع عند القطبين .

٣- (.....) هي خطة مستقبلية للطموحات والأهداف التي نريد تحقيقها .

٤- (.....) هم المواطنون والمقيمون في الوطن من ذكور وإناث .

٥- (.....) هو حصر شامل لكل الأفراد في الوطن وجمع معلومات عن خصائصهم .

انتهت الأسئلة

مع تمنياتي للجميع بالتوفيق

موقع

مادنتيري

نموذج الإجابة

| | |
|--|-------------------|
| المادة | |
| الصف | |
| الزمن | ساعة ونصف |
| الدور | الأول |
| Ministry of Education | |
| اسم الطالب : الفصل : الرقم : | |
| اسم المصحح | توقيعه : |
| اسم المراجع | توقيعه : |
| | الدرجة كتابة : ٤٠ |

- السؤال الأول أ/ ضع علامة (✓) أمام العبارة الصحيحة وعلامة (x) أمام العبارة الخاطئة مما يلي :
- ١- تولى الملك سلمان بن عبدالعزيز الحكم خلفاً لأخيه الملك عبدالله يرحمه الله (صح)
 - ٢- تلقى الملك سلمان بن عبدالعزيز تعليمه في مدرسة الأمراء بالرياض (صح)
 - ٣- قضى الملك سلمان بن عبدالعزيز أميراً على منطقة الرياض ٥٨ عاماً (صح)
 - ٤- عُرف الملك سلمان بن عبدالعزيز " حفظة الله " بالدقة والانضباط في العمل (صح)
 - ٥- برنامج جودة الحياة من برامج تحقيق رؤية المملكة (صح)
 - ٦- مشروع نيوم من أكبر المشروعات طموحاً ويقع شمال غرب المملكة (صح)
 - ٧- أعلنت رؤية المملكة ٢٠٣٠ في عهد الملك عبدالله بن عبدالعزيز " رحمه الله " (خطأ)
 - ٨- التخصيص ليس استثماراً فاعلاً (خطأ)
 - ٩- تحسين مستوى العيش ونمط الحياة من أسس برنامج جودة الحياة (صح)
 - ١٠- من عوامل نجاح رؤية المملكة ٢٠٣٠ العمق الإسلامي والعربي (صح)
 - ١١- من ركائز رؤية المملكة ٢٠٣٠ قدرات المملكة الإستثمارية الضخمة (صح)
 - ١٢- حصلت المرأة السعودية على حق التصويت في الانتخابات البلدية في عهد الملك سلمان (صح)
 - ١٣- قضية فلسطين هي القضية التي اعتنى بها خادم الحرمين الشريفين الملك سلمان بن عبدالعزيز (صح)
 - ١٤- الملاعب والمتاحف والمطاعم من الأماكن الترفيهية لتحسين نمط الحياة (صح)
 - ١٥- اسم نيوم يعني المستقبل الجديد (صح)

ب/ ضع الرقم من المجموعة (أ) أمام ما يناسبه من المجموعة (ب) فيما يلي :

| (أ) | (ب) |
|---|--|
| ١- من صفات الملك سلمان بن عبدالعزيز | (٤) مكافحة الفساد وتعزيز النزاهة |
| ٢- برنامج ادفع ريالاً تنفذ عربياً | (٣) أحد برامج رؤية المملكة |
| ٣- برنامج تنمية القدرات البشرية | (٥) تخصيص ٢٠ مليار لبرنامج الإسكان |
| ٤- من إنجازات الملك سلمان بن عبدالعزيز | (٢) أعده الملك سلمان لمساعدة الفلسطينيين |
| ٥- من قرارات المئة يوم الأولى للملك سلمان | (١) محبته للمجتمع |

يتبع ←

السؤال الثاني / اختر الإجابة الصحيحة مما يلي :

- ١- تولى خادم الحرمين الشريفين الملك سلمان بن عبدالعزيز الحكم في عام :
أ- ١٤٣٦ هـ ب- ١٤٤٠ هـ ج- ١٤١٦ هـ
- ٢- تم إعلان رؤية المملكة ٢٠٣٠ في عام :
أ- ١٤٣٠ هـ ب- ١٤٣٧ هـ ج- ١٤٣٣ هـ
- ٣- تم إنشاء المركز العالمي لمكافحة الفكر المتطرف (اعتدال) في عهد الملك :
أ- فهد بن عبدالعزيز ب- عبدالله بن عبدالعزيز ج- سلمان بن عبدالعزيز
- ٤- اتخذ الملك سلمان عددا من الاجراءات لحماية صحة المواطنين و المقيمين في المملكة العربية السعودية لمواجهة :
أ- جائحة كورونا ب- الفكر المتطرف ج- الإرهاب
- ٥- من جوانب عناية خادم الحرمين الشريفين بالتاريخ والتراث افتتاح حي الطريف في :
أ- حريملاء ب- الدرعية ج- القصيم
- ٦- أشرف على مشروع نيوم صاحب السمو الملكي الأمير :
أ- سلطان بن سلمان ب- الوليد بن طلال ج- محمد بن سلمان

ب / أكمل الفراغات التالية بما يناسبها من الكلمات الآتية :
(القطبين - خط الاستواء - ٣٦٠ - وهمية - صفر - متساوية - ١٨٠ - خط جرينتش - موازية)
تتصف خطوط الطول بأنها **وهمية** وعددها **٣٦٠** خطأ وخطها الرئيس هو **جرينتش** ودرجته **صفر** وتلتقي جميع خطوط الطول عند **القطبين**
تتصف دوائر العرض بأنها **متوازية** و غير **متساوية** لخط الاستواء عددها **١٨٠**
دائرة وخطها الرئيس هو **خط الاستواء**

السؤال الثالث / اكتب المفهوم الذي تمثله كل عبارة مما يأتي :

(الرؤية - خطوط الطول - السكان - الموقع الجغرافي - التعداد السكاني)

- ١- (**الموقع الجغرافي**) يقصد به موقع وطني المملكة العربية السعودية بالنسبة للعالم والدول المجاورة .
- ٢- (**خطوط الطول**) هي أنصاف دوائر وهمية متساوية تتقاطع عند القطبين .
- ٣- (**الرؤية**) هي خطة مستقبلية للطموحات والأهداف التي نريد تحقيقها .
- ٤- (**السكان**) هم المواطنون والمقيمون في الوطن من ذكور وإناث .
- ٥- (**التعداد السكاني**) هو حصر شامل لكل الأفراد في الوطن وجمع معلومات عن خصائصهم .