

تم تحميل وعرض المادة من



موقع مادتي هو موقع تعليمي يعمل على مساعدة المعلمين والطلاب وأولياء الأمور في تقديم حلول الكتب المدرسية والاختبارات وشرح الدروس والملاحظات والتحاير وتوزيع المنهج لكل المراحل الدراسية بشكل واضح وسهل مجاناً بتصفح وعرض مباشر أونلاين وتحميل على موقع مادتي

حمل تطبيق مادتي ليصلك كل جديد



نموذج اسئلة الاختبار النهائي لمادة الدراسات الاجتماعية للفصل الدراسي الثالث 1446هـ			
الدور	الاول	الزمن	ساعة واحدة
الصف	الثالث المتوسط	عدد الاوراق	4
الدرجة النهائية	40 درجة	عدد الأسئلة	3

درجة السؤال الاول	درجة السؤال الثاني	درجة السؤال الثالث	مجموع درجات الطالب

المصحح	محمد القرني	المراجع	المدقق
التوقيع		التوقيع	التوقيع

اسم الطالب	إعداد / محمد القرني	
رقم الجلوس	الفصل	

تعليمات هامة
✓ التوكل على الله وتذكر حديث نبينا محمد صلى الله عليه وسلم حيث قال (من غشنا فليس منا)
✓ اكتب اسمك الرباعي كاملا في الصفحة الأولى وفصلك (أ أو ب) فقط
✓ تأكد من عدد الأسئلة انها ثلاثة أسئلة
✓ الكتابة تكون بالقلم الأزرق الجاف
✓ الالتزام بالهدوء في قاعة الاختبار
✓ تأكد من جوابك على جميع الأسئلة
✓ الخروج من قاعة الاختبار بعد مضي نصف الوقت

6 درجات	عزيزي الطالب مما درست أكمل الفراغات التالية بكلمات مناسبة ؟	أ
	تنقسم الخرائط وفق الغرض منها الى نوعين هما خرائط وخرائط	1
	معايير اختيار المهنة و	2
	يقوم العمل المساحي على عمليتين هما و	3

درجتين	علل للتالي (بم تفسر) ؟	ب
--------	--------------------------	---

	أهمية الانتماء للوطن (سببين فقط) :	1
.....		
	إصدار مجلس الوزراء في وطننا لائحة المحافظة على الذوق العام :	2
.....		

4 درجات	صنّف ما يأتي حسب الجدول أدناه ؟	ج
---------	---------------------------------	---

(توفير الأمن - الولاء لولي الأمر (الملك) - الافتخار بمنجزات الوطن - الحكم بالعدل والمساواة)

حقوق المواطن السعودي	واجبات المواطن السعودي



أ اختر الإجابة الصائبة فيما يأتي بوضع دائرة على الخيار الصائب ؟ 6 درجات

1	أ	مفتاح الخريطة	ب	مقياس الرسم	ج	اتجاه الخريطة	د	إطار الخريطة	النسبة بين البعد على الخريطة وما يقابله على الطبيعة هو :
2	أ	نظام مترابط يساعد على تحديد احداثيات أي مكان بدقة عالية :	ب	علم المساحة	ج	الصور الجوية	د	شبكة الاحداثيات	نظام مترابط يساعد على تحديد احداثيات أي مكان بدقة عالية :
3	أ	العمل الحكومي	ب	العمل المؤسسي	ج	العمل التطوعي	د	الذوق العام	ممارسة إنسانية ارتبطت بكل معاني الخير و الحب عند المجتمع :
4	أ	التطوع	ب	العمل	ج	الذوق العام	د	المسؤولية	قدرة الشخص على أداء واجباته و تحمّل نتائج أقواله و أفعاله :
5	أ	البطالة الوظيفية	ب	البطالة الاختيارية	ج	البطالة المقنعة	د	البطالة الهيكلية	يوصف بها من يقدر على العمل و لا يرغب فيه على الرغم من توفر الفرص :
6	أ	الاقتصاد الوطني	ب	العمل	ج	الانجاز الذاتي	د	الانتاج	ما ينجزه النشاط البشري من سلع او خدمات منتجة :

ب وضّح و اشرح (بإيجاز) في المواضيع التالية ؟ 4 درجات

1	برنامج جودة الحياة :
2	صفات الفرد المنجز :

ج عزيري الطالب من تجاربك الشخصية في تحمّل المسؤولية حدد نوعها في التالي ؟ درجتين

تطوير مهاراتك في اللغة الانجليزية	زيارة الاقارب
-----------------------------------	---------------

اقلب الورقة

4 درجات

ضع الرقم المناسب أمام المجموعة الأولى أمام ما يناسبها من المجموعة الثانية؟

الرقم	المجموعة الأولى	الرقم	المجموعة الثانية
1	الخرائط المناخية		تمثل الحدود بين الدول
2	الخرائط السكانية		تمثل توزيع الغابات المطيرة
3	الخرائط التاريخية		تمثل اتجاه الرياح في فصل الصيف
4	الخرائط السياسية		تمثل مواقع المعارك و امتداد الدول
			تمثل الكثافة البشرية و توزيعها في مكان محدد

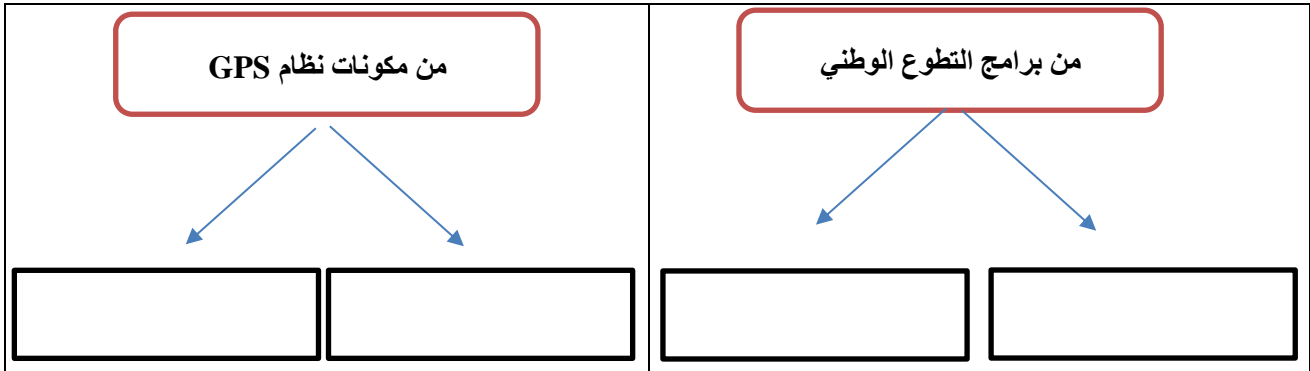
4 درجات

قارن بين الخريطة و الصور الجوية وفق الجدول أدناه ؟

الخريطة	وجه المقارنة	الصور الجوية
	مفتاح الخريطة	
	تفاصيل سطح الارض	

4 درجات

اكمل خرائط المفاهيم التالية ؟



4 درجات

ضع علامة (√) أمام العبارة الصائبة و علامة (×) أمام العبارة الخاطئة ؟

1	حث الاسلام على العمل و الانجاز
2	من سمات المواطن السعودي الصالح ان يكون منتمياً و محباً لوطنه
3	تعبيرك عن مشاعرك بهدوء و وضوح من آداب الذوق العام
4	تتولى وزارة الصحة تنظيم العمل التطوعي و تمكينه و نشر ثقافته في المجتمع

انتهت الأسئلة

مدير المدرسة: الأستاذ

معلم المادة: الأستاذ

نموذج اسئلة الاختبار النهائي
المادة: الدراسات الاجتماعية
الصف: الثالث المتوسط
الفصل الدراسي الثالث
1446هـ



المملكة العربية السعودية
وزارة التعليم
إدارة التعليم
مكتب تعليم

نموذج الاجابة

نموذج اسئلة الاختبار النهائي لمادة الدراسات الاجتماعية للفصل الدراسي الثالث 1446هـ

الدور	الاول	الزمن	ساعة واحدة
الصف	الثالث المتوسط	عدد الاوراق	4
الدرجة النهائية	40 درجة	عدد الأسئلة	3

درجة السؤال الاول	درجة السؤال الثاني	درجة السؤال الثالث	مجموع درجات الطالب
12	12	16	40
اثنا عشرة درجة	اثنا عشرة درجة	ست عشرة درجة	اربعون درجة

المصحح	محمد القرني	المراجع	المدقق
التوقيع		التوقيع	التوقيع

اسم الطالب	إعداد / محمد القرني
رقم الجلوس	نموذج اجابة الفصل

تعليمات هامة

- ✓ التوكل على الله وتذكر حديث نبينا محمد صلى الله عليه وسلم حيث قال (من غشنا فليس منا)
- ✓ اكتب اسمك الرباعي كاملا في الصفحة الأولى وفصلك (أ أو ب) فقط
- ✓ تأكد من عدد الأسئلة انها ثلاثة أسئلة
- ✓ الكتابة تكون بالقلم الأزرق الجاف
- ✓ الالتزام بالهدوء في قاعة الاختبار
- ✓ تأكد من جوابك على جميع الأسئلة
- ✓ الخروج من قاعة الاختبار بعد مضي نصف الوقت

6 درجات	أ
عزيزي الطالب ممّا درست أكمل الفراغات التالية بكلمات مناسبة ؟	
تنقسم الخرائط وفق الغرض منها الى نوعين هما خرائط طبيعية و خرائط بشرية	1
معايير اختيار المهنة التخصص و الميول	2
يقوم العمل المساحي على عمليتين هما الرفع و التوقيع	3

درجتين	ب
علل للتالي (بم تفسر) ؟	
أهمية الانتماء للوطن (سببين فقط) :	1
تحقيق أمر شرعي أمر الله به و تعزيز الوحدة الوطنية	
إصدار مجلس الوزراء في وطننا لائحة المحافظة على الذوق العام :	2
لحماية المجتمع من السلوكيات المخالفة	

4 درجات	ج
صنّف ما يأتي حسب الجدول أدناه ؟	
(توفير الأمن - الولاء لولي الأمر (الملك) - الافتخار بمنجزات الوطن - الحكم بالعدل والمساواة)	
حقوق المواطن السعودي	واجبات المواطن السعودي
توفير الأمن	الولاء لولي الأمر (الملك)
الحكم بالعدل و المساواة	الافتخار بمنجزات الوطن



اختر الإجابة الصائبة فيما يأتي بوضع دائرة على الخيار الصائب ؟ 6 درجات

1	أ	مفتاح الخريطة	ب	مقياس الرسم	ج	اتجاه الخريطة	د	إطار الخريطة	النسبة بين البعد على الخريطة وما يقابله على الطبيعة هو :
2	أ	نظام مترابط يساعد على تحديد احداثيات أي مكان بدقة عالية :	ب	علم المساحة	ج	الصور الجوية	د	شبكة الاحداثيات	نظام مترابط يساعد على تحديد احداثيات أي مكان بدقة عالية :
3	أ	العمل الحكومي	ب	العمل المؤسسي	ج	العمل التطوعي	د	الذوق العام	ممارسة إنسانية ارتبطت بكل معاني الخير و الحب عند المجتمع :
4	أ	التطوع	ب	العمل	ج	الذوق العام	د	المسؤولية	قدرة الشخص على أداء واجباته و تحمّل نتائج أقواله و أفعاله :
5	أ	البطالة الوظيفية	ب	البطالة الاختيارية	ج	البطالة المقنعة	د	البطالة الهيكلية	يوصف بها من يقدر على العمل و لا يرغب فيه على الرغم من توفر الفرص :
6	أ	الاقتصاد الوطني	ب	العمل	ج	الانجاز الذاتي	د	الانتاج	ما ينجزه النشاط البشري من سلع او خدمات منتجة :

وضّح و اشرح (بإيجاز) في المواضيع التالية ؟ 4 درجات

1	برنامج جودة الحياة :
	من برامج لرؤية المملكة 2030 ويخدم عدة جوانب ومنها الجانب الاقتصادي و يسهم في خفض البطالة و توفير فرص العمل
2	صفات الفرد المنجز :
	يلتزم بالمواعيد و ينظم وقته و يسعى دائماً للتميز و يتغلب على العوائق التي تواجهه و ينجز اعماله في وقتها و بإتقان

عززي الطالب من تجاربك الشخصية في تحمل المسؤولية حدد نوعها في التالي ؟ درجتين

تطوير مهاراتك في اللغة الانجليزية	زيارة الاقارب
مسؤولية شخصية	مسؤولية اجتماعية

اقلب الورقة

4 درجات

ضع الرقم المناسب أمام المجموعة الأولى أمام ما يناسبها من المجموعة الثانية؟

أ

المجموعة الثانية	الرقم	المجموعة الأولى	الرقم
تمثل الحدود بين الدول	4	الخرائط المناخية	1
تمثل توزيع الغابات المطيرة		الخرائط السكانية	2
تمثل اتجاه الرياح في فصل الصيف	1	الخرائط التاريخية	3
تمثل مواقع المعارك و امتداد الدول	3	الخرائط السياسية	4
تمثل الكثافة البشرية و توزيعها في مكان محدد	2		

4 درجات

قارن بين الخريطة و الصور الجوية وفق الجدول أدناه ؟

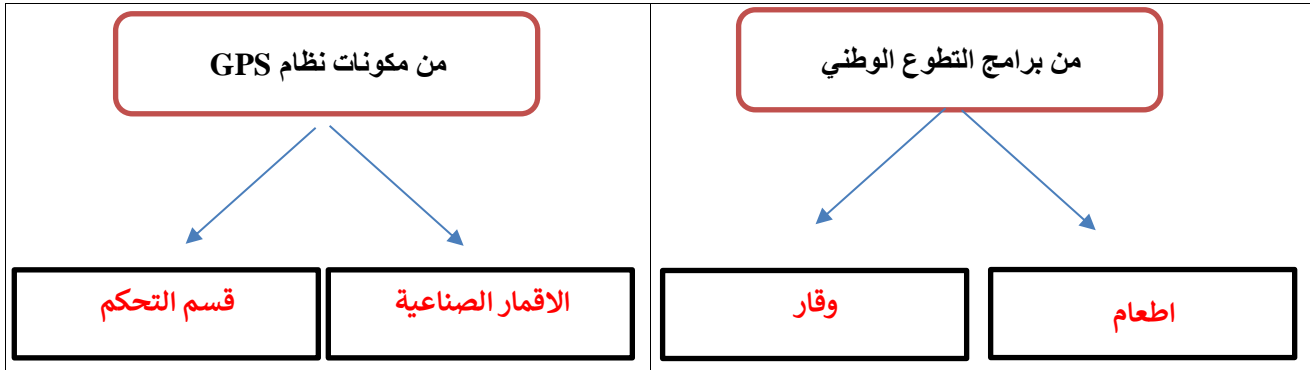
ب

الصور الجوية	وجه المقارنة	الخريطة
لا تحتاج	مفتاح الخريطة	تحتاج
تظهر جميع التفاصيل	تفاصيل سطح الارض	توضح تفاصيل محددة

4 درجات

اكمل خرائط المفاهيم التالية ؟

ج



4 درجات

ضع علامة (√) أمام العبارة الصائبة و علامة (×) أمام العبارة الخاطئة ؟

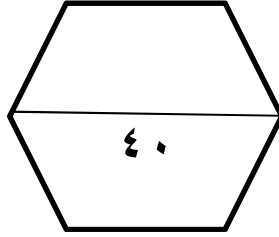
د

✓	حث الاسلام على العمل و الانجاز	1
✓	من سمات المواطن السعودي الصالح ان يكون منتمياً و محباً لوطنه	2
✓	تعبيرك عن مشاعرك بهدوء و وضوح من آداب الذوق العام	3
×	تتولى وزارة الصحة تنظيم العمل التطوعي و تمكينه و نشر ثقافته في المجتمع	4

انتهت الأسئلة

مدير المدرسة: الأستاذ

معلم المادة: الأستاذ



الدرجة رقماً

السؤال

س ١

س ٢

س ٣

عزيز الطالب / استعن بالله ثم أجب عن الأسئلة

التالية :

المادة

الدراسات الاجتماعية

اسم الطالب:

رقم الجلوس:

أسئلة الاختبار النهائي للفصل الدراسي الثالث

للعام الدراسي ١٤٤٦ هـ

السؤال الأول : أجب بعلامة (√) أمام العبارة الصحيحة وعلامة (X) أمام العبارة الخاطئة :

()	١) يحدد إطار الخريطة بعد الانتهاء من رسمها .
()	٢) الخريطة لا توضح الظواهر المتحركة .
()	٣) الصورة الجوية توضح خطوط الطول ودوائر العرض .
()	٤) يشير مؤشر اتجاه الخريطة دائماً نحو جهة الشمال .
()	٥) من فوائد إطار الخريطة تحديد الجزء الذي تمثله الخريطة .
()	٦) التوقيع هو نقل المعلومات من الخريطة إلى الطبيعة .
()	٧) من أهمية الإنجاز الذاتي الطموح .
()	٨) من حقوق المواطن السعودي الانتماء والولاء للوطن .
()	٩) ينقسم التطوع إلى قسمين تطوع فردي وتطوع مؤسسي .
()	١٠) من مجالات التطوع خدمة التراث .

السؤال الثاني : اختر الإجابة الصحيحة في الجمل التالية وذلك بوضع علامة (√) في المربع الذي أمامك :

١	هي وسيلة لتمثيل سطح الكرة الأرضية أو جزء منه بظواهره الطبيعية والبشرية على لوحة مستوية :	٢	هي الخرائط التي تمثل عليها الظواهر الطبيعية التي خلقها الله والتي لا أثر للإنسان في نشأتها :
أ- <input type="checkbox"/>	مقياس الرسم	أ- <input type="checkbox"/>	الخرائط البشرية
ب- <input type="checkbox"/>	الخريطة	ب- <input type="checkbox"/>	الخرائط الطبيعية
ج- <input type="checkbox"/>	علم المساحة	ج- <input type="checkbox"/>	الخرائط التضاريسية
د- <input type="checkbox"/>	الصورة الجوية	د- <input type="checkbox"/>	الخرائط السياسية
٣	توضح طريقة هجرة نبينا محمد صلى الله عليه وسلم من مكة المكرمة إلى المدينة المنورة خريطة :	٤	هي صورة لجزء من سطح الأرض تلتقط بالطائرات أو المناطيد المزودة بالكاميرات التصويرية : يقصد بها خطوط الطول ودوائر العرض :
أ- <input type="checkbox"/>	اقتصادية	أ- <input type="checkbox"/>	عنوان الخريطة
ب- <input type="checkbox"/>	مناخية	ب- <input type="checkbox"/>	إطار الخريطة
ج- <input type="checkbox"/>	تاريخية	ج- <input type="checkbox"/>	الصور الجوية
د- <input type="checkbox"/>	سياسية	د- <input type="checkbox"/>	مقياس الرسم

٥	أفضل أنواع المقاييس هو المقياس :	٦	يقصد بما خطوط الطول ودوائر العرض :
أ-	<input type="checkbox"/> الخطي	أ-	<input type="checkbox"/> الظواهر الطبيعية
ب-	<input type="checkbox"/> الكتاني	ب-	<input type="checkbox"/> الاحداثيات
ج-	<input type="checkbox"/> النسبي	ج-	<input type="checkbox"/> الخريطة
د-	<input type="checkbox"/> الكسري	د-	<input type="checkbox"/> شبكة الإحداثيات
٧	من فوائد نظام تحديد المواقع :	٨	المساحة الفلكية تكون لمعرفة الحسابات الفلكية مثل :
أ-	<input type="checkbox"/> تحديد المواقع تحديداً دقيقاً	أ-	<input type="checkbox"/> معرفة الشهور
ب-	<input type="checkbox"/> تحديد اتجاه القبلة	ب-	<input type="checkbox"/> أوقات الصلاة
ج-	<input type="checkbox"/> إرشاد السفن والطائرات	ج-	<input type="checkbox"/> تحديد القبلة
د-	<input type="checkbox"/> جميع ما سبق	د-	<input type="checkbox"/> جميع ما سبق
٩	من واجبات المواطن السعودي :	١٠	من فوائد الانتماء للوطن :
أ-	<input type="checkbox"/> توفير الرعاية الصحية	أ-	<input type="checkbox"/> توفير الرعاية الصحية
ب-	<input type="checkbox"/> الاعتزاز بالوطن والافتخار به	ب-	<input type="checkbox"/> تعزيز الوحدة الوطنية
ج-	<input type="checkbox"/> توفير التعليم العام	ج-	<input type="checkbox"/> توفير التعليم العام
د-	<input type="checkbox"/> جميع ما سبق	د-	<input type="checkbox"/> لا شيء مما سبق
١١	مجهود إرادي يؤديه الفرد لإنتاج سلعة أو تقديم خدمة مقابل الحصول على أجر	١٢	تم اكتشاف النفط عام :
أ-	<input type="checkbox"/> الموارد	أ-	<input type="checkbox"/> ١٣٥٥ هـ
ب-	<input type="checkbox"/> الانتاج	ب-	<input type="checkbox"/> ١٣٥٦ هـ
ج-	<input type="checkbox"/> العمل	ج-	<input type="checkbox"/> ١٣٥٧ هـ
د-	<input type="checkbox"/> لا شيء مما سبق	د-	<input type="checkbox"/> ١٣٥٨ هـ
١٣	من آثار التضخم :	١٤	يوصف بما من تتوافر لديهم مهارات ولا تتوافر لهم فرص عمل :
أ-	<input type="checkbox"/> ارتفاع نسبة البطالة	أ-	<input type="checkbox"/> البطالة المقنعة
ب-	<input type="checkbox"/> ارتفاع أجور العاملين	ب-	<input type="checkbox"/> البطالة الوظيفية
ج-	<input type="checkbox"/> الطلب المستمر على السلع والخدمات مع قلة العرض	ج-	<input type="checkbox"/> البطالة الاختيارية
د-	<input type="checkbox"/> كل من أ و ب	د-	<input type="checkbox"/> البطالة الهيكلية
١٥	من يسخر نفسه ووقته وجهده أو ماله بطوعية لمساعدة الآخرين :	١٦	مساعدة إنسانية ارتبطت بكل معاني الخير عند المجموعات البشرية :
أ-	<input type="checkbox"/> التطوع	أ-	<input type="checkbox"/> المواطن الصالح
ب-	<input type="checkbox"/> المواطن الصالح	ب-	<input type="checkbox"/> التطوع
ج-	<input type="checkbox"/> العمل التطوعي	ج-	<input type="checkbox"/> المتطوع
د-	<input type="checkbox"/> المتطوع	د-	<input type="checkbox"/> العمل التطوعي
١٧	من صفات المتطوع :	١٨	من فوائد التطوع على النفس :
أ-	<input type="checkbox"/> الأناية	أ-	<input type="checkbox"/> مساندة الجهود الحكومية
ب-	<input type="checkbox"/> الإيثار	ب-	<input type="checkbox"/> المهارات والخبرات
ج-	<input type="checkbox"/> عدم الإخلاص في العمل	ج-	<input type="checkbox"/> تحقيق الأمن الشامل
د-	<input type="checkbox"/> عدم المسؤولية	د-	<input type="checkbox"/> لا شيء مما سبق

١٩	الجهة المسؤولة لبرنامج كن عوناً :	٢٠	من مجالات برنامج تكاتف :
أ-	<input type="checkbox"/> وزارة الحج والعمرة	أ-	<input type="checkbox"/> التدريب والتوعية في مجال العمل التطوعي
ب-	<input type="checkbox"/> الجمعية السعودية للعمل التطوعي	ب-	<input type="checkbox"/> توفير الرعاية والخدمات الصحية التي تلي احتياجات كبار السن
ج-	<input type="checkbox"/> الجمعية السعودية لمساندة كبار السن	ج-	<input type="checkbox"/> توعية المجتمع بأهمية حفظ النعمة
د-	<input type="checkbox"/> الجمعية الخيرية للطعام	د-	<input type="checkbox"/> إرشاد ضيوف الرحمن

السؤال الثالث: اكتب الرقم المناسب من المجموعة (أ) أمام ما يناسبه من المجموعة (ب) :

مجموعة (أ)	الاجابة	مجموعة (ب)
١- المساحة الجيوديسية		الغرض منها إنشاء الخرائط التفصيلية وبيان المعالم وبعض التفاصيل .
٢- المساحة المستوية		الغرض منها رسم الخرائط التفصيلية من أجل بيان ما تحويه الأرض من معالم طبيعية وبشرية .
٣- عنوان الخريطة		تعني الأعمال المساحية التي تغطي جزء صغير من سطح الأرض دون الاهتمام بكروية الأرض .
٤- نظام (GPS)		تعني تحديد نقط على سطح الأرض للمساحات الشاسعة مع الأخذ في الحسبان بكروية الأرض .
٥- المساحة التفصيلية		الاسم الذي يحدد موضوع الخريطة .
٦- المساحة الطبوغرافية		نظام مترابط يساعد على تحديد احداثيات أي مكان على سطح الأرض بدقة عالية وفق خطوط الطول ودوائر العرض .
٧- المسؤولية		هو بذل الجهد والوقت أو المال أو الثلاثة معاً عن رغبة واختيار بغرض أداء خدمة اجتماعية أو مبادرة ذاتية دون توقع أجر مالي .
٨- الإنجاز الذاتي		هي زيادة الأسعار تصاعدياً بسبب الطلب الذي يزيد على قدرة العرض .
٩- التضخم		هي قدرة الشخص على أداء واجباته وتحمل نتائج أقواله وأفعاله .
١٠- التطوع		هو حالة داخلية مستمرة مرتبطة بمشاعر الفرد .

انتهت الأسئلة

مع تمنياتي لكم بالتوفيق والنجاح

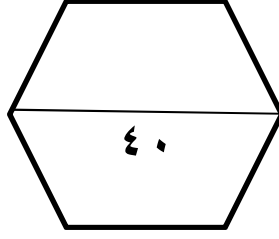
إعداد : خالد الحربي

موقع
مادنتري

نموذج الاجابة

المملكة العربية السعودية
وزارة التعليم
الإدارة العامة للتعليم بمحافظة
متوسطة

Ministry of Education



المادة	الصف	زمن الاختبار
الدراسات الاجتماعية	ثالث متوسط	ساعة ونصف
اسم الطالب:		
رقم الجلوس:		
أستلة الاختبار النهائي للفصل الدراسي الثالث للعام الدراسي ١٤٤٦ هـ		

عزيز الطالب / استعن بالله ثم أجب عن الأسئلة
التالية :

السؤال الأول : أجب بعلامة (√) أمام العبارة الصحيحة وعلامة (X) أمام العبارة الخاطئة :

(X)	١) يحدد إطار الخريطة بعد الانتهاء من رسمها .
(✓)	٢) الخريطة لا توضح الظواهر المتحركة .
(X)	٣) الصورة الجوية توضح خطوط الطول ودوائر العرض .
(✓)	٤) يشير مؤشر اتجاه الخريطة دائما نحو جهة الشمال .
(✓)	٥) من فوائد إطار الخريطة تحديد الجزء الذي تمثله الخريطة .
(✓)	٦) التوقيع هو نقل المعلومات من الخريطة إلى الطبيعة .
(X)	٧) من أهمية الإنجاز الذاتي الطموح .
(X)	٨) من حقوق المواطن السعودي الانتماء والولاء للوطن .
(✓)	٩) ينقسم التطوع إلى قسمين تطوع فردي وتطوع مؤسسي .
(✓)	١٠) من مجالات التطوع خدمة التراث .

السؤال الثاني : اختر الإجابة الصحيحة في الجمل التالية وذلك بوضع علامة (√) في المربع الذي أمامك :

١	هي وسيلة لتمثيل سطح الكرة الأرضية أو جزء منه بظواهره الطبيعية والبشرية على لوحة مستوية :	٢	هي الخرائط التي تمثل عليها الظواهر الطبيعية التي خلقها الله والتي لا أثر للإنسان في نشأتها :
أ- <input type="checkbox"/>	مقياس الرسم	أ- <input type="checkbox"/>	الخرائط البشرية
ب- <input type="checkbox"/>	الخريطة	ب- <input type="checkbox"/>	الخرائط الطبيعية
ج- <input type="checkbox"/>	علم المساحة	ج- <input type="checkbox"/>	الخرائط التضاريسية
د- <input type="checkbox"/>	الصورة الجوية	د- <input type="checkbox"/>	الخرائط السياسية
٣	توضح طريقة هجرة نبينا محمد صلى الله عليه وسلم من مكة المكرمة إلى المدينة المنورة خريطة :	٤	هي صورة لجزء من سطح الأرض تلتقط بالطائرات أو المناطيد المزودة بالكاميرات التصويرية: يقصد بها خطوط الطول ودوائر العرض :
أ- <input type="checkbox"/>	اقتصادية	أ- <input type="checkbox"/>	عنوان الخريطة
ب- <input type="checkbox"/>	مناخية	ب- <input type="checkbox"/>	إطار الخريطة
ج- <input type="checkbox"/>	تاريخية	ج- <input type="checkbox"/>	الصور الجوية
د- <input type="checkbox"/>	سياسية	د- <input type="checkbox"/>	مقياس الرسم

٥	أفضل أنواع المقاييس هو المقياس :	٦	يقصد بما خطوط الطول ودوائر العرض :
أ-	<input type="checkbox"/> الخطي	أ-	<input type="checkbox"/> الظواهر الطبيعية
ب-	<input type="checkbox"/> الكتاني	ب-	<input type="checkbox"/> الاحداثيات
ج-	<input type="checkbox"/> النسي	ج-	<input type="checkbox"/> الخريطة
د-	<input type="checkbox"/> الكسري	د-	<input type="checkbox"/> شبكة الإحداثيات
٧	من فوائد نظام تحديد المواقع :	٨	المساحة الفلكية تكون لمعرفة الحسابات الفلكية مثل :
أ-	<input type="checkbox"/> تحديد المواقع تحديداً دقيقاً	أ-	<input type="checkbox"/> معرفة الشهور
ب-	<input type="checkbox"/> تحديد اتجاه القبلة	ب-	<input type="checkbox"/> أوقات الصلاة
ج-	<input type="checkbox"/> إرشاد السفن والطائرات	ج-	<input type="checkbox"/> تحديد القبلة
د-	<input type="checkbox"/> جميع ما سبق	د-	<input type="checkbox"/> جميع ما سبق
٩	من واجبات المواطن السعودي :	١٠	من فوائد الانتماء للوطن :
أ-	<input type="checkbox"/> توفير الرعاية الصحية	أ-	<input type="checkbox"/> توفير الرعاية الصحية
ب-	<input type="checkbox"/> الاعتزاز بالوطن والافتخار به	ب-	<input type="checkbox"/> تعزيز الوحدة الوطنية
ج-	<input type="checkbox"/> توفير التعليم العام	ج-	<input type="checkbox"/> توفير التعليم العام
د-	<input type="checkbox"/> جميع ما سبق	د-	<input type="checkbox"/> لا شيء مما سبق
١١	مجهود إرادي يؤديه الفرد لإنتاج سلعة أو تقديم خدمة مقابل الحصول على أجر	١٢	تم اكتشاف النفط عام :
أ-	<input type="checkbox"/> الموارد	أ-	<input type="checkbox"/> ١٣٥٥ هـ
ب-	<input type="checkbox"/> الانتاج	ب-	<input type="checkbox"/> ١٣٥٦ هـ
ج-	<input type="checkbox"/> العمل	ج-	<input type="checkbox"/> ١٣٥٧ هـ
د-	<input type="checkbox"/> لا شيء مما سبق	د-	<input type="checkbox"/> ١٣٥٨ هـ
١٣	من آثار التضخم :	١٤	يوصف بما من تتوافر لديهم مهارات ولا تتوافر لهم فرص عمل :
أ-	<input type="checkbox"/> ارتفاع نسبة البطالة	أ-	<input type="checkbox"/> البطالة المقنعة
ب-	<input type="checkbox"/> ارتفاع أجور العاملين	ب-	<input type="checkbox"/> البطالة الوظيفية
ج-	<input type="checkbox"/> الطلب المستمر على السلع والخدمات مع قلة العرض	ج-	<input type="checkbox"/> البطالة الاختيارية
د-	<input type="checkbox"/> كل من أ و ب	د-	<input type="checkbox"/> البطالة الهيكلية
١٥	من يسخر نفسه ووقته وجهده أو ماله بطوعية لمساعدة الآخرين :	١٦	مساعدة إنسانية ارتبطت بكل معاني الخير عند المجموعات البشرية :
أ-	<input type="checkbox"/> التطوع	أ-	<input type="checkbox"/> المواطن الصالح
ب-	<input type="checkbox"/> المواطن الصالح	ب-	<input type="checkbox"/> التطوع
ج-	<input type="checkbox"/> العمل التطوعي	ج-	<input type="checkbox"/> المتطوع
د-	<input type="checkbox"/> المتطوع	د-	<input type="checkbox"/> العمل التطوعي
١٧	من صفات المتطوع :	١٨	من فوائد التطوع على النفس :
أ-	<input type="checkbox"/> الأناية	أ-	<input type="checkbox"/> مساندة الجهود الحكومية
ب-	<input type="checkbox"/> الإبتار	ب-	<input type="checkbox"/> المهارات والخبرات
ج-	<input type="checkbox"/> عدم الإخلاص في العمل	ج-	<input type="checkbox"/> تحقيق الأمن الشامل
د-	<input type="checkbox"/> عدم المسؤولية	د-	<input type="checkbox"/> لا شيء مما سبق

١٩	الجهة المسؤولة لبرنامج كن عوناً :	٢٠	من مجالات برنامج تكاتف :
أ-	<input type="checkbox"/> وزارة الحج والعمرة	أ-	<input type="checkbox"/> التدريب والتوعية في مجال العمل التطوعي
ب-	<input type="checkbox"/> الجمعية السعودية للعمل التطوعي	ب-	<input type="checkbox"/> توفير الرعاية والخدمات الصحية التي تلي احتياجات كبار السن
ج-	<input type="checkbox"/> الجمعية السعودية لمساندة كبار السن	ج-	<input type="checkbox"/> توعية المجتمع بأهمية حفظ النعمة
د-	<input type="checkbox"/> الجمعية الخيرية للطعام	د-	<input type="checkbox"/> إرشاد ضيوف الرحمن

السؤال الثالث: اكتب الرقم المناسب من المجموعة (أ) أمام ما يناسبه من المجموعة (ب) :

مجموعة (أ)	الاجابة	مجموعة (ب)
١- المساحة الجيوديسية	٥	الغرض منها إنشاء الخرائط التفصيلية وبيان المعالم وبعض التفاصيل .
٢- المساحة المستوية	٦	الغرض منها رسم الخرائط التفصيلية من أجل بيان ما تحويه الأرض من معالم طبيعية وبشرية .
٣- عنوان الخريطة	٢	تعني الأعمال المساحية التي تغطي جزء صغير من سطح الأرض دون الاهتمام بكروية الأرض .
٤- نظام (GPS)	١	تعني تحديد نقط على سطح الأرض للمساحات الشاسعة مع الأخذ في الحسبان بكروية الأرض .
٥- المساحة التفصيلية	٣	الاسم الذي يحدد موضوع الخريطة .
٦- المساحة الطبوغرافية	٤	نظام مترابط يساعد على تحديد احداثيات أي مكان على سطح الأرض بدقة عالية وفق خطوط الطول ودوائر العرض .
٧- المسؤولية	١٠	هو بذل الجهد والوقت أو المال أو الثلاثة معاً عن رغبة واختيار بغرض أداء خدمة اجتماعية أو مبادرة ذاتية دون توقع أجر مالي .
٨- الإنجاز الذاتي	٩	هي زيادة الأسعار تصاعدياً بسبب الطلب الذي يزيد على قدرة العرض .
٩- التضخم	٧	هي قدرة الشخص على أداء واجباته وتحمل نتائج أقواله وأفعاله .
١٠- التطوع	٨	هو حالة داخلية مستمرة مرتبطة بمشاعر الفرد .

انتهت الأسئلة

مع تمنياتي لكم بالتوفيق والنجاح

إعداد : خالد الحربي

موقع
مادنتيري

نموذج اسئلة الاختبار النهائي لمادة الدراسات الاجتماعية للفصل الدراسي الثالث 1446هـ			
الدور	الاول	الزمن	ساعة ونصف
الصف	الثالث المتوسط	عدد الاوراق	4
الدرجة النهائية	40 درجة	عدد الأسئلة	3

درجة السؤال الاول	درجة السؤال الثاني	درجة السؤال الثالث	مجموع درجات الطالب/ة

المصحح/ة	المراجع/ة	المدقق/ة	التوقيع

اسم الطالب/ة	نموذج مقترح (أسئلة موضوعية) مستوى الجودة (متوسط)
رقم الجلوس	محمد القرني الفصل

تعليمات هامة
✓ التوكل على الله وتذكرني حديث نبينا محمد صلى الله عليه وسلم حيث قال (من غشنا فليس منا)
✓ اكتب اسمك الرباعي كاملا في الصفحة الأولى وفصلك (أ أو ب) فقط
✓ تأكدي من عدد الأسئلة انها ثلاثة أسئلة
✓ الكتابة تكون بالقلم الأزرق الجاف
✓ الالتزام بالهدوء في قاعة الاختبار
✓ تأكدي من جوابك على جميع الأسئلة
✓ الخروج من قاعة الاختبار بعد مضي نصف الوقت

7 درجات	أ
	ضع علامة (√) أمام العبارة الصحيحة و علامة (×) أمام العبارة الخاطئة فيما يأتي ؟
	1 مراجعة أداء المهام و ترتيبها و تنظيمها في أولويات
	2 للأمن و الاستقرار أثر إيجابي في تقدم الاقتصاد الوطني و ازدهاره
	3 أشعر بالرضا و الثقة بالنفس عندما أكون منجزاً
	4 لبس الملابس المكتوب عليها عبارات مسيئة من آداب الذوق العام
	5 من فوائد الانتماء للوطن دفع مسيرة التقدم و عجلة التنمية
	6 الالتزام بآداب الذوق العام يحقق المواطنة الصالحة
	7 الخريطة توضح الظواهر الثابتة فقط

8 درجات	ب
	مستعيناً بالشكل المجاور ضع المصطلحات أمام ما يناسبها من العبارات التالية ؟

الايثار	وسيلة لتمثيل سطح الارض بظواهره الطبيعية و البشرية على لوحة مستوية
شبكة الاحداثيات	حالة داخلية مستمرة مرتبطة بمشاعر الفرد
الانتاج	قدرة الشخص على تحمل نتائج اقواله و افعاله
الانجاز الذاتي	يقصد بها خطوط الطول و ودوائر العرض
اطار الخريطة	هو العلم الذي يبحث في الطرائق المختلفة لتمثيل سطح الارض
المسؤولية	الضوابط التي تحكم سلوك الانسان في المجتمع
الذوق العام	مايحيط بالخريطة من الخارج و يحددها
الخريطة	عكس الأثانية حيث يقدم الفرد مصالح الآخرين على نفسه
علم المساحة		

8 درجات	اختر الإجابة الصائبة فيما يأتي بوضع دائرة على الخيار الصائب ؟						أ	
البوصلة	د	مفتاح الخريطة	ج	اطار الخريطة	ب	مقياس الرسم	أ	النسبة بين البعد على الخريطة و مايقابله على الطبيعة :
مناخية	د	تاريخية	ج	سياسية	ب	طبيعية	أ	الخرائطتمثل الحدود بين الدول :
علم المساحة	د	الاقمار الصناعية	ج	وحدة المستخدم	ب	وحدة التحكم	أ	كل ما يأتي من اقسام GPS عدا :
التخطيط	د	الاقتصاد الوطني	ج	البطالة	ب	التضخم	أ	هو الأنشطة البشرية لأفراد المجتمع في الانتاج و الخدمات و الاستهلاك:
إطعام	د	كن عوناً	ج	تكاتف	ب	وقار	أ برنامج تطوعي هدفه جمع فائض الطعام و توزيعه للمحتاجين :
الانجاز	د	التضخم	ج	الانتاج	ب	البطالة	أ	مشكلة اقتصادية وتعني ألا تنتهياً فرص العمل للأفراد :
الابتسامه	د	خفض الصوت	ج	الرسم على الجدران	ب	افشاء السلام	أ	كل ماياتي من آداب الذوق العام ماعدا :
البطالة	د	المسؤولية	ج	الذوق العام	ب	التطوع	أ	بذل الجهد و الوقت أول المال أول الثلاثة معاً بغرض أداء خدمة للآخرين :

8 درجات	أكمل الفراغات التالية يكلمات مناسبة ؟		ب
	التطوع نوعان هما :	تطوع و تطوع.....	1
	يقوم علم المساحة على عمليتين هما: و	2
	الصور الجوية نوعان هما الصور الجوية	و الصور الجوية	3
	يعاني الاقتصاد الوطني من بعض المشكلات من ابرزها	و	4



9 درجات

السؤال الثالث

5 درجات	ضع الرقم المناسب أمام المجموعة الأولى أمام ما يناسبها من المجموعة الثانية؟	أ
---------	--	---

المجموعة الثانية	الرقم	المجموعة الأولى	الرقم
خدمات تطوعية صحية		مسؤولية ذاتية	1
النظافة الشخصية		مسؤولية اجتماعية	2
خدمات تطوعية بيئية		مسؤولية وطنية	3
مساعدة كبار السن		التبرع بالدم	4
الاحتفاء بيوم التأسيس		تنظيف الحدائق	5
استقبال ضيوف الرحمن			

4 درجات	عدّد و اذكر (إثنين فقط) ؟	ب
معايير اختيار المهنة :		
/1 /2		
واجبات المواطن السعودي :		
/1 /2		

انتهت الأسئلة

اطيب الأمنيات بالنجاح و التوفيق

موقع
مادنتيري

مدير المدرسة: الأستاذ.....

معلم المادة: الأستاذ.....



نموذج الاجابة

نموذج اسئلة الاختبار النهائي لمادة الدراسات الاجتماعية للفصل الدراسي الثالث 1446هـ

الدور	الاول	الزمن	ساعة ونصف
الصف	الثالث المتوسط	عدد الاوراق	4
الدرجة النهائية	40 درجة	عدد الأسئلة	3

درجة السؤال الاول	درجة السؤال الثاني	درجة السؤال الثالث	مجموع درجات الطالب/ة

المصحح/ة	نموذج اجابة	المراجع/ة	المدقق/ة
التوقيع		التوقيع	التوقيع

اسم الطالب/ة	نموذج مقترح (أسئلة موضوعية) مستوى الجودة (متوسط)
رقم الجلوس	محمد القرني الفصل

تعليمات هامة

✓ التوكل على الله وتذكرني حديث نبينا محمد صلى الله عليه وسلم حيث قال (من غشنا فليس منا)

✓ اكتب اسمك الرباعي كاملا في الصفحة الأولى وفصلك (أ أو ب) فقط

✓ تأكدي من عدد الأسئلة انها ثلاثة أسئلة

✓ الكتابة تكون بالقلم الأزرق الجاف

✓ الالتزام بالهدوء في قاعة الاختبار

✓ تأكدي من جوابك على جميع الأسئلة

✓ الخروج من قاعة الاختبار بعد مضي نصف الوقت

7 درجات	ضع علامة (√) أمام العبارة الصحيحة و علامة (×) أمام العبارة الخاطئة فيما يأتي ؟	أ
✓	مراجعة أداء المهام و ترتيبها و تنظيمها في أولويات	1
✓	للأمن و الاستقرار أثر إيجابي في تقدم الاقتصاد الوطني و ازدهاره	2
✓	أشعر بالرضا و الثقة بالنفس عندما أكون منجزاً	3
×	لبس الملابس المكتوب عليها عبارات مسيئة من آداب الذوق العام	4
✓	من فوائد الانتماء للوطن دفع مسيرة التقدم و عجلة التنمية	5
✓	الالتزام بآداب الذوق العام يحقق المواطنة الصالحة	6
✓	الخريطة توضح الظواهر الثابتة فقط	7

8 درجات	مستعيناً بالشكل المجاور ضع المصطلحات أمام ما يناسبها من العبارات التالية ؟	ب
---------	--	---

الايثار	وسيلة لتمثيل سطح الارض بظواهره الطبيعية و البشرية على لوحة مستوية	الخريطة
شبكة الاحداثيات	حالة داخلية مستمرة مرتبطة بمشاعر الفرد	الانجاز الذاتي
الانتاج	قدرة الشخص على تحمل نتائج اقواله و افعاله	المسؤولية
الانجاز الذاتي	يقصد بها خطوط الطول و ودوائر العرض	شبكة الاحداثيات
اطار الخريطة	هو العلم الذي يبحث في الطرائق المختلفة لتمثيل سطح الارض	علم المساحة
المسؤولية	الضوابط التي تحكم سلوك الانسان في المجتمع	الذوق العام
الذوق العام	مايحيط بالخريطة من الخارج و يحددها	اطار الخريطة
الخريطة	عكس الأثانية حيث يقدم الفرد مصالح الآخرين على نفسه	الايثار

8 درجات	اختر الإجابة الصائبة فيما يأتي بوضع دائرة على الخيار الصائب ؟					أ	
البوصلة	د	مفتاح الخريطة	ج	اطار الخريطة	ب	أ	النسبة بين البعد على الخريطة و مايقابله على الطبيعة :
مناخية	د	تاريخية	ج	سياسية	ب	أ	الخرائطتمثل الحدود بين الدول :
علم المساحة	د	الاقمار الصناعية	ج	وحدة المستخدم	ب	أ	كل ما يأتي من اقسام GPS عدا :
التخطيط	د	الاقتصاد الوطني	ج	البطالة	ب	أ	هو الأنشطة البشرية لأفراد المجتمع في الانتاج و الخدمات و الاستهلاك:
إطعام	د	كن عوناً	ج	تكتاف	ب	أ برنامج تطوعي هدفه جمع فائض الطعام و توزيعه للمحتاجين :
الانجاز	د	التضخم	ج	الانتاج	ب	أ	مشكلة اقتصادية وتعني ألا تنتهياً فرص العمل للأفراد :
الابتسامه	د	خفض الصوت	ج	الرسم على الجدران	ب	أ	كل ماياتي من آداب الذوق العام ماعدا :
البطالة	د	المسؤولية	ج	الذوق العام	ب	أ	بذل الجهد و الوقت أول المال أول الثلاثة معاً بغرض أداء خدمة للآخرين :

8 درجات	أكمل الفراغات التالية يكلمات مناسبة ؟		ب
	التطوع نوعان هما : تطوع فردي و تطوع مؤسسي		1
	يقوم علم المساحة على عمليتين هما: الرفع و التوقيع		2
	الصور الجوية نوعان هما الصور الجوية الرأسية و الصور الجوية المائلة		3
	يعاني الاقتصاد الوطني من بعض المشكلات من ابرزها البطالة و التضخم		4

اقلب الورقة

9 درجات

السؤال الثالث

5 درجات	ضع الرقم المناسب أمام المجموعة الأولى أمام ما يناسبها من المجموعة الثانية؟	أ
---------	--	---

المجموعة الثانية	الرقم	المجموعة الأولى	الرقم
خدمات تطوعية صحية	4	مسؤولية ذاتية	1
النظافة الشخصية	1	مسؤولية اجتماعية	2
خدمات تطوعية بيئية	5	مسؤولية وطنية	3
مساعدة كبار السن	2	التبرع بالدم	4
الاحتفاء بيوم التأسيس	3	تنظيف الحدائق	5
استقبال ضيوف الرحمن			

4 درجات	عدّد و اذكر (إثنين فقط) ؟	ب
معايير اختيار المهنة :		
1/ التخصص المناسب 2/ الميول و الرغبات		
واجبات المواطن السعودي :		
1/ طاعة ولي الامر (الملك و ولي العهد) 2/ احترام الانظمة		

انتهت الأسئلة

اطيب الأمنيات بالنجاح و التوفيق

موقع
مادنتيري

مدير المدرسة: الأستاذ.....

معلم المادة: الأستاذ.....

رقم الجلوس	الصف الثالث المتوسط	أسئلة اختبار الفصل الدراسي الثالث ١٤٤٦ هـ
عدد الصفحات	الزمن ساعة	المادة اجتماعيات
اسم الطالبة		

السؤال	س1	س2	س3	س4	المصححة	المراجعة	المدققة
الدرجة رقما							
الدرجة كتابة							

استعيني بالله ثم أجيب عن الأسئلة التالية

السؤال الأول :

(أ) اكمل الفراغات التالية :

- 1- ينقسم العمل المساحي إلى قسمين هما و
- 2- تنقسم المساحة المستوية إلى قسمين هما و
- 3- هناك عوامل متعددة تتحكم في اقتصاد أي دولة من أبرزها..... و
- 4- من أنواع البطالة..... و
- 5- أنواع التطوع و

(ب) عللي ما يأتي

• سبب تنوع الخرائط

.....

• أهمية علم المساحة

.....

• يمثل النفط المورد الأساسي للوطن.

.....

السؤال الثاني

(أ)		اختار من العمود (أ) ما يناسبه من العمود (ب)	
		(أ)	(ب)
1	خريطة تاريخية.		تحتوي حقول النفط في منطقة الخليج العربي .
2	خريطة سكانية		توضح طريق هجرة نبينا محمد صل الله عليه وسلم من مكة المكرمة إلى المدينة المنورة.
3	خريطة مناخية		تبين الحدود بين المملكة العربية السعودية والمملكة الأردنية.
4	خريطة اقتصادية		تمثل مناطق نزول الأمطار صيفا في شبه الجزيرة العربية.
5	خريطة سياسية		توضح الهجرات البشرية في العالم.

(ب) اختاري المصطلح الصحيح من بين الأقواس وضعية في الفراغ المناسب

(الصورة الجوية - الخريطة - الإنجاز الذاتي - العمل - الذوق العام)

- 1- هي وسيلة لتمثيل سطح الكرة الأرضية أو جزء منه بظواهره الطبيعية والبشرية على لوحة مستوية.
- 2- مجهودٌ إرادي يؤديه الإنسان لإنتاج سلعة أو تقديم خدمة، مقابل الحصول على أجر
- 3- هي صورة لجزء من سطح الأرض تلتقط بالطائرات والمناطيد المزودة بألات تصوير.
- 4- هو حالة داخلية مستمرة مرتبطة بمشاعر الفرد توجهه نحو التخطيط للعمل
- 5- هو جميع القيم والضوابط والآداب التي تحكم سلوك الإنسان في المجتمع.

السؤال الثالث

(أ) صوبي ما تحته خط في الجمل التالية

الجملة	التصويب
1 الأعمال التطوعية تكون تحت إشراف جهة بدون ترخص لها.	
2 حفظ النعمة وجمع الفائض من الطعام عمل تطوعي لا يخدم الوطن	
3 آداب الذوق العام غير مرتبطة بالمسؤولية.	
4 التطور التقني لم يقلل من الاعتماد على الأيدي العاملة.	
5 حدد إطار الخريطة بعد الانتهاء من رسمها.	
6 تنتشابه الرموز في كل مفاتيح الخرائط	

(يكتمل باثنان فقط)

(ب) عددي ما يأتي

1- الصور الجوية نوعان

.....

.....

2- فوائد نظام تحديد المواقع العالمي

.....

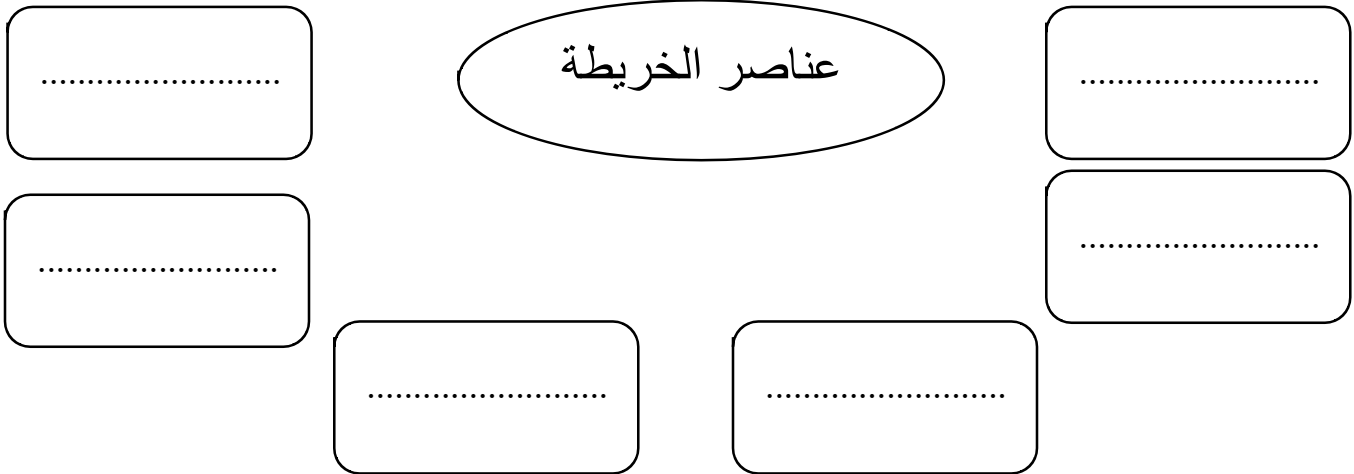
.....

السؤال الرابع

اختاري الإجابة الصحيحة من الإجابات المتعددة التالية على أن تكون إجابة واحد فقط

من أنواع الخرائط الطبيعية			
التضاريسية	الزراعية	السكانية	السياحية
برنامج (وقار)			
مساعدة كبار السن	تهتم بالحجاج	توعية المجتمع بأهمية حفظ النعمة	مستحيي الضمان الاجتماعي
برنامج كنّ عوناً هدفه مساعدة			
إرشاد ضيوف الرحمن	توزيع فائض	الاقتصاد الوطني	السياحة
من أنواع الخرائط بشرية			
الخرائط المناخية	الخرائط التاريخية	خرائط النبات الطبيعي	

ب) صممي خريطة مفاهيم



انتهت الأسئلة
مع تمنياتي لك بالتوفيق
اذكروني بدعوة

معلمة المادة

موقع
مادنتيري

نموذج الاجابة

المملكة العربية السعودية
وزارة التعليم
الإدارة العامة للتعليم بمنطقة
مكتب
مجمع

40

رقم الجلوس	الصف الثالث المتوسط	أسئلة اختبار الفصل الدراسي الثالث ١٤٤٦ هـ	
عدد الصفحات	الزمن ساعة	المادة اجتماعيات	اسم الطالبة

السؤال	س1	س2	س3	س4	المصححة	المراجعة	المدققة
الدرجة رقما							
الدرجة كتابة							

استعيني بالله ثم أجيب عن الأسئلة التالية

السؤال الأول :

أ) اكمل الفراغات التالية :

- 1- ينقسم العمل المساحي إلى قسمين هما**الرفع**..... و**التوقيع**.....
- 2- تنقسم المساحة المستوية إلى قسمين هما **المساحة الطبوغرافية** و.....**المساحة التفصيلية**
- 3- هناك عوامل متعددة تتحكم في اقتصاد أي دولة من أبرزها.....**الاستقرار**..... و**الموارد**.....
- 4- من أنواع البطالة**الهيكليّة**..... و**الاختيارية**.....
- 5- أنواع التطوع**تطوع فردي**..... و**تطوع مؤسسي**.....

ب) علي ما يأتي

- سبب تنوع الخرائط

.....**باختلاف المعلومات والموضوعات ومدى الحاجة إليها**.....

- أهمية علم المساحة

.....**١- أساس مهم في معظم المشروعات الهندسية**.....

.....**٢- أساس في عمل الخرائط**.....

- يمثل النفط المورد الأساسي للوطن.

.....**١- لأنها ثاني أكبر دولة في العالم تمتلك احتياطات نفطية**.....

.....**٢- ثاني أكبر منتج للنفط في العالم**.....

السؤال الثاني

(أ)		اختار من العمود (أ) ما يناسبه من العمود (ب)	
		(أ)	(ب)
1	خريطة تاريخية	٤	تحتوي حقول النفط في منطقة الخليج العربي .
2	خريطة سكانية	١	توضح طريق هجرة نبينا محمد صل الله عليه وسلم من مكة المكرمة إلى المدينة المنورة.
3	خريطة مناخية	٥	تبين الحدود بين المملكة العربية السعودية والمملكة الأردنية.
4	خريطة اقتصادية	٣	تمثل مناطق نزول الأمطار صيفا في شبه الجزيرة العربية.
5	خريطة سياسية	٢	توضح الهجرات البشرية في العالم.

(ب) اختاري المصطلح الصحيح من بين الأقواس وضعيه في الفراغ المناسب

(الصورة الجوية - الخريطة - الإنجاز الذاتي - العمل - الذوق العام)

- 1-**الخريطة**..... هي وسيلة لتمثيل سطح الكرة الأرضية أو جزء منه بظواهره الطبيعية والبشرية على لوحة مستوية.
- 2-**العمل**..... مجهودٌ إرادي يؤديه الإنسان لإنتاج سلعة أو تقديم خدمة، مقابل الحصول على أجر
- 3- **الصورة الجوية**... هي صورة لجزء من سطح الأرض تلتقط بالطائرات والمناطيد المزودة بآلات تصوير.
- 4-**الإنجاز الذاتي**..... هو حالة داخلية مستمرة مرتبطة بمشاعر الفرد توجهه نحو التخطيط للعمل
- 5-**الذوق العام**..... هو جميع القيم والضوابط والآداب التي تحكم سلوك الإنسان في المجتمع.

السؤال الثالث

(أ) صوبي ما تحته خط في الجمل التالية

التصويب	الجملة	
مرخص لها	الأعمال التطوعية تكون تحت إشراف جهة بدون ترخيص لها.	1
يخدم الوطن	حفظ النعمة وجمع الفائض من الطعام عمل تطوعي لا يخدم الوطن	2
مرتبطة	آداب الذوق العام غير مرتبطة بالمسؤولية.	3
يقلل	التطور التقني لم يقلل من الاعتماد على الأيدي العاملة.	4
قبل	حدد إطار الخريطة بعد الانتهاء من رسمها.	5
تختلف	تتشابه الرموز في كل مفاتيح الخرائط	6

(يكتب في باثنان فقط)

(ب) عددي ما يأتي

- 1- الصور الجوية نوعان
- ١- **الصور الجوية الرأسية**.....
- ٢- **الصور الجوية المائلة**.....
- 2- فوائد نظام تحديد المواقع العالمي
- ١- **تحديد المواقع تحديد دقيق**.....
- ٢- **تحديد اتجاه القبلة**.....

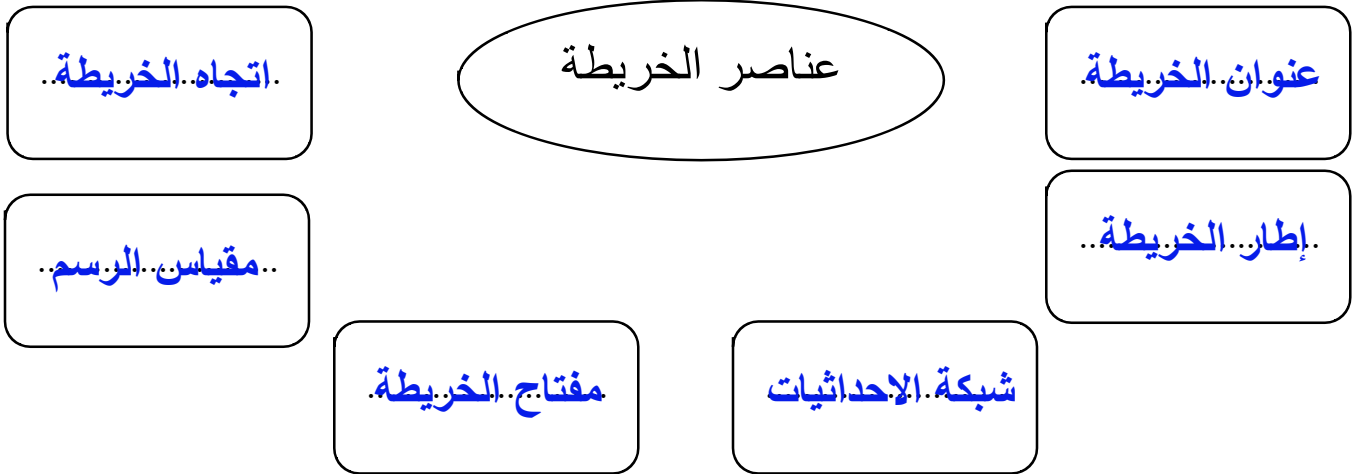
أقلمي الصفحة

السؤال الرابع

اخترى الإجابة الصحيحة من الإجابات المتعددة التالية على أن تكون إجابة واحد فقط

من أنواع الخرائط الطبيعية			
التضاريسية	الزراعية	السكانية	السياحية
برنامج (وقار)			
مساعدة كبار السن	تهتم بالحجاج	توعية المجتمع بأهمية حفظ النعمة	مستحي الضمان الاجتماعي
برنامج كن عوناً هدفه مساعدة			
إرشاد ضيوف الرحمن	توزيع فائض	الاقتصاد الوطني	السياحة
من أنواع الخرائط بشرية			
الخرائط المناخية	الخرائط التاريخية	خرائط النبات الطبيعي	

ب) صممي خريطة مفاهيم



انتهت الأسئلة
مع تمنياتي لك بالتوفيق
اذكروني بدعوة

معلمة المادة

موقع مادتي

اسم الطالب رابعياً / للفائدة العامة ومعرفة مواضع الأسئلة

السؤال الأول

اختر الإجابة الصحيحة فيما يأتي :

1	هي وسيلة لتمثيل سطح الكرة الأرضية او جزء منه بظواهره الطبيعية والبشرية على لوحة مستوية :	أ- الخريطة	ب- الصور الجوية	ج- علم المساحة	د- جهاز GPS
2	من أمثلة المعالم الطبيعية التي تساعد المساحة على تمثيلها على الخريطة :	أ- السدود والانفاق	ب- الجبال والهضاب	ج- المباني والطرق	د- ليس مما ذكر
3	الاحتفاء بيوم العلم السعودي و اليوم الوطني و يوم التأسيس من :	أ- المسؤولية الوطنية	ب- المسؤولية الشخصية	ج- المسؤولية الاجتماعية	د- ليس مما ذكر
4	يوصف من تتوفر لديهم المهارات والقدرات ولكن لا تتوفر لديهم فرص عمل :	أ- البطالة الاختيارية	ب- البطالة الهيكلية	ج- البطالة الوظيفية	د- البطالة المقنعة
5	من مجالات التطوع :	أ- خدمة الدين	ب- خدمة المجتمع	ج- خدمة التعليم	د- جميع ما سبق
6	كل ما يأتي من المشكلات الاقتصادية التي تواجه الاقتصاد الوطني ماعدا :	أ- البطالة	ب- التضخم	ج- ضعف التدريب	د- ليس مما ذكر
7	هو الانشطة البشرية لأفراد المجتمع في مجال الانتاج والخدمات والاستهلاك :	أ الموارد	ب الواردات	ج الاقتصاد الوطني	د الصادرات
8	حالة داخلية مرتبطة بمشاعر الفرد (نشاط وحماس) توجهه نحو التخطيط للعمل بما يحقق مستوى عاليا من النجاح والتفوق :	أ العمل	ب الانجاز الذاتي	ج الانتاج	د المهنة
9	هو النسبة بين البعد على الخريطة ومايقابله على الطبيعة	أ اتجاه الخريطة	ب مفتاح الخريطة	ج عنوان الخريطة	د مقياس الرسم
10	هو المواطن المسؤول الذي يدرك انتماءه للوطن ويؤدي واجباته تجاهه ويلتزم بالنظام ويكون فاعلا في مجتمعه :	أ المواطن الصالح	ب الذوق العام	ج المسؤولية	د المتطوع

السؤال الثاني: ضع الرقم الموجود امام المجموعة (أ) امام ما يناسبها من المجموعة (ب) :

الرقم	المجموعة (أ)	الرقم	المجموعة (ب)
1	حقوق المواطن		برامج تطوع وطنية
2	واجبات المواطن		من خطوات تحقيق الانجاز
3	كن عوناً وإطعام		توفير الامن للجميع
4	التخصص والميول		اقسام العمل المساحي
5	تحديد الاهداف و التخطيط		من معايير اختيار المهنة
6	الرفع والتوقيع		الدفاع عن الوطن

السؤال الثالث ضع علامة (√) أمام العبارة الصحيحة و علامة (x) أمام العبارة الخاطئة فيما يلي :

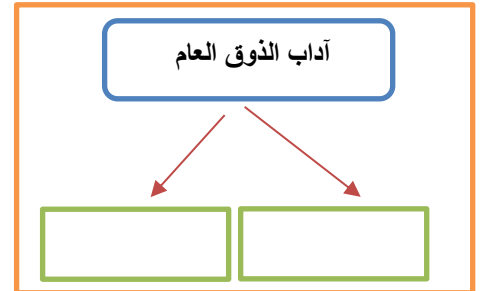
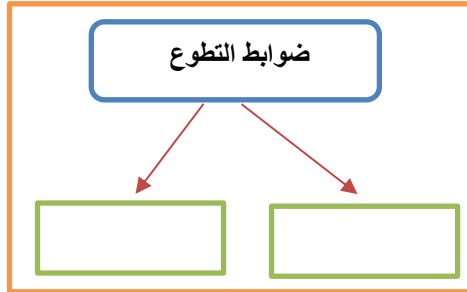
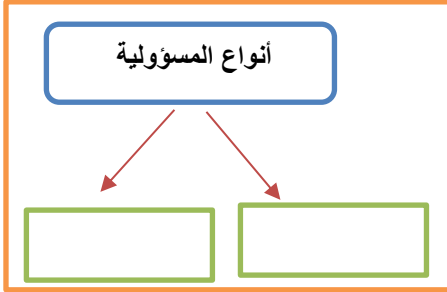
1	تحدد أجهزة (GPS) الاماكن على سطح الارض بدقة عالية
2	من صفات الفرد المنجز ان يقوم بأعماله ومهامه حسب الفراغ
3	الاعمال التطوعية تكون تحت اشراف جهة رسمية ومرخص لها
4	من أسباب البطالة ضعف التدريب والتأهيل
5	يحدد إطار الخريطة بعد الانتهاء من رسمها
6	التزام بأداب الذوق العام يؤدي للمواطنة الصالحة

السؤال الرابع :

(أ) قارن بين الخريطة والصور الجوية وفق الجدول أدناه ؟

أوجه المقارنة	الخريطة	الصور الجوية
المفتاح		
الظاهرة التي تفسرها		
تفاصيل سطح الارض		

(ب) أكمل خرائط المفاهيم التالية ؟



السؤال الخامس : مستعينا بالشكل المجاور صنف الخرائط ادناه حسب نوعها؟

خريطة تاريخية
خريطة اقتصادية
خريطة مناخية
خريطة سكانية



نموذج الاجابة

السؤال الأول

اختر الإجابة الصحيحة فيما يأتي :

1	هي وسيلة لتمثيل سطح الكرة الارضية او جزء منه بظواهره الطبيعية والبشرية على لوحة مستوية :	أ- الخريطة	ب- الصور الجوية	ج- علم المساحة	د- جهاز GPS
2	من أمثلة المعالم الطبيعية التي تساعد المساحة على تمثيلها على الخريطة :	أ- السدود والانفاق	ب- الجبال والهضاب	ج- المباني والطرق	د- ليس مما ذكر
3	الاحتفاء بيوم العلم السعودي و اليوم الوطني و يوم التأسيس من :	أ- المسؤولية الوطنية	ب- المسؤولية الشخصية	ج- المسؤولية الاجتماعية	د- ليس مما ذكر
4	يوصف من تتوفر لديهم المهارات والقدرات ولكن لا تتوفر لديهم فرص عمل :	أ- البطالة الاختيارية	ب- البطالة الهيكلية	ج- البطالة الوظيفية	د- البطالة المقنعة
5	من مجالات التطوع :	أ- خدمة الدين	ب- خدمة المجتمع	ج- خدمة التعليم	د- جميع ما سبق
6	كل ما يأتي من المشكلات الاقتصادية التي تواجه الاقتصاد الوطني ماعدا :	أ- البطالة	ب- التضخم	ج- ضعف التدريب	د- ليس مما ذكر
7	هو الانشطة البشرية لأفراد المجتمع في مجال الانتاج والخدمات والاستهلاك :	أ الموارد	ب الواردات	ج الاقتصاد الوطني	د الصادرات
8	حالة داخلية مرتبطة بمشاعر الفرد (نشاط وحماس) توجهه نحو التخطيط للعمل بما يحقق مستوى عاليا من النجاح والتفوق :	أ العمل	ب الانجاز الذاتي	ج الانتاج	د المهنة
9	هو النسبة بين البعد على الخريطة ومايقابله على الطبيعة	أ اتجاه الخريطة	ب مفتاح الخريطة	ج عنوان الخريطة	د مقياس الرسم
10	هو المواطن المسؤول الذي يدرك انتماءه للوطن ويؤدي واجباته تجاهه ويلتزم بالنظام ويكون فاعلا في مجتمعه :	أ المواطن الصالح	ب الذوق العام	ج المسؤولية	د المتطوع

السؤال الثاني: ضع الرقم الموجود امام المجموعة (أ) امام ما يناسبها من المجموعة (ب) :

الرقم	المجموعة (أ)	الرقم	المجموعة (ب)
1	حقوق المواطن	3	برامج تطوع وطنية
2	واجبات المواطن	5	من خطوات تحقيق الانجاز
3	كن عوناً وإطعام	1	توفير الامن للجميع
4	التخصص والميول	6	اقسام العمل المساحي
5	تحديد الاهداف و التخطيط	4	من معايير اختيار المهنة
6	الرفع والتوقيع	2	الدفاع عن الوطن

السؤال الثالث ضع علامة (√) أمام العبارة الصحيحة و علامة (x) أمام العبارة الخاطئة فيما يلي :

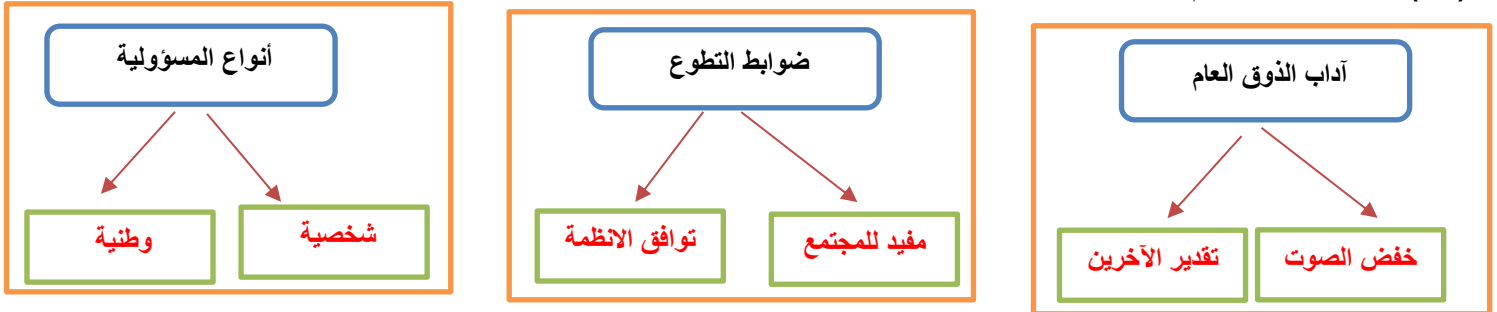
1	تحدد أجهزة (GPS) الاماكن على سطح الارض بدقة عالية	√
2	من صفات الفرد المنجز ان يقوم بأعماله ومهامه حسب الفراغ	x
3	الاعمال التطوعية تكون تحت اشراف جهة رسمية ومرخص لها	√
4	من أسباب البطالة ضعف التدريب والتاهيل	√
5	يحدد إطار الخريطة بعد الانتهاء من رسمها	x
6	التزام بأداب الذوق العام يؤدي للمواطنة الصالحة	√

السؤال الرابع :

(أ) قارن بين الخريطة والصور الجوية وفق الجدول أدناه ؟

أوجه المقارنة	الخريطة	الصور الجوية
المفتاح	يوجد فيها مفتاح ورموز	لا يوجد فيها مفتاح ورموز
الظاهرة التي تفسرها	لا توضح الظواهر المتحركة	توضح الظواهر المتحركة
تفاصيل سطح الارض	تظهر تفاصيل معينة ومحددة من سطح الارض	تظهر وتوضح تفاصيل أكثر دقة

(ب) أكمل خرائط المفاهيم التالية ؟



السؤال الخامس : مستعينا بالشكل المجاور صنف الخرائط ادناه حسب نوعها؟

خريطة تاريخية

خريطة اقتصادية

خريطة مناخية

خريطة سكانية



خريطة مناخية



خريطة اقتصادية



خريطة تاريخية



خريطة سكانية



السؤال الأول: اختاري الإجابة الصحيحة فيما يلي ثم قومي بتضليل الحرف المناسب لها في نموذج الإجابة (١ - ٣٠):

١	يحيط بالخريطة من الخارج يسمى:	أ- مقياس الرسم .	ب- عنوان الخريطة.	ج- اتجاه الخريطة.	د- إطار الخريطة .
٢	يساعد على تحديد إحداثيات أي مكان على سطح الأرض بدقة عالية وفق خطوط الطول ودوائر العرض مفهوم:	أ- نظام TRA.	ب- نظام GPS .	ج- نظام MPA.	د- نظام LBS.
٣	نقل المعالم التي في الطبيعة إلى الخريطة من عمل المساحي:	أ- الرفع .	ب- التوقيع .	ج- التصوير .	د- التخطيط.
٤	تحديد نقط على سطح الأرض للمساحات الشاسعة مع الأخذ في الحسبان كروية الأرض مفهوم المساحة:	أ-المستوية.	ب-الجيوإديسية.	ج-الطبوغرافية.	د-التفصيلية.
٥	تحديد الزمن والموقع على سطح الكرة الأرضية مسمى المساحة:	أ- الأرضية.	ب- الملاحية.	ج- الفلكية.	د- المعدنية.
٦	تقاطع خطوط الطول مع دوائر العرض يعرف بـ:	أ-الإحداثيات.	ب- مقياس الرسم.	ج-عنوان الخريطة.	د-إطار الخريطة.
٧	توضح طريقة هجرة نبينا محمد صلى الله عليه وسلم من مكة المكرمة إلى المدينة المنورة خريطة:	أ- سياسية.	ب- مناخية.	ج- اقتصادية.	د- تاريخية.
٨	من تتوفر لديهم مهارات ولا تتوفر لهم فرص عمل بطالة:	أ-الهيكالية.	ب- الاختيارية.	ج-الوظيفية.	د-المقنعة.
٩	من المشكلات الاقتصادية الناتجة عن حركة العرض والطلب مشكلة:	أ- الاقتصاد.	ب- التضخم.	ج- البطالة.	د- الإنتاج .
١٠	قدرة الشخص على أداء واجباته وتحمل نتائج أقواله وأفعاله وما ينتج عنها مفهوم:	أ- المواطنة.	ب- الذوق العام.	ج- المسؤولية.	د- التطوع.
١١	عمل محدد يقوم على مبادرة ذاتية بدوافع دينية أو قيمية تطوع:	أ- مؤسسي.	ب- فردي.	ج- جماعي.	د- سياسي.
١٢	خدمة ضيوف الرحمن هدف برنامج:	أ- تكاتف .	ب- إحسان .	ج- وقار .	د- كن عوناً.
١٣	من آداب الذوق العام:	أ- خفض الصوت.	ب- توفر الرعاية الصحية.	ج- الدفاع عن الوطن .	د- حماية حقوق الانسان.
١٤	يبين موضوع الخريطة والمكان الذي تمثله مفهوم:	أ- عنوان الخريطة.	ب- الإتجاه .	ج- الإحداثيات .	د- المقياس.
١٥	النسبة بين البعد على الخريطة وما يقابله على الطبيعة مفهوم:	أ-الإحداثيات.	ب- مفتاح الخريطة.	ج- مقياس الرسم.	د- الإطار.
١٦	لا تحتاج إلى مفتاح لأنها توضح الظواهر كما هي في الطبيعة من صفات :				

يتبع

أ- الظواهر الطبيعية.	ب- الاحداثيات.	ج- الخريطة.	د- الصور الجوية.
١٧	المحافظة على الصلوات الخمس من :		
أ-حقوق المواطن.	ب-واجبات المواطن.	ج-المسؤولية الذاتية.	د-الذوق العام.
١٨	مجموعة من المصطلحات و الرموز تمثل الظواهر والمعالم التي على الخريطة هي:		
أ- اتجاه الخريطة.	ب- مفتاح الخريطة.	ج- إطار الخريطة.	د- مقياس الرسم.
١٩	مساعدة كبار السن ودعم حقوقهم هدف برنامج:		
أ-وقار.	ب-إطعام.	ج-كن عوناً.	د-تكاتف.
٢٠	من يسخر نفسه ووقته وجهده أو ماله بطوعية لمساعدة الآخرين بما لا يلزمه مفهوم :		
أ- المتواضع.	ب-المتعاون.	ج-المحامي	د-المتطوع.
٢١	هو ما ينجزه النشاط الإنساني من سلع أو خدمات منتجة من المواد الخام أو المعارف أو المهارات مفهوم:		
أ- العمل.	ب- الاقتصاد.	ج- التطوع.	د- الإنتاج.
٢٢	توضح خطوط الطول ودوائر العرض والحدود السياسية والإدارية من صفات:		
أ-الخريطة.	ب-الصور الجوية.	ج-الاحداثيات.	د-الظواهر الطبيعية.
٢٣	الثواب والأجر من فوائد:		
أ- التطوع.	ب-الذوق.	ج- المواطنة.	د- المسؤولية.
٢٤	ضعف الإنتاج من آثار البطالة:		
أ- الاجتماعية.	ب- الاقتصادية.	ج- السياسية.	د- الدينية.
٢٥	سهم أو نحوه يشير إلى جهة الشمال هو:		
أ-اتجاه الخريطة.	ب-إطار الخريطة.	ج-الإحداثيات.	د-مقياس الرسم.
٢٦	بذل الجهد والوقت أو المال أو الثلاثة معاً عن رغبة واختيار بغرض أداء خدمة دون توقع أجر مالي مفهوم:		
أ-التطوع	ب-المسؤولية.	ج-الواجبات.	د-الذوق العام.
٢٧	توفير التعليم العام من:		
أ-حقوق المواطن.	ب-واجبات المواطن.	ج-الذوق العام.	د-المسؤولية الذاتية.
٢٨	جميع القيم والضوابط والآداب التي تحكم سلوك الإنسان في المجتمع مفهوم:		
أ-المسؤولية.	ب-الذوق العام.	ج-المواطنة.	د-الحقوق.
٢٩	برنامج وطني لتقديم إعانات مالية شهرية لمدة سنة وتوطين الوظائف هو:		
أ-حافز.	ب-هدف.	ج-منشآت.	د-تيسير.
٣٠	العاملين دون إنجاز والعاملين الذين يؤدون أعمالاً دون مؤهلاتهم مفهوم البطالة:		
أ-الاختيارية.	ب-الفكرية.	ج-المقنعة.	د-الوظيفية.

السؤال الثاني:

أربط بين العمود (أ) و ما يناسبه في العمود (ب):

الرقم	العمود(أ)المفهوم	الحرف	العمود (ب)المعنى
١	الخرائط المناخية	أ	تمثل التوزيع البشري وكثافته في أماكن محددة.
٢	الخرائط السكانية	ب	تمثل الحدود بين الدول.
٣	الخرائط النبات الطبيعي	ج	تمثل اتجاه الرياح في فصل الصيف.
٤	الخرائط السياسية	د	تمثل توزيع الغابات المطيرة.
		هـ	تمثل مواقع المعارك وامتداد الدول.

السؤال الثالث: اجبني بصح أو خطأ في العبارات التالية ثم ظللي الحرف المناسب في ورقة الإجابة (١-١٠) .

يتبع

خطأ	صح	من أعمال التطوع أداء الواجبات المدرسية.	١
خطأ	صح	التزام آداب الذوق العام يؤدي إلى المواطنة الصالحة.	٢
خطأ	صح	من واجبات الدولة توفير الأمن للجميع.	٣
خطأ	صح	عندما يكون الإنسان منجزاً فإنه يشعر بالرضا.	٤
خطأ	صح	حث الإسلام على العمل والإنجاز.	٥
خطأ	صح	تتشابه الرموز في كل مفاتيح الخرائط .	٦
خطأ	صح	التضخم غير مضر بالاقتصاد.	٧
خطأ	صح	من الآثار الاجتماعية للبطالة قلة الجرائم.	٨
خطأ	صح	الانتماء للوطن يعيق مسيرة التقدم.	٩
خطأ	صح	الأمن والاستقرار أثر في نمو الاقتصاد الوطني.	١٠

السؤال الرابع: أجبني على الأسئلة التالية وفق ما درستي:

١- وضح المقصود من برنامج جودة الحياة؟

.....

.....

.....

٢- عددي العوامل التي تساعد على تحقيق الإنجاز الذاتي؟

.....

.....

٣ - برأيك ما أبرز فوائد الانتماء للوطن ((وفق ما درستي)).

.....

.....

.....

★ سدد الله خطاكن ★
أريم

موقع
مادنتري

نموذج الإجابة

اختبار مادة : الدراسات الاجتماعية

الفصل الدراسي: الثالث لعام ١٤٤٦ هـ

زمن الإختبار:

الصف: ثالث متوسط

السؤال الأول: اختاري الإجابة الصحيحة فيما يلي ثم قومي بتضليل الحرف المناسب لها في نموذج الإجابة (١ - ٣٠):


١	يحيط بالخريطة من الخارج يسمى:	أ- مقياس الرسم .	ب- عنوان الخريطة.	ج- اتجاه الخريطة.	د- إطار الخريطة .
٢	يساعد على تحديد إحداثيات أي مكان على سطح الأرض بدقة عالية وفق خطوط الطول ودوائر العرض مفهوم:	أ- نظام TRA.	ب- نظام GPS .	ج- نظام MPA.	د- نظام LBS.
٣	نقل المعالم التي في الطبيعة إلى الخريطة من عمل المساحي:	أ- الرفع .	ب- التوقيع .	ج- التصوير .	د- التخطيط.
٤	تحديد نقط على سطح الأرض للمساحات الشاسعة مع الأخذ في الحسبان كروية الأرض مفهوم المساحة:	أ- المستوية.	ب- الجيوديسية.	ج- الطبوغرافية.	د- التفصيلية.
٥	تحديد الزمن والموقع على سطح الكرة الأرضية مسمى المساحة:	أ- الأرضية.	ب- الملاحية.	ج- الفلكية.	د- المعدنية.
٦	تقاطع خطوط الطول مع دوائر العرض يعرف بـ:	أ- الإحداثيات.	ب- مقياس الرسم.	ج- عنوان الخريطة.	د- إطار الخريطة.
٧	توضح طريقة هجرة نبينا محمد صلى الله عليه وسلم من مكة المكرمة إلى المدينة المنورة خريطة:	أ- سياسية.	ب- مناخية.	ج- اقتصادية.	د- تاريخية.
٨	من تتوفر لديهم مهارات ولا تتوفر لهم فرص عمل بطلالة:	أ- الهيكلية.	ب- الاختيارية.	ج- الوظيفية.	د- المقنعة.
٩	من المشكلات الاقتصادية الناتجة عن حركة العرض والطلب مشكلة:	أ- الاقتصاد.	ب- التضخم.	ج- البطالة.	د- الإنتاج .
١٠	قدرة الشخص على أداء واجباته وتحمل نتائج أقواله وأفعاله وما ينتج عنها مفهوم:	أ- المواطنة.	ب- الذوق العام.	ج- المسؤولية.	د- التطوع.
١١	عمل محدد يقوم على مبادرة ذاتية بدوافع دينية أو قيمية تطوع:	أ- مؤسسي.	ب- فردي.	ج- جماعي.	د- سياسي.
١٢	خدمة ضيوف الرحمن هدف برنامج:	أ- تكاتف .	ب- إحسان .	ج- وقار .	د- كن عوناً.
١٣	من آداب الذوق العام:	أ- خفض الصوت.	ب- توفر الرعاية الصحية.	ج- الدفاع عن الوطن .	د- حماية حقوق الانسان.
١٤	يبين موضوع الخريطة والمكان الذي تمثله مفهوم:	أ- عنوان الخريطة.	ب- الاتجاه .	ج- الإحداثيات .	د- المقياس.
١٥	النسبة بين البعد على الخريطة وما يقابله على الطبيعة مفهوم:	أ- الإحداثيات.	ب- مفتاح الخريطة.	ج- مقياس الرسم.	د- الإطار.

١٦	لا تحتاج إلى مفتاح لأنها توضح الظواهر كما هي في الطبيعة من صفات :
أ- الظواهر الطبيعية.	ب- الاحداثيات.
ج- الخريطة.	د- الصور الجوية.
١٧	المحافظة على الصلوات الخمس من :
أ-حقوق المواطن	ب-واجبات المواطن.
ج-المسؤولية الذاتية	د-الذوق العام.
١٨	مجموعة من المصطلحات و الرموز تمثل الظواهر والمعالم التي على الخريطة هي:
أ- اتجاه الخريطة.	ب- مفتاح الخريطة.
ج- إطار الخريطة.	د- مقياس الرسم.
١٩	مساعدة كبار السن ودعم حقوقهم هدف برنامج:
أ-وقار.	ب-إطعام.
ج-كن عوناً.	د-تكاتف.
٢٠	من يسخر نفسه ووقته وجهده أو ماله بطوعية لمساعدة الآخرين بما لا يلزمه مفهوم :
أ- المتواضع.	ب-المتعاون.
ج-المحامي	د-المتطوع.
٢١	هو ما ينجزه النشاط الإنساني من سلع أو خدمات منتجة من المواد الخام أو المعارف أو المهارات مفهوم:
أ- العمل.	ب- الاقتصاد.
ج- التطوع.	د- الإنتاج.
٢٢	توضح خطوط الطول ودوائر العرض والحدود السياسية والإدارية من صفات:
أ-الخريطة.	ب-الصور الجوية.
ج-الاحداثيات.	د-الظواهر الطبيعية.
٢٣	الثواب والأجر من فوائد:
أ- التطوع.	ب-الذوق.
ج- المواطنة.	د- المسؤولية.
٢٤	ضعف الإنتاج من آثار البطالة:
أ- الاجتماعية.	ب- الاقتصادية.
ج- السياسية.	د- الدينية.
٢٥	سهم أو نحوه يشير إلى جهة الشمال هو:
أ-اتجاه الخريطة.	ب-إطار الخريطة.
ج-الإحداثيات.	د-مقياس الرسم.
٢٦	بذل الجهد والوقت أو المال أو الثلاثة معاً عن رغبة واختيار بغرض أداء خدمة دون توقع أجر مالي مفهوم:
أ-التطوع	ب-المسؤولية.
ج-الواجبات.	د-الذوق العام.
٢٧	توفير التعليم العام من:
أ-حقوق المواطن.	ب-واجبات المواطن.
ج-الذوق العام.	د-المسؤولية الذاتية.
٢٨	جميع القيم والضوابط والآداب التي تحكم سلوك الإنسان في المجتمع مفهوم:
أ-المسؤولية.	ب-الذوق العام.
ج-المواطنة.	د-الحقوق.
٢٩	برنامج وطني لتقديم إعانات مالية شهرية لمدة سنة وتوطين الوظائف هو:
أ-حافز.	ب-هدف.
ج-منشآت.	د-تيسير.
٣٠	العاملين دون إنجاز والعاملين الذين يؤدون أعمالاً دون مؤهلاتهم مفهوم البطالة:
أ-الاختيارية.	ب-الفكرية.
ج-المقنعة.	د-الوظيفية.

السؤال الثاني:

أربطي بين العمود (أ) و ما يناسبه في العمود (ب):

الرقم	العمود(أ)المفهوم	الحرف	العمود (ب)المعنى
١	الخرائط المناخية(ج)	أ	تمثل التوزيع البشري وكثافته في أماكن محددة.
٢	الخرائط السكانية(أ)	ب	تمثل الحدود بين الدول.
٣	الخرائط النبات الطبيعي(د)	ج	تمثل اتجاه الرياح في فصل الصيف.
٤	الخرائط السياسية(ب)	د	تمثل توزيع الغابات المطيرة.
		هـ	تمثل مواقع المعارك وامتداد الدول.



السؤال الثالث: اجبني بصح أو خطأ في العبارات التالية ثم ظللي الحرف المناسب في ورقة الإجابة (١-١٠) :

١	من أعمال التطوع أداء الواجبات المدرسية.	صح	خطأ
٢	التزام آداب الذوق العام يؤدي إلى المواطنة الصالحة.	صح	خطأ
٣	من واجبات الدولة توفير الأمن للجميع.	صح	خطأ
٤	عندما يكون الإنسان منجزاً فإنه يشعر بالرضا.	صح	خطأ
٥	حث الإسلام على العمل والإنجاز.	صح	خطأ
٦	تشابه الرموز في كل مفاتيح الخرائط .	صح	خطأ
٧	التضخم غير مضر بالاقتصاد.	صح	خطأ
٨	من الآثار الاجتماعية للبطالة قلة الجرائم.	صح	خطأ
٩	الانتماء للوطن يعيق مسيرة التقدم.	صح	خطأ
١٠	الأمن والاستقرار أثر في نمو الاقتصاد الوطني.	صح	خطأ

السؤال الرابع: اجبني على الأسئلة التالية وفق ما درستني:

١- وضح المقصود من برنامج جودة الحياة ؟

من برامج رؤية المملكة ٢٠٣٠ برنامج جودة الحياة الذي يخدم عدة جوانب، منها: الجانب الاقتصادي، ويسهم في خفض البطالة بتوفير فرص عمل كثيرة في عدد من الأنشطة الترفيهية، والخدمية، والترويحية، والرعاية الصحية، والإسكان، والنقل.

٢- عددي العوامل التي تساعد على تحقيق الإنجاز الذاتي؟

-التزود بالمعارف والمهارات. /-الطموح. /-المثابرة والمواظبة. /-تحمل المسؤوليات. /-الثقة بالنفس. /-الاستفادة من الأخطاء من أجل الا تتكرر.

٣ - برأيك ما أبرز فوائد الانتماء للوطن ((وفق ما درستني)).

من سمات المواطن الصالح قوة ولاءه وانتمائه؛ بحيث يكون قادراً على الوعي بأحوال وطنه وقضاياها والتحديات التي تواجهه، كما يكون قادراً على مقاومة الشائعات التي تضر بوطنه، ومقدراً لجهود الدولة ومنجزاتها في خدمة الدين والفرد والمجتمع.

ومن أبرز فوائد الانتماء للوطن ما يأتي:

- تحقيق أمرٍ شرعي أمر الله به في القرآن الكريم، وأمر به نبيه محمد ﷺ.
- تعزيز الوحدة الوطنية، واستقرار الوطن، وتماسكه.
- تحقيق الاستقرار النفسي المؤدي إلى التفاعل الإيجابي، والمواطنة الصالحة.
- دفع مسيرة التقدم والتطور في البلاد، سياسياً واقتصادياً.
- حماية الوطن ومكتسباته.
- تأمين الاستقرار المجتمعي الخالي من العنف والإرهاب والانحلال.



سدد الله خطاكن

أ/ ريم ابومازن

اختبار الفصل الدراسي الثالث (الدور الأول) لعام ١٤٤٦ هـ

اسم الطالب :

اسم المراجع	اسم المصحح	الدرجة كتابة	الدرجة رقماً	س2	س1
التوقيع:	التوقيع:	أربعون درجة فقط	40	30	10

السؤال الأول: ضع علامة (√) أمام العبارة الصحيحة وعلامة (X) أما العبارة الخاطئة :

10

م	العبارة	الإجابة
1.	ليس مهم توفير حقيبة الإسعافات الأولية في المنزل	
2.	من أقسام الغاز في المملكة الغاز الغير مرافق للنفط	
3.	من محاور التنمية المستدامة العناية بصحة أفراد المجتمع	
4.	لا تعد ظاهرة التفحيط ظاهرة اجتماعية خطيرة	
5.	يعد النفط أهم مصادر الطاقة في العالم	
6.	تعمل التنمية على النهوض بالمجتمعات في شتى المجالات .	
7.	من وسائل التنمية الصحية المستشفيات والمدن الطبية	
8.	يقاس تقدم الدول بحجم إنتاجها الصناعي .	
9.	رؤية 2030 لا تحقق التنمية	
10.	الإنجاز الذاتي مرتبط بمشاعر الفرد	

30

السؤال
الثاني:
اختبر
الإجابة

الصحيحة:

1. المياه السطحية في المملكة تنقسم إلى

أ) أربع أقسام ب) ثلاثة أقسام . ج) قسمين

2. من المياه السطحية في المملكة

أ) مياه البحار ب) مياه الأنهار ج) مياه العيون

3. يُعد من أكبر الأودية في المملكة وأطولها

أ) وادي الرمة الباطن ب) وادي السرحان ج) وادي تربة .

4. تتحدر روافده من مرتفعات السروات وينتهي في الربع الخالي

أ) وادي الرمة الباطن ب) وادي السرحان ج) وادي الدواسر

5. ينحدر من بلاد زهران ويعرف بوادي الخرمة

أ) وادي الرمة الباطن ب) وادي الدواسر ج) وادي تربة

6. المياه التي لا يمكن الاستفادة منها في الاستخدام البشري هي

أ) مياه الصرف الصحي ب) مياه البحر ج) مياه الآبار والعيون

7. بدأ التنقيب عن النفط في المملكة في عهد الملك

أ) خالد ب) سعود . ج) عبدالعزيز

8. تم أول اكتشاف للنفط بكميات تجارية في بئر

أ) السفاتية ب) الدمام ج) الغوار .

9. اكتشف النفط في المملكة بكميات كبيرة عام :

أ) 1357 هـ . ب) 1400 هـ . ج) 1359 هـ .

10. يمتاز بأنه أكبر حقول النفط على اليابس مساحةً وإنتاجًا في العالم

أ) حقل الدمام ب) حقل الغوار ج) حقل بقيق

11. يمتاز بالقرب من شاطئ الخليج العربي وهو ثاني حقل مغمور بالمياه في المملكة

أ) حقل منيفة	ب) حقل أبو حدرية	ج) حقل الفاضلي
12. أهم صادرات المملكة		
أ) الذهب	ب) النفط	ج) الملابس
13. يُصنف الإنتاج الصناعي في المملكة إلى		
أ) وحدتين رئيسيتين	ب) ثلاث وحدات رئيسية	ج) أربع وحدات رئيسية
14. الصناعات الأساسية في المملكة تعتمد معظمها على		
أ) الفوسفات	ب) الزنك	ج) النفط
15. الصناعات التحويلية في المملكة مثل		
أ) المواد الغذائية	ب) البتروكيمياوية.	ج) تكرير النفط.
16. من المدن السياحية الجبلية في المملكة		
أ) الرياض	ب) أبها	ج) الدمام
17. خطوات تحقيق الإنجاز الذاتي		
أ) تحديد الأهداف	ب) عدم بذل الجهد	ج) التخطيط
18. النشاط الإنساني للحصول على السلع والخدمات من المواد الخام أو المعارف هو		
أ) العمل	ب) التخطيط	ج) الإنتاج
19. عند انخفاض أسعار النفط تتأثر موارد الدولة وبتالي		
أ) يثبت الإنفاق	ب) يزيد الإنفاق	ج) يتقلص الإنفاق
20. هناك العديد من الموارد الطبيعية و منها		
أ) السكان	ب) النفط	ج) السوق
21. مشكلة اقتصادية واجتماعية تعني ألا تنهياً فرص للعمل للباحثين عنه		
أ) العمل	ب) البطالة	ج) الإنتاج
22. من الآثار الاقتصادية للبطالة		

ضعف الإنتاج (ج)	الجريمة (ب)	الأمراض النفسية (أ)
23. توفر وزارة الصحة خدمات تسجيل المواعيد عبر تطبيق		
مستشفى (ج)	موعد (ب)	منتظر (أ)
24. توفر وزارة الصحة خدمة اتصال على مدار الساعة للحصول على استشارة طبية على الرقم		
939 (ج)	938 (ب)	937 (أ)
25. أول آيات نزلت على الرسول صلى الله عليه وسلم وتحث على التعلم والقراءة كانت في سورة		
الناس (ج)	العلق (ب)	الإخلاص (أ)
26. أول من أدخل النظام التعليمي المجاني في المملكة هو		
الملك عبدالعزيز (ج)	الملك فهد . (ب)	الملك فيصل . (أ)
27. في الحديث مثل المؤمنين في توادهم وتراحمهم وتعاطفهم مثل :		
الأخوة . (ج)	الجماعة . (ب)	الجسد الواحد . (أ)
28. عدد السدود في المملكة العربية السعودية أكثر من		
700 سد (ج)	600 سد (ب)	500 سد (أ)
29. قطار يربط بين مكة المكرمة والمدينة المنورة مروراً بجدة		
قطار الحرمين (ج)	قطار الشمال (ب)	قطار الرياض (أ)
30. مجموعة من الإجراءات والوسائل التي تتخذ للوقاية من وقوع الأخطار والحوادث		
الجريمة (ج)	السلامة (ب)	الحوادث (أ)

انتهت الأسئلة ،،،،، مع تمنياتي لكم بالتوفيق والنجاح ،،،،، معلم المادة /

موقع
مادنتيري

المادة : الدراسات الاجتماعية

الصف : ثالث متوسط

الزمن : ساعة ونصف

رؤية
2030

وزارة التعليم

وزارة التعليم

إدارة تعليم

.....

مدرسة

نموذج الإجابة

اختبار الفصل الدراسي الثالث (الدور الأول) لعام ١٤٤٦ هـ

الإجابة النموذجية

اسم المراجع	اسم المصحح	الدرجة كتابة	الدرجة رقماً	س 2	س 1
التوقيع:	التوقيع:	أربعون درجة فقط	40	30	10

السؤال الأول: ضع علامة (√) أمام العبارة الصحيحة وعلامة (X) أما العبارة الخاطئة :

10

م	العبارة	الإجابة
1.	ليس مهم توفير حقيبة الإسعافات الأولية في المنزل	X
2.	من أقسام الغاز في المملكة الغاز الغير مرافق للنفط	√
3.	من محاور التنمية المستدامة العناية بصحة أفراد المجتمع	√
4.	لا تعد ظاهرة التفحيط ظاهرة اجتماعية خطيرة	X
5.	يعد النفط أهم مصادر الطاقة في العالم	√
6.	تعمل التنمية على النهوض بالمجتمعات في شتى المجالات .	√
7.	من وسائل التنمية الصحية المستشفيات والمدن الطبية	√
8.	يقاس تقدم الدول بحجم انتاجها الصناعي .	√
9.	رؤية 2030 لا تحقق التنمية	X
10.	الإنجاز الذاتي مرتبط بمشاعر الفرد	√

30

السؤال
الثاني:
أختار
الإجابة

الصحيحة:

1. المياه السطحية في المملكة تنقسم إلى

(أ) أربع أقسام	(ب) ثلاثة أقسام .	(ج) <u>قسمين</u>
----------------	-------------------	------------------

2. من المياه السطحية في المملكة

(أ) مياه البحار	(ب) مياه الأنهار	(ج) <u>مياه العيون</u>
-----------------	------------------	------------------------

3. يُعد من أكبر الأودية في المملكة واطولها

(أ) <u>وادي الرمة الباطن</u>	(ب) وادي السرحان	(ج) وادي تربة .
------------------------------	------------------	-----------------

4. تنحدر روافده من مرتفعات السروات وينتهي في الربع الخالي

(أ) وادي الرمة الباطن	(ب) وادي السرحان	(ج) <u>وادي الدواسر</u>
-----------------------	------------------	-------------------------

5. ينحدر من بلاد زهران ويعرف بوادي الخرمة

(أ) وادي الرمة الباطن	(ب) وادي الدواسر	(ج) <u>وادي تربة</u>
-----------------------	------------------	----------------------

6. المياه التي لا يمكن الاستفادة منها في الاستخدام البشري هي

(أ) <u>مياه الصرف الصحي</u>	(ب) مياه البحر	(ج) مياه الآبار والعيون
-----------------------------	----------------	-------------------------

7. بدأ التنقيب عن النفط في المملكة في عهد الملك

(أ) خالد	(ب) سعود .	(ج) <u>عبدالعزیز</u>
----------	------------	----------------------

8. تم أول اكتشاف للنفط بكميات تجارية في بئر

(أ) السفانية	(ب) <u>الدمام</u>	(ج) الغوار .
--------------	-------------------	--------------

9. اكتشف النفط في المملكة بكميات كبيرة عام :

(أ) <u>1357هـ.</u>	(ب) 1400هـ .	(ج) 1359هـ .
--------------------	--------------	--------------

10. يمتاز بأنه أكبر حقول النفط على اليابس مساحةً وإنتاجًا في العالم

(أ) حقل الدمام	(ب) <u>حقل الغوار</u>	(ج) حقل بقيق
----------------	-----------------------	--------------

11. يمتاز بالقرب من شاطئ الخليج العربي وهو ثاني حقل مغمور بالمياه في المملكة

أ) <u>حقل منيفة</u>	ب) حقل أبو حدرية	ج) حقل الفاضلي
12. أهم صادرات المملكة		
أ) الذهب	ب) <u>النفط</u>	ج) الملابس
13. يُصنف الإنتاج الصناعي في المملكة إلى		
أ) <u>وحدتين رئيسيتين</u>	ب) ثلاث وحدات رئيسية	ج) أربع وحدات رئيسية
14. الصناعات الأساسية في المملكة تعتمد معظمها على		
أ) الفوسفات	ب) الزنك	ج) <u>النفط</u>
15. الصناعات التحويلية في المملكة مثل		
أ) <u>المواد الغذائية</u>	ب) البتروكيماوية.	ج) تكرير النفط.
16. من المدن السياحية الجبلية في المملكة		
أ) الرياض	ب) <u>أبها</u>	ج) الدمام
17. خطوات تحقيق الإنجاز الذاتي		
أ) تحديد الأهداف	ب) عدم بذل الجهد	ج) <u>التخطيط</u>
18. النشاط الإنساني للحصول على السلع والخدمات من المواد الخام أو المعارف هو		
أ) العمل	ب) التخطيط	ج) <u>الإنتاج</u>
19. عند انخفاض أسعار النفط تتأثر موارد الدولة وبنالي		
أ) يثبت الإنفاق	ب) يزيد الإنفاق	ج) <u>يتقلص الإنفاق</u>
20. هناك العديد من الموارد الطبيعية و منها		
أ) السكان	ب) <u>النفط</u>	ج) السوق
21. مشكلة اقتصادية واجتماعية تعني ألا تنهياً فرص للعمل للباحثين عنه		
أ) العمل	ب) <u>البطالة</u>	ج) الإنتاج
22. من الآثار الاقتصادية للبطالة		

أ) الأمراض النفسية	ب) الجريمة	ج) <u>ضعف الإنتاج</u>
23. توفر وزارة الصحة خدمات تسجيل المواعيد عبر تطبيق		
أ) منتظر	ب) <u>موعد</u>	ج) مستشفى
24. توفر وزارة الصحة خدمة اتصال على مدار الساعة للحصول على استشارة طبية على الرقم		
أ) <u>937</u>	ب) 938	ج) 939
25. أول آيات نزلت على الرسول صلى الله عليه وسلم وتحت على التعلم والقراءة كانت في سورة		
أ) الإخلاص	ب) <u>العلق</u>	ج) الناس
26. أول من أدخل النظام التعليمي المجاني في المملكة هو		
أ) الملك فيصل .	ب) الملك فهد .	ج) <u>الملك عبدالعزيز</u>
27. في الحديث مثل المؤمنين في توادهم وتراحمهم وتعاطفهم مثل :		
أ) <u>الجسد الواحد .</u>	ب) الجماعة .	ج) الأخوة .
28. عدد السدود في المملكة العربية السعودية أكثر من		
أ) <u>500 سد</u>	ب) 600 سد	ج) 700 سد
29. قطار يربط بين مكة المكرمة والمدينة المنورة مروراً بجدة		
أ) قطار الرياض	ب) قطار الشمال	ج) <u>قطار الحرمين</u>
30. مجموعة من الإجراءات والوسائل التي تتخذ للوقاية من وقوع الأخطار والحوادث		
أ) الحوادث	ب) <u>السلامة</u>	ج) الجريمة

انتهت الأسئلة ،،،،، مع تمنياتي لكم بالتوفيق والنجاح ،،،،، معلم المادة /

المملكة العربية السعودية
وزارة التعليم
الادارة العامة للتعليم
مكتب التعليم بمحافظة
موقع منهجي التعليمي



الثالث المتوسط	الصف
الدراسات الاجتماعية	المادة
	اليوم
1446 / 1 هـ	التاريخ
ساعة ونصف	الزمن

اختبار الدراسات الاجتماعية - الفصل الدراسي الثالث - الدور الأول للعام الدراسي 1446 هـ

اسم الطالبة	رقم الجلوس	الصف
-------------	-------	------------	-------	------	-------

الدرجة المستحقة	
رقماً	كتابةً
40	

الرقم	الدرجة التي حصلت عليها الطالبة		المصححة	التوقيع	المراجعة	التوقيع	المدققة	التوقيع
	رقماً	كتابة						
س1								
س2								
س3								
المجموع								

معلمة المادة	
التوقيع	

اختاري الإجابة الصحيحة مما يأتي :

1	من واجبات المواطن السعودي :	أ - الانتماء والولاء للوطن	ب - توفير الأمن	ج - توفير التعليم
2	هو جميع القيم والضوابط والأداب التي تحكم سلوك الإنسان في المجتمع ، تعريف :	أ - الذوق العام	ب - المواطن الصالح	ج - الإنجاز الذاتي
3	من أنواع الخرائط :	أ - طبيعية	ب - ذاتية	ج - رقمية
4	من طرائق توجيه الخريطة :	أ - البوصلة	ب - السيارة	ج - الطائرة
5	يتكون نظام تحديد المواقع من كم قسم :	أ - 3	ب - 7	ج - 5
6	من فوائد نظام تحديد المواقع العالمي :	أ - تحديد الأقمار الصناعية	ب - تحديد اتجاه القبلة	ج - معرفة أنواع المقاييس
7	يحيط بالخريطة من الخارج :	أ - عنوان الخريطة	ب - اطار الخريطة	ج - رموز الخريطة
8	ينقسم العمل المساحي إلى :	أ - التوقيع	ب - الرفع والتوقيع	ج - الرفع
9	هو الذي يحدد مكان الخريطة والمكان الذي يمثله :	أ - اتجاه الخريطة	ب - عنوان الخريطة	ج - مفتاح الخريطة
10	من فوائد التطوع على الفرد :	أ - عدم التواصل	ب - الأجر والثواب	ج - الجهد
11	من صفات التطوع :	أ - الإخلاص في العمل	ب - الأمانة	ج - جميع ما سبق
12	ما عدد عناصر الخريطة :	أ - 3	ب - 5	ج - 6
13	من معايير اختيار المهنة :	أ - حاجات سوق العمل	ب - الميول والقدرات	ج - جميع ما سبق
14	هي قدرة الشخص على أداء واجباته وتحمل نتائج أقواله وأفعاله ، تعريف :	أ - السلامة	ب - التطوع	ج - المسؤولية
15	من أنواع المسؤولية :	أ - ذاتية	ب - اجتماعية	ج - جميع ما سبق

1	التطور التقني لم يقلل من الاعتماد على الأيدي العاملة .
2	من الآثار الاجتماعية للبطالة : قلة الجرائم .
3	الانتماء للوطن يعيق مسيرة التقدم .
4	أداب الذوق العام غير مرتبطة بالمسؤولية .
5	من أعمال التطوع أداء الواجبات المدرسية .
6	للأمن والاستقرار أثر في نمو الاقتصاد الوطني .
7	من واجبات الدولة توفير الأمن للجميع .
8	التبرع بالدم للمستشفيات من أعمال التطوع .
9	اختلاف المعلومات التي تقدمها الخرائط أدى إلى تنوعها .
10	البطالة الهيكلية تكون لمن تتوافر لهم المهارات ولا يجدون عملاً .
11	يحدد إطار الخريطة بعد الانتهاء من رسمها .
12	تشابه الرموز في كل مفاتيح الخريطة .
13	التضخم غير مهم بالاقتصاد .
14	من صفات الفرد المنجز أن يقوم بأعماله على حسب الفراغ .
15	حفظ النعمة وجمع الفائض من الطعام عمل تطوعي لا يخدم الوطن .

السؤال الثالث (أ) : أربط من المجموعة " أ " بوضع رقم الإجابة أمام المجموعة " ب " :

5

الرقم	المجموعة " أ "	المجموعة " ب "	الإجابة بوضع الرقم
1	خريطة تاريخية	تحتوي حقول النفط في منطقة الخليج	
2	خريطة سكانية	توضح طريق هجرة نبينا محمد ﷺ من مكة المكرمة إلى المدينة المنورة	
3	خريطة مناخية	تبين الحدود بين المملكة العربية السعودية والمملكة الأردنية	
4	خريطة اقتصادية	تمثل مناطق نزول الأمطار صيفاً في شبه الجزيرة العربية	
5	خريطة سياسية	توضح الهجرات البشرية في العالم	

(ب) اختاري المصطلح الصحيح من بين الأقواس وضعيه في الفراغ المناسب :

5

(الصورة الجوية - الخريطة - الإنجاز الذاتي - العمل - الذوق العام)

- 1 - هي وسيلة لتمثيل سطح الكرة الأرضية أو جزء منه بظواهره الطبيعية والبشرية على لوحة مستوية .
- 2 - مجهود إرادي يؤديه الإنسان لانتاج سلعة أو تقديم خدمة مقابل الحصول على أجر .
- 3 - هي صورة لجزء من سطح الأرض تلتقط بالطائرات والمناطيد المزودة بآلات تصوير .
- 4 - هو حالة داخلية مستمرة مرتبطة بمشاعر الفرد توجهه نحو التخطيط للعمل .
- 5 - هو جميع القيم والضوابط والآداب التي تحكم سلوك الإنسان في المجتمع .

المملكة العربية السعودية
وزارة التعليم
الادارة العامة للتعليم
مكتب التعليم بمحافظة
موقع منهجي التعليمي



الصف	الثالث المتوسط
المادة	الدراسات الاجتماعية
اليوم	
التاريخ	1446/ / هـ
الزمن	ساعة ونصف

اختبار الدراسات الاجتماعية - الفصل الدراسي الثالث - الدور الأول للعام الدراسي 1446 هـ

نموذج الاجابة

اسم الطالب

رقماً	كتابة
40	

الرقم	الدرجة التي حصلت عليها الطالبة		المصححة	التوقيع	المراجعة	التوقيع	المدققة	التوقيع
	رقماً	كتابة						
س1								
س2								
س3								
المجموع								

معلمة المادة	
التوقيع	

اختاري الإجابة الصحيحة مما يأتي :

1	من واجبات المواطن السعودي :	أ - الانتماء والولاء للوطن @	ب - توفير الأمن	ج - توفير التعليم
2	هو جميع القيم والضوابط والأداب التي تحكم سلوك الإنسان في المجتمع ، تعريف :	أ - الذوق العام @	ب - المواطن الصالح	ج - الإنجاز الذاتي
3	من أنواع الخرائط :	أ - طبيعية @	ب - ذاتية	ج - رقمية
4	من طرائق توجيه الخريطة :	أ - البوصلة @	ب - السيارة	ج - الطائرة
5	يتكون نظام تحديد المواقع من كم قسم :	أ - 3 @	ب - 7	ج - 5
6	من فوائد نظام تحديد المواقع العالمي :	أ - تحديد الأقمار الصناعية	ب - تحديد اتجاه القبلة @	ج - معرفة أنواع المقاييس
7	يحيط بالخريطة من الخارج :	أ - عنوان الخريطة	ب - اطار الخريطة @	ج - رموز الخريطة
8	ينقسم العمل المساحي إلى :	أ - التوقيع	ب - الرفع والتوقيع @	ج - الرفع
9	هو الذي يحدد مكان الخريطة والمكان الذي يمثله :	أ - اتجاه الخريطة	ب - عنوان الخريطة @	ج - مفتاح الخريطة
10	من فوائد التطوع على الفرد :	أ - عدم التواصل	ب - الأجر والثواب @	ج - الجهد
11	من صفات التطوع :	أ - الإخلاص في العمل	ب - الأمانة	ج - جميع ما سبق @
12	ما عدد عناصر الخريطة :	أ - 3	ب - 5	ج - 6 @
13	من معايير اختيار المهنة :	أ - حاجات سوق العمل	ب - الميول والقدرات	ج - جميع ما سبق @
14	هي قدرة الشخص على أداء واجباته وتحمل نتائج أقواله وأفعاله ، تعريف :	أ - السلامة	ب - التطوع	ج - المسؤولية @
15	من أنواع المسؤولية :	أ - ذاتية	ب - اجتماعية	ج - جميع ما سبق @

ضعي علامة (✓) أمام العبارة الصحيحة ، وعلامة (x) أمام العبارة الخاطئة :

خطأ	1	التطور التقني لم يقلل من الاعتماد على الأيدي العاملة .
خطأ	2	من الآثار الاجتماعية للبطالة : قلة الجرائم .
خطأ	3	الانتماء للوطن يعيق مسيرة التقدم .
خطأ	4	أداب الذوق العام غير مرتبطة بالمسؤولية .
خطأ	5	من أعمال التطوع أداء الواجبات المدرسية .
صح	6	للأمن والاستقرار أثر في نمو الاقتصاد الوطني .
صح	7	من واجبات الدولة توفير الأمن للجميع .
صح	8	التبرع بالدم للمستشفيات من أعمال التطوع .
صح	9	اختلاف المعلومات التي تقدمها الخرائط أدى إلى تنوعها .
صح	10	البطالة الهيكلية تكون لمن تتوفر لهم المهارات ولا يجدون عملاً .
خطأ	11	يحدد إطار الخريطة بعد الانتهاء من رسمها .
خطأ	12	تتشابه الرموز في كل مفاتيح الخريطة .
خطأ	13	التضخم غير مهم بالاقتصاد .
خطأ	14	من صفات الفرد المنجز أن يقوم بأعماله على حسب الفراغ .
خطأ	15	حفظ النعمة وجمع الفائض من الطعام عمل تطوعي لا يخدم الوطن .

(أ) أربطي من المجموعة " أ " بوضع رقم الإجابة أمام المجموعة " ب " :

الإجابة بوضع الرقم	المجموعة " ب "	المجموعة " أ "	الرقم
4	تحتوي حقول النفط في منطقة الخليج	خريطة تاريخية	1
1	توضح طريق هجرة نبينا محمد ﷺ من مكة المكرمة إلى المدينة المنورة	خريطة سكانية	2
5	تبين الحدود بين المملكة العربية السعودية والمملكة الأردنية	خريطة مناخية	3
3	تمثل مناطق نزول الأمطار صيفاً في شبه الجزيرة العربية	خريطة اقتصادية	4
2	توضح الهجرات البشرية في العالم	خريطة سياسية	5

(ب) اختاري المصطلح الصحيح من بين الأقواس وضعيه في الفراغ المناسب :

(الصورة الجوية - الخريطة - الإنجاز الذاتي - العمل - الذوق العام)

- 1 - ...الخريطة هي وسيلة لتمثيل سطح الكرة الأرضية أو جزء منه بظواهره الطبيعية والبشرية على لوحة مستوية .
- 2 - العمل مجهود إرادي يؤديه الإنسان لانتاج سلعة أو تقديم خدمة مقابل الحصول على أجر .
- 3 - ... الصور الجوية هي صورة لجزء من سطح الأرض تلتقط بالطائرات والمناطيد المزودة بآلات تصوير .
- 4 - الإنجاز الذاتي هو حالة داخلية مستمرة مرتبطة بمشاعر الفرد توجهه نحو التخطيط للعمل .
- 5 - الذوق العام. هو جميع القيم والضوابط والآداب التي تحكم سلوك الإنسان في المجتمع .

المصحح: أ.
الدرجة كتابة:
التوقيع:

الاسم:
الصف:
رقم الجلوس : ()

المراجع: أ.
الدرجة كتابة:
التوقيع:

٤٠

٤٠

السؤال الأول: اختر الإجابة الصحيحة فيما يلي :

١	هي وسيلة لتمثيل سطح الكرة الأرضية أو جزء منه بظواهره الطبيعية والبشرية على لوحة مستوية :				
أ	مقياس الرسم	ب	الخريطة	ج	علم المساحة
د	الصورة الجوية				
٢	توضح طريقة هجرة نبيينا محمد صلى الله عليه وسلم من مكة المكرمة إلى المدينة المنورة خريطة :				
أ	اقتصادية	ب	مناخية	ج	تاريخية
د	سياسية				
٣	هي الخرائط التي تمثل عليها الظواهر الطبيعية التي خلقها الله والتي لا أثر للإنسان في نشأتها				
أ	الخرائط البشرية	ب	الخرائط الطبيعية	ج	الخرائط التضاريسية
د	الخرائط السياسية				
٤	هي صورة لجزء من سطح الأرض تلتقط بالطائرات أو المناطيد المزودة بالالت التصوير: يقصد بها خطوط الطول ودوائر العرض				
أ	عنوان الخريطة	ب	إطار الخريطة	ج	الصور الجوية
د	مقياس الرسم				
٥	أفضل أنواع المقاييس هو المقياس :				
أ	الخطي	ب	الكتابي	ج	النسبي
د	الكسري				
٦	يقصد بها خطوط الطول ودوائر العرض :				
أ	الظواهر الطبيعية	ب	الاحداثيات	ج	الخريطة
د	شبكة الإحداثيات				
٧	من فوائد نظام تحديد المواقع :				
أ	تحديد المواقع تحديداً دقيقاً	ب	تحديد اتجاه القبلة	ج	إرشاد السفن والطائرات
د	جميع ما سبق				
٨	المساحة الفلكية تكون لمعرفة الحسابات الفلكية مثل :				
أ	معرفة الشهور	ب	أوقات الصلاة	ج	تحديد القبلة
د	جميع ما سبق				
٩	من واجبات المواطن السعودي :				
أ	توفير الرعاية الصحية	ب	الاعتزاز بالوطن والافتخار به	ج	توفير التعليم العام
د	جميع ما سبق				
١٠	من فوائد الانتماء للوطن :				
أ	توفير الرعاية الصحية	ب	تعزيز الوحدة الوطنية	ج	توفير التعليم العام
د	لا شيء مما سبق				
١١	مجهود إرادي يؤديه الفرد لإنتاج سلعة أو تقديم خدمة مقابل الحصول على أجر				
أ	الموارد	ب	الإنتاج	ج	العمل
د	لا شيء مما سبق				
١٢	تم اكتشاف النفط عام :				
أ	١٣٥٥ هـ	ب	١٣٥٦ هـ	ج	١٣٥٧ هـ
د	١٣٥٨ هـ				
١٣	من آثار التضخم				
أ	ارتفاع نسبة البطالة		ارتفاع أجور العاملين		الطلب المستمر على السلع والخدمات مع قلة العرض
ب	كل من أ و ب				
١٤	يوصف بها من تتوافر لديهم مهارات ولا تتوافر لهم فرص عمل :				
أ	البطالة المقنعة	ب	البطالة الوظيفية	ج	البطالة الاختيارية
د	البطالة الهيكلية				

١٥	مساعدة إنسانية ارتبطت بكل معاني الخير عند المجموعات البشرية :						
أ	المواطن الصالح	ب	التطوع	ج	المتطوع	د	العمل التطوعي
١٦	من صفات المتطوع :						
أ	الأنانية	ب	الإيثار	ج	عدم الإخلاص في العمل	د	عدم المسؤولية
١٧	من فوائد التطوع على النفس :						
أ	مساندة الجهود الحكومية	ب	المهارات والخبرات	ج	تحقيق الأمن الشامل	د	لا شيء مما سبق
١٨	الجهة المسؤولة لبرنامج كن عوناً :						
أ	وزارة الحج والعمرة	ب	الجمعية السعودية للعمل التطوعي	ج	الجمعية السعودية لمساندة كبار السن	د	الجمعية الخيرية للطعام
١٩	من مجالات برنامج تكاتف :						
أ	التدريب والتوعية في مجال العمل التطوعي	ب	توفير الرعاية والخدمات الصحية التي تلبي احتياجات كبار السن	ج	توعية المجتمع بأهمية حفظ النعمة	د	إرشاد ضيوف الرحمن
٢٠	من يسخر نفسه ووقته و جهده أو ماله بطوعية لمساعدة الآخرين :						
أ	التطوع		المواطن الصالح		العمل التطوعي		المتطوع

السؤال الثاني :

ضع علامة (✓) إذا كانت الإجابة صحيحة ضع علامة (x) إذا كانت الإجابة خاطئة

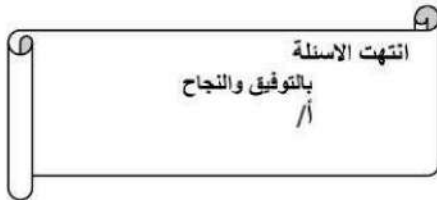
١	من فوائد إطار الخريطة تحديد الجزء الذي تمثله الخريطة .
٢	يشير مؤشر اتجاه الخريطة دائما نحو جهة الشمال .
٣	يحدد إطار الخريطة بعد الانتهاء من رسمها .
٤	الخريطة لا توضح الظواهر المتحركة .
٥	الصورة الجوية توضح خطوط الطول ودوائر العرض .
٦	التوقيع هو نقل المعلومات من الخريطة إلى الطبيعة .
٧	من مجالات التطوع خدمة التراث .
٨	من أهمية الإنجاز الذاتي الطموح .
٩	ينقسم التطوع إلى قسمين تطوع فردي وتطوع مؤسسي .
١٠	من حقوق المواطن السعودي الانتماء والولاء للوطن

موقع
مادنتري

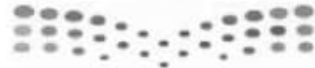
تابع خلف الورقة

السؤال الثالث: اكتب الرقم المناسب من المجموعة (أ) أمام ما يناسبه من المجموعة (ب) :

الرقم	مجموعة (أ)	الاجابة	مجموعة (ب)
١	المساحة الجيوديسية		الغرض منها إنشاء الخرائط التفصيلية وبيان المعالم وبعض التفاصيل .
٢	المساحة المستوية		الغرض منها رسم الخرائط التفصيلية من أجل بيان ما تحويه الأرض من معالم طبيعية وبشرية .
٣	عنوان الخريطة		تعني الأعمال المساحية التي تغطي جزء صغير من سطح الأرض دون الاهتمام بكروية الأرض .
٤	نظام (GPS)		تعني تحديد نقط على سطح الأرض للمساحات الشاسعة مع الأخذ في الحسبان بكروية الأرض .
٥	المساحة التفصيلية		الاسم الذي يحدد موضوع الخريطة .
٦	المساحة الطبوغرافية		نظام مترابط يساعد على تحديد احداثيات أي مكان على سطح الأرض بدقة عالية وفق خطوط الطول ودوائر العرض .
٧	المسؤولية		هو بذل الجهد والوقت أو المال أو الثلاثة معاً عن رغبة واختيار بغرض أداء خدمة اجتماعية أو مبادرة ذاتية دون توقع أجر مالي .
٨	الإنجاز الذاتي		هي زيادة الأسعار تصاعدياً بسبب الطلب الذي يزيد على قدرة العرض .
٩	التضخم		هي قدرة الشخص على أداء واجباته وتحمل نتائج أقواله وأفعاله .
١٠	التطوع		هو حالة داخلية مستمرة مرتبطة بمشاعر الفرد .



موقع
مادنتري



نموذج الاجابة

السؤال الأول: احرر الإجابة الصحيحة فيما يلي :

١	هي وسيلة لتمثيل سطح الكرة الأرضية أو جزء منه بظواهره الطبيعية والبشرية على لوحة مستوية :	أ	مقياس الرسم	ب	الخريطة	ج	علم المساحة	د	الصورة الجوية
٢	توضح طريقة هجرة نبيينا محمد صلى الله عليه وسلم من مكة المكرمة الى المدينة المنورة خريطة :	أ	اقتصادية	ب	مناخية	ج	تاريخية	د	سياسية
٣	هي الخرائط التي تمثل عليها الظواهر الطبيعية التي خلقها الله والتي لا أثر للإنسان في نشأتها	أ	الخرائط البشرية	ب	الخرائط الطبيعية	ج	الخرائط التضاريسية	د	الخرائط السياسية
٤	هي صورة لجزء من سطح الأرض تلتقط بالطائرات أو المناطيد المزودة بالكاميرات التصويرية : يقصد بها خطوط الطول ودوائر العرض	أ	عنوان الخريطة	ب	إطار الخريطة	ج	الصور الجوية	د	مقياس الرسم
٥	أفضل أنواع المقاييس هو المقياس :	أ	الخطي	ب	الكتابي	ج	النسبي	د	الكسري
٦	يقصد بها خطوط الطول ودوائر العرض :	أ	الظواهر الطبيعية	ب	الاحداثيات	ج	الخريطة	د	شبكة الإحداثيات
٧	من فوائد نظام تحديد المواقع :	أ	تحديد المواقع تحديداً دقيقاً	ب	تحديد اتجاه القبلة	ج	إرشاد السفن والطائرات	د	جميع ما سبق
٨	المساحة الفلكية تكون لمعرفة الحسابات الفلكية مثل :	أ	معرفة الشهور	ب	أوقات الصلاة	ج	تحديد القبلة	د	جميع ما سبق
٩	من واجبات المواطن السعودي :	أ	توفير الرعاية الصحية	ب	الاعتزاز بالوطن والافتخار به	ج	توفير التعليم العام	د	جميع ما سبق
١٠	من فوائد الانتماء للوطن :	أ	توفير الرعاية الصحية	ب	تعزيز الوحدة الوطنية	ج	توفير التعليم العام	د	لا شيء مما سبق
١١	مجهود إرادي يؤديه الفرد لإنتاج سلعة أو تقديم خدمة مقابل الحصول على أجر	أ	الموارد	ب	الإنتاج	ج	العمل	د	لا شيء مما سبق
١٢	تم اكتشاف النفط عام :	أ	١٣٥٥ هـ	ب	١٣٥٦ هـ	ج	١٣٥٧ هـ	د	١٣٥٨ هـ
١٣	من آثار التضخم	أ	ارتفاع نسبة البطالة	ب	ارتفاع أجور العاملين	ج	الطلب المستمر على السلع والخدمات مع قلة العرض	د	كل من أ و ب
١٤	يوصف بها من تتوافر لديهم مهارات ولا تتوافر لهم فرص عمل :	أ	البطالة المقنعة	ب	البطالة الوظيفية	ج	البطالة الاختيارية	د	البطالة الهيكلية

١٥	مساعدة إنسانية ارتبطت بكل معاني الخير عند المجموعات البشرية :				
أ	المواطن الصالح	ب	التطوع	ج	المتطوع
١٦	من صفات المتطوع :				
أ	الأنانية	ب	الإيثار	ج	عدم الإخلاص في العمل
١٧	من فوائد التطوع على النفس :				
أ	مساندة الجهود الحكومية	ب	المهارات والخبرات	ج	تحقيق الأمن الشامل
١٨	الجهة المسؤولة لبرنامج كن عوناً :				
أ	وزارة الحج والعمرة	ب	الجمعية السعودية للعمل التطوعي	ج	الجمعية السعودية لمساندة كبار السن
١٩	من مجالات برنامج تكاتف :				
أ	التدريب والتوعية في مجال العمل التطوعي	ب	توفير الرعاية والخدمات الصحية التي تلبي احتياجات كبار السن	ج	توعية المجتمع بأهمية حفظ النعمة
٢٠	من يسخر نفسه ووقته وجهده أو ماله بطوعية لمساعدة الآخرين :				
أ	التطوع		المواطن الصالح		العمل التطوعي

السؤال الثاني :

ضع علامة (✓) إذا كانت الإجابة صحيحة ضع علامة (x) إذا كانت الإجابة خاطئة

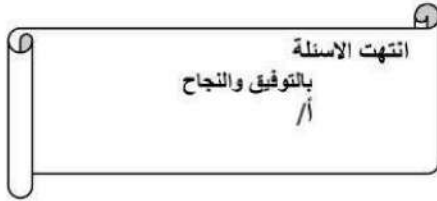
✓	١	من فوائد إطار الخريطة تحديد الجزء الذي تمثله الخريطة .
✓	٢	يشير مؤشر اتجاه الخريطة دائما نحو جهة الشمال .
✗	٣	يحدد إطار الخريطة بعد الانتهاء من رسمها .
✓	٤	الخريطة لا توضح الظواهر المتحركة .
✗	٥	الصورة الجوية توضح خطوط الطول ودوائر العرض .
✓	٦	التوقيع هو نقل المعلومات من الخريطة إلى الطبيعة .
✓	٧	من مجالات التطوع خدمة التراث .
✗	٨	من أهمية الإنجاز الذاتي الطموح .
✓	٩	ينقسم التطوع إلى قسمين تطوع فردي وتطوع مؤسسي .
✗	١٠	من حقوق المواطن السعودي الانتماء والولاء للوطن

موقع
مادنتيرا

تابع خلف الورقة

السؤال الثالث: اكتب الرقم المناسب من المجموعة (أ) أمام ما يناسبه من المجموعة (ب) :

الرقم	مجموعة (أ)	الاجابة	مجموعة (ب)
١	المساحة الجيوديسية	٥	الغرض منها إنشاء الخرائط التفصيلية وبيان المعالم وبعض التفاصيل .
٢	المساحة المستوية	٦	الغرض منها رسم الخرائط التفصيلية من أجل بيان ما تحويه الأرض من معالم طبيعية وبشرية .
٣	عنوان الخريطة	٢	تعني الأعمال المساحية التي تغطي جزء صغير من سطح الأرض دون الاهتمام بكروية الأرض .
٤	نظام (GPS)	١	تعني تحديد نقط على سطح الأرض للمساحات الشاسعة مع الأخذ في الحسبان بكروية الأرض .
٥	المساحة التفصيلية	٣	الاسم الذي يحدد موضوع الخريطة .
٦	المساحة الطبوغرافية	٤	نظام مترابط يساعد على تحديد احداثيات أي مكان على سطح الأرض بدقة عالية وفق خطوط الطول ودوائر العرض .
٧	المسؤولية	١٠	هو بذل الجهد والوقت أو المال أو الثلاثة معاً عن رغبة واختيار بغرض أداء خدمة اجتماعية أو مبادرة ذاتية دون توقع أجر مالي .
٨	الإنجاز الذاتي	٧	هي زيادة الأسعار تصاعدياً بسبب الطلب الذي يزيد على قدرة العرض .
٩	التضخم	٩	هي قدرة الشخص على أداء واجباته وتحمل نتائج أقواله وأفعاله .
١٠	التطوع	٨	هو حالة داخلية مستمرة مرتبطة بمشاعر الفرد .



موقع
مادنتير



المصحح: أ.
الدرجة كتابة:
التوقيع:

الاسم:
الصف:
رقم الجلوس : ()

المراجع: أ.
الدرجة كتابة:
التوقيع:

٤٠

٤٠

السؤال الأول: اختر الإجابة الصحيحة فيما يلي :

١	أغني مناطق المملكة العربية السعودية بالمياه السطحية				
أ	نجران	ب	تهامة عسير	ج	المنطقة الشمالية
د	المنطقة الشرقية				
٢	في مجال تحلية المياه ترتيب وطني المملكة العربية عالمياً هو المركز				
أ	الأول	ب	الثاني	ج	الثالث
د	الرابع				
٣	يعد من أكبر الأودية في المملكة وأطولها:				
أ	وادي الرمة الباطن	ب	وادي السرحان	ج	وادي تربة
د	وادي بيشة				
٤	بدأ التنقيب عن النفط في المملكة في عهد الملك				
أ	عبدالعزیز	ب	سعود	ج	خالد
د	فهد				
٥	تم اكتشاف أول نـفـط بكميات تجارية في بئر				
أ	الدمام	ب	السفانية	ج	الغوار
د	بقيق				
٦	من موانئ تصدير النفط في المملكة ميناء				
أ	رأس تنورة	ب	الجبعية	ج	الخفجي
د	جميع ما ذكر				
٧	يتمتع وطني بكثير من مقومات السياحة، منها				
أ	أماكن طبيعية	ب	مناطق ساحلية	ج	آثار تاريخية
د	جميع ما ذكر				
٨	من العوامل التي تساعد على تحقيق الإنجاز الذاتي				
أ	التسويق	ب	المثابرة	ج	التردد
د					
٩	هناك عوامل متعددة تتحكم في إقتصاد أي دولة من أبرزها				
أ	الاستقرار	ب	الثقة بالنفس	ج	البطالة
د					
١٠	يوصف بها من تتوفر لديهم مهارات ، ولا تتوافر لهم فرص عمل				
أ	البطالة الهيكلية	ب	البطالة الاختيارية	ج	البطالة الوظيفية
د	البطالة المُقنعة				
١١	من المشكلات الاقتصادية الناتجة عن حركة العرض والطلب				
أ	التضخم	ب	البطالة	ج	العمل
د					
١٢	تحتل المملكة في الاحتياطي العالمي من النفط المركز				
أ	الأول	ب	الثاني	ج	الثالث
د	الرابع				
١٣	أول من أدخل النظام التعليمي المجاني في المملكة هو				
أ	الملك عبدالعزیز	ب	الملك فهد	ج	الملك فيصل
د	الملك خالد				
١٤	توفر وزارة الصحة خدمات تسجيل المواعيد عبر تطبيق				
أ	موعد	ب	منتظر	ج	مستشفى
د	تسجيل				
١٥	توفر وزارة الصحة خدمة اتصال على مدار الساعة للحصول على استشارة طبية على الرقم				
أ	٩٣٧	ب	٩٨٣	ج	٩٣٩
د	٩٦٩				

١٦	مجموعة من الإجراءات والوسائل التي تتخذ للوقاية من وقوع الأخطار والحوادث
أ	السلامة
ب	الحوادث
ج	الجريمة
د	
١٧	دار الملاحظة الاجتماعية يتولى رعاية الأحداث الذين تتراوح أعمارهم بين
أ	١٢ إلى ١٨ سنة
ب	٨ إلى ١٨ سنة
ج	١٠ إلى ١٦ سنة
د	١٢ إلى ١٦ سنة
١٨	الجهة التي تقدم معاشات شهرية للأيتام والأرامل والمطلقات وذوي الاحتياجات الخاصة تسمى بـ
أ	الضمان الاجتماعي
ب	الخدمة المدنية
ج	الرعاية الصحية
د	الإرشاد السري
١٩	أقر مجلس الوزراء برئاسة الملك سلمان حفظه خطة جديدة للأصالح الاقتصادي
أ	الخطة الخمسية
ب	رؤية ٢٠٣٠
ج	خطة التنمية
د	جودة الحياة
٢٠	نشر الوعي والتحصينات تدرج تحت الخدمات
أ	العلاجية
ب	الوقائية
ج	التطويرية
د	التأهيلية

السؤال الثاني :

ضلل فقرة (ص) إذا كانت الإجابة صحيحة (✓) و ضلل فقرة (خ) إذا كانت الإجابة خاطئة (x)

١	الصناعات التحويلية في المملكة مثل المواد الغذائية
٢	التجارة هي عملية تبادل المنتجات الاقتصادية المختلفة عن طريق البيع والشراء
٣	تقوم الدولة بحماية السلع المحلية بزيادة الرسوم على السلع المستوردة
٤	من أمثلة المعادن الفلزية الحجر الجيري
٥	من أقسام الغاز في المملكة الغاز الغير مرافق للنفط
٦	التنمية جهود منظمة تهدف إلى تحسين مستوى المعيشة
٧	من أسباب الاهتمام بالسياحة إيجاد فرص عمل للمواطنين
٨	قامت الدولة بتقديم القروض الميسرة للمزارعين بدون فوائد
٩	يُقاس تقدم الدول بحجم إنتاجها الصناعي
١٠	الميزان التجاري هو الفرق بين قيمة الصادرات وقيمة الواردات
١١	عند انخفاض أسعار النفط تتأثر موارد الدولة وبتالي يزيد الإنفاق
١٢	يُعد الاقتصاد السعودي من أقوى الاقتصادات في العالم
١٣	تعد ظاهرة التفحيط مخالفة مرورية يُعاقب النظام مرتكبيها
١٤	من آثار التضخم ارتفاع نسبة البطالة
١٥	قدم الضمان الاجتماعي مساعدات مادية لمن يتعرض أزمات طارئة كالسجناء
١٦	شكلت وزارة الموارد البشرية والتنمية الاجتماعية (١٥) لجنة حماية اجتماعية في مناطق وطني
١٧	من مراكز الرعاية الاجتماعية مركز رعاية الأطفال المشلولين
١٨	اهتمام المملكة بصحة الحجاج و رعايته من وسائل تحقيق التنمية الصحية
١٩	التدخين من أكبر مصادر التلوث داخل المنازل
٢٠	ليس مهم توفير حقيبة الإسعافات الأولية في المنزل

انتهت الاسئلة
بالتوفيق والنجاح

موقع
مادنتري

السؤال الأول

10

أ) ضع المصطلح المناسب مما يلي في المكان المناسب :

(الخريطة , الصور الجوية , نظام GPS , علم المساحة)

4

- 1 - : هي وسيلة لتمثيل سطح الأرض او جزء منه بظواهره الطبيعية والبشرية .
- 2 -:هي صورة لسطح الأرض تلتقط بالطائرات او المناطيد المزودة بالآلات تصوير .
- 3- : هو نظام مترابط يساعد على تحديد احداثيات أي مكان على سطح الأرض بدقة عالية .
- 4-: هو العلم الذي يبحث في الطرائق المختلفة لتمثيل سطح الأرض .

ب) قارني بين الخريطة والصور الجوية وفق المطلوب في الجدول :

4

أوجه المقارنة	الخريطة	الصور الجوية
الشكل		
توضيح الظواهر المتحركة		

2

ج) من وجهة نظرك ماذا نستفيد من علم المساحة ؟

.....

السؤال الثاني

4

أ) عددي مثال واحد فقط مما يلي :

1 - مجالات التطوع :

2 - أنواع الخرائط :

3 - أنواع المسؤولية :

4 - فوائد الانتماء الوطني :

4

ب) ضعبي عناصر الخريطة التالية في المكان الصحيح :

(عنوان الخريطة - مفتاح الخريطة - مقياس الخريطة - اطار الخريطة)



تحديد الاتجاه

2

ج) من وجهة نظرك ما اثر التقدم العلمي والتقني في تطوير الخرائط ؟

أ) صلي من العمود أ بما يناسبه من العمود ب :

4

ب	أ
توفير الامن للمجتمع	1- الخريطة السياسية
القيم والضوابط والأداة التي تحكم سلوك الانسان في المجتمع	2- الخريطة السكانية
تبيين الهجرات البشرية	3- الذوق العام
تبيين الحدود بين الدول	4- من واجبات الدولة

ب) رتبى الخطوات التالية للوصول الى موقع ما :

4

اتصال الجهاز بالاقمار الصناعية	ادخال احداثيات الموقع	معرفة احداثيات الموقع	جهاز تحديد المواقع GPS

2

ج) صنفى الخرائط التالية وفق نوعها :
(تضاريسية , مناخية , سكانية , اقتصادية)

خرائط طبيعية	خرائط بشرية

أ) ضعي علامة (✓) امام الإجابة الصحيحة وعلامة (X) امام الجابة الخاطئة:

	1- من فوائد نظام تحديد المواقع العالمي تحديد الموقع
	2- التزام آداب الذوق العام يؤدي الى المواطنة
	3- المسؤولية الدينية هي التزام طاعة الله واجتناب نواهيه
	4- التبرع بالدم للمستشفيات يعتبر من اعمال التطوع

ب) اكمل الجدول التالي بما يناسبه :

(البطالة الهيكلية , البطالة الاختيارية , البطالة الوظيفية , البطالة المقتنعة)

يوصف بها من لديهم مهارات ولا تتوفر لهم فرص عمل	يوصف بها من يقدر على العمل ولا يرغب فيه	يقصد بها من ترك وظيفته للبحث عن وظيفة أفضل	تشمل العاملين دون انجاز والعاملين دون مؤهلاتهم

ج) من وجهة نظرك كيف نتخلص من البطالة ؟

.....

.....

انتهت الأسئلة تمنياتي لكم بالتوفيق

المملكة العربية السعودية وزارة التعليم إدارة التعليم بمنطقة المدرسة متوسطة	بسم الله الرحمن الرحيم  وزارة التعليم Ministry of Education	المادة: الصف: الزمن: السنة الدراسية:	الدراسات الاجتماعية الثالث المتوسط ساعة ونصف ١٤٤٦ هـ
---	---	---	---

15

السؤال الأول:- اختار الإجابة الصحيحة من الفقرات الاختيارية التالية بوضع دائرة حول الإجابة:-

1. المياه التي تجمعت قديماً في باطن الأرض كونت :

أ	الطبقات	ب	العيون	ج	الابودية	د	الشعبان
---	---------	---	--------	---	----------	---	---------

2. الوادي الذي يمتد من مدينة عمان حتى الجوف يسمى وادي:

أ	السرطان	ب	الرمة	ج	تربة	د	الدواسر
---	---------	---	-------	---	------	---	---------

3. ترتيب وطني المملكة العربية السعودية في مجال تحلية المياه :

أ	الأول	ب	الثاني	ج	الثالث	د	الرابع
---	-------	---	--------	---	--------	---	--------

4. تم اكتشاف النفط في وطني سنة

أ	1357 هـ	ب	1377 هـ	ج	1400 هـ	د	1403 هـ
---	---------	---	---------	---	---------	---	---------

5. من اغنى الجهات في وطني بالمياه السطحية.

أ	تهامة عسير	ب	الاحساء	ج	المنطقة الشمالية	د	الربع الخالي
---	------------	---	---------	---	------------------	---	--------------

6. يتوفر في وطني كثير من مقومات السياحة منها :-

أ	مصادر الطاقة	ب	المصانع	ج	النفط والغاز	د	المناطق السياحية
---	--------------	---	---------	---	--------------	---	------------------

7. من مقومات الصناعة المتوفرة في المملكة :

أ	رأس المال	ب	الأسواق	ج	المواد الخام	د	جميع ماسبق
---	-----------	---	---------	---	--------------	---	------------

8. من تتوفر لهم مهارات ولا تتوفر لهم فرصة عمل:

أ	البطالة الوظيفية	ب	البطالة المقنعة	ج	البطالة الاختيارية	د	البطالة الهيكلية
---	------------------	---	-----------------	---	--------------------	---	------------------

9. الطلب المستمر والعالي على السلع والخدمات مع قلة العرض :

أ	البطالة	ب	التنمية	ج	الموارد	د	التضخم
---	---------	---	---------	---	---------	---	--------

10. من وسائل التنمية الصحية:

أ	المدارس	ب	المراكز التجارية	ج	الطرق والجسور	د	المستشفيات
---	---------	---	------------------	---	---------------	---	------------

11. من وسائل التنمية التعليمية

أ	الطرق	ب	مراكز التسوق	ج	المصانع	د	الجامعات
---	-------	---	--------------	---	---------	---	----------

12. من المجالات التي تُعنى بوزارة الموارد البشرية والتنمية الاجتماعية .

أ	رعاية الايتام	ب	رعاية المسنين	ج	رعاية ذوي الإعاقة	د	جميع ما سبق
---	---------------	---	---------------	---	-------------------	---	-------------

13. المرافق العامة هي .

أ	المنازل	ب	المحلات التجارية	ج	المزارع	د	الطرق والحدائق
---	---------	---	------------------	---	---------	---	----------------

14. من الممارسات الخاطئة في القيادة:-

أ	السرعة الزائدة	ب	ربط حزام الأمان	ج	التقيد بتعليمات المرور	د	التأكد من سلامة الاطارات
---	----------------	---	-----------------	---	------------------------	---	--------------------------

15. من العادات السيئة التي تنتشر بين افراد المجتمع

أ	التدخين	ب	الابتسام	ج	المحافظة على الموارد	د	اماطة الأذى عن الطريق
---	---------	---	----------	---	----------------------	---	-----------------------

السؤال الثاني:-

15

ضع علامة (v) نهاية العبارة الصحيحة وعلامة (x) نهاية العبارة الخاطئة فيما يأتي:

1. استخدامي للمياه باعتدال يضمن استمرارها وتدفعها بإذن الله ()
2. التوعية في وسائل الاعلام ضرورية للمحافظة على الموارد ()
3. المحافظة على موارد وطني تكون بالاعتدال في استخدامها ()
4. تتحقق البطالة في الأشخاص الذين يبحثون عن عمل ولم يجده ()
5. البطالة الهيكلية تكون لمن تتوفر لديهم المهارات ولا يجدون عملاً ()
6. تنتشر المخدرات والجرائم في المجتمعات التي تكثر فيها البطالة ()
7. عندما يكون الانسان منجزاً فإنه يشعر بالرضا ()
8. من خطوات الإنجاز الذاتي التخطيط للأعمال ()
9. حث الإسلام على العمل والانجاز ()
10. التضخم من المشكلات الاقتصادية الناتجة عن حركة العرض فقط ()
11. التطور التقني لم يقلل من الاعتماد على الايدي العاملة ()
12. التنمية تطور شامل ومستمر ()
13. من مجالات التنمية التعليم والصحة ()
14. تسهم التنمية في ارتفاع المجتمع ورفاهيته ()
15. تلبي التنمية احتياجات الناس الحالية فقط ()

4

السؤال الثالث:-

اختر الإجابة الصحيحة من بين الأقواس وضعها في التعريف المناسب (البطالة – التنمية – السياحة – الاقتصاد الوطني)

- 1- التحسين المستمر في الوطن على المستوى الاقتصادي والاجتماعي والثقافي.
- 2- مجموعة عمليات الأنشطة البشرية من انتاج وخدمات واستهلاك.
- 3- الا تنهياً فرص العمل للأفراد الباحثين عن العمل الراغبين فيه القادرين عليه .
- 4-انتقال فرد او مجموعة من الافراد من مكان اقامتهم الى مكان اخر داخل او خارج الوطن بهدف المتعة والاستجمام والتعرف على ثقافات أخرى.

السؤال الرابع :-

عدد ثلاث فقط مما يأتي

أ. أسباب الحوادث المرورية

..... 1.

..... 2.

..... 3.

ب. الأودية في المملكة العربية السعودية

..... 1.

..... 2.

..... 3.

انتهت الأسئلة وفقكم الله...

موقع
مادنتري

الدرجة رقماً من 40	1 الدرجة
الدرجة كتابة	الدرجة

المادة: الدراسات الاجتماعية
الصف: ثالث متوسط
الزمن: ساعة



المملكة العربية السعودية
وزارة التعليم
إدارة تعليم القويعة
مدرسة صبحاء المتوسطة

الاختبار النهائي لمادة الدراسات الاجتماعية الفصل الدراسي الثالث لعام 1446 هـ

الاسم: رقم الجلوس:

اسم المصحح: أسامة الزهراني توقيع: المراجع: توقيع:

20

كل السؤال الأول: اختر الإجابة الصحيحة لكل من الخيارات التالية:

1	هو حالة داخلية مستمرة مرتبطة بمشاعر الفرد الفرد (نشاط وحماس) وتوجهه نحو التخطيط	أ	الإنجاز الذاتي	ب	القوة	ج	لا شيء
2	من صفات الفرد المنجز	أ	يودي ما يكلف به على اكمل وجه	ب	التأخير في المواعيد	ج	التجاهل
3	مجهود ارادي يؤديه الانسان لانتاج سلعه او تقديم خدمة	أ	العمل	ب	الايجابية	ج	التنمية
4	هي قدرة الشخص على أداء واجبات وتحمل نتائج أقواله وافعاله وماينتج عنها	أ	المسؤولية	ب	التنمية	ج	الاحزاب
5	من حقوق المواطن	أ	الحكم بالعدل والمساواة	ب	العمل بجد	ج	غير مهم وعاجل
6	البطالة تعني	أ	عدم توفر وظيفة للقادر على العمل	ب	الحرية	ج	التطرف
7	هو ما يبذل من جهود لتصنيع السلع وتوفيرها	أ	النشاط الاقتصادي	ب	المكان	ج	التخطيط
8	هو بذل الجهد والوقت او المال او الثلاثة معاً بغرض اداءه خدمة اجتماعية بدون مقابل مادي	أ	التطوع	ب	التنمية	ج	سلامة العقل
9	يحقق التنوع الاقتصادي	أ	زيادة الناتج المحلي	ب	التسوق الإلكتروني	ج	النزاع
10	من جهود المملكة العربية السعودية لتنويع الاقتصاد هو	أ	تطوير الأنظمة والتخصيص	ب	الحوار	ج	الاتصال

السؤال الأول: ضع علامة (√) أمام العبارة الصحيحة وعلامة (X) أمام العبارة الخاطئة:

1	الخريطة هي وسيلة لتمثيل سطح الكرة الأرضية او جزء من بظواهر طبيعية و بشرية.	()
2	عنوان الخريطة يقوم على تحديد موضوع الخريطة والذي تمثله الخريطة	()
3	من فوائد نظام تحديد المواقع العالمي هو ارشاد السفن والطائرات	()
4	علم المساحة هو العلم الذي يبحث في الطرائق المختلفة لتمثيل سطح الارض	()
5	تساعد المساحة على تمثيل الظواهر الطبيعية	()
6	اختلاف المعلومات التي تقدمها الخرائط أدى الى تنوعها	()
7	تحدد أجهزة GPS الأماكن على سطح الأرض بدقة عالية	()
8	الإنجاز الذاتي هو حاله مستمرة بمرتبة بمشاعر الفرد توجهه نحو التخطيط للعمل .	()
9	تقاطع خطوط الطول ودوائر العرض تعني تعريف (مقياس الرسم)	()
10	الصورة الجوية الرأسية تلتقط العدسات في وضع مائل	()

السؤال الثاني: صنف الموارد الطبيعية الآتية في الجدول الآتي:

خريطة صحراء

خريطة المدن

خريطة الغابات

خريطة سياسية

خريطة المناخ

خريطة بشرية	خريطة طبيعية
1	1
2	2
	3

السؤال الثالث : اذكر 3 من عناصر الخريطة الخارجية

- 1
- 2
- 3

السؤال الرابع : ينقسم أنواع الخرائط الى نوعان وهي

- 2

- 1

موقع
مادنتيري

انتهت الأسئلة,,, أصدق الدعوات للجميع بالتوفيق والنجاح

معلم المادة: أسامة الزهراني