

تم تحميل وعرض المادة من



موقع مادتي هو موقع تعليمي يعمل على مساعدة المعلمين والطلاب وأولياء الأمور في تقديم حلول الكتب المدرسية والاختبارات وشرح الدروس والملاحظات والتحاير وتوزيع المنهج لكل المراحل الدراسية بشكل واضح وسهل مجاناً بتصفح وعرض مباشر أونلاين وتحميل على موقع مادتي

حمل تطبيق مادتي ليصلك كل جديد





اختبار نهائي (نظري) لمادة التقنية الرقمية ٣-١ نظام المسارات المشترك لعام ١٤٤٦هـ

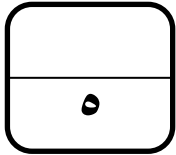
أسم الطالبة : الفصل : رقم الجلوس :

رقم السؤال الدرجة	الأول	الثاني	الثالث	المجموع	المصححة	المراجعة	المدققة

عدد الاوراق : ٣

تعليمات الاختبار:

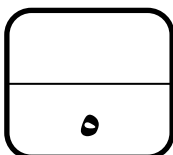
- الكتابة بالقلم الازرق فقط وعدم استخدام الطامس .
- التأكد من عدد الاوراق وعدد الاسئلة للاختبار .
- اختيار إجابة واحدة فقط لكل سؤال وعند اختيار إجابتين سوف تلغى الدرجة .
- قبل تسليم ورقة الاختبار التأكد من صحة واكتمال جميع الاجابات .
- قبل الخروج من اللجنة التأكد من التوقيع في كشف تسليم ورقة الاختبار .

السؤال الاول : اختاري الاجابة الصحيحة فيما يلي بوضع علامة عند الاجابة الصحيحة :

١	تستخدم للتواصل مع موظفين في شركات أو مؤسسات أو جهات أخرى :	٢	يشير إلى الترتيب المحدد للصور والنصوص والعناصر الأخرى في الصفحة :
<input type="checkbox"/>	رسائل البريد الإلكتروني	<input type="checkbox"/>	مظهر الصفحة
<input type="checkbox"/>	خطابات الاعمال	<input type="checkbox"/>	الطباعة
<input type="checkbox"/>	تقارير الاعمال	<input type="checkbox"/>	سهولة القراءة
٣	تستخدمها الشركات أو المؤسسات في شعارها أو في تصميم مستنداتها للتعبير عن هويتها :	٤	شبكة يمتد نطاقها ليشمل العديد من المباني في نفس المدينة أو البلدة :
<input type="checkbox"/>	القوائم والجداول	<input type="checkbox"/>	الشبكة المحلية
<input type="checkbox"/>	الالوان	<input type="checkbox"/>	الشبكة المتوسطة
<input type="checkbox"/>	العناصر المرئية	<input type="checkbox"/>	الشبكة الواسعة



٥	يطلق على عملية توصيل الألياف الضوئية إلى المنازل اسم :	٦	جهاز يوفر إمكانية الوصول للإنترنت للأجهزة المزودة بإمكانيات شبكة Wi-Fi :
<input type="checkbox"/>	FTTH	<input type="checkbox"/>	موجه لاسلكي
<input type="checkbox"/>	FTTB	<input type="checkbox"/>	خادم الويب
<input type="checkbox"/>	FTTE	<input type="checkbox"/>	سحابة الانترنت
٧	يستخدم هذا المستشعر في تحديد الموقع والتعرف على الاتجاهات :	٨	تكرار يتم استخدامه عندما يكون عدد التكرارات غير معرف مسبقاً:
<input type="checkbox"/>	مستشعر للمس	<input type="checkbox"/>	do . . while
<input type="checkbox"/>	مستشعر درجة الحرارة	<input type="checkbox"/>	For
<input type="checkbox"/>	مستشعر البوصلة الرقمية	<input type="checkbox"/>	While
٩	متغيرات يتم تعريفها خارج أي دالة ويمكن الوصول إليها بشكل عام في البرنامج بأكمله:	١٠	يمكن تنزيل البرنامج على جهاز المايكروبت عبر سلك:
<input type="checkbox"/>	المتغيرات الخاصة	<input type="checkbox"/>	HDMI
<input type="checkbox"/>	المتغيرات المحلية	<input type="checkbox"/>	VGA
<input type="checkbox"/>	المتغيرات العامة	<input type="checkbox"/>	USB

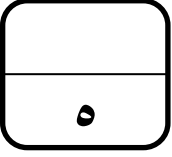


السؤال الثاني : ضعي علامة (✓) عند الاجابة الصحيحة وعلامة (x) عند الاجابة الخاطئة :

١	" المستندات الرقمية " هي مستندات يتم إنشاؤها وتعديلها أو معالجتها بواسطة برامج معينة .
٢	السيرة الذاتية الاحترافية تتكون عادة من صفحة واحدة فقط وبحجم خط يصل إلى ١٢ نقطة .
٣	تشير المساحة الفارغة إلى أجزاء الصفحة التي يوجد بها نص أو صور .
٤	إن الغرض من التقرير هو إعلام القارئ بحالة أو بمشكلة معينة .
٥	شبكة الحاسب عبارة عن جهازي حاسب أو أكثر متصلة ببعضها البعض من أجل مشاركة الموارد.
٩	عندما نريد اتخاذ قرار في بايثون فإننا نستخدم جملة if .
٧	توفر شبكة الاليف الضوئية السرعة الأكبر للإنترنت في أيامنا هذه .
٨	يتم إعطاء عنوان MAC لمحول شبكة الحاسب بشكل يدوي .



٩	الشبكة اللاسلكية تستخدم الكابلات لتوصيل الأجهزة بالإنترنت أو بشبكة أخرى .
١٠	الإعلان عن المتغير هو عملية تعيين قيمة و (اسم غير فريد) للمتغير .



السؤال الثالث : من خلال دراستك لمنهج تقنية رقمية ١-٣ اكتب الفرق بين :

المستند الرسمي	المستند غير رسمي
المخطط الحلقي	المخطط الهجين
الشبكة المحلية	الشبكة الواسعة
اسئلة المقياس الثنائي	اسئلة مقياس ليكرت
تكرار for	تكرار while

انتهت الاسئلة تمنياتي لكن بالنجاح والتميز

مديرة المدرسة : ابتسام علي الكليب

معلمة المادة : عبير صالح الغريب

نموذج الإجابة

المملكة العربية السعودية

وزارة التعليم

إدارة التعليم بالأحساء

مدرسة ثانوية الحليّة

المادة : تقنية رقمية ٣-١

التاريخ : / / ١٤٤٦ هـ

اليوم :

الزمن : ساعة و ربع

وزارة التعليم
Ministry of Education

اجابة اختبار نهائي (نظري) لمادة التقنية الرقمية ٣-١ نظام المسارات المشترك لعام ١٤٤٦ هـ

أسم الطالبة : الفصل : رقم الجلوس :

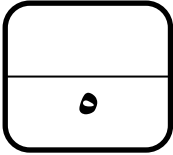
رقم السؤال	الأول	الثاني	الثالث	المجموع	المصححة	المراجعة	المدققة
الدرجة	٥	٥	٥	١٥			

لكل فقرة درجة واحدة

عدد الاوراق : ٣

تعليمات الاختبار:

- الكتابة بالقلم الازرق فقط وعدم استخدام الطامس .
- التأكد من عدد الاوراق وعدد الاسئلة للاختبار .
- اختيار إجابة واحدة فقط لكل سؤال وعند اختيار إجابتين سوف تلغى الدرجة .
- قبل تسليم ورقة الاختبار التأكد من صحة واكتمال جميع الاجابات .
- قبل الخروج من اللجنة التأكد من التوقيع في كشف تسليم ورقة الاختبار .



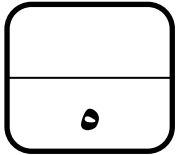
السؤال الاول : اختاري الاجابة الصحيحة فيما يلي بوضع علامة عند الاجابة الصحيحة :

١	تستخدم للتواصل مع موظفين في شركات أو مؤسسات أو جهات أخرى :	<input checked="" type="checkbox"/>	رسائل البريد الإلكتروني
		<input type="checkbox"/>	خطابات الاعمال
		<input type="checkbox"/>	تقارير الاعمال
٢	يشير إلى الترتيب المحدد للصور والنصوص والعناصر الأخرى في الصفحة :	<input checked="" type="checkbox"/>	مظهر الصفحة
		<input type="checkbox"/>	الطباعة
		<input type="checkbox"/>	سهولة القراءة
٣	تستخدمها الشركات أو المؤسسات في شعارها أو في تصميم مستنداتها للتعبير عن هويتها :	<input type="checkbox"/>	القوائم والجداول
		<input checked="" type="checkbox"/>	الالوان
		<input type="checkbox"/>	العناصر المرئية
٤	شبكة يمتد نطاقها ليشمل العديد من المباني في نفس المدينة أو البلدة :	<input type="checkbox"/>	الشبكة المحلية
		<input checked="" type="checkbox"/>	الشبكة المتوسطة
		<input type="checkbox"/>	الشبكة الواسعة



موقع
مادنتيرا

٥	يطلق على عملية توصيل الألياف الضوئية إلى المنازل اسم :	٦	جهاز يوفر إمكانية الوصول للإنترنت للأجهزة المزودة بإمكانيات شبكة Wi-Fi :
<input checked="" type="checkbox"/>	FTTH	<input checked="" type="checkbox"/>	موجه لاسلكي
<input type="checkbox"/>	FTTB	<input type="checkbox"/>	خادم الويب
<input type="checkbox"/>	FTTE	<input type="checkbox"/>	سحابة الانترنت
٧	يستخدم هذا المستشعر في تحديد الموقع والتعرف على الاتجاهات :	٨	تكرار يتم استخدامه عندما يكون عدد التكرارات غير معرف مسبقاً:
<input type="checkbox"/>	مستشعر للمس	<input type="checkbox"/>	do . . while
<input type="checkbox"/>	مستشعر درجة الحرارة	<input type="checkbox"/>	For
<input checked="" type="checkbox"/>	مستشعر البوصلة الرقمية	<input checked="" type="checkbox"/>	While
٩	متغيرات يتم تعريفها خارج أي دالة ويمكن الوصول إليها بشكل عام في البرنامج بأكمله:	١٠	يمكن تنزيل البرنامج على جهاز المايكروبت عبر سلك:
<input type="checkbox"/>	المتغيرات الخاصة	<input type="checkbox"/>	HDMI
<input type="checkbox"/>	المتغيرات المحلية	<input type="checkbox"/>	VGA
<input checked="" type="checkbox"/>	المتغيرات العامة	<input checked="" type="checkbox"/>	USB

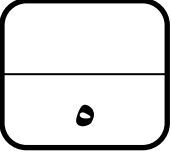


السؤال الثاني : ضعي علامة (✓) عند الاجابة الصحيحة وعلامة (x) عند الاجابة الخاطئة :

✓	١	" المستندات الرقمية " هي مستندات يتم إنشاؤها وتعديلها أو معالجتها بواسطة برامج معينة .
✓	٢	السيرة الذاتية الاحترافية تتكون عادة من صفحة واحدة فقط وبحجم خط يصل إلى ١٢ نقطة .
x	٣	تشير المساحة الفارغة إلى أجزاء الصفحة التي يوجد بها نص أو صور .
✓	٤	إن الغرض من التقرير هو إعلام القارئ بحالة أو بمشكلة معينة .
✓	٥	شبكة الحاسب عبارة عن جهازي حاسب أو أكثر متصلة ببعضها البعض من أجل مشاركة الموارد.
✓	٩	عندما نريد اتخاذ قرار في بايثون فإننا نستخدم جملة if .
✓	٧	توفر شبكة الالياف الضوئية السرعة الأكبر للإنترنت في أيامنا هذه .
x	٨	يتم إعطاء عنوان MAC لمحول شبكة الحاسب بشكل يدوي .



٩	الشبكة اللاسلكية تستخدم الكابلات لتوصيل الأجهزة بالإنترنت أو بشبكة أخرى .	x
١٠	الإعلان عن المتغير هو عملية تعيين قيمة و (اسم غير فريد) للمتغير .	x



السؤال الثالث : من خلال دراستك لمنهج تقنية رقمية ١-٣ اكتب الفرق بين :

المستند الرسمي	المستند غير رسمي
يتميز اسلوب الكتابة بالصيغة الرسمية.	تتضمن استخدام الكلمات والتعابير اليومية الشائعة.
المخطط الحلقي	المخطط الهجين
يجمع بين اجهزة الشبكة المتصلة ببعضها على شكل حلقة	يجمع بين مخططين مختلفين او اكثر من مخططات الشبكة.
الشبكة المحلية	الشبكة الواسعة
تتكون من اجهزة حاسب متصلة ببعضها موجودة في نطاق جغرافي ضيق.	شبكة اجهزة حاسب متصلة ببعضها لا تقتيد بموقع جغرافي محدد ويمكن ان يشمل دولة او قارة.
اسئلة المقياس الثنائي	اسئلة مقياس ليكرت
تقتصر الاجابة على الاختيار بين اجابتين مثل موافق او غير موافق .	يختار المستخدم رقماً من ١ الى ٥ يمثل مدى رضاه .
تكرار for	تكرار while
اذا اردت تكرار مجموعة من الاوامر لعدد محدد من المرات.	عندنا يكون عدد التكرارات غير معروف او محدد مسبقاً.

انتهت الاسئلة تمنياتي لكن بالنجاح والتميز

مديرة المدرسة : ابتسام علي الكليب

معلمة المادة : عبير صالح الغريب

المقرر: تقنية رقمية 3-1	 وزارة التعليم Ministry of Education	المملكة العربية السعودية
الصف: الأول ثانوي		وزارة التعليم
الزمن: ساعة وربع		إدارة التعليم ثانوية

اختبار نهاية الفصل الدراسي الثالث للعام 1446هـ

السؤال	س1	س2	المجموع النهائي		المصحح	التوقيع
			الدرجة رقماً	الدرجة كتابة		
الدرجة					المراجع	التوقيع
				فقط		

اسم الطالب/ رقم الجلوس ()

السؤال الأول: ضع المصطلح أمام التعريف المناسب له :-

5

المتحكمات الدقيقة	المستندات الرقمية	شبكة الحاسب	الدوال	شبكة النقل
-------------------	-------------------	-------------	--------	------------

عبارة عن جهازي حاسب أو أكثر متصلة ببعضها من أجل مشاركة الموارد	
مستندات يتم إنشائها وتعديلها أو معالجتها بواسطة برامج معينة	
شبكة تتكون من محطات مركزية وهواتف نقالة ومراكز تحويل رقمية	
دوائر إلكترونية متكاملة تحتوي على معالج دقيق إلى جانب الذاكرة	
عبارة عن جزء من التعليمات البرمجية التي تستخدم لمساعدتك في مهمة أو حدث متكرر ومحدد	

السؤال الثاني : أ- اختر الإجابة الصحيحة بوضع علامة عند الإجابة الصحيحة:-

10

1- تستخدم للتواصل مع موظفين في شركات أو مؤسسات أو جهات أخرى:	<input type="checkbox"/>	رسائل البريد الإلكتروني	<input type="checkbox"/>	خطابات الاعمال	<input type="checkbox"/>	التقارير المالية	<input type="checkbox"/>
2- تستخدمها الشركات أو المؤسسات في شعارها أو في تصميم مستنداتها للتعبير عن هويتها:	<input type="checkbox"/>	الالوان	<input type="checkbox"/>	المساحات الفارغة	<input type="checkbox"/>	الجداول والقوائم	<input type="checkbox"/>
3- يعد برنامج سكريبوس (Scribus) برنامج نشر مكتبي:	<input type="checkbox"/>	مجاني مغلق المصدر	<input type="checkbox"/>	مجاني مفتوح المصدر	<input type="checkbox"/>	غير مجاني	<input type="checkbox"/>
4- نوع من الكابلات تصل سرعته إلى 300 ميجابت في الثانية:	<input type="checkbox"/>	المزدوج المجدول	<input type="checkbox"/>	الألياف الضوئية	<input type="checkbox"/>	المحورية	<input type="checkbox"/>
5- يُستخدم لتزويد الأجهزة بالإنترنت داخل الشبكة المحلية LAN :	<input type="checkbox"/>	خادم الويب	<input type="checkbox"/>	موجه لاسلكي	<input type="checkbox"/>	مودم سلكي	<input type="checkbox"/>

ب- ضع علامة (√) أو (X) أمام العبارات التالية:-

1	يعد المايكروبت حاسب صغير الحجم تم إنشاؤه من قبل وزارة الدفاع الأمريكية
2	تعد لائحة حماية البيانات الشخصية في السعودية من الأمثلة على قوانين حماية الخصوصية
3	هناك ثلاثة أنواع من الأسئلة التي يمكن استخدامها في استطلاعات رضا العملاء
4	أجهزة التعقب النشطة تقوم بالتعقب الفوري المستمر
5	المخطط الهجين يجمع بين مخططين مختلفين أو أكثر من مخططات الشبكة

المقرر: تقنية رقمية ٣-١	 وزارة التعليم Ministry of Education	المملكة العربية السعودية
الصف: الأول ثانوي		وزارة التعليم
الزمن: ساعة وربع		إدارة التعليم ثانوية

اختبار نهاية الفصل الدراسي الثالث للعام 1446 هـ

السؤال	س ١	<h1>نموذج الاجابة</h1>	التوقيع
الدرجة			التوقيع

اسم الطالب/ () رقم الجلوس ()

السؤال الأول: ضع المصطلح أمام التعريف المناسب له :-

٥

المتحكمات الدقيقة	المستندات الرقمية	شبكة الحاسب	الدوال	شبكة النقل
-------------------	-------------------	-------------	--------	------------

شبكة الحاسب	عبارة عن جهازي حاسب أو أكثر متصلة ببعضها من أجل مشاركة الموارد
المستندات الرقمية	مستندات يتم إنشائها وتعديلها أو معالجتها بواسطة برامج معينة
شبكة النقل	شبكة تتكون من محطات مركزية وهواتف نقالة ومراكز تحويل رقمية
المتحكمات الدقيقة	دوائر إلكترونية متكاملة تحتوي على معالج دقيق إلى جانب الذاكرة
الدوال	عبارة عن جزء من التعليمات البرمجية التي تستخدم لمساعدتك في مهمة أو حدث متكرر ومحدد

السؤال الثاني : أ- اختر الاجابة الصحيحة بوضع علامة عند الاجابة الصحيحة:-

١٠

١ - تستخدم للتواصل مع موظفين في شركات أو مؤسسات أو جهات أخرى:	<input checked="" type="checkbox"/>	رسائل البريد الإلكتروني	<input type="checkbox"/>	خطابات الاعمال	<input type="checkbox"/>	التقارير المالية	<input type="checkbox"/>
٢ - تستخدمها الشركات أو المؤسسات في شعارها أو في تصميم مستنداتها للتعبير عن هويتها:	<input checked="" type="checkbox"/>	الالوان	<input type="checkbox"/>	المساحات الفارغة	<input type="checkbox"/>	الجداول والقوائم	<input type="checkbox"/>
٣ - يعد برنامج سكريبوس (Scribus) برنامج نشر مكتبي:	<input type="checkbox"/>	مجاني مغلق المصدر	<input checked="" type="checkbox"/>	مجاني مفتوح المصدر	<input type="checkbox"/>	غير مجاني	<input type="checkbox"/>
٤ - نوع من الكابلات تصل سرعته إلى ٣٠٠ ميجابت في الثانية:	<input type="checkbox"/>	المزدوج المجدول	<input checked="" type="checkbox"/>	الألياف الضوئية	<input type="checkbox"/>	المحورية	<input type="checkbox"/>
٥ - يُستخدم لتزويد الأجهزة بالإنترنت داخل الشبكة المحلية LAN :	<input type="checkbox"/>	خادم الويب	<input checked="" type="checkbox"/>	موجه لاسلكي	<input type="checkbox"/>	مودم سلكي	<input type="checkbox"/>

ب- ضع علامة (√) أو (X) أمام العبارات التالية:-

١	يعد المايكروبت حاسب صغير الحجم تم إنشاؤه من قبل وزارة الدفاع الأمريكية	X
٢	تعد لائحة حماية البيانات الشخصية في السعودية من الأمثلة على قوانين حماية الخصوصية	√
٣	هناك ثلاثة أنواع من الأسئلة التي يمكن استخدامها في استطلاعات رضا العملاء	X
٤	أجهزة التعقب النشطة تقوم بالتعقب الفوري المستمر	√
٥	المخطط الهجين يجمع بين مخططين مختلفين أو أكثر من مخططات الشبكة	√

انتهت الأسئلة

المقرر: تقنية رقمية 1-3	 وزارة التعليم Ministry of Education	المملكة العربية السعودية
الصف: الأول ثانوي		وزارة التعليم
الزمن: ساعة وربع		إدارة التعليم ثانوية

اختبار نهاية الفصل الدراسي الثالث للعام 1446هـ

السؤال	س1	س2	المجموع النهائي		المصحح	التوقيع
			الدرجة رقماً	الدرجة كتابة		
الدرجة					المراجع	التوقيع

اسم الطالب/ رقم الجلوس ()

السؤال الأول: اختر الاجابة الصحيحة بوضع علامة عند الاجابة الصحيحة:

5

1-تستخدم للتواصل مع موظفين في شركات أو مؤسسات أو جهات أخرى:			
<input type="checkbox"/>	رسائل البريد الإلكتروني	<input type="checkbox"/>	خطابات الاعمال
<input type="checkbox"/>	التقارير المالية	<input type="checkbox"/>	
2- شبكة الحاسب تتكون من :			
<input type="checkbox"/>	جزأين أساسيين	<input type="checkbox"/>	ثلاث اجزاء
<input type="checkbox"/>	اربعة اجزاء	<input type="checkbox"/>	
3- شبكة تتكون من أجهزة حاسب متصلة ببعضها موجودة في نطاق جغرافي ضيق:			
<input type="checkbox"/>	الشبكة المتوسطة	<input type="checkbox"/>	الشبكة الواسعة
<input type="checkbox"/>	الشبكة المحلية	<input type="checkbox"/>	
4-مستند منظم بترتيب محدد يستخدم لجمع المعلومات بطريقة منطقية وذات مغزى :			
<input type="checkbox"/>	ملفات الاعمال	<input type="checkbox"/>	سجلات الاعمال
<input type="checkbox"/>	نموذج الاعمال	<input type="checkbox"/>	
5- يعد برنامج سكريبوس (Scribus) برنامج نشر مكتبي :			
<input type="checkbox"/>	مجاني مغلق المصدر	<input type="checkbox"/>	مجاني مفتوح المصدر
<input type="checkbox"/>	غير مجاني	<input type="checkbox"/>	
6-أحد أجيال شبكات النقل تصل فيه سرعة نقل البيانات إلى 2 ميجابت في الثانية كحد أقصى :			
<input type="checkbox"/>	الجيل الاول G1	<input type="checkbox"/>	الجيل الثالث G3
<input type="checkbox"/>	الجيل الثاني G2	<input type="checkbox"/>	
7-تقوم بتوفير الاتصال بين الأجهزة النقالة وشبكة الهواتف العامة:			
<input type="checkbox"/>	مركز التحويل الرقمي	<input type="checkbox"/>	المحطة المركزية
<input type="checkbox"/>	الاقمار الصناعية	<input type="checkbox"/>	
8-تستخدمها الشركات أو المؤسسات في شعارها أو في تصميم مستنداتها للتعبير عن هويتها :			
<input type="checkbox"/>	الالوان	<input type="checkbox"/>	المساحات الفارغة
<input type="checkbox"/>	الجداول والقوائم	<input type="checkbox"/>	
9-يستضيف موقع ويب معين كموقع شركة cisco.com :			
<input type="checkbox"/>	خادم الويب	<input type="checkbox"/>	ايقونة سحابة الانترنت
<input type="checkbox"/>	مودم سلكي	<input type="checkbox"/>	
10- نوع من الكابلات تصل سرعته إلى 300 ميجابت في الثانية:			
<input type="checkbox"/>	الألياف الضوئية	<input type="checkbox"/>	المزدوج المجدول
<input type="checkbox"/>	المحورية	<input type="checkbox"/>	

أقلب الورقة

السؤال الثاني : ضع علامة (√) أو (X) أمام العبارات التالية:-

1	يمكن تخزين النماذج المطبوعة بصورة فورية في قاعدة البيانات
2	تقنية واي فاي هي تقنية لاسلكية لتبادل البيانات لمسافات قصيرة
3	الشبكة السلكية هي شبكة من الأجهزة المتصلة ببعضها دون الحاجة إلى استخدام الوصلات (الأسلاك)
4	لاكتشاف أي تغيرات في الحركة يستخدم المايكروبت (البوصلة)
5	المخطط الهجين يجمع بين مخططين مختلفين أو أكثر من مخططات الشبكة
6	المتحكمات الدقيقة هي دوائر الكترونية متكاملة تحتوي على معالج دقيق إلى جانب الذاكرة
7	شبكة الحاسب عبارة عن جهازي حاسب أو أكثر متصلة ببعضها البعض من أجل مشاركة الموارد
8	أجهزة التعقب النشطة تقوم بالتعقب الفوري المستمر
9	يعد المايكروبت حاسب صغير الحجم تم إنشاؤه من قبل وزارة الدفاع الأمريكية
10	تشير العناصر المرئية إلى أي كائن رسومي أو بصوري في المستند
11	شبكة النقل هي شبكة خلوية تتكون من محطات مركزية وهواتف نقالة ومراكز تحويل رقمية
12	الغرض من التقرير هو إعلام القارئ بحالة أو بمشكلة معينة
13	تعد لائحة حماية البيانات الشخصية في السعودية من الأمثلة على قوانين حماية الخصوصية
14	لكل محطة مركزية حد أقصى للنطاق الترددي المتاح للإنترنت واستخدام البيانات
15	نظام تحديد المواقع غاليلو تتوفر أغلب خدماته بشكل مجاني
16	يمكن الانتقال إلى لغة بايثون من خلال مايكروسوفت ميك كود
17	يستهدف الانترنت عبر الأقمار الصناعية الأشخاص الذين لا يستطيعون الوصول إلى نظام مزود الخدمة على الأرض
18	نظام تحديد المواقع العالمي هو نظام للملاحة عبر الأقمار الصناعية تم تطويره من قبل وزارة الدفاع الأمريكية
19	الصيغة المستخدمة في صياغة المستندات والمخاطبات الخاصة بالأعمال هي الصيغة الرسمية فقط
20	هناك ثلاثة أنواع من الأسئلة التي يمكن استخدامها في استطلاعات رضا العملاء

انتهت الأسئلة،
وفقكم الله إلى ما يحبه ويرضاه

المقرر: تقنية رقمية ٣-١	 وزارة التعليم Ministry of Education	المملكة العربية السعودية
الصف: الأول ثانوي		وزارة التعليم
الزمن: ساعة وربع		إدارة التعليم ثانوية

اختبار نهاية الفصل الدراسي الثالث للعام 1446هـ

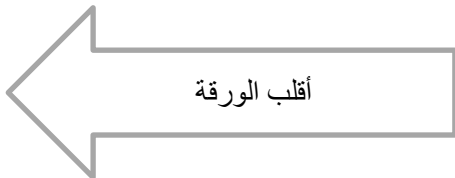
السؤال	نموذج الإجابة	التوقيع
الدرجة		التوقيع

اسم الطالب/ رقم الجلوس ()

السؤال الأول: اختر الإجابة الصحيحة بوضع علامة عند الإجابة الصحيحة:

٥

١- تستخدم للتواصل مع موظفين في شركات أو مؤسسات أو جهات أخرى:		
<input checked="" type="checkbox"/>	رسائل البريد الإلكتروني	<input type="checkbox"/>
<input type="checkbox"/>	خطابات الاعمال	<input type="checkbox"/>
<input type="checkbox"/>	التقارير المالية	<input type="checkbox"/>
٢- شبكة الحاسب تتكون من :		
<input checked="" type="checkbox"/>	جزأين أساسيين	<input type="checkbox"/>
<input type="checkbox"/>	ثلاث اجزاء	<input type="checkbox"/>
<input type="checkbox"/>	اربعة اجزاء	<input type="checkbox"/>
٣- شبكة تتكون من أجهزة حاسب متصلة ببعضها موجودة في نطاق جغرافي ضيق:		
<input type="checkbox"/>	الشبكة المتوسطة	<input type="checkbox"/>
<input type="checkbox"/>	الشبكة الواسعة	<input checked="" type="checkbox"/>
<input checked="" type="checkbox"/>	الشبكة المحلية	<input type="checkbox"/>
٤- مستند منظم بترتيب محدد يستخدم لجمع المعلومات بطريقة منطقية وذات مغزى :		
<input type="checkbox"/>	ملفات الاعمال	<input type="checkbox"/>
<input type="checkbox"/>	سجلات الاعمال	<input checked="" type="checkbox"/>
<input checked="" type="checkbox"/>	نموذج الاعمال	<input type="checkbox"/>
٥- يعد برنامج سكريبوس (Scribus) برنامج نشر مكتبي :		
<input type="checkbox"/>	مجانى مغلوق المصدر	<input checked="" type="checkbox"/>
<input checked="" type="checkbox"/>	مجانى مفتوح المصدر	<input type="checkbox"/>
<input type="checkbox"/>	مجانى مفتوح المصدر	<input type="checkbox"/>
٦- أحد أجيال شبكات النقل تصل فيه سرعة نقل البيانات إلى ٢ ميجابت في الثانية كحد أقصى :		
<input type="checkbox"/>	الجيل الاول G1	<input checked="" type="checkbox"/>
<input checked="" type="checkbox"/>	الجيل الثالث G3	<input type="checkbox"/>
<input type="checkbox"/>	الجيل الثاني G2	<input type="checkbox"/>
٧- تقوم بتوفير الاتصال بين الأجهزة النقالية وشبكة الهواتف العامة:		
<input type="checkbox"/>	مركز التحويل الرقمي	<input checked="" type="checkbox"/>
<input checked="" type="checkbox"/>	المحطة المركزية	<input type="checkbox"/>
<input type="checkbox"/>	الاقمار الصناعية	<input type="checkbox"/>
٨- تستخدمها الشركات أو المؤسسات في شعارها أو في تصميم مستنداتها للتعبير عن هويتها :		
<input checked="" type="checkbox"/>	الالوان	<input type="checkbox"/>
<input type="checkbox"/>	المساحات الفارغة	<input type="checkbox"/>
<input type="checkbox"/>	الجداول والقوائم	<input type="checkbox"/>
٩- يستضيف موقع ويب معين كموقع شركة cisco.com :		
<input checked="" type="checkbox"/>	خادم الويب	<input type="checkbox"/>
<input type="checkbox"/>	ايقونة سحابة الانترنت	<input type="checkbox"/>
<input type="checkbox"/>	مودم سلكي	<input type="checkbox"/>
١٠- نوع من الكابلات تصل سرعته إلى ٣٠٠ ميجابت في الثانية:		
<input checked="" type="checkbox"/>	الألياف الضوئية	<input type="checkbox"/>
<input type="checkbox"/>	المزدوج المجدول	<input type="checkbox"/>
<input type="checkbox"/>	المحورية	<input type="checkbox"/>



السؤال الثاني : ضع علامة (√) أو (X) أمام العبارات التالية:-.

X	١	يمكن تخزين النماذج المطبوعة بصورة فورية في قاعدة البيانات
X	٢	تقنية واي فاي هي تقنية لاسلكية لتبادل البيانات لمسافات قصيرة
X	٣	الشبكة السلكية هي شبكة من الأجهزة المتصلة ببعضها دون الحاجة إلى استخدام الوصلات (الأسلاك)
X	٤	لاكتشاف أي تغيرات في الحركة يستخدم المايكروبت (البوصلة)
√	٥	المخطط الهجين يجمع بين مخططين مختلفين أو أكثر من مخططات الشبكة
√	٦	المتحكمات الدقيقة هي دوائر الكترونية متكاملة تحتوي على معالج دقيق إلى جانب الذاكرة
√	٧	شبكة الحاسب عبارة عن جهازي حاسب أو أكثر متصلة ببعضها البعض من أجل مشاركة الموارد
√	٨	أجهزة التعقب النشطة تقوم بالتعقب الفوري المستمر
√	٩	يعد المايكروبت حاسب صغير الحجم تم إنشاؤه من قبل وزارة الدفاع الأمريكية
√	١٠	تشير العناصر المرئية إلى أي كائن رسومي أو بصوري في المستند
√	١١	شبكة النقل هي شبكة خلوية تتكون من محطات مركزية وهواتف نقالة ومراكز تحويل رقمية
√	١٢	الغرض من التقرير هو إعلام القارئ بحالة أو بمشكلة معينة
√	١٣	تعد لائحة حماية البيانات الشخصية في السعودية من الأمثلة على قوانين حماية الخصوصية
√	١٤	لكل محطة مركزية حد أقصى للنطاق الترددي المتاح للإنترنت واستخدام البيانات
√	١٥	نظام تحديد المواقع غاليليو تتوفر أغلب خدماته بشكل مجاني
√	١٦	يمكن الانتقال إلى لغة بايثون من خلال مايكروسوفت ميك كود
√	١٧	يستهدف الانترنت عبر الأقمار الصناعية الأشخاص الذين لا يستطيعون الوصول إلى نظام مزود الخدمة على الأرض
√	١٨	نظام تحديد المواقع العالمي هو نظام للملاحة عبر الأقمار الصناعية تم تطويره من قبل وزارة الدفاع الأمريكية
X	١٩	الصيغة المستخدمة في صياغة المستندات والمخاطبات الخاصة بالأعمال هي الصيغة الرسمية فقط
X	٢٠	هناك ثلاثة أنواع من الأسئلة التي يمكن استخدامها في استطلاعات رضا العملاء

انتهت الأسئلة،
وفقكم الله إلى ما يحبه ويرضاه

أسئلة اختبار مادة تقنية رقمية 3-1 الفصل الدراسي الثالث لعام 1446 هـ

5

اختاري الإجابة الصحيحة فيما يلي :

السؤال الأول:

1	" المستندات الرقمية " هي مستندات يتم إنشائها وتعديلها أو معالجتها بواسطة برامج معينة :						
أ	أداة جمع البيانات	ب	جدول البيانات	ج	المستندات	د	الرسوم البيانية
2	يتم استخدام هذا النوع لتوضيح الوضع الحالي لمهمة أو لقسم معين :						
أ	التقارير الإعلامية	ب	التقارير التحليلية	ج	التقارير البحثية	د	تقارير التقدم
3	شبكة يمتد نطاقها ليشمل العديد من المباني في نفس المدينة أو البلدة :						
أ	الشبكة الصغيرة	ب	الشبكة المحلية	ج	الشبكة المتوسطة	د	الشبكة الواسعة
4	أي نوع من الكابلات التالية يستخدم في تغذية وسائل الإذاعة :						
أ	المزدوج المجدول	ب	المحورية	ج	الألياف الضوئية	د	كابلات العبور
5	يطلق على عملية توصيل الألياف الضوئية إلى المنازل اسم :						
أ	FTTH	ب	FTTB	ج	FTTE	د	FTTS
6	أحد أجيال شبكات النقال تصل فيه سرعة نقل البيانات إلى 2 ميجابت في الثانية كحد أقصى						
أ	الجيل الرابع (2G)	ب	الجيل الرابع (3G)	ج	الجيل الرابع (4G)	د	الجيل الرابع (5G)
7	جهاز يستخدم لإيصال عدة أجهزة داخل الشبكة المحلية :						
أ	الموجه	ب	المحول	ج	الموزع	د	بوابة المنزل
8	أي مما يلي لا يعد من مكونات الواجهة الأمامية للمايكروبت :						
أ	25 مصباح LED	ب	الزران	ج	منفذ البطارية	د	منفذ يو اس بي
9	يمكن العثور على المعاملات الرياضية في مايكروسوفت كود في فئة :						
أ	الأساسية	ب	التكرار	ج	المنطق	د	الحساب
10	يستخدم هذا المستشعر في قياس السرعة أو الإمالة أو الاهتزاز أو الصدمة :						
أ	مستشعر اللمس	ب	مستشعر درجة الحرارة	ج	مستشعر البوصلة الرقمية	د	مقياس التسارع

التالي ..

السؤال الثاني: **ضعي علامة ✓ عند الإجابة الصحيحة وعلامة ✗ عند الإجابة الخاطئة:**

1	" المستندات الرقمية " هي مستندات يتم إنشائها وتعديلها أو معالجتها بواسطة برامج معينة
2	تعرض تقارير الأعمال المعلومات بتنسيق أكثر رسمية من الخطابات :
3	يعد برنامج سكريبوس (Scribus) من برامج تصميم مستندات الأعمال :
4	تصنف الشبكات حسب الوسط الناقل للبيانات إلى سلكية و لاسلكية:
5	أجهزة التعقب النشطة تستخدم لقياس المسافات أثناء التزلج أو العدو أو ركوب الدراجة :
6	نظام تحديد المواقع غاليليو تتوفر أغلب خدماته بشكل مجاني :
7	يتكون المايكروبت من واجهة واحدة فقط عليها جميع المكونات :
8	تعد لغة بايثون واحدة من مئات لغات البرمجة الموجودة حالياً :
9	لكل متغير في البرمجة اسم وقيمة فريدة :
10	عند الإعلان عن المتغير نستخدم علامة النسبة المئوية (%) :

السؤال الثالث: **اختر من العمود الاول ما يناسبه من العمود الثاني فيما يلي :**

العمود الثاني	العمود الأول
مخطط الحلقة	1 تكرار يتم استخدامه عندما يكون عدد التكرارات غير معرف مسبقاً :
أجهزة التعقب غير النشطة	2 مخطط يتم فيه توصيل جميع نقاط الشبكة بجهاز مركزي مثل المحول أو الموزع
While	3 من أنواع شبكات الحاسب
مخطط النجمة	4 تستخدم لتمثيل أشياء غير واقعية أو أشياء حقيقية يصعب تصويره والتي تظهر الأجزاء التي يحتاج القارئ إلى رؤيتها فقط
الرسوم التوضيحية	5 مرتفعة التكلفة وتتطلب اشتراكا مدفوعا
WI FI	6 مخطط يجمع بين أجهزة الشبكة المتصلة ببعضها على شكل حلقة :
شبكة الألياف الضوئية	7 لا تقوم بالتعقب الفوري المستمر
أجهزة التعقب النشطة	8 من أهم وظائف شبكات الأقمار الصناعية
FOR	9 من أكثر التقنيات شيوعا وانتشارا في الشبكات اللاسلكية.
تحديد المواقع GPS.	10 تكرار يتم استخدامه إذا أردت تكرار مجموعة من الأوامر لعدد محدد من المرات

تمت الأسئلة، اللهم اختم أعمالنا بالنجاح

معلمة المادة : نجود دحمان

عدد الأوراق = 2

نموذج الإجابة

أسئلة اختبار مادة تقنية رقمية 1-3 الفصل الدراسي الثالث لعام 1446 هـ


5

5

اختاري الإجابة الصحيحة فيما يلي :

السؤال الأول:

1	" المستندات الرقمية " هي مستندات يتم إنشائها وتعديلها أو معالجتها بواسطة برامج معينة :						
أ	أداة جمع البيانات	ب	جدول البيانات	ج	المستندات	د	الرسوم البيانية
2	يتم استخدام هذا النوع لتوضيح الوضع الحالي لمهمة أو لقسم معين :						
أ	التقارير الإعلامية	ب	التقارير التحليلية	ج	التقارير البحثية	د	تقارير التقدم
3	شبكة يمتد نطاقها ليشمل العديد من المباني في نفس المدينة أو البلدة :						
أ	الشبكة الصغيرة	ب	الشبكة المحلية	ج	الشبكة المتوسطة	د	الشبكة الواسعة
4	أي نوع من الكابلات التالية يستخدم في تغذية وسائل الإذاعة :						
أ	المزدوج المجدول	ب	المحورية	ج	الألياف الضوئية	د	كابلات العبور
5	يطلق على عملية توصيل الألياف الضوئية إلى المنازل اسم :						
أ	FTTH	ب	FTTB	ج	FTTE	د	FTTS
6	أحد أجيال شبكات النقال تصل فيه سرعة نقل البيانات إلى 2 ميجابت في الثانية كحد أقصى						
أ	الجيل الرابع (2G)	ب	الجيل الرابع (3G)	ج	الجيل الرابع (4G)	د	الجيل الرابع (5G)
7	جهاز يستخدم لإيصال عدة أجهزة داخل الشبكة المحلية :						
أ	الموجه	ب	المحول	ج	الموزع	د	بوابة المنزل
8	أي مما يلي لا يعد من مكونات الواجهة الأمامية للمايكروبت :						
أ	25 مصباح LED	ب	الزران	ج	منفذ البطارية	د	منفذ يو اس بي
9	يمكن العثور على المعاملات الرياضية في مايكروسوفت كود في فئة :						
أ	الأساسية	ب	التكرار	ج	المنطق	د	الحساب
10	يستخدم هذا المستشعر في قياس السرعة أو الإمالة أو الاهتزاز أو الصدمة :						
أ	مستشعر اللمس	ب	مستشعر درجة الحرارة	ج	مستشعر البوصلة الرقمية	د	مقياس التسارع



5

5

السؤال الثاني: **ضعي علامة ✓ عند الإجابة الصحيحة وعلامة ✗ عند الإجابة الخاطئة:**

✓	1	" المستندات الرقمية " هي مستندات يتم إنشائها وتعديلها أو معالجتها بواسطة برامج معينة
✓	2	تعرض تقارير الأعمال المعلومات بتنسيق أكثر رسمية من الخطابات :
✓	3	يعد برنامج سكريبوس (Scribus) من برامج تصميم مستندات الأعمال :
✓	4	تصنف الشبكات حسب الوسط الناقل للبيانات إلى سلكية و لاسلكية:
✗	5	أجهزة التعقب النشطة تستخدم لقياس المسافات أثناء التزلج أو العدو أو ركوب الدراجة :
✓	6	نظام تحديد المواقع غاليليو تتوفر أغلب خدماته بشكل مجاني :
✗	7	يتكون المايكروبت من واجهة واحدة فقط عليها جميع المكونات :
✓	8	تعد لغة بايثون واحدة من مئات لغات البرمجة الموجودة حالياً :
✓	9	لكل متغير في البرمجة اسم وقيمة فريدة :
✗	10	عند الإعلان عن المتغير نستخدم علامة النسبة المئوية (%) :

5

5

السؤال الثالث: **اختر من العمود الاول ما يناسبه من العمود الثاني فيما يلي :**

العمود الثاني		العمود الأول	
مخطط الحلقة	6	تكرار يتم استخدامه عندما يكون عدد التكرارات غير معرف مسبقاً :	1
أجهزة التعقب غير النشطة	7	مخطط يتم فيه توصيل جميع نقاط الشبكة بجهاز مركزي مثل المحول أو الموزع	2
While	1	من أنواع شبكات الحاسب	3
مخطط النجمة	2	تستخدم لتمثيل أشياء غير واقعية أو أشياء حقيقية يصعب تصويره والتي تظهر الأجزاء التي يحتاج القارئ إلى رؤيتها فقط	4
الرسوم التوضيحية	4	مرتفعة التكلفة وتتطلب اشتراك مدفوعاً	5
WI FI	9	مخطط يجمع بين أجهزة الشبكة المتصلة ببعضها على شكل حلقة :	6
شبكة الألياف الضوئية	3	لا تقوم بالتعقب الفوري المستمر	7
أجهزة التعقب النشطة	5	من أهم وظائف شبكات الأقمار الصناعية	8
FOR	10	من أكثر التقنيات شيوعاً وانتشاراً في الشبكات اللاسلكية.	9
تحديد المواقع GPS.	8	تكرار يتم استخدامه إذا أردت تكرار مجموعة من الأوامر لعدد محدد من المرات	10

تمت الأسئلة، اللهم اختتم أعمالنا بالنجاح

معلمة المادة : نجود دحمان

موقع
مادنتير

عدد الأوراق = 2

اسم الطالب :

رقم الجلوس :

عدد أوراق الأسئلة (3 أوراق)

رقم السؤال	السؤال الأول	السؤال الثاني	السؤال الثالث
درجة السؤال	8.5	4.5	2

السؤال الأول : ضلل في كرت الإجابة حرف الإجابة الصحيحة للسؤال :

(1) تستخدم للتواصل مع موظفين في شركات أو مؤسسات أو جهات أخرى :

أ	مستندات المعاملات	ب	المستندات المالية	ج	تقارير الاعمال	د	رسائل البريد الالكتروني
---	-------------------	---	-------------------	---	----------------	---	-------------------------

(2) تستخدم لتمثيل اشياء غير واقعية واشياء حقيقية يصعب تصويرها :

أ	الصور الفوتغرافية	ب	المخططات	ج	الرسوم التوضيحية	د	الرسوم البيانية
---	-------------------	---	----------	---	------------------	---	-----------------

(3) هي قائمة بالكتب أو مصادر المعلومات نهاية التقرير :

أ	قائمة المحتويات	ب	المراجع	ج	قائمة المصطلحات	د	الجدول
---	-----------------	---	---------	---	-----------------	---	--------

(4) الهدف منه اطلاع القارئ على مغزى التقرير ويجب ان يكون مختصرا :

أ	الملحقات	ب	المراجع	ج	النص الاساسي	د	العنوان
---	----------	---	---------	---	--------------	---	---------

(5) شبكة يمتد نطاقها ليشمل العديد من المباني في نفس المدينة أو البلدة هي :

أ	الشبكة المحلية	ب	الشبكة المتوسطة	ج	الشبكة الصغيرة	د	الشبكة الواسعة
---	----------------	---	-----------------	---	----------------	---	----------------

(6) أي نوع من الكابلات التالية يستخدم في المسافات الطويلة وعالية الأداء لشبكات البيانات:

أ	المزدوج المجدول	ب	المحورية	ج	كابلات العبور	د	الألياف الضوئية
---	-----------------	---	----------	---	---------------	---	-----------------

(7) احد أجيال شبكات النقل يتميز بالسرعات القصوى والتي تصل الى 10 أو 20 جيجابت في الثانية :

أ	الجيل الخامس	ب	الجيل الثالث	ج	الجيل الرابع	د	الجيل الاول
---	--------------	---	--------------	---	--------------	---	-------------

(8) جهاز يستخدم لإرسال البيانات بين المرسل والمستقبل في شبكة محلية LAN هو جهاز:

أ	الموجه	ب	الموزع	ج	المحول	د	خادم الويب
---	--------	---	--------	---	--------	---	------------

(9) الشبكات اللاسلكية المحلية التقنية المستخدمة فيها تقنية :

أ	الواي فاي	ب	البلوتوث	ج	واي ماكس	د	NFC
---	-----------	---	----------	---	----------	---	-----

10) التعقب الفوري يتم باستخدام تقنية :

أ	NFC	ب	واي فاي	ج	GPS	د	واي ماكس
---	-----	---	---------	---	-----	---	----------

11) العنوان الفيزيائي الذي يعرف كل جهاز على شبكة معينة هو عنوان :

أ	MAC Adress	ب	Ip	ج	DHCP	د	IPv4
---	------------	---	----	---	------	---	------

12) من الخصائص التي تميز نظام غاليليو (Galileo) لتحديد الموقع أنه :

أ	يحدد الموقع بدقة خمسة أمتار	ب	يستهدف قارة امريكا فقط	ج	يستخدم في عمليات الانقاذ والبحث بكثرة	د	يستهدف قارة روسيا فقط
---	-----------------------------	---	------------------------	---	---------------------------------------	---	-----------------------

13) جهاز يستخدم لتوفير خدمة WIFI اللاسلكية للهواتف الذكية واجهزة الحاسب النقالة والاجهزة الاخرى هو جهاز

أ	الجسر	ب	المحول	ج	الموزع	د	بوابة المنزل
---	-------	---	--------	---	--------	---	--------------

14) مخطط يتم فيه توصيل جميع نقاط الشبكة بجهاز مركزي مثل المحول أو الموزع هو مخطط:

أ	النجمة	ب	الناقل	ج	الشبكة	د	الحلقة
---	--------	---	--------	---	--------	---	--------

15) تقنية اتصال سلكية تستخدم خطوط الهاتف لنقل البيانات الى مشتركى الخدمة هي :

أ	شبكة الكابلات المحورية	ب	شبكة الالياف الضوئية	ج	شبكة التخزين SAN	د	شبكة الخط المشترك الرقمي DSL
---	------------------------	---	----------------------	---	------------------	---	------------------------------

16) من خصائص الشبكات السلكية :

أ	تتأثر اشارتها بالتداخل الناتج عن اجهزة اخرى	ب	اداء مميز من ناحية السرعة	ج	يعتمد ادائها على المسافة	د	تعتمد على موجات الراديو
---	---	---	---------------------------	---	--------------------------	---	-------------------------

17) تصل البيانات الى المكان المطلوب عندما يتم توجيه الحزم الى عنوان :

أ	IP	ب	DHCP	ج	FTTS	د	HTTP
---	----	---	------	---	------	---	------

السؤال الثاني : ضلل في كرت الاجابة حرف (ص) اذا كانت العبارة صحيحة وحرف (خ) اذا كانت العبارة خاطئة:

1	تسمح استطلاعات رضاء العملاء للشركات والمؤسسات بتحسين المنتجات والخدمات .
2	يمكن تخزين النماذج المطبوعة بصور فورية في قاعدة البيانات .
3	يعد نموذج فاتورة البيع الاكثر استخداما من النماذج المطبوعة او عبر الويب الذي تستخدمه الشركات .
4	يعد برنامج سكريبوس (scribus) من برامج تصميم مستندات الاعمال.
5	تستخدم الشركات مجموعة من الالوان في شعارها او تصميم مستنداتها للتعبير عن هويتها .
5	يحتوي كل جهاز متصل بالإنترنت على عنوان IP واحد على الأقل .
7	من خصائص اجهزة التعقب الغير نشطة انها مرتفعة التكلفة .
8	الشبكات الارضية تغطي مسافات اكبر من الاقمار الصناعية .
9	وضعت هيئة الاتصالات وتقنية المعلومات لوائح الخصوصية وحماية البيانات.

السؤال الثالث : ضلل حرف الإجابة الصحيحة في كرت الإجابة أمام رقم السؤال :

الإجابة	حرف الإجابة	السؤال	رقم السؤال
المتغير	أ	لغة برمجة عالية المستوى	1
if	ب	له اسم وقيمة فريدة	2
بايثون	ج	من أنواع الجمل الشرطية جملة	3
for	د	تستخدم كتكرار مجموعة من الأوامر لعدد محدد	4
While	هـ		

انتهت الاسئلة أرجو لكم التوفيق والسداد

موقع
مادنترو


المقرر: تقنية رقمية 3-1	 وزارة التعليم Ministry of Education	المملكة العربية السعودية
الصف: الأول ثانوي – الترم الثالث		وزارة التعليم
الزمن : ساعة ونصف		إدارة تعليم
		الثانوية

اختبار نهاية الفصل الدراسي الثالث للعام 1446هـ

رقم الجلوس:

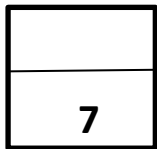
اسم الطالبة :

السؤال	1س	2س	3س	المجموع النهائي		المصحح	التوقيع
				الدرجة رقمياً	الدرجة كتابة		
الدرجة	6	7	2			المراجع	التوقيع
				15	فقط		



السؤال الأول: اختاري الإجابة الصحيحة لكل من العبارات التالية: -

1	استخدم للتواصل بين المؤسسة والاطراف الخارجية.	A	خطابات الاعمال Letters	B	تقارير الاعمال Reports	C	نماذج الاعمال Forms
2	تكن المشكلة الكبرى في مخطط ----- ان فشل الجهاز المركزي يؤدي الي فشل الشبكة بأكملها	A	مخطط النجمة Star	B	مخطط الهجين hybrid	C	مخطط الشبكة mesh
3	هي تقنية الاتصال قريب المدى , لا تتعدى مسافة 10 سم	A	NFC	B	WiFi	C	Wimax
4	هو مستند منظم بترتيب محدد, يستخدم لجمع المعلومات بطريقة منطقية وذات مغزى	A	نماذج الاعمال Forms	B	تقارير الاعمال Reports	C	خطابات الاعمال Letters
5	توفر هذه التقارير معلومات موضوعية حول مسألة معينة، كما تقدم حقائق غير متحيزة دون شرح	A	التقارير الاعلامية	B	التقارير البحثية	C	التقارير التحليلية
6	الهدف منه هو تقديم لمحة موجزة عن التقرير بأكمله ولا يُشترط فيه تقديم معلومات مفصلة	A	عنوان التقرير	B	الملخص التنفيذي	C	المراجع
7	هي شبكات خاصة باجهزة التخزين	A	usb	B	شبكة التخزين SAN	C	WAN
8	هو مخطط شبكة يسمح لجميع الأجهزة بأن تتصل معًا بواسطة ناقل رئيس للبيانات	A	مخطط الحلقة Ring	B	مخطط الناقل bus	C	مخطط النجمة star
9	في هذا الجيل من اجيال الهواتف النقالة تم تمكين خدمة الرسائل النصية القصيرة sms	A	5G	B	2G	C	4G
10	هو نظام للملاحة عبر الاقمار الصناعية تم تطويره من قبل وزارة الدفاع الامريكية	A	LAN	B	GPS نظام تحديد المواقع العالمي	C	Wimax
11	حاسب صغير الحجم تم إنشاؤه من قبل هيئة الإذاعة والتلفزيون. BBC	A	Raspberry	B	PlyStation	C	Micro:bit مايكروبت
12	حددي عنوان الاي بي الصحيح	A	192.265.300.1	B	280.12.15.3	C	192.90.19.30



السؤال الثاني: صوبي ما تحته خط

التصويب	العبارة	
	في جهاز المايكروبت يوجد منفذ البطارية في الجهة <u>الامامية</u>	1
	تعتبر لغة البايثون من لغات البرمجة <u>منخفضة</u> المستوى	2
	يستخدم الامر <u>for</u> لإنشاء دالة	3
	في الجيل <u>1G</u> من اجيال الهاتف النقال تم تمكين اتصالات الانترنت	4
	<u>IPv6</u> يستخدم 32 بت لإنشاء عنوان منطقي فريد لكل جهاز حاسب متصل بالشبكة	5
	في امر التكرار <u>For</u> فاننا لا نعلم عدد مرات التكرار , فان تنفيذها متوقف على تحقق شرط معين	6
	يتم تعيين عنوان IP تلقائيًا بواسطة البروتوكول <u>TCP</u>	7
	يستخدم المايكروبت مستشعر <u>البوصلة</u> للكشف عن اي تغيرات في الحركة	8
	<u>جهاز المحول</u> هو آلة من صنع الانسان يتم اطلاقها في الفضاء الخارجي حول الارض والكواكب الاخرى لالتقاط الصور	9
	الرمز التالي في لغة بايثون != يعني <u>يساوي</u>	10
	<u>عنوان الاي بي</u> هو العنوان الفيزيائي لجهاز الحاسب الآلي	11
	<u>المجمع HUB</u> هو جهاز شبكة, يقوم بارسال حزم البيانات للجهاز المحدد فقط	12
	عدد المصابيح LED في جهاز المايكروبت هو <u>30</u>	13
	<u>المبدل switch</u> هو جهاز يستخدم لإرسال حزم البيانات بين الشبكات, وهو يربط بين شبكتين او أكثر او بشبكة الانترنت.	14

السؤال الثالث: اجبي على الاسئلة التالية

1	يتم تصنيف الشبكات وفقاً للنطاق الجغرافي الي : اذكرى اثنان فقط
-1	
-2	
2	يتم تصنيف الشبكات وفقاً للوسيط الناقل الي : اذكرى اثنان فقط
-1	
-2	

انتهت الأسئلة