

تم تحميل وعرض المادة من



موقع مادتي هو موقع تعليمي يعمل على مساعدة المعلمين والطلاب وأولياء الأمور في تقديم حلول الكتب المدرسية والاختبارات وشرح الدروس والملاحظات والتحاير وتوزيع المنهج لكل المراحل الدراسية بشكل واضح وسهل مجاناً بتصفح وعرض مباشر أونلاين وتحميل على موقع مادتي

حمل تطبيق مادتي ليصلك كل جديد



الاختبار التشخيصي لعلوم ثاني الفصل الدراسي الأول لعام ١٤٤٧ هـ

السؤال الأول :- ضع دائرة حول الإجابة الصحيحة :

<input type="radio"/> مخلوق حي <input type="radio"/> شيء غير حي <input type="radio"/> برمائي		١	يعتبر حيوان النمر
<input type="radio"/> الصخور <input type="radio"/> الماء - الهواء - الغذاء <input type="radio"/> الجفاف		٢	يحتاج النبات إلى
<input type="radio"/> صنع الغذاء <input type="radio"/> امتصاص الماء و الأملاح <input type="radio"/> نقل الماء و الغذاء		٣	وظيفة الورقة في النباتات
<input type="radio"/> الورقة <input type="radio"/> الساق <input type="radio"/> الزهرة		٤	مصدر البذور في النبات
<input type="radio"/> طيور <input type="radio"/> حشرات <input type="radio"/> زواحف		٥	تصنف السلحفاة
<input type="radio"/> دورة حياة الفراشة <input type="radio"/> تنفس الفراشة <input type="radio"/> غذاء الفراشة		٦	يمثل الشكل المجاور
<input type="radio"/> النوم <input type="radio"/> الغذاء <input type="radio"/> الاختباء		٧	يستخدم الثعبان موطنه في
<input type="radio"/> الغابة <input type="radio"/> الصحراء <input type="radio"/> المنطقة العشبية		٨	يسمى الموطن المجاور
<input type="radio"/> النبات <input type="radio"/> الثعبان <input type="radio"/> المحلات		٩	في السلسلة الغذائية المجاورة يتغذى الصقر على

نموذج الإجابة

المملكة العربية السعودية
وزارة التعليم
مدرسة :

اسم الطالب :

الصف : ٢ /

الاختبار التشخيصي لعلوم ثاني الفصل الدراسي الأول لعام ١٤٤٧ هـ

السؤال الأول :- ضع دائرة حول الإجابة الصحيحة :

<input type="radio"/> مخلوق حي <input type="radio"/> شيء غير حي <input type="radio"/> برمائي		١ يعتبر حيوان النمر
<input type="radio"/> الصخور <input type="radio"/> الماء - الهواء - الغذاء <input type="radio"/> الجفاف		٢ يحتاج النبات إلى
<input type="radio"/> صنع الغذاء <input type="radio"/> امتصاص الماء و الأملاح <input type="radio"/> نقل الماء و الغذاء		٣ وظيفة الورقة في النباتات
<input type="radio"/> الورقة <input type="radio"/> الساق <input type="radio"/> الزهرة		٤ مصدر البذور في النبات
<input type="radio"/> طيور <input type="radio"/> حشرات <input type="radio"/> زواحف		٥ تصنف السلحفاة
<input type="radio"/> دورة حياة الفراشة <input type="radio"/> تنفس الفراشة <input type="radio"/> غذاء الفراشة		٦ يمثل الشكل المجاور
<input type="radio"/> النوم <input type="radio"/> الغذاء <input type="radio"/> الاختباء		٧ يستخدم الثعبان موطنه في
<input type="radio"/> الغابة <input type="radio"/> الصحراء <input type="radio"/> المنطقة العشبية		٨ يسمى الموطن المجاور
<input type="radio"/> النبات <input type="radio"/> الثعبان <input type="radio"/> المحلات		٩ في السلسلة الغذائية المجاورة يتغذى الصقر على

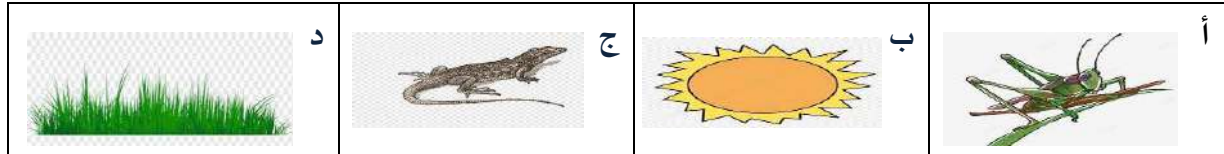
اختبار تشخيصي مادة العلوم الصف الثاني لعام ١٤٤٥ هـ

(درجتان لكل فقرة)

١٠ درجات

* / نضع علامة ($\frac{1}{4}$) تحت الأجوبة الصحيحة :

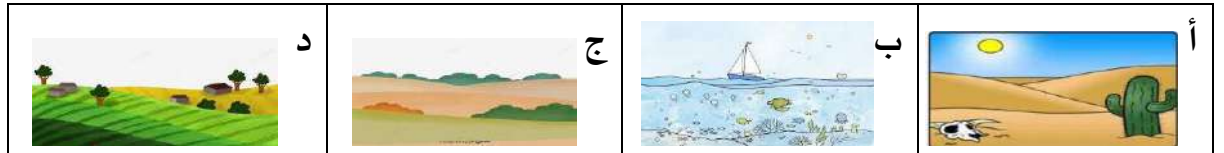
١ / أي المراحل التالية تمثل بداية السلسلة الغذائية :



٢ / كيف تختلف النباتات عن باقي المخلفات ؟

أ	تحتل مكان صغير	ب	تحتاج للهواء لتنمو	ج	تحتاج للماء لتعيش	د	تنتج غذاءها من الشمس
---	----------------	---	--------------------	---	-------------------	---	----------------------


٣ / أي من هذه المواطن تعيش فيها السحلية :



٤ / مالخاصية التي ساعدت الدب القطبي على العيش في المنطقة القطبية :

أ	الفرو السميك	ب	العيون الحادة	ج	الحراشيف	د	الاسنان الحادة
---	--------------	---	---------------	---	----------	---	----------------

٥ / المرحلة الأخيرة من دورة حياة الفراشة هي :



نموذج الإجابة

...../طالبة/

المملكة العربية

،/ الثاني الابتدائي

وزارة ال

المادة/ العلوم

Ministry of Education

الإدارة العامة للتعليم بمنطقة


اختبار تشخيصي مادة العلوم الصف الثاني لعام ١٤٤٥ هـ

(درجتان لكل فقرة)

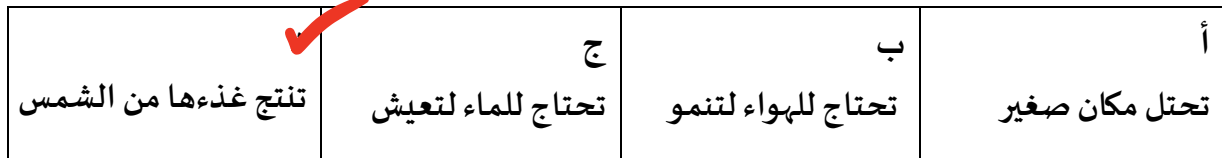
١٠ درجات

* / نضع علامة ($\frac{1}{4}$) تحت الأجوبة الصحيحة :


١ / أي المراحل التالية تمثل بداية السلسلة الغذائية :



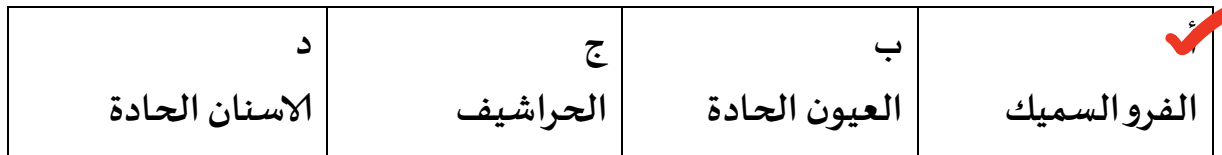
٢ / كيف تختلف النباتات عن باقي المخلوقات ؟



٣ / أي من هذه المواطن تعيش فيها السحلية :



٤ / مالخاصية التي ساعدت الدب القطبي على العيش في المنطقة القطبية :



٥ / المرحلة الأخيرة من دورة حياة الفراشة هي :



(نموذج اسئلة) اختبار التشخيص لبرنامج تعزيز المهارات للمرحلة الابتدائية

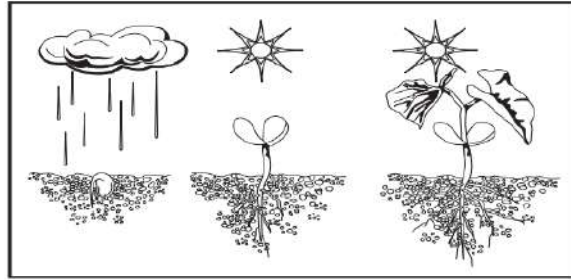
الدرجة المستحقة

١٠

المادة	العلوم (النموذج القبلي)
الصف المستهدف	ثاني ابتدائي
اسم الطالب/ة	المدرسة

قم باختيار الإجابة الصحيحة في كل مما يلي:

■ نلاحظ من خلال الصورة التالية أن النبات:



ب ينتج نباتا جديدا

ب

أ ينتج الغذاء

أ


د يطلق الأكسجين

د

ج ينمو ويتغير

ج

■ أي جزأين من دورة الحياة يظهر في الرسم؟



ب حيوان صغير واخر مكتمل النمو

ب

أ بيضه وحيوان مكتمل النمو

أ

د حيوان مكتمل النمو واخر ميت

د

ج بيضه وحيوان صغير

ج


■ أي الحيوانات الاتية له جناحان ومنقار؟



د



ج

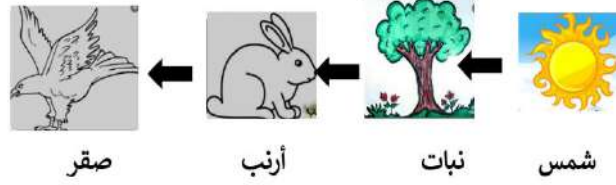


ب



أ

▪ نلاحظ من خلال السلسلة الغذائية التالية أن الصقر يتغذى على:



٤



د



ج



ب



أ

▪ ما المعلومات التي أحصل عليها من السلسلة الغذائية؟

٥

تتأثر المخلوقات الحية بالضوء

ب

تحصل المخلوقات الحية على الغذاء

أ

تعتني الحيوانات بصغارها

د

تصنع النباتات الغذاء من الشمس

ج

▪ أي العبارات التالية تصف الموطن الذي توضحه الصورة؟



٦

حار وجاف

د

بارد وفيه ثلوج

ج

عشبي ودافئ

ب

عشبي ورطب

أ

أ أي الحيوانات التالية تعيش في المنطقة القطبية؟				٧		
	د		ج		أ	ب
ب كيف يجعل الدبال التربة أفضل للزراعة؟				٨		
يُزيل المواد المغذية من التربة		ب	يجعل التربة تفقد الماء		أ	
يضيف المواد المغذية إلى التربة		د	يجعل لون التربة أكثر سوادا		ج	
المهارة المستهدفة			التوصل إلى أن دوران الأرض حول نفسها يسبب الليل والنهار			
ج ما سبب تعاقب الليل والنهار؟						٩
الحركة الدورانية		ب	مدار الأرض		أ	
دوران الأرض حول الشمس		د	دوران الأرض حول محورها		ج	
المهارة المستهدفة			توضيح العلاقة بين الكواكب والشمس			
د كيف تتشابه الكواكب الثمانية في النظام الشمسي؟						١٠
جميعها متساوية في الحجم		ب	جميعها تدور حول الشمس		أ	
جميعها يدور حولها قمر واحد		د	جميعها يحيط بها حلقات		ج	