

تم تحميل وعرض المادة من



موقع مادتي هو موقع تعليمي يعمل على مساعدة المعلمين والطلاب وأولياء الأمور في تقديم حلول الكتب المدرسية والاختبارات وشرح الدروس والملاحظات والتحضير وتوزيع المنهج لكل المراحل الدراسية بشكل واضح وسهل مجاناً بتصفح وعرض مباشر أونلاين وتحميل على موقع مادتي

حمل تطبيق مادتي ليصلك كل جديد





أسئلة اختبار الوحدة الأولى الفصل الدراسي الأول لعام ١٤٤٧ هـ

نموذج أ

الفصل:

اسم الطالب:

السؤال الأول: اختار الإجابة الصحيحة فيما يلي بوضع دائرة عليها:

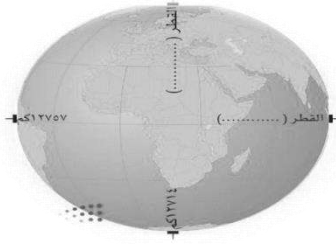
١	أكبر قارات العالم مساحة قارة:	أ	آسيا	ب	أستراليا	ج	أفريقيا	د	أوروبا
٢	خط الطول الرئيس هو:	أ	جرينتش	ب	السرطان	ج	الجدي	د	الاستواء
٣	يبلغ عدد دوائر العرض:	أ	٣٦٠ دائرة	ب	١٨٠ دائرة	ج	١٥٠ دائرة	د	١٢٠
٤	يحدث فصل الصيف في شمال الكرة الأرضية عندما تتعامد أشعة الشمس على	أ	مدار السرطان	ب	مدار الجدي	ج	خط الاستواء	د	
٥	يبلغ عدد قارات العالم:	أ	٥ قارات	ب	٦ قارات	ج	٧ قارات	د	٨ قارات
٦	ترتيب الأرض من حيث القرب من الشمس:	أ	١	ب	٢	ج	٣	د	٤
٧	يبلغ عدد المناطق الزمنية على سطح الأرض	أ	٢٠ منطقة	ب	٢٤ منطقة	ج	٢٨ منطقة	د	٣٢ منطقة
٨	لا يشعر سكان الأرض بحركتها بسبب	أ	كبر حجمها	ب	ثقلها	ج	عدم انتظام حركتها	د	استدارتها
٩	كل ما يحيط بنا من نجوم ومجرات ومخلوقات حية	أ	الكون	ب	الشهب	ج	النيازك	د	الكواكب
١٠	درجة مدار الجدي:	أ	٢٣,٥ جنوباً	ب	٢٣,٥ شمالاً	ج	٦٦,٥ شمالاً	د	٢٣,٥ شمالاً
١١	للأرض	أ	حركة واحدة	ب	ثلاث حركات	ج	حركتان	د	اربع حركات
١٢	عدد الفصول المناخية:	أ	خمس فصول	ب	سنة فصول	ج	أربعة فصول	د	فصلان
١٣	كان تحديد موضع معين على سطح الكرة الأرضية أمراً صعباً وذلك بسبب	أ	دوران الأرض	ب	اختلاف الزمن	ج	كبر المساحة	د	انحراف الرياح
١٤	يحدث الصيف في شمال الكرة الأرضية عندما تتعامد أشعة الشمس على:	أ	مدار الجدي	ب	مدار السرطان	ج	دائرة الاستواء	د	خط جرينتش
١٥	خطوط الطول تفيد في تحديد:	أ	الزمن	ب	الأقاليم المناخية	ج	خط الاستواء	د	المناطق الحرارية

السؤال الثاني : ضع إشارة (√) امام الإجابة الصحيحة وإشارة (x) أمام الإجابة الخاطئة:

١	كواكب المجموعة الشمسية جميعا ذات شكل كروي.
٢	القطر الاستوائي يصل بين أبعد نقطتين ويمر بمركز الأرض.
٣	عدد دوائر العرض ١٥٠ دائرة عرضية.
٤	الحركة اليومية للأرض تكون مع اتجاه عقارب الساعة.
٥	أول راند فضاء مسلم هو الأمير سلطان بن سلمان
٦	أبعاد الأرض متساوية.
٧	تتركز اليابسة في نصف الكرة الأرضية الجنوبي.
٨	تفيد خطوط الطول في معرفة الزمن
٩	الانسان يشعر بحركة الأرض
١٠	أصغر المحيطات هو المحيط الهندي

السؤال الثالث : لماذا لا نشعر بحركة الأرض؟

- ١-
- ٢-
- ٣-



- دون على الشكل ما يأتي:
- أ- محور الأرض القطبي
 - ب- محور الأرض الاستوائي.

انتهت الأسئلة

نموذج الاجابة

الصف: الأول المتوسط
المادة: الدراسات الاجتماعية
التاريخ: / / ١٤٤٧
الزمن: ساعتان

أسئلة اختبار الوحدة الأولى الفصل الدراسي الأول لعام ١٤٤٧ هـ

نموذج أ

الفصل:

اسم الطالب:

السؤال الأول: اختر الإجابة الصحيحة فيما يلي بوضع دائرة عليها:

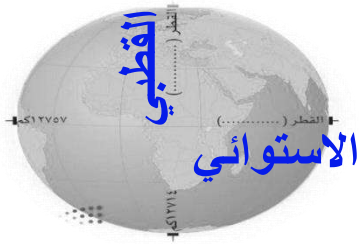
١	أكبر قارات العالم مساحة قارة:	أ	آسيا	ب	أستراليا	ج	أفريقيا	د	أوروبا
٢	خط الطول الرئيس هو:	أ	جرينش	ب	السرطان	ج	الجدي	د	الاستواء
٣	يبلغ عدد دوائر العرض:	أ	٣٦٠ دائرة	ب	١٨٠ دائرة	ج	١٥٠ دائرة	د	١٢٠
٤	يحدث فصل الصيف في شمال الكرة الأرضية عندما تتعامد اشعة الشمس على	أ	مدار السرطان	ب	مدار الجدي	ج	خط الاستواء	د	
٥	يبلغ عدد قارات العالم:	أ	٥ قارات	ب	٦ قارات	ج	٧ قارات	د	٨ قارات
٦	ترتيب الأرض من حيث القرب من الشمس:	أ	١	ب	٢	ج	٣	د	٤
٧	يبلغ عدد المناطق الزمنية على سطح الأرض	أ	٢٠ منطقة	ب	٢٤ منطقة	ج	٢٨ منطقة	د	٣٢ منطقة
٨	لا يشعر سكان الأرض بحركتها بسبب	أ	كبر حجمها	ب	ثقلها	ج	عدم انتظام حركتها	د	استدارتها
٩	كل ما يحيط بنا من نجوم ومجرات ومخلوقات حية	أ	الكون	ب	الشهب	ج	النيازك	د	الكواكب
١٠	درجة مدار الجدي:	أ	٢٣,٥ جنوباً	ب	٢٣,٥ شمالاً	ج	٦٦,٥ شمالاً	د	٢٣,٥ شمالاً
١١	للأرض	أ	حركة واحدة	ب	ثلاث حركات	ج	حركتان	د	اربع حركات
١٢	عدد الفصول المناخية:	أ	خمس فصول	ب	سنة فصول	ج	أربعة فصول	د	فصلان
١٣	كان تحديد موضع معين على سطح الكرة الأرضية أمراً صعباً وذلك بسبب	أ	دوران الأرض	ب	اختلاف الزمن	ج	كبر المساحة	د	انحراف الرياح
١٤	يحدث الصيف في شمال الكرة الأرضية عندما تتعامد أشعة الشمس على:	أ	مدار الجدي	ب	مدار السرطان	ج	دائرة الاستواء	د	خط جرينش
١٥	خطوط الطول تفيد في تحديد:	أ	الزمن	ب	الأقاليم المناخية	ج	خط الاستواء	د	المناطق الحرارية

السؤال الثاني : ضع إشارة (✓) امام الإجابة الصحيحة وإشارة (x) أمام الإجابة الخاطئة:

✓	كواكب المجموعة الشمسية جميعا ذات شكل كروي.	١
✓	القطر الاستوائي يصل بين أبعد نقطتين ويمر بمركز الأرض.	٢
✗	عدد دوائر العرض ١٥٠ دائرة عرضية.	٣
✗	الحركة اليومية للأرض تكون مع اتجاه عقارب الساعة.	٤
✓	أول رائد فضاء مسلم هو الأمير سلطان بن سلمان	٥
✗	أبعاد الأرض متساوية.	٦
✗	تتركز اليابسة في نصف الكرة الأرضية الجنوبي.	٧
✓	تفيد خطوط الطول في معرفة الزمن	٨
✗	الانسان يشعر بحركة الأرض	٩
✗	أصغر المحيطات هو المحيط الهندي	١٠

السؤال الثالث : لماذا لا نشعر بحركة الأرض؟

- ١- لأنها تتحرك بحركة منتظمة.
- ٢- لأن حجم الأرض كبير.
- ٣- وجود الجاذبية الأرضية. ولأن الأرض تدور بما فيها.



دون على الشكل ما يأتي:

أ- محور الأرض القطبي

ب- محور الأرض الاستوائي.

انتهت الأسئلة

موقع
مادنتير

أسئلة اختبار الوحدة الأولى الفصل الدراسي الأول لعام ١٤٤٧هـ

نموذج ب

الفصل:

اسم الطالب:

السؤال الأول: اختر الإجابة الصحيحة فيما يلي بوضع دائرة عليها:

١	أصغر قارات العالم مساحة قارة:	أ	آسيا	ب	أستراليا	ج	أفريقيا	د	أوروبا
٢	دائرة العرض الرئيسية هي:	أ	جرينتش	ب	السرطان	ج	الجدي	د	الاستواء
٣	يبلغ عدد خطوط الطول:	أ	٣٦٠ دائرة	ب	١٨٠ دائرة	ج	١٥٠ دائرة	د	١٢٠
٤	يحدث فصل الشتاء في شمال الكرة الأرضية عندما تتعامد أشعة الشمس على	أ	مدار السرطان	ب	مدار الجدي	ج	خط الاستواء	د	
٥	يبلغ عدد محيطات العالم:	أ	٥ محيطات	ب	٦ محيطات	ج	٧ محيطات	د	٨ محيطات
٦	تتميز جميع كواكب المجموعة الشمسية بأنها:	أ	شديدة الحرارة	ب	شديدة البرودة	ج	ذات شكل كروي	د	
٧	يبلغ عدد كواكب المجموعة الشمسية:	أ	٦	ب	٧	ج	٨	د	٩
٨	يغطي الماء سطح الأرض بنسبة:	أ	٥١%	ب	٦١%	ج	٧١%	د	٨١%
٩	درجة مدار السرطان:	أ	٢٣,٥° جنوباً	ب	٢٣,٥° شمالاً	ج	٦٦,٥° شمالاً	د	٦٦,٥° جنوباً
١٠	أكبر كواكب المجموعة الشمسية حجماً.	أ	أورانوس	ب	نبتون	ج	المشتري	د	زحل
١١	تقع دائرة الجدي في نصف الأرض:	أ	الشمالي	ب	الجنوبي	ج	الشرقي	د	الغربي
١٢	أقرب الكواكب الشمسية للشمس هو كوكب:	أ	عطارد	ب	الزهرة	ج	الأرض	د	المريخ
١٣	تحدث الفصول الأربعة على الأرض بانتظام ويرجع ذلك لعدة أسباب منها	أ	ميل أشعة الشمس في النصف الشمالي	ب	انحراف الرياح والتيارات المانية	ج	دورة الأرض حول الشمس	د	تعاقب الليل والنهار
١٤	دوائر العرض تفيد في تحديد:	أ	الزمن	ب	المناطق الحرارية	ج	خط جرينتش	د	المسافات
١٥	يحل فصل الربيع في نصف الكرة الشمالي عندما تتعامد الشمس على:	أ	مدار السرطان	ب	مدار الجدي	ج	خط الاستواء	د	خط جرينتش

السؤال الثاني : ضع إشارة (√) امام الإجابة الصحيحة وإشارة (x) أمام الإجابة الخاطئة:

١	لا توجد خصائص مشتركة بين الكواكب.
٢	تفيد خطوط الطول في معرفة الزمن.
٣	تقع المنطقة الحارة بين مدار السرطان شمالا ومدار الجدي جنوبا.
٤	الحركة اليومية للأرض تكون حول محورها.
٥	كواكب المجموعة الشمسية جميعها ذات شكل كروي.
٦	خطوط الطول عبارة عن أنصاف دوائر متساوية في الطول.
٧	مجموعتنا الشمسية جزء من عدة مجموعات في مجرة درب التبانة
٨	عدد دوائر العرض ١٥٠ دائرة عرضية
٩	تبلغ نسبة الماء على سطح الأرض ٢٩ %
١٠	تنقسم اليابسة إلى سبع كتل كبرى تسمى قارات

السؤال الثالث: اختاري من العمود (أ) ما يناسب العبارت من العمود (ب) :

م	(أ)	الإجابة	(ب)
١	الحركة السنوية ينتج عنها.		٢٤ ساعة
٢	دوائر كاملة متوازية.		المتجمد الشمالي
٣	أصغر المحيطات مساحة المحيط.		الفصول الأربعة
٤	تكون الشمس عمودية على مدار السرطان.		فصل الصيف
٥	تتم الحركة الصغرى للأرض مرة كل		دوائر العرض

انتهت الأسئلة

نموذج الاجابة

الصف: الأول المتوسط
المادة: الدراسات الاجتماعية
التاريخ: / / ١٤٤٧
الزمن: ساعتان

أسئلة اختبار الوحدة الأولى الفصل الدراسي الأول لعام ١٤٤٧هـ

نموذج ب

الفصل:

اسم الطالب:

السؤال الأول: اختر الإجابة الصحيحة فيما يلي بوضع دائرة عليها:

١	أصغر قارات العالم مساحة قارة:	أ	آسيا	ب	أستراليا	ج	أفريقيا	د	أوروبا
٢	دائرة العرض الرئيسية هي:	أ	جرينتش	ب	السرطان	ج	الجدي	د	الاستواء
٣	يبلغ عدد خطوط الطول:	أ	٣٦٠ دائرة	ب	١٨٠ دائرة	ج	١٥٠ دائرة	د	١٢٠
٤	يحدث فصل الشتاء في شمال الكرة الأرضية عندما تتعامد اشعة الشمس على مدار السرطان	أ	مدار السرطان	ب	مدار الجدي	ج	خط الاستواء	د	
٥	يبلغ عدد محيطات العالم:	أ	٥ محيطات	ب	٦ محيطات	ج	٧ محيطات	د	٨ محيطات
٦	تتميز جميع كواكب المجموعة الشمسية بأنها:	أ	شديدة الحرارة	ب	شديدة البرودة	ج	ذات شكل كروي	د	
٧	يبلغ عدد كواكب المجموعة الشمسية:	أ	٦	ب	٧	ج	٨	د	٩
٨	يغطي الماء سطح الأرض بنسبة:	أ	٥١%	ب	٦١%	ج	٧١%	د	٨١%
٩	درجة مدار السرطان:	أ	٢٣,٥ جنوباً	ب	٢٣,٥ شمالاً	ج	٦٦,٥ شمالاً	د	٦٦,٥ جنوباً
١٠	أكبر كواكب المجموعة الشمسية حجماً.	أ	أورانوس	ب	نبتون	ج	المشتري	د	زحل
١١	تقع دائرة الجدي في نصف الأرض:	أ	الشمالي	ب	الجنوبي	ج	الشرقي	د	الغربي
١٢	أقرب الكواكب الشمسية للشمس هو كوكب:	أ	عطارد	ب	الزهرة	ج	الأرض	د	المريخ
١٣	تحدث الفصول الأربعة على الأرض بانتظام ويرجع ذلك لعدة أسباب منها	أ	ميل أشعة الشمس في النصف الشمالي	ب	انحراف الرياح والتيارات المانية	ج	دورة الأرض حول الشمس	د	تعاقب الليل والنهار
١٤	دوائر العرض تفيد في تحديد:	أ	الزمن	ب	المناطق الحرارية	ج	خط جرينتش	د	المسافات
١٥	يحل فصل الربيع في نصف الكرة الشمالي عندما تتعامد الشمس على:	أ	مدار السرطان	ب	مدار الجدي	ج	خط الاستواء	د	خط جرينتش

السؤال الثاني : ضع إشارة (√) امام الإجابة الصحيحة وإشارة (x) أمام الإجابة الخاطئة:

✗	لا توجد خصائص مشتركة بين الكواكب.	١
✓	تفيد خطوط الطول في معرفة الزمن.	٢
✓	تقع المنطقة الحارة بين مدار السرطان شمالا ومدار الجدي جنوبا.	٣
✓	الحركة اليومية للأرض تكون حول محورها.	٤
✓	كواكب المجموعة الشمسية جميعها ذات شكل كروي.	٥
✓	خطوط الطول عبارة عن أنصاف دوائر متساوية في الطول.	٦
✓	مجموعتنا الشمسية جزء من عدة مجموعات في مجرة درب التبانة	٧
✗	عدد دوائر العرض ١٥٠ دائرة عرضية	٨
✗	تبلغ نسبة الماء على سطح الأرض ٢٩ %	٩
✓	تنقسم اليابسة إلى سبع كتل كبرى تسمى قارات	١٠

السؤال الثالث: اختاري من العمود (أ) ما يناسب العبارت من العمود (ب) :

م	(أ)	الإجابة	(ب)
١	الحركة السنوية ينتج عنها.	٥	٢٤ ساعة
٢	دوائر كاملة متوازية.	٣	المتجمد الشمالي
٣	أصغر المحيطات مساحة المحيط.	١	الفصول الأربعة
٤	تكون الشمس عمودية على مدار السرطان.	٤	فصل الصيف
٥	تتم الحركة الصغرى للأرض مرة كل	٢	دوائر العرض

انتهت الأسئلة

أسئلة اختبار الوحدة الثانية الفصل الدراسي الأول لعام ١٤٤٧ هـ

نموذج أ

الفصل:

اسم الطالب:

السؤال الأول: اختار الإجابة الصحيحة فيما يلي بوضع دائرة عليها:

١	تفاعل مجموعات البشرية مع البيئة المحيطة بهم:	أ	الحضارة	ب	النهضة	ج	التكيف	د	العلم
٢	العوامل التي تسهم في قيام الحضارات المناخ و:	أ	السهول والجبال	ب	الموقع والتضاريس	ج	الغابات والصحاري	د	الاستواء
٣	أقدم الحضارات التي نشأت في العراق حضارة :	أ	حضارة الفراعنة	ب	حضارة بلاد التبت	ج	حضارة بلاد القطب	د	حضارة بلاد الرافدين
٤	بني الفراعنة الأهرامات العملاقة من أجل:	أ	حفظ آثارهم	ب	بناء حضارتهم	ج	دفن موتاهم	د	تخليد ذكركم
٥	بني الصينين سور الصين العظيم من أجل عدوهم الشرس:	أ	المغول	ب	الفرس	ج	الروم	د	الصليبيين
٦	الأساس الأول للحضارة الإسلامية وأصلها الذي اعتمدت عليه:	أ	الديني	ب	العلمي	ج	الثقافي	د	اللغوي
٧	يتكون النظم السياسي في الإسلام من الخلافة والوزارة و:	أ	الحكومة والولاية	ب	البيعة والشوري	ج	القضاء والإمارة	د	العسس والشرطة
٨	تحولت الخلافة إلى نظام وراثي على يد:	أ	الأمويين	ب	العباسيين	ج	الفاطميين	د	المماليك
٩	أول وزراء بني العباس :	أ	أبو سلمة الخلال	ب	أبو العباس	ج	أبو مسلم الخرساني	د	أبو الفوارس
١٠	أنواع الوزارة:	أ	القضائية والشرعية	ب	السياسية والعسكرية	ج	الاقتصادية والمالبة	د	تفويضية وتنفيذية
١١	لتحقيق التوازن بين الموارد والمصروفات تم إنشاء:	أ	الدواوين	ب	بيت المال	ج	الإمارة	د	الخلافة
١٢	نشأة الدواوين في عهد الخليفة:	أ	أبو بكر الصديق	ب	عمر بن الخطاب	ج	عثمان بن عفان	د	علي بن أبي طالب
١٣	هم الجند الذين يعتمد عليهم الخليفة في حفظ الأمن ليلاً:	أ	العسس	ب	الشرطة	ج	الجنود	د	اللجان الشعبية
١٤	أول من أدخل نظام الشرطة في الإسلام:	أ	عبد الله بن مسعود	ب	الزبير بن العوام	ج	عمرو بن العاص	د	خالد بن الوليد
١٥	يعد علم الحديث مصدر التشريع:	أ	الأول	ب	الثاني	ج	الثالث	د	الرابع

السؤال الثاني : ضع إشارة (√) امام الإجابة الصحيحة وإشارة (x) أمام الإجابة الخاطئة:

١	السومريون هم أول الشعوب التي سكنت العراق
٢	الكتابة في مصر القديمة كانت على شكل صور ثم تطورت الى رموز
٣	تعد الحضارة الصينية من أقدم وأطول زمنا في تاريخ العالم
٤	تعد اللغة العربية أثرى اللغات وأكملها في المعاني لكثرة مفرداتها
٥	الخلافة تعني المعاونة في تحمل أعباء الحكم
٦	وزارة التفويض هي أن ينفذ الوزير أوامر الخليفة فقط
٧	في عهد الخلفاء الراشدون بلغ الجيش اعلى مرحلة من التقدم
٨	بدأت الترجمة في عهد الأمويين وازدهرت في عهد العباسيين
٩	ارتبط الفن الإسلامي بالدين الإسلامي ارتباطا وثيقا
١٠	من أهم أسباب ازدهر الصناعة اتساع الدولة الإسلامية

السؤال الثالث : أكمل

- ١- من أشهر المساجد التي بناها المسلمون مسجدبالأندلس
- ٢- من أشهر علماء المسلمين في الكيمياء.....
- ٣- ما سبب عناية المسلمون بعلم التاريخ؟.....
- ٤- أول بيت وضع للناس في الأرض.....
- ٥- في أي حضارة عرفت اللغة الهيروغليفية؟.....

انتهت الأسئلة

نموذج الاجابة

الصف: الأول المتوسط
المادة: الدراسات الاجتماعية
التاريخ: ١٤٤٧ / /
الزمن: ساعتان

المملكة ال
وزارة التعل
الإدارة العا
مدرسة

أسئلة اختبار الوحدة الثانية الفصل الدراسي الأول لعام ١٤٤٧ هـ

نموذج أ

الفصل:

اسم الطالب:

السؤال الأول: اختر الإجابة الصحيحة فيما يلي بوضع دائرة عليها:

١	تفاعل مجموعات البشرية مع البيئة المحيطة بهم:	أ	الحضارة	ب	النهضة	ج	التكيف	د	العلم
٢	العوامل التي تسهم في قيام الحضارات المناخ و:	أ	السهول والجبال	ب	الموقع والتضاريس	ج	الغابات والصحاري	د	الاستواء
٣	أقدم الحضارات التي نشأت في العراق حضارة :	أ	حضارة الفراعنة	ب	حضارة بلاد التبت	ج	حضارة بلاد القطب	د	حضارة بلاد الرافدين
٤	بني الفراعنة الأهرامات العملاقة من أجل:	أ	حفظ آثارهم	ب	بناء حضارتهم	ج	دفن موتاهم	د	تخليد ذكركم
٥	بني الصينين سور الصين العظيم من أجل عدوهم الشرس:	أ	المغول	ب	الفرس	ج	الروم	د	الصليبيين
٦	الأساس الأول للحضارة الإسلامية وأصلها الذي اعتمدت عليه:	أ	الديني	ب	العلمي	ج	الثقافي	د	اللغوي
٧	يتكون النظم السياسي في الإسلام من الخلافة والوزارة و:	أ	الحكومة والولاية	ب	البيعة والشوري	ج	القضاء والإمارة	د	العسس والشرطة
٨	تحولت الخلافة إلى نظام وراثي على يد:	أ	الأمويين	ب	العباسيين	ج	الفاطميين	د	المماليك
٩	أول وزراء بني العباس :	أ	أبو سلمة الخلال	ب	أبو العباس	ج	أبو مسلم الخرساني	د	أبو الفوارس
١٠	أنواع الوزارة:	أ	القضائية والشرعية	ب	السياسية والعسكرية	ج	الاقتصادية والمالبة	د	تفويضية وتنفيذية
١١	لتحقيق التوازن بين الموارد والمصروفات تم إنشاء:	أ	الدواوين	ب	بيت المال	ج	الإمارة	د	الخلافة
١٢	نشأة الدواوين في عهد الخليفة:	أ	أبو بكر الصديق	ب	عمر بن الخطاب	ج	عثمان بن عفان	د	علي بن أبي طالب
١٣	هم الجند الذين يعتمد عليهم الخليفة في حفظ الأمن ليلاً:	أ	العسس	ب	الشرطة	ج	الجنود	د	اللجان الشعبية
١٤	أول من أدخل نظام الشرطة في الإسلام:	أ	عبد الله بن مسعود	ب	الزبير بن العوام	ج	عمرو بن العاص	د	خالد بن الوليد
١٥	يعد علم الحديث مصدر التشريع:	أ	الأول	ب	الثاني	ج	الثالث	د	الرابع

السؤال الثاني : ضع إشارة (√) امام الإجابة الصحيحة وإشارة (x) أمام الإجابة الخاطئة:

✓	السومريون هم أول الشعوب التي سكنت العراق	١
✓	الكتابة في مصر القديمة كانت على شكل صور ثم تطورت الى رموز	٢
✓	تعد الحضارة الصينية من أقدم وأطول زمنا في تاريخ العالم	٣
✓	تعد اللغة العربية أثرى اللغات وأكملها في المعاني لكثرة مفرداتها	٤
✗	الخلافة تعني المعاونة في تحمل أعباء الحكم	٥
✗	وزارة التفويض هي أن ينفذ الوزير أوامر الخليفة فقط	٦
✗	في عهد الخلفاء الراشدون بلغ الجيش اعلى مرحلة من التقدم	٧
✓	بدأت الترجمة في عهد الأمويين وازدهرت في عهد العباسيين	٨
✓	ارتبط الفن الإسلامي بالدين الإسلامي ارتباطا وثيقا	٩
✗	من أهم أسباب ازدهر الصناعة اتساع الدولة الإسلامية	١٠

السؤال الثالث : أكمل

قرطبة

١- من أشهر المساجد التي بناها المسلمون مسجدبالأندلس

٢ - من أشهر علماء المسلمين في الكيمياء.....**جابر بن حيان**

٣- ما سبب عناية المسلمون بعلم التاريخ؟**لارتباطه بغزوات الرسول وفتوحات الخلفاء المسلمين.**

٤- أول بيت وضع للناس في الأرض.....**البيت الحرام بمكة.**

٥ - في أي حضارة عرفت اللغة الهيروغليفية؟.....**المصرية القديمة.**

انتهت الأسئلة

موقع
مادنتري

درجة الطالب	الدرجة الكلية ٢٠	١٠	س١
		٦	س٢
		٤	س٣
الصف الأول متوسط		أسم الطالب	

أسئلة اختبار مادة الدراسات الاجتماعية (الفترية) للفصل الدراسي الأول للعام الدراسي ١٤٤٧هـ

فقرة	ضع علامة (√) أمام العبارة الصحيحة وعلامة (X) أمام العبارة الخاطئة	السؤال الأول
١	الكواكب تستمد الحرارة والضوء من الشمس	()
٢	الخط الوهمي المستقيم الواصل بين القطبين والمار بمركز الأرض هو محور الأرض	()
٣	تفيد خطوط الطول في معرفة الزمن.	()
٤	تتعاد الشمس مرة واحدة في السنة على مدار السرطان الذي يمر بأرض المملكة العربية السعودية	()
٥	الحركة اليومية للأرض تكون مع اتجاه عقارب الساعة.	()

السؤال الثاني اختر الإجابة الصحيحة من بين الإجابات فيما يلي :

١	أكبر قارات العالم هي قارة	أ	أفريقيا	ج	أمريكا الشمالية
ب	آسيا	د	استراليا		
٢	عدد كواكب المجموعة الشمسية	أ	تسعة كواكب	ج	سبعة كواكب
ب	ثمانية كواكب	د	ستة كواكب		
٣	عدد الفصول المناخية.	أ	اربع فصول	ج	خمس فصول
ب	ستة فصول	د	فصلان		
٤	عدد خطوط الطول	أ	٣٦٠	ج	٥٢٠
ب	٦٣٠	د	١٨٠		
٥	خط الطول الرئيس هو.	أ	مدار الجدي	ج	خط جرينتش
ب	محور الأرض	د	خط الاستواء		
٦	أصغر المحيطات	أ	المحيط الهادي	ج	المحيط المتجمد الشمالي
ب	المحيط الهندي	د	المحيط الأطلسي		

فقرة	أذكر السبب	السؤال الثالث
١	عدم الشعور بحركة الأرض.	
٢	حدوث الليل والنهار.	

نموذج الإجابة

المملكة العربية السعودية

وزارة التعليم

إدارة التعليم بمنطقة

مكتب تعليم

متوسطة

VISION 2030

2030

2030

2030

2030

2030

2030

2030

2030

2030

2030

2030

2030

2030

2030

2030

2030

2030

2030

2030

2030

2030

2030

2030

2030

2030

2030

2030

2030

2030

2030

2030

2030

2030

2030

2030

2030

2030

2030

2030

2030

2030

2030

2030

2030

2030

2030

درجة الطالب

٢٠

٤

٣

الصف الأول متوسط

أسم الطالب

أسئلة اختبار مادة الدراسات الاجتماعية (الفترية) للفصل الدراسي الأول للعام الدراسي ١٤٤٧هـ

فقرة	ضع علامة (√) أمام العبارة الصحيحة وعلامة (X) أمام العبارة الخاطئة	السؤال الأول
١	الكواكب تستمد الحرارة والضوء من الشمس	(✓)
٢	الخط الوهمي المستقيم الواصل بين القطبين والمار بمركز الأرض هو محور الأرض	(✓)
٣	تفيد خطوط الطول في معرفة الزمن.	(✓)
٤	تتعادم الشمس مرة واحدة في السنة على مدار السرطان الذي يمر بأرض المملكة العربية السعودية	(✓)
٥	الحركة اليومية للأرض تكون مع اتجاه عقارب الساعة.	(X)

اختر الإجابة الصحيحة من بين الإجابات فيما يلي :

السؤال الثاني

١	أكبر قارات العالم هي قارة	أ	أفريقيا	ج	أمريكا الشمالية
ب	آسيا	د	استراليا		
٢	عدد كواكب المجموعة الشمسية	أ	تسعة كواكب	ج	سبعة كواكب
ب	ثمانية كواكب	د	ستة كواكب		
٣	عدد الفصول المناخية.	أ	اربع فصول	ج	خمس فصول
ب	ستة فصول	د	فصلان		
٤	عدد خطوط الطول	أ	٣٦٠	ج	٥٢٠
ب	٦٣٠	د	١٨٠		
٥	خط الطول الرئيس هو.	أ	مدار الجدي	ج	خط جرينتش
ب	محور الأرض	د	خط الاستواء		
٦	أصغر المحيطات	أ	المحيط الهادي	ج	المحيط المتجمد الشمالي
ب	المحيط الهندي	د	المحيط الأطلسي		

فقرة	اذكر السبب	السؤال الثالث
١	عدم الشعور بحركة الأرض.	١- لأنها تتحرك حركة منتظمة. ٢- لأن حجم الأرض كبير.
٢	حدوث الليل والنهار.	٣- وجود الجاذبية الأرضية. ٤- لأن الأرض تدور بما فيها.
٢	بسبب دوران الأرض حول محورها	



اختبار قصير لمادة الدراسات الاجتماعية للصف الأول المتوسط الفصل الدراسي الأول لعام ١٤٤٧ هـ

اسم الطالبية	الفصل	١٨ درجة
السؤال الأول : ضعي علامة (√) أمام العبارة الصحيحة وعلامة (×) أمام العبارة الخاطئة فيما يلي؟		
٦		
١	كواكب المجموعة الشمسية جميعا ذات شكل كروي.	
٢	القطر الاستوائي يصل بين أبعد نقطتين ويمر بمركز الأرض.	
٣	تفيد دوائر العرض في معرفة الزمن.	
٤	عدد دوائر العرض ١٥٠ دائرة عرضية.	
٥	تقع المنطقة الحارة بين مدار السرطان شمالا ومدار الجدي جنوبا.	
٦	تبلغ نسبة المياه على سطح الأرض ٢٩٪.	

السؤال الثاني:
عللي : لا نشعر بحركة الأرض أثناء دورانها؟

٢

.....
.....

السؤال الثالث : اختاري الإجابة الصحيحة من بين الأقواس فيما يلي ؟						
١	أكبر كواكب المجموعة الشمسية حجما.					
أ	أورانوس	ب	نبتون	ج	المشتري	د
٢	تقع دائرة الجدي بالنسبة لخط الإستواء .					
أ	شماله	ب	جنوبه	ج	شرقه	د
	غربه					

٣	عدد الفصول المناخية.						
أ	خمس فصول	ب	ستة فصول	ج	أربعة فصول	د	فصلان
٤	أكبر قارات العالم مساحة قارة						
أ	آسيا	ب	أستراليا	ج	أفريقيا	د	أوروبا
٥	خط الطول الرئيس هو.						
أ	جرينتش	ب	السرطان	ج	الجدى	د	الاستواء

٦

السؤال الرابع:

أكتبى الرقم المناسب من المجموعة (أ) أمام العبارة المناسبة في المجموعة (ب)

م	(أ)	الإجابة	(ب)
١	أول رائد فضاء عربي مسلم		فصل الخريف
٣	دوائر كاملة متوازية.		المتجمد الشمالي
٤	أصغر المحيطات مساحة المحيط.		الأمير سلطان بن سلمان
٥	تكون الشمس عمودية على مدار السرطان.		اختلاف الزمن
٦	من نتائج دوران الأرض حول محورها		دوائر العرض
			فصل الصيف

انتهت الأسئلة

نموذج الإجابة

المملكة العربية السعودية
وزارة التربية والتعليم



وزارة التعليم
Ministry of Education

اختبار قصير لمادة الدراسات الاجتماعية للصف الأول المتوسط الفصل الدراسي الأول لعام ١٤٤٧ هـ

اسم الطالبة	الفصل	١٨ درجة
السؤال الأول : ٦ ضعي علامة (√) أمام العبارة الصحيحة وعلامة (×) أمام العبارة الخاطئة فيما يلي؟		
١	كواكب المجموعة الشمسية جميعا ذات شكل كروي.	✓
٢	القطر الاستوائي يصل بين أبعد نقطتين ويمر بمركز الأرض.	✓
٣	تفيد دوائر العرض في معرفة الزمن.	✗
٤	عدد دوائر العرض ١٥٠ دائرة عرضية.	✗
٥	تقع المنطقة الحارة بين مدار السرطان شمالا ومدار الجدي جنوبا.	✓
٦	تبلغ نسبة المياه على سطح الأرض ٢٩٪.	✗

٢ السؤال الثاني:
علي : لا نشعر بحركة الأرض أثناء دورانها؟

- ١- لأنها تتحرك حركة منتظمة. ٢- لأن حجم الأرض كبير.
٣- وجود الجاذبية الأرضية. ٤- لأن الأرض تدور بما فيها.

السؤال الثالث : اختاري الإجابة الصحيحة من بين الأقواس فيما يلي ؟									
١	أكبر كواكب المجموعة الشمسية حجما.	أ	أورانوس	ب	نبتون	ج	المشتري	د	زحل
٢	تقع دائرة الجدي بالنسبة لخط الإستواء .	أ	شماله	ب	جنوبه	ج	شرقه	د	غربه

٣	عدد الفصول المناخية.						
أ	خمس فصول	ب	ستة فصول	ج	أربعة فصول	د	فصلان
٤	أكبر قارات العالم مساحة قارة						
أ	آسيا	ب	أستراليا	ج	أفريقيا	د	أوروبا
٥	خط الطول الرئيس هو.						
أ	جرينتش	ب	السرطان	ج	الجدي	د	الاستواء

٦

السؤال الرابع:

أكتب الرقم المناسب من المجموعة (أ) أمام العبارة المناسبة في المجموعة (ب)

م	(أ)	الإجابة	(ب)
١	أول رائد فضاء عربي مسلم		فصل الخريف
٣	دوائر كاملة متوازية.	٣	المتجمد الشمالي
٤	أصغر المحيطات مساحة المحيط.	١	الأمير سلطان بن سلمان
٥	تكون الشمس عمودية على مدار السرطان.	٥	اختلاف الزمن
٦	من نتائج دوران الأرض حول محورها	٢	دوائر العرض
		٤	فصل الصيف

انتهت الأسئلة

المملكة العربية السعودية	إدارة تعليم	المادة : الدراسات الاجتماعية
وزارة التعليم	مدرسة	الصف: الأول متوسط
اسم الطالب/ة :		اختبار الوحدة الأولى ١٤٤٧

السؤال الأول: اختر الإجابة الصحيحة فيما يلي بوضع دائرة عليها:

١٠

١	أكبر قارات العالم مساحة قارة				
أ	آسيا	ب	أستراليا	ج	أفريقيا
د	أوروبا				
٢	خط الطول الرئيس هو				
أ	جرينتش	ب	السرطان	ج	الجدي
د	الاستواء				
٣	يبلغ عدد دوائر العرض				
أ	٣٦٠ دائرة	ب	١٨٠ دائرة	ج	١٥٠ دائرة
د	١٢٠				
٤	يحدث فصل الصيف في شمال الكرة الأرضية عندما تتعامد اشعة الشمس على				
أ	مدار السرطان	ب	مدار الجدي	ج	خط الاستواء
د					
٥	يبلغ عدد قارات العالم				
أ	٧ قارات	ب	٦ قارات	ج	٧ قارات
د	٨ قارات				
٦	ترتيب الأرض من حيث القرب من الشمس				
أ	١	ب	٢	ج	٣
د	٤				
٧	تتميز جميع كواكب المجموعة الشمسية بأنها				
أ	شديدة الحرارة	ب	شديدة البرودة	ج	ذات شكل كروي
د					
٨	الخط الرئيسي من خطوط الطول هو خط				
أ	مدار السرطان	ب	مدار الجدي	ج	خط الاستواء
د					
٩	يبلغ عدد المناطق الزمنية على سطح الأرض				
أ	٢٠ منطقة	ب	٢٤ منطقة	ج	٢٨ منطقة
د	٣٢ منطقة				
١٠	يبلغ عدد كواكب المجموعة الشمسية				
أ	٦	ب	٧	ج	٨
د	٩				

١٠

السؤال الثاني : ضع إشارة (√) امام الإجابة الصحيحة وإشارة (x) أمام الإجابة الخاطئة:

١	كواكب المجموعة الشمسية جميعا ذات شكل كروي.
٢	لا توجد خصائص مشتركة بين الكواكب.
٣	القطر الاستوائي يصل بين أبعد نقطتين ويمر بمركز الأرض.
٤	تفيد خطوط الطول في معرفة الزمن.
٥	عدد دوائر العرض ١٥٠ دائرة عرضية.
٦	تقع المنطقة الحارة بين مدار السرطان شمالا ومدار الجدي جنوبا.
٧	الحركة اليومية للأرض تكون مع اتجاه عقارب الساعة.
٨	الحركة اليومية للأرض تكون حول محورها.
١٠	أول رائد فضاء مسلم هو الأمير سلطان بن سلمان

نموذج الإجابة

المادة : الدراسات الاجتماعية	VISION 2030
الصف: الأول متوسط	
اختبار الوحدة الأولى ١٤٤٧	

السؤال الأول: اختر الإجابة الصحيحة فيما يلي بوضع دائرة عليها:

١٠

١	أكبر قارات العالم مساحة قارة	أ	ب	ج	د
١	آسيا	أستراليا	أفريقيا	أوروبا	د
٢	خط الطول الرئيس هو	ج	د	ب	أ
١	جرينتش	السرطان	الجدي	الاستواء	د
٣	يبلغ عدد دوائر العرض	أ	ب	ج	د
أ	٣٦٠ دائرة	١٨٠ دائرة	١٥٠ دائرة	١٢٠	د
٤	يحدث فصل الصيف في شمال الكرة الأرضية عندما تتعامد اشعة الشمس على	ب	ج	د	أ
١	مدار السرطان	مدار الجدي	خط الاستواء		د
٥	يبلغ عدد قارات العالم	ب	ج	د	أ
١	٧ قارات	٦ قارات	٧ قارات	٨ قارات	د
٦	ترتيب الأرض من حيث القرب من الشمس	ب	ج	د	أ
أ	١	٢	٣	٤	د
٧	تتميز جميع كواكب المجموعة الشمسية بأنها	ب	ج	د	أ
أ	شديدة الحرارة	شديدة البرودة	ذات شكل كروي		د
٨	الخط الرئيسي من خطوط الطول هو خط	ب	ج	د	أ
أ	مدار السرطان	مدار الجدي	خط الاستواء	جرينتش	د
٩	يبلغ عدد المناطق الزمنية على سطح الأرض	ب	ج	د	أ
أ	٢٠ منطقة	٢٤ منطقة	٢٨ منطقة	٣٢ منطقة	د
١٠	يبلغ عدد كواكب المجموعة الشمسية	ب	ج	د	أ
أ	٦	٧	٨	٩	د

١٠

السؤال الثاني : ضع إشارة (√) امام الإجابة الصحيحة وإشارة (x) امام الإجابة الخاطئة:

✓	١	كواكب المجموعة الشمسية جميعا ذات شكل كروي.
x	٢	لا توجد خصائص مشتركة بين الكواكب.
✓	٣	القطر الاستوائي يصل بين أبعد نقطتين ويمر بمركز الأرض.
✓	٤	تفيد خطوط الطول في معرفة الزمن.
x	٥	عدد دوائر العرض ١٥٠ دائرة عرضية.
✓	٦	تقع المنطقة الحارة بين مدار السرطان شمالا ومدار الجدي جنوبا.
x	٧	الحركة اليومية للأرض تكون مع اتجاه عقارب الساعة.
✓	٨	الحركة اليومية للأرض تكون حول محورها.
✓	١٠	أول راند قضاء مسلم هو الأمير سلطان بن سلمان

المملكة العربية السعودية	إدارة تعليم	المادة : الدراسات الاجتماعية
وزارة التعليم	مدرسة	الصف: الأول متوسط
اسم الطالب/ة :		اختبار الوحدة الأولى ١٤٤٧



السؤال الأول: اختر الإجابة الصحيحة فيما يلي بوضع دائرة عليها:

١٠

١	لا يشعر سكان الأرض بحركتها بسبب	أ	كبر حجمها	ب	ثقلها	ج	عدم انتظام حركتها	د	استدارتها
٢	يغطي الماء سطح الأرض بنسبة	أ	٥١ %	ب	٦١ %	ج	٧١ %	د	٨١ %
٣	كل ما يحيط بنا من نجوم ومجرات ومخلوقات حية	أ	الكون	ب	الشهب	ج	النيازك	د	الكواكب
٤	درجة مدار السرطان	أ	٢٣,٥° جنوباً	ب	٢٣,٥° شمالاً	ج	٦٦,٥° شمالاً	د	٢٣,٥° شمالاً
٥	للأرض	أ	حركة واحدة	ب	ثلاث حركات	ج	حركتان	د	اربع حركات
٦	يبلغ عدد قارات العالم	أ	٦ قارات	ب	٧ قارات	ج	٨ قارات	د	٩ قارات
٧	أكبر كواكب المجموعة الشمسية حجماً.	أ	أورانوس	ب	نبتون	ج	المشتري	د	زحل
٨	تقع دائرة الجدي في نصف الأرض	أ	الشمالي	ب	الجنوبي	ج	الشرقي	د	الغربي
٩	عدد الفصول المناخية	أ	خمس فصول	ب	سنة فصول	ج	أربعة فصول	د	فصلان
١٠	كان تحديد موضع معين على سطح الكرة الأرضية أمراً صعباً وذلك بسبب	أ	دوران الأرض	ب	اختلاف الزمن	ج	كبر المساحة	د	انحراف الرياح

السؤال الثاني : ضع إشارة (√) امام الإجابة الصحيحة وإشارة (x) أمام الإجابة الخاطئة:

١٠

١	كواكب المجموعة الشمسية جميعها ذات شكل كروي.	
٢	أبعاد الأرض متساوية.	
٣	خطوط الطول عبارة عن أنصاف دوائر متساوية في الطول.	
٤	تتركز اليابسة في نصف الكرة الأرضية الجنوبي.	
٥	لا توجد خصائص مشتركة بين الكواكب	
٦	القطر الاستوائي يصل بين أبعد نقطتين ويمر بمركز الأرض	
٧	تفيد خطوط الطول في معرفة الزمن	
٨	عدد دوائر العرض ١٥٠ دائرة عرضية	
٩	تقع المنطقة الحارة بين مدار السرطان شمالاً ومدار الجدي جنوباً	
١٠	الحركة اليومية للأرض تكون مع اتجاه عقارب الساعة.	

نموذج الإجابة

المادة : الدراسات الاجتماعية
الصف: الأول متوسط
اختبار الوحدة الأولى ١٤٤٧



السؤال الأول: اختر الإجابة الصحيحة فيما يلي بوضع دائرة عليها:

١٠	١	لا يشعر سكان الأرض بحركتها بسبب	ب	كبر حجمها	ب	ثقلها	ج	عدم انتظام حركتها	د	استدارتها
	٢	يغطي الماء سطح الأرض بنسبة	أ	٥١%	ب	٦١%	ج	٧١%	د	٨١%
	٣	كل ما يحيط بنا من نجوم ومجرات ومخلوقات حية	أ	الكون	ب	الشهب	ج	النيازك	د	الكواكب
	٤	درجة مدار السرطان	أ	٢٣,٥° جنوباً	ب	٢٣,٥° شمالاً	ج	٦٦,٥° شمالاً	د	٢٣,٥° شمالاً
	٥	للأرض	أ	حركة واحدة	ب	ثلاث حركات	ج	حركتان	د	أربع حركات
	٦	يبلغ عدد قارات العالم	أ	٦ قارات	ب	٧ قارات	ج	٨ قارات	د	٩ قارات
	٧	أكبر كواكب المجموعة الشمسية حجماً.	أ	أورانوس	ب	نبتون	ج	المشتري	د	زحل
	٨	تقع دائرة الجدي في نصف الأرض	أ	الشمالي	ب	الجنوبي	ج	الشرقي	د	الغربي
	٩	عدد الفصول المناخية	أ	خمس فصول	ب	ستة فصول	ج	أربعة فصول	د	فصلان
	١٠	كان تحديد موضع معين على سطح الكرة الأرضية أمراً صعباً وذلك بسبب	أ	دوران الأرض	ب	اختلاف الزمن	ج	كبر المساحة	د	انحراف الرياح

السؤال الثاني : ضع إشارة (√) امام الإجابة الصحيحة وإشارة (×) أمام الإجابة الخاطئة:

١٠	١	كواكب المجموعة الشمسية جميعها ذات شكل كروي.	✓
	٢	أبعاد الأرض متساوية.	✗
	٣	خطوط الطول عبارة عن أنصاف دوائر متساوية في الطول.	✓
	٤	تتركز اليابسة في نصف الكرة الأرضية الجنوبي.	✗
	٥	لا توجد خصائص مشتركة بين الكواكب	✗
	٦	القطر الاستوائي يصل بين أبعد نقطتين ويمر بمركز الأرض	✓
	٧	تفيد خطوط الطول في معرفة الزمن	✓
	٨	عدد دوائر العرض ١٥٠ دائرة عرضية	✗
	٩	تقع المنطقة الحارة بين مدار السرطان شمالاً ومدار الجدي جنوباً	✓
	١٠	الحركة اليومية للأرض تكون مع اتجاه عقارب الساعة.	✗

المملكة العربية السعودية	إدارة تعليم	رؤية VISION 2030	المادة : الدراسات الاجتماعية
وزارة التعليم	مدرسة		الصف: الأول متوسط
اسم الطالب/ة :			اختبار الوحدة الأولى ١٤٤٧

السؤال الأول: اختار الإجابة الصحيحة فيما يلي بوضع دائرة عليها:

١٠

١	أقرب الكواكب الشمسية للشمس هو كوكب			
أ	عطارد	ب	الزهرة	ج
د	المريخ			
٢	يحدث الصيف في شمال الكرة الأرضية عندما تتعامد أشعة الشمس على			
أ	مدار الجدي	ب	مدار السرطان	ج
د	خط جرينتش			
٣	خط الطول الرئيس هو			
أ	جرينتش	ب	السرطان	ج
د	الاستواء			
٤	تحدث الفصول الأربعة على الأرض بانتظام ويرجع ذلك لعدة أسباب منها			
أ	ميل أشعة الشمس في النصف الشمالي	ب	انحراف الرياح والتيارات المائية	ج
د	دورة الأرض حول الشمس			
٥	أكبر القارات مساحة قارة			
أ	آسيا	ب	أوروبا	ج
د	أستراليا			
٦	يبلغ عدد قارات العالم			
أ	٧ قارات	ب	٦ قارات	ج
د	٨ قارات			
٧	كل ما يحيط بنا من نجوم ومجرات ومخلوقات حية			
أ	الكون	ب	الشهب	ج
د	الكواكب			
٨	درجة مدار السرطان			
أ	٢٣,٥ جنوباً	ب	٢٣,٥ شمالاً	ج
د	٢٣,٥ شمالاً			
٩	يبلغ عدد دوائر العرض			
أ	٣٦٠ دائرة	ب	١٨٠ دائرة	ج
د	١٢٠			
١٠	أكبر كواكب المجموعة الشمسية حجماً.			
أ	أورانوس	ب	نبتون	ج
د	زحل			

السؤال الثاني : ضع إشارة (√) امام الإجابة الصحيحة وإشارة (x) أمام الإجابة الخاطئة:

١٠

١	كواكب المجموعة الشمسية جميعاً ذات شكل كروي
٢	لا توجد خصائص مشتركة بين الكواكب
٣	القطر الاستوائي يصل بين أبعد نقطتين ويمر بمركز الأرض
٤	تفيد خطوط الطول في معرفة الزمن
٥	عدد دوائر العرض ١٥٠ دائرة عرضية
٦	تقع المنطقة الحارة بين مدار السرطان شمالاً ومدار الجدي جنوباً
٧	الحركة اليومية للأرض تكون مع اتجاه عقارب الساعة.
٨	الحركة اليومية للأرض تكون حول محورها
٩	الإنسان يشعر بحركة الأرض
١٠	تبلغ نسبة الماء على سطح الأرض ٢٩ %

نموذج الإجابة

المادة : الدراسات الاجتماعية
الصف : الأول متوسط
اختبار الوحدة الأولى ١٤٤٧



السؤال الأول: اختار الإجابة الصحيحة فيما يلي بوضع دائرة عليها:

١٠

١	أقرب الكواكب الشمسية للشمس هو كوكب	ب	الزهرة	ج	الأرض	د	المريخ
٢	يحدث الصيف في شمال الكرة الأرضية عندما تتعامد أشعة الشمس على مدار الجدي	ب	مدار السرطان	ج	دائرة الاستواء	د	خط جرينتش
٣	خط الطول الرئيس هو	ب	السرطان	ج	الجدي	د	الاستواء
٤	تحدث الفصول الأربعة على الأرض بانتظام ويرجع ذلك لعدة أسباب منها	ب	انحراف الرياح والتيارات المائية	ج	دورة الأرض حول الشمس	د	تعاقب الليل والنهار
٥	أكبر القارات مساحة قارة	ب	أوروبا	ج	إفريقيا	د	أستراليا
٦	يبلغ عدد قارات العالم	ب	٦ قارات	ج	٧ قارات	د	٨ قارات
٧	كل ما يحيط بنا من نجوم ومجرات ومخلوقات حية	ب	الشهب	ج	النيازك	د	الكواكب
٨	درجة مدار السرطان	ب	٢٣,٥ شمالاً	ج	٦٦,٥ شمالاً	د	٢٣,٥ شمالاً
٩	يبلغ عدد دوائر العرض	ب	١٨٠ دائرة	ج	١٥٠ دائرة	د	١٢٠
١٠	أكبر كواكب المجموعة الشمسية حجماً	ب	نبتون	ج	المشتري	د	زحل

السؤال الثاني : ضع إشارة (√) امام الإجابة الصحيحة وإشارة (×) امام الإجابة الخاطئة:

١٠

✓	١	كواكب المجموعة الشمسية جميعاً ذات شكل كروي
×	٢	لا توجد خصائص مشتركة بين الكواكب
✓	٣	القطر الاستوائي يصل بين أبعد نقطتين ويمر بمركز الأرض
✓	٤	تفيد خطوط الطول في معرفة الزمن
×	٥	عدد دوائر العرض ١٥٠ دائرة عرضية
✓	٦	تقع المنطقة الحارة بين مدار السرطان شمالاً ومدار الجدي جنوباً
×	٧	الحركة اليومية للأرض تكون مع اتجاه عقارب الساعة
✓	٨	الحركة اليومية للأرض تكون حول محورها
×	٩	الإنسان يشعر بحركة الأرض
×	١٠	تبلغ نسبة الماء على سطح الأرض ٢٩ %

المملكة العربية السعودية	إدارة تعليم	رؤية VISION 2030 رؤية رؤية	المادة : الدراسات الاجتماعية
وزارة التعليم	مدرسة		الصف : الأول متوسط
اسم الطالب/ة :			اختبار الوحدة الأولى ١٤٤٧

السؤال الأول: اختر الإجابة الصحيحة فيما يلي بوضع دائرة عليها:

٩

١	خط الطول الرئيسي هو				
أ	جرينتش	ب	السرطان	ج	الجدي
د	الاستواء				
٢	يبلغ عدد دوائر العرض				
أ	٣٦٠ دائرة	ب	١٨٠ دائرة	ج	١٥٠ دائرة
د	١٢٠				
٣	يحدث فصل الصيف في شمال الكرة الأرضية عندما تتعامد أشعة الشمس على				
أ	مدار السرطان	ب	مدار الجدي	ج	خط الاستواء
د					
٤	يبلغ عدد قارات العالم				
أ	٧ قارات	ب	٦ قارات	ج	٧ قارات
د	٨ قارات				
٥	ترتيب الأرض من حيث القرب من الشمس				
أ	١	ب	٢	ج	٣
د	٤				
٦	أقرب الكواكب الشمسية للشمس هو كوكب				
أ	عطارد	ب	الزهرة	ج	الأرض
د	المريخ				
٧	يحدث الصيف في شمال الكرة الأرضية عندما تتعامد أشعة الشمس على				
أ	مدار الجدي	ب	مدار السرطان	ج	دائرة الاستواء
د	خط جرينتش				
٨	خط الطول الرئيسي هو				
أ	جرينتش	ب	السرطان	ج	الجدي
د	الاستواء				
٩	يبلغ عدد دوائر العرض				
أ	٣٦٠ دائرة	ب	١٨٠ دائرة	ج	١٥٠ دائرة
د	١٢٠				

السؤال الثاني : ضع إشارة (✓) امام الإجابة الصحيحة وإشارة (x) أمام الإجابة الخاطئة:

٩

١	من خصائص كواكب المجموعة الشمسية انها ذات شكل كروي
٢	شكل الأرض كامل الاستدارة
٣	أبعاد الأرض متساوية
٤	خط العرض الرئيسي هو خط الاستواء
٥	الحركة اليومية للأرض: تدور الأرض حول محورها
٦	الحركة السنوية للأرض تدور الأرض حول الشمس
٧	سطح الأرض هو المرتفعات والمنخفضات على سطح الأرض
٨	من نتائج دوران الأرض حول نفسها حدوث الفصول الأربعة
٩	الانسان يشعر بحركة الأرض

السؤال الثاني : لماذا لا نشعر بحركة الأرض؟

٢

- ١-
- ٢-

نموذج الإجابة

المادة : الدراسات الاجتماعية	VISION 2020
الصف: الأول متوسط	
اختبار الوحدة الأولى ١٤٤٧	

السؤال الأول: اختار الإجابة الصحيحة فيما يلي بوضع دائرة عليها:

٩

١	خط الطول الرئيس هو	ج	الجدى	د	الاستواء
٢	يبلغ عدد دوائر العرض	أ	دائرة ٣٦٠	ب	دائرة ١٨٠
٣	يحدث فصل الصيف في شمال الكرة الأرضية عندما تتعامد أشعة الشمس على	ج	دائرة ١٥٠	د	١٢٠
٤	يبلغ عدد قارات العالم	ب	مدار الجدي	ج	خط الاستواء
٥	ترتيب الأرض من حيث القرب من الشمس	ب	٦ قارات	ج	٧ قارات
٦	أقرب الكواكب الشمسية للشمس هو كوكب	ب	٢	ج	٣
٧	يحدث الصيف في شمال الكرة الأرضية عندما تتعامد أشعة الشمس على	ب	مدار السرطان	ج	دائرة الاستواء
٨	خط الطول الرئيس هو	ب	السرطان	ج	الجدى
٩	يبلغ عدد دوائر العرض	ب	دائرة ١٨٠	ج	دائرة ١٥٠

السؤال الثاني : ضع إشارة (√) امام الإجابة الصحيحة وإشارة (x) أمام الإجابة الخاطئة:

٩

١	من خصائص كواكب المجموعة الشمسية انها ذات شكل كروي	✓
٢	شكل الأرض كامل الاستدارة	✗
٣	أبعاد الأرض متساوية	✗
٤	خط العرض الرئيسي هو خط الاستواء	✓
٥	الحركة اليومية للأرض: تدور الأرض حول محورها	✓
٦	الحركة السنوية للأرض تدور الأرض حول الشمس	✓
٧	سطح الأرض هو المرتفعات والمنخفضات على سطح الأرض	✓
٨	من نتائج دوران الأرض حول نفسها حدوث الفصول الأربعة	✗
٩	الانسان يشعر بحركة الأرض	✗

السؤال الثاني : لماذا لا نشعر بحركة الأرض؟

٢

- ١- لأن حجم الأرض كبير
- ٢- وسهولة الجاذبية الأرضية

المادة : الدراسات الاجتماعية		إدارة تعليم	المملكة العربية السعودية
الصف: الأول متوسط		مدرسة	وزارة التعليم
اختبار الوحدة الأولى ١٤٤٧		اسم الطالب/ة :	

السؤال الأول: اختار الإجابة الصحيحة فيما يلي بوضع دائرة عليها:

١	يبلغ عدد كواكب المجموعة الشمسية	أ	ب	ج	د
٢	أقرب الكواكب الشمسية للشمس هو كوكب	أ	ب	ج	د
٣	ترتيب الأرض من حيث القرب من الشمس	أ	ب	ج	د
٤	خط الطول الرئيس هو.	أ	ب	ج	د
٥	أكبر المحيطات هو المحيط	أ	ب	ج	د
٦	عدد خطوط الطول	أ	ب	ج	د
٧	أكبر قارات العالم مساحة قارة	أ	ب	ج	د
٨	للأرض	أ	ب	ج	د
٩	يبلغ عدد قارات العالم	أ	ب	ج	د
١٠	يحدث الصيف في شمال الكرة الأرضية عندما تتعامد أشعة الشمس على	أ	ب	ج	د

السؤال الثاني : ضع إشارة (✓) امام الإجابة الصحيحة وإشارة (x) أمام الإجابة الخاطئة:

١	شكل الأرض كامل الاستدارة	
٢	أبعاد الأرض متساوية	
٣	خط العرض الرئيسي هو خط الاستواء	
٤	الحركة اليومية للأرض: تدور الأرض حول محورها	
٥	الحركة السنوية للأرض تدور الأرض حول الشمس	
٦	سطح الأرض هو المرتفعات والمنخفضات على سطح الأرض	
٧	من نتائج دوران الأرض حول نفسها حدوث الفصول الأربعة	
٨	الإنسان يشعر بحركة الأرض	
٩	من خصائص كواكب المجموعة الشمسية انها ذات شكل كروي	
١٠	تبلغ نسبة الماء على سطح الأرض ٢٩ %	

نموذج الإجابة

المادة : الدراسات الاجتماعية
الصف: الأول متوسط
اختبار الوحدة الأولى ١٤٤٧



السؤال الأول: اختار الإجابة الصحيحة فيما يلي بوضع دائرة عليها:

١	يبلغ عدد كواكب المجموعة الشمسية	أ	٦	ب	٧	ج	٨	د	٩
٢	أقرب الكواكب الشمسية للشمس هو كوكب	ب	عطارد	ب	الزهرة	ج	الأرض	د	المريخ
٣	ترتيب الأرض من حيث القرب من الشمس	أ	١	ب	٢	ج	٣	د	٤
٤	خط الطول الرئيس هو.	ب	جرينتش	ب	السرطان	ج	الجدي	د	الاستواء
٥	أكبر المحيطات هو المحيط	ب	الهادي	ب	الهندي	ج	الاطلسي	د	المتجمد الشمالي
٦	عدد خطوط الطول	ب	٣٦٠ خطا	ب	١٨٠ خطا	ج	٩٠ خطا	د	١٦٠ خطا
٧	أكبر قارات العالم مساحة قارة	ب	آسيا	ب	أستراليا	ج	أفريقيا	د	أوروبا
٨	للأرض	ب	حركة واحدة	ب	ثلاث حركات	ج	حركتان	د	اربع حركات
٩	يبلغ عدد قارات العالم	ب	٧ قارات	ب	٦ قارات	ج	٧ قارات	د	٨ قارات
١٠	يحدث الصيف في شمال الكرة الأرضية عندما تتعامد أشعة الشمس على	ب	مدار الجدي	ب	مدار السرطان	ج	دائرة الاستواء	د	خط جرينتش

السؤال الثاني : ضع إشارة (√) امام الإجابة الصحيحة وإشارة (x) أمام الإجابة الخاطئة:

×	١	شكل الأرض كامل الاستدارة
×	٢	أبعاد الأرض متساوية
✓	٣	خط العرض الرئيسي هو خط الاستواء
✓	٤	الحركة اليومية للأرض: تدور الأرض حول محورها
✓	٥	الحركة السنوية للأرض تدور الأرض حول الشمس
✓	٦	سطح الأرض هو المرتفعات والمنخفضات على سطح الأرض
×	٧	من نتائج دوران الأرض حول نفسها حدوث الفصول الأربعة
×	٨	الإنسان يشعر بحركة الأرض
✓	٩	من خصائص كواكب المجموعة الشمسية انها ذات شكل كروي
×	١٠	تبلغ نسبة الماء على سطح الأرض ٢٩ %

اختبار الفترة	الأولى	الفصل الدراسي	الأول ١٤٤٦ هـ	الاسم	الدرجة
المادة	الدراسات الاجتماعية	الصف	أول متوسط	المعلمة	التوقيع

السؤال الأول: ضعي علامة (√) أمام العبارة الصحيحة وعلامة (X) أما العبارة الخاطئة :

الإجابة	العبارة
	١ تنتمي المجموعة الشمسية لمجرة درب التبانة.
	٢ الكواكب جميعها ذات شكل كروي
	٣ من الخصائص المشتركة بين كواكب المجموعة الشمسية أنها تدور حول نفسها.
	٤ استطاع الإنسان من خلال الفضاء رؤية الأرض بشكلها الكروي
	٥ دوائر العرض ترسم على شكل الأرض بشكل كامل، ومتوازي.
	٦ تغطي اليابس من مساحة سطح الأرض حوالي ٥٠%.
	٧ تدور الأرض حول الشمس من الشرق إلى الغرب
	٨ أبعاد الأرض متساوية
	٩ شكل الأرض كامل الاستدارة.
	١٠ الكوكب جسم كروي صلب يشع ضوءاً.

السؤال الثاني: اختاري الإجابة الصحيحة:

١	هو كل ما يحيط بنا من نجوم، ومجرات، ومخلوقات حية.	أ الكون	ب الشهب	ج النيازك
٢	يبلغ عدد كواكب المجموعة الشمسية:	أ ثمانية	ب سبعة	ج تسعة
٣	نجم كروي غازي ملتهب، يشع ضوءاً، وحرارة، ويدور حوله عددٌ من الكواكب:	أ الشمس	ب الزهرة	ج عطارد
٤	أقرب الكواكب للشمس:	أ عطارد	ب زحل	ج الزهرة
٥	الخط الوهمي المستقيم الواصل بين القطبين والمار بمركز الأرض هو:	أ القطر القطبي	ب المحيط الاستوائي	ج القطر الاستوائي
٦	عدد خطوط الطول:	أ ٣٦٠ خط	ب ١٨٠ خط	ج ٩٠ خط
٧	دوائر العرض تفيد في:	أ تحديد المناطق الحرارية	ب تحديد خط جرينتش	ج تحديد الزمن
٨	مدة دوران الأرض حول نفسها:	أ ٢٤ ساعة	ب ١٨٠ يوم	ج ٣٦٥ يوم
٩	الماء على سطح الأرض يعادل :	أ ثلثي مساحة الكرة الأرضية	ب ثلث مساحة الكرة الأرضية	ج نصف مساحة الكرة الأرضية
١٠	عدد المحيطات في العالم يبلغ:	أ ٥	ب ٤	ج ٣

اختبار الفترة	الأولى	الفصل الدراسي	الأول ١٤٤٦ هـ	الاسم		الدرجة
المادة	الدراسات الاجتماعية	الصف	أول متوسط	المعلمة		التوقيع

السؤال الأول: ضعي علامة (√) أمام العبارة الصحيحة وعلامة (X) أما العبارة الخاطئة :

الإجابة	العبارة
√	١ تنتمي المجموعة الشمسية لمجرة درب التبانة.
√	٢ الكواكب جميعها ذات شكل كروي
√	٣ من الخصائص المشتركة بين كواكب المجموعة الشمسية أنها تدور حول نفسها.
√	٤ استطاع الإنسان من خلال الفضاء رؤية الأرض بشكلها الكروي
√	٥ دوائر العرض ترسم على شكل الأرض بشكل كامل، ومتوازي.
X	٦ تغطي اليابس من مساحة سطح الأرض حوالي ٥٠%.
X	٧ تدور الأرض حول الشمس من الشرق إلى الغرب
X	٨ أبعاد الأرض متساوية
X	٩ شكل الأرض كامل الاستدارة.
X	١٠ الكوكب جسم كروي صلب يشع ضوءاً.

السؤال الثاني: اختاري الإجابة الصحيحة:

١	هو كل ما يحيط بنا من نجوم، ومجرات، ومخلوقات حية.	أ <u>الكون</u>	ب الشهب	ج النيازك
٢	يبلغ عدد كواكب المجموعة الشمسية:	أ <u>ثمانية</u>	ب سبعة	ج تسعة
٣	نجم كروي غازي ملتهب، يشع ضوءاً، وحرارة، ويدور حوله عددٌ من الكواكب:	أ <u>الشمس</u>	ب الزهرة	ج عطارد
٤	أقرب الكواكب للشمس:	أ <u>عطارد</u>	ب زحل	ج الزهرة
٥	الخط الوهمي المستقيم الواصل بين القطبين والمار بمركز الأرض هو:	أ <u>القطر القطبي</u>	ب المحيط الاستوائي	ج القطر الاستوائي
٦	عدد خطوط الطول:	أ <u>٣٦٠ خط</u>	ب ١٨٠ خط	ج ٩٠ خط
٧	دوائر العرض تفيد في:	أ <u>تحديد المناطق الحرارية</u>	ب تحديد خط جرينتش	ج تحديد الزمن
٨	مدة دوران الأرض حول نفسها:	أ <u>٢٤ ساعة</u>	ب ١٨٠ يوم	ج ٣٦٥ يوم
٩	الماء على سطح الأرض يعادل :	أ <u>ثلثي مساحة الكرة الأرضية</u>	ب ثلث مساحة الكرة الأرضية	ج نصف مساحة الكرة الأرضية
١٠	عدد المحيطات في العالم يبلغ:	أ <u>٥</u>	ب ٤	ج ٣

20 درجة

اسم الطالب رابعياً / الفصل:

السؤال الأول

10 درجات

اختر الإجابة الصحيحة من بين الأقواس حسب الجمل التالية:

1	هو كل ما يحيط بنا من نجوم ومجرات ومخلوقات حية :	أ- الكون	ب- درب التبانة	ج- الأرض	د- الشمس
2	تعد أقدم الحضارات وأطولها زمناً في تاريخ العالم :	أ- الحضارة اليونانية	ب- الحضارة الصينية	ج- الحضارة الفرعونية	د- الحضارة الإسلامية
3	يغطي الماء من سطح الأرض مانسبته :	أ- 29%	ب- 45%	ج- 60%	د- 71%
4	شكل الأرض :	أ- مربعة	ب- دائرة	ج- كروي	د- مسطحة
5	بنى المصريون القدماء الأهرامات وذلك لـ :	أ- يدفنوا موتاهم	ب- يسكنوها	ج- للعبادة	د- لأشياء مما ذكر
6	عدد كواكب مجموعتنا الشمسية :	أ- 10 كواكب	ب- 11 كوكب	ج- 8 كواكب	د- 6 كواكب
7	أكبر القارات مساحة :	أ- قارة أفريقيا	ب- قارة استراليا	ج- قارة أوروبا	د- قارة آسيا
8	الدائرة الرئيسية والكبرى من دوائر العرض ودرجتها صفر وتقسّم الكرة الأرضية إلى قسمين شمالي وجنوبي هي :	أ- دائرة السرطان	ب- دائرة (خط الاستواء)	ج- الدائرة القطبية	د- دائرة الجدي
9	قسمت دول العالم إلى منطقة زمنية :	أ- 22 منطقة	ب- 23 منطقة	ج- 24 منطقة	د- 25 منطقة
10	تعد اللغة هي أثرى اللغات وأكملها في المعاني والألفاظ وهي لغة القرآن الكريم :	أ- اللغة الفرنسية	ب- اللغة الإنجليزية	ج- اللغة العربية	د- اللغة الصينية

السؤال الثاني

4 درجات

صل المجموعة (أ) بما يناسبها من المجموعة (ب) باستعمال الأرقام :

الرقم	المجموعة { أ }	الرقم	المجموعة (ب)
1-	من نتائج دوران الارض حول نفسها		حدوث الفصول الاربعة
2-	من نتائج دوران الارض حول الشمس		24 ساعة
3-	مدة حركة الارض حول الشمس		تعاقب الليل والنهار
4-	مدة حركة الارض حول نفسها		سنة كاملة

6 درجات

السؤال الثالث

ضع علامة (√) أمام العبارة الصحيحة و علامة (x) أمام العبارة الخاطئة فيما يلي :

- 1- الحضارة هي تفاعل المجموعات البشرية مع البيئة المحيطة بها . ()
- 2- اقرب الكواكب للشمس هو المريخ . ()
- 3- اول راند فضاء عربي مسلم هو صاحب السمو الملكي الامير سلطان بن سلمان . ()
- 4- قامت حضارة بلاد الرافدين على نهر النيل . ()
- 5- أكبر المحيطات مساحة هو المحيط الهادي . ()
- 6- أول بيت وضع للناس على وجه الارض هو (الكعبة المشرفة) . ()

مع تمنياتي للجميع بالتوفيق

معلم المادة : محمد القرني



30 درجة

اسم الطالب رابعياً / الفصل:

(10 درجات)

السؤال الأول: اختر الإجابة الصحيحة فيما يلي بوضع دائرة حول الخيار المناسب:

1	هو كل ما يحيط بنا من نجوم ومجرات ومخلوقات حية :	أ- الكون	ب- درب التبانة	ج- الارض	د- الشمس
2	تعد أقدم الحضارات واطولها زمناً في تاريخ العالم :	أ- الحضارة اليونانية	ب- الحضارة الصينية	ج- الحضارة الفرعونية	د- الحضارة الإسلامية
3	يغطي الماء من سطح الارض مانسبته :	أ- 29%	ب- 45%	ج- 60%	د- 71%
4	شكل الارض :	أ- مربعة	ب- دائرة	ج- كروي	د- مسطحة
5	بنى المصريون القدماء الاهرامات وذلك لـ :	أ- يدفنوا موتاهم	ب- يسكنوها	ج- للعبادة	د- لاشيء مما ذكر
6	عدد كواكب مجموعتنا الشمسية :	أ- 10 كواكب	ب- 11 كوكب	ج- 8 كواكب	د- 6 كواكب
7	أكبر القارات مساحة :	أ- قارة أفريقيا	ب- قارة استراليا	ج- قارة أوروبا	د- قارة آسيا
8	الدائرة الرئيسية والكبرى من دوائر العرض ودرجتها صفر وتقسّم الكرة الأرضية الى قسمين شمالي وجنوبي هي :	أ- دائرة السرطان	ب- دائرة (خط الاستواء)	ج- الدائرة القطبية	د- دائرة الجدي
9	قسمت دول العالم الى منطقة زمنية :	أ- 22 منطقة	ب- 23 منطقة	ج- 24 منطقة	د- 25 منطقة
10	تعد اللغة هي أثرى اللغات وأكملها في المعاني والألفاظ وهي لغة القرآن الكريم :	أ- اللغة الفرنسية	ب- اللغة الانجليزية	ج- اللغة العربية	د- اللغة الصينية

(5 درجات)

السؤال الثاني: صل المجموعة الأولى بما يناسبها من المجموعة الثانية باستعمال الأرقام :

المجموعة الثانية	الرقم	المجموعة الأولى	الرقم
علم الكيمياء		بناء المراصد	1
علوم الطب		اختراع الصفر	2
علم الرياضيات		اختراع الادوية	3
علم الجغرافيا		تنقية المعادن	4
علم الفلك		رسم الخرائط	5

(8 درجات)

السؤال الثالث: ضع علامة (√) أمام العبارة الصحيحة و علامة (x) أمام العبارة الخاطئة فيما يلي :

1	اول رائد فضاء عربي مسلم هو صاحب السمو الملكي الامير سلطان بن سلمان
2	قامت حضارة بلاد الرافدين على نهر النيل
3	أول بيت وضع للناس على وجه الارض هو (الكعبة المشرفة)
4	ارتبطت الفنون والعمارة في الحضارة الاسلامية بالأمور الدينية
5	اقرب الكواكب للشمس هو المريخ
6	اهتم المسلمون بعلم التاريخ لارتباطه بغزوات النبي صلى الله عليه وسلم
7	ديوان الرسائل مهمته الفصل بين الخصومات بين الناس
8	حسن بن ثابت رضي الله (شاعر النبي صلى الله عليه وسلم)

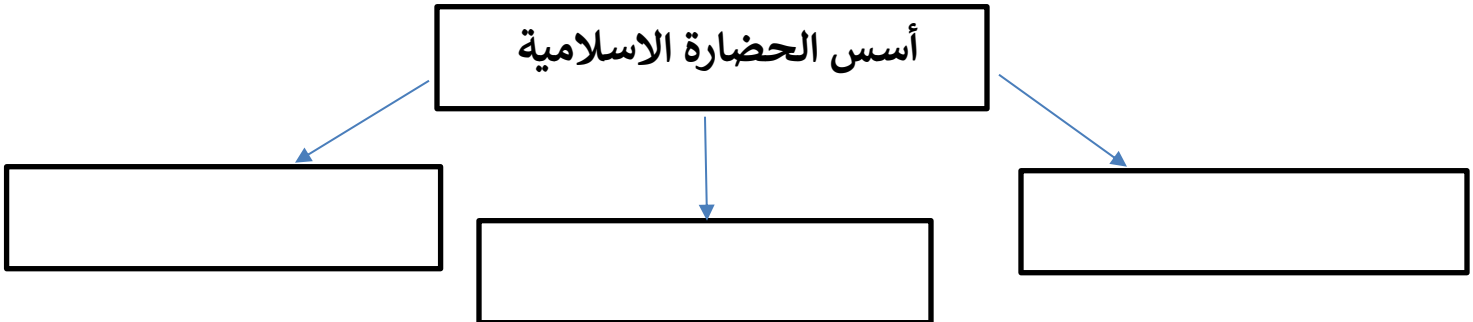
(4 درجات)

السؤال الرابع: للأرض حركتان (حول نفسها و حول الشمس) قارن بينهما وفق الجدول أدناه :

حركة الارض حول الشمس	وجه المقارنة	حركة الارض حول نفسها
	مدتها	
	نتائجها (واحدة فقط)	

(3 درجات)

السؤال الخامس : اكمل خريطة المفاهيم التالية :



مع تمنياتي للجميع بالتوفيق / معلم المادة : محمد القرني



10	الدرجة	اسم الطالب
----	--------	------------

(كل فقرة صحيحة بدرجة)

السؤال الأول : اختر الإجابة الصحيحة فيما يأتي بوضع دائرة

1	هي تفاعل المجموعات البشرية مع البيئة المحيطة بها و ماينتج عنها من أثر اجتماعي أو عمراي أو اقتصادي :	أ- الحضارة	ب- الخلافة	ج- الوزارة	د- البريد
2	اول بيت وضع للناس في الأرض :	أ- الاهرامات	ب- حدائق بابل	ج- الكعبة المشرفة	د- سور الصين
3	أقدم الحضارات على الارض :	أ- اليونانية	ب- الفرعونية	ج- الرومانية	د- الصينية
4	شاعر النبي محمد صلى الله عليه وسلم هو :	أ- حسان بن ثابت	ب- عنتره بن شداد	ج- جرير	د- الفرزدق
5	اهتم المسلمون بعلم الفلك وذلك بسبب ارتباطه الوثيق :	أ بصحة الانسان	ب بالأمور الشرعية	ج بالاقتصاد	د بالتجارة والزراعة
6	كل ما يأتي من أسس الحضارة الإسلامية ماعدا :	أ الاساس المالي	ب الاساس الديني	ج الاساس العلمي	د الاساس اللغوي

(كل فقرة صحيحة بنصف درجة)

السؤال الثاني : ضع الرقم امام المجموعة (أ) أمام مايناسبها من المجموعة (ب) ؟

الرقم	المجموعة { أ }	الرقم	المجموعة (ب)
1-	جابر بن حيان		علم النحو
2-	الادريسي		علم الرياضيات
3-	ابو الأسود الدؤلي		علم الكيمياء
4-	الخوارزمي		علم الجغرافيا و الخرائط

(كل فقرة صحيحة بنصف درجة)

السؤال الثالث ضع علامة (√) أمام العبارة الصحيحة و علامة (x) أمام العبارة الخاطئة فيما يلي

- الموقع و التضاريس من أهم عوامل قيام الحضارات . ()
- تقوم حكومة وطني بجهود عظيمة في خدمة الحرمين الشريفين . ()
- الفصل بين الناس في الخصومات من مهام (ديوان الرسائل) . ()
- البيعة و الشورى وفق القرآن و السنة هو منهج وطننا و قادتنا الرشيدة في المملكة العربية السعودية ()

متوسط	المرحلة	<p>المملكة العربية السعودية</p> <p>وزارة التعليم</p> <p>الإدارة العامة للتعليم</p> <p>بمحافظة.....</p> <p>مدرسة.....</p>
الأول متوسط	الصف	
الدراسات الاجتماعية	المادة	
الأولى	الوحدة	
		بنك الأسئلة لمادة: الدراسات الاجتماعية

١ اختاري الإجابة الصحيحة :

١	المجموعة الشمسية هي جزء من عدة مجموعات شمسية في مجرة درب التبانة وتتكون المجموعة الشمسية من .	(أ) الشمس وعطارد والكواكب	(ب) الشمس والنيازك وزحل	(ج) الشمس وعطارد وزحل	(د) الشمس والكواكب والتوابع
٢	يبلغ عدد كواكب المجموعة الشمسية ثمانية كواكب وتتشترك هذه الكواكب بخصائص منها .	(أ) أصغر حجماً وشكلاً	(ب) تدور حول نفسها	(ج) تقع في المنتصف	(د) تستمد الحرارة من الأرض
٣	هيا الله تعالى للإنسان وسائل العلم , فرأى صورة الأرض بشكلها الكروي فكان أول رائد فضاء مسلم الأمير .	(أ) سلطان بن سلمان	(ب) سلطان بن عبدالعزيز	(ج) سلطان بن فهد	(د) سلطان بن عبدالله
٤	كان تحديد موضع معين على سطح الكرة الأرضية أمراً صعباً وذلك بسبب	(أ) دوران الأرض	(ب) اختلاف الزمن	(ج) كبر المساحة	(د) انحراف الرياح
٥	تم تقسيم دول العالم إلى أربع وعشرين منطقة زمنية كل منطقة تعادل ١٥ درجة طولية وذلك .	(أ) تجنباً لاختلاف التوقيت داخل الدولة الواحدة	(ب) لتشابه التوقيت داخل حدود الدولة الواحدة	(ج) لوقوعها بين دائرتي عرض شمالية وجنوبية	(د) لاختلاف المناطق الحرارية
٦	تم تقسيم سطح الأرض إلى مناطق حرارية وذلك وفقاً لـ	(أ) تقسيم خطوط الطول إلى دوائر غير متساوية	(ب) اختلاف زاوية سقوط أشعة الشمس	(ج) تعامد أشعة الشمس على الدائرة القطبية الشمالية	(د) تقسيم الأرض إلى قسمين شمالي وجنوبي
٧	دوائر العرض ترسم على شكل الكرة الأرضية وتفيد في تحديد .	(أ) الزمن والمسافة	(ب) المناطق الحرارية	(ج) خط جرينتش	(د) الارتفاع والانخفاض
٨	عندما تكون الطائرة في الجو لا يشعر الركاب بحركتها رغم سرعتها وذلك لـ.	(أ) دوران الأرض بسرعة	(ب) انحراف الاجسام المتحركة	(ج) كبر حجمها وقوتها	(د) أنها تتجه بكامل محتوياتها
٩	تشترك خطوط الطول ودوائر العرض في تحديد .	(أ) الأقاليم المناخية على سطح الأرض	(ب) الموقع على سطح الكرة الأرضية	(ج) معرفة الزمن في مختلف جهات العالم	(د) التساوي في الأطوال والمنخفضات
١٠	تعد من أبرز مزايا خطوط الطول أنها .	(أ) الدائرة الرئيسية دائرة الاستواء	(ب) دائرة كاملة متوازية	(ج) أنصاف دوائر متساوية	(د) معرفة المناطق الحرارية على الأرض

سكان الأرض لا يشعرون بحركتها وذلك لأن حركتها .				١١
(أ) سريعة وحجم الأرض صغير	(ب) منتظمة وحجم الأرض كبير	(ج) محدودة تدور في الفضاء الداخلي	(د) ثقيلة تدور مع اتجاه عقارب الساعة	
يختلف الزمن على سطح الأرض وذلك نتيجة لدوران الأرض حول				١٢
(أ) المجرات	(ب) التوابع	(ج) الشمس	(د) نفسها	
أهم حركات الأرض حركة يومية حول نفسها من الغرب إلى الشرق نتج عنها .				١٣
(أ) تعاقب الليل والنهار	(ب) دورة الأرض حول الشمس	(ج) ميل المحور القطبي	(د) ثبات ميل المحور القطبي	
تحدث الفصول الأربعة على الأرض بانتظام ويرجع ذلك لعدة أسباب منها .				١٤
(أ) انحراف الرياح والتيارات المائية	(ب) تعاقب الليل والنهار	(ج) دورة الأرض حول الشمس	(د) ميل أشعة الشمس في النصف الشمالي	
تشكل مساحة اليابسة نسبة ٢٩٪ من مساحة سطح الأرض ومن أكبر القارات مساحة قارة .				١٥
(أ) آسيا	(ب) أوروبا	(ج) استراليا	(د) أمريكا	
تفاوت توزيع اليابسة والماء على سطح الأرض وذلك بسبب .				١٦
(أ) التجمعات الرملية	(ب) الأودية الجافة	(ج) اختلاف البحيرات	(د) تضرس الأرض	
ينقسم سطح الماء إلى عدة مسطحات واسعة وعميقة تحيط بكتل من اليابسة ومن أكبر المحيطات المحيط .				١٧
(أ) الهادئ	(ب) الأطلسي	(ج) الهندي	(د) المتجمد الشمالي	
تتشارك خصائص المجموعة الشمسية في .				١٨
(أ) قربها من الشمس	(ب) شكلها كروي	(ج) دورانها حول الكواكب	(د) صغر حجمها	
خط وهمي يرسم على شكل الكرة الأرضية من القطب إلى القطب				١٩
(أ) دوائر العرض	(ب) خطوط الطول	(ج) القطر الاستوائي	(د) القطر القطبي	
أقرب الكواكب الشمسية للشمس هو كوكب .				٢٠
(أ) عطارد	(ب) الزهرة	(ج) الأرض	(د) المريخ	
يحدث الصيف في شمال الكرة الأرضية عندما تتعامد أشعة الشمس على .				٢١
(أ) مدار الجدي	(ب) مدار السرطان	(ج) دائرة الاستواء	(د) خط جرينتش	
يحدث الشتاء عندما تسقط أشعتها مائلة في النصف الشمالي للأرض تكون الشمس عامودية على .				٢٢
(أ) مدار الجدي	(ب) مدار السرطان	(ج) دائرة الاستواء	(د) خط جرينتش	

٢] في الفقرات من (١) الى (٧) زاوجي بين المصطلحات في العمود الأول و المفاهيم في العمود الثاني :

المصطلحات	المفاهيم
(١) الشمس	(أ) أجسام صلبة معتمة تستمد من الشمس الحرارة والضوء
(٢) الكواكب	(ب) لخط الوهمي المستقيم المار بمركز الأرض
(٣) القطر القطبي	(ج) خط وهمي يرسم على شكل الكرة الأرضية من القطب الشمالي إلى القطب الجنوبي
(٤) القطر الاستوائي	(د) كل ما على وجه الكرة الأرضية من مرتفعات ومنخفضات كبرى
(٥) خطوط الطول	(هـ) دوائر وهمية ترسم على نموذج الكرة الأرضية والخرائط
(٦) دوائر العرض	(و) الخط الوهمي المستقيم الواصل بين القطبين والمار بمركز الأرض
(٧) سطح الأرض	(ز) نجم كروي غازي ملتهب يشع حرارة وضوء
	(س) كتلة صخرية كبيرة من الأرض مرتفعة عما جاورها

٣] ضعي علامة (صح) نهاية العبارة الصحيحة وعلامة (خطأ) نهاية العبارة الخاطئة فيما يلي :

- ١- مجموعتنا الشمسية جزء من عدة مجموعات شمسية توجد في مجرة درب التبانة .
- ٢- نجم كروي غازي ملتهب يشع حرارة وضوء و يدور حوله عدد من الكواكب يسمى بـ الكواكب .
- ٣- أجسام كروية صلبة معتمة تستمد من الشمس الحرارة والضوء تسمى بـ الشمس .
- ٤- جعل الله سبحانه وتعالى كوكب الأرض وسطاً بين كواكب المجموعة الشمسية .
- ٥- يقع كوكب الأرض في المرتبة العاشرة بالنسبة لقربه من الشمس .
- ٦- الخط الوهمي المستقيم الواصل بين القطبين والمار بمركز الأرض نطلق عليه بـ القطر القطبي .
- ٧- الخط الوهمي المستقيم والمار بمركز الأرض يسمى بـ القطر الاستوائي.
- ٨- أثبت العلماء بأن شكل الأرض كاملة الاستدارة .
- ٩- شكل الأرض كروي إلا أن أبعادها متساوية .
- ١٠- يمتد محور الأرض القطبي من الشمال إلى الجنوب .
- ١١- خطوط وهمية طولية ترسم على شكل الكرة الأرضية من القطب الشمالي إلى القطب الجنوبي تسمى بـ خطوط الطول .
- ١٢- دوائر عرضية ترسم على نموذج الكرة الأرضية والخرائط تسمى بـ دوائر العرض .
- ١٣- دوائر العرض دوائر كاملة متوازية ومتساوية في الطول .
- ١٤- تنفيذ دوائر العرض في تحديد المواقع على سطح الكرة الأرضية ومعرفة المناطق الحرارية .
- ١٥- كل ما على وجه الكرة الأرضية من مرتفعات ومنخفضات كبرى يسمى بـ سطح الأرض .
- ١٦- تشكل مساحة اليابسة بنسبة ٢٩٪ من مساحة سطح الأرض .
- ١٧- مسطح واسع وعميق من المياه المالحة يحيط بكتل اليابسة تسمى بـ المحيط .
- ١٨- أن مساحة سطح الماء تمثل أكثر من ثلثي مساحة الكرة الأرضية .
- ١٩- كل ما يحيط بنا من وجود يطلق عليه بـ الكون .
- ٢٠- يحتوي الكون على عدد من المجرات أشهرها مجرة درب التبانة التي تنتمي إليها مجموعتنا الشمسية .

متوسط	المرحلة	<p>المملكة العربية السعودية وزارة التعليم ادارة التعليم بمحافظة..... مدرسة.....</p>
الأول متوسط	الصف	
الدراسات الاجتماعية	المادة	
الثانية (الحضارات)	الوحدة	
		بنك الأسئلة لمادة: الدراسات الاجتماعية

١] اختاري الإجابة الصحيحة:

تفاعل المجموعات البشرية مع البيئة المحيطة بهم تسمى بـ :				١
(أ) الحضارة	(ب) القرون	(ج) التاريخ	(د) النهضة	
تقوم الحضارات على عدة عوامل أهمها:				٢
(أ) التضاريس والرياح	(ب) الموقع والتضاريس	(ج) المناخ والتربة	(د) الصخور والرياح	
أقدم الحضارات التي نشأت في بلاد ما بين النهرين في العراق هي حضارة:				٣
(أ) البابلية	(ب) المصرية	(ج) الصينية	(د) بلاد الرافدين	
من النظم السياسية في الإسلام نظام:				٤
(أ) الإمارة والدواوين والبيعة	(ب) البيعة والشورى والوزارة	(ج) الجيش والعسس والشورى	(د) الشرطة والبريد والخلافة	
يشمل النظام الإداري في الحضارة الإسلامية على:				٥
(أ) البيعة والوزارة	(ب) الإمارة والجيش	(ج) العلوم الشرعية والطبيعية	(د) رصد النجوم والفلك	
اتسعت رقعة الدولة الإسلامية في عهد الخليفة عمر بن الخطاب فقسم الدولة إلى أقاليم إدارية كبرى وذلك من أجل:				٦
(أ) تفويض من الخليفة للوزير	(ب) تنفيذ أوامر الخليفة	(ج) سهولة الحكم والإشراف عليها	(د) الدفاع على الإسلام	
نشأة الدواوين في عهد الخليفة عمر بن الخطاب رضي الله عنه وذلك بسبب:				٧
(أ) المعاونة والمساعدة	(ب) ضبط أحوالها	(ج) للاستكفاء والاستيلاء	(د) للتنظيم والكفاءة	
علم الحديث يعد المصدر ----- للتشريع الإسلامي:				٨
(أ) الأول	(ب) الثاني	(ج) الثالث	(د) الرابع	
تميزت الفنون الإسلامية بعدة مميزات أهمها:				٩
(أ) الارتباط بالدين الإسلامي	(ب) تنوع الأغراض العسكرية	(ج) تطور القطاع الاقتصادي	(د) نشأة القرى حول القلاع	
بناء المدن الإسلامية بسبب أغراض:				١٠
(أ) علميه وحضارية	(ب) اجتماعية وثقافية	(ج) سياسية وتجارية	(د) دينية وعسكرية	

اهتمام المسلمين بالزراعة بسبب:				١١
(د) تنوع المستوى المعيشي	(ج) انها المصدر الأول للإنسان	(ب) كثرة الثروات وتنوعها	(أ) استقرار الأمن والأمان	
ازدهار التجارة في الدولة الإسلامية بسبب:				١٢
(د) بعدها عن البحار	(ج) اختلاف المناخ	(ب) تنوع المحاصيل الزراعية	(أ) اكتمال رقي الدولة	

٢] في الفقرات من (١) الى (٦) زاوجي بين النتيجة في العمود الأول والسبب في العمود الثاني :

السبب	النتيجة
(أ) اتساع المساحة وتعدد الصناعات وتنوع المحاصيل	(١) نشأة الدواوين في عهد الخليفة عمر بن الخطاب
(ب) حتى يتم استخدامها في أغراض عسكرية أو اقتصادية أو دينية	(٢) ازدهار التجارة في الدولة الإسلامية
(ج) حفر القنوات وتجفيف المستنقعات	(٣) تسمية الشرطة بهذا الاسم
(د) لحماية حدود الدولة	(٤) اهتمام المسلمين بالزراعة
(هـ) المصدر الأول لغذاء الإنسان	(٥) بناء المدن الإسلامية
(و) نسبة إلى شريط قماش يوضع فوق الملابس لتمييزهم عن عامة الناس	(٦) بناء المسلمين للحصون والقلاع
(ز) لضبط أحوالها بعد اتساع رقعة الدولة الإسلامية	

٣] ضعي علامة (صح) نهاية العبارة الصحيحة وعلامة (خطأ) نهاية العبارة الخاطئة فيما يلي :

- ١- السومريون هم أول الشعوب التي سكنت العراق.
- ٢- بنى الفراعنة الأهرامات العميقة لدفن موتاهم.
- ٣- كان اليونانيون العدو الشرس للصينيين.
- ٤- تعدد اللغة العربية أثرى اللغات وأكملها في المعاني لكثرة مفرداتها ودقة تعبيرها.
- ٥- الحضارة الإسلامية أعم وأشمل الحضارات السابقة.
- ٦- وزارة التفويض أن يفوض الخليفة الوزير بتصريف معظم شؤون الدولة.
- ٧- وزارة التنفيذ أن ينفذ الوزير أوامر الخليفة فقط.

٤] عللي لما يأتي:

١- بنوا الصينيون جدار طويل يبلغ طوله ٨٨٥١ كم .

.....*

٢- الدين الإسلامي هو أساس التوازن بين أمور الدين والدنيا.

.....*

٣- تعدد اللغة العربية أثرى اللغات وأكملها في المعاني والألفاظ.

.....*

متوسط	المرحلة	الفصل الدراسي الأول – الفترة الثالثة العام الدراسي ١٤٤٧ هـ  وزارة التعليم Ministry of Education	المملكة العربية السعودية
الأول متوسط	الصف		وزارة التعليم
الدراسات الاجتماعية	المادة		ادارة التعليم بمحافظة.....
الثالثة	الوحدة		مدرسة.....
			بنك الأسئلة لمادة: الدراسات الاجتماعية

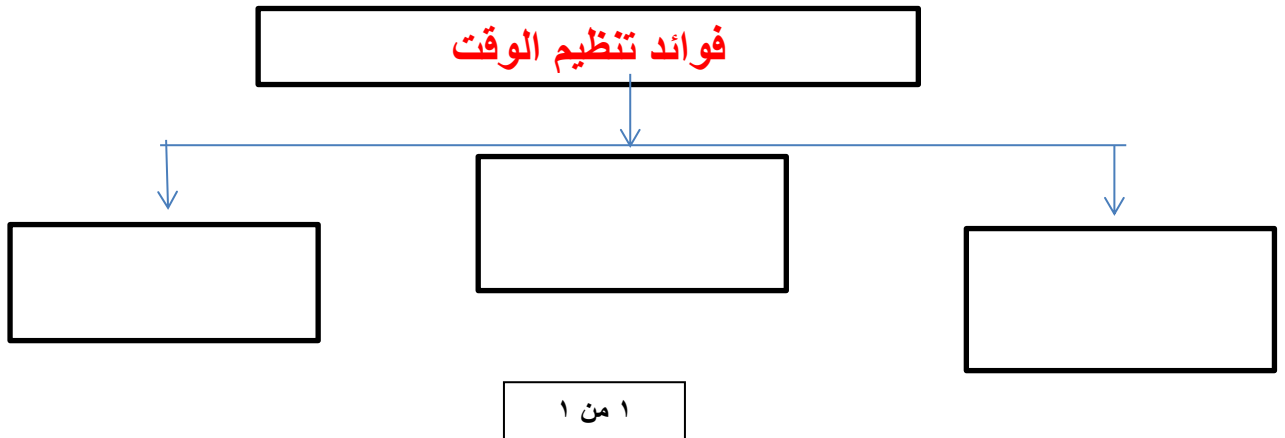
١] اختاري الإجابة الصحيحة :

مرحلة تحضيرية للعمل وخطوة ممنهجة ومنظمة لتحديد المهام والأعمال ومواعيد القيام بها وكيفية إنجازها يطلق عليها بـ	١		
(أ) التخطيط	(ب) الإنجاز	(ج) التطوير	(د) الطموح
يساعدنا التخطيط على تحقيق عدد من الأهداف منها :	٢		
(أ) هدر الوقت	(ب) النجاح والتفوق	(ج) ضياع الصحة	(د) ضعف الشخصية
فوائد تنظيم الوقت :	٣		
(أ) الحد من التوتر والقلق	(ب) تنظيم المكان وتهيئته	(ج) حصر الأعمال اليومية	(د) تصميم جدول الأعمال
ترتبط كيفية تنظيم الوقت بعدة خطوات أهمها :	٤		
(أ) اختيار الأسلوب	(ب) هدر الوقت	(ج) تسويق الأعمال	(د) ترتيب الأعمال
نتائج التخطيط :	٥		
(أ) اهدار الوقت	(ب) ضياع الصحة	(ج) تحقيق الأهداف	(د) عدم مواكبة التغيرات

٢] ضعي علامة (صح) نهاية العبارة الصحيحة وعلامة (خطأ) نهاية العبارة الخاطئة فيما يلي :

- ١- يؤدي التخطيط إلى النجاح .
- ٢- من فوائد تنظيم الوقت حصر الأعمال اليومية .
- ٣- من أسس التخطيط تنظيم الوقت .
- ٤- من نتائج التخطيط التوتر والقلق .

٣] ارسمي خارطة مفاهيم لفوائد تنظيم الوقت :



المادة : الدراسات الاجتماعية
الصف : الاول المتوسط
اختبار قصير
الفصل الدراسي الاول 1447هـ



المملكة العربية السعودية
وزارة التعليم
الإدارة العامة للتعليم بمنطقة
مدرسة

الاسم	الفصل	الدرجة
-------	-------	--------

المادة: الدراسات الاجتماعية
الوحدة الأولى: الكون والأرض
الزمن: 15 دقيقة

الصف: الأول المتوسط
الدرجة الكلية: 10 درجات

أولاً: اختر الإجابة الصحيحة (ضع دائرة حول الإجابة الصحيحة) - (5 درجات)

عدد كواكب المجموعة الشمسية هو:
أ) 7 ب) 8 ج) 9 د) 10

الكوكب الذي نعيش عليه هو:
أ) المشتري ب) المريخ ج) الأرض د) زحل

أول رائد فضاء عربي مسلم هو:
أ) يوري غاغارين ب) سلطان بن سلمان ج) نيل أرمسترونغ د) فالنتينا

خط الاستواء درجته:
أ) صفر ب) 23.5 ج) 66.5 د) 90

يحدث الصيف في نصف الكرة الشمالي عندما تتعامد الشمس على:
أ) مدار الجدي ب) خط الاستواء ج) مدار السرطان د) الدائرة القطبية

ثانياً: ضع علامة (✓) أمام العبارة الصحيحة وعلامة (X) أمام العبارة الخاطئة - (5 درجات)

الأرض تدور حول محورها في 24 ساعة. ()

المحيط الهادئ هو أصغر محيط على سطح الأرض. ()

من نتائج حركة الأرض حول الشمس حدوث الفصول الأربعة. ()

القارات تغطي 71% من سطح الأرض. ()

دوائر العرض تفيد في تحديد المناطق الحرارية. ()

المادة : الدراسات الاجتماعية
الصف : الاول المتوسط
اختبار قصير
الفصل الدراسي الاول 1447هـ



المملكة العربية السعودية
وزارة التعليم
الادارة العامة للتعليم بمنطقة
.....
مدرسة

الاسم	الفصل	الدرجة
-------	-------	--------

المادة: الدراسات الاجتماعية
الوحدة الثانية: الحضارات
الزمن: 15 دقيقة

أولاً: اختر الإجابة الصحيحة (ضع دائرة حول الإجابة الصحيحة) - (5 درجات)

الأساس الأول الذي قامت عليه الحضارة الإسلامية هو:
أ) الأساس اللغوي ب) الأساس العلمي ج) الأساس الديني د) الأساس الأخلاقي

اللغة التي اعتمدت عليها الحضارة الإسلامية وكانت وعاءً للعلم هي:
أ) الفارسية ب) اليونانية ج) العربية د) العبرية

من أبرز إنجازات المسلمين في علم الطب:
أ) بناء الأهرامات ب) اختراع الجبر ج) إنشاء المستشفيات د) بناء الأسطول البحري

من أشهر العلماء المسلمين في علم الكيمياء:
أ) جابر بن حيان ب) أرسطو ج) أفلاطون د) سقراط

من سمات الفنون الإسلامية:
أ) الاهتمام بالتماثيل البشرية ب) الزخارف الهندسية والنباتية ج) تصوير الآلهة د) كتابة النصوص اللاتينية

ثانياً: ضع علامة (√) أمام العبارة الصحيحة وعلامة (X) أمام العبارة الخطأ - (5 درجات)

من أبرز جوانب الحضارة الإسلامية العدل والتسامح والمساواة. ()

أول من أنشأ نظام الشرطة في الإسلام هو عمر بن الخطاب رضي الله عنه. ()

المسلمون هم أول من طوروا علم الجبر والأرقام. ()

ديوان الجند أنشئ لتنظيم أمور الزراعة في الدولة الإسلامية. ()

من أشهر المساجد التي شيدها المسلمون: الجامع الأموي في دمشق. ()

المادة : الدراسات الاجتماعية
الصف : الاول المتوسط
اختبار قصير
الفصل الدراسي الاول 1447هـ



المملكة العربية السعودية
وزارة التعليم
الادارة العامة للتعليم بمنطقة
.....
مدرسة

الاسم	الفصل	الدرجة
-------	-------	--------

الصف: الأول المتوسط
الدرجة الكلية: 10 درجات

المادة: الدراسات الاجتماعية
الوحدة الثانية: التخطيط
الزمن: 15 دقيقة

أولاً: اختر الإجابة الصحيحة (ضع دائرة حول الإجابة الصحيحة) - (5 درجات)

التخطيط هو:

أ) تنظيم الأعمال الماضية (ب) إعداد الأعمال المستقبلية وكيفية تنفيذها (ج) مراقبة الأعمال فقط (د) تسجيل الملاحظات اليومية

من أهداف التخطيط:

أ) إضاعة الوقت (ب) زيادة القلق (ج) النجاح والتفوق (د) النوم لساعات طويلة

من نتائج التخطيط الجيد:

أ) الفوضى في الأعمال (ب) التوتر المستمر (ج) الاستفادة من الوقت (د) ضياع الجهد

من أسس التخطيط السليم:

أ) إهمال الوقت (ب) تحديد الأهداف بوضوح (ج) ترك الأعمال دون تنظيم (د) الاعتماد على الصدفة

يرتبط التخطيط ارتباطاً وثيقاً بـ:

أ) الترفيه فقط (ب) تنظيم الوقت (ج) قلة المسؤولية (د) إهمال الواجبات

ثانياً: ضع علامة (✓) أمام العبارة الصحيحة وعلامة (X) أمام العبارة الخاطئة - (5 درجات)

من فوائد التخطيط الاستمتاع بالوقت والمحافظة على الصحة. ()

التخطيط يعتمد على الحظ فقط دون تحديد أهداف. ()

تنظيم الوقت جزء أساسي من التخطيط. ()

من خطوات تنظيم الوقت: حصر الأعمال اليومية وتصميم جدول لها. ()

من نتائج عدم التخطيط: الفوضى وضياع الجهد. ()

المادة : الدراسات الاجتماعية
الصف : الاول المتوسط
اختبار قصير
الفصل الدراسي الاول 1447هـ



المملكة العربية السعودية
وزارة التعليم
الادارة العامة للتعليم بمنطقة
.....
مدرسة

الاسم	الفصل	الدرجة
-------	-------	--------

المادة: الدراسات الاجتماعية
الصف: الأول المتوسط
الدرجة الكلية: 10 درجات

الوحدة الثانية: التخطيط
الزمن: 15 دقيقة

أولاً: اختر الإجابة الصحيحة (ضع دائرة حول الإجابة الصحيحة) - (5 درجات)

وُلد النبي محمد صلى الله عليه وسلم في عام:
أ) الفيل ب) الهجرة ج) الجماعة د) الرمادة

هاجر النبي محمد صلى الله عليه وسلم من مكة إلى:
أ) الطائف ب) المدينة المنورة ج) الكوفة د) الشام

من أبرز أسباب الهجرة إلى المدينة:
أ) البحث عن التجارة ب) اشتداد أذى قريش للمسلمين ج) إقامة الأسواق د) بناء القصور

من نتائج غزوة بدر الكبرى:
أ) انتصار المسلمين ب) هزيمة المسلمين ج) استسلام الروم د) فتح مكة

خطبة حجة الوداع أكدت على:
أ) وحدة الأمة والتمسك بالدين ب) بناء القصور ج) زيادة الأموال د) توسعة الأسواق

ثانياً: ضع علامة (√) أمام العبارة الصحيحة وعلامة (X) أمام العبارة الخطأ - (5 درجات)

شارك النبي صلى الله عليه وسلم في تجديد بناء الكعبة قبل بعثته. ()

أول ما نزل على النبي صلى الله عليه وسلم من القرآن قوله تعالى: (اقرأ). ()

من نتائج صلح الحديبية: دخول الناس في دين الله أفواجا. ()

بعد فتح مكة عاقب النبي صلى الله عليه وسلم قريش عقوبة شديدة. ()

توفي النبي محمد صلى الله عليه وسلم في السنة الحادية عشرة للهجرة. ()