

تم تحميل وعرض المادة من



موقع مادتي هو موقع تعليمي يعمل على مساعدة المعلمين والطلاب وأولياء الأمور في تقديم حلول الكتب المدرسية والاختبارات وشرح الدروس والملاحظات والتحاير وتوزيع المنهج لكل المراحل الدراسية بشكل واضح وسهل مجاناً بتصفح وعرض مباشر أونلاين وتحميل على موقع مادتي

حمل تطبيق مادتي ليصلك كل جديد



بسم الله الرحمن الرحيم

| | | |
|-----------------------------|---|--------------------------|
| المادة: الدراسات الاجتماعية |  | المملكة العربية السعودية |
| الصف: الرابع الابتدائي | | وزارة التعليم |
| الفصل الدراسي الأول ١٤٤٧ هـ | | إدارة تعليم |
| اختبار الوحدة الأولى أ | | مدرسة |

| |
|----|
| |
| ٢٠ |

اسم الطالب:

السؤال الأول : اختر الإجابة الصحيحة فيما يلي:

| | | | | |
|---|--|----------------|-----------------|-----------------|
| ١ | يقع وطني المملكة العربية السعودية في : | وسط العالم | شمال العالم | جنوب العالم |
| ٢ | من عناصر الجغرافيا : | البيئة | الأحداث | التبادل التجاري |
| ٣ | الخصائص والسمات التي يشترك فيها المجتمع السعودي: | الهوية الوطنية | الثقافة الوطنية | الشخصية الوطنية |
| ٤ | من عناصر الحكومة : | نظام الحكم | الأحداث | البيئة |
| ٥ | اليوم الوطني لبلادي يوافق يوم: | ١٥ يناير | ٣ مايو | ٢٣ سبتمبر |
| ٦ | علم وطني لونه : | أبيض | أصفر | أخضر |
| ٧ | من أسئلة التاريخ: | ماذا حدث | أين هو ؟ | كيف أنفق المال؟ |

السؤال الثاني: ضع علامة (√) أمام العبارة الصحيحة وعلامة (X) أمام العبارة الخاطئة:

| | | |
|---|--|-----|
| ١ | يحرص المواطنون في كل دولة على ثقافتهم لأنها تعزز وطنيتهم | () |
| ٢ | تفيدني دراسة التاريخ في معرفة تاريخ وطني | () |
| ٣ | من أعمالنا في اليوم الوطني رفع علم الوطن. | () |
| ٤ | يوم التأسيس هو يوم توحيد البلاد على يد الملك عبدالعزيز. | () |
| ٥ | من فروع الدراسات الاجتماعية الرياضيات | () |
| ٦ | من مكونات الثقافة في وطني اللغة والدين | () |
| ٧ | الشعار السعودي الرسمي هو سيفان متقاطعان و وسطها نخلة | () |
| ٨ | الحكومة في وطني مسؤولة عن كل مواطن | () |

السؤال الثالث: ضع الكلمات التالية في الفراغات المناسبة:

(العلم - ٢٢ فبراير - الأمير محمد بن سلمان - ملكي - توحيد البلاد)

| | |
|---|--|
| ١ | نظام الحكم في المملكة العربية السعودية هو |
| ٢ | رئيس مجلس الوزراء في المملكة العربية السعودية هو |
| ٣ | اليوم الوطني لبلادي هو يوم |
| ٤ | من الرموز الوطنية في المملكة العربية السعودية |
| ٥ | يوافق يوم التأسيس في كل عام |

موقع
مادنتيرا

بسم الله الرحمن الرحيم

المادة: الدراسات الاجتماعية

الصف: الرابع الابتدائي

الفصل الدراسي الأول ١٤٤٧ هـ

اختبار الوحدة الأولى أ

رؤية
2030

المملكة العربية السعودية

وزارة التعليم

نموذج الاجابة

٢٠

السؤال الأول : اختر الإجابة الصحيحة فيما يلي:

| | | | | |
|---|--|----------------|-----------------|-----------------|
| ١ | يقع وطني المملكة العربية السعودية في : | وسط العالم | شمال العالم | جنوب العالم |
| ٢ | من عناصر الجغرافيا : | البيئة | الأحداث | التبادل التجاري |
| ٣ | الخصائص والسمات التي يشترك فيها المجتمع السعودي: | الهوية الوطنية | الثقافة الوطنية | الشخصية الوطنية |
| ٤ | من عناصر الحكومة : | نظام الحكم | الأحداث | البيئة |
| ٥ | اليوم الوطني لبلادي يوافق يوم: | ١٥ يناير | ٣ مايو | ٢٣ سبتمبر |
| ٦ | علم وطني لونه : | أبيض | أصفر | أخضر |
| ٧ | من أسئلة التاريخ: | ماذا حدث | أين هو ؟ | كيف أنفق المال؟ |

السؤال الثاني: ضع علامة (✓) أمام العبارة الصحيحة وعلامة (X) أمام العبارة الخاطئة:

| | | |
|-----|---|--|
| (✓) | ١ | يحرص المواطنون في كل دولة على ثقافتهم لأنها تعزز وطنيتهم |
| (✓) | ٢ | تفيدني دراسة التاريخ في معرفة تاريخ وطني |
| (✓) | ٣ | من أعمالنا في اليوم الوطني رفع علم الوطن. |
| (X) | ٤ | يوم التأسيس هو يوم توحيد البلاد على يد الملك عبدالعزيز. |
| (X) | ٥ | من فروع الدراسات الاجتماعية الرياضيات |
| (✓) | ٦ | من مكونات الثقافة في وطني اللغة والدين |
| (✓) | ٧ | الشعار السعودي الرسمي هو سيفان متقاطعان و وسطها نخلة |
| (✓) | ٨ | الحكومة في وطني مسؤولة عن كل مواطن |

السؤال الثالث: ضع الكلمات التالية في الفراغات المناسبة:

(العلم - ٢٢ فبراير - الأمير محمد بن سلمان - ملكي - توحيد البلاد)

| | |
|---|---|
| ١ | نظام الحكم في المملكة العربية السعودية هو ملكي |
| ٢ | رئيس مجلس الوزراء في المملكة العربية السعودية هو .. الأمير محمد بن سلمان ... |
| ٣ | اليوم الوطني لبلادي هو يوم توحيد البلاد |
| ٤ | من الرموز الوطنية في المملكة العربية السعودية العلم |
| ٥ | يوافق يوم التأسيس في كل عام ٢٠٢٢ فبراير |

موقع
مادنتيرا

بسم الله الرحمن الرحيم

| | | |
|-----------------------------|---|--------------------------|
| المادة: الدراسات الاجتماعية |  | المملكة العربية السعودية |
| الصف: الرابع الابتدائي | | وزارة التعليم |
| الفصل الدراسي الأول ١٤٤٧ هـ | | إدارة تعليم |
| إختبار منتصف الفصل (الفترة) | | مدرسة |

| |
|----|
| |
| ٢٠ |

اسم الطالب:

السؤال الأول: ضع علامة (√) أمام العبارة الصحيحة وعلامة (X) أمام العبارة الخاطئة:

| | | |
|-----|----|---|
| () | ١ | يحرص المواطنون في كل دولة على ثقافتهم لأنها تعزز وطنيتهم |
| () | ٢ | الشعار السعودي الرسمي هو سيفان متقاطعان وسطهما نخلة |
| () | ٣ | تفيدني دراسة التاريخ في معرفة تاريخ وطني |
| () | ٤ | المؤرخ هو الشخص الذي يدرس الماضي ويكتب عنه |
| () | ٥ | المصادر نوعان : مصادر أولية ومصادر ثانوية |
| () | ٦ | الإشاعة هي نقل الكلام دون التثبت من صحته وهي ضارة على المجتمع |
| () | ٧ | كان الناس قديما يكتبون ويرسمون أحداثهم التاريخية على الجلد والحجر |
| () | ٨ | من الخدمات التي تقدمها حكومة وطني: تعمر الحرمين الشريفين وتخدم المسلمين |
| () | ٩ | من فروع الدراسات الاجتماعية الرياضيات |
| () | ١٠ | ينكس العلم السعودي مثل غيره من أعلام الدول الأخرى |

السؤال الثاني: ضع الكلمات التالية في الفراغات المناسبة:

(العلم - ٢٢ فبراير - الملك سلمان - ملكي - توحيد البلاد)

| | |
|---|--|
| ١ | نظام الحكم في المملكة العربية السعودية هو |
| ٢ | رئيس مجلس الوزراء في المملكة العربية السعودية هو |
| ٣ | اليوم الوطني لبلادي هو يوم |
| ٤ | من الرموز الوطنية في المملكة العربية السعودية |
| ٥ | يوافق يوم التأسيس في كل عام |

السؤال الثالث : إختار من المجموعة (أ) مايناسبها في المجموعة (ب) مستعينا " بالأرقام "

| المجموعة (ب) | الأرقام | المجموعة (أ) | |
|--------------------------------|---------|--------------------------------------|---|
| دراسة أحداث الماضي وتفسيرها | () | يقع وطني المملكة العربية السعودية في | ١ |
| أخضر | () | الوطن | ٢ |
| النظام الذي يدار به الوطن | () | الحكومة | ٣ |
| هو بقعة الأرض التي ننتمي إليها | () | علم وطني لونه | ٤ |
| قلب العالم | () | التاريخ هو | ٥ |

نموذج الإجابة

بسم الله الرحمن الرحيم

| | | |
|-----------------------------|---|------------------------|
| المادة: الدراسات الاجتماعية |  | الصف: الرابع الابتدائي |
| الفصل الدراسي الأول ١٤٤٧ هـ | | إدارة تعليم |
| إختبار منتصف الفصل (الفترة) | | مدرسة |
| | | |

| |
|----|
| ٢٠ |
| ٢٠ |

اسم الطالب:

السؤال الأول: ضع علامة (√) أمام العبارة الصحيحة وعلامة (X) أمام العبارة الخاطئة:

| | | |
|---|----|---|
| ✓ | ١ | يحرص المواطنون في كل دولة على ثقافتهم لأنها تعزز وطنيتهم |
| ✓ | ٢ | الشعار السعودي الرسمي هو سيفان متقاطعان وسطهما نخلة |
| ✓ | ٣ | تفيدني دراسة التاريخ في معرفة تاريخ وطني |
| ✓ | ٤ | المؤرخ هو الشخص الذي يدرس الماضي ويكتب عنه |
| ✓ | ٥ | المصادر نوعان : مصادر أولية ومصادر ثانوية |
| ✓ | ٦ | الإشاعة هي نقل الكلام دون التثبت من صحته وهي ضارة على المجتمع |
| ✓ | ٧ | كان الناس قديما يكتبون ويرسمون أحداثهم التاريخية على الجلد والحجر |
| ✓ | ٨ | من الخدمات التي تقدمها حكومة وطني: تعمر الحرمين الشريفين وتخدم المسلمين |
| X | ٩ | من فروع الدراسات الاجتماعية الرياضيات |
| X | ١٠ | ينكس العلم السعودي مثل غيره من أعلام الدول الأخرى |

السؤال الثاني: ضع الكلمات التالية في الفراغات المناسبة:

(العلم - ٢٢ فبراير - الملك سلمان - ملكي - توحيد البلاد)

| | |
|---|---|
| ١ | نظام الحكم في المملكة العربية السعودية هو ملكي |
| ٢ | رئيس مجلس الوزراء في المملكة العربية السعودية هو الملك سلمان |
| ٣ | اليوم الوطني لبلادي هو يوم توحيد البلاد |
| ٤ | من الرموز الوطنية في المملكة العربية السعودية العلم |
| ٥ | يوافق يوم التأسيس في كل عام ٢٢ فبراير |

السؤال الثالث : إختتر من المجموعة (أ) مايناسبها في المجموعة (ب) مستعينا " بالأرقام "

| المجموعة (أ) | الأرقام | المجموعة (ب) |
|--------------|---------|--------------------------------------|
| ١ | ٥ | يقع وطني المملكة العربية السعودية في |
| ٢ | ٤ | الوطن |
| ٣ | ٣ | الحكومة |
| ٤ | ٢ | علم وطني لونه |
| ٥ | ١ | التاريخ هو |
| | | دراسة أحداث الماضي وتفسيرها |
| | | أخضر |
| | | النظام الذي يدار به الوطن |
| | | هو بقعة الأرض التي ننتمي إليها |
| | | قلب العالم |

المادة : اجتماعيات
الزمن : ٤٥ دقيقة
الفصل الدراسي : الاول

نموذج الاجابة

المملكة
و
ادارة

اختبار مادة اجتماعيات لصف الرابع الابتدائي الفترة الاولى لعام ١٤٤٧ هـ

٣٠

الصف :

اسم الطالبة:

| السؤال الأول : أ- إختاري الإجابة الصحيحة في كلا مما يأتي | ١٢ درجات |
|--|----------|
| ١ تولى الملك سلمان بن عبدالعزيز يحفظه الله الحكم في عام | |
| أ ١٤٣٦ ب ١٤٣٧ ج ١٤٣٨ د ١٤٣٩ | |
| ٢ علم وطني المملكة العربية السعودية هو | |
| أ اخضر ب احمر ج اصفر د ابيض | |
| ٣ هي أساليب حياة الناس وطريقة معيشتهم وتفاعلهم في المجتمع | |
| أ الثقافة الوطنية ب الاقتصاد ج التاريخ د البيئة | |
| ٤ الخصائص والسمات التي يتشارك فيها المجتمع ويظهر فيها حب الوطن والولاء لقيادته | |
| أ البيئة ب الآثار ج الهوية الوطنية د الروايات | |
| ٥ يقع وطني المملكة العربية السعودية في العالم | |
| أ جنوب ب وسط ج شمال د غرب | |
| ٦ يوم التأسيس لبلادي المملكة العربية السعودية | |
| أ ٢٢ فبراير ب ٢٣ فبراير ج ٢٤ فبراير د ٢٥ فبراير | |
| ٧ وطني بعد التوحيد | |
| أ امن وسلام ب مناطق متفرقه ج جهل د حروب | |
| ٨ من المصادر الثانوية | |
| أ الرسائل ب الآثار ج الصور د القصص | |
| ٩ كان الناس قديما يكتبون ويرسمون أحداثهم التاريخية على | |
| أ الجلد ب الخشب ج الحجر د جميع ما ذكر | |
| ١٠ اليوم الوطني لبلادي المملكة العربية السعودية | |
| أ ٢٣ سبتمبر ب ٢٢ سبتمبر ج ٢١ سبتمبر د ٢٠ سبتمبر | |
| ١١ يكون موقفي من الاشاعة | |
| أ اتجنب نشرها ب اتجاهلها ج استفسر عن صحتها د جميع ما ذكر | |

| ب- ضعي علامة (√) امام العبارة الصحيحة وعلامة ح (×) امام العبارة الخاطئة | ١٠ درجات |
|---|----------|
| ١ شعار المملكة العربية السعودية سيف واحد ونخله | × |
| ٢ وطني هو مهبط الوحي وقبلة المسلمين ومثوى نبينا محمد صل الله عليه وسلم | √ |
| ٣ وطني المملكة العربية السعودية دولة عربية إسلامية ذات سيادة تامة دينها الاسلام | √ |
| ٤ نظام الحكم في وطني المملكة العربية السعودية هو نظام ملكي | √ |
| ٥ مجلس الملك ومجلس ولي العهد مفتوحان لكل مواطن | √ |
| ٦ العدل أساس الحكم في وطني | √ |
| ٧ يتميز العلم السعودي انه لا ينكس أبدا لا حتوائه على كلمة التوحيد | √ |
| ٨ المؤرخ هو الشخص الذي يدرس الحاضر | × |
| ٩ الاشاعة هي نقل الكلام دون التثبت من صحته | √ |
| ١٠ السبب في التاريخ هو ما يؤدي إلى وقوع الحدث | √ |

| السؤال الثاني : أ- أختار المصطلح المناسب لكل مفهوم | ٥ درجات |
|---|---|
| المصادر – الخط الزمني– العلم– الوطن – الدراسات الاجتماعية | |
| المصطلح | المفهوم |
| الدراسات الاجتماعية | هي الدراسات التي تربط بالإنسان وسلوكه وقيمة بالبيئة الطبيعية |
| الوطن | هو بقعة الأرض التي ننتمي إليها ونفخر بها |
| العلم | هو رمز الدولة وهويتها نراه مرفوعا على المدارس والبيادين والسفارات |
| الخط الزمني | تخطيط يوضح الترتيب الزمني الذي وقعت فيه الاحداث |
| المصادر | هي المواد التي يستعين بها المؤرخ للحصول على الادلة |

| ب – أذكر ما يلي | ٤ درجات |
|-------------------------------------|---------|
| ١- من عناصر الجغرافيا | |
| ١ - البيئة ٢- الموقع | ٢ |
| ٢- من مكونات الثقافة | |
| ١ – الدين والقيم ٢- الحرف التقليدية | ٢ |

مع أطيب التمنيات لك بالتوفيق والنجاح الباهر
معلمة المادة /

بسم الله الرحمن الرحيم

| | | |
|------------------------------|---|--------------------------|
| المادة: الدراسات الاجتماعية |  | المملكة العربية السعودية |
| الصف: الرابع الابتدائي | | وزارة التعليم |
| الفصل الدراسي الأول ١٤٤٧ هـ | | إدارة تعليم |
| إختبار الوحدة الأولى نموذج ب | | مدرسة |

| |
|----|
| |
| ٢٠ |

اسم الطالب:

السؤال الأول : اختر الإجابة الصحيحة فيما يلي:

| | | | | |
|---|--|--------------------|-----------------|-----------------|
| ١ | من عناصر التاريخ : | الشخصيات | الموقع | الانتاج |
| ٢ | من عناصر الاقتصاد: | الموارد والاستهلاك | الحركة | الزمن |
| ٣ | أساليب حياة الناس وطريقة معيشتهم | الهوية الوطنية | الثقافة الوطنية | الشخصية الوطنية |
| ٤ | يوم التأسيس لبلادي يوافق يوم : | ١٥ يناير | ٢٥ مايو | ٢٢ فبراير |
| ٥ | عاصمة المملكة العربية السعودية هي مدينة: | جدة | مكة المكرمة | الرياض |
| ٦ | يقع المسجد الحرام في مدينة : | جدة | المدينة المنورة | مكة المكرمة |
| ٧ | (٥) من أسئلة الجغرافي..... | ماذا حدث؟ | أين هو؟ | كيف أنفق المال؟ |

السؤال الثاني: ضع علامة (√) أمام العبارة الصحيحة وعلامة (X) أمام العبارة الخاطئة:

| | |
|-----|---|
| () | الشعار السعودي الرسمي هو سيفان متقاطعان وسطهما نخلة |
| () | نظام الحكم في المملكة العربية السعودية نظام ملكي |
| () | في التاريخ اتعرف على الأحداث الوطنية وابطالها. |
| () | من الخدمات التي تقدمها حكومة وطني: تعمر الحرمين الشريفين وتخدم المسلمين |
| () | ينكس العلم السعودي مثل غيره من أعلام الدول الأخرى |
| () | الحكومة هي النظام الذي يدار به الوطن |
| () | من مكونات الثقافة في وطني العادات والتقاليد |

السؤال الثالث : إختتر من المجموعة (أ) مايناسبها في المجموعة (ب) مستعينا " بالأرقام"

| المجموعة (أ) | الارقام | المجموعة (ب) |
|--------------------------------------|---------|--------------------------------|
| يقع وطني المملكة العربية السعودية في | () | دراسة أحداث الماضي وتفسيرها |
| الوطن | () | الاقتصاد |
| الحكومة | () | النظام الذي يدار به الوطن |
| علم وطني لونه | () | هو بقعة الأرض التي ننتمي إليها |
| التاريخ هو | () | قلب العالم |
| من فروع الدراسات الاجتماعية | () | أخضر |

موقع مادتي

بسم الله الرحمن الرحيم

المادة: الدراسات الاجتماعية

رؤية VISION

المملكة العربية السعودية

الصف: الرابع الابتدائي

الفصل الدراسي الأول ١٤٤٧ هـ

إختبار الوحدة الأولى نموذج ب

نموذج الاجابة

٢٠

السؤال الأول : اختر الإجابة الصحيحة فيما يلي:

| | | | | |
|---|--|--------------------|-----------------|-----------------|
| ١ | من عناصر التاريخ : | الشخصيات | الموقع | الانتاج |
| ٢ | من عناصر الاقتصاد: | الموارد والاستهلاك | الحركة | الزمن |
| ٣ | أساليب حياة الناس وطريقة معيشتهم | الهوية الوطنية | الثقافة الوطنية | الشخصية الوطنية |
| ٤ | يوم التأسيس لبلادي يوافق يوم : | ١٥ يناير | ٢٥ مايو | ٢٢ فبراير |
| ٥ | عاصمة المملكة العربية السعودية هي مدينة: | جدة | مكة المكرمة | الرياض |
| ٦ | يقع المسجد الحرام في مدينة : | جدة | المدينة المنورة | مكة المكرمة |
| ٧ | (٥) من أسئلة الجغرافي..... | ماذا حدث؟ | أين هو؟ | كيف أنفق المال؟ |

السؤال الثاني: ضع علامة (√) أمام العبارة الصحيحة وعلامة (X) أمام العبارة الخاطئة:

| | | |
|-----|---|---|
| (✓) | ١ | الشعار السعودي الرسمي هو سيفان متقاطعان وسطهما نخلة |
| (✓) | ٢ | نظام الحكم في المملكة العربية السعودية نظام ملكي |
| (✓) | ٣ | في التاريخ اتعرف على الأحداث الوطنية وابطالها. |
| (✓) | ٤ | من الخدمات التي تقدمها حكومة وطني: تعمر الحرمين الشريفين وتخدم المسلمين |
| (X) | ٥ | ينكس العلم السعودي مثل غيره من أعلام الدول الأخرى |
| (✓) | ٦ | الحكومة هي النظام الذي يدار به الوطن |
| (✓) | ٧ | من مكونات الثقافة في وطني العادات والتقاليد |

السؤال الثالث : إختتر من المجموعة (أ) مايناسبها في المجموعة (ب) مستعينا " بالأرقام"

| المجموعة (ب) | الارقام | المجموعة (أ) | |
|--------------------------------|---------|--------------------------------------|---|
| دراسة أحداث الماضي وتفسيرها | (٥) | يقع وطني المملكة العربية السعودية في | ١ |
| الاقتصاد | (٦) | الوطن | ٢ |
| النظام الذي يدار به الوطن | (٣) | الحكومة | ٣ |
| هو بقعة الأرض التي ننتمي إليها | (٢) | علم وطني لونه | ٤ |
| قلب العالم | (١) | التاريخ هو | ٥ |
| أخضر | (٤) | من فروع الدراسات الاجتماعية | ٦ |

موقع مادتي

التاريخ : / ١٤٤٧ هـ
الفصل الدراسي الأول
اختبار الفترة الأولى



المملكة العربية السعودية
وزارة التعليم
الإدارة العامة للتعليم بمنطقة.....
مكتب التعليم بمحافظة.....
ابتدائية.....

اختبار مادة الدراسات الاجتماعية للصف الرابع الابتدائي لعام ١٤٤٧ هـ

اسم الطالب :

استعن بالله أولاً ، ثم أجب على الأسئلة الآتية وتأكد من إجابتك على جميع الأسئلة قبل تسليم ورقة الإجابة

| |
|----|
| |
| ١٠ |

السؤال الأول:

اختر الإجابة الصحيحة فيما يلي :

| | | | | |
|----|--|-------------|--------------------|-----------------|
| ١ | يقع وطني المملكة العربية السعودية في : | وسط العالم | شمال العالم | جنوب العالم |
| ٢ | من عناصر التاريخ : | الشخصيات | الموقع | الانتاج |
| ٣ | من عناصر الجغرافيا : | الأحداث | البيئة | التبادل التجاري |
| ٤ | من عناصر الاقتصاد: | الحركة | الموارد والاستهلاك | الزمن |
| ٥ | من عناصر الحكومة : | البيئة | الأحداث | نظام الحكم |
| ٦ | يوم التأسيس لبلادي يوافق يوم : | ١٥ يناير | ٢٥ مايو | ٢٢ فبراير |
| ٧ | اليوم الوطني لبلادي يوافق يوم: | ٢٣ سبتمبر | ٣ مايو | ١٥ يناير |
| ٨ | علم وطني لونه : | أخضر | أصفر | أبيض |
| ٩ | عاصمة المملكة العربية السعودية هي مدينة: | الرياض | مكة المكرمة | جدة |
| ١٠ | يقع المسجد الحرام في مدينة : | مكة المكرمة | المدينة المنورة | جدة |

السؤال الثاني:

١٠

ضع علامة (√) أمام الإجابة الصحيحة وعلامة (x) أمام الإجابة الخاطئة :

١. نظام الحكم في المملكة العربية السعودية نظام ملكي . ()
٢. من طرق المحافظة على العلم الوطني السعودي رفعه عاليا . ()
٣. ينكس العلم السعودي مثل غيره من أعلام الدول الأخرى. ()
٤. الشعار السعودي الرسمي هو سيفان متقاطعان وسطهما نخلة. ()
٥. من الرموز الوطنية في المملكة العربية السعودية العلم . ()
٦. مما نعمله في اليوم الوطني تخريب الممتلكات العامة. ()
٧. النشيد الوطني هو النشيد الرسمي للمملكة العربية السعودية . ()
٨. من فروع الدراسات الاجتماعية الرياضيات ()
٩. يحرص المواطنون في كل دولة على ثقافتهم لأنها تعزز وطنيتهم. ()
١٠. الحكومة : النظام الذي يدار به الوطن ()

تمنياتي لكم بالتوفيق والنجاح ...

موقع مادتي

التاريخ : / / ١٤٤٧ هـ
الفصل الدراسي الأول
اختبار الفترة الأولى



المملكة العربية السعودية
وزارة التعليم
الإدارة العامة للتعليم بمنطقة.....
مكتب التعليم بمحافظة.....
ابتدائية.....

اختبار مادة الدراسات الاجتماعية للصف الرابع الابتدائي لعام ١٤٤٧ هـ

نموذج الإجابة

اسم الطالب

نيل تسليم ورقة الإجابة

استعن بالله أو

السؤال الأول:

١٠

اختر الإجابة الصحيحة فيما يلي :

| | | | | |
|----|--|-------------|--------------------|-----------------|
| ١ | يقع وطني المملكة العربية السعودية في : | وسط العالم | شمال العالم | جنوب العالم |
| ٢ | من عناصر التاريخ : | الشخصيات | الموقع | الانتاج |
| ٣ | من عناصر الجغرافيا : | الأحداث | البيئة | التبادل التجاري |
| ٤ | من عناصر الاقتصاد: | الحركة | الموارد والاستهلاك | الزمن |
| ٥ | من عناصر الحكومة : | البيئة | الأحداث | نظام الحكم |
| ٦ | يوم التأسيس لبلادي يوافق يوم : | ١٥ يناير | ٢٥ مايو | ٢٢ فبراير |
| ٧ | اليوم الوطني لبلادي يوافق يوم: | ٢٣ سبتمبر | ٣ مايو | ١٥ يناير |
| ٨ | علم وطني لونه : | أخضر | أصفر | أبيض |
| ٩ | عاصمة المملكة العربية السعودية هي مدينة: | الرياض | مكة المكرمة | جدة |
| ١٠ | يقع المسجد الحرام في مدينة : | مكة المكرمة | المدينة المنورة | جدة |

السؤال الثاني:

١٠

ضع علامة (√) أمام الإجابة الصحيحة وعلامة (x) أمام الإجابة الخاطئة :

١. نظام الحكم في المملكة العربية السعودية نظام ملكي . (✓)
٢. من طرق المحافظة على العلم الوطني السعودي رفعه عاليا . (✓)
٣. ينكس العلم السعودي مثل غيره من أعلام الدول الأخرى. (✗)
٤. الشعار السعودي الرسمي هو سيفان متقاطعان وسطهما نخلة. (✓)
٥. من الرموز الوطنية في المملكة العربية السعودية العلم . (✓)
٦. مما نعمله في اليوم الوطني تخريب الممتلكات العامة. (✗)
٧. النشيد الوطني هو النشيد الرسمي للمملكة العربية السعودية . (✓)
٨. من فروع الدراسات الاجتماعية الرياضيات (✗)
٩. يحرص المواطنون في كل دولة على ثقافتهم لأنها تعزز وطنيتهم. (✓)
١٠. الحكومة : النظام الذي يدار به الوطن (✓)

تمنياتي لكم بالتوفيق والنجاح ...

موقع
مادنتري

الاسم الفصل.....

السؤال الأول : ضعي علامة (✓) امام العبارة الصحيحة وعلامة (x) امام العبارة الخاطئة فيما يلي:

| | |
|--|---------|
| 1. الدراسات الاجتماعية هي علوم تساعدني على فهم جوانب كثيرة في الحياة | (.....) |
| 2. نستفيد من علم التاريخ بفهم التضاريس والخرائط | (.....) |
| 3. تقع مكة المكرمة في وطني المملكة العربية السعودية | (.....) |
| 4. وطني المملكة العربية السعودية مهبط الوحي | (.....) |
| 5. الهوية الوطنية لا يظهر فيها حب الوطن | (.....) |
| 6. البيعة هي المبايعة على السمع والطاعة، وتكون في الخفاء | (.....) |
| 7. المملكة العربية السعودية دولة عربية إسلامية، ذات سيادة تامة | (.....) |
| 8. ينكس العلم السعودي مثل غيرة من اعلام الدول الاخرى | (.....) |
| 9. الشعار الرسمي للملكة العربية السعودية هو سيفان متقاطعين وسطهما نخلة | (.....) |
| 10. عاصمة المملكة العربية السعودية هي الرياض | (.....) |

السؤال الثاني: اختاري الإجابة الصحيحة وضعي عليها دائرة :

| |
|--|
| 1. هو رمز الدولة وهويتها، نراه مرفوعا على المدارس والبيادين (الشعار - العلم - البرج) |
| 2. علم وطني لونه (احمر - اخضر - اصفر) |
| 3. يحتوي علم المملكة العربية السعودية على السيف الدال على (النماء - الحق - الخير) |
| 4. هو بقعة الارض التي ننتمي اليها (الجزيرة - الوطن - المدينة) |
| 5. النظام الذي يدار به الوطن هو (البنك - الحكومة - الشرطة) |

السؤال الثالث : اختاري الإجابة الصحيحة :

ماذا تقدم حكومة وطني؟ (الإسلام - الحرمين الشريفين)

1. تحمي عقيدة
2. تعمر وتخدم المسلمين .

السؤال الرابع : صل المجموعة (أ) بما يناسبها من المجموعة (ب)

| | |
|---|--|
| الشخصيات | من فروع الدراسات الاجتماعية |
| التاريخ - الجغرافية - الاقتصاد- الحكومة | من عناصر التاريخ |
| ملكي | نظام الحكم في المملكة العربية السعودية |

أتمنى لكم التوفيق

المعلمة/

نموذج الإجابة

الاسم .

السؤال الأول : ضعي علامة (✓) امام العبارة الصحيحة وعلامة (x) امام العبارة الخاطئة فيما يلي:

| | |
|-----------|--|
| (...✓...) | 1. الدراسات الاجتماعية هي علوم تساعدني على فهم جوانب كثيرة في الحياة |
| (...X...) | 2. نستفيد من علم التاريخ بفهم التضاريس والخرائط |
| (...✓...) | 3. تقع مكة المكرمة في وطني المملكة العربية السعودية |
| (...✓...) | 4. وطني المملكة العربية السعودية مهبط الوحي |
| (...X...) | 5. الهوية الوطنية لا يظهر فيها حب الوطن |
| (...X...) | 6. البيعة هي المبايعة على السمع والطاعة، وتكون في الخفاء |
| (...✓...) | 7. المملكة العربية السعودية دولة عربية إسلامية، ذات سيادة تامة |
| (...X...) | 8. ينكس العلم السعودي مثل غيرة من اعلام الدول الاخرى |
| (...✓...) | 9. الشعار الرسمي للملكة العربية السعودية هو سيفان متقاطعين وسطهما نخلة |
| (...✓...) | 10. عاصمة المملكة العربية السعودية هي الرياض |

السؤال الثاني: اختاري الإجابة الصحيحة وضعي عليها دائرة : ○

| |
|--|
| 1. هو رمز الدولة وهويتها، نراه مرفوعا على المدارس والبيادين (الشعار - العلم - البرج) |
| 2. علم وطني لونه (احمر - اخضر - اصفر) |
| 3. يحتوي علم المملكة العربية السعودية على السيف الدال على (النماء - الحق - الخير) |
| 4. هو بقعة الارض التي ننتمي اليها (الجزيرة - الوطن - المدينة) |
| 5. النظام الذي يدار به الوطن هو (البنك - الحكومة - الشرطة) |

السؤال الثالث : اختاري الإجابة الصحيحة :

ماذا تقدم حكومة وطني؟ (الإسلام - الحرمين الشريفين)

1. تحمي عقيدة الإسلام
2. تعمر الحرمين...الشريفين وتخدم المسلمين .

السؤال الرابع : صل المجموعة (أ) بما يناسبها من المجموعة (ب)

| | |
|---|--|
| الشخصيات | من فروع الدراسات الاجتماعية |
| التاريخ - الجغرافية - الاقتصاد- الحكومة | من عناصر التاريخ |
| ملكي | نظام الحكم في المملكة العربية السعودية |

أتمنى لكم التوفيق

المعلمة/

الاختبار الفتره الأولى لمادة الاجتماعيات الصف الرابع الفصل الأول

الأسم : الصف /

السؤال الأول: اختر الإجابة الصحيحة لكل فقرة من الفقرات التالية:

| | | | | | |
|----|---|------------------------------|-------------------------------------|--|---------------------|
| ١ | ما هو العلم الذي يهتم بدراسة الأحداث والشخصيات في الماضي؟ | التاريخ | البشرية | الاقتصاد | الحكومة |
| ٢ | دراسة موقع وطننا على الخريطة والبيئة المحيطة به هو جزء من علم | التاريخ | الجغرافيا | المواطنة | الاقتصاد |
| ٣ | أي فرع من فروع الدراسات الاجتماعية يعلمنا عن كيفية كسب المال وإنفاقه؟ | التاريخ | البحار والمحيطات | الاقتصاد | الحكومة |
| ٤ | ما عاصمة المملكة العربية السعودية | جده | الدمام | تبوك | الرياض |
| ٥ | الشخص الذي يدرس الماضي ويكتب عنه يسمى | المؤرخ | المهندس | الطبيب | المعلم |
| ٦ | ما الفائدة الأساسية من دراسة تاريخ وطننا؟ | لمعرفة أسماء المدن فقط | لنفهم ماضيه ونفخر به ونعرف كيف تطور | لنقرأ قصصاً مسلية | للعب والتسلية |
| ٧ | ما هو التصرف الصحيح عند وصول رسالة لك تحتوي على خبر غير مؤكد؟ | إرسالها لجميع الأصدقاء بسرعة | تصديقها فوراً | حذفها وعدم نشرها والتأكد من مصدر موثوق | تعديل الخبر ثم نشره |
| ٨ | نقل الكلام دون التأكد من صحته يسمى | بجحاً تاريخياً | رواية | اثار | إشاعة |
| ٩ | مجموعة الخصائص والسمات التي يتشارك فيها المجتمع السعودي تسمى | الهوية الوطنية | الثقافة الشعبية | العادات والتقاليد | المعالم التاريخية |
| ١٠ | أي من التالي يعد من مكونات الثقافة الوطنية؟ | أجهزة الحاسب | القهوة السعودية | اللغة | السيارات |

السؤال الثاني :

حدد كلمة صح أو خطأ لكل فقرة من الفقرات الآتية:

| | | | |
|----|--|--------------------------|---------------------------|
| ١ | يقع وطني المملكة العربية السعودية في قلب العالم | <input type="radio"/> صح | <input type="radio"/> خطأ |
| ٢ | سؤال "لماذا حدث؟" يساعدنا على فهم أسباب وقوع الأحداث التاريخية | <input type="radio"/> صح | <input type="radio"/> خطأ |
| ٣ | الاعتزاز بتاريخ وطننا وتراثه يقوي هويتنا الوطنية | <input type="radio"/> صح | <input type="radio"/> خطأ |
| ٤ | نظام الحكم في وطني المملكة العربية السعودية ملكي | <input type="radio"/> صح | <input type="radio"/> خطأ |
| ٥ | البيعة تكون للملك وولي العهد على القرآن الكريم والسنة النبوية | <input type="radio"/> صح | <input type="radio"/> خطأ |
| ٦ | لغة المملكة العربية السعودية الرسمية هي اللغة الإنجليزية | <input type="radio"/> صح | <input type="radio"/> خطأ |
| ٧ | يوافق التاريخ 23 سبتمبر اليوم الوطني للمملكة العربية السعودية؟ | <input type="radio"/> صح | <input type="radio"/> خطأ |
| ٨ | يرمز السيفان المتقاطعان في الشعار الوطني إلى النماء والرخاء | <input type="radio"/> صح | <input type="radio"/> خطأ |
| ٩ | نحتفل بيوم التأسيس في 22 فبراير من كل عام | <input type="radio"/> صح | <input type="radio"/> خطأ |
| ١٠ | من واجبنا احترام رموزنا الوطنية كالعلم والنشيد الوطني | <input type="radio"/> صح | <input type="radio"/> خطأ |

انتهت الأسئلة ،،،،

موقع
مادنتير

نموذج الاجابة

المادة الدراسات الاجتماعية.

الرابع



مدرسة العقيق الاهلية الابتدائي - بنين

الاختبار الفتره الأولى لمادة الاجتماعيات الصف الرابع الفصل الأول

الأسم : الصف /

السؤال الأول: اختر الإجابة الصحيحة لكل فقرة من الفقرات التالية:

| | | | | | |
|----|---|------------------------------|-------------------------------------|--|---------------------|
| ١ | ما هو العلم الذي يهتم بدراسة الأحداث والشخصيات في الماضي؟ | التاريخ | البشرية | الاقتصاد | الحكومة |
| ٢ | دراسة موقع وطننا على الخريطة والبيئة المحيطة به هو جزء من علم | التاريخ | الجغرافيا | المواطنة | الاقتصاد |
| ٣ | أي فرع من فروع الدراسات الاجتماعية يعلمنا عن كيفية كسب المال وإنفاقه؟ | التاريخ | البحار والمحيطات | الاقتصاد | الحكومة |
| ٤ | ما عاصمة المملكة العربية السعودية | جده | الدمام | تبوك | الرياض |
| ٥ | الشخص الذي يدرس الماضي ويكتب عنه يسمى | المؤرخ | المهندس | الطبيب | المعلم |
| ٦ | ما الفائدة الأساسية من دراسة تاريخ وطننا؟ | لمعرفة أسماء المدن فقط | لنفهم ماضيه ونفخر به ونعرف كيف تطور | لنقرأ قصصاً مسلية | للعب والتسلية |
| ٧ | ما هو التصرف الصحيح عند وصول رسالة لك تحتوي على خبر غير مؤكد؟ | إرسالها لجميع الأصدقاء بسرعة | تصديقها فوراً | حذفها وعدم نشرها والتأكد من مصدر موثوق | تعديل الخبر ثم نشره |
| ٨ | نقل الكلام دون التأكد من صحته يسمى | بجحاً تاريخياً | رواية | اثر | إشاعة |
| ٩ | مجموعة الخصائص والسمات التي يتشارك فيها المجتمع السعودي تسمى | الهوية الوطنية | الثقافة الشعبية | العادات والتقاليد | المعالم التاريخية |
| ١٠ | أي من التالي يعد من مكونات الثقافة الوطنية؟ | أجهزة الحاسب | القهوة السعودية | اللغة | السيارات |

السؤال الثاني :

حدد كلمة صح أو خطأ لكل فقرة من الفقرات الآتية:

| | | | |
|--------------------------------------|-------------------------------------|--|----|
| خطأ <input type="radio"/> | صح <input checked="" type="radio"/> | يقع وطني المملكة العربية السعودية في قلب العالم | ١ |
| خطأ <input type="radio"/> | صح <input checked="" type="radio"/> | سؤال "لماذا حدث؟" يساعدنا على فهم أسباب وقوع الأحداث التاريخية | ٢ |
| خطأ <input type="radio"/> | صح <input checked="" type="radio"/> | الاعتزاز بتاريخ وطننا وتراثه يقوي هويتنا الوطنية | ٣ |
| خطأ <input type="radio"/> | صح <input checked="" type="radio"/> | نظام الحكم في وطني المملكة العربية السعودية ملكي | ٤ |
| خطأ <input type="radio"/> | صح <input checked="" type="radio"/> | البيعة تكون للملك وولي العهد على القرآن الكريم والسنة النبوية | ٥ |
| خطأ <input checked="" type="radio"/> | صح <input type="radio"/> | لغة المملكة العربية السعودية الرسمية هي اللغة الإنجليزية | ٦ |
| خطأ <input type="radio"/> | صح <input checked="" type="radio"/> | يوافق التاريخ 23 سبتمبر اليوم الوطني للمملكة العربية السعودية؟ | ٧ |
| خطأ <input checked="" type="radio"/> | صح <input type="radio"/> | يرمز السيفان المتقاطعان في الشعار الوطني إلى النماء والرخاء | ٨ |
| خطأ <input type="radio"/> | صح <input checked="" type="radio"/> | نحتفل بيوم التأسيس في 22 فبراير من كل عام | ٩ |
| خطأ <input type="radio"/> | صح <input checked="" type="radio"/> | من واجبنا احترام رموزنا الوطنية كالعلم والنشيد الوطني | ١٠ |

انتهت الأسئلة

موقع
مادنتري

اختبار أعمال السنة لمادة الدراسات الاجتماعية للصف الرابع الابتدائي لعام ١٤٤٧ هـ

اسم الطالبة : الصف :

السؤال الأول

اختاري الإجابات الصحيحة من بين الخيارات التالية:

| | | |
|----|--|-------------------|
| ١ | الفنون الشعبية تعتبر مكون من مكونات: | |
| | أ_ الثقافة الوطنية | ب_ الرموز الوطنية |
| | ج_ الوطن | |
| ٢ | نظام الحكم في المملكة العربية السعودية نظام : | |
| | أ_ أميري | ب_ ملكي |
| | ج_ دستوري | |
| ٣ | عاصمة المملكة العربية السعودية هي مدينة : | |
| | أ_ مكة المكرمة | ب_ الرياض |
| | ج_ الطائف | |
| ٤ | هو الشخص الذي يدرس الماضي، ويكتب عنه يسمى : | |
| | أ_ المؤرخ | ب_ الجغرافي |
| | ج_ السياسي | |
| ٥ | علم وطني لونه : | |
| | أ_ أحمر | ب_ أزرق |
| | ج_ أخضر | |
| ٦ | من عناصر الجغرافيا : | |
| | أ_ الانتاج | ب_ الموقع |
| | ج_ الهوية | |
| ٧ | متى حدث من أسئلة : | |
| | أ_ التاريخ | ب_ الرياضيات |
| | ج_ الجغرافيا | |
| ٨ | يقع المسجد الحرام في : | |
| | أ_ مكة المكرمة | ب_ الطائف |
| | ج_ المدينة المنورة | |
| ٩ | هو بقعة الأرض التي ننتمي إليها : | |
| | أ_ الحكومة | ب_ الوطن |
| | ج_ الهوية | |
| ١٠ | رمز الدولة وهويتها ، نراه مرفوعاً على الميادين والمدارس والوزارات والسفارات: | |
| | أ_ الشعار الوطني | ب_ النشيد الوطني |
| | ج_ العلم | |

السؤال الثاني

أ () ضع علامة (✓) أمام العبارة الصحيحة وعلامة (✕) أمام العبارة الخاطئة فيما يلي :


| العبارة | العلامة |
|---|---------|
| ١) من فروع الدراسات الاجتماعية الرياضيات. | |
| ٢) يشبه عمل المؤرخ عمل رجل الأمن. | |
| ٣) يقع وطني المملكة العربية السعودية في قلب العالم. | |
| ٤) العلم السعودي لا ينعكس أبداً. | |

ب () ضع الكلمة المناسبة في الفراغ المناسب :

الشعار الوطني _ ٢٣ سبتمبر _ الحكومة _ التاريخ

- ١/ هو دراسة أحداث الماضي وتفسيرها
- ٢/ يوافق اليوم الوطني السعودي في كل عام.
- ٣/ هو النظام الذي يدار به الوطن
- ٤/ من الرموز الوطنية في المملكة العربية السعودية

ج () صل بين الصورة والوصف المناسب لها بالاستعانة بالأرقام:



١- رمز الحق

٢- رمز النماء

نموذج الإجابة

اختبار أعمال السنة لمادة الدراسات الاجتماعية للصف الرابع الابتدائي لعام ١٤٤٧هـ

اسم الطالبة : الصف :

السؤال الأول

اختاري الإجابات الصحيحة من بين الخيارات التالية:

| | | |
|----|--|-------------------|
| ١ | الفنون الشعبية تعتبر مكون من مكونات: | |
| | أ- الثقافة الوطنية | ب- الرموز الوطنية |
| | ج- الوطن | |
| ٢ | نظام الحكم في المملكة العربية السعودية نظام : | |
| | أ- أميري | ب- ملكي |
| | ج- دستوري | |
| ٣ | عاصمة المملكة العربية السعودية هي مدينة : | |
| | أ- مكة المكرمة | ب- الرياض |
| | ج- الطائف | |
| ٤ | هو الشخص الذي يدرس الماضي، ويكتب عنه يسمى : | |
| | أ- المؤرخ | ب- الجغرافي |
| | ج- السياسي | |
| ٥ | علم وطني لونه : | |
| | أ- أحمر | ب- أزرق |
| | ج- أخضر | |
| ٦ | من عناصر الجغرافيا : | |
| | أ- الانتاج | ب- الموقع |
| | ج- الهوية | |
| ٧ | متى حدث من أسئلة : | |
| | أ- التاريخ | ب- الرياضيات |
| | ج- الجغرافيا | |
| ٨ | يقع المسجد الحرام في : | |
| | أ- مكة المكرمة | ب- الطائف |
| | ج- المدينة المنورة | |
| ٩ | هو بقعة الأرض التي ننتمي إليها : | |
| | أ- الحكومة | ب- الوطن |
| | ج- الهوية | |
| ١٠ | رمز الدولة وهويتها ، نراه مرفوعاً على الميادين والمدارس والوزارات والسفارات: | |
| | أ- الشعار الوطني | ب- النشيد الوطني |
| | ج- العلم | |

أ () ضع علامة (✓) أمام العبارة الصحيحة وعلامة (✗) أمام العبارة الخاطئة
فيما يلي :


| العبارة | العلامة |
|--|---------|
| (١) من فروع الدراسات الاجتماعية الرياضيات. | ✗ |
| (٢) يشبه عمل المؤرخ عمل رجل الأمن. | ✓ |
| (٣) يقع وطني المملكة العربية السعودية في قلب العالم. | ✓ |
| (٤) العلم السعودي لا ينكس أبداً. | ✓ |

ب () ضع الكلمة المناسبة في الفراغ المناسب :

الشعار الوطني _ ٢٣ سبتمبر _ الحكومة _ التاريخ

- ١ / هو دراسة أحداث الماضي وتفسيرها التاريخ
- ٢ / يوافق اليوم الوطني السعودي ٢٣ سبتمبر في كل عام.
- ٣ / هو النظام الذي يدار به الوطن الحكومة
- ٤ / من الرموز الوطنية في المملكة العربية السعودية الشعار الوطني

ج () صل بين الصورة والوصف المناسب لها بالاستعانة بالأرقام:



١- رمز الحق

٢- رمز النماء

اسم الطالبة:

6

السؤال الأول: أ) ضع علامة (✓) أمام العبارة الصحيحة وإشارة (x) أمام العبارة الخاطئة

| | |
|-----|---|
| () | 1. تعتبر الرياضيات من فروع الدراسات الاجتماعية. |
| () | 2. العلم السعودي لا ينعكس أبداً. |
| () | 3. الرياض هي عاصمة المملكة العربية السعودية. |
| () | 4. تفيدني الدراسات الاجتماعية التعرف على وطني وآثاره. |
| () | 5. يكون موقفي من الإشاعة نقل الخبر بين الناس. |
| () | 6. الوطن هو بقعة الأرض التي ننتمي إليها ونفتخر بها. |

6

السؤال الثاني: اختاري الإجابة الصحيحة فيما يلي:

| | | |
|--|--------------|---------------|
| 1. يقع وطني المملكة العربية السعودية في | | |
| ○ جنوب العالم | ○ قلب العالم | ○ شمال العالم |
| 2. من الرموز الوطنية في المملكة العربية السعودية | | |
| ○ الوزارة | ○ العلم | ○ المدارس |
| 3. اليوم الوطني للمملكة العربية السعودية يوافق | | |
| ○ 21 سبتمبر | ○ 23 سبتمبر | ○ 25 سبتمبر |
| 4. يسمى الحاكم في المملكة العربية السعودية | | |
| ○ ملك | ○ أمير | ○ وزير |
| 5. الشخص الذي يدرس الماضي ويكتب عنه | | |
| ○ مؤرخ | ○ اقتصادي | ○ جغرافي |
| 6. نظام الحكم في وطني المملكة العربية السعودية | | |
| ○ ملكي | ○ أميري | ○ جمهوري |

السؤال الثالث: أ) أكمل الفراغات بالكلمات المساعدة فيما يلي:

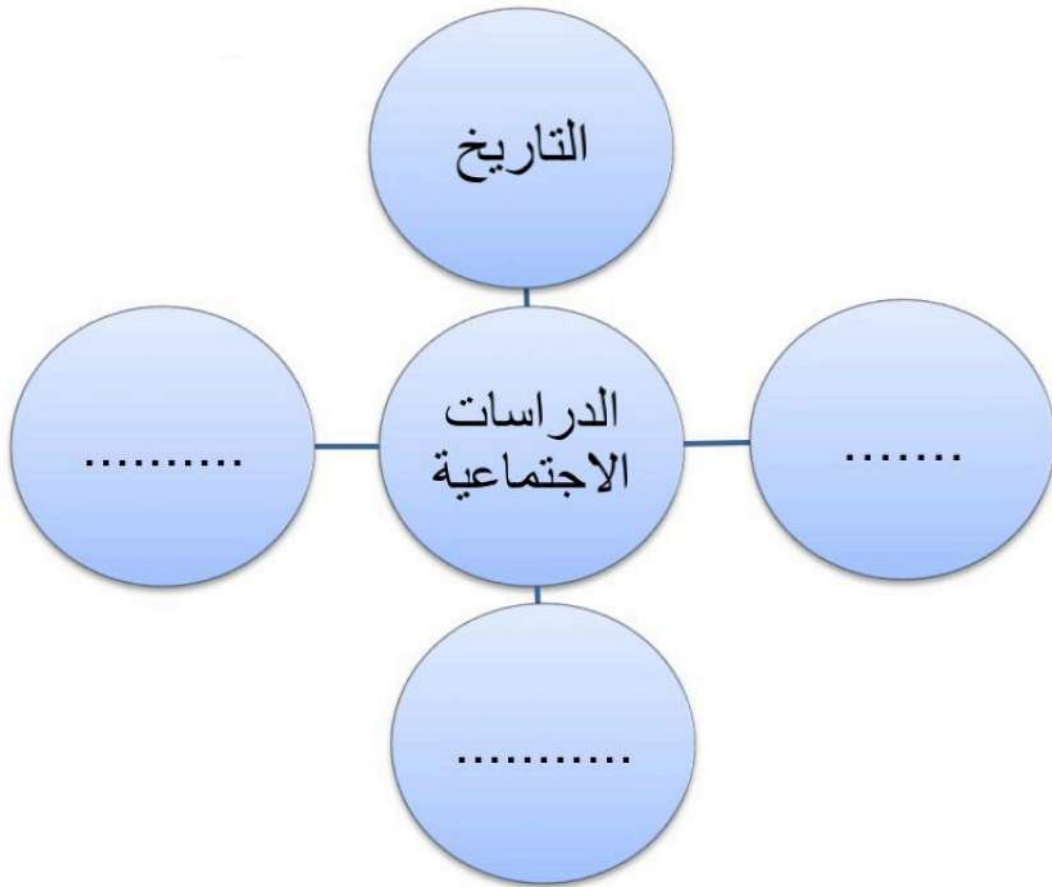
5

[الحكومة - الجلد - 22 فبراير - الدين واللغة - الآثار]

- 1) يوافق يوم التأسيس لبلادي المملكة العربية السعودية
- 2) من مكونات الثقافة في وطني
- 3) النظام الذي يدار به الوطن
- 4) من المصادر الأولية التي يستعين بها المؤرخ.
- 5) كان الناس قديماً يكتبون ويرسمون أحداث التاريخ على

ب) أكمل فروع الدراسات الاجتماعية في الشكل التالي:

3



انتهت الأسئلة

الدرجة النهائية

20

نموذج الإجابة

6

السؤال الأول: أ) ضع علامة (✓) أمام العبارة الصحيحة وإشارة (x) أمام العبارة الخاطئة

| | |
|-------|---|
| (x) | 1. تعتبر الرياضيات من فروع الدراسات الاجتماعية. |
| (✓) | 2. العلم السعودي لا ينكس أبداً. |
| (✓) | 3. الرياض هي عاصمة المملكة العربية السعودية. |
| (✓) | 4. تفيدني الدراسات الاجتماعية التعرف على وطني وآثاره. |
| (x) | 5. يكون موقفي من الإشاعة نقل الخبر بين الناس. |
| (✓) | 6. الوطن هو بقعة الأرض التي ننتمي إليها ونفتخر بها. |

6

السؤال الثاني: اختاري الإجابة الصحيحة فيما يلي:

| | | |
|--|--------------|---------------|
| 1. يقع وطني المملكة العربية السعودية في | | |
| ○ جنوب العالم | ○ قلب العالم | ○ شمال العالم |
| 2. من الرموز الوطنية في المملكة العربية السعودية | | |
| ○ المدارس | ○ العلم | ○ الوزارة |
| 3. اليوم الوطني للمملكة العربية السعودية يوافق | | |
| ○ 25 سبتمبر | ○ 23 سبتمبر | ○ 21 سبتمبر |
| 4. يسمى الحاكم في المملكة العربية السعودية | | |
| ○ وزير | ○ أمير | ○ ملك |
| 5. الشخص الذي يدرس الماضي ويكتب عنه | | |
| ○ جغرافي | ○ اقتصادي | ○ مؤرخ |
| 6. نظام الحكم في وطني المملكة العربية السعودية | | |
| ○ جمهوري | ○ أميري | ○ ملكي |

السؤال الثالث: أ) أكمل الفراغات بالكلمات المساعدة فيما يلي:

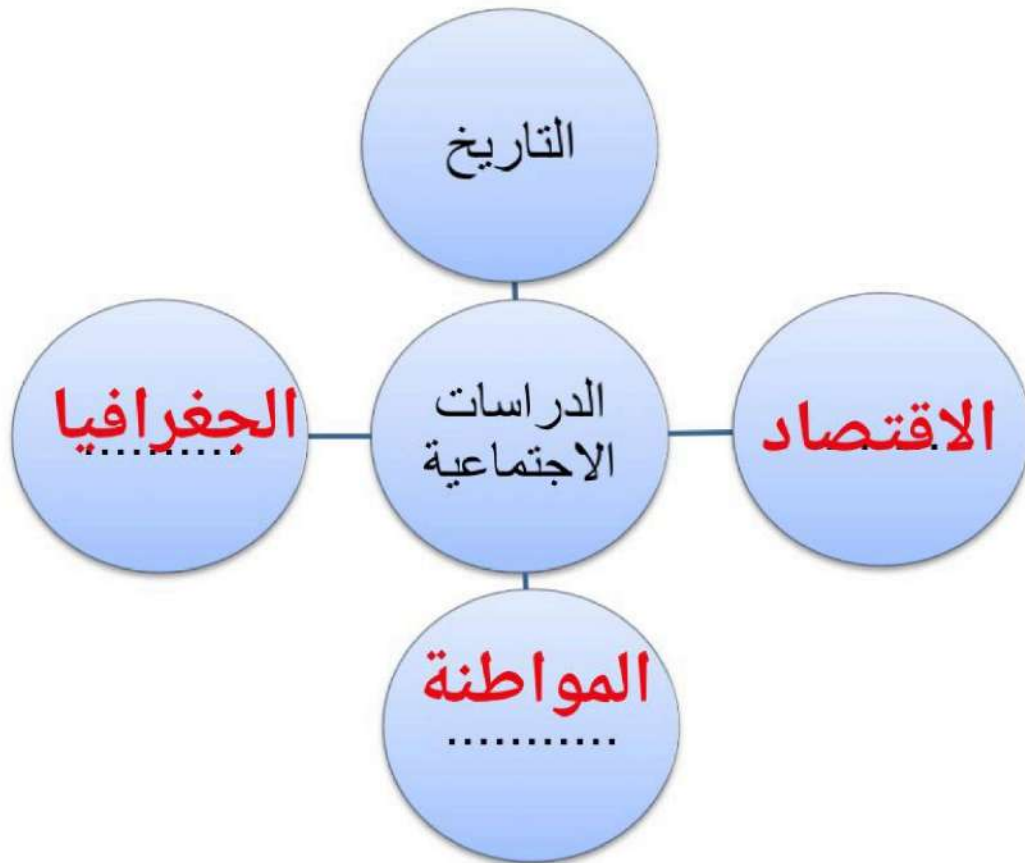
5

[الحكومة - الجلد - 22 فبراير - الدين واللغة - الآثار]

- 1) يوافق يوم التأسيس لبلادي المملكة العربية السعودية **22 فبراير**
- 2) من مكونات الثقافة في وطني .. **الدين واللغة** ..
- 3) النظام الذي يدار به الوطن **الحكومة**
- 4) **الآثار** من المصادر الأولية التي يستعين بها المؤرخ.
- 5) كان الناس قديماً يكتبون ويرسمون أحداث التاريخ على... **الجلد**

ب) أكمل فروع الدراسات الاجتماعية في الشكل التالي:

3



انتهت الأسئلة

موقع **مادنتري**

الدرجة النهائية

20

| الدرجة | اسم الطالبة | الفصل الدراسي | الأول ١٤٤٧ هـ | الدراسة | الأولى |
|---------|--------------|---------------|---------------|---------------------|--------|
| التوقيع | معلمة المادة | الصف | الرابع | الدراسات الاجتماعية | المادة |

السؤال الأول: ضعي علامة (√) أمام العبارة الصحيحة وعلامة (X) أما العبارة الخاطئة :

| الإجابة | العبارة |
|---------|---|
| | ١ تفيدني الدراسات الاجتماعية في التعرف على وطني |
| | ٢ يتشارك المجتمع السعودي بخصائص وسمات مشتركة مثل اللغة والدين وحب الملوك والوطن. |
| | ٣ وطني المملكة العربية السعودية هو مهبط الوحي وقبلة المسلمين |
| | ٤ البنية: هي المباينة على السمع والطاعة، وتكون في العن للملك ولولي العهد على القرآن الكريم والسنة النبوية |
| | ٥ نظام الحكم في المملكة العربية السعودية هو نظام ملكي، ويسمى فيه الحاكم ملكاً |
| | ٦ اليوم الوطني لبلادي هو يوم توحيد البلاد ، وهو الأول من برج الميزان |
| | ٧ التاريخ هو دراسة الماضي للاستفادة منه في الحاضر والمستقبل |
| | ٨ الدراسات الاجتماعية علوم تساعدني على فهم الحياة. |
| | ٩ اليوم الوطني هو يوم تأسيس الدولة السعودية الأولى في عهد الإمام محمد بن سعود |
| | ١٠ من فروع الدراسات الاجتماعية الرياضيات |

السؤال الثاني: اختاري الإجابة الصحيحة:

| | | | | |
|----|---|---------------------------|--------------------|-----------------------|
| ١ | العلم الذي يهتم بدراسة الأحداث والشخصيات علم | أ الرياضيات | ب الطب | ج التاريخ |
| ٢ | هي الخصائص والسمات التي يتشارك فيها المجتمع السعودي | أ الهوية الوطنية السعودية | ب الثقافة السعودية | ج الوطن |
| ٣ | بقعة الأرض التي ننتمي إليها ونفخر بها تسمى : | أ الوطن | ب القرية | ج المدينة |
| ٤ | النظام الذي يُدار به الوطن. | أ الحكومة | ب الصحة | ج المالي |
| ٥ | من مميزات العلم السعودي | أ انه لا ينكس ابدأ | ب ان لونه اخضر | ج ان مرسوم عليه السيف |
| ٦ | اليوم الوطني لبلادي: هو يوم توحيد البلاد، وهو الأول من برج الميزان، الموافق من سبتمبر في كل عام | أ ٢٣ | ب ٢٢ | ج ٢١ |
| ٧ | الشخص الذي يدرس الماضي ويكتب عنه هو | أ المؤرخ | ب الجغرافي | ج الاقتصادي |
| ٨ | الأدلة المهمة من الماضي تسمى | أ الآثار | ب المؤرخ | ج الأحداث |
| ٩ | نقل الكلام دون التثبت من صحته | أ الإشاعة | ب التاريخ | ج الطبعة |
| ١٠ | علم وطني لونه في وسطه كلمة التوحيد (لا إله إلا الله محمداً رسول الله) | أ أزرق | ب أحمر | ج أخضر |

نموذج الاجابة

| الدرجة | اسم الطالبة | الفصل الدراسي | الأول ١٤٤٧ هـ | المادة | الدراسات الاجتماعية | الأولى | اختبار الفترة |
|---------|--------------|---------------|---------------|--------|---------------------|--------|---------------|
| التوقيع | معلمة المادة | الصف | الرابع | | | | المادة |

السؤال الأول: ضعي علامة (√) أمام العبارة الصحيحة وعلامة (X) أما العبارة الخاطئة :

| الإجابة | العبارة |
|---------|---|
| √ | ١ تفيدني الدراسات الاجتماعية في التعرف على وطني |
| √ | ٢ يتشارك المجتمع السعودي بخصائص وسمات مشتركة مثل اللغة والدين وحب الملك والوطن. |
| √ | ٣ وطني المملكة العربية السعودية هو مهبط الوحي وقبلة المسلمين |
| √ | ٤ البنية: هي المباينة على السمع والطاعة، وتكون في العن للملك ولولي العهد على القرآن الكريم والسنة النبوية |
| √ | ٥ نظام الحكم في المملكة العربية السعودية هو نظام ملكي، ويسمى فيه الحاكم ملكاً |
| √ | ٦ اليوم الوطني لبلادي هو يوم توحيد البلاد ، وهو الأول من برج الميزان |
| √ | ٧ التاريخ هو دراسة الماضي للاستفادة منه في الحاضر والمستقبل |
| √ | ٨ الدراسات الاجتماعية علوم تساعدني على فهم الحياة. |
| X | ٩ اليوم الوطني هو يوم تأسيس الدولة السعودية الأولى في عهد الإمام محمد بن سعود |
| X | ١٠ من فروع الدراسات الاجتماعية الرياضيات |

السؤال الثاني: اختاري الاجابة الصحيحة:

| | | | | |
|----|--|---------------------------|--------------------|-----------------------|
| ١ | العلم الذي يهتم بدراسة الأحداث والشخصيات علم | أ الرياضيات | ب الطب | ج التاريخ |
| ٢ | هي الخصائص والسمات التي يتشارك فيها المجتمع السعودي | أ الهوية الوطنية السعودية | ب الثقافة السعودية | ج الوطن |
| ٣ | بقعة الأرض التي ننتمي إليها ونفخر بها تسمى : | أ الوطن | ب القرية | ج المدينة |
| ٤ | النظام الذي يدار به الوطن. | أ الحكومة | ب الصحة | ج المالي |
| ٥ | من مميزات العلم السعودي | أ انه لا يتكس ابداً | ب ان لونه اخضر | ج ان مرسوم عليه السيف |
| ٦ | اليوم الوطني لبلادي: هو يوم توحيد البلاد، وهو الأول من برج الميزان، الموافقمن سبتمبر في كل عام | أ ٢٣ | ب ٢٢ | ج ٢١ |
| ٧ | الشخص الذي يدرس الماضي ويكتب عنه هو | أ المؤرخ | ب الجغرافي | ج الاقتصادي |
| ٨ | الأدلة المهمة من الماضي تسمى | أ الآثار | ب المؤرخ | ج الأحداث |
| ٩ | نقل الكلام دون التثبت من صحته | أ الإشاعة | ب التاريخ | ج الطبعة |
| ١٠ | علم وطني لونه في وسطه كلمة التوحيد (لا إله إلا الله محمداً رسول الله) | أ أزرق | ب أحمر | ج أخضر |

| | | | |
|--|---|---|---|
| ٣٠ درجة | الدراسات الاجتماعية الصف الرابع الابتدائي الفصل الدراسي الأول ١٤٤٧ هـ |  وزارة التعليم Ministry of Education | المملكة العربية السعودية وزارة التعليم |
| اختبار مادة الدراسات الاجتماعية (الوحدة الأولى) | | | |
| اسم الطالب / الفصل / | | | |

١٠ درجات /

ضع علامة (✓) أمام العبارة الصحيحة وعلامة (X) أمام العبارة الخاطئة :

| العلامة | السؤال | م |
|---------|---|----|
| | تفيدني الدراسات الاجتماعية في معرفة تاريخ وطني وتراثه الحضاري وجغرافيته . | ١ |
| | الرياضيات هي من فروع الدراسات الاجتماعية . | ٢ |
| | وطني المملكة العربية السعودية هو مهبط الوحي . | ٣ |
| | الهوية الوطنية لا يظهر فيها حب الوطن . | ٤ |
| | يختتم النشيد الوطني بعبارة (عاش الملك للعلم والوطن) . | ٥ |
| | المملكة العربية السعودية دولة عربية إسلامية، ذات سيادة تامة . | ٦ |
| | ينكس العلم السعودي مثل غيره من أعلام الدول الأخرى . | ٧ |
| | السيف في علم وطني يدل على الحق . | ٨ |
| | علم وطني المملكة العربية السعودية لونه أحمر . | ٩ |
| | البيئة هي من عناصر الجغرافيا . | ١٠ |

٥ درجات /

أجيب على ما يأتي :

هو يوم توحيد البلاد على يد الملك عبدالعزيز بن عبدالرحمن الفيصل آل سعود عام ١٣٥١ هـ ؟

.....

هوم يوم تأسيس الدول السعودية في عهد الأمام محمد بن سعود عام ١١٣٩ هـ ؟

.....

هو اليوم الذي أقر فيه الملك عبدالعزيز-طيب الله ثره- شكل العلم الذي نراه الآن مرفوعاً في سماء وطني ؟

.....

هو نظام الحكم في وطني المملكة العربية السعودية ؟

.....

يقعان بهما المسجد الحرام والمسجد النبوي ؟

.....

| | | |
|----|--|----------|
| ١ | يقع وطني المملكة العربية السعودية في | العالم : |
| أ | قلب | ب |
| ب | غرب | ج |
| ج | جنوب | |
| ٢ | من عناصر التاريخ : | |
| أ | البضائع | ب |
| ب | الشخصيات | ج |
| ج | الانتاج | |
| ٣ | أتعلم كيف أنفق ؟ من دراسة : | |
| أ | التاريخ | ب |
| ب | الاقتصاد | ج |
| ج | الجغرافيا | |
| ٤ | هو بقعة الأرض التي ننتمي إليها ، ونفخر بها : | |
| أ | الهوية الوطنية | ب |
| ب | المواطنة | ج |
| ج | الوطن | |
| ٥ | هي الخصائص والسمات التي يتشارك فيها المجتمع السعودي : | |
| أ | الهوية الوطنية | ب |
| ب | الثقافة الوطنية | ج |
| ج | المواطنة | |
| ٦ | المبايعة على السمع والطاعة ، وتكون في العن للملك وولي العهد على القرآن الكريم والسنة النبوية : | |
| أ | الحكومة | ب |
| ب | النظام الأساسي للحكم | ج |
| ج | البيعة | |
| ٧ | هو النظام الذي يدار به الوطن : | |
| أ | الحكومة | ب |
| ب | المواطنة | ج |
| ج | النظام الأساسي للحكم | |
| ٨ | عاصمة وطني المملكة العربية السعودية هي : | |
| أ | جدة | ب |
| ب | الرياض | ج |
| ج | مكة المكرمة | |
| ٩ | هو رمز الدولة وهويتها ، ونراه مرفوعاً في المدارس والمقرات الحكومية : | |
| أ | العلم | ب |
| ب | النشيد الوطني | ج |
| ج | اليوم الوطني | |
| ١٠ | الشعار الرسمي السعودي سيفان متقاطعان ووسطهما : | |
| أ | نخلة | ب |
| ب | صقر | ج |
| ج | درع | |

(العرضة السعودية) (قصر المصمك) (الإنسان) (العدل) (الحرمین الشریفین)

١ هو من الآثار التاريخية وشاهد على آثار توحيد المملكة :

٢ من الفنون الشعبية في المملكة العربية السعودية :

٣ تحمي حكومة وطني المملة العربية السعودية حقوق :

٤ هو أساس الحكم في وطني .

٥ تعمر حكومة وطني : وتخدم المسلمين .

انتهت الأسئلة

اختبار مادة الدراسات الاجتماعية والمواطنة الصف الرابع الفترة الأولى

السؤال الأول: [٧ درجات]

ضعي الكلمة المناسبة في الفراغ المناسب:

٢٠

قلب - الوطن - الماضي - المؤرخ - الحكومة - ملكي - المصادر

- أ- نظام الحكم في المملكة العربية السعودية هو نظام
- ب- التاريخ هو دراسة أحداث وتفسيرها.
- ج- يقع وطني في العالم.
- د- هي المواد التي يستعين بها المؤرخ للحصول على الأدلة.
- و- هو بقعة من الأرض التي ننتمي إليها ونفخر بها.
- ز- هو الشخص الذي يدرس الماضي ويكتب عنه.

السؤال الثاني: [٤ درجات]

أاكتبى فروع الدراسات الاجتماعية:

- 1- -2
- 3- -4

السؤال الثالث: [٧ درجات]ضعي علامة (صح) أمام العبارة الصحيحة وعلامة (خطأ) أمام العبارة الخاطئة

- أ- لا ينكس العلم السعودي ()
- ب- الشعار السعودي هو سيفان و قلم ()
- ج- العلم هو الشعار الوطني ()
- د- النشيد الوطني هو النشيد الرسمي للمملكة العربية السعودية ()
- هـ- من أسئلة الجغرافيا ماذا حدث ()
- و- عمل المؤرخ يشبه عمل المعلم ()
- ز- الاشاعة هي نقل الكلام وهي ضارة للمجتمع ()

السؤال الرابع: [درجتان]

صنفي المصادر التالية على حسب نوعها:

الاثار - كتب ألقت في ألفت في الوقت الحاضر - الصور - القصص التي يرويها الناس الذين لم يحضروا الحدث

| مصادر أولية | مصادر ثانوية |
|-------------|--------------|
| | |
| | |

اختبار مادة الدراسات الاجتماعية الصف الرابع
الوحدة الثانية
الفصل الدراسي الأول 1447

اسم الطالبة:.....

اختاري الاجابة الصحيحه من بين الخيارات فيما يلي:

هو دراسة الماضي للاستفادة منه في الحاضر والمستقبل:-

| | | | | | | | |
|---|---------|---|-----------|---|----------|---|---------|
| أ | التاريخ | ب | الجغرافيا | ج | الاقتصاد | د | الحكومة |
|---|---------|---|-----------|---|----------|---|---------|

هو الشخص الذي يدرس الماضي ويكتب عنه:-

| | | | | | | | |
|---|--------|---|----------|---|--------|---|-----------|
| أ | المعلم | ب | الجغرافي | ج | المؤرخ | د | الاقتصادي |
|---|--------|---|----------|---|--------|---|-----------|

الآثار من المصادر والأدلة:-

| | | | | | | | |
|---|---------|---|----------|---|--------|---|----------|
| أ | الأولية | ب | الثانوية | ج | الحاضر | د | المستقبل |
|---|---------|---|----------|---|--------|---|----------|

هي نقل الكلام دون تثبت من صحته:-

| | | | | | | | |
|---|-------|---|---------|---|-------|---|---------|
| أ | القصة | ب | الإشاعة | ج | الكتب | د | الرواية |
|---|-------|---|---------|---|-------|---|---------|

هو رسم تخطيطي يوضح الترتيب الذي وقعت فيه الأحداث وفق تسلسلها الزمني:-

| | | | | | | | |
|---|---------|---|-------------|---|----------|---|----------|
| أ | الأحداث | ب | الخط الزمني | ج | المواطنة | د | المناخية |
|---|---------|---|-------------|---|----------|---|----------|

هي المواد التي يستعين بها المؤرخ للحصول على الأدلة

| | | | | | | | |
|---|--|---|---------------|---|--------|---|---------|
| أ | | ب | وزارة المالية | ج | المكان | د | المصادر |
|---|--|---|---------------|---|--------|---|---------|

عدد مناطق المملكة العربية السعودية:-

| | | | | | | | |
|---|---|---|---|---|----|---|----|
| أ | ٣ | ب | ٨ | ج | ١٠ | د | ١٣ |
|---|---|---|---|---|----|---|----|

السؤال الثاني:-

ضعي علامة (صح) او (خطأ) امام العبارات الآتية:

- ١- تعتبر الصور الفوتوغرافية والرسائل والوثائق من المصادر الأولية ()
- ٢- السبب في التاريخ هو ما يؤدي إلى وقوع الحدث ()
- ٣- سبب توحيد المملكة العربية السعودية هو الحاجه الى تأسيس الدولة وتوحيدها ()
- ٤- وفاة الملك عبدالعزيز ال سعود كانت في عام ١٣٥١هـ ()

السؤال الثالث:-

املئي الفراغات التالية بما يناسبها من الكلمات الآتية:

١٤٣٦هـ - نشرها - الثانوية - الإشاعة

- ١- هي نقل الكلام دون التثبت من صحته وهي ضاره على المجتمع.....
- ٢- تولى الملك سلمان ملكاً للبلاد في عام.....
- ٣- عند سماع الإشاعة فإني اتجنب.....
- ٤- الكتب التي أوّلفت في الوقت الحاضر من المصادر.....

السؤال الرابع:-

عددي فائدة الخط الزمني :

١-

٢-

المعلمة:

اختبار الوحدة الأولى المواطنة

الاسم :

السؤال الأول:

اختر الإجابة الصحيحة لكل فقرة من الفقرات التالية:

| | | | | |
|--|-------------------|-------------------|-------------------|---|
| مجموعة الخصائص والسمات التي يتشارك فيها المجتمع السعودي تسمى | | | | 1 |
| الثقافة الشعبية | الهوية الوطنية | العادات والتقاليد | المعالم التاريخية | |
| بقعة الأرض التي ننتمي إليها ونفخر بها وعاش عليها أبائنا وأجدادنا هي | | | | 2 |
| المدينة | القرية | الوطن | البيت | |
| أي من التالي يعد من مكونات الثقافة الوطنية؟ | | | | 3 |
| أجهزة الحاسب | اللغة | الشوارع | السيارات | |
| أساليب حياة الناس وطريقة معيشتهم وتفاعلهم وقيمهم المشتركة تسمى | | | | 4 |
| الهوايات الشخصية | القوانين المدرسية | الثقافة الوطنية | الأنشطة الرياضية | |
| كون المملكة العربية السعودية مهبط الوحي وقبله المسلمين يعزز من مكانتها | | | | 5 |
| الاقتصادية | الجغرافية | الرياضية | الدينية | |

السؤال الثاني :

حدد كلمة صح أو خطأ لكل فقرة من الفقرات الآتية:

| | | | |
|---|--|--------------------------|---------------------------|
| 1 | حب الوطن والولاء لقيادته من أهم مظاهر الهوية الوطنية | <input type="radio"/> صح | <input type="radio"/> خطأ |
| 2 | اللغة والدين لا يعتبران من مكونات الثقافة الوطنية | <input type="radio"/> صح | <input type="radio"/> خطأ |
| 3 | الوطن يقتصر فقط على المكان الذي نعيش فيه حالياً | <input type="radio"/> صح | <input type="radio"/> خطأ |
| 4 | الاعتزاز بتاريخ وطننا وتراثه يقوي هويتنا الوطنية | <input type="radio"/> صح | <input type="radio"/> خطأ |
| 5 | تشابه الثقافة الوطنية في جميع دول العالم | <input type="radio"/> صح | <input type="radio"/> خطأ |

انتهت الأسئلة ,,,

اختبار الوحدة الأولى المواطنة

الاسم :

نموذج الإجابة

السؤال الأول:

اختر الإجابة الصحيحة لكل فقرة من الفقرات التالية:

| | | | | |
|--|-------------------|-------------------|-------------------|---|
| مجموعة الخصائص والسمات التي يتشارك فيها المجتمع السعودي تسمى | | | | 1 |
| الثقافة الشعبية | الهوية الوطنية | العادات والتقاليد | المعالم التاريخية | |
| بقعة الأرض التي ننتمي إليها ونفخر بها وعاش عليها أبائنا وأجدادنا هي | | | | 2 |
| المدينة | القرية | الوطن | البيت | |
| أي من التالي يعد من مكونات الثقافة الوطنية؟ | | | | 3 |
| أجهزة الحاسب | اللغة | الشوارع | السيارات | |
| أساليب حياة الناس وطريقة معيشتهم وتفاعلهم وقيمهم المشتركة تسمى | | | | 4 |
| الهوايات الشخصية | القوانين المدرسية | الثقافة الوطنية | الأنشطة الرياضية | |
| كون المملكة العربية السعودية مهبط الوحي وقبله المسلمين يعزز من مكانتها | | | | 5 |
| الاقتصادية | الجغرافية | الرياضية | الدينية | |

السؤال الثاني :

حدد كلمة صح أو خطأ لكل فقرة من الفقرات الآتية:

| | | | |
|---|--|--------------------------|---------------------------|
| 1 | حب الوطن والولاء لقيادته من أهم مظاهر الهوية الوطنية | <input type="radio"/> صح | <input type="radio"/> خطأ |
| 2 | اللغة والدين لا يعتبران من مكونات الثقافة الوطنية | <input type="radio"/> صح | <input type="radio"/> خطأ |
| 3 | الوطن يقتصر فقط على المكان الذي نعيش فيه حالياً | <input type="radio"/> صح | <input type="radio"/> خطأ |
| 4 | الاعتزاز بتاريخ وطننا وتراثه يقوي هويتنا الوطنية | <input type="radio"/> صح | <input type="radio"/> خطأ |
| 5 | تشابه الثقافة الوطنية في جميع دول العالم | <input type="radio"/> صح | <input type="radio"/> خطأ |

انتهت الأسئلة ,,,

اختبار الوحدة الرابعه الاقتصاد

الاسم :

السؤال الأول:

اختر الإجابة الصحيحة لكل فقرة من الفقرات التالية:

| | | | | | |
|----|--|-----------------|-----------------|----------------------|---------------------|
| 1 | أي من التالي يعتبر مثلاً على الإنتاج غير المادي (الخدمات)؟ | صناعة السيارات | إنتاج الحليب | العلاج في المستشفيات | صناعة الهواتف |
| 2 | عملية تحويل القطن إلى ملابس تسمى: | استهلاكاً | إنتاجاً | توزيعاً | تبادلاً |
| 3 | أي من هذه السلع يعد من السلع الضرورية؟ | المجوهرات | السيارة الفارهة | الملابس الأساسية | الألعاب الإلكترونية |
| 4 | كل ما يتعلق بإنتاج السلع والخدمات وتوزيعها وتبادلها واستهلاكها يسمى: | الإنتاج فقط | الاستهلاك فقط | التجارة | النشاط الاقتصادي |
| 5 | صناعة التمور وزيت الزيتون هي مثال على: | إنتاج غير مادي | إنتاج مادي | خدمات سياحية | خدمات تعليمية |
| 6 | أي من التالي يعتبر مثلاً على الموارد البشرية؟ | النفط | الطبيب | المصنع | المال |
| 7 | القدرة على تحريك الآلات والمعدات تُسمى: | الاستهلاك | الادخار | الطاقة | الإنتاج |
| 8 | تخصيص جزء من المال وحفظه للمستقبل هو: | استهلاك | إنتاج | استثمار | ادخار |
| 9 | الماء والأشجار والتربة هي أمثلة على الموارد: | البشرية | الطبيعية | رأس المال | الصناعية |
| 10 | استعمال الموارد والأموال باعتدال يسمى: | ترشيد الاستهلاك | الإسراف | الإنتاج | التجارة |
| 11 | الطريقة القديمة لشراء السلع قبل ظهور النقود كانت تسمى: | | | | |

| التحويل البنكي | المقايضة | البطاقة الإلكترونية | الدفع النقدي |
|---|----------------------------|----------------------------------|------------------------------|
| أي من التالي يعد من فوائد التبادل التجاري؟ | | | |
| 12 | شراء سلع لا تُصنع في وطننا | صنع كل شيء نحتاجه داخل وطننا فقط | الاعتماد على المقايضة فقط |
| جعل التجارة بطيئة وصعبة | | | |
| :عندما تشتري من متجر باستخدام بطاقة الصراف الآلي، فإن هذه الطريقة تسمى | | | |
| 13 | مقايضة | هدية | دفع إلكتروني |
| اقترض | | | |
| :من الأمثلة على السلع التي يبيعها وطننا (المملكة العربية السعودية) للدول الأخرى | | | |
| 14 | السيارات | الأجهزة الإلكترونية | النفط والتمور |
| بعض أنواع الفواكه الاستوائية | | | |
| :سبب حرص الأب على شراء السلع المصنعة في المملكة العربية السعودية هو | | | |
| 15 | لأنها أرخص دائماً | لدعم اقتصاد وطنه | لأنها الطريقة الوحيدة للشراء |
| لأنها سلع قديمة | | | |

السؤال الثاني :

حدد كلمة صح أو خطأ لكل فقرة من الفقرات الآتية:

| | | | |
|----|--|--------------------------|---------------------------|
| 1 | السلع الضرورية هي التي يمكن الاستغناء عنها مثل السيارات الفارهة. | <input type="radio"/> صح | <input type="radio"/> خطأ |
| 2 | التعليم في المدارس والسياحة هما من أمثلة الإنتاج غير المادي. | <input type="radio"/> صح | <input type="radio"/> خطأ |
| 3 | الإنتاج هو عملية استخدام السلع والخدمات فقط. | <input type="radio"/> صح | <input type="radio"/> خطأ |
| 4 | النشاط الاقتصادي يبدأ بالإنتاج وينتهي بالاستهلاك. | <input type="radio"/> صح | <input type="radio"/> خطأ |
| 5 | الملابس الأساسية والطعام يعتبران من السلع غير الضرورية. | <input type="radio"/> صح | <input type="radio"/> خطأ |
| 6 | المعلم الذي يشرح الدرس يعتبر من الموارد الطبيعية. | <input type="radio"/> صح | <input type="radio"/> خطأ |
| 7 | الطاقة الشمسية وطاقة الرياح هي من أنواع الطاقة المتجددة. | <input type="radio"/> صح | <input type="radio"/> خطأ |
| 8 | الادخار يساعد على تحقيق الأهداف وشراء الحاجات في المستقبل. | <input type="radio"/> صح | <input type="radio"/> خطأ |
| 9 | شراء الأشياء باهظة الثمن دائماً هو من صور ترشيد الاستهلاك. | <input type="radio"/> صح | <input type="radio"/> خطأ |
| 10 | المصانع والمعدات تعد من رأس المال الذي يساعد في الإنتاج. | <input type="radio"/> صح | <input type="radio"/> خطأ |
| 11 | التبادل التجاري هو تداول السلع والخدمات بين الناس فقط، ولا يشمل الدول. | <input type="radio"/> صح | <input type="radio"/> خطأ |
| 12 | في الماضي، كان التبادل التجاري يستغرق وقتاً طويلاً بسبب صعوبة المواصلات. | <input type="radio"/> صح | <input type="radio"/> خطأ |
| 13 | شراء جهاز إلكتروني من دولة أخرى يعتبر مثلاً على فوائد التبادل التجاري. | <input type="radio"/> صح | <input type="radio"/> خطأ |
| 14 | العملة المستخدمة في جميع دول العالم هي نفسها. | <input type="radio"/> صح | <input type="radio"/> خطأ |
| 15 | مقايضة خمس تفاحات بأربع برتقالات تعتبر شكلاً من أشكال التبادل التجاري. | <input type="radio"/> صح | <input type="radio"/> خطأ |

انتهت الأسئلة ,,,

اختبار الوحدة الرابعه الاقتصاد

الاسم :

نموذج الاجابة

السؤال الأول:

اختر الإجابة الصحيحة لكل فقرة من الفقرات التالية:

| | | | | | |
|----|--|-----------------|-----------------|----------------------|---------------------|
| 1 | أي من التالي يعتبر مثلاً على الإنتاج غير المادي (الخدمات)؟ | صناعة السيارات | إنتاج الحليب | العلاج في المستشفيات | صناعة الهواتف |
| 2 | عملية تحويل القطن إلى ملابس تسمى: | استهلاكاً | إنتاجاً | توزيعاً | تبادلاً |
| 3 | أي من هذه السلع يعد من السلع الضرورية؟ | المجوهرات | السيارة الفارهة | الملابس الأساسية | الألعاب الإلكترونية |
| 4 | كل ما يتعلق بإنتاج السلع والخدمات وتوزيعها وتبادلها واستهلاكها يسمى: | الإنتاج فقط | الاستهلاك فقط | التجارة | النشاط الاقتصادي |
| 5 | صناعة التمور وزيت الزيتون هي مثال على: | إنتاج غير مادي | إنتاج مادي | خدمات سياحية | خدمات تعليمية |
| 6 | أي من التالي يعتبر مثلاً على الموارد البشرية؟ | النفط | الطبيب | المصنع | المال |
| 7 | القدرة على تحريك الآلات والمعدات تُسمى: | الاستهلاك | الادخار | الطاقة | الإنتاج |
| 8 | تخصيص جزء من المال وحفظه للمستقبل هو: | استهلاك | إنتاج | استثمار | ادخار |
| 9 | الماء والأشجار والتربة هي أمثلة على الموارد: | البشرية | الطبيعية | رأس المال | الصناعية |
| 10 | استعمال الموارد والأموال باعتدال يسمى: | ترشيد الاستهلاك | الإسراف | الإنتاج | التجارة |
| 11 | الطريقة القديمة لشراء السلع قبل ظهور النقود كانت تسمى: | | | | |

| التحويل البنكي | المقايضة | البطاقة الإلكترونية | الدفع النقدي |
|--|----------------------------|----------------------------------|---|
| أي من التالي يعد من فوائد التبادل التجاري؟ | | | |
| 12 | شراء سلع لا تُصنع في وطننا | صنع كل شيء نحتاجه داخل وطننا فقط | الاعتماد على المقايضة جعل التجارة بطيئة وصعبة |
| عندما تشتري من متجر باستخدام بطاقة الصراف الآلي، فإن هذه الطريقة تسمى | | | |
| 13 | مقايضة | هدية | دفع إلكتروني |
| من الأمثلة على السلع التي يبيعها وطننا (المملكة العربية السعودية) للدول الأخرى | | | |
| 14 | السيارات | الأجهزة الإلكترونية | النفط والتمور |
| سبب حرص الأب على شراء السلع المصنعة في المملكة العربية السعودية هو | | | |
| 15 | لأنها أرخص دائماً | لدعم اقتصاد وطنه | لأنها الطريقة الوحيدة للشراء لأنها سلع قديمة |

السؤال الثاني :

حدد كلمة صح أو خطأ لكل فقرة من الفقرات الآتية:

| | | | |
|----|--|--------------------------|---------------------------|
| 1 | السلع الضرورية هي التي يمكن الاستغناء عنها مثل السيارات الفارهة. | <input type="radio"/> صح | <input type="radio"/> خطأ |
| 2 | التعليم في المدارس والسياحة هما من أمثلة الإنتاج غير المادي. | <input type="radio"/> صح | <input type="radio"/> خطأ |
| 3 | الإنتاج هو عملية استخدام السلع والخدمات فقط. | <input type="radio"/> صح | <input type="radio"/> خطأ |
| 4 | النشاط الاقتصادي يبدأ بالإنتاج وينتهي بالاستهلاك. | <input type="radio"/> صح | <input type="radio"/> خطأ |
| 5 | الملابس الأساسية والطعام يعتبران من السلع غير الضرورية. | <input type="radio"/> صح | <input type="radio"/> خطأ |
| 6 | المعلم الذي يشرح الدرس يعتبر من الموارد الطبيعية. | <input type="radio"/> صح | <input type="radio"/> خطأ |
| 7 | الطاقة الشمسية وطاقة الرياح هي من أنواع الطاقة المتجددة. | <input type="radio"/> صح | <input type="radio"/> خطأ |
| 8 | الادخار يساعد على تحقيق الأهداف وشراء الحاجات في المستقبل. | <input type="radio"/> صح | <input type="radio"/> خطأ |
| 9 | شراء الأشياء باهظة الثمن دائماً هو من صور ترشيد الاستهلاك. | <input type="radio"/> صح | <input type="radio"/> خطأ |
| 10 | المصانع والمعدات تعد من رأس المال الذي يساعد في الإنتاج. | <input type="radio"/> صح | <input type="radio"/> خطأ |
| 11 | التبادل التجاري هو تداول السلع والخدمات بين الناس فقط، ولا يشمل الدول. | <input type="radio"/> صح | <input type="radio"/> خطأ |
| 12 | في الماضي، كان التبادل التجاري يستغرق وقتاً طويلاً بسبب صعوبة المواصلات. | <input type="radio"/> صح | <input type="radio"/> خطأ |
| 13 | شراء جهاز إلكتروني من دولة أخرى يعتبر مثلاً على فوائد التبادل التجاري. | <input type="radio"/> صح | <input type="radio"/> خطأ |
| 14 | العملة المستخدمة في جميع دول العالم هي نفسها. | <input type="radio"/> صح | <input type="radio"/> خطأ |
| 15 | مقايضة خمس تفاحات بأربع برتقالات تعتبر شكلاً من أشكال التبادل التجاري. | <input type="radio"/> صح | <input type="radio"/> خطأ |

انتهت الأسئلة ،،،،