

تم تحميل وعرض المادة من



موقع مادتي هو موقع تعليمي يعمل على مساعدة المعلمين والطلاب وأولياء الأمور في تقديم حلول الكتب المدرسية والاختبارات وشرح الدروس والملاحظات والتحاير وتوزيع المنهج لكل المراحل الدراسية بشكل واضح وسهل مجاناً بتصفح وعرض مباشر أونلاين وتحميل على موقع مادتي

حمل تطبيق مادتي ليصلك كل جديد



السؤال الأول: اختاري الإجابة الصحيحة :

1	تعد الأقراص الضوئية من وحدات ..
(أ)- الإدخال	(ب)- الإخراج (ج)- التخزين (د)- الإدخال والإخراج
2	حاسب مركزي يستخدم في المؤسسات متوسطة الحجم ويسمح بتعدد المستخدمين
(أ)- الخوادم	(ب)- اللوحي (ج)- المحمول (د)- العملاقة
3	من أمثلة أجهزة الإخراج ..
(أ)- الشاشة	(ب)- الطابعة (ج)- السماعات (د)- جميع ما سبق
4	خفيف الوزن ويسهل حمله واستخدامه في أي مكان ويحتوي على بطارية داخلية :
(أ)- المكتبي	(ب)- الجهاز المحمول (ج)- الخادم (د)- العملاق
5	عقل الحاسب الذي ينفذ جميع العمليات الحسابية والمنطقية هو ..
(أ)- الذاكرة	(ب)- المعالج (ج)- اللوحة الأم (د)- بطاقة الفيديو
6	أعلى وحدة تخزين للبيانات هي :
(أ)- التيرا بايت	(ب)- الجيجا بايت (ج)- الميجا بايت (د)- البايث
7	جهاز إلكتروني يمكنه معالجة وتخزين واسترجاع البيانات ، كما يمكنه إنشاء وحفظ المستندات والرسوم ومقاطع الفيديو :
(أ)- الحاسب	(ب)- الشاشة (ج)- الطابعة (د)- لوحة المفاتيح
8	يعتبر الكنيكت والسيرفس ديل من وحدات:
(أ)- الإدخال	(ب)- الإخراج (ج)- التخزين (د)- الإدخال والإخراج
9	يعتبر القرص الصلب من وحدات :
(أ)- الإدخال	(ب)- الإخراج (ج)- التخزين (د)- الإدخال والإخراج
10	تعتبر النظارة الافتراضية ونظارة الواقع المعزز من وحدات :
(أ)- الإدخال	(ب)- الإخراج (ج)- التخزين (د)- الإدخال والإخراج

السؤال الثاني: حددي أي العبارات التالية صحيحة وأنها خاطئة:

خطأ	صح	1- من مهام نظام التشغيل التحكم بجهاز الحاسب وإدارة موارده بشكل صحيح .
خطأ	صح	2- الذاكرة هي المركز الرئيسي للحاسب وتتمثل في جعل جميع هذه الأجزاء متصلة معاً .
خطأ	صح	3- مشغلات ألعاب الفيديو تتيح لك لعب ألعاب الفيديو بشكل فردي أو جماعي
خطأ	صح	4- المكونات المادية هي الأجزاء الميكانيكية والكهربائية التي يتكون منها الحاسب، وتتضمن اللوحة الأم والشاشة وغيرها.
خطأ	صح	5- يتم تخزين جميع الملفات مثل الصور في شاشة جهاز الحاسب .
خطأ	صح	6- يعتبر المايكروفون من وحدات التخزين .
خطأ	صح	7- نظام التشغيل من المكونات المادية للحاسب.
خطأ	صح	8- عند وجود الكثير من الملفات على سطح المكتب يفضل تنظيمها في مجلدات
خطأ	صح	9- من مكونات سطح المكتب شريط المهام وزرابدأ والأيقونات
خطأ	صح	10--يمكن إزالة البرامج المثبتة بالحاسب من خلال اعدادات التطبيقات

انتهت الأسئلة.. مع دعائي لكم بالتوفيق والنجاح

نموذج الإجابة

السؤال الأول : اختاري الإجابة الصحيحة :

1	تعد الأقراص الضوئية من وحدات ..	أ)- الإدخال	ب)- الإخراج	ج)- التخزين	د)- الإدخال والإخراج
2	حاسب مركزي يستخدم في المؤسسات متوسطة الحجم ويسمح بتعدد المستخدمين	أ)- الخوادم	ب)- اللوحي	ج)- المحمول	د)- العملاقة
3	من أمثلة أجهزة الإخراج ..	أ)- الشاشة	ب)- الطباعة	ج)- السماعات	د)- جميع ما سبق
4	خفيف الوزن ويسهل حمله واستخدامه في أي مكان ويحتوي على بطارية داخلية :	أ)- المكتبي	ب)- الجهاز المحمول	ج)- الخادم	د)- العملاق
5	عقل الحاسب الذي ينفذ جميع العمليات الحسابية والمنطقية هو ..	أ)- الذاكرة	ب)- المعالج	ج)- اللوحة الأم	د)- بطاقة الفيديو
6	أعلى وحدة تخزين للبيانات هي :	أ)- التيرا بايت	ب)- الجيجا بايت	ج)- الميجا بايت	د)- البايث
7	جهاز إلكتروني يمكنه معالجة وتخزين واسترجاع البيانات ، كما يمكنه إنشاء وحفظ المستندات والرسوم ومقاطع الفيديو :	أ)- الحاسب	ب)- الشاشة	ج)- الطباعة	د)- لوحة المفاتيح
8	يعتبر الكنيكت والسيرفس ديل من وحدات :	أ)- الإدخال	ب)- الإخراج	ج)- التخزين	د)- الإدخال والإخراج
9	يعتبر القرص الصلب من وحدات :	أ)- الإدخال	ب)- الإخراج	ج)- التخزين	د)- الإدخال والإخراج
10	تعتبر النظارة الافتراضية ونظارة الواقع المعزز من وحدات :	أ)- الإدخال	ب)- الإخراج	ج)- التخزين	د)- الإدخال والإخراج

السؤال الثاني: حددي أي العبارات التالية صحيحة وأنها خاطئة:

خطأ	صح	1- من مهام نظام التشغيل التحكم بجهاز الحاسب وإدارة موارده بشكل صحيح .
خطأ	صح	2- الذاكرة هي المركز الرئيسي للحاسب وتتمثل في جعل جميع هذه الأجزاء متصلة معاً .
خطأ	صح	3- مشغلات ألعاب الفيديو تتيح لك لعب ألعاب الفيديو بشكل فردي أو جماعي
خطأ	صح	4- المكونات المادية هي الأجزاء الميكانيكية والكهربائية التي يتكون منها الحاسب، وتتضمن اللوحة الأم والشاشة وغيرها.
خطأ	صح	5- يتم تخزين جميع الملفات مثل الصور في شاشة جهاز الحاسب .
خطأ	صح	6- يعتبر المايكروفون من وحدات التخزين .
خطأ	صح	7- نظام التشغيل من المكونات المادية للحاسب.
خطأ	صح	8- عند وجود الكثير من الملفات على سطح المكتب يفضل تنظيمها في مجلدات
خطأ	صح	9- من مكونات سطح المكتب شريط المهام وزرابدأ والأيقونات
خطأ	صح	10--يمكن إزالة البرامج المثبتة بالحاسب من خلال اعدادات التطبيقات

انتهت الأسئلة.. مع دعائي لكم بالتوفيق والنجاح

المادة: المهارات الرقمية

الصف: أول متوسط

الدرجة:



المملكة العربية السعودية

إدارة التعليم

مدرسة

اسم الطالبة : الصف :

السؤال الأول : اختاري الإجابة الصحيحة :		
١-أحد أنواع أجهزة الحاسبات الشخصية خفيف الوزن يسهل حمله واستخدامه في أي مكان تقريباً :		
المكتبي	المحمول	الخادم
٢-هي بمثابة المركز الرئيس للحاسب الذي تتصل به ومن خلاله جميع الأجزاء الأخرى :		
لوحة الام	الذاكرة العشوائية	وحدة المعالجة المركزية
٣-من الأمور التي يمكن تغييرها في حد الصفحة:		
نسخ	حذف	اللون
٤-تغيير المحاذاة تستخدم لتغيير :		
محاذاة فقرتك	تلوين فقرتك	حذف فقرتك
٥-إحدى عمليات معالجة النصوص التي يمكنك من دمج مستند مع ملف قاعدة البيانات :		
دمج المراسلات	القارئ الشامل	الhashية السلفية
٦-بعد طباعة الدعوات سيكون من المناسب إرسالها إلى المستلمين باستخدام:		
الرسائل	الملصقات	المغلقات
٧-يمكن العثور على جميع أجهزة التخزين أو أماكن الشبكة التي يتصل بها الحاسب بالضغط على :		
هذا الكمبيوتر الشخصي	المستندات	سطح المكتب
٨-عند وجود الكثير من الملفات على سطح المكتب يفضل تنظيمها في :		
مجلدات	سلة المهملات	برامج

السؤال الثاني : حددي العبارة الصحيحة والعبارة الخاطئة :		
صح	خطأ	
<input type="radio"/>	<input type="radio"/>	١-الحاسب هو جهاز إلكتروني لديه القدرة على معالجة وتخزين واسترجاع البيانات.
<input type="radio"/>	<input type="radio"/>	٢-يوجد في الأسواق أنواع من أجهزة الحاسبات المختلفة في حجمها وقدراتها .
<input type="radio"/>	<input type="radio"/>	٣-لا تسمح لنا أنظمة التشغيل إلا بإنشاء حساب واحد فقط .

أقلمي الصفحة

<input type="radio"/>	<input type="radio"/>	٤- يعد إيقاف تشغيل الحاسب بطريقة صحيحة أحد الأمور المهمة .
<input type="radio"/>	<input type="radio"/>	٥- لا يمكن إزالة برنامج مثبت على الحاسب الخاص بك بمجرد تثبيته .
<input type="radio"/>	<input type="radio"/>	٦- يساعدك مدير المهام على إدارة جميع برامج جهاز الحاسب قيد التشغيل .
<input type="radio"/>	<input type="radio"/>	٧- يمكن إضافة صورة من الانترنت من خلال اختيار إدراج صور من هذا الجهاز .
<input type="radio"/>	<input type="radio"/>	٩- للقيام بإرسال دعوة إلى العديد من الأشخاص يتم استخدام دمج المراسلات .

السؤال الثالث : وصلي صورة أجهزة الحاسب بما يناسبها في النص المقابل :				
الحاسب المحمول	<input type="radio"/>		<input type="radio"/>	
الحاسب المكتبي	<input type="radio"/>		<input type="radio"/>	
مشغلات ألعاب الفيديو	<input type="radio"/>		<input type="radio"/>	
الحاسب اللوحي	<input type="radio"/>		<input type="radio"/>	

انتهت الأسئلة

مديرة المدرسة :

معلمة المادة :

نموذج الإجابة

المادة: المهارات الرقمية

الصف : أول متوسط

الدرجة :



المملكة العربية السعودية

إدارة التعليم

مدرسة




اسم الطالبة : الصف :

السؤال الأول : اختاري الإجابة الصحيحة :		
١-أحد أنواع أجهزة الحاسبات الشخصية خفيف الوزن يسهل حمله واستخدامه في أي مكان تقريباً :		
المكتبي	المحمول	الخادم
٢-هي بمثابة المركز الرئيس للحاسب الذي تتصل به ومن خلاله جميع الأجزاء الأخرى :		
لوحة الام	الذاكرة العشوائية	وحدة المعالجة المركزية
٣-من الأمور التي يمكن تغييرها في حد الصفحة:		
نسخ	حذف	اللون
٤-تغيير المحاذاة تستخدم لتغيير :		
محاذاة فقرتك	تلوين فقرتك	حذف فقرتك
٥-إحدى عمليات معالجة النصوص التي يمكنك من دمج مستند مع ملف قاعدة البيانات :		
دمج المراسلات	القارئ الشامل	الhashية السلفية
٦-بعد طباعة الدعوات سيكون من المناسب إرسالها إلى المستلمين باستخدام:		
الرسائل	الملصقات	المغلقات
٧-يمكن العثور على جميع أجهزة التخزين أو أماكن الشبكة التي يتصل بها الحاسب بالضغط على :		
هذا الكمبيوتر الشخصي	المستندات	سطح المكتب
٨-عند وجود الكثير من الملفات على سطح المكتب يفضل تنظيمها في :		
مجلدات	سلة المهملات	برامج

السؤال الثاني : حددي العبارة الصحيحة والعبارة الخاطئة :		
صح	خطأ	
<input checked="" type="radio"/>	<input type="radio"/>	١-الحاسب هو جهاز إلكتروني لديه القدرة على معالجة وتخزين واسترجاع البيانات.
<input checked="" type="radio"/>	<input type="radio"/>	٢-يوجد في الأسواق أنواع من أجهزة الحاسبات المختلفة في حجمها وقدراتها .
<input checked="" type="radio"/>	<input type="radio"/>	٣-لا تسمح لنا أنظمة التشغيل إلا بإنشاء حساب واحد فقط .

أقلمي الصفحة

<input type="radio"/>	<input checked="" type="radio"/>	٤- يعد إيقاف تشغيل الحاسب بطريقة صحيحة أحد الأمور المهمة .
<input checked="" type="radio"/>	<input type="radio"/>	٥- لا يمكن إزالة برنامج مثبت على الحاسب الخاص بك بمجرد تثبيته .
<input type="radio"/>	<input checked="" type="radio"/>	٦- يساعدك مدير المهام على إدارة جميع برامج جهاز الحاسب قيد التشغيل .
<input checked="" type="radio"/>	<input type="radio"/>	٧- يمكن إضافة صورة من الانترنت من خلال اختيار إدراج صور من هذا الجهاز .
<input type="radio"/>	<input checked="" type="radio"/>	٨- للقيام بإرسال دعوة إلى العديد من الأشخاص يتم استخدام دمج المراسلات .

السؤال الثالث : وصلي صورة أجهزة الحاسب بما يناسبها في النص المقابل :				
الحاسب المحمول	<input type="radio"/>	<input checked="" type="radio"/>	<input type="radio"/>	
الحاسب المكتبي	<input type="radio"/>	<input checked="" type="radio"/>	<input type="radio"/>	
مشغلات ألعاب الفيديو	<input type="radio"/>	<input checked="" type="radio"/>	<input type="radio"/>	
الحاسب اللوحي	<input type="radio"/>	<input checked="" type="radio"/>	<input type="radio"/>	

انتهت الأسئلة

مديرة المدرسة :

معلمة المادة :

موقع
مادنتيرا

الصف :

الاسم :

السؤال الأول : أ- اكتب المصطلح المناسب مما يلي : -

دمج المراسلات

الحاسب

البرامج

الأجزاء المادية

جهاز إلكتروني لدية القدرة على معالجة وتخزين واسترجاع البيانات كما يمكنه القيام بالكثير من الامور المفيدة.	
الأجزاء التي يتكون منها الحاسب وتتضمن الشاشة واللوحة الأم وغيرها.	
مجموعة من التطبيقات المثبتة على الحاسب التي تحتاجها لتكون قادرا على تشغيله مثل نظام التشغيل.	
إحدى عمليات معالجة النصوص التي يمكنك من دمج مستند مع ملف قاعدة البيانات.	

السؤال الأول : ب- ضع علامة \checkmark أو X :

١	هناك طرق ذكية أكثر سهولة لنسخ أو نقل الملفات مثل السحب والإفلات
٢	نظام التشغيل من المهم ان يتسم بصعوبة الاستخدام ليكون ممتعاً للمستخدم
٣	المقال الذي يقتصر على النصوص فقط ممتع للقارئ
٤	معالج دمج المراسلات هو تطبيق داخل برنامج مايكروسوفت باوربوينت

السؤال الثاني: أ- ضع المسمى المناسب مما يلي:

ذاكرة الوصول العشوائي

القرص الصلب

اللوحة الأم

المعالج

المركز الرئيس للحاسب	الذاكرة الرئيسية للحاسب	مثابة العقل بالنسبة للحاسب	جهاز التخزين الرئيس في الحاسب
.....

السؤال الثاني: ب- اكتب نوع الحاسب من خلال الصور التالية:

			
.....

نموذج الاجابة

١

٨

السؤال الأول : أ- اكتب المصطلح المناسب مما يلي : -

دمج المراسلات	الحاسب	البرامج	الأجزاء المادية
---------------	--------	---------	-----------------

جهاز إلكتروني لدية القدرة على معالجة وتخزين واسترجاع البيانات كما يمكنه القيام بالكثير من الامور المفيدة.	الحاسب
الأجزاء التي يتكون منها الحاسب وتتضمن الشاشة واللوحة الأم وغيرها.	الاجزاء المادية
مجموعة من التطبيقات المثبتة على الحاسب التي تحتاجها لتكون قادرا على تشغيله مثل نظام التشغيل.	البرامج
إحدى عمليات معالجة النصوص التي يمكنك من دمج مستند مع ملف قاعدة البيانات.	دمج المراسلات

السؤال الأول : ب- ضع علامة √ أو X :

✓	هناك طرق ذكية أكثر سهولة لنسخ أو نقل الملفات مثل السحب والإفلات	١
X	نظام التشغيل من المهم ان يتسم بصعوبة الاستخدام ليكون ممتعاً للمستخدم	٢
X	المقال الذي يقتصر على النصوص فقط ممتع للقارئ	٣
X	معالج دمج المراسلات هو تطبيق داخل برنامج مايكروسوفت باوربوينت	٤

السؤال الثاني: أ- ضع المسمى المناسب مما يلي:

ذاكرة الوصول العشوائي	القرص الصلب	اللوحة الأم	المعالج
-----------------------	-------------	-------------	---------

المركز الرئيس للحاسب	الذاكرة الرئيسية للحاسب	مثابة العقل بالنسبة للحاسب	جهاز التخزين الرئيس في الحاسب
اللوحة الأم	ذاكرة الوصول العشوائي	المعالج	القرص الصلب

السؤال الثاني: ب- اكتب نوع الحاسب من خلال الصور التالية:

الخادم	الاجهزة الذكية	اللوحي	المكتبي

الاسم : الصف :

السؤال الأول : اكتب المصطلح المناسب لمكونات سطح المكتب مما يلي : -

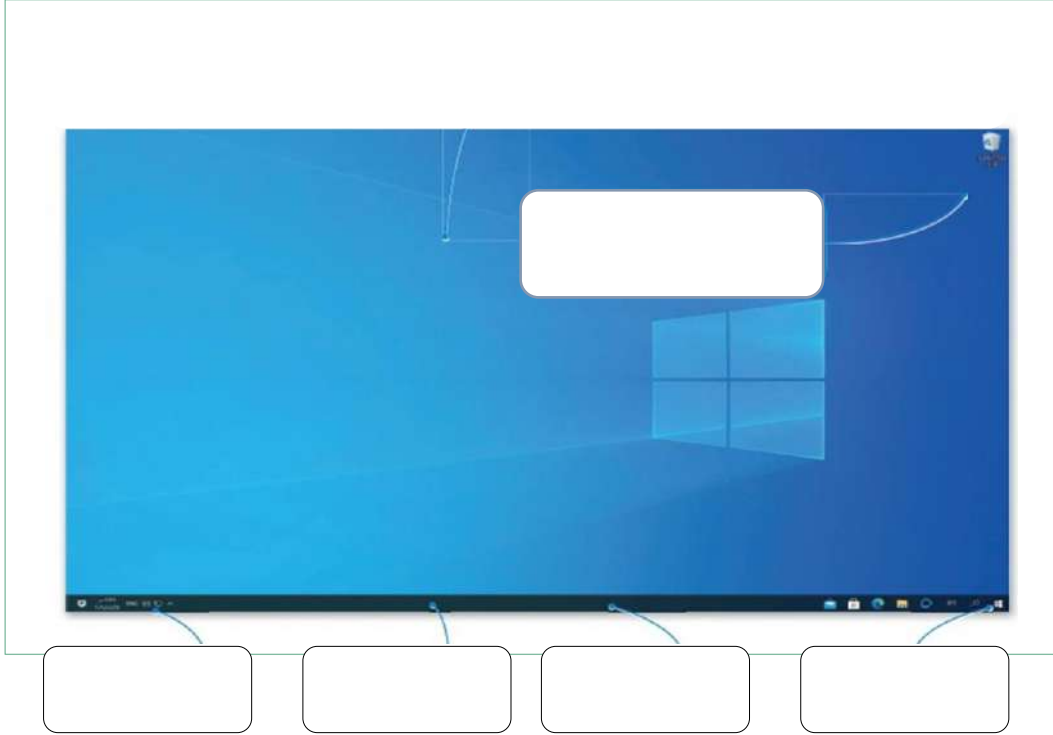
ايقونات بدء التشغيل

شريط المهام

البرامج المتكرر استخدامها

زر البدء

الايقونات



السؤال الثاني : ضع علامة √ أو X :

١	نستطيع تغيير حجم أيقونات سطح المكتب إلى ثلاثة أحجام كبيرة ومتوسطة وصغيرة
٢	لإغلاق برنامج لا يستجيب عن طريق مدير المهام وبعد ذلك نحدد البرنامج ومن ثم نقر على إنهاء المهمة
٣	أجهزة التخزين تظهر لنا بعد أن نقوم بفتح أيقونة المستندات
٥	لا نستطيع أن نقوم بإخفاء المجلدات
٦	أول خطوة من خطوات إنشاء مستندات دمج المراسلات هي تحديد نوع المستند
٧	التنسيق الافتراضي لحفظ المستند في مايكروسوفت وورد هو pdf

نموذج الإجابة

١٢

السؤال الأول : اكتب المصطلح المناسب لمكونات سطح المكتب مما يلي :-

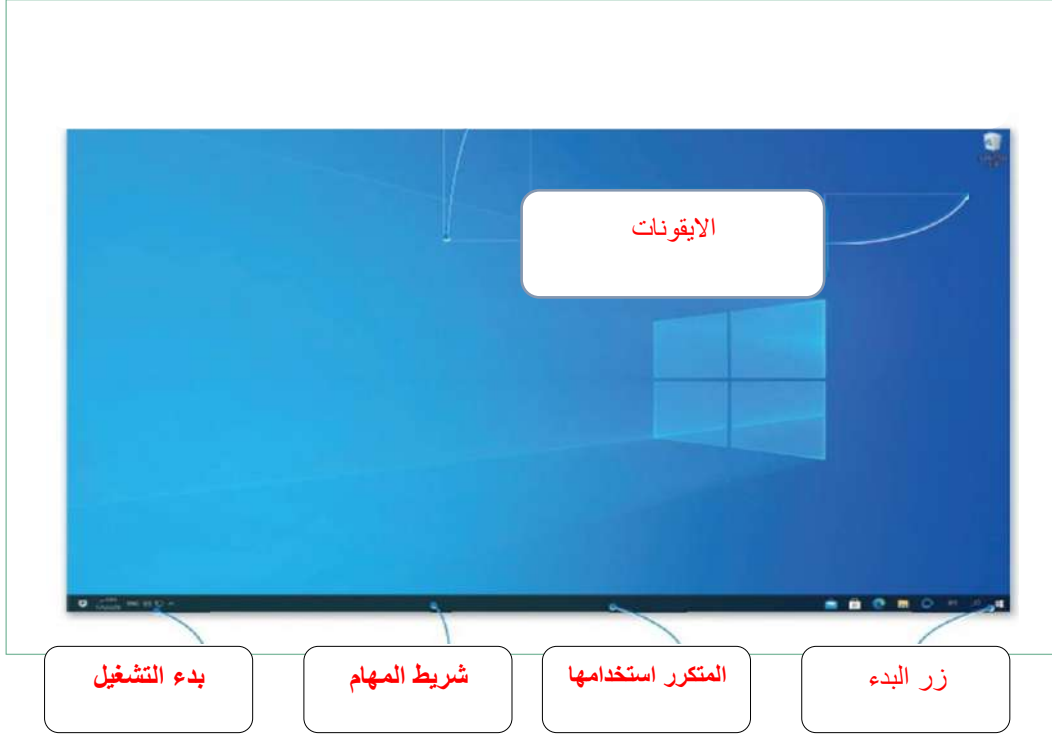
ايقونات بدء التشغيل

شريط المهام

البرامج المتكرر استخدامها

زر البدء

الايقونات



السؤال الثاني : ضع علامة √ أو X :

✓	نستطيع تغيير حجم أيقونات سطح المكتب إلى ثلاثة أحجام كبيرة ومتوسطة وصغيرة	١
✓	لإغلاق برنامج لا يستجيب عن طريق مدير المهام وبعد ذلك نحدد البرنامج ومن ثم نقر على إنهاء المهمة	٢
X	أجهزة التخزين تظهر لنا بعد أن نقوم بفتح أيقونة المستندات	٣
X	لا نستطيع أن نقوم بإخفاء المجلدات	٥
✓	أول خطوة من خطوات إنشاء مستندات دمج المراسلات هي تحديد نوع المستند	٦
X	التنسيق الافتراضي لحفظ المستند في مايكروسوفت وورد هو pdf	٧

اختبار فترتي (تحريري) لمادة المهارات الرقمية أول متوسط الفصل الاول لعام ١٤٤٧ هـ

٣

أسم الطالبة : الفصل :

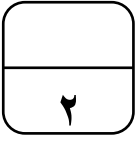
السؤال الاول: ظلي الإجابة الصحيحة فيما يلي :

١	أحد أنواع الحاسبات الشخصية خفيف الوزن يسهل حمله واستخدامه في أي مكان تقريباً :	○	الحاسب المحمول	○	الحاسب المكتبي	○	الحاسب اللوحي
٢	هي بمثابة المركز الرئيس للحاسب الذي تتصل به ومن خلاله جميع الأجزاء الأخرى :	○	وحدة المعالجة المركزية	○	ذاكرة الوصول العشوائي	○	اللوحة الأم
٣	يستخدم للإشارة إلى العناصر الموجودة على الشاشة وتنفيذ الأوامر من خلال الضغط على أزرارها :	○	لوحة المفاتيح	○	الفأرة	○	السماعات
٤	أجهزة يمكنك من إدخال وإخراج البيانات من وإلى الحاسب الخاص بك :	○	أجهزة ادخال	○	أجهزة اخراج	○	أجهزة الإدخال والإخراج
٥	جهاز التخزين الرئيس في الحاسب يستخدم لتخزين البيانات واسترجاعها دون تأثرها بانقطاع التيار الكهربائي :	○	القرص الصلب	○	المعالج	○	ذاكرة الوصول العشوائي
٦	يمكن استعراض خصائص أي ملف وستظهر لك مجموعة من المعلومات ومنها :	○	تاريخ الإنشاء	○	حذف	○	حفظ

٣

السؤال الثاني: ضعي علامة (✓) عند العبارة الصحيحة وعلامة (✗) عند العبارة الخاطئة:

١.	يساعد مدير المهام على إدارة برامج الحاسب قيد التشغيل وإيقاف أحد البرامج عند توقفه عن الاستجابة.
٢.	من الطرق المتقدمة لنسخ الملفات والمجلدات أو نقلها السحب والإفلات .
٣.	يمكن تخصيص سطح المكتب بصورة من اختيارك وكذلك تعيين ألوان مختلفة للنوافذ .
٤.	يعد إيقاف تشغيل الحاسب بطريقة صحيحة أحد الأمور المهمة.
٥.	أنظمة التشغيل بواجهة المستخدم الرسومية تسمح للمستخدم برؤية جميع الملفات والمجلدات.
٦.	لا يمكن إزالة برنامج مثبت على الحاسب الخاص بك بمجرد تثبيته .



السؤال الثالث : اكتبى نوع الحاسب من خلال الصور التالية:



انتهت الاسئلة تمنياتي لكن بالتوفيق

مديرة المدرسة : فاطمه الثواب

معلمة المادة : عبير الغريب

موقع مادنتري

نموذج الإجابة

اختبار فكري (تحريري) لمادة المهارات الرقمية أول متوسط الفصل الاول لعام ١٤٤٧ هـ

اسم الطالبة : الفصل :

٣

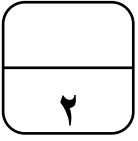
السؤال الاول: ظللي الإجابة الصحيحة فيما يلي :

١	أحد أنواع الحاسبات الشخصية خفيف الوزن يسهل حمله واستخدامه في أي مكان تقريباً :	<input type="radio"/>	الحاسب المكتبي	<input type="radio"/>	الحاسب المحمول	<input checked="" type="radio"/>
٢	هي بمثابة المركز الرئيس للحاسب الذي تتصل به ومن خلاله جميع الأجزاء الأخرى :	<input type="radio"/>	وحدة المعالجة المركزية	<input type="radio"/>	ذاكرة الوصول العشوائي	<input checked="" type="radio"/>
٣	يستخدم للإشارة إلى العناصر الموجودة على الشاشة وتنفيذ الأوامر من خلال الضغط على أزرارها :	<input type="radio"/>	لوحة المفاتيح	<input checked="" type="radio"/>	الفأرة	<input type="radio"/>
٤	أجهزة تمكّنك من إدخال وإخراج البيانات من وإلى الحاسب الخاص بك :	<input type="radio"/>	أجهزة ادخال	<input type="radio"/>	أجهزة الإخراج والإدخال	<input checked="" type="radio"/>
٥	جهاز التخزين الرئيس في الحاسب يستخدم لتخزين البيانات واسترجاعها دون تأثرها بانقطاع التيار الكهربائي :	<input type="radio"/>	القرص الصلب	<input type="radio"/>	المعالج	<input type="radio"/>
٦	يمكن استعراض خصائص أي ملف وستظهر لك مجموعة من المعلومات ومنها :	<input type="radio"/>	تاريخ الإنشاء	<input type="radio"/>	حذف	<input type="radio"/>
		<input type="radio"/>	حفظ	<input checked="" type="radio"/>		

٣

السؤال الثاني: ضعي علامة (✓) عند العبارة الصحيحة وعلامة (✗) عند العبارة الخاطئة:

✓	١ . يساعد مدير المهام على إدارة برامج الحاسب قيد التشغيل و إيقاف أحد البرامج عند توقفه عن الاستجابة.
✓	٢ . من الطرق المتقدمة لنسخ الملفات والمجلدات أو نقلها السحب والإفلات .
✓	٣ . يمكن تخصيص سطح المكتب بصورة من اختيارك وكذلك تعيين ألوان مختلفة للنوافذ .
✓	٤ . يعد إيقاف تشغيل الحاسب بطريقة صحيحة أحد الأمور المهمة.
✓	٥ . أنظمة التشغيل بواجهة المستخدم الرسومية تسمح للمستخدم برؤية جميع الملفات والمجلدات.
✗	٦ . لا يمكن إزالة برنامج مثبت على الحاسب الخاص بك بمجرد تثبيته .



السؤال الثالث : اكتبى نوع الحاسب من خلال الصور التالية:



الخادم



الاجهزة الذكية



اللوحي



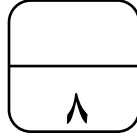
المكتبي

انتهت الاسئلة تمنياتي لكن بالتوفيق

مديرة المدرسة : فاطمه الثواب

معلمة المادة : عبير الغريب

موقع
مادتي



اختبار فترتي (تحريري) لمادة المهارات الرقمية أول متوسط الفصل الاول لعام ١٤٤٧ هـ

أسم الطالبة : الفصل :

السؤال الاول: ظللي الإجابة الصحيحة فيما يلي :

١	أحد أنواع الحاسبات الشخصية خفيف الوزن يسهل حمله واستخدامه في أي مكان تقريباً :				
○	الحاسب المحمول	○	الحاسب المكتبي	○	الحاسب اللوحي
٢	هي بمثابة المركز الرئيس للحاسب الذي تتصل به ومن خلاله جميع الأجزاء الأخرى :				
○	وحدة المعالجة المركزية	○	ذاكرة الوصول العشوائي	○	اللوحة الأم
٣	يستخدم للإشارة إلى العناصر الموجودة على الشاشة وتنفيذ الأوامر من خلال الضغط على أزرارها :				
○	لوحة المفاتيح	○	الفأرة	○	السماعات
٤	أجهزة تمكنتك من إدخال وإخراج البيانات من وإلى الحاسب الخاص بك :				
○	أجهزة ادخال	○	أجهزة اخراج	○	أجهزة الإدخال والإخراج

السؤال الثاني: ضعي علامة (✓) عند العبارة الصحيحة وعلامة (✗) عند العبارة الخاطئة:

١.	يساعد مدير المهام على إدارة برامج الحاسب قيد التشغيل وإيقاف أحد البرامج عند توقفه عن الاستجابة.
٢.	لا يمكن إزالة برنامج مثبت على الحاسب الخاص بك بمجرد تثبيته .
٣.	يمكن تخصيص سطح المكتب بصورة من اختيارك وكذلك تعيين ألوان مختلفة للنوافذ .
٤.	يعد إيقاف تشغيل الحاسب بطريقة صحيحة أحد الأمور المهمة.

السؤال المساعد: اذكر ثلاثة من أجهزة التخزين في الحاسب ؟

١- ٢- ٣-

انتهت الاسئلة تمنياتي لكن بالتوفيق

مديرة المدرسة :

معلمة المادة :

نموذج الاجابة

اختبار فترتي (تحريري) لمادة المهارات الرقمية أول متوسط الفصل الاول لعام ١٤٤٧ هـ

أسم الطالبة : الفصل :

السؤال الاول: ظللي الإجابة الصحيحة فيما يلي :

١	أحد أنواع الحاسبات الشخصية خفيف الوزن يسهل حمله واستخدامه في أي مكان تقريباً :	الحاسب المحمول	<input type="radio"/>	الحاسب المكتبي	<input type="radio"/>	الحاسب اللوحي	<input checked="" type="radio"/>
٢	هي بمثابة المركز الرئيس للحاسب الذي تتصل به ومن خلاله جميع الأجزاء الأخرى :	وحدة المعالجة المركزية	<input type="radio"/>	ذاكرة الوصول العشوائي	<input checked="" type="radio"/>	اللوحة الأم	<input type="radio"/>
٣	يستخدم للإشارة إلى العناصر الموجودة على الشاشة وتنفيذ الأوامر من خلال الضغط على أزرارها :	لوحة المفاتيح	<input checked="" type="radio"/>	الفأرة	<input type="radio"/>	السماعات	<input type="radio"/>
٤	أجهزة تمكنتك من إدخال وإخراج البيانات من وإلى الحاسب الخاص بك :	أجهزة ادخال	<input type="radio"/>	أجهزة اخراج	<input checked="" type="radio"/>	أجهزة الإدخال والإخراج	<input type="radio"/>

السؤال الثاني: ضعي علامة (✓) عند العبارة الصحيحة وعلامة (✗) عند العبارة الخاطئة:

✓	١. يساعد مدير المهام على إدارة برامج الحاسب قيد التشغيل وإيقاف أحد البرامج عند توقفه عن الاستجابة.
✗	٢. لا يمكن إزالة برنامج مثبت على الحاسب الخاص بك بمجرد تثبيته .
✓	٣. يمكن تخصيص سطح المكتب بصورة من اختيارك وكذلك تعيين ألوان مختلفة للنوافذ .
✓	٤. يعد إيقاف تشغيل الحاسب بطريقة صحيحة أحد الأمور المهمة.

السؤال المساعد: اذكر ثلاثة من أجهزة التخزين في الحاسب ؟

١- ذاكرة الفلاش usb ٢- الأقراص الضوئية ٣- القرص الصلب الخارجي ٤- بطاقة الذاكرة

انتهت الاسئلة تمنياتي لكن بالتوفيق

مديرة المدرسة :

معلمة المادة :

تدريبات الفتره الاولى

الاسم :

السؤال الأول:

اختر الإجابة الصحيحة لكل فقرة من الفقرات التالية:

أي من المكونات التالية يعتبر "عقل" الحاسب والمسؤول عن تنفيذ العمليات؟				١
القرص الصلب	وحدة المعالجة المركزية (CPU)	ذاكرة الوصول العشوائي (RAM)	اللوحة الأم	
أي من الأجهزة التالية يصنف كجهاز إخراج فقط؟				٢
شاشة اللمس	الماسح الضوئي	السماعة	الفأرة	
ما هو نوع الذاكرة الذي يفقد بياناته بمجرد انقطاع التيار الكهربائي؟				٣
القرص الصلب (HDD)	ذاكرة القراءة فقط (ROM)	ذاكرة الفلاش (USB)	ذاكرة الوصول العشوائي (RAM)	
الحاسب المكتبي، الحاسب المحمول ، والخوادم هي أمثلة على:				٤
التطبيقات	اللوحة الأم	البرامج	أنواع أجهزة الحاسب	
أي من التالي يستخدم لحفظ البيانات بشكل دائم ويمكن نقله بسهولة بين الأجهزة؟				٥
بطاقة الفيديو	اللوحة الأم	ذاكرة الفلاش (USB)	وحدة المعالجة المركزية	
يعتبر الهاتف الذكي احد انواع الحاسب:				٦
الالعاب	الخادم	العملاق	الشخصي	
أي من التالي هي مهمة نظام التشغيل؟				٧
تشغيل الألعاب فقط	التحكم بجهاز الحاسب و إدارة موارده	تصفح الإنترنت فقط	كتابة النصوص فقط	
أي من التالي يعد من أنواع البرامج في الحاسب				٨
الفأرة	الشاشة	اللوحة الأم	التطبيقات	
ما هي الطريقة الصحيحة لإزالة محرك أقراص USB من جهاز الحاسب؟				٩
إيقاف تشغيل الجهاز ثم سحبه	الضغط عليه بالزر الأيمن واختيار " إخراج (Eject) " ثم سحبه	إعادة تشغيل الجهاز ثم سحبه	سحبه مباشرة من المنفذ	

أي من مكونات واجهة ويندوز التالية يعرض عادة الساعة والتاريخ والبرامج التي تعمل في الخلفية؟			
١٠	سطح المكتب	قائمة ابدأ	سلة المحذوفات
لإيجاد ملف لا تعرف مكانه، ما هي أفضل أداة يمكن استخدامها في ويندوز؟			
١١	برنامج الرسام	مستكشف الملفات (File Explorer)	لوحة التحكم
ما المقصود بتعدد المهام في نظام التشغيل مايكروسوفت ويندوز			
١٢	تشغيل برنامج واحد فقط في وقت محدد	العمل على العديد من البرامج في وقت واحد	إيقاف البرامج عند فتح برنامج جديد
أى من الإجراءات التالية يسمح لك بنقل شريط المهام من أسفل الشاشة إلى أعلاها؟			
١٣	النقر المزدوج على شريط المهام.	إلغاء تحديد خيار "تأمين شريط المهام" ثم سحبه للمكان الجديد.	تغيير خلفية سطح المكتب.
زيادة حجم الأيقونات على سطح المكتب.			
إذا توقف برنامج عن العمل فجأة، فإن الأداة المناسبة لإغلاقه بالقوة هي:			
١٤	مستكشف الملفات (File Explorer).	قائمة ابدأ. (Start Menu)	مدير المهام (Task Manager).
لوحة التحكم (Control Panel).			
لتغيير وظيفة زر الفأرة الأيسر ليقوم بعمل الزر الأيمن، تذهب إلى:			
١٥	إعدادات العرض.	إعدادات الشبكة.	إعدادات الفأرة في قسم الأجهزة.
إعدادات اللغة والوقت.			
لجعل أيقونات سطح المكتب تصطف بشكل منظم على شبكة غير مرئية، تستخدم خيار:			
١٦	ترتيب تلقائي للأيقونات.	محاذاة الأيقونات مع الشبكة.	إظهار أيقونات سطح المكتب.
تغيير حجم الأيقونات.			

السؤال الثاني :

حدد كلمة صح أو خطأ لكل فقرة من الفقرات الآتية:

١	المكونات المادية (Hardware) هي التعليمات والبرامج التي تخبر الحاسب بما يجب فعله.	صح	خطأ
٢	اللوحة الأم هي المركز الرئيسي للحاسب الذي تتصل به ومن خلاله جميع الأجزاء الأخرى.	صح	خطأ
٣	تُصنّف لوحة المفاتيح والمساح الضوئي ضمن أجهزة الإخراج.	صح	خطأ
٤	تعد ذاكرة الفلاش (USB) من أجهزة التخزين.	صح	خطأ
٥	تعتبر شاشة اللمس جهاز إدخال وإخراج في نفس الوقت.	صح	خطأ
٦	تعتبر الطابعة من ادوات الإخراج	صح	خطأ
٧	عند وجود الكثير من الملفات على سطح المكتب يفضل تنظيمها في مجلدات	صح	خطأ
٨	عندما يكون لديك الكثير من الملفات فيمكنك البحث عنها بكتابة أسم الملف في مربع نص خاص بالبحث	صح	خطأ

٩	○	○	صح	○	خطأ	يجب إيقاف تشغيل الحاسب دائماً عن طريق فصل سلك الطاقة مباشرة.
١٠	○	○	صح	○	خطأ	هناك طرق ذكية أكثر سهولة لنسخ أو نقل الملفات مثل السحب و الإفلات
١١	○	○	صح	○	خطأ	يمكن الوصول الى جميع البرامج و تطبيقات الويندوز تقريباً من خلال النافذة الرئيسية
١٢	○	○	صح	○	خطأ	حذف مجلد البرنامج من القرص الصلب هو الطريقة الموصى بها لإزالته.
١٣	○	○	صح	○	خطأ	يمكن تغيير حجم أيقونات سطح المكتب إلى ثلاثة أحجام رئيسية: كبيرة ومتوسطة وصغيرة.
١٤	○	○	صح	○	خطأ	عندما يكون شريط المهام مؤمناً، لا يمكن تغيير موقعه على الشاشة.
١٥	○	○	صح	○	خطأ	تغيير الزر الأساسي للفأرة يتطلب إعادة تشغيل جهاز الحاسب حتى يتم تفعيله.
١٦	○	○	صح	○	خطأ	خيار " إظهار أيقونات سطح المكتب " يستخدم لإخفاء أو عرض جميع الأيقونات مرة واحدة.

انتهت الأسئلة ،،،

موقع
مادنتيري

نموذج الاجابة

الاسم :

السؤال الأول:

اختر الإجابة الصحيحة لكل فقرة من الفقرات التالية:

أى من المكونات التالية يعتبر " عقل " الحاسب والمسؤول عن تنفيذ العمليات؟	١	اللوحة الأم	ذاكرة الوصول العشوائي (RAM)	وحدة المعالجة المركزية (CPU)	القرص الصلب
أى من الأجهزة التالية يصنف كجهاز إخراج فقط؟	٢	الفأرة	السماعة	الماسح الضوئي	شاشة اللمس
ما هو نوع الذاكرة الذي يفقد بياناته بمجرد انقطاع التيار الكهربائي؟	٣	القرص الصلب (HDD)	ذاكرة الفلاش (USB)	ذاكرة القراءة فقط (ROM)	ذاكرة الوصول العشوائي (RAM)
الحاسب المكتبي، الحاسب المحمول ، والخوادم هي أمثلة على:	٤	أنواع أجهزة الحاسب	البرامج	اللوحة الأم	التطبيقات
أى من التالي يستخدم لحفظ البيانات بشكل دائم ويمكن نقله بسهولة بين الأجهزة؟	٥	وحدة المعالجة المركزية	ذاكرة الفلاش (USB)	اللوحة الأم	بطاقة الفيديو
يعتبر الهاتف الذكي احد انواع الحاسب:	٦	الشخصي	العملاق	الخادم	الالعاب
أى من التالي هي مهمة نظام التشغيل؟	٧	كتابة النصوص فقط	تصفح الإنترنت فقط	التحكم بجهاز الحاسب و إدارة موارده	تشغيل الألعاب فقط
أى من التالي يعد من أنواع البرامج في الحاسب	٨	التطبيقات	اللوحة الأم	الشاشة	الفأرة
ما هي الطريقة الصحيحة لإزالة محرك أقراص USB من جهاز الحاسب؟	٩	سحبه مباشرة من المنفذ	إعادة تشغيل الجهاز ثم سحبه	الضغط عليه بالزر الأيمن واختيار " إخراج (Eject) " ثم سحبه	إيقاف تشغيل الجهاز ثم سحبه

١٠	أي من مكونات واجهة ويندوز التالية يعرض عادة الساعة والتاريخ والبرامج التي تعمل في الخلفية؟	سطح المكتب	قائمة ابدأ	سلة المحذوفات	شريط المهام
١١	لإيجاد ملف لا تعرف مكانه، ما هي أفضل أداة يمكن استخدامها في ويندوز؟	برنامج الرسام	مستكشف الملفات (File Explorer)	لوحة التحكم	متصفح الإنترنت
١٢	ما المقصود بتعدد المهام في نظام التشغيل مايكروسوفت ويندوز	تشغيل برنامج واحد فقط في وقت محدد	العمل على العديد من البرامج في وقت واحد	إيقاف البرامج عند فتح برنامج جديد	حذف البرامج غير المستخدمة
١٣	أي من الإجراءات التالية يسمح لك بنقل شريط المهام من أسفل الشاشة إلى أعلاها؟	النقر المزدوج على شريط المهام.	إلغاء تحديد خيار "تأمين شريط المهام" ثم سحبه للمكان الجديد.	تغيير خلفية سطح المكتب.	زيادة حجم الأيقونات على سطح المكتب.
١٤	إذا توقف برنامج عن العمل فجأة، فإن الأداة المناسبة لإغلاقه بالقوة هي:	مستكشف الملفات (File Explorer).	قائمة ابدأ. (Start Menu)	مدير المهام (Task Manager).	لوحة التحكم (Control Panel).
١٥	لتغيير وظيفة زر الفأرة الأيسر ليقوم بعمل الزر الأيمن، تذهب إلى:	إعدادات العرض.	إعدادات الشبكة.	إعدادات الفأرة في قسم الأجهزة.	إعدادات اللغة والوقت.
١٦	لجعل أيقونات سطح المكتب تصطف بشكل منظم على شبكة غير مرئية، تستخدم خيار:	ترتيب تلقائي للأيقونات.	محاذاة الأيقونات مع الشبكة.	إظهار أيقونات سطح المكتب.	تغيير حجم الأيقونات.

السؤال الثاني :

حدد كلمة صح أو خطأ لكل فقرة من الفقرات الآتية:

١	المكونات المادية (Hardware) هي التعليمات والبرامج التي تخبر الحاسب بما يجب فعله.	صح	خطأ
٢	اللوحة الأم هي المركز الرئيسي للحاسب الذي تتصل به ومن خلاله جميع الأجزاء الأخرى.	صح	خطأ
٣	تُصنّف لوحة المفاتيح والمسح الضوئي ضمن أجهزة الإخراج.	صح	خطأ
٤	تعد ذاكرة الفلاش (USB) من أجهزة التخزين.	صح	خطأ
٥	تعتبر شاشة اللمس جهاز إدخال وإخراج في نفس الوقت.	صح	خطأ
٦	تعتبر الطابعة من ادوات الإخراج	صح	خطأ
٧	عند وجود الكثير من الملفات على سطح المكتب يفضل تنظيمها في مجلدات	صح	خطأ
٨	عندما يكون لديك الكثير من الملفات فيمكنك البحث عنها بكتابة أسم الملف في مربع نص خاص بالبحث	صح	خطأ

















٩	<input type="radio"/>	صح	<input type="radio"/>	خطأ	يجب إيقاف تشغيل الحاسب دائماً عن طريق فصل سلك الطاقة مباشرة.
١٠	<input type="radio"/>	صح	<input type="radio"/>	خطأ	هناك طرق ذكية أكثر سهولة لنسخ أو نقل الملفات مثل السحب و الإفلات
١١	<input type="radio"/>	صح	<input type="radio"/>	خطأ	يمكن الوصول الى جميع البرامج و تطبيقات الويندوز تقريباً من خلال النافذة الرئيسية
١٢	<input type="radio"/>	صح	<input type="radio"/>	خطأ	حذف مجلد البرنامج من القرص الصلب هو الطريقة الموصى بها لإزالته.
١٣	<input type="radio"/>	صح	<input type="radio"/>	خطأ	يمكن تغيير حجم أيقونات سطح المكتب إلى ثلاثة أحجام رئيسية: كبيرة ومتوسطة وصغيرة.
١٤	<input type="radio"/>	صح	<input type="radio"/>	خطأ	عندما يكون شريط المهام مؤمناً، لا يمكن تغيير موقعه على الشاشة.
١٥	<input type="radio"/>	صح	<input type="radio"/>	خطأ	تغيير الزر الأساسي للفأرة يتطلب إعادة تشغيل جهاز الحاسب حتى يتم تفعيله.
١٦	<input type="radio"/>	صح	<input type="radio"/>	خطأ	خيار " إظهار أيقونات سطح المكتب " يستخدم لإخفاء أو عرض جميع الأيقونات مرة واحدة.

انتهت الأسئلة ،،،،






موقع
مادنتير

المهارات الرقمية	المادة	<p>المملكة العربية السعودية وزارة التعليم الإدارة العامة للتعليم بمحافظة جدة مدرسة البيان النموذجية</p>
المرحلة	الفصل الدراسي الأول – الفترة الثانية للعام الدراسي ١٤٤٧ هـ	
المتوسط	المرحلة	
الأول	الصف	
الثالثة	الوحدة	 
بنك الأسئلة مادة الحاسب – الدوري الثاني		

في الفقرات من (١) الى (١٨) اختاري الاجابة الصحيحة:

١	الخوارزمية هي:	(أ) مجموعة من الأوامر المكتوبة بلغة برمجة معينة	(ب) نوع من أنواع المخططات البيانية	(ج) قائمة من التعليمات يتم اتباعها لحل مشكلة معينة	(د) جهاز يمكن برمجته لاستقبال البيانات ومعالجتها	
الترتيب الصحيح لمراحل إنشاء البرنامج:						
٢	(أ) كتابة البرنامج بلغة بايثون رسم المخطط الانسيابي تشكيل الخوارزمية تحديد المشكلة	(ب) تحديد المشكلة تشكيل الخوارزمية رسم المخطط الانسيابي كتابة البرنامج بلغة بايثون	(ج) رسم المخطط الانسيابي تشكيل الخوارزمية كتابة البرنامج بلغة بايثون تحديد المشكلة	(د) تحديد المشكلة رسم المخطط الانسيابي تشكيل الخوارزمية كتابة البرنامج بلغة بايثون		
الشكل الذي يتم رسمه في بداية ونهاية المخطط الانسيابي هو:						
٣	(أ) 	(ب) 	(ج) 	(د) 		
الشكل الذي يتم رسمه لتنفيذ إجراء (عمليات رياضية أو إعطاء أوامر) هو:						
٤	(أ) 	(ب) 	(ج) 	(د) 		
الشكل الذي يتم رسمه في المخطط الانسيابي لاستقبال البيانات وعرض البيانات المعالجة (إدخال/ إخراج) هو:						
٥	(أ) 	(ب) 	(ج) 	(د) 		
الشكل الذي يتم رسمه لاتخاذ قرار (نعم/ لا) أو اختبارات تحقق (صواب/خطأ) هو:						
٦	(أ) 	(ب) 	(ج) 	(د) 		
٧	٥- يطلق على الأداة التي تستخدم لتحويل لغة البرمجة عالية المستوى إلى لغة الآلة لكي يفهمها الحاسب::	(أ) البرنامج.	(ب) محول برمجي.	(ج) بايثون.	(د) نظام التشغيل.	
٨	مجموعة من البرامج التي تقوم بإدارة الحاسب وتتحكم في عمل المكونات المادية والبرمجية هو:	(أ) المكونات المادية	(ب) البرنامج	(ج) المعلومات	(د) نظام التشغيل	

فى الفقرات من (١) الى (٥) طابقى بين الأشكال من العمود الأول مع الوصف المناسب لها من العمود الثانى.

العمود الثانى (مفهومه)	العمود الأول (نظام التشغيل)
(أ) البداية / النهاية	(١) 
(ب) الإدخال / الإخراج	(٢) 
(ج) العمليات	(٣) 
(د) اتخاذ قرار	(٤) 
(هـ) عرض التسلسل الذي يجب تنفيذ الخطوات به	(٥) 

فى الفقرات من (١) الى (٧) ضعى علامة (√) إذا كانت العبارة صحيحة والحرف (خ) إذا كانت العبارة خاطئة.

١. فى لغات البرمجة يتم استخدام كلمات وتراكيب خاصة باللغة العربية تصف التعليمات للحاسوب. ()
٢. الخطوة الأولى فى مراحل إنشاء برنامج هي رسم المخطط الانسيابي. ()
٣. الخطوة الأخيرة فى مراحل إنشاء البرنامج هي كتابة البرنامج بلغة البرمجة. ()
٤. البرنامج هو: مجموعة من الاوامر يتم تنفيذها من قبل الحاسب لتحقيق غرض معين. ()
٥. يجب أن يحتوي المخطط الانسيابي على نقطة بداية ونقطة نهاية. ()
٦. المخطط الانسيابي يستخدم لتمثيل الخوارزمية ويعرض الخطوات التي نحتاج إلى اتباعها بالترتيب الصحيح ()
٧. اللغة الوحيدة التي يفهمها الحاسوب هي لغة الآلة. ()
٨. من النصائح الهامة لعمل مخطط انسيابي يجب تقاطع خطوط الأسهم التي تربط بعض الإجراءات ببعض. ()
٩. تقوم أجهزة الحاسب باتخاذ القرارات بنفسها، وتتبع تعليمات عشوائية. ()

السؤال المقالى الأول : عددى ٢ من لغات البرمجة:

١.
٢.

السؤال المقالى الثانى : (أ) رتبى مراحل إنشاء برنامج

- () - رسم المخطط الانسيابى الذى يوضح التسلسل المنطقى للخوارزمية
- () - تحديد المشكله وكتابة الخطوات اللازمة لعلها
- () - كتابة البرنامج بلغة بايثون
- () - وضع الخطوات بترتيب منطقى تسلسلى لتشكيل الخوارزمية

(ب) قومى بكتابة الخوارزمية اللازمة لحساب مساحة المربع، ثم ارسمى المخطط الانسيابى لحساب تلك المساحة.

باستخدام المعادلة التالية لحساب المربع: المساحة: طول الضلع x طول الضلع

خطوات الخوارزمية:

- ١-
- ٢-
- ٣-
- ٤-












المخطط الانسيابى:

موقع
مادنتيرا






نموذج الإجابة

المهارات الرقمية	المادة	المملكة العربية
المتوسط	المرحلة	وزارة التعليم
الأول	الصف	الإدارة العامة للتعليم بمحافظة جدة
الثالثة	الوحدة	مدرسة البيان النموذجية
		الفصل الدراسي الأول - الفتره الثانيه للعام الدراسي ١٤٤٧ هـ
		 
بنك الأسئلة مادة الحاسب - الدوري الثاني		

في الفقرات من (١) الى (١٨) اختاري الاجابة الصحيحة:

١	اخوارزمية هي:	(أ) مجموعة من الأوامر المكتوبة بلغة برمجة معينة	(ب) نوع من أنواع المخططات البيانية	(ج) قائمة من التعليمات يتم اتباعها لحل مشكلة معينة	(د) جهاز يمكن برمجته لاستقبال البيانات ومعالجتها	
الترتيب الصحيح لمراحل إنشاء البرنامج:						
٢	(أ) كتابة البرنامج بلغة بايثون رسم المخطط الانسيابي تشكيل الخوارزمية تحديد المشكلة	(ب) تحديد المشكلة تشكيل الخوارزمية رسم المخطط الانسيابي كتابة البرنامج بلغة بايثون	(ج) رسم المخطط الانسيابي تشكيل الخوارزمية كتابة البرنامج بلغة بايثون تحديد المشكلة	(د) تحديد المشكلة رسم المخطط الانسيابي تشكيل الخوارزمية كتابة البرنامج بلغة بايثون		
الشكل الذي يتم رسمه في بداية ونهاية المخطط الانسيابي هو:						
٣	(أ) 	(ب) 	(ج) 	(د) 		
الشكل الذي يتم رسمه لتنفيذ إجراء (عمليات رياضية أو إعطاء أوامر) هو:						
٤	(أ) 	(ب) 	(ج) 	(د) 		
الشكل الذي يتم رسمه في المخطط الانسيابي لاستقبال البيانات وعرض البيانات المعالجة (إدخال/ إخراج) هو:						
٥	(أ) 	(ب) 	(ج) 	(د) 		
الشكل الذي يتم رسمه لاتخاذ قرار (نعم/ لا) أو اختبارات تحقق (صواب/خطأ) هو:						
٦	(أ) 	(ب) 	(ج) 	(د) 		
٥- يطلق على الأداة التي تستخدم لتحويل لغة البرمجة عالية المستوى إلى لغة الآلة لكي يفهمها الحاسب::						
٧	(أ) البرنامج.	(ب) محول برمجي.	(ج) بايثون.	(د) نظام التشغيل.		
مجموعة من البرامج التي تقوم بإدارة الحاسب وتتحكم في عمل المكونات المادية والبرمجية هو:						
٨	(أ) المكونات المادية	(ب) البرنامج	(ج) المعلومات	(د) نظام التشغيل		

في الفقرات من (١) الى (٥) طابقي بين الأشكال من العمود الأول مع الوصف المناسب لها من العمود الثاني.

العمود الأول (نظام التشغيل)		العمود الثاني (مفهومه)
(١) 	ج	(أ) البداية / النهاية
(٢) 	د	(ب) الإدخال / الإخراج
(٣) 	ب	(ج) العمليات
(٤) 	هـ	(د) اتخاذ قرار
(٥) 	أ	(هـ) عرض التسلسل الذي يجب تنفيذ الخطوات به

في الفقرات من (١) الى (٧) ضعي علامة (√) إذا كانت العبارة صحيحة والحرف (خ) إذا كانت العبارة خاطئة.

١. في لغات البرمجة يتم استخدام كلمات وتراكيب خاصة باللغة العربية تصف التعليمات للحاسوب. (X)
٢. الخطوة الأولى في مراحل إنشاء برنامج هي رسم المخطط الانسيابي. (X)
٣. الخطوة الأخيرة في مراحل إنشاء البرنامج هي كتابة البرنامج بلغة البرمجة. (صح)
٤. البرنامج هو: مجموعة من الاوامر يتم تنفيذها من قبل الحاسب لتحقيق غرض معين. (صح)
٥. يجب أن يحتوي المخطط الانسيابي على نقطة بداية ونقطة نهاية. (صح)
٦. المخطط الانسيابي يستخدم لتمثيل الخوارزمية ويعرض الخطوات التي نحتاج إلى اتباعها بالترتيب الصحيح (صح)
٧. اللغة الوحيدة التي يفهمها الحاسوب هي لغة الآلة. (صح)
٨. من النصائح الهامة لعمل مخطط انسيابي يجب تقاطع خطوط الأسهم التي تربط بعض الإجراءات ببعض. (X)
٩. تقوم أجهزة الحاسب باتخاذ القرارات بنفسها، وتتبع تعليمات عشوائية. (X)

السؤال المقالى الأول : عددي ٢ من لغات البرمجة:

بايثون

سكراتش

السؤال المفاتيحي الثاني : (أ) رتبى مراحل إنشاء برنامج

- (٣) - رسم للمخطط الانسيابي الذي يوضح التسلسل المنطقي للخوارزمية
- (١) - تحديد للمشكلة وكتابة الخطوات للارزمية لها
- (٤) - كتابة البرنامج بلغة بلتون
- (٢) - وضع الخطوات بترتيب منطقي تسلسلي لتشكيل الخوارزمية

(ب) قومي بكتابة الخوارزمية الازمية لحساب مساحة المربع، ثم ارسمي المخطط الانسيابي لحساب تلك المساحة.

باستخدام المعادلة التالية لحساب المربع: المساحة: طول الضلع \times طول الضلع

MUHAMMAD

خطوات الخوارزمية:

- ١- ادخل طول الضلع
- ٢- اضرب طول الضلع \times طول الضلع
- ٣- اعرض النتيجة
- ٤- النهاية



المخطط الانسيابي:

اختبار الفترة الاولى الفصل الدراسي الاول للعام 1447 هـ

اسم الطالبة/

السؤال الأول: أ- اختر الإجابة الصحيحة لكل من العبارات التالية: -

1. يتم تمثيل المجلد بأيقونة			
أ	صفراء	ب	خضراء
ج	حمراء	د	بنفسجية
2. نوع من الأجهزة يستخدم في المؤسسات متوسطة الحجم			
أ	ال خادم	ب	ال عملاقة
ج	مشغلات الفيديو	د	ال حاسوب
3. من أجهزة الحاسبات الشخصية خفيف الوزن يسهل حمله واستخدامه في أي مكان			
أ	المحمول	ب	المكتبي
ج	ال خادم	د	ال حاسوب
4. من الأمور التي يمكن تغييرها في حد الصفحة			
أ	اللون	ب	نسخ
ج	لصق	د	حذف
5. إحدى عمليات معالجة النصوص التي يمكنك من دمج مستند مع ملف قاعدة البيانات			
أ	دمج المراسلات	ب	الحاشية السلفية
ج	القارئ الشامل	د	ال حاسوب
6. بعد طباعة الدعوات سيكون من المناسب إرسالها إلى المستلمين باستخدام:			
أ	المغلفات	ب	الملصقات
ج	الرسائل	د	ال حاسوب
7. عند وجود الكثير من الملفات على سطح المكتب يفضل تنظيمها في:			
أ	مجلدات	ب	سلة المهملات
ج	برامج	د	ال حاسوب
8. من وحدات الإدخال			
أ	الفأرة	ب	الشاشة
ج	الطابعة	د	ال حاسوب
9. تغيير المحاذاة تستخدم لتغيير:			
أ	محاذاة فقرتك	ب	تلوين فقرتك
ج	حذف فقرتك	د	ال حاسوب
10. يمكن العثور على أجهزة التخزين أو أماكن الشبكة بالضغط على:			
أ	هذا الكمبيوتر الشخصي	ب	المستندات
ج	سطح المكتب	د	ال حاسوب
11. الأجزاء الكهربائية أو الميكانيكية التي يتكون منها الحاسب			
أ	المكونات المادية	ب	البرمجية
ج	الانترنت	د	ال حاسوب
12. من وحدات الإخراج			
أ	مكبرات الصوت	ب	لوحة المفاتيح
ج	المكروفون	د	ال حاسوب
13. يقصد بالمكونات البرمجية			
أ	صندوق الحاسب	ب	الشاشة
ج	نظام التشغيل والبرامج	د	ال حاسوب
14. تستخدم لنقل البيانات وتتميز بخفتها وصغر حجمها وسعتها التخزينية			
أ	لوحة المفاتيح	ب	الفأرة
ج	ذاكرة الفلاش	د	ال حاسوب
15. تقاس سرعة المعالج بـ			
أ	كيلومتر	ب	بايت
ج	الهيرتز	د	ال حاسوب

ب: صلي العمود الأول بما يناسبه من العمود الثاني:

العمود الثاني	العمود الأول
يقوم بتحويل البيانات من وحدة المعالجة المركزية الى صور على الشاشة	1 اللوحة الام
جهاز التخزين الرئيسي للحاسب	2 ذاكرة الوصول العشوائي
بمثابة عقل الحاسب ينفذ العمليات المختلفة	3 المعالج
الذاكرة الرئيسية للحاسب ويخزن المعلومات لفترة قصيرة من الزمن	4 القرص الصلب
تتصل به جميع أجزاء الحاسب	5 بطاقة الفيديو

السؤال الثاني- أ: ضع علامة (√) أو (X) أمام العبارات التالية:

1	الحاسب هو جهاز إلكتروني لديه القدرة على معالجة وتخزين واسترجاع البيانات
2	يوجد في الأسواق أنواع من أجهزة الحاسبات المختلفة في حجمها وقدراتها
3	يعد إيقاف تشغيل الحاسب بطريقة صحيحة أحد الأمور المهمة
4	يساعدك مدير المهام على إدارة جميع برامج جهاز الحاسب قيد التشغيل
5	للقيام بإرسال دعوة إلى العديد من الأشخاص يتم استخدام دمج المراسلات
6	تعتبر بطاقة الذاكرة من وحدات التخزين
7	الهواتف الذكية احد امثلة الحاسبات الشخصية pc
8	يمكن إضافة صورة من الانترنت من خلال اختيار إدراج صور من هذا الجهاز
9	لا يمكن إزالة برنامج مثبت على الحاسب الخاص بك بمجرد تثبيته
10	لا تسمح لنا أنظمة التشغيل إلا بإنشاء حساب واحد فقط

وصلي صورة أجهزة الحاسب بما يناسبها في النص المقابل:

الحاسب المحمول	<input type="radio"/>	<input type="radio"/>	
الحاسب المكتبي	<input type="radio"/>	<input type="radio"/>	
مشغلات ألعاب الفيديو	<input type="radio"/>	<input type="radio"/>	
الحاسب اللوحي	<input type="radio"/>	<input type="radio"/>	

وحدة تخزين	وحدة إخراج	وحدة إدخال
.....
.....
.....

انتهت الأسئلة
معلمة المادة: سارة الشهراني

السؤال الأول : اختاري الإجابة الصحيحة لكل من العبارات التالية:

1- أجهزة حاسب بدون لوحة مفاتيح ويتم إدخال البيانات بلمس الشاشة مثل الآيباد

أ الحاسب المكتبي ب الحاسب اللوحي ج الحاسب المحمول د الخوادم

2- المركز الرئيس للحاسب وتتصل به ومن خلاله جميع أجزاء الحاسب الأخرى.

أ المكونات البرمجية ب المعالج ج اللوحة الأم د القرص الصلب

3- أجهزة تساعد المستخدم على إدخال البيانات كالنصوص والصور أو التحكم في الحاسب

أ أجهزة إخراج ب أجهزة تخزين ج أجهزة إدخال د النظام التشغيل

السؤال الثاني : ضعي علامة ✓ امام العبارات الصحيحة وعلامة ✗ امام العبارات الخاطئة:

1 البرامج هي الأجزاء المادية الكهربائية والميكانيكية التي يتكون منها الحاسب مثل الشاشة واللوحة الأم ()

2 ذاكرة الوصول العشوائي لا يمكن تغيير البيانات المخزنة فيها)

3 من أنواع أجهزة الإدخال الكاميرا والفأرة ولوحة المفاتيح.)

السؤال الثالث: اذكري مثالا لكل مما يلي:

جهاز إخراج ..

الحاسبات الشخصية ..

سؤال إضافي: اذكري ما تعرفينه عن الوحدة الأولى.

.....
.....

الصف: اول متوسط	 وزارة التعليم Ministry of Education	المملكة العربية السعودية
عدد الأوراق : ٢		وزارة التعليم
الزمن: 45 دقيقة		إدارة التعليم بمكة المكرمة المتوسطة الأولى بالليث

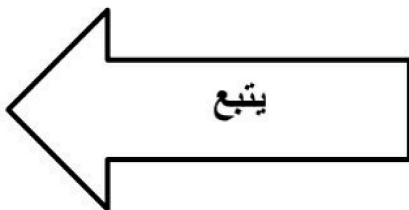
اختبارالفترة (نظري) لمادة المهارات الرقمية أول متوسط الفصل الاول لعام ١٤٤٧ هـ

٢٢

أسم الطالبة : الفصل (اول):

السؤال الاول: ظللي الإجابة الصحيحة فيما يلي :

١	أحد أنواع الحاسبات الشخصية خفيف الوزن يسهل حمله واستخدامه في أي مكان تقريباً :	٠	الحاسب المحمول	٠	الحاسب المكتبي	٠	الحاسب اللوحي
٢	هي بمثابة المركز الرئيسي للحاسب الذي تتصل به من خلاله جميع الأجزاء الأخرى :	٠	اللوحة الأم	٠	ذاكرة الوصول العشوائي	٠	وحدة المعالجة المركزية
٣	يستخدم للإشارة إلى العناصر الموجودة على الشاشة وتنفيذ الأوامر من خلال الضغط على أزرارها :	٠	الفأرة	٠	الأقراص الضوئية	٠	السماعات
٤	أجهزة تمكنتك من إدخال وإخراج البيانات من وإلى الحاسب الخاص بك :	٠	أجهزة ادخال	٠	أجهزة الإدخال والإخراج	٠	أجهزة اخراج
٥	جهاز الكتروني يمكنه معالجة وتخزين واسترجاع البيانات :	٠	القرص الصلب	٠	الحاسب	٠	ذاكرة الوصول العشوائي
٦	حاسب مركزي يستخدم في المؤسسات متوسطة الحجم :	٠	الشخصي	٠	الخوادم	٠	المكتبي
٧	تستخدم لادخال النصوص وإعطاء الاوامر	٠	الماسح الضوئي	٠	السماعة	٠	لوحة المفاتيح
٨	يساعدك على تسجيل صوتك وحفظه في الحاسب	٠	لوحة الالعب	٠	الطابعة	٠	الميكروفون
٩	مجموعة من التطبيقات مثبتة على جهاز الحاسب	٠	البرامج	٠	الذاكرة	٠	القرص الصلب
١٠	تستخدم لادخال البيانات من خلال اللمس	٠	شاشة اللمس	٠	مكبرات الصوت	٠	الطابعة



السؤال الثاني: ضع علامة (✓) عند العبارة الصحيحة وعلامة (✗) عند العبارة الخاطئة:

١ . من مهام نظام التشغيل التحكم بجهاز الحاسب وإدارة موارد بشكل صحيح.	
٢ . تعتبر الكاميرا من وحدات الادخال وتستخدم لادخال الصوروالفيديو الى جهاز الحاسب	
٣ . المكونات المادية هي الأجزاء الميكانيكية والكهربائية التي يتكون منها الحاسب مثل الشاشة .	
٤ . مشغلات العاب الفيديو تتيح لك لعب العاب الفيديو فردي وجماعي.	
٥ . تعتبر الطابعة من وحدات الاخراج.	
٦ . الحاسبات المدمجة تقوم بمهام محددة كالصراف الالي والغسالات والسيارات	
٧ . تعتبر ذاكرة الفلاش من وحدات التخزين	
٨ . تعد الهواتف الذكية احد أنواع الحاسبات اللوحية الصغيرة	
٩ . تعتبر الشاشة جهاز الإخراج الرئيسي للحاسب.	
١٠ . نظارة الواقع الافتراضي تعتبر من وحدات الادخال فقط	
١١ . يستخدم الماسح الضوئي لادخال الصور والمستندات الى جهاز الحاسب	
١٢ . تعتبر السماعات من وحداتالتخزين .	

انتهت الاسئلة تمنياتي لكن بالتوفيق

معلمة المادة : أسماء المهابي

موقع
مادنتيري

اختبار الفترة الأولى لمادة المهارات الرقمية (نظري) للصف الأول متوسط الفصل الدراسي الأول لعام 1447هـ

اسم الطالبة: الصف: ز.

السؤال الأول: اختاري الإجابة الصحيحة لكل مما يلي:

8

1.	من أنواع أجهزة الحاسب الشخصية	الحاسب الخادم	الحاسب المحمول	الحاسبات العملاقة
2.	هي بمثابة المركز الرئيس للحاسب تتصل به ومن خلاله جميع أجزاء الحاسب	اللوحة الام	الفارة	الطابعة
3.	تخزن المعلومات والبيانات المطلوب معالجتها لفترة قصيرة من الزمن	السماعات	ذاكرة الوصول العشوائي	المايكروفون
4.	يتم تخزين جميع البرامج بما فيها نظام التشغيل وملفاتك أو ملفات أخرى الى.....	الفلش ميموري	الشاشة	القرص الصلب
5-	من أجهزة الادخال	لوحة المفاتيح	الطابعة	السماعات
6-	يستخدم للإشارة الى العناصر الموجودة على الشاشة	المايك	الفارة	الطابعة
7-	تمكّنك من ادخال البيانات للحاسب باستخدام اصابعك مع معاينة النتائج على الشاشة في نفس الوقت	المايك	الأقراص الضوئية	شاشة اللمس
8-	تستخدم لنقل البيانات بين الأجهزة وتتميز بصغر حجمها	القرص الصلب	ذاكرة الفلاش	لوحة المفاتيح

السؤال الثاني: ضعي المصطلح المناسب أمام ما يناسبه: (الحاسب – المكونات المادية – المكونات البرمجية – الشاشة)

1- (.....) الأجزاء المادية التي يتكون منها الحاسب وتتضمن الشاشة واللوحة الام وغيرها

2- (.....) جهاز الكتروني لديه القدرة على معالجة وتخزين واسترجاع البيانات

3-- (.....) هي جهاز الادخال الرئيس في الحاسب والتي تعرض نتيجة تفاعل المستخدم

4- (.....) هي مجموعة من التطبيقات المثبتة على الحاسب التي تحتاجها لتكون قادرا على تشغيله

-اذكري اثنان مهام نظام التشغيل :

.....

.....

.....

.....

الاختبار النظري لمادة مهارات رقمية للصف الأول متوسط الفترة (١)

س١: أ- اكملني التالي وفق ما درست :

- ١- الحاسب هو إلكتروني لديه القدرة على معالجة وتخزين واسترجاع
كما يمكنه القيام بالكثير من الأعمال مثل إنشاء والاستماع للصوتيات ومشاهدة
والتواصل مع الأصدقاء
- ٢- يتكون الحاسب من مكونات و.....

س٢: **ضعي علامة ✓ إذا كانت العبارة صحيحة و X إذا كانت خاطئة حسب ما درست:**

- 1- اللوحة الأم تعتبر المكون الرئيسي للحاسب وتتصل به جميع الأجزاء الأخرى ()
2- الفأرة جهاز إخراج للبيانات ()
3- ذاكرة الوصول العشوائي RAM لا تفقد بياناتها عند انقطاع التيار الكهربائي ()
4- الحاسبات العملاقة حاسبات ضعيفة وقدرة المعالجة بها منخفضة ()
5- الصراف الآلي يعتبر جهاز بحاسب مدمج ()



س٣: **اختاري الاجابة الصحيحة وفق ما درست :**

١- جهاز خفيف الوزن ويسهل حمله واستخدامه بأي مكان تقريباً

أ- الحاسب المحمول	ب- الحاسب المكتبي	ج- الخادم	د- الحاسب العملاق
-------------------	-------------------	-----------	-------------------

٢- يعتبر بمثابة عقل الحاسب يقوم بالعمليات الحسابية والمنطقية

أ- الذاكرة الرئيسية	ب- القرص الصلب	ج- اللوحة الأم	د- المعالج
---------------------	----------------	----------------	------------

٣- ذاكرة تخزين محمولة لنقل البيانات تتميز بصغر حجمها وتطور سعتها التخزينية

أ- بطاقة الذاكرة	ب- ذاكرة الفلاش	ج- القرص الصلب	د- القرص الضوئي
------------------	-----------------	----------------	-----------------

٤- شاشة اللمس هي جهاز

أ- إدخال	أ- إخراج	ج- إدخال وإخراج معاً	د- تخزين
----------	----------	----------------------	----------

٥- من أهم أجهزة الإدخال ومن خلاله يمكن ادخال النصوص والأوامر للحاسب

أ- السماعات	ب- الطابعة	ج- لوحة المفاتيح	د- الكينكت
-------------	------------	------------------	------------

ت- من وحدات التخزين في الحاسب



اسم الطالبة

الشعبة

الصف: أولى متوسط

اسم الطالبة:

8

اختبار مادة المهارات الرقمية

السؤال الأول: اختاري الإجابة الصحيحة:

1. هو جهاز الكتروني يمكنه معالجة وتخزين واسترجاع البيانات:
أ- الحاسب
ب- الآلة الحاسبة
2. يتكون الحاسب من صندوق الحاسب والشاشة وبعض الأجهزة الملحقة:
أ- الخادم
ب- المكتبي
3. من أنظمة التشغيل الخاصة بالحواسيب اللوحية:
أ- نظام تشغيل أبل
ب- نظام تشغيل ويندوز
4. تنقسم البرامج في الحاسب الى:
أ- أنظمة التشغيل والتطبيقات
ب- القرص الصلب والتطبيقات

السؤال الثاني: ضعي علامة (√) أو (×) أمام العبارات التالية:

1. أكثر أنواع الحاسب شيوعا هو الحاسب الشخصي ()
2. تعد الهواتف الذكية أجهزة حاسب مصغرة ()
3. يعتبر الميكروفون من أجهزة الإخراج في الحاسب ()
4. يتم تخزين الملفات مثل الصور في شاشة الحاسب ()

الاختبار النظري لمادة مهارات رقمية للصف الأول متوسط الفترة (١)

الصف:

اسم الطالبة:

السؤال الأول: اختاري الإجابة الصحيحة:

1	تهيئة البيئة المناسبة للمستخدم للتفاعل مع الحاسب من مهام :						
أ	نظام التشغيل	ب	برنامج الورد	ج	برنامج المفكرة	د	برنامج الفوتوشوب
2	جهاز خفيف الوزن ويسهل حمله واستخدامه بأي مكان تقريباً						
أ	الحاسب المكتبي	ب	الحاسب المحمول	ج	الحاسب الخادم	د	الحاسب العملاق
3	عقل الحاسب ينفذ عمليات الحساب والمنطق والادخال والإخراج وتقاس سرعته بجيجاهرتز						
أ	الفأرة	ب	اللوحة الأم	ج	المعالج	د	نظام التشغيل
4	شاشة اللمس هي جهاز						
أ	إدخال	ب	إخراج	ج	تخزين	د	إدخال وإخراج معاً
5	من أهم أجهزة الادخال ومن خلاله يمكن ادخال النصوص والأوامر للحاسب						
أ	الفأرة	ب	الشاشة	ج	نظارات جوجل	د	لوحة المفاتيح

السؤال الثاني: ضعي علامة (√) أو (×) أمام العبارات التالية:

1-	يتكون الحاسب من المكونات المادية (الأجهزة فقط) .
2-	ذاكرة الوصول العشوائي هي وحدة التخزين الأساسية في الحاسب
3-	تختلف أجهزة التخزين من حيث السعة التخزينية
4-	بطاقة الفيديو: تحول البيانات من وحدة المعالجة إلى صور على الشاشة.
5-	الحاسبات العملاقة حاسبات ضعيفة وقدرة المعالجة بها منخفضة
6-	أنظمة التشغيل الحديثة سمحت للمستخدم برؤية جميع الملفات والمجلدات وكذلك أتاحت التحكم بها بالفأرة من خلال الواجهة الرسومية

انتهت الأسئلة وفقن الله

الاختبار النظري لمادة مهارات رقمية للصف الأول متوسط الفترة (١)

اسم الطالبة: الصف:

السؤال الأول : ضعي علامة (√) أو (×) أمام العبارات التالية:

1-	تختلف أجهزة التخزين من حيث السعة التخزينية
2-	ذاكرة الوصول العشوائي هي وحدة التخزين الأساسية في الحاسب
3-	يتكون الحاسب من المكونات المادية (الأجهزة) والبرامج
4-	بطاقة الفيديو: تحول البيانات من وحدة المعالجة إلى صور على الشاشة.
5-	الحاسبات العملاق حاسبات ضعيفة وقدرة المعالجة بها منخفضة
6-	أنظمة التشغيل الحديثة سمحت للمستخدم برؤية جميع الملفات والمجلدات وكذلك أتاحت التحكم بها بالفأرة من خلال الواجهة الرسومية

السؤال الثاني : اختاري الإجابة الصحيحة:

1	شاشة اللمس هي جهاز	أ	إدخال	ب	إخراج	ج	تخزين	د	إدخال وإخراج معاً
2	جهاز خفيف الوزن ويسهل حمله واستخدامه بأي مكان تقريباً	أ	الحاسب المكتبي	ب	الحاسب العملاق	ج	الحاسب الخادم	د	الحاسب المحمول
3	من أهم أجهزة الإدخال ومن خلاله يمكن ادخال النصوص والأوامر للحاسب	أ	الفأرة	ب	لوحة المفاتيح	ج	نظارات جوجل	د	الشاشة
4	تهيئة البيئة المناسبة للمستخدم للتفاعل مع الحاسب من مهام :	أ	برنامج الورد	ب	نظام التشغيل	ج	برنامج المفكرة	د	برنامج الفوتوشوب
5	عقل الحاسب ينفذ عمليات الحساب والمنطق والإدخال والإخراج وتقاس سرعته بجيجاهرتز	أ	الفأرة	ب	المعالج	ج	اللوحة الأم	د	نظام التشغيل

انتهت الأسئلة وفقن الله

الاختبار النظري لمادة مهارات رقمية للصف الأول متوسط الفترة (١)

الصف:

اسم الطالبة:

السؤال الأول: اختاري الإجابة الصحيحة:

1	عقل الحاسب ينفذ عمليات الحساب والمنطق والادخال والإخراج وتقاس سرعته بجيهاهرتز						
أ	الفأرة	ب	المعالج	ج	اللوحة الأم	د	نظام التشغيل
2	جهاز له احجام مختلفة وأجهزة متصلة ببعضها						
أ	الحاسب المحمول	ب	الحاسب المكتبي	ج	الحاسب الخادم	د	الحاسب العملاق
3	تهيئة البيئة المناسبة للمستخدم للتفاعل مع الحاسب من مهام :						
أ	برنامج الفوتوشوب	ب	برنامج الورد	ج	برنامج المفكرة	د	نظام التشغيل
4	شاشة اللمس هي جهاز						
أ	إدخال	ب	إخراج	ج	تخزين	د	إدخال وإخراج معاً
5	من أهم أجهزة الادخال ومن خلاله يمكن ادخال النصوص والأوامر للحاسب						
أ	الفأرة	ب	الشاشة	ج	نظارات جوجل	د	لوحة المفاتيح

السؤال الثاني: ضعي علامة (√) أو (×) أمام العبارات التالية:

1-	يتكون الحاسب من المكونات المادية (الأجهزة فقط)
2-	القرص الصلب هو وحدة التخزين الأساسية في الحاسب
3-	تختلف أجهزة التخزين من حيث السعة التخزينية
4-	بطاقة الفيديو: تحول البيانات من وحدة المعالجة إلى صور على الشاشة.
5-	الحاسبات العملاقة لها قدرة عالية على لمعالجة
6-	أنظمة التشغيل الحديثة سمحت للمستخدم برؤية جميع الملفات والمجلدات وكذلك أتاحت التحكم بها بالفأرة من خلال الواجهة الرسومية

انتهت الأسئلة وفقن الله

الصف : أولى متوسط

اسم الطالبة :

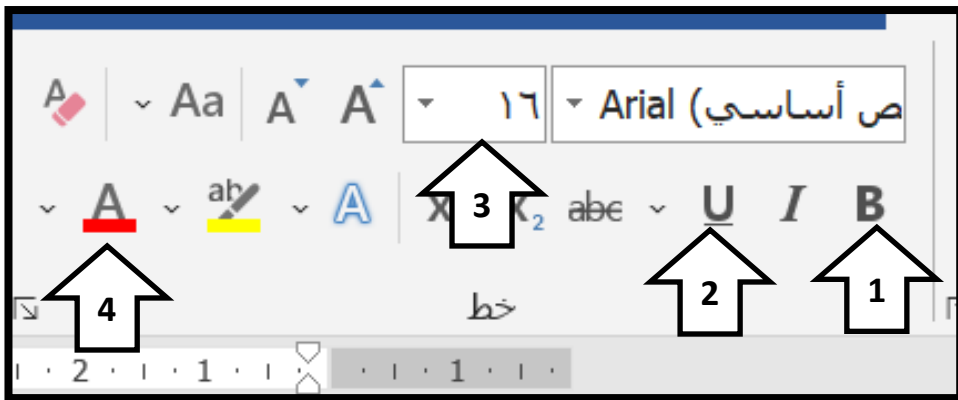
8

اختبار الفترة الثانية نظري

السؤال الأول: اختاري الإجابة الصحيحة:

1. لإنشاء مستند جديد في برنامج الورد نختار علامة التبويب:
أ- ملف ثم جديد ثم مستند فارغ
ب- بحث ثم جديد
2. لتطبيق حدود الصفحة نفتح نافذة:
أ- الشريط الرئيسي
ب- حدود وتظليل
3. لإضافة صورة من جهاز الحاسب الخاص بك نختار علامة التبويب:
أ- ادراج
ب- ملف
4. لتطبيق نمط على الجدول نختار علامة التبويب:
أ- تصميم الجدول
ب- ادراج

السؤال الثاني: أمامك صورة اكتبى ما تحتوي عليه:



- 1-
- 2-
- 3-
- 4-

أ. وجدان الشتيل

أسئلة اختبار الفترة الأولى للفصل الدراسي الأول

اسم الطالب : الصف :

٤٠

أ	ب	ج	د	
<input type="radio"/>	<input type="radio"/>	<input type="radio"/>	<input type="radio"/>	11
<input type="radio"/>	<input type="radio"/>	<input type="radio"/>	<input type="radio"/>	12
<input type="radio"/>	<input type="radio"/>	<input type="radio"/>	<input type="radio"/>	13
<input type="radio"/>	<input type="radio"/>	<input type="radio"/>	<input type="radio"/>	14
<input type="radio"/>	<input type="radio"/>	<input type="radio"/>	<input type="radio"/>	15
<input type="radio"/>	<input type="radio"/>	<input type="radio"/>	<input type="radio"/>	16
<input type="radio"/>	<input type="radio"/>	<input type="radio"/>	<input type="radio"/>	17
<input type="radio"/>	<input type="radio"/>	<input type="radio"/>	<input type="radio"/>	18
<input type="radio"/>	<input type="radio"/>	<input type="radio"/>	<input type="radio"/>	19
<input type="radio"/>	<input type="radio"/>	<input type="radio"/>	<input type="radio"/>	20

أ	ب	ج	د	
<input type="radio"/>	<input type="radio"/>	<input type="radio"/>	<input type="radio"/>	1
<input type="radio"/>	<input type="radio"/>	<input type="radio"/>	<input type="radio"/>	2
<input type="radio"/>	<input type="radio"/>	<input type="radio"/>	<input type="radio"/>	3
<input type="radio"/>	<input type="radio"/>	<input type="radio"/>	<input type="radio"/>	4
<input type="radio"/>	<input type="radio"/>	<input type="radio"/>	<input type="radio"/>	5
<input type="radio"/>	<input type="radio"/>	<input type="radio"/>	<input type="radio"/>	6
<input type="radio"/>	<input type="radio"/>	<input type="radio"/>	<input type="radio"/>	7
<input type="radio"/>	<input type="radio"/>	<input type="radio"/>	<input type="radio"/>	8
<input type="radio"/>	<input type="radio"/>	<input type="radio"/>	<input type="radio"/>	9
<input type="radio"/>	<input type="radio"/>	<input type="radio"/>	<input type="radio"/>	10

الأسئلة من ١ إلى ٢٠ اختار
الإجابة الصحيحة وظل الإجابة
الصحيحة
في ورقة التظليل

(١) أي مما يلي يعد من أنواع أجهزة الحاسبات الشخصية :

أ	الحاسب المكتبي	ب	الحاسب المحمول	ج	الهواتف الذكية	د	جميع ما سبق
---	----------------	---	----------------	---	----------------	---	-------------

(٢) أحد أنواع أجهزة الحاسبات الشخصية خفيف الوزن سهل حمله واستخدامه في أي مكان تقريباً :

أ	الحاسب المكتبي	ب	الحاسب المحمول	ج	الهواتف الذكية	د	جميع ما سبق
---	----------------	---	----------------	---	----------------	---	-------------

(٣) أجهزة حاسب قوية جداً ذات قدرة معالجة عالية عادة ما تكون كبيرة الحجم :

أ	الخوادم	ب	أجهزة الحاسب العملاقة	ج	مشغلات ألعاب الفيديو	د	أجهزة بحاسبات مدمجة
---	---------	---	-----------------------	---	----------------------	---	---------------------

(٤) تنقسم البرامج إلى :

أ	البرامج التطبيقية	ب	برامج النظام	ج	أ و ب	د	لا شيء مما سبق
---	-------------------	---	--------------	---	-------	---	----------------

(٥) هي بمثابة المركز الرئيس للحاسب الذي تتصل به ومن خلاله جميع الأجزاء الأخرى :

أ	اللوحة الأم	ب	وحدة المعالجة المركزية	ج	ذاكرة الوصول العشوائي	د	القرص الصلب
---	-------------	---	------------------------	---	-----------------------	---	-------------

(٦) هي بمثابة العقل بالنسبة للحاسب :

أ	اللوحة الأم	ب	وحدة المعالجة المركزية	ج	ذاكرة الوصول العشوائي	د	القرص الصلب
---	-------------	---	------------------------	---	-----------------------	---	-------------

(٧) الحاسب هو جهاز إلكتروني لديه القدرة على معالجة وتخزين واسترجاع البيانات :

أ	صح	ب	خطأ				
---	----	---	-----	--	--	--	--

(٨) خادم الملفات هو حاسب يختص باستضافة المواقع الإلكترونية وإتاحة تصفحها على الإنترنت :

أ	صح	ب	خطأ				
---	----	---	-----	--	--	--	--

(٩) أجهزة الإخراج هي جميع الأجهزة المتصلة بجهاز الحاسب والتي تعرض نتائج معالجة البيانات :

أ	صح	ب	خطأ				
---	----	---	-----	--	--	--	--

(١٠) لا يمكن إزالة برنامج مثبت على الحاسب الخاص بك بمجرد تثبيته :

أ	صح	ب	خطأ				
---	----	---	-----	--	--	--	--

١١) من الأمور التي يمكن تغييرها في حد الصفحة:

أ	النمط	ب	اللون	ج	العرض	د	جميع ما سبق
---	-------	---	-------	---	-------	---	-------------

١٢) إحدى عمليات معالجة النصوص التي يمكنك من دمج مستند مع ملف قاعدة البيانات:

أ	الحاشية السفلية	ب	دمج المراسلات	ج	القارئ الشامل	د	الترجمة
---	-----------------	---	---------------	---	---------------	---	---------

١٣) عند إنشاء وإعداد مستند الدعوة وكتابة رسالتك هناك خطوات لإنشاء مستندات دمج المراسلات وعددها:

أ	أربع	ب	خمس	ج	ست	د	سبع
---	------	---	-----	---	----	---	-----

١٤) في هذه الخطوة ستتمكن من معاينة الرسائل للتأكد من ظهور المعلومات الواردة من قائمة المستلمين بشكل صحيح.

أ	تحديد المستلمين	ب	معاينة الرسائل	ج	كتابة الرسالة	د	إتمام الدمج
---	-----------------	---	----------------	---	---------------	---	-------------

١٥) بعد طباعة الدعوات سيكون من المناسب إرسالها إلى المستلمين باستخدام:

أ	الرسائل	ب	الملفات	ج	الملصقات	د	الدليل
---	---------	---	---------	---	----------	---	--------

١٦) يمكن في برنامج وورد إنشاء حدود وتظليل مخصص وتطبيق أنماط مختلفة من الحدود:

أ	صح	ب	خطأ	ج	خطأ	د	خطأ
---	----	---	-----	---	-----	---	-----

١٧) يمكن إضافة صورة من الانترنت من خلال اختيار إدراج صور من هذا الجهاز:

أ	صح	ب	خطأ	ج	خطأ	د	خطأ
---	----	---	-----	---	-----	---	-----

١٨) للقيام بإرسال دعوة أو خطاب شكر إلى العديد من الأشخاص يتم استخدام دمج المراسلات:

أ	صح	ب	خطأ	ج	خطأ	د	خطأ
---	----	---	-----	---	-----	---	-----

١٩) يمكن في دمج المراسلات إنشاء قائمة مستلمين مخصصة:

أ	صح	ب	خطأ	ج	خطأ	د	خطأ
---	----	---	-----	---	-----	---	-----

٢٠) المغلف غلاف ورقي مسطح به غطاء قابل للغلق يمكن استخدامه لإرفاق خطاب أو مستند:

أ	صح	ب	خطأ	ج	خطأ	د	خطأ
---	----	---	-----	---	-----	---	-----



الاسم:
الفصل:



المملكة العربية السعودية
وزارة التعليم
الإدارة العامة للتعليم بمحافظة جدة
المدرسة :- المتوسطة السادسة والتسعون.

اختبار الفترة - لمادة المهارات الرقمية الجزء العملي - للصف (الأول المتوسط)

مستعينة بالله اجب عن الأسئلة التالية:-

١٢

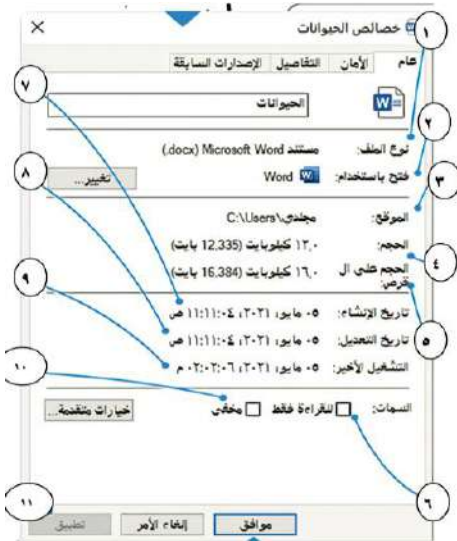
السؤال الأول *** اختاري العلامة الصحيحة :-

خطأ	صح	1. لنقل شريط المهام لابد من الغاء التامين .
خطأ	صح	2. للتعلم اكثر عن كيفية استخدام نظام تشغيل الويندوز (البحث في المساعد)
خطأ	صح	3. لازالة بطاقة الذاكرة بزر الفاره اليسار <-اخراج .
خطأ	صح	4. المقصود بتعدد المهام انهاء مهمة البرنامج .
خطأ	صح	5. لحذف تطبيق من الاعدادات .
خطأ	صح	6. نظام تشغيل الويندوز يسمح بفتح اكثر من برنامج في نفس الوقت .
خطأ	صح	7. للتعرف اكثر على معلومات الملفات بز الفاره اليسار <-خصائص.

السؤال الثاني *** اختاري الإجابة الصحيحة :-

1. المقصود بوضع السكون .			
أ. إيقاف الحاسب .	ب. إعادة التشغيل .	ج. الدخول لحساب اخر .	د. توفير الطاقة .
2. نستطيع تغيير وظائف ازارير الفاره من.....			
أ. جهاز الفاره .	ب. سطح المكتب .	ج. الاعدادات .	د. المستندات .
3. المقصود بتخصيص الحاسب .			
أ. تغيير الخلفية .	ب. انشاء حساب .	ج. وضع كلمة مرور .	د. تغيير الاعدادات .
4. لظهار الملفات المخفية من قائمة			
أ. ملف .	ب. الصفحة الرئيسية .	ج. مشاركة .	د. عرض .

السؤال الثالث *** للتعرف على الملف <- الخصائص اختاري الإجابة الصحيحة من الشكل :-



1. رقم 1 يمثل			
أ. نوعه .	ب. برنامج الفتح .	ج. مكان الحفظ .	د. الحجم .
2. رقم 3 يمثل			
أ. نوعه .	ب. برنامج الفتح .	ج. مكان الحفظ .	د. الحجم .
3. رقم 4 يمثل			
أ. نوعه .	ب. برنامج الفتح .	ج. مكان الحفظ .	د. الحجم .

بالتوفيق معلمة المادة :-رحاب زيني هاشم

اسم الطالبة : الصف :

أجبي عن الأسئلة التالية عملياً

م	السؤال	الدرجة	الدرجة المستحقة	ملاحظات
1	شغلي جهاز الكمبيوتر قومي بعمل الآتي :	٢		
2	انقلي مجلد برمجيات الوسائط من سطح المكتب إلى المستندات واطهري خصائص المجلد	٢		
٣	غيري خلفية سطح المكتب حسب ذوقك	2		
٤	اجعلي ايقونات سطح المكتب كبيرة الحجم	٢		
٥	غيري مكان شريط المهام إلى أعلى الصفحة	٢		
٦	اغلقي جهاز الكمبيوتر	٢		
*	قومي بإخفاء عناصر سطح المكتب (إضافي) اسألي معلمتك	٢		

اسم الطالبة : الصف :

أجبي عن الأسئلة التالية عملياً

م	السؤال	الدرجة	الدرجة المستحقة	ملاحظات
1	شغلي جهاز الكمبيوتر قومي بعمل الآتي :	٢		
2	انقلي مجلد برمجيات الوسائط من سطح المكتب إلى المستندات واطهري خصائص المجلد	٢		
4	اجعلي ايقونات سطح المكتب كبيرة الحجم	٢		
5	غيري مكان شريط المهام إلى أعلى الصفحة	٢		
6	اغلقي جهاز الكمبيوتر	٢		
*	قومي بإخفاء عناصر سطح المكتب (إضافي) اسألي معلمتك	٢		

اسم الطالبة : الصف :

أجبي عن الأسئلة التالية عملياً

م	السؤال	الدرجة	الدرجة المستحقة	ملاحظات
1	شغلي جهاز الكمبيوتر قومي بعمل الآتي :	٢		
2	انقلي مجلد برمجيات الوسائط من سطح المكتب إلى المستندات واطهري خصائص المجلد	٢		
4	اجعلي ايقونات سطح المكتب كبيرة الحجم	٢		
5	غيري مكان شريط المهام إلى أعلى الصفحة	٢		
6	اغلقي جهاز الكمبيوتر	٢		
*	قومي بإخفاء عناصر سطح المكتب (إضافي) اسألي معلمتك	٢		

مشروع الوحدة الأولى لمادة المهارات رقمية
الصف الاول متوسط
تعلم الأساسيات

عزيزتي الطالبة عند تنفيذ المشروع عليك التقيد بالتالي:

م	المطلوب	الدرجة
1	اختيار نظام تشغيل من الانترنت	1
2	عرض موجز عن النظام الذي اخترته	2
3	عرض مزايا النظام و عيوبه	2
4	قارني بين نظام التشغيل الذي اخترته وأنظمة التشغيل الأخرى	2
5	تنسيق العرض جميل ومرتب	2
6	تسليم العرض في الوقت المحدد	1
7	المجموع	10

ملاحظة: المشروع يتكون من مجموعات كل مجموعة تحتوي على خمس طالبات .

آخر موعد للتسليم 1444-2-29هـ

المعلمة:



تقييم الطالبة	المهارة المطلوبة
	1. إنشاء مجلد رئيسي باسمك.
	2. إنشاء مجلدين فرعيين داخل المجلد السابق وسمي المجلد الأول بـ الفنية والمجلد الثاني بـ المهارات الرقمية.
	3. افتحي برنامج الورد لكتابة اسمك بالكامل ثم احفظيه باسمك داخل مجلد الفنية.
	4. انسخي ملف الورد وأصقيه في مجلد المهارات الرقمية.
	5. افتحي برنامج الرسام لرسم دائرة ثم احفظيه باسمك داخل مجلد الفنية.
	6. قومي بقص ملف الرسام ونقله إلى داخل مجلد المهارات الرقمية.
	7. أعيدي تسمية ملف الرسام إلى الدائرة
	8. حذف المجلد الرئيسي وإفراغ سلة المحذوفات
	تقييم المعلمة للطالبة:

مهارة رقم 8 لا
تقومين بها إلا
إذا طلبت
منك المعلمة

وفقن الله

موقع
مادنتيري