

تم تحميل وعرض المادة من



موقع مادتي هو موقع تعليمي يعمل على مساعدة المعلمين والطلاب وأولياء الأمور في تقديم حلول الكتب المدرسية والاختبارات وشرح الدروس والملاحظات والتحاير وتوزيع المنهج لكل المراحل الدراسية بشكل واضح وسهل مجاناً بتصفح وعرض مباشر أونلاين وتحميل على موقع مادتي

حمل تطبيق مادتي ليصلك كل جديد



الاسم / الصف

10

السؤال الأول: ضع علامة ✓ امام العبارات الصحيحة وعلامة ✗ امام العبارات الخاطئة :

- 1- كلما زادت جودة الوسائط المتعددة كلما زاد الحجم واحتاجنا ملفات ذات سعة تخزين اعلى ()
- 2- معدل البت هو كمية التفاصيل في الصوت ()
- 3- البكسل هي المربعات الصغيرة مجعته جنباً الى جنب لتكوين الصورة ()
- 4- كاميرا الفيديو الرقمية افضل من تصوير الجهاز الذكي ()

السؤال الثاني: اختاري رمز الإجابة الصحيحة فيما يلي :

1- رسم تشبيهي للفيلم:		
1. النص	2. مخطط القصة	3. جدول التصوير
2- من امتدادات الصور الاكثر شيوعاً:		
1. jpg	2. Mp4	3. wav
3- العامل المهم لجودة الفيديو او الصور هو:		
1. الامتداد	2. البكسل	3. الجهاز المستخدم لالتقاطها
4- هي ملفات متنوعة من الصور- مقاطع الفيديو - مقاطع الصوت:		
1. الوسائط المتعدده	2. الامتداد	3. معدل البت
5- في جدول التصوير يقسم كل مشهد الى مجموعة من		
1- المشاهد	2- اللقطات	3- النصوص

السؤال الثالث: اكمل الفراغات في العبارات التالية :

- تكمن وظيفة برامج ضغط الفيديو (برامج الترميز)

1.
2.

نموذج الإجابة

أر مادة المهارات الرقمية
تصف الفصل الدراسي
بصف الثاني المتوسط
الفصل الدراسي الأول

وزارة التعليم
Ministry of Education

المملكة العربية
وزارة
إدارة التعليم منسج- اجوب
متوسطة فاطمة الزهراء

الاسم / الصف

10

السؤال الأول: ضع علامة ✓ امام العبارات الصحيحة وعلامة ✗ امام العبارات الخاطئة:

- 1- كلما زادت جودة الوسائط المتعددة كلما زاد الحجم واحتاجنا ملفات ذات سعة تخزين اعلى (صح)
- 2- معدل البت هو كمية التفاصيل في الصوت (خطأ)
- 3- البكسل هي المربعات الصغيرة مجمعه جنباً الى جنب لتكوين الصورة (صح)
- 4- كاميرا الفيديو الرقمية افضل من تصوير الجهاز الذكي (صح)

السؤال الثاني: اختاري رمز الإجابة الصحيحة فيما يلي:

1- رسم تشبيهي للفيلم:		
1. النص	2. مخطط القصة	3. جدول التصوير
2- من امتدادات الصور الاكثر شيوعاً:		
1. jpg	2. Mp4	3. wav
3- العامل المهم لجودة الفيديو او الصور هو:		
1. الامتداد	2. البكسل	3. الجهاز المستخدم لالتقاطها
4- هي ملفات متنوعة من الصور- مقاطع الفيديو - مقاطع الصوت:		
1. الوسائط المتعدده	2. الامتداد	3. معدل البت
5- في جدول التصوير يقسم كل مشهد الى مجموعة من		
1- المشاهد	2- اللقطات	3- النصوص

السؤال الثالث: اكمل الفراغات في العبارات التالية:

- تكمن وظيفة برامج ضغط الفيديو (برامج الترميز)
- 1. **ضغط ملف الفيديو لتصغير حجمه وحفظه على الجهاز.**
- 2. **فك ضغط الملف لمشاهدته**

المادة: المهارات الرقمية

الصف: ثاني متوسط

الدرجة:



المملكة العربية السعودية

إدارة التعليم

مدرسة

اسم الطالبة : الصف :

السؤال الأول : اختاري الإجابة الصحيحة :		
١- جميع ما يلي من أنواع الملفات الأكثر شيوعاً لملفات الصوت ما عدا :		
gif	mp3	wav
٢- تتكون كل صورة رقمية من مربعات صغيرة مجمعة جنباً إلى جنب تسمى :		
بكسل	هيرتز	بايت
٣- من الخطوات التي يتبعها المحترفون لإنشاء فيديو ويقصد بها إنشاء رسم تشبيهي لفيلمك بأكمله:		
مخطط القصة	جدول التصوير	النص
٤- الأفلام المنزلية والتي يلتقطها الهواة قد تحتوي على أخطاء فنية تقلل من جودتها مثل :		
اهتزاز الصورة	الإضاءة الجيدة	خلوها من التشويش
٥- من خصائص مخطط المعلومات البياني وهي إثراء ودعم النصوص المعقدة لتبسيط فهم المعلومات :		
الكفاءة والدقة	البساطة والوضوح	الجاذبية والفعالية
٦- من أنواع مخططات المعلومات البيانية يعرض الأحداث بترتيب زمني :		
المخطط المفرد	المخطط الزمني	المخطط الهرمي
٧- لإضافة تصاميم جرافيك من المكتبة في برنامج كانفا، من الشريط الجانبي نضغط على:		
التصميم	العناصر	التحميلات
٨- لإضافة نص وتحريره في برنامج كانفا من الشريط الجانبي نضغط على:		
رسم	النص	ملاحظات

السؤال الثاني : حددي العبارة الصحيحة والعبارة الخاطئة :	
صح	خطأ
<input type="radio"/>	<input type="radio"/>
١- يتغير حجم الملف عند ضغطه ليشغل مساحة أكبر.	
<input type="radio"/>	<input type="radio"/>
٢- يمكنك بسهولة تمييز ملفات الوسائط في جهازك عن طريق التحقق من امتدادها.	
<input type="radio"/>	<input type="radio"/>
٣- العامل المهم في جودة الفيديو هو الجهاز المستخدم لالتقاطه.	

أقلمي الصفحة

<input type="radio"/>	<input type="radio"/>	٤-لا يمكنك انشاء مخطط معلومات بحجم مخصص في كانفا.
<input type="radio"/>	<input type="radio"/>	٥-تصاميم الجرافيك هي عبارة عن صور تنقل المفهوم باستخدام عناصر قليلة فقط .
<input type="radio"/>	<input type="radio"/>	٦-يمكن فتح المشاريع الأخيرة في برنامج شوت كت .
<input type="radio"/>	<input type="radio"/>	٧-تساعد التأثيرات البصرية على رفع جودة إخراج مقاطع الفيديو وكذلك التشويق فيها.
<input type="radio"/>	<input type="radio"/>	٨-من مميزات استخدام مخطط المعلومات البياني جذب الانتباه وتوليد الاهتمام .

السؤال الثالث : ما لفرق بين :	
ملفات صوتية غير مغطوة	ملفات صوتية مغطوة
المشهد	الحوار

انتهت الأسئلة

مديرة المدرسة :

معلمة المادة :

نموذج الإجابة

المادة: المهارات الرقمية

الصف: ثاني متوسط

الدرجة:



وزارة التعليم
Ministry of Education

المملكة العربية السعودية

إدارة التعليم

مدرسة

اسم الطالبة : الصف :

السؤال الأول : اختاري الإجابة الصحيحة :		
١- جميع ما يلي من أنواع الملفات الأكثر شيوعاً لملفات الصوت ما عدا :		
gif	mp3	wav
٢- تتكون كل صورة رقمية من مربعات صغيرة مجمعة جنباً إلى جنب تسمى :		
بكسل	هيرتز	بايت
٣- من الخطوات التي يتبعها المحترفون لإنشاء فيديو ويقصد بها إنشاء رسم تشبيهي لفيلمك بأكمله:		
مخطط القصة	جدول التصوير	النص
٤- الأفلام المنزلية والتي يلتقطها الهواة قد تحتوي على أخطاء فنية تقلل من جودتها مثل :		
اهتزاز الصورة	الإضاءة الجيدة	خلوها من التشويش
٥- من خصائص مخطط المعلومات البياني وهي إثراء ودعم النصوص المعقدة لتبسيط فهم المعلومات :		
الكفاءة والدقة	البساطة والوضوح	الجاذبية والفعالية
٦- من أنواع مخططات المعلومات البيانية يعرض الأحداث بترتيب زمني :		
المخطط المفرد	المخطط الزمني	المخطط الهرمي
٧- لإضافة تصاميم جرافيك من المكتبة في برنامج كانفا، من الشريط الجانبي نضغط على:		
التصميم	العناصر	التحميلات
٨- لإضافة نص وتحريره في برنامج كانفا من الشريط الجانبي نضغط على:		
رسم	النص	ملاحظات

السؤال الثاني : حددي العبارة الصحيحة والعبارة الخاطئة :	
خطأ	صح
●	○
○	●
○	●

١- يتغير حجم الملف عند ضغطه ليشغل مساحة أكبر.

٢- يمكنك بسهولة تمييز ملفات الوسائط في جهازك عن طريق التحقق من امتدادها.

٣- العامل المهم في جودة الفيديو هو الجهاز المستخدم لالتقاطه.

أقلمي الصفحة

موقع مادتي

<input type="radio"/>	<input type="radio"/>	٤- لا يمكنك انشاء مخطط معلومات بحجم مخصص في كانفا.
<input type="radio"/>	<input checked="" type="radio"/>	٥- تصاميم الجرافيك هي عبارة عن صور تنقل المفهوم باستخدام عناصر قليلة فقط .
<input type="radio"/>	<input checked="" type="radio"/>	٦- يمكن فتح المشاريع الأخيرة في برنامج شوت كت .
<input type="radio"/>	<input checked="" type="radio"/>	٧- تساعد التأثيرات البصرية على رفع جودة إخراج مقاطع الفيديو وكذلك التشويق فيها.
<input type="radio"/>	<input checked="" type="radio"/>	٨- من مميزات استخدام مخطط المعلومات البياني جذب الانتباه وتوليد الاهتمام .

السؤال الثالث : ما لفرق بين :	
ملفات صوتية غير مضغوطة	ملفات صوتية مضغوطة
تحافظ على جودتها الاصلية ولكنها كبيرة الحجم.	أصغر حجماً، ولكنها تفقد بعضاً من جودتها.
المشهد	الحوار
حدث يتم في مكان معين وفي زمن محدد.	هو جميع ما ستقوله شخصياتك.

انتتهت الأسئلة

مديرة المدرسة :

معلمة المادة :

موقع
مادنتيرا

الاسم : الصف :

السؤال الأول : اختاري الإجابة الصحيحة لكل من العبارات التالية: -

١- جميع ما يلي من أنواع الملفات الأكثر شيوعاً لملفات الصوت ما عدا							
أ	wav	ب	mp3	ج	eps	د	acc
٢- تستخدم لالتقاط الصور:							
أ	الطابعة	ب	الماسح الضوئي	ج	الكاميرا	د	الميكروفون
٣- تتكون كل صورة رقمية من مربعات صغيرة مجمعة جنباً إلى جنب تسمى:							
أ	بكسل	ب	هيرتز	ج	بايت	د	لا شيء مما سبق
٤- من الخطوات التي يتبعها المحترفون لإنشاء فيديو ناجح ويقصد بها كتابة وصف تفصيلي لأحداث الفيلم							
أ	جدول التصوير	ب	النص (السيناريو)	ج	مخطط القصة	د	لا شيء مما سبق
٥- من الخطوات التي يتبعها المحترفون لإنشاء فيديو ناجح ويقصد بها إنشاء رسم تشبيهي لفيلمك بأكمله:							
أ	جدول التصوير	ب	النص (السيناريو)	ج	مخطط القصة	د	لا شيء مما سبق

السؤال الثاني :

ضعي علامة ✓ امام العبارات الصحيحة وعلامة ✗ امام العبارات الخاطئة :

١	يمكن التمييز بين ملفات الوسائط المختلفة في جهاز الحاسب بسهولة وذلك بالتحقق من امتدادها:
٢	جميع برامج الترميز تتم إضافتها بشكل تلقائي على الحاسب:
٣	تتيح الكاميرات الرقمية التقاط الفيديو فقط:
٤	لا يمكن حذف مقطع بعد إضافته إلى المخطط الزمني:
٥	يشير الرمز (HD) إلى الفيديو عالي الدقة:

المعلمة : نجود دحمان

مع تمنياتي لكم بالتوفيق ..

نموذج الإجابة

الاسم : الصف :

السؤال الأول : اختاري الإجابة الصحيحة لكل من العبارات التالية: -

١- جميع ما يلي من أنواع الملفات الأكثر شيوعاً لملفات الصوت ما عدا							
أ	wav	ب	mp3	ج	eps	د	acc
٢- تستخدم لالتقاط الصور:							
أ	الطابعة	ب	الماسح الضوئي	ج	الكاميرا	د	الميكروفون
٣- تتكون كل صورة رقمية من مربعات صغيرة مجمعة جنباً إلى جنب تسمى:							
أ	بكسل	ب	هيرتز	ج	بايت	د	لا شيء مما سبق
٤- من الخطوات التي يتبعها المحترفون لإنشاء فيديو ناجح ويقصد بها كتابة وصف تفصيلي لأحداث الفيلم							
أ	جدول التصوير	ب	النص (السيناريو)	ج	مخطط القصة	د	لا شيء مما سبق
٥- من الخطوات التي يتبعها المحترفون لإنشاء فيديو ناجح ويقصد بها إنشاء رسم تشبيهي لفيلمك بأكمله:							
أ	جدول التصوير	ب	النص (السيناريو)	ج	مخطط القصة	د	لا شيء مما سبق

السؤال الثاني :

ضعي علامة ✓ امام العبارات الصحيحة وعلامة ✗ امام العبارات الخاطئة :

✓	١	يمكن التمييز بين ملفات الوسائط المختلفة في جهاز الحاسب بسهولة وذلك بالتحقق من امتدادها:
✗	٢	جميع برامج الترميز تتم إضافتها بشكل تلقائي على الحاسب:
✗	٣	تتيح الكاميرات الرقمية التقاط الفيديو فقط:
✗	٤	لا يمكن حذف مقطع بعد إضافته إلى المخطط الزمني:
✓	٥	يشير الرمز (HD) إلى الفيديو عالي الدقة:

المعلمة : نجود دحمان

مع تمنياتي لكم بالتوفيق ..

الاسم / الصف

10

السؤال الأول : ضعي علامة ✓ امام العبارات الصحيحة وعلامة ✗ امام العبارات الخاطئة :

- 1- كلما زادت جودة الوسائط المتعددة كلما زاد الحجم واحتاجنا ملفات ذات سعة تخزين اعلى ()
- 2- معدل البت هو كمية التفاصيل في الصوت ()
- 3- البكسل هي المربعات الصغيرة مجعته جنباً الى جنب لتكوين الصورة ()
- 4- كاميرا الفيديو الرقمية افضل من تصوير الجهاز الذكي ()

السؤال الثاني : اختاري رمز الإجابة الصحيحة فيما يلي :

1- رسم تشبيهي للفيلم:		
1. النص	2. مخطط القصة	3. جدول التصوير
2- من امتدادات الصور الاكثر شيوعاً:		
1. jpg	2. Mp4	3. wav
3- العامل المهم لجودة الفيديو او الصور هو:		
1. الامتداد	2. البكسل	3. الجهاز المستخدم لالتقاطها
4- هي ملفات متنوعة من الصور- مقاطع الفيديو - مقاطع الصوت:		
1. الوسائط المتعدده	2. الامتداد	3. معدل البت
5- في جدول التصوير يقسم كل مشهد الى مجموعة من		
1- المشاهد	2- اللقطات	3- النصوص

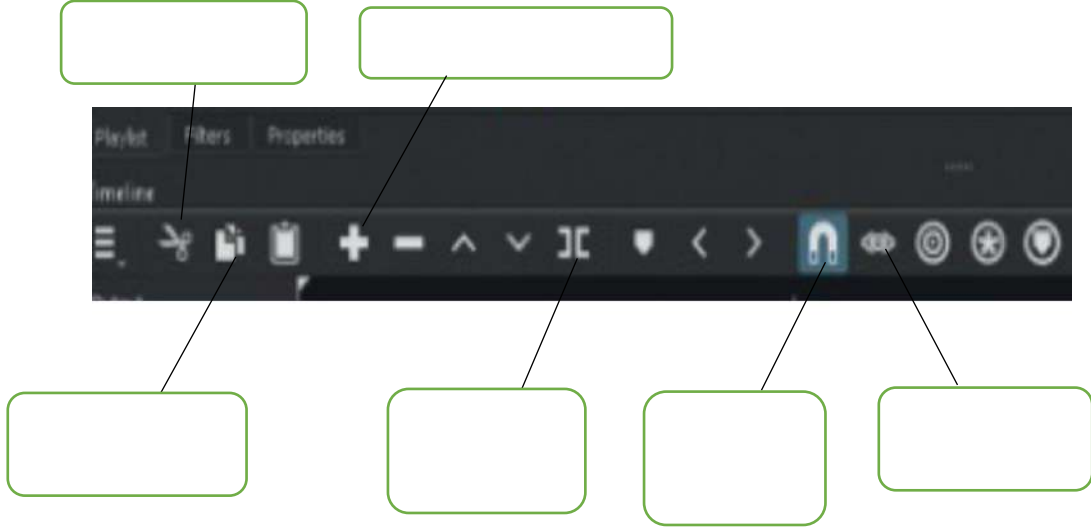
السؤال الثالث : اكلمي الفراغات في العبارات التالية :

- تكمن وظيفة برامج ضغط الفيديو (برامج الترميز)

1.
2.

الجزء العملي

السؤال الأول : املئ الفراغات



السؤال الثاني : ضع علامة ✓ امام العبارات الصحيحة وعلامة ✗ امام العبارات الخاطئة:

- 1- إضافة نص متحرك الى مقاطع الفيديو يعد امر الزاميا ()
- 2- يتم استخدام التأثيرات الانتقالية على مقطع فيديو لربط لقطة فيديو باخرى ()
- 3- في برنامج الشو نكت عند استيراد ملف صوتي يتم تضمينه تلقائيا في الفيديو ()
- 4- الإطارات المفتاحية هي الطريقة لتأمين ملفات الفيديو من اخطار الاختراق ()



نموذج الاجابة

الاسم /

10

السؤال الأول : ضعي علامة ✓ امام العبارات الصحيحة وعلامة ✗ امام العبارات الخاطئة :

- 1- كلما زادت جودة الوسائط المتعددة كلما زاد الحجم واحتاجنا ملفات ذات سعة تخزين اعلى (صح)
- 2- معدل البت هو كمية التفاصيل في الصوت (خطأ)
- 3- البكسل هي المربعات الصغيرة مجمعه جنباً الى جنب لتكوين الصورة (صح)
- 4- كاميرا الفيديو الرقمية افضل من تصوير الجهاز الذكي (صح)

السؤال الثاني : اختاري رمز الإجابة الصحيحة فيما يلي :

1- رسم تشبيهي للفيلم:		
1. النص	2. مخطط القصة	3. جدول التصوير
2- من امتدادات الصور الاكثر شيوعاً:		
1. jpg	2. Mp4	3. wav
3- العامل المهم لجودة الفيديو او الصور هو:		
1. الامتداد	2. البكسل	3. الجهاز المستخدم لالتقاطها
4- هي ملفات متنوعة من الصور- مقاطع الفيديو - مقاطع الصوت:		
1. الوسائط المتعدده	2. الامتداد	3. معدل البت
5- في جدول التصوير يقسم كل مشهد الى مجموعة من		
1- المشاهد	2- اللقطات	3- النصوص

السؤال الثالث : اكمل الفراغات في العبارات التالية :

- تكمن وظيفة برامج ضغط الفيديو (برامج الترميز)
 1. ضغط ملف الفيديو لتصغير حجمه وحفظه على الجهاز
 2. فك ضغط الملف لمشاهدته

الجزء العملي

السؤال الأول : املي الفراغات



السؤال الثاني : ضع علامة ✓ امام العبارات الصحيحة وعلامة ✗ امام العبارات الخاطئة:

- 1- إضافة نص متحرك الى مقاطع الفيديو يعد امر الزاميا (خطأ)
- 2- يتم استخدام التأثيرات الانتقالية على مقطع فيديو لربط لقطة فيديو باخرى (صح)
- 3- في برنامج الشو تكت عند استيراد ملف صوتي يتم تضمينه تلقائيا في الفيديو (خطأ)
- 4- الإطارات المفتاحية هي الطريقة لتأمين ملفات الفيديو من اخطار الاختراق (خطأ)



اسم الطالب : نموذج : (أ) الفصل (.....)

20

الدرجة

السؤال الاول : ضع علامة (√) أمام العبارة الصحيحة وعلامة (x) أمام العبارة الخاطئة؟

1-	العامل المهم في جودة الفيديو هو الجهاز المستخدم لالتقاطه	()
2-	يمكن التمييز بين ملفات الوسائط عن طريق التحقق من امتدادها	()
3-	تتيح عملية ضغط الملفات الى تصغير حجم الملف وهذا لا يؤثر على جودتها	()
4-	ملف من نوع Mp3 بالتسجيلات الصوتية يعد التنسيق الأكثر شيوعا وسبب انه يشغل مساحة أكثر مقارنة	()
5-	من اهم انواع الملفات الصوتية الملفات المشفرة	()

السؤال الثاني : (أ) اختر الإجابة الصحيحة مما يلي :

1- هو كتابة وصف تفصيلي تسلسلي ل أحداث الفليم			
أ - السيناريو	ب - المحتوى	ج - مخطط القصة	د - الاحداث
2 - يسمى هذا الجزء			
			
أ - المخطط الزمني	ب - قائمة التشغيل	ج - شريط القوائم	د - الشريط الخطي
3 - في برنامج شوت كت لاضافة مرشح (فلتر) موازنة اللون الابيض نختار			
أ - White Balance	ب - White Filter	ج - Filter	د - Balance
4 - في برنامج شوت كوت تسمى النافذة التي تحتوي على معاينة الفيديو بـ			
أ - نافذة المصدر	ب- النافذة الرئيسية	ج- النافذة الاولى	د - النافذة الفرعية
5 - عند ادراج نص في مقطع فيديو في برنامج شوت كوت نختار فلتر			
أ - Text :Simple	ب-Text	ج-Text : Filter	د - Filter
6 - هي علامات او نقاط تتيح معرفة بدء الحركة و وقت انتهائها			
أ - الاطارات المفتاحية	ب- الاطارات الزمنية	ج- الاطارات الخارجية	د - جميع ما سبق
7- لاضافة فلتر تلاشي الفيديو لداخل نختار			
أ - Fade in video	ب- Fade out video	ج- in video	د - out video
8- تتكون كل صورة رقمية من مربعات صغيرة مجمعة جنب الى جنب تسمى			
أ - بكسلات	ب- الاطارات	ج- النقاط	د- الشعارات
9- الافلام المنزلية التي يصنعها الهواة قد تحتوي على اخطاء فنية مثل			
أ- صور مايكروسوفت	ب- ما يكرسوفت وورد	ج- ما يكرسوفت اكسل	د- ما يكرسوفت بوربوينت
10- يمكن عرض الصور و الفيديو في الحاسب عن طريق برنامج			
أ- الاهتزاز في الصورة	ب- طول و قصر اللقطات	ج- تباين زاوية الكاميرا	د- جميع ما سبق

نموذج الاجابة

المملكة العربية السعودية	وزارة التعليم
الفصل الدراسي الأول	الإدارة العامة لتعليم بالرياض
المادة : مهارات رقمية	مكتب التعليم بالجنوب
اختبار : الفترة الأولى	متوسطة مكة المكرمة
العام الدراسي: 1447 هـ	
الصف : ثاني متوسط	



اسم الطالب :	الدرجة
نموذج : (أ) الفصل (.....)	20

السؤال الاول : ضع علامة (√) أمام العبارة الصحيحة وعلامة (x) أمام العبارة الخاطئة؟

()	العامل المهم في جودة الفيديو هو الجهاز المستخدم لالتقاطه	
()	يمكن التمييز بين ملفات الوسائط عن طريق التحقق من امتدادها	-2
()	تتيح عملية ضغط الملفات الى تصغير حجم الملف وهذا لا يؤثر على جودتها	-3
()	ملف من نوع Mp3 بالتنسقات يعد التنسيق الأكثر شيوعاً وسبب انه يشغل مساحة أكثر مقارنة	-4
()	من اهم انواع الملفات الصوتية الملفات المشفرة	-5

السؤال الثاني : (أ) اختر الإجابة الصحيحة مما يلي :

1- هو كتابة وصف تفصيلي تسلسلي ل أحداث الفليم			
أ - السيناريو	ب - المحتوى	ج - مخطط القصة	د - الاحداث
2 - يسمى هذا الجزء			
أ - المخطط الزمني	ب - قائمة التشغيل	ج - شريط القوائم	د - الشريط الخطي
3 - في برنامج شوت كت لاضافة مرشح (فلتر) موازنة اللون الابيض نختار			
أ - White Balance	ب - White Filter	ج - Filter	د - Balance
4 - في برنامج شوت كوت تسمى النافذة التي تحتوي على معاينة الفيديو بـ			
أ - نافذة المصدر	ب- النافذة الرئيسية	ج- النافذة الاولى	د - النافذة الفرعية
5 - عند ادراج نص في مقطع فيديو في برنامج شوت كوت نختار فلتر			
أ - Text :Simple	ب- Text	ج-Text : Filter	د - Filter
6 - هي علامات او نقاط تتيح معرفة بدء الحركة و وقت انتهائها			
أ - الاطارات المفتاحية	ب- الاطارات الزمنية	ج- الاطارات الخارجية	د - جميع ما سبق
7- لاضافة فلتر تلاشي الفيديو لداخل نختار			
أ - Fade in video	ب- Fade out video	ج- in video	د - out video
8- تتكون كل صورة رقمية من مربعات صغيرة مجمعة جنب الى جنب تسمى			
أ - بكسلات	ب- الاطارات	ج- النقاط	د- الشعارات
9- الافلام المنزلية التي يصنعها الهواة قد تحتوي على اخطاء فنية مثل			
أ- صور مايكروسوفت	ب- ما يكرسوفت وورد	ج- ما يكرسوفت اكسل	د- ما يكرسوفت بوربوينت
10- يمكن عرض الصور و الفيديو في الحاسب عن طريق برنامج			
أ- الاهتزاز في الصورة	ب- طول و قصر اللقطات	ج- تباين زاوية الكاميرا	د- جميع ما سبق

أسم الطالبة:	الدرجة (المستحقة) (عملي)	12	الدرجة (المستحقة) (نظري)	8
--------------	-------	-----------------------------	----	-----------------------------	---

(الجزء النظري)

السؤال الأول: صل امتداد الصورة مع الوصف فيما يلي بوضع الرقم المناسب:

3

الوصف	الاختيار	امتداد الصورة
تستخدم بشكل أساسي لرسومات الإنترنت لدعمها للشفافية	()	PNG (1)
يدعم الشفافية ويُعطي جودة صورة جيدة جداً وذات حجم صغير	()	TIFF (2)
مناسب للمنشورات الاحترافية والمطبوعات كبيرة الحجم	()	GIF (3)

السؤال الثاني: ضعي دائرة O حول الإجابة الصحيحة:

5

جميع ما يلي من أنواع الملفات الأكثر شيوعاً لملفات الصور ما عدا :	-1		
.aac (أ)	.jpg (ب)	.png(ج)	.gif (د)
أي من الرموز التالية يشير إلى الفيديو ذو الدقة القياسية :	-2		
HD (أ)	SD (ب)	FD(ج)	GD (د)
تتكون كل صورة رقمية من مربعات صغيرة مجمعة جنباً إلى جنب تسمى :	-3		
بكسل (أ)	هيرتز (ب)	بايت (ج)	ميغا بايت (د)
يمكن عرض الصور والفيديو في الحاسب عن طريق برنامج:	-4		
(أ) مايكروسوفت وورد	(ب) مايكروسوفت اكسل	(ج) صور مايكروسوفت	(د) مايكروسوفت بوربوينت
من الخطوات التي يتبناها المحترفون لإنشاء فيديو ناجح ويقصد بها كتابة وصف تفصيلي لأحداث الفيلم:	-5		
(أ) النص (السيناريو)	(ب) جدول التصوير	(ج) مخطط القصة	(د) المشهد

(سؤال مساعد) من درجتان فقط

2

هو كمية التفاصيل بالصوت	-6		
(أ) معدل البت	(ب) البكسل	(ج) معدل العينة	(د) الضغط
يتم استخدام برنامج	-7		
Paint (أ)	Canva (ب)	Photoshop(ج)	Shotcut (د)

ضعي كلمة (صح) أم (خطأ) أمام العبارات التالية:

1- إذا أردت أفضل جودة ممكنة في الصوت ولا تهتم في المساحة يمكنك استخدام تنسيق صوت غير مضغوط مثل "WAV"	
2- كل ما انخفض معدل البت كان حجم الملف أصغر والجودة أقل	
3- جميع برامج الترميز تتم إضافتها بشكل تلقائي على الحاسب	
4- ملف الصوت المضغوط بياناته يتم تخزينها بالشكل المطابق لتسجيله لذلك يتمتع بأفضل جودة لكنه يشغل مساحة كبيرة	
5- يمكنك عرض صورك بواسطة برنامج صورة مايكروسوفت (Microsoft Photos)	
6- خطوة مخطط القصة من الخطوات التي يتبعها المحترفون لإنشاء فيديو ناجح ويقصد بها التخطيط لكيفية ظهور المشاهد	
7- يمكن التمييز بين ملفات الوسائط المختلفة في جهاز الحاسب بسهولة وذلك بالتحقق من امتدادها	
8- عندما يتعلق الأمر بجودة الفيديو فإن الجهاز المستخدم لالتقاط الفيديو هو العامل الأهم	
9- الميجا بيكسل وحدها تجعل صورة أفضل من الأخرى	
10- إذا كنت ترغب في تخزين ملفاتك الصوتية على جهاز الحاسب الخاص بك فستحتاج إلى ملفات ذو حجم صغير	
11- الفيديو هو سلسلة من الصور التي تم التقاطها وعرضها في النهاية بتردد معين	
12- تتيح الكاميرات الرقمية التقاط الفيديو فقط	

(سؤال مساعد) من درجتان فقط

1- لا يمكن حذف مقطع بعد إضافته إلى المخطط الزمني	
2- تتيح عملية ضغط مقاطع الفيديو تصغير حجم الملف وبالتالي تقليل مساحة التخزين المطلوبة	

انتهت الأسئلة – تمنياتي لكي بالتوفيق والنجاح

نموذج الاجابة

أجابات اختبار ثاني متوسط:

اجابة السؤال الاول:صلي:

الاختبار
(3)
(1)
(2)

اجابة السؤال الثاني اختاري:

(7)	(6)	(5)	(4)	(3)	(2)	(1)
د	ج	أ	ج	أ	ب	أ

1	صح
2	صح
3	خطأ
4	خطأ
5	صح
6	خطأ
7	صح
8	صح
9	خطأ
10	خطأ
11	صح
12	خطأ
<u>(سؤال مساعد) من درجتان فقط</u>	
1	خطأ
2	صح

نصف درجة لكل فقرة

السؤال الأول : - اكتب المصطلح المناسب مما يلي : -

مخطط القصة

معدل العينة

السيناريو


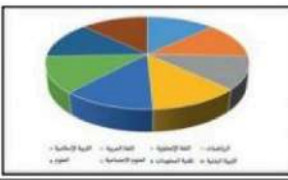


البكسل

مربعات صغيرة مُجمعة جنباً إلى جنب لكل من هذه المربعات لون محدد وعند دمجها جميعاً يتم تكوين الصورة .	
هو كمية التفاصيل بالصوت.	
هو رسم تشبيهي لفيلمك بأكمله.	
هو كتابة وصف تفصيلي تسلسلي لأحداث الفيلم ويحتوي على ثلاث مكونات مهمة: الأحداث والحوار والأبطال	

السؤال الثاني : ضع علامة \checkmark أو X :

1	يمكنك عرض صورك بواسطة برنامج صورة مايكروسوفت (Microsoft Photos).
2	الفيديو هو سلسلة من الصور التي تم التقاطها وعرضها في النهاية بتردد معين.
3	كل ما انخفض معدل البت كان حجم الملف أصغر والجودة أقل.
4	الديسيبل (db) هو الوحدة القياسية لقياس شدة الصوت.
5	اختيار البيانات هي الخطوة الأولى والأكثر أهمية لإنشاء المخطط.
6	المخطط البياني المصغر يستخدم لإظهار الاتجاهات في سلسلة من القيم.
7	ملفات الصوت لها نوع واحد فقط " مضغوطة " .
8	يُشير الرمز (HD) إلى الدقة القياسية للفيديو.

السؤال الثالث: اكتب مسمى المخططات البيانية التالية:

			
.....

نموذج الإجابة

الاسم :

8

نصف درجة لكل فقرة

السؤال الأول : - اكتب المصطلح المناسب مما يلي : -

مخطط القصة

معدل العينة

السيناريو

البكسل


مربعات صغيرة مُجمعة جنباً إلى جنب لكل من هذه المربعات لون محدد وعند دمجها جميعاً يتم تكوين الصورة .	البكسل
هو كمية التفاصيل بالصوت.	معدل العينة
هو رسم تشبيهي لفيلمك بأكمله.	مخطط القصة
هو كتابة وصف تفصيلي تسلسلي لأحداث الفيلم ويحتوي على ثلاث مكونات مهمة: الأحداث والحوار والأبطال	السيناريو

السؤال الثاني : ضع علامة √ أو X :

✓	1	يمكنك عرض صورك بواسطة برنامج صورة مايكروسوفت (Microsoft Photos).
✓	2	الفيديو هو سلسلة من الصور التي تم التقاطها وعرضها في النهاية بتردد معين.
✓	3	كل ما انخفض معدل البت كان حجم الملف أصغر والجودة أقل.
✓	4	الديسيبل (db) هو الوحدة القياسية لقياس شدة الصوت.
✓	5	اختيار البيانات هي الخطوة الأولى والأكثر أهمية لإنشاء المخطط.
✓	6	المخطط البياني المصغر يستخدم لإظهار الاتجاهات في سلسلة من القيم.
✗	7	ملفات الصوت لها نوع واحد فقط " مضغوطة " .
✗	8	يُشير الرمز (HD) إلى الدقة القياسية للفيديو.

السؤال الثالث: اكتب مسمى المخططات البيانية التالية:

			
المبعثر	الدائري	الخطي	العمودي/ الشريطي



اختبار فكري (تحريري) لمادة المهارات الرقمية ثاني متوسط الفصل الاول لعام 1447هـ


السؤال الاول: اختاري الإجابة الصحيحة:

1	جميع ما يلي من أنواع الملفات الأكثر شيوعاً لملفات الصور ما عدا :				
أ	png	ب	acc	ج	gif
2	تتكون كل صورة رقمية من مربعات صغيرة مجمعة جنباً إلى جنب تسمى :				
أ	هيرتز	ب	بكسل	ج	بايت
3	من الخطوات التي يتبعها المحترفون لإنشاء فيديو ناجح ويقصد بها إنشاء رسم تشبيهي لفيلمك بأكمله:				
أ	النص (السيناريو)	ب	جدول التصوير	ج	مخطط القصة
4	يمكن عرض الصور والفيديو في الحاسب عن طريق برنامج :				
أ	مايكروسوفت وورد	ب	صور مايكروسوفت	ج	مايكروسوفت إكسل
السؤال الثاني: ضعي علامة (صح) أمام العبارة الصحيحة وعلامة (خطأ) أمام العبارة الخاطئة :					
1	تتيح عملية ضغط مقاطع الفيديو تصغير حجم الملف وبالتالي تقليل مساحة التخزين المطلوبة .				
2	الكاميرات تنتج صوراً أكبر وأكثر وضوحاً ودقة من الهاتف الذكي .				
3	تستخدم انتقالات الفيديو في تحرير الفيلم أو الفيديو لربط لقطة بأخرى .				
4	لا يمكن إضافة مؤثرات صوتية إلى الفيديو .				
السؤال المساعد: ما لفرق بين (الحوار) و (المشهد) :					

انتهت الأسئلة,,, بالتوفيق غاليتي

مديرة المدرسة :

معلمة المادة:



وزارة التعليم
Ministry of Education

نموذج الاجابة

المملكة العربية السعودية
إدارة التعليم
المتوسطة.....

اختبار فكري (تحريري) لمادة المهارات الرقمية ثاني متوسط الفصل الاول لعام 1447هـ

السؤال الاول: اختاري الإجابة الصحيحة:

1	جميع ما يلي من أنواع الملفات الأكثر شيوعاً لملفات الصور ما عدا:	أ	png	ب	acc	ج	gif
2	تتكون كل صورة رقمية من مربعات صغيرة مجمعة جنباً إلى جنب تسمى:	أ	هيرتز	ب	بكسل	ج	بايت
3	من الخطوات التي يتبعها المحترفون لإنشاء فيديو ناجح ويقصد بها إنشاء رسم تشبيهي لفيلمك بأكمله:	أ	النص (السيناريو)	ب	جدول التصوير	ج	مخطط القصة
4	يمكن عرض الصور والفيديو في الحاسب عن طريق برنامج:	أ	مايكروسوفت وورد	ب	صور مايكروسوفت	ج	مايكروسوفت إكسل

السؤال الثاني: ضعي علامة (صح) أمام العبارة الصحيحة وعلامة (خطأ) أمام العبارة الخاطئة:

1	تتيح عملية ضغط مقاطع الفيديو تصغير حجم الملف وبالتالي تقليل مساحة التخزين المطلوبة .	صح
2	الكاميرات تنتج صوراً أكبر وأكثر وضوحاً ودقة من الهاتف الذكي .	صح
3	تستخدم انتقالات الفيديو في تحرير الفيلم أو الفيديو لربط لقطة بأخرى .	صح
4	لا يمكن إضافة مؤثرات صوتية إلى الفيديو .	خطأ

السؤال المساعد: ما لفرق بين (الحوار) و (المشهد) :

"الحوار" هو جميع ما ستقوله شخصياتك.
"المشهد" هو حدث يتم في مكان معين وفي زمن محدد.

انتهت الأسئلة,,, بالتوفيق غاليتي

مديرة المدرسة :

معلمة المادة:

موقع
مادنتيري

السؤال الأول:

اختر الإجابة الصحيحة لكل فقرة من الفقرات التالية:

1	أي من تنسيقات الصور التالية هو الأنسب للاستخدام في رسومات الويب التي تتطلب خلفية شفافة؟	.JPEG	.PNG	.BMP	.TIFF
2	ما الوظيفة الأساسية لبرنامج الترميز ؟	تشغيل ملفات الفيديو	تغيير اسم وامتداد الملف	ضغط وفك ضغط بيانات الفيديو لتقليل حجمه	تجميع ملفات الفيديو والصوت معاً في ملف واحد
3	ماهو التنسيق الصوتي الأكثر شيوعاً ؟	WAV	MP3	AAC	GIF
4	إلى ماذا يشير الرمز (HD) للفيديو.	الدقة المنخفضة	الدقة العالية	الدقة القياسية	الحجم
5	ما الهدف الرئيسي من ضغط مقاطع الفيديو؟	زيادة جودة الصورة والصوت	إضافة ترجمات للمقطع	تقليل حجم الملف لتسهيل التخزين والمشاركة	زيادة عدد الإطارات في الثانية
6	المقصود بوصف تفصيلي تسلسلي لأحداث الفيلم	مخطط القصة	السيناريو	الابطال	الأحداث
7	ما هي المساحة الرئيسية في برنامج شوت كت التي تستخدم لترتيب مقاطع الفيديو والصور في تسلسل زمني؟	قائمة التشغيل (Playlist)	نافذة المصدر (Source)	المخطط الزمني (Timeline)	لوحة التصدير (Export)
8	عندما تحفظ مشروعك في شوت كت لأول مرة، ما هو امتداد الملف الذي يتم إنشاؤه؟	.mp4	.mov	.jpg	.mlt
9	أي من المرشحات التالية يستخدم لجعل ألوان الصورة تبدو طبيعية وواقعية؟	Sepia Tone	White Balance	Color Grading	Vertigo
10	ما هي الخطوة الأولى في عملية التخطيط لإنشاء فيلم؟				

رسم مخطط القصة (Storyboard)	كتابة النص والسيناريو (Script)	اختيار برنامج التحرير	تصوير المشاهد
لإزالة مقطع فيديو من المخطط الزمني، تقوم أولاً بـ...			
١١	تصدير المشروع	تحديد المقطع ثم الضغط على زر الحذف	إعادة تشغيل البرنامج إضافة مرشح جديد
ما هي الأداة التي تقترح أنواع المخططات المناسبة تلقائياً عند تحديد مجموعة من البيانات الرقمية؟			
١٢	SmartArt	التحليل السريع (Quick Analysis)	تنسيق شرطي إدراج مربع نص
عند إضافة صف جديد من البيانات إلى ورقة العمل، كيف يتم تحديث المخطط البياني ليشمل هذا الصف؟			
١٣	يتم التحديث تلقائياً دون أي تدخل.	يجب حذف المخطط وإعادة إنشائه من جديد.	باستخدام أداة "تحديد البيانات" وتوسيع النطاق.
عن طريق تغيير ألوان المخطط.			
للحفاظ على نسبة الطول إلى العرض عند تغيير حجم المخطط، أي مفتاح يجب الضغط عليه أثناء السحب؟			
١٤	Ctrl	Alt	Tab
Shift			
أي من الخيارات التالية هو الأنسب لتمثيل الخطوات الخمس لعملية ما بشكل مرئي؟			
١٥	مخطط دائري	رسم SmartArt	مخطط خطي
مخطط شريطي			

السؤال الثاني :

حدد كلمة صح أو خطأ لكل فقرة من الفقرات الآتية:

١	امتداد الملف يساعد نظام التشغيل على معرفة نوع الملف والبرنامج المناسب لفتحه.	<input type="radio"/> صح	<input type="radio"/> خطأ
٢	بعض أنواع الكاميرات الرقمية تتضمن ميزة التوصيل باستخدام البلوتوث أو Wi-Fi	<input type="radio"/> صح	<input type="radio"/> خطأ
٣	تدرج الألوان لا يختلف عن تصحيح الألوان	<input type="radio"/> صح	<input type="radio"/> خطأ
٤	جودة عدسة الكاميرا تلعب دوراً أهم من عدد الميجابكسل في تحديد وضوح الصورة النهائية.	<input type="radio"/> صح	<input type="radio"/> خطأ
٥	عملية استيراد الوسائط تعني ببساطة نقل الملفات من جهاز خارجي) مثل الكاميرا (إلى جهاز الحاسب.	<input type="radio"/> صح	<input type="radio"/> خطأ
٦	جدول التصوير : (Decoupage) هو مرحلة التخطيط للجزء المرئي عن طريق تقسيم كل مشهد إلى لقطات	<input type="radio"/> صح	<input type="radio"/> خطأ
٧	تسمى النافذة التي تحتوي على معاينة الفيديو نافذة المصدر	<input type="radio"/> صح	<input type="radio"/> خطأ
٨	حفظ المشروع بصيغة .mlt يعني أنك قمت بإنشاء ملف الفيديو النهائي الجاهز للمشاهدة.	<input type="radio"/> صح	<input type="radio"/> خطأ

٩	تتم عملية ترتيب ودمج المقاطع بشكل أساسي في 'قائمة التشغيل.(Playlist)'	<input type="radio"/> صح	<input type="radio"/> خطأ
١٠	يمكن استيراد أنواع مختلفة من الملفات في برنامج الشوت كت اثناء عمل البرنامج مثل mp٤ و jpg	<input type="radio"/> صح	<input type="radio"/> خطأ
١١	تُستخدم رسومات SmartArt بشكل أساسي لعرض البيانات الرقمية وتحليلها.	<input type="radio"/> صح	<input type="radio"/> خطأ
١٢	يمكن إضافة سلسلة بيانات جديدة إلى مخطط بياني بعد إنشائه.	<input type="radio"/> صح	<input type="radio"/> خطأ
١٣	أداة التحليل السريع تظهر فقط عند تحديد خلية واحدة.	<input type="radio"/> صح	<input type="radio"/> خطأ
١٤	لتغيير مظهر رسم SmartArt ، يمكنك تطبيق نمط جاهز من معرض الأنماط.	<input type="radio"/> صح	<input type="radio"/> خطأ
١٥	لا يمكن تحريك المخطط البياني من مكانه بعد إدراجه في ورقة العمل.	<input type="radio"/> صح	<input type="radio"/> خطأ

انتهت الأسئلة ،،،

موقع
مادتي

حل تدريبات الفترة الاولى لعام ١٤٤٧

الاسم :

نموذج الاجابة

السؤال الأول:

اختر الإجابة الصحيحة لكل فقرة من الفقرات التالية:

١	أي من تنسيقات الصور التالية هو الأنسب للاستخدام في رسومات الويب التي تتطلب خلفية شفافة؟	.JPEG	.PNG	.BMP	.TIFF
٢	ما الوظيفة الأساسية لبرنامج الترميز (Codec) مثل H.264؟	تشغيل ملفات الفيديو	تغيير اسم وامتداد الملف	ضغط وفك ضغط بيانات الفيديو لتقليل حجمه	تجميع ملفات الفيديو والصوت معًا في ملف واحد
٣	ما هو التنسيق الصوتي الأكثر شيوعاً؟	WAV	MP3	AAC	GIF
٤	إلى ماذا يشير الرمز (HD) للفيديو.	الدقة المنخفضة	الدقة العالية	الدقة القياسية	الحجم
٥	ما الهدف الرئيسي من ضغط مقاطع الفيديو؟	زيادة جودة الصورة والصوت	إضافة ترجمات للمقطع	تقليل حجم الملف لتسهيل التخزين والمشاركة	زيادة عدد الإطارات في الثانية
٦	المقصود بوصف تفصيلي تسلسلي لأحداث الفيلم	مخطط القصة	السيناريو	الابطال	الأحداث
٧	ما هي المساحة الرئيسية في برنامج شوت كت التي تستخدم لترتيب مقاطع الفيديو والصور في تسلسل زمني؟	قائمة التشغيل (Playlist)	نافذة المصدر (Source)	المخطط الزمني (Timeline)	لوحة التصدير (Export)
٨	عندما تحفظ مشروعك في شوت كت لأول مرة، ما هو امتداد الملف الذي يتم إنشاؤه؟	.mp4	.mov	.jpg	.mlt
٩	أي من المرشحات التالية يستخدم لجعل ألوان الصورة تبدو طبيعية وواقعية؟	Sepia Tone	White Balance	Color Grading	Vertigo
١٠	ما هي الخطوة الأولى في عملية التخطيط لإنشاء فيلم؟				

رسم مخطط القصة (Storyboard)	كتابة النص والسيناريو (Script)	اختيار برنامج التحرير	تصوير المشاهد
إزالة مقطع فيديو من المخطط الزمني، تقوم أولاً بـ...			
١١	تصدير المشروع	تحديد المقطع ثم الضغط على زر الحذف	إعادة تشغيل البرنامج إضافة مرشح جديد
لجعل نص يتحرك من يمين الشاشة إلى يسارها، ما هي الأداة الأساسية التي يجب استخدامها في مرشح النص؟			
١٢	مقبض تغيير الحجم	صندوق النص	الإطارات المفتاحية (Keyframes)
قائمة الخطوط (Fonts)			
أي من المرشحات التالية يستخدم لظهور مقطع الفيديو بشكل تدريجي من السواد؟			
١٣	Fade Out Video	Fade In Video	Slide in From Left
Gain/Volume			
عندما تريد رفع صوت مقطع موسيقي في الفيديو، أي مرشح صوتي يجب عليك تطبيقه؟			
١٤	Fade In Audio	High Pass	Fade Out Audio
Gain/Volume			
ما هي الخطوة النهائية لإنشاء ملف فيديو يمكن مشاهدته على يوتيوب أو إرساله للآخرين؟			
١٥	حفظ المشروع (Save)	إضافة مرشح (Add a filter)	تصدير الملف (Export File)
إضافة مسار صوتي (Add Audio Track)			
وظيفة التأثيرات الانتقالية (Transitions) هي:			
١٦	تغيير لون الفيديو	الربط بين مقطعين أو مشهدين مختلفين	زيادة سرعة الفيديو
إضافة نص على الشاشة			
ما هي الأداة التي تقترح أنواع المخططات المناسبة تلقائياً عند تحديد مجموعة من البيانات الرقمية؟			
١٧	SmartArt	التحليل السريع (Quick Analysis)	تنسيق شرطي
إدراج مربع نص			
عند إضافة صف جديد من البيانات إلى ورقة العمل، كيف يتم تحديث المخطط البياني ليشمل هذا الصف؟			
١٨	يتم التحديث تلقائياً دون أي تدخل.	يجب حذف المخطط وإعادة إنشائه من جديد.	باستخدام أداة "تحديد البيانات" وتوسيع النطاق.
عن طريق تغيير ألوان المخطط.			
للحفاظ على نسبة الطول إلى العرض عند تغيير حجم المخطط، أي مفتاح يجب الضغط عليه أثناء السحب؟			
١٩	Ctrl	Alt	Tab
Shift			
أي من الخيارات التالية هو الأنسب لتمثيل الخطوات الخمس لعملية ما بشكل مرئي؟			
٢٠	مخطط دائري	رسم SmartArt	مخطط خطي
مخطط شريطي			
من أي تبويب يمكنك تغيير مجموعة الألوان الكاملة لرسم SmartArt دفعة واحدة؟			
٢١	الشريط الرئيسي	إدراج	تصميم SmartArt
عرض			

السؤال الثاني :

حدد كلمة صح أو خطأ لكل فقرة من الفقرات الآتية:

خطأ	<input type="radio"/>	صحيح	<input type="radio"/>	امتداد الملف يساعد نظام التشغيل على معرفة نوع الملف والبرنامج المناسب لفتحه.	١
خطأ	<input type="radio"/>	صحيح	<input type="radio"/>	بعض أنواع الكاميرات الرقمية تتضمن ميزة التوصيل باستخدام البلوتوث أو Wi-Fi	٢
خطأ	<input type="radio"/>	صحيح	<input type="radio"/>	تدرج الألوان لا يختلف عن تصحيح الألوان	٣
خطأ	<input type="radio"/>	صحيح	<input type="radio"/>	جودة عدسة الكاميرا تلعب دوراً أهم من عدد الميجابكسل في تحديد وضوح الصورة النهائية.	٤
خطأ	<input type="radio"/>	صحيح	<input type="radio"/>	عملية استيراد الوسائط تعني ببساطة نقل الملفات من جهاز خارجي (مثل الكاميرا) إلى جهاز الحاسب.	٥
خطأ	<input type="radio"/>	صحيح	<input type="radio"/>	جدول التصوير : (Decoupage) هو مرحلة التخطيط للجزء المرئي عن طريق تقسيم كل مشهد إلى لقطات	٦
خطأ	<input type="radio"/>	صحيح	<input type="radio"/>	تسمى النافذة التي تحتوي على معاينة الفيديو (نافذة المصدر)	٧
خطأ	<input type="radio"/>	صحيح	<input type="radio"/>	حفظ المشروع بصيغة mlt. يعني أنك قمت بإنشاء ملف الفيديو النهائي للجهاز للمشاهدة.	٨
خطأ	<input type="radio"/>	صحيح	<input type="radio"/>	تتم عملية ترتيب ودمج المقاطع بشكل أساسي في ' قائمة التشغيل.(Playlist) '	٩
خطأ	<input type="radio"/>	صحيح	<input type="radio"/>	يمكن استيراد أنواع مختلفة من الملفات مثل mp4 و jpg إلى مشروع واحد في شوت كت.	١٠
خطأ	<input type="radio"/>	صحيح	<input type="radio"/>	الديسيبل (db) هو الوحدة القياسية لقياس شدة الصوت	١١
خطأ	<input type="radio"/>	صحيح	<input type="radio"/>	الإطارات المفتاحية هي علامات أو نقاط ربط نتيج للبرنامج معرفة موضع بدء الحركة ووقت انتهائها	١٢
خطأ	<input type="radio"/>	صحيح	<input type="radio"/>	تأثير ' Fade Out Audio ' يجعل صوت المقطع يبدأ من الصفر ويزداد تدريجياً.	١٣
خطأ	<input type="radio"/>	صحيح	<input type="radio"/>	الإطارات المفتاحية (Keyframes) ضرورية لإنشاء أي نوع من الحركة أو التغيير التدريجي عبر الزمن.	١٤
خطأ	<input type="radio"/>	صحيح	<input type="radio"/>	لإضافة ملف صوتي، يجب أولاً إنشاء مسار صوتي فارغ في المخطط الزمني.	١٥
خطأ	<input type="radio"/>	صحيح	<input type="radio"/>	يتميز امتداد الصور jpeg بأن جودة الصورة عالية ومساحة التخزين صغيرة	١٦
خطأ	<input type="radio"/>	صحيح	<input type="radio"/>	تُستخدم رسومات SmartArt بشكل أساسي لعرض البيانات الرقمية وتحليلها.	١٧
خطأ	<input type="radio"/>	صحيح	<input type="radio"/>	يمكن إضافة سلسلة بيانات جديدة إلى مخطط بياني بعد إنشائه.	١٨
خطأ	<input type="radio"/>	صحيح	<input type="radio"/>	أداة التحليل السريع تظهر فقط عند تحديد خلية واحدة.	١٩
خطأ	<input type="radio"/>	صحيح	<input type="radio"/>	لتغيير مظهر رسم SmartArt ، يمكنك تطبيق نمط جاهز من معرض الأنماط.	٢٠
خطأ	<input type="radio"/>	صحيح	<input type="radio"/>	لا يمكن تحريك المخطط البياني من مكانه بعد إدراجه في ورقة العمل.	٢١

12

الصف :

الاسم :

السؤال الأول : ضع علامة \checkmark أو X :-

1	إذا أردت أفضل جودة ممكنة في الصوت ولا تهتم في المساحة يمكنك استخدام تنسيق صوت غير مضغوط مثل "WAV".
2	إضافة نص مُتحرك إلى مقاطع الفيديو يعد أمراً إلزامياً.
3	يتم استخدام التأثيرات الانتقالية على مقطع الفيديو لربط لقطة فيديو بأخرى.
4	في برنامج شوت كت عند استيراد ملف صوتي يتم تضمينه تلقائياً في الفيديو.
5	لا يمكنك تعديل المخطط البياني بعد إنشائه.
6	يمكنك تغيير حجم المخطط أو تحريكه ليناسب مع البيانات في ورقة العمل.

السؤال الثاني: بين نتيجة تنفيذ الخطوات في برنامج شوت كت مما يلي :

إضافة صورة ثابتة إلى المخطط الزمني

حفظ المشروع

استيراد الملفات إلى المشروع



السؤال الثالث: أختَر الإجابة الصحيحة :

في علامة التبويب الصيغ	<input type="radio"/>	توجد أداة التحليل السريع في :
في علامة التبويب مراجعة	<input type="radio"/>	
في الركن الأيسر السفلي من جدول البيانات المحدد	<input type="radio"/>	

تحديد البيانات	<input type="radio"/>	الخطوة التي يجب عليك اتخاذها أولاً لكي لتظهر أداة التحليل السريع ؟
حفظ ورقة العمل	<input type="radio"/>	
فتح ورقة عمل ثانية	<input type="radio"/>	

	<input type="radio"/>	أي صورة تمثل أداة التحليل السريع ؟
	<input type="radio"/>	
	<input type="radio"/>	

نموذج الاجابة

الاسم :

١٢

السؤال الأول : ضع علامة √ أو X :-

✓	إذا أردت أفضل جودة ممكنة في الصوت ولا تهتم في المساحة يمكنك استخدام تنسيق صوت غير مضغوط مثل "WAV".	١
X	إضافة نص مُتحرك إلى مقاطع الفيديو يعد أمراً إلزامياً.	٢
✓	يتم استخدام التأثيرات الانتقالية على مقطع الفيديو لربط لقطة فيديو بأخرى.	٣
X	في برنامج شوت كت عند استيراد ملف صوتي يتم تضمينه تلقائياً في الفيديو.	٤
X	لا يمكنك تعديل المخطط البياني بعد إنشائه.	٥
✓	يمكنك تغيير حجم المخطط أو تحريكه ليناسب مع البيانات في ورقة العمل.	٦

السؤال الثاني: بين نتيجة تنفيذ الخطوات في برنامج شوت كت مما يلي :

إضافة صورة ثابتة إلى المخطط الزمني

حفظ المشروع

استيراد الملفات إلى المشروع



إضافة صورة ثابتة إلى المخطط الزمني



استيراد الملفات إلى المشروع



حفظ المشروع

السؤال الثالث: اختر الإجابة الصحيحة :

في علامة التبويب الصغير	<input type="radio"/>	توجد أداة التحليل السريع في :
في علامة التبويب مراجعة	<input type="radio"/>	
في الركن الأيسر السفلي من جدول البيانات المحدد	<input checked="" type="radio"/>	

تحديد البيانات	<input checked="" type="radio"/>	الخطوة التي يجب عليك اتخاذها أولاً لكي لتظهر أداة التحليل السريع ؟
حفظ ورقة العمل	<input type="radio"/>	
فتح ورقة عمل ثانية	<input type="radio"/>	

	<input type="radio"/>	أي صورة تمثل أداة التحليل السريع ؟
	<input checked="" type="radio"/>	
	<input type="radio"/>	

اختبار الفترة الاولى الفصل الدراسي الاول للعام 1447هـ

اسم الطالبة/

السؤال الأول: أ- اختر الإجابة الصحيحة لكل من العبارات التالية: -

1. لإضافة تصاميم جرافيك من المكتبة في برنامج كانفا، من الشريط الجانبي نضغط على:			
أ	العناصر	ب	التصاميم
ج	التحميلات		
2. من أنواع مخططات المعلومات البيانية يعرض الأحداث بترتيب زمني:			
أ	الزمني	ب	الهرمي
ج	المفرد		
3. (= !) من المعاملات الشرطية وتعني			
أ	لا يساوي	ب	يساوي
ج	أكبر من		
4. تتنوع ملفات الصور الى نوعين			
أ	نقطية ومتجهه	ب	مضغوطة وغير مضغوطة
ج	قياسي وعالي		
5. مخطط ينظم المعلومات حسب المستويات			
أ	هرمي	ب	زمني
ج	السيرة الذاتية		
6. في لغة البايثون اذا كانت كلتا العبارتين صحيحة تكون			
أ	and	ب	or
ج	not		
7. wav امتداد لملف			
أ	صوتي	ب	فيديو
ج	صورة		
8. طريقة مرئية لمقارنة الخيارات المختلفة			
أ	مخطط المقارنة	ب	مخطط الخيطة
ج	مخطط قائم على الصورة		
9. (< =) من المعاملات الشرطية وتعني			
أ	اصغر من او يساوي	ب	يساوي
ج	اكبر من او يساوي		
10. mp4 امتداد لملف			
أ	فيديو	ب	صوت
ج	صورة		
11. حدث يتم في مكان معين وفي زمن محدد.			
أ	المشهد	ب	الشخصيات
ج	الحوار		
12. الخطوات يتبعها المحترفون لإنشاء فيديو ويقصد بها إنشاء رسم تشبيهي للفلم:			
أ	مخطط القصة	ب	جدول التصوير
ج	النص		
13. من خصائص مخطط المعلومات وهي إثراء ودعم النصوص المعقدة لتبسيط الفهم:			
أ	الكفاءة والدقة	ب	الجاذبية والفعالية
ج	البساطة والوضوح		
14. الأفلام المنزلية والتي يلتقطها الهواة قد تحتوي على أخطاء فنية تقلل من جودتها مثل:			
أ	اهتزاز الصورة	ب	الإضاءة الجيدة
ج	خلوها من التشويش		
15. تتكون كل صورة رقمية من مربعات صغيرة مجمعة جنباً إلى جنب تسمى:			
أ	بكسل	ب	بايت
ج	هيرترز		
16. يوجد نوعان رئيسيان لملفات الصوت			
أ	مضغوطة وغير مضغوطة	ب	نقطية ومتجهه
ج	معالج وخادم		
17. جميع ما يلي من أنواع الملفات الأكثر شيوعاً لملفات الصوت ما عدا:			
أ	gif	ب	mp3
ج	wav		
18. في لغة البايثون اذا كانت احدى العبارات صحيحة تكون			
أ	and	ب	not
ج	or		
19. يتم تمييز نوع الملفات من خلال			
أ	اسمها	ب	حجمها
ج	امتدادها		
20. عند ضغط ملف الفيديو ستفقد جزء من			
أ	اللقطات	ب	الأصوات
ج	الجودة		

السؤال الثاني/

أ: من خلال دراستك للغة البايثون اجيبي عن التالي بوضع عبارة (True) أو (False)

<pre style="background-color: #f0f0f0; padding: 5px;">a=True b=True c=True z=(a or b) and (not c) print(z)</pre> <div style="border: 1px solid black; width: 100px; height: 20px; margin: 10px auto;"></div>	<pre style="background-color: #f0f0f0; padding: 5px;">a=True b=False c=False z=(a or b) and (not c) print(z)</pre> <div style="border: 1px solid black; width: 100px; height: 20px; margin: 10px auto;"></div>
--	--

<pre style="background-color: #f0f0f0; padding: 5px;">c=5+9>=14 print(c)</pre> <div style="text-align: center; margin: 5px 0;">↓</div> <div style="border: 1px solid black; width: 100px; height: 20px; margin: 10px auto;"></div>	<pre style="background-color: #f0f0f0; padding: 5px;">b=8<=8 print(b)</pre> <div style="text-align: center; margin: 5px 0;">↓</div> <div style="border: 1px solid black; width: 100px; height: 20px; margin: 10px auto;"></div>	<pre style="background-color: #f0f0f0; padding: 5px;">a=5>7 print(a)</pre> <div style="text-align: center; margin: 5px 0;">↓</div> <div style="border: 1px solid black; width: 100px; height: 20px; margin: 10px auto;"></div>
---	--	---

ب: ضع علامة (√) أو (f) أمام العبارات التالية:

1	يتغير حجم الملف عند ضغطه ليشغل مساحة اصغر
2	من مميزات استخدام مخطط المعلومات البياني جذب الانتباه وتوليد الاهتمام
3	يمكن فتح المشاريع الأخيرة في برنامج شوت كت
4	العامل المهم في جودة الفيديو هو الجهاز المستخدم لالتقاطه
5	تساعد التأثيرات البصرية على رفع جودة إخراج الفيديو وكذلك التشويق فيها.
6	تحتوي الحاوية ترجمات
7	المخطط الترشحي يبسط المعلومات المعقدة
8	تستخدم المخططات البيانية لنقل رسالة محددة
9	Not هي بمثابة القيمة العكسية
10	لا يمكنك انشاء مخطط معلومات بحجم مخصص في كانفا
11	في الفيديو عالي الدقة hd تكون جودة الألوان اقل من الدقة القياسية sd
12	لايمكن إضافة التأثيرات والانتقالات في مكونات الفيديو

رتب خطوات التخطيط لاعداد فيلم او فيديو :



كتابة النص السيناريو (يتم فيه تحديد الأبطال والاحداث والحوار)	
مخطط القصة (رسم تشبيهي لفيلمك بأكمله)	
جدول التصوير (تحديد لقطات كل مشهد)	

انتهت الأسئلة معلمة المادة: سارة الشهراني

اسم الطالب رباعياً : الدرجة الكلية (..... من ٢٠)

السؤال الأول : أختَر الإجابة الصحيحة مما يلي :

١	يمكن التمييز بين أنواع ملفات الوسائط المختلفة في جهاز الحاسب من خلال التحقق من :			
أ	حجم الملف	ب	امتداد الملف	ج
٢	عند ضغطك لملف فيديو فإنك ستفقد بعضاً من :			
أ	جودته	ب	لقطاته	ج
٣	من امتدادات الصوت الأكثر شيوعاً :			
أ	jpg	ب	MP4	ج
٤	تتكون الصور الرقمية من مربعات صغيرة متجاورة لكل من هذه المربعات لون محدد عند دمجها يتم تكوين الصورة وتسمى			
أ	الإطارات	ب	البكسلات	ج
٥	مرحلة كتابة وصف تفصيلي لأحداث الفيلم يتضمن الأحداث و الحوار والأبطال تسمى :			
أ	السيناريو (كتابة النص)	ب	جدول التصوير	ج
٦	من مميزات استخدام مخطط المعلومات البياني :			
أ	جذب الإنتباه وتوليد الاهتمام	ب	تقديم الموضوع بطريقة مختصرة	ج
٧	المخطط الذي يعتمد على صور وهو مناسب لإنشاء الكتيبات والملصقات التوضيحية :			
أ	المخطط المفرد	ب	مخطط قائم على صورة	ج
٨	المخطط الذي يقدم معلومات بصرية فيما يتعلق بالمناطق الجغرافية ويستخدم للمقارنة بين الأماكن والثقافات هو :			
أ	المخطط الإنسيابي	ب	مخطط المقارنة	ج

السؤال الثاني : ضع علامة صح أمام العبارة الصحيحة وعبارة خطأ أمام العبارة الخاطئة :

١	يشير الرمز (HD) إلى الدقة القياسية للفيديو ، بينما الرمز (SD) إلى الدقة العالية للفيديو.
٢	كل ما انخفض معدل العينة كان حجم الملف أصغر والجودة أقل
٣	يتم استخدام التأثيرات الإنتقالية على مقطع الفيديو لربط لقطة فيديو بأخرى.
٤	اختيار الموضوع هو أول خطوة في تصميم مخطط المعلومات البياني.
٥	لإضافة صور في كانفا لابد أن تكون محفوظة في جهاز الحاسب الخاص بك.
٦	لجعل مخطط المعلومات البياني أكثر جاذبية نضيف المزيد من النصوص.
٧	يوفر كانفا طباعة مخطط المعلومات البياني بعد تنزيله بصيغة PDF.

السؤال الثالث : أكتب حرف المصطلح المناسب مما يلي أمام التعريف المناسب له :

أ - معدل العينة	ب - المخطط الزمني	ج - كانفا	د - الحاوية	هـ - مخطط المعلومات البياني
-----------------	-------------------	-----------	-------------	-----------------------------

- ١ : () عبارة عن مجموعة من الملفات التي تظهر كملف واحد ، وتتضمن أحياناً برنامج ترميز الفيديو وترميز الصوت.
- ٢ : () هو كمية التفاصيل بالصوت.
- ٣ : () هو أحد أهم مكونات التحكم في برنامج شوت كت (Shotcut).
- ٤ : () هو تمثيل مرئي ملخص للمعلومات أو البيانات أو المعرفة ، ويستخدم بشكل واسع في التعليم والشركات عبر الإنترنت .
- ٥ : () هو تطبيق مجاني سحابي وسهل الإستخدام لتصميم الرسومات .

تمت الأسئلة ، توفيقاً دائماً أتمناه لكم

الاختبار النظري الفصلي لمادة المهارات الرقمية الصف الثاني متوسط

اسم الطالبة: الشعبة:

5

مستعينة بالله اجيبي عما يلي:

السؤال الأول : اختاري الإجابة الصحيحة فيما يلي:

1- يمكن بسهولة تمييز ملفات الوسائط المختلفة من خلال التحقق من		
اسم الملف	امتداد الملف	حجم الملف
2- امتداد jpeg يشير إلى أنه ملف		
صوتي	فيديو	صورة
3- لتصغير حجم الملف نقوم ب		
ضغط الملف	فك الضغط	تخصيص الملف
4- عند ضغطك ملف الفيديو ستفقد بعضاً من		
لقطاته	جودته	أصواته
5- تتكون كل صورة رقمية من مربعات صغيرة مجمعة جناً إلى جنب تسمى :		
الاطارات	النقاط	البكسلات
6- مقدار التفاصيل في الصوت		
معدل العينة	معدل البت	معدل الصوت
7- يوجد نوعان رئيسان لملفات الصوت		
نقطية ومتجهة	برنامج وبيانات	مضغوطة وغير مضغوطة
8- يشير الامتداد mp4 إلى انه		
ملف صوتي	ملف صورة	ملف فيديو
9- تتكون من مسارات ذات صيغ رياضية		
الرسومات الموجهة	الفيديو	الصور
10- من تنسيقات الترميز الشائعة		
Jpeg,png,tiff	Divx,H.264,Av1	Wav,Wma,mp3

السؤال الثاني : ضعي عبارة (صح) أمام العبارات الصحيحة وعبارة (خطأ) أمام العبارات الخاطئة فيما يلي:

1	الإطارات المفتاحية هي طريقة لتأمين ملفات الفيديو من أخطار الاختراق.
2	يمكنك في برنامج شوت كت إدراج التأثيرات الحركية والانتقالية في مقاطع الفيديو الخاصة بك.
3	تساعد التأثيرات البصرية على رفع جودة إخراج مقاطع الفيديو .
4	في برنامج شوت كت عند استيراد ملف صوتي ، يتم تضمينه تلقائياً في الفيديو.
5	لا يمكنك تصدير مشروعك في شوت كت كملف فيديو

السؤال الثالث : رتي خطوات التخطيط المسبق لإنشاء فيلم :

مخطط القصة : رسم تشبيهي لفيلمك بأكمله .
النص : كتابة وصف تفصيلي لأحداث الفيلم.
جدول التصوير: تقسيم كل مشهد إلى مجموعة من اللقطات .

وفقن الله

المعلمة : عهدود الحربي

أسئلة اختبار الفترة الأولى للفصل الدراسي الأول

اسم الطالب : الصف :

٤٠

أ	ب	ج	د	
<input type="radio"/>	<input type="radio"/>	<input type="radio"/>	<input type="radio"/>	11
<input type="radio"/>	<input type="radio"/>	<input type="radio"/>	<input type="radio"/>	12
<input type="radio"/>	<input type="radio"/>	<input type="radio"/>	<input type="radio"/>	13
<input type="radio"/>	<input type="radio"/>	<input type="radio"/>	<input type="radio"/>	14
<input type="radio"/>	<input type="radio"/>	<input type="radio"/>	<input type="radio"/>	15
<input type="radio"/>	<input type="radio"/>	<input type="radio"/>	<input type="radio"/>	16
<input type="radio"/>	<input type="radio"/>	<input type="radio"/>	<input type="radio"/>	17
<input type="radio"/>	<input type="radio"/>	<input type="radio"/>	<input type="radio"/>	18
<input type="radio"/>	<input type="radio"/>	<input type="radio"/>	<input type="radio"/>	19
<input type="radio"/>	<input type="radio"/>	<input type="radio"/>	<input type="radio"/>	20

أ	ب	ج	د	
<input type="radio"/>	<input type="radio"/>	<input type="radio"/>	<input type="radio"/>	1
<input type="radio"/>	<input type="radio"/>	<input type="radio"/>	<input type="radio"/>	2
<input type="radio"/>	<input type="radio"/>	<input type="radio"/>	<input type="radio"/>	3
<input type="radio"/>	<input type="radio"/>	<input type="radio"/>	<input type="radio"/>	4
<input type="radio"/>	<input type="radio"/>	<input type="radio"/>	<input type="radio"/>	5
<input type="radio"/>	<input type="radio"/>	<input type="radio"/>	<input type="radio"/>	6
<input type="radio"/>	<input type="radio"/>	<input type="radio"/>	<input type="radio"/>	7
<input type="radio"/>	<input type="radio"/>	<input type="radio"/>	<input type="radio"/>	8
<input type="radio"/>	<input type="radio"/>	<input type="radio"/>	<input type="radio"/>	9
<input type="radio"/>	<input type="radio"/>	<input type="radio"/>	<input type="radio"/>	10

الأسئلة من ١ إلى ٢٠ اختار
الإجابة الصحيحة وظل الإجابة
الصحيحة
في ورقة التظليل

١. جميع ما يلي من أنواع الملفات الأكثر شيوعاً لملفات الصور ما عدا :

أ	ب	ج	د
.aac	.jpg	.png	.gif

٢. كان تسجيل الفيديو يعتمد بشكل أساسي على كاميرات الفيديو ولكن الآن يمكن استخدام :

أ	ب	ج	د
الهواتف الذكية	الكاميرات الرقمية	كاميرات الانترنت	جميع ما سبق

٣. يمكن عرض الصور والفيديو في جهاز الحاسب عن طريق برنامج :

أ	ب	ج	د
مايكروسوفت وورد	مايكروسوفت اكسل	صور مايكروسوفت	مايكروسوفت بوربوينت

٤. من الخطوات الإبداعية التي يتبعها المحترفون لإنشاء فيديو ناجح :

أ	ب	ج	د
النص (السيناريو)	جدول التصوير	مخطط القصة	جميع ما سبق

٥. من الخطوات التي يتبعها المحترفون لإنشاء فيديو ناجح ويقصد بها إنشاء رسم تشبيهي للفيلم :

أ	ب	ج	د
النص (السيناريو)	جدول التصوير	مخطط القصة	لا شيء مما سبق

٦. مقاطع الفيديو المنزلية قد تحتوي على أخطاء فنية تقلل من جودتها مثل :

أ	ب	ج	د
الصورة المهترئة	لقطات غير متساوية المده	زوايا كاميرا محدودة	جميع ما سبق

٧. تؤدي عملية ضغط مقطع الفيديو إلى تقليل حجم الملف مما يسهل تخزينه ومشاركته :

أ	ب	ج	د
صح	خطأ		

٨. المزيد من الميجا بكسل يعني المزيد من التفاصيل في الصورة :

أ	ب	ج	د
صح	خطأ		

٩. لا يمكن حذف مقطع بعد إضافته إلى المخطط الزمني :

أ	ب	ج	د
صح	خطأ		

١٠. لا يمكن إضافة مؤثرات صوتية إلى الفيديو :

أ	ب	ج	د
صح	خطأ		

١١) يستخدم مخطط المعلومات البياني بشكل واسع حديثاً في:

أ	التعليم	ب	الشركات والمؤسسات	ج	وسائل التواصل الاجتماعي	د	جميع ما سبق
---	---------	---	-------------------	---	-------------------------	---	-------------

١٢) من خصائص مخطط المعلومات البياني ويقصد بها إثراء ودعم النصوص المعقدة لتبسيط وتسهيل فهم المعلومات:

أ	الكفاءة والدقة	ب	البساطة والوضوح	ج	الجاذبية والفعالية	د	التوازن
---	----------------	---	-----------------	---	--------------------	---	---------

١٣) أنواع مخططات المعلومات البيانية يقدم المعلومات بصريا فيما يتعلق بالمناطق الجغرافية:

أ	مخطط الخريطة أو الموقع	ب	المخطط الهرمي	ج	مخطط السيرة الذاتية المرئية	د	المخطط الانسيابي
---	------------------------	---	---------------	---	-----------------------------	---	------------------

١٤) ينظم المعلومات حسب المستويات سواء كان مستوى الأهمية أو الصعوبة أو الدخل الخ:

أ	مخطط الخريطة أو الموقع	ب	المخطط الهرمي	ج	مخطط السيرة الذاتية المرئية	د	المخطط الانسيابي
---	------------------------	---	---------------	---	-----------------------------	---	------------------

١٥) يعد الخطوة الأولى من خطوات تصميم مخطط المعلومات البياني:

أ	تحديد الجمهور	ب	تحديد الأهداف	ج	اختيار الموضوع	د	جمع البيانات
---	---------------	---	---------------	---	----------------	---	--------------

١٦) من مميزات استخدام مخطط المعلومات البياني جذب الانتباه وتوليد الاهتمام :

أ	صح	ب	خطأ		
---	----	---	-----	--	--

١٧) يوجد نوع واحد فقط لمخطط المعلومات البياني:

أ	صح	ب	خطأ		
---	----	---	-----	--	--

١٨) المخطط التشرحي يبسط المعلومات المعقدة ويشرحها بطريقة مرئية وفعالة:

أ	صح	ب	خطأ		
---	----	---	-----	--	--

١٩) يجب أن يكون تصميم مخطط المعلومات البياني بطريقة مناسبة وبسيطة وجذابة:

أ	صح	ب	خطأ		
---	----	---	-----	--	--

٢٠) كانفا تطبيق مجاني وسهل الاستخدام لتصميم الرسومات:

أ	صح	ب	خطأ		
---	----	---	-----	--	--

الدرجات			المادة: المهارات الرقمية الصف: الثاني المتوسط . الزمن : 40 دقيقة .	بسم الله الرحمن الرحيم	
المجموع	نظري	عملي		المملكة العربية السعودية وزارة التعليم إدارة التعليم في مدرسة المتوسطة	
				أسئلة اختبار منتصف الفصل الدراسي الأول	
		المجموع كتابة			
		اسم المصحح	أ..... التوقيع:		
		الصف :			الاسم :

س1 : املأ الفراغات بالكلمة أو العبارة المناسبة : (درجتين)

(الرسومات الموجهة - اسم - كاميرا الفيديو - مساحة تخزين)

أ- كل ملف له و امتداد.

ب- يبدو مقطع الفيديو الذي تم التقاطه بواسطة أفضل من الذي تم التقاطه بكاميرا هاتف ذكي .

ج- تتطلب مقاطع الفيديو ذات الجودة العالية أكبر .

د- تتكون من مسارات ذات صيغ رياضية.

س2 : ضع علامة (√) أمام العبارة الصحيحة و علامة (x) أمام العبارة الخاطئة فيما يلي : (3 درجات)

1- يضغط برنامج الترميز ملف الصورة لتتمكن من حفظه على جهاز الحاسب الخاص بك ، ويفك ضغط الملف المخزن حتى تتمكن من مشاهدته . ()

2- تسمى النافذة التي تحتوي على معاينة الفيديو Source Window (نافذة المصدر) . ()

3- يتم استخدام التأثيرات الانتقالية على مقطع الفيديو لربط لقطة فيديو بأخرى . ()

4- يمكنك استخدام رسومات SmartArt لتوصيل رسالتك أو أفكارك بشكل فعال . ()

5- يستخدم تنسيق صور "Gif" بشكل أساسي لرسومات الإنترنت لدعمها للشفافية . ()

6- لا يمكنك إضافة بيانات إلى المخطط بعد إنشائه . ()



س3 : اختر رمز الإجابة الصحيحة فيما يلي : (3 درجات)

1- عند ضغطك ملف فيديو ستفقد بعضا من :			
أ- أصواته.	ب- لقطاته.	ج- جودته.	د- ترجمته.
2- يوجد نوعان رئيسيان لملفات الصوت :			
أ- نقطية و متجهة.	ب- المعالج التناظري و الخادم التناظري.	ج- مضغوطة و غير مضغوطة.	د- برنامج و بيانات.
3- تتكون كل صورة رقمية من مربعات صغيرة مجمعة جنبا إلى جنب تسمى :			
أ- الإطارات.	ب- النقاط.	ج- الشعارات.	د- البكسلات.
4- المخطط هو :			
أ- مجموعة من النقاط الرقمية.	ب- عرض مرئي للبيانات الرقمية.	ج- الخلايا التي تحتوي على قيم ليتم رسمها بيانيا.	د- شكل دائري صغير يظهر مقارنات بين القيم
5- توجد أداة تحليل سريع :			
أ- في علامة التنبؤ ببيانات.	ب- في علامة التنبؤ الصيغ.	ج- في علامة التنبؤ مراجعة.	د- في الركن الأيسر السفلي من جدول البيانات المحدد.
6- في الملفات الصوتية ، معدل العينة (Sample rate) الأعلى يعني :			
أ- جودته أقل بالإضافة إلى مساحة تخزين أقل مطلوبة.	ب- جودته أعلى بالإضافة إلى مساحة تخزين أكبر.	ج- جودته أعلى بالإضافة إلى مساحة تخزين أقل.	د- جودته أقل بالإضافة إلى مساحة تخزين أكبر مطلوبة.

انتهت الأسئلة ..

أسأل الله لك التوفيق والنجاح في الدنيا والآخرة. آمين .

معلم المادة: أ

موقع
مادنتري

الدرس الأول : الوسائط المتعددة

١. يمكن التمييز بين ملفات الوسائط المختلفة في جهاز الحاسب بسهولة وذلك بالتحقق من امتدادها :

- أ. صح
- ب. خطأ

٢. جميع ما يلي من أنواع الملفات الأكثر شيوعاً لملفات الصور ما عدا :

- أ. .aac
- ب. .jpg
- ج. .png
- د. .gif

٣. جميع ما يلي من أنواع الملفات الأكثر شيوعاً لملفات الصوت ما عدا :

- أ. .wav
- ب. .mp3
- ج. .eps
- د. .acc

٤. جميع ما يلي من أنواع الملفات الأكثر شيوعاً لملفات الفيديو ما عدا :

- أ. .avi
- ب. .dwg
- ج. .mp4
- د. .mov

٥. إذا لم تتوفر لديك كاميرا فيديو للتصوير يمكنك استخدام :

- أ. هاتفك الذكي
- ب. الكاميرا الرقمية صغيرة الحجم
- ج. كاميرا الانترنت
- د. جميع ما سبق

٦. عندما يتعلق الأمر بجودة الفيديو فإن الجهاز المستخدم لالتقاط الفيديو هو العامل الأهم :

- أ. صح
- ب. خطأ

٧. يشير الرمز (HD) إلى الفيديو عالي الدقة :

- أ. صح
- ب. خطأ

٨. أي من الرموز التالية يشير إلى الفيديو ذو الدقة القياسية :

- أ. HD
- ب. SD
- ج. FD
- د. GD

المهارات الرقمية

الثاني متوسط

الوحدة الأولى : إنتاج مقطع فيديو

٩. تتيح عملية ضغط مقاطع الفيديو تصغير حجم الملف وبالتالي تقليل مساحة التخزين المطلوبة :

- أ. صح
- ب. خطأ

١٠. يعمل برنامج الترميز على ضغط ملف الفيديو لتصغير حجمه :

- أ. صح
- ب. خطأ

١١. جميع برامج الترميز تتم إضافتها بشكل تلقائي على الحاسب :

- أ. صح
- ب. خطأ

١٢. أي مما يلي يعد من تنسيقات الترميز الشائعة :

- أ. MPEG-4
- ب. DivX
- ج. H.264
- د. جميع ما سبق

١٣. أي مما يلي لا يعد من الحاويات الشائعة :

- أ. AVI
- ب. QTFF
- ج. MP3
- د. WebM

١٤. من أنواع ملفات الصوت الرئيسية :

- أ. ملفات غير مضغوطة
- ب. ملفات مضغوطة
- ج. أ و ب
- د. لا شيء مما سبق

١٥. ملف الصوت المضغوط بياناته يتم تخزينها بالشكل المطابق لتسجيله لذلك يتمتع بأفضل جودة لكنه يشغل مساحة كبيرة :

- أ. صح
- ب. خطأ

١٦. من خصائص الصوت التي يتم استخدامها في كل برامج تسجيل ومحركات الصوت :

- أ. معدل العينة
- ب. معدل البت
- ج. أ و ب
- د. لا شيء مما سبق

المهارات الرقمية
الثاني متوسط
الوحدة الأولى : إنتاج مقطع فيديو

١٧. تستخدم لالتقاط الصور :

- أ. الطابعة
- ب. المسح الضوئي
- ج. الكاميرا
- د. الميكروفون

١٨. الكاميرات تنتج صوراً أكبر وأكثر وضوحاً ودقة من الهاتف الذكي :

- أ. صح
- ب. خطأ

١٩. تتكون كل صورة رقمية من مربعات صغيرة مجمعة جنباً إلى جنب تسمى :

- أ. بكسل
- ب. هيرتز
- ج. بايت
- د. لا شيء مما سبق

٢٠. المزيد من الميجا بكسل يعني المزيد من التفاصيل في الصورة :

- أ. صح
- ب. خطأ

٢١. أي مما يلي يعتبر من تنسيقات الصور الأكثر استخداماً :

- أ. JPEG
- ب. GIF
- ج. PNG
- د. جميع ما سبق

٢٢. الصور الموجودة على أجهزة الحاسب يمكن الحصول عليها من :

- أ. الكاميرات الرقمية
- ب. الانترنت
- ج. برامج الرسم
- د. جميع ما سبق

٢٣. يمكن عرض الصور والفيديو في الحاسب عن طريق برنامج :

- أ. مايكروسوفت وورد
- ب. مايكروسوفت اكسل
- ج. صور مايكروسوفت
- د. مايكروسوفت بوربوينت

٢٤. تتيح الكاميرات الرقمية التقاط الفيديو فقط :

- أ. صح
- ب. خطأ

الدرس الثاني : إنشاء فيلم

٢٥. الأفلام المنزلية والتي يلتقطها الهواة قد تحتوي على أخطاء فنية تقلل من جودتها مثل :

- أ. الاهتزاز في الصورة
- ب. طول وقصر اللقطات
- ج. تباين زاوية الكاميرا
- د. جميع ما سبق

٢٦. من الخطوات الإبداعية التي يتبعها المحترفون لإنشاء فيديو ناجح :

- أ. النص (السيناريو)
- ب. جدول التصوير
- ج. مخطط القصة
- د. جميع ما سبق

٢٧. من الخطوات التي يتبعها المحترفون لإنشاء فيديو ناجح ويقصد بها كتابة وصف تفصيلي لأحداث الفيلم :

- أ. النص (السيناريو)
- ب. جدول التصوير
- ج. مخطط القصة
- د. لا شيء مما سبق

٢٨. من الخطوات التي يتبعها المحترفون لإنشاء فيديو ناجح ويقصد بها التخطيط لكيفية ظهور المشاهد :

- أ. النص (السيناريو)
- ب. جدول التصوير
- ج. مخطط القصة
- د. لا شيء مما سبق

٢٩. من الخطوات التي يتبعها المحترفون لإنشاء فيديو ناجح ويقصد بها إنشاء رسم تشبيهي لفيلمك بأكمله :

- أ. النص (السيناريو)
- ب. جدول التصوير
- ج. مخطط القصة
- د. لا شيء مما سبق

٣٠. لا يمكن حذف مقطع بعد إضافته إلى المخطط الزمني :

- أ. صح
- ب. خطأ

٣١. تعني موازنة اللون الأبيض بأنه يتم ضبط الألوان لتبدو الصورة طبيعية بشكل مثالي :

- أ. صح
- ب. خطأ

الدرس الثالث : التأثيرات البصرية

٣٢. تساعد التأثيرات البصرية على رفع جودة إخراج مقاطع الفيديو وكذلك التشويق فيها :

أ. صح

ب. خطأ

٣٣. يساعد إضافة النص إلى الفيديو الخاص بك من وصول رسالتك إلى المشاهدين :

أ. صح

ب. خطأ

٣٤. يمكنك باستخدام تأثيرات الحركة :

أ. تغيير موضع مقطع

ب. تغيير حجمه

ج. تدويره داخل إطار الفيديو

د. جميع ما سبق

٣٥. تستخدم انتقالات الفيديو في تحرير الفيلم أو الفيديو لربط لقطة بأخرى :

أ. صح

ب. خطأ

٣٦. لا يمكن إضافة مؤثرات صوتية إلى الفيديو :

أ. صح

ب. خطأ

٣٧. يؤدي تحرير المسار الصوتي في مقطع فيديو إلى تحسين جودة الفيديو النهائية وجعل مشاهدته أكثر متعة :

أ. صح

ب. خطأ

٣٨. يتم تطبيق مرشحات الصوت لإضفاء مزيد من الاحترافية على الفيديو :

أ. صح

ب. خطأ

الدرس الأول : الوسائط المتعددة

١. يمكن التمييز بين ملفات الوسائط المختلفة في جهاز الحاسب بسهولة وذلك بالتحقق من امتدادها :

أ. صح

ب. خطأ

٢. جميع ما يلي من أنواع الملفات الأكثر شيوعاً لملفات الصور ما عدا :

أ. .aac

ب. .jpg

ج. .png

د. .gif

٣. جميع ما يلي من أنواع الملفات الأكثر شيوعاً لملفات الصوت ما عدا :

أ. .wav

ب. .mp3

ج. .eps

د. .acc

٤. جميع ما يلي من أنواع الملفات الأكثر شيوعاً لملفات الفيديو ما عدا :

أ. .avi

ب. .dwg

ج. .mp4

د. .mov

٥. إذا لم تتوفر لديك كاميرا فيديو للتصوير يمكنك استخدام :

أ. هاتفك الذكي

ب. الكاميرا الرقمية صغيرة الحجم

ج. كاميرا الانترنت

د. جميع ما سبق

٦. عندما يتعلق الأمر بجودة الفيديو فإن الجهاز المستخدم لالتقاط الفيديو هو العامل الأهم :

أ. صح

ب. خطأ

٧. يشير الرمز (HD) إلى الفيديو عالي الدقة :

أ. صح

ب. خطأ

٨. أي من الرموز التالية يشير إلى الفيديو ذو الدقة القياسية :

أ. HD

ب. SD

ج. FD

د. GD

المهارات الرقمية

الثاني متوسط

الوحدة الأولى : إنتاج مقطع فيديو

٩. تتيح عملية ضغط مقاطع الفيديو تصغير حجم الملف وبالتالي تقليل مساحة التخزين المطلوبة :

أ. صح

ب. خطأ

١٠. يعمل برنامج الترميز على ضغط ملف الفيديو لتصغير حجمه :

أ. صح

ب. خطأ

١١. جميع برامج الترميز تتم إضافتها بشكل تلقائي على الحاسب :

أ. صح

ب. خطأ

١٢. أي مما يلي يعد من تنسيقات الترميز الشائعة :

أ. MPEG-4

ب. DivX

ج. H.264

د. جميع ما سبق

١٣. أي مما يلي لا يعد من الحاويات الشائعة :

أ. AVI

ب. QTFF

ج. MP3

د. WebM

١٤. من أنواع ملفات الصوت الرئيسية :

أ. ملفات غير مضغوطة

ب. ملفات مضغوطة

ج. أ و ب

د. لا شيء مما سبق

١٥. ملف الصوت المضغوط بياناته يتم تخزينها بالشكل المطابق لتسجيله لذلك يتمتع بأفضل جودة لكنه يشغل مساحة كبيرة :

أ. صح

ب. خطأ

١٦. من خصائص الصوت التي يتم استخدامها في كل برامج تسجيل ومحركات الصوت :

أ. معدل العينة

ب. معدل البت

ج. أ و ب

د. لا شيء مما سبق

المهارات الرقمية
الثاني متوسط
الوحدة الأولى : إنتاج مقطع فيديو

١٧. تستخدم لالتقاط الصور :

- أ. الطابعة
- ب. المسح الضوئي
- ج. الكاميرا
- د. الميكروفون

١٨. الكاميرات تنتج صوراً أكبر وأكثر وضوحاً ودقة من الهاتف الذكي :

- أ. صح
- ب. خطأ

١٩. تتكون كل صورة رقمية من مربعات صغيرة مجمعة جنباً إلى جنب تسمى :

- أ. بكسل
- ب. هيرتز
- ج. بايت
- د. لا شيء مما سبق

٢٠. المزيد من الميجا بكسل يعني المزيد من التفاصيل في الصورة :

- أ. صح
- ب. خطأ

٢١. أي مما يلي يعتبر من تنسيقات الصور الأكثر استخداماً :

- أ. JPEG
- ب. GIF
- ج. PNG
- د. جميع ما سبق

٢٢. الصور الموجودة على أجهزة الحاسب يمكن الحصول عليها من :

- أ. الكاميرات الرقمية
- ب. الانترنت
- ج. برامج الرسم
- د. جميع ما سبق

٢٣. يمكن عرض الصور والفيديو في الحاسب عن طريق برنامج :

- أ. مايكروسوفت وورد
- ب. مايكروسوفت اكسل
- ج. صور مايكروسوفت
- د. مايكروسوفت بوربوينت

٢٤. تتيح الكاميرات الرقمية التقاط الفيديو فقط :

- أ. صح
- ب. خطأ

الدرس الثاني : إنشاء فيلم

٢٥. الأفلام المنزلية والتي يلتقطها الهواة قد تحتوي على أخطاء فنية تقلل من جودتها مثل :

- أ. الاهتزاز في الصورة
- ب. طول وقصر اللقطات
- ج. تباين زاوية الكاميرا
- د. جميع ما سبق

٢٦. من الخطوات الإبداعية التي يتبعها المحترفون لإنشاء فيديو ناجح :

- أ. النص (السيناريو)
- ب. جدول التصوير
- ج. مخطط القصة
- د. جميع ما سبق

٢٧. من الخطوات التي يتبعها المحترفون لإنشاء فيديو ناجح ويقصد بها كتابة وصف تفصيلي لأحداث الفيلم :

- أ. النص (السيناريو)
- ب. جدول التصوير
- ج. مخطط القصة
- د. لا شيء مما سبق

٢٨. من الخطوات التي يتبعها المحترفون لإنشاء فيديو ناجح ويقصد بها التخطيط لكيفية ظهور المشاهد :

- أ. النص (السيناريو)
- ب. جدول التصوير
- ج. مخطط القصة
- د. لا شيء مما سبق

٢٩. من الخطوات التي يتبعها المحترفون لإنشاء فيديو ناجح ويقصد بها إنشاء رسم تشبيهي لفيلمك بأكمله :

- أ. النص (السيناريو)
- ب. جدول التصوير
- ج. مخطط القصة
- د. لا شيء مما سبق

٣٠. لا يمكن حذف مقطع بعد إضافته إلى المخطط الزمني :

- أ. صح
- ب. خطأ

٣١. تعني موازنة اللون الأبيض بأنه يتم ضبط الألوان لتبدو الصورة طبيعية بشكل مثالي :

- أ. صح
- ب. خطأ

الدرس الثالث : التأثيرات البصرية

٣٢. تساعد التأثيرات البصرية على رفع جودة إخراج مقاطع الفيديو وكذلك التشويق فيها :

أ. صح

ب. خطأ

٣٣. يساعد إضافة النص إلى الفيديو الخاص بك من وصول رسالتك إلى المشاهدين :

أ. صح

ب. خطأ

٣٤. يمكنك باستخدام تأثيرات الحركة :

أ. تغيير موضع مقطع

ب. تغيير حجمه

ج. تدويره داخل إطار الفيديو

د. جميع ما سبق

٣٥. تستخدم انتقالات الفيديو في تحرير الفيلم أو الفيديو لربط لقطة بأخرى :

أ. صح

ب. خطأ

٣٦. لا يمكن إضافة مؤثرات صوتية إلى الفيديو :

أ. صح

ب. خطأ

٣٧. يؤدي تحرير المسار الصوتي في مقطع فيديو إلى تحسين جودة الفيديو النهائية وجعل مشاهدته أكثر متعة :

أ. صح

ب. خطأ

٣٨. يتم تطبيق مرشحات الصوت لإضفاء مزيد من الاحترافية على الفيديو :

أ. صح

ب. خطأ

مشروع الوحدة الأولى إنتاج مقطع فيديو الصف الثاني المتوسط

عزيزتي الطالبة : بالتعاون مع زميلاتك اختاري أحد الموضوعات التالية :
التقنيات الذكية – التدوير- المدن الذكية
ثم نفذي المطلوب بالجدول التالي:

الدرجة	المطلوب	م
2	البحث في الانترنت عن المواد الخاصة بموضوعكم مثل الصور والفيديو والاصوات ذات العلاقة.	1
2	استخدام برنامج shotcut لإنشاء وتحرير الفيديو الخاص بكم .	2
2	تعديل الصور الرقمية وتطبيق تأثيرات الفيديو على مقاطع الفيديو التي تم استيرادها.	3
2	إدراج نص والتأثيرات والانتقالات وملفات الصوت وتحريرها للحصول على افضل نتيجة ممكنة .	4
2	تصدير الفيديو وعرضه في الفصل	5
10	المجموع	6

كل مجموعة تحتوي على 4 طالبات كحد أقصى

اخر موعد للتسليم

المعلمة : عهد الحربي

استمارة مشروع الوحدة لمادة المهارات الرقمية للصف الثاني المتوسط الفصل الدراسي الأول

استمارة تقييم مشروع الوحدة الأولى إنتاج مقطع فيديو			
المقرر الدراسي	المهارات الرقمية	الصف	الثاني المتوسط
العام الدراسي	الفصل الأول - هـ	الوحدة الأولى إنتاج مقطع فيديو	
فكرة المشروع	مستعينة بمصادر التعلم و البحث ، ابحتي عن احد المشاريع التالية : 1- موضوعات حديثة مثل : التقنيات الحديثة ، التدوير ، المدن الذكية 2- احد الظواهر السلبية مثل : التسول ، التخخين ، الكتابة على الجدران		
م	معايير ومحكات	الدرجة 2	الدرجة 1
1	استخدام برنامج شوت كت (shotcut)	استخدام البرنامج	استخدام برنامج اخر
	استخدام محركات البحث	ذكر المراجع والمصادر	لم تذكر المراجع او المصدر
2	ادراج صور وتنسيقها	صورة لكل نوع	توضيح نموذج واحد
3	إضافة تأثيرات الفيديو	إضافة الفيديو مع الصورة في الوقت المحدد	إضافة الفيديو مع الصورة غير متناسب مع الوقت
4	ادراج النص + ملفات الصوت	ادراج النص مع ملف الصوت	ادراج النص فقط
5	الالتزام بالموعد	تم الالتزام في الموعد	تأخير في موعد التسليم
		آخر موعد للتسليم أي تأخير عن موعد التسليم سيتم خصم 1 درجة	
		عواطف الجهني	
		تنبيه	
		معلمة المادة	