

تم تحميل وعرض المادة من



موقع مادتي هو موقع تعليمي يعمل على مساعدة المعلمين والطلاب وأولياء الأمور في تقديم حلول الكتب المدرسية والاختبارات وشرح الدروس والملاحظات والتحاير وتوزيع المنهج لكل المراحل الدراسية بشكل واضح وسهل مجاناً بتصفح وعرض مباشر أونلاين وتحميل على موقع مادتي

حمل تطبيق مادتي ليصلك كل جديد



بسم الله الرحمن الرحيم

المادة: المهارات الحياتية والاسرية
الصف: الثالث الابتدائي 1447
الفصل الدراسي الأول
إختبار منتصف الفصل (الفترة)



المملكة العربية السعودية
وزارة التعليم
إدارة تعليم
مدرسة

اسم الطالبة :

20

السؤال الأول: أختار الإجابة الصحيحة لكل من العبارات التالية:

1- الوقوف والجلوس الصحيح يؤدي الى:	
اعتدال الجسم	ألم في الظهر
2- للمحافظة على سلامة الكتف لابد من حمل الحقبية:	
على كتف واحد	على الكتفين
3- أتناول وجبة العشاء:	
مبكراً	قبل النوم مباشرة
4- أنام في سريري المريح على شقي:	
الأيسر	الأيمن
5- من العبادات التي تحتاج الوقوف والمشي:	
الطواف حول الكعبة	الصوم
6- إذا خرجت أمي من المنزل:	
ألعب في الشارع	أعتني بإخوتي
7- إذا طرق شخص غريب الباب أثناء وجود الام خارج المنزل:	
لا أفتح له الباب مهما حدث	أفتح له الباب
8- خرجت أم ليلى من المنزل لزيارة جدتها .. ماذا يجب على ليلى ؟:	
حل واجباتها	تعبث بالأدوات الخطيرة
9- ليس من الضروري تنفيذ تعليمات أمي عند غيابها:	
صح	خطأ
10- معرفة رقم جوال والدينا أمر ضروري عند غيابهما:	
صح	خطأ

السؤال الثاني: ضع علامة (√) أمام العبارة الصحيحة وعلامة (X) أمام العبارة الخاطئة:

()	ليس الحذاء المناسب لقدمك عند المشي يحافظ على سلامتها	1
()	لا أخبر الغرباء عن غياب أمي	2
()	لا يجب علينا تطبيق الوقوف الصحيح أثناء الصلاة	3
()	تخرج الأم عادة إلى زيارة والديها وأقاربها	4
()	بالوقوف الخاطئ يتجه الرأس للأسفل	5

انتهت الأسئلة بالتوقيع

معلمة المادة /

بسم الله الرحمن الرحيم

المادة: المهارات الحياتية والاسرية
الصف: الثالث الابتدائي 1447
الفصل الدراسي الأول
تبار منتصف الفصل (الفترة)



المملكة العربية السعودية
وزارة التعليم
إدارة تعليم
مدرسة

نموذج الإجابة

20

السؤال الأول: أختار الإجابة الصحيحة لكل من العبارات التالية:

1- الوقوف والجلوس الصحيح يؤدي الى:	
ألم في الظهر	اعتدال الجسم
2- للمحافظة على سلامة الكتف لابد من حمل الحقبية:	
على كتف واحد	على الكتفين
3- أتناول وجبة العشاء:	
مبكراً	قبل النوم مباشرة
4- أنام في سريري المريح على شقي:	
الأيسر	الأيمن
5- من العبادات التي تحتاج الوقوف والمشي:	
الصوم	الطواف حول الكعبة
6- إذا خرجت أمي من المنزل:	
ألعب في الشارع	أعتني بإخوتي
7- إذا طرق شخص غريب الباب أثناء وجود الام خارج المنزل:	
لا أفتح له الباب مهما حدث	أفتح له الباب
8- خرجت أم ليلى من المنزل لزيارة جدتها .. ماذا يجب على ليلى؟:	
حل واجباتها	تعبث بالأدوات الخطيرة
9- ليس من الضروري تنفيذ تعليمات أمي عند غيابها:	
صح	خطأ
10- معرفة رقم جوال والدينا أمر ضروري عند غيابهما:	
صح	خطأ

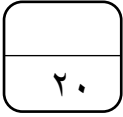
السؤال الثاني: ضع علامة (√) أمام العبارة الصحيحة وعلامة (X) أمام العبارة الخاطئة:

(√)	لبس الحذاء المناسب لقدمك عند المشي يحافظ على سلامتها	1
(√)	لا أخبر الغرباء عن غياب أمي	2
(X)	لا يجب علينا تطبيق الوقوف الصحيح أثناء الصلاة	3
(√)	تخرج الأم عادة إلى زيارة والديها وأقاربها	4
(√)	بالوقوف الخاطئ يتجه الرأس للأسفل	5

انتهت الأسئلة بالتوقيع

معلمة المادة /

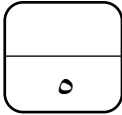
موقع
مادنتري



اختبار (الفترة الأولى) لمادة المهارات الحياتية والأسرية للعام الدراسي ١٤٤٧ هـ

اسم الطالب: الصف: الثالث الابتدائي (بنين)

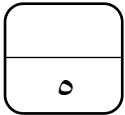
السؤال الأول:



أضع علامة صح (✓) أمام الإجابة الصحيحة وعلامة خطأ (X) أمام العبارة الخاطئة:

- ١- الله هو الشافي، وإنما الدواء سبب للشفاء. ()
- ٢- ليس للدواء وقت محدد. ()
- ٣- لبس الحذاء المناسب لقدمك عند المشي لا يحافظ على سلامتها. ()
- ٤- اتباع مدلولات الرموز الإرشادية يدل على الوعي. ()
- ٥- الوقوف الخاطئ يؤثر على سلامة ظهري. ()
- ٦- المضاد الحيوي بعد إضافة الماء إليه يوضع في الدولاب. ()

السؤال الثاني:



أرتب خطوات المشي الصحيح:

- () أمشي باعتدال وأحرك يدي بخفة.
- () أحافظ على قامتي أثناء المشي.
- () أحمل حقيبتي على ظهري وأحافظ على توازنها.
- () أرفع رأسي وأنظر إلى الأمام.
- () أحرص على سلامة خطواتي واستقامتها.



السؤال الثالث :

٥

أختار المعنى الصحيح لكل رمز :

أ- ممنوع التدخين	ب- إعادة تدوير	ج- سلة مهملات	د- إشارة ضوئية
------------------	----------------	---------------	----------------



أ- ممنوع استعمال المنبه	ب- استخدام طفاية حريق	ج- غرفة غيار أطفال	د- عبور مشاة
-------------------------	-----------------------	--------------------	--------------



أ- منطقة أعمال حفر	ب- منطقة حافلات	ج- طريق غير مستوي	د- إعادة تدوير
--------------------	-----------------	-------------------	----------------



أ- مدرسة	ب- مسجد	ج- مطعم	د- منزل
----------	---------	---------	---------



أ- محطة وقود	ب- ممنوع التدخين	ج- سلة مهملات	د- إشارة ضوئية
--------------	------------------	---------------	----------------

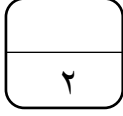


السؤال الرابع :

٣

أصل كل رمز من الرموز الإرشادية بما يناسبه :

لوحة إلزامية	
لوحة تحذيرية	
لوحة إرشادية	



السؤال الخامس :

إلى ماذا يشير هذا الرمز؟

.....

.....

.....

انتهت الأسئلة
أرجو لك كل التوفيق والنجاح
معلمة المادة : نايفة الثقفي



نموذج الاجابة

مدارس المستقبل للبنات بجدة
تحت إشراف وزارة التعليم
روضة- تمهيدي- ابتدائي- متوسط

٢٠

اختبار (الفترة الأولى) لمادة المهارات الحياتية والأسرية للعام الدراسي ١٤٤٧ هـ

اسم الطالب: الصف: الثالث الابتدائي (بنين)

السؤال الأول:

٥

أضع علامة صح (✓) أمام الإجابة الصحيحة وعلامة خطأ (X) أمام العبارة الخاطئة:

- ١- الله هو الشافي، وإنما الدواء سبب للشفاء. (✓)
- ٢- ليس للدواء وقت محدد. (X)
- ٣- لبس الحذاء المناسب لقدمك عند المشي لا يحافظ على سلامتها. (X)
- ٤- اتباع مدلولات الرموز الإرشادية يدل على الوعي. (✓)
- ٥- الوقوف الخطأ يؤثر على سلامة ظهري. (✓)
- ٦- المضاد الحيوي بعد إضافة الماء إليه يوضع في الدولاب. (X)

السؤال الثاني:

٥

أرتب خطوات المشي الصحيح:

- (٢) أمشي باعتدال وأحرك يدي بخفة.
- (١) أحافظ على قامتي أثناء المشي.
- (٥) أحمل حقيبتي على ظهري وأحافظ على توازنها.
- (٢) أرفع رأسي وأنظر إلى الأمام.
- (٤) أحرص على سلامة خطواتي واستقامتها.



السؤال الثالث :

٥

أختار المعنى الصحيح لكل رمز :

د-إشارة ضوئية	ج-سلة مهملات	ب-إعادة تدوير	أ-ممنوع التدخين
---------------	--------------	---------------	-----------------



د-عبور مشاة	ج-غرفة غيار أطفال	ب-استخدام طفاية حريق	أ-ممنوع استعمال المنبه
-------------	-------------------	----------------------	------------------------



د-إعادة تدوير	ج-طريق غير مستوي	ب-منطقة حافلات	أ-منطقة أعمال حفر
---------------	------------------	----------------	-------------------



د-منزل	ج-مطعم	ب-مسجد	أ-مدرسة
--------	--------	--------	---------



د-إشارة ضوئية	ج-سلة مهملات	ب-ممنوع التدخين	أ-محطة وقود
---------------	--------------	-----------------	-------------

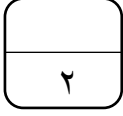


السؤال الرابع :

٣

أصل كل رمز من الرموز الإرشادية بما يناسبه :

لوحة إلزامية	لوحة تحذيرية	لوحة إرشادية	



السؤال الخامس :

إلى ماذا يشير هذا الرمز؟

.....
شعار المملكة العربية السعودية
.....
والرمز يعني القوة والرخاء والنماء.
.....
.....

انتهت الأسئلة

أرجو لك كل التوفيق والنجاح

معلمة المادة : نايفة الثقفي

موقع
مادتي

الاسم

اختبار منتصف الفصل الدراسي الأول لمادة المهارات الحياتية والاسرية للصف الثالث الابتدائي للعام الدراسي ١٤٤٧ هـ

صلي كل صورة بالدلالة المناسبة لها :

السؤال
الأول



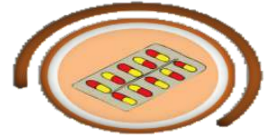
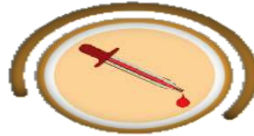
غرفة غيار الأطفال

أعمال الحفر

ممنوع التدخين

ممنوع استعمال المنبه

أَصِلْ كُلَّ شَكْلِ مِنْ أَشْكَالِ الْأَدْوِيَةِ بِاسْمِهِ فِيمَا يَأْتِي:



حُبُوب

إِبْرَة

شَرَاب

السؤال الثاني : أختار الإجابة الصحيحة :

١ / الرموز الإرشادية لها (ثلاثة أشكال - خمسة أشكال)

٢ / من الآثار المترتبة على تجاهل الرموز الإرشادية (حدوث الحوادث _ لا يتعرض لشيء)

٣ / على المريض عند استعمال الدواء اتباع : (وصفة الطبيب - وصفة المعالج الشعبي)

٤ / فيه شفاء للناس هو (العسل - الشوكلاته)

٥ / تناول الدواء بـ (مساعدة الكبار - دواء الاخرين)

نموذج الاجابة

المملكة العربية السعودية
وزارة التعليم
ادارة التعليم
مدرسة

٢٠

الاسم

وزارة التعليم
Ministry of Education

اختبار منتصف الفصل الدراسي الأول لمادة المهارات الحياتية والاسرية للصف الثالث الابتدائي للعام الدراسي ١٤٤٦ هـ

صلي كل صورة بالدلالة المناسبة لها :

السؤال
الأول



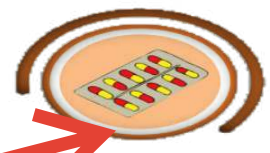
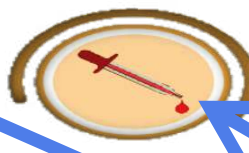
غرفة غيار الأطفال

أعمال الحفر

ممنوع التدخين

ممنوع استعمال المنبه

أَصِلْ كُلَّ شَكْلِ مِنْ أَشْكَالِ الْأَدْوِيَةِ بِاسْمِهِ فِيمَا يَأْتِي:



حُبُوب

إِبْرَة

شَرَاب

السؤال الثاني : أختار الإجابة الصحيحة :

١ / الرموز الإرشادية لها (ثلاثة أشكال - خمسة أشكال)

٢ / من الآثار المترتبة على تجاهل الرموز الإرشادية (حدوث الحوادث - لا يتعرض لشيء)

٣ / على المريض عند استعمال الدواء اتباع : (وصفة الطبيب - وصفة المعالج الشعبي)

٤ / فيه شفاء للناس هو (العسل - الشوكلاته)

٥ / تناول الدواء بـ (مساعدة الكبار - دواء الاخرين)

موقع
مادنتيري

المادة : المهارات الحياتية
التاريخ : / / ١٤٤٧ هـ
اليوم :
الصف : الثالث



المملكة العربية السعودية
وزارة التعليم
إدارة التعليم
ابتدائية

اختبار الفترة الأولى مادة (المهارات الحياتية) للعام الدراسي ١٤٤٧ هـ

اسم الطالب:

السؤال الأول: أختار المعنى الصحيح لكل رمز :

- ١- ممنوع الوقوف
- ٢- أمامك دوار
- ٣- ممنوع استعمال المنبه



- ١- غرفة غير أطفال
- ٢- موقف ذوي الاحتياجات الخاصة
- ٣- سلم كهربائي



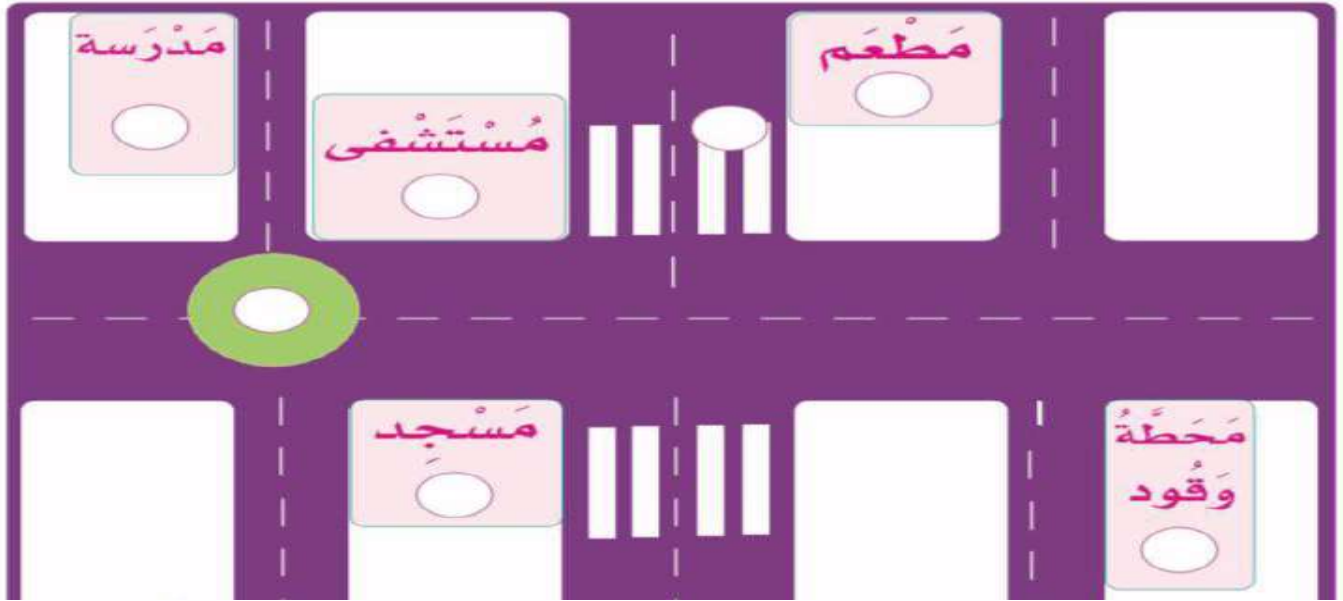
- ١- خطر الانزلاق
- ٢- ممنوع التدخين
- ٣- مدرسة



- ١- دورة مياه
- ٢- مطفأة حريق
- ٣- أعمال حفر



السؤال الثاني: أضع رقم الرمز في المكان المناسب له .



السؤال الثالث: توضع الرموز الإرشادية للدلالة على وجود:

.....

.....

.....

.....

.....



انتهت الأسئلة

أ. فواز الظفيري

نموذج الاجابة

المادة : المهارات الحياتية
التاريخ : / / ١٤٤٧ هـ
اليوم :
الصف : الثالث

وزارة التعليم
Ministry of Education

المملكة العربية السعودية
وزارة التعليم
إدارة التعليم
ابتدائية

اختبار الفترة الأولى مادة (المهارات الحياتية) للعام الدراسي ١٤٤٧ هـ

اسم الطالب:

السؤال الأول: أختار المعنى الصحيح لكل رمز :

١- ممنوع الوقوف

٢- أمامك دوار

٣- ممنوع استعمال المنبه



١- غرفة غير أطفال

٢- موقف ذوي الاحتياجات الخاصة

٣- سلم كهربائي



١- خطر الانزلاق

٢- ممنوع التدخين

٣- مدرسة



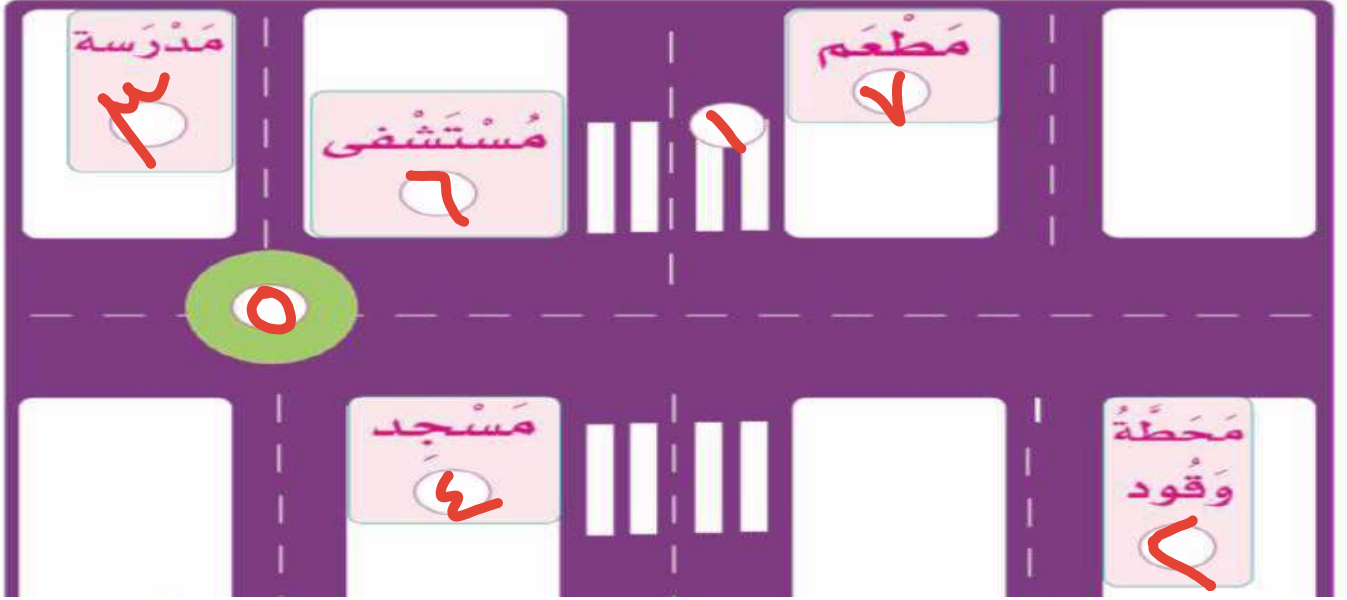
١- دورة مياه

٢- مطفأة حريق

٣- أعمال حفر



السؤال الثاني: أضع رقم الرمز في المكان المناسب له .



السؤال الثالث: توضع الرموز الإرشادية للدلالة على وجود:

طفاية حريق ..



محطة حافلات ..



طريق غير مستوي ..



الهاتف ..



إعادة التدوير ..



انتهت الأسئلة

أ. فواز الظفيري

اختبار الفترة	الأولى	الفصل الدراسي	الأول ١٤٤٧ هـ	الاسم	الدرجة
المادة	المهارات الحياتية والأسرية	الصف	الثالث	المعلمة	التوقيع

السؤال الأول: ضعي علامة (√) أمام العبارة الصحيحة وعلامة (X) أما العبارة الخاطئة :

الإجابة	العبارة
	الرموز الإرشادية موحدة في جميع أنحاء العالم.
	من أشكال الأدوية : (شراب - إبرة - حبوب) .
	نشرب الدواء بإشراف الكبار.
	يجب التخلص من الكمامة ذات الاستخدام الواحد بالشكل الصحيح بعد استعمالها
	يجب التخلص من الإبرة بالشكل الصحيح بعد استعمالها
	يمشي على أربعة ثم على اثنين ثم على ثلاث هو الإنسان
	مفهوم المشي هو الانتقال من مكان إلى مكان بإرادة.
	الدواء ليس له مقدار معين ولا وقت محدد يجب الإلتزام به
	لا نستعمل الأدوية عندما نمرض بشدة.
	الرمز الإرشادي الذي يحوي رسم شوكة وملقعة يدل على مدرسة

السؤال الثاني: اختاري الإجابة الصحيحة:

الرموز الإرشادية ذات الشكل المثلث	أ	ب	ج
تحذيرية	أ	ب	ج
السلامة هي	أ	ب	ج
الدواء هو:	أ	ب	ج
ما يتداوى به ويعالج	أ	ب	ج
على المريض عند استعمال الدواء اتباع :	أ	ب	ج
وصفة الطبيب	أ	ب	ج
اختر ما ينبغي التخلص منه بعد استخدامه؟	أ	ب	ج
اللاصق الطبي	أ	ب	ج
سبب اختيار حذاء مناسب عند المشي.....	أ	ب	ج
سلامتها	أ	ب	ج
للحصول على نوم عميق لابد من :	أ	ب	ج
تناول وجبة العشاء مبكراً	أ	ب	ج
مما يساعد على نوم هادئ ومريح تناول كوب من :	أ	ب	ج
الحليب الدافئ	أ	ب	ج
النوم الهادئ العميق :	أ	ب	ج
يريح الجسم ويجدد نشاطه	أ	ب	ج
الوقوف والجلوس الصحيحان يؤديان إلى :	أ	ب	ج
اعتدال الجسم	أ	ب	ج

اختبار الفترة	الأولى	الفصل الدراسي	الأول ١٤٤٧ هـ	الاسم	الدرجة
المادة	المهارات الحياتية والأسرية	الصف	الثالث	المعلمة	التوقيع

السؤال الأول: ضعي علامة (√) أمام العبارة الصحيحة وعلامة (X) أما العبارة الخاطئة :

الإجابة	العبارة
√	الرموز الإرشادية موحدة في جميع أنحاء العالم.
√	من أشكال الأدوية : (شراب - إبرة - حبوب) .
√	نشر الدواء بإشراف الكبار.
√	يجب التخلص من الكمامة ذات الاستخدام الواحد بالشكل الصحيح بعد استعمالها
√	يجب التخلص من الإبرة بالشكل الصحيح بعد استعمالها
√	يمشي على أربعة ثم على اثنين ثم على ثلاث هو الإنسان
√	مفهوم المشي هو الانتقال من مكان إلى مكان بإرادة.
X	الدواء ليس له مقدار معين ولا وقت محدد يجب الإلتزام به
X	لا نستعمل الأدوية عندما نمرض بشدة.
X	الرمز الإرشادي الذي يحوي رسم شوكة وملقعة يدل على مدرسة

السؤال الثاني: اختاري الإجابة الصحيحة:

الرموز الإرشادية ذات الشكل المثلث
١ أ <u>تحذيرية</u> ب إلزامية ج إرشادية
٢ أ <u>البرء</u> ب الصحة ج الدواء السلامة هي
٣ أ <u>مايتداوى به ويعالج</u> ب بدون مقدار معين ج بدون وصفة طبية الدواء هو:
٤ أ <u>وصفة الطبيب</u> ب وصفة الصيدلاني ج وصفة المعالج الشعبي على المريض عند استعمال الدواء اتباع :
٥ أ <u>اللاصق الطبي</u> ب جهاز قياس الضغط ج سماعة الطبيب اختر ما ينبغي التخلص منه بعد استخدامه؟
٦ أ <u>سلامتها</u> ب ليس له تأثير ج يسبب الألم للرجل سبب اختيار حذاء مناسب عند المشي.....
٧ أ <u>تناول وجبة العشاء مبكراً</u> ب تناول وجبة العشاء متأخراً ج عدم تناول وجبة العشاء للحصول على نوم عميق لابد من :
٨ أ <u>الحليب الدافئ</u> ب الشاي المثلج ج القهوة الساخنة مما يساعد على نوم هادئ ومريح تناول كوب من :
٩ أ <u>يريح الجسم ويجدد نشاطه</u> ب يؤدي الجسم ويقلل نشاطه ج لا فائدة منه النوم الهادئ العميق :
١٠ أ <u>اعتدال الجسم</u> ب ألم الظهر ج تسوس الأسنان الوقوف والجلوس الصحيحان يؤديان إلى :

اختبار فكري

إدارة تعليم: تبوك	مكتب تعليم:
المدرسة: المعرفة للطفولة المبكرة	المادة: المهارات الحياتية والأسرية
الصف: ثالث	اسم الطالب:

السؤال الأول: اختر الإجابة الصحيحة

1. أي من الأشكال التالية يستخدم عادةً للتحذير من خطر قادم على الطريق؟

أ- الدائرة الزرقاء	ب- المربع الأخضر	ج- المثلث ذو الإطار الأحمر	د- المستطيل الأبيض
--------------------	------------------	----------------------------	--------------------

2. الرمز الذي يحتوي على صورة سيجارة وعليها خط أحمر يعني:

أ- مكان مخصص للتدخين	ب- اشترِ السجائر من هنا	ج- التدخين مسموح للجميع	د- ممنوع التدخين
----------------------	-------------------------	-------------------------	------------------

3. ماذا يمثل رمز الحرف (H) الموجود داخل مربع أزرق؟

أ- فندق (Hotel)	ب- مستشفى (Hospital)	ج- حديقة (Hadeeqah)	د- موقف (Holding)
-----------------	----------------------	---------------------	-------------------

4. عندما ترى رمزًا لطفل يركض داخل مثلث، فهذا يعني أنك تقترب من:

أ- ملعب أطفال	ب- مكتبة عامة	ج- منطقة مدرسة أو مكان يكثر فيه الأطفال	د- مستشفى للأطفال
---------------	---------------	---	-------------------

5. من هو الشخص المسؤول عن فحص المريض وكتابة الوصفة الطبية؟

أ- الممرض	ب- الصيدلاني	ج- الطبيب	د- الأب
-----------	--------------	-----------	---------

السؤال الثاني: ضع علامة (✓) أو (x)

6. اتباع الرموز الإرشادية يساعد على حماية سلامتنا وسلامة الآخرين. (.....)

7. جميع الرموز الإرشادية في العالم لها نفس الشكل واللون. (.....)

8. تجاهل رمز "أرضية زلقة" في ممر مبلل لا يشكل أي خطر. (.....)

9. السيفان في شعار المملكة العربية السعودية يرمزان إلى القوة والعدل. (.....)

10. يمكن شراء أي دواء من الصيدلية دون الحاجة لوصفة من الطبيب. (.....)

11. من الآمن استخدام أدوية الآخرين إذا كانت لديهم نفس أعراض المرض. (.....)

12. يجب الالتزام بالكمية والوقت المحددين في الوصفة الطبية بدقة. (.....)

13. الجلوس بظهر منحني أمام الأجهزة الإلكترونية لا يسبب أي ضرر. (.....)

14. من العادات الصحية النوم على الشق الأيمن. (.....)

15. الوقوف والمشي الصحيحان يؤديان إلى اعتدال العمود الفقري. (.....)

انتهت الأسئلة ... بالتوفيق

موقع
مادنتيري