

تم تحميل وعرض المادة من



موقع مادتي هو موقع تعليمي يعمل على مساعدة المعلمين والطلاب وأولياء الأمور في تقديم حلول الكتب المدرسية والاختبارات وشرح الدروس والملاحظات والتحاير وتوزيع المنهج لكل المراحل الدراسية بشكل واضح وسهل مجاناً بتصفح وعرض مباشر أونلاين وتحميل على موقع مادتي

حمل تطبيق مادتي ليصلك كل جديد



أوراق عمل الاجتماعيات

الصف الثالث متوسط
الفصل الدراسي الأول
١٤٤٤ هـ

موقع
مادنتري

مادة الدراسات
الاجتماعية
الصف الثالث المتوسط

الدرس الأول الموقع



أضع علامة (✓) أمام العبارة الصحيحة، وعلامة (x) أمام العبارة الخاطئة فيما يلي:

- تقع المملكة العربية السعودية في العروض المدارية الحارة.
- يمر مدار السرطان بالأطراف الشمالية من المملكة العربية السعودية.
- تشغل المملكة العربية السعودية نحو ثلثي مساحة شبه الجزيرة العربية.

أكمل الفراغات التالية بالكلمة المناسبة مما بين القوسين:
(اثنين-الأردن-الجنوبي- الشمالي)

- تقع المملكة العربية السعودية في الجزء من قارة آسيا.
- يحدها المملكة من الشمال دولة
- تبلغ مساحة المملكة العربية السعودية حوالي مليون كيلومتر مربع.

أعدد أبرز ثلاث إيجابيات يمكن أن تنتج عن اتساع مساحة المملكة العربية السعودية:

.....

.....

.....

موقع
مادنتري

الدرجة

اسم الطالب/ة:

مادة الدراسات
الاجتماعية
الصف الثالث المتوسط

الدرس الثاني مظاهر التضاريس



أضع علامة (✓) أمام العبارة الصحيحة، وعلامة (×) أمام العبارة الخاطئة فيما يلي:

- تقل المجاري المائية الموسمية في الجزء الجنوبي من المنطقة الشرقية.
- تقع صحراء الدهناء في الجزء الجنوبي الشرقي من المملكة العربية السعودية.
- يُعرف السهل الساحلي للبحر الأحمر باسم سهل الدهناء.
- هضبة حِسْمَى من هضاب وسط المملكة العربية السعودية.

أصل المجموعة (أ) بما يناسبها من المجموعة (ب):

(ب)
دولة الكويت شمالاً
التضاريس
بالتنوع

(أ)
تتسم تضاريس المملكة العربية السعودية
هي الأشكال السطحية التي تتكون منها القشرة الأرضية من جبال وهضاب وتلال وسهول وغيرها
يتمتد السهل الساحلي للخليج العربي في المملكة العربية السعودية من حدودها مع

هل يمكن استغلال الصحاري في وطني لتكون عامل جذب سياحي؟ وكيف يكون ذلك؟

.....

.....

.....

موقع
مادنتري

الدرجة

اسم الطالب/ة:

مادة الدراسات
الاجتماعية
الصف الثالث المتوسط

الدرس الثالث المناخ



أضع علامة (✓) أمام العبارة الصحيحة، وعلامة (x) أمام العبارة الخاطئة فيما يلي:

- تقع أجزاء واسعة من المملكة العربية السعودية ضمن الحزام الصحراوي المداري.
- ارتفاع درجات الحرارة على المرتفعات الجبلية في غرب المملكة نتيجة للارتفاع.
- تهطل الأمطار في المملكة العربية السعودية بقلّة ما عدا جنوبها الغربي.

أصل كل منطقة في المجموعة (أ) بما يناسبها من المناخ في المجموعة (ب):

(ب)
حار جداً صيفاً وبارد شتاءً (شديد الجفاف)
حار صيفاً وبارد شتاءً (جاف)
معتدل (شبه جاف)

(أ)
المرتفعات الغربية والجنوبية الغربية
المناطق الوسطى
الربع الخالي

كيف يؤثر الموقع الجغرافي في مناخ وطني المملكة العربية السعودية؟

.....

.....

.....

موقع
مادنتيري

الدرجة

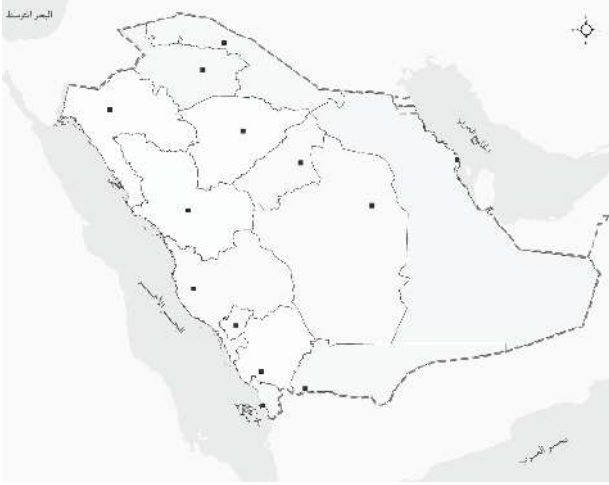
اسم الطالب/ة:

مادة الدراسات
الاجتماعية
الصف الثالث المتوسط

الدرس الرابع توزيع السكان



أحدد على الخريطة ما يلي:



- أ- أكثر ثلاث مناطق تتميز بكثافة سكانية عالية.
- ب- أقل ثلاث مناطق من حيث الكثافة السكانية.

أصل المجموعة (أ) بما يناسبها من المجموعة (ب):

(ب)
المناطق الجبلية
الكثافة السكانية
السكان

(أ)
مجموعة من البشر المستقرين في مكان محدد، وزمن معين.
يقل عدد السكان في
هي وسيلة لقياس توزيع السكان في الإقليم أو المنطقة أو الدولة

ما أكثر المناطق الإدارية سكاناً في المملكة العربية السعودية؟

.....

.....

.....

موقع
مادنتي

الدرجة

اسم الطالب/ة:

مادة الدراسات
الاجتماعية
الصف الثالث المتوسط

الدرس الخامس
توزيع السكان

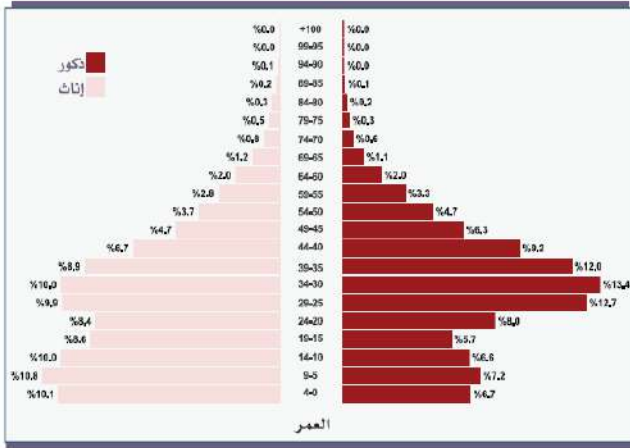


أكمل الفراغات التالية بالكلمة المناسبة مما بين القوسين:
(فئات العمر - التركيب - الكثافة)

- الهرم السكاني هو شكل يساعد على فهم تركيب السكان.
- من فوائد الهرم السكاني: تحديد
- تنقسم الرئيسية إلى: صغار السن، متوسطي السن، وكبار.

أعل ما يأتي:

الهرم السكاني لإجمالي سكان المملكة العربية السعودية من السعوديين بحسب تعداد عام ١٤٤٣هـ.



✓ قاعدة الهرم (الفئة العمرية من صفر إلى ٤ سنوات) عريضة.

✓ النقص في قمة الهرم.

أذكر أربعة من فوائد الهرم السكاني.

- ١
- ٢
- ٣
- ٤

الدرجة

اسم الطالب/ة:

مادة الدراسات
الاجتماعية
الصف الثالث المتوسط

الدرس السادس
عدد السكان



أكمل الفراغات التالية بالكلمة المناسبة مما بين القوسين:

(الطبيعية-حساب-جمع-غير طبيعية)

- التعداد السكاني يُعد أداة مهمة لـ البيانات السكانية.
- من أهم نتائج التعداد السكاني: معرفة عدد السكان، الكثافة السكانية، ومعرفة التوزيع الجغرافي.
- من عوامل نمو السكان في المملكة العربية السعودية: الزيادة الطبيعية والزيادة

أصل المجموعة (أ) بما يناسبها من المجموعة (ب):

(ب)
٥,٠٠٠,٠٠٠ نسمة
٢٢,٦٧٨,٢٦٢ نسمة
١٦,٩٤٨,٣٨٨ نسمة
٧,٠٠٩,٤٦٦ نسمة
٣٢,١٧٥,٢٤٤ نسمة
٢,٠٠٠,٠٠٠ نسمة

(أ)
عدد سكان المملكة التقديري عام ١٣٥١ هـ
عدد سكان المملكة التقديري عام ١٣٨٢ هـ
عدد سكان المملكة عام ١٣٩٤ هـ
عدد سكان المملكة عام ١٤١٣ هـ
عدد سكان المملكة عام ١٤٢٥ هـ
عدد سكان المملكة التقديري عام ١٤٤٣ هـ

أذكر اثنين من أسباب بطء نمو السكان قديماً في المملكة العربية السعودية.

..... ١

..... ٢

الدرجة

اسم الطالب/ة:

مادة الدراسات
الاجتماعية
الصف الثالث المتوسط

الدرس السابع المياه



أكمل الفراغات التالية بالكلمة المناسبة مما بين القوسين:
(المناخ- الخرج- المياه الجوفية)

- تعد المياه عنصراً أساسياً للحياة على سطح الأرض، ومن دونها لا تقوم الحياة. ومن أنواع المياه في المملكة:
- ينبع وادي حنيفة من شمال غرب الرياض وينتهي في جنوب
- من العوامل الطبيعية لتوزيع السكان في المملكة:

أختار الإجابة الصحيحة:

المياه التي تجمعت قديماً في باطن الأرض كَوَّنت		
أ- عيوناً	ب- طبقات	ج- أودية
الوادي الذي يمتد من مدينة عَمَّان حتى الجوف هو وادي		
أ- الدَّوَّاسِر	ب- تربة	ج- السَّرْحان
ترتيب وطني عالمياً في مجال تحلية المياه هو المركز		
أ- الأول	ب- الثاني	ج- الثالث

أذكر بعض مجالات استعمال مياه الصرف الصحي المعالجة.

.....

.....

.....

موقع
مادنتري

الدرجة

اسم الطالب/ة:

مادة الدراسات
الاجتماعية
الصف الثالث المتوسط

الدرس الثامن النفط والغاز والمعادن



أضع علامة (✓) أمام العبارة الصحيحة، وعلامة (x) أمام العبارة الخاطئة فيما يلي:

- يعد حقل الدمام هو أكبر حقل النفط على اليابسة مساحًا وإنتاجًا في العالم.
- تحتل المملكة المكانة الخامسة عالمياً في إنتاج الغاز الطبيعي.
- يستعمل الغاز كوقود وصناعة المواد الكيميائية والبلاستيك والأسمدة والمطاط الصناعي.

أكمل الفراغات التالية بالكلمة المناسبة مما بين القوسين:

(أرامكو - النفط - الأنابيب)

- تُعد المملكة العربية السعودية من الدول الرائدة في إنتاج وتصدير
- أنشئت شركة لتتولى مسؤولية استخراج وإنتاج النفط في السعودية.
- ينقل النفط من حقول الإنتاج إلى محطات التكرير عبر

في أي سنة اكتُشف النفط بكميات تجارية في المملكة العربية السعودية؟

.....
.....
.....

موقع
مادنتري

الدرجة

اسم الطالب/ة:

مادة الدراسات
الاجتماعية
الصف الثالث المتوسط

الدرس التاسع الصناعة والتجارة



أذكر أبرز ثلاثة مَقَوِّمات للصناعة متوافرة في المملكة العربية السعودية.

١.
٢.
٣.

أصل المجموعة (أ) بما يناسبها من المجموعة (ب):

(ب)	(أ)
تبادل المنتجات الاقتصادية بالبيع والشراء داخل الدول أو بين الدول المنتجة والمستهلكة	صناعات تحويلية
العلاقات التجارية بين الدول في استيراد السلع وتصديرها	صناعات أساسية
صناعات المواد الغذائية ومواد البناء والملابس	التجارة
تكرير النفط - الصناعات البتروكيميائية	التبادل التجاري

أضع علامة (✓) أمام العبارة الصحيحة، وعلامة (x) أمام العبارة الخاطئة فيما يلي:

- صناعات البتروكيميائية وتكرير النفط هي صناعات بمثابة العمود الفقري للصناعة السعودية.
- مواد البناء والمنسوجات والملابس والصناعات الخشبية من الصناعات التحويلية.
- مصادر الطاقة ورأس المال والمواد الخام من مقومات الصناعة.

موقع
مادنتري

الدرجة

اسم الطالب/ة:

مادة الدراسات
الاجتماعية
الصف الثالث المتوسط

الدرس العاشر السياحة



أضع علامة (✓) أمام العبارة الصحيحة، وعلامة (x) أمام العبارة الخاطئة فيما يلي:

- تتمتع المملكة العربية السعودية بعدد من مقومات السياحة.
- لم تهتم المملكة العربية السعودية بالسياحة.
- من أبرز مقومات السياحة في المملكة العربية السعودية قبلة المسلمين وقلب العالم الاسلامي.

أعلل ما يأتي:

✓ إقامة المدن الترفيهية والمتاحف في وطني.

.....

✓ عناية حكومة وطني بالسياحة.

.....

ما أبرز المهن في قطاع السياحة؟

.....

.....

.....

موقع
مادنتي

الدرجة

اسم الطالب/ة:

مادة الدراسات
الاجتماعية
الصف الثالث المتوسط

الدرس الحادي عشر تنمية الموارد والمحافظة عليها



أضع علامة (✓) أمام العبارة الصحيحة، وعلامة (x) أمام العبارة الخاطئة فيما يلي:

- يزيد استصلاح الأراضي البور من الإنتاج الزراعي
- يقدم صندوق التنمية الزراعي قروض ميسرة للمزارعين.
- من المشروعات التي أقيمت لتنمية الزراعة مشروع الري بالأحساء.
- يجب أن يشارك القطاع الخاص في تنمية الثروات المعدنية.
- قامت الحكومة بضبط عمليات الصيد للحفاظ على الحيوانات.

أختار الإجابة الصحيحة:

من العناية بالموارد المائية		
أ- تقديم القروض	ب - استصلاح الأراضي	ج- إقامة السدود
لتنمية الزراعة أقيم مشروع الري والصرف في		
أ- جدة	ب - مكة المكرمة	ج- الجوف
من المدن الصناعية الهامة في وطني		
أ- الجبيل	ب - عرعر	ج- الخبر

أذكر اثنين من الموارد في المملكة العربية السعودية.

.....
.....
.....

موقع
مادنتري

الدرجة

اسم الطالب/ة:

مادة الدراسات
الاجتماعية
الصف الثالث المتوسط

الدرس الثاني عشر مفهوم التنمية ومجالاتها



أكمل الفراغات بما يناسبها:

- تهدف إلى تشجيع المواطنين على العمل والإنتاج وابتكار وسائل جديدة لتطوير قطاعات الاقتصاد.
- هي التحسين المستمر في الوطن على المستوى الاقتصادي والاجتماعي والثقافي.
- هي تنفيذ التنمية الأساسية من تطوير واستثمار للموارد مع مراعاة احتياجات الأجيال المستقبلية.

أضع علامة (✓) أمام العبارة الصحيحة، وعلامة (x) أمام العبارة الخاطئة فيما يلي:

- تلبى التنمية المستدامة احتياجات الناس الحالية فقط.
- التنمية تطور شامل وغير مستمر.
- وجود الأمن والاستقرار يهيئ لتحقيق التنمية.

أذكر أربعة من مجالات التنمية المستدامة:

-
-
-
-

موقع
مادنتري

الدرجة

اسم الطالب/ة:

مادة الدراسات
الاجتماعية
الصف الثالث المتوسط

الدرس الثالث عشر التنمية الصحية



أصل من المجموعة (أ) بما يناسبها من المجموعة (ب):

(ب)
من خلال هيئة الهلال الأحمر السعودي، وأقسام الطوارئ بالمستشفيات.
مثل: زراعة القلب والكبد والبنكرياس والقَرْنِيَّة والأمعاء
ومنها: مدينة الملك فهد الطبية، ومستشفى الملك فيصل التخصصي، ومستشفى النور التخصصي.

(أ)
اهتمت المملكة ببناء المدن الطبية والمستشفيات المركزية والجامعية والعسكرية؛ للعناية بصحة المواطنين.
توفر الدولة الخدمات الإسعافية على مدار الساعة في أنحاء المملكة العربية السعودية
تقدم وزارة الصحة من خلال المركز السعودي لزراعة الأعضاء الخدمات الصحية

ما أبرز مجالات الخدمات الصحية؟

.....
.....
.....

أضع علامة (✓) أمام العبارة الصحيحة، وعلامة (x) أمام العبارة الخاطئة فيما يلي:

- توفر وزارة الصحة عديد من الخدمات عبر تطبيق (مستشفى).
- تُقدِّم للحجاج خدمات متكاملة في أثناء موسم الحج.
- اهتمت وزارة الصحة بإنشاء المستشفيات بينما لم تهتم بإنشاء مراكز الرعاية الصحية الأولية.

موقع
مادنتري

الدرجة

اسم الطالب/ة:

مادة الدراسات
الاجتماعية
الصف الثالث المتوسط

الدرس الرابع عشر التنمية التعليمية



ما أبرز أهداف التنمية التعليمية في المملكة العربية السعودية؟

- ➤
- ➤
- ➤
- ➤

أكمل الفراغات بما يناسبها مما بين الأقواس:

(التعليم الجامعي - التعليم الأهلي - الابتعاث - التعليم العام)

.....
إصدار تراخيص إشراف ضبط الرسوم	خارجي (برنامج للابتعاث). داخلي (يكون للجامعات الحكومية والأهلية).	أعضاء هيئة تدريس جامعات وكليات ومعاهد مستشفيات جامعية مراكز بحوث	معلمون ومعلمات مدارس إشراف تربوي إدارات تعليم مناهج أنشطة

أضع علامة (✓) أمام العبارة الصحيحة، وعلامة (x) أمام العبارة الخاطئة فيما يلي:

- لا تؤثر الأمية على تقدم الأمة.
- أولت حكومة وطني عناية بالتعليم المهني والتقني.
- ابتعثت حكومة وطني أعداداً كبيرة من أبناء البلاد للدراسة في الخارج.

موقع
مادنتري

الدرجة

اسم الطالب/ة:

مادة الدراسات
الاجتماعية
الصف الثالث المتوسط

الدرس الخامس عشر
التنمية الاجتماعية



أصل من المجموعة (أ) بما يناسبها من المجموعة (ب):

(ب)	(أ)
بنك حكومي يقدم عدداً من منتجات التمويل الاجتماعي الموجهة إلى ذوي الدخل المنخفض.	المعاشات الضمانية
مرتبات شهرية تُصرف للمستفيدين وفق أحكام نظام الضمان الاجتماعي.	تقدم الدولة خدمات للأشخاص ذوي الإعاقة
مراكز التأهيل الشامل، ومراكز الرعاية النهارية.	بنك التنمية الاجتماعية

أضع علامة (✓) أمام العبارة الصحيحة، وعلامة (x) أمام العبارة الخاطئة فيما يلي:

- يقدم مركز الإرشاد الأسري الاستشارات المجانية عبر الهاتف.
- لا تهتم حكومة المملكة بالمؤسسات غير الربحية.
- تولى الوزارة رعاية الأحداث الذين تتراوح أعمارهم بين (١١ و ١٨ سنة).

أختار الإجابة الصحيحة:

من خدمات بنك التنمية الاجتماعية:		
أ- أهل	ب- كنف	ج- جميع ما سبق
أسس مركز لتقديم الاستشارات المجانية عبر الهاتف لمعالجة المشكلات الاجتماعية والنفسية التي يعانيها بعض أفراد الأسر.		
أ- الإرشاد الأسري	ب- رعاية المسنين	ج- رعاية ذوي الإعاقة
شكلت الوزارة دار ملاحظة اجتماعية لرعاية الأحداث.		
أ- ١٨	ب- ١٧	ج- ١٢

الدرجة

اسم الطالب/ة:

مادة الدراسات
الاجتماعية
الصف الثالث المتوسط

الدرس السادس عشر تنمية البنية الأساسية



أكمل الفراغات بما يناسبها:

- أقامت حكومة المملكة العربية السعودية خطوطاً للسكك الحديدية بين و.....
- يوجد في المملكة العربية السعودية أكثر من سد من أبرزها سد الملك في جازان وسد المضيق في

أضع علامة (✓) أمام العبارة الصحيحة، وعلامة (x) أمام العبارة الخاطئة فيما يلي:

- يبلغ طول قطار الرياض-الدمام ٤٤٩ كم.
- أنشأت حكومة المملكة المطارات الدولية والإقليمية والمحلية في مناطقها الإدارية ومدنها.
- تشكل تنمية الاتصالات جانباً رئيساً في البنية الأساسية.

ما مفهوم البنية الأساسية؟

.....

.....

.....

.....

موقع
مادنتري

الدرجة

اسم الطالب/ة:

مادة الدراسات
الاجتماعية
الصف الثالث المتوسط

الدرس السابع عشر السلامة ومجالاتها



أصل من المجموعة (أ) بما يناسبها من المجموعة (ب):

(ب)
استعمال أجهزة التدفئة لما خصصت له.
هي مجموعة من الإجراءات والوسائل التي تتخذ للوقاية من وقوع الأخطار والحوادث.
من أسباب الحوادث المرورية في المملكة.

(أ)
استعمال الهواتف الجوال في أثناء القيادة
من أبرز شروط السلامة في التعامل مع أجهزة التدفئة
السلامة

أضع علامة (✓) أمام العبارة الصحيحة، وعلامة (x) أمام العبارة الخاطئة فيما يلي:

- تعاني المملكة السعودية من مشكلة الحوادث المرورية.
- لا تمثل ظاهرة التفحيط أي خطر.
- يلزم تجنب ملامسة المصاب بصعق كهربائي.

أذكر أساليب الوقاية اللازمة عند التعامل مع اسطوانات الغاز:

- ●
- ●
- ●
- ●

موقع
مادنتري

الدرجة

اسم الطالب/ة:

مادة الدراسات
الاجتماعية
الصف الثالث المتوسط

الدرس الثامن عشر
الأنظمة السعودية



أضع علامة (✓) أمام العبارة الصحيحة، وعلامة (x) أمام العبارة الخاطئة فيما يلي:

- تنفذ السلطة التنظيمية النظام بعد استكمال مراحل صدوره.
- صدر في عهد الملك عبد العزيز أكثر من ٢٥٠ نظاماً إدارياً.
- يتولى المركز الوطني للوثائق والمحفوظات توثيق الأنظمة السعودية وحفظها وإتاحتها.

أذكر الأنظمة الأساسية للحكم في المملكة العربية السعودية:

- ➤
- ➤
- ➤
- ➤
- ➤

أكمل الفراغات بما يناسبها مما بين الأقواس:

(الأنظمة الأساسية - الأنظمة العامة)

- هي الأنظمة المتعلقة ببيان مباشرة أجهزة الدولة لمهامها وخدماتها، وتحديد القواعد التي تنظم علاقات أفراد المجتمع فيما يكون بينهم من أنشطة وأعمال مختلفة.
- هي الأنظمة المتعلقة بالحكم، وإدارة الدولة، وتنظيم وترتيب العلاقات بين السلطات فيها، وتحديد اختصاصاتها، وبيان الحقوق الرئيسة للأفراد فيها.

موقع
مادنتري

الدرجة

اسم الطالب/ة:

مادة الدراسات
الاجتماعية
الصف الثالث المتوسط

الدرس التاسع عشر النظام الأساسي للحكم



أختار الإجابة الصحيحة:

عَلَم المملكة العربية السعودية لونه أخضر، عَرَضه يساوي طوله.		
ج- ثُلثي	ب- نصف	أ- ثلث
نظام الحكم في المملكة العربية السعودية		
ج- غير ذلك	ب- جمهوري	أ- ملكي
صدر النظام الأساسي للحكم في عام هـ ضمن الأنظمة الأساسية.		
ج- ١٤٢٢	ب- ١٤١٢	أ- ١٤٢١

أذكر اثنين من أبرز مضمين النظام الأساسي للحكم:

-
-

أضع علامة (✓) أمام العبارة الصحيحة، وعلامة (x) أمام العبارة الخاطئة فيما يلي:

- يقوم الحكم في المملكة العربية السعودية على أساس بيروقاطي.
- يبين النظام الأساسي للحكم حقيقة العلاقة بين الفرد والدولة فيما يتعلق بالحقوق والواجبات.
- الملك هو مرجع السلطات في الدولة.

موقع
مادنتري

الدرجة

اسم الطالب/ة:

مادة الدراسات
الاجتماعية
الصف الثالث المتوسط

الدرس العشرون
سلطات الدولة



أصل من المجموعة (أ) بما يناسبها من المجموعة (ب):

(ب)
سلطة تنفيذية
سلطة قضائية
سلطة تنظيمية

(أ)
مجلس الشورى
مجلس الوزراء
المجلس الأعلى للقضاء

أضع علامة (✓) أمام العبارة الصحيحة، وعلامة (x) أمام العبارة الخاطئة فيما يلي:

- تتعاون السلطات في أداء وظائفها وفقاً للنظام الأساسي للحكم.
- يختص مجلس الوزراء بدراسة مشروعات الأنظمة واقتراح التعديلات على الأنظمة النافذة.
- تتولى السلطة القضائية إصدار الأحكام وفقاً للشريعة الإسلامية.
- السلطة التنفيذية مسؤولة عن مراجعة تقارير أداء الأجهزة الحكومية.

أذكر دور السلطة التنفيذية:

.....

.....

موقع
مادنتري

الدرجة

اسم الطالب/ة:

مادة الدراسات
الاجتماعية
الصف الثالث المتوسط

الدرس الحادي والعشرون مجلس الوزراء



أكمل الفراغات بما يناسبها:

- يتألف مجلس الوزراء من ، ،
- يتبع مجلس الوزراء الأجهزة الآتية:

أضع علامة (✓) أمام العبارة الصحيحة، وعلامة (x) أمام العبارة الخاطئة فيما يلي:

- نشأت الوزارات قبل تطور الجهاز الإداري للمملكة العربية السعودية.
- مجلس الوزراء هو المسئول عن رسم سياسة الدولة والإشراف على تنفيذها.
- يرأس صاحب السمو الملكي ولي العهد مجلس الشؤون السياسية والأمنية.
- أسس مجلس الوكلاء عام ١٤١٤هـ.

أذكر أربعة من اختصاصات مجلس الوزراء:

-
-
-
-

موقع
مادنتري

الدرجة

اسم الطالب/ة:

مادة الدراسات
الاجتماعية
الصف الثالث المتوسط

الدرس الثاني والعشرون مجلس الشورى



أكمل الفراغات بما يناسبها:

- تتكون الهيئة العامة لمجلس الشورى من و..... و.....
- من اختصاصات مجلس الشورى: و.....

أضع علامة (✓) أمام العبارة الصحيحة، وعلامة (x) أمام العبارة الخاطئة فيما يلي:

- يُعقد مجلس الشورى في الرياض ولا يجوز عقده في أي منطقة أخرى من المملكة.
- يُعقد مجلس الشورى جلسة دورية كل أسبوعين على الأقل.
- نصّت المادة الرابعة والأربعون من النظام الأساسي للحكم عام ١٤١٢ هـ على عدم وجوب التعاون التام بين سلطات الدولة الثلاثة.

أختار الإجابة الصحيحة:

مدة مجلس الشورى سنوات يعاد بعدها تشكيله بأمر ملكي.		
ج- ثلاث	ب- خمس	أ- أربع
صدر الأمر الملكي بتشكيل أول مجلس للشورى عام هـ.		
ج- ١٤٣٦	ب- ١٣٤٦	أ- ١٣٦٤
صدر الأمر الملكي باختيار امرأة سعودية لعضوية المجلس ضمن أعضائه المئة والخمسين.		
ج- خمسين	ب- عشرين	أ- ثلاثين

موقع **مادنتي**

الدرجة

اسم الطالب/ة:

مادة الدراسات
الاجتماعية
الصف الثالث المتوسط

الدرس الثالث والعشرون نظام المناطق



أصل من المجموعة (أ) بما يناسبها من المجموعة (ب):

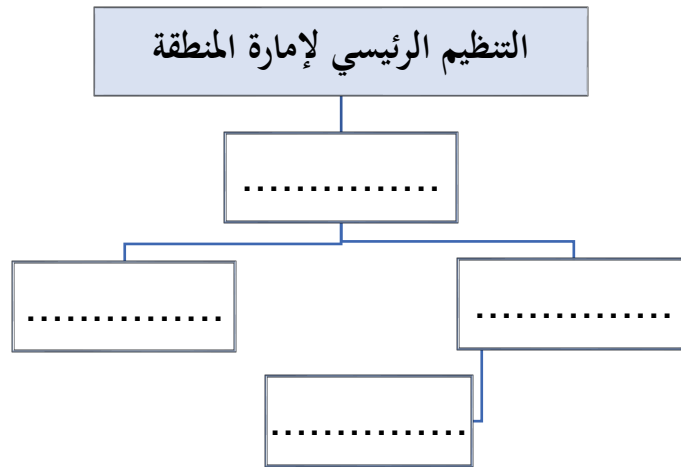
(ب)
عام ١٤١٢ هـ.
عام ١٣٩٧ هـ.
عام ١٣٨٣ هـ.
عام ١٣٥٩ هـ.

(أ)
صدر نظام المقاطعات
صدر نظام الأمراء
صدر نظام المناطق
صدر نظام البلديات

أضع علامة (✓) أمام العبارة الصحيحة، وعلامة (x) أمام العبارة الخاطئة فيما يلي:

- تشرف وزارة الداخلية على جميع إمارات مناطق المملكة العربية السعودية.
- يتكون نظام المناطق من اثنين وأربعين مادة.
- قسمت المملكة العربية السعودية إلى (١٥) منطقة إدارية.

أكمل المخطط التالي:



مادنتري موقع

الدرجة

اسم الطالب/ة: