

تم تحميل وعرض المادة من



موقع مادتي هو موقع تعليمي يعمل على مساعدة المعلمين والطلاب وأولياء الأمور في تقديم حلول الكتب المدرسية والاختبارات وشرح الدروس والملاحظات والتحاير وتوزيع المنهج لكل المراحل الدراسية بشكل واضح وسهل مجاناً بتصفح وعرض مباشر أونلاين وتحميل على موقع مادتي

حمل تطبيق مادتي ليصلك كل جديد



التاريخ / / ١٤٤٧ هـ
المادة / رياضيات الصف / الأول
الفصل الدراسي / الأول
العام الدراسي / ١٤٤٧ هـ

بِسْمِ اللَّهِ الرَّحْمَنِ الرَّحِيمِ



المملكة العربية السعودية
وزارة التعليم
الإدارة العامة للتعليم بمنطقة
ابتدائية

٢٠

اختبار الفترة الثانية من الفصل الدراسي الأول للعام الدراسي ١٤٤٧ هـ


اسم الطالب / رقم الطالب /

السؤال الأول :

أ - عد حبات الفراولة ثم أكتب عددها في المكان المخصص :



ب - عد القوارب التالية ثم أكتب عددها في المكان المخصص له



السؤال الثاني : أرسم دوائر لتمثل العدد المعطى:

١٥



١٣



١١

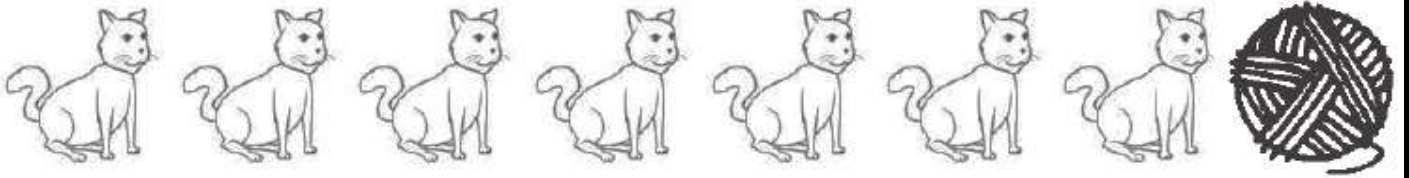


السؤال الثالث :


أ - صل بخطوط بين عناصر المجموعتين ، ثم أكتب عدد كلا منها ، ثم حوط على المجموعة الأكثر وحوط على عددها :




ب - حوط القطة الثالثة و ضع علامة x على القطة السابعة :



السؤال الرابع : عد الفواكة التالية ، ثم أكتب عددها في المكان المخصص لكل فاكهة :



السؤال الخامس : أكتب العدد المغطى بورقة الشجر في الفراغ:



السؤال السادس : أكمل كتابة الأعداد التالية بالترتيب :

٢٠		١٨			١٥				١١
----	--	----	--	--	----	--	--	--	----

نموذج الاجابة

٢٠


اختبار الفترة الثانية من الفصل الدراسي الأول للعام الدراسي ١٤٤٧ هـ

اسم الطالب / رقم الطالب /

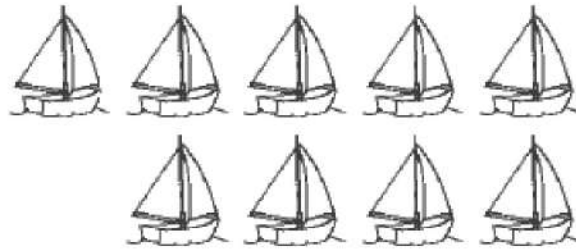
السؤال الأول :

أ - عد حبات الفراولة ثم أكتب عددها في المكان المخصص :

٧



ب - عد القوارب التالية ثم أكتب عددها في المكان المخصص له




٩

السؤال الثاني : أرسم دوائر لتمثل العدد المعطى:


١٥

٣




١٣

٦



١١

١



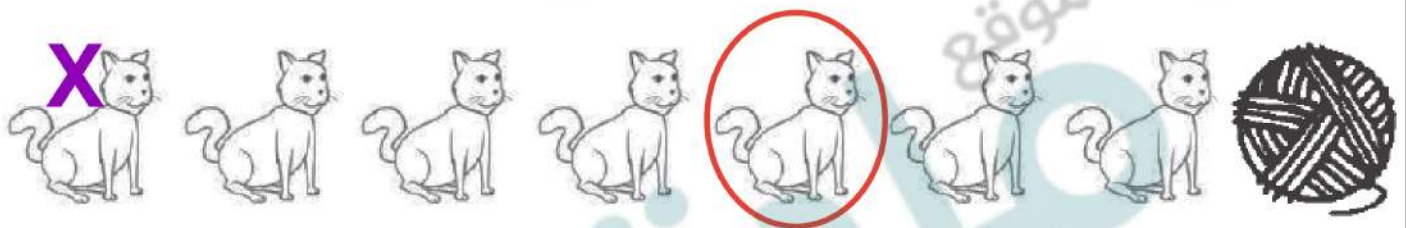
السؤال الثالث :

أ - صل بخطوط بين عناصر المجموعتين ، ثم أكتب عدد كلا منها ، ثم حوط على المجموعة الأكثر وحوط على عددها :

١٤

١٢

ب - حوط القطة الثالثة و ضع علامة x على القطة السابعة :



السؤال الرابع : عد الفواكة التالية ، ثم أكتب عددها في المكان المخصص لكل فاكهة :

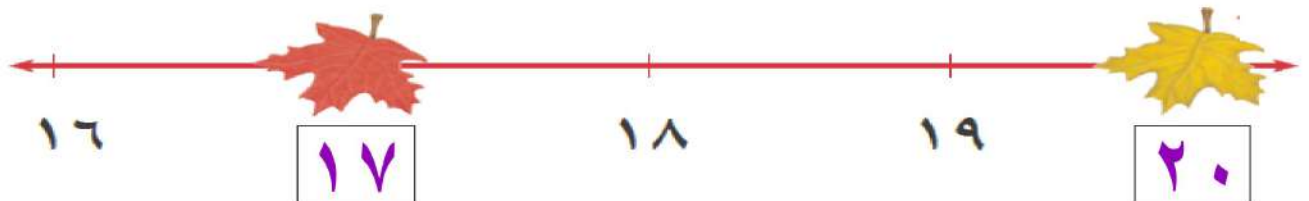
١٩

١

١٨

٢

السؤال الخامس : أكتب العدد المغطى بورقة الشجر في الفراغ:



السؤال السادس : أكمل كتابة الأعداد التالية بالترتيب :

٢٠ ١٩ ١٨ ١٧ ١٦ ١٥ ١٤ ١٣ ١٢ ١١

المملكة العربية السعودية

وزارة التعليم

إدارة التعليم بمحافظ عسير

مدرسة الكسائي الابتدائية

الدرجة: _____

توقيع ولي الأمر :



اختبار الفترة الثانية

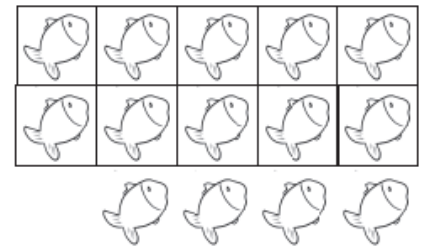
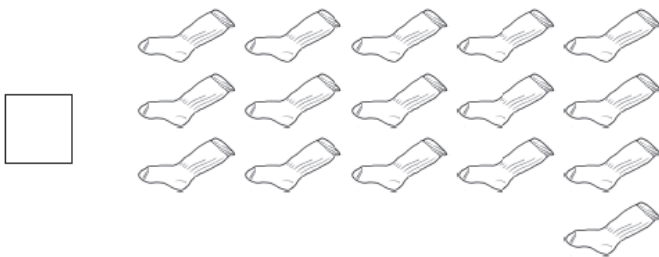


الصف : الأول الابتدائي

المادة : رياضيات

اسم الطالب:

السؤال الأول: اكتب الأعداد مرتبة من ١ إلى ٢٠ في الجدول التالي:

السؤال الثاني: عدّ الأشكال التالية ثم اكتب عددها في المربع المجاور لها.



السؤال الثالث: اوجد نواتج الجمع التالية.

$$= ٣ + ٥$$

$$= ١ + ٤$$

$$= ٣ + ٣$$

انتهت الأسئلة: وفقكم الله وجعلكم فخرا لوطنكم وأمتكم

موقع
مادتي

نموذج الاجابة

اختبار الفترة الثانية

الصف : الأول الابتدائي

المادة : رياضيات

اسم الطالب:

السؤال الأول: اكتب الأعداد مرتبة من ١ إلى ٢٠ في الجدول التالي:


١٠	٩	٨	٧	٦	٥	٤	٣	٢	١
٢٠	١٩	١٨	١٧	١٦	١٥	١٤	١٣	١٢	١١

السؤال الثاني: عدّ الأشكال التالية ثم اكتب عددها في المربع المجاور لها.

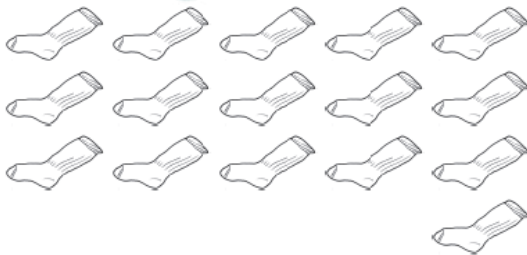
١٢



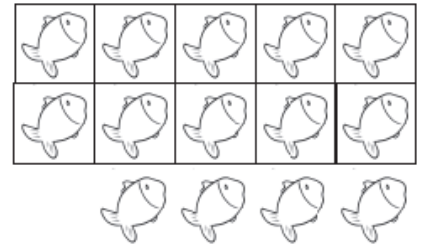
١٥



١٦



١٤



السؤال الثالث: اوجد نواتج الجمع التالية.

$$8 = 3 + 5$$

$$5 = 1 + 4$$

$$6 = 3 + 3$$

انتهت الأسئلة: وفقكم الله وجعلكم فخرا لوطنكم وأمتكم

موقع
مادتي

مجموع الدرجات
٢٠


التاريخ: / / ١٤٤٤هـ
المادة: رياضيات
الزمن: ٤٥ دقيقة

اختبار مادة الرياضيات للصف الأول الابتدائي (الفترة ٢ الفصل الدراسي الأول ١٤٤٧هـ)


اسم الطالب	الصف	أول /
------------	-------	------	-------------

السؤال الأول	أجب عن الأسئلة التالية	١٠
--------------	------------------------	----

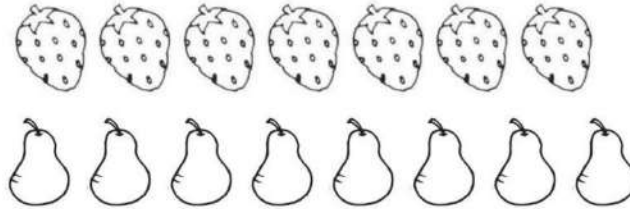
١ يضع الطالب علامة X على الحشرة التي تقع فوق الورقة، ويحوط الحشرة التي تقع تحت الورقة.



٢ يحوط الطالب الشيء التالي في النمط.



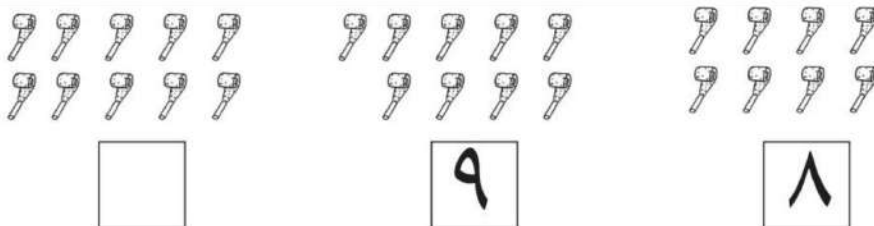
٣ يحوط الطالب المجموعة التي تحوي ثمانية أشياء.




٤ يعد الطالب الأشياء في كل مجموعة، وينطق العدد، ثم يكتب ثلاث مرات.



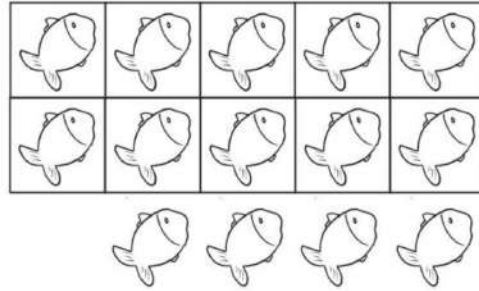
٥ يعد الطالب الصافرات، ثم يكتب عددها في الجدول.



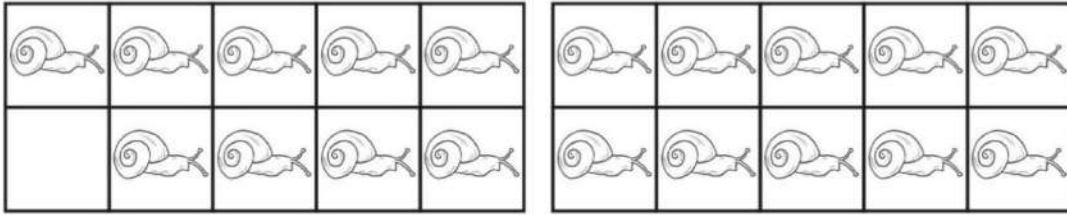
٦ يحوِّط الطالب القطة السابعة ، ويضع علامة X على القطة الثانية.



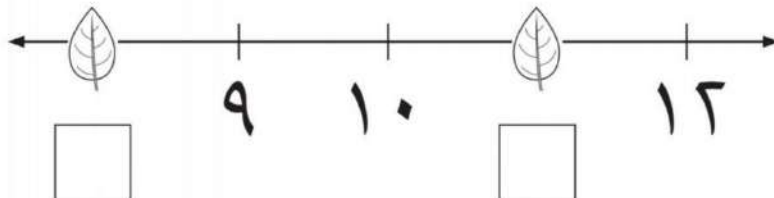
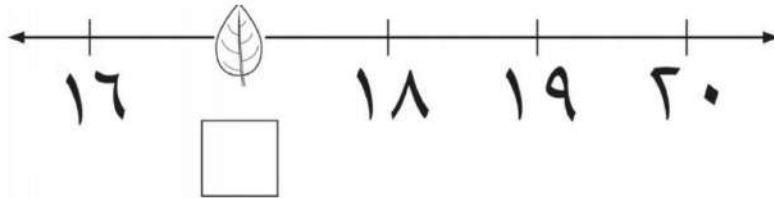
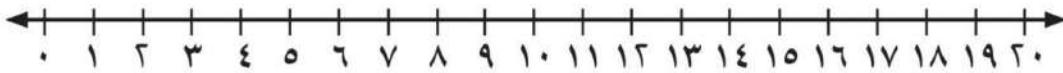
٧ يعد الطالب الأشياء، وينطق العدد، ثم يكتبه ثلاث مرات.



٨ يعد الطالب المخلوقات مبتدئاً بالعشرة، ثم يكتب العدد.



٩ يكتب الطالب العدد المغطى تحت أوراق الأشجار في الفراغ.



نموذج الإجابة

المملكة العربية
السعودية
وزارة
التعليم
إدارة تعليم
الرياض
مدرسة

مجموع الدرجات
٢٠


التاريخ: / / ١٤٤٤ هـ
المادة: رياضيات
الزمن: ٤٥ دقيقة

اختبار مادة الرياضيات للصف الأول الابتدائي (الفترة ٢ الفصل الدراسي الأول ١٤٤٧ هـ)


اسم الطالب	الصف	أول /
------------	-------	------	-------------

السؤال الأول	أجب عن الأسئلة التالية	١٠
--------------	------------------------	----

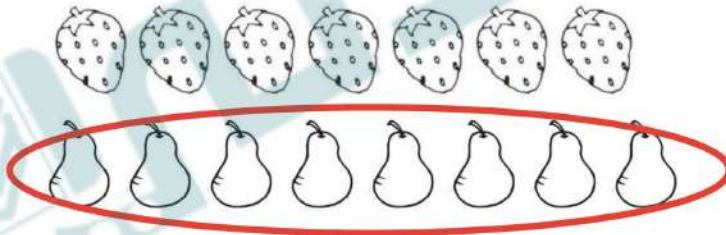
١ يضع الطالب علامة X على الحشرة التي تقع فوق الورقة، ويحيط الحشرة التي تقع تحت الورقة.




٢ يحيط الطالب الشيء التالي في النمط.



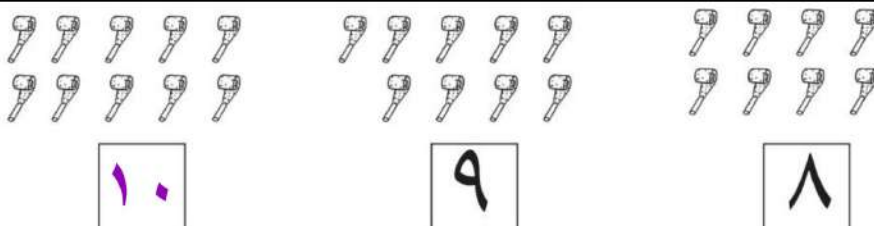
٣ يحيط الطالب المجموعة التي تحوي ثمانية أشياء.




٤ يعد الطالب الأشياء في كل مجموعة، وينطق العدد، ثم يكتب ثلاث مرات.



٥ يعد الطالب الصافرات، ثم يكتب عددها في الجدول.

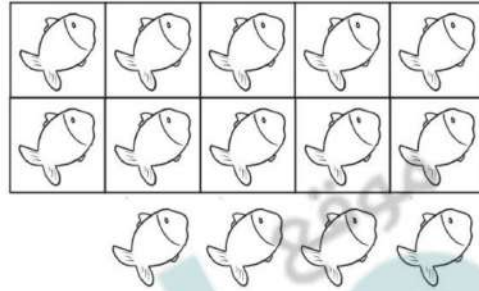


٦ يحوِّط الطالب القطة السابعة ، ويضع علامة X على القطة الثانية.




٧ يعد الطالب الأشياء ، وينطق العدد، ثم يكتبه ثلاث مرات.

١٤ ١٤ ١٤

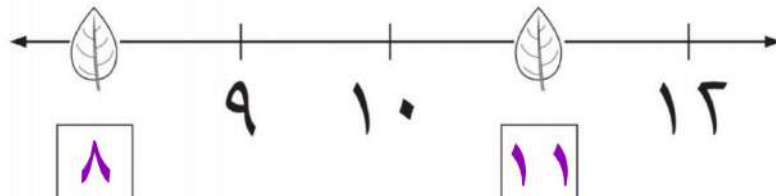
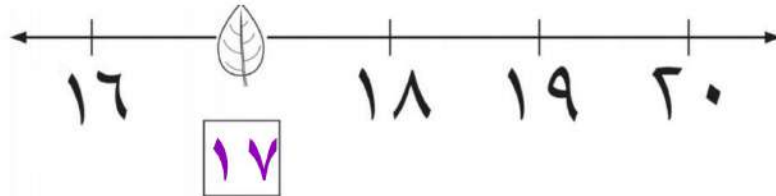
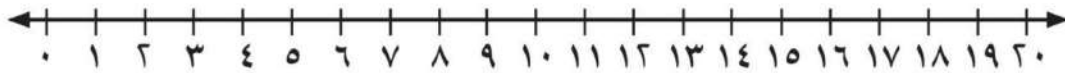


٨ يعد الطالب المخلوقات مبتدئاً بالعشرة ، ثم يكتب العدد.



١٩


٩ يكتب الطالب العدد المغطى تحت أوراق الأشجار في الفراغ.



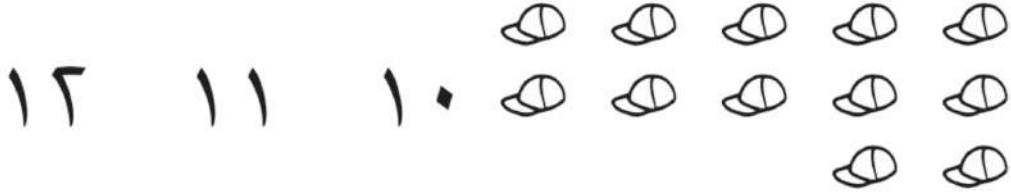

٢٠

اسم الطالب |


السؤال الأول : عد اي الأشكال التالية . ثم حوط اي على الرقم المناسب.




١٠ ٧ ٥






٢٠ ١٥ ١٣



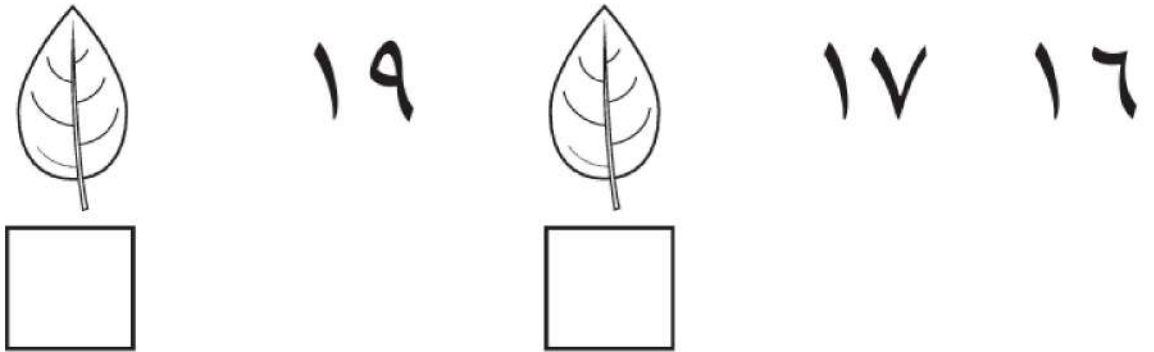
السؤال الثاني : عد اي المجموعات . ثم اكتب اي عددها . ثم حوط اي المجموعة الأكبر



السؤال الثالث: عدّي الأشكال التاليه . ثم اكتبّي عددها في المربع المجاور له .



السؤال الرابع: اكتبّي العدد المفقود المغطى بورق الشجر في المربع المخصص له .



انتهت الأسئلة

٢٠

نموذج الاجابة

اسم الطالب |


السؤال الأول : عد اي الأشكال التالية . ثم حو ط اي على الرقم المناسب.



٩ ٨ ٧

١٠

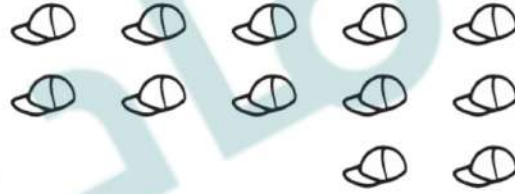
٧ ٥



١٢

١١


١٠



٢٠


١٥

١٣

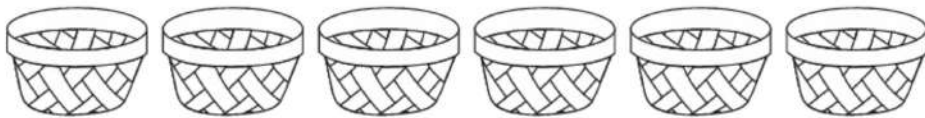


السؤال الثاني : عد اي المجموعات . ثم اكتب اي عددها . ثم حو ط اي المجموعة الأكبر

٨

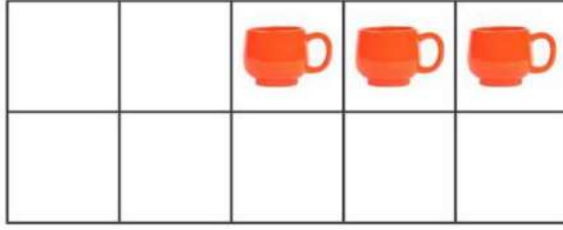


٦

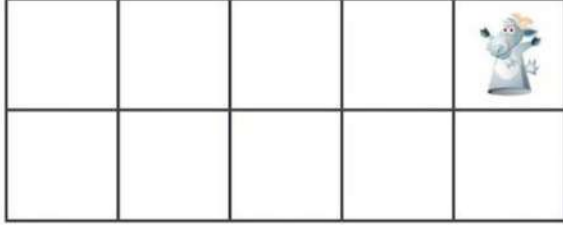


السؤال الثالث: عدّي الأشكال التاليه . ثم اكتبّي عددها في المربع المجاور له .



١٣



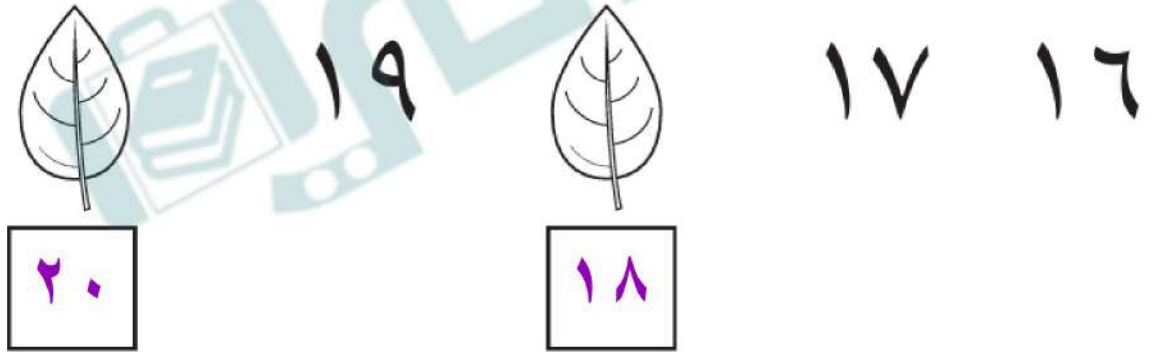
١١



١٩



السؤال الرابع: اكتبّي العدد المفقود المغطى بورق الشجر في المربع المخصص له .





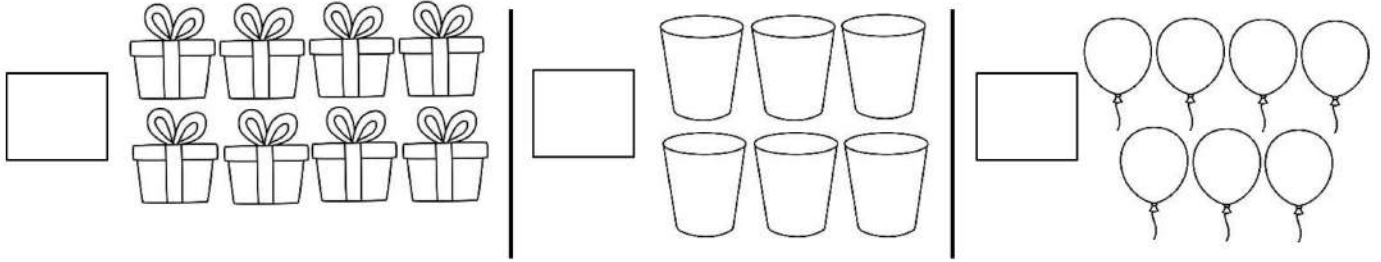
انتهت الأسئلة

أسئلة اختبار مادة الرياضيات للصف الأول الابتدائي الفصل الدراسي الأول (الفترة الثانية)

الدرجة : ٢٠ /

الاسم : الصف : أول /


عد الأشياء من كل مجموعة و أكتب العدد .




عد الأشياء من كل مجموعة و أكتب العدد , ثم حوط المجموعة الأكثر .



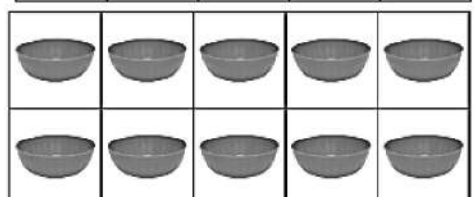
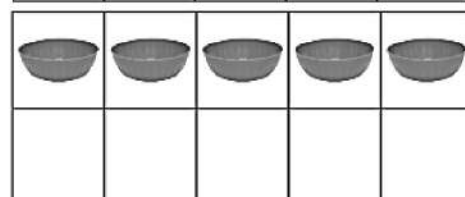

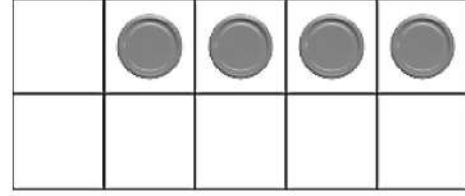
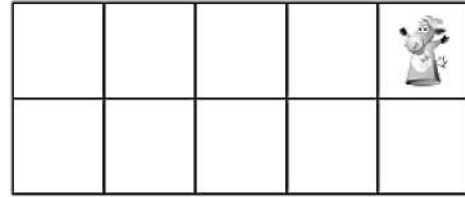
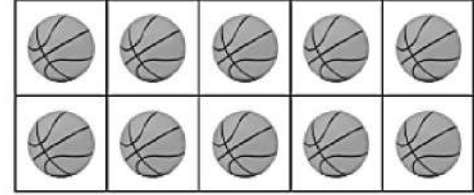
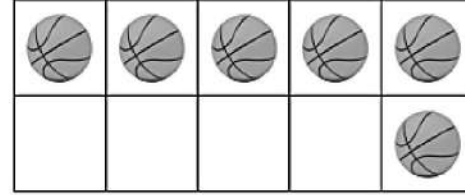
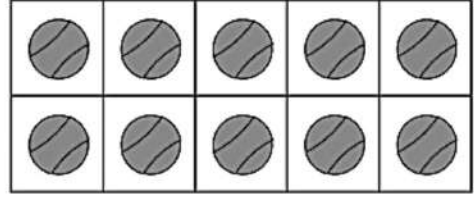
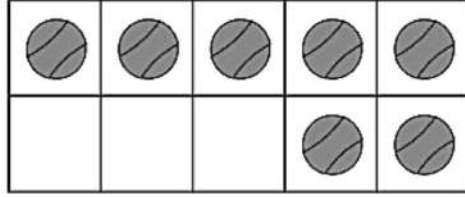
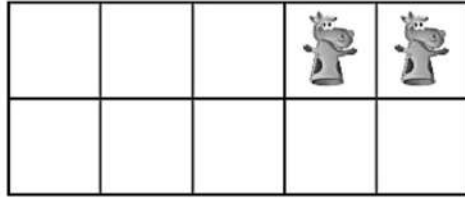
عد الفراشات ثم أكتب العدد .



ضع x على البطة الأولى ودائرة على الثالثة .



عد الأشياء , ثم أكتب العدد .



أكتب ما يملأ علي :

معلمة المادة :
هدى علي كناني

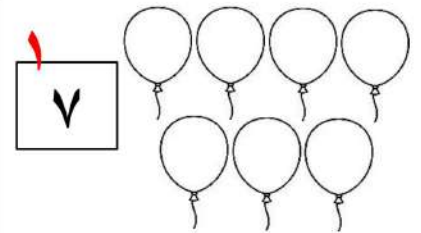
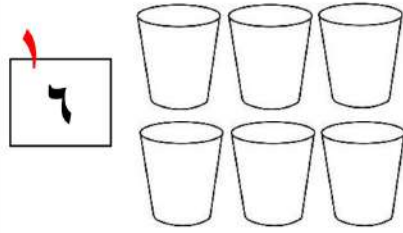

نموذج الإجابة

أسئلة اختبار مادة الرياضيات للصف الأول الابتدائي الفصل الدراسي الأول (الفترة الثانية)


الدرجة : ٢٠ / ٢٠

الاسم : الصف : أول /


عد الأشياء من كل مجموعة و أكتب العدد .



١٠



٩



عد الأشياء من كل مجموعة و أكتب العدد , ثم حوط المجموعة الأكثر .

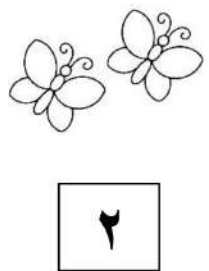

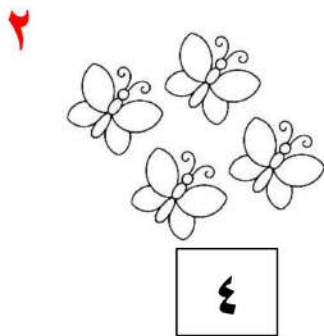

٧




٥



عد الفراشات ثم أكتب العدد .

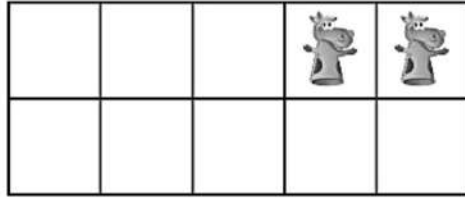


ضع x على البطة الأولى ودائرة على الثالثة .

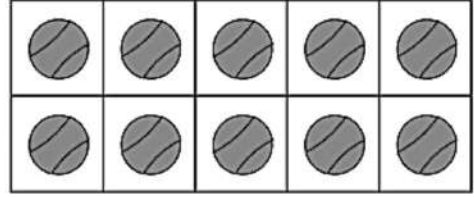
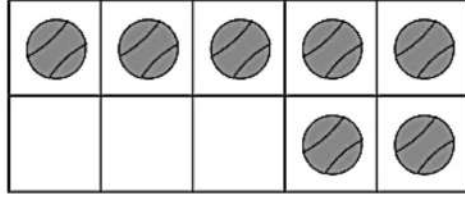


عد الأشياء , ثم أكتب العدد .

١٢



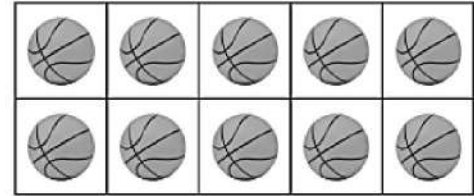
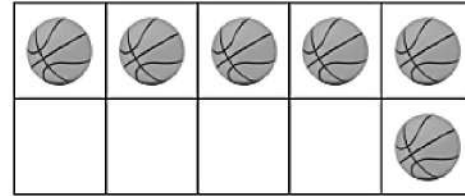
١٧



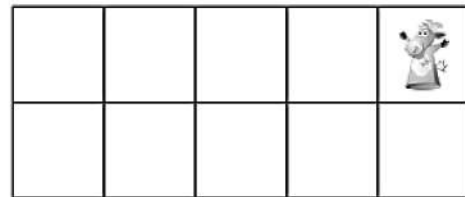
١٣





١٦



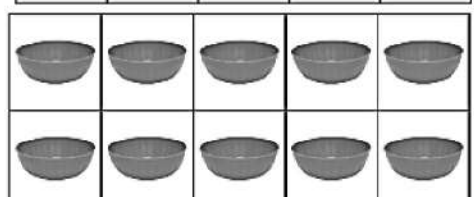
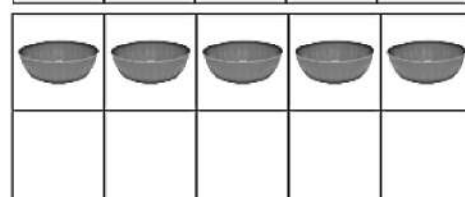
١١



١٤



١٥



أكتب ما يملأ علي :

٣

١٦

١٤

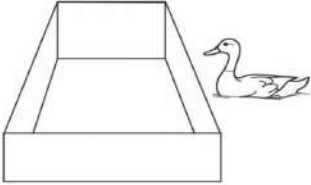

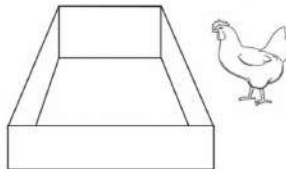
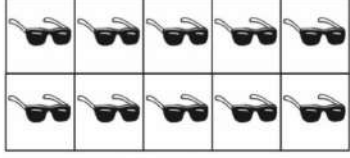


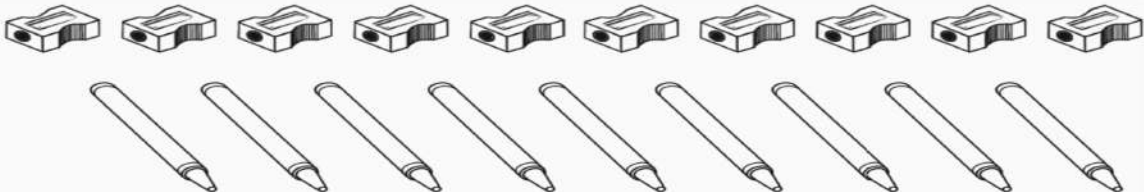





١١



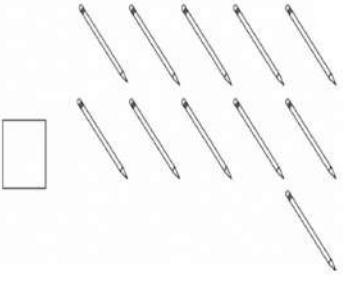
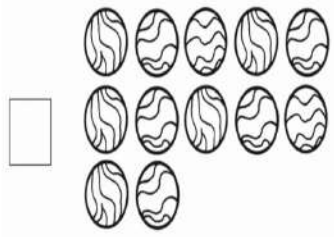
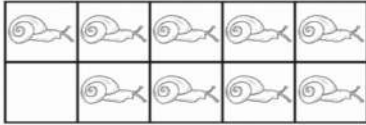
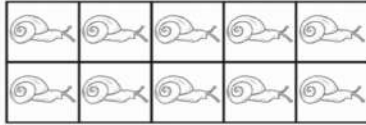

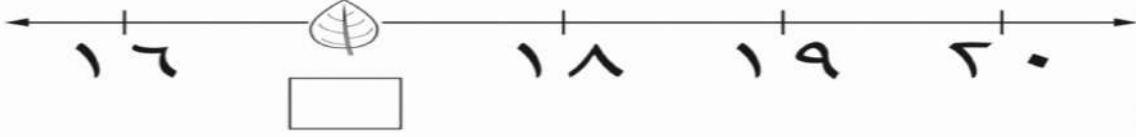




١٧

١٢

١٥

معلمة المادة :
هدى علي كناني

السؤال الأول	أرسمي ست بيضات في الصندوق ثم أكتبي العدد في المربع :	أرسمي ثمان كرات في الصندوق ثم أكتبي العدد في المربع :	أرسمي سبع كرات في الصندوق ثم أكتبي العدد في المربع :
			
	<input type="text"/>	<input type="text"/>	<input type="text"/>
السؤال الثاني	عدّي النظارات ثم أكتبي عددها في المربع :	عدّي السفن ثم أكتبي عددها في المربع :	عدّي الاشياء ثم أكتبي عددها في المربع :
			
	<input type="text"/>	<input type="text"/>	<input type="text"/>
السؤال الثالث	حوطي المجموعة التي تحتوي على تسعة أشياء :		
			
السؤال الرابع	صلي بين عناصر المجموعتين ثم أكتبي عدد كل منها في المربع المناسب ثم حوطي المجموعه الاقل :		
	<input type="text"/>		
	<input type="text"/>		
السؤال الخامس	عدي الصافرات ثم اكتبها في المربع :		
			
	<input type="text"/>	<input type="text" value="٩"/>	<input type="text" value="٨"/>

حوطى القطه السابعه وضعي ✕ على القطه الثانيه :			السؤال السادس
			
عدّي الأشياء ثم أكتبها في المربع :	عدّي الأشياء ثم أكتبها في المربع :	عدّي الأشياء ثم أكتبها في المربع :	السؤال السابع
			
عدّي الأشياء ثم أكتبها في المربع :		عدّي الأشياء ثم أكتبها في المربع :	السؤال الثامن
			
أكتبي العدد المغطى تحت أوراق الشجر :			السؤال التاسع
			
عدّي الأشياء في كل مجموعه ثم أكتبي عددها في المربع ثم حوطي المجموعه التي عناصرها أكبر :			السؤال العاشر
			

نموذج الإجابة

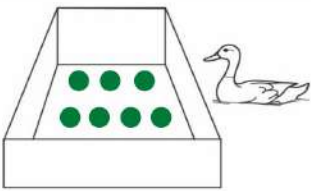

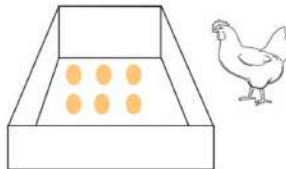
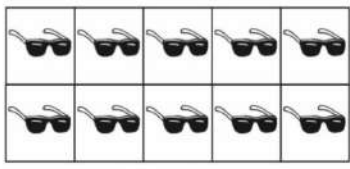

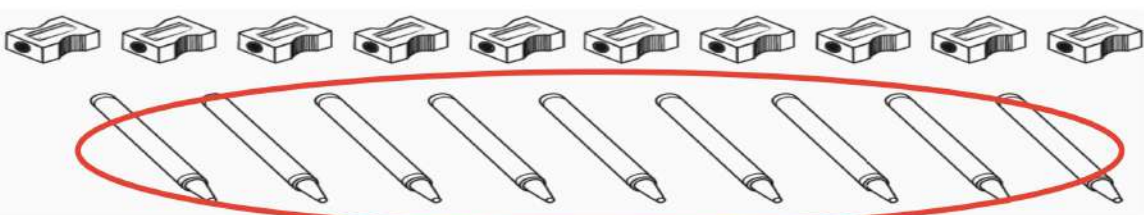
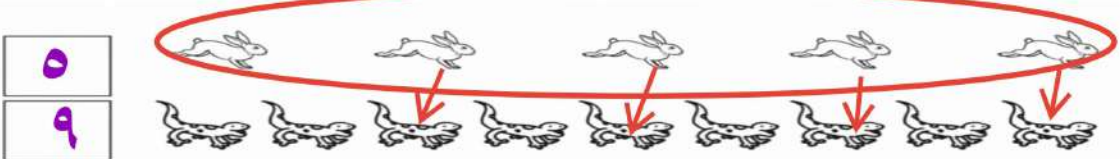

المملكة العربية السعودية
وزارة التعليم

المادة : رياضيات
الصف : الأول الابتدائي
الزمن : حصه دراسيه (٤٥ دقيقه)
عدد الاوراق : ٢

٢٠

اختبار الفتره الثانيه للصف الاول الفصل الدراسي الاول ١٤٤٧



الاسم :

السؤال الأول	السؤال الثاني	السؤال الثالث	السؤال الرابع	السؤال الخامس
<p>أرسمي سبع كرات في الصندوق ثم أكتب العدد في المربع :</p>  <p>٧</p>	<p>أرسمي ثمان كرات في الصندوق ثم أكتب العدد في المربع :</p>  <p>٨</p>	<p>أرسمي ست بيضات في الصندوق ثم أكتب العدد في المربع :</p>  <p>٦</p>	<p>عدّي النظارات ثم أكتب عددها في المربع :</p>  <p>١٠</p>	<p>عدّي الاشياء ثم أكتب عددها في المربع :</p>  <p>٩</p>
<p>حوطي المجموعة التي تحتوي على تسعة أشياء :</p> 				
<p>صلي بين عناصر المجموعتين ثم أكتب عدد كل منها في المربع المناسب ثم حوطي المجموعه الاقل :</p>  <p>٥ ٩</p>				
<p>عدّي الصافرات ثم اكتب عددها في المربع :</p>  <p>١٠ ٩ ٨</p>				

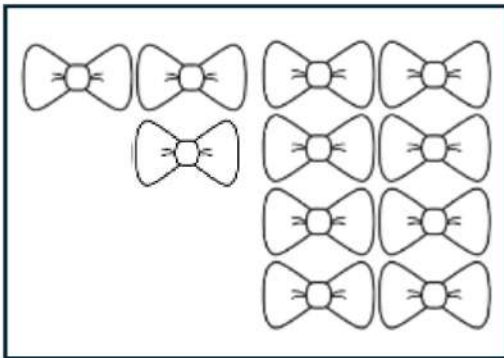
حوطى القطه السابعه وضعي ✕ على القطه الثانيه :			السؤال السادس
عدّي الأشياء ثم أكتبها في المربع :	عدّي الأشياء ثم أكتبها في المربع :	عدّي الأشياء ثم أكتبها في المربع :	السؤال السابع
عدّي الأشياء ثم أكتبها في المربع :		عدّي الأشياء ثم أكتبها في المربع :	السؤال الثامن
أكتبي العدد المغطى تحت أوراق الشجر :			السؤال التاسع
عدّي الأشياء في كل مجموعه ثم أكتبي عددها في المربع ثم حوطي المجموعه التي عناصرها أكبر :			السؤال العاشر

اختبار الفترة الثانية


١- أعد الأشياء في كل من المجموعتين واكتب عددها، ثم تحوّل المجموعة التي عددها أقل:



٢- أحوط العدد الذي يمثل عدد عناصر المجموعات:

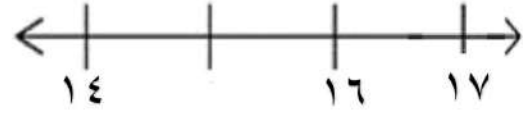
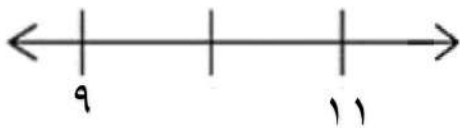


١٧ ١٤ ١١




١١ ١٨ ٢٠

٣- اكتب العدد المفقود:



٤- حوّل الغزال الأول وضعي علامة x على الغزال الرابع:



بالتوفيق يا صغيراتي

معلمة المادة:

٥- اكتب جملة الجمع التي تمثل الصور التالية:



$$\square = \square + \square$$

٦- اكتب ناتج الجمع:


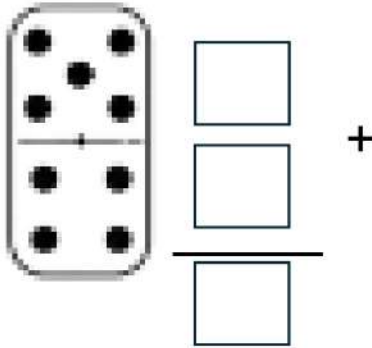


$$\dots = 3 + 0$$

$$\dots = 0 + 6$$

$$\dots = 2 + 2$$

٧- انظر الى قطعة الدومينو واكتب الأعداد:



$$\dots = \dots + \dots$$

٨- أكمل كتابة الأعداد التالية بالترتيب:

٢٠		١٨			١٥				١١
----	--	----	--	--	----	--	--	--	----



بالتوفيق يا صغيراتي



موقع
مادنتري

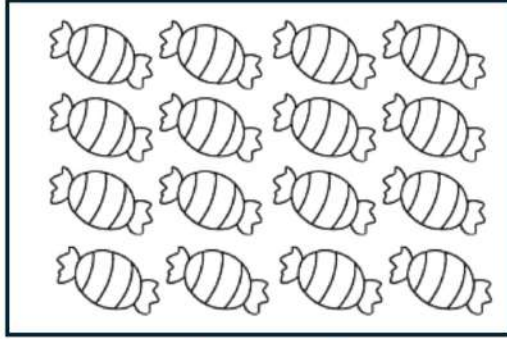
معلمة المادة:

نموذج الإجابة


..الصف أولى / اليوم..... التاريخ /..... / ١٤٤٧ هـ

اختبار الفترة الثانية

١- أعد الأشياء في كل من المجموعتين واكتب عددها، ثم تحوّل المجموعة التي عددها أقل:

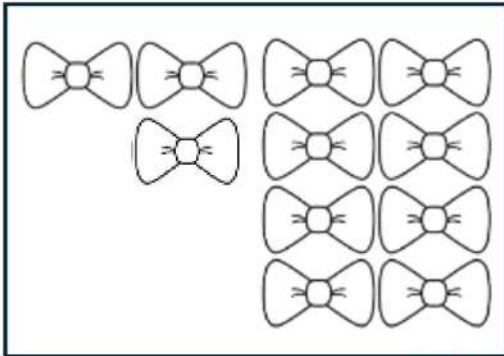


١٦



١٢


٢- أحوط العدد الذي يمثل عدد عناصر المجموعات:



١٧

١٤

١١

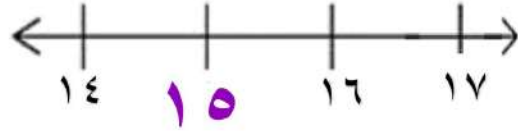
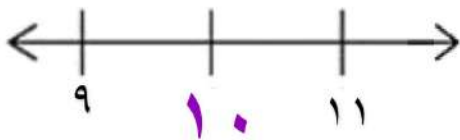


١١

١٨

٢٠

٣- اكتب العدد المفقود:



٤- حوّل الغزال الأول وضعي علامة x على الغزال الرابع:



بالتوفيق يا صغيراتي

معلمة المادة:

٥- اكتب جملة الجمع التي تمثل الصور التالية:



$$\boxed{4} = \boxed{1} + \boxed{3}$$

٦- اكتب ناتج الجمع:

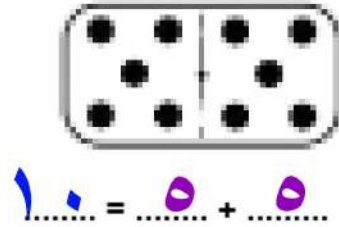
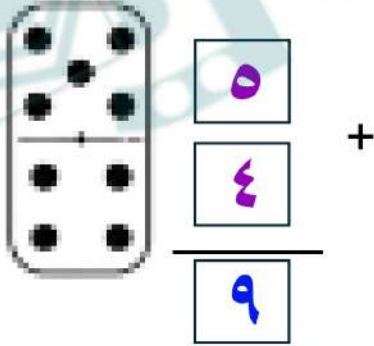


$$\dots = 3 + \dots$$

$$\dots = \dots + 6$$

$$\dots = 2 + 2$$

٧- انظر الى قطعة الدومينو واكتب الأعداد:



٨- أكمل كتابة الأعداد التالية بالترتيب:

٢٠	١٩	١٨	١٧	١٦	١٥	١٤	١٣	١٢	١١
----	----	----	----	----	----	----	----	----	----

موقع مادنتير



بالتوفيق يا صغيراتي

معلمة المادة:

اختبار مادة الرياضيات للصف الأول
الفصل (٥) : الأعداد حتى ٢٠

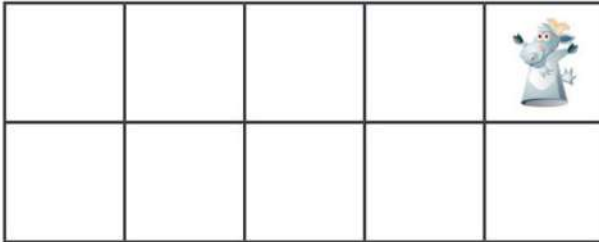






المملكة العربية السعودية
وزارة التعليم
الابتدائية الثالثة عشر

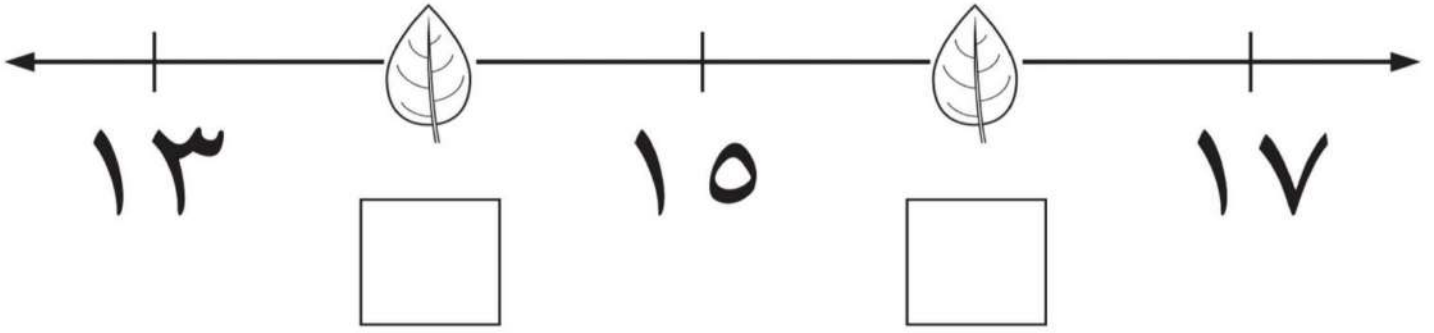
الصف : أول /

الاسم :

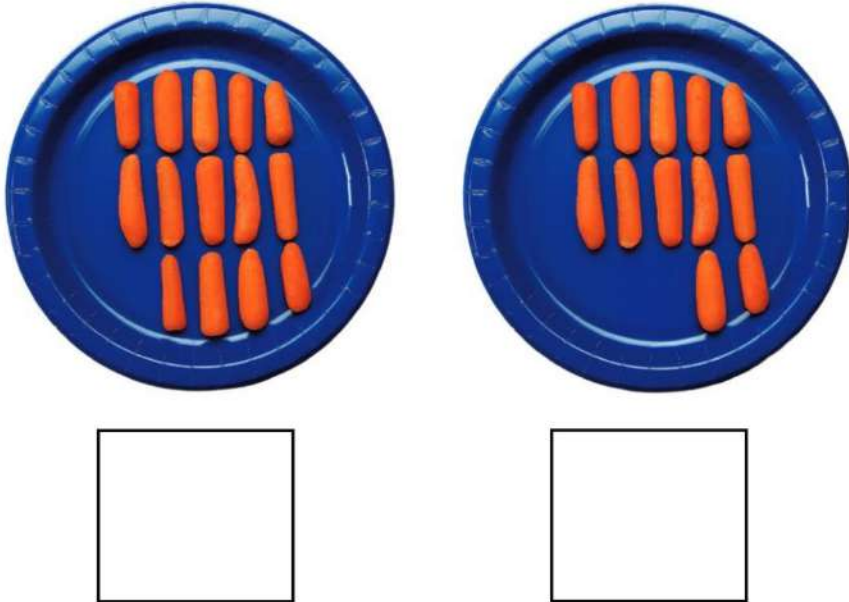
السؤال الأول : عد/ي الأشكال التالية ثم اكتب/ي عددها في المربع المجاور له :



السؤال الثاني : اكتب/ي العدد المغطى بورق الشجر في الفراغ :



السؤال الثالث : عد/ي الأشياء في كل طبق ثم ضع/ي \times على المجموعة الأقل :



السؤال الرابع : اكتب/ي الأعداد مرتبة من ١ إلى ٢٠ في الجدول التالي :
