

تم تحميل وعرض المادة من



موقع مادتي هو موقع تعليمي يعمل على مساعدة المعلمين والطلاب وأولياء الأمور في تقديم حلول الكتب المدرسية والاختبارات وشرح الدروس والملاحظات والتحاير وتوزيع المنهج لكل المراحل الدراسية بشكل واضح وسهل مجاناً بتصفح وعرض مباشر أونلاين وتحميل على موقع مادتي

حمل تطبيق مادتي ليصلك كل جديد



اختبار الفترة الثانية لمادة المهارات الرقمية للصف الخامس ابتدائي الفصل الدراسي الأول ١٤٤٧ هـ

اسم الطالبة: الصف:

١١

اختر الإجابة الصحيحة:



١- نستطيع في برنامج الورد ادراج:			
أ	الصور	ب	الأشكال
ج	جميع ما سبق		
٢- من أجهزة الالتقاط التي تستخدم للصوت			
أ	الكاميرا الرقمية	ب	الميكرفون
ج	الماسح الضوئي		
٣- يمكن إضافة كائن في سكراتش من خلال			
أ	جهاز الحاسب	ب	مكتبة سكراتش
ج	جميع ما سبق		
٤- هو مجموعة من التعليمات المكتوبة بإحدى لغات البرمجة ينفذها الحاسب			
أ	برنامج الحاسب	ب	الطابعة
ج	الشاشة		
٥- لحذف الكلمات والجمل في الورد نستخدم زر			
أ	Enter	ب	Tab
ج	Delete -BackSpace		

ضعي علامة أو أمام العبارات التالية:

	١- يفيد ادراج الصور والاشكال في جعل المستند اكثر جاذبية
	٢- لانستطيع الكتابة داخل مجموعة الاشكال وتنسيقها
	٣- يزداد وضوح الصورة كلما كان حجمها اكبر
	٤- المسافة البادئة تعني المسافة بين الاسطر والكلمات
	٥- الرسومات التوضيحية تجعل المستند اكثر تعقيدا ويصعب فهمه
	٦- أجهزة الالتقاط مخصصة لالتقاط الصوت فقط

رتبي وحدات القياس التالية من الأصغر إلى الأكبر:



بايت

كيلو بايت

ميغا بايت

جيجا بايت

تيرا بايت



وصلي بالأرقام ما يناسب:



١- يعرض خطوات غير متسلسلة.

٢- يستعمل لإنشاء مخطط منظم / هيكل تنظيمي.

٣- يعرض علاقة متناسقة مع الترتيب من الأعلى أو الأسفل.

٤- للمقارنة أو لعرض العلاقة بين فكرتين.

انتهت الاسئلة

أرجو لكن التوفيق

نموذج الاجابة

اختبار الفترة الثانية لمادة المهارات الرقمية للصف الخامس ابتدائي الفصل الدراسي الأول ١٤٤٧ هـ

اسم الطالبة: الصف:

١١

اختر الإجابة الصحيحة:



١- نستطيع في برنامج الورد ادراج:			
أ	الصور	ب	الأشكال
ج	جميع ما سبق		
٢- من أجهزة الالتقاط التي تستخدم للصوت			
أ	الكاميرا الرقمية	ب	الميكرفون
ج	الماسح الضوئي		
٣- يمكن إضافة كائن في سكراتش من خلال			
أ	جهاز الحاسب	ب	مكتبة سكراتش
ج	جميع ما سبق		
٤- هو مجموعة من التعليمات المكتوبة بإحدى لغات البرمجة ينفذها الحاسب			
أ	برنامج الحاسب	ب	الطابعة
ج	الشاشة		
٥- لحذف الكلمات والجمل في الورد نستخدم زر			
أ	Enter	ب	Tab
ج	Delete - BackSpace		

ضعي علامة أو أمام العبارات التالية:



<input checked="" type="checkbox"/>	١- يفيد ادراج الصور والاشكال في جعل المستند اكثر جاذبية
<input type="checkbox"/>	٢- لانستطيع الكتابة داخل مجموعة الاشكال وتنسيقها
<input checked="" type="checkbox"/>	٣- يزداد وضوح الصورة كلما كان حجمها اكبر
<input type="checkbox"/>	٤- المسافة البادئة تعني المسافة بين الاسطر والكلمات
<input type="checkbox"/>	٥- الرسومات التوضيحية تجعل المستند اكثر تعقيدا ويصعب فهمه
<input type="checkbox"/>	٦- أجهزة الالتقاط مخصصة لالتقاط الصوت فقط

رتبي وحدات القياس التالية من الأصغر إلى الأكبر:



بايت

كيلو بايت

ميغا بايت

جيجا بايت

تيرا بايت



وصلي بالأرقام ما يناسب:



١- يعرض خطوات غير متسلسلة.

٢- يستعمل لإنشاء مخطط منظم / هيكل تنظيمي.

٣- يعرض علاقة متناسقة مع الترتيب من الأعلى أو الأسفل.

٤- للمقارنة أو لعرض العلاقة بين فكرتين.

انتهت الاسئلة

أرجو لكن التوفيق

20

اسم الطالب:..... الصف:

السؤال الأول: ضع علامة صح أمام العبارة الصحيحة وعبارة خطأ أمام العبارة الخاطئة:

10

- 1- أجهزة الالتقاط مخصصة لالتقاط الصوت فقط. ()
- 2- ملفات النصوص أكبر حجماً من ملفات الفيديو. ()
- 3- كل ما يعرض في الإنترنت من صور وفيديو يعتبر مجاني بلا حقوق ملكية. ()
- 4- عند البحث عن الصور لا أستطيع تحديد الحجم أو اللون أو النوع من أدوات البحث. ()
- 5- الخوارزمية هي مجموعة من التعليمات المتسلسلة والخاصة بحل مشكلة أو إكمال مهمة معينة. ()
- 6- يسمى منشئ البرنامج: مبرمجاً ومهندس برمجيات ومطور برمجيات. ()
- 7- الكائن في سكراتش يمكن أن يكون نصاً أو صورة أو رسم. ()
- 8- معظم الكائنات لها مظاهر تجعلها تبدو وكأنها تقوم بحركات مختلفة. ()
- 9- توجد لبنة (إذا () ثم (if () then) ضمن فئة لبنات (الأحداث) صفراء اللون. ()
- 10- تنتمي لبنة (ارتد إذا كنت عند الحافة) للبنات الحركة زرقاء اللون. ()

السؤال الثاني: اختر الإجابة الصحيحة:

10

1- لحفظ الصور أضغط عليها بزر الفأرة الأيمن وأختار:	أ- فتح.	ب- حذف.	ج- حفظ الصورة.
2- يستخدم برنامج صور مايكروسوفت لإنشاء وتحرير.....	أ- جداول الإكسل.	ب- مقاطع الفيديو.	ج- عروض البوربوينت.
3- أكبر وحدات الحجم هي:	أ- جيجا بايت.	ب- كيلو بايت.	ج- ميغا بايت.
4- عند البحث عن الصور أستطيع تحديد:	أ- الحجم واللون.	ب- النوع.	ج- جميع ما سبق.
5- لتكرار الكائن في سكراتش نضغط عليه باليمين ونختار:	أ- تصدير.	ب- مضاعفة.	ج- حذف.
6- نستخدم دائماً مع لبنة (أسأل () وانتظر) لبنة:	أ- (الإجابة answer)	ب- اتجه نحو الاتجاه.	ج- تحرك () خطوة.
7- لجعل الكائن يرتد عند لمس الحافة نستعمل لبنة:	أ- كرر باستمرار.	ب- تحرك () خطوة.	ج- ارتد إذا كنت عند الحافة.
8- لبنات التكرار توجد ضمن فئة:	أ- الصوت.	ب- التحكم.	ج- الصوت.
9- أكثر اللبانات استخدام في سكراتش هي لبنة:	أ- لبنة كرر باستمرار.	ب- لبنة المظهر التالي.	ج- انتظر () ثانية.
10- الزر الافتراضي لللبنة مفتاح () مضغوط هو زر:	أ- مفتاح الإدخال Enter.	ب- مفتاح شفت Shift.	ج- مفتاح المسافة.

نموذج الإجابة

اسم الطالب:..... الصف:.....

20

السؤال الأول: ضع علامة صح أمام العبارة الصحيحة وعبارة خطأ أمام العبارة الخاطئة:

- 1- أجهزة الالتقاط مخصصة لالتقاط الصوت فقط. (خطأ)
- 2- ملفات النصوص أكبر حجما من ملفات الفيديو. (خطأ)
- 3- كل ما يعرض في الإنترنت من صور وفيديو يعتبر مجاني بلا حقوق ملكية. (خطأ)
- 4- عند البحث عن الصور لا أستطيع تحديد الحجم أو اللون أو النوع من أدوات البحث. (خطأ)
- 5- الخوارزمية هي مجموعة من التعليمات المتسلسلة والخاصة بحل مشكلة أو إكمال مهمة معينة. (صح)
- 6- يسمى منشئ البرنامج: مبرمجا ومهندس برمجيات ومطور برمجيات. (صح)
- 7- الكائن في سكراتش يمكن أن يكون نصا أو صورة أو رسم. (صح)
- 8- معظم الكائنات لها مظاهر تجعلها تبدو وكأنها تقوم بحركات مختلفة. (صح)
- 9- توجد لبنة (إذا) ثم (if () then) ضمن فئة لبنات (الأحداث) صفراء اللون. (خطأ)
- 10- تنتمي لبنة (ارتد إذا كنت عند الحافة) للبنات الحركة زرقاء اللون. (صح)

10

10

السؤال الثاني: اختر الإجابة الصحيحة:

1- لحفظ الصور أضغط عليها بزر الفأرة الأيمن وأختار:	أ- فتح.	ب- حذف.	ج- حفظ الصورة.
2- يستخدم برنامج صور مايكروسوفت لإنشاء وتحرير.....	أ- جداول الإكسل.	ب- مقاطع الفيديو.	ج- عروض البوربوينت.
3- أكبر وحدات الحجم هي:	أ- جيجا بايت.	ب- كيلو بايت.	ج- ميغا بايت.
4- عند البحث عن الصور أستطيع تحديد:	أ- الحجم واللون.	ب- النوع.	ج- جميع ما سبق.
5- لتكرار الكائن في سكراتش نضغط عليه باليمين ونختار:	أ- تصدير.	ب- مضاعفة.	ج- حذف.
6- نستخدم دائما مع لبنة (أسأل) وانتظر) لبنة:	أ- (الإجابة answer)	ب- اتجه نحو الاتجاه.	ج- تحرك () خطوة.
7- لجعل الكائن يرتد عند لمس الحافة نستعمل لبنة:	أ- كرر باستمرار.	ب- تحرك () خطوة.	ج- ارتد إذا كنت عند الحافة.
8- لبنات التكرار توجد ضمن فئة:	أ- الصوت.	ب- التحكم.	ج- الصوت.
9- أكثر اللبنة استخدام في سكراتش هي لبنة:	أ- لبنة كرر باستمرار.	ب- لبنة المظهر التالي.	ج- انتظر () ثانية.
10- الزر الافتراضي للبنة مفتاح () مضغوط هو زر:	أ- مفتاح الإدخال Enter.	ب- مفتاح شفت Shift.	ج- مفتاح المسافة.

اختبار المهارات الرقمية الفترة الثانية للفصل الدراسي الأول لعام ١٤٤٧ هـ
للفيف الخامس الابتدائي

10

اسم الطالبة: الصف:
طالبتي مبرمجة المستقبل تذكري ان التفوق في مجال التكنولوجيا يعزز شعور الفخر
السؤال الأول / اختاري الإجابة الصحيحة لكل من العبارات التالية :

5

1	أي من التالي يُعد مثالاً على الوسائط المتعددة؟
	نص فقط
	صوت وصورة وفيديو
	ج- رقم هاتف
2	ما البرنامج الذي يستخدم لإنشاء القصص المصورة والعروض التفاعلية؟
	ورد
	سكراتش
	ج- الآلة الحاسبة
3	الصوت يُعتبر من أنواع:
	الملفات النصية
	الوسائط المتعددة
	ج- البرامج التعليمية
4	الصيغة المستخدمة غالباً لحفظ الصور هي:
	MP3
	JPG
	DOCX
5	الوسائط المتعددة تُستخدم في:
	أ_ الألعاب والعروض التعليمية
	ب_ الحسابات الرياضية فقط
	ج- كتابة النصوص فقط

السؤال الثاني- أ / ضع علامة (√) أو (X) أمام العبارات التالية:

5

1	لا يمكن إضافة صوت إلى العروض التقديمية
2	تعد الفيديوهات من عناصر الوسائط المتعددة
3	ملف MP3 هو ملف صوت
4	لا يمكن استخدام الوسائط المتعددة في التعليم
5	لا يمكن ادراج صور من الانترنت

أنتم الأمل بمستقبل أفضل، مُباركة جهودكم، وبالنجاح للجميع.
انتهت الأسئلة

معلمة المادة : أثير التويجري

نموذج الاجابة

اختبار المهارات الرقمية الفترة الثانية للفصل الدراسي الأول لعام ١٤٤٧ هـ
للفيف الخامس الابتدائي

10

اسم الطالبة: الصف:
طالبتي مبرمجة المستقبل تذكري ان التفوق في مجال التكنولوجيا يعزز شعور الفخر

5

السؤال الأول / اختاري الإجابة الصحيحة لكل من العبارات التالية :

1	أي من التالي يُعد مثالاً على الوسائط المتعددة؟	
نص فقط	صوت وصورة وفيديو	ج- رقم هاتف
2	ما البرنامج الذي يستخدم لإنشاء القصص المصورة والعروض التفاعلية؟	
وورد	سكراتش	ج- الآلة الحاسبة
3	الصوت يُعتبر من أنواع:	
الملفات النصية	الوسائط المتعددة	ج- البرامج التعليمية
4	الصيغة المستخدمة غالباً لحفظ الصور هي:	
MP3	JPG	DOCX
5	الوسائط المتعددة تُستخدم في:	
أ_ الألعاب والعروض التعليمية	ب_ الحسابات الرياضية فقط	ج- كتابة النصوص فقط

السؤال الثاني- أ / ضع علامة (√) أو (X) أمام العبارات التالية:

5

1	لا يمكن إضافة صوت إلى العروض التقديمية	X
2	تعد الفيديوهات من عناصر الوسائط المتعددة	√
3	ملف MP3 هو ملف صوت	√
4	لا يمكن استخدام الوسائط المتعددة في التعليم	X
5	لا يمكن ادراج صور من الانترنت	X

أنتم الأمل بمستقبل أفضل، مُباركة جهودكم، وبالنجاح للجميع.
انتهت الأسئلة

معلمة المادة : أثير التويجري

الاسم : _____ الصف : _____

اختبار الفترة الثانية الفصل الدراسي الأول - مادة المهارات الرقمية - الصف الخامس الابتدائي

20

اختاري الإجابة الصحيحة :

1	أي من التالي يُعد مثالاً على الوسائط المتعددة ؟
أ-	نص فقط
ب-	صوت وصورة وفيديو
ج-	رقم هاتف
2	ما البرنامج الذي يستخدم لإنشاء القصص المصورة والعروض التفاعلية ؟
أ-	وورد
ب-	سكراتش
ج-	الآلة الحاسبة
3	الصوت يُعتبر من أنواع:
أ-	الوسائط المتعددة
ب-	الملفات النصية
ج-	البرامج التعليمية
4	الصيغة المستخدمة غالبًا لحفظ الصور هي:
أ-	MP3
ب-	JPG
ج-	DOCX
5	تستخدم خاصية السحب والإفلات في سكراتش لـ:
أ-	كتابة رسالة
ب-	تحريك المقاطع البرمجية
ج-	تغيير اللغة
6	أيقونة العلم الأخضر في سكراتش تُستخدم لـ:
أ-	بدء تشغيل المشروع
ب-	حذف الكائن
ج-	تغيير الخلفية
7	من أمثلة ملفات الفيديو:
أ-	PNG
ب-	MP4
ج-	PDF
8	الكائن في سكراتش هو:
أ-	الخلفية فقط
ب-	العنصر الذي يتحرك ويتفاعل
ج-	العنوان الرئيسي
9	أوامر الحركة في سكراتش تُستخدم لـ:
أ-	تغيير الصوت
ب-	تغيير الألوان
ج-	تحريك الكائن
10	الوسائط المتعددة تُستخدم في:
أ-	الألعاب والعروض التعليمية
ب-	الحسابات الرياضية فقط
ج-	كتابة النصوص فقط

ضعي علامة صح أمام العبارة الصحيحة وعبارة خطأ أمام العبارة الخاطئة:

1. تعد الصور جزءًا من الوسائط المتعددة ()
2. لا يمكن إضافة صوت إلى العروض التقديمية ()
3. في سكراتش يمكن للكائن تنفيذ عدة أوامر برمجية ()
4. تعد الفيديوهات من عناصر الوسائط المتعددة ()
5. الواجهة في سكراتش تحتوي على المقاطع البرمجية والكائنات والخلفيات ()
6. زر العلم الأخضر يستخدم لإيقاف المشروع ()
7. يمكن تغيير خلفية المسرح في سكراتش بسهولة ()
8. ملف MP3 هو ملف صوت ()
9. يمكن للكائن في سكراتش أن يتحدث باستخدام فقاعات الكلام ()
10. لا يمكن استخدام الوسائط المتعددة في التعليم ()

انتهت الأسئلة

أرجو لكم دوام التوفيق والنجاح



نموذج الاجابة

احبارى الإجابة الصحيحة :

٢٠

١	أي من التالي يُعد مثالاً على الوسائط المتعددة ؟
أ-	نص فقط
ب-	صوت وصورة وفيديو
ج-	رقم هاتف
٢	ما البرنامج الذي يستخدم لإنشاء القصص المصورة والعروض التفاعلية ؟
أ-	وورد
ب-	سكراتش
ج-	الآلة الحاسبة
٣	الصوت يُعتبر من أنواع:
أ-	الوسائط المتعددة
ب-	الملفات النصية
ج-	البرامج التعليمية
٤	الصيغة المستخدمة غالبًا لحفظ الصور هي:
أ-	MP3
ب-	JPG
ج-	DOCX
٥	تستخدم خاصية السحب والإفلات في سكراتش لـ:
أ-	كتابة رسالة
ب-	تحريك المقاطع البرمجية
ج-	تغيير اللغة
٦	أيقونة العلم الأخضر في سكراتش تُستخدم لـ:
أ-	بدء تشغيل المشروع
ب-	حذف الكائن
ج-	تغيير الخلفية
٧	من أمثلة ملفات الفيديو:
أ-	PNG
ب-	MP4
ج-	PDF
٨	الكائن في سكراتش هو:
أ-	الخلفية فقط
ب-	العنصر الذي يتحرك ويتفاعل
ج-	العنوان الرئيسي
٩	أوامر الحركة في سكراتش تُستخدم لـ:
أ-	تغيير الصوت
ب-	تغيير الألوان
ج-	تحريك الكائن
١٠	الوسائط المتعددة تُستخدم في:
أ-	الألعاب والعروض التعليمية
ب-	الحسابات الرياضية فقط
ج-	كتابة النصوص فقط

ضعي علامة صح أمام العبارة الصحيحة وعبارة خطأ أمام العبارة الخاطئة:

١. تعد الصور جزءًا من الوسائط المتعددة (✓)
٢. لا يمكن إضافة صوت إلى العروض التقديمية (✗)
٣. في سكراتش يمكن للكائن تنفيذ عدة أوامر برمجية (✓)
٤. تعد الفيديوهات من عناصر الوسائط المتعددة (✓)
٥. الواجهة في سكراتش تحتوي على المقاطع البرمجية والكائنات والخلفيات (✓)
٦. زر العلم الأخضر يستخدم لإيقاف المشروع (✗)
٧. يمكن تغيير خلفية المسرح في سكراتش بسهولة (✓)
٨. ملف MP3 هو ملف صوت (✓)
٩. يمكن للكائن في سكراتش أن يتحدث باستخدام فقاعات الكلام (✓)
١٠. لا يمكن استخدام الوسائط المتعددة في التعليم (✗)

انتهت الأسئلة

أرجو لكم دوام التوفيق والنجاح

السؤال الأول: اختر الإجابة الصحيحة:

1	أي من التالي يُعد مثالاً على الوسائط المتعددة؟
أ-	نص فقط
ب-	صوت وصورة وفيديو
ج-	رقم هاتف
2	ما البرنامج الذي يستخدم لإنشاء القصص المصورة والعروض التفاعلية؟
أ-	وورد
ب-	سكراتش
ج-	الألة الحاسبة
3	الصوت يُعتبر من أنواع:
أ-	الوسائط المتعددة
ب-	الملفات النصية
ج-	البرامج التعليمية
4	الصيغة المستخدمة غالبًا لحفظ الصور هي:
أ-	MP3
ب-	JPG
ج-	DOCX
5	تستخدم خاصية السحب والإفلات في سكراتش لـ:
أ-	كتابة رسالة
ب-	تحريك المقاطع البرمجية
ج-	تغيير اللغة
6	أيقونة العلم الأخضر في سكراتش تُستخدم لـ:
أ-	بدء تشغيل المشروع
ب-	حذف الكائن
ج-	تغيير الخلفية
7	من أمثلة ملفات الفيديو:
أ-	PNG
ب-	MP4
ج-	PDF
8	الكائن في سكراتش هو:
أ-	الخلفية فقط
ب-	العنصر الذي يتحرك ويتفاعل
ج-	العنوان الرئيسي
9	أوامر الحركة في سكراتش تُستخدم لـ:
أ-	تغيير الصوت
ب-	تغيير الألوان
ج-	تحريك الكائن
10	الوسائط المتعددة تُستخدم في:
أ-	الألعاب والعروض التعليمية
ب-	الحسابات الرياضية فقط
ج-	كتابة النصوص فقط

السؤال الأول: ضع علامة صح أمام العبارة الصحيحة وعبارة خطأ أمام العبارة الخاطئة:

1	تعد الصور جزءًا من الوسائط المتعددة.	()
2	في سكراتش يمكن للكائن تنفيذ عدة أوامر برمجية	()
3	تعد الفيديوهات من عناصر الوسائط المتعددة.	()
4	لا يمكن إضافة صوت إلى العروض التقديمية.	()
5	زر العلم الأخضر يستخدم لإيقاف المشروع .	()
6	الواجهة في سكراتش تحتوي على المقاطع البرمجية والكائنات والخلفيات.	()
7	ملف MP3 هو ملف صوتي.	()
8	لا يمكن استخدام الوسائط المتعددة في التعليم	()
9	يمكننا تغيير خلفية المسرح في سكراتش بسهولة	()
10	يمكن للكائن في سكراتش أن يتحدث باستخدام فقاعات الكلام	()

السؤال الأول: اختر الإجابة الصحيحة:

1	أي من التالي يُعد مثالاً على الوسائط المتعددة ؟	
أ-	نص فقط	ب- صوت وصورة وفيديو
ج-	رقم هاتف	
2	ما البرنامج الذي يستخدم لإنشاء القصص المصورة والعروض التفاعلية ؟	
أ-	وورد	ب- سكراتش
ج-	الألة الحاسبة	
3	الصوت يُعتبر من أنواع:	
ث-	الوسائط المتعددة	أ- الملفات النصية
ج-	البرامج التعليمية	
4	الصيغة المستخدمة غالباً لحفظ الصور هي:	
أ-	MP3	ج- JPG
DOCX		
5	تستخدم خاصية السحب والإفلات في سكراتش لـ:	
أ-	كتابة رسالة	ج- تحريك المقاطع البرمجية
ج-	تغيير اللغة	
6	أيقونة العلم الأخضر في سكراتش تُستخدم لـ:	
خ-	بدء تشغيل المشروع	أ- حذف الكائن
ج-	تغيير الخلفية	
7	من أمثلة ملفات الفيديو:	
أ-	PNG	ب- MP4
ج-	PDF	
8	الكائن في سكراتش هو:	
أ-	الخلفية فقط	ب- العنصر الذي يتحرك ويتفاعل
ج-	العنوان الرئيسي	
9	أوامر الحركة في سكراتش تُستخدم لـ:	
أ-	تغيير الصوت	ب- تغيير الألوان
ج-	تحريك الكائن	
10	الوسائط المتعددة تُستخدم في:	
أ-	الألعاب والعروض التعليمية	ب- الحسابات الرياضية فقط
ج-	كتابة النصوص فقط	

(✓)	تعد الصور جزءًا من الوسائط المتعددة.	1
(✓)	في سكراتش يمكن للكائن تنفيذ عدة أوامر برمجية	2
(✓)	تعد الفيديوهات من عناصر الوسائط المتعددة.	3
(×)	لا يمكن إضافة صوت إلى العروض التقديمية.	4
(×)	زر العلم الأخضر يستخدم لإيقاف المشروع .	5
(✓)	الواجهة في سكراتش تحتوي على المقاطع البرمجية والكائنات والخلفيات.	6
(✓)	ملف MP3 هو ملف صوتي.	7
(×)	لا يمكن استخدام الوسائط المتعددة في التعليم	8
(✓)	يمكننا تغيير خلفية المسرح في سكراتش بسهولة	9
(✓)	يمكن للكائن في سكراتش أن يتحدث باستخدام فقاعات الكلام	10

اختبار الوحدة الثالثة " الوسائط المتعددة "

الاسم :

أي من الأجهزة التالية يستخدم بشكل أساسي لتسجيل المقاطع الصوتية؟				1
الماسح الضوئي	الكاميرا الرقمية	الميكروفون	الطابعة	
إذا كان لديك ملف أغنية، فما هو الامتداد الأكثر احتمالاً له؟				2
.docx	.jpg	mp3	.pdf	
أي من وحدات قياس حجم الملفات التالية هي الأكبر؟				3
(KB) كيلوبايت	(MB) ميغابايت	(GB) جيجابايت	(Byte) بايت	
لحفظ عملك في برنامج أوداسيتي كملف صوتي يمكن تشغيله على الهاتف، أي أمر يجب أن تختار؟				4
(Save Project) حفظ المشروع	استيراد صوت (Import Audio)	MP3 تصدير كملف (Export as MP3)	(Open) فتح	
؟(USB) ماذا يعني الرمز				5
منفذ لتوصيل الشاشة	منفذ لتوصيل الإنترنت	منفذ شائع لتوصيل معظم الأجهزة الطرفية بالحاسب	نوع من أنواع الملفات	
ما هي الأداة التي تستخدمها في محرر الفيديو لإضافة تأثير حركة الكاميرا (مثل التكبير (على صورة ثابتة؟				6
النص	التأثيرات ثلاثية الأبعاد	الحركة	عوامل التصفية	
عند البحث عن صور في جوجل، أي خيار في قائمة "الأدوات" يساعدك في العثور على الصور المسموح باستخدامها قانونياً؟				7
الحجم	اللون	حقوق الاستخدام	النوع	
ماذا تسمى المساحة في أسفل محرر الفيديو التي يتم فيها سحب وإفلات الصور لترتيبها؟				8
مكتبة المشروع	شاشة العرض	(Storyboard) لوحة العمل	شريط القوائم	
إذا أردت إضافة موسيقى خلفية لمقطع الفيديو الخاص بك، أي خيار من القائمة العلوية ستختار؟				9
صوت مخصص	بطاقة عنوان	حركة	تأثيرات ثلاثية الأبعاد	
أي من الخيارات التالية يعد انتهاكاً لقوانين حقوق الملكية؟				10
نسخ صورة من موقع إخباري واستخدامها في مشروع تجاري دون إذن.	تحميل صورة ذات رخصة مشاع إبداعي واستخدامها حسب الشروط.	استخدام صورة قمت بتصويرها بنفسك.	رسم عمل فني بنفسك.	

السؤال الثاني :

حدد كلمة صح أو خطأ لكل فقرة من الفقرات الآتية:

1	<input type="radio"/> صح	<input type="radio"/> خطأ	في برنامج أوداسيتي، يمكنك دمج مقطعين صوتيين ليعملا في نفس الوقت
2	<input type="radio"/> صح	<input type="radio"/> خطأ	تطبيق "صور مايكروسوفت" يتيح دمج الصور والصوت والنص لإنشاء مقطع فيديو.
3	<input type="radio"/> صح	<input type="radio"/> خطأ	عندما تقوم بتأليف قصيدة أو رسم لوحة، فإنك تملك حقوق نشرها تلقائياً
4	<input type="radio"/> صح	<input type="radio"/> خطأ	يستخدم الماسح الضوئي لإدخال المستندات الورقية والصور إلى جهاز الحاسب
5	<input type="radio"/> صح	<input type="radio"/> خطأ	(KB) أصغر من وحدة الكيلوبايت (MB) وحدة الميجابايت
6	<input type="radio"/> صح	<input type="radio"/> خطأ	يدل على أنه ملف فيديو pptx. امتداد الملف
7	<input type="radio"/> صح	<input type="radio"/> خطأ	عندما تحفظ عملك كـ "مشروع أوداسيتي"، يمكنك إرساله لصديقك ليستمع إليه مباشرة في مشغل الموسيقى
8	<input type="radio"/> صح	<input type="radio"/> خطأ	يمكن استخدام أي صورة موجودة على الإنترنت بحرية تامة في أي مشروع دون الحاجة إلى إذن
9	<input type="radio"/> صح	<input type="radio"/> خطأ	تعني أن العمل بلا حقوق ويمكن (Creative Commons) رخصة المشاع الإبداعي استخدامه بأي شكل
10	<input type="radio"/> صح	<input type="radio"/> خطأ	لإضافة تأثيرات بصرية متحركة مثل انفجار الألعاب النارية على صورة، نستخدم (Motion) "أداة" الحركة

انتهت الأسئلة ,,,

اختبار الوحدة الثالثة " الوسائط المتعددة "

الاسم :

نموذج الإجابة

أي من الأجهزة التالية يستخدم بشكل أساسي لتسجيل المقاطع الصوتية؟				1
الماسح الضوئي	الكاميرا الرقمية	الميكروفون	الطابعة	
إذا كان لديك ملف أغنية، فما هو الامتداد الأكثر احتمالاً له؟				2
.docx	.jpg	mp3	.pdf	
أي من وحدات قياس حجم الملفات التالية هي الأكبر؟				3
(KB) كيلوبايت	(MB) ميغابايت	(GB) جيجابايت	(Byte) بايت	
لحفظ عملك في برنامج أوداسيتي كملف صوتي يمكن تشغيله على الهاتف، أي أمر يجب أن تختار؟				4
(Save Project) حفظ المشروع	استيراد صوت (Import Audio)	MP3 تصدير كملف (Export as MP3)	(Open) فتح	
؟(USB) ماذا يعني الرمز				5
منفذ لتوصيل الشاشة	منفذ لتوصيل الإنترنت	منفذ شائع لتوصيل معظم الأجهزة الطرفية بالحاسب	نوع من أنواع الملفات	
ما هي الأداة التي تستخدمها في محرر الفيديو لإضافة تأثير حركة الكاميرا (مثل التكبير (على صورة ثابتة؟				6
النص	التأثيرات ثلاثية الأبعاد	الحركة	عوامل التصفية	
عند البحث عن صور في جوجل، أي خيار في قائمة "الأدوات" يساعدك في العثور على الصور المسموح باستخدامها قانونياً؟				7
الحجم	اللون	حقوق الاستخدام	النوع	
ماذا تسمى المساحة في أسفل محرر الفيديو التي يتم فيها سحب وإفلات الصور لترتيبها؟				8
مكتبة المشروع	شاشة العرض	(Storyboard) لوحة العمل	شريط القوائم	
إذا أردت إضافة موسيقى خلفية لمقطع الفيديو الخاص بك، أي خيار من القائمة العلوية ستختار؟				9
صوت مخصص	بطاقة عنوان	حركة	تأثيرات ثلاثية الأبعاد	
أي من الخيارات التالية يعد انتهاكاً لقوانين حقوق الملكية؟				10
نسخ صورة من موقع إخباري واستخدامها في مشروع تجاري دون إذن	تحميل صورة ذات رخصة مشاع إبداعي واستخدامها حسب الشروط.	استخدام صورة قمت بتصويرها بنفسك.	رسم عمل فني بنفسك.	

السؤال الثاني :

حدد كلمة صح أو خطأ لكل فقرة من الفقرات الآتية:

خطأ <input type="radio"/>	صح <input checked="" type="radio"/>	1. في برنامج أوداسيتي، يمكنك دمج مقطعين صوتيين ليعملا في نفس الوقت	1
خطأ <input type="radio"/>	صح <input checked="" type="radio"/>	2. تطبيق "صور مايكروسوفت" يتيح دمج الصور والصوت والنص لإنشاء مقطع فيديو.	2
خطأ <input type="radio"/>	صح <input checked="" type="radio"/>	3. عندما تقوم بتأليف قصيدة أو رسم لوحة، فإنك تملك حقوق نشرها تلقائياً	3
خطأ <input type="radio"/>	صح <input checked="" type="radio"/>	4. يستخدم الماسح الضوئي لإدخال المستندات الورقية والصور إلى جهاز الحاسب	4
خطأ <input checked="" type="radio"/>	صح <input type="radio"/>	5. (KB) أصغر من وحدة الكيلوبايت (MB) وحدة الميجابايت	5
خطأ <input checked="" type="radio"/>	صح <input type="radio"/>	6. يدل على أنه ملف فيديو pptx. امتداد الملف	6
خطأ <input checked="" type="radio"/>	صح <input type="radio"/>	7. عندما تحفظ عملك كـ "مشروع أوداسيتي"، يمكنك إرساله لصديقك ليستمع إليه مباشرة في مشغل الموسيقى	7
خطأ <input checked="" type="radio"/>	صح <input type="radio"/>	8. يمكن استخدام أي صورة موجودة على الإنترنت بحرية تامة في أي مشروع دون الحاجة إلى إذن	8
خطأ <input checked="" type="radio"/>	صح <input type="radio"/>	9. تعني أن العمل بلا حقوق ويمكن (Creative Commons) رخصة المشاع الإبداعي استخدامه بأي شكل	9
خطأ <input checked="" type="radio"/>	صح <input type="radio"/>	10. لإضافة تأثيرات بصرية متحركة مثل انفجار الألعاب النارية على صورة، نستخدم (Motion) "أداة" الحركة	10

انتهت الأسئلة ،،،،

نموذج الإجابة

مراجعة الوحدة الثالثة (الوسائط المتعددة)

اكتبى كلمة (صح) أمام العبارة الصحيحة وكلمة (خطأ) أمام العبارة الخاطئة

صح	١	في برنامج أوداسيتي، يمكنك دمج مقطعين صوتيين ليعملا في نفس الوقت
صح	٢	تطبيق "صور مايكروسوفت" يتيح دمج الصور والصوت والنص لإنشاء مقطع فيديو
صح	٣	عندما تقوم بتأليف قصيدة أو رسم لوحة، فإنك تملك حقوق نشرها تلقائيًا
صح	٤	يستخدم الماسح الضوئي لإدخال المستندات الورقية والصور إلى جهاز الحاسب
خطأ	٥	وحدة الكيلوبايت أكبر من وحدة الميجابايت
خطأ	٦	Mp4 هو امتداد لملف صورة .
خطأ	٧	يمكن استخدام أي صورة موجودة على الإنترنت بحرية تامة في أي مشروع دون الحاجة إلى إذن
صح	٨	يمكن معرفة نوع الملف من خلال امتداده.
صح	٩	لتوصيل الأجهزة بالحاسب يمكن استخدام وصلة USB
خطأ	١٠	عند البحث عن مقطع فيديو باستخدام محرك البحث (جوجل) لا يمكنك اختبار مدة الفيديو.

اخترى الإجابة الصحيحة لكل مما يلي

١	أي من الأجهزة التالية يستخدم بشكل أساسي لتسجيل المقاطع الصوتية؟	أ. الطابعة	ب. المايكروفون	ج. الكاميرا الرقمية
٢	ما هو امتداد الملف الصوتي	أ. png.	ب. pdf	ج. mp3
٣	أي من وحدات قياس حجم الملفات التالية هي الأكبر؟	أ. تيرا بايت	ب. كيلو بايت	ج. ميجابايت
٤	جهاز يستخدم لالتقاط الصور ومقاطع الفيديو والأصوات	أ. الهاتف المحمول	ب. الكاميرا الرقمية	ج. الماسح الضوئي
٥	من أشهر منافذ التوصيل منفذ :	أ. NM	ب. USB	ج. PPT
٦	أوداسيتي هو برنامج لتحرير :	أ. الأصوات	ب. الصور	ج. الفيديوهات
٧	يمكنك تعديل الصوت باستخدام قائمة :	أ. التحديد	ب. المساعدة	ج. التأثيرات



اسم الطالب :	الصف : خامس الابتدائي
السؤال الأول : اختر الاجابة الصحيحة :	
1- من أجهزة الالتقاط ويستخدم لتسجيل المقاطع الصوتية (الماسح الضوئي - الكاميرا - المايكرفون)	
2- اصغر وحدات قياس حجم الملفات (بايت - كيلو بايت - ميغا بايت)	
3- اكبر وحدات قياس حجم الملفات (ميغا بايت - جيجا بايت - تيرا بايت)	
4- من الوحدات التي تستخدم لقياس حجم الملفات في ذاكرة الحاسب تسمى (كيلو بايت - كيلو متر - جرام)	
5- يمكن البحث عن ملف فيديو داخل شبكة الانترنت باستخدام (قوغل - البريد الالكتروني - الرسام)	

السؤال الثاني : أجب بعلامة (✓) على الإجابة الصحيحة و علامة (⊗) على الإجابة الخاطئة
1- يمكن نقل الصور من الكاميرا الى جهاز الكمبيوتر بدون استخدام أي برامج
2- تعد حقوق النشر والطبع احد اشكال الحماية
3- تعد المراسلة الفورية طريقة شائعة للتواصل في الانترنت
4- لا يمكن حفظ مقطع الفيديو كملف على جهاز الحاسب
5- في لبنة كرر باستمرار ستنفذ الأمور الموجوده داخلها في تكرار لا نهائي

المادة : مهارات رقمية		المملكة العربية السعودية
الصف: الخامس الابتدائي		وزارة التعليم
الفصل الدراسي الأول 1447هـ		إدارة تعليم بالأحساء
إختبار الفترة الثانية		

١٠

اسم الطالبه :




السؤال الأول: ضعي علامة (√) أمام العبارة الصحيحة وعلامة (X) أمام العبارة الخاطئة:

()	1 يمكن استخدام الماسح الضوئي لطباعة المستندات
()	2 يمكن معرفة نوع الملف من خلال امتداده
()	3 يختلف حجم الصور المستخدمه على المواقع الالكترونية
()	4 يزداد وضوح الصورة كلما كان حجمها اكبر

السؤال الثاني: اختاري الإجابة الصحيحة فيما يلي :

1	أوداسيتي هو برنامج
	تحرير الصوت
	تحرير النصوص
	تحرير مقاطع الفيديو
2	إذا اردت ان تستمع لملف صوتي في مشغل mp3 يجب ان تحفظه بتنسيق
	mp3
	pod
	wav
3	الأداة المستخدمه لتسجيل صوتك على جهاز الحاسب
	الفأرة
	الميكروفون
	سماعات الأذن

السؤال الثالث : صلي الصورة في المجموعة الأولى بما يناسبها من مدلول في المجموعه الثانية

المجموعة الثانية	المجموعة الاولى
mp4	
mp3	
jpg	

مراجعة الوحدة ٣+٤



هو مجموعة من التعليمات المكتوبة بلغه البرمجة ينفذها الحاسب لتحقيق هدف معين	
هي مجموعة من التعليمات المتسلسلة والخاصه بحل مشكله او إكمال مهمه معينه	
هو مخطط بياني يستخدم لتمثيل الخوارزمية ويعرض الخطوات بتركيبيها الصحيح	

ضعي علامة او امام العبارات التالية:

	يفيد ادراج الصور والاشكال في جعل المستند اكثر جاذبية
	لانستطيع الكتابة داخل مجموعة الاشكال وتنسيقها
	يزداد وضوح الصورة كلما كان حجمها اكبر
	المسافة البادئة تعني المسافة بين الاسطر والكلمات
	الرسومات التوضيحية تجعل المستند اكثر تعقيدا ويصعب فهمه
	أجهزة الالتقاط مخصصة لالتقاط الصوت فقط

اختراري الإجابة الصحيحة:

١- يستطيع برنامج صور مايكروسوفت لانشاء وتحرير			
أ	الفيديو	ب	النصوص
	ج	الصوت	
٢- من أجهزة الالتقاط التي تستخدم للصوت			
أ	الكاميرا الرقمية	ب	الماسك
	ج	الماسح الضوئي	
٣- لاصلاح الصور وقصها نستخدم برنامج			
أ	الوورد	ب	مايكروسوفت الصور
	ج	البوربوينت	
٤- امتداد الملفات النصية			
أ	MP3	ب	MP4
	ج	JPG	
٥- لحذف الكلمات والجمل في الوورد نستخدم زر			
أ	Enter	ب	Tab
	ج	Delete - BackSpace	

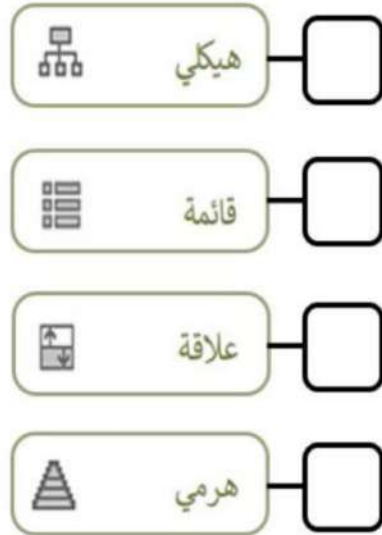
رتبي وحدات قياس حجم الملفات من الأصغر للاكبر



صلي العمود الأول بما يناسبه في العمود الثاني

		تميز نهاية العمليات
		اتخاذ قرار
		إدخال بيانات
		تنفيذ الحسابات

وصلي بالأرقام كل مخطط بما يناسبة:



- ١- يعرض خطوات غير متسلسلة.
- ٢- يستعمل لإنشاء مخطط منظر /هيكل تنظيمي.
- ٣- يعرض علاقة متناسقة مع الترتيب من الأعلى أو الأسفل.
- ٤- للمقارنة أو لعرض العلاقة بين فكرتين.

عددي خطوات انشاء برنامج :

- (١)
(٢)
(٣)
(٤)

السؤال الأول : اختاري الإجابة الصحيحة مما يلي:






١	من أنواع أجهزة الحاسب	(أ) لوحة المفاتيح	(ب) الفأرة	(ج) مسجل الصوت	(د) الهواتف الذكية
٢	من أدوات الحاسب التفاعلية	(أ) الحاسب المحمول	(ب) اللوح الأم	(ج) شاشة اللمس	(د) قرص الصلب
٣	تعد وحدة المعالجة المركزية من	(أ) مكونات سطح المكتب	(ب) أجزاء الحاسب الرئيسية	(ج) إعدادات الشاشة	(د) الأجهزة الملحقة للحاسب
٤	يتصلبجميع أجزاء الحاسب.	(أ) المعالج	(ب) القرص الصلب	(ج) اللوح الأم	(د) مزود الطاقة
٥	من الأجهزة التي تساعد المستخدم على إدخال البيانات....	(أ) وحدة الذاكرة الفلاشية	(ب) لوحة المفاتيح	(ج) بطاقة الذاكرة	(د) مزود الطاقة
٦	من أجهزة التخزين الخارجية	(أ) وحدة الذاكرة الفلاشية	(ب) ذاكرة الوصول العشوائي	(ج) الميكرفون	(د) الهواتف الذكية
٧	لإنشاء اختصار أضغط على الملف بزر الفأرة الأيمن ثم أختار	(أ) قص	(ب) إرسال إلى	(ج) لصق	(د) إنشاء اختصار
٨	بإمكاننا تصغير حجم الملفات والمجلدات من خلال عملية تسمى الملفات .	(أ) اختصار	(ب) حذف	(ج) ضغط	(د) نسخ
٩	عند حذف مجلد أو ملف عن طريق الخطأ فإنه يتم نقله إلى	(أ) التنزيلات	(ب) المستندات	(ج) سلة المحذوفات	(د) البريد
١٠	لنقل مجلد من مكان إلى آخر ننقر على المجلد .	(أ) قص	(ب) حذف	(ج) نسخ	(د) لصق
١١	يشير الرمز الموجود في الصورة إلى الصورة 	(أ) مجلد	(ب) ملف مختصر	(ج) ملف مضغوط	(د) فيديو
١٢	يشير الرمز الموجود في الصورة إلى الصورة 	(أ) برنامج	(ب) مجلد	(ج) إدراج صورة	(د) التوقيع الإلكتروني

السؤال الثاني : ضعي علامة (√) أمام العبارة الصحيحة (x) أمام العبارة الخاطئة:

- () ١- طابعة الليزر أرخص من الطابعات النافثة للحبر.
- () ٢- من أنواع أجهزة الحاسب الحاسوب المحمول .
- () ٣- عند صعوبة العثور على ملف أو برنامج في جهاز الحاسب يمكن إنشاء اختصار له على سطح المكتب.
- () ٤- لا يمكن حذف اختصار ملف بعد إنشائه .
- () ٥- المجلد: هو مساحة تخزينية على القرص الصلب في الحاسب.
- () ٦- يمكننا إضافة البرامج والملفات إلى شريط المهام من خلال سحب وإفلات الأيقونات على شريط المهام.
- () ٧- لا يمكننا حذف الاختصار للملف بعد إنشائه .
- () ٨- تتفاوت درجة ضغط الملفات حسب نوع الملف ومحتواه.
- () ٩- تعتبر الشاشة من المكونات الأساسية لجهاز الحاسب.
- () ١٠- تعتبر الأقراص المضغوطة من أجهزة التخزين الخارجية.
- () ١١- يوجد مزود الطاقة في وحدة النظام.
- () ١٢- عجلة القيادة تُعتبر شكل خاص من لوحة الألعاب.
- () ١٣- لا يمكن العثور على لوحات اللمس في أجهزة الحاسب المحمولة.
- () ١٤- عصا التحكم تُعتبر وحدة شائعة في الألعاب .
- () ١٥- تسمى لوحة الألعاب أيضاً جوي باد .

السؤال الثالث : اكتبى المصطلح المناسب بجانب كل صورة مما يلي :

جهاز إخراج ، جهاز إدخال ، أداة تفاعلية ، جهاز تخزين

<hr/>	
<hr/>	
<hr/>	
<hr/>	
<hr/>	

السؤال الرابع : تتوفر أنواع مختلفة من أجهزة الحاسوب ، اذكرى ثلاثة منها :

السؤال الخامس : رتبى خطوات إنشاء اختصار الملف أو البرنامج :



1

ابحث عن الملف أو البرنامج
الذي تريد إنشاء اختصار له



2

اضغط بزر الفأرة الأيمن
و من القائمة إنشاء اختصار



3

يتم إنشاء اختصار في نفس الموقع
، يمكن نقل الموقع باستخدام السحب و
الافلات

دعواتنا لكن بالنجاح والتوفيق

معلمات الماد: حنين المطيري



موقع
مادنتيري

الفصل الدراسي الأول ١٤٤٧ هـ

السؤال الأول / اختاري الإجابة الصحيحة مما يلي:

يساعدك التفاف النص على				١
(أ) التحكم بكيفية ظهور النص حول الصورة	(ب) تحديد الموضع الصحيح للصورة	(ج) وضع الصورة خلف النص	(د) إضافة حدود على الصورة	
توجد أداة الصور في				٢
(أ) الشريط الرئيسي	(ب) إدراج	(ج) تنسيق	(د) معاينة	
من مجموعة أنماط الصور نستطيع				٣
(أ) إضافة حدود على الصورة	(ب) التحكم بكيفية ظهور النص حول الصورة	(ج) تحديد الموضع الصحيح للصورة	(د) نضع الصورة أمام النص	
يشير الرمز الموجود في الصورة إلى... 				٤
(أ) المحاذة للوسط	(ب) المسافة بين الأسطر	(ج) المحاذة لليمين	(د) المحاذة لليساار	
إضافة الأشكال والرسوم التوضيحية (Smart Art) داخل المستند تمكنا من....				٥
(أ) عرض المعلومات بشكل أوضح	(ب) إتمام العمليات الحسابية	(ج) سهولة الوصول للإنترنت	(د) مشاهدة الفيديوهات	
هناك طريقة أكثر سهولة لمراجعة الأخطاء الإملائية في الكتابة من خلال				٦
(أ) تجاهل الكلمة	(ب) الضغط بالزر الأيمن على الكلمة الخطأ	(ج) حذف الكلمة	(د) الضغط بالزر الأيسر على الكلمة الخطأ	
يتم تسطير بعض الكلمات بخط أحمر تحت النص لـ				٧
(أ) التدقيق الإملائي	(ب) التدقيق النحوي	(ج) طباعة ملف	(د) البحث في قاموس المفردات	
السبب في ظهور خط أزرق تحت الكلمات				٨
(أ) وجود قاموس المرادفات	(ب) التدقيق الإملائي	(ج) الرسم التوضيحي	(د) التدقيق النحوي	
نبحث عن مرادفات للكلمة باختيار....				٩
(أ) الطباعة	(ب) التدقيق النحوي	(ج) قاموس المرادفات	(د) التدقيق الإملائي	

السؤال الثاني / ضعي ✓ أو ✗ أمام العبارات التالية:

- ١- المقال الذي يقتصر على النصوص فقط قد يصيب القارئ بالملل. ()
- ٢- الصور عبر الانترنت لا تكون محمية بحقوق الطبع والنشر. ()
- ٣- يمكننا التعديل على الصور من تبويب تنسيق الصورة . ()
- ٤- تحدد المسافة البادئة مسافة الفقرة من الهامش الأيمن أو الأيسر. ()
- ٥- يمكن إنشاء حدود وتظليل من تبويب الفقرة. ()
- ٦- توجد جميع أدوات تنسيق الخطوط في فقرة ملف. ()
- ٧- تباعد الأحرف هو المسافة بين أحرف الكلمة . ()
- ٨- يمكننا تنسيق الرسم التوضيحي (Smart Art) بتغيير اللون أو الشكل. ()
- ٩- يمكننا إضافة الكلمات التي نثق في صحتها إلى قاموس البرنامج. ()
- ١٠- هناك طريقة واحدة للعثور على مرادفات للكلمة . ()
- ١١- يتم تشغيل قاموس المرادفات من علامة التبويب الرسوم التوضيحية . ()
- ١٢- للتحقق من أخطائك يتم اختيار مراجعة من علامة التبويب . ()
- ١٣- لإتمام عملية الطباعة نختار من علامة التبويب ملف ثم جديد . ()

السؤال الثالث / صلي كل عبارة بالرمز المناسب في الصورة التي أمامك :



السؤال الرابع : صلي كل مصطلح باستخداماته :

يستخدم لعرض العلاقة النسبية أو المتداخلة أو الهرمية .



قائمة (List)

1

تستخدم للمقارنة أو لعرض العلاقة بين فكرتين



معالجة (Process)

2

تُستخدم لإظهار الخطوات أو العناصر المتسلسلة أو غير المتسلسلة.



هرمي (Pyramid)

3

يستخدم لعرض خطوات عملية أو جدولاً زمنياً لسير عمل معين.



علاقة (Relationship)

4

موقع مادتيرو

دعواتنا لکن بالنجاح والتوفيق

معلمات الماد: حنين المطيري



الفصل الدراسي الأول ١٤٤٧ هـ








السؤال الأول / في الفقرات من (١) إلى (١٠) ضع أو أمام العبارات التالية:

- ١- الماسح الضوئي يُستخدم لالتقاط الصور ومقاطع الفيديو مع إمكانية تخزينها بشكل رقمي على جهاز الحاسب. ()
- ٢- لأجهزة الالتقاط منافذ خاصة في جهاز الحاسب تتيح لك نقل البيانات بين أجهزة الإدخال والإخراج، وجهاز الحاسب. ()
- ٣- يكفي أن يتصل جهاز الالتقاط بالحاسب لنقل البيانات إليه. ()
- ٤- لا يمكنك تحديد الجزء الذي تختارينه من المقطع الصوتي وتشغيله بشكل مستقل عن بقية الأجزاء. ()
- ٥- يمكننا دمج أصوات أخرى في نفس الملف الصوتي. ()
- ٦- الكيلو بايت أصغر من التيرابايت. ()
- ٧- تعد حقوق الطبع والنشر أحد أشكال الحماية.. ()
- ٨- توفر شبكة الإنترنت العديد من الصور بأحجام مختلفة، وكلما كانت الصورة أكبر حجماً، كلما كانت أوضح.. ()
- ٩- لا يمكنك إضافة تأثيرات ثلاثية الأبعاد إلى مقاطع الفيديو مثل الانتقالات. ()
- ١٠- جميع الصور الموجودة على الإنترنت متاحة للاستخدام مجاناً. ()

السؤال الثاني / املئ الفراغات التالية بما يناسبها:

- ١- الوحدات التي تستخدم لقياس حجم الملفات في ذاكرة جهاز الحاسب هي ----- حيث يشغل كل ملف مساحة تخزينية محددة حسب نوع الملف. َ
- ٢- من أنواع وحدات قياس حجم الملفات:-
أ- ----- ب- ----- ج- -----
- ٣- (برنامج تسجيل، ومحرر مقاطع صوتية رقمي مجاني مفتوح المصدر) يُسمى -----.
- ٤- يمكننا استخدام ----- لمسح وتحرير الصور والرسومات.

السؤال الثالث : صلي كل كلمة بالشكل المناسب :

	شغل (Play)
	إيقاف مؤقت (Pause)
	توقف (Stop)
	سجل (Record)
	تراجع (Undo)
	كرر (Redo)
	مقياس التشغيل (Playback meter)

السؤال الرابع : ابحثي عن الامتداد الذي لا يتطابق مع نوع الملف وضعي دائره حوله :

.doc, .docx, .xlsx	ملف نصي (مع أو بدون صور)
.wmv, .wma, .mp3	ملف صوتي
.mpg, .mp4, .mkv, .txt	ملف فيديو
.zip, .rar, .gz, .svg	ملف مضغوط
.jpg, .jpeg, .png, .ppt	ملف صورة (صورة أو رسم)

السؤال الخامس : اختاري الإجابة الصحيحة:

يمكنك إثراء الشريحة بإضافة

جودة
الصوت

جودة
الفيديو

أن تتفق
مع أهداف
موضوع العرض

مقطع
صوتي أو
مقطع فيديو

المعدات المستخدمة
في تسجيل الصوت
والبرامج لتحرير
الصوت والفيديو

الوسائط التي يمكن إضافتها للعرض التقديمي

و
طيارة

ه
سيارة









د
نصوص

ج
ملف
صوري

ب
ملف
فيديو

ا
ملف
صوتي






السؤال الأول / اختاري الإجابة الصحيحة مما يلي:

مجموعة من تعليمات مفصلة خطوة بخطوة لحل مشكلة أو إكمال مهمة هو معنى :				١
(أ) الكتابة التلقائية	(ب) الخوارزمية	(ج) إدراج صورة	(د) التدقيق الإملائي	
إذا أردنا ان نجعل الكائن في سكراتش يتحرك ٥ خطوات ١٠ مرات نستخدم لبنة :				
(أ) 	(ب) 	(ج) 	(د) 	٢
يسمى التكرار المستخدم لعدد محدد من المرات بـ :				٣
(أ) التكرار الثابت	(ب) التكرار المتغير	(ج) القلم	(د) الاستشعار	
لبنة ارفع القلم تمكننا من جعل الكائن : 				٤
(أ) يرسم بشكل مستمر	(ب) يتوقف عن الرسم	(ج) يطبع الشكل	(د) ينتظر قليلاً	
نستطيع من خلال  الصورة :				٥
(أ) تغيير حجم الخط	(ب) تغيير لون الخط	(ج) إنشاء نسخة مشابهة للكائن	(د) تباعد الأسطر	
نستطيع من خلال الرمز الموجود بالصورة  : : 				٦
(أ) تغيير الكائن	(ب) ترك أثر عند الحركة	(ج) مباعدة الأسطر	(د) تغيير الخلفية	

السؤال الثاني : في الفقرات من (١) إلى (١٧) ضع علامة (√) أمام العبارة الصحيحة (X) أمام العبارة الخاطئة:

١. يمكننا إضافة مقطع صوت في برمجة سكراتش. ()
٢. الخوارزمية هي عملية تحويل تعليمات مفصلة خطوة بخطوة لحل مشكلة أو إكمال مهمة. ()
٣. في لوحة لبنات الهيئة سنجد اللبنات المسؤولة عن تحكم حركة الكائن. ()
٤. يبدأ دائماً أي برنامج في سكراتش بلبنة الأحداث. ()
٥. لا يمكننا استخدام لبنات الصوت لأكثر من شخصية. ()
٦. الأوامر البرمجية لها عدة ألوان في لوحة اللبنات البرمجية. ()
٧. لا يمكننا إزالة أمر من مقطع برمجي. ()
٨. إزالة الخلفية يزيل كامل العمل في سكراتش. ()
٩. يمكننا استيراد مقطع صوتي من مكتبة الكائنات الرسومية بسكراتش. ()
١٠. يمكننا إضافة تعليق داخل الأمر البرمجي. ()
١١. تُمكن لغة سكراتش من إنشاء البرامج من خلال سحب وإفلات وتركيب اللبنات. ()
١٢. تعطي الخوارزمية نتيجة صحيحة دائماً حتى وإن كانت تحتوي أخطاء. ()
١٣. يمكننا تشغيل العلم فقط لتشغيل المقطع البرمجي. ()
١٤. تعمل الخلفية في سكراتش على تغيير مظهر المسرح. ()
١٥. تسمى اللبنات في سكراتش بالأوامر. ()
١٦. تستخدم الخوارزميات فقط لوصفات الطعام. ()
١٧. يمكننا إضافة أكثر من كائن وجعل كل واحد منها يعمل بطريقة مختلفة. ()

السؤال الثالث : صلي كل رمز من خيارات سكراتش المختلفة مع وظيفته الصحيحة :

<u>الرمز</u>	<u>الوظيفة</u>
 <p>اجعل حجم القلم</p>	١- إزالة ماتم رسمه باستخدام القلم
 <p>ارفع القلم</p>	٢- إيقاف عملية الرسم بالقلم
 <p>مسح الكل</p>	٣- تغيير سماكة القلم إلى قيمة محددة
 <p>اجعل لون القلم</p>	٤- تغيير لون القلم إلى لون محدد
 <p>انزل القلم</p>	٥- جعل القلم يرسم عند تحريكه

نرجو لکن التوفيق

معلمات المادة :حنين المطيري



موقع
مادتي