

تم تحميل وعرض المادة من



موقع مادتي هو موقع تعليمي يعمل على مساعدة المعلمين والطلاب وأولياء الأمور في تقديم حلول الكتب المدرسية والاختبارات وشرح الدروس والملاحظات والتحاير وتوزيع المنهج لكل المراحل الدراسية بشكل واضح وسهل مجاناً بتصفح وعرض مباشر أونلاين وتحميل على موقع مادتي

حمل تطبيق مادتي ليصلك كل جديد



أوراق عمل  
اجتماعيات  
الصف الخامس  
الابتدائي  
الفصل الدراسي الثاني

موقع  
مادنتري



أضع علامة (✓) أمام العبارة الصحيحة، وعلامة (x) أمام العبارة الخاطئة فيما يلي:

- المؤسسات العامة هي المؤسسات التجارية.
- مؤسسات الدولة هي الأجهزة الحكومية المكلفة بمهام خدمة الوطن والمواطن.
- المؤسسات الخاصة هي المؤسسات الحكومية.

ما وظائف مؤسسات الدولة؟

.....

.....

.....

.....

أختار الإجابة الصحيحة:

من أمثلة المؤسسات العامة .....		
أ- وزارة	ب- شركة	ج- بنك
من مؤسسات الدولة .....		
أ- وزارة الصحة	ب- وزارة التعليم	ج- أ و ب معاً
من أمثلة المؤسسات الخاصة .....		
أ- وزارة	ب- هيئة حكومية	ج- شركة



أضع علامة (✓) أمام العبارة الصحيحة، وعلامة (✗) أمام العبارة الخاطئة فيما يلي:

- تتولى الإدارة العامة للمرور تنظيم السير وسلامة السائقين والركاب داخل المدن.
- من مهام المديرية العامة لمكافحة المخدرات توعية المواطنين بأخطارها على الصحة والوطن.
- تتولى وكالة الوزارة للأحوال المدنية المحافظة على الأمن وتطبيق الأنظمة.

أصل المجموعة (أ) بما يناسبها من المجموعة (ب):

(ب)
الإشراف على السجون وملاحظتها.
المحافظة على الأمن وتطبيق الأنظمة.
إصدار الجوازات للمواطنين ومتابعتها وشؤون المقيمين.

(أ)
المديرية العامة للجوازات
المديرية العامة للسجون
الشُرطة

أكمل الفراغات التالية بما يناسبها مما بين القوسين: (حرس الحدود - الأعمال - الدفاع المدني)

- تتولى المديرية العامة ل..... تنفيذ إجراءات السلامة وإطفاء الحرائق.
- من مهام ..... حماية حدود الوطن حدود الوطن ومساعدة العابرين.
- الخدمات الحكومية هي ..... التي تقوم بها الدولة من خلال مؤسساتها لمصلحة المجتمع وأفراد داخل الوطن.



- أضع علامة (✓) أمام العبارة الصحيحة، وعلامة (x) أمام العبارة الخاطئة فيما يلي:
- تقدم هيئة الهلال الأحمر السعودي الخدمات الطبية الإسعافية الطارئة والعاجلة للمواطنين والمقيمين والزائرين.
- من أبرز المدن الطبية السعودية مدينة الملك فهد الطبية بمكة المكرمة.
- تقوم وزارة الموارد البشرية والتنمية الاجتماعية بحماية النساء والأطفال الذين العنف والإيذاء.

ما أبرز مهام مركز الرعاية الصحية الأولية؟

.....

.....

.....

أختار الإجابة الصحيحة:

تقوم وزارة الموارد البشرية والتنمية الاجتماعية ب.....		
أ- حماية النساء	ب- مكافحة التسول	ج- أ و ب معاً
من أبرز المدن الطبية مدينة الملك .....		
أ- سعود الطبية	ب- فيصل الطبية	ج- أ و ب معاً
تقدم وزارة ..... خدمات عديدة للمحافظة على صحة المواطنين والمقيمين.		
أ- التنمية الاجتماعية	ب- الصحة	ج- الموارد البشرية



أضع علامة (✓) أمام العبارة الصحيحة، وعلامة (✗) أمام العبارة الخاطئة فيما يلي:

- عرفت الخرائط بعد معرفة الكتابة.
- تتولى الهيئة العامة للمساحة والمعلومات الجيومكانية إنتاج الخرائط الجيولوجية (طبقات الأرض) الرقمية لوطني المملكة العربية السعودية.
- الخريطة رسم توضيحي مصغر لسطح الأرض أو لجزء منه.

أكمل الفراغات التالية :

- أنشئ العالم المسلم ..... القُرشيّ أول خريطة عالمية صحيحة.
- تتولى الهيئة العامة لـ..... والمعلومات ..... إنتاج الخرائط الرقمية للمملكة العربية السعودية.
- توضح الخرائط الظواهر ..... مثل: الأنهار والجبال، أو الظواهر ..... مثل: توزيع السُّكَّان.

ما مميزات الخرائط الرقمية ؟

.....  
.....





أذكر ثلاثة من الأماكن التي تنخفض فيها الكثافة السكانية:

١. ....
٢. ....
٣. ....

أضع علامة (✓) أمام العبارة الصحيحة، وعلامة (✗) أمام العبارة الخاطئة فيما يلي:

- تشكل قارة أستراليا ما يقارب ١١٪ من سُكَّان العالم.
- يتركز سُكَّان العالم في النصف الجنوبي من الكرة الأرضية.
- يُعْتَنَى بتوزيع السُّكَّان من أجل توزيع الخِدْمات عليهم، والتخطيط للتنمية لتحقيقها.

أكمل الفراغات التالية بما يناسبها مما بين الأقواس:

(النشاط السياسي - الموارد الطبيعية - التضاريس - النشاط الاقتصادي)

- من العوامل الطبيعية المؤثرة على في توزيع السكان في العالم:  
.....، و.....
- من العوامل الطبيعية المؤثرة على في توزيع السكان في العالم:  
.....، و.....



## الدرس الثاني والعشرون توزيع السكان



أضع علامة (✓) أمام العبارة الصحيحة، وعلامة (x) أمام العبارة الخاطئة فيما يلي:

- ترتفع الكثافة السكانية في السواحل البحرية وقُرب الأنهار.
- يكثر وجود السكان كلما زاد ارتفاع التضاريس وزادت وعورتها.
- الثلوج من مصادر المياه العذبة.

أختار الإجابة الصحيحة:

من مصادر المياه المالحة: .....		
أ- الأنهار	ب- المحيطات	ج- المياه الجوفية
من أسباب انخفاض كثافة السكان في الجبال والمرتفعات الشاهقة: .....		
أ- اعتدال مناخها	ب- سهولة البناء فيها	ج- برودة مناخها
من أسباب ارتفاع كثافة السكان في السهول: .....		
أ- يسر التنقل فيها	ب- شدة انحدار مسالكها	ج- صعوبة الزراعة فيها

ما أسباب ارتفاع كثافة السُّكَّان قرب المياه؟

.....

.....

.....

## الدرس الثالث والعشرون توزيع السكان



ما أسباب ارتفاع كثافة السُّكَّان في المناطق ذات المناخ المعتدل؟

١. ....
٢. ....
٣. ....

أضع علامة (✓) أمام العبارة الصحيحة، وعلامة (x) أمام العبارة الخاطئة فيما يلي:

- تنخفض الكثافة السكانية في المناطق الصحراوية بسبب كثرة الأمطار.
- تُنقسَم الموارد الطبيعية إلى أربعة أقسام.
- ضوء الشمس من الموارد الطبيعية غير المتجددة.

أكمل الفراغات الآتية:

- تزداد الكثافة السكانية في المناطق ذات المناخ .....
- الموارد الطبيعية ..... الموارد التي تتجدد ذاتياً بتدبير الله.
- الموارد الطبيعية ..... الموارد الموجودة في الطبيعة بمقادير ثابتة، وما يُؤخذ منها لا يُعوّض.



أضع علامة (✓) أمام العبارة الصحيحة، وعلامة (x) أمام العبارة الخاطئة فيما يلي:

- الأمن سبب رئيسي في استقرار السكان وجذبهم.
- يكثر وجود السكان في البلدان ذات الاقتصاد المنخفض.
- تهدد الحروب استقرار السكان.

أختار الإجابة الصحيحة:

يقوم النشاط ..... على تبادل السلع والمنتجات.		
أ- الزراعي	ب- التجاري	ج- الصناعي
يقوم النشاط ..... على تحويل الموارد الطبيعية إلى منتجات مفيدة للإنسان.		
أ- الزراعي	ب- التجاري	ج- الصناعي
يعد النشاط ..... من أهم الأنشطة الأساسية في العالم وأقدمها.		
أ- الزراعي	ب- التجاري	ج- الصناعي

ما معنى النشاط الاقتصادي؟

.....

.....

.....



أضع علامة (✓) أمام العبارة الصحيحة، وعلامة (x) أمام العبارة الخاطئة فيما يلي:

- تقوم المملكة العربية السعودية بتحلية مياه الآبار المالحة وتحويلها إلى مياه عذبة صالحة للشرب.
- يعد الماء العنصر الأساسي للحياة على سطح الأرض.
- تستعمل مياه الصرف الصحي المعالجة في ري الحدائق والمنتزهات.

أكمل الفراغات التالية:

- تُغطّي المملكة .....% من احتياجاتها لمياه الشرب من تحلية مياه البحر.
- يتسم مناخ المملكة العربية السعودية ب.....
- من أمثلة المياه الجوفية في المملكة العربية السعودية: .....

أختار الإجابة الصحيحة:

.....: المياه التي تخزن في باطن الأرض وتحتاج إلى جهد لاستخراجها.		
أ- المياه الجوفية	ب- المياه السطحية	ج- مياه البحار المحلاة
.....: مياه البحر المُنقّاة من الأملاح والشوائب.		
أ- المياه الجوفية	ب- المياه السطحية	ج- مياه البحار المحلاة
.....: المياه التي تعلو سطح الأرض ولا تحتاج إلى جهد لاستخراجها.		
أ- المياه الجوفية	ب- المياه السطحية	ج- مياه البحار المحلاة



أضع علامة (✓) أمام العبارة الصحيحة، وعلامة (x) أمام العبارة الخاطئة فيما يلي:

- تنمو جميع النباتات في المناطق الحارة.
- ينمو في مرتفعات عسير غطاء نباتي كثيف.
- الزيتون البري من أبرز نباتات بيئة الرمال.

أكمل الفراغات التالية بما يناسبها مما بين الأقواس:

**(التضاريس - المناخ - التربة)**

- ..... أهم العناصر المناخية المؤثرة في نوع النبات وكثافته.
- تمتد ..... النباتات بالعناصر الغذائية اللازمة لنموها.
- يُسهم تنوع ..... في اختلاف الغطاء النباتي.

ما أنواع النباتات الموجودة في وطننا؟

.....

.....

.....

.....

.....

.....



## الدرس السابع والعشرون الثروة الحيوانية



أضع علامة (✓) أمام العبارة الصحيحة، وعلامة (x) أمام العبارة الخاطئة فيما يلي:

- استهلاك ذكور الحيوانات من أسباب قلة الثروة الحيوانية في وطننا.
- في المملكة العربية السعودية أكبر مزارع للأبقار في العالم.
- تعد مشتقات الألبان مصدرًا صناعيًا.

أعلل الآتي:

- أطلقت وزارة البيئة والمياه والزراعة مبادرات تُسهم في تطوير قطاع النحل.

.....  
.....

- سعي الدولة لتحقيق الاكتفاء الذاتي في الثروة الحيوانية.

.....  
.....

أذكر بعض أساليب تنمية الثروة الحيوانية:

.....  
.....  
.....  
.....





أختار الإجابة الصحيحة:

تأتي المملكة العربية السعودية في المركز ..... عالميًا في إنتاج النفط.		
أ- الأول	ب- الثاني	الثالث
..... أكبر حقل نفطي بري في العالم.		
أ- برقان	ب- السفانية	ج- الغوار
..... أكبر حقل نفطي بحري في العالم.		
أ- السفانية	ب- الغوار	ج- برقان

أذكر خمسة معادن موجودة في وطننا:

..... ، ..... ، ..... ، ..... ، .....

أذكر المراحل التي تمر بها صناعة النفط:

- ..... ١
- ..... ٢
- ..... ٣
- ..... ٤
- ..... ٥
- ..... ٦
- ..... ٧
- ..... ٨



أضع علامة (✓) أمام العبارة الصحيحة، وعلامة (x) أمام العبارة الخاطئة فيما يلي:

- تأتي الزراعة في صدارة الأنشطة الاقتصادية للسُّكَّان، وذلك بعد اكتشاف النفط.
- للبيئة تأثير في تحديد نوع النشاط الذي يمارسه السكان.
- الزراعة هي الانتقال والتَّرحال بحثاً عن الماء والعشب.

أكمل الفراغات التالية:

- يحرص وطني المملكة العربية السعودية على تحسين بيئة الإنتاج الحيواني وفق الشروط البيطرية والصحية من خلال ..... الذي تقوم به الشركات الزراعية.
- من أهم الأنشطة الاقتصادية: ..... ،..... ،.....

أعلل الآتي:

- انخفاض عدد العاملين في الزراعة انخفاضاً كبيراً مؤخراً.

.....  
.....

- تراجع حرفة الرعي وتدهورها.

.....  
.....





ما معنى الخدمات؟

.....  
.....  
.....

أختار الإجابة الصحيحة:

.....: حركة البيع والشراء لمُخْتَلِف أنواع السِّلَع المحلية والمستوردة.		
ج- الخدمات	التجارة	أ- الصناعة
من صادرات وطننا: .....		
ج- الآلات	ب- النفط	أ- وسائل النقل
من واردات وطننا: .....		
ج- النفط	ب- الآلات	أ- التمور

أكمل الفراغات الآتية:

- الميزان التجاري: الفرق بين قيمة ..... الدولة وقيمة .....
- الصناعة: تحويل المادة ..... الموجودة في الطبيعة التي لا يمكن الاستفادة منها مباشرة إلى ..... يلبي احتياجات الإنسان.

# أوراق عمل أخرى

موقع  
مادنتيري



ورقة عمل درس : ( مفهوم مؤسسات الدولة )

اسم الطالب / ..... / الصف : خامس / .....

س١ / أكمل الفراغات التالية بما يناسب :

- أ - المؤسسات العامة هي المؤسسات .....
- ب - المؤسسات الخاصة هي المؤسسات .....
- ج - مؤسسات الدولة هي الأجهزة الحكومية المكلفة بمهام لخدمة ..... و .....

س٢ / صنف المؤسسات التالية في الجدول الآتي :

شركة سيارات

وزارة الداخلية

الهيئة العامة للغذاء والدواء

شركة سابك

مؤسسة خاصة

مؤسسة عامة

.....  
.....  
.....  
.....

.....  
.....  
.....  
.....

المملكة العربية السعودية

وزارة التعليم

إدارة التعليم بمنطقة .....

مدرسة .....



وزارة التعليم  
Ministry of Education

ورقة عمل درس : ( الخدمات الحكومية )

اسم الطالب / ..... / الصف : خامس / .....

س ١ / ضع علامة ( √ ) أمام العبارة الصحيحة وعلامة ( × ) أمام العبارة الخاطئة فيما يلي :

١ - الخدمة الحكومية هي الأعمال التي تقوم بها الدولة من خلال مؤسساتها لمصلحة المجتمع وأفراده داخل الوطن .

٢ - تقوم وزارة الداخلية بمهام سلامة الحجاج .

٣ - من مهام الشرطة المحافظة على الأمن وتطبيق الأنظمة .

س ٢ / عدد أربعاً من أجهزة وزارة الداخلية :

١ - .....

٢ - .....

٣ - .....

٤ - .....

المملكة العربية السعودية

وزارة التعليم

إدارة التعليم بمنطقة .....

مدرسة .....



وزارة التعليم  
Ministry of Education

ورقة عمل درس : ( الحماية الاجتماعية والصحية )

اسم الطالب / ..... / الصف : خامس / .....

س١ / ضع علامة ( √ ) أمام العبارة الصحيحة وعلامة ( × ) أمام العبارة الخاطئة فيما يلي :

- ١ - تقدم الدولة الحماية الاجتماعية للمواطنين .
- ٢ - المدن الطبية هي مستشفيات صغيرة .
- ٣ - تقدم هيئة الهلال الأحمر خدمات الإسعاف .

س٢ / اذكر اثنين من أعمال وزارة الموارد البشرية والتنمية الاجتماعية لخدمة الحماية الاجتماعية :

- ١ - .....
- ٢ - .....

س٣ / اذكر اثنين من أبرز المدن الطبية السعودية :

- ١ - .....
- ٢ - .....

ورقة عمل درس : ( تاريخ الخرائط وتطويرها )

اسم الطالب / ..... / الصف : خامس / .....

س / ما المقصود بالخرائط ؟

ج / .....

س / ضع علامة ( √ ) أمام العبارة الصحيحة وعلامة ( × ) أمام العبارة الخاطئة فيما يلي :

١ - يذكر المؤرخون أن الإنسان عرف الخرائط قبل معرفة الكتابة .

٢ - كان البابليون في العراق والفراعنة في مصر من أوائل من رسم الخرائط .

٣ - أنشأ العالم المسلم محمد الإدريسي أول خريطة عالمية صحيحة مبنية وفق الأصول .

س / اذكر اثنين من الفروق بين الخريطة الورقية والخريطة الرقمية .

١ - .....

٢ - .....

ورقة عمل درس : ( السكان )

اسم الطالب / ..... الصف : خامس / .....

س / اختر الإجابة الصحيحة فيما يلي :

١	يتوزع السكان توزيعاً :		
	متساوياً	منتظماً	متفاوتاً
٢	أكثر سكان العالم يسكن في قارة :		
	أفريقيا	آسيا	أوروبا
٣	يقل عدد السكان في قارة :		
	آسيا	استراليا	أفريقيا

س / اذكر العوامل المؤثرة في توزيع السكان في العالم ؟

العوامل المؤثرة في توزيع السكان في العالم

.....  
.....

.....  
.....

ورقة عمل درس : ( العوامل الطبيعية : التضاريس والمياه )

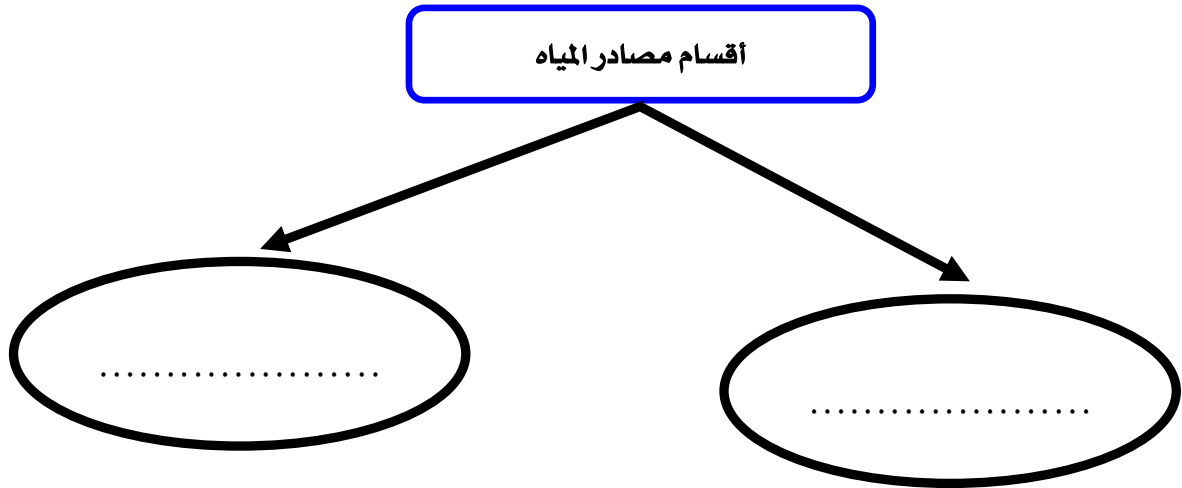
اسم الطالب / ..... الصف : خامس / .....

س / أكمل الفراغات التالية بما يناسب :

يكثر السكان في ..... و ..... غير الوعرة ،

في حين ..... وجود السكان كلما زاد ..... التضاريس وزادت وعورتها .

س / تنقسم مصادر المياه إلى قسمين أذكرها .



س / أذكر ثلاثاً من المدن القريبة من المناطق المائية الجاذبة للسكان في وطني المملكة العربية السعودية ؟

ج /

- ١ - .....
- ٢ - .....
- ٣ - .....



ورقة عمل درس : ( ورقة عمل درس : العوامل الطبيعية : المناخ والموارد )

اسم الطالب / ..... / الصف : خامس / .....

س / ضع علامة ( √ ) أمام العبارة الصحيحة وعلامة ( × ) أمام العبارة الخاطئة فيما يلي :

- ١ - تزداد الكثافة السكانية في المناطق القطبية .
- ٢ - تقل الكثافة السكانية في الصحاري الحارة .
- ٣ - يبتعد الإنسان عن المناطق الاستوائية بسبب ارتفاع رطوبة الجو .

س / تنقسم الموارد الطبيعية إلى قسمين اذكرها .

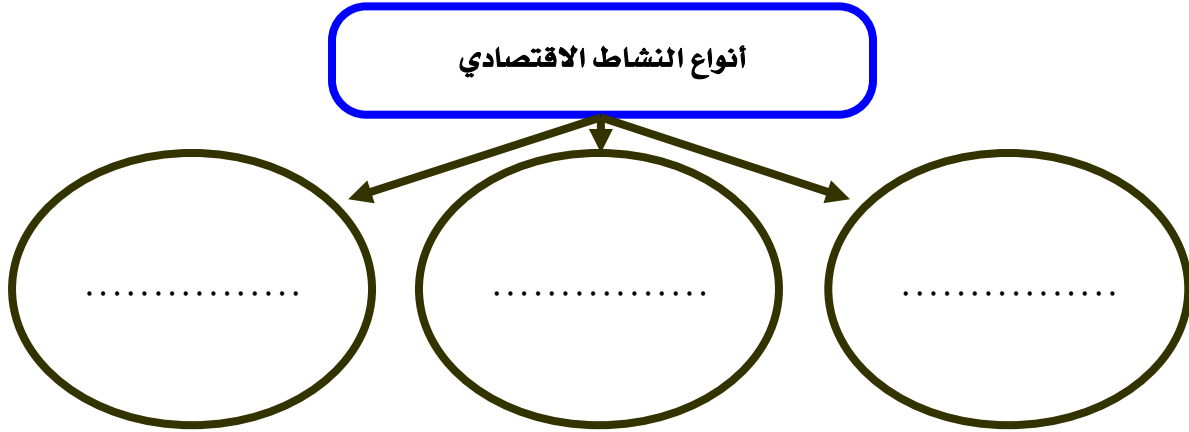
..... / ١

..... / ٢

ورقة عمل درس : ( توزيع السكان : العوامل البشرية )

اسم الطالب / ..... / الصف : خامس / .....

س / ينقسم النشاط الاقتصادي إلى ثلاثة أنواع اذكرها .



س / ضع علامة ( √ ) أمام العبارة الصحيحة وعلامة ( × ) أمام العبارة الخاطئة فيما يلي :

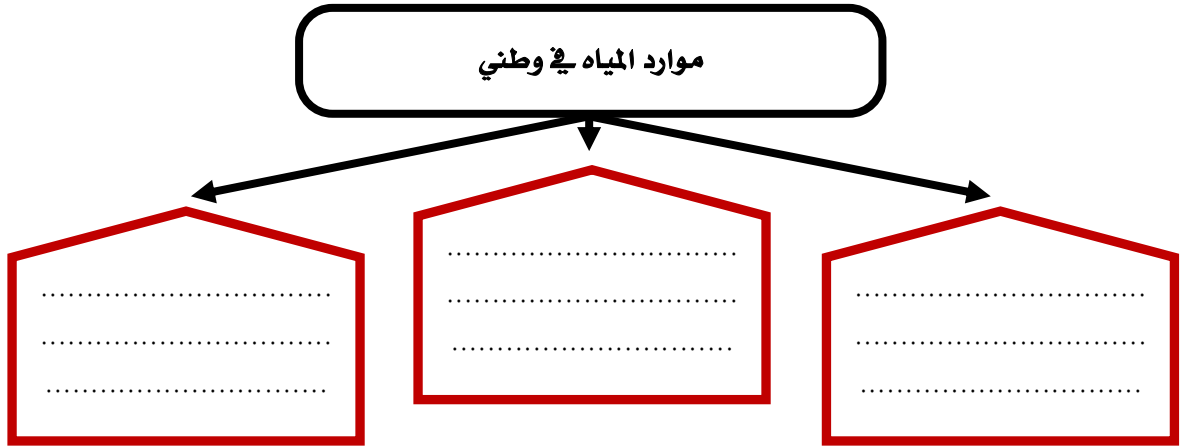
- ١ - النشاط الاقتصادي هو الاعمال والمجهودات التي يؤديها الإنسان ؛ لتلبية احتياجاته الأساسية .
- ٢ - تعد النزاعات والحروب أحد أهم العوامل المؤثرة في توزيع السكان .
- ٣ - الأمن سبب رئيسي في استقرار السكان وجذبهم .



ورقة عمل درس : ( المياه )

اسم الطالب / ..... / الصف : خامس / .....

س / أذكر موارد المياه في وطني .



س / لماذا لجأت حكومة وطني إلى تحلية مياه البحر ؟

ج / .....

س / كيف نحافظ على الثروة المائية ؟

١ - .....

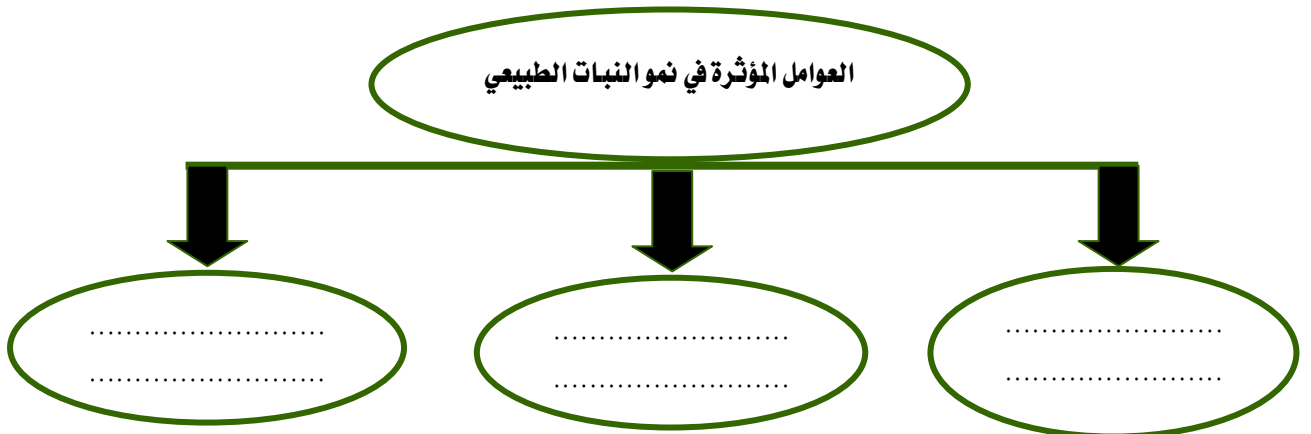
٢ - .....

ورقة عمل درس : ( النبات الطبيعي )

اسم الطالب / ..... الصف : خامس / .....

س / تتأثر النباتات الطبيعية في وطني المملكة العربية السعودية بأحواله المناخية ؛ لذا تتنوع إلى نوعين أذكرهما .

س / اذكر العوامل المؤثرة في نمو النبات الطبيعي :



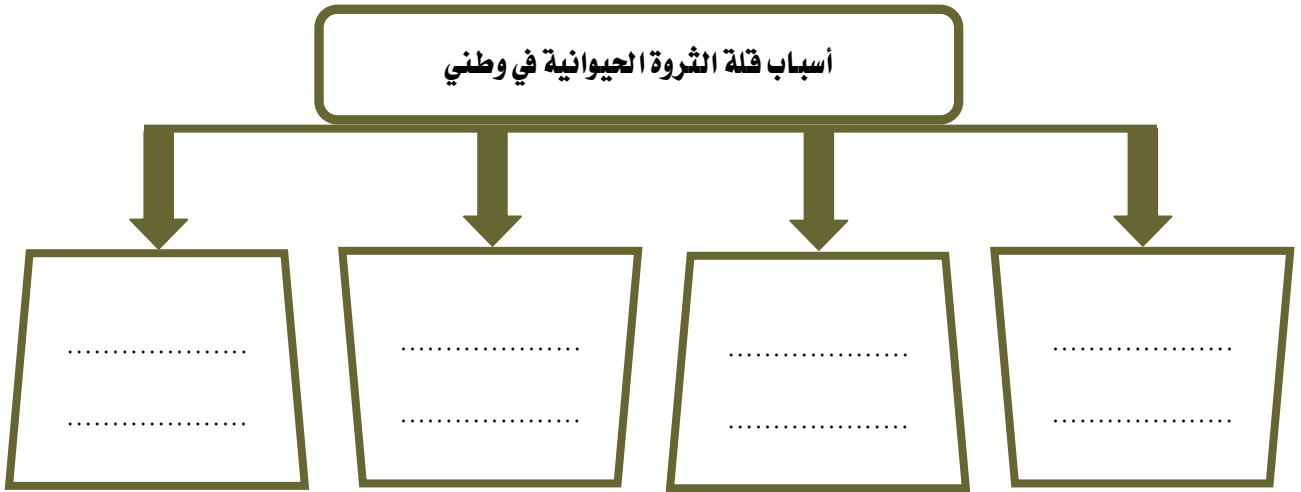
س / لماذا نحتاج إلى تحديد المحميات الطبيعية في وطني المملكة العربية السعودية ؟

ج / .....

ورقة عمل درس : ( الثروة الحيوانية )

اسم الطالب / ..... / الصف : خامس / .....

س / أذكر أسباب قلة الثروة الحيوانية في وطني المملكة العربية السعودية .



س / أذكر أسباب تنمية الثروة الحيوانية .

١ - .....

٢ - .....

٣ - .....

٤ - .....

ورقة عمل درس : ( النفط والمعادن )

اسم الطالب / ..... / الصف : خامس / .....

=====

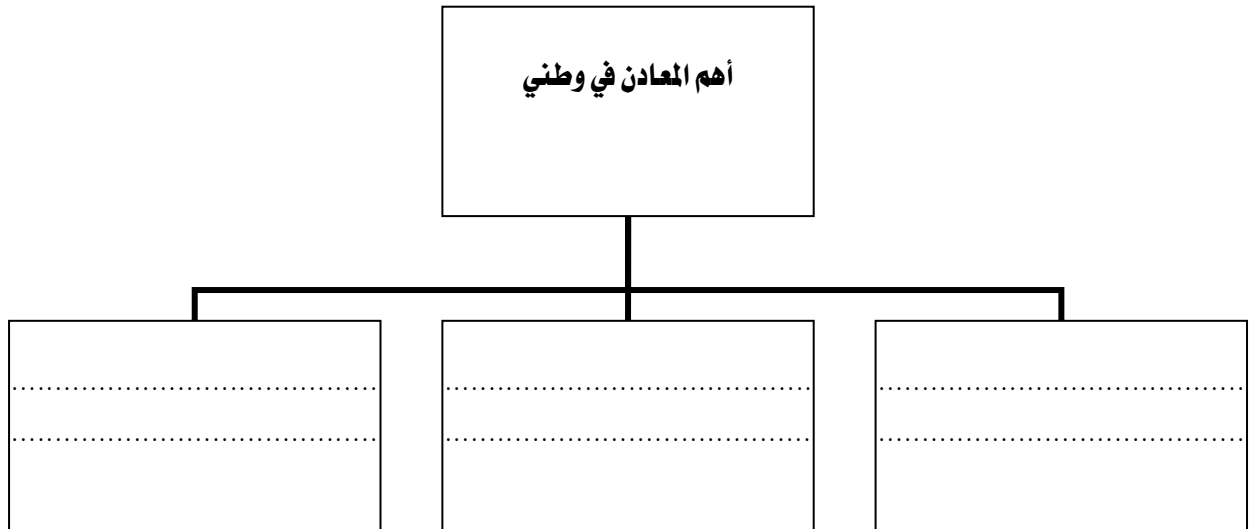
س / أكمل الفراغات التالية بما يناسب :

أ - يعد النفط من أهم الموارد في وطني المملكة العربية السعودية حيث يأتي في المركز ..... عالمياً  
في الاحتياط منه .

ب - يعد حقل الغوار أكبر حقل نفطي ..... في العالم ، كما يعد حقل السفانية أكبر حقل  
نفطي ..... في العالم .

ج - معظم حقول النفط في وطني المملكة العربية السعودية هي في المنطقة .....

س / اذكر ثلاثة من أهم المعادن في وطني المملكة العربية السعودية :



المملكة العربية السعودية

وزارة التعليم

إدارة التعليم بمنطقة .....

مدرسة .....



وزارة التعليم

Ministry of Education

## ورقة عمل درس : ( الزراعة والرعي )

اسم الطالب / ..... / الصف : خامس / .....

س ٣ / اختر الإجابة الصحيحة فيما يلي :

١	تأتي الزراعة في الصدارة بين :		
	الأنشطة الاقتصادية	الأنشطة السكانية	الأنشطة الاجتماعية
٢	من عوامل نجاح الزراعة :		
	الرمال	البحار	الأراضي الصالحة للزراعة

س / ما أهم مشكلة تواجه الزراعة في وطني المملكة العربية السعودية ؟

ج / .....

س / اذكر اسباب تراجع حرفة الرعي في وطني المملكة العربية السعودية :

١ - .....

٢ - .....

٣ - .....

المملكة العربية السعودية

وزارة التعليم

إدارة التعليم بمنطقة .....

مدرسة .....



وزارة التعليم

Ministry of Education

ورقة عمل درس : ( الصناعة والتجارة والخدمات )

اسم الطالب / ..... / الصف : خامس / .....

س / ما المقصود بالصناعة؟

ج / .....

س / عدد أهم مقومات الصناعة؟

أهم مقومات الصناعة

.....	.....	.....	.....	.....	.....
.....	.....	.....	.....	.....	.....

س / عدد أربعة من أهم الصناعات في وطني المملكة العربية السعودية :

ج / ١ - .....

٢ - .....

٣ - .....

٤ - .....

س / تنقسم التجارة إلى نوعين اذكرهما؟

أنواع التجارة

.....	أنواع التجارة	.....
-------	---------------	-------