

تم تحميل وعرض المادة من



موقع مادتي هو موقع تعليمي يعمل على مساعدة المعلمين والطلاب وأولياء الأمور في تقديم حلول الكتب المدرسية والاختبارات وشرح الدروس والملاحظات والتحضير وتوزيع المنهج لكل المراحل الدراسية بشكل واضح وسهل مجاناً بتصفح وعرض مباشر أونلاين وتحميل على موقع مادتي

حمل تطبيق مادتي ليصلك كل جديد



أوراق عمل اجتماعيات

الصف الرابع الابتدائي

الفصل الدراسي الثاني

موقع
مادنتري



أضع علامة (✓) أمام العبارة الصحيحة، وعلامة (x) أمام العبارة الخاطئة فيما يلي:

- كوكب زُحل من مكونات المجموعة الشمسية.
- الأرض جزء من المجموعة الشمسية التي خلقها الله عز وجل.
- الاكتشافات العلمية لم تسهم في تحديد شكل الأرض.

مم تتكون المجموعة الشمسية؟

.....

.....

.....

أختار الإجابة الصحيحة:

لا نرى الشكل الكروي للأرض لأنها		
أ- كبيرة جداً	ب- صغيرة جداً	ج- متوسطة
الرؤية للشكل الكروي للأرض تكون من ارتفاعات		
أ- متوسطة	ب- منخفضة جداً	ج- عالية جداً
الأرض		
أ- مسطحة	ب- كروية	ج- بيضاوية



أضع علامة (✓) أمام العبارة الصحيحة، وعلامة (x) أمام العبارة الخاطئة فيما يلي:

- يعيش السكان في كل قارات العالم عدا القارة القطبية الجنوبية لشدة الحرارة والجفاف بها.
- يقل عدد السكان في المناطق الساحلية ويزداد في الصحاري.
- شبه الجزيرة هي أرض يابسة محاطة بالماء من جميع الجهات.

أصل المجموعة (أ) بما يناسبها من المجموعة (ب):

(ب)	(أ)
منطقة خصبة تمتاز بوجود النباتات والمياه الجوفية	الجبل
أرض منخفضة تجري فيها مياه الأمطار	الهضبة
أرض واسعة ومفتوحة وقليلة الماء والأمطار	السهل
كتلة صغيرة مرتفعة ولها قمة.	الواحة
أرض مرتفعة قليلاً وواسعة ومنبسطة	الوادي
أرض واسعة ومنبسطة	الصحراء

أكمل الفراغات التالية بما يناسبها مما بين القوسين:

(الجبال - أستراليا - شبه الجزيرة - آسيا)

- أكثر القارات سكاناً هي قارة
- يقل عدد السكان في
- هي أرض يابسة محاطة بالماء من ثلاث جهات.



أضع علامة (✓) أمام العبارة الصحيحة، وعلامة (×) أمام العبارة الخاطئة فيما يلي:

- يتشابه المناخ والفصول في نصف الكرة الجنوبي ونصف الكرة الشمالي.
- الشمس تشرق من الغرب.
- للأرض حركة واحدة.

ماذا يحدث إذا دارت الأرض حول الشمس؟

.....

.....

.....

أكمل الفراغات التالية بما يناسبها

(البيئي - حرارية - البشري - متنوعة - حركتان)

- دوران الأرض يؤدي إلى فصول مناخية
- الأرض لها
- تنوع الفصول الأربعة يؤدي إلى التنوع, والتنوع في النشاط





أضع علامة (✓) أمام العبارة الصحيحة، وعلامة (x) أمام العبارة الخاطئة فيما يلي:

- يظهر القمر بأشكال مختلفة عند دورانه حول الأرض مقابل الشمس.
- السنة القمرية هي المدة التي يأخذها القمر ليطمح ١١ دورة.
- السنة الهجرية تبدأ بشهر المحرم وتنتهي بشهر ذي الحجة.

أقارن بين كسوف الشمس وخسوف القمر:

كسوف الشمس	خسوف القمر

أكمل الفراغات التالية بما يناسبها:

(القمر - الهجرية - شهر)

- القمر يدور حول الأرض مرة كل
- السنة القمرية تسمى بالسنة عند العرب والمسلمين.
- جرم سماوي تابع للأرض غير مضيء، وهو يعكس لنا ضوء الشمس، ونحن لا نرى منه سوى الجهة المضيئة، وأما الجهة الأخرى لا نراها؛ لأنها مظلمة.



أضع علامة (✓) أمام العبارة الصحيحة، وعلامة (x) أمام العبارة الخاطئة فيما يلي:

- تساعد الخريطة على معرفة المدن داخل الوطن ومعرفة المسافات بينها.
- الخريطة من أحدث الوسائل التي ابتكرها الإنسان من أجل معرفة المظاهر الطبيعية والمكان الذي نعيش فيه.
- الخريطة لها ٦ عناصر أساسية.

أصل المجموعة (أ) بما يناسبها من المجموعة (ب):

(ب)	(أ)
يحدد اتجاه الشمال ومن خلاله تعرف باقي الاتجاهات.	عنوان الخريطة
نسبة ما بين الأبعاد على الطبيعة والابعاد على الخريطة	مفتاح الخريطة
رموز وألوان تشير إلى ما أدرج داخل الخريطة.	مقياس الرسم
هو ما يحيط بالخريطة من الخارج.	تحديد الاتجاه
يقصد به موضوع الخريطة ونوعها.	الإطار

أكمل الفراغات التالية بما يناسبها:

(الأماكن - الخريطة - إلكترونية)

- الخريطة الرقمية هي خريطة يمكن الحصول عليها من التطبيقات الحاسوبية مثل جوجل إيرث.
- الخريطة تساعد على تحديد ومواقعها.
- هي رسم توضيحي لسطح الأرض أو جزء منه.





أضع علامة (✓) أمام العبارة الصحيحة، وعلامة (x) أمام العبارة الخاطئة فيما يلي:

- لكل فرد في الأسرة قدرات، وإمكانات، ومهارات.
- المدرسة لا تشبه الأسرة.
- الأسرة هي أساس المجتمع وتتكون من الأب والأم والأولاد.

ما أهمية الأسرة؟

.....

.....

.....

.....

أكمل الفراغات التالية بما يناسبها:

(العمل - صفات خاصة - طموحات)

- لكل فرد في الأسرة في المستقبل.
- من مهام الأسرة معاً.
- لكل فرد في الأسرة تميزه عن غيره.





أضع علامة (✓) أمام العبارة الصحيحة، وعلامة (x) أمام العبارة الخاطئة فيما يلي:

- من واجبات الطلبة الحصول على الكتب المدرسية.
- يحق لطلبة المدارس تناول وجبة غذائية صحية وقت الفسحة.
- المواطن الصالح هو المواطن الذي لا يتقيد بالنظام.

أقارن بين الحقوق والمسؤوليات:

المسؤوليات	الحقوق

أكمل الفراغات التالية بما يناسبها:

(بالمسؤولية - الحقوق - بالنظام - يحضر مبكراً)

- المواطن الصالح هو المواطن الذي يتقيد، ويشعر، ويؤدي الواجبات، وينتمي لوطنه، ويحرص على أمنه.
- ما يستحقه الطلبة في حياتهم.
- من واجبات الطالب أن



أضع علامة (✓) أمام العبارة الصحيحة، وعلامة (x) أمام العبارة الخاطئة فيما يلي:

- عوامل النجاح ٧ عوامل.
- العمل الجماعي يكون بين اثنين أو أكثر.
- يهدف العمل الجماعي إلى تحقيق المتطلبات الشخصية.

هل يمكن أن يؤدي شخص واحد عمل الجميع؟ ولماذا؟

.....

.....

.....

.....

أختار الإجابة الصحيحة:

عند العمل معاً نهي العمل، وبجودة أفضل.		
أ- بسرعة	ب- ببطء	ج- باعتدال
من عوامل نجاح العمل الجماعي		
أ- نحدد الهدف	ب- نخطط للعمل	ج- أ وب معاً
العمل الجماعي يعتمد على عوامل تساعد على نجاحه.		
أ- ٦	ب- ٥	ج- ٧



أضع علامة (✓) أمام العبارة الصحيحة، وعلامة (x) أمام العبارة الخاطئة فيما يلي:

- نشأت اللغة العربية في بلاد الفرس ثم انتقلت إلى شبه الجزيرة العربية.
- تقع شبه الجزيرة العربية في الشمال الغربي من قارة آسيا.
- تبلغ مساحة شبه الجزيرة العربية ثلاثة ملايين كيلو متر مربع.

أكمل الفراغات التالية:

- من حضارات شبه الجزيرة العربية:، و.....، و.....
- يحد شبه الجزيرة العربي من الجنوب، ومن الشرق
- ومن الغرب
- كانت قبيلة قريش تقوم برحلة تجارية إلى في فصل الشتاء.

ما أهمية شبه الجزيرة العربية تاريخياً؟

.....

.....

.....

.....

.....

موقع
مادنتيري

الدرجة

اسم الطالب/ة:





أصف الحياة الاقتصادية في شبه الجزيرة العربية:

.....

.....

.....

.....

.....

.....

أضع علامة (✓) أمام العبارة الصحيحة، وعلامة (✗) أمام العبارة الخاطئة فيما يلي:

- اليهودية هي ملة سيدنا إبراهيم عليه السلام.
- كان جميع العرب في شبه الجزيرة العربية على ديانة النصرانية.
- اتسم العرب بالقيم الأخلاقية الحميدة مثل: الكرم والشجاعة.

أكمل الفراغات التالية بما يناسبها مما بين الأقواس:

(البائدة - القبلي - الأخذ بالثأر - الباقية)

- كان النظام هو السائد في شبه الجزيرة العربية.
- من العادات السيئة التي انتشرت بين القبائل قبل الإسلام.
- تنتسب العرب إلى قحطان وعدنان.
- ثمود من العرب



أضع علامة (✓) أمام العبارة الصحيحة، وعلامة (×) أمام العبارة الخاطئة فيما يلي:

- هاجر النبي ﷺ إلى مكة المكرمة.
- يقع مسجد القبلتين في مكة المكرمة.
- توجد الكعبة الشريفة في المسجد الحرام.

أختار الإجابة الصحيحة:

يقع المسجد النبوي في		
أ- مكة المكرمة	ب- المدينة المنورة	ج- أرض فلسطين
يقع المسجد الحرام في		
أ- مكة المكرمة	ب- المدينة المنورة	ج- أرض فلسطين
يقع المسجد الأقصى في		
أ- مكة المكرمة	ب- المدينة المنورة	ج- أرض فلسطين

ما أول قبلة للمسلمين؟

.....

.....

.....



كيف نحافظ على الآثار في وطننا الحبيب؟

.....

.....

.....

.....

.....

أضع علامة (✓) أمام العبارة الصحيحة، وعلامة (x) أمام العبارة الخاطئة فيما يلي:

- تقع أعمدة الرجاجيل في القطيف ويعود زمنها إلى أكثر من ستة آلاف سنة.
- توجد الفاو في منطقة الرياض بالقرب من وادي الدواسر.
- تضم المتاحف أبرز القطع الأثرية.

أكمل الفراغات التالية بما يناسبها مما بين الأقواس:

(الحجر - دلمون - تسعة - نجران - خمسة)

- يوجد بئر حمى في ويعود زمنها إلى آلاف سنة.
- سكن قوم ثمود في العلا قبل آلاف سنة.
- تقع على ساحل الخليج العربي.





أضع علامة (✓) أمام العبارة الصحيحة، وعلامة (x) أمام العبارة الخاطئة فيما يلي:

- المثابرة من صفات الأنبياء عليهم السلام.
- نتعلم من الأنبياء عليهم السلام مواصلة العمل وترك اليأس.
- لم ينجو مع سيدنا نوح عليه السلام إلا المؤمنون.
- أباح الله لآدم الأكل من جميع شجر الجنة.

أكمل الفراغات التالية:

- دعا سيدنا نوح عليه السلام قومه إلى توحيد الله عامًا.
- جميع البشر بمختلف ألوانهم وأشكالهم هم من ذرية عليه السلام.
- أول نبي من أنبياء الله تعالى النبي عليه السلام.

ما معجزة سيدنا نوح عليه السلام؟

.....

.....

.....

.....



أضع علامة (✓) أمام العبارة الصحيحة، وعلامة (×) أمام العبارة الخاطئة فيما يلي:

- عاش إبراهيم عليه السلام طفولته في قصر فرعون.
- أمر الله سيدنا محمد ﷺ أن يبني في مكة المكرمة أول بيت لعبادة الله.
- أيد الله تعالى سيدنا عيسى عليه السلام بمعجزات عديدة مثل: إحياء الموتى.

أختار الإجابة الصحيحة:

لقب موسى بن عمران عليه السلام ب..... الله.		
أ- خليل	ب- كلیم	ج- حبيب
أنزل على سيدنا عيسى عليه السلام.		
أ- الإنجيل	ب- التوراة	ج- الصحف
أنزل الزبور على سيدنا عليه السلام.		
أ- عيسى	ب- داود	ج- إبراهيم

من أولو العزم من الرسل؟

.....

.....

.....



الدرس الحادي والثلاثون

نسب النبي محمد ﷺ ونشأته



أضع علامة (✓) أمام العبارة الصحيحة، وعلامة (x) أمام العبارة الخاطئة فيما يلي:

- مرضعة النبي ﷺ اسمها آمنة.
- توفيت أم النبي ﷺ وهو في عمر السادسة.
- تزوج النبي ﷺ السيدة خديجة وهو في الثلاثين من عمره.

أكمل الفراغات التالية:

- يتصل نسب النبي ﷺ إلى بن إبراهيم عليه السلام.
- بقي النبي ﷺ عند مرضعته في البادية حتى بلغ سن
- لقب النبي ﷺ ب.....

أذكر أسماء أولاد النبي ﷺ:

.....

.....

.....

.....

.....



ما هي معجزة الإسراء والمعراج؟

.....

.....

.....

.....

.....

.....

أضع علامة (✓) أمام العبارة الصحيحة، وعلامة (✗) أمام العبارة الخاطئة فيما يلي:

كانت أول هجرة في الإسلام إلى المدينة المنورة.

كان النبي ﷺ يعبد الأصنام قبل بعثته.

بعث النبي ﷺ في عمر الأربعين.

أكمل الفراغات التالية بما يناسبها مما بين الأقواس:

(أبو بكر الصديق - خديجة بنت خويلد - زيد بن حارثة)

- أول من أسلم من الرجال:
- أول من أسلم من الموالي:
- أول من أسلم من النساء:



أضع علامة (✓) أمام العبارة الصحيحة، وعلامة (×) أمام العبارة الخاطئة فيما يلي:

- توفي النبي ﷺ في العام الحادي عشر من الهجرة.
- يقع مسجد القبلتين في مكة المكرمة.
- المهاجرون هم سكان المدينة من الأوس والخزرج.

أختار الإجابة الصحيحة:

كانت المدينة المنورة تسمى قبل هجرة النبي ﷺ.		
أ- الطائف	ب- حراء	ج- يثرب
أول عمل قام به النبي ﷺ بعد وصوله إلى المدينة المنورة:		
أ- المؤاخاة بين الأنصار والمهاجرين	ب- بناء المسجد النبوي	ج- كتابة وثيقة المدينة
الحرم الأول هو		
أ- المسجد النبوي	ب- المسجد الحرام	ج- المسجد الأقصى

ماذا جاء في وثيقة المدينة؟

.....

.....

.....



أختار الإجابة الصحيحة:

استشهد في غزوة بدر صحابياً.		
ج- ١٤	ب- ٤٠	أ- ٧٠
استشهد حمزة بن عبد المطلب رضي الله عنه في غزوة		
ج- الخندق	ب- أحد	أ- بدر
أشار الصحابي رضي الله عنه بحفر الخندق في غزوة الأحزاب.		
ج- عمر بن الخطاب	ب- صهيب الرومي	أ- سلمان الفارسي

أضع علامة (✓) أمام العبارة الصحيحة، وعلامة (✗) أمام العبارة الخاطئة فيما يلي:

- حاصر المشركون المدينة سنة كاملة في غزوة الخندق.
- كان أبو بكر الصديق رضي الله عنه أول من أذن في المسجد الحرام.
- حدثت غزوة بدر الكبرى في منطقة بئر بدر غرب المدينة.

أكمل الفراغات التالية بما يناسبها مما بين الأقواس:

(الثالث - السادس - الثاني - الثامن)

- عقد صح الحديبية في العام من الهجرة.
- تم فتح مكة في العام من الهجرة.
- كانت غزوة بدر في العام من الهجرة.
- كانت غزوة أحد في العام من الهجرة.

أوراق عمل أخرى

موقع
مادنتيري

المملكة العربية السعودية

وزارة التعليم

إدارة التعليم بمنطقة

مدرسة



وزارة التعليم

Ministry of Education

ورقة عمل درس : (الأرض)

اسم الطالب / / الصف : رابع /



س١ / هل التقطت صورة الكرة الأرضية في الشكل السابق من مكان مرتفع من الأرض أو من الفضاء؟

ج /

س٢ / ما شكل الأرض؟

ج /

س٣ / ما المقصود بالأرض؟

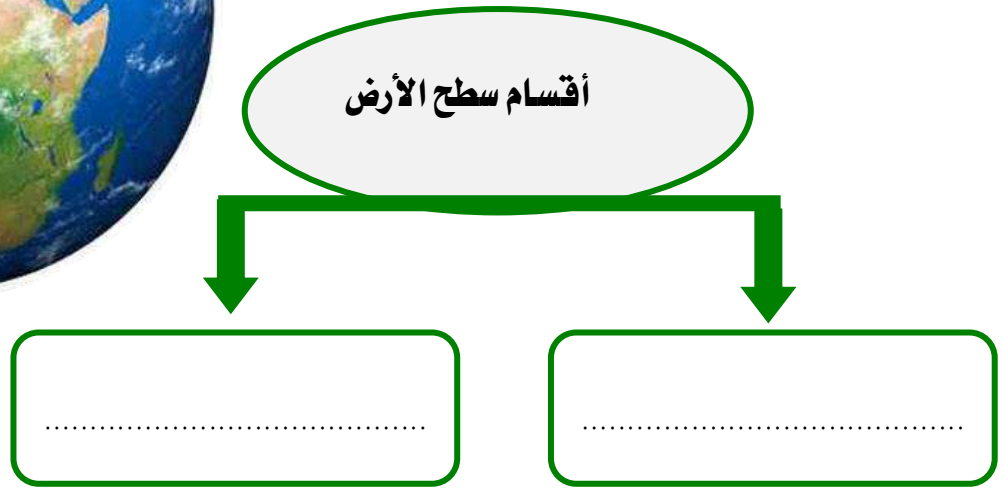
ج /

ورقة عمل درس : (أشكال سطح الأرض)

اسم الطالب / الصف : رابع /



س ١ / أمامك صورة للأرض ، من خلالها اذكر أقسام سطح الأرض :



س ٢ / أكمل الفراغات الآتية بما يناسب :

أ - من أشكال اليابسة على سطح الأرض : الجبال و و

..... و و و

ب - من أشكال الماء على سطح الأرض : المحيطات و و

..... و

المملكة العربية السعودية

وزارة التعليم

إدارة التعليم بمنطقة

مدرسة



وزارة التعليم

Ministry of Education

ورقة عمل درس : (دوران الأرض)

اسم الطالب / الصف : رابع /

س ١ / أكمل الفراغات التالية بما يناسب :

للأرض حركتان :

الأولى : وينتج عنها تعاقب و

الثانية : وتنتج عنها

س ٢ / اكتب أمام كل صورة ما يناسبه من الفصول الأربعة :



فصل :



فصل :



فصل :



فصل :

ورقة عمل درس : (دوران القمر حول الأرض)

اسم الطالب / الصف : رابع /



س١ / ما المقصود بالقمر ؟

ج /

.....

س٢ / استعن بالكلمات التالية لإكمال الفراغات :


(المضيء - هلالاً - بدر)

أ - نحن نرى الجزء فقط من القمر .

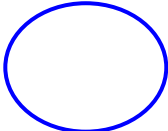
ب - نسمي القمر المكتمل

ج - عندما يبدأ الشهر فإننا نرى

س٣ / ضع علامة (√) أمام العبارة الصحيحة وعلامة (×) أمام العبارة الخاطئة فيما يلي :



١ - يدور القمر حول الأرض مرة كل شهر .

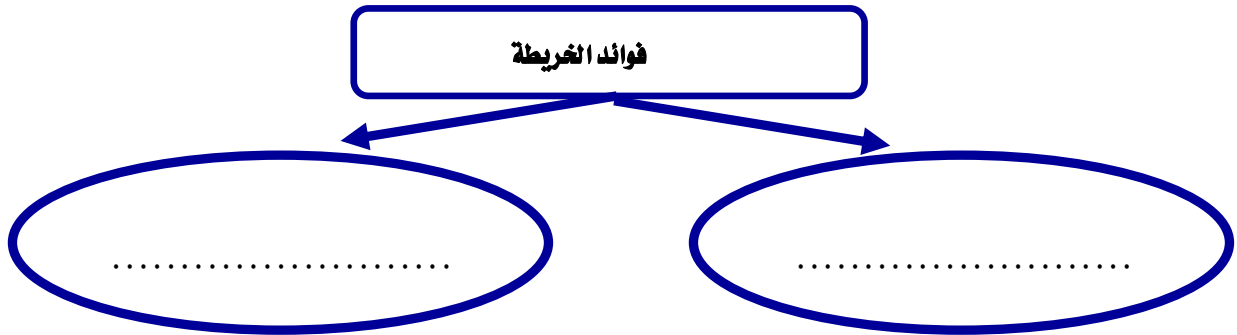


٢ - كسوف الشمس هو احتجاب ضوء الشمس عن جزء من الأرض ، وذلك عندما يتوسط القمر بينهما .

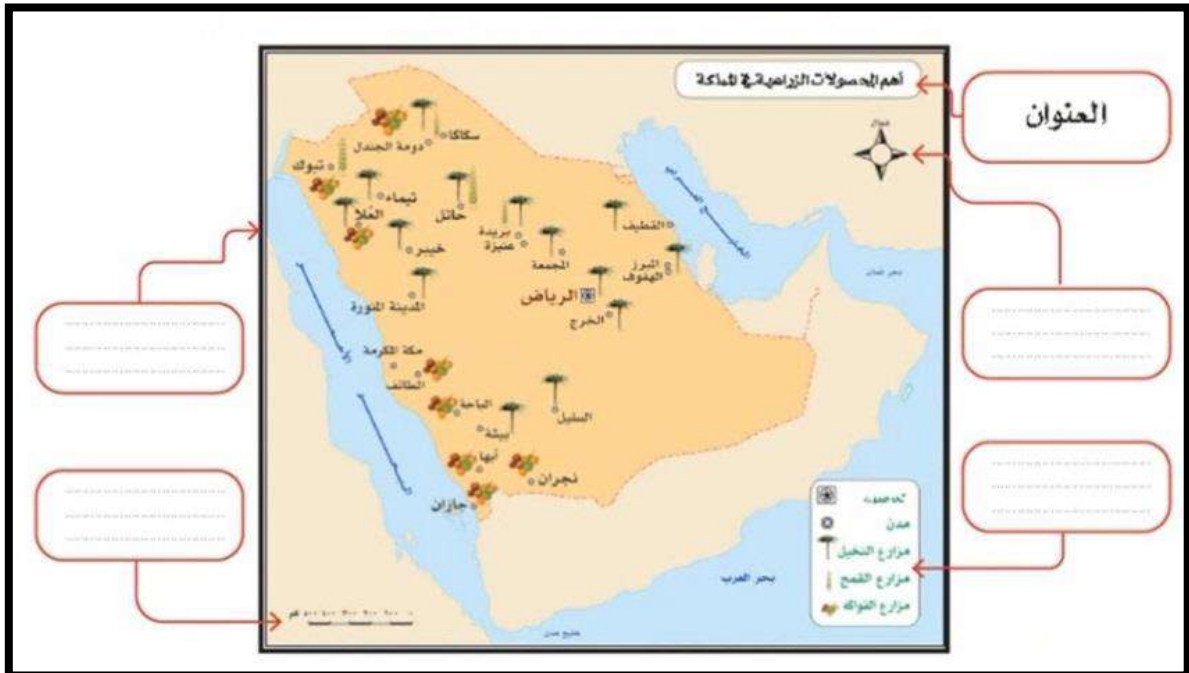
ورقة عمل درس : (الخريطة)

اسم الطالب / الصف : رابع /

س١ / اذكر فوائد الخريطة ؟



س٢ / أكمل عناصر الخريطة في الشكل التالي :



ورقة عمل درس : (الأسرة والمجتمع)

اسم الطالب / / الصف : رابع /

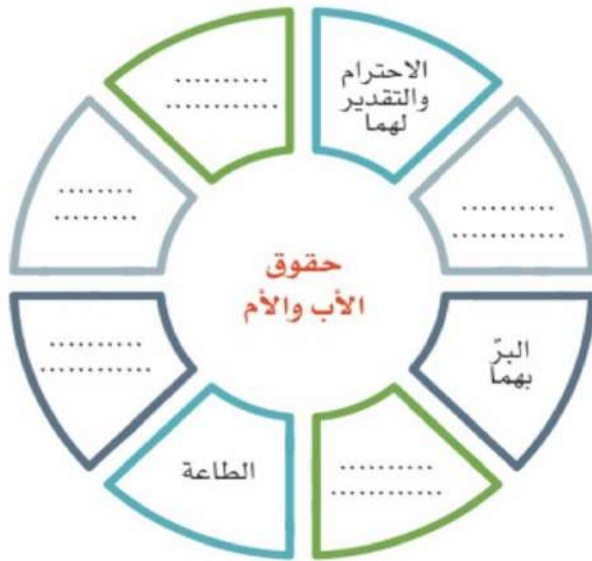
س ١ / أكمل الفراغات الآتية بما يناسب :

أ - الأسرة أساس وتتكون من و

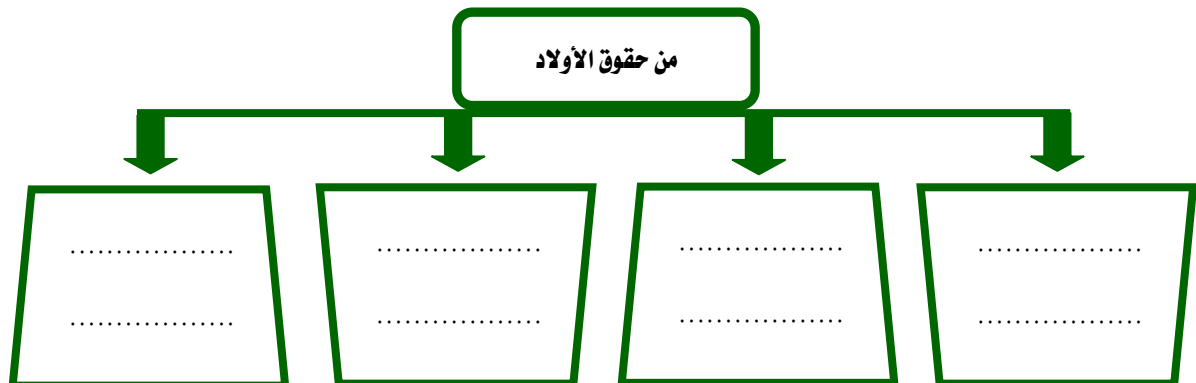
و

ب - يتكون المجتمع من عدة

س ٢ / أكمل حقوق الأب والأم في الشكل التالي :



س ٣ / للأولاد حقوق على الوالدين ، فما هي ؟



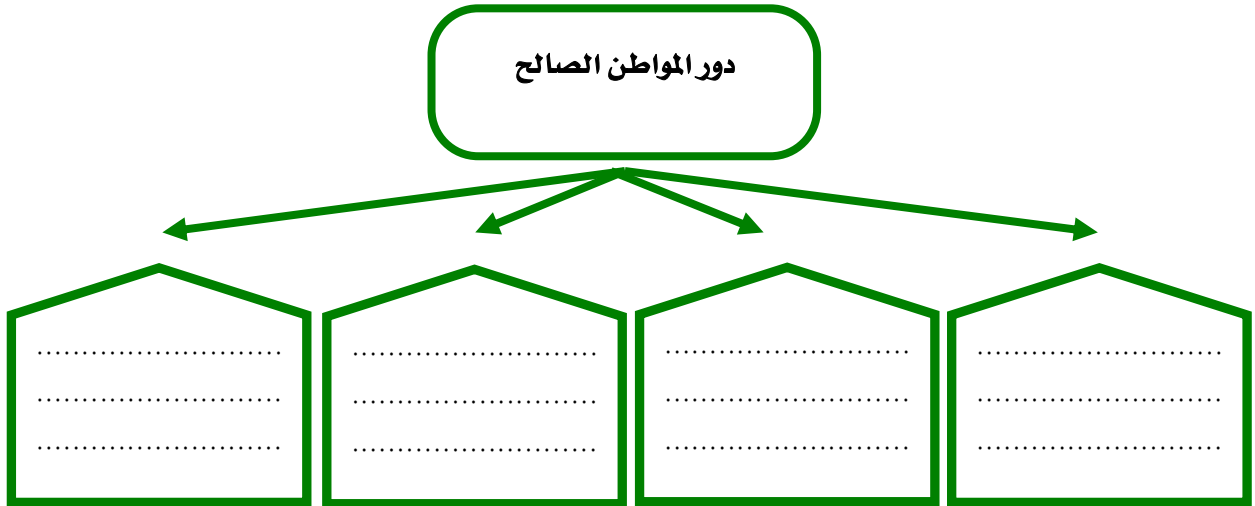
ورقة عمل درس : (الحقوق والمسؤوليات)

اسم الطالب / الصف : رابع /

س ١ / ضع علامة (√) أمام العبارة الصحيحة وعلامة (×) أمام العبارة الخاطئة فيما يلي :

- ١ - الحقوق ما يستحقه الطلبة في حياتهم .
- ٢ - من واجباتي في المدرسة أن احضر مبكراً .
- ٣ - من مسؤولياتي احترام حقوق الآخرين ومعلوماتهم .

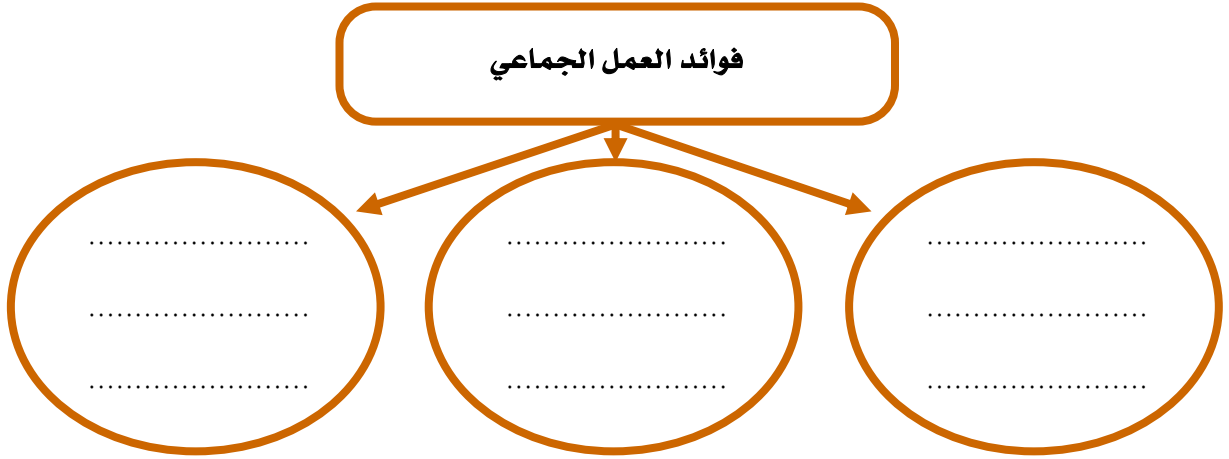
س ٢ / يؤدي المواطن الصالح دوراً مهماً في خدمة وطنه بعدة أمور ، اذكرها :



ورقة عمل درس : (العمل الجماعي)

اسم الطالب / الصف : رابع /

س ١ / اذكر ثلاثاً من فوائد العمل الجماعي :



س ٢ / ضع علامة (√) أمام العبارة الصحيحة وعلامة (×) أمام العبارة الخاطئة فيما يلي :

- ١ - العمل الجماعي يكون بين اثنين أو أكثر .
- ٢ - تحديد الهدف من العمل من العوامل التي تحقق النجاح في العمل الجماعي .
- ٣ - نوزع العمل من اجل نجاح العمل الجماعي .

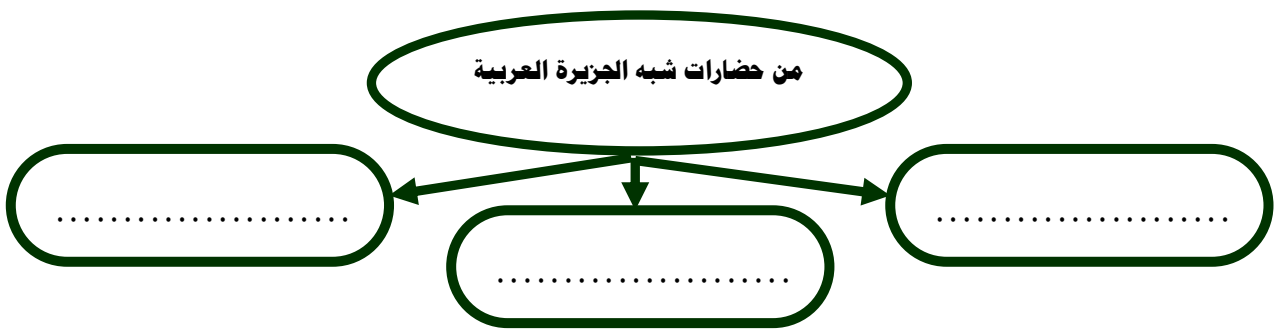
ورقة عمل درس : (شبه الجزيرة العربية : الموقع والحدود)

اسم الطالب / الصف : رابع /

س / أكمل الفراغات التالية بما يناسب :

- يحد شبه الجزيرة العربية من الغرب ومن الشرق
- ومن الجنوب ومن الشمال
- و.....

س / تعد شبه الجزيرة العربية مهد الحضارات اذكر أهمها :



س / ضع علامة (√) أمام العبارة الصحيحة وعلامة (×) أمام العبارة الخاطئة فيما يلي :

- ١ - تقع شبه الجزيرة العربية في الجنوب الغربي من قارة آسيا .
- ٢ - من واجبتنا تجاه الحضارات القديمة في وطننا المملكة العربية السعودية المحافظة عليها .
- ٣ - تقع حضارة ثمود في مدائن صالح في مصر .

ورقة عمل درس : (شبه الجزيرة العربية : السكان وأحوالهم)

اسم الطالب / الصف : رابع /

س / سكن العرب أرض شبه الجزيرة العربية منذ آلاف السنين ، وينقسمون إلى قسمين اذكرهما .

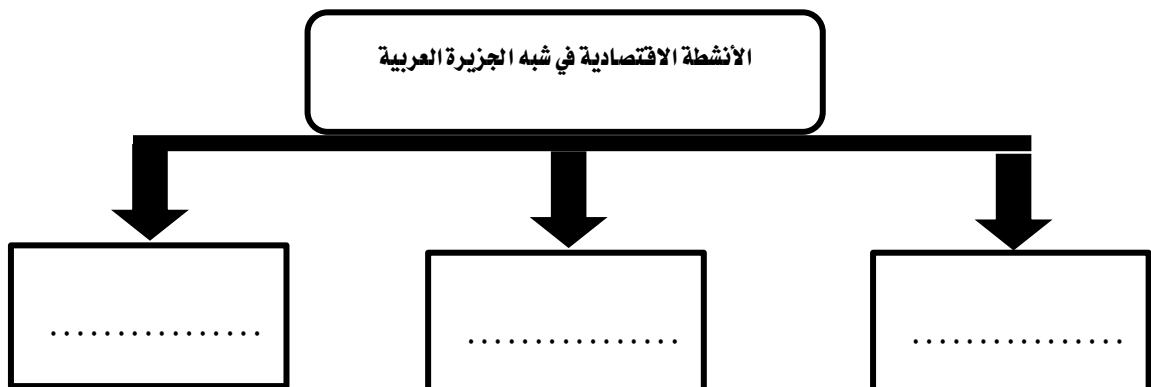
١ -

٢ -

س / ضع علامة (√) أمام العبارة الصحيحة وعلامة (×) أمام العبارة الخاطئة فيما يلي :

- ١ - الحنيفة هي ملة إبراهيم عليه السلام .
- ٢ - اتسم العرب بالقيم الأخلاقية الحميدة .
- ٣ - كانت النزاعات والحروب هي السمة البارزة بين القبائل في شبه الجزيرة العربية قبل الإسلام .

س / عدد أهم الأنشطة الاقتصادية في شبه الجزيرة العربية :



المملكة العربية السعودية

وزارة التعليم

إدارة التعليم بمنطقة

مدرسة



وزارة التعليم

Ministry of Education

ورقة عمل درس : (قبلة المسلمين)

اسم الطالب / / الصف : رابع /

س / أكمل الفراغات التالية بما يناسب :

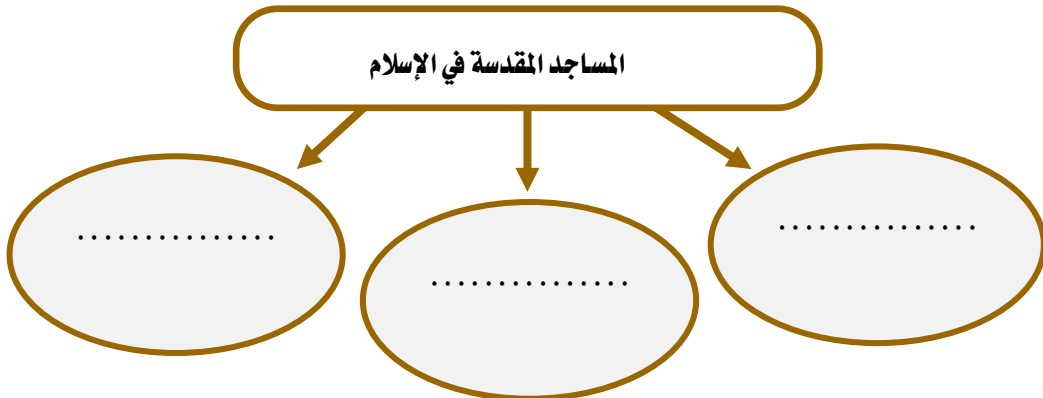
• أول قبلة للمسلمين قبل الكعبة المشرفة هي

• تقع قبلة المسلمين في وفيها المدن المقدسة الآتية :

• و

• يقع بيت المقدس في ويقع مسجد القبلتين في

س / عدد المساجد المقدسة في الإسلام :



المملكة العربية السعودية

وزارة التعليم

إدارة التعليم بمنطقة

مدرسة



وزارة التعليم

Ministry of Education

ورقة عمل درس : (الآثار)

اسم الطالب / / الصف : رابع /

س / في وطنك المملكة العربية السعودية أثار تعود في تاريخها إلى آلاف السنين اذكرها .

..... / ١

..... / ٢

..... / ٣

..... / ٤

س / اختر الاجابة الصحيحة فيما يلي :

١	يقع المتحف الوطني في بلادي في :	جدة	الرياض	الطائف
٢	تقع آثار الأخدود في:	حائل	نجران	جازان
٣	تقع مدائن صالح في :	العلا	الدمام	الرياض

س / لماذا نهتم بالآثار؟

..... / ج

.....

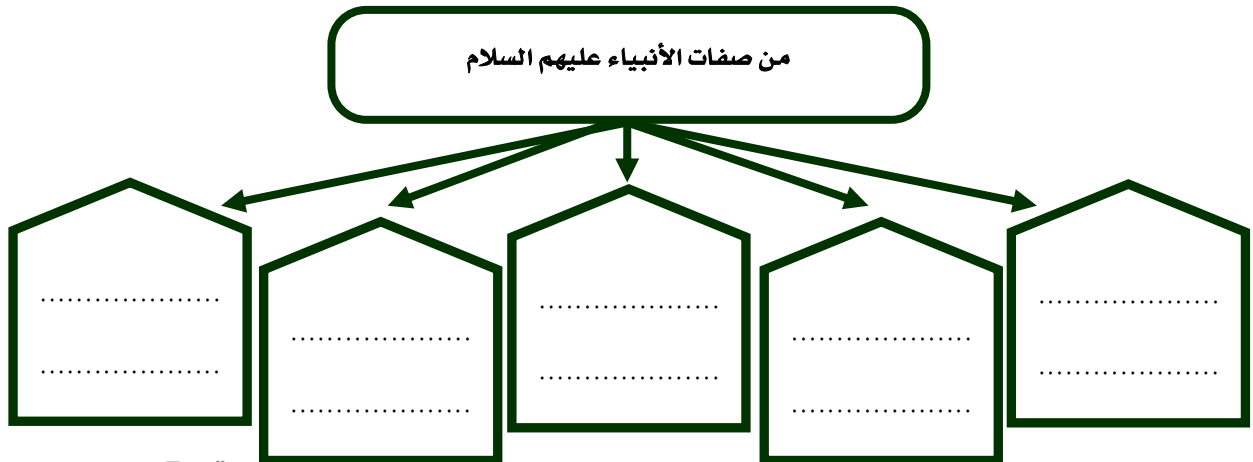
ورقة عمل درس : (آدم ونوح عليهما السلام)

اسم الطالب / الصف : رابع /

س / ضع علامة (√) أمام العبارة الصحيحة وعلامة (×) أمام العبارة الخاطئة فيما يلي :

- ١- أول نبي من أنبياء الله تعالى هو آدم عليه السلام .
- ٢- جميع البشر بمختلف ألوانهم وأشكالهم هم من ذرية آدم عليه السلام .
- ٣- أخذ نبي الله نوح يدعو في قومه إلى توحيد الله ٩٥٠ عاماً .
- ٤- أمر الله عز وجل نوحاً عليه السلام ببناء الحصون والقلاع لنجاتهم .

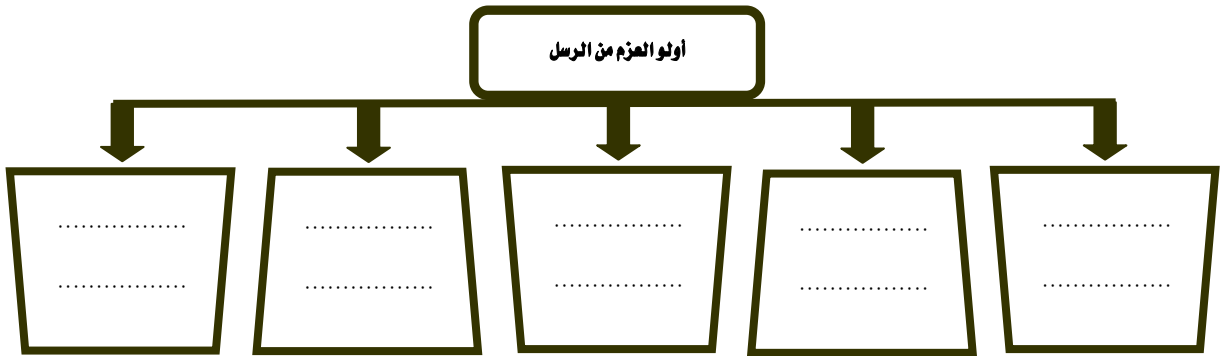
س / اذكر بعضاً من صفات الأنبياء عليهم السلام .



ورقة عمل درس : (أولو العزم من الرسل)

اسم الطالب / الصف : رابع /

س / اذكر أسماء أولي العزم من الرسل فيما يلي :



س / اكتب أسماء الكتب السماوية المنزلة على الأنبياء عليهم السلام أمام كل نبي فيما يلي :

الكتب المنزل عليهم	الانبياء عليهم السلام
.....	١ - موسى عليه السلام
.....	٢ - عيسى عليه السلام
.....	٣ - محمد صلى الله عليه وسلم

س / بم يلقب الأنبياء التالية أسماؤهم :

١ - إبراهيم عليه السلام /

٢ - موسى عليه السلام /

٣ - عيسى عليه السلام /

ورقة عمل درس : (نسب النبي صلى الله عليه وسلم ونشأته)

اسم الطالب / الصف : رابع /

س / اذكر نسب نبينا محمد صلى الله عليه وسلم .

ج /

س / ضع الرقم في المجموعة (أ) أمام ما يناسب في المجموعة (ب) :

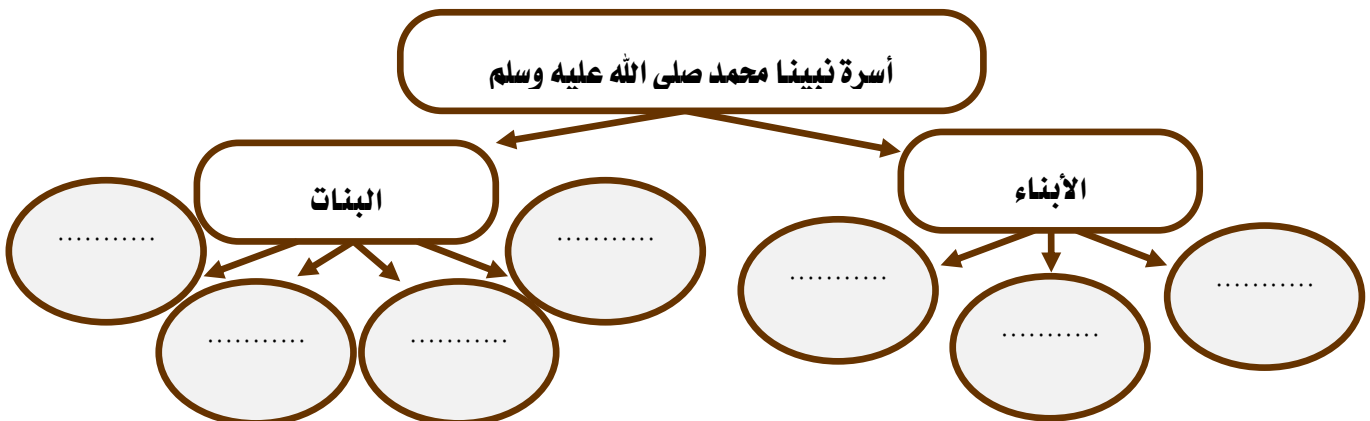
(ب)	(أ)
() خديجة رضي الله عنها	١ - ولد نبينا محمد صلى الله عليه وسلم
() حليلة السعدية	٢ - مرضعة نبينا محمد صلى الله عليه وسلم
() في عام الفيل	٣ - من زوجات نبينا محمد صلى الله عليه وسلم

س / اشتهر نبينا محمد صلى الله عليه وسلم بصفتين اذكرهما ؟

٢ -

١ -

س / عدد أسرة نبينا محمد صلى الله عليه وسلم في الشكل التالي ؟



ورقة عمل درس : (بعثة النبي صلى الله عليه وسلم)

اسم الطالب / / الصف : رابع /

س / ضع علامة (√) أمام العبارة الصحيحة وعلامة (×) أمام العبارة الخاطئة فيما يلي :

١ - نزل الوحي على نبيينا محمد صلى الله عليه وسلم في غار حراء .

٢ - أول من آمن بدعوة نبيينا محمد صلى الله عليه وسلم من الرجال أبو بكر الصديق رضي الله عنه .

٣ - أول هجرة في الإسلام إلى الحبشة .

س / اذكر معجزات نبيينا محمد صلى الله عليه وسلم :

معجزات نبيينا محمد صلى الله عليه وسلم

.....

.....



ورقة عمل درس : (الهجرة إلى المدينة المنورة)

اسم الطالب / الصف : رابع /

س / ضع علامة (√) أمام العبارة الصحيحة وعلامة (×) أمام العبارة الخاطئة فيما يلي :

- ١ - هاجر نبينا محمد صلى الله عليه وسلم إلى المدينة عندما اشتد أذى المشركين له .
- ٢ - نشر نبينا محمد صلى الله عليه وسلم الأمن والسلام في مجتمع المدينة .
- ٣ - تدل وثيقة المدينة على التسامح .

س / حرص نبينا محمد صلى الله عليه وسلم عندما وصل إلى المدينة على القيام بعدة أعمال ، اذكر اثنين منها :

- ١ -
- ٢ -

س / اختر الاجابة الصحيحة فيما يلي :

١	هاجر مع نبينا محمد صلى الله عليه وسلم :	أبو بكر الصديق رضي الله عنه	عمر بن الخطاب رضي الله عنه	علي بن أبي طالب رضي الله عنه
٢	من معالم المدينة المنورة :	المسجد النبوي	غار حراء	الكعبة المشرفة



ورقة عمل درس : (غزوات النبي صلى الله عليه وسلم)

اسم الطالب / / الصف : رابع /

س / صل الأحداث بسنة وقوعها بالاستعانة بالأرقام في الجدول الآتي :

سنة وقوعها	الغزوة
() سنة ٨هـ	١ - غزوة بدر
() سنة ٦هـ	٢ - غزوة أحد
() سنة ٥هـ	٣ - غزوة الأحزاب
() سنة ٣هـ	٤ - صلح الحديبية
() سنة ٢هـ	٥ - فتح مكة

س / ضع علامة (√) أمام العبارة الصحيحة وعلامة (×) أمام العبارة الخاطئة فيما يلي :

- ١ - انتصر المسلمون في معركة بدر .
- ٢ - هُزم المسلمون في معركة أحد لمخالفة الرماة لأوامر النبي صلى الله عليه وسلم .
- ٣ - سلمان الفارسي صاحب فكرة حفر الخندق .
- ٤ - صلح الحديبية عقد بين المسلمين وكفار قريش .