

تم تحميل وعرض المادة من



موقع مادتي هو موقع تعليمي يعمل على مساعدة المعلمين والطلاب وأولياء الأمور في تقديم حلول الكتب المدرسية والاختبارات وشرح الدروس والملاحظات والتحاير وتوزيع المنهج لكل المراحل الدراسية بشكل واضح وسهل مجاناً بتصفح وعرض مباشر أونلاين وتحميل على موقع مادتي

حمل تطبيق مادتي ليصلك كل جديد



30	الدرجة	محمد القرني	اسم الطالب/ة
----	--------	-------------	--------------

16 درجة

السؤال الأول:

أ ضع/ي علامة ( √ ) امام العبارة الصائبة وعلامة ( x ) امام العبارة الخاطئة ؟

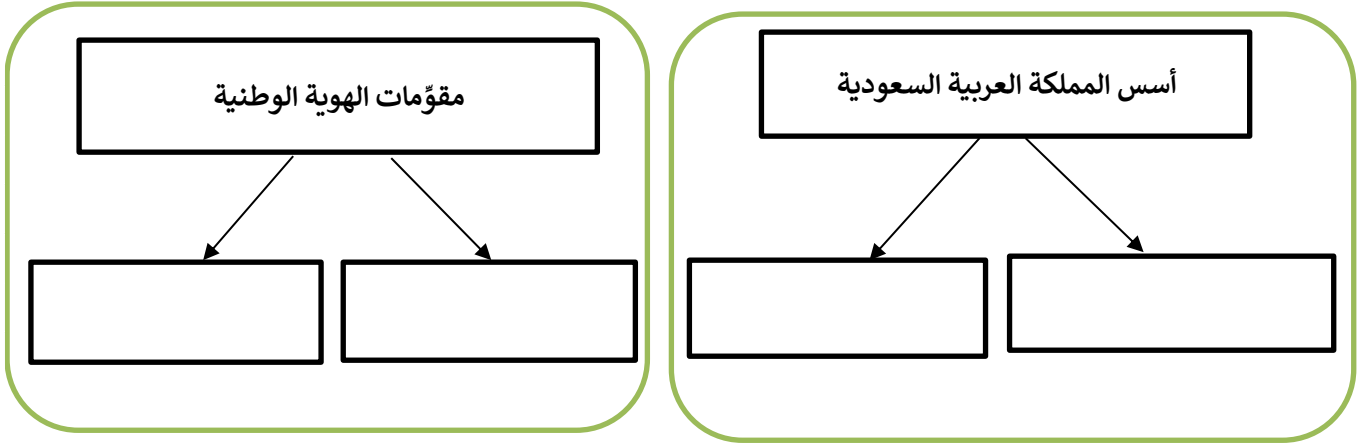
1	رؤية المملكة 2030 تعدُّ نموذجاً فريداً للتخطيط التنموي والمستقبلي للوطن
2	علم بلادي المملكة العربية السعودية لا يُنكس أبداً
3	من مصادر قوة وطني انها دولة اسلامية تحكم بالشريعة الاسلامية وفق القرآن و السنة
4	تحدد أجهزة ( GPS ) الأماكن على سطح الأرض بدقة عالية
5	اختلاف المعلومات التي تقدمها الخرائط أدى الى تنوعها .
6	تمنح الأوسمة السعودية للملوك و رؤساء الدول وشخصيات مدنية و عسكرية.
7	تشابه جميع الرموز و الرسوم في كل مفاتيح الخرائط
8	شعار المملكة العربية السعودية الرسمي هو سيفان متقاطعان وسطهما نخلة

ب ضع/ي الأرقام الموجودة أمام المجموعة الأولى أمام ما يناسبها من المجموعة الثانية ؟

الرقم	المجموعة الاولى	الرقم	المجموعة الثانية
1	إطار الخريطة		خطوط الطول و دوائر العرض
2	شبكة الاحداثيات		اسم يحدد موضوع الخريطة
3	عنوان الخريطة		قراءة معلومات الخريطة
4	اتجاه الخريطة		ما يحيط بالخريطة من الخارج
			المؤشر الذي يبين اتجاه الشمال

ج اليوم الوطني و يوم التأسيس مناسبتين غالية وعزيزة علينا قارن بينهما وفق الجدول أدناه ؟

اليوم الوطني	وجه المقارنة	يوم التأسيس
	موعدھا ( تاريخھا )	
	سبب الاحتفاء	



اختر الاجابة الصائبة والصحيحة لما يأتي؟

ب

1	تحتفل المملكة العربية السعودية بيوم العلم في .....	من كل عام .
أ	11 مارس	ب
ب	10 يناير	ج
ج	15 فبراير	د
د	23 أكتوبر	
2	كل مايلي من مكونات نظام تحديد المواقع العالمي ( GPS ) ماعدا :	
أ	قسم الاقمار الصناعية	ب
ب	قسم التحكم	ج
ج	قسم المستخدم	د
د	قسم الصور	
3	نظام الحكم في وطني المملكة العربية السعودية .....	
أ	جمهوري	ب
ب	حزبي	ج
ج	ملي	د
د	نيابي	
4	علم بلادتي المملكة العربية السعودية لونه .....	زاه و زمردني :
أ	ابيض	ب
ب	اخضر	ج
ج	ازرق	د
د	احمر	
5	هي صورة تلتقط لجزء من سطح الارض بالطائرات المزودة بآلات تصوير :	
أ	الصور الجوية	ب
ب	علم المساحة	ج
ج	الخريطة	د
د	GPS	
6	العلم الذي يبحث في طرائق مختلفة لتمثيل سطح الارض :	
أ		ب
ب		ج
ج		د
د		
7	قلادة الملك عبدالعزيز أحد الأوسمة السعودية من الدرجة :	
أ	الأولى	ب
ب	الثانية	ج
ج	الثالثة	د
د	الرابعة	
8	النسبة بين البعد على الخريطة و مايقابله على الطبيعة :	
أ	البوصلة	ب
ب	مفتاح الخريطة	ج
ج	مقياس الرسم	د
د	المساحة	
9	الخرائط ..... هي التي تُمثل مناطق نزول الامطار والرياح والرطوبة ودرجة الحرارة :	
أ	المناخية	ب
ب	التضاريسية	ج
ج	التاريخية	د
د	السياسية	

← انتهت الاسئلة ←

مدير المدرسة: .....

معلم المادة: محمد القرني

# نموذج الاجابة

اسم الطالب/ة	محمد القرني	الدرجة	اجابة	30
--------------	-------------	--------	-------	----

16 درجة

## السؤال الأول:

ضع/ي علامة ( √ ) امام العبارة الصائبة وعلامة ( x ) امام العبارة الخاطئة ؟

أ

1	رؤية المملكة 2030 تعدُّ نموذجاً فريداً للتخطيط التنموي والمستقبلي للوطن	√
2	علم بلادي المملكة العربية السعودية لا يُنكس أبداً	√
3	من مصادر قوة وطني انها دولة اسلامية تحكم بالشريعة الاسلامية وفق القرآن و السنة	√
4	تحدد أجهزة ( GPS ) الأماكن على سطح الأرض بدقة عالية	√
5	اختلاف المعلومات التي تقدمها الخرائط أدى الى تنوعها .	√
6	تمنح الأوسمة السعودية للملوك و رؤساء الدول وشخصيات مدنية و عسكرية.	√
7	تشابه جميع الرموز و الرسوم في كل مفاتيح الخرائط	x
8	شعار المملكة العربية السعودية الرسمي هو سيفان متقاطعان وسطهما نخلة	√

ضع/ي الأرقام الموجودة أمام المجموعة الأولى أمام ما يناسبها من المجموعة الثانية ؟

ب

الرقم	المجموعة الأولى	الرقم	المجموعة الثانية
1	إطار الخريطة	2	خطوط الطول و دوائر العرض
2	شبكة الاحداثيات	3	اسم يحدد موضوع الخريطة
3	عنوان الخريطة	1	قراءة معلومات الخريطة
4	اتجاه الخريطة	4	ما يحيط بالخريطة من الخارج
			المؤشر الذي يبين اتجاه الشمال

اليوم الوطني و يوم التأسيس مناسبتين غالية و عزيزة علينا قارن بينهما وفق الجدول أدناه ؟

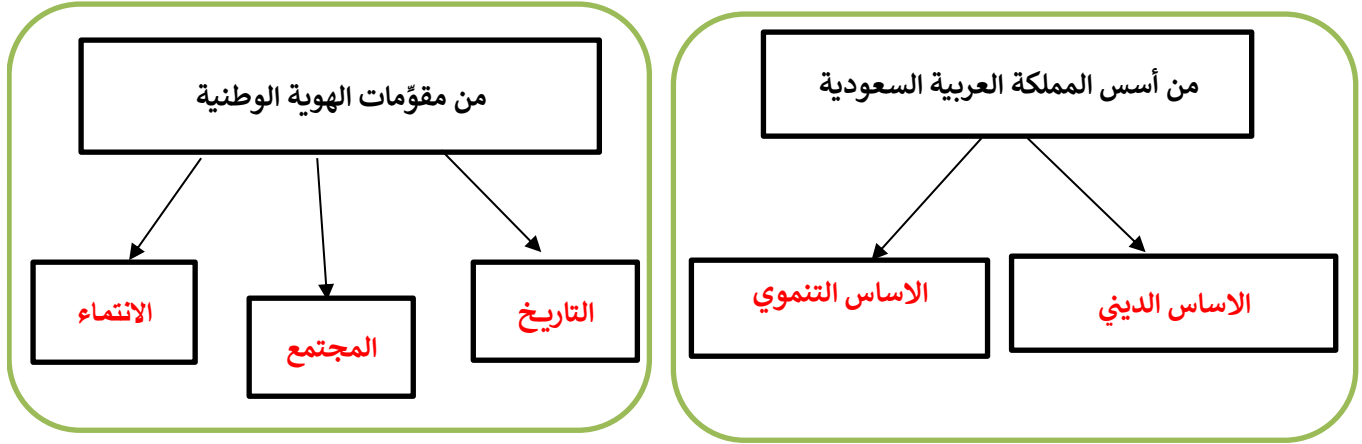
ج

اليوم الوطني	وجه المقارنة	يوم التأسيس
23 سبتمبر من كل عام	موعدھا ( تاريخھا )	22 فبراير من كل عام
ذكرى توحيد البلاد باسم المملكة العربية السعودية عام 1351هـ على يد الملك عبدالعزيز	سبب الاحتفاء	ذكرى تأسيس الدولة السعودية الاولى عام 1139هـ على يد الامام محمد بن سعود

أقلب/ي الورقة

أكمل خرائط المفاهيم التالية ؟

أ



اختر الاجابة الصائبة والصحيحة لما يأتي؟

ب

1	تحتفل المملكة العربية السعودية بيوم العلم في .....	أ	11 مارس	ب	10 يناير	ج	15 فبراير	د	23 أكتوبر
2	كل مايلي من مكونات نظام تحديد المواقع العالمي ( GPS ) ماعدا :	أ	قسم الاقمار الصناعية	ب	قسم التحكم	ج	قسم المستخدم	د	قسم الصور
3	نظام الحكم في وطني المملكة العربية السعودية .....	أ	جمهوري	ب	حزبي	ج	ملي	د	نيابي
4	علم بلادتي المملكة العربية السعودية لونه .....	أ	ابيض	ب	اخضر	ج	ازرق	د	احمر
5	هي صورة تلتقط لجزء من سطح الارض بالطائرات المزودة بآلات تصوير :	أ	الصور الجوية	ب	علم المساحة	ج	الخريطة	د	GPS
6	العلم الذي يبحث في طرائق مختلفة لتمثيل سطح الارض :	أ	الخريطة	ب	الصور الرأسية	ج	الصور المائلة	د	علم المساحة
7	قلادة الملك عبدالعزيز أحد الأوسمة السعودية من الدرجة :	أ	الأولى	ب	الثانية	ج	الثالثة	د	الرابعة
8	النسبة بين البعد على الخريطة و مايقابله على الطبيعة :	أ	البوصلة	ب	مفتاح الخريطة	ج	مقياس الرسم	د	المساحة
9	الخرائط ..... هي التي تمثل مناطق نزول الامطار والرياح والرطوبة ودرجة الحرارة :	أ	المناخية	ب	التضاريسية	ج	التاريخية	د	السياسية

← انتهت الاسئلة ←

مدير المدرسة: .....

معلم المادة: محمد القرني

المادة:	الدراسات الاجتماعية	<p>بسم الله الرحمن الرحيم</p>  <p>وزارة التعليم Ministry of Education</p>	<p>المملكة العربية السعودية</p> <p>وزارة التعليم</p> <p>... ..</p> <p>مدرسة: ... ..</p>
الاختبار:	اختبار الفترة الفصل الدراسي الثاني		
الصف:	الثالث متوسط		
الزمن:	٤٥ دقيقة		
الفترة:	الاولى		

اسم الطالب	
	٣٠

السؤال 1: اختر الإجابة الصحيحة:	20
---------------------------------	----

1	أي من الخيارات التالية يُعد مثلاً على المسؤولية الوطنية؟	(أ) المحافظة على الصلوات المفروضة	(ب) الالتزام تجاه الأسرة	(ج) تحقيق الانتماء والولاء والالتزام بالأنظمة	(د) تطوير المهارات الذاتية والشخصية
2	أي مما يلي يُعد من أبرز مظاهر الاعتزاز بالوطن والافتخار به؟	(أ) السفر للخارج	(ب) الاعتزاز باللغة العربية	(ج) الاعتماد على اللغات الأجنبية	(د) إهمال التراث
3	في أي عام تم إعلان توحيد المملكة العربية السعودية على يد الملك عبدالعزيز؟	(أ) 1319 هـ	(ب) 1351 هـ	(ج) 1332 هـ	(د) 1343 هـ
4	يعود تاريخ بدء منح الأوسمة في المملكة العربية السعودية إلى عهد الملك:	(أ) سعود بن عبدالعزيز	(ب) فيصل بن عبدالعزيز	(ج) عبدالعزيز بن عبد الرحمن	(د) خالد بن عبدالعزيز
5	يُصنف (وشاح الملك عبدالعزيز) ضمن أوسمة الدرجة:	(أ) الأولى	(ب) الثانية	(ج) الثالثة	(د) الرابعة
6	إحدى فوائد الانتماء للوطن هي:	(أ) زيادة الشائعات	(ب) تحقيق الاستقرار النفسي	(ج) الانقسام الاجتماعي	(د) إضعاف الوحدة الوطنية
7	أي مما يلي يُعد مثلاً على التخطيط المستقبلي الشامل ضمن الأساس التنموي؟	(أ) تصدير النفط الخام فقط	(ب) رؤية 2030	(ج) زيادة الاستيراد	(د) تجميد المشاريع
8	ما هو التعريف الصحيح لمفهوم المسؤولية وفقاً لما ورد في الدرس؟	(أ) هي القدرة على التهرب من الواجبات وإلقاء اللوم على الآخرين	(ب) هي قدرة الشخص على أداء واجباته وتحمل نتائج أقواله وأفعاله	(ج) هي السلطة المطلقة للتحكم في الآخرين دون ضوابط	(د) هي الاعتماد الكلي على الوالدين في جميع شؤون الحياة
9	متى بدأ تأسيس الدولة السعودية الأولى؟	(أ) في عام 850 هـ	(ب) في عام 1139 هـ	(ج) في عام 1240 هـ	(د) في عام 1351 هـ

10	يُصنف (التطوع في المجتمع) ضمن أي نوع من أنواع المسؤولية؟		
	(أ) المسؤولية الذاتية	(ب) المسؤولية الوطنية	(ج) المسؤولية الاجتماعية
	(د) المسؤولية العالمية		
11	إلى كم سنة تمتد جذور الإرث التاريخي للمملكة العربية السعودية تقريباً؟		
	(أ) أكثر من 100 سنة	(ب) أكثر من 300 سنة	(ج) أكثر من 590 سنة
	(د) أكثر من 1000 سنة		
12	تُمنح الأوسمة السعودية بأوامر ملكية تكريماً وتقديراً لمن قام بـ:		
	(أ) أعمال تجارية خاصة	(ب) أعمال جليلية أو لتخليد وقائع مهمة	(ج) زيارات سياحية عادية
	(د) دراسات غير معتمدة		
13	أي مما يلي يُعد خطوة أساسية لكي تتحمل المسؤولية كما ورد في الدرس؟		
	(أ) الاعتماد على الآخرين في إنجاز الأعمال	(ب) الاستبداد بالرأي ورفض النقد	(ج) تجنب العمل بجهد واجتهاد
	(د) الاعتماد على الله ثم على النفس والالتزام بالأخلاق		
14	من هو المواطن المسؤول الذي يدرك انتماءه للوطن ويؤدي واجباته تجاهه؟		
	(أ) المواطن الصالح	(ب) المقيم	(ج) السائح
	(د) الموظف الحكومي		
15	كم كان عمر الملك عبدالعزيز-رحمه الله- عندما خرج مع والده وأسرته من الرياض؟		
	(أ) عشر سنوات	(ب) ستة عشر عاماً	(ج) خمسة وعشرون عاماً
	(د) ثلاثون عاماً		
16	كيف يتحقق الولاء لولي الأمر (الملك) وفقاً لما ورد في الدرس؟		
	(أ) بالعمل الفردي فقط	(ب) بالسمع والطاعة والتقدير والوفاء بالعهد	(ج) بالانعزال عن المجتمع
	(د) بالاهتمام بالمصالح الشخصية فقط		
17	أي من الأوسمة التالية يُمنح للمتميزين في مجال خدمة الإسلام والمجال الدبلوماسي والمجالات العسكرية والأمنية؟		
	(أ) وسام الملك سعود	(ب) وسام الملك فيصل	(ج) وسام الملك خالد
	(د) وسام الملك فهد		
18	يُمنح وسام الملك خالد للمتميزين في عدة مجالات منها:		
	(أ) خدمة اللغة العربية والتراث الوطني	(ب) القضاء والمهن الحرة	(ج) المجال العسكري والأمني
	(د) العلوم والفنون والآداب		
19	من حقوق المواطن السعودي التي كفلتها الدولة في مجال الصحة:		
	(أ) توفير الرعاية الصحية	(ب) توفير السكن المجاني للجميع	(ج) توزيع الأدوية دون وصفة
	(د) فرض رسوم عالية على العلاج		
20	ما هو دستور المملكة العربية السعودية وفقاً للأساس الديني؟		
	(أ) القوانين الدولية	(ب) كتاب الله وسنة نبيه	(ج) الدساتير الوضعية
	(د) الأعراف القبلية		

السؤال 2: ضع علامة (✓) أو (X) أمام العبارات التالية:

#	العبارة	الإجابة
1	الأساس التنموي يعني استغلال الموارد الطبيعية دون الاهتمام بالموارد البشرية.	( )
2	استخدام الإنترنت لفترات زمنية طويلة جداً دون ضوابط يُعد استخداماً مسؤولاً.	( )
3	الانتماء للوطن يتعارض مع الأمر الشرعي الوارد في القرآن والسنة.	( )

( )	حاول الملك عبدالعزيز استرداد الرياض أول مرة عندما كان عمره خمسة وعشرين عاماً ولم يتمكن من ذلك في المحاولة الأولى.	4
( )	تقتصر الأوسمة السعودية على الشخصيات العسكرية فقط ولا تُمنح للمدنيين.	5
( )	يُمنح وسام الملك سلمان للمتميزين في مجالات التاريخ الوطني والعربي والإسلامي.	6
( )	من فوائد المسؤولية أنها تؤدي إلى مزيد من الثقة بالنفس وثقة الآخرين بك.	7
( )	يُمنح وسام الملك فهد للمتميزين في مجالات منها الطب والعلوم والفنون والآداب.	8
( )	تُعد قلادة بدر الكبرى وقلادة الملك عبدالعزيز من أوسمة الدرجة الأولى.	9
( )	قبول النقد الموضوعي الصادق والحذر من التأثير بالتعثر من صفات الشخص المسؤول.	10

انتهت الأسئلة ... بالتوفيق

الاستاذ/محمود القيسي

تجميعات ابورايد

المادة:	الدراسات الاجتماعية	بسم الله الرحمن الرحيم  وزارة التعليم Ministry of Education	المملكة العربية السعودية
الاختبار:	اختبار الفترة الفصل الدراسي الثاني		وزارة التعليم
الصف:	الثالث متوسط		... ..
الزمن:	٤٥ دقيقة		مدرسة: ... ..
الفترة:	الاولى		

# نموذج الاجابة

اسم الطالب	
٣٠	

السؤال 1: اختر الإجابة الصحيحة:	20
---------------------------------	----

1	أي من الخيارات التالية يُعد مثلاً على المسؤولية الوطنية؟	(أ) المحافظة على الصلوات المفروضة	(ب) الالتزام تجاه الأسرة	(ج) تحقيق الانتماء والولاء والالتزام بالأنظمة	(د) تطوير المهارات الذاتية والشخصية
2	أي مما يلي يُعد من أبرز مظاهر الاعتزاز بالوطن والافتخار به؟	(أ) السفر للخارج	(ب) الاعتزاز باللغة العربية	(ج) الاعتماد على اللغات الأجنبية	(د) إهمال التراث
3	في أي عام تم إعلان توحيد المملكة العربية السعودية على يد الملك عبدالعزيز؟	(أ) 1319 هـ	(ب) 1351 هـ	(ج) 1332 هـ	(د) 1343 هـ
4	يعود تاريخ بدء منح الأوسمة في المملكة العربية السعودية إلى عهد الملك:	(أ) سعود بن عبدالعزيز	(ب) فيصل بن عبدالعزيز	(ج) عبدالعزيز بن عبدالرحمن	(د) خالد بن عبدالعزيز
5	يُصنف (وشاح الملك عبدالعزيز) ضمن أوسمة الدرجة:	(أ) الأولى	(ب) الثانية	(ج) الثالثة	(د) الرابعة
6	إحدى فوائد الانتماء للوطن هي:	(أ) زيادة الشائعات	(ب) تحقيق الاستقرار النفسي	(ج) الانقسام الاجتماعي	(د) إضعاف الوحدة الوطنية
7	أي مما يلي يُعد مثلاً على التخطيط المستقبلي الشامل ضمن الأساس التنموي؟	(أ) تصدير النفط الخام فقط	(ب) رؤية 2030	(ج) زيادة الاستيراد	(د) تجميد المشاريع
8	ما هو التعريف الصحيح لمفهوم المسؤولية وفقاً لما ورد في الدرس؟	(أ) هي القدرة على التهرب من الواجبات وإلقاء اللوم على الآخرين	(ب) هي قدرة الشخص على أداء واجباته وتحمل نتائج أقواله وأفعاله	(ج) هي السلطة المطلقة للتحكم في الآخرين دون ضوابط	(د) هي الاعتماد الكلي على الوالدين في جميع شؤون الحياة
9	متى بدأ تأسيس الدولة السعودية الأولى؟	(أ) في عام 850 هـ	(ب) في عام 1139 هـ	(ج) في عام 1240 هـ	(د) في عام 1351 هـ

10	يُصنف (التطوع في المجتمع) ضمن أي نوع من أنواع المسؤولية؟		
	(أ) المسؤولية الذاتية	(ب) المسؤولية الوطنية	(ج) المسؤولية الاجتماعية
11	إلى كم سنة تمتد جذور الإرث التاريخي للمملكة العربية السعودية تقريباً؟		
	(أ) أكثر من 100 سنة	(ب) أكثر من 300 سنة	(ج) أكثر من 590 سنة
12	تُمنح الأوسمة السعودية بأوامر ملكية تكريماً وتقديراً لمن قام بـ:		
	(أ) أعمال تجارية خاصة	(ب) أعمال جليلية أو لتخليد وقائع مهمة	(ج) زيارات سياحية عادية
13	أي مما يلي يُعد خطوة أساسية لكي تتحمل المسؤولية كما ورد في الدرس؟		
	(أ) الاعتماد على الآخرين في إنجاز الأعمال	(ب) الاستبداد بالرأي ورفض النقد	(ج) تجنب العمل بجِد واجتهاد
14	من هو المواطن المسؤول الذي يدرك انتماءه للوطن ويؤدي واجباته تجاهه؟		
	(أ) المواطن الصالح	(ب) المقيم	(ج) السائح
15	كم كان عمر الملك عبدالعزيز-رحمه الله- عندما خرج مع والده وأسرته من الرياض؟		
	(أ) عشر سنوات	(ب) ستة عشر عاماً	(ج) خمسة وعشرون عاماً
16	كيف يتحقق الولاء لولي الأمر (الملك) وفقاً لما ورد في الدرس؟		
	(أ) بالعمل الفردي فقط	(ب) بالسمع والطاعة والتقدير والوفاء بالعهد	(ج) بالانعزال عن المجتمع
17	أي من الأوسمة التالية يُمنح للمتميزين في مجال خدمة الإسلام والمجال الدبلوماسي والمجالات العسكرية والأمنية؟		
	(أ) وسام الملك سعود	(ب) وسام الملك فيصل	(ج) وسام الملك خالد
18	يُمنح وسام الملك خالد للمتميزين في عدة مجالات منها:		
	(أ) خدمة اللغة العربية والتراث الوطني	(ب) القضاء والمهن الحرة	(ج) المجال العسكري والأمني
19	من حقوق المواطن السعودي التي كفلتها الدولة في مجال الصحة:		
	(أ) توفير الرعاية الصحية	(ب) توفير السكن المجاني للجميع	(ج) توزيع الأدوية دون وصفة
20	ما هو دستور المملكة العربية السعودية وفقاً للأساس الديني؟		
	(أ) القوانين الدولية	(ب) كتاب الله وسنة نبيه	(ج) الدساتير الوضعية

السؤال 2: ضع علامة (✓) أو (X) أمام العبارات التالية:

10

#	العبرة	الإجابة
1	الأساس التنموي يعني استغلال الموارد الطبيعية دون الاهتمام بالموارد البشرية.	X
2	استخدام الإنترنت لفترات زمنية طويلة جداً دون ضوابط يُعد استخداماً مسؤولاً.	X
3	الانتماء للوطن يتعارض مع الأمر الشرعي الوارد في القرآن والسنة.	X

✓	حاول الملك عبدالعزيز استرداد الرياض أول مرة عندما كان عمره خمسة وعشرين عاماً ولم يتمكن من ذلك في المحاولة الأولى.	4
X	تقتصر الأوسمة السعودية على الشخصيات العسكرية فقط ولا تُمنح للمدنيين.	5
✓	يُمنح وسام الملك سلمان للمتميزين في مجالات التاريخ الوطني والعربي والإسلامي.	6
✓	من فوائد المسؤولية أنها تؤدي إلى مزيد من الثقة بالنفس وثقة الآخرين بك.	7
✓	يُمنح وسام الملك فهد للمتميزين في مجالات منها الطب والعلوم والفنون والآداب.	8
✓	تُعد قلادة بدر الكبرى وقلادة الملك عبدالعزيز من أوسمة الدرجة الأولى.	9
✓	قبول النقد الموضوعي والصادق والحذر من التأثير بالتعثر من صفات الشخص المسؤول.	10

انتهت الأسئلة ... بالتوفيق

موقع  
**مادنتيرا**

المملكة العربية السعودية	إدارة تعليم	المادة : الدراسات الاجتماعية
وزارة التعليم	مدرسة	الصف: الثالث متوسط
اسم الطالب/ة:		اختبار الوحدة ٥ الفصل ٢



السؤال الأول: اختر الإجابة الصحيحة فيما يلي :

١	يتم الاحتفال باليوم الوطني للمملكة العربية السعودية في يوم						
أ	٢٣ ديسمبر	ب	٢٢ فبراير	ج	٢٣ سبتمبر	د	١ سبتمبر
٢	يتم الاحتفال بيوم العلم السعودي في يوم						
١	٢٣ سبتمبر	ب	١١ مارس	ج	١ يناير	د	٢٢ فبراير
٣	صدر الأمر الملكي بيوم التأسيس في عهد الملك						
أ	الملك سعود بن عبدالعزيز	ب	الملك فيصل بن عبدالعزيز	ج	الملك عبدالعزيز بن عبدالرحمن	د	الملك سلمان بن عبدالعزيز
٤	أعلى درجة من درجات الأوسمة السعودية؟						
أ	الدرجة الأولى	ب	الدرجة الثانية	ج	الدرجة الثالثة	د	الدرجة الرابعة
٥	تُمنح الأوسمة السعودية بموجب:						
أ	ترشيح وزاري	ب	تصويت شعبي	ج	قرار من مجلس الشورى	د	أمر ملكي
٦	الملك الذي أصدر المرسوم الملكي بتوحيد البلاد هو:						
أ	الملك سعود بن عبدالعزيز	ب	الملك فيصل بن عبدالعزيز	ج	الملك عبدالعزيز بن عبدالرحمن	د	الملك خالد بن عبدالعزيز
٧	يتكون عناصر التأسيس من						
أ	٣ عناصر	ب	٤ عناصر	ج	٥ عناصر	د	٦ عناصر
٨	عاصمة للدولة السعودية الأولى هي						
أ	الرياض	ب	الأحساء	ج	الدرعية	د	حريملاء
٩	أقر الشكل الأخير للعلم في عهد الملك :						
أ	الملك سعود بن عبدالعزيز	ب	الملك فيصل بن عبدالعزيز	ج	الملك عبدالعزيز بن عبدالرحمن	د	الملك خالد بن عبدالعزيز
١٠	قلادة بدر الكبرى من درجات أوسمة المملكة العربية السعودية :						
أ	الدرجة الأولى	ب	الدرجة الثانية	ج	الدرجة الثالثة	د	الدرجة الرابعة
١١	في أي عام ميلادي تأسست الدولة السعودية الأولى التي يحتفى بها في يوم التأسيس؟						
أ	١١٣٩هـ	ب	١٢٣٩هـ	ج	١٣٣٩هـ	د	١٠٣٩هـ
١٢	يرمز السيفان في شعار المملكة إلى						
أ	الحق	ب	القوة	ج	الشجاعة	د	الوحدة

السؤال الثاني: ضع إشارة ( √ ) أمام الإجابة الصحيحة وإشارة ( × ) أمام الإجابة الخاطئة:

١	تم إعلان توحيد البلاد باسم المملكة العربية السعودية عام ١٣٤١ هـ
٢	نحتفل باليوم الوطني تعميقاً للانتماء للوطن وولاءً للملك.
٣	من عناصر شعار يوم التأسيس " الخيل العربية "
٤	تتميز المملكة العربية السعودية بآرث تاريخي عريق امتدت جذوره إلى أكثر من ٩٥٠ سنة.
٥	من مهددات الهوية الوطنية " الجرائم الإلكترونية "
٦	يتميز العلم السعودي عن غيره من اعلام الدول الأخرى بأنه لا يُنكس ابدأ
٧	يقوم حكم المملكة العربية السعودية على الشريعة الإسلامية.
٨	تعتبر المحافظة على اللغة العربية واستخدامها جزءاً أساسياً من تعزيز الهوية الوطنية
٩	تأسيس الدولة السعودية الأولى على يد الإمام سعود بن محمد
١٠	يُسمح برفع العلم السعودي حتى لو كان لونه باهتاً أو في حالة سيئة
١١	اليوم الوطني هو مناسبة لتذكر نعمة الوحدة والأمن التي تحققت بفضل الله ثم بجهود المؤسسين
١٢	بدأ تاريخ منح الأوسمة في المملكة العربية السعودية في عهد الملك فهد بن عبدالعزيز
١٣	تعد الوحدة الوطنية التي تحققت في عهد الملك عبد العزيز من أبرز مميزات الهوية السعودي
١٤	تقوم المملكة العربية السعودية بخدمة الحرمين الشريفين والمسلمين في أنحاء العالم كجزء من أساسها الديني
١٥	يركز الأساس التنموي للمملكة على استغلال الموارد الطبيعية فقط دون الاهتمام بتنمية الإنسان
١٦	تقتصر الأوسمة السعودية على تكريم المواطنين السعوديين فقط
١٧	أحد أبرز أسباب الاحتفاء بيوم التأسيس هو تقدير ما أرسته الدولة من وحدة وأمن
١٨	من أسباب احتفالنا باليوم الوطني هو استذكار تاريخنا والفخر بإنجازات وطننا

الاسم

	٩	٨	٧	٦	٥	٤	٣	٢	١	٠	
	٩	٨	٧	٦	٥	٤	٣	٢	١	٠	
	٩	٨	٧	٦	٥	٤	٣	٢	١	٠	

---

	١	٢	٣	٤	٥	٦	٧
١	٢	٣	٤	٥	٦	٧	٨
١	٢	٣	٤	٥	٦	٧	٨

---

	١	٢	٣	٤
١	٢	٣	٤	٥
١	٢	٣	٤	٥

انتهت الأسئلة

السؤال الأول: اختر الإجابة الصحيحة فيما يلي :

١	يتم الاحتفال باليوم الوطني للمملكة العربية السعودية في يوم	أ	٢٣ ديسمبر	ب	٢٢ فبراير	ج	٢٣ سبتمبر	د	١ سبتمبر
٢	يتم الاحتفال بيوم العلم السعودي في يوم	١	٢٣ سبتمبر	ب	١١ مارس	ج	١ يناير	د	٢٢ فبراير
٣	صدر الأمر الملكي بيوم التأسيس في عهد الملك	أ	الملك سعود بن عبدالعزيز	ب	الملك فيصل بن عبدالعزيز	ج	الملك عبدالعزيز بن عبدالرحمن	د	الملك سلمان بن عبدالعزيز
٤	أعلى درجة من درجات الأوسمة السعودية؟	أ	الدرجة الأولى	ب	الدرجة الثانية	ج	الدرجة الثالثة	د	الدرجة الرابعة
٥	تُمنح الأوسمة السعودية بموجب:	أ	ترشيح وزاري	ب	تصويت شعبي	ج	قرار من مجلس الشورى	د	أمر ملكي
٦	الملك الذي أصدر المرسوم الملكي بتوحيد البلاد هو:	أ	الملك سعود بن عبدالعزيز	ب	الملك فيصل بن عبدالعزيز	ج	الملك عبدالعزيز بن عبدالرحمن	د	الملك خالد بن عبدالعزيز
٧	يتكون عناصر التأسيس من	أ	٣ عناصر	ب	٤ عناصر	ج	٥ عناصر	د	٦ عناصر
٨	عاصمة للدولة السعودية الأولى هي	أ	الرياض	ب	الأحساء	ج	الدرعية	د	حريملاء
٩	أقر الشكل الأخير للعلم في عهد الملك :	أ	الملك سعود بن عبدالعزيز	ب	الملك فيصل بن عبدالعزيز	ج	الملك عبدالعزيز بن عبدالرحمن	د	الملك خالد بن عبدالعزيز
١٠	قلادة بدر الكبرى من درجات أوسمة المملكة العربية السعودية :	أ	الدرجة الأولى	ب	الدرجة الثانية	ج	الدرجة الثالثة	د	الدرجة الرابعة
١١	في أي عام ميلادي تأسست الدولة السعودية الأولى التي يحتفى بها في يوم التأسيس؟	أ	١١٣٩هـ	ب	١٢٣٩هـ	ج	١٣٣٩هـ	د	١٠٣٩هـ
١٢	يرمز السيفان في شعار المملكة إلى	أ	الحق	ب	القوة	ج	الشجاعة	د	الوحدة

السؤال الثاني: ضع إشارة ( √ ) أمام الإجابة الصحيحة وإشارة ( × ) أمام الإجابة الخاطئة:

×	١	تم إعلان توحيد البلاد باسم المملكة العربية السعودية عام ١٣٤١ هـ
✓	٢	نحتفل باليوم الوطني تعميقاً للانتماء للوطن وولاءً للملك.
✓	٣	من عناصر شعار يوم التأسيس " الخيل العربية "
✓	٤	تتميز المملكة العربية السعودية بإرث تاريخي عريق امتدت جذوره إلى أكثر من ٩٥٠ سنة.
✓	٥	من مهددات الهوية الوطنية " الجرائم الإلكترونية "
✓	٦	يتميز العلم السعودي عن غيره من اعلام الدول الأخرى بأنه لا يُنكس ابداً
✓	٧	يقوم حكم المملكة العربية السعودية على الشريعة الإسلامية.
✓	٨	تعتبر المحافظة على اللغة العربية واستخدامها جزءاً أساسياً من تعزيز الهوية الوطنية
×	٩	تأسس الدولة السعودية الأولى على يد الإمام سعود بن محمد
×	١٠	يُسمح برفع العلم السعودي حتى لو كان لونه باهتاً أو في حالة سيئة
✓	١١	اليوم الوطني هو مناسبة لتذكر نعمة الوحدة والأمن التي تحققت بفضل الله ثم بجهود المؤسسين
×	١٢	بدأ تاريخ منح الأوسمة في المملكة العربية السعودية في عهد الملك فهد بن عبدالعزيز
✓	١٣	تُعد الوحدة الوطنية التي تحققت في عهد الملك عبد العزيز من أبرز مميزات الهوية السعودي
✓	١٤	تقوم المملكة العربية السعودية بخدمة الحرمين الشريفين والمسلمين في أنحاء العالم كجزء من أساسها الديني
×	١٥	يركز الأساس التنموي للمملكة على استغلال الموارد الطبيعية فقط دون الاهتمام بتنمية الإنسان
×	١٦	تقتصر الأوسمة السعودية على تكريم المواطنين السعوديين فقط
✓	١٧	أحد أبرز أسباب الاحتفاء بيوم التأسيس هو تقدير ما أرسته الدولة من وحدة وأمن
✓	١٨	من أسباب احتفالنا باليوم الوطني هو استذكار تاريخنا والفخر بإنجازات وطننا

الاسم

<table style="width: 100%; border-collapse: collapse;"> <tr><td style="text-align: center;">١</td><td style="text-align: center;">( أ )</td><td style="text-align: center;">( ب )</td><td style="text-align: center;">( ج )</td><td style="text-align: center;">( د )</td></tr> <tr><td style="text-align: center;">٢</td><td style="text-align: center;">( أ )</td><td style="text-align: center;">( ب )</td><td style="text-align: center;">( ج )</td><td style="text-align: center;">( د )</td></tr> <tr><td style="text-align: center;">٣</td><td style="text-align: center;">( أ )</td><td style="text-align: center;">( ب )</td><td style="text-align: center;">( ج )</td><td style="text-align: center;">( د )</td></tr> <tr><td style="text-align: center;">٤</td><td style="text-align: center;">( أ )</td><td style="text-align: center;">( ب )</td><td style="text-align: center;">( ج )</td><td style="text-align: center;">( د )</td></tr> <tr><td style="text-align: center;">٥</td><td style="text-align: center;">( أ )</td><td style="text-align: center;">( ب )</td><td style="text-align: center;">( ج )</td><td style="text-align: center;">( د )</td></tr> <tr><td style="text-align: center;">٦</td><td style="text-align: center;">( أ )</td><td style="text-align: center;">( ب )</td><td style="text-align: center;">( ج )</td><td style="text-align: center;">( د )</td></tr> </table>	١	( أ )	( ب )	( ج )	( د )	٢	( أ )	( ب )	( ج )	( د )	٣	( أ )	( ب )	( ج )	( د )	٤	( أ )	( ب )	( ج )	( د )	٥	( أ )	( ب )	( ج )	( د )	٦	( أ )	( ب )	( ج )	( د )	<table style="width: 100%; border-collapse: collapse;"> <tr><td style="text-align: center;">٧</td><td style="text-align: center;">( أ )</td><td style="text-align: center;">( ب )</td><td style="text-align: center;">( ج )</td><td style="text-align: center;">( د )</td></tr> <tr><td style="text-align: center;">٨</td><td style="text-align: center;">( أ )</td><td style="text-align: center;">( ب )</td><td style="text-align: center;">( ج )</td><td style="text-align: center;">( د )</td></tr> <tr><td style="text-align: center;">٩</td><td style="text-align: center;">( أ )</td><td style="text-align: center;">( ب )</td><td style="text-align: center;">( ج )</td><td style="text-align: center;">( د )</td></tr> <tr><td style="text-align: center;">١٠</td><td style="text-align: center;">( أ )</td><td style="text-align: center;">( ب )</td><td style="text-align: center;">( ج )</td><td style="text-align: center;">( د )</td></tr> <tr><td style="text-align: center;">١١</td><td style="text-align: center;">( أ )</td><td style="text-align: center;">( ب )</td><td style="text-align: center;">( ج )</td><td style="text-align: center;">( د )</td></tr> <tr><td style="text-align: center;">١٢</td><td style="text-align: center;">( أ )</td><td style="text-align: center;">( ب )</td><td style="text-align: center;">( ج )</td><td style="text-align: center;">( د )</td></tr> </table>	٧	( أ )	( ب )	( ج )	( د )	٨	( أ )	( ب )	( ج )	( د )	٩	( أ )	( ب )	( ج )	( د )	١٠	( أ )	( ب )	( ج )	( د )	١١	( أ )	( ب )	( ج )	( د )	١٢	( أ )	( ب )	( ج )	( د )	<table style="width: 100%; border-collapse: collapse;"> <tr><td style="text-align: center;">١</td><td style="text-align: center;">( ص )</td><td style="text-align: center;">( خ )</td></tr> <tr><td style="text-align: center;">٢</td><td style="text-align: center;">( ص )</td><td style="text-align: center;">( خ )</td></tr> <tr><td style="text-align: center;">٣</td><td style="text-align: center;">( ص )</td><td style="text-align: center;">( خ )</td></tr> <tr><td style="text-align: center;">٤</td><td style="text-align: center;">( ص )</td><td style="text-align: center;">( خ )</td></tr> <tr><td style="text-align: center;">٥</td><td style="text-align: center;">( ص )</td><td style="text-align: center;">( خ )</td></tr> <tr><td style="text-align: center;">٦</td><td style="text-align: center;">( ص )</td><td style="text-align: center;">( خ )</td></tr> </table>	١	( ص )	( خ )	٢	( ص )	( خ )	٣	( ص )	( خ )	٤	( ص )	( خ )	٥	( ص )	( خ )	٦	( ص )	( خ )
١	( أ )	( ب )	( ج )	( د )																																																																												
٢	( أ )	( ب )	( ج )	( د )																																																																												
٣	( أ )	( ب )	( ج )	( د )																																																																												
٤	( أ )	( ب )	( ج )	( د )																																																																												
٥	( أ )	( ب )	( ج )	( د )																																																																												
٦	( أ )	( ب )	( ج )	( د )																																																																												
٧	( أ )	( ب )	( ج )	( د )																																																																												
٨	( أ )	( ب )	( ج )	( د )																																																																												
٩	( أ )	( ب )	( ج )	( د )																																																																												
١٠	( أ )	( ب )	( ج )	( د )																																																																												
١١	( أ )	( ب )	( ج )	( د )																																																																												
١٢	( أ )	( ب )	( ج )	( د )																																																																												
١	( ص )	( خ )																																																																														
٢	( ص )	( خ )																																																																														
٣	( ص )	( خ )																																																																														
٤	( ص )	( خ )																																																																														
٥	( ص )	( خ )																																																																														
٦	( ص )	( خ )																																																																														
<table style="width: 100%; border-collapse: collapse;"> <tr><td style="text-align: center;">١٣</td><td style="text-align: center;">( ص )</td><td style="text-align: center;">( خ )</td></tr> <tr><td style="text-align: center;">١٤</td><td style="text-align: center;">( ص )</td><td style="text-align: center;">( خ )</td></tr> <tr><td style="text-align: center;">١٥</td><td style="text-align: center;">( ص )</td><td style="text-align: center;">( خ )</td></tr> <tr><td style="text-align: center;">١٦</td><td style="text-align: center;">( ص )</td><td style="text-align: center;">( خ )</td></tr> <tr><td style="text-align: center;">١٧</td><td style="text-align: center;">( ص )</td><td style="text-align: center;">( خ )</td></tr> <tr><td style="text-align: center;">١٨</td><td style="text-align: center;">( ص )</td><td style="text-align: center;">( خ )</td></tr> </table>	١٣	( ص )	( خ )	١٤	( ص )	( خ )	١٥	( ص )	( خ )	١٦	( ص )	( خ )	١٧	( ص )	( خ )	١٨	( ص )	( خ )	<table style="width: 100%; border-collapse: collapse;"> <tr><td style="text-align: center;">٧</td><td style="text-align: center;">( ص )</td><td style="text-align: center;">( خ )</td></tr> <tr><td style="text-align: center;">٨</td><td style="text-align: center;">( ص )</td><td style="text-align: center;">( خ )</td></tr> <tr><td style="text-align: center;">٩</td><td style="text-align: center;">( ص )</td><td style="text-align: center;">( خ )</td></tr> <tr><td style="text-align: center;">١٠</td><td style="text-align: center;">( ص )</td><td style="text-align: center;">( خ )</td></tr> <tr><td style="text-align: center;">١١</td><td style="text-align: center;">( ص )</td><td style="text-align: center;">( خ )</td></tr> <tr><td style="text-align: center;">١٢</td><td style="text-align: center;">( ص )</td><td style="text-align: center;">( خ )</td></tr> </table>	٧	( ص )	( خ )	٨	( ص )	( خ )	٩	( ص )	( خ )	١٠	( ص )	( خ )	١١	( ص )	( خ )	١٢	( ص )	( خ )	<table style="width: 100%; border-collapse: collapse;"> <tr><td style="text-align: center;">١</td><td style="text-align: center;">( ص )</td><td style="text-align: center;">( خ )</td></tr> <tr><td style="text-align: center;">٢</td><td style="text-align: center;">( ص )</td><td style="text-align: center;">( خ )</td></tr> <tr><td style="text-align: center;">٣</td><td style="text-align: center;">( ص )</td><td style="text-align: center;">( خ )</td></tr> <tr><td style="text-align: center;">٤</td><td style="text-align: center;">( ص )</td><td style="text-align: center;">( خ )</td></tr> <tr><td style="text-align: center;">٥</td><td style="text-align: center;">( ص )</td><td style="text-align: center;">( خ )</td></tr> <tr><td style="text-align: center;">٦</td><td style="text-align: center;">( ص )</td><td style="text-align: center;">( خ )</td></tr> </table>	١	( ص )	( خ )	٢	( ص )	( خ )	٣	( ص )	( خ )	٤	( ص )	( خ )	٥	( ص )	( خ )	٦	( ص )	( خ )																								
١٣	( ص )	( خ )																																																																														
١٤	( ص )	( خ )																																																																														
١٥	( ص )	( خ )																																																																														
١٦	( ص )	( خ )																																																																														
١٧	( ص )	( خ )																																																																														
١٨	( ص )	( خ )																																																																														
٧	( ص )	( خ )																																																																														
٨	( ص )	( خ )																																																																														
٩	( ص )	( خ )																																																																														
١٠	( ص )	( خ )																																																																														
١١	( ص )	( خ )																																																																														
١٢	( ص )	( خ )																																																																														
١	( ص )	( خ )																																																																														
٢	( ص )	( خ )																																																																														
٣	( ص )	( خ )																																																																														
٤	( ص )	( خ )																																																																														
٥	( ص )	( خ )																																																																														
٦	( ص )	( خ )																																																																														

15	الدرجة	محمد القرني	اسم الطالب/ة
----	--------	-------------	--------------

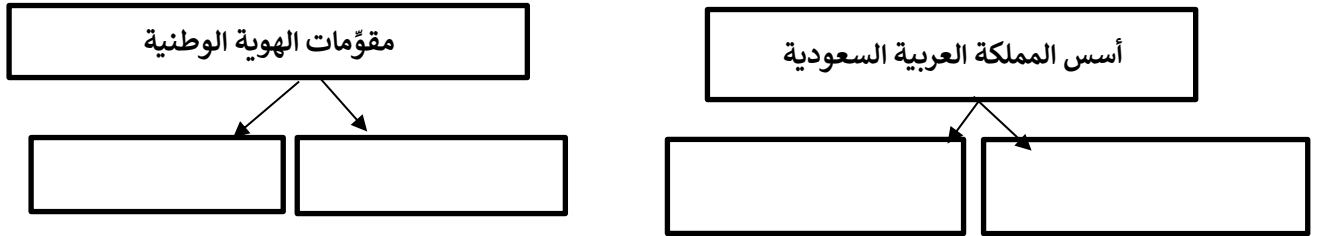
السؤال الاول ضع/سي علامة ( √ ) امام العبارة الصائبة وعلامة ( x ) امام العبارة الخاطئة ؟

1	رؤية المملكة 2030 تعدُّ نموذجاً فريداً للتخطيط التنموي و المستقبل للوطن
2	علم بلادي المملكة العربية السعودية لا يُنكس أبداً
3	من مصادر قوة وطني انها دولة اسلامية تحكم بالشريعة الاسلامية وفق القرآن و السنة
4	تمنح الأوسمة السعودية للملوك و رؤساء الدول و شخصيات مدنية و عسكرية.

السؤال الثاني اليوم الوطني و يوم التأسيس مناسبتين غالبية و عزيزة علينا قارن بينهما وفق الجدول أدناه ؟

اليوم الوطني	وجه المقارنة	يوم التأسيس
	موعدھا ( تاريخھا )	
	سبب الاحتفاء	

السؤال الثالث أكمل خرائط المفاهيم التالية ؟



السؤال الرابع اختر الاجابة الصائبة والصحيحة لما يأتي ؟

1	تحتفل المملكة العربية السعودية بيوم العلم في ..... من كل عام .	أ	11 مارس	ب	10 يناير	ج	15 فبراير	د	23 أكتوبر
2	نظام الحكم في وطني المملكة العربية السعودية : .....	أ	جمهوري	ب	حزبي	ج	ملي	د	نيابي
3	قلادة الملك عبدالعزيز أحد الأوسمة السعودية من الدرجة :	أ	الأولى	ب	الثانية	ج	الثالثة	د	الرابعة

← انتهت الاسئلة ←

# نموذج الاجابة

اسم الطالب/ة	محمد القرني	الدرجة	15	15
--------------	-------------	--------	----	----

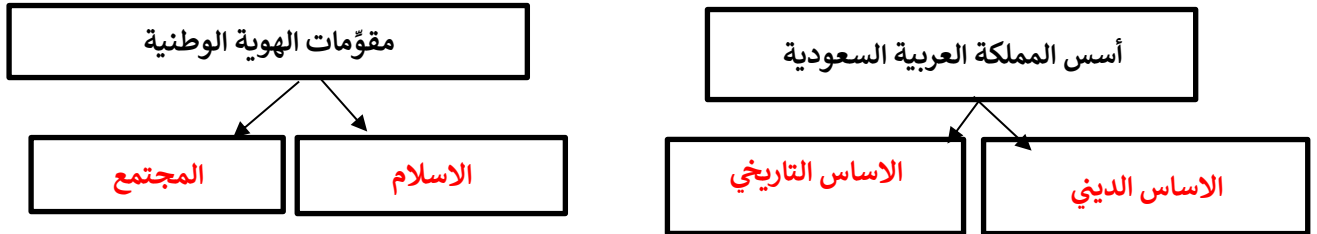
السؤال الاول ضع/سي علامة ( √ ) امام العبارة الصائبة وعلامة ( x ) امام العبارة الخاطئة ؟

1	رؤية المملكة 2030 تعدّ نموذجاً فريداً للتخطيط التنموي و المستقبل للوطن	√
2	علم بلادي المملكة العربية السعودية لاينكس أبداً	√
3	من مصادر قوة وطني انها دولة اسلامية تحكم بالشريعة الاسلامية وفق القرآن و السنة	√
4	تمنح الأوسمة السعودية للملوك و رؤساء الدول و شخصيات مدنية و عسكرية.	√

السؤال الثاني اليوم الوطني و يوم التأسيس مناسبتين غالبية و عزيزة علينا قارن بينهما وفق الجدول أدناه ؟

اليوم الوطني	وجه المقارنة	يوم التأسيس
23 سبتمبر	موعدھا ( تاريخھا )	22 فبراير
ذكرى توحيد البلاد على يد الملك عبدالعزيز عام 1351هـ	سبب الاحتفاء	ذكرى تأسيس الدولة السعودية الاولى على يد الامام محمد بن سعود عام 1139هـ

السؤال الثالث أكمل خرائط المفاهيم التالية ؟



السؤال الرابع اختر الاجابة الصائبة والصحيحة لما يأتي ؟

1	تحتفل المملكة العربية السعودية بيوم العلم في .....	من كل عام .
أ	11 مارس	ب
ب	10 يناير	ج
ج	15 فبراير	د
د	23 أكتوبر	
2	نظام الحكم في وطني المملكة العربية السعودية .....	
أ	جمهوري	ب
ب	حزبي	ج
ج	ملي	د
د	نيابي	
3	قلادة الملك عبدالعزيز أحد الأوسمة السعودية من الدرجة :	
أ	الأولى	ب
ب	الثانية	ج
ج	الثالثة	د
د	الرابعة	

← انتهت الاسئلة ←

المادة:	الدراسات الاجتماعية	بسم الله الرحمن الرحيم  وزارة التعليم Ministry of Education	المملكة العربية السعودية إدارة التعليم بالطائف مدرسة:
الاختبار:	اختبار الوحدة الأولى		
الصف:	ثالث متوسط		
الفترة:	الأولى للفصل الثاني ١٤٤٧هـ		

اسم الطالب	
٣٠	

السؤال 1: اختر الإجابة الصحيحة:	10
---------------------------------	----

1	من الممارسات السلبية التي يجب تجنبها في الاحتفال باليوم الوطني:	(أ) إبراز منجزات الوطن	(ب) تجديد الولاء للقيادة	(ج) استعمال منبهات السيارات بإزعاج	(د) الدعاء لشهداء الواجب
2	من هو الملك الذي أعاد توحيد البلاد باسم المملكة العربية السعودية في عام 1351هـ؟	(أ) الملك سعود بن عبدالعزيز	(ب) الملك فيصل بن عبدالعزيز	(ج) الملك عبدالعزيز بن عبدالرحمن	(د) الملك فهد بن عبدالعزيز
3	كم يبلغ طول السيف المسلول في العلم السعودي بالنسبة لرسم الشهادة؟	(أ) نصف رسم الشهادة	(ب) يساوي رسم الشهادة	(ج) ثلاثة أرباع رسم الشهادة	(د) ربع رسم الشهادة
4	إلى كم سنة تمتد جذور الإرث التاريخي للمملكة العربية السعودية تقريباً؟	(أ) أكثر من 100 سنة	(ب) أكثر من 300 سنة	(ج) أكثر من 590 سنة	(د) أكثر من 1000 سنة
5	استمرت ملحمة البطولة التي قادها الملك عبدالعزيز لتوحيد المملكة:	(أ) عشرين عاماً	(ب) ثلاثين عاماً	(ج) أربعين عاماً	(د) خمسين عاماً
6	أي مما يلي يُعد مثلاً على التخطيط المستقبلي الشامل ضمن الأساس التنموي؟	(أ) تصدير النفط الخام فقط	(ب) رؤية 2030	(ج) زيادة الاستيراد	(د) تجميد المشاريع
7	ما هو نوع الخط العربي المستخدم في كتابة الشهادات على العلم السعودي؟	(أ) خط النسخ	(ب) خط الثلث	(ج) خط الكوفي	(د) خط الرقعة
8	أي مما يلي يُعد مثلاً على التخطيط المستقبلي الشامل ضمن الأساس التنموي؟	(أ) تأسيس الدرعية	(ب) رؤية 2030	(ج) توحيد المناطق	(د) بناء الأسوار القديمة
9	متى بدأ تأسيس الدولة السعودية الأولى؟	(أ) في عام 850 هـ	(ب) في عام 1139 هـ	(ج) في عام 1240 هـ	(د) في عام 1351 هـ
10	تُمنح الأوسمة السعودية بأوامر ملكية تكريماً وتقديراً لمن قام بـ:	(أ) أعمال جليلية أولتخليد وقائع مهمة	(ب) أعمال تجارية خاصة	(ج) زيارات سياحية عادية	(د) دراسات غير معتمدة

السؤال 2: ضع علامة (✓) أو (X) أمام العبارات التالية:

10

1	الأساس التنموي يعني استغلال الموارد الطبيعية دون الاهتمام بالموارد البشرية.
2	نظام الحكم في المملكة العربية السعودية نظام ملكي يقوم على البيعة الشرعية.
3	كانت الدرعية هي عاصمة الدولة السعودية الثانية.
4	لا يتم تنكيس العلم السعودي وإنزاله إلى الثلث الأخير من السارية في حالات الحداد الرسمي.
5	بدأ تطور العلم السعودي منذ عهد الدولة السعودية الأولى في القرن الثاني عشر الهجري.
6	تُعد قلادة بدر الكبرى وقلادة الملك عبدالعزيز من أوسمة الدرجة الأولى.
7	تقتصر الأوسمة السعودية على الشخصيات العسكرية فقط ولا تُمنح للمدنيين.
8	استمرت الفترة بين انتهاء الدولة السعودية الثانية وتأسيس الدولة السعودية الثالثة عشر سنوات.
9	تأسست الدولة السعودية الثانية في عام 1139 هـ.
10	صدر الأمر الملكي الكريم بتحديد يوم العلم في عام 1444 هـ (2023م).

السؤال 3: صل بين العمودين: صل بين العمود (أ) والعمود (ب)

5

#	العمود (أ)	العمود (ب)
1	الأساس الديني	دولة إسلامية تحكم بالشريعة
2	الأساس التاريخي	تاريخ أصيل ومتجذريمتد لقرون
3	الأساس التنموي	من ملامح تاريخ الدولة السعودية العريق
4	الوحدة الوطنية	عمق اجتماعي وحرص وطني
5	الإرث الحضاري	استغلال الموارد بحكمة وتحقيق الرفاهية

السؤال 4: أكمل الفراغات التالية:

5

1	من أسباب الاحتفال باليوم الوطني الوفاء لـ _____ الواجب ولجنودنا البواسل.
2	يحتوي شعار يوم التأسيس على رسم لـ _____ كأحد الرموز المرتبطة بالبيئة السعودية.
3	من أسس الدولة السعودية الأساس الديني والأساس التاريخي والأساس _____
4	من أسماء العلم السعودي: الراية، و _____ واللواء.
5	يعد الاحتفال باليوم الوطني فرصة لتعميق الانتماء للوطن والولاء لـ _____

المملكة العربية السعودية وزارة التعليم الشرقية مدرسة: متوسطة الصرار	بسم الله الرحمن الرحيم وزارة التعليم Ministry of Education	المادة: الاختبار: الصف: الزمن: الفتحة:	الدراسات الاجتماعية اجتماعيات ثالث متوسط ساعتان الثاني ١٤٤٧
--	--	--	---

# نموذج الاجابة

اسم الطالب	٤٠
------------	----

السؤال الأول: اختر الإجابة الصحيحة	٢٠ درجات
١- كم يبلغ امتداد الجذور التاريخية للمملكة العربية السعودية؟	
(أ) أكثر من 100 سنة	(ب) أكثر من 300 سنة
(ج) أكثر من 590 سنة	(د) أكثر من 1000 سنة
٢- يُصنف (وشاح الملك عبدالعزيز) ضمن أوسمة الدرجة:	
(أ) الأولى	(ب) الثانية
(ج) الثالثة	(د) الرابعة
٣- يُمنح وسام الملك خالد للمتميزين في عدة مجالات منها:	
(أ) خدمة اللغة العربية والتراث الوطني	(ب) القضاء والمهن الحرة
(ج) المجال العسكري والأمني	(د) العلوم والفنون والآداب
٤- يصادف يوم التأسيس في المملكة العربية السعودية كل عام تاريخ:	
(أ) 23 سبتمبر	(ب) 22 فبراير
(ج) 15 يناير	(د) 12 ربيع الأول
٥- ما هي الأداة الأنسب لقياس المسافات المتعرجة على الخريطة؟	
(أ) المسطرة العادية	(ب) الخيط
(ج) البوصلة	(د) قلم الرصاص
٦- أي من الرموز التالية يُصنف ضمن الرموز النقطية في مفتاح الخريطة؟	
(أ) الطرق البرية	(ب) الأنهار
(ج) السهول	(د) القرى والمدن
٧- مؤسس الدولة السعودية الأولى في عام 1139هـ هو الإمام:	
(أ) تركي بن عبدالله	(ب) سعود بن عبدالعزيز
(ج) محمد بن سعود	(د) عبدالرحمن بن فيصل
٨- أي من العناصر التالية يُعد من عناصر شعار يوم التأسيس الخمسة؟	
(أ) السيف	(ب) الجمل
(ج) السوق	(د) الخيمة
٩- تم إعلان توحيد البلاد باسم المملكة العربية السعودية عام:	
(أ) 1351هـ	(ب) 1350هـ
(ج) 1319هـ	(د) 1345هـ
١٠- إلى كم سنة تمتد جذور الإرث التاريخي للمملكة العربية السعودية تقريباً؟	
(أ) أكثر من 100 سنة	(ب) أكثر من 300 سنة
(ج) أكثر من 590 سنة	(د) أكثر من 1000 سنة
١١- أي أنواع مقاييس الرسم يُعد الأفضل لأنه يظل صحيحاً عند تصغير الخريطة أو تكبيرها؟	
(أ) المقياس الكتابي	(ب) المقياس النسبي
(ج) المقياس الخطي	(د) المقياس الكسري
١٢- ما هي الفائدة الأساسية من شبكة الإحداثيات (خطوط الطول ودوائر العرض)؟	
(أ) تحديد نوع الرموز	(ب) تحديد الوقت والمناخ
(ج) تحديد مقياس الرسم	(د) تحديد اتجاه الشمال
١٣- إلى ماذا ترمز النخلة في شعار المملكة العربية السعودية الرسمي؟	
(أ) القوة	(ب) العدل
(ج) النماء	(د) الحرب
١٤- من هو الملك الذي أقر في عهده الشكل الأخير للعلم السعودي بمواصفاته الحالية؟	
(أ) الملك سعود بن عبدالعزيز	(ب) الملك عبدالعزيز بن عبدالرحمن
(ج) الملك فيصل بن عبدالعزيز	(د) الملك خالد بن عبدالعزيز

١٥- يرجع تاريخ اليوم الوطني إلى المرسوم الملكي الذي أصدره الملك:			
(أ) سعود بن عبدالعزيز	(ب) فيصل بن عبدالعزيز	(ج) عبدالعزيز بن عبدالرحمن	(د) خالد بن عبدالعزيز
١٦- عدد السنوات التي فصلت بين انتهاء الدولة السعودية الأولى وتأسيس الدولة السعودية الثانية هو:			
(أ) سبع سنوات	(ب) عشر سنوات	(ج) عشرون سنة	(د) ثلاثون سنة
١٧- صدر الأمر الملكي الكريم بإعلان يوم التأسيس في عهد الملك:			
(أ) عبدالعزيز بن عبدالرحمن	(ب) فهد بن عبدالعزيز	(ج) عبدالله بن عبدالعزيز	(د) سلمان بن عبدالعزيز
١٨- يعود تاريخ بدء منح الأوسمة في المملكة العربية السعودية إلى عهد الملك:			
(أ) سعود بن عبدالعزيز	(ب) فيصل بن عبدالعزيز	(ج) عبدالعزيز بن عبدالرحمن	(د) خالد بن عبدالعزيز
١٩- من الممارسات السلبية التي يجب تجنبها في الاحتفال باليوم الوطني:			
(أ) إبراز منجزات الوطن	(ب) تجديد الولاء للقيادة	(ج) استعمال منبهات السيارات بإزعاج	(د) الدعاء لشهداء الواجب
٢٠- أي من الأوسمة التالية يُمنح للمتميزين في مجال خدمة الإسلام والمجال الدبلوماسي والمجالات العسكرية والأمنية؟			
(أ) وسام الملك سعود	(ب) وسام الملك فيصل	(ج) وسام الملك خالد	(د) وسام الملك فهد

السؤال الثاني: ضع علامة (صح) أو (خطأ):		٢٠ درجات
#	العبرة	الإجابة
١	عنوان الخريطة هو الاسم الذي يحدد موضوع الخريطة والمكان الذي تمثله.	(✓)
٢	استمرت الفترة بين انتهاء الدولة السعودية الثانية وتأسيس الدولة السعودية الثالثة خمسين عاماً.	(✗)
٣	تقتصر الأوسمة السعودية على الشخصيات العسكرية فقط ولا تُمنح للمدنيين.	(✗)
٤	يُمنح وسام الملك سلمان للمتميزين في مجالات التاريخ الوطني والعربي والإسلامي.	(✓)
٥	من جوانب الأساس الديني للمملكة وجود المسجد النبوي ومثوى النبي محمد صلى الله عليه وسلم فيها.	(✓)
٦	يُرسم مؤشر الاتجاه في الخريطة عادة ليشير إلى جهة الجنوب.	(✗)
٧	تقوم المملكة العربية السعودية على أساس ديني قوي لكونها مهبط الوحي وفيها الحرمين الشريفان.	(✓)
٨	تُعد قلادة بدر الكبرى وقلادة الملك عبدالعزيز من أوسمة الدرجة الأولى.	(✓)
٩	نظام الحكم في المملكة العربية السعودية نظام ملكي يقوم على البيعة الشرعية.	(✓)
١٠	تُستخدم الرموز المساحية لتمثيل الظواهر الخطية مثل الطرق والأنهار.	(✗)
١١	شعار يوم التأسيس يتكون من خمسة عناصر جوهرية تعكس التراث الثقافي.	(✓)

#	العبارة	الإجابة
١٢	يتم تنكيس العلم السعودي وإنزاله إلى الثلث الأخير من السارية في حالات الحداد الرسمي.	(X)
١٣	تم توحيد المملكة العربية السعودية في عام 1932م.	(✓)
١٤	تأسست الدولة السعودية الثانية في عام 1139 هـ.	(X)
١٥	يُمنح وسام الملك فهد للمتميزين في مجالات منها الطب والعلوم والفنون والآداب.	(✓)
١٦	كانت الدرعية هي عاصمة الدولة السعودية الأولى.	(✓)
١٧	الأساس التنموي يعني استغلال الموارد الطبيعية دون الاهتمام بالموارد البشرية.	(X)
١٨	تأسست الدولة السعودية الأولى في منتصف القرن العاشر الهجري.	(X)
١٩	بدأ تطور العلم السعودي منذ عهد الدولة السعودية الأولى في القرن الثاني عشر الهجري.	(✓)
٢٠	صدر الأمر الملكي الكريم بتحديد يوم العلم في عام 1444 هـ (2023م).	(✓)

موقع  
مادتي

المادة : الدراسات الاجتماعية	رؤية 2030 وزارة التعليم	إدارة تعليم مدرسة	المملكة العربية السعودية
الصف : ٣ م			وزارة التعليم
اختبار الوحدة ٦ الفصل ٢			اسم الطالب/ة:

السؤال الأول: اختر الإجابة الصحيحة فيما يلي :

١	كل ما يلي من مكونات نظام تحديد المواقع العالمي ( GPS ) ماعدا:					
أ	قسم الأقمار الصناعية	ب	قسم التحكم	ج	قسم المستخدم	
د	قسم الصور					
٢	يتابع قسم .....	عمل الأقمار ويراقبها مراقبة مستمرة.				
أ	الأقمار الصناعية	ب	التحكم	ج	المستخدم	
د	الغلاف الجوي					
٣	النسبة بين البعد على الخريطة وما يقابله على الطبيعة:					
أ	البوصلة	ب	مفتاح الخريطة	ج	مقياس الرسم	
د	المساحة					
٤	الخرائط .....	هي التي تمثل مناطق نزول الامطار والرياح والرطوبة ودرجة الحرارة:				
أ	المناخية	ب	التضاريسية	ج	التاريخية	
د	السياسية					
٥	يتألف قسم .....	من مجموعة من الأقمار الصناعية التي تدور حول الأرض.				
أ	الأقمار الصناعية	ب	التحكم	ج	المستخدم	
د	الغلاف الجوي					
٦	هي وسيلة لتمثيل سطح الكرة الأرضية أو جزء منه بظواهره الطبيعية والبشرية على لوحة مستوية:					
أ	مقياس الرسم	ب	الخريطة	ج	علم المساحة	
د	الخرائط السياسية					
٧	هي الخرائط التي تمثل عليها الظواهر الطبيعية التي خلقها الله والتي لا أثر للإنسان في نشأتها:					
أ	الخرائط البشرية	ب	الخرائط الطبيعية	ج	الخرائط التضاريسية	
د	الخرائط السكانية					
٨	توضح طريقة هجرة نبينا محمد صلى الله عليه وسلم من مكة المكرمة إلى المدينة المنورة خريطة:					
أ	اقتصادية	ب	مناخية	ج	تاريخية	
د	سياسية					
٩	هي صورة لجزء من سطح الأرض تلتقط بالطائرات أو المناطيد المزودة بالالت التصوير: يقصد بها خطوط الطول ودوائر العرض:					
أ	عنوان الخريطة	ب	إطار الخريطة	ج	الصور الجوية	
د	مقياس الرسم					
١٠	أفضل أنواع المقاييس هو المقياس:					
أ	الخطي	ب	الكتابي	ج	النسبي	
د	الكسري					
١١	من فوائد نظام تحديد المواقع:					
أ	تحديد المواقع تحديداً دقيقاً	ب	تحديد اتجاه القبلة	ج	إرشاد السفن والطائرات	
د	جميع ما ذكر					
١٢	يقصد بها خطوط الطول ودوائر العرض:					
أ	الظواهر الطبيعية	ب	الاحداثيات	ج	الخريطة	
د	شبكة الإحداثيات					

السؤال الثاني: ضع إشارة ( √ ) أمام الإجابة الصحيحة وإشارة ( × ) أمام الإجابة الخاطئة:

١	اختلاف المعلومات التي تقدمها الخرائط أدى الى تنوعها.
٢	يحدد إطار الخريطة بعد الانتهاء من رسمها
٣	يحتوي مفتاح الخريطة على مجموعة من الرموز والمصطلحات
٤	يستعمل الخيط في قياس المسافات المتعرجة
٥	يرمز لاتجاه الخريطة غالباً بمؤشر يشير إلى الجنوب في أعلى الخريطة أو أسفلها
٦	تحتاج الصورة الجوية إلى مفتاح ورموز
٧	أنواع الصور الجوية: الصور الجوية الرأسية والصور الجوية المائلة
٨	ينقسم نظام تحديد المواقع العالمي إلى أربع أقسام
٩	الرفع هو نقل المعلومات من الخريطة إلى الطبيعة
١٠	علم المساحة أساس مهم في معظم المشروعات الهندسية
١١	يساعد علم المساحة في معرفة ارتفاعات النقط المختلفة على سطح الأرض وانخفاضاتها مقارنة ببعض أو بأي مستوى أفقي معلوم.
١٢	تنقسم المساحة المستوية إلى: المساحة الطبوغرافية والمساحة التفصيلية
١٣	عملية "الرفع" المساحي تسبق عملية "التوقيع" عند إنشاء خريطة جديدة لمنطقة ما.
١٤	المساحة المستوية "تحديد نقط على سطح الأرض للمساحات الشاسعة"
١٥	الصور الجوية الراسية تغطي مساحات كبيرة
١٦	من استعمالات الصور الجوية تحديد المواقع الأثرية
١٧	نستفيد من علم المساحة في دراسة الشكل العام لسطح الأرض
١٨	تستخدم المساحة الملاحية لضمان سلامة حركة السفن في البحار والمحيطات.

الاسم

١	أ	ب	ج	د	٧	أ	ب	ج	د
٢	أ	ب	ج	د	٨	أ	ب	ج	د
٣	أ	ب	ج	د	٩	أ	ب	ج	د
٤	أ	ب	ج	د	١٠	أ	ب	ج	د
٥	أ	ب	ج	د	١١	أ	ب	ج	د
٦	أ	ب	ج	د	١٢	أ	ب	ج	د
١	أ	ب	ج	د	٧	أ	ب	ج	د
٢	أ	ب	ج	د	٨	أ	ب	ج	د
٣	أ	ب	ج	د	٩	أ	ب	ج	د
٤	أ	ب	ج	د	١٠	أ	ب	ج	د
٥	أ	ب	ج	د	١١	أ	ب	ج	د
٦	أ	ب	ج	د	١٢	أ	ب	ج	د

انتهت الأسئلة

موقع  
مادنتيري

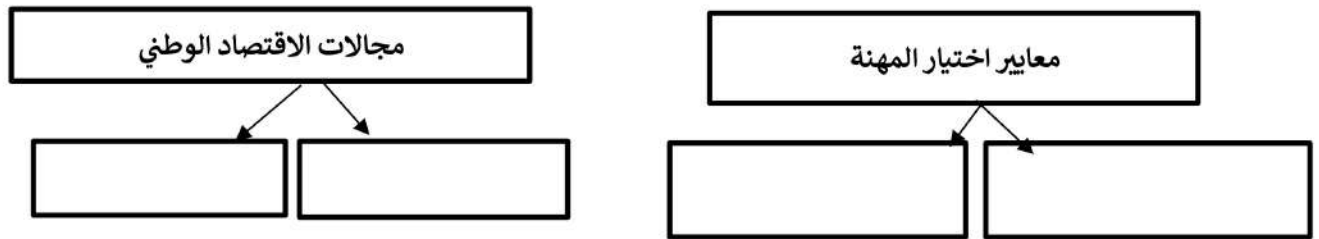
نموذج اسئلة اختبار الوحدة  
المادة: الدراسات الاجتماعية  
الصف: الثالث المتوسط  
الانجاز الذاتي و الاقتصاد  
1447هـ

اسم الطالب/ة	محمد القرني	الدرجة	15
--------------	-------------	--------	----

السؤال الاول ضع/سي علامة ( √ ) امام العبارة الصائبة وعلامة ( x ) امام العبارة الخاطئة ؟

1	عندما يكون الفرد منجزاً فإنه يشعر بالرضا
2	يحثّ ديننا الاسلامي على العمل و الانتاج
3	الامن و الاستقرار و التخطيط السليم أثر ايجاباً في نمو الاقتصاد الوطني
4	من صفات الفرد المنجز يقوم بأعماله حسب الفراغ
5	من أسباب البطالة ضعف التدريب و التأهيل
6	التطور التقني قلل من الاعتماد على الايدي العاملة
7	يسهم برنامج جودة الحياة في خفض نسبة البطالة
8	تعد المملكة العربية السعودية ثاني اكبر دولة تملك احتياطات نفطية في العالم

السؤال الثاني أكمل خرائط المفاهيم التالية ؟



السؤال الثالث اختر الاجابة الصائبة والصحيحة لما يأتي؟

1	من يقدر على العمل ولا يرغب فيه مع توفر الفرص :
أ	بطالة اختيارية
ب	بطالة مقنعة
ج	بطالة هيكلية
د	بطالة وظيفية
2	حالة داخلية مرتبطة بمشاعر الفرد توجهه نحو التخطيط و تحقيق النجاح
أ	الانتاج
ب	العمل
ج	الانجاز الذاتي
د	التضخم
3	الانشطة البشرية لافراد المجتمع من ( عمل و انتاج و وخدمات و استهلاك ) :
أ	البطالة
ب	التضخم
ج	الانتاج
د	الاقتصاد الوطني

← انتهت الاسئلة ←

مدير المدرسة: .....

معلم المادة: محمد القرني

# نموذج الاجابة

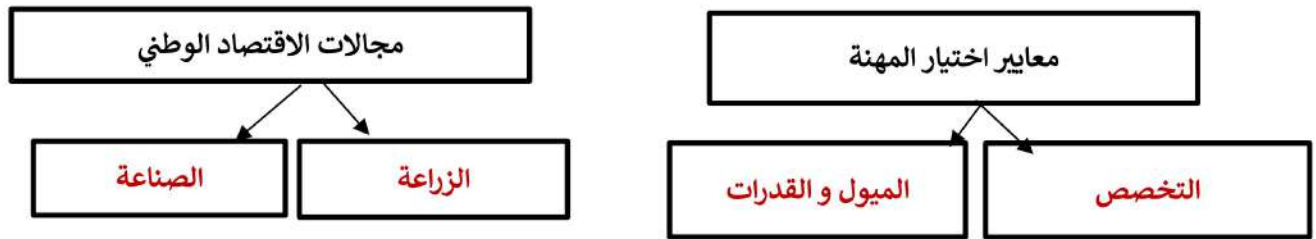
نموذج اسئلة اختبار الوحدة  
المادة: الدراسات الاجتماعية  
الصف: الثالث المتوسط  
الانجاز الذاتي والاقتصاد  
1447هـ

اسم الطالب/ة	محمد القرني (اجابة)	الدرجة	15
--------------	---------------------	--------	----

السؤال الاول ضع/سي علامة ( √ ) امام العبارة الصائبة وعلامة ( x ) امام العبارة الخاطئة ؟

1	عندما يكون الفرد منجزاً فإنه يشعر بالرضا	√
2	يحث ديننا الاسلامي على العمل و الانتاج	√
3	الامن و الاستقرار و التخطيط السليم أثر ايجاباً في نمو الاقتصاد الوطني	√
4	من صفات الفرد المنجز يقوم بأعماله حسب الفراغ	x
5	من أسباب البطالة ضعف التدريب و التأهيل	√
6	التطور التقني قلل من الاعتماد على الايدي العاملة	√
7	يسهم برنامج جودة الحياة في خفض نسبة البطالة	√
8	تعد المملكة العربية السعودية ثاني اكبر دولة تملك احتياطات نفطية في العالم	√

السؤال الثاني أكمل خرائط المفاهيم التالية ؟



السؤال الثالث اختر الاجابة الصائبة والصحيحة لما يأتي؟

1	من يقدر على العمل ولا يرغب فيه مع توفر الفرص :	أ	بطالة اختيارية	ب	بطالة مقنعة	ج	بطالة هيكلية	د	بطالة وظيفية
2	حالة داخلية مرتبطة بمشاعر الفرد توجهه نحو التخطيط و تحقيق النجاح	أ	الانتاج	ب	العمل	ج	الانجاز الذاتي	د	التضخم
3	الانشطة البشرية لافراد المجتمع من ( عمل و انتاج و خدمات و استهلاك ) :	أ	البطالة	ب	التضخم	ج	الانتاج	د	الاقتصاد الوطني

← انتهت الاسئلة ←

معلم المادة: محمد القرني

مدير المدرسة: .....

## مراجعة اجتماعيات ثالث متوسط الفصل الثاني ١٤٤٧

أ/ فيصل الحربي	<b>نموذج الإجابة</b>			الوحدة ٥
السؤال الأول: اختر الإجابة الصحيحة فيما يلي .				
١	الخيال العربية	السوق	الصقر	النخلة
يرتبط اليوم الوطني بحدث تاريخي مهم وهو				
٢	اكتشاف النفط	تأسيس جامعة الملك سعود	توقيع اتفاقية دولية	إصدار مرسوم توحيد البلاد باسم المملكة العربية السعودية
في أي يوم يتم الاحتفال باليوم الوطني للمملكة العربية السعودية؟				
٣	٢٣ ديسمبر	٢٢ فبراير	٢٣ سبتمبر	١ شوال
وشاح الملك عبد العزيز يصنف ضمن أوسمة الدرجة				
٤	الأولى	الثانية	الثالثة	الرابعة
ما هي أعلى درجة من درجات الأوسمة السعودية؟				
٥	الدرجة الرابعة	الدرجة الثانية	الدرجة الأولى	الدرجة الثالثة
في أي عام ميلادي تأسست الدولة السعودية الأولى التي يحتفى بها في يوم التأسيس؟				
٦	١٩٣٢م	١٧٢٧م	١٨١٨م	١٩٠٢م
في عهد أي دولة بدأ ظهور العلم السعودي بلونه الأخضر وكتابة الشهادتين عليه؟				
٧	الدولة العباسية	الدولة السعودية الثانية	الدولة السعودية الأولى	الدولة الأموية
ما هي نسبة عرض العلم السعودي إلى طوله؟				
٨	النصف	الثالث	الثلاثان	نفس الطول
أي من التالي يعد المقوم الذي يمثل الإطار التشريعي والأخلاقي للهوية الوطنية السعودية؟				
٩	التاريخ	الدين الإسلامي	الثقافة	المكان
أي من الممارسات التالية تعتبر سلوكًا سلبيًا يخالف أهداف الاحتفال باليوم الوطني؟				
١٠	رفع العلم السعودي على المنزل	كتابة عبارات وطنية على وسائل التواصل	تعطيل حركة السير والمبالغة في استخدام منبهات السيارات	المشاركة في الفعاليات التي تنظمها الدولة
الانتقاص من الآخرين بسبب مناطقهم أو أسرهم يعتبر من مهددات الهوية تحت بند				

١١	الفساد المالي	التطرف الفكري	خيانة الوطن	التصنيف الطائفي والاجتماعي
١٢	النسخ	الرقعة	الكوفي	الثالث
١٣	١٣٥١ هـ	١٢٤٠ هـ	١١٣٩ هـ	٨٥٠ هـ
١٤	القوانين الوضعية	القرآن الكريم والسنة النبوية	الأعراف والتقاليد	الدساتير الدولية
١٥	الملك عبد العزيز آل سعود	الإمام تركي بن عبد الله	الإمام محمد بن سعود	الملك سلمان بن عبد العزيز
١٦	اللغة العربية	التاريخ المشترك	تقليد الثقافات الأخرى	الدين الإسلامي
١٧	مهددات الهوية الوطنية	مميزات الهوية الوطنية	سلبيات العولمة	الجرائم الإلكترونية
١٨	تحقيق مكاسب مالية للمستحق	تكريم وتقدير أصحاب الأعمال الجليلة	منافسة الدول الأخرى	واجب بروتوكولي فقط
١٩	الملك سعود بن عبدالعزيز	الملك فيصل بن عبدالعزيز	الملك عبدالعزيز بن عبدالرحمن	الملك خالد بن عبدالعزيز
٢٠	لأنه يوم إجازة رسمية فقط	لتقدير جهود الملك المؤسس في توحيد الوطن	لمواكبة احتفالات الدول الأخرى	لتشجيع السياحة الداخلية
٢١	الاحتفال بتوحيد المملكة فقط	الاحتفاء بالذكرى السنوية لليوم الوطني	الاعتزاز بالجذور التاريخية العميقة للدولة	الاحتفال ببداية الدولة السعودية الثانية
٢٢	سبتمبر 23	مارس 11	يناير 1	فبراير 22

٢٣	أي من الأوسمة التالية يُمنح للمتميزين في مجالات التاريخ الوطني وخدمة المخطوطات؟	وسام الملك خالد	<b>وسام الملك سلمان</b>	وسام الملك سعود	وسام الملك عبدالله
٢٤	من هو الملك الذي أعاد توحيد البلاد وأسس المملكة العربية السعودية في شكلها الحديث؟	الإمام محمد بن سعود	الإمام تركي بن عبدالله	<b>الملك عبد العزيز بن عبد الرحمن آل سعود</b>	الملك سعود بن عبد العزيز
٢٥	ماذا يعني مصطلح "مهددات الهوية الوطنية"؟	العناصر التي تقوي الهوية	الخصائص التي تميز الهوية	<b>الأخطار التي تضعف الهوية وتماسكه</b>	الرموز الوطنية للدولة
٢٦	أي مما يلي يعد من أبرز مظاهر الأساس التنموي للمملكة؟	الاعتماد على الموارد القديمة فقط	التركيز على جانب واحد من جوانب التنمية	<b>الاستثمار في الموارد البشرية وتطوير البنية التحتية</b>	إهمال التخطيط للمستقبل
٢٧	ما هي المدينة التي كانت عاصمة للدولة السعودية الأولى؟	الرياض	مكة المكرمة	<b>الدرعية</b>	جدة
٢٨	يُطلق على المملكة العربية السعودية "مهبط الوحي" لوجود:	آبار النفط	<b>مكة المكرمة والمسجد النبوي</b>	المناطق الصناعية	الجامعات الحديثة
٢٩	ما الإجراء الذي لا يتم اتخاذه أبدًا للعلم السعودي تكريمًا لمكانته؟	رفعه على المباني الحكومية	<b>تنكيسه (إنزاله) (لمنتصف السارية)</b>	استخدامه في الاستعراضات العسكرية	تغييره عند بهتان لونه
٣٠	تُمنح الأوسمة السعودية بموجب:	ترشيح وزاري	تصويت شعبي	قرار من مجلس الشورى	<b>أمر ملكي</b>
السؤال الثاني :					
ضع علامة صح ( ✓ ) او علامة خطأ ( x ) امام العبارات التالية :					
١	يركز الأساس التنموي للمملكة على استغلال الموارد الطبيعية فقط دون الاهتمام بتنمية الإنسان.	×			

×	٢	يوافق يوم التأسيس تاريخ تأسيس الدولة السعودية الثالثة
×	٣	يُمنح وسام الملك فيصل للمتميزين في مجال حماية البيئة والتطوير الحضري.
✓	٤	يقوم نظام الحكم في المملكة العربية السعودية على أساس القرآن الكريم والسنة النبوية الشريفة
✓	٥	تأسست الدولة السعودية الأولى قبل الدولة السعودية الثانية
✓	٦	الوقوف احتراماً عند عزف النشيد الوطني هو من واجباتنا تجاه العلم
✓	٧	يتم الاحتفال بيوم التأسيس في 22 فبراير من كل عام
×	٨	الأساس التاريخي للمملكة العربية السعودية حديث العهد وبدأ مع توحيد المملكة فقط
×	٩	تقتصر الأوسمة السعودية على تكريم المواطنين السعوديين فقط
✓	١٠	يعتبر نظام الأوسمة حافزاً معنوياً مهماً للعطاء وخدمة الوطن
×	١١	يُعد وسام الملك عبد العزيز أعلى درجة من وشاح الملك عبد العزيز
×	١٢	يعتبر تعطيل مصالح الناس وإغلاق الطرق من مظاهر التعبير الحضاري عن الفرحة باليوم الوطني
×	١٣	يتم تنزيل العلم السعودي إلى منتصف السارية في حالات الحداد الوطني
✓	١٤	تقوم المملكة العربية السعودية بخدمة الحرمين الشريفين والمسلمين في أنحاء العالم كجزء من أساسها الديني
✓	١٥	أحد أبرز أسباب الاحتفاء بيوم التأسيس هو تقدير ما أرسته الدولة من وحدة وأمن
✓	١٦	من أسباب احتفالنا باليوم الوطني هو استذكار تاريخنا والفخر بإنجازات وطننا
✓	١٧	تعتبر المحافظة على اللغة العربية واستخدامها جزءاً أساسياً من تعزيز الهوية الوطنية
×	١٨	تم تغيير اسم الدولة إلى "المملكة العربية السعودية" في عام 1950م
✓	١٩	الوحدة الوطنية الراسخة هي إحدى السمات المميزة للأساس التاريخي للمملكة
✓	٢٠	يرمز عنصر الخيل العربية في شعار يوم التأسيس إلى أصالة وتراث الفروسية في الجزيرة العربية
×	٢١	تأسست الدولة السعودية الثانية مباشرة بعد سقوط الدولة الأولى دون أي فاصل زمني
×	٢٢	يُسمح برفع العلم السعودي حتى لو كان لونه باهتاً أو في حالة سيئة
✓	٢٣	يرمز السيف الموجود على العلم السعودي إلى القوة والعدل
✓	٢٤	اليوم الوطني هو مناسبة لتذكر نعمة الوحدة والأمن التي تحققت بفضل الله ثم بجهود المؤسسين

×	الجرائم الإلكترونية مثل نشر الشائعات لا تشكل تهديداً حقيقياً على الهوية الوطنية.	٢٥
✓	بدأ تاريخ منح الأوسمة في المملكة العربية السعودية في عهد الملك عبد العزيز.	٢٦
×	عرض العلم السعودي يساوي طوله تماماً.	٢٧
✓	احترام العلم الوطني والحفاظ على الممتلكات العامة يعكسان مدى وعي المواطن وحبه لوطنه.	٢٨
×	يقتصر الانتماء للوطن على المشاعر والعواطف فقط.	٢٩
✓	تُعد الوحدة الوطنية التي تحققت في عهد الملك عبد العزيز من أبرز مميزات الهوية السعودية.	٣٠

موقع  
مادنتري

الوحدة ٦

السؤال الأول: اختر الإجابة الصحيحة فيما يلي :

أي مما يلي يعد الفرق الجوهرى بين الصورة الجوية والخريطة؟

١	الصورة الجوية ملونة دائماً.	الخريطة لا تحتاج إلى مقياس رسم.	الصورة الجوية تسجل الواقع كما هو، بينما الخريطة تمثيل رمزي له.	الخريطة تظهر الظواهر المتحركة فقط.
٢	عند تكبير أو تصغير الخريطة، ما هو أفضل نوع من مقاييس الرسم الذي يحافظ على دقته؟	المقياس النسبي	المقياس الخطي	جميعها بنفس الدقة
٣	الخرائط التي تُظهر الارتفاعات والانخفاضات في تضاريس الأرض على هيئة خطوط كنتور هي نتاج أي نوع من المساحة؟	المساحة التفصيلية	المساحة الملاحية	المساحة الطبوغرافية
٤	الفائدة الرئيسية من وجود سهم الشمال على الخريطة هي	تزيين الخريطة	المساعدة في توجيه الخريطة ومطابقتها بالواقع	تحديد مساحة الدول
٥	عند التخطيط لمشروع يغطي مساحة دولة بأكملها، أي أنواع المساحة يجب استخدامها لضمان الدقة؟	المساحة المستوية	المساحة التفصيلية	المساحة الطبوغرافية
٦	عند التخطيط لإنشاء حي سكني جديد، أي الأدوات التالية تكون الأكثر فائدة في المرحلة الأولية؟	خريطة سياسية للعالم	رسم بياني لتوزيع السكان	صور جوية للمنطقة المقترحة
٧	ما هي العملية التي يتم فيها نقل تصميم جسر من الخرائط الهندسية إلى الموقع الفعلي للبناء؟	الرفع المساحي	التوقيع المساحي	المساحة الطبوغرافية الجيوديسية
٨	الخريطة التي توضح أماكن الجبال والسهول والأنهار تُصنف على أنها خريطة	سياسية	تضاريسية	اقتصادية
٩	ما الذي يميز الصور الجوية عن الخرائط فيما يتعلق بالمعلومات المعروضة؟	سكانية		

الصور الجوية تظهر فقط الظواهر الطبيعية.	<b>الصور الجوية تظهر كل شيء موجود على الأرض وقت التصوير.</b>	الصور الجوية تحتاج دائماً إلى مفتاح رموز.	الصور الجوية لا يمكنها إظهار المباني والطرق.
لأي غرض تُستخدم الصور الجوية الرأسية بشكل أساسي؟			
لأغراض الدعاية والإعلان.	<b>إنتاج الخرائط الدقيقة التي تتطلب قياسات صحيحة.</b>	لإظهار المناظر الطبيعية بشكل جمالي.	لتحديد اتجاه الرياح.
أي من التالي يمثل ظاهرة بشرية يمكن إظهارها على الخريطة؟			
توزيع الأمطار السنوي	اتجاهات الرياح الموسمية	<b>الحدود الدولية بين الدول</b>	مناطق الغابات الاستوائية
لتحديد الموقع بدقة ثلاثية الأبعاد (خط طول، خط عرض، ارتفاع)، يحتاج جهاز الاستقبال إلى الاتصال بـ:			
قمر صناعي واحد على الأقل	قمرين صناعيين على الأقل	ثلاثة أقمار صناعية على الأقل	<b>أربعة أقمار صناعية على الأقل</b>
العنصر الذي يفسر معنى الرموز والألوان على الخريطة هو:			
مقياس الرسم	العنوان	<b>مفتاح الخريطة</b>	الإطار
تحديد اتجاه القبلة وأوقات الصلاة يعتمد بشكل أساسي على:			
المساحة الأرضية	<b>المساحة الفلكية</b>	المساحة العسكرية	المساحة الجيولوجية
عندما تجد خريطة توضح توزيع حقول القمح ومناطق الصناعة في بلد ما، فإن نوعها هو:			
تاريخية	مناخية	<b>اقتصادية</b>	نبات طبيعي
إذا كان مقياس الرسم على خريطة هو 1 : 50,000، فإن كل 1 سم على الخريطة يمثل:			
<b>500 متر في الواقع</b>	50 كيلومتر في الواقع	50 متر في الواقع	5000 متر في الواقع
لتحديد موقع مدينة ما بدقة على الخريطة، نستخدم:			
مفتاح الخريطة فقط	<b>شبكة الإحداثيات</b>	الإطار الخارجي	عنوان الخريطة
الخرائط التي تتناول امتداد الدولة الأموية ومواقع معاركها هي خرائط:			
سياسية	سكانية	طبيعية	<b>تاريخية</b>
GPS) أي من الفوائد التالية لا يعتبر تطبيقاً مباشراً لنظام تحديد المواقع العالمي			

١٩	إرشاد سيارة إسعاف إلى موقع الحادث	تتبع مسار رحلة طيران	تحديد اتجاه القبلة للصلاة	بث القنوات التلفزيونية الفضائية
GPS؟ ما هي المكونات الثلاثة الأساسية لنظام تحديد المواقع العالمي				
٢٠	الأقمار الصناعية، الهواتف الذكية، أبراج الاتصالات	الأقمار الصناعية، قسم التحكم، قسم المستخدم	الخرائط الرقمية، الإنترنت، أجهزة الاستقبال	محطات الراديو، قسم التحكم، الطائرات
GPS؟ ما هي الوظيفة الرئيسية لقسم التحكم في نظام				
٢١	إطلاق أقمار صناعية جديدة إلى الفضاء	تصنيع أجهزة الاستقبال للمستخدمين	مراقبة الأقمار الصناعية وضمان دقة بياناتها	توفير اتصال الإنترنت لأجهزة المستخدمين
ما هو الغرض الرئيسي من التقاط الصور الجوية المائلة؟				
٢٢	الحصول على قياسات دقيقة جداً	تغطية مساحات واسعة في لقطة واحدة	رسم الحدود السياسية بين الدول	دراسة طبقات الصخور تحت الأرض
أي من الفوائد التالية لا يعتبر من الفوائد المباشرة لعلم المساحة؟				
٢٣	حساب مسطحات الأراضي	تحديد مواقع المشروعات الهندسية	تحليل التركيب الكيميائي للصخور	معرفة ارتفاعات النقط المختلفة على سطح الأرض
الخرائط المناخية هي نوع من الخرائط:				
٢٤	الطبيعية	البشرية	السياسية	التاريخية
GPS؟ أي من التالي يمثل قسم المستخدم في نظام				
٢٥	محطة المراقبة الأرضية	القمر الصناعي في مداره	الهوائي الأرضي المسؤول عن الإرسال	الهاتف الذكي الذي يعرض الخريطة
السؤال الثاني :				
ضع علامة صح ( ✓ ) او علامة خطأ ( × ) امام العبارات التالية :				
١	وظيفة عنوان الخريطة هي تحديد موضوعها والمكان الذي تغطيه	✓		
٢	يعتبر مفتاح الخريطة عنصراً اختيارياً يمكن الاستغناء عنه في معظم الخرائط.	×		

×	تهتم المساحة المستوية بكروية الأرض عند قياس مساحة حديقة منزلية.	٣
×	الخريطة تقدم صورة كاملة لكل ما هو موجود على سطح الأرض دون أي انتقاء أو تبسيط.	٤
✓	يمكن للصور الجوية أن تظهر الأجسام المتحركة مثل السيارات والسفن في لحظة التقاطها.	٥
✓	يقتصر استخدام الصور الجوية على الأغراض العسكرية فقط.	٦
✓	عملية "الرفع" المساحي تسبق عملية "التوقيع" عند إنشاء خريطة جديدة لمنطقة ما.	٧
✓	تستخدم المساحة الملاحية لضمان سلامة حركة السفن في البحار والمحيطات.	٨
✓	أن يعرض معلومات مثل السرعة والارتفاع GPS يمكن لجهاز بالإضافة إلى الموقع الجغرافي.	٩
×	يقتصر علم المساحة على تمثيل المعالم الطبيعية فقط دون المعالم البشرية.	١٠
✓	الخرائط السياسية التي تظهر حدود الدول هي مثال على الخرائط البشرية.	١١
×	تحتاج الصور الجوية إلى مفتاح ورموز لفهم الظواهر الموجودة فيها.	١٢
×	يقتصر استخدام نظام تحديد المواقع العالمي على الأغراض العسكرية فقط.	١٣
×	يمكن اعتبار خريطة توزيع الغابات والحشائش خريطة بشرية.	١٤
✓	في أي مكان في العالم، بما في ذلك GPS يمكن استخدام نظام المحيطات والصحاري.	١٥
×	تعتبر المساحة الجيوديسية أقل دقة من المساحة المستوية بسبب كبر المساحات التي تغطيها.	١٦
×	على إرسال إشارات من جهاز المستخدم إلى الأقمار GPS يعتمد نظام الصناعية لتحديد الموقع.	١٧
✓	الإحداثيات الجغرافية (خطوط الطول ودوائر العرض) هي الأساس لتحديد المواقع GPS الذي يعتمد عليه نظام.	١٨
✓	الخرائط التضاريسية والخرائط المناخية تدرجان تحت فئة الخرائط الطبيعية.	١٩
×	تستخدم الرموز الخطية في الخريطة لتمثيل المدن والمطارات.	٢٠
✓	يساعد تحليل الصور الجوية الملتقطة على فترات زمنية مختلفة في رصد التغيرات البيئية والتوسع العمراني.	٢١
✓	تساعد الخرائط السكانية في معرفة أماكن تركيز السكان وكثافتهم.	٢٢

✓	الخريطة هي وسيلة لتمثيل الظواهر الطبيعية فقط على سطح مستوٍ	٢٣
✓	توجيه الخريطة يعني مطابقة اتجاه الشمال على الخريطة مع اتجاه الشمال في الطبيعة	٢٤
✓	مقياس الرسم ١ : ١,٠٠٠,٠٠٠ يعني أن الخريطة تعرض تفاصيل أكثر من خريطة بمقياس ١ : ١٠,٠٠٠	٢٥

موقع  
**مادنتيرا**

الوحدة ٧

١/ فيصل الحربي

**السؤال الأول:** اختر الإجابة الصحيحة فيما يلي :

كيف يؤثر التطور التقني في قطاعات العمل والإنتاج؟			
١	يزيد من الاعتماد على الأيدي العاملة غير الماهرة	يقلل من سرعة الإنتاج وجودته	يزيد الإنتاج سرعة وجودته ويقلل الاعتماد على بعض العمالة
أي من الإجراءات التالية قد تتخذها الدولة للحد من التضخم؟			
٢	تخفيض الضرائب على كل السلع	زيادة الرواتب بشكل كبير	توعية المواطنين بترشيد الاستهلاك
أي من التالي يُعد من أهم العوامل التي تساهم في ازدهار الاقتصاد الوطني؟			
٣	كثرة الاستيراد من الخارج	الاستقرار السياسي والأمني	الاعتماد على مورد واحد فقط
عندما يضع طالب خطة دراسية لتحسين مستواه، فإنه يطبق أحد عوامل الإنجاز وهو:			
٤	الطموح	التخطيط	الثقة بالنفس
أول خطوة عملية نحو تحقيق الإنجاز الذاتي هي			
٥	بذل الجهد والعمل الدؤوب	التعاون مع الآخرين	تحديد الأهداف بوضوح
عند ارتفاع أسعار النفط، تقوم الحكومة عادة بـ			
٦	تقليل الإنفاق على المشاريع	زيادة الضرائب على المواطنين	توجيه الموارد نحو التطوير وتحسين الخدمات
عندما يمتلك شخص مهارات معينة ولكن لا يجد وظائف تتطلب هذه المهارات، فإن هذا الوضع يسمى بـ			
٧	اختيارية	مقتنعة	هيكلية
عندما يعمل في وظيفة ما عدد من الموظفين أكبر مما هو مطلوب لإنجاز العمل، فإن هذا يمثل بـ			
٨	مقتنعة	هيكلية	اختيارية
واحدة من المشكلات الرئيسية التي يواجهها الاقتصاد السعودي وتعمل رؤية 2030 على حلها هي			
٩			احتكاكية

قلة الموارد البشرية	ضعف الاستقرار الأمني	<b>الاعتماد على النفط كمورد أساسي للدخل</b>	انعدام الأسواق الداخلية
:الأنشطة البشرية المتعلقة بالإنتاج والخدمات والاستهلاك في المجتمع، تُعرف بـ			
السوق العالمي	رؤية 2030	<b>الاقتصاد الوطني</b>	العرض والطلب
أي من التالي يعد من أهم فوائد الإنتاج للمجتمع؟			
تقليل عدد المهن المتاحة	<b>توفير فرص عمل لأفراد المجتمع</b>	زيادة الاعتماد على الاستيراد	خفض مستوى الاقتصاد الوطني
...تعزيز ثقة الإنسان بنفسه وشعوره بالرضا هو من			
عوائق الإنجاز الذاتي	<b>نتائج الإنجاز الذاتي وأهميته</b>	خصائص الشخص غير المنجز	أسباب الفشل
...شخص يواصل المحاولة رغم الصعوبات لتحقيق هدفه، يوصف بأنه			
طموح	مسؤول	<b>مثابر</b>	مبدع
عند اختيار مهنة المستقبل، أي المعايير التالية يجب أن يأخذ الأولوية؟			
تقليد مهنة شخص مشهور فقط	اختيار المهنة الأعلى أجراً فقط	<b>الموازنة بين الميول الشخصية وحاجة سوق العمل</b>	اختيار أسهل مهنة بغض النظر عن المهارات
الجهد الإرادي الذي يؤديه الإنسان لإنتاج سلعة أو تقديم خدمة مقابل أجر هو تعريف			
الإنتاج	الاقتصاد	<b>العمل</b>	التطوير
أي من الآتي يعد أفضل وصف لمفهوم الإنجاز الذاتي؟			
تحقيق النجاح بالصدفة دون تخطيط	<b>حالة داخلية تدفع الفرد للتخطيط والعمل لتحقيق التفوق</b>	الاعتماد الكامل على الآخرين في إنجاز الأعمال	إنجاز مهمة واحدة فقط في الحياة
ماذا يعني 'الإتقان' في العمل؟			
إنهاء العمل بسرعة فقط	العمل في أوقات الفراغ فقط	<b>أداء العمل بجودة عالية ودقة</b>	تغيير المهنة باستمرار
الظاهرة الاقتصادية التي تعني الارتفاع المستمر في الأسعار مع انخفاض قيمة العملة هي			
الركود	<b>التضخم</b>	الكساد	البطالة
أي من الآتي يعد من الآثار الاجتماعية المباشرة للبطالة؟			

هدر الموارد البشرية	ارتفاع أسعار السلع	<b>زيادة المشكلات الأسرية والجريمة</b>	ضعف الإنتاج الصناعي	
: عندما تنخفض أسعار النفط عالمياً، فإن اقتصاد المملكة				
يتحول إلى الاعتماد على الزراعة فوراً	<b>تتأثر موارده المالية وينخفض الإنفاق الحكومي</b>	لا يتأثر إطلاقاً	تزداد موارده المالية بشكل كبير	٢٠
السؤال الثاني :				
ضع علامة صح ( ✓ ) او علامة خطأ ( × ) امام العبارات التالية :				
✓	التخطيط السليم ووضع رؤى مستقبلية مثل رؤية 2030 يساعد على تطوير الاقتصاد الوطني			١
×	يؤثر التضخم بشكل إيجابي على أصحاب الدخل الثابتة والمحدودة			٢
✓	ثقافة المبادرة والإنجاز الذاتي تساهم في دعم الاقتصاد الوطني			٣
×	الإنجاز الذاتي يقتصر على النجاحات الكبيرة والمشهورة فقط			٤
×	الفرد المنجز يميل إلى تجنب المهام الصعبة ويفضل الأعمال السهلة دائماً			٥
✓	زيادة الاستثمارات المحلية والأجنبية في الدولة تسهم في خفض معدل البطالة			٦
×	يقتصر الإنتاج على السلع المادية فقط ولا يشمل الخدمات أو المعارف			٧
✓	يعتمد نجاح الإنتاج بشكل كبير على وجود الأيدي الماهرة والمدربة			٨
×	الإيمان بالقدرات الشخصية والثقة بالنفس من العوامل الثانوية في تحقيق النجاح			٩
✓	تعد المملكة العربية السعودية من ضمن أقوى عشرين اقتصاداً في العالم			١٠
×	البطالة الاختيارية تعني أن الشخص لا يجد فرصة عمل مناسبة لمؤهلاته			١١
×	يؤدي الركود الاقتصادي إلى زيادة فرص العمل المتاحة في المجتمع			١٢
✓	التطوير المستمر والبحث عن المعارف الجديدة يعدان من أسس نجاح العمل			١٣
×	من الحكمة عند اختيار المهنة تجاهل الميول والقدرات الشخصية والتركيز على حاجة السوق فقط			١٤
×	لا توجد علاقة مباشرة بين عمل الفرد وقوة اقتصاد الدولة			١٥
×	يعتمد الاقتصاد القوي على الموارد الطبيعية فقط، ولا علاقة له بالموارد البشرية			١٦

×	انخفاض أسعار النفط يؤدي إلى زيادة الإنفاق على الخدمات العامة مثل التعليم والصحة	١٧
×	الاستقرار السياسي والأمني ليس له تأثير يذكر على نمو الاقتصاد	١٨
✓	أحد الأسباب الرئيسية للتضخم هو زيادة الطلب على السلع والخدمات بشكل يفوق قدرة العرض	١٩
✓	الوقوع في الخطأ يعتبر فرصة للتعلم والتطور وليس نهاية الطريق نحو الإنجاز	٢٠

موقع  
**مادنتيرا**

الوحدة ٨

السؤال الأول: اختر الإجابة الصحيحة فيما يلي :

ما هي النتيجة المباشرة لالتزام جميع المواطنين بواجباتهم؟			
١	زيادة الحقوق فقط.	تحقيق التقدم والاستقرار للمجتمع.	إلغاء جميع القوانين.
واحدة من أهم فوائد تحمل المسؤولية على المستوى الشخصي هي			
٢	الحصول على وقت فراغ أكبر	زيادة الثقة بالنفس	تجنب جميع الصعوبات
حماية ممتلكات الدولة والمرافق العامة تعتبر من			
٣	الحقوق الاختيارية	الواجبات الوطنية الأساسية	الأعمال التطوعية فقط
مسؤولية الحكومة وحدها			
حرص الطالب على تطوير مهاراته وقدراته العلمية يعتبر من أنواع المسؤولية			
٤	الاجتماعية	الوطنية	الذاتية
الأسرية			
توفير التعليم العام ومكافحة الأمية يُعد من			
٥	واجبات	مسؤوليات	حقوق
تطلعات المواطن السعودي			
يعتمد الذوق العام في هويته السعودية بشكل أساسي على			
٦	القوانين الدولية الحديثة	الدين الإسلامي والإرث الحضاري	ما تعرضه وسائل الإعلام العالمية
آراء الخبراء الاقتصاديين			
الإبلاغ عن أي شيء قد يضر بالوطن هو مظهر من مظاهر المسؤولية			
٧	الاجتماعية	الذاتية	الدراسية
الوطنية			
أي من التالي يعد مثلاً على المسؤولية الوطنية؟			
٨	مساعدة جارك في عمل ما	المحافظة على أداء واجباتك المدرسية	الالتزام بقوانين السير والمرور
تنظيف غرفتك الخاصة			
أي من التالي يعد من أهم أسس المحافظة على الذوق العام؟			
٩	تقليد الثقافات الأخرى بشكل كامل	التعبير عن الرأي بصوت مرتفع دائماً	احترام القيم والعادات والتقاليد السائدة في الوطن
ارتداء الملابس التي تحمل علامات تجارية غريبة			
أي من التالي يعد من أهم واجبات المواطن تجاه وطنه؟			
١٠	الحصول على الرعاية الصحية	الولاء للقيادة واحترام الأنظمة	المطالبة بالتعليم المجاني
الحصول على وظيفة			
١١	ما هو التعريف الأنسب لمفهوم 'الذوق العام'؟		

القوانين التي تفرضها الشرطة فقط	القيم والآداب التي تحكم سلوك الإنسان في المجتمع	الأذواق الشخصية في اختيار الملابس والطعام	آراء المشاهير على وسائل التواصل الاجتماعي
أي من التصرفات التالية يعتبر مظهرًا من مظاهر الذوق العام؟			
الحديث في الهاتف بصوت عال في المكتبة	إفراح الطريق لسيارة الإسعاف	ترك عربة التسوق في وسط الممر	الاستماع إلى الموسيقى بدون سماعات في حافلة
المشاركة في الأعمال التطوعية لخدمة المجتمع تدرج تحت أي نوع من المسؤولية؟			
المسؤولية الذاتية	المسؤولية الاجتماعية	المسؤولية الاقتصادية	المسؤولية الشخصية
تجنب الكتابة على الجدران ووسائل النقل يندرج تحت			
الحرية الشخصية	الفن التعبيري الحديث	مخالفات الذوق العام	التطوع المجتمعي
الشعور الوجداني الذي يربط المواطن بوطنه وقيمه وتاريخه يسمى			
الواجب	الحق	النظام	الانتماء
السؤال الثاني :			
ضع علامة صح ( ✓ ) او علامة خطأ ( x ) امام العبارات التالية :			
١	خفض الصوت في الأماكن العامة لا يعتبر من آداب الذوق العام	×	
٢	كفلت الدولة للمواطن حق الرعاية الصحية والتعليم	✓	
٣	يرتكز الذوق العام على الأذواق الفردية فقط ولا علاقة له بقيم المجتمع	×	
٤	احترام أسبقية كبار السن وذوي الإعاقة هو تطبيق عملي للذوق العام	✓	
٥	تحمل المسؤولية يساعد على بناء شخصية قوية وناجحة	✓	
٦	الالتزام بالذوق العام يساهم في إظهار الصورة الحضارية للمجتمع	✓	
٧	يساهم الانتماء والولاء للوطن في تعزيز الوحدة الوطنية وتحقيق الأمن	✓	
٨	تقتصر واجبات المواطن على الدفاع عن الوطن في أوقات الحرب فقط	×	
٩	الاعتزاز بتراث الوطن وثقافته يعد جزءًا من المواطنة المسؤولة	✓	
١٠	عندما يكون أفراد المجتمع مسؤولين، يساهم ذلك في تقدم الوطن وأمنه	✓	
١١	المواطن الصالح هو الذي يطالب بحقوقه دون الالتفات إلى واجباته	×	
١٢	ارتداء لباس غير محتشم في مكان عام لا يتعارض مع أسس المحافظة على الذوق العام	×	
١٣	المسؤولية الاجتماعية تعني الاهتمام بشؤون الفرد الخاصة فقط	×	

×	الالتزام تجاه الأسرة ورعايتها هو جزء من المسؤولية الذاتية	١٤
×	تقتصر المسؤولية على أداء الواجبات فقط دون تحمل نتائج الأفعال	١٥

موقع  
**مادتي**

## الوحدة ٩

أ/ فيصل الحربي

السؤال الأول: اختر الإجابة الصحيحة فيما يلي :

١	المشاركة في حملات زراعة الأشجار وتنظيف الحدائق العامة تدرج تحت مجال	خدمة الصحة	خدمة التراث	خدمة الدين	خدمة البيئة
٢	العمل التطوعي الذي يتم بشكل منظم عن طريق مؤسسات حكومية أو أهلية مرخصة يسمى	تطوع فردي	تطوع مؤسسي	عمل خيري	مبادرة مجتمعية
٣	أي من التالي يعد التعريف الأدق لمفهوم التطوع؟	العمل في وظيفة حكومية لخدمة المواطنين.	بذل الجهد أو الوقت أو المال لخدمة المجتمع دون انتظار مقابل مالي.	تقديم المساعدة للأصدقاء والأقارب فقط.	الحصول على أجر مقابل خدمة يتم تقديمها للمجتمع.
٤	الدافع الأساسي للتطوع الفردي غالبًا ما يكون	تحقيق ربح مالي	الحصول على ترقية وظيفية	مبادرة ذاتية بدوافع دينية أو قيمية	إلزامًا من جهة حكومية
٥	مشاركة طالب في تنظيم مكتبة المدرسة تعتبر تطوعًا بـ	المال	الجهد	الوقت والمال معًا	الدعم المؤسسي
٦	أي من الآتي لا يعد من فوائد التطوع على الفرد؟	اكتساب خبرات جديدة	الحصول على مردود مالي فوري	تعزيز الثقة بالنفس	تنمية مهارات التواصل
٧	كيف يسهم التطوع في تعزيز الأمن في المجتمع؟	عن طريق زيادة دخل الأفراد.	بالإلزام الجميع على العمل.	بإشغال وقت الشباب في أعمال نافعة والحد من السلوك المنحرف.	عن طريق بناء علاقات تجارية فقط.
٨	صفة تفضيل مصالح الآخرين على المصلحة الشخصية تُعرف بـ	الأمانة	المسؤولية	الإيثار	الإخلاص
٩	أي من البرامج الوطنية التالية يهدف بشكل أساسي إلى خدمة الحجاج والمعتمرين؟	برنامج إطفاء	برنامج وقار	برنامج كُن عونًا	برنامج تكاتف
١٠	يُعد التبرع بالدم وتقديم المساعدة في الأعمال الإسعافية من أمثلة التطوع في مجال	خدمة المجتمع	خدمة الصحة	الخدمات الإغاثية	خدمة التعليم

السؤال الثاني :

ضع علامة صح ( ✓ ) او علامة خطأ ( x ) امام العبارات التالية :

×	١	من فوائد التطوع على الفرد الشعور بالعزلة عن المجتمع
×	٢	ينحصر العمل التطوعي في تقديم المساعدات المالية فقط
×	٣	برنامج "وقار" هو برنامج وطني يهدف إلى مساعدة كبار السن ودعم حقوقهم
×	٤	لا بد أن يكون العمل التطوعي المنظم تحت إشراف جهات مرخصة لضمان تحقيق أهدافه
×	٥	التطوع يساعد على تقوية الروابط الاجتماعية وتلاحم أفراد المجتمع
×	٦	يعتبر الإخلاص في العمل من أهم صفات المتطوع الناجح
×	٧	التطوع الفردي لا يتطلب أي دوافع شخصية أو قيمية
×	٨	يتميز التطوع المؤسسي بأنه أكثر تنظيمًا وتأثيرًا من التطوع الفردي
×	٩	يقتصر العمل التطوعي على الدعم المالي فقط
×	١٠	يُعد تحفيظ القرآن الكريم وتعليم مبادئ الدين من مجالات التطوع لخدمة الدين