

تم تحميل وعرض المادة من



موقع مادتي هو موقع تعليمي يعمل على مساعدة المعلمين والطلاب وأولياء الأمور في تقديم حلول الكتب المدرسية والاختبارات وشرح الدروس والملاحظات والتحاير وتوزيع المنهج لكل المراحل الدراسية بشكل واضح وسهل مجاناً بتصفح وعرض مباشر أونلاين وتحميل على موقع مادتي

حمل تطبيق مادتي ليصلك كل جديد





### نموذج اسئلة الاختبار الفترة الثانية لمادة الدراسات الاجتماعية للفصل الدراسي الثاني 1447هـ

اسم الطالب	الدرجة	30
------------	--------	----

17 درجة

#### السؤال الأول:

أ	ضع علامة ( ✓ ) امام العبارة الصائبة وعلامة ( x ) امام العبارة الخاطئة ؟	8 درجات
---	---	---------

1	. الأعمال التطوعية تكون تحت إشراف جهة مرخص لها
2	. عندما يكون الانسان منجزا فإنه يشعر بالرضا
3	الانتماء للوطن يعيق مسيرة التقدم
4	التطور التقني لم يقلل من الاعتماد على الأيدي العاملة
5	للأمن والاستقرار أثر في نمو الاقتصاد الوطني
6	أداء الواجبات المدرسية من العمل التطوعي
7	من الآثار الاجتماعية للبطالة ( قلة الجرائم )
8	حث ديننا الاسلامي على العمل و الانجاز

ب	اختر الاجابة الصحيحة فيما يأتي ؟	4 درجات
---	----------------------------------	---------

1	من البرامج التطوعية هدفه خدمة الحجاج:	أ	اطعام	ب	بيادر	ج	كن عوناً	د	تكاتف
2	حالة رضا داخلية بتحقيق الاهداف :	أ	الانجاز الذاتي	ب	التخطيط	ج	التطوع	د	التدريب
3	الضوابط التي تحكم سلوكنا في المجتمع :	أ	التطوع	ب	الذوق العام	ج	المسؤولية	د	الاقتصاد
4	قدرة الفرد على اداء واجباته :	أ	الحوار	ب	الادارة	ج	البطالة	د	المسؤولية

ج	اكمل الفراغات التالية بكلمات مناسبة ؟	5 درجات
---	---------------------------------------	---------

1/ من مظاهر الذوق العام: ..... و.....

2/ من العوامل المؤثرة في الاقتصاد الوطني: ..... و..... و.....

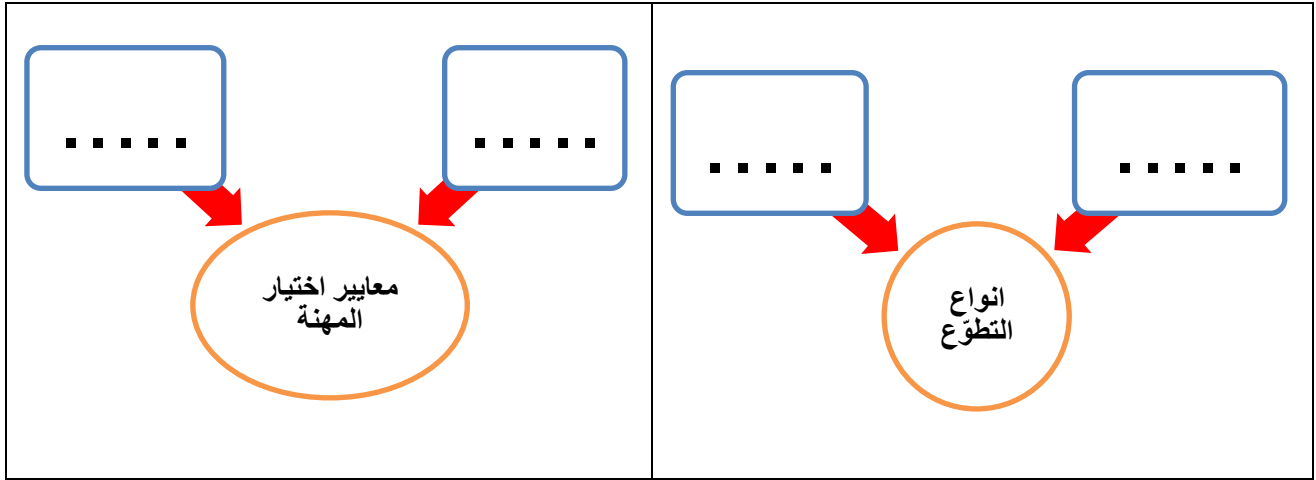
## 13 درجة

## السؤال الثاني:

4 درجات

أكمل خرائط المفاهيم التالية ؟

أ



6 درجات

ضع الأرقام الموجودة أمام المجموعة الأولى أمام ما يناسبها من المجموعة الثانية ؟

ب

المجموعة الثانية	الرقم	المجموعة الأولى	الرقم
التخطيط		من أبرز المشكلات الاقتصادية	1
طاعة ولي الامر		من أهم الخطوات لتحقيق الانجاز	2
نظافة المنتزهات		من حقوق المواطن السعودي	3
التعليم المجاني		من الخدمات التطوعية الصحية	4
التنمية		من واجبات المواطن السعودي	5
التبرع بالدم		من الخدمات التطوعية المجتمعية	6
التضخم و البطالة			

3 درجات

صنف وحدد نوع المسؤولية في الصور في أدناه ؟

ج



مسؤولية .....



مسؤولية .....



مسؤولية .....

← انتهت الاسئلة ←

مدير المدرسة:

معلم المادة: محمد علي القرني

# نموذج الاجابة

نموذج اسئلة الاختبار الفترة  
المادة: الدراسات الاجتماعية  
الصف: الثالث المتوسط  
الفصل الدراسي الثاني  
1447هـ



نموذج اسئلة الاختبار الفترة الثانية لمادة الدراسات الاجتماعية للفصل الدراسي الثاني 1447هـ

اسم الطالب	نموذج اجابة	الدرجة	محمد القرني	30
------------	-------------	--------	-------------	----

17 درجة

السؤال الأول:

أ ضع علامة ( ✓ ) امام العبارة الصائبة وعلامة ( × ) امام العبارة الخاطئة ؟ 8 درجات

1	الأعمال التطوعية تكون تحت إشراف جهة مرخص لها	✓
2	عندما يكون الانسان منجزا فإنه يشعر بالرضا	✓
3	الانتماء للوطن يعيق مسيرة التقدم	×
4	التطور التقني لم يقلل من الاعتماد على الأيدي العاملة	×
5	لأمن والاستقرار أثر في نمو الاقتصاد الوطني	✓
6	أداء الواجبات المدرسية من العمل التطوعي	×
7	من الآثار الاجتماعية للبطالة ( قلة الجرائم )	×
8	حث ديننا الاسلامي على العمل و الانجاز	✓

ب اختار الاجابة الصحيحة فيما يأتي ؟ 4 درجات

1	من البرامج التطوعية هدفه خدمة الحجاج:	أ	اطعام	ب	بيادر	ج	كن عونا	د	تكاتف
2	حالة رضا داخلية بتحقيق الاهداف :	أ	الانجاز الذاتي	ب	التخطيط	ج	التطوع	د	التدريب
3	الضوابط التي تحكم سلوكنا في المجتمع :	أ	التطوع	ب	الذوق العام	ج	المسؤولية	د	الاقتصاد
4	قدرة الفرد على اداء واجباته :	أ	الحوار	ب	الادارة	ج	البطالة	د	المسؤولية

ج اكمل الفراغات التالية بكلمات مناسبة ؟ 5 درجات

1/ من مظاهر الذوق العام: **الابتسامة و السلام**

2/ من العوامل المؤثرة في الاقتصاد الوطني: **التخطيط و راس المال و الاسواق**

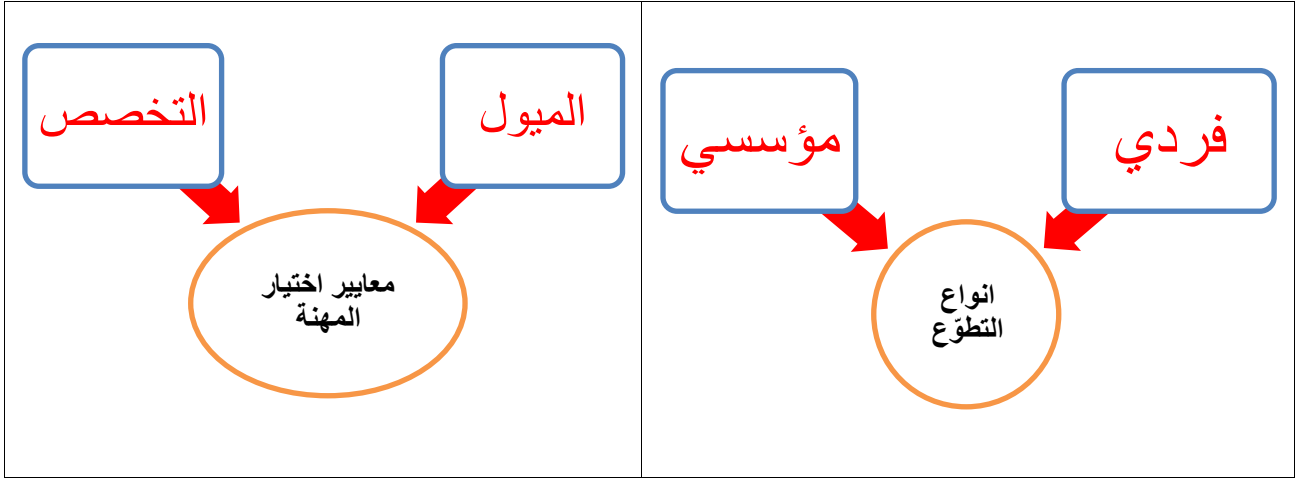
13 درجة

السؤال الثاني:

4 درجات

أكمل خرائط المفاهيم التالية ؟

أ



6 درجات

ضع الأرقام الموجودة أمام المجموعة الأولى أمام ما يناسبها من المجموعة الثانية ؟

ب

المجموعة الثانية	الرقم	المجموعة الأولى	الرقم
التخطيط	2	من أبرز المشكلات الاقتصادية	1
طاعة ولي الامر	5	من أهم الخطوات لتحقيق الانجاز	2
نظافة المنتزهات	6	من حقوق المواطن السعودي	3
التعليم المجاني	3	من الخدمات التطوعية الصحية	4
التنمية		من واجبات المواطن السعودي	5
التبرع بالدم	4	من الخدمات التطوعية المجتمعية	6
التضخم والبطالة	1		

3 درجات

صنّف وحدّد نوع المسؤولية في الصور في أدناه ؟

ج



مسؤولية اجتماعية



مسؤولية شخصية



مسؤولية وطنية

← انتهت الاسئلة ←

مدير المدرسة:

موقع **مادنتيري**

معلم المادة: محمد علي القرني

20

الدرجة: اختبار الفترة الثانية لمادة الدراسات الاجتماعية للصف الثالث المتوسط الفصل الثاني

اسم الطالب	الفصل	أ / ب
------------	-------	-------

السؤال الاول: ضع علامة (√) أمام العبارة الصائبة وعلامة (x) أمام العبارة الخاطئة لما يأتي؟

5 درجات

1	يحثنا ديننا الاسلامي على العمل والانجاز
2	التطور التقني لم يقلل من الاعتماد على الأيدي العاملة
3	يساعد علم المساحة في تمثيل مواقع الظواهر الطبيعية
4	عندما يكون الانسان منجزا فانه يشعر بالرضا
5	التضخم غير مضر بالاقتصاد

درجتين

السؤال الثاني:

البطالة مشكلة اقتصادية واجتماعية، وقامت حكومة وطني بجهود واجراءات لتقليص نسبة البطالة ومن هذه الاجراءات (برنامج جودة الحياة) عبر بأسلوبك ويايجاز عن هذا البرنامج واهدافه؟

4 درجات

السؤال الثالث: اختر الاجابة الصحيحة في الجدول ادناه؟

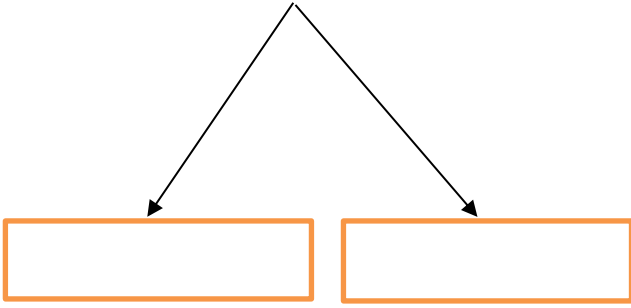
1	نسبة البعد على الخريطة وما يقابله على الطبيعة:	2	كل ما يأتي من اقسام GPS ماعدا :
أ	مقياس الرسم	أ	المستخدم
ب	الاحداثيات	ب	المساحة الارضية
ج	اطار الخريطة	ج	التحكم
د	عنوان الخريطة	د	الاقمار الصناعية
3	الانشطة البشرية في مجال الانتاج والخدمات :	4	من تتوافر لديهم مهارات ولا تتوافر لهم فرص عمل
أ	الانجاز الذاتي	أ	بطالة اختيارية
ب	الانتاج	ب	بطالة هيكلية
ج	التضخم	ج	بطالة مقنعة
د	الاقتصاد الوطني	د	بطالة وظيفية

يتبع

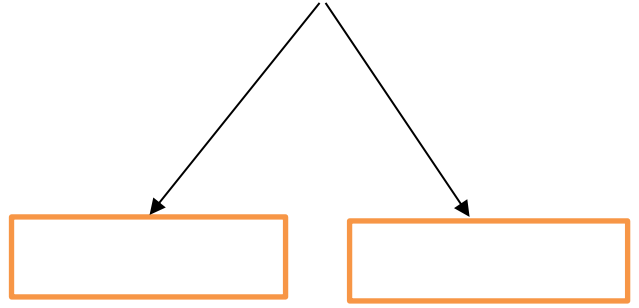
## السؤال الرابع: أكل خرائط المفاهيم التالية؟

4 درجات

معايير اختيار المهنة



العوامل المؤثرة في الاقتصاد الوطني



درجتين

## السؤال الخامس: قارن بين الخريطة والصور الجوية وفق الجدول أدناه؟

الصور الجوية	وجه المقارنة	الخريطة
	المفتاح والرموز	
	الظواهر التي تفسرها	

3 درجات

## السؤال السادس: من خلال دراستك لأنواع الخرائط ومستعينا بالشكل المجاور حدد انواع الخرائط أدناه؟

خريطة سياسية  
خريطة مناخية  
خريطة اقتصادية  
خريطة تاريخية



# نموذج الإجابة

المادة: الدراسات الاجتماعية  
الصف: الثالث المتوسط  
اختبار الفترة الثانية  
الفصل الدراسي الثاني لعام ١٤٤٧ هـ

مدرسة .....

اختبار الفترة الثانية لمادة الدراسات الاجتماعية للصف الثالث المتوسط الفصل الثاني **الدرجة:**

20

اسم الطالب	نموذج اجابة	الفصل	أ / ب
------------	-------------	-------	-------

5 درجات

**السؤال الاول: ضع علامة (√) أمام العبارة الصائبة وعلامة (x) أمام العبارة الخاطئة لما يأتي؟**

1	يحثنا ديننا الاسلامي على العمل والانجاز	√
2	التطور التقني لم يقلل من الاعتماد على الأيدي العاملة	x
3	يساعد علم المساحة في تمثيل مواقع الظواهر الطبيعية	√
4	عندما يكون الانسان منجزا فانه يشعر بالرضا	√
5	التضخم غير مضر بالاقتصاد	x

درجتين

**السؤال الثاني:**

البطالة مشكلة اقتصادية واجتماعية، وقامت حكومة وطني بجهود واجراءات لتقليص نسبة البطالة ومن هذه الاجراءات (برنامج جودة الحياة) عبر بأسلوبك ويايجاز عن هذا البرنامج واهدافه؟

هو احد برامج رؤية المملكة 2030 ويخدم عدة جوانب منها الجانب الاقتصادي والاجتماعي ويسهم في خفض البطالة وتوفير فرص عمل كثيرة في عدة قطاعات مختلفة

4 درجات

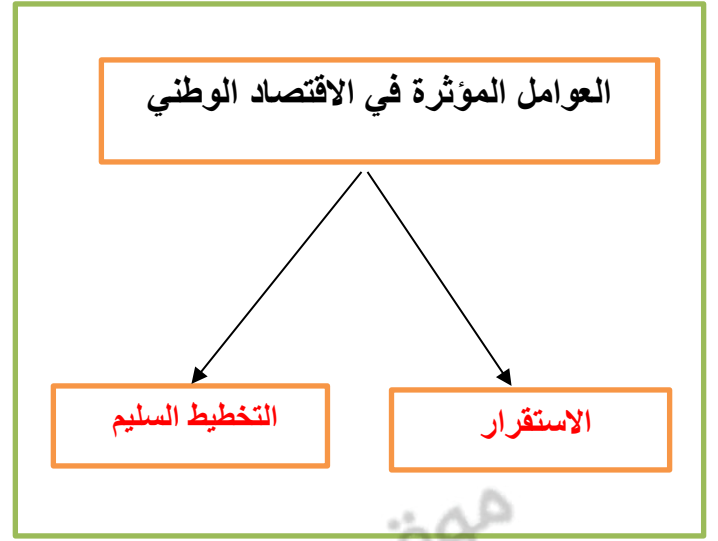
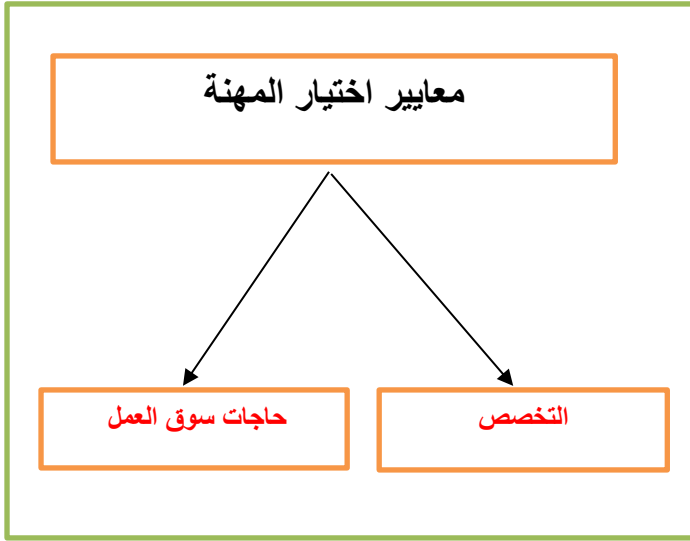
**السؤال الثالث: اختر الاجابة الصحيحة في الجدول ادناه؟**

1	نسبة البعد على الخريطة وما يقابله على الطبيعة:	2	كل ما يأتي من اقسام GPS ماعدا :
أ	مقياس الرسم	أ	المستخدم
ب	الاحداثيات	ب	المساحة الارضية
ج	اطار الخريطة	ج	التحكم
د	عنوان الخريطة	د	الاقمار الصناعية
3	الانشطة البشرية في مجال الانتاج والخدمات :	4	من تتوافر لديهم مهارات ولا تتوافر لهم فرص عمل
أ	الانجاز الذاتي	أ	بطالة اختيارية
ب	الانتاج	ب	بطالة هيكلية
ج	التضخم	ج	بطالة مقنعة
د	الاقتصاد الوطني	د	بطالة وظيفية

يتبع

## السؤال الرابع: أكل خرائط المفاهيم التالية ؟

4 درجات



درجتين

## السؤال الخامس: قارن بين الخريطة والصور الجوية وفق الجدول أدناه؟

الصور الجوية	وجه المقارنة	الخريطة
لا يوجد بها مفتاح ورموز	المفتاح والرموز	يوجد بها مفتاح ورموز
الظواهر الثابتة و المتحركة	الظواهر التي تفسرها	الظواهر الثابتة

3 درجات

## السؤال السادس: من خلال درستك لأنواع الخرائط ومستعينا بالشكل المجاور حدد انواع الخرائط أدناه؟



خريطة سياسية  
خريطة مناخية  
خريطة اقتصادية  
خريطة تاريخية

خريطة اقتصادية

خريطة مناخية

خريطة تاريخية

الدراسات الاجتماعية	المادة:	بسم الله الرحمن الرحيم	مدرسة:
اختبار الفترة الفصل الثاني	الاختبار:		
ثالث متوسط	الصف:		
٤٥	الزمن:		
الثانية	الفترة:		

اسم الطالب	درجة الطالب	٢٠
------------	-------------	----

السؤال الأول: اختر الإجابة الصحيحة:			
٧ درجات			
١- وفقاً لمخطط علاقة العمل بالإنتاج والاقتصاد، ماذا ينتج عن الكفاءة (المعارف والمهارات)؟			
(أ) وظيفة حكومية	(ب) الإنتاج (سلعة - خدمة)	(ج) ركود اقتصادي	(د) وظيفة قطاع خاص
٢- أين تقع محطة التحكم الرئيسية لنظام تحديد المواقع العالمي (GPS)؟			
(أ) في ولاية نيويورك	(ب) في ولاية كلورادو	(ج) في العاصمة واشنطن	(د) في ولاية تكساس
٣- ما العلاقة بين الوقوع في الأخطاء وتحقيق الإنجاز الذاتي؟			
(أ) الأخطاء تعيق الإنجاز تماماً	(ب) الاستفادة من الأخطاء تمنع تكرارها وتدعم الإنجاز	(ج) يجب تجاهل الأخطاء وعدم التفكير فيها	(د) الشخص المنجز لا يقع في الأخطاء أبداً
٤- كم يبلغ عدد الأقمار الصناعية المخصصة لنظام تحديد المواقع العالمي (GPS)؟			
(أ) 20 قمراً صناعياً	(ب) 22 قمراً صناعياً	(ج) 24 قمراً صناعياً	(د) 26 قمراً صناعياً
٥- أي من الخيارات التالية يُعد من المعالم الطبيعية التي يتم تمثيلها في الخرائط؟			
(أ) المباني	(ب) السكك الحديدية	(ج) الأنهار	(د) السدود
٦- أي من المعلومات التالية تظهر على شاشة جهاز GPS عند تحديد الموقع؟			
(أ) نوع التربة في الموقع	(ب) حالة الطقس المتوقعة	(ج) الارتفاع عن سطح البحر	(د) أسماء السكان في المنطقة
٧- أي مما يلي يُعد من معايير اختيار المهنة كما ورد في الدرس؟			
(أ) تقليد الوالدين فقط	(ب) الميول والقدرات	(ج) البعد عن مكان السكن	(د) سهولة العمل

السؤال الثاني: ضع علامة (صح) أو (خطأ):			
٦ درجات			
#	العبارة	الإجابة	
١	من فوائد الإنتاج توفير فرص عمل لأفراد المجتمع.	( )	
٢	تُلتقط الصور الجوية بواسطة الأقمار الصناعية من الفضاء الخارجي.	( )	
٣	تُستخدم خطوط الكنتور في المساحة الطبوغرافية لتمثيل الارتفاعات والانخفاضات.	( )	
٤	تدور الأقمار الصناعية الخاصة بنظام GPS حول الأرض في ثلاثة مدارات فقط.	( )	
٥	الاستفادة من خبرات الآخرين والتعاون معهم يعتبر ضعفاً في الإنجاز الذاتي.	( )	
٦	تتفاوت دقة أجهزة استقبال GPS بين جهاز وآخر.	( )	

السؤال الثالث: أكمل الفراغات التالية:

٥ درجات

- ١ يُعرف العلم الذي يبحث في الطرائق المختلفة لتمثيل سطح الأرض وما عليه من مظاهر بعلم \_\_\_\_.
- ٢ يؤدي الفرد المنجز ما يُكلف به على \_\_\_\_ وجه.
- ٣ يظهر على شاشة جهاز GPS سهم يشير إلى \_\_\_\_ المكان المراد الوصول إليه.
- ٤ تُظهر الصورة الجوية جميع \_\_\_\_ التي تكون أمام عدسة التصوير.
- ٥ الإنجاز الذاتي هو حالة داخلية مستمرة مرتبطة بمشاعر الفرد مثل النشاط و \_\_\_\_.

السؤال الرابع: أجب عن الأسئلة التالية:

٢ درجات

الأول-

ما الغرض من المساحة الطبوغرافية؟

.....

.....

.....

.....

.....

الثاني-

كيف يؤثر العمل والإنتاج في الاقتصاد الوطني؟

.....

.....

.....

.....

.....

موقع  
**مادنتري**

المادة:	الدراسات الاجتماعية	بسم الله الرحمن الرحيم	مدرسة:
الاختبار:	اختبار الفترة الفصل الثاني		
الصف:	ثالث متوسط		
الزمن:	٤٥		
الفترة:	الثانية		
اسم الطالب			
٢٠			

# نموذج الإجابة

٧ درجات	السؤال الأول: اختر الإجابة الصحيحة:		
١- وفقاً لمخطط علاقة العمل بالإنتاج والاقتصاد، ماذا ينتج عن الكفاءة (المعارف والمهارات)؟			
(أ) وظيفة حكومية	(ب) الإنتاج (سلعة - خدمة)	(ج) ركود اقتصادي	(د) وظيفة قطاع خاص
٢- أين تقع محطة التحكم الرئيسية لنظام تحديد المواقع العالمي (GPS)؟			
(أ) في ولاية نيويورك	(ب) في ولاية كلورادو	(ج) في العاصمة واشنطن	(د) في ولاية تكساس
٣- ما العلاقة بين الوقوع في الأخطاء وتحقيق الإنجاز الذاتي؟			
(أ) الأخطاء تعيق الإنجاز تماماً	(ب) الاستفادة من الأخطاء تمنع تكرارها وتدعم الإنجاز	(ج) يجب تجاهل الأخطاء وعدم التفكير فيها	(د) الشخص المنجز لا يقع في الأخطاء أبداً
٤- كم يبلغ عدد الأقمار الصناعية المخصصة لنظام تحديد المواقع العالمي (GPS)؟			
(أ) 20 قمراً صناعياً	(ب) 22 قمراً صناعياً	(ج) 24 قمراً صناعياً	(د) 26 قمراً صناعياً
٥- أي من الخيارات التالية يُعد من المعالم الطبيعية التي يتم تمثيلها في الخرائط؟			
(أ) المباني	(ب) السكك الحديدية	(ج) الأنهار	(د) السدود
٦- أي من المعلومات التالية تظهر على شاشة جهاز GPS عند تحديد الموقع؟			
(أ) نوع التربة في الموقع	(ب) حالة الطقس المتوقعة	(ج) الارتفاع عن سطح البحر	(د) أسماء السكان في المنطقة
٧- أي مما يلي يُعد من معايير اختيار المهنة كما ورد في الدرس؟			
(أ) تقليد الوالدين فقط	(ب) الميول والقدرات	(ج) البعد عن مكان السكن	(د) سهولة العمل

٦ درجات	السؤال الثاني: ضع علامة (صح) أو (خطأ):	
الإجابة	العبارة	#
(✓)	من فوائد الإنتاج توفير فرص عمل لأفراد المجتمع.	١
(X)	تُلتقط الصور الجوية بواسطة الأقمار الصناعية من الفضاء الخارجي.	٢
(✓)	تُستخدم خطوط الكنتور في المساحة الطبوغرافية لتمثيل الارتفاعات والانخفاضات.	٣
(X)	تدور الأقمار الصناعية الخاصة بنظام GPS حول الأرض في ثلاثة مدارات فقط.	٤
(X)	الاستفادة من خبرات الآخرين والتعاون معهم يعتبر ضعفاً في الإنجاز الذاتي.	٥
(✓)	تتفاوت دقة أجهزة استقبال GPS بين جهاز وآخر.	٦

## السؤال الثالث: أكمل الفراغات التالية:

٥ درجات

١	يُعرف العلم الذي يبحث في الطرائق المختلفة لتمثيل سطح الأرض وما عليه من مظاهر بعلم ____ . الإجابة: المساحة
٢	يؤدي الفرد المنجز ما يُكلف به على ____ وجه. الإجابة: أكمل
٣	يظهر على شاشة جهاز GPS سهم يشير إلى ____ المكان المراد الوصول إليه. الإجابة: جهة
٤	تُظهر الصورة الجوية جميع ____ التي تكون أمام عدسة التصوير. الإجابة: التفاصيل
٥	الإنجاز الذاتي هو حالة داخلية مستمرة مرتبطة بمشاعر الفرد مثل النشاط و ____ . الإجابة: الحماس

## السؤال الرابع: أجب عن الأسئلة التالية:

٢ درجات

الأول.

ما الغرض من المساحة الطبوغرافية؟

.....

.....

.....

.....

.....

الإجابة النموذجية: رسم الخرائط التفصيلية لبيان المعالم الطبيعية والبشرية وتمثيل الارتفاعات والانخفاضات (التضاريس).

الثاني.

كيف يؤثر العمل والإنتاج في الاقتصاد الوطني؟

.....

.....

.....

.....

.....

الإجابة النموذجية: يؤثران فيه بتوفير العوائد للفرد والمجتمع والدولة، ورفع مستويات الاقتصاد الوطني ودعم التنافسية.

موقع  
مادنتيري



نموذج اختبار الفترة الثانية  
الفصل الدراسي الثاني ١٤٤٧ هـ  
المادة: الدراسات الاجتماعية  
الصف: الثالث المتوسط

مدرسة .....

الدرجة /20

الفصل

إعداد / محمد القرني

اسم الطالب

علم المساحة  
خريطة سياسية  
الخريطة  
خريطة تضاريسية  
الاحداثيات  
الصور المائلة

**السؤال الأول: مستعينا بالشكل المجاور ضع المصطلح امام ما يناسبه من العبارات ادناه؟**

- ( تمثيل سطح الارض او جزء منع على لوحة مستوية ) ❖  
( تقاطع خطوط الطول ودوائر العرض . ) ❖  
( هي صور تلتقط بعدسات التصوير في وضع مائل . ) ❖  
( العلم الذي يبحث في الطرائق المختلفة لتمثيل سطح الارض . ) ❖  
( هي الخرائط التي توضح حدود الدول . ) ❖

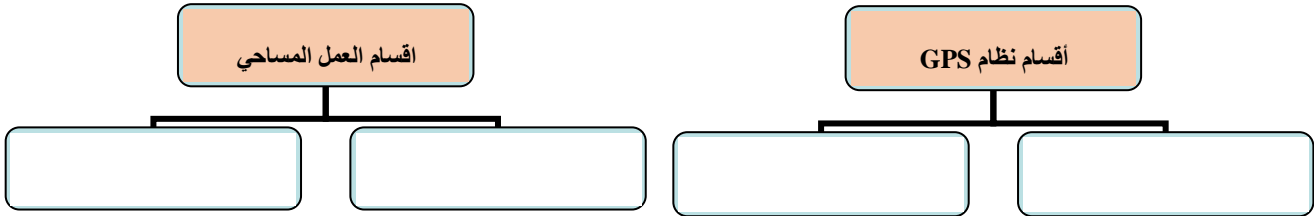
5 درجات

**السؤال الثاني : ضع الرقم امام المجموعة الاولى امام ما يناسبه من المجموعة الثانية؟**

المجموعة الثانية	الرقم	المجموعة الاولى	الرقم
يحيط بالخريطة من الخارج		مقياس الرسم	1
تقاطع خطوط الطول مع دوائر العرض		اطار الخريطة	2
النسبة بين البعد على الخريطة ومايقابله على الطبيعة		عنوان الخريطة	3
اسم وموضوع الخريطة والمكان الذي تمثله			

3 درجات

**السؤال الثالث : اكمل خرائط المفاهيم التالية؟**



4 درجات

**السؤال الرابع : ( أ ) قارن بين الخريطة والصور الجوية وفق الجدول؟**

الصور الجوية	وجه المقارنة	الخريطة
	المفتاح	
	الظاهرة التي تفسرها	

5 درجات

**( ب ) وضع باختصار اهمية نظام ال GPS ؟**

**السؤال الخامس: عزيزي الطالب من خلال دراستك لأنواع الخرائط صنف ما يأتي مستعينا بالشكل المجاور؟**

خريطة سكانية  
خريطة اقتصادية  
خريطة تاريخية  
خريطة مناخية



3 درجات





نموذج اختبار الفترة الثانية  
الفصل الدراسي الثاني ١٤٤٧ هـ  
المادة: الدراسات الاجتماعية  
لصف: الثالث المتوسط

مدرسة

# نموذج الاجابة

اسم

الدرجة /20

علم المساحة  
خريطة سياسية  
الخريطة  
خريطة تضاريسية  
الاحداثيات  
الصور المائلة

**السؤال الأول: مستعينا بالشكل المجاور ضع المصطلح امام ما يناسبه من العبارات ادناه؟**

- ❖ ( الخريطة ) تمثل سطح الارض او جزء منع على لوحة مستوية
- ❖ ( الاحداثيات ) تقاطع خطوط الطول ودوائر العرض .
- ❖ ( الصور المائلة ) هي صور تلتقط بعدسات التصوير في وضع مائل .
- ❖ ( علم المساحة ) العلم الذي يبحث في الطرائق المختلفة لتمثيل سطح الارض .
- ❖ ( خريطة سياسية ) هي الخرائط التي توضح حدود الدول .

5 درجات

**السؤال الثاني : ضع الرقم امام المجموعة الاولى امام ما يناسبه من المجموعة الثانية ؟**

المجموعة الثانية	الرقم	المجموعة الاولى	الرقم
يحيط بالخريطة من الخارج	2	مقياس الرسم	1
تقاطع خطوط الطول مع دوائر العرض		اطار الخريطة	2
النسبة بين البعد على الخريطة ومايقابله على الطبيعة	1	عنوان الخريطة	3
اسم وموضوع الخريطة والمكان الذي تمثله	3		

3 درجات

**السؤال الثالث : اكمل خرائط المفاهيم التالية ؟**



4 درجات

**السؤال الرابع : ( أ ) قارن بين الخريطة والصور الجوية وفق الجدول؟**

الصور الجوية	وجه المقارنة	الخريطة
لا تحتاج اليه	المفتاح	تحتاج ويوجد فيها
الظواهر الثابتة والمتحركة	الظاهرة التي تفسرها	الظواهر الثابتة فقط

5 درجات

**( ب ) وضع باختصار اهمية نظام ال GPS ؟**

يحدد المواقع بدقة عالية ويفيدنا في تحديد اتجاه القبلة وارشاد سائقي السيارات الى الاماكن التي يقصدونها

**السؤال الخامس: عزيزي الطالب من خلال دراستك لأنواع الخرائط صنف ما يأتي مستعينا بالشكل المجاور؟**

خريطة سكانية  
خريطة اقتصادية  
خريطة تاريخية  
خريطة مناخية

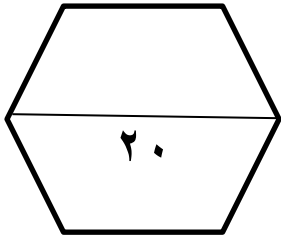


خريطة سكانية

خريطة اقتصادية

خريطة مناخية

3 درجات

الدرجة رقماً	السؤال		المادة	الصف	زمن الاختبار
	١س		اجتماعيات	ثالث متوسط	٤٥ دقيقة
	٢س		اسم الطالب:		
	٣س		الصف:		
عزيزي الطالب / استعن بالله ثم أجب عن الأسئلة التالية :			اختبار الفترة الثانية الفصل الدراسي الثاني للعام الدراسي ١٤٤٧ هـ		

السؤال الأول : أجب بعلامة (√) أمام العبارة الصحيحة وعلامة (X) أمام العبارة الخاطئة :

( )	١) يحدد إطار الخريطة بعد الانتهاء من رسمها .
( )	٢) الخريطة لا توضح الظواهر المتحركة .
( )	٣) الصورة الجوية توضح خطوط الطول ودوائر العرض .
( )	٤) يشير مؤشر اتجاه الخريطة دائماً نحو جهة الشمال .
( )	٥) من فوائد إطار الخريطة تحديد الجزء الذي تمثله الخريطة .
( )	٦) التوقيع هو نقل المعلومات من الخريطة إلى الطبيعة .

السؤال الثاني : اختر الإجابة الصحيحة في الجمل التالية وذلك بوضع علامة (√) في المربع الذي أمامك :

١	هي وسيلة لتمثيل سطح الكرة الأرضية أو جزء منه بظواهره الطبيعية والبشرية على لوحة مستوية :	٢	هي الخرائط التي تمثل عليها الظواهر الطبيعية التي خلقها الله والتي لا أثر للإنسان في نشأتها :
أ-	مقياس الرسم	أ-	الخرائط البشرية
ب-	الخريطة	ب-	الخرائط الطبيعية
ج-	علم المساحة	ج-	الخرائط التضاريسية
د-	الصورة الجوية	د-	الخرائط السياسية
٣	توضح طريقة هجرة نبينا محمد صلى الله عليه وسلم من مكة المكرمة إلى المدينة المنورة خريطة :	٤	يقصد بها خطوط الطول ودوائر العرض :
أ-	اقتصادية	أ-	عنوان الخريطة
ب-	مناخية	ب-	إطار الخريطة
ج-	تاريخية	ج-	شبكة الاحداثيات
د-	سياسية	د-	مقياس الرسم

٥	أفضل أنواع المقاييس هو المقياس :	٦	هي صورة لجزء من سطح الأرض تلتقط بالطائرات أو المناطيد المزودة بالكاميرات التصوير :
أ-	<input type="checkbox"/> الخطي	أ-	<input type="checkbox"/> الظواهر الطبيعية
ب-	<input type="checkbox"/> الكتاني	ب-	<input type="checkbox"/> الاحداثيات
ج-	<input type="checkbox"/> النسي	ج-	<input type="checkbox"/> الخريطة
د-	<input type="checkbox"/> الكسري	د-	<input type="checkbox"/> الصور الجوية
٧	من فوائد نظام تحديد المواقع :	٨	المساحة الفلكية تكون لمعرفة الحسابات الفلكية مثل :
أ-	<input type="checkbox"/> تحديد المواقع تحديداً دقيقاً	أ-	<input type="checkbox"/> معرفة الشهور
ب-	<input type="checkbox"/> تحديد اتجاه القبلة	ب-	<input type="checkbox"/> أوقات الصلاة
ج-	<input type="checkbox"/> إرشاد السفن والطائرات	ج-	<input type="checkbox"/> تحديد القبلة
د-	<input type="checkbox"/> جميع ما سبق	د-	<input type="checkbox"/> جميع ما سبق

السؤال الثالث: اكتب الرقم المناسب من المجموعة ( أ ) أمام ما يناسبه من المجموعة ( ب ) :

مجموعة ( أ )	الاجابة	مجموعة ( ب )
١- المساحة الجيوديسية		الغرض منها إنشاء الخرائط التفصيلية وبيان المعالم وبعض التفاصيل .
٢- المساحة المستوية		الغرض منها رسم الخرائط التفصيلية من أجل بيان ما تحويه الأرض من معالم طبيعية وبشرية .
٣- عنوان الخريطة		تعني الأعمال المساحية التي تغطي جزء صغير من سطح الأرض دون الاهتمام بكروية الأرض .
٤- نظام ( GPS )		تعني تحديد نقط على سطح الأرض للمساحات الشاسعة مع الأخذ في الحسبان بكروية الأرض .
٥- المساحة التفصيلية		الاسم الذي يحدد موضوع الخريطة .
٦- المساحة الطبوغرافية		نظام مترابط يساعد على تحديد احداثيات أي مكان على سطح الأرض بدقة عالية وفق خطوط الطول ودوائر العرض .

انتهت الأسئلة

إعداد : خالد الحربي

رقمة رقمياً

# نموذج الإجابة

٢س	٢٠	٤٥ دقيقة	المادة	الصف
٣س		ثالث متوسط	اجتماعيات	
عزيزي الطالب / استعن بالله ثم أجب عن الأسئلة التالية :		اسم الطالب:		
		الصف:		
		اختبار الفترة الثانية الفصل الدراسي الثاني للعام الدراسي ١٤٤٧ هـ		

السؤال الأول : أجب بعلامة (√) أمام العبارة الصحيحة وعلامة (X) أمام العبارة الخاطئة :

(X)	(١) يحدد إطار الخريطة بعد الانتهاء من رسمها .
(✓)	(٢) الخريطة لا توضح الظواهر المتحركة .
(X)	(٣) الصورة الجوية توضح خطوط الطول ودوائر العرض .
(✓)	(٤) يشير مؤشر اتجاه الخريطة دائماً نحو جهة الشمال .
(✓)	(٥) من فوائد إطار الخريطة تحديد الجزء الذي تمثله الخريطة .
(✓)	(٦) التوقيع هو نقل المعلومات من الخريطة إلى الطبيعة .

السؤال الثاني : اختر الإجابة الصحيحة في الجمل التالية وذلك بوضع علامة (√) في المربع الذي أمامك :

١	هي وسيلة لتمثيل سطح الكرة الأرضية أو جزء منه بظواهره الطبيعية والبشرية على لوحة مستوية :	٢	هي الخرائط التي تمثل عليها الظواهر الطبيعية التي خلقها الله والتي لا أثر للإنسان في نشأتها :
أ-	مقياس الرسم	أ-	الخرائط البشرية
ب-	الخريطة	ب-	الخرائط الطبيعية
ج-	علم المساحة	ج-	الخرائط التضاريسية
د-	الصورة الجوية	د-	الخرائط السياسية
٣	توضح طريقة هجرة نبينا محمد صلى الله عليه وسلم من مكة المكرمة إلى المدينة المنورة خريطة :	٤	يقصد بها خطوط الطول ودوائر العرض :
أ-	اقتصادية	أ-	عنوان الخريطة
ب-	مناخية	ب-	إطار الخريطة
ج-	تاريخية	ج-	شبكة الاحداثيات
د-	سياسية	د-	مقياس الرسم

٥	أفضل أنواع المقاييس هو المقياس :	٦	هي صورة لجزء من سطح الأرض تلتقط بالطائرات أو المناطيد المزودة بالكاميرات التصوير :
أ-	<input type="checkbox"/> الخطي	أ-	<input type="checkbox"/> الظواهر الطبيعية
ب-	<input type="checkbox"/> الكتاني	ب-	<input type="checkbox"/> الاحداثيات
ج-	<input type="checkbox"/> النسي	ج-	<input type="checkbox"/> الخريطة
د-	<input type="checkbox"/> الكسري	د-	<input type="checkbox"/> الصور الجوية
٧	من فوائد نظام تحديد المواقع :	٨	المساحة الفلكية تكون لمعرفة الحسابات الفلكية مثل :
أ-	<input type="checkbox"/> تحديد المواقع تحديداً دقيقاً	أ-	<input type="checkbox"/> معرفة الشهور
ب-	<input type="checkbox"/> تحديد اتجاه القبلة	ب-	<input type="checkbox"/> أوقات الصلاة
ج-	<input type="checkbox"/> إرشاد السفن والطائرات	ج-	<input type="checkbox"/> تحديد القبلة
د-	<input type="checkbox"/> جميع ما سبق	د-	<input type="checkbox"/> جميع ما سبق

السؤال الثالث: اكتب الرقم المناسب من المجموعة ( أ ) أمام ما يناسبه من المجموعة ( ب ) :

مجموعة ( أ )	الاجابة	مجموعة ( ب )
١- المساحة الجيوديسية	٥	الغرض منها إنشاء الخرائط التفصيلية وبيان المعالم وبعض التفاصيل .
٢- المساحة المستوية	٦	الغرض منها رسم الخرائط التفصيلية من أجل بيان ما تحويه الأرض من معالم طبيعية وبشرية .
٣- عنوان الخريطة	٢	تعني الأعمال المساحية التي تغطي جزء صغير من سطح الأرض دون الاهتمام بكروية الأرض .
٤- نظام ( GPS )	١	تعني تحديد نقط على سطح الأرض للمساحات الشاسعة مع الأخذ في الحسبان بكروية الأرض .
٥- المساحة التفصيلية	٣	الاسم الذي يحدد موضوع الخريطة .
٦- المساحة الطبوغرافية	٤	نظام مترابط يساعد على تحديد احداثيات أي مكان على سطح الأرض بدقة عالية وفق خطوط الطول ودوائر العرض .

انتهت الأسئلة

إعداد : خالد الحربي

التوقيع	اسم المصحح :	الدرجة	المملكة العربية السعودية
التوقيع	اسم المراجع :	40	مدرسة

رقم الجلوس	الصف الثالث متوسط	العام الدراسي ١٤٤٧ هـ	اختبار الفترة الثانية الفصل الدراسي الثاني
عدد الصفحات : 2	الزمن : ساعه	المادة : اجتماعيات	اسم الطالب : .....

### السؤال الأول

استعن بالله ثم اجب على الاسئلة

5

ضع علامة ( √ ) أمام العبارة الصحيحة وعلامة ( X ) أمام العبارة الخاطئة

أ

( )	تساعد المساحة على تمثيل مواقع الظواهر الطبيعية.	1
( )	تتشابه الرموز في كل مفاتيح الخرائط	2
( )	اختلاف المعلومات التي تقدمها الخرائط أدى إلى تنوعها .	3
( )	الصور الجوية توضح الظواهر المتحركة	4
( )	يطلق على المساحة الأرضية المساحة التقليدية	5

5

### السؤال الثاني

أربط بين العمود [ أ ] بما يناسبه في العمود [ ب ] بوضع الرقم المناسب في مربع الإجابة :

م	العمود [ أ ]	الإجابة	العمود [ ب ]
1	توضح الهجرات البشرية في العالم.		خريطة سياسية
2	تمثل الحدود بين الدول		خريطة سكانية
3	تحوي حقول النفط في منطقة الخليج العربي.		خريطة مناخية
4	توضح طريق هجرة نبينا محمد من مكة المكرمة إلى المدينة المنورة		خريطة اقتصادية
5	تمثل مناطق نزول الأمطار صيفا في شبه الجزيرة العربية.		خريطة تاريخية

### السؤال الثالث

ضع دائرة على الحرف الذي يسبق الإجابة الصحيحة لكل مما يلي :

5

1- تساعد في معرفة الشهور وأوقات الصلاة وتحديد القبلة .

أ المساحة الأرضية      ب المساحة الفلكية      ج المساحة الملاحية

2- النسبة بين البعد على الخريطة، وما يقابله على الطبيعة:

أ مفتاح الخريطة      ب مقياس الرسم      ج شبكة الاحداثيات

3 - مجموعة من المصطلحات والرموز تمثل الظواهر والمعالم التي على الخريطة

أ مفتاح الخريطة      ب شبكة الاحداثيات      ج المساحة

4- يبين موضوع الخريطة والمكان الذي تمثله:

أ عنوان الخريطة      ب مفتاح الخريطة      ج إطار الخريطة

5- تعني تحديد نُقط على سطح الأرض للمساحات الشاسعة،

أ المساحة الجيوديسية      ب المساحة المستوية      ج المساحة الطبوغرافية

### السؤال الرابع

اكتب اثنين فقط لكل مما يلي :

أ - من أنواع مقاييس الرسم :

1- .....

2- .....

ب - استعمالات الصور الجوية :

1- .....

2- .....

ج - مكونات نظام تحديد المواقع العالمي :

1- .....

2- .....

5

التوقيع	اسم المصحح :	الدرجة	المملكة العربية السعودية
التوقيع	اسم المراجع :	<b>نموذج الاجابة</b>	
			مدرسة

رقم الجلوس	الصف الثالث متوسط	العام الدراسي ١٤٤٧ هـ	اختبار الفترة الثانية الفصل الدراسي الثاني
عدد الصفحات : ٢	الزمن : ساعه	المادة : اجتماعيات	اسم الطالب : .....

### السؤال الأول

استعن بالله ثم اجب على الاسئلة

٢٠

ضع علامة ( ✓ ) أمام العبارة الصحيحة وعلامة ( X ) أمام العبارة الخاطئة

أ

( ✓ )	تساعد المساحة على تمثيل مواقع الظواهر الطبيعية.	١
( X )	تتشابه الرموز في كل مفاتيح الخرائط	٢
( ✓ )	اختلاف المعلومات التي تقدمها الخرائط أدى إلى تنوعها .	٣
( ✓ )	الصور الجوية توضح الظواهر المتحركة	٤
( ✓ )	يطلق على المساحة الأرضية المساحة التقليدية	٥

### السؤال الثاني

٥

أربط بين العمود [ أ ] بما يناسبه في العمود [ ب ] بوضع الرقم المناسب في مربع الإجابة :

م	العمود [ أ ]	الإجابة	العمود [ ب ]
١	توضح الهجرات البشرية في العالم.	٢	خريطة سياسية
٢	تمثل الحدود بين الدول	١	خريطة سكانية
٣	تحوي حقول النفط في منطقة الخليج العربي.	٥	خريطة مناخية
٤	توضح طريق هجرة نبينا محمد من مكة المكرمة إلى المدينة المنورة	٣	خريطة اقتصادية
٥	تمثل مناطق نزول الأمطار صيفا في شبه الجزيرة العربية.	٤	خريطة تاريخية

ضع دائرة على الحرف الذي يسبق الإجابة الصحيحة لكل مما يلي :

5

1- تساعد في معرفة الشهور وأوقات الصلاة وتحديد القبلة .

أ المساحة الأرضية      ب المساحة الفلكية      ج المساحة الملاحية

2- النسبة بين البعد على الخريطة، وما يقابله على الطبيعة:

أ مفتاح الخريطة      ب مقياس الرسم      ج شبكة الاحداثيات

3 - مجموعة من المصطلحات والرموز تمثل الظواهر والمعالم التي على الخريطة

أ مفتاح الخريطة      ب شبكة الاحداثيات      ج المساحة

4- يبين موضوع الخريطة والمكان الذي تمثله:

أ عنوان الخريطة      ب مفتاح الخريطة      ج إطار الخريطة

5- تعني تحديد نُقط على سطح الأرض للمساحات الشاسعة،

أ المساحة الجيوديسية      ب المساحة المستوية      ج المساحة الطبوغرافية

اكتب اثنين فقط لكل مما يلي :

أ - من أنواع مقاييس الرسم :

1- المقياس الخطي.....

2- المقياس النسبي.....

ب - استعمالات الصور الجوية :

1- التعرف على الظواهر الطبيعية والبشرية.

2- إعداد الخرائط الطبوغرافية.....

ج - مكونات نظام تحديد المواقع العالمي :

1- قسم الأقمار الصناعية.....

2- قسم المستخدم.....

5

اختبار الفترة الثانية مادة : الدراسات الاجتماعية	الصف : ثالث متوسط	الفصل الدراسي : الثاني لعام ١٤٤٧ هـ
الاسم: .....	الدرجة	معلم المادة: ..... التوقيع: .....
	٢٠	

السؤال الأول: ضع علامة ( √ ) أمام العبارة الصحيحة وعلامة ( X ) أمام العبارة الخاطئة :

م	العبارة	الإجابة
1	أصبحت الخرائط اليوم رقمية.	
2	فائدة شبكة الإحداثيات التي توضع على الخرائط تحديد المواقع	
3	المساحة التفصيلية الغرض منها إنشاء خرائط تفصيلية وبيان المعالم	
4	من طرق توجيه الخارطة البوصلة	
5	الصورة الجوية الملتقطة في وضع مائل تغطي مساحات واسعة	
6	من مكونات نظام تحديد المواقع العالمي الأقمار الصناعية	
7	الإنجاز الذاتي مرتبط بمشاعر الفرد	
8	يجب تقليد الآخرين في اختيار المهنة	
9	اتجاه الخارطة هو المؤشر الذي يبين اتجاه الجنوب	
10	الخرائط التاريخية هي التي تتناول جوانب سياسية	

السؤال الثاني: اختر الاجابة الصحيحة:

1	وسيلة لتمثيل سطح الكرة الأرضية، أو جزء منه بظواهره الطبيعية، والبشرية على لوحة مستوية.	أ   الخارطة	ب   المساحة	ج   الصور الجوية	د   نظام تحديد الموقع
2	عبارة عن مجموعة من الرموز تمثل الظواهر على الخارطة، و المصطلحات التي تفسر ما تعنيه تلك الرموز:	أ   مفتاح الخارطة	ب   مقياس الرسم	ج   عنوان الخارطة	د   إطار الخارطة
3	هو الاسم الذي يحدد موضوع الخارطة، والمكان الذي تمثله	أ   عنوان الخارطة	ب   مفتاح الخارطة	ج   مقياس الرسم	د   إطار الخارطة
4	صورة لجزء من سطح الأرض يتم التقاطها بواسطة الطائرات أو المناطيد المزودة بآلات التصوير:	أ   الصور الجوية	ب   الأقمار الصناعية	ج   GPS	د   الإحداثيات
5	خارطة دقيقة توضح الظواهر الطبيعية، والبشرية معاً بدقة عالية باستخدام الرموز النقطية، والخطية، والمساحية:	أ   الطبوغرافية.	ب   الطبيعية	ج   البشرية	د   الصناعية
6	يبلغ عدد الأقمار الصناعية المخصصة لنظام تحديد المواقع العالمي: ( GPS ) :	أ   24	ب   25	ج   26	د   27
7	تجمع المعلومات المساحية بالمقياس المباشر على سطح الأرض هي المساحة	أ   الأرضية	ب   الفلكية	ج   الملاحية	د   الجوية
8	من خطوات تحقيق الإنجاز الذاتي	أ   تحديد الأهداف	ب   التخطيط	ج   بذل الجهد	د   جميع ما سبق
9	جعلت عملية الإنتاج سريعة وذات جودة عالية	أ   سوق العمل	ب   معايير المهنة	ج   الإنجاز الذاتي	د   التقنيات الحديثة
10	النشاط الإنساني للحصول على السلع والخدمات من المواد الخام أو المعارف هو	أ   التخطيط	ب   العمل	ج   الإنجاز الذاتي	د   الإنتاج

انتهت الأسئلة ،،،،، مع تمنياتي لكم بالتوفيق والنجاح ،،،،، معلم المادة /

# نموذج الاجابة

اختبار الفترة الثانية مادة : الدراسات الاجتماعية	الصف : ثالث متوسط	الفصل الدراسي : الثاني لعام ١٤٤٧ هـ
الاسم: .....	الدرجة	معلم المادة: ..... التوقيع: .....
	٢٠	

السؤال الأول: ضع علامة ( √ ) أمام العبارة الصحيحة وعلامة ( X ) أمام العبارة الخاطئة :

م	العبارة	الإجابة
1	أصبحت الخرائط اليوم رقمية.	√
2	فائدة شبكة الإحداثيات التي توضع على الخرائط تحديد المواقع	√
3	المساحة التفصيلية الغرض منها إنشاء خرائط تفصيلية وبيان المعالم	√
4	من طرق توجيه الخارطة البوصلة	√
5	الصورة الجوية الملتقطة في وضع مائل تغطي مساحات واسعة	√
6	من مكونات نظام تحديد المواقع العالمي الأعمار الصناعية	√
7	الإنجاز الذاتي مرتبط بمشاعر الفرد	√
8	يجب تقليد الآخرين في اختيار المهنة	X
9	اتجاه الخارطة هو المؤشر الذي يبين اتجاه الجنوب	X
10	الخرائط التاريخية هي التي تتناول جوانب سياسية	X

السؤال الثاني: اختر الاجابة الصحيحة:

1	وسيلة لتمثيل سطح الكرة الأرضية، أو جزء منه بظواهره الطبيعية، والبشرية على لوحة مستوية.	أ	الخارطة	ب	المساحة	ج	الصور الجوية	د	نظام تحديد الموقع
2	عبارة عن مجموعة من الرموز تمثل الظواهر على الخارطة، و المصطلحات التي تفسر ما تعنيه تلك الرموز:	أ	مفتاح الخارطة	ب	مقياس الرسم	ج	عنوان الخارطة	د	إطار الخارطة
3	هو الاسم الذي يحدد موضوع الخارطة، والمكان الذي تمثله	أ	عنوان الخارطة	ب	مفتاح الخارطة	ج	مقياس الرسم	د	إطار الخارطة
4	صورة لجزء من سطح الأرض يتم التقاطها بواسطة الطائرات أو المناطيد المزودة بآلات التصوير:	أ	الصور الجوية	ب	الأقمار الصناعية	ج	GPS	د	الإحداثيات
5	خارطة دقيقة توضح الظواهر الطبيعية، والبشرية معاً بدقة عالية باستخدام الرموز النقطية، والخطية، والمساحية:	أ	الطبوغرافية	ب	الطبيعية	ج	البشرية	د	الصناعية
6	يبلغ عدد الأقمار الصناعية المخصصة لنظام تحديد المواقع العالمي: ( GPS ) :	أ	24	ب	25	ج	26	د	27
7	تجمع المعلومات المساحية بالمقياس المباشر على سطح الأرض هي المساحة	أ	الأرضية	ب	الفلكية	ج	الملاحية	د	الجوية
8	من خطوات تحقيق الإنجاز الذاتي	أ	تحديد الأهداف	ب	التخطيط	ج	بذل الجهد	د	جميع ما سبق
9	جعلت عملية الإنتاج سريعة وذات جودة عالية	أ	سوق العمل	ب	معايير المهنة	ج	الإنجاز الذاتي	د	التقنيات الحديثة
10	النشاط الإنساني للحصول على السلع والخدمات من المواد الخام أو المعارف هو	أ	التخطيط	ب	العمل	ج	الإنجاز الذاتي	د	الإنتاج

انتهت الأسئلة ،،،،، مع تمنياتي لكم بالتوفيق والنجاح ،،،

المادة : اجتماعيات
الصف : الثالث المتوسط
اختبار الوحدة ٧ الفصل ٢

السؤال الأول: اختر الإجابة الصحيحة فيما يلي :

١	المقصود بالحالة الداخلية التي تدفع الفرد للتخطيط والعمل لتحقيق النجاح
	(أ) الإنجاز الذاتي (ب) المسؤولية الاجتماعية (ج) الهوية الوطنية (د) العمل التطوعي
٢	أولى خطوات تحقيق الإنجاز الذاتي
	(أ) بذل الجهد والعمل الدؤوب (ب) التعاون مع الآخرين (ج) تحديد الأهداف بدقة ووضوح (د) التخطيط للأعمال
٣	من صفات الفرد المنجز
	(أ) الميل إلى الأعمال السهلة والبسيطة (ب) العمل بشكل فردي فقط وعدم التعاون (ج) الالتزام بالمواعيد وتنظيم الوقت (د) تأجيل المهام إلى وقت لاحق
٤	أثر الإنجاز الذاتي في شعور الإنسان تجاه وطنه
	(أ) يجعله يشعر بالانعزال عن المجتمع (ب) يكون مصدر اعتزاز وفخر للشخص ولوطنه (ج) لا علاقة للإنجاز الذاتي بالوطن (د) يقلل من اهتمامه بالقضايا الوطنية
٥	من معايير اختيار المهنة
	(أ) تقليد الوالدين فقط (ب) الميول والقدرات (ج) البعد عن مكان السكن (د) سهولة العمل
٦	حسن العمل ودقته وبذل الجهد للوصول إليه يسمى
	(أ) الإتقان (ب) التطوير (ج) المسؤولية (د) الإبداع
٧	من العوامل المؤثرة في الاقتصاد الوطني
	(أ) الطقس والمناخ (ب) الاستقرار والتخطيط السليم (ج) عدد السائحين فقط (د) مساحة الدولة الجغرافية فقط
٨	المقصود بالطلب في الاقتصاد
	(أ) الكمية المعروضة من سلعة في زمن محدد (ب) الرغبة مع القدرة على شراء سلعة أو خدمة (ج) ارتفاع أسعار السلع في الأسواق (د) توفر الموارد الطبيعية والبشرية
٩	الملك الذي بدأت في عهده الخطط الخمسية للتنمية في المملكة
	(أ) الملك عبدالعزيز (ب) الملك سعود (ج) الملك فيصل (د) الملك فهد
١٠	أثر انخفاض أسعار النفط في الاقتصاد الوطني
	(أ) زيادة موارد الدولة وتطور الخدمات (ب) تقلص الإنفاق وتأثر موارد الدولة سلباً (ج) ثبات الأسعار وعدم تأثر الاقتصاد (د) زيادة رواتب الموظفين فوراً
١١	عدم توافر فرص العمل للراغبين والقادرين عليه
	(أ) التضخم (ب) البطالة (ج) الركود الاقتصادي (د) القوة الشرائية

تابع خلف الورقة

من الأسباب الاجتماعية للبطالة				
(د) النظرة الاجتماعية السلبية تجاه بعض فرص العمل	(ج) الاستعانة بالأيدي العاملة الوافدة	(ب) الركود الاقتصادي	(أ) ضعف الاستثمارات	١٢
نوع البطالة التي يعمل فيها الأفراد في أعمال أقل من مؤهلاتهم				١٣
(د) البطالة الوظيفية	(ج) البطالة المُقْتَنَعَة	(ب) البطالة الاختيارية	(أ) البطالة الهيكلية	
الهيئة الداعمة لرواد الأعمال والمنشآت الصغيرة في المملكة				١٤
(د) مراس	(ج) منشآت	(ب) حافظ	(أ) هدف	
أثر التضخم في قيمة العملة النقدية				١٥
(د) تزيد قدرتها على شراء سلع أكثر	(ج) تثبت قيمتها تماماً	(ب) تنخفض قيمتها النقدية	(أ) ترتفع قيمتها الشرائية	

السؤال الثاني: ضع إشارة ( ✓ ) أمام الإجابة الصحيحة وإشارة ( × ) أمام الإجابة الخاطئة:

١	الإنتاج الذاتي حالة مؤقتة تنتهي بعد إنجاز عمل واحد
٢	الفرد المنجز يميل إلى الأعمال الصعبة ويؤديها بإتقان
٣	الاستفادة من خبرات الآخرين والتعاون معهم يعتبر ضعفاً في الإنتاج الذاتي.
٤	الإنتاج الذاتي يعزز ثقة الإنسان بنفسه
٥	يستطيع الفرد إنتاج كل ما يحتاج إليه دون تخصص العمل والإنتاج يرتبطان بالاقتصاد
٦	من فوائد الإنتاج توفير فرص عمل لأفراد المجتمع.
٧	التطوير في العمل يعني الاكتفاء بالمعارف القديمة وعدم مواكبة الجديد.
٨	يجب اختيار المهنة بما يتوافق مع الميول والقدرات
٩	المملكة العربية السعودية عضو في مجموعة العشرين
١٠	الإجراءات المعقدة وغير الحديثة تساهم في نمو الاقتصاد وازدهاره.
١١	الاعتماد الكلي على النفط مشكلة اقتصادية
١٢	التضخم يعني انخفاض الأسعار وزيادة القدرة الشرائية
١٣	من آثار البطالة زيادة الجريمة والمخدرات
١٤	البطالة الوظيفية تعني ترك العمل بحثاً عن وظيفة أفضل
١٥	

انتهت الأسئلة

رابط اختبار الفورمز

[https://forms.office.com/Pages/ShareFormPage.aspx?id=DZRkri6E9EC\\_qGdigAk1c8Mm0nUPK\\_1AjDYTMHH-3qBUQjJQQ0oxMjVYVUUhIWUEwNzFLSUJURFI4RS4u&sharetoken=9q3flEqHKBrUfYZHPxd](https://forms.office.com/Pages/ShareFormPage.aspx?id=DZRkri6E9EC_qGdigAk1c8Mm0nUPK_1AjDYTMHH-3qBUQjJQQ0oxMjVYVUUhIWUEwNzFLSUJURFI4RS4u&sharetoken=9q3flEqHKBrUfYZHPxd)

# نموذج الإجابة

السؤال الأول: اختر الإجابة الصحيحة فيما يلي :

المقصود بالحالة الداخلية التي تدفع الفرد للتخطيط والعمل لتحقيق النجاح				١
(د) العمل التطوعي	(ج) الهوية الوطنية	(ب) المسؤولية الاجتماعية	(أ) الإنجاز الذاتي	
أولى خطوات تحقيق الإنجاز الذاتي				٢
(د) التخطيط للأعمال	(ج) تحديد الأهداف بدقة ووضوح	(ب) التعاون مع الآخرين	(أ) بذل الجهد والعمل الدؤوب	
من صفات الفرد المنجز				٣
(د) تأجيل المهام إلى وقت لاحق	(ج) الالتزام بالمواعيد وتنظيم الوقت	(ب) العمل بشكل فردي فقط وعدم التعاون	(أ) الميل إلى الأعمال السهلة والبسيطة	
أثر الإنجاز الذاتي في شعور الإنسان تجاه وطنه				٤
(د) يقلل من اهتمامه بالقضايا الوطنية	(ج) لا علاقة للإنجاز الذاتي بالوطن	(ب) يكون مصدر اعتزاز وفخر للشخص ولوطنه	(أ) يجعله يشعر بالانعزال عن المجتمع	
من معايير اختيار المهنة				٥
(د) سهولة العمل	(ج) البعد عن مكان السكن	(ب) الميول والقدرات	(أ) تقليد الوالدين فقط	
حسن العمل ودقته وبذل الجهد للوصول إليه يسمى				٦
(د) الإبداع	(ج) المسؤولية	(ب) التطوير	(أ) الإتقان	
من العوامل المؤثرة في الاقتصاد الوطني				٧
(د) مساحة الدولة الجغرافية فقط	(ج) عدد السائحين فقط	(ب) الاستقرار والتخطيط السليم	(أ) الطقس والمناخ	
المقصود بالطلب في الاقتصاد				٨
(د) توفر الموارد الطبيعية والبشرية	(ج) ارتفاع أسعار السلع في الأسواق	(ب) الرغبة مع القدرة على شراء سلعة أو خدمة	(أ) الكمية المعروضة من سلعة في زمن محدد	
الملك الذي بدأت في عهده الخطط الخمسية للتنمية في المملكة				٩
(د) الملك فهد	(ج) الملك فيصل	(ب) الملك سعود	(أ) الملك عبدالعزيز	
أثر انخفاض أسعار النفط في الاقتصاد الوطني				١٠
(د) زيادة رواتب الموظفين فوراً	(ج) ثبات الأسعار وعدم تأثر الاقتصاد	(ب) تقلص الإنفاق وتأثر موارد الدولة سلباً	(أ) زيادة موارد الدولة وتطور الخدمات	
عدم توافر فرص العمل للراغبين والقادرين عليه				١١
(د) القوة الشرائية	(ج) الركود الاقتصادي	(ب) البطالة	(أ) التضخم	

تابع خلف الورقة

من الأسباب الاجتماعية للبطالة				
د) النظرة الاجتماعية السلبية تجاه بعض فرص العمل	ج) الاستعانة بالأيدي العاملة الوافدة	ب) الركود الاقتصادي	أ) ضعف الاستثمارات	١٢
نوع البطالة التي يعمل فيها الأفراد في أعمال أقل من مؤهلاتهم				
د) البطالة الوظيفية	ج) البطالة المُقْتَنَعَة	ب) البطالة الاختيارية	أ) البطالة الهيكلية	١٣
الهيئة الداعمة لرواد الأعمال والمنشآت الصغيرة في المملكة				
د) مراسم	ج) منشآت	ب) حافظ	أ) هدف	١٤
أثر التضخم في قيمة العملة النقدية				
د) تزيد قدرتها على شراء سلع أكثر	ج) تثبت قيمتها تماماً	ب) تنخفض قيمتها النقدية	أ) ترتفع قيمتها الشرائية	١٥

السؤال الثاني: ضع إشارة ( ✓ ) أمام الإجابة الصحيحة وإشارة ( × ) أمام الإجابة الخاطئة:

×	١	الإنجاز الذاتي حالة مؤقتة تنتهي بعد إنجاز عمل واحد
✓	٢	الفرد المنجز يميل إلى الأعمال الصعبة ويؤديها بإتقان
×	٣	الاستفادة من خبرات الآخرين والتعاون معهم يعتبر ضعفاً في الإنجاز الذاتي.
✓	٤	الإنجاز الذاتي يعزز ثقة الإنسان بنفسه
×	٥	يستطيع الفرد إنتاج كل ما يحتاج إليه دون تخصص العمل والإنتاج يرتبطان بالاقتصاد
✓	٦	من فوائد الإنتاج توفير فرص عمل لأفراد المجتمع.
×	٨	التطوير في العمل يعني الاكتفاء بالمعارف القديمة وعدم مواكبة الجديد.
✓	٩	يجب اختيار المهنة بما يتوافق مع الميول والقدرات
✓	١٠	المملكة العربية السعودية عضو في مجموعة العشرين
×	١١	الإجراءات المعقدة وغير الحديثة تساهم في نمو الاقتصاد وازدهاره.
✓	١٢	الاعتماد الكلي على النفط مشكلة اقتصادية
×	١٣	التضخم يعني انخفاض الأسعار وزيادة القدرة الشرائية
✓	١٤	من آثار البطالة زيادة الجريمة والمخدرات
✓	١٥	البطالة الوظيفية تعني ترك العمل بحثاً عن وظيفة أفضل

رابط اختبار الفورمز

انتهت الأسئلة

[https://forms.office.com/Pages/ShareFormPage.aspx?id=DZRkri6E9EC\\_qGdigAk1c8Mm0nUPK\\_1AjDYTMHH-3qBUQjJQQ0oxMjVVVUhlWUEwNzFLSUJURF14RS4u&sharetoken=9q3flEqHKBlrUfYZHPxd](https://forms.office.com/Pages/ShareFormPage.aspx?id=DZRkri6E9EC_qGdigAk1c8Mm0nUPK_1AjDYTMHH-3qBUQjJQQ0oxMjVVVUhlWUEwNzFLSUJURF14RS4u&sharetoken=9q3flEqHKBlrUfYZHPxd)

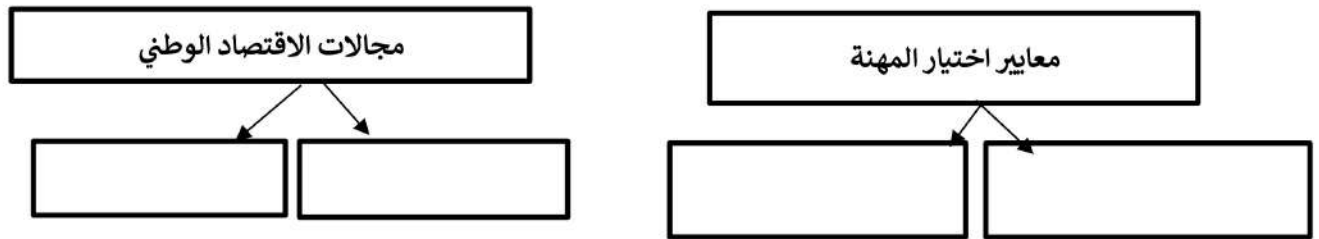
نموذج اسئلة اختبار الوحدة  
المادة: الدراسات الاجتماعية  
الصف: الثالث المتوسط  
الانجاز الذاتي و الاقتصاد  
1447هـ

اسم الطالب/ة	محمد القرني	الدرجة	15
--------------	-------------	--------	----

السؤال الاول ضع/سي علامة ( √ ) امام العبارة الصائبة وعلامة ( x ) امام العبارة الخاطئة ؟

1	عندما يكون الفرد منجزاً فإنه يشعر بالرضا
2	يحث ديننا الاسلامي على العمل و الانتاج
3	الامن و الاستقرار و التخطيط السليم أثر ايجاباً في نمو الاقتصاد الوطني
4	من صفات الفرد المنجز يقوم بأعماله حسب الفراغ
5	من أسباب البطالة ضعف التدريب و التأهيل
6	التطور التقني قلل من الاعتماد على الايدي العاملة
7	يسهم برنامج جودة الحياة في خفض نسبة البطالة
8	تعد المملكة العربية السعودية ثاني اكبر دولة تملك احتياطات نفطية في العالم

السؤال الثاني أكمل خرائط المفاهيم التالية ؟



السؤال الثالث اختر الاجابة الصائبة والصحيحة لما يأتي ؟

1	من يقدر على العمل ولا يرغب فيه مع توفر الفرص :
أ	بطالة اختيارية
ب	بطالة مقنعة
ج	بطالة هيكلية
د	بطالة وظيفية
2	حالة داخلية مرتبطة بمشاعر الفرد توجهه نحو التخطيط و تحقيق النجاح
أ	الانتاج
ب	العمل
ج	الانجاز الذاتي
د	التضخم
3	الانشطة البشرية لافراد المجتمع من ( عمل و انتاج و وخدمات و استهلاك ) :
أ	البطالة
ب	التضخم
ج	الانتاج
د	الاقتصاد الوطني

← انتهت الاسئلة ←

مدير المدرسة: .....

معلم المادة: محمد القرني

# نموذج الاجابة

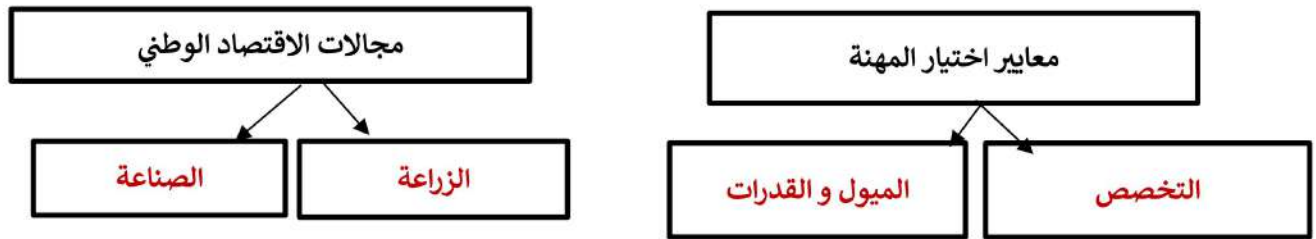
نموذج اسئلة اختبار الوحدة  
المادة: الدراسات الاجتماعية  
الصف: الثالث المتوسط  
الانجاز الذاتي والاقتصاد  
1447هـ

اسم الطالب/ة	محمد القرني (اجابة)	الدرجة	15
--------------	---------------------	--------	----

السؤال الاول ضع/سي علامة ( √ ) امام العبارة الصائبة وعلامة ( x ) امام العبارة الخاطئة ؟

1	عندما يكون الفرد منجزاً فإنه يشعر بالرضا	√
2	يحث ديننا الاسلامي على العمل و الانتاج	√
3	الامن و الاستقرار و التخطيط السليم أثر ايجاباً في نمو الاقتصاد الوطني	√
4	من صفات الفرد المنجز يقوم بأعماله حسب الفراغ	x
5	من أسباب البطالة ضعف التدريب و التأهيل	√
6	التطور التقني قلل من الاعتماد على الايدي العاملة	√
7	يسهم برنامج جودة الحياة في خفض نسبة البطالة	√
8	تعد المملكة العربية السعودية ثاني اكبر دولة تملك احتياطات نفطية في العالم	√

السؤال الثاني أكمل خرائط المفاهيم التالية ؟



السؤال الثالث اختر الاجابة الصائبة والصحيحة لما يأتي؟

1	من يقدر على العمل ولا يرغب فيه مع توفر الفرص :	أ	بطالة اختيارية	ب	بطالة مقنعة	ج	بطالة هيكلية	د	بطالة وظيفية
2	حالة داخلية مرتبطة بمشاعر الفرد توجهه نحو التخطيط و تحقيق النجاح	أ	الانتاج	ب	العمل	ج	الانجاز الذاتي	د	التضخم
3	الانشطة البشرية لافراد المجتمع من ( عمل و انتاج و خدمات و استهلاك ) :	أ	البطالة	ب	التضخم	ج	الانتاج	د	الاقتصاد الوطني

← انتهت الاسئلة ←

معلم المادة: محمد القرني

مدير المدرسة: .....

المادة : اجتماعيات	
الصف : الثالث المتوسط	
اختبار الوحدة ٨ الفصل ٢	

السؤال الأول: اختر الإجابة الصحيحة فيما يلي :

١	المواطن الذي يدرك انتماءه لوطنه ويؤدي واجباته تجاهه يسمى	(أ) المواطن الصالح	(ب) المقيم	(ج) السائح	(د) الموظف الحكومي
٢	من مظاهر الاعتزاز بالوطن	(أ) السفر للخارج	(ب) الاعتزاز باللغة العربية	(ج) الاعتماد على اللغات الأجنبية	(د) إهمال التراث
٣	من حقوق المواطن في مجال الصحة	(أ) توفير الرعاية الصحية	(ب) توفير السكن المجاني للجميع	(ج) توزيع الأدوية دون وصفة	(د) فرض رسوم عالية على العلاج
٤	يتحقق الولاء لولي الأمر من خلال	(أ) بالعمل الفردي فقط	(ب) بالسمع والطاعة والتقدير والوفاء بالعهد	(ج) بالانعزال عن المجتمع	(د) بالاهتمام بالمصالح الشخصية فقط
٥	من فوائد الانتماء للوطن	(أ) زيادة الشائعات	(ب) تحقيق الاستقرار النفسي	(ج) الانقسام الاجتماعي	(د) إضعاف الوحدة الوطنية
٦	المفهوم الذي يشمل القيم والضوابط والآداب المنظمة لسلوك الإنسان في المجتمع	(أ) المسؤولية الاجتماعية	(ب) الذوق العام	(ج) الهوية الوطنية	(د) التراث الحضاري
٧	الأساس الأول للهوية السعودية وقيم الذوق العام	(أ) العادات القبلية	(ب) الدين الإسلامي	(ج) القوانين الدولية	(د) الانفتاح الثقافي
٨	الجهة التي أصدرت لائحة المحافظة على الذوق العام في المملكة	(أ) مجلس الشورى	(ب) وزارة التعليم	(ج) مجلس الوزراء	(د) وزارة الإعلام
٩	احترام الذوق العام يدل على	(أ) مدى التطور الثقافي والفكري	(ب) زيادة عدد السكان	(ج) تنوع الموارد الاقتصادية	(د) اتساع المساحة الجغرافية
١٠	من السلوكيات المخالفة للذوق العام	(أ) إفشاء السلام	(ب) خفض الصوت	(ج) الكتابة على الجدران	(د) تقدير الآخرين

تابع خلف الورقة

السؤال الثاني: ضع إشارة ( √ ) أمام الإجابة الصحيحة وإشارة ( × ) أمام الإجابة الخاطئة:

١	من صفات المواطن الصالح أن يكون فاعلاً في مجتمعه طوال سنوات حياته.
٢	التعبير بالكلمة الطيبة وفق أنظمة الدولة يعتبر من حقوق المواطن السعودي.
٣	الانتماء للوطن يتعارض مع الأمر الشرعي الوارد في القرآن والسنة.
٤	يلتزم المقيمون في المملكة العربية السعودية بقيم الدولة واحترام تقاليد المجتمع.
٥	من واجبات المواطن السماح للآخرين بالإضرار بمنجزات الوطن.
٦	نص النظام الأساسي للحكم في المملكة العربية السعودية على أن الأسرة هي نواة المجتمع.
٧	ارتداء ثياب النوم في المساجد أو المناسبات العامة يُعد من الممارسات السليمة.
٨	من مظاهر الذوق العام احترام أسبقية الآخرين وتجنب تجاوزها.
٩	يسمح الذوق العام بارتداء لباس يحمل عبارات مسيئة في الأماكن العامة.
١٠	تهدف لائحة المحافظة على الذوق العام لحماية المجتمع السعودي وقيمه.

انتهت الأسئلة

رابط اختبار الفورمز

[https://forms.office.com/Pages/ShareFormPage.aspx?id=DZRkri6E9EC\\_qGdigAk1c8Mm0nUPK\\_IajDYTMHH-3qBUNFI4Q0VVWlpGQIBSQIBNTFVWRTJHOTc5Qy4u&sharetoken=9q3flEqHKBlrUfyZHPxd](https://forms.office.com/Pages/ShareFormPage.aspx?id=DZRkri6E9EC_qGdigAk1c8Mm0nUPK_IajDYTMHH-3qBUNFI4Q0VVWlpGQIBSQIBNTFVWRTJHOTc5Qy4u&sharetoken=9q3flEqHKBlrUfyZHPxd)

موقع  
مادنتري

# نموذج الإجابة

المادة : اجتماعيات  
الصف : الثالث المتوسط  
اختبار الوحدة ٨ الفصل ٢

السؤال الأول: اختر الإجابة الصحيحة فيما يلي :

المواطن الذي يدرك انتماءه لوطنه ويؤدي واجباته تجاهه يسمى				١
(أ) المواطن الصالح	(ب) المقيم	(ج) السائح	(د) الموظف الحكومي	
من مظاهر الاعتزاز بالوطن				٢
(أ) السفر للخارج	(ب) الاعتزاز باللغة العربية	(ج) الاعتماد على اللغات الأجنبية	(د) إهمال التراث	
من حقوق المواطن في مجال الصحة				٣
(أ) توفير الرعاية الصحية	(ب) توفير السكن المجاني للجميع	(ج) توزيع الأدوية دون وصفة	(د) فرض رسوم عالية على العلاج	
يتحقق الولاء لولي الأمر من خلال				٤
(أ) بالعمل الفردي فقط	(ب) بالسمع والطاعة والتقدير والوفاء بالعهد	(ج) بالانعزال عن المجتمع	(د) بالاهتمام بالمصالح الشخصية فقط	
من فوائد الانتماء للوطن				٥
(أ) زيادة الشائعات	(ب) تحقيق الاستقرار النفسي	(ج) الانقسام الاجتماعي	(د) إضعاف الوحدة الوطنية	
المفهوم الذي يشمل القيم والضوابط والآداب المنظمة لسلوك الإنسان في المجتمع				٦
(أ) المسؤولية الاجتماعية	(ب) الذوق العام	(ج) الهوية الوطنية	(د) التراث الحضاري	
الأساس الأول للهوية السعودية وقيم الذوق العام				٧
(أ) العادات القبلية	(ب) الدين الإسلامي	(ج) القوانين الدولية	(د) الانفتاح الثقافي	
الجهة التي أصدرت لائحة المحافظة على الذوق العام في المملكة				٨
(أ) مجلس الشورى	(ب) وزارة التعليم	(ج) مجلس الوزراء	(د) وزارة الإعلام	
احترام الذوق العام يدل على				٩
(أ) مدى التطور الثقافي والفكري	(ب) زيادة عدد السكان	(ج) تنوع الموارد الاقتصادية	(د) اتساع المساحة الجغرافية	
من السلوكيات المخالفة للذوق العام				١٠
(أ) إفشاء السلام	(ب) خفض الصوت	(ج) الكتابة على الجدران	(د) تقدير الآخرين	

تابع خلف الورقة

موقع مادنتري

السؤال الثاني: ضع إشارة ( √ ) أمام الإجابة الصحيحة وإشارة ( × ) أمام الإجابة الخاطئة:

✓	١	من صفات المواطن الصالح أن يكون فاعلاً في مجتمعه طوال سنوات حياته.
✓	٢	التعبير بالكلمة الطيبة وفق أنظمة الدولة يعتبر من حقوق المواطن السعودي.
✗	٣	الانتماء للوطن يتعارض مع الأمر الشرعي الوارد في القرآن والسنة.
✓	٤	يلتزم المقيمون في المملكة العربية السعودية بقيم الدولة واحترام تقاليد المجتمع.
✗	٥	من واجبات المواطن السماح للآخرين بالإضرار بمنجزات الوطن.
✓	٦	نص النظام الأساسي للحكم في المملكة العربية السعودية على أن الأسرة هي نواة المجتمع.
✗	٧	ارتداء ثياب النوم في المساجد أو المناسبات العامة يُعد من الممارسات السليمة.
✓	٨	من مظاهر الذوق العام احترام أسبقية الآخرين وتجنب تجاوزها.
✗	٩	يسمح الذوق العام بارتداء لباس يحمل عبارات مسيئة في الأماكن العامة.
✓	١٠	تهدف لائحة المحافظة على الذوق العام لحماية المجتمع السعودي وقيمه.

انتهت الأسئلة

## رابط اختبار الفورمز

[https://forms.office.com/Pages/ShareFormPage.aspx?id=DZRkri6E9EC\\_qGdigAk1c8Mm0nUPK\\_lAjDYTMHH-3qBUNf4Q0VVWlpGQlBSQIBNTFVWRTJHOTc5Qy4u&sharetoken=9q3flEqHKBrUfYZHPxd](https://forms.office.com/Pages/ShareFormPage.aspx?id=DZRkri6E9EC_qGdigAk1c8Mm0nUPK_lAjDYTMHH-3qBUNf4Q0VVWlpGQlBSQIBNTFVWRTJHOTc5Qy4u&sharetoken=9q3flEqHKBrUfYZHPxd)

موقع  
**مادنتري**

**السؤال الاول: اكتب المصطلح المناسب؟**

وسيلة لتمثيل سطح الأرض بظواهره الطبيعية و البشرية على لوحة مستوية	
يقصد بها خطوط الطول ودوائر العرض	
صورة لجزء من سطح الأرض تلتقط بالطائرات المزودة بآلات تصوير	
نظام مترابط يساعد على تحديد اي مكان على سطح الأرض بدقة عالية	
ما يحيط بالخريطة من الخارج	
النسبة بين البعد على الخريطة وما يقابله على الطبيعة	

**السؤال الثاني: صوب ما تحته خط؟**

تمثل الخريطة الطبيعية الجوانب التي تتصل بالإنسان ونشاطه	
الصور الجوية الرأسية تغطي مساحات كبيرة	
يعد مقياس الرسم الكتابي أفضل انواع مقاييس رسم الخريطة	
اول عمل يقوم به مستعملو الخرائط في الميدان رسم الخريطة	
يشير مؤشر اتجاه الخريطة الي اتجاه الشرق.	
قسم التحكم في Gps عبارة عن أجهزة الاستقبال في الطائرات والسفن والسيارات	

**السؤال الثالث: قارني بين الخريطة والصور الجوية من حيث ؟**

الخريطة	وجه المقارنة	الصور الجوية
	المفتاح والرموز	
	الظواهر المتحركة	
	خطوط الطول ودوائر العرض	

**السؤال الرابع: عددي ٢ فقط مما يلي**

فوائد نظام تحديد المواقع العالمي	
استعمالات الصور الجوية	
أنواع الخرائط الطبيعية	

**السؤال الخامس على زادت أهمية الخرائط في الوقت الحالي.**

زادت أهمية الخرائط في الوقت الحالي	
يصعب تمثيل الأماكن والمواقع والظواهر بأحجامها الحقيقية على الخريطة	

# نموذج الاجابة

## السؤال الاول: اكتب المصطلح المناسب؟

الخريطة	وسيلة لتمثيل سطح الأرض بظواهره الطبيعية و البشرية على لوحة مستوية
الاحداثيات	يقصد بها خطوط الطول ودوائر العرض
الصور الجوية	صورة لجزء من سطح الأرض تلتقط بالطائرات المزودة بآلات تصوير
نظام تحديد المواقع العالمي	نظام مترابط يساعد على تحديد اي مكان على سطح الأرض بدقة عالية
إطار الخريطة	ما يحيط بالخريطة من الخارج
مقياس الرسم	النسبة بين البعد على الخريطة وما يقابله على الطبيعة

## السؤال الثاني: صوبي ما تحته خط؟

البشرية	تمثل الخريطة الطبيعية الجوانب التي تتصل بالإنسان ونشاطه
المائلة	الصور الجوية الرأسية تغطي مساحات كبيرة
الخطي	يعد مقياس الرسم الكتابي أفضل انواع مقاييس رسم الخريطة
توجيه الخريطة	اول عمل يقوم به مستعملو الخرائط في الميدان رسم الخريطة
الشمال	يشير مؤشر اتجاه الخريطة الي اتجاه الشرق.
المستخدم	قسم التحكم في Gps عبارة عن أجهزة الاستقبال في الطائرات والسفن والسيارات

## السؤال الثالث: قارني بين الخريطة والصور الجوية من حيث ؟

الخريطة	وجه المقارنة	الصور الجوية
تحتاج لمفتاح ورموز	المفتاح والرموز	لا تحتاج لمفتاح ورموز
لا توضح الظواهر المتحركة	الظواهر المتحركة	توضح الظواهر المتحركة
توضح خطوط الطول ودوائر العرض	خطوط الطول ودوائر العرض	لا توضح خطوط الطول ودوائر العرض

## السؤال الرابع: عددي ٢ فقط مما يلي

فوائد نظام تحديد المواقع العالمي	تحديد المواقع بدقة عالية	تحديد اتجاه القبلة
استعمالات الصور الجوية	التخطيط العمراني	إعداد الخرائط الطبوغرافية
أنواع الخرائط الطبيعية	خرائط نبات طبيعي	خرائط التضاريس

## السؤال الخامس: عللي زادت أهمية الخرائط في الوقت الحالي.

زادت أهمية الخرائط في الوقت الحالي	بسبب تطور التقنية / ارتباطها بالتطوير والتنمية
يصعب تمثيل الأماكن والمواقع والظواهر بأحجامها الحقيقية على الخريطة	لكبر حجمها

أمر معلمتك أعلم أنك تحمدين وتحاولين ومحاولاتك جميلة مثلك وتأكدي بأن معلمتك فخورة جدا بك 🌟

## نموذج اختبار الفترة الثانية لمادة الدراسات الاجتماعية للصف الثالث المتوسط

20

اسم الطالبة :

### السؤال الاول: أ- ضع علامة (√) أمام العبارة الصائبة وعلامة (x) أمام العبارة الخاطئة لما يأتي؟

١	تشابه الرموز في كل مفاتيح الخرائط.
٢	يحدد إطار الخريطة بعد الإنتهاء من رسمها.
٣	من أنواع الرموز المستعملة في مفتاح الخريطة نقطية
٤	يشير السهم في الخريطة الى جهة الجنوب
٥	تنقسم انواع الخرائط الى نوعان: طبيعية وبشرية

### ب- من خلال درستك لأنواع الخرائط ومستعينة بالشكل المجاور حددي انواع الخرائط أدناه؟

خريطة سياسية  
خريطة مناخية  
خريطة اقتصادية  
خريطة تاريخية



### السؤال الثاني: أ- قارني بين الخريطة والصور الجوية وفق الجدول أدناه؟

الصور الجوية	الخريطة	وجه المقارنة
		المفتاح والرموز
		الظواهر التي تفسرها

ب. اختاري الإجابة الصحيحة في الجدول أدناه؟

١	نسبة البعد على الخريطة وما يقابله على الطبيعة:	٢	من طرق قياس المسافات على الخريطة :
أ	مقياس الرسم	أ	المسطرة
ب	الاحداثيات	ب	العجلة والخيط
ج	اطار الخريطة	ج	جميع ما سبق

السؤال الثالث: أ- مستعينة بالشكل المجاور ضعي المصطلح امام ما يناسبه من العبارات ادناه؟

- ١- ( ) تمثيل سطح الارض او جزء منه على لوحة مستوية
- ٢- ( ) تقاطع خطوط الطول ودوائر العرض .
- ٣- ( ) هي صور تلتقط بعدسات التصوير في وضع مائل .
- ٤- ( ) هي الخرائط التي توضح حدود الدول .

خريطة سياسية  
الخريطة  
الاحداثيات  
الصور المائلة

ب- اجيبي عما يلي :

١- عرف في الصورة الجوية :

.....

٢- عللي : المقياس الخطي يعد أفضل أنواع مقاييس الرسم على الخريطة؟

.....

انتهت الأسئلة تمنياتي لكن بالتوفيق

اسم الطالب : .....

### اختبار الفترة الثانية لمادة الدراسات الاجتماعية للصف الثالث متوسط الفصل الثاني

6

السؤال الأول:

ضع علامة (  $\checkmark$  ) أمام الإجابة الصحيحة وعلامة (  $\times$  ) أمام الإجابة الخاطئة:

- ( ) 1) الخرائط الطبيعية تعني تمثيل الظواهر التي خلقها دون تدخل البشر
- ( ) 2) الصور الجوية المائلة تلتقط والعدسات في وضع مائل بحيث تغطي مساحة أكبر
- ( ) 3) من فوائد نظام تحديد المواقع العالمي هو تحديد اتجاه القبلة
- ( ) 4) يعتمد رسم الخريطة على عدة عناصر لابد توفرها بالخريطة
- ( ) 5) شبكة الاحداثيات هي خطوط الطول ودوائر العرض
- ( ) 6) من فوائد عنون الخريطة انه يقوم على قياس المسافات على الخريطة

6

السؤال الثاني: اختاري الإجابة الصحيحة بوضع دائرة عليها:

1	أي من الخيارات التالية من عناصر الخريطة ؟	
أ	نقطية	ب اطار الخريطة ج لا شيء
2	الصورة الجوية تمثل	
أ	ماهو على سطح الارض	ب حقيقة ماهو على سطح الأرض (صورة) ج باطن الارض
3	تصنف خريطة التي تشكل الجبال على سطح الارض	
أ	خريطة طبيعية	ب خريطة بشرية ج خريطة الطقس
4	تمثل خريطة السكان	
أ	الحرياح	ب التوزيع البشري وكثافته ج الغابات المطيرة
5	تصنف الخريطة المناخية	
أ	خريطة بشرية	ب خريطة طبيعية ج جميع ماسبق
6	من اقسام او عناصر GBS	
أ	الجالات	ب الأقمار الصناعية ج جميع ماسبق

السؤال الثالث: (1) استعين بالكلمات التالية وأكمل الفراغات بما يناسبها

الخريطة	الخرائط النباتات	الخريطة البشرية
شبكة الاحداثيات	علم المساحة	الخريطة السياسية

- (1) هي وسيلة لتمثيل سطح الكرة الأرضية او جزء منه .....
- (2) تمثل توزيع الخرائط الغابات المطيرة .....
- (3) هي شبكة من الخطوط والدوائر تفيد في معرفه تحدد المواقع .....
- (4) هي الخريطة التي تمثل الحدود بين الدول .....
- (5) الخرائط التي تمثل عليها الجوانب التي تتصل بالإنسان ونشاطه.....
- (6) هو العلم الذي يبحث في الطرائق المختلفة لتمثيل سطح الأرض وما عليها.....

(2) عدد 2 من الظواهر الطبيعية على سطح الأرض

- 1 - .....
- 2 - .....

تمت الأسئلة